



تم تحميل الملف من موقع **بداية**



للمزيد اكتب
في جوجل



بداية التعليمي ⌚

موقع بداية التعليمي كل ما يحتاجه الطالب والمعلم
من ملفات تعليمية، حلول الكتب، توزيع المنهج،
بوربوينت، اختبارات، ملخصات، اختبارات إلكترونية،
أوراق عمل، والكثير...

حمل التطبيق



اختبار منتصف الفصل الدراسي الثالث لمادة الرياضيات للصف الثالث الابتدائي للعام الدراسي ١٤٤٥ هـ

الاسم /

الاسم /

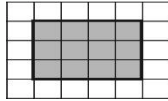
١٠

السؤال الأول: اختر الإجابة الصحيحة فيما يلي:

١- الوحدة الأنسب لقياس طول كتاب الرياضيات هي:

أ	الملمتر	ب	السنتيمتر	ج	المتر	د	الكيلومتر
---	---------	---	-----------	---	-------	---	-----------

٢- محيط الشكل المجاور يساوي :



أ	١٤ وحدة	ب	١٣ وحدة	ج	١٠ وحدات	د	٨ وحدات
---	---------	---	---------	---	----------	---	---------

٣- التقدير الأنسب لقياس سعة عبوة الحليب هو:



أ	١٠ مل	ب	٥٠ ل	ج	٢٠٠ مل	د	٢٠٠ ل
---	-------	---	------	---	--------	---	-------

٤- إذا كان الكيلوجرام الواحد يساوي ١٠٠٠ جرام فكم جراماً في ٧ كيلوجرام ؟

أ	٧ جرام	ب	٧٠ جرام	ج	٧٠٠ جرام	د	٧٠٠٠ جرام
---	--------	---	---------	---	----------	---	-----------

٥- التقدير الأنسب لقياس طول النافذة هو :

أ	٢ ملم	ب	٢ سم	ج	٢ م	د	٢ كلم
---	-------	---	------	---	-----	---	-------

٦- الوحدة الأنسب لقياس سعة بركة أطفال هي :

أ	مللتر	ب	لتر	ج	جرام	د	كيلو جرام
---	-------	---	-----	---	------	---	-----------

٧- التقدير الأنسب لكتلة ما يلي هو



أ	٥ جم	ب	٥ كجم	ج	٥٠٠ مل	د	٥٠٠ ل
---	------	---	-------	---	--------	---	-------

٨- إذا أشار عقرب الدقائق على الرقم ٩ فإن عدد الدقائق الذي يشير إليها هو ؟

أ	١٠ دقائق	ب	٢٠ دقيقة	ج	٣٥ دقيقة	د	٤٥ دقيقة
---	----------	---	----------	---	----------	---	----------

٩- أي مما يلي يزيد وزنه عن ٢ كجم

أ	تفاحة	ب	قلم	ج	محاة	د	طاولة الصف
---	-------	---	-----	---	------	---	------------

١٠- إذا كان الوقت الظاهر على الساعة هو ٤٥ : ٧ فكم سيكون الوقت بعد ٨ دقائق ؟

أ	٧ : ٥٠	ب	٨ : ٥٣	ج	٧ : ٥٥	د	٧ : ٥٣
---	--------	---	--------	---	--------	---	--------

٤

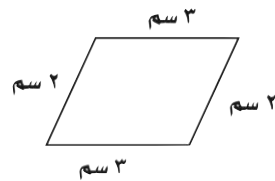
السؤال الثاني: ضع علامة (✓) أمام العبارة الصحيحة وعلامة (X) أمام العبارة الخاطئة فيما يلي:

١ - المحيط هو طول الإطار الخارجي لشكل.	
٢ - تستعمل الوحدات المكعبة لقياس الحجم.	
٣ - من وحدات السعة الملمتر ويرمز له بـ (لم)	
٤ - الساعة الرقمية تظهر الزمن بالعقارب.	

٦

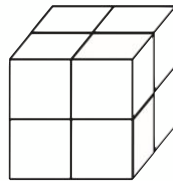
السؤال الثالث: أجب عن المطلوب فيما يلي:

أ) أوجد محيط الشكل المجاور :



.....

ب) أوجد حجم المجسم التالي:



.....وحدة مكعبة

ج) أوجد مساحة الجزء المظلل المجاور :



.....وحدة مربعة

د) أكتب الزمن الذي تشير إليه الساعة المجاورة



.....

هـ) مع سلطان ٤٠ ريال وبالأمس كان معه أكثر من نصف هذا المبلغ بـ ٥ ريال فكم كان معه أمس ؟

.....

معلم /ة المادة :