

الاختبار التقويهي الثالث

للمصف الخامس

الفصل الدراسي الثاني 2023 / 2024

بنود الاختبار	توزيع درجات الاختبار		درجة الاختبار	مدة الاختبار	موعد الاختبار
من : (١-١٠) إلى : (٣-١٠)	مقال	موضوعي	٥ درجات	لا تتجاوز ١٥ دقيقة من زمن الحصة	الأسبوع ١٠
	٣	٢			

إشراف الهوجه الفني : أ. أسهاء الفيلكاوي



نموذج (١) اختبار تقويمي (٣)
في مادة الرياضيات للصف الخامس
الفصل الدراسي الثاني للعام الدراسي ٢٠٢٣ / ٢٠٢٤ م



السؤال الأول :

أ) أكمل الجدول لتحصل على نسب متكافئة:

٢	٤	٨	
٥		١٥	٢٥

ب) اكتب نسبة عدد الطائرات الصغيرة الي عدد الطائرات الكبيرة .



مدرس رياضيات
65598710

السؤال الثاني :

في البنود من (١-٢) ظلل دائرة الرمز الدال على الإجابة الصحيحة :

١	النسبة المئوية للجزء المظلل هي						
٢	حقيبة دراسية بها ٥ كتب علمية و ٧ كتب تاريخية . فإن عدد كل الكتب الي عدد الكتب التاريخية						
	أ	٥ الي ١٢	ب	٧ : ٥	ج	$\frac{٥}{٧}$	د

انتهت الأسئلة،،،،



إجابة نموذج (١) اختبار تقويمي (٣)
في مادة الرياضيات للصف الخامس
الفصل الدراسي الثاني للعام الدراسي ٢٠٢٣ / ٢٠٢٤ م




السؤال الأول :

(أ) أكمل الجدول لتحصل على نسب متكافئة:

١٠	٨	٦	٤	٢
٢٥	٢٠	١٥	١٠	٥

(ب) اكتب نسبة عدد الطائرات الصغيرة الي عدد الطائرات الكبيرة .



٤ : ٥ أو $\frac{٤}{٥}$ أو ٤ الي ٥

السؤال الثاني :

في البنود من (١-٢) ظلل دائرة الرمز الدال على الإجابة الصحيحة :

النسبة المئوية للجزء المظلل هي						١	
أ	٩٠٪	ب	٧٢٪	ج	٨٢٪	د	٢٨٪
حقيبة دراسية بها ٥ كتب علمية و ٧ كتب تاريخية . فإن عدد كل الكتب الي عدد الكتب التاريخية							٢
أ	٥ الي ١٢	ب	٧ : ٥	ج	$\frac{٥}{٧}$	د	

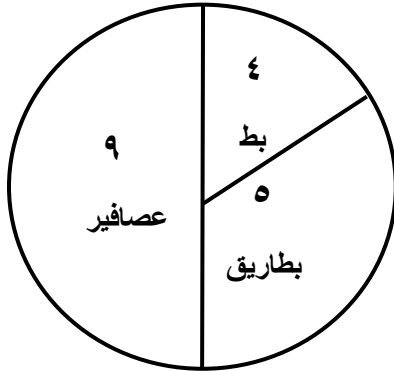
مدرس رياضيات

65598710

انتهت الأسئلة،،،

السؤال الأول :

(أ) استخدم التمثيل بالدائرة اكتب النسبة بين:




(١) عدد البطاريق الي عدد العصافير والبط

(٢) عدد البط الي عدد العصافير

(ب) مثل النسبة المئوية التالية علي شبكة المئة

:



٦٠ %

السؤال الثاني :

في البنود من (١-٢) ظلل دائرة الرمز الدال على الإجابة الصحيحة:

نسبة عدد الدعسوقات الصغيرة الي عدد الدعسوقات الكبيرة



١

٢ : ٥

د

٥ : ٣

ج

٢ : ٣

ب

٣ : ٢

أ

النسبة $\frac{12}{14}$ في أبسط صورة هي

٢

$\frac{5}{4}$

د

$\frac{12}{8}$

ج

$\frac{4}{10}$

ب

$\frac{6}{7}$

أ

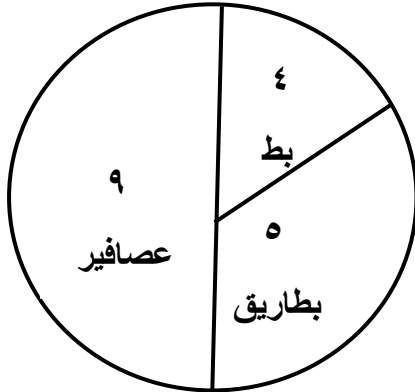


إجابة نموذج (٢) اختبار تقويمي (٣)
في مادة الرياضيات للصف الخامس
الفصل الدراسي الثاني للعام الدراسي ٢٠٢٣ / ٢٠٢٤ م



السؤال الأول :

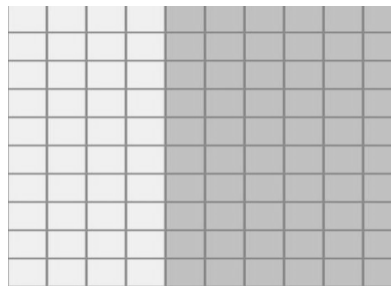
أ) استخدم التمثيل بالدائرة اكتب النسبة بين:



١) عدد البطاريق الي عدد العصافير والبط
 $\frac{5}{13}$ أو $5 : 13$

٢) عدد البط الي عدد العصافير
 $\frac{4}{9}$ أو $4 : 9$

ب) مثل النسبة المئوية التالية علي شبكة المئة





٦٠ %

مدرس رياضيات

65598710

السؤال الثاني :

في البنود من (١-٢) ظلل دائرة الرمز الدال على الإجابة الصحيحة :

نسبة عدد الدعسوقات الصغيرة الي عدد الدعسوقات الكبيرة					
<div></div>					
أ	٣ : ٢	ب	٢ : ٣	ج	٥ : ٣
د	٢ : ٥				
النسبة $\frac{١٢}{١٤}$ في أبسط صورة هي					
أ	$\frac{٦}{٧}$	ب	$\frac{٤}{١٠}$	ج	$\frac{١٢}{٨}$
د	$\frac{٥}{٤}$				

انتهت الأسئلة،،،،