

مد رست الأند لس الخاصة للبنات

العام الأكاديمي 2026/2025

الفصل الدراسي الثاني



اختبار الوحدة الأولى والثانية

لمادة الحوسبة وتكنولوجيا المعلومات

الصف الثالث

اسم الطالبة/.....

الصف والشعبة /.....

اختر الاجابة الصحيحة :

1	يطلق على عنوان موقع الويب اسم	
	QR	<input type="checkbox"/> A
	FFL	<input type="checkbox"/> B
	MMU	<input type="checkbox"/> C
	URL	<input type="checkbox"/> D

2	عند البحث عبر الانترنت يجب الانتباه الى المواقع التي لها عنوان URL	
	.org	<input type="checkbox"/> A
	.edu	<input type="checkbox"/> B
	.com	<input type="checkbox"/> C
	جميع ما سبق	<input type="checkbox"/> D

3	يعد واحد من انواع الملفات	
	الصوت	<input type="checkbox"/> A
	الصورة	<input type="checkbox"/> B
	الفيديو	<input type="checkbox"/> C
	جميع ماسبق	<input type="checkbox"/> D

تستخدم للتواصل المرئي عبر الويب		4
كاميرا الويب	A	
الميكروفون	B	
السماعات	C	
الطابعة	D	

تستخدم لتسجيل والتقاط الصوت والصورة ومقاطع الفيديو		5
الشاشة	A	
الفأرة	B	
السماعات	C	
كاميرا الفيديو	D	

تستخدم للتحكم في ألعاب الحاسوب		6
كرة التتبع	A	
لوحة الالعاب	B	
متحكم الواقع الافتراضي	C	
لوحة اللمس	D	





7	جهاز يشبه الفأره تتوسطها كرة	
	كرة التتبع	A
	لوحة الالعب	B
	شاشة اللمس	C
	لوحة اللمس	D

8	هو وحدة تخزين شائعة ويعتبر من أكبر وحدات التخزين	
	DVD	A
	الذاكرة الوامضة	B
	القرص الصلب	C
	CD	D
9	تتميز بأنها صغيرة الحجم والسمك تستخدم في الهواتف والكاميرات	
	المكرو فون	A
	بطاقة الذاكرة	B
	القرص الصلب	C
	الاقراص المدمجة	D

10	هو وحدة تخزين شائعة ويعتبر من أكبر وحدات التخزين	
	DVD	A
	الذاكرة الوامضة	B
	القرص الصلب	C
	CD	D
11	تستخدم للاطلاع على معاني الكلمات	
	المكتبات الافتراضية	A
	القواميس الالكترونية	B
	الاقراص المدمجة	C
	الموسوعات الالكترونية	D
12	هي عباره عن مواقع الالكترونية تحتوي على معلومات تتعلق بجميع او احد فروع المعرفه	
	الموسوعات الالكترونية	A
	الذاكرة الوامضة	B
	المكتبات الافتراضية	C
	CD	D

طباعة تتميز برخص الثمنها	13
طباعة نفث الحبر	A
السماعات	B
الشاشات	C
CD	D
طباعة تستخدم في طباعة المطبوعات الضخمة	14
كرة التنبع	A
الراسمة	B
الشاشات	C
CD	D
طباعة تستخدم في المحلات التجارية والمطاعم	15
كرة التنبع	A
الراسمة	B
الشاشات	C
CD	D

السؤال الثاني: صل بين العمود A والعمود B:

B العمود





A العمود
Microsoft Edge
Google Chrome
جهاز يستخدم لألتقاط الصوت
جهاز يستخدم لألتقاط الصور الثابتة

السؤال الثالث: اجب عن الاسئلة التالية :

1- عرف متصفح الويب

.....
.....

2- عرف محرك البحث

.....
.....

3- عرف المكتبات الافتراضية

.....
.....

4- عرف المعلومات الموثوقة

.....
.....

5- اذكر امثلة على بعض المواقع الموثوقة ؟

- ●
- ●
- ●
- ●

6- اذكر اثر الحوسبة في حياتنا

-
-
-

7- عرفي الاجهزة الملحقة

.....
.....

8- عرف أجهزة التفاعل

.....
.....

9- عرفي متحكم الواقع الافتراضي

.....
.....

10- عرفي أجهزة التخزين

.....
.....

11- عرفي الذاكرة الوامضة

.....
.....

10- عرفي بطاقة الذاكرة

.....
.....