



العام الدراسي ٢٠٢٥م - ٢٠٢٦م

اختبار نهاية الفترة الدراسية الأولى

وزارة التربية

الزمن : ساعة وخمس وأربعون

مادة الكويت ودول الخليج العربي

منطقة ---- التعليمية

عدد الأوراق : ٥ أوراق

الصف السادس

قسم الاجتماعيات

النموذج الثاني (غير محلول)

السؤال الأول :- موضوعي يتكون من (أ - ب - ج)



أ - أكمل العبارات الآتية بما يناسبها مما درست:

(اربع درجات)

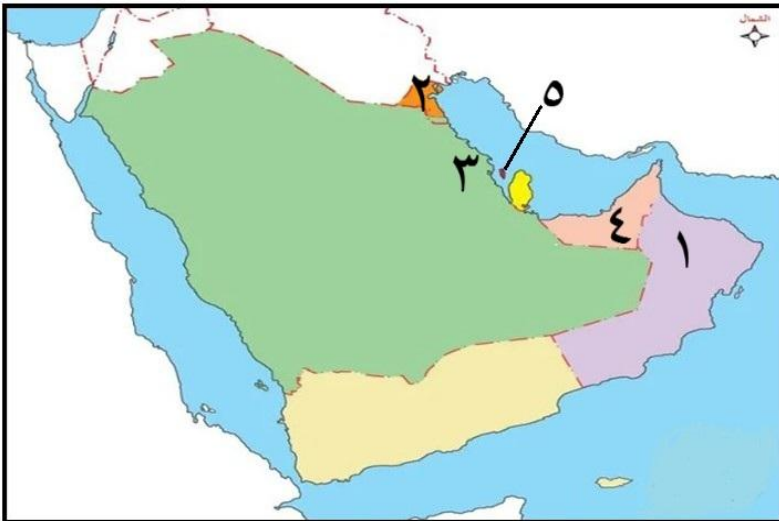
١. المنطقة التي تسقط عليها الإمطار صيفا بسلطنة عمان تسمى
٢. العامل المؤثر في نشأة الحضارات في الصورة المقابلة يسمى
٣. المنطقة التي تعلم فيها العتوب المهارة البحرية تسمى
٤. المنظمة التي أدرجت مهارات نسيج السدو في قائمة التراث الدولي تسمى


ب- صنف ما يلي في مكانه الصحيح بالجدول : (أربع درجات)

الحضارة الهيلينية - حضارة تاروت - حضارة دلمون - حضارة هيلي



ج- لاحظ الخريطة المقابلة ثم أجب عما يليها من أسئلة : (أربع درجات)



- ١- دولة بها الحضارة الهيلينية رقم
- ٢- حضارة تاروت يمثلها الرقم
- ٣- دولة وصلت لها هجرة المعاضيد رقم
- ٤- حدد على الخريطة باستخدام الرمز  موقع جبال الحجاز



السؤال الثاني :- موضوعي يتكون من (أ - ب - ج)

أ- حوط العنصر الذي لا ينتمي للمجموعة : (أربع درجات)

١- أفراد سفينة الغوص على اللؤلؤ

(النوخذة - القلاف - التباب - النهام)

٢- الحضارات القديمة بدول الخليج العربي

(بني ياس - هيلي - العبيد - تاروت)

٣- مواقع الحضارة الإسلامية في منطقة الخليج

(موقع صحار - موقع الجار - موقع الدريحانية - موقع الصبية)

٤- الواردات بمنطقة الخليج العربي قديما

(السكر - التمور - الأرز - التوابل)

ب- أوجد العلاقة بين كلام من : (أربع درجات)

١- الأغنام + الأبل + الماعز =

٢- الأمطار + المياه الجوفية + الأودية والمجاري السيلية =

٣- كاظمة + أم العيش + وادي الباطن + الشقايا =

٤- آل جلاهمة + آل خليفة + آل صباح =

ج - ضع علامة (✓) للعبارة الصحيحة وعلامة (X) للعبارة الخطأ : (أربع درجات)

الرقم	العبارة
١	الدولة الخليجية الأعلى في معدل الأمطار تسمى عمان
٢	أول محطة لتحلية مياه البحر في الكويت عام ١٩٦٣ تسمى الشويخ
٣	المدينة التي نزل فيها دين الإسلام على النبي محمد صلى الله عليه وسلم تسمى مكة
٤	يبلغ عدد القطع الأثرية في دار الآثار الإسلامية ٢٠٠ ألف قطعة



السؤال الثالث :- موضوعي يتكون من (أ- ب)

أ- اختر من المجموعة (أ) ما يتناسب مع المجموعة (ب) وذلك بكتابة الرقم : (ست درجات)

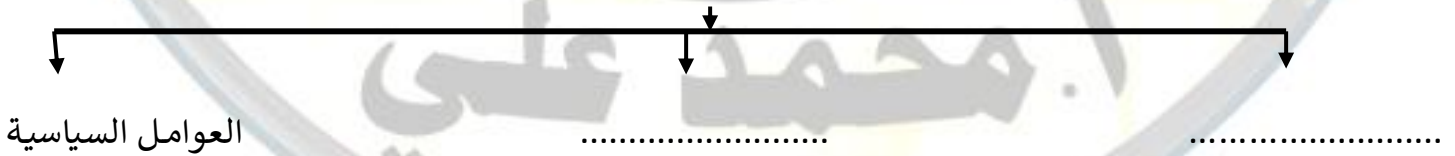
م	المجموعة (أ)	الرقم	المجموعة (ب)
١	الحيوان الذي يستخدم شعره في صناعة بيت الشعر		الثعالب
٢	الشخص الذي ترأس الاسر الثلاث وتولى مهام الحكم عام ١٧١٦		الماعز
٣	مؤسس دولة قطر		الخانجية
٤	الاسم الذي عرفت به التجارة البرية في دولة الكويت		جاسم بن محمد آل ثاني
٥	أحد الحيوانات غير المستأنسة		المسابلة
٦	الرحلة القصيرة التي تسبق رحلة الغوص الكبير		سليمان بن أحمد

ب- أكمل المخططات السهمية التالية (ست درجات)

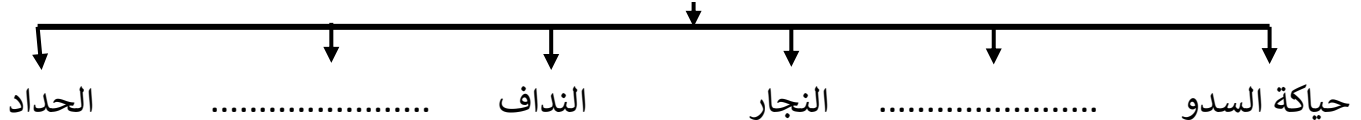
عدد مظاهر الحضارة الإسلامية



عوامل الهجرات الداخلية في منطقة الخليج العربية



الحرف اليدوية التي مارسها أبناء منطقة الخليج العربية قديما





السؤال الرابع :- (مقالي) يتكون من (أ- ب- ج)

أ- إقرأ الفقرة التالية ثم أجب عما يليها من أسئلة : (أربع درجات)

كانت الحياة في منطقة الخليج العربية بسيطة لقلة موارد المياه مما ترتب عليه فقر الحياة النباتية والحيوانية وقد اعتمدت حرفة الرعي على ما ينمو من نباتات بعد موسم سقوط الأمطار و على الرغم من الظروف البيئية القاسية في منطقة الخليج العربية إلا أن الزراعة انتشرت في الواحات فأقاموا مناطق زراعية لإنتاج بعض المحاصيل الزراعية

١- عرف ما تحته خط :

٢- استخرج من الفقرة : النتائج المترتبة على قلة موارد المياه

.....

٣- علل : أهمية الإبل لسكان الخليج

.....

.....

ب- فرق بين : (٤ درجات)

السهل	الجبل

هجرة خارجية	هجرة داخلية

ج- أكتب نقطتين في الأسئلة التالية : (٤ درجات)

١- عدد صفات الأمطار في دول الخليج العربية

.....

.....

٢- عدد الاثار المكتشفة بمنطقة الصبية

.....

.....



السؤال الخامس :- (مقالي) يتكون من (أ- ب- ج)
أ- قارن بين : (أربع درجات)

النباتات المعمرة	النباتات الحولية	
		المفهوم
		أمثلة

ب- علل ما يلي : (٤ درجات)

١- الأهمية الاستراتيجية لموقع دول الخليج العربي

.....
.....

٢- أهمية منطقة كاظمة في الحضارة الإسلامية

.....
.....

ج- عرف المفاهيم التالية : (٤ درجات)

١. الخليج العربي :

٢. مياه الصرف المعالجة :

٣. الرعي بالوداع :

٤. الرضيف :



العام الدراسي ٢٠٢٥م - ٢٠٢٦م

اختبار نهاية الفترة الدراسية الاولى

وزارة التربية

الزمن : ساعة وخمس وأربعون

مادة الكويت ودول الخليج العربي

منطقة ----- التعليمية

عدد الأوراق : ٥ أوراق

الصف السادس

قسم الاجتماعيات

النموذج الثاني (محلول)

السؤال الأول :- موضوعي يتكون من (أ - ب - ج)

(اربع درجات)

أ - أكمل العبارات الآتية بما يناسبها مما درست:

١. المنطقة التي تسقط عليها الإمطار صيفا بسلطنة عمان تسمى الجبل الأخضر

٢. العامل المؤثر في نشأة الحضارات في الصورة المقابلة يسمى الموارد الطبيعية

٣. المنطقة التي تعلم فيها العتوب المهارة البحرية تسمى الزبارة

٤. المنظمة التي أدرجت مهارات نسيج السدو في قائمة التراث الدولي تسمى اليونسكو

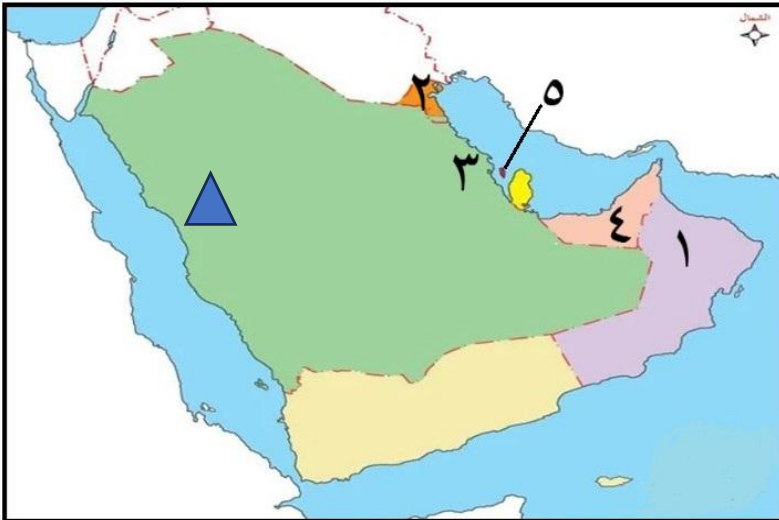
ب- صنف ما يلي في مكانه الصحيح بالجدول : (أربع درجات)

الحضارة الهيلينية - حضارة تاروت - حضارة دلمون - حضارة هيلي



حضارة تاروت	حضارة هيلي	الحضارة الهيلينية	حضارة دلمون

ج- لاحظ الخريطة المقابلة ثم أجب عما يليها من أسئلة : (أربع درجات)



١- دولة بها الحضارة الهيلينية رقم ٢....

٢- حضارة تاروت يمثلها الرقم ٣.....

٣- دولة وصلت لها هجرة المعاضيد رقم ٥....

٤- حدد على الخريطة باستخدام الرمز ▲

موقع جبال الحجاز



السؤال الثاني :- موضوعي يتكون من (أ- ب - ج)

أ- حوط العنصر الذي لا ينتمي للمجموعة : (أربع درجات)

١- أفراد سفينة الغوص على اللؤلؤ

(النوخذة - القلاف - التباب - النهام)

٢- الحضارات القديمة بدول الخليج العربي

(بني ياس - هيلي - العبيد - تاروت)

٣- مواقع الحضارة الإسلامية في منطقة الخليج

(موقع صحار - موقع الجار - موقع الدريحانية - موقع الصبية)

٤- الواردات بمنطقة الخليج العربي قديما

(السكر - التمور - الأرز - التوابل)

ب- أوجد العلاقة بين كلام من : (أربع درجات)

١- الأغنام + الأبل + الماعز = الحيوانات المستأنسة

٢- الأمطار + المياه الجوفية + الاودية والمجاري السيلية = مصادر المياه الطبيعية

٣- كاظمة + أم العيش + وادي الباطن + الشقاي = مواقع الحضارة الإسلامية في دولة الكويت

٤- آل جلاهمة + آل خليفة + آل صباح = العتوب

ج - ضع علامة (✓) للعبارة الصحيحة وعلامة (X) للعبارة الختأ : (أربع درجات)

الرقم	العبارة
١	الدولة الخليجية الأعلى في معدل الأمطار تسمى عمان
٢	أول محطة لتحلية مياه البحر في الكويت عام ١٩٦٣ تسمى الشويخ
٣	المدينة التي نزل فيها دين الإسلام على النبي محمد صلى الله عليه وسلم تسمى مكة
٤	يبلغ عدد القطع الأثرية في دار الآثار الإسلامية ٢٠٠ ألف قطعة



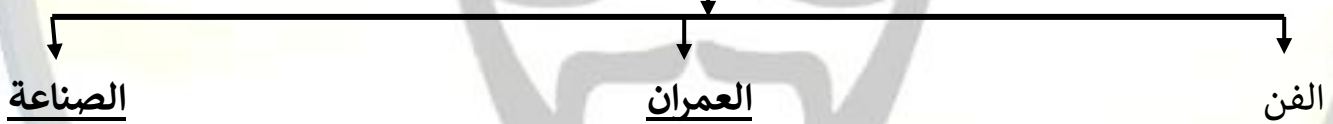
السؤال الثالث :- موضوعي يتكون من (أ- ب)

أ- اختر من المجموعة (أ) ما يتناسب مع المجموعة (ب) وذلك بكتابة الرقم : (ست درجات)

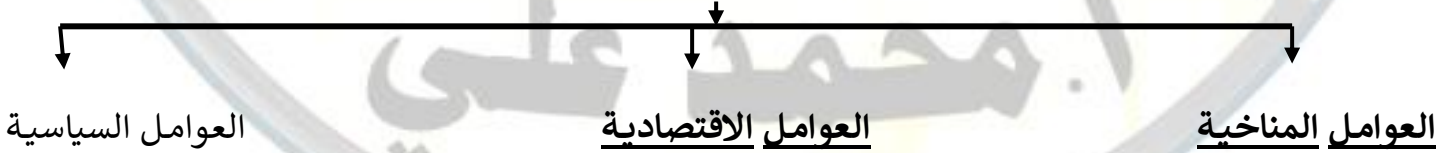
م	المجموعة (أ)	الرقم	المجموعة (ب)
١	الحيوان الذي يستخدم شعره في صناعة بيت الشعر	٥	الثعالب
٢	الشخص الذي ترأس الاسر الثلاث وتولى مهام الحكم عام ١٧١٦	١	الماعز
٣	مؤسس دولة قطر	٦	الخانجية
٤	الاسم الذي عرفت به التجارة البرية في دولة الكويت	٣	جاسم بن محمد آل ثاني
٥	أحد الحيوانات غير المستأنسة	٤	المسابلة
٦	الرحلة القصيرة التي تسبق رحلة الغوص الكبير	٢	سليمان بن أحمد

ب- أكمل المخططات السهمية التالية (ست درجات)

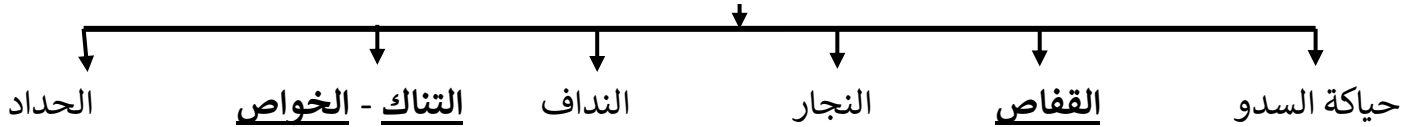
عدد مظاهر الحضارة الإسلامية



عوامل الهجرات الداخلية في منطقة الخليج العربية



الحرف اليدوية التي مارسها أبناء منطقة الخليج العربية قديما





السؤال الرابع :- (مقالي) يتكون من (أ- ب - ج)

أ- إقرأ الفقرة التالية ثم أجب عما يليها من أسئلة : (أربع درجات)

كانت الحياة في منطقة الخليج العربية بسيطة لقلة موارد المياه مما ترتب عليه فقر الحياة النباتية والحيوانية وقد اعتمدت حرفة الرعي على ما ينمو من نباتات بعد موسم سقوط الأمطار و على الرغم من الظروف البيئية القاسية في منطقة الخليج العربية إلا أن الزراعة انتشرت في الواحات فأقاموا مناطق زراعية لإنتاج بعض المحاصيل الزراعية

١- عرف ما تحته خط : الواحة - مناطق في الصحراء ، فيها مياه عذبة صالحة للزراعة

٢- استخرج من الفقرة : النتائج المترتبة على قلة موارد المياه

- فقر الحياة النباتية والحيوانية

٣- علل : أهمية الإبل لسكان الخليج

- الحصول على الحليب واللحم والوبر

- نقل البضائع والسفر إلى مسافات بعيدة

ب- فرق بين : (٤ درجات)

السهل	الجبل
أجزاء فسيحة من سطح الأرض تتميز باستوائها وقلة ارتفاعها	كل مرتفع له قمة لا يقل ارتفاعه عن ألف ألف متر

هجرة خارجية	هجرة داخلية
الانتقال عبر الحدود من دولة إلى دولة أخرى	الانتقال من مكان إلى آخر داخل المنطقة أو الدولة

ج- أكتب نقطتين في الأسئلة التالية : (٤ درجات)

١- عدد صفات الأمطار في دول الخليج العربية

* قليلة

* غير منتظمة

* تسقط في فصل الشتاء

٢- عدد الآثار المكتشفة بمنطقة الصبية

-وجود مستوطنات بشرية تعود إلى حضارة العبيد

- الأواني الفخارية والرحى الحجرية المستخدمة في طحن الغلال

- أدوات الغزل



السؤال الخامس :- (مقالي) يتكون من (أ- ب- ج)

أ- قارن بين : (أربع درجات)

النباتات المعمرة	النباتات الحولية	
نباتات متوفرة طول العام لأنها تتحمل الجفاف والحرارة	نباتات يرتبط وجودها بموسم سقوط المطر	المفهوم
الهرم - العرفج - الثندا - الرمث	الخبيزة - العنصيل - الحويذان	أمثلة

ب- علل ما يلي : (٤ درجات)

- الأهمية الاستراتيجية لموقع دول الخليج العربي
- تقع وسط العالم
- الاحتياطي النفطي الضخم
- أهمية منطقة كاظمة في الحضارة الإسلامية
- حدثت فيها معركة ذات السلاسل عام ١٢هـ بين المسلمين والفرس
- عثر فيها على مسكوكات إسلامية من العصر الأموي والعباسي

ج- عرف المفاهيم التالية : (٤ درجات)

- الخليج العربي : ذراع مائي لبحر العرب يمتد من خليج عمان جنوبا حتى شط العرب شمالا .
- مياه الصرف المعالجة : هي التي تصرف في شبكات الصرف وهي ملوثة لاستخدامها من قبل الانسان
- الرعي بالوداع : إيداع أصحاب الأغنام أغنامهم لدى الرعاة لرعيها والعناية بها مقابل مبلغ معين من المال.
- الرضيف : مساعد البحارة يقوم ببعض الاعمال البسيطة

((نهاية الاختبار مع أطيب الامنيات بالنجاح))

أ- محمد علي