



٢٠

الاسم: \_\_\_\_\_ الصف: \_\_\_\_\_

## السؤال الأول:

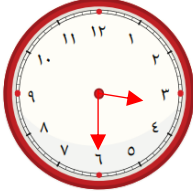
(أ) اكتب الوقت الذي تدل عليه

الساعة:




٧ : ٣٠

(ب) تقرأ فاطمة القرآن الكريم يومياً الساعة الثالثة لمدة نصف ساعة، ما الوقت الذي تنتهي به؟  
وضح احابتك على الساعات.



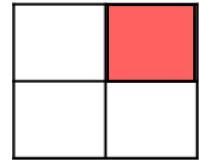
بعد نصف ساعة



٣ : ٣٠

٤

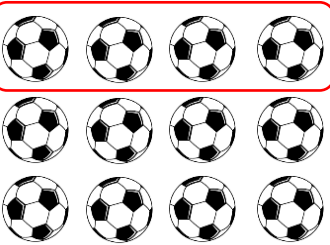
(ج) لون ما يمثل الربع:



لون ما يمثل النصف:



حوط ما يمثل الثلث:



(ب) اكتب عبارة القسمة من الاعداد التالية:

٨ ، ١٦ ، ٢

$$\underline{2} = \underline{8} \div \underline{16}$$

$$\underline{8} = \underline{2} \div \underline{16}$$

إجابة أخرى

السؤال الثاني: (أ) أكمل:




$$\underline{4} = \underline{3} \div \underline{12}$$

$$\underline{12} = \underline{4} \times \underline{3}$$

السؤال الثالث: (أ) اكتب رمز العدد:

سبعمئة وثلاثة



٧٠٣

٢٤٠

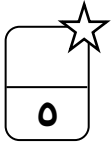
(ب) أكمل:

٩٠٠

٥٠٠




٤٠٠

٣



السؤال الرابع: اختر الإجابة الصحيحة بوضع

(١) الشكل الذي يمثل الربع هو:



(٢)  $2 = 4 \div \square$

١٠  
☐

٩  
☐

٨  
☒

(٣)  $\square =$  الساعة

٦٠ دقيقة  
☒

٣٠ دقيقة  
☐

١٥ دقيقة  
☐

(٤) الكلمة المناسبة التي تمثل الشكل هي:

الربع  
☐

الثلث  
☒

النصف  
☐

(٥) رمز العدد الذي يدل على الاسم المطول  $5 + 30 + 400$  هو:

٤٥٣  
☐

٤٣٥  
☒

٥٤٣  
☐

((انتهت الأسئلة))