



مؤسسة الإمارات للتعليم المدرسي  
EMIRATES SCHOOLS ESTABLISHMENT



United Arab Emirates

مدرسة القاسمية للتعليم الاساسي

# طرح الأعداد المكونة من ثلاثة أرقام



اعداد معلمة المادة : هدى هامور

اسمي الجميل :-----

صف ثاني :-----

هيئة اتحادية | Federal Entity

hello @ese.gov.ae

# تفكيك المئات للطرح

كون مئة لإجراء عملية جمع

لإيجاد ناتج 98 - 600 فكك عددا لتكوين عشرة ثم اطرح .

1- فكك 600 إلى 500 + 100

2- اطرح 98 من 100

$$600 - 98$$

$$500 \quad 100$$

$$100 - 98 = 2$$

$$500 + 2 = 502$$

$$600 - 98 = 502 \text{ إذا}$$



$$345 - 99$$

-----

$$----- - ----- = ---$$

$$----- + ----- = ---$$

$$345 - 99 = ----- \text{ إذا}$$

$$800 - 98$$

-----

$$----- - ----- = ---$$

$$----- + ----- = ---$$

$$800 - 98 = ----- \text{ إذا}$$

$$400 - 99$$

-----

$$----- - ----- = ---$$

$$----- + ----- = ---$$

$$400 - 99 = ----- \text{ إذا}$$

$$112 - 98$$

-----

$$----- - ----- = ---$$

$$----- + ----- = ---$$

$$112 - 98 = ----- \text{ إذا}$$

# طرح المئات

هيا يا بطلي الصغير ا طرح

$$300 - 300 = \text{-----}$$

$$400 - 200 = \text{-----}$$

$$500 - 400 = \text{-----}$$

$$600 - 100 = \text{-----}$$



$$\begin{array}{r} 400 \\ - \\ 400 \\ \hline \end{array}$$

$$\begin{array}{r} 700 \\ - \\ 200 \\ \hline \end{array}$$

$$\begin{array}{r} 900 \\ - \\ 300 \\ \hline \end{array}$$

$$\begin{array}{r} 800 \\ - \\ 600 \\ \hline \end{array}$$

$$\begin{array}{r} 700 \\ - \\ 400 \\ \hline \end{array}$$

$$\begin{array}{r} 500 \\ - \\ 100 \\ \hline \end{array}$$

$$\begin{array}{r} 600 \\ - \\ 300 \\ \hline \end{array}$$

$$\begin{array}{r} 800 \\ + \\ 0 \\ \hline \end{array}$$



حل المسائل

صنعت إحدى المدارس 900 علم لاحتفالات اليوم الوطني لدولة الامارات العربية المتحدة ، أخذ 100 طالب اعلامهم معهم الى المنزل . فكم عدد الاعلام المتبقية ؟

علم -----

# طرح 10 أو 100 ذهنيا

هيا يا بطلي الصغير أوجد العدد الناقص

$$200 - \text{-----} = 100$$

$$389 - \text{----} = 289$$



$$634 - \text{-----} = 624$$

$$250 - \text{-----} = 240$$

$$\begin{array}{r} 235 \\ - \\ 100 \\ \hline \end{array}$$

$$\begin{array}{r} 360 \\ - \\ 10 \\ \hline \end{array}$$

$$\begin{array}{r} 532 \\ - \\ 100 \\ \hline \end{array}$$

$$\begin{array}{r} 817 \\ - \\ 100 \\ \hline \end{array}$$

$$\begin{array}{r} 610 \\ - \\ 10 \\ \hline \end{array}$$

$$\begin{array}{r} 765 \\ - \\ 100 \\ \hline \end{array}$$

$$\begin{array}{r} 122 \\ - \\ 10 \\ \hline \end{array}$$

$$\begin{array}{r} 978 \\ - \\ 100 \\ \hline \end{array}$$

حل المسائل

نمت 654 زهرة برية في الحقل . قطف علي 10 منها . فكم عدد الزهور البرية المتبقية في الحقل


----- زهرة برية



## إعادة تجميع العشرات

هيا يا بطلي الصغير اجمع

آحاد	عشرات	مئات
8	3	4
9	2	2



آحاد	عشرات	مئات
6	5	7
7	2	4

1) 648

- 519

2) 544

- 236

3) 671

- 9

4) 733

- 514

5) 580

- 369

6) 631

- 223

7) 493

- 388

8) 222

- 19

حل المسائل

قفزت حور 482 على التوالي . و قفزت امانى 277 مرة على التوالي . فكم عدد المرات الزائدة التي قفزتها حور أكثر من أمانى ؟

قفزات -----



## إعادة تجميع المئات

هيا يا بطلي الصغير اطرح

مئات	عشرات	أحاد
5	9	4
4	9	1



مئات	عشرات	أحاد
8	5	6
4	7	3

1) 964

- 374

2) 648

- 291

3) 671

- 80

4) 538

- 480

5) 579

- 389

6) 684

- 293

7) 439

- 398

8) 222

- 99

حل المسائل

زار المتحف 517 ولدا و 286 بنتا ، فكم عدد الأولاد الزائدين عن البنات في المتحف؟

ولدا-----



# طرح الاعداد المكونة من ثلاثة ارقام

هيا يا بطلي الصغير اطرح



آحاد	عشرات	مئات
7	2	5
1	9	3

آحاد	عشرات	مئات
8	7	4
4	6	1

آحاد	عشرات	مئات
7	0	9
8	2	4

1) 256

- 159

\_\_\_\_\_

2) 764

- 185

\_\_\_\_\_

3) 359

- 167

\_\_\_\_\_

4) 576

- 363

\_\_\_\_\_

5) 865

- 471

\_\_\_\_\_

6) 594

- 501

\_\_\_\_\_

7) 334

- 225

\_\_\_\_\_

8) 886

- 293

\_\_\_\_\_

9) 758 - 238 =

10) 309 - 241 =

11) 65 - 23 =

12) 468 - 81 =



# إعادة كتابة مسائل طرح الأعداد المكونة من ثلاثة أرقام

اعد كتابة المسائل . اجمع

$$643 - 234$$


$$2- 299 + 198$$


$$4- 366 - 264$$


$$1- 217 - 117$$

a.


$$2- 197 - 129$$


$$4- 427 - 288$$


حل المسائل

يقرأ سيف كتاباً من 678 صفحة . و قد قرأ 159 صفحة منه . فكم عدد الصفحات المتبقية؟




صفحة -----




يستغرق بناء خط سكك حديدية على جبل 879 يوما ، و  
يستغرق بناء خط سكك حديدية على سطح منبسط 132 يوما ،  
فكم عدد الايام الزائدة التي يستغرق بناء خط سكة حديدية على  
الجبل؟

يومًا ----- ○ ----- ○ -----



يوجد 276 حيوانا في حديقة الحيوانات ، 185 منها ذكور ، فكم  
عدد الحيوانات الإناث ؟

حيوانا ----- ○ ----- ○ -----



قطف مزارع 983 ثمرة ذرة ، باع 381 ثمرة . كم عدد ثمرات  
الذرة المتبقية لدى المزارع

ثمرة ذرة ----- ○ ----- ○ -----

## طرح الأعداد مع وجود الأصفار

هيا يا بطل ا طرح. تحقق من الإجابات.



$$\begin{array}{r} 1) \quad 720 \\ - 510 \\ \hline \end{array}$$

$$\begin{array}{r} 2) \quad 702 \\ - 465 \\ \hline \end{array}$$

$$\begin{array}{r} 3) \quad 504 \\ - 272 \\ \hline \end{array}$$

$$\begin{array}{r} 4) \quad 873 \\ - 504 \\ \hline \end{array}$$

$$\begin{array}{r} 5) \quad 903 \\ - 241 \\ \hline \end{array}$$

$$\begin{array}{r} 6) \quad 860 \\ - 425 \\ \hline \end{array}$$

$$\begin{array}{r} 7) \quad 803 \\ - 337 \\ \hline \end{array}$$

$$\begin{array}{r} 8) \quad 910 \\ - 623 \\ \hline \end{array}$$

$$\begin{array}{r} 9) \quad 265 \\ - 104 \\ \hline \end{array}$$

$$\begin{array}{r} 6) \quad 712 \\ - 504 \\ \hline \end{array}$$

$$\begin{array}{r} 7) \quad 265 \\ - 104 \\ \hline \end{array}$$

$$\begin{array}{r} 8) \quad 720 \\ - 567 \\ \hline \end{array}$$

$$9) 800 - 138 =$$

$$10) 342 - 105 =$$

$$11) 733 - 265 =$$

$$12) 864 - 80 =$$

13) صنعت شركة تويوتا 450 سيارة. بيع منها 123 سيارة. كم سيارة بقيت ؟

-----

# تدريبات

السؤال الأول : ا طرح



1) 6 8

- 4 5

2) 6 1 7

- 4 1 6

3) 5 6 8

- 3 9 8

4) 4 5 7

- 2 3 5

5) 9 8 8

- 2 1 2

6) 7 8 9

- 2 9 1



السؤال الثاني : أوجد الناتج

1) 5 0 0 - 2 7 9 =

4) 3 0 0 - 1 9 9 =

2) 6 0 4 - 3 3 6 =

5) 2 0 1 - 1 4 2 =

3) 7 0 3 - 4 9 7 =

6) 8 0 0 - 1 3 8 =

السؤال الثالث : أكتب عدد تستطيع طرحه من 301 دون إعادة تجميع

لتجد حاصل طرح 415 و 136 هل تحتاج إلى إعادة تجميع المئات وضع ذلك؟



## تدريبات

هيا يا بطل اطرح. تحقق من الإجابات.

$$1) \quad 653$$

$$- 117$$

$$2) \quad 786$$

$$- 337$$

$$3) \quad 635$$

$$- 212$$

$$4) \quad 672$$

$$- 143$$

$$5) \quad 472$$

$$- 319$$

$$6) \quad 874$$

$$- 361$$

$$7) \quad 526$$

$$- 225$$

$$8) \quad 709$$

$$- 253$$

$$9) \quad 568$$

$$- 174$$

$$6) \quad 495$$

$$- 205$$

$$7) \quad 434$$

$$- 225$$

$$8) \quad 688$$

$$- 392$$

$$9) \quad 54 - 138 =$$

$$10) \quad 903 - 241 =$$

$$11) \quad 85 - 65 =$$

$$12) \quad 864 - 81 =$$

هيا يا بطل اختر الإجابة الصحيحة

13) صنع يوسف 23 لعبة وزع 14 لعبة على أصدقائه، كم لعبة بقي معه؟

9


7

10

13

# تدريبات

هيا يا بطل اطرح معي . أعد التجميع إذا احتجت



مئات	عشرات	آحاد
<input type="text"/>	<input type="text"/>	<input type="text"/>
5	7	3
- 2	- 4	- 2

مئات	عشرات	آحاد
<input type="text"/>	<input type="text"/>	<input type="text"/>
8	5	2
- 6	- 1	- 4

مئات	عشرات	آحاد
<input type="text"/>	<input type="text"/>	<input type="text"/>
8	7	8
- 3	- 2	- 5

$$\begin{array}{r} \square \square \square \\ 774 \\ - 426 \\ \hline \end{array}$$

$$\begin{array}{r} \square \square \square \\ 891 \\ - 23 \\ \hline \end{array}$$

$$\begin{array}{r} \square \square \square \\ 656 \\ - 154 \\ \hline \end{array}$$

$$\begin{array}{r} 427 \\ - 174 \\ \hline \end{array}$$

$$\begin{array}{r} \square \square \square \\ 365 \\ - 261 \\ \hline \end{array}$$

$$\begin{array}{r} \square \square \square \\ 921 \\ - 340 \\ \hline \end{array}$$

$$\begin{array}{r} \square \square \square \\ 824 \\ - 413 \\ \hline \end{array}$$

$$\begin{array}{r} \square \square \square \\ 598 \\ - 465 \\ \hline \end{array}$$

$$\begin{array}{r} \square \square \square \\ 165 \\ - 131 \\ \hline \end{array}$$

$$\begin{array}{r} \square \square \square \\ 721 \\ - 270 \\ \hline \end{array}$$

$$\begin{array}{r} \square \square \square \\ 424 \\ - 203 \\ \hline \end{array}$$

$$\begin{array}{r} \square \square \square \\ 998 \\ - 465 \\ \hline \end{array}$$

# تدريبات

هيا يا بطل اطرح .



$$\begin{array}{r} 90 \\ - 24 \\ \hline \end{array}$$

$$\begin{array}{r} 85 \\ - 54 \\ \hline \end{array}$$

$$\begin{array}{r} 746 \\ - 312 \\ \hline \end{array}$$

$$\begin{array}{r} 672 \\ - 143 \\ \hline \end{array}$$

$$\begin{array}{r} 1) \quad 476 \\ - 377 \\ \hline \end{array}$$

$$\begin{array}{r} 2) \quad 834 \\ - 257 \\ \hline \end{array}$$

$$\begin{array}{r} 7) \quad 500 \\ - 182 \\ \hline \end{array}$$

$$\begin{array}{r} 8) \quad 910 \\ - 623 \\ \hline \end{array}$$

هيا يا بطل حل المسألة التالية مستعينا بجدول المعلومات .



رسوم الدخول إلى حديقة صقر برأس الخيمة:  
30 درهما لكل سيارة .  
40 دراهم لكل دراجة .  
150 درهما لكل حافلة .

1- قرر تلاميذ الصف الثاني في مدرسة القاسمية الذهاب إلى الحديقة على أن يستقلوا حافلة أو 3 سيارات .  
أ- كم هي كلفة دخول الحديقة لـ 3 سيارات ؟

ب - بكم تزيد كلفة الدخول إلى الحديقة بالحافلة عما هي عليه بالسيارات؟



# مراجعة

هيا يا بطلي الصغير أوجد ناتج الطرح

$\begin{array}{r} 923 \\ - 567 \\ \hline \end{array}$	$\begin{array}{r} 926 \\ - 658 \\ \hline \end{array}$	$\begin{array}{r} 835 \\ - 368 \\ \hline \end{array}$	$\begin{array}{r} 956 \\ - 598 \\ \hline \end{array}$
---	---	---	---

$\begin{array}{r} 763 \\ - 398 \\ \hline \end{array}$	$\begin{array}{r} 753 \\ - 378 \\ \hline \end{array}$	$\begin{array}{r} 823 \\ - 386 \\ \hline \end{array}$	$\begin{array}{r} 956 \\ - 598 \\ \hline \end{array}$
---	---	---	---

$\begin{array}{r} 932 \\ - 778 \\ \hline \end{array}$	$\begin{array}{r} 678 \\ - 593 \\ \hline \end{array}$	$\begin{array}{r} 925 \\ - 568 \\ \hline \end{array}$	$\begin{array}{r} 953 \\ - 368 \\ \hline \end{array}$
---	---	---	---

مراجعة  
الوحدة 7 : طرح الأعداد المكونة من ثلاثة  
أرقام

السؤال الأول : كون مئة لإجراء عملية الطرح

$$\begin{array}{r} 455 - 98 \\ \hline \end{array}$$

----- = ---  
----- + ----- = ---  
إذا  $455 - 98 = \text{-----}$

$$\begin{array}{r} 300 - 99 \\ \hline \end{array}$$

----- = ---  
----- + ----- = ---  
إذا  $300 - 99 = \text{-----}$

السؤال الثاني : ا طرح :

$$\begin{array}{r} 400 \\ - 300 \\ \hline \end{array}$$

$$\begin{array}{r} 832 \\ - 124 \\ \hline \end{array}$$

$$\begin{array}{r} 245 \\ - 10 \\ \hline \end{array}$$

آحاد	عشرات	مئات
6	5	7
9	6	4

$$\begin{array}{r} 562 \\ - 114 \\ \hline \end{array}$$

$$\begin{array}{r} 500 \\ - 119 \\ \hline \end{array}$$

$$\begin{array}{r} 335 \\ - 100 \\ \hline \end{array}$$

السؤال الثالث : أعد كتابة المسائل .  
ا طرح

$$789 - 245$$

$$\begin{array}{r} \phantom{0} \\ - \phantom{0} \\ \hline \end{array}$$



السؤال الخامس :ضع خطا تحت ما تعرف و ارسـم دائرة حول ما عليك إيجاد حله .

1-تقود عائلة طارق السيارة مسافة 985 كيلومترا و قد قطعوا بالفعل 218 كيلومترا ، فكم عدد الكيلومترات المتبقية لديهم ؟



هيا يا صغيري اطرح :

$$\begin{array}{r} 481 \\ - 363 \\ \hline \end{array}$$

$$\begin{array}{r} 652 \\ - 419 \\ \hline \end{array}$$

$$\begin{array}{r} 528 \\ - 394 \\ \hline \end{array}$$

$$\begin{array}{r} 293 \\ - 173 \\ \hline \end{array}$$

$$\begin{array}{r} 889 \\ - 495 \\ \hline \end{array}$$

$$\begin{array}{r} 375 \\ - 191 \\ \hline \end{array}$$