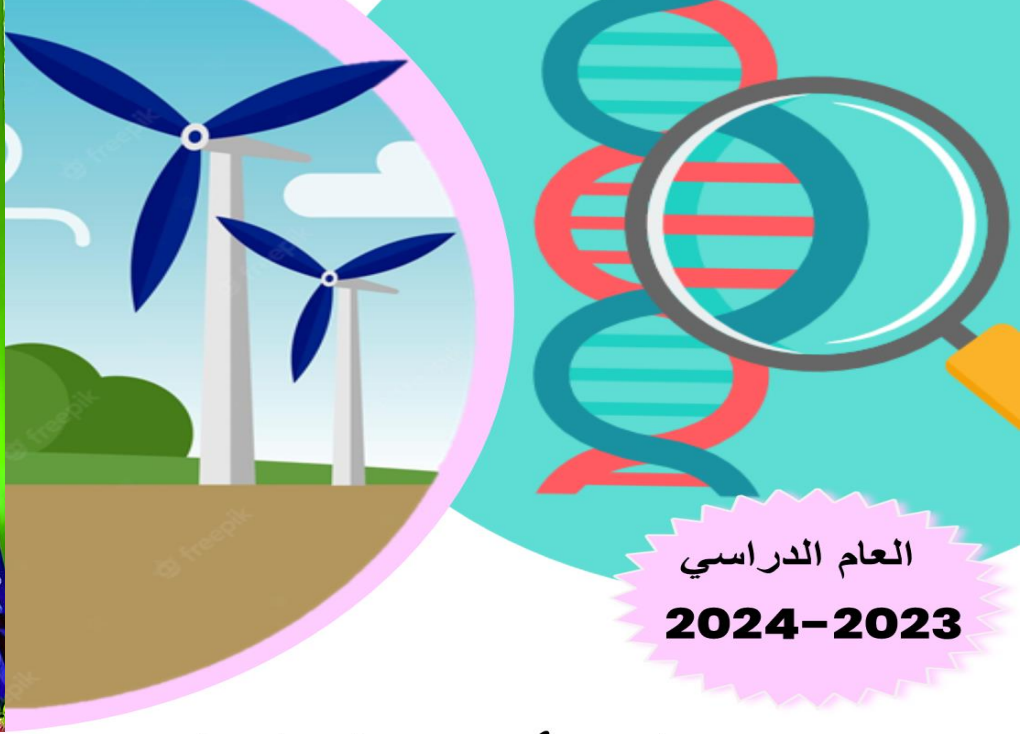



نماذج أوراق العمل التقويمية للصف الثالث الابتدائي الفترة الدراسية الثانية




العام الدراسي
2024-2023

نماذج أوراق العمل التقويمية

الصف الثالث - الفترة الدراسية الثانية

الموجه الفني العام للعلوم
أ / منى الأنصاري



SCAN ME!



فريق الإعداد

3



نماذج أوراق العمل التقويمية
الصف الثالث – الفترة الدراسية الثانية
العام الدراسي 2023-2024



الاسم :

الفصل :

الدرجة النهائية : / 5

درس : ما هي خصائص الصخور و التربة في بلادنا ؟

السؤال الأول : اختر الإجابة الصحيحة علمياً بوضع علامة (✓) في المربع المقابل لها فيما يلي:

- التربة السائدة في دولة الكويت هي :

التربة الطينية ☐

التربة الزراعية ☐

التربة الرملية ☐

التربة الدبالية ☐

2

السؤال الثاني : ضع علامة (✓) أمام العبارة الصحيحة علمياً وعلامة (x) أمام العبارة غير الصحيحة فيما يلي:

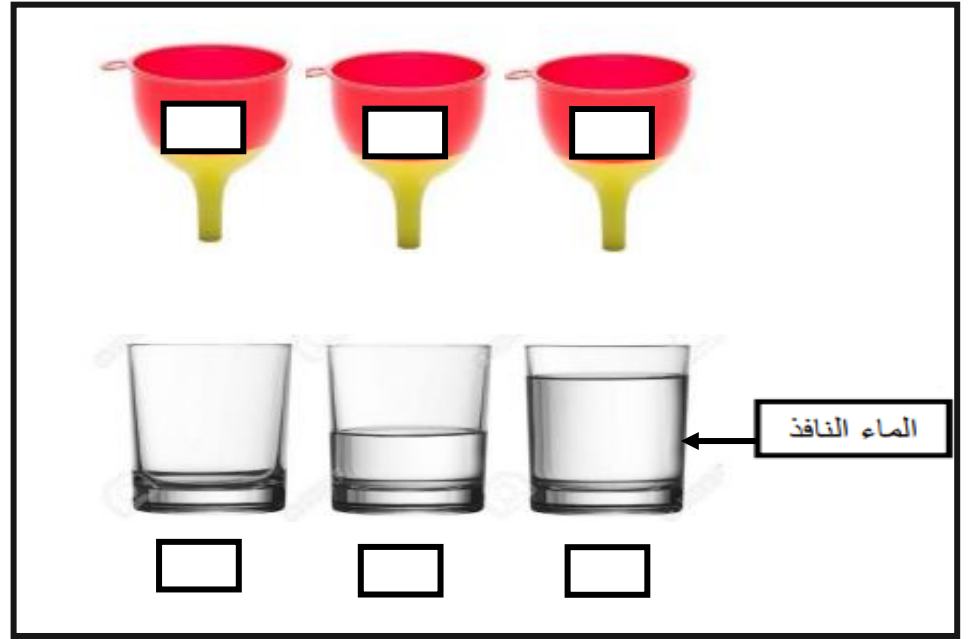
1 () التربة الطينية حبيباتها كبيرة و مفككة ولا تحتفظ بالماء . ()

2 () الصخور في دولة الكويت تختلف بخصائصها . ()

2

السؤال الثالث : ادرس الرسم التالي و طبق ما هو مطلوب :

- أشر بالرقم (1) للقمع الذي يحتوي على التربة الطينية .
- أشر بالرقم (2) لكأس الماء الذي يوضح كمية الماء النافذة من التربة الرملية .





نماذج أوراق العمل التقويمية
الصف الثالث – الفترة الدراسية الثانية
العام الدراسي 2023-2024



وزارة التربية
التوجيه الفني للعلوم

الاسم :

الفصل :

الدرجة النهائية : / 5

درس : النباتات في الصحراء

السؤال الأول : اختر الإجابة الصحيحة علمياً بوضع علامة (✓) في المربع المقابل لها فيما يلي:

- الزهرة الوطنية لدولة الكويت هي لنبات :

العرفج ☐

النخيل ☐

الكحيل ☐

الاقحوان ☐

2

السؤال الثاني : في الجدول التالي اختر العبارة من المجموعة (ب) وأكتب رقمها أمام

ما يناسبها من عبارات المجموعة (أ) :

الرقم	المجموعة (أ)	المجموعة (ب)
<input type="checkbox"/>	نباتات اوراقها كبيرة و سميكة .	1- نباتات الصحراء
<input type="checkbox"/>	نباتات اوراقها رفيعة و شوكية .	2- نباتات الحديقة
		3- نباتات البحرية

2



نماذج أوراق العمل التقويمية
الصف الثالث – الفترة الدراسية الثانية
العام الدراسي 2023-2024



السؤال الثالث : ماذا تتوقع أن يحدث عند :

- زراعة نبات الحديقة في الصحراء

.....



نماذج أوراق العمل التقويمية
الصف الثالث – الفترة الدراسية الثانية
العام الدراسي 2023-2024



الاسم :

الفصل :

الدرجة النهائية : / 5

درس : تنوع نباتات الصحراء في بلادي

السؤال الأول : اختر الإجابة الصحيحة علمياً بوضع علامة (✓) في فيما يلي:

- نبات حولي ذو لون بنفسجي ينمو ويزدهر بعد هطول الامطار:

الاقحوان	النخيل	الكحيل	العرفج
<input type="text"/>	<input type="text"/>	<input type="text"/>	<input type="text"/>

2

السؤال الثاني : أكمل العبارات التالية بما يناسبها من كلمات :

(1) النخل شجرة تنمو طول السنة لأنها من النباتات..... (الحولية – المعمره)

(2) نبات لا ينمو إلا في شهر مارس وابريل هو (الأقحوان – العرفج)

2



نماذج أوراق العمل التقويمية
الصف الثالث – الفترة الدراسية الثانية
العام الدراسي 2023-2024



وزارة التربية
التوجيه الفني العام للعلوم

السؤال الثالث : علل لما يأتي تعليلا علميا صحيحا :

- ينمو نبات الكحيل في موسم الامطار

.....



نماذج أوراق العمل التقويمية
الصف الثالث – الفترة الدراسية الثانية
العام الدراسي 2023-2024



الاسم :

الفصل :

الدرجة النهائية : / 5

درس : كيف أحافظ على سلامتي في البحر ؟

السؤال الأول : اخترا لإجابة الصحيحة علميا بوضع علامة (✓) في المربع المقابل لها فيما يلي:

- جميع الأدوات التالية تحافظ على سلامتي بالرحلة البحرية ما عدا :

حقيبة إسعافات

☐

سترة النجاة

☐

السنارة

☐

البوصلة

☐

2

السؤال الثاني : اكتب بين القوسين كلمة (صحيحة) للعبارة الصحيحة وكلمة (خطأ) للعبارة غير

الصحيحة في كل مما يأتي:

(1) يجب الابتعاد عن الصخور عند ركوب الدراجة المائية. (.....)

(2) الهاتف النقل غير ضروري في الرحلات البحرية . (.....)

2

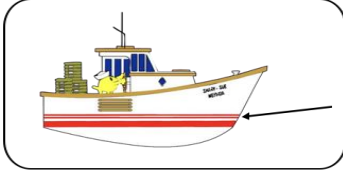


نماذج أوراق العمل التقويمية
الصف الثالث – الفترة الدراسية الثانية
العام الدراسي 2023-2024



وزارة التربية
التوجيه الفني العام للعلوم

السؤال الثالث : ماذا يحدث في الحالة التالية :



عندما يتخطى مستوى الماء خط الأمان في السفينة .

.....



نماذج أوراق العمل التقويمية
الصف الثالث – الفترة الدراسية الثانية
العام الدراسي 2023-2024



الاسم :

الفصل :

الدرجة النهائية : / 5

درس : كيف يمكن معالجة مياه البحر ؟

السؤال الأول : اختر الإجابة الصحيحة علمياً بوضع علامة (✓) في المربع المقابل لها فيما يلي:

- عملية تحول المادة من الحالة الغازية إلى الحالة السائلة تسمى بـ

تكثيف ☐

تقطير ☐

تسخين ☐

تبخير ☐

2

السؤال الثاني : اكتب بين القوسين كلمة (صحيحة) للعبارة الصحيحة وكلمة (خطأ) للعبارة غير

الصحيحة في كل مما يأتي:

(1) تتكون السحب في الطبقات العليا من الهواء . (.....)

(2) التقطير هو تبخير ماء مالح يليه تكثيف بخار الماء . (.....)

2



السؤال الثالث : ماذا يحدث في الحالة التالية :

- عند تقريب سطحاً بارداً من بخار الماء المتصاعد.

.....



نماذج أوراق العمل التقويمية
الصف الثالث – الفترة الدراسية الثانية
العام الدراسي 2023-2024



وزارة التربية
التوجيه الفني العام للعلوم

الاسم :

الفصل :

الدرجة النهائية : / 5

درس : النفط ثروة بلادي

السؤال الأول : اختر الإجابة الصحيحة علمياً بوضع علامة (✓) في المربع المقابل لها فيما يلي:

- يتكون النفط في باطن الأرض و يكون لونه :

أبيض ☐

أسود ☐

أحمر ☐

أخضر ☐

2

السؤال الثاني : أكمل العبارات التالية بما يناسبه من الكلمات :

1 - يكون قوام النفط

2 - تشكل النفط من كائناتنباتية و حيوانية

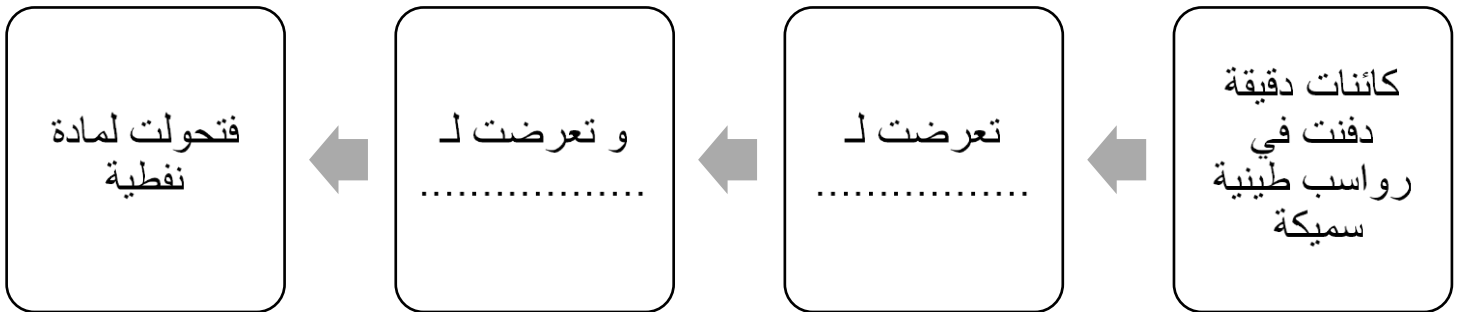
2



نماذج أوراق العمل التقويمية
الصف الثالث – الفترة الدراسية الثانية
العام الدراسي 2023-2024



السؤال الثالث : أكمل المخطط الشكلي بما تراه مناسباً :





نماذج أوراق العمل التقويمية
الصف الثالث – الفترة الدراسية الثانية
العام الدراسي 2023-2024



الاسم :

الفصل :

الدرجة النهائية : / 5

درس : ما دور التكنولوجيا في البحث عن النفط و استخراجه؟

السؤال الأول : اختر الإجابة الصحيحة علميا بوضع علامة (✓) في المربع المقابل لها فيما يلي:

- أحد المواد التالية من مشتقات النفط:

الورق ☐

الفحم ☐

الغاز ☐

الخشب ☐

2


السؤال الثاني : ضع علامة (✓) أمام العبارة الصحيحة علميا وعلامة (x) أمام العبارة الغير صحيحة فيما يلي:

(1) كان استخدام النفط قديما محصور في معالجة بعض الأمراض الجلدية. ()

(2) يعتبر وقود السيارات من مشتقات النفط. ()

2

**السؤال الثالث : أكمل البيانات على الرسم بكتابة أسماء الأدوات الموضحة و التي تستخدم في
البحث عن النفط :**





الاسم :

الفصل :

الدرجة النهائية : / 5

درس : ما هي طرق التعامل مع المنتجات النفطية
بصورة آمنة ؟

السؤال الأول : اختر الإجابة الصحيحة علمياً بوضع علامة (✓) في المربع المقابل لها فيما يلي:

- أحد المجموعات التالية تحتوي على منتجات غير نفطية :

(كأس فلين – مبيد حشري) ☐

(كوب ورقي – طاولة خشب) ☐

(كأس فلين – كأس بلاستيكي) ☐

(كوب ورقي - أصباغ) ☐

2

السؤال الثاني : اكمل العبارات التالية بكلمة علمية مناسبة:

(1) من المنتجات النفطية التي تستخدم كوقود للسيارات

(2) نحافظ على البيئة من خلال التقليل من النفايات و

2



نماذج أوراق العمل التقويمية
الصف الثالث – الفترة الدراسية الثانية
العام الدراسي 2023-2024



السؤال الثالث : ماذا تتوقع أن يحدث عند :

كثرة استخدام المنتجات النفطية.

.....



نماذج أوراق العمل التقويمية
الصف الثالث – الفترة الدراسية الثانية
العام الدراسي 2023-2024



الاسم :

الفصل :

الدرجة النهائية : / 5

درس : كيف تحد من تلوث الهواء الجوي ؟

السؤال الأول : اختر الإجابة الصحيحة علمياً بوضع علامة (✓) في المربع المقابل لها فيما يلي:

- جميع ما يلي يسبب تلوث الهواء الجوي ما عدا :

المبيدات الحشرية

☐

عوادم السيارات

☐

وسائل النقل الجماعية

☐

دخان المصانع

☐

2

السؤال الثاني : أكتب بين القوسين كلمة (صحيحة) للعبارة الصحيحة وكلمة (خطأ) للعبارة غير الصحيحة في كل مما يأتي:

(1) دخان الحرائق من مسببات تلوث الهواء الجوي. ()

(2) استخدام الدراجة الهوائية يزيد من تلوث الهواء الجوي. ()

2




نماذج أوراق العمل التقويمية
الصف الثالث – الفترة الدراسية الثانية
العام الدراسي 2023-2024



السؤال الثالث : ماذا تتوقع أن يحدث في الحالة التالية :

- عند بناء المصانع بالقرب من المناطق السكنية



.....