

المعيار: ٣-٤-٤-١-١ جمع البيانات من البيئة، وتنظيمها، وتمثيلها بالأعمدة البيانية، والرموز، والنقاط، وقراءة تلك التمثيلات، وتفسيرها.

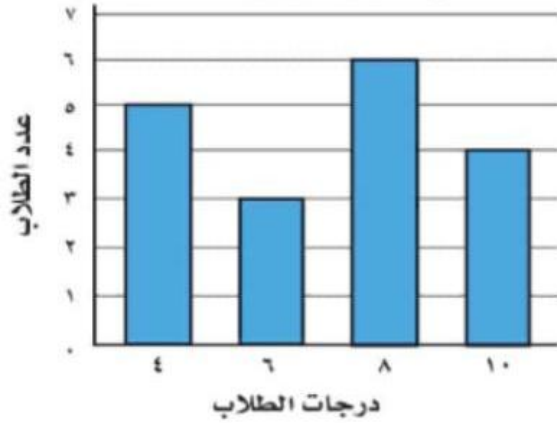
## المعرفة

## المستوى الإدراكي

حصل الطلاب في اختبار العلوم على الدرجات (٤، ٦، ٨، ١٠).  
يبين الشكل عدد الطلاب الذين حصلوا على كل نتيجة.

ما الدرجة التي حصل عليها أكثر الطلاب؟

نتائج اختبار العلوم



السؤال ١

د. ١٠

ج. ٨

ب. ٦

أ. ٤

من التمثيل بالرموز التالي كم كتاباً قرأ كنعان

عَدَدُ الْكُتُبِ الَّتِي قَرَأَهَا الطُّلَابُ فِي الْإِجَازَةِ	
إِسْمَاعِيلُ	
كَنْعَانُ	
مَاهِرٌ	
عَبْدُ الْمَجِيدِ	
مِفْتَاحٌ:	= كِتَابَيْنِ

السؤال ٢

د. ٤

ج. ٣

ب. ٢

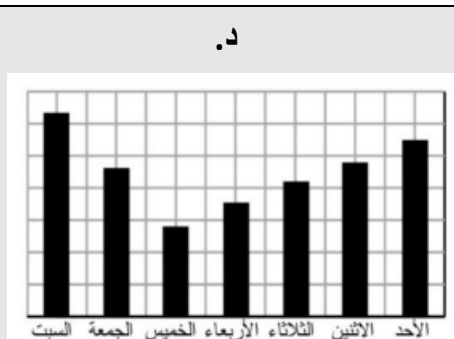
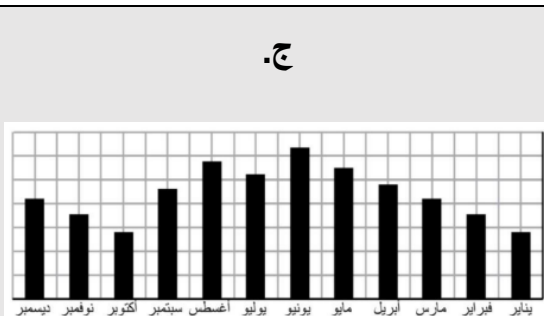
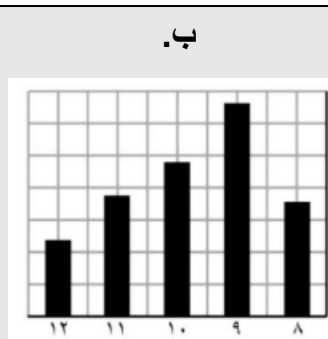
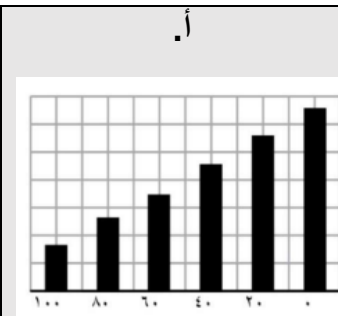
أ. ٦

## التطبيق

## المستوى الإدراكي

قام زياد باستطلاع حول عدد الطلاب الذين يشاهدون التلفاز كل مساء لمدة أسبوع، أي الرسوم التالية يشير إلى نتائج زياد؟

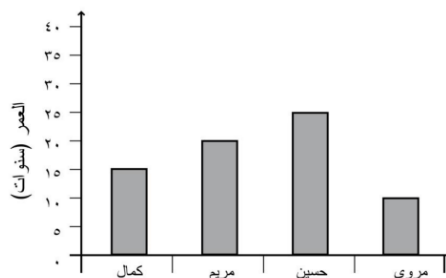
السؤال ٣



يشير الرسم أمامك إلى أعمار ٤ أشخاص

السؤال ٤

بكم يزيد عمر حسين عن عمر مروى بالسنين؟



أ.٥

ب.١٠

ج.١٥

د.٢٠

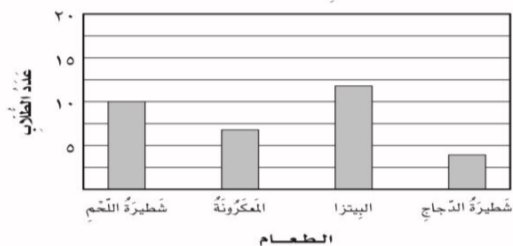
الاستدلال

المستوى الإدراكي

ما جدول التكرار الذي يمثل التمثيل بالأعمدة أمامك

السؤال ٥

الأعمدة المقصدة



أ.

شطيرة اللحم	
المعكرونة	
البيزا	
شطيرة الدجاج	

ب.

شطيرة اللحم	
المعكرونة	
البيزا	
شطيرة الدجاج	

ج.

شطيرة اللحم	
المعكرونة	
البيزا	
شطيرة الدجاج	

د.

شطيرة اللحم	
المعكرونة	
البيزا	
شطيرة الدجاج	

من الرسم أمامك العدد الكلي للساعات التي يمضيها حمزة في ركوب الدراجة هو:

السؤال ٦

الوقت الذي يمضيه حمزة في ركوب الدراجة	
	اليوم الأول
	اليوم الثاني
	اليوم الثالث
	اليوم الرابع
 = نصف ساعة	المفتاح:

د. اثنا عشر ساعة وربع

ج. اثنا عشر ساعة وربع

ب. ست ساعات ونصف

أ. ست ساعات وربع