


مدرسة الأندلس الخاصة للبنات
العام الأكاديمي 2026/2025



إختبار الوحدة (السادسة)

الإجابة النموذجية

مادة الرياضيات

الصف الثالث الابتدائي

اسم الطالبة/.....

الصف والشعبة /.....

منتصف الفصل
الدراسي الثاني

مادة رياضيات

إختبار الوحدة
السادسة

العام الأكاديمي
2026/2025



الوحدة 6

الوحدة السادسة

الدروس المطلوبة

1-6 قراءة التمثيلات بالمصورات والتمثيلات بالأعمدة

الصفحات (10-5)

3-6 إنشاء تمثيل بالأعمدة

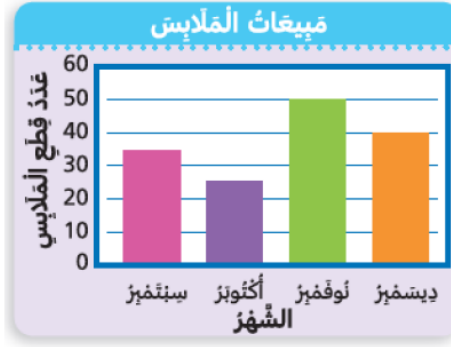
الصفحات (22 – 17)

وباقى الدروس إثرائية غير مطلوبة بالاختبار

السؤال الأول: الأسئلة الموضوعية:
اختر الإجابة الصحيحة:

1

من خلال التمثيل بالأعمدة في أي شهر بيع أكثر عدد من قطع الملابس؟



A سبتمبر

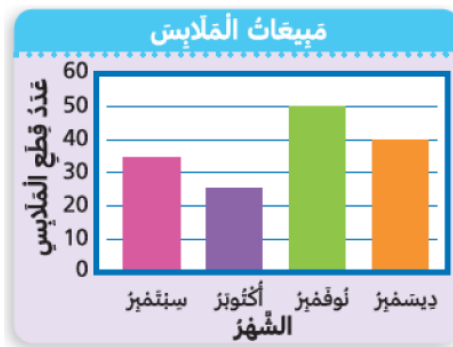
---/1

B ديسمبر

C نوفمبر

2

من خلال التمثيل بالأعمدة في أي شهر بيع أقل عدد من قطع الملابس؟



A سبتمبر

---/1



B أكتوبر



C نوفمبر

كم عدد الطلاب الذين يفضلون الشوفان بالعسل؟

3

أنواع خبوز الإفطار المفضلة

المقرمشات بالتوت	
الشوفان بالعسل	
الدرة بالسكر	
القمح بالمكسرات	

كل  = 2 من الأصوات. كل  = 1 من الأصوات.

A

4

---/1

B

6





C


10

كم عدد الميداليات التي حصلت عليها قطر؟

4

الميداليات الذهبية التي تم الفوز بها

الكويت	
الأردن	
قطر	
العراق	

كل  = 1 من الميداليات الذهبية.

A

3

---/1

B

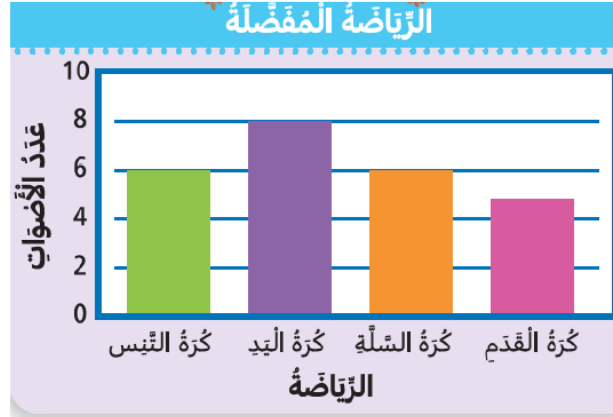
5

C

6

كم عدد الأشخاص الذين اختاروا كرة اليد؟

5



A

5

---/1

B


6

C

8

كم عدد المنازل في المدينة A؟

6



A

30

---/1

B

45

C

50

بكم يزيد عدد الطلاب الذين يفضلون وجبة البيتزا عن الطلاب الذين يفضلون وجبة السلطة؟

7

الوجبة المفضلة		
الوجبة	الإشارات	العدد
دجاج مشوي	//	2
بيتزا	/// ///	8
سلطة	///	3

$$8 - 3 = 5$$

A	5	---/1
B	8	
C	11	

ما المكان الذي يضاء فيه الأنوار مدة 50 ساعة بالضبط؟

8

ساعات استعمال الإضاءة في مركز رياضي	
عدّد الشاعات التي تكون الأنوار فيها مضاءة في الأسبوع	
غرفة التمرين	
غرفة تبديل الملابس	
قاعة السباحة	
ملعب التنس	


كلّ  = 10 ساعات. كلّ  = 5 ساعات.

A	غرفة التمرين	---/1
B	غرفة تبديل الملابس	
C	ملعب التنس	

الأسئلة المقالية:

السؤال الأول

من خلال جدول التمثيل بالمصورات أجب عما يلي :



(A) كم عدد المنازل التي بنيت في المدينة C؟

30 منزل

الإجابة:

(B) أي من المدن لديها أكبر عدد من المنازل؟

المدينة D

الإجابة:

(C) كم عدد المنازل التي بنيت في المدينة A؟

45

الإجابة:





(D) بكم تزيد عدد المنازل في المدينة D عن عدد المنازل في المدينة F؟

70 - 60 = 10

الإجابة:

السؤال الثاني

من خلال جدول التمثيل بالمصورات أجب عما يلي :

أنواع حبوب الإفطار المُفصّلة	
المُقْرَمَشَاتُ بِالتُّوتِ	
الشُّوفَانُ بِالعَسَلِ	
الذُّرَّةُ بِالسُّكَّرِ	
القَمَحُ بِالمَكْسَرَاتِ	
كُلُّ  = 2 مِنَ الأَصْوَاتِ. كُلُّ  = 1 مِنَ الأَصْوَاتِ.	

(A) ما عدد الطلاب الذين يفضلون حبوب المقرمشات بالتوت؟

9 طلاب

(B) ما عدد الطلاب الذين يفضلون حبوب القمح بالمكسرات؟

10 طلاب

(C) بكم يزيد عدد الطلاب الذين يفضلون حبوب الذرة بالسكر عن الطلاب الذين يفضلون حبوب الشوفان بالعسل؟

7 - 4 = 3

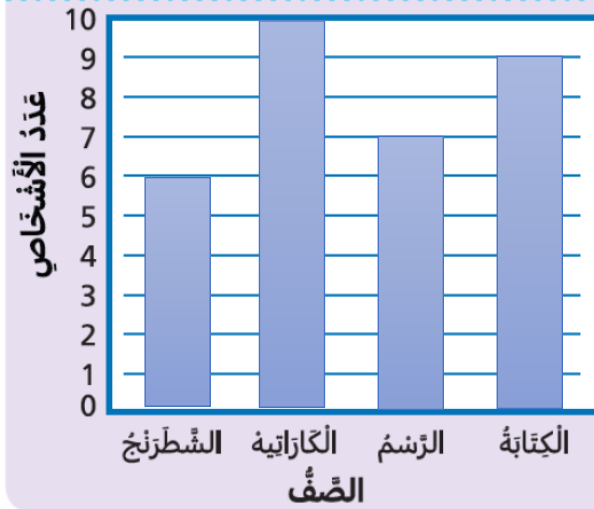
السؤال الثالث

أكمل التمثيل بالأعمدة لعرض البيانات .

A.

عَدَدُ الْأَشْخَاصِ الَّذِينَ اشْتَرَكُوا فِي النَّادِي		
الصَّف	الإشارات	عَدَدُ الْأَشْخَاصِ
الشَّطْرَنْج	### /	6
الكَارَاتِيه	### ###	10
الرَّسْم	### //	...7..
الكَتَابَةُ	### ////	...9..

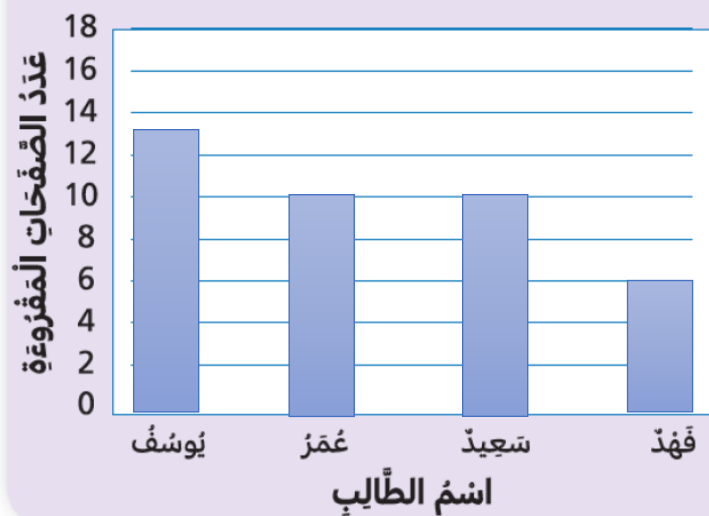
عَدَدُ الْأَشْخَاصِ الَّذِينَ اشْتَرَكُوا فِي النَّادِي



B.

سِجَلُ الْقِرَاءَةِ الْيَوْمِي	
اسْمُ الطَّالِبِ	عَدَدُ الصَّفْحَاتِ الْمَقْرُوءَةِ
يُوسُفُ	13
عَمْرُ	10
سَعِيدُ	10
فَهْدُ	6

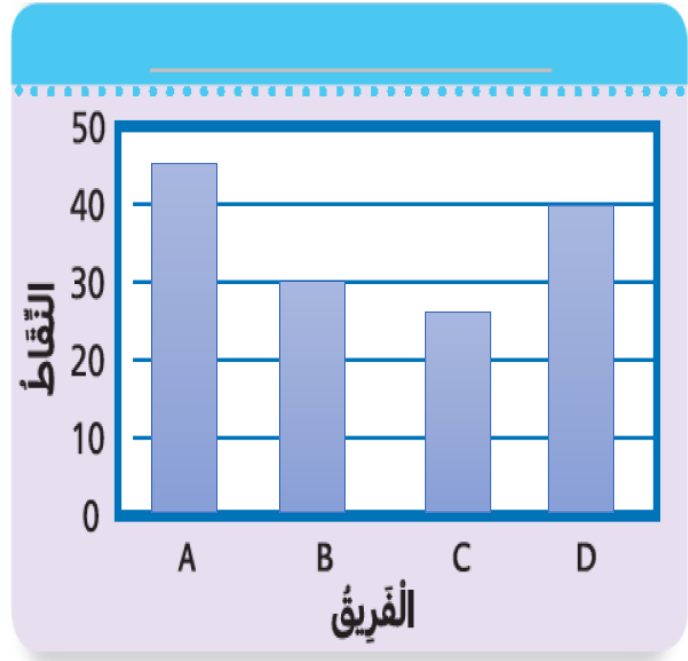
سِجَلُ الْقِرَاءَةِ الْيَوْمِي



السؤال الرابع

أكمل التمثيل بالأعمدة لعرض البيانات .

نتائج التّوَم الرياضيّ	
الفريق	النّقاط
A	45
B	30
C	25
D	40



أجب عما يلي:

(A) ما هو الفريق الذي حصد أكبر عدد من النقاط؟

الفريق A

(B) ما هو الفريق الذي حصد على أقل عدد من النقاط؟

الفريق C

انتهت الاسئلة

بالتوفيق للجميع