



كراسة تحدي المعلومات (3) غير محلولة



مادة الدراسات الاجتماعية منتصف الفصل الدراسي الثاني

2025 – 2026 م

الاسم /



سادس /

إعلان مسابقة تحدي المعلومات 3

يعلن قسم الدراسات الاجتماعية عن تقديم مسابقة تحدي المعلومات 3 لطالبات الصف (الثالث - الرابع - الخامس - السادس) من خلال الحضور الصفّي والاختبار الورقي
المادة العلمية من الكتاب المدرسي وكراسة تحدي المعلومات 3



صف الطالبة



أثناء الحصص



مارس
الحد 8
+
الاثني 9

إعلان النتائج يوم الأربعاء 11 - 3 - 2026 م





جغرافيا - الوحدة الأولى
الموارد والأنشطة الاقتصادية
من صفحة 11-39



السؤال الأول:

اختر الإجابة الصحيحة بوضع علامة × في المربع المقابل :-

"تحويل المواد الخام إلى سلع وخدمات أكثر فائدة للإنسان" يشير المفهوم السابق إلى مصطلح:

1

السياحة

أ

التجارة

ب

الزراعة

ج

الصناعة

د

أي العوامل الطبيعية الآتية تساعد على قيام الزراعة؟

2

الأسواق

أ

رأس المال

ب

وسائل النقل

ج

التربة الخصبة

د

تعد من العوامل البشرية التي تساعد على قيام الزراعة:

3

النقل

أ

التربة

ب

المناخ

ج

موارد المياه

د



تُعد من أكثر دول العالم إنتاجاً للأغنام عام 2017:

4

- أ الهند
- ب الصين
- ج البرازيل
- د الأرجنتين

أي من الآتي يُعد من العوامل الطبيعية لقيام الصناعة؟

5

- أ رأس المال
- ب مصادر الطاقة
- ج الأيدي العاملة
- د وسائل النقل

ينتشر الرعي التجاري في المناطق:

6

- أ الحارة
- ب الجبلية
- ج السافانا
- د الصحراوية

من أمثلة الصناعات التحويلية:

7

- أ الغاز
- ب الفحم
- ج المنسوجات
- د البترول

أي دول العالم الآتية أعلى إنتاجاً للأسمك؟

8

الهند

أ

فيتنام

ب

الصين

ج

سيرلانكا

د

أي من الآتي يُعد من الحبوب الغذائية؟

9

القطن

أ

الشاي

ب

الأرز

ج

بنجر السكر

د

تتم معالجة المشكلات الزراعية من خلال:

10

توفير الأسواق

أ

منع الصيد الجائر

ب

الحد من التلوث البحري


ج

وضع قيود لمحاربة التصحر

د

السؤال الثاني:

بم تفسر لجوء معظم دول العالم إلى التوسع في تربية الدواجن؟



1.
- 2-

السؤال الثالث:

أجب عن الآتي:

أ- اذكر أمثلة على كل من:-

المحاصيل الصناعية:	الحبوب الغذائية:
	
1-	-1
2-	
3-	
-	



ب- عدد أنواع الرعي في العالم.

- 1-
- 2-

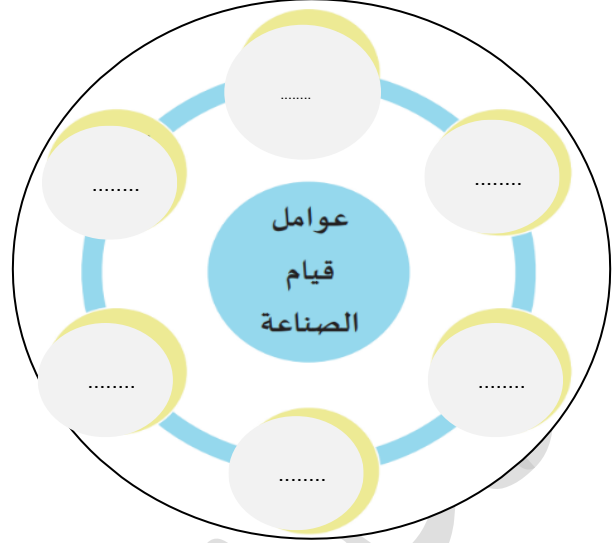
ج- اذكر أنواع الصناعات.

1.
2.

هـ- اذكر مقترحات لمعالجة المشكلات الزراعية.

1.
2.
3.

د- ما عوامل قيام الصناعة؟






و- أعط أمثلة على الصناعات التحويلية.

- 1-
- 2-
- 3-

السؤال السادس:

وضح أهمية كلاً من:-

أهمية الصناعة 	أهمية الثروة السمكية 	أهمية الزراعة 
-1	-1	-1
-2	-2	-2
-3	-3	-3
	-4	



تاريخ - الوحدة الثانية
الدولة الأموية في الأندلس
من صفحة 44-57



السؤال الأول:

اختر الإجابة الصحيحة بوضع علامة * في المربع المقابل :-

القائد الأموي للجيش في معركة بلاط الشهداء:

1

طارق بن زياد

أ

موسى بن نصير

ب

عبدالرحمن الغافقي

ج

المستنصر بن عبدالرحمن

د

عدد دويلات ملوك الطوائف:

2

10

أ

20

ب

30

ج

40

د

تعد آخر معاقل المسلمين في الأندلس مملكة:

3

سرقسطة

أ

طليطلة

ب

غرناطة

ج

إشبيلية

د

بنى الأمير عبدالرحمن الداخل المسجد الجامع في مدينة:

4

أ قرطبة

أ

ب إشبيلية

ب

ج غرناطة

ج

د الزهراء

د

بُنيت مكتبة قرطبة في عهد الأمير:

5

أ الحكم المستنصر

أ

ب المنصور بن عامر

ب

ج عبدالرحمن الناصر

ج

د المستنصر بن عبدالرحمن

د



أي من الآتي تُعد من مظاهر الانقسام بين المسلمين في الأندلس؟

6

أ انتشار الظلم

أ

ب ظهور العباسيين

ب

ج النزاع على ولاية العهد

ج

د إيثار العرب على غيرهم

د

تم فتح الأندلس في عصر:

7

أ العباسيين

أ

ب الأمويين

ب

ج العثمانيين

ج

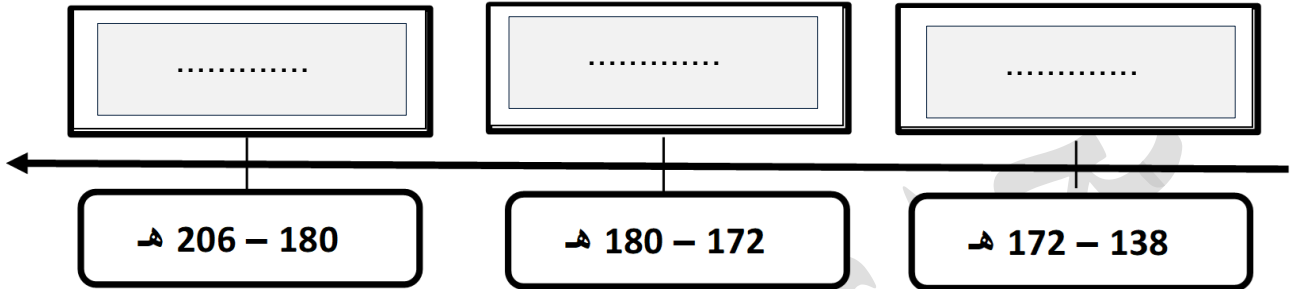
د الراشدين

د

السؤال الثاني:

1- رتب حكام عصر الإمارة الأموية على الخط الزمني.

(هشام بن عبدالرحمن - عبدالرحمن بن معاوية - الحكم بن هشام)




2- رتب حكام عصر الخلافة الأموية على الخط الزمني.

(الحكم المستنصر - عبدالرحمن الناصر - المنصور بن عامر)



السؤال الثالث:



1- بم تفسر:
أ- قيام الثورات في الأندلس؟

- 1-
- 2-

وضح عوامل ضعف وسقوط الدولة الأموية في الأندلس؟

.....
----------------	----------------	----------------	----------------

السؤال الرابع:

أجب على الأسئلة التالية:

1- وضح الإجراءات التي قامت بها الممالك الأسبانية لإنهاء الوجود الإسلامي في الأندلس.

- 1-
- 2-
- 3-

2- اذكر دويلات ملوك الطوائف.

- 1-
- 2-

1- عدد أعمال كلاً من:-

أعمال الخليفة عبدالرحمن بن محمد (الناصر):	أعمال الأمير عبدالرحمن بن معاوية (الداخل):
..... -1 -1
..... -2 -2
..... -3 -3
..... -4 -4



ملاحظة هامة:

الأسئلة الإثرائية لا تغني عن الكتاب المدرسي يرجى مذاكرة تدريبات الكتاب

وفقن الله يا فخر المرخية 😊 ..

اللهم لا سهل إلا ما جعلته سهلاً، فإنك إن شئت تجعل الصعب سهلاً..