

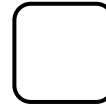

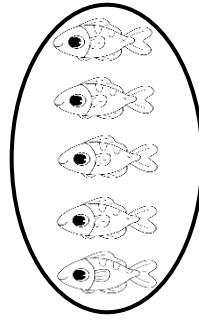



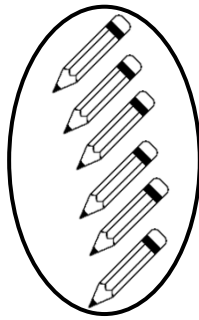
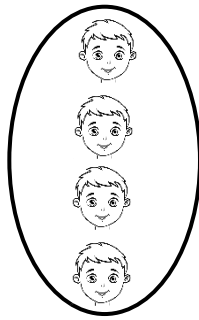


## نموذج اختبار - التحصيلي الأول - للصف الأول الابتدائي


للعام الدراسي ٢٠٢٣ / ٢٠٢٤ م

### السؤال الأول :

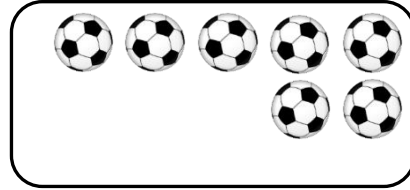
أ. عدّ العناصر ، قارن بين العددين بوضع < أو > أو = :



ب. استكمل رسم العناصر بحسب العدد الموضح :

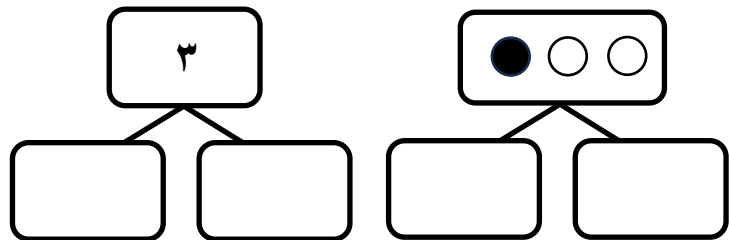



٤



١١


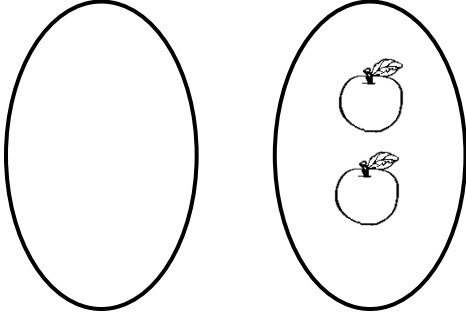
### السؤال الثاني : أكمل :



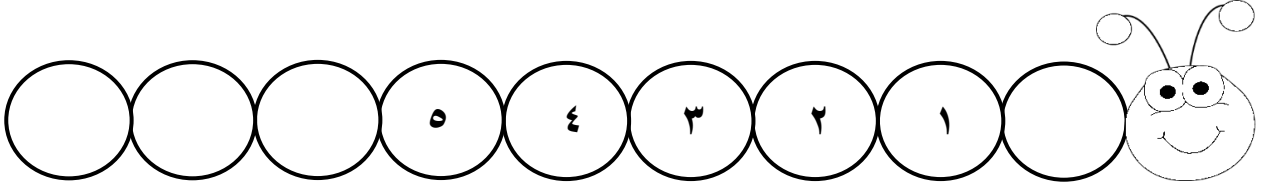
السؤال الثالث :

أ. ضع علامة ✓ أسف المجموعة الأكثر:

ب. ارسم مجموعة تكافئ



ب. أكمل



السؤال الرابع : صل برمز العدد المناسب :

٨

١٢

١٠

١١

٧

