

في مجال

عوامل
الاستقلال

الرؤية الأولى



الفكرة الرئيسة

أمريكا الشمالية قارة من قارات العالم الجديد تحتوي أراضيها والمسطحات المائية المحيطة على الكثير من الثروات الطبيعية وتتشكل من ثلاث دول ترتبط فيما بينها بروابط اقتصادية عديدة من خلال التبادل التجاري ووما لا شك فيه أن هذه الدول بما تملكه من موارد طاقة داخلية يمكن أن تلبى متطلباتها المستقبلية من الطاقة وتأتي على رأس هذه الدول الولايات المتحدة الأمريكية التي تحاول أن تحقق نوعا من الاستقلال في مجال الطاقة لكنها مازالت تعتمد بشكل كبير على الطاقة المستوردة من دول الخليج العربية وعلى رأسها دولة الامارات العربية المتحدة

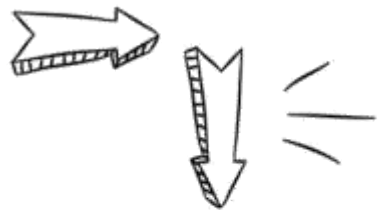
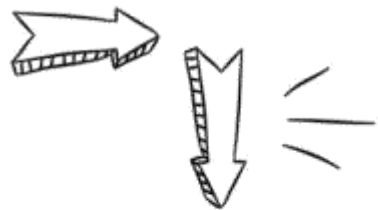
1 يتعرف مصادر الطاقة المتوافرة في قارة أمريكا الشمالية

2 يقارن بين التجربة الاتحادية في كل من دولة الامارات العربية المتحدة الولايات المتحدة الامريكية

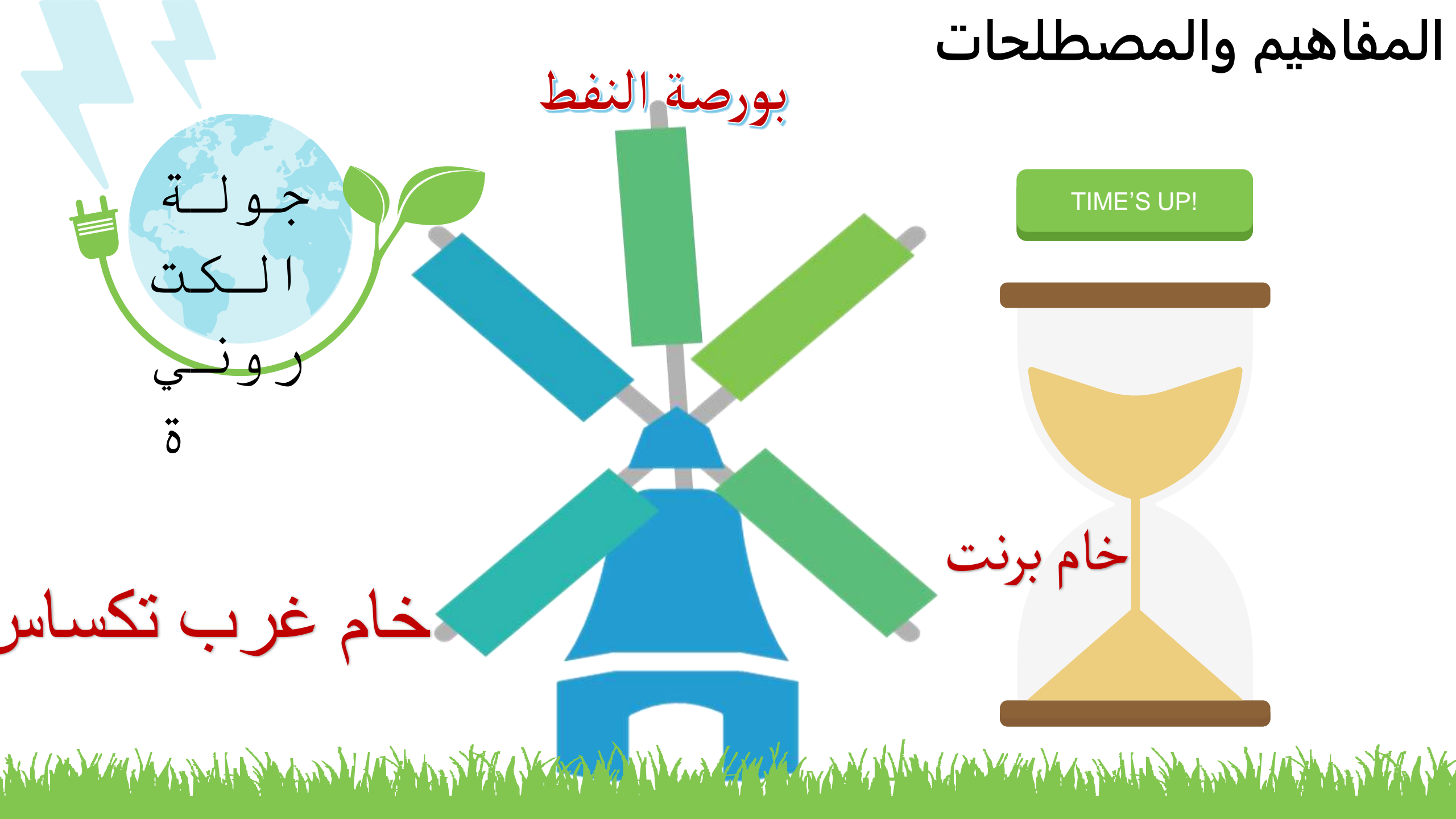
3 . يلخص عوامل عدم تحقيق مستقبل مستقل في مجال الطاقة في الولايات المتحدة الامريكية

4 يحلل الرسوم والأشكال والرسوم البيانية





المفاهيم والمصطلحات



بورصة النفط

TIME'S UP!

خام برنت

خام غرب تكساس


جولة
الكت
روني
ة

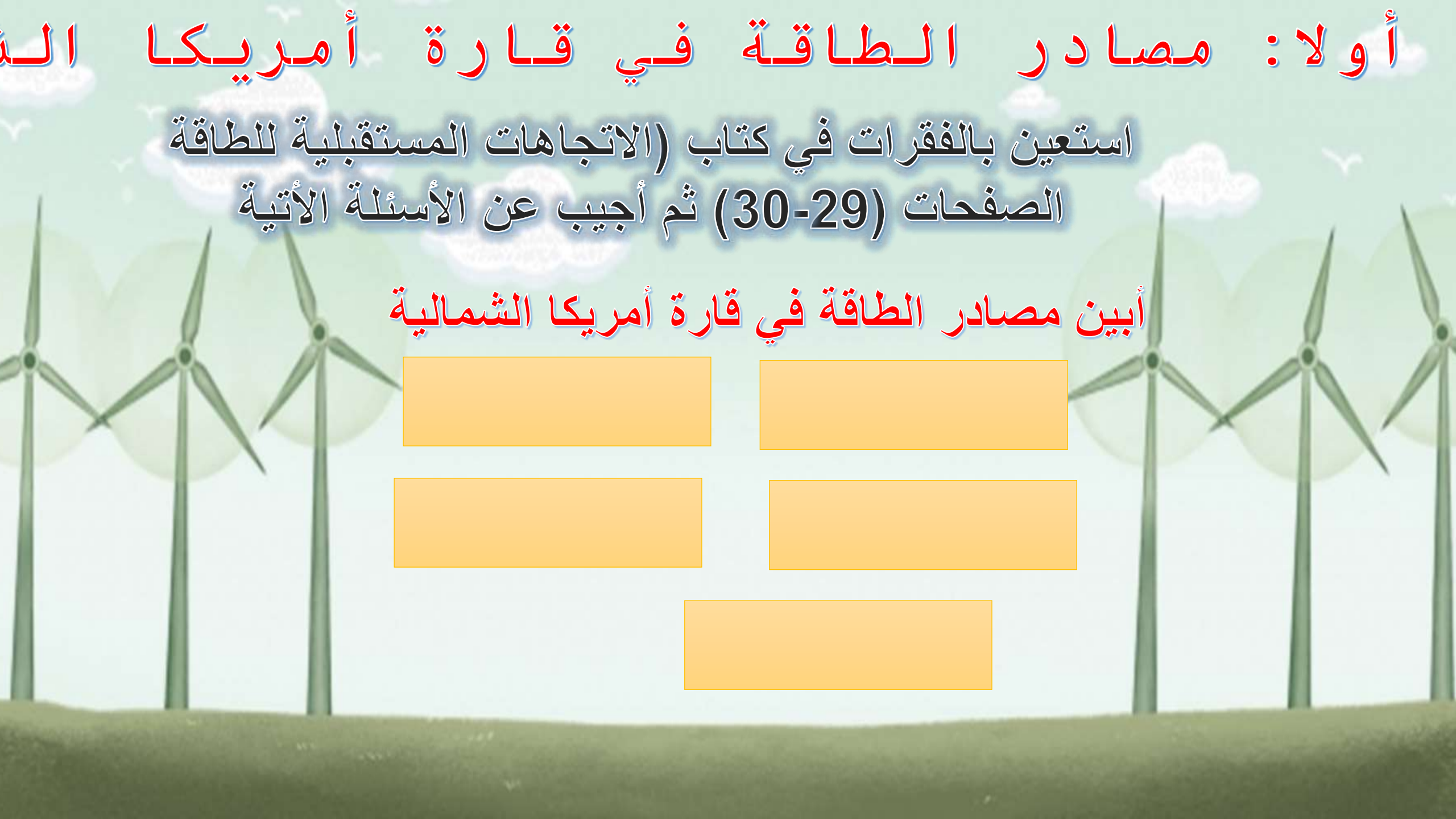
أولاً: مصادر الطاقة في قارة أمريكا الشمالية



Wordwall

أختبر معلوماتك من خلال هذا الرابط





أولاً : مصادر الطاقة في قارة أمريكا الشمالية

استعين بالفقرات في كتاب (الاتجاهات المستقبلية للطاقة
الصفحات (29-30) ثم أجب عن الأسئلة الآتية

أبين مصادر الطاقة في قارة أمريكا الشمالية

ولا : مصادر الطاقة

في قارة أسترين بالفقرات في كتاب (الاتجاهات المستقبلية للطاقة
الشمالية الصفحات (29-30) ثم أجيب عن الأسئلة الآتية

أوضح وجهة نظري في إمكانية دول أمريكا الشمالية من تحقيق الاستقلال
في مجال الطاقة وأؤيد إجابتي بالأدلة.

عدم بلوغ مستقبل في
أعاون مع زملائي في استكمال الجدول الآتي

أقارن دولة الامارات العربية المتحدة

01

01

الاسم باللغة
الانجليزية

02

02

تاريخ قيام
الاتحاد

03

03

عدد الإمارات
أو الولايات التي
تشكل منها

04

04

العاصمة
الاتحادية

05

05

العاصمة
الاقتصادية

06

06

تاريخ اكتشاف
النفط

عدم بلوغ مستقبل في مجال التعاون مع زملائي في استكمال الجدول الآتي

الولايات المتحدة الامريكيت و أقارن

01

01

الاسم باللغة
الانجليزية

02

02

تاريخ قيام
الاتحاد

03

03

عدد الإمارات
أو الولايات التي
تشكل منها

04

04

العاصمة
الاتحادية

05

05

العاصمة
الاقتصادية

06

06

تاريخ اكتشاف
النفط

عدم بلوغ مستقبل في مجال الطاقة

أبين مصادر الطاقة التي ساعدت المكتشفين الأوروبيين من الوصول إلى
العالم الجديد ومنطقة الخليج العربي



يحلل الرسوم والرسوم البيانية استخلص من الشكل اثني من الحقائق الجيوسياسية

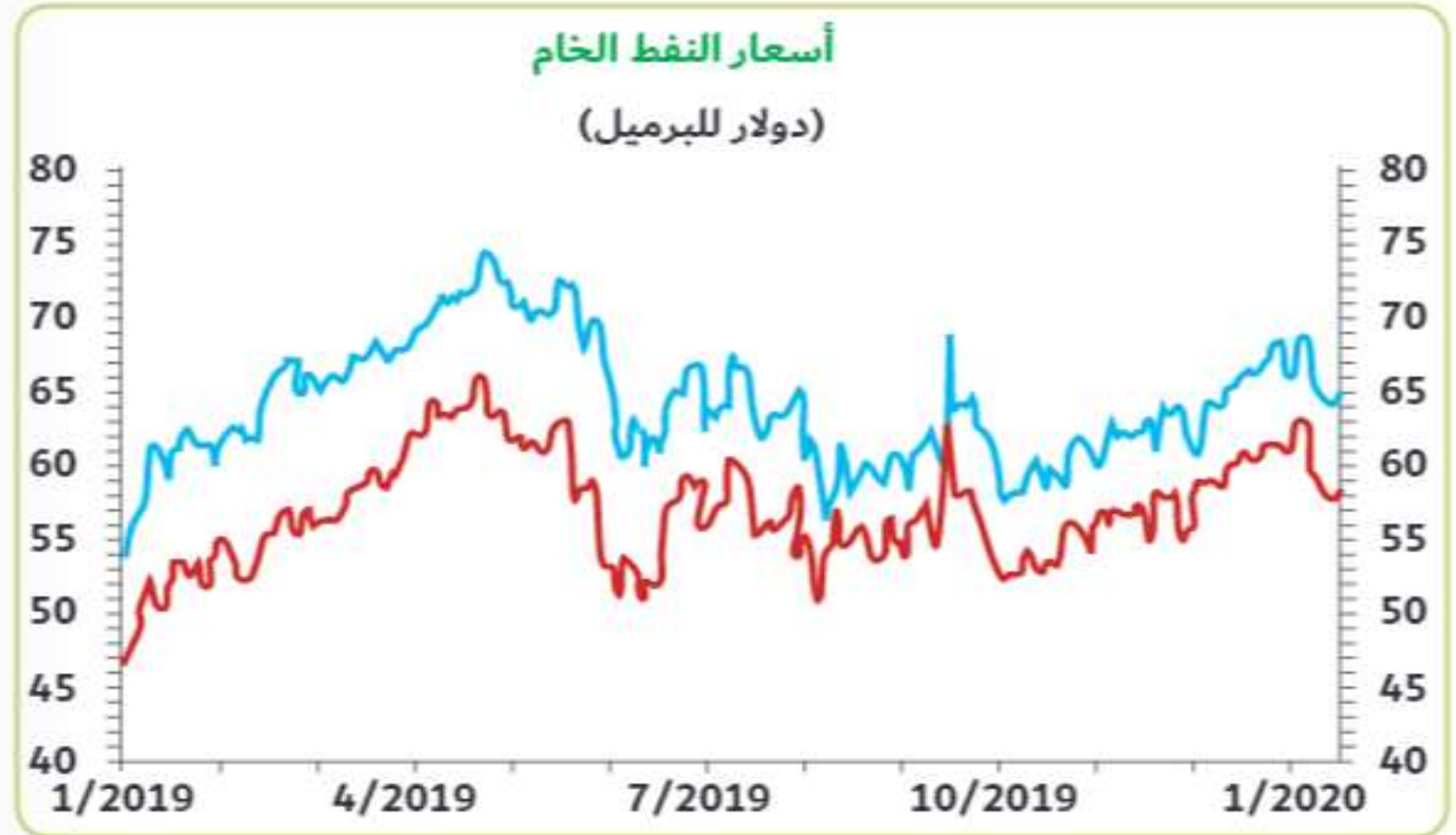
1-

2

أستكشف وأجيب



استعين بالشكل الآتي ومصادر المعلومات المختلفة: لأجيب عن الأسئلة التالية:



ابحثي عن مصادر المعلومات المختلفة للإجابة عن السؤال
باستخدام شبكة الانترنت

_____ /1

_____ /2



خاتمة الرؤية



اكتب تقرير من صفحة واحدة يبين التعاون بين دولة الامارات
العربية المتحدة والولايات المتحدة الأمريكية في مجال الطاقة النووية السلمية

درجة 15