

..... : الإسم :

نموذج اختبار التحصيلي الأول



وزارة التربية

...../١ : الصف :

للفصل الأول

الإدارة العامة لمنطقة حولي التعليمية



للعام الدراسي ٢٠٢٣ / ٢٠٢٤ م

التوجيه الفني لمنطقة حولي التعليمية



السؤال الأول :-



(٢) ارسم مجموعه  أقل من مجموعة



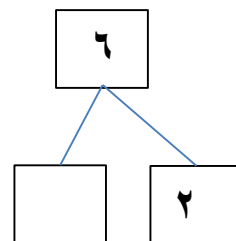
(١) ضع علامة ✓ اسفل المجموعة الأكثر



السؤال الثاني :- (١) اكتب رمز العدد

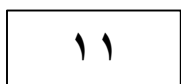
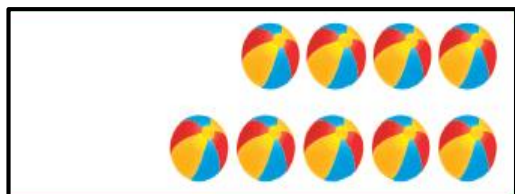


(٢) أكمل






السؤال الثالث :-

استكمل رسم العناصر بحسب رمز العدد الموضح



قارن اكتب رمز العلاقة المناسب (< أو > أو =)



السؤال الرابع:

حوظ الحبل الذي يحتوي على ٥ عصافير



حوظ رمز العدد المناسب



١٠

٨

٩

رمز العدد الناقص هو

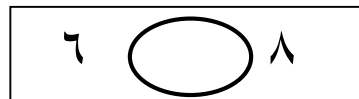


٣

٥

٢

حوظ رمز العلاقة المناسب



<

=

>

لون ٦ أرانب



انتهت الأسئلة