

اختبار نهائي علوم ثالث الفصل الدراسي الأول لعام ١٤٤٥ هـ

أسم الطالب		الصف						
رقم الجلوس		٣ /						
رقم السؤال	الدرجة المستحقة		المصحح	توقيعه	المراجع	توقيعه	المدقق	توقيعه
	رقماً	كتابة						
السؤال الأول								
السؤال الثاني								
السؤال الثالث								
السؤال الرابع								
المجموع								

السؤال الأول: ضع علامة (✓) أمام العبارة الصحيحة وعلامة (x) أمام العبارة الخاطئة؟

١-	من خصائص المخلوقات الحية النمو و التكاثر .	( )
٢-	لا تمر الزواحف و الطيور بمرحلة التحول .	( )
٣-	لا تستطيع النباتات الصحراوية التكيف في الصحراء .	( )
٤-	المخالب الحادة تساعد الحيوانات المفترسة على الصيد .	( )
٥-	الجفاف أحد أنواع الكوارث الطبيعية يحدث نتيجة الأمطار الغزيرة .	( )

١٠

السؤال الثاني: أكمل الفراغات التالية بالكلمة المناسبة؟

( الورقة - الزواحف - المحللات - الهجرة - الترشيح )

١- ..... مخلوقات حية تحلل بقايا النباتات والحيوانات .

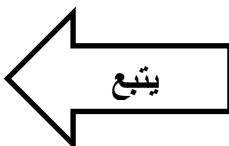
٢- ..... انتقال المخلوقات الحية من بيئة باردة إلى بيئة دافئة .

٣- ..... تبدأ دورة حياتها بالبيض .

٤- ..... يساعد على حماية الإنسان لبيئته .

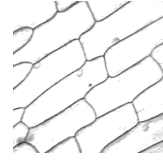
٥- ..... جزء النبات الذي يصنع الغذاء .

١٠



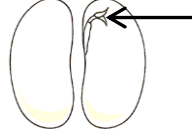
السؤال الثالث : أختَر الإجابة الصحيحة ؟

١- يمثل الشكل المجاور



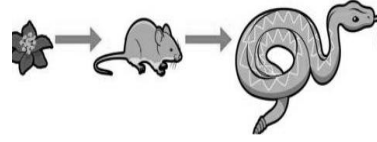
- خلايا
- ورقة
- تكيف

٣- الجزء المشار إليه في البذرة




- الجنين
- غلاف البذرة
- الغذاء

٥- يعتبر الثعبان في السلسلة الغذائية



- محلل
- مستهلك
- منتج

٧- يمثل الشكل المجاور



- سلسلة غذائية
- شبكة غذائية
- نظام بيئي

٩- غزال الريم حيوان .....



- منقرض
- مهدد بالانقراض
- شيء غير حي

٢- يعتبر النمر



- شيء غير حي
- مخلوق حي
- طيور

٤- من مراحل نمو الفراشة في الصورة التالية



- عذراء
- بيضة
- يرقة

٦- مكان يعيش فيه المخلوق الحي ويجد حاجاته

- نظام بيئي
- تكاثر
- موطن

٨- من تكيفات الخفاش



- اللون الفاتح
- النشاط الليلي
- التخفي

١٠- يحدث الإنسان تغييراً في بيئته عن طريق

- التدوير
- إعادة الاستخدام
- التلوث

### نموذج الإجابة لاختبار نهائي علوم ثالث الفصل الدراسي الأول ( الدور الأول ) لعام ١٤٤٤ هـ

أسم الطالب		الصف						
رقم الجلوس		٣ /						
رقم السؤال	الدرجة المستحقة		المصحح	توقيعه	المراجع	توقيعه	المدقق	توقيعه
	رقماً	كتابة						
السؤال الأول								
السؤال الثاني								
السؤال الثالث								
السؤال الرابع								
المجموع								

### السؤال الأول: ضع علامة (✓) أمام العبارة الصحيحة وعلامة (x) أمام العبارة الخاطئة؟

١-	من خصائص المخلوقات الحية النمو و التكاثر .	( درجتان )	( ✓ )
٢-	لا تمر الزواحف و الطيور بمرحلة التحول .	( درجتان )	( ✓ )
٣-	لا تستطيع النباتات الصحراوية التكيف في الصحراء .	( درجتان )	( x )
٤-	المخالب الحادة تساعد الحيوانات المفترسة على الصيد .	( درجتان )	( ✓ )
٥-	الجفاف أحد أنواع الكوارث الطبيعية يحدث نتيجة الأمطار الغزيرة .	( درجتان )	( x )

### السؤال الثاني: أكمل الفراغات التالية بالكلمة المناسبة؟

( الورقة – الزواحف – المحللات – الهجرة – الترشيذ )

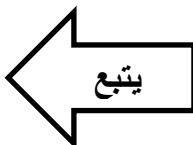
١- المحللات مخلوقات حية تحلل بقايا النباتات والحيوانات . ( درجتان )

٢- الهجرة انتقال المخلوقات الحية من بيئة باردة إلى بيئة دافئة . ( درجتان )

٣- الزواحف تبدأ دورة حياتها بالبيض . ( درجتان )

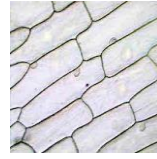
٤- الترشيذ يساعد على حماية الإنسان لبيئته . ( درجتان )

٥- الورقة جزء النبات الذي يصنع الغذاء . ( درجتان )



السؤال الثالث : أختَر الإجابة الصحيحة ؟ (كل فقرة درجتان )

١- يمثل الشكل المجاور



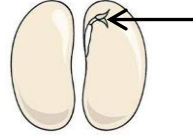
- خلايا
- ورقة
- تكيف

٢- يعتبر النمر



- شيء غير حي
- مخلوق حي
- طيور

٣- الجزء المشار إليه في البذرة




- الجنين
- غلاف البذرة
- الغذاء

٤- من مراحل نمو الفراشة في الصورة التالية



- عذراء
- بيضة
- يرقة

٥- يعتبر النبات في السلسلة الغذائية



- محلل
- مستهلك
- منتج

٦- مكان يعيش فيه المخلوق الحي ويجد حاجاته

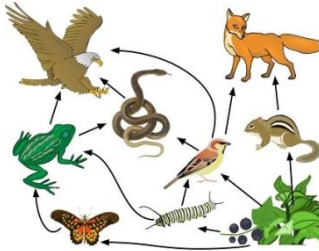
- نظام بيئي
- تكاثر
- موطن

٨- من تكيفات الخفاش



- اللون الفاتح
- النشاط الليلي
- التخفي

٧- يمثل الشكل المجاور



- سلسلة غذائية
- شبكة غذائية
- نظام بيئي

١٠- يحدث الإنسان تغييراً في بيئته عن طريق

- التدوير
- إعادة الاستخدام
- التلوث

٩- غزال الريم حيوان .....



- منقرض
- مهدد بالانقراض
- شيء غير حي