

الفصل الدراسي الثاني

الاسم:

الصف:

٢٠

السؤال الأول:


(أ) أكمل .



$$\underline{\hspace{2cm}} = \underline{\hspace{2cm}} \div \underline{\hspace{2cm}}$$

$$\underline{\hspace{2cm}} = 2 \times 3$$

(ب) لون ما يمثل الربع .

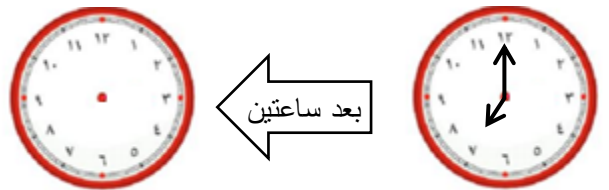


(ج) اكتب القيمة المكانية للرقم الذي تحته خط .

$$\underline{\hspace{2cm}} \quad \underline{٥١٤}$$

السؤال الثاني:

(أ) ارسم عقربي الساعة ، ثم اكتب وقت النهاية :



تصبح

:

ابداً

٧:٠٠

(ب) حوط ما يمثل الثلث .



(ج) اختر العملية المناسبة . أوجد الناتج .

لدى منال ٦ سلال في كل منها ٢ تفاح فكم عدد كل التفاحات ؟



عدد كل التفاحات _____

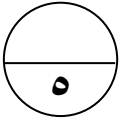
$$2 + 6$$

$$2 \times 6$$

السؤال الثالث:

(أ) اكتب الاسم المطول للعدد :

$$\underline{\hspace{1cm}} + \underline{\hspace{1cm}} + \underline{\hspace{1cm}} = ٦١٥$$



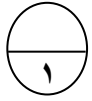
(ب) اكتب الوقت الذي تدل عليه الساعة بطريقتين مختلفتين



:

الساعة

(ج) حوِّط مجموعتان متساويتان .



السؤال الرابع:

(أ) حوِّط الإجابة الصحيحة :

(١) العدد الناقص هو :

$$٣ = ٣ \div \square$$

٩

٣

١


(٢) ربع الساعة =

٦٠ دقيقة

٣٠ دقيقة

١٥ دقيقة

(٣) رمز العدد الممثل :



٢٠٠

٣٠٠

٤٠٠

(ب) صل كل شكل بالكلمة المناسبة :

ثلث

•

•



نصف

•

•



((انتهت الأسئلة))