



اختبار فصل "القياس" الفصل الدراسي الثالث للصف الرابع الابتدائي لعام ١٤٤٤ هـ

٢٠

الاسم :

السؤال الأول : اختر الاجابة الصحيحة فيما يلي:

٨

١- طول القارب تقريبا:



(د) ٢ كيلومتر

(ج) ٦ ملمترات

(ب) ٢ متر

(أ) ٦ سنتمترات

٢- التقدير الأنسب لكل ساعة فيما يأتي:



دلو ماء



قارورة ماء

٣ لتر

٣ مل

٥٠٠ لتر

٥٠٠ مل

٣- التقدير المعقول لكتلة كل من الجسمين الآتيين:



لوحة



مسطرة

٥ كجم

٣ جم

٢٠ كجم

٢٠ جم



٤- التقدير المناسب لطول مدرج المطار:

(د) ٥ كيلومترات


(ج) ٥٠ سنتمتراً

(ب) ٥ أمتار

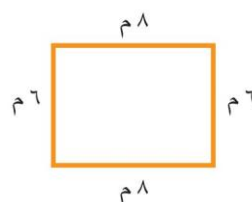
(أ) ٥ ملمترات

٢

السؤال الثاني: (أ) أوجد محيط كل شكل فيما يلي:




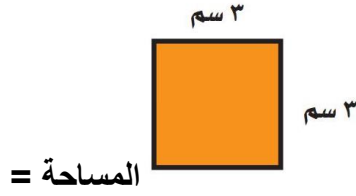
(ب) المحيط =
.....



(أ) المحيط =
.....

(ب) أوجد مساحة كل شكل فيما يلي:

٢



السؤال الثالث: استعملي التبرير المنطقي لحل المسائل الآتية:

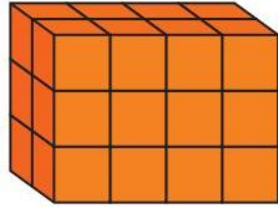
٢

فَارِسٌ وَمَاهِرٌ وَسَلْمَانٌ ثَلَاثَةٌ طُلَّابٌ، أَحَدُهُمْ فِي الصَّفِّ الرَّابِعِ، وَالثَّانِي فِي الصَّفِّ الْخَامِسِ، وَالْآخَرُ فِي الصَّفِّ السَّادِسِ. إِذَا عَلِمْتَ أَنَّ مَاهِرًا لَيْسَ فِي الصَّفِّ الرَّابِعِ، وَأَنَّ اسْمَ الَّذِي فِي الصَّفِّ الْخَامِسِ يَتَكَوَّنُ مِنْ أَكْبَرَ عَدَدٍ مِنَ الْأَحْرَفِ، فَمَا صَفٌّ كُلُّ وَاحِدٍ مِنْهُمْ؟

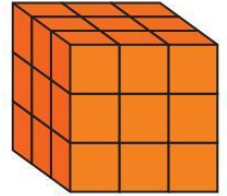
السؤال الخامس: أوجد حجم كل مجسم مما يلي:

٢

..... = الحجم



..... = الحجم



السؤال الخامس: أوجد طول الفترة الزمنية التي يستغرقها كل نشاط فيما يلي:

١



بدأ سلمان القراءة في الوقت الذي تشير إليه الساعة المجاورة واستمر حتى الساعة ١٢:٥٠؟

السؤال السادس: ضعي علامة (✓) امام العبارة الصحيحة وعلامة (x) امام العبارة الخاطئة:

٣

()

١. إذا كان حجم مكعب ٢٧ وحدة مكعبة فإن طول حرفه ٣ وحدات

()

٢. تقدر كتلة كتاب الرياضيات بجرام واحد تقريباً

()

٣. عدد الجرامات في ٣ كيلوجرامات يساوي ٣٠٠٠ جرام