

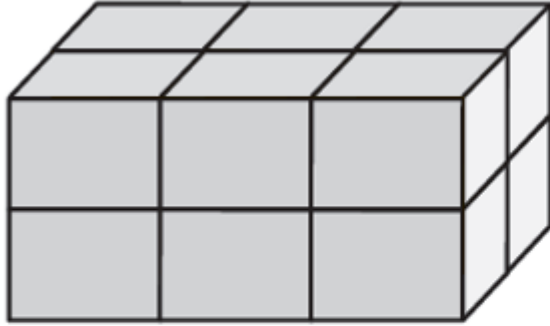


نافس
NAFS

الإختبارات الوطنية "نافس" نموذج ١


جمع وتصميم : أ/ فاطمة هزاري

ما حجم المُجَسِّم أدناه؟



- | | | | | | | | |
|---|--------------------------------|---|----------------------------|---|-------------------------|---|-------------------------|
| أ | وَحْدَةٌ مُكَعَّبَةٌ وَاحِدَةٌ | ب | وَحْدَتَانِ مُكَعَّبَتَانِ | ج | ٨ وَحَدَاتٍ مُكَعَّبَةٍ | د | ١٢ وَحْدَةٌ مُكَعَّبَةٌ |
|---|--------------------------------|---|----------------------------|---|-------------------------|---|-------------------------|

أيُّ الجُمَلِ العَدَدِيَّةِ الآتِيَةِ يُمَثِّلُهَا الشَّكْلُ أدناه؟



- | | | | | | | | |
|---|-----------------|---|-----------------|---|-----------------|---|-----------------|
| أ | $3 = 8 \div 24$ | ب | $7 = 3 \div 21$ | ج | $6 = 3 \div 18$ | د | $5 = 4 \div 20$ |
|---|-----------------|---|-----------------|---|-----------------|---|-----------------|

توضح الساعتان أدناه متى بدأ محمد ترتيب غرفته، ومتى انتهى من ذلك.

كم استغرق من الوقت في ترتيب غرفته؟



أ

ساعة واحدة

ب

ساعتين

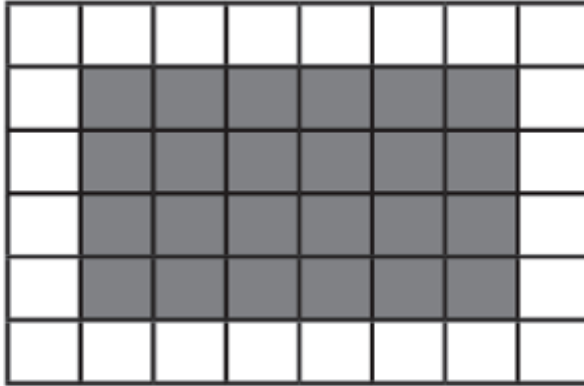
ج

ساعة ونصف

د

ساعتين ونصف

الجزء المظلل من الشكل أدناه يمثل مساحة غرفة ياسر، فما مساحة غرفة ياسر؟



أ

١٨ وحدة مربعة

ب

٣٦ وحدة مربعة

ج

٢٤ وحدة مربعة

د

٤٨ وحدة مربعة

٥



أختار الوحدة الأنسب لقياس سعة الكوب المجاور.

هـ

د

١٠٠ مل

ج

٢ ل

ب

١٠ مل

أ

٦

ما العدد الذي ناتج قسمة العدد ٨ عليه يساوي ٨؟

١٦

د

١

ج

٨

ب

٠

أ

٧
أَسْمِي الشَّكْلَ الْمُسْتَوِي الَّذِي لَهُ ٧ أَضْلَاعٍ وَ ٧ زَوَايَا.

ثَمَانِي

٨

سُدَّاسِي

ج

سُبَاعِي

ب

خُمَاسِي

أ



٨
كَمْ مَحَوْرٍ تَمَاطِلُ لِلشَّكْلِ ؟

٠

١

٢

ج

٢

ب

١

أ

أي الأشياء الآتية يزيدُ وزنه عن ٢ كجم؟

أ	تِفَاحَةٌ.	ب	قَلَمٌ	ج	كِتَابٌ	د	طَاوِلَةُ الصَّفِّ
---	------------	---	--------	---	---------	---	--------------------

إذا كان عقربُ الدقائقِ يشيرُ إلى الرقم ١٠ ، وعقربُ الساعاتِ إلى الرقم ٦ ، فكم يكون الوقت؟

أ	٦:٥٠	ب	٦:١٠	ج	١٠:٠٦	د	٥:٥٠
---	------	---	------	---	-------	---	------


يوجد في سيارة توزيع الأيس كريم ٤ صناديق في كل صندوق ٥ عبوات كبيرة . فإذا باع الموزع صندوقين لأول متجر ، فكم عبوة بقيت في السيارة ؟

أ	٥ عبوات	ب	١٠ عبوات	ج	١٥ عبوة	د	٢٠ عبوة
---	---------	---	----------	---	---------	---	---------

أيُّ الأشكالِ الآتيةِ يُمثِّلُ أسطوانةً؟

أ		ب		ج		د	
---	---	---	---	---	---	---	---

لدى الجوهرة كيسٌ فيه ٧ مكعبات، إذا سحبت مكعبًا من غير أن تنتظر في الكيس،
فما احتمال أن يكون هذا المكعب أزرق؟



مستحيل

د

أقل احتمالاً

ج

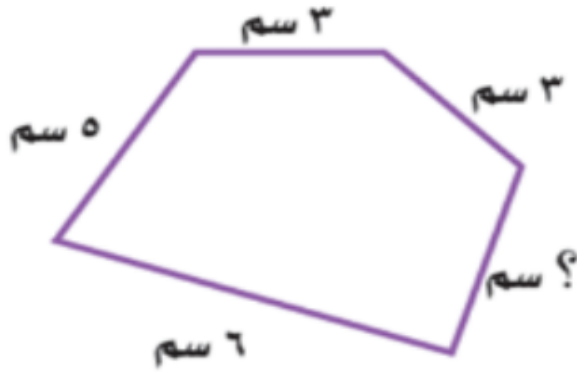
أكثر احتمالاً

ب

أكيد

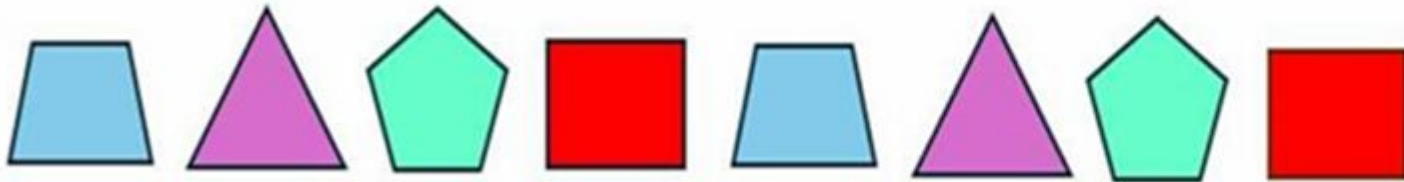
أ

مُحِيطُ الشَّكْلِ أَذْنَاهُ يُسَاوِي ٢١ سَم، فَمَا طُولُ الضِّلْعِ الْمَجْهُولِ؟



- | | | | | | | | |
|---|------|---|------|---|------|---|------|
| أ | ٤ سم | ب | ٢ سم | ج | ٣ سم | د | ٥ سم |
|---|------|---|------|---|------|---|------|

ما عددُ المستطيلاتِ المستعملةِ في هذا النمطِ إذا تمَّ توسيعُهُ
إلى ٢٤ مَضلعاً؟



- | | | | | | | | |
|---|---|---|---|---|---|---|---|
| أ | ٦ | ب | ٤ | ج | ٥ | د | ٣ |
|---|---|---|---|---|---|---|---|

الميداليات التي حصل عليها فواز

	كُرَّةُ الْقَدَمِ
	الْفُرُوسِيَّةُ
	السَّبَاحَةُ
 = ميداليتين	المَفْتَاحُ

التمثيل بالرموز أدناه يُظهر تمثيلًا للميداليات التي حصل عليها فواز في كل لعبة، إذا كان لديه ٢٠ ميدالية، فكم رمزًا يجب إضافته إلى التمثيل؟

٢٠

د

٦

ج

٥

ب

٣

أ

الاختبارات الوطنية
الثالث الابتدائي

الاسم الرباعي

رقم السجل المدني / رقم الإقامة

0	0	0	0	0	0	0	0	0	0
1	1	1	1	1	1	1	1	1	1
2	2	2	2	2	2	2	2	2	2
3	3	3	3	3	3	3	3	3	3
4	4	4	4	4	4	4	4	4	4
5	5	5	5	5	5	5	5	5	5
6	6	6	6	6	6	6	6	6	6
7	7	7	7	7	7	7	7	7	7
8	8	8	8	8	8	8	8	8	8
9	9	9	9	9	9	9	9	9	9

رمز المدرسة

0	0	0	0	0	0
1	1	1	1	1	1
2	2	2	2	2	2
3	3	3	3	3	3
4	4	4	4	4	4
5	5	5	5	5	5
6	6	6	6	6	6
7	7	7	7	7	7
8	8	8	8	8	8
9	9	9	9	9	9

اسم المدرسة

الصف

الفصل

اجابات الأسئلة

د	ج	ب	أ	
د	ج	ب	أ	46
د	ج	ب	أ	47
د	ج	ب	أ	48
د	ج	ب	أ	49
د	ج	ب	أ	50
د	ج	ب	أ	51
د	ج	ب	أ	52
د	ج	ب	أ	53
د	ج	ب	أ	54
د	ج	ب	أ	55
د	ج	ب	أ	56
د	ج	ب	أ	57
د	ج	ب	أ	58
د	ج	ب	أ	59
د	ج	ب	أ	60

د	ج	ب	أ	
د	ج	ب	أ	31
د	ج	ب	أ	32
د	ج	ب	أ	33
د	ج	ب	أ	34
د	ج	ب	أ	35
د	ج	ب	أ	36
د	ج	ب	أ	37
د	ج	ب	أ	38
د	ج	ب	أ	39
د	ج	ب	أ	40
د	ج	ب	أ	41
د	ج	ب	أ	42
د	ج	ب	أ	43
د	ج	ب	أ	44
د	ج	ب	أ	45

د	ج	ب	أ	
د	ج	ب	أ	16
د	ج	ب	أ	17
د	ج	ب	أ	18
د	ج	ب	أ	19
د	ج	ب	أ	20
د	ج	ب	أ	21
د	ج	ب	أ	22
د	ج	ب	أ	23
د	ج	ب	أ	24
د	ج	ب	أ	25
د	ج	ب	أ	26
د	ج	ب	أ	27
د	ج	ب	أ	28
د	ج	ب	أ	29
د	ج	ب	أ	30

د	ج	ب	أ	
د	ج	ب	أ	1
د	ج	ب	أ	2
د	ج	ب	أ	3
د	ج	ب	أ	4
د	ج	ب	أ	5
د	ج	ب	أ	6
د	ج	ب	أ	7
د	ج	ب	أ	8
د	ج	ب	أ	9
د	ج	ب	أ	10
د	ج	ب	أ	11
د	ج	ب	أ	12
د	ج	ب	أ	13
د	ج	ب	أ	14
د	ج	ب	أ	15