

مدرستي معكم خطوة بخطوة للنجاح والتفوق



مدرستي

الكويتية

حمل التطبيق



مدرستي



الكويتية



اضغط هنا



اختبار نهاية الفترة الدراسية الثانية

العام الدراسي 2022/2021م

الصف الثامن

نموذج إجابة اختبار مادة

الاجتماعيات

الأحد – 5 / 6 / 2022





وزارة التربية

الإدارة العامة لمنطقة حولي التعليمية

التوجيه الفني للاجتماعيات

امتحان نهاية الفترة الدراسية الثانية

مقرر/ دولة الكويت والعالم الإسلامي

للفيف الثامن المتوسط

العام الدراسي: ٢٠٢١/٢٠٢٢م

الزمن: ساعة و ٤٥ دقيقة

عدد الصفحات: (٥)

السؤال الأول الموضوعي يتكون من (أ - ب - ج - د - هـ) : (٣٠ درجة لكل نقطة درجة واحدة)

(أ) ظلل الخيار الصحيح من بين الخيارات التي تلي كل عبارة :

١- المنطقة التي أنشأت فيها أول محطة كهرباء تعمل بالطاقة الشمسية في دولة الكويت: ص ٩٣

السامي	الشقايا	الجهراء	الأحمدي
--------	---------	---------	---------

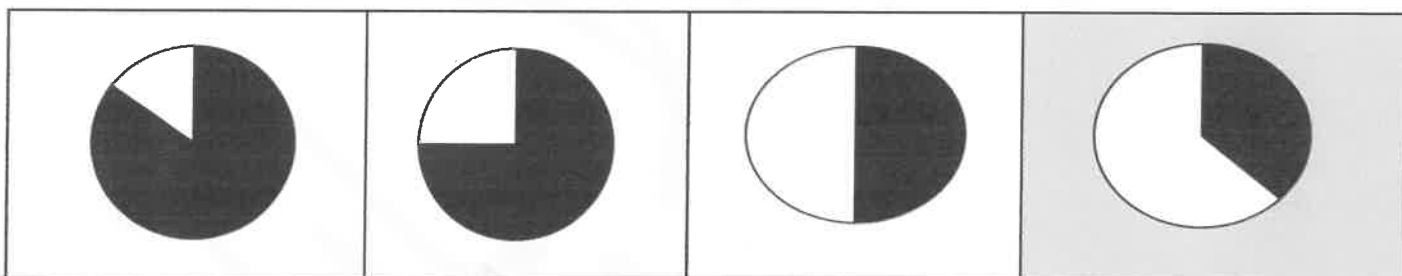
٢- الدولة التي تصل فيها نسبة التلوث الهوائي ٤٠٪ بسبب عوادم السيارات: ص ٨٣

ماليزيا	تركيا	سورينام	باكستان
---------	-------	---------	---------

٣- العام الذي تم فيه تحرير دولة الكويت من العدوان العراقي الغاشم : ص ١٢٢

١٩٩٠م	١٩٩١م	١٩٩٢م	١٩٩٣م
-------	-------	-------	-------

٤- نسبة السكان الذين يعيشون تحت مستوى خط الفقر في العالم الإسلامي يمثلته الجزء المظلل من الدائرة البيانية: ص ٩٧



٥- المنظمة الإسلامية التي تهدف لدعم التنمية الاقتصادية وتنمية التجارة الخارجية للدول الأعضاء : ص ١٤٥

البنك الإسلامي للتنمية	مجمع الفقه الإسلامي	اللجنة الإسلامية للهلل	وكالة الانباء الإسلامية الدولية
------------------------	---------------------	------------------------	---------------------------------

٦- الدولة التي استضافت المؤتمرات الثلاثة للمانحين لدعم الوضع الإنساني في سوريا : ص ١٦٠

مصر	الكويت	المملكة العربية السعودية	الجزائر
-----	--------	--------------------------	---------



تابع السؤال الأول :

(ب) صنف مصادر التلوث البيئي حسب الجدول التالي : ص ٨١

البراكين - النفايات - التطور الصناعي - الغبار - المبيدات الحشرية - الانفجارات النووية

مصادر طبيعية	مصادر بشرية
البراكين الغبار	النفايات التطور الصناعي المبيدات الحشرية الانفجارات النووية

(ج) اكتب المفاهيم أو المصطلحات الدالة على العبارات التالية :

١- الميزان التجاري	الفرق بين قيمة الصادرات وقيمة الواردات بالدولة . ص ١٠٠
٢- الحدود	خطوط حددت بواسطة الانسان ورسمت حتى تفصل بين سيادة الدولة ودولة أخرى . ص ١٠٢
٣- خط الفقر	أدنى مستوى من الدخل يحتاجه المرء أو الأسرة حتى يكون بالإمكان توفير مستوى معيشة ملائم في بلد ما . ص ٩٧
٤- التلوث الضوضائي	الازعاج أو الضجيج وهي إحدى ملوثات البيئة ولا تقل خطورة عن غيرها من الملوثات الأخرى . ص ٨٧
٥- الانفجار السكاني	الزيادة الكبيرة في اعداد السكان . ص ٩٥
٦- التلوث البيئي	أي تغيير غير مرغوب به في الخواص الطبيعية أو الكيميائية أو البيولوجية للبيئة (الهواء - الماء - التربة) والذي قد يتسبب في الاضرار بحياة الانسان والكائنات الأخرى . ص ٨١

(د) اكمل العبارات التالية بما يناسبها :

١- الشيخ الكويتي الذي لُقِبَ بقائد العمل الإنساني اسمه الشيخ صباح الاحمد الصباح رحمه الله ص ٨٢

٢- العام الذي عُقدت فيه اتفاقية الحماية بين الشيخ مبارك الصباح والحكومة البريطانية ١٨٩٩م . ص ١٠٦

٣- المؤتمر الذي كان يهدف لإيجاد حل لمشاكل الحدود بين نجد والعراق والكويت عام ١٩٢٢م اسمه العقير ص ١٠٣

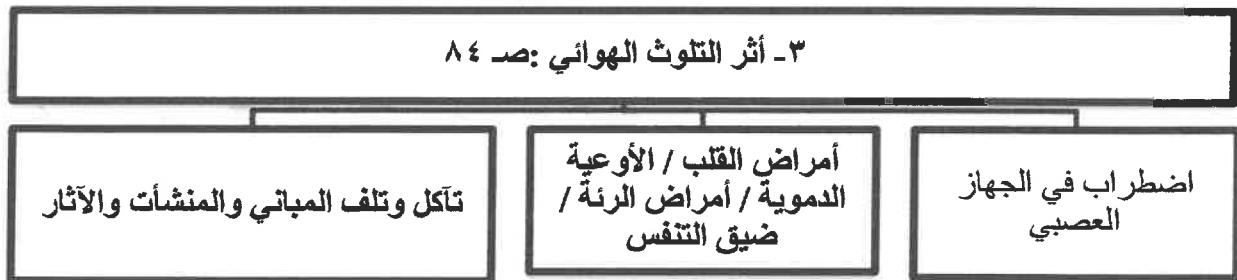
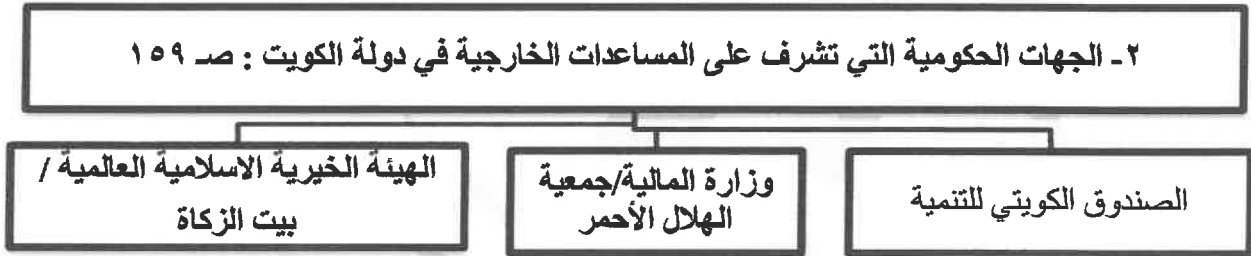
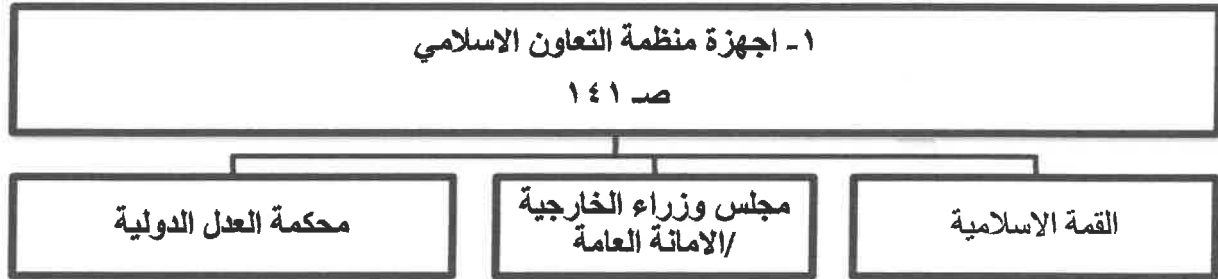
٤- الدولة الأعلى في نسبة الفقر بالنسبة لدول العالم الإسلامي عام ٢٠١٥م اسمها بنغلاديش ص ٩٧

٥- بطلة شاركت في إطفاء حرائق النفط الناجمة عن الغزو العراقي الغاشم على دولة الكويت اسمها سارة أكبر ص ١١٩

٦- المدينة التركية التي عقد بها المؤتمر الإسلامي الثالث عشر عام ٢٠١٦م اسمها إسطنبول ص ١٤٤

تابع السؤال الأول :

(هـ) اكمل المخططات السهمية التالية :



السؤال الثاني مقالي ويتكون من (أ - ب - ج)

(أ) اجب عن الأسئلة التالية في الخريطة الذهنية للصندوق الكويتي للتنمية : (خمس درجات) ص ١٥٩



١- اذكر صاحب فكرة انشاء الصندوق الكويتي للتنمية ؟
الشيخ جابر الأحمد الجابر الصباح رحمه الله

٢- عدد أهداف الصندوق الكويتي للتنمية. (يكتفى بنقطتين).
* تقديم القروض الميسرة للدول المحتاجة.
* تقديم المنح على سبيل المثال المعونات الفنية.
* الاسهام في برامج التنمية

٣- ما نطاقات عمل الصندوق الكويتي للتنمية ؟
* المساعدات الزراعية / المساعدات الصناعية
* المساعدات الصحية / المساعدات التعليمية

(ب) علل لما يلي : (ست درجات)

١- تعرضت دولة الكويت لتلوث بيئي خطير عام ١٩٩٠ م . (يكتفى بنقطتين) ص ٨٥

* بسبب الغزو العراقي ١٩٩٠م البائد عندما قامت وبشكل متعمد بسكب كميات كبيرة من النفط الكويتي بمياه الخليج العربي
* تكون سحب دخانية كثيفة ناتجة عن احتراق آبار النفط الكويتية لمدة سبعة أشهر أثناء وبعد حرب التحرير عام ١٩٩١م.
* تلوث مياه الخليج عن طريق تساقط الأمطار الحمضية في مياه الخليج العربي .

٢- حدوث الفقر في الدول الإسلامية . (يكتفى بنقطتين) ص ٩٨

* عدم توفر فرص العمل / ضعف اقتصاد الدولة
* انتشار البطالة / تضخم أسعار السلع والخدمات
* قلة التبرعات والصدقات في المجتمع .

٣- مشكلة الإدمان . (يكتفى بنقطتين) ص ١٢٦

* ضعف الوازع الديني وانحدار القيم الأخلاقية / ضعف الرقابة من الأسرة على الفرد
* رفقاء السوء / التقليد الأعمى واستيراد قيم جديدة غريبة على مجتمعاتنا تتنافى مع مبادئ ديننا الحنيف .
* انتشار التدخين بين المتعلمين في المدارس / قضاء أوقات الفراغ في أمور تافهة لا تعود على الشباب بالنفع .

(ج) فرق بين كل من : (أربع درجات)

التدوير ص ٩١	النفايات ص ٩١
إعادة استخدام المخلفات لإنتاج منتجات أخرى أقل جودة من المنتج الأصلي .	هي أي مواد زائدة وغير مرغوبة من مخلفات البيئة أو الفضلات .
العولمة ص ٩٩	التكامل الاقتصادي ص ١٠٠
نظام عالمي جديد يقوم على الابداع العلمي ، والتطور التقني ، والتكنولوجي ، وثورة الاتصالات بحيث تزول الحدود الثقافية بين الشعوب بالعالم ويصبح العالم كقرية واحدة .	عملية اقتصادية واجتماعية يتم بموجبها إزالة جميع الحواجز بين الوحدات المختلفة ، وتؤدي إلى تحقيق الفرص أمام جميع عناصر الإنتاج في دول التكامل .

السؤال الثالث مقالي ويتكون من (أ - ب - ج)

(أ) ما النتائج المترتبة على كل من : (ثلاث درجات)

١- تلوث التربة . (يكتفى بنقطتين) ص ٨٨

*الاخلال بالتوازن البيئي للتربة.

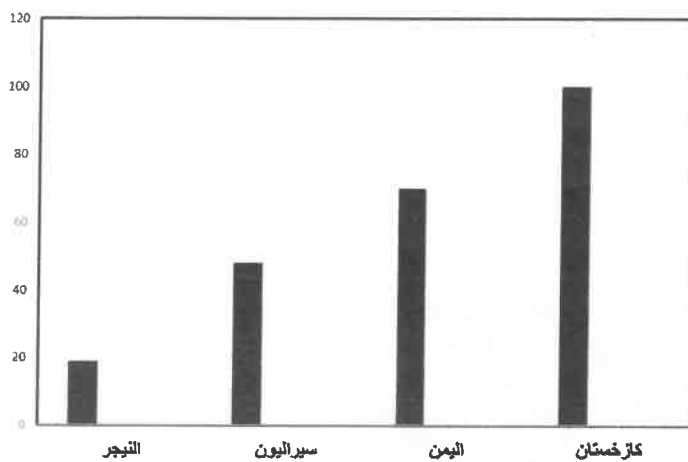
* ضعف عمليات البناء الضوئي للنبات / انحسار الغطاء النباتي.

٢- الاحتباس الحراري .(يكتفى بنقطة) ص ٩٠

*احتباس الحرارة في طبقة الغلاف الجوي * ارتفاع تدريجي في معدل درجات الحرارة

* تغيير المناخ مثل ذوبان الجليد في القطب الشمالي والجنوبي / غرق مناطق كثيرة من العالم .

(ب) لاحظ الجدول الذي أمامك ، ثم اجب عن الأسئلة التي تليه : ص ١٢٩ (ست درجات)



مجموع معدلات محو الأمية في الدول الأعضاء في منظمة التعاون الإسلامي لعام ٢٠١٥ م

المجموع	البلدان
٩٩,٩٧	كازاخستان
٤٨,٠٩	سيراليون
٧٠,٠٧	اليمن
١٩,١٣	النيجر

١- حول مجموع معدلات محو الأمية لأعمدة بيانية . (لكل عامود درجة = ٤ درجات)

٢- استخرج من الجدول السابق ، الدولة الأعلى والأقل في معدل محو الأمية : (درجتين)

الدولة الأعلى	الدولة الأقل
كازاخستان	النيجر

(ج) قارن بين كل من : (ست درجات)

أوجه المقارنة	المؤتمر الإسلامي الأول ص ١٤٢	المؤتمر الإسلامي الخامس ص ١٤٣
العام	١٩٦٩ م	١٩٨٧ م
مقر الانعقاد	الرباط (المملكة المغربية)	دولة الكويت
سبب الانعقاد	* احراق المحتل الصهيوني الاسرائيلي المسجد الأقصى	* تلبية لدعوة أمير دولة الكويت الراحل الشيخ جابر الأحمد الجابر الصباح رحمه الله .

انتهت الأسئلة