

السؤال الأول :


(أ) أكمل

كجم = ٦٠٠٠ جم

سم = ٦٥ متر

مل = ١٧ لتر

(ب) أكتب اسم الجسم



السؤال الثاني :

(أ) اكتب اسم الشكل



(ب) أوجد محيط المربع

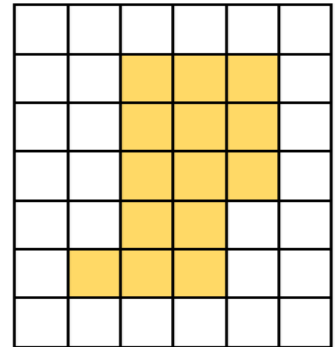
٤ سم



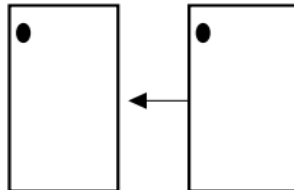
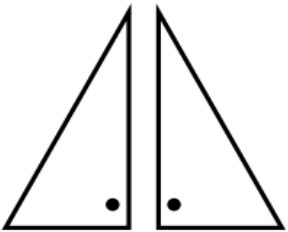
محيط المربع =

السؤال الثالث :

(أ) أوجد مساحة المنطقة بالوحدات المربعة



(ب) أكتب أسفل كل صورة اسم الحركة المناسبة
(انعكاس أو إزاحة أو دوران)



السؤال الرابع :



أولاً: ظلل (✓) إذا كانت العبارة صحيحة، و ظلل (x) إذا كانت العبارة خطأ

١	٧ دنانير < ٥٠٠٠ فلس	<input checked="" type="checkbox"/>	<input checked="" type="checkbox"/>
٢	تقع النقطتان (٢،٣) ، (٣،٢) في الموقع نفسه على شبكة الإحداثيات	<input checked="" type="checkbox"/>	<input checked="" type="checkbox"/>

ثانياً: اختر الإجابة الصحيحة بوضع (✓).

١	الزاوية الأصغر من القائمة هي	
٢	عدد خطوط التناظر في الشكل المقابل هو	<div style="display: flex; justify-content: space-around; margin-top: 10px;"> ٤ ١ ٢ ٣ </div> <div style="display: flex; justify-content: space-around; margin-top: 10px;"> <input type="radio"/> <input type="radio"/> <input type="radio"/> <input type="radio"/> </div>
٣	مساحة أرض على شكل منطقة مستطيلة طولها ٥ متر وعرضها ٤ متر تساوي	<div style="display: flex; justify-content: space-around; margin-top: 10px;"> ٢٠ متراً ٤٠ متراً مُربعاً ٢٥ متراً مُربعاً ٢٠ متراً مُربعاً </div>

الإجابات

السؤال الأول :

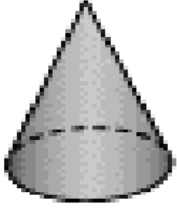
(أ) أكمل

كجم ٦٠٠٠ = ٦

سم ٦٥٠٠ = ٦٥ متر

مل ١٧٠٠٠ = ١٧ لتر

(ب) أكتب اسم الجسم



مخروط



مكعب

السؤال الثاني :

(أ) اكتب اسم الشكل



مُسْتَقِيم



قطعة مُسْتَقِيمَة

(ب) أوجد محيط المربع

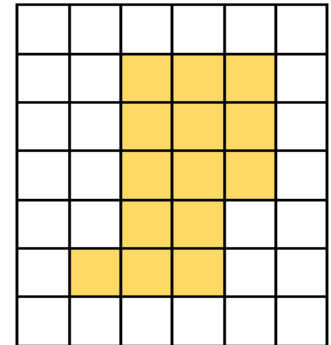
٤ سم



محيط المربع = $4 \times 4 = 16$ سم

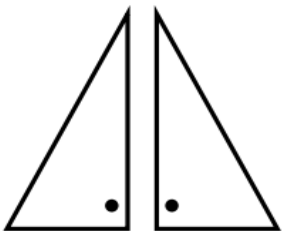
السؤال الثالث :

(أ) أوجد مساحة المنطقة بالوحدات المربعة

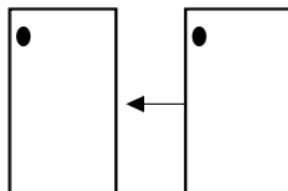


مساحة المنطقة = 16 وحدة مربعة

(ب) أكتب أسفل كل صورة اسم الحركة المناسبة (انعكاس أو إزاحة أو دوران)



انعكاس



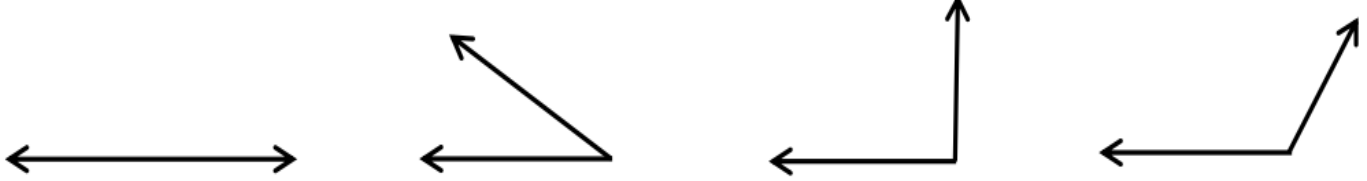
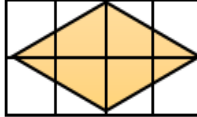
إزاحة

السؤال الرابع :

أولاً: ظلل (✓) إذا كانت العبارة صحيحة، و ظلل (x) إذا كانت العبارة خطأ

١	٧ دنانير < ٥٠٠٠ فلس	<input checked="" type="checkbox"/>	<input type="checkbox"/>
٢	تقع النقطتان (٢،٣) ، (٣،٢) في الموقع نفسه على شبكة الإحداثيات	<input checked="" type="checkbox"/>	<input type="checkbox"/>

ثانياً: اختر الإجابة الصحيحة بوضع (✓).

١	الزاوية الأصغر من القائمة هي		<input type="radio"/> <input checked="" type="radio"/> <input type="radio"/> <input type="radio"/>
٢	عدد خطوط التناظر في الشكل المقابل هو		<input type="radio"/> ٤ <input type="radio"/> ١ <input checked="" type="radio"/> ٢ <input type="radio"/> ٣
٣	مساحة أرض على شكل منطقة مستطيلة طولها ٥ متر وعرضها ٤ متر تساوي	<input type="radio"/> ٢٠ متراً <input type="radio"/> ٤٠ متراً مُربعاً <input type="radio"/> ٢٥ متراً مُربعاً <input checked="" type="radio"/> ٢٠ متراً مُربعاً	<input type="radio"/> <input type="radio"/> <input type="radio"/> <input checked="" type="radio"/>