

أولاً : اختر الإجابة الصحيحة في كل مما يلي:

(1) اشترت مريم لصديقاتها الأربعة 3 هدايا لكل واحدة منها . فكم عدد الهدايا التي اشترتها مريم؟

- a) 3 b) 12 c) 16

(2) وضعت علياء 15 رسالة في 3 صناديق بالتساوي، فكم رسالة وضعت علياء في كل صندوق ؟

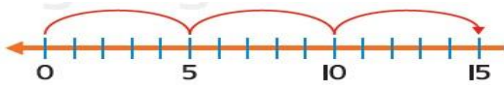
- a) 15 b) 3 c) 5

(3) يوجد 4 صناديق من البرتقال، في كل صندوق 10 برتقالات. فكم عدد البرتقالات في 4 صناديق؟

- a) 40 b) 14 c) 10

(4) يقسم المعلم 28 كرة زجاجة بالتساوي على 4 تلاميذ. فكم كرة سيحصل عليه كل تلميذ؟

- a) 6 b) 7 c) 8



(5) حوّل الجملة العددية التي يمثلها خط الأعداد ؟

- a) $15 \times 1 = 15$ b) $3 \times 5 = 15$ c) $5 + 10 = 15$

ثانياً:- اكمل الفراغات التالية:

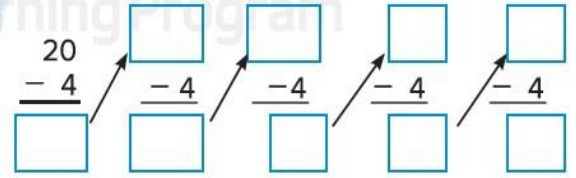
a) $6 \div 6 = \dots\dots$

b) $5 \div 1 = \dots\dots$

c) $7 \times 1 = \dots\dots$

d) $9 \times 0 = \dots\dots$

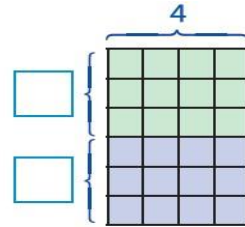
(e) استخدم الطرح المتكرر لإيجاد ناتج قسمة $20 \div 4$



إذا، $20 \div 4 = \underline{\hspace{2cm}}$

ثالثاً: ضاعف احدى الحقائق المعروفة لإيجاد ناتج الضرب .

$$6 \times 4 = \dots\dots\dots$$



$$\underline{\hspace{2cm}} \times 4 = \underline{\hspace{2cm}}$$

$$\underline{\hspace{2cm}} \times 4 = \underline{\hspace{2cm}}$$

$$12 + 12 = \underline{\hspace{2cm}}$$

إذا، $6 \times 4 = \underline{\hspace{2cm}}$

رابعاً: حدد إذا كانت هناك معلومات إضافية او ناقصة لحل المسألة التالية ثم أوجد الحل.)

لدى فاطمة 12 زهرة و 15 لعبة، اعطت 6 زهور إلى شبيخة، و 3 زهور إلى موزة.

فكم عدد الزهور المتبقية لدى فاطمة؟

عدد الزهور المتبقية لدى فاطمة =

هل هناك معلومات إضافية او ناقصة؟ اشرح

.....

معلمتك : هبه أحمد