

٢٠

الاسم: \_\_\_\_\_ الصف: \_\_\_\_\_

## السؤال الأول:

(أ) اكتب الوقت الذي تدل عليه


الساعة:




(ب) تقرأ فاطمة القرآن الكريم يومياً الساعة الثالثة لمدة نصف ساعة، ما الوقت الذي تنتهي به؟  
وضح احابتك على الساعات.



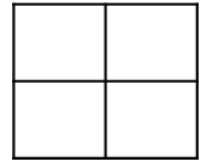

حوط ما يمثل الثلث:



لون ما يمثل النصف:



(ج) لون ما يمثل الربع:



(ب) اكتب عبارة القسمة من الاعداد التالية:

٨ ، ١٦ ، ٢

 =  ÷ 

السؤال الثاني: (أ) أكمل:




= ٣ ÷

= ٤ × ٣

السؤال الثالث: (أ) اكتب رمز العدد:

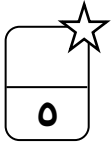
سبعمئة وثلاثة



(ب) أكمل:




٩٠٠

٤٠٠



السؤال الرابع: اختر الإجابة الصحيحة بوضع

(١) الشكل الذي يمثل الربع هو:



$$٢ = ٤ \div \square$$

(٢)

١٠



٩



٨



$\square$  = الساعة

(٣)

٦٠ دقيقة



٣٠ دقيقة



١٥ دقيقة



الكلمة المناسبة التي تمثل الشكل هي:  $\square \square \blacksquare$

(٤)

الربع



الثلث



النصف



(٥) رمز العدد الذي يدل على الاسم المطول ٥ + ٣٠ + ٤٠٠ هو:

٤٥٣



٤٣٥



٥٤٣



((انتهت الأسئلة))