

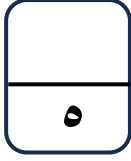
الاختبار التقويهي الثالث

للمصف الأول

الفصل الدراسي الثاني 2023 / 2024

بنود الاختبار	توزيع درجات الاختبار		درجة الاختبار	مدة الاختبار	موعد الاختبار
من : (١-١١) إلى : (٥-١١)	مقال	موضوعي	٥ درجات	لا تتجاوز ١٥ دقيقة من زمن الحصة	الأسبوع ١٠
	٣	٢			

إشراف الوجيه الفني : أ. مها العنزي




نموذج ١ اختبار تقويمي (٣)
في مادة الرياضيات للصف الأول
الفصل الدراسي الثاني للعام الدراسي ٢٠٢٣ / ٢٠٢٤



السؤال الأول :

١) أكمل.



_____ = _____ + _____

٢) اشرح. بإمكانك استخدام و.

وحدات	عشرات

آحاد	عشرات
٤	٢
٤-	١

السؤال الثاني : صل بالإجابة الصحيحة

٥

١٤

١٢

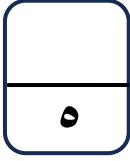
_____ = ٧ + ٧

_____ = ٥ - ١٠

مدرس رياضيات

65598710

انتهت الأسئلة ، ، ،




إجابة نموذج ١ اختبار تقويمي (٣)
في مادة الرياضيات للصف الأول
الفصل الدراسي الثاني للعام الدراسي ٢٠٢٣ / ٢٠٢٤



وزارة التربية
إدارة العامة للتعليم الخاص
التوجيه الفني للرياضيات

السؤال الأول :

١) أكمل.



$$19 = 8 + 11$$

عَشَرَات	آحَاد
٢	٤
١	٤ -
١	٠

٢) ا طرح. بإمكانك استخدام و

السؤال الثاني : صل بالإجابة الصحيحة

٥

١٤

١٢

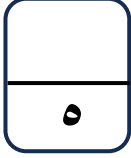
$$= 7 + 7$$

$$= 5 - 10$$

مدرس رياضيات

65598710

انتهت الأسئلة ، ، ،

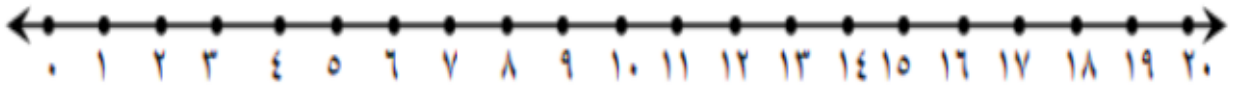


نموذج ٢ اختبار تقويمي (٣)
في مادة الرياضيات للصف الأول
الفصل الدراسي الثاني للعام الدراسي ٢٠٢٣ / ٢٠٢٤



السؤال الأول :

أوجد الناتج باستخدام خط الأعداد



$$\begin{array}{r} 1 \quad 4 \\ - 8 \\ \hline \end{array}$$

$$\begin{array}{r} 3 \\ + 15 \\ \hline \end{array}$$

$$\begin{array}{r} 1 \quad 9 \\ - 4 \\ \hline \end{array}$$

السؤال الثاني : لون الناتج الصحيح

عشرات	آحاد
١	٢
١	٥ +

٢٧

٣٠

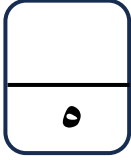
١٣

عشرات	آحاد
٢	٠
	٤ +

٧

٢٤

١١




إجابة نموذج ٢ اختبار تقويمي (٣)
في مادة الرياضيات للصف الأول
الفصل الدراسي الثاني للعام الدراسي ٢٠٢٣ / ٢٠٢٤



السؤال الأول :

أوجد الناتج باستخدام خط الأعداد



$$\begin{array}{r} 1 \quad 4 \\ - 8 \\ \hline 6 \end{array}$$

$$\begin{array}{r} 3 \\ + 15 \\ \hline 18 \end{array}$$

$$\begin{array}{r} 1 \quad 9 \\ - 4 \\ \hline 15 \end{array}$$

السؤال الثاني : لون الناتج الصحيح

عَشْرَات	آحَاد
١	٢
١	٥ +

٢٧

٣٠

١٣

عَشْرَات	آحَاد
٢	٠
	٤ +

٧

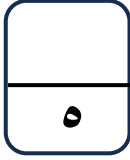
٢٤

١١

مدرس رياضيات

65598710

انتهت الأسئلة ، ، ،



نموذج ٣ اختبار تقويمي (٣)
في مادة الرياضيات للصف الأول
الفصل الدراسي الثاني للعام الدراسي ٢٠٢٣ / ٢٠٢٤



السؤال الأول :

٢) ا طرح. بإمكانك استخدام **أ** و **ب**.


عشرات	آحاد
<div><div></div><div>٢</div></div>	<div><div></div><div>١</div><div>٦ -</div></div>

١) اجمع. بإمكانك استخدام **أ** و **ب**.

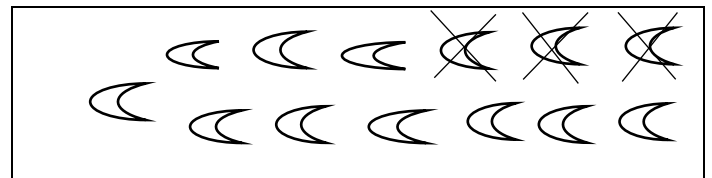
عشرات	آحاد
<div><div></div><div>١</div></div>	<div><div>٤</div><div>٨ +</div></div>

السؤال الثاني : صل بالعبرة المناسبة

١٠ = ٣ - ١٣



١٦ = ٤ + ١٢



السؤال الأول :

٢) ا طرح. بإمكانك استخدام **١** و **١٠** وحدات وعشرات


عشرات	آحاد
١	١١
٢	٦ -
١	٥

١) اجمع. بإمكانك استخدام **١** و **١٠** وحدات وعشرات

عشرات	آحاد
١	٤
١	٨ +
٢	٢

السؤال الثاني : صل بالعبرة المناسبة

$$١٠ = ٣ - ١٣$$



$$١٦ = ٤ + ١٢$$

