



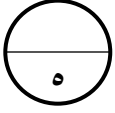
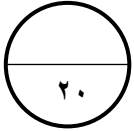
وزارة التربية
الإدارة العامة لمنطقة حولي التعليمية
التوجيه الفني للرياضيات

اختبار التحصيلي (٢) التجريبي لمادة الرياضيات
للفصل الثالث

الفصل الدراسي الثاني
العام الدراسي ٢٠٢٢-٢٠٢٣ م

الاسم :

الصف : ٣ /



بند ١١ - ٢



١ درجة الساعة ٩ و ٢٥ دقيقة ١ درجة



بند ١١ - ٢

١ درجة الساعة ٦ و ٥٠ دقيقة ١ درجة

السؤال الأول :

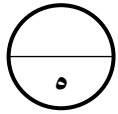
أ) أكتب الوقت بطريقتين مختلفتين :

بند ١١ - ٣

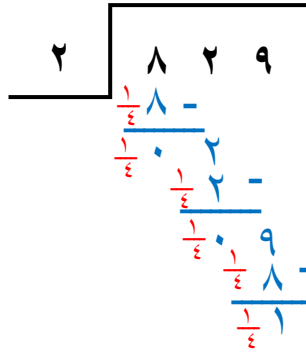
ب) اكتب (ق . ظ) أو (ب . ظ) :

تناول طعام العشاء
ب . ظ نصف درجة

الذهاب للمدرسة
ق . ظ نصف درجة



١ ب ٤ ١ ب ٤ ١ ب ٤



السؤال الثاني :
أ) أوجد الناتج:

بند ١٢ - ٤ : اكتب الوزن :

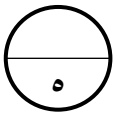
بند ١٢ - ١ : قس باستخدام المسطرة :



٣٠٠ جم ١ درجة



طول المسمار = ٤ سم ١ درجة



بند ١٢ - ٦

ب) أكمل :

١٤ يوم = ٢ أسبوع ١ درجة

١ سنة = ١٢ شهرا ١ درجة

السؤال الثالث :

أ) أكتب رمز العلاقة المناسب (< أو > أو =) :

بند ١٢ - ٢

١٢ دسم < ١٢ سم ١ درجة

بند ١٢ - ٧

(ب) ما قيمة التالي :

٦٠ فلسا

١ درجة



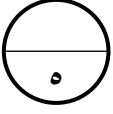
٣ قطع من

٥٠٠ فلس

١ درجة



٥ قطع من



السؤال الرابع :

أ (☒) ظلل إذا كانت العبارة صحيحة ، و ظلل (☐) إذا كانت العبارة غير صحيحة .

١ درجة



بند ١١ - ٣

١ (عدد ساعات اليوم الواحد ٢٠ ساعة .

١ درجة



بند ١٢ - ٦

٢ (العيد الوطني الكويتي في شهر فبراير .

ب (اختر الإجابة الصحيحة بوضع ☒) :

بند ١٠ - ٧

١ (حوط العدد الزوجي :

١ درجة

١٣١



٤٣



٥٤



٢ (الساعة الآن ٥٧ : ٢ بعد كم دقيقة ستشير الساعة إلى تمام ٠٠ : ٣ ؟

بند ١١ - ١

١ درجة

٣ دقائق



٢ دقيقة



١ دقيقة



بند ١٢ - ٥

٣ (الأداة المستخدمة لقياس السعة

١ درجة

