

مدرستي معكم خطوة بخطوة للنجاح والتفوق



مدرستي

الكويتية

حمل التطبيق




مدرستي



الكويتية



اضغط هنا



منطقة العاصمة التعليمية

الاجابة النموذجية





العام الدراسي : ٢٠٢١ / ٢٠٢٢ م
الزمن : ساعة و ٤٥ دقيقة
عدد الأوراق : (٦)

نموذج إجابة
امتحان الفترة الدراسية الثانية
لمقرر دولة الكويت و العالم الإسلامي
للفيف الثامن المتوسط

وزارة التربية
الإدارة العامة لمنطقة العاصمة التعليمية
التوجيه الفني للاجتماعيات

السؤال الأول :- موضوعي ويتكون من (أ - ب - ج - د - هـ - و)

(أ) : أكمل العبارات التالية بما يناسبها فيما درست : (٦ × ١ = ٦ درجات)

- ١ - الفرق بين قيمة الصادرات وقيمة الواردات بالدولة يسمى الميزان التجاري ص ١٠٠
- ٢ - المؤتمر الذي عقد لإيجاد حل لمشكلات الحدود بين العراق وكل من الكويت والسعودية يسمى العقير ص ١٠٣
- ٣ - أدنى مستوى من الدخل يحتاجه المرء أو الأسرة لتوفير مستوى معيشي ملائم يسمى خط الفقر ص ٩٧
- ٤ - العام الذي تم فيه انشاء شرطة البيئة في دولة الكويت ٢٠١٥ م ص ٨٢
- ٥ - مقر منظمة التعاون الإسلامي مدينة اسمها جدة ص ١٣٨
- ٦ - الغاز الأول المسؤول عن الاحتباس الحراري في الجو يسمى ثاني أكسيد الكربون ص ٩٠

(ب) : ضع خطأ تحت الخيار الصحيح من بين الخيارات التي تلي كل عبارة : (٦ × ١ = ٦ درجات)

١ - أعلى دولة إسلامية في معدل محو الأمية في منظمة التعاون الإسلامي عام ٢٠١٥ م : ص ١٢٩

٢ - اليمن	تركيا	كازاخستان	النيجر
-----------	-------	-----------	--------

٢ - العام الذي تم فيه الاعتداء العراقي على مركز الصامطة الحدودي الكويتي : ص ١٠٣

١٩٧٠	١٩٧١	١٩٧٢	١٩٧٣
------	------	------	------

٣ - مقر اللجنة الإسلامية للهلل الدولي : ص ١٤٥

الرباط	بنغازي	القاهرة	جدة
--------	--------	---------	-----

٤ - عدد الدول المشاركة في مؤتمر المانحين الأول عام ٢٠١٣ م في دولة الكويت : ص ١٦٠

٥٧ دولة	٥٨ دولة	٥٩ دولة	٦٠ دولة
---------	---------	---------	---------

٥ - الشيخ الذي وقع اتفاقية الحماية مع بريطانيا عام ١٨٩٩ م ص ١٠٦

أحمد الجابر الصباح	عبدالله السالم	صباح السالم	مبارك الصباح
--------------------	----------------	-------------	--------------

٦ - بلغ عدد آبار النفط الكويتية التي أشعلها النظام العراقي البائد عام ١٩٩١ م حوالي : ص ١٢٠

٣٣٧ بئر	٣٧٣ بئر	٧٣٧ بئر	٧٧٣ بئر
---------	---------	---------	---------



(ج) أكتب المفهوم أو المصطلح الدال على كل من العبارات التالية : (٥ = ١ × ٥ درجات)

- ١- (الانفجار السكاني) الزيادة الكبيرة في أعداد السكان . ص ٩٥
- ٢- (الحدود) خطوط حددت بواسطة الإنسان ورسمت حتى تفصل بين سيادة دولة ودولة أخرى. ص ١٠٢
- ٣- (التدوير) إعادة استخدام المخلفات لإنتاج منتجات أخرى أقل جودة من المنتج الأصلي . ص ٩١
- ٤- (الدولة الإسلامية) الدولة التي يكون فيها نسبة المسلمين ٥٠% أو أكثر ويحكمها حاكم مسلم . ص ١٣٧
- ٥- (التصحر) زحف رمال الصحراء على المناطق الجافة وشبه جافة . ص ٨٨

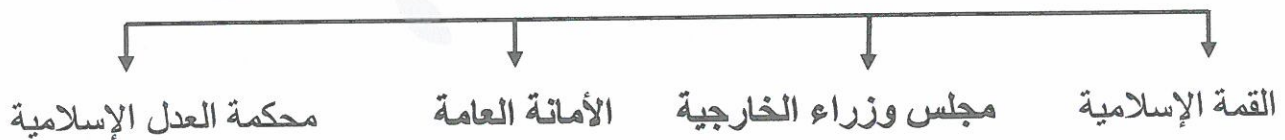
(د) انسب الأحداث التاريخية إلى سنوات حدوثها في الجدول التالي :- (٥ = ١ × ٥ درجات)

- (قرار مجلس الأمن رقم ٨٣٣ بترسيم الحدود بين الكويت والعراق - مؤتمر الأمم المتحدة للتصحر - مؤتمر العقير - إحصار جونغو أو غونو - الغزو العراقي على دولة الكويت)

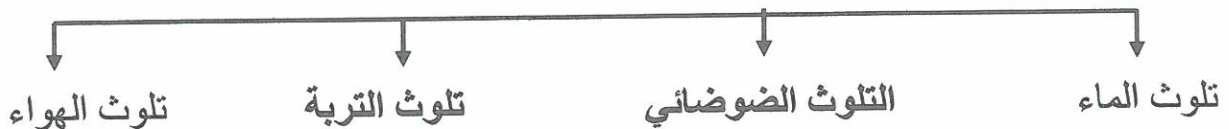
١٩٢٢م	١٩٧٧م	١٩٩٠م	١٩٩٣م	٢٠٠٧م
مؤتمر العقير	مؤتمر الأمم المتحدة للتصحر ص ٨٩	الغزو العراقي على الكويت ص ١٢٢	قرار مجلس الأمن رقم ٨٣٣ بترسيم الحدود بين الكويت والعراق ص ١٠٦	إحصار جونغو أو غونو ص ٩٠

(هـ) أكمل المخططات السهمية التالية : (٤ = ١ × ٤ درجات)

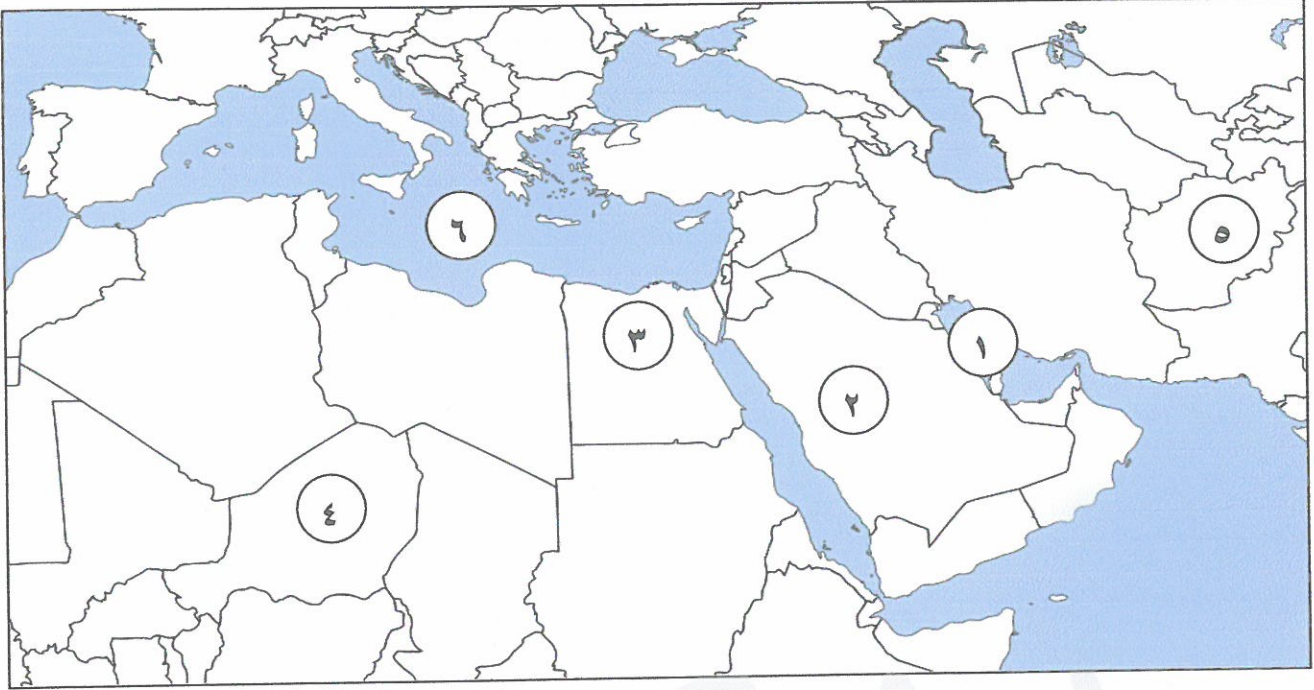
- ١- أجهزة منظمة التعاون الإسلامي (الهيكل التنظيمي) ص ١٤١



- ٢- أنواع التلوث البيئي ص ٨٣



(و) لاحظ خريطة العالم الإسلامي التي أمامك ثم نفذ المطلوب عليها : (٤ × ١ = ٤ درجات)



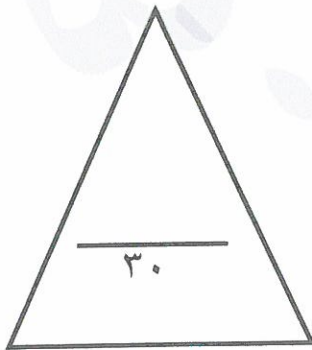
* مسطح مائي تعرض لتلوث مائي نتيجة سكب كميات كبيرة من النفط عام ١٩٩١م يمثلها الرقم

.....١..... ص ٨٥

* مدينة يوجد بها مقر مجمع الفقه الإسلامي يمثلها الرقم٢..... ص ١٤٥

* أقل دولة إسلامية في معدل محو الأمية يمثلها الرقم٤..... ص ١٢٩

* مدينة تعتبر نموذجاً للتلوث الضوضائي في العالم الإسلامي يمثلها الرقم٣..... ص ٨٧



درجة السؤال الأول بالحروف



السؤال الثاني :- مقالي ويتكون من (أ - ب - ج)

(أ) عرف المفاهيم التالية : (٣ × ١ = ٣ درجات)

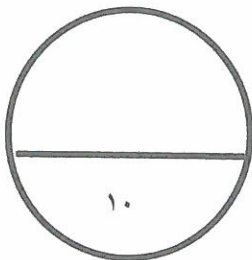
- ١ - التلوث البيئي: أي تغير غير مرغوب به في الخواص الطبيعية أو الكيميائية أو البيولوجية للبيئة المحيطة. ص ٨١
- ٢ - الاحتباس الحراري : ارتفاع درجات حرارة الأرض عن معدلها الطبيعي مما يؤدي إلى تغيرات مناخية. ص ٩٠
- ٣ - النفايات : أي مواد زائدة وغير مرغوبة من مخلفات البيئة والفضلات . ص ٩١

(ب) علل لما يلي : (٣ × ١ = ٣ درجات)

- ١- إنشاء منظمة التعاون الإسلامي عام ١٩٦٩ م . ص ١٣٨
- قيام المحتل الاسرائيلي بإحراق المسجد الأقصى في فلسطين عام ١٩٦٩ م والذي يعد أحد مقدسات المسلمين.
- ٢- تعتبر التربة عنصراً مهماً من عناصر البيئة الطبيعية . ص ٨٨
- لأنها المصدر الرئيسي لإنتاج الغذاء .
- ٣- يعتبر التلوث المائي من أخطر أشكال التلوث البيئي . ص ٨٥
- لأن الماء هو المادة الضرورية لبقاء الحياة وأي خلل بهذا العنصر الاساسي سيؤدي إلى تدهور واختلال بقية نظام الحياة .

(ج) أكتب اثنين لكل من : (٤ × ١ = ٤ درجات)

- ١- أسباب الفقر في الدول الإسلامية . ص ٩٨
- عدم توفر فرص عمل
- ضعف اقتصاد الدولة
- انتشار البطالة
- تضخم اسعار السلع والخدمات
- قلة التبرعات والصدقات في المجتمع .
- ٢- أثر التلوث الهوائي
- سبب رئيسي لأمراض القلب والأوعية الدموية
- اضطراب في الجهاز العصبي - تآكل وتلف المباني والمنشآت والآثار



درجة السؤال الثاني بالحروف

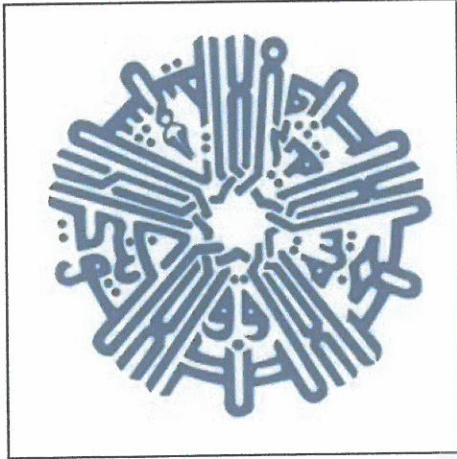


السؤال الثالث :- مقالي ويتكون من (أ - ب)

(أ) قارن بين كل من : (٦ × ١ = ٦ درجات)

وجه المقارنة	المنظمة الإسلامية للتربية والعلوم والثقافة (الإيسيسكو) ص ١٤٥	البنك الإسلامي للتنمية ص ١٤٥
سنة التأسيس	١٩٨٢ م	١٩٧٥ م
المقر	الرباط	جدة
الأهداف	<ul style="list-style-type: none"> - تقوية التعاون وتشجيعه وتعميقه بين الدول الاعضاء في مجالات التربية والعلوم والثقافة والاتصال . - العمل على التكامل بين المنظومات التربوية في الدول الأعضاء . 	<ul style="list-style-type: none"> - دعم التنمية الاقتصادية والتقدم الاجتماعي للشعوب الإسلامية . - تنمية التجارة الخارجية للدول الأعضاء والتبادل التجاري .

(ب) انظر إلى الشكل الذي أمامك ثم اجب على الأسئلة التي تليه: (٤ × ١ = ٤ درجات)



١- ماذا يمثل هذا الشعار . ص ١٥٩

الصندوق الكويتي للتنمية الاقتصادية العربية

٢- اذكر سنة التأسيس . ص ١٥٩

١٩٦١ م

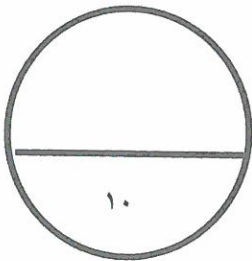
٣- عدد أهم أهدافه . ص ١٥٩

- تقديم القروض الميسرة للدول المحتاجة .

- تقديم المنح على سبيل المعونات الفنية .

- الإسهام في برامج التنمية .

درجة السؤال الثالث بالحروف



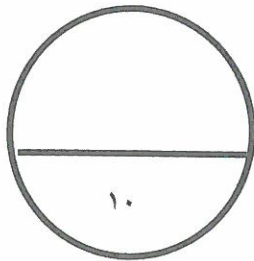
السؤال الرابع :- مقالتي ويتكون من (أ - ب)

(أ) فرق بين كل مما يلي: (٤ × ١ = ٤ درجات)

أسباب التلوث الضوضائي ص ٨٧	أسباب تلوث التربة ص ٨٨
<ul style="list-style-type: none"> - وسائل النقل بأنواعها المختلفة و الطائرات و القطارات و غيرها . - عمليات البناء و الهدم و أصوات آلات الحفر. 	<ul style="list-style-type: none"> - الإفراط باستخدام المبيدات الحشرية على المزروعات النباتية . - المخلفات الصناعية و الكيميائية و البشرية . - الأمطار الحمضية .

(ب) أجب عن الأسئلة التالية : (٦ × ١ = ٦ درجات)

- ١- علل ظهور المشكلة السكانية . ص ٩٥
 - عدم التوازن بين أعداد السكان والخدمات والموارد .
 - عدم توافر فرص العمل .
 - ارتفاع مستوى المعيشة تسبب في مشكلات كثيرة أخرى مثل الجريمة ، البطالة ، الطلاق ، المخدرات .
- ٢- اذكر الجهات الحكومية التي تشرف على المساعدات الخارجية (القطاع الحكومي) ص ١٥٩
 - وزارة المالية - جمعية الهلال الأحمر - الصندوق الكويتي - الهيئة الخيرية الإسلامية العالمية - بيت الزكاة
- ٣- عدد أهم قرارات المؤتمر الإسلامي الخامس عام ١٩٨٧ م . ص ١٤٣ (يكتفي بنقطتين)
 - دعم القضية الفلسطينية . - الحرص التام على استقلال لبنان ، ووحدة اراضية ، ورفض الاحتلال الإسرائيلي للجزء الجنوبي منه - ضرورة الوقف الفوري لكل العمليات الحربية بين الجمهورية العراقية وجمهورية إيران الإسلامية - الموافقة على مشروع النظام الأساسي لمحكمة العدل الإسلامية الدولية .



درجة السؤال الرابع بالحروف

انتهت الأسئلة مع تمنياتنا لكم بالتوفيق ،،