



تم تحميل الملف من موقع **بداية**



للمزيد اكتب
في جوجل



بداية التعليمي ⌚

موقع بداية التعليمي كل ما يحتاجه الطالب والمعلم
من ملفات تعليمية، حلول الكتب، توزيع المنهج،
بوربوينت، اختبارات، ملخصات، اختبارات إلكترونية،
أوراق عمل، والكثير...

حمل التطبيق



اختبار نهائي علوم رابع الفصل الدراسي الثاني لعام ١٤٤٥ هـ

أسم الطالب						الصف	
رقم الجلوس			٤ /				
رقم السؤال	الدرجة المستحقة	المصحح	توقيعه	المراجع	توقيعه	المدقق	توقيعه
رقماً	كتابة						
السؤال الأول							
السؤال الثاني							
السؤال الثالث							
السؤال الرابع							
المجموع							

السؤال الأول : أختَر الإجابة الصحيحة فيما يلي ؟

٢- نوع المرض .



أ (السل)
ب (القدم الرياضي)
ج (الكوليرا)

١- يعتبر مرض الطفل .



أ (معدي)
ب (غير معدي)
ج (فقر الدم)

٤- يمثل الهرم .




أ (هرم الطاقة)
ب (هرم الغذاء)
ج (غذاء غير متوازن)

٣- من العادات الصحية .



أ (النوم مبكراً)
ب (السهر)
ج (النوم ٤ ساعات)

٦- من استخدامات الماء في الصورة .



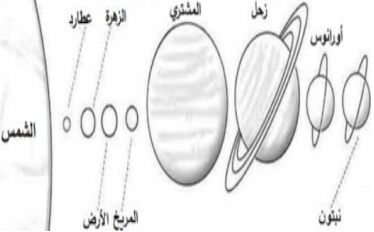
أ (إنتاج الطاقة)
ب (الشرب)
ج (الري)

٥- نوع الصخر .



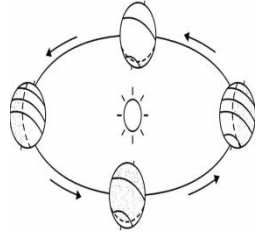
أ (ناري)
ب (رسوبي)
ج (متحول)

٨- يمثل الشكل المجاور .



أ (المذنب)
ب (النجوم)
ج (النظام الشمسي)

٧- ينتج من حركة الأرض .



أ (أطوار القمر)
ب (الليل و النهار)
ج (فصول السنة)

السؤال الثاني : أكمل الفراغات التالية بالكلمة المناسبة ؟

بنتج

الصحة – علامات المرض – المعدن – صخر متحول – المذنب – أطوار القمر – الكربوهيدرات – كورونا المستجد

- ١- تحدث بسبب دوران القمر حول الأرض .
- ٢- هي حالة اكتمال السلامة جسدياً و عقلياً و نفسياً .
- ٣- يستخدم في صناعة البلاط و الأعمدة الحجرية .
- ٤- يسببه فايروس كورونا المستجد – سارس – ٢ .
- ٥- المصدر الرئيس للطاقة في الجسم .
- ٦- مادة طبيعية غير حية توجد في قشرة الأرض و تكون صلبة .
- ٧- مثل ارتفاع درجة الحرارة و السعال و احمرار العينين و الصداع .

السؤال الثالث : ضع علامة (✓) أمام العبارة الصحيحة، وعلامة (x) أمام العبارة الخاطئة ؟

١	السمنة تراكم مفرط أو غير طبيعي للدهون .	()
٢	خلايا الدم البيضاء تهاجم مسببات المرض و القضاء عليها .	()
٣	من عادات الاهتمام بالنظافة غسل اليدين – قص الأظافر – تنظيف الأسنان .	()
٤	الصخر الناري يتكون عندما تبرد الصخور المنصهرة .	()
٥	خصائص المعدن اللون – القساوة – البريق – المخدش .	()
٦	يحدث كسوف الشمس عندما يقع القمر بين الأرض و الشمس .	()
٧	النجم جسم كروي يدور حول الشمس .	()
٨	الكواكب الصخرية مثل المشتري – زحل – أورانوس – نبتون .	()

السؤال الرابع : (أ) أجب عن الأسئلة التالية ؟

- ١- الطفل مصاب بمرض
- ٢- من أنواع البروتينات
- ٣- من أنواع الفيتامينات
- ٤- غني بالكالسيوم و الحديد



(ب) أكتب رقم الإجابة الصحيحة من المجموعة (أ) أمام ما يناسبها من المجموعة (ب) ؟

المجموعة (أ)	المجموعة (ب)
١ العدوى	كتل صخرية كبيرة تقع بين المريخ و المشتري
٢ مناعة طبيعية	النيزك الذي يحترق تماماً في الغلاف الجوي
٣ الماء	يساعد الجسم على الهضم و التخلص من الفضلات
٤ محور الأرض	استجابة مناعية سريعة بإنتاج الأجسام المضادة ضد مسببات المرض
٥ الكويكبات	انتقال المرض من شخص مصاب إلى شخص سليم

الفصل الدراسي : الثاني
العام الدراسي : ١٤٤٥ هـ
المادة : علوم
الصف : الرابع
الزمن : ساعة و نصف



المملكة العربية السعودية
وزارة التعليم
الإدارة العامة للتعليم بمنطقة
مكتب التعليم بشرق

نموذج الإجابة لاختبار نهائي علوم رابع الفصل الدراسي الثاني لعام ١٤٤٥ هـ							
أسم الطالب						الصف	
رقم الجلوس			٤ /				
رقم السؤال	الدرجة المستحقة		المصحح	توقيعه	المراجع	توقيعه	المدقق
	رقماً	كتابة					
السؤال الأول							
السؤال الثاني							
السؤال الثالث							
السؤال الرابع							
المجموع							

السؤال الأول : أختَر الإجابة الصحيحة فيما يلي ؟

٢- نوع المرض .




أ (السل)
ب (القدم الرياضي)
ج (الكوليرا)

١- يعتبر مرض الطفل .



أ (معدي)
ب (غير معدي)
ج (فقر الدم)

٤- يمثل الهرم .




أ (هرم الطاقة)
ب (هرم الغذاء)
ج (غذاء غير متوازن)

٣- من العادات الصحية .



أ (النوم مبكراً)
ب (السهر)
ج (النوم ٤ ساعات)

٦- من استخدامات الماء في الصورة .



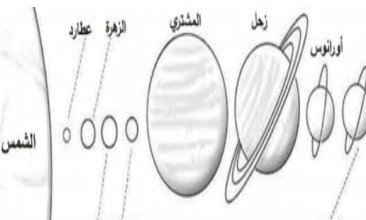
أ (إنتاج الطاقة)
ب (الشرب)
ج (الري)

٥- نوع الصخر .



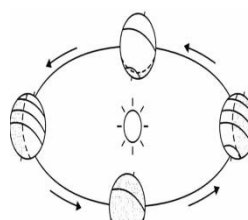
أ (ناري)
ب (رسوبي)
ج (متحول)

٨- يمثل الشكل المجاور .



أ (المذنب)
ب (النجوم)
ج (النظام الشمسي)

٧- ينتج من حركة الأرض .



أ (أطوار القمر)
ب (الليل و النهار)
ج (فصول السنة)

الصحة - علامات المرض - المعدن - صخر متحول - المذنب - أطوار القمر - الكربوهيدرات - كورونا المستجد

١- أطوار القمر تحدث بسبب دوران القمر حول الأرض .

٢- الصحة هي حالة اكتمال السلامة جسدياً و عقلياً و نفسياً .

٣- صخر متحول يستخدم في صناعة البلاط و الأعمدة الحجرية .

٤- كورونا المستجد يسببه فايروس كورونا المستجد - سارس - ٢ .

٥- الكربوهيدرات المصدر الرئيس للطاقة في الجسم .

٦- المعدن مادة طبيعية غير حية توجد في قشرة الأرض و تكون صلبة .

٧- علامات المرض مثل ارتفاع درجة الحرارة و السعال و احمرار العينين و الصداع .

السؤال الثالث : ضع علامة (✓) أمام العبارة الصحيحة، وعلامة (x) أمام العبارة الخاطئة ؟

١	السمنة تراكم مفرط أو غير طبيعي للدهون .	(✓)
٢	خلايا الدم البيضاء تهاجم مسببات المرض و القضاء عليها .	(✓)
٣	من عادات الاهتمام بالنظافة غسل اليدين - قص الأظافر - تنظيف الأسنان .	(✓)
٤	الصخر الناري يتكون عندما تبرد الصخور المنصهرة .	(✓)
٥	خصائص المعدن اللون - القساوة - البريق - المخدش .	(✓)
٦	يحدث كسوف الشمس عندما يقع القمر بين الأرض و الشمس .	(✓)
٧	النجم جسم كروي يدور حول الشمس .	(x)
٨	الكواكب الصخرية مثل المشتري - زحل - أورانوس - نبتون .	(x)

السؤال الرابع : (أ) أجب عن الأسئلة التالية ؟

١- الطفل مصاب بمرض السكري

٢- من أنواع البروتينات البيض

٣- من أنواع الفيتامينات الخضروات

٤- غني بالكالسيوم و الحديد الحليب



(ب) أكتب رقم الإجابة الصحيحة من المجموعة (أ) أمام ما يناسبها من المجموعة (ب) ؟

المجموعة (أ)	المجموعة (ب)
١ العدوى	٥ كتل صخرية كبيرة تقع بين المريخ و المشتري
٢ مناعة طبيعية	٦ النيزك الذي يحترق تماماً في الغلاف الجوي
٣ الماء	٣ يساعد الجسم على الهضم و التخلص من الفضلات

٢	استجابة مناعية سريعة بإنتاج الأجسام المضادة ضد مسببات المرض
١	انتقال المرض من شخص مصاب إلى شخص سليم

٤	محور الأرض
٥	الكويكبات
٦	الشهب

”انتهت الأسئلة”