



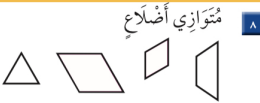
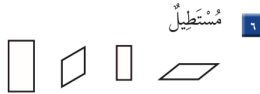
اكتب اسم الجسم، ثم احوط الشيء الذي له الشكل نفسه:



أحوط الأشكال التي تتفق مع الوصف:



لون الأشكال التي لها الاسم نفسه:



٩ لِلأُسْطُوَانَةِ وَجْهَانِ وَلِلأُسْطُوَانَتَيْنِ ٤ أَوْجُهٍ، فَكَمْ وَجْهًا لِثَلَاثِ أُسْطُوَانَاتٍ؟





١ أعدّ النقود لكي أجِدَ قيمتها:



ريالاً .....

٢ اكتب اسم الجسم:



٤

.....



٣

.....



٢

.....

٥ استعمل النماذج لأتمل العدد، ثم أملأ جدول المنازل، وأكتب العدد:

مِائَات	عَشْرَات	أَحَاد

.....



٣ و ٥ و ٤

٦ اكتب الصورة التحليلية للعدد، ثم أكتبه:

٣ عَشْرَاتٍ و ٩ مِائَاتٍ.

..... + .....

.....

أَرْبَعُ مِئَةٍ وَاثْنَانِ وَاثَلَاثُونَ.

..... + ..... + .....

.....





اكتب اسم الشكل في الفراغ، ثم ألون الأشكال المشابهة له:



٢

.....



١

.....



أحط الأشياء التي توافق الوصف:

٤ له ٦ أوجه و ١٢ حرفاً و ٨ رؤوس

٣ ٢ وجه • ٠ حرف • ٠ رأس



ألون الأشكال التي لها الاسم نفسه:

٦ متوازي أضلاع

٥ سداسي



اَكْتُبْ عَدَدَ الْأَضْلَاعِ وَالرُّؤُوسِ:

أَضْلَاعٍ .....  
رُؤُوسٍ .....



٨

أَضْلَاعٍ .....  
رُؤُوسٍ .....



٧

أَحْمِلُ الْجُمْلَةَ الْآتِيَةَ:

شِبْهُ الْمُنْحَرِفِ وَالْمُسْتَطِيلِ مُتَشَابِهَانِ؛ لِأَنَّ:



٩

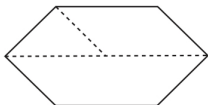
أَحْوِطُ الْأَشْكَالَ النَّاتِجَةَ عَنِ الشَّكْلِ أَدْنَاهُ:

مُسْتَطِيلٌ

شِبْهُ مُنْحَرِفٍ

مُتَوَازِي أَضْلَاعٍ

مُتَلَثٌّ



١٠

أَخْلُ الْمَسْأَلَةَ

عِنْدَ بَاسِرٍ وَآيَمَنَ مُجَسَّمَانِ مُخْتَلِفَانِ، لِكُلِّ مِنْهُمَا ٦ أَوْجِهٍ وَ ١٢ حَرْفًا وَ ٨ رُؤُوسٍ.

مَا اسْمُ كُلِّ مِنْ هَذَيْنِ الْمُجَسَّمَيْنِ؟

