

5

الحواسبة

1447 هـ - 25-26 م

منتصف ف2

تدريبات
دعم
وإثراء



يا رب انصر عبادك المؤمنين
وجندك الموحدين في كل مكان

القدس والأقصى ▼ حتماً ستعود

ملحوظة: هذه التدريبات لا تقني عن الكتاب المدرسي

الاسم / الصف/5-





التميز









السؤال الأول : اختر الإجابة الصحيحة فيما يأتي :

1. هي كائنات ذات ثلاثة ابعاد (الطول والعرض والارتفاع) ؟			
أ.	الكائنات ثلاثية الابعاد.	ب.	الكائنات ثنائية الابعاد.
ج.	الكائنات احادية الابعاد.	د.	الرسومات.

2. أي من الاشكال الاتية هو شكل ثلاثي الابعاد ؟			
أ.		ب.	
ج.		د.	

3. أي من الاشكال الاتية هو شكل ثنائي الابعاد ؟			
أ.		ب.	
ج.		د.	

4. ما هي الكائنات ذات البعدين فقط .			
أ.	الكائنات ثلاثية الابعاد.	ب.	الكائنات ثنائية الابعاد.
ج.	الكائنات احادية الابعاد.	د.	الرسومات.



مادة الحوسبة وتكنولوجيا المعلومات

الصف الخامس



5. هي شبكة صغيرة لا تتجاوز عادةً الغرفة الصفية او مبني او منزل .							
أ.	الشبكة العالمية.	ب.	الشبكة اللوجستية.	ج.	الشبكة واسعة المجال.	د.	الشبكة المحلية.

6. هي نسخ عمل شخص اخر وادعاء بأنه عمك .							
أ.	المحتوي المجاني.	ب.	التصفح الأمن للإنترنت.	ج.	السرقه الأدبية.	د.	الصور المخصصة.

7. هي الحقائق الأولية الموجودة حولنا بشكلها الظاهر.							
أ.	المعالجة.	ب.	البيانات.	ج.	المعلومات.	د.	المعرفة.

8. هي النتائج المفيدة الناتجة عن معالجة وتنظيم البيانات							
أ.	المعلومات.	ب.	المعرفة.	ج.	البيانات.	د.	المعالجة.



مادة الحوسبة وتكنولوجيا المعلومات



الصف الخامس

السؤال الثاني: ضع الكلمة المناسبة في الفراغ المناسب:

Copy	البرامج المجانية	شبكة الأنترنت
ادراج	WAN	براءة الاختراع

1. هي برامج الحاسوب التي يمكن استخدامها بدون قيود .
2. هي شبكة عالمية تتكون من ملايين أجهزة الحاسوب المتصلة ببعضها البعض والتي تتبادل المعلومات .
3. يمكننا نسخ الأشكال الهندسية في برنامج الرسام ثلاثي الأبعاد عن طريق زر.....
4. يمكنني ادراج صور في برنامج الرسام ثلاثي الأبعاد من خلال تبويب.....
5. يمنح المخترعون والمبتكرون عادةً وثيقة رسمية تثبت حقوقهم فيما قاموا بابتكاره تسمى.....
6. هي شبكة واسعة المجال تحتوي علي ملايين من مواقع الويب .



مادة الحوسبة وتكنولوجيا المعلومات



الصف الخامس

السؤال الثالث : أجب على الأسئلة الآتية :

1. قم بكتابة التعريف المناسب لكل المصطلحات الآتية .

أ. القرصنة :

.....
.....

ب. الملكية الفكرية :

.....
.....

2. قم بالإجابة عن الجدول الآتي الذي يوضح المقارنة بين البيانات والمعلومات:

المعلومات	البيانات	وجهه المقارنة
		الفهم
		التنظيم
		الاستخدام