

# مدرستي معكم خطوة بخطوة للنجاح والتفوق



مدرستي

الكويتية

حمل التطبيق



مدرستي



الكويتية



اضغط هنا



منطقة العاصمة التعليمية

# الاجابة النموذجية





وزارة التربية  
الإدارة العامة لمنطقة العاصمة التعليمية  
التوجيه الفني للاجتماعيات

العام الدراسي : 2021 / 2022 م  
زمن الامتحان ساعة وخمس وأربعون  
عدد الصفحات : ( 6 )

امتحان نهاية الفترة الدراسية الأولى  
مقرر/ الكويت والعالم  
للفص التاسع

السؤال الأول ( موضوعي ) ويتكون من ( أ - ب - ج - د - هـ ) ( درجة لكل سؤال = 30 )

( أ ) أكمل العبارات التالية بما يناسبها فيما درست :

- 1- منظمة الدول المصدرة للنفط تسمى أوبك ص 102
- 2- الرياضي الكويتي الذي يعتبر أول عربي يتسلق قمة افرست اسمه زيد السيد الرفاعي ص 25
- 3- منظمة الأمم المتحدة للتربية والعلوم والثقافة تسمى اليونسكو ص 106
- 4- خط طول 180 ومنه يبدأ اليوم يسمى خط التاريخ الدولي ص 18
- 5- التواصل بين الدول عن طريق المنظمات الدولية كالشركات والجمعيات الخيرية والرأي العام يسمى التواصل غير المباشر ص 91
- 6- التفاعل المستمر بين مكونات البيئة الذي يحفظ استقرارها النسبي في زمن محدد دون أن يتأثر أي مكون على المكونات الأخرى يسمى التوازن البيئي ص 16
- 7- المساعدات التي تتمثل في المعونات الإغاثية والغذائية المباشرة التي تلجأ الدول إليها في الحالات الخاصة تسمى مساعدات الطارئة ص 105

( ب ) صوب ما تحته خط في العبارات التالية :

- 1- عقد المؤتمر الدولي للأرض في مدينة ( ريو دي جانيرو ) في دولة الأرجنتين ( البرازيل ) ص 81
- 2- عدد الآبار النفطية التي أحرقتها النظام العراقي أثناء الغزو 741 بئر ( 737 ) ص 63
- 3- الزيادة في متوسط حرارة الأرض والذي نتج عن التغيرات المناخية واضطراب الأنظمة البيئية بسبب زيادة غاز الميثان و النيتروجين ( ثاني أكسيد الكربون ) ص 80
- 4- أكبر دول العالم من حيث المساحة هي الهند ( روسيا ) ص 20
- 5- تبلغ نسبة المياه العذبة على الكرة الأرضية 10% ( 3% ) ص 64
- 6- حالة الجو خلال فترة زمنية طويلة هو الضغط الجوي ( المناخ ) ص 27



### ( ج ) ضع خطأ تحت الخيار الصحيح من بين الخيارات التي تلي كل عبارة :

1- موقع الدولة بالنسبة لخطوط الطول ودوائر العرض : ص 18

| الموقع المكاني | الموقع الجغرافي | الموقع الفلكي | الموقع النسبي |
|----------------|-----------------|---------------|---------------|
|----------------|-----------------|---------------|---------------|

2- تبلغ نسبة المسطحات المائية على الكرة الأرضية : ص 30

|     |     |     |     |
|-----|-----|-----|-----|
| %31 | %41 | %61 | %71 |
|-----|-----|-----|-----|

3- الأقاليم المناخية الواقعة بين دائرتي عرض 40-60 شمالاً وجنوباً : ص 28

| الأقاليم الحارة | الأقاليم المعتدلة الدفيئة | الأقاليم المعتدلة الباردة | الأقاليم الباردة |
|-----------------|---------------------------|---------------------------|------------------|
|-----------------|---------------------------|---------------------------|------------------|

4- التلوث الذي تعاني منه كثير من الدول الصناعية والناجم عن النشاط الصناعي : ص 62

| التلوث الخطر | التلوث المدمر | التلوث المتوسط | التلوث المقبول |
|--------------|---------------|----------------|----------------|
|--------------|---------------|----------------|----------------|

5- ( الديسيبل ) وحدة تستخدم لقياس ضغط : ص 69

| الضوء | الصوت | الرياح | التلوث |
|-------|-------|--------|--------|
|-------|-------|--------|--------|

6- أداة لتشكيل وتنفيذ السياسة الخارجية من أجل إقامة وتطوير علاقات سلمية بين حكومات الدول : ص 95

| الهجرة الدولية | التعاون الدولي | تجارة دولية | دبلوماسية |
|----------------|----------------|-------------|-----------|
|----------------|----------------|-------------|-----------|

7- أحد مصادر تلوث التربة يحدث بسبب دخول مسبب مرضي أو آفة زراعية : ص 67

| حيوية | ميكانيكية | فيزيائية | كيميائية |
|-------|-----------|----------|----------|
|-------|-----------|----------|----------|

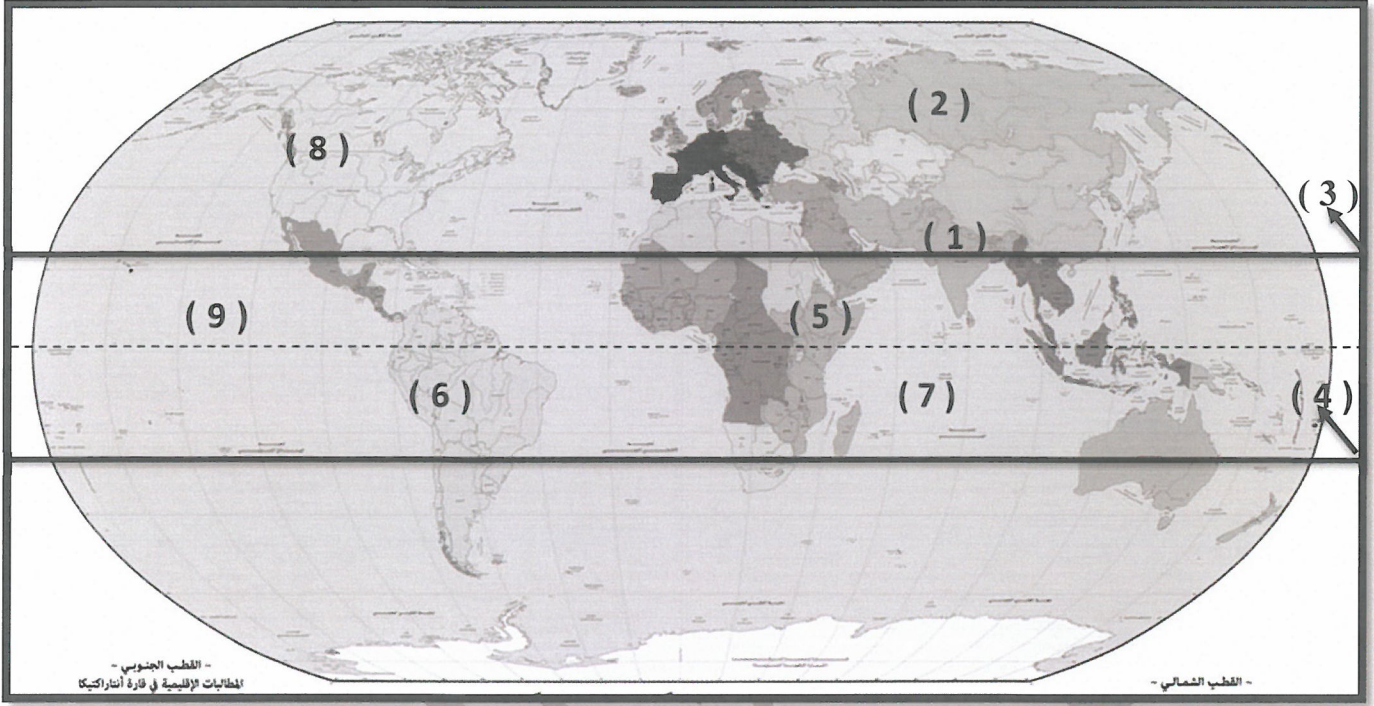
### ( د ) صنف المقومات التي أمامك في مكانها المناسب في الجدول التالي : ص 97

( أراضي زراعية خصبة - النفط - التصنيع والابتكار - توفر أيدي عاملة )

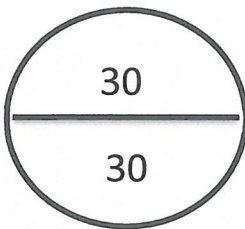
| مقومات الدول المتقدمة      | مقومات الدول النامية                 |
|----------------------------|--------------------------------------|
| النفط<br>التصنيع والابتكار | أراضي زراعية خصبة<br>توفر أيدي عاملة |



( هـ ) اكتب مدلولات الأرقام التالية :



- مدار السرطان يحمل الرقم ( 3 ) ص 29
- هضبة أثيوبيا تحمل الرقم ( 5 ) ص 25
- جبال الهيمالايا تحمل الرقم ( 1 ) ص 25
- جبال الروكي تحمل الرقم ( 8 ) ص 25
- سهول سيبيريا تحمل الرقم ( 2 ) ص 25
- المحيط الهندي يحمل الرقم ( 7 ) ص 20



**السؤال الثاني ( مقال ) ويتكون من ( أ - ب - ج ) :**  
**( أ ) عرف المصطلحات التالية :**  
**( درجتين - درجة لكل نقطة )**

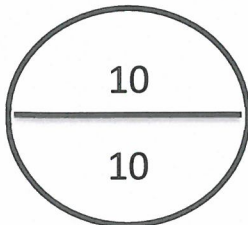
- 1- أقاليم مناخية : مساحة من الأرض ذات خصائص مناخية متشابهة ومتميزة عن غيرها . ص 27
- 2- تعاون دولي : جهود مبذولة بين دول العالم من أجل تحقيق مصلحة الدول المتعاونة في سبيل تحقيق الأمن والسلم الدوليين ومواجهة التحديات السياسية والاجتماعية والاقتصادية والأمنية . ص 104

**( ب ) اذكر نقطتين لكل مما يلي :**

- 1- مميزات البيئة المعتدلة . ص 31 ( درجتان لكل نقطة درجة )
  - ممارسة العديد من الأنشطة .
  - تنوع الحياة النباتية والحيوانية أكثر من البيئات الأخرى .
  - ازدياد البناء والاستقرار عن غيرها من البيئات .
  - إمكانية إقامة النشاط الزراعي والصناعي فيها .
- 2- العوامل المؤثرة في العلاقات السياسية . ص 94 ( درجتان لكل نقطة درجة )
  - العوامل الداخلية .
  - العوامل العسكرية .
  - العوامل الاقتصادية .
  - العوامل الجغرافية .
  - العوامل البيئية .
  - العوامل الصناعية .
  - العوامل الخارجية .

**( ج ) فرق بين كل مما يلي :**

| مصادر التلوث الهوائي ص 63  | مصادر التلوث المائي ص 64  |
|--|---|
| 1- الغازات المنبعثة من وسائل المواصلات البرية والجوية والبحرية ومولدات الطاقة .<br>2- ذرات الرماد والأتربة .<br>3- حرق نفايات المنشآت المنزلية والصناعية .<br>( درجة - يكتفى بنقطة ) | 1- إلقاء المخلفات الصناعية الصلبة والسائلة في المياه .<br>2- التلوث الحراري الناتج عن التخلص من المياه الساخنة المستخدمة في تبريد آلات المصانع عن طريق سكبها بالبحار ( المفاعلات النووية ) .<br>3- إلقاء مياه الصرف الصحي في البحر .<br>4- التلوث النفطي الناتج عن التسريب أثناء تصدير البترول وغسل خزانات ناقلات البترول .<br>( درجة - يكتفى بنقطة ) |
| أسباب التصحر الطبيعية ص 72   | أسباب التصحر البشرية ص 72   |
| 1- قلة الأمطار .<br>2- ارتفاع نسبة التبخر .<br>3- زحف الكثبان الرملية .<br>4- تعرية التربة .<br>( درجة - يكتفى بنقطة )   | 1- الرعي الجائر .<br>2- الري غير المتقن .<br>3- الإفراط في قطع الأشجار .<br>4- زراعة المناطق الهامشية .<br>( درجة - يكتفى بنقطة )   |





### السؤال الثالث (مقالى) ويتكون من ( أ - ب - ج ) :

( 3 درجات )

( أ ) شاهد الصورة التي أمامك ثم أجب عما يليها من أسئلة :



- 1- اذكر نوع التلوث الذي تعبر عنه الصورة . ص 69 ( درجة )  
- التلوث الضوضائي .
- 2- عدد أضرار هذا التلوث . ص 70 ( درجتين ويكتفى بنقطتين )  
- ضعف السمع .  
- الإصابة بالصمم .  
- ارتفاع ضغط الدم .  
- الشعور بالصداع والطنين في الأذن .

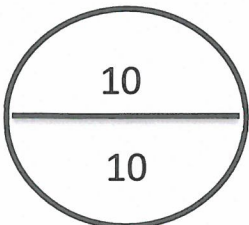
( ب ) علل لما يأتي :

- 1- نشأة الحركة التجارية بين الدول . ( درجة - يكتفى بنقطة ) ص 99  
- حاجة الدول المنتجة إلى أسواق لتصريف منتجاتها ليعود بالنفع عليها وعلى سكانها .
- 2- لتلوث التربة أضرار على البيئة . ص 67 ( درجتين ويكتفى بنقطتين )  
- قلة الإنتاج الزراعي الذي يحتاجه الإنسان بسبب اعتماد النباتات على التربة .  
- انقراض بعض النباتات والحيوانات بسبب تلوث التربة .  
- ازدياد الطفيليات والبكتيريا ومسببات الأمراض للإنسان بسبب تلوث المحاصيل الزراعية .  
- تلوث المياه الجوفية ومياه البحار التي يعتمد عليها الإنسان في الشرب .

ص 24

( ج ) قارن بين كل مما يلي :

| أوجه المقارنة           | السهول   | الجبال   |
|-------------------------|--|--|
| التعريف                 | مساحة كبيرة من سطح الأرض تتميز باستوائها وقلّة ارتفاعها . ( درجة ) | كل مرتفع من الأرض وله قمة لا يقل ارتفاعها عن 1000 متر . ( درجة ) |
| نسبتها من مساحة القارات | 41 % ( درجة )  | 12 % ( درجة )  |



## السؤال الرابع ( مقال ) ويتكون من ( أ - ب - ج ) :

### ( أ ) اقرأ الفقرة التالية ثم أجب عما يليها من أسئلة :

" يتكون نظام البيئة الطبيعية من مجموعة من العلاقات بين الكائنات الحية وبيئتها والتي تشكلت في مرحلة زمنية ، ويتحكم في تطور البيئة الطبيعية قانون التطور العام ، وهذه الكائنات الحية وبيئتها هما في توازن بيولوجي حيث إن أي نظام بيئي طبيعي هو نظام محكم متوازن " . ص 15

1- ضع عنوان للفقرة السابقة . ( أي عنوان مناسب يكتبه المتعلم ) ( درجة )

2- عرف ما تحته خط . ( درجة )

البيئة : الإطار الذي يعيش فيه الإنسان ويحصل فيه على مقومات حياته ويتفاعل فيها مع عناصر البيئة الأخرى .

### 3- اذكر أقسام البيئة . ( درجتين )

- البيئة غير الحية .
- البيئة الحية .

### ( ب ) فرق بين كل مما يلي :

| ندرة المياه المادية ص 76   | ندرة المياه المعنوية ص 76   |
|--|---|
| تتمثل في عجز الموارد عن تلبية كمية الطلبات للسكان<br>( درجة )  | تتمثل في امتلاك البلد للموارد المائية التي تلبي جميع الاحتياجات ولكن تقع أمام إشكالية الإدارة .<br>( درجة )                                 |
| تصحّر شديد ص 73  | تصحّر شديد جداً ص 73  |
| حدوث نشاط كبير في زحف الرمال وتكون أخاديد كبيرة وتملح التربة مما يقلل عائد الإنتاج بنسبة تتراوح ما بين 50 إلى 90 %<br>( درجة ) | حدوث حركة كثبان رملية كبيرة نتج عنها الأخاديد والأودية العميقة والكبيرة مما جعل التربة تفقد قدرتها الإنتاجية بنسبة أكثر من 90 %<br>( درجة ) |

### ( ج ) عدد لكل مما يلي :

- 1- العوامل المؤثرة في التضاريس . ص 23 ( درجة - لكل نقطة نصف درجة - ويكتفى بنقطتين )
- الرياح .
  - الأمطار .
  - الحرارة .
  - النباتات .
  - الإنسان .
- 2- مميزات البيئة البحرية . ص 30 ( درجة لكل نقطة نصف درجة - ويكتفى بنقطتين )
- الحفاظ على التوازن البيئي للكرة الأرضية .
  - توفير الثروات المعدنية والنباتية والسلمية المختلفة للإنسان .
  - توفير طرق المواصلات ومجال للترفيه والسياحة .

