



وزارة التربية
منطقة حولي التعليمية
التوجيه الفني للرياضيات

الاختبار التحصيلي (١) التجريبي
للفصل الأول الابتدائي
الفصل الدراسي الثاني

الاسم:
الصف: أولى

٢٠

٥

السؤال الأول: أ) رتب الأعداد من الأصغر إلى الأكبر.

٨٤

٨٦

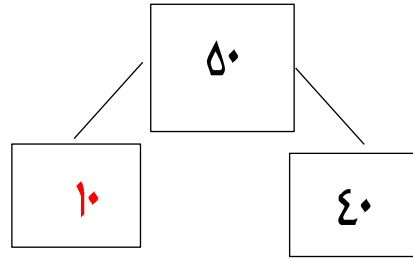
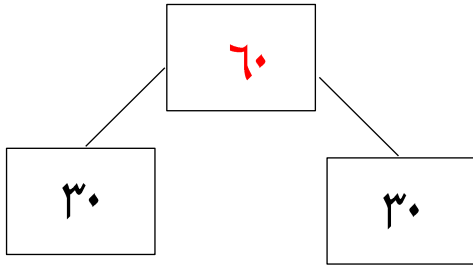
٦٣

٨٦

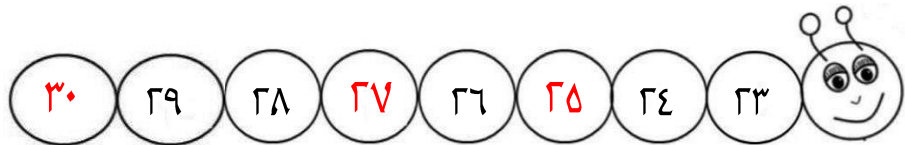
٨٤

٦٣

ب) أكمل: -



السؤال الثاني: أ) أكمل: -



ب) أكتب رموز الأعداد الناقصة؟



السؤال الثالث: حل: -

أ) - عدد الأشهر في السنة الميلادية ١٢ شهرًا

- يصوم المسلمون في شهر رمضان.

ب) حل المسألة التالية: -

كان عند فاطمة ١٠  أهداها والدها ٥  أخرى كم عدد البطات عند فاطمة؟

$$\text{١٠} + \text{٥} = \text{١٥} \text{ }$$

السؤال الرابع

أ) صل كل صورة بالساعة المناسبة؟

٥ : ٠٠



٧ : ٠٠



ب) حوّل العبارة ذات الصلة المناسبة؟

$$١٥ = ٨ + ٧$$

$$٧ = ٨ - ١٥$$

$$٩ = ٣ - ١٢$$

لون النمط: عد تجاوزياً بالإثنين؟

٦	٥	٤	٣	٢	١
١٢	١١	١٠	٩	٨	٧

نموذج اجابة الاختبار التحصيلي (١)

الاسم :

التجربي



وزارة التربية

الإدارة العامة لمنطقة حولي التعليمية

التوجيه الفني للرياضيات

الصف : أولى \

الصف الأول الابتدائي


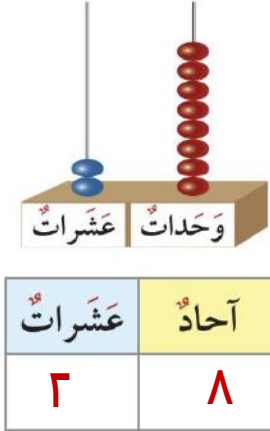
الفصل الدراسي الثاني

العام الدراسي ٢٠٢٣ - ٢٠٢٤ م


الدرجة

٢٠

السؤال الأول : أ) عد الوحدات والعشرات . ثم اكتب رمز "محدد :




١٠٠



عشرات	آحاد
٤	٠

ب) أكمل سلسلة الأعداد :



٥

السؤال الثاني : أ) قارن . اكتب رمز العلاقة المناسب (< أو > أو =) :

٥٥ = ٥٥

٦٧ < ٧٦

٤٧ < ٩٣

ب) اكتب الوقت :



١٠ : ٠٠



٣ : ٠٠

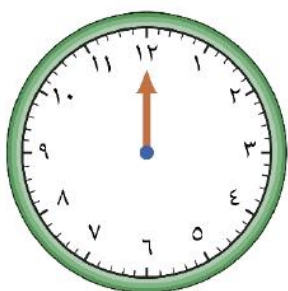
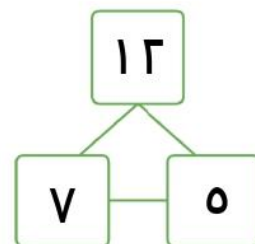
٥

السؤال الثالث :

(أ) اكتب عبارة الجمع وعبارة الطرح ذات الصلة مستخدماً الأعداد المعطاة :

$$12 = 7 + 5$$

$$5 = 7 - 12$$




(ب) حل المسألة التالية :

وصل محمد إلى الملعب الساعة ٦ : ٠٠ مساءً

قبل بدأ المباراة بساعة , كم الساعة التي تبدأ فيها المباراة ؟

تبدأ المباراة الساعة ٧ : ٠٠ مساءً

(ب) حوط النصف :



٣ : ٠٠


السؤال الرابع :

(أ) حوط الساعة المناسبة

للوقت الموضح :



(د) لون ضعف



(ح) لون التقدير المناسب :

أكثر من ١٠

أقل من ١٠



(و) حوط الإجابة الصحيحة :

العدد المجهول هو

٥

٣



$$13 = \square + 10$$



وزارة التربية

الإدارة العامة لمنطقة حولي التعليمية

التوجيه الفني للرياضيات

نموذج حل الاختبار التحصيلي التجريبي لمادة الرياضيات

الاسم :

الصف : ١ /

الدرجة :

للفصل الأول الابتدائي

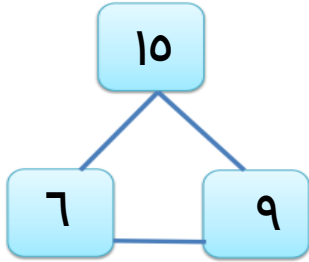
الفصل الدراسي الثاني للعام الدراسي ٢٠٢٣-٢٠٢٤ م

٢٠

السؤال الأول :

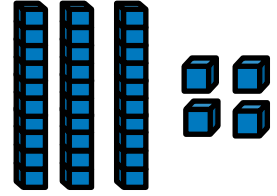
٥

(ب) أكتب عبارة الجمع وعبارة الطرح ذات الصلة مستخدمًا الأعداد المعطاه .



$$\begin{aligned} 10 &= 6 + 9 \\ 6 &= 9 - 10 \end{aligned}$$

(أ) أكتب رمز العدد الممثل .




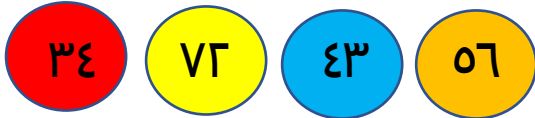
عَشَرَات	آحَاد
٣	٤

٣٤

السؤال الثاني :

٥

(ب) رتب الأعداد من الأصغر إلى الأكبر .



(أ) حل المسألة .

(أ) كان مع علي ١٠ كرة ، أهداه

والده ٦ كرة أخرى كم عدد كل كرة عند علي ؟

$$10 = 6 + 17$$

السؤال الثالث :

٥

(ب) ارسم عقرب الساعة الصغير لتوضح قبل وبعد الساعة المرسومة.

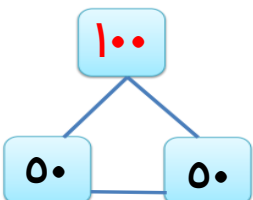
بعد ساعة واحدة

قبل ساعة واحدة



٩ : ٠٠

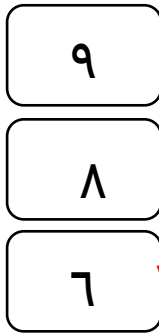
(ج) أكمل .



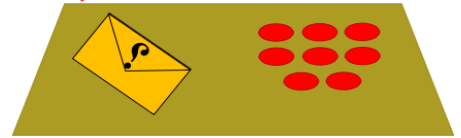
(١) حوط الشهر الذي يصوم فيه المسلمون .




(٢) صل بالعدد المجهول .



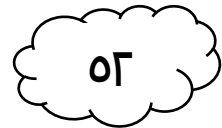

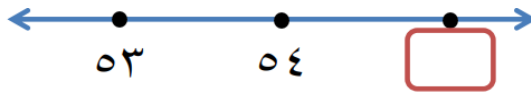
$$١٤ = \square + ٨$$



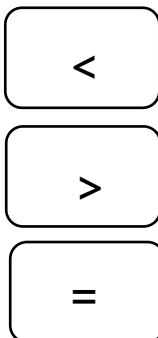
(٣) حوط ما يمثل النصف .



(٤) حوط رمز العدد المناسب الذي يأتي بعد العدد ٥٤ مباشرة .



(٥) صل برمز العلاقة المناسب .



نموذج حل الاختبار التحصيلي التجريبي الاول لمادة الرياضيات



وزارة التربية

الإدارة العامة لمنطقة حولي التعليمية

التوجيه الفني للرياضيات

الاسم :

الصف : ١ /

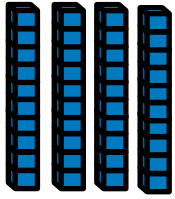
الدرجة :

٢٠

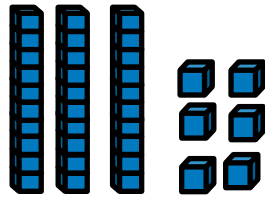
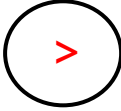
للفصل الدراسي الثاني للعام الدراسي ٢٠٢٣-٢٠٢٤

السؤال الأول :


أ) أكتب رمز العدد الممثل، ثم قارن بين العددين مستخدمًا رمز العلاقة المناسب (< أو > أو =).




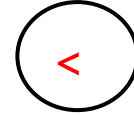
٤٠



٣٦

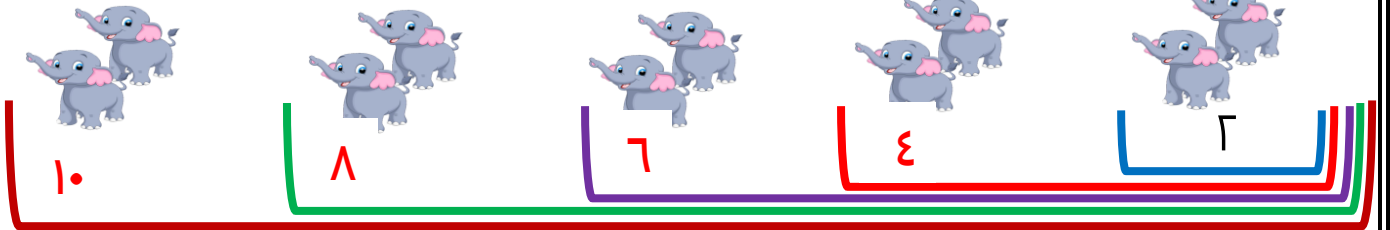


١٣



٢٣

ب) أكمل :



السؤال الثاني :

أ) حل المسألة :

أ) ١٢ 🦋 على الشجرة . طار منها ٤ 🦋 كم 🦋 بقيت على الشجرة ؟

١٢ - ٤ = ٨

ج) أكمل :

عدد الأشهر في السنة الهجرية ١٢ شهرًا .

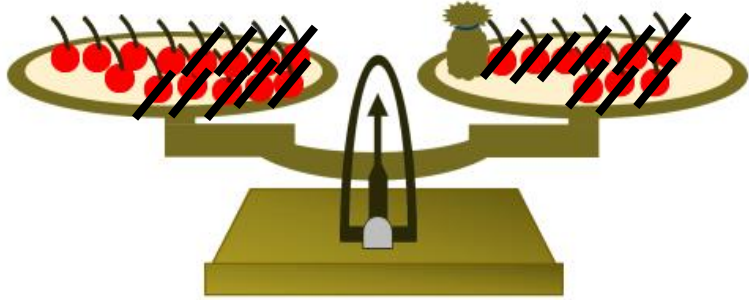
ب) أكتب الوقت :



السؤال الثالث :

٥

أ) اشطب لإيجاد العدد المجهول .

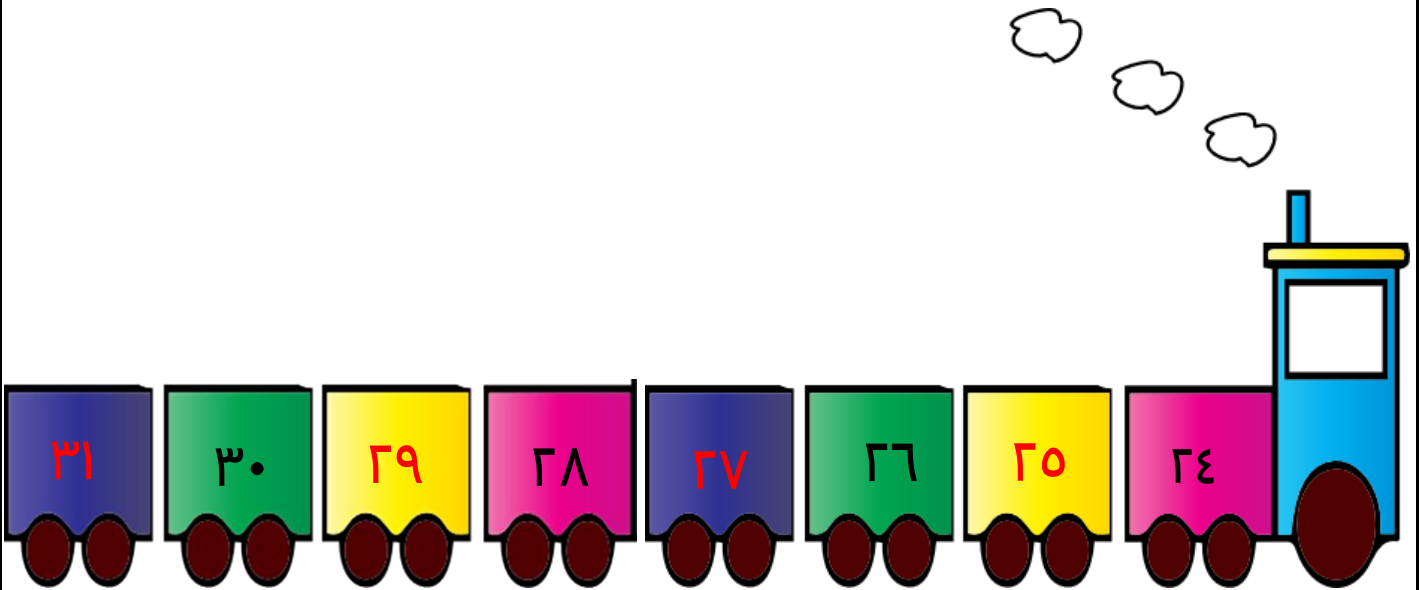


$$١٤ = \boxed{٥} + ٩$$

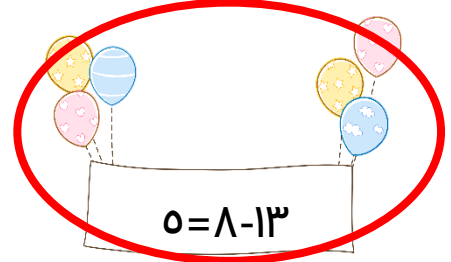
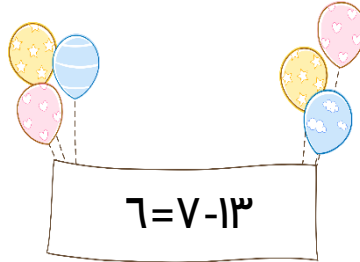
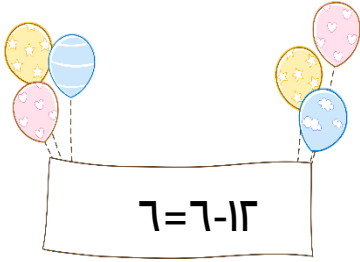
ب) أكمل .

عدد الأشهر في السنة الميلادية^{١٢} شهرًا .

ج) أكمل سلسلة الأعداد .



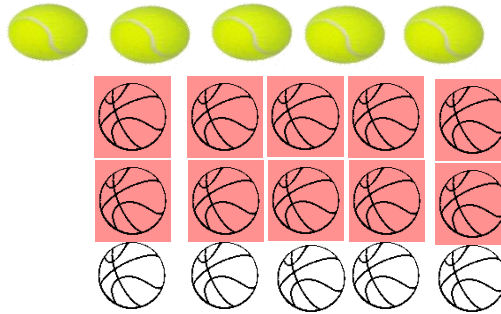
السؤال الرابع :

١) حوٲ عبارة الطرح ذات الصلة بعبارة الجمع $٧ + ٦ = ١٣$.

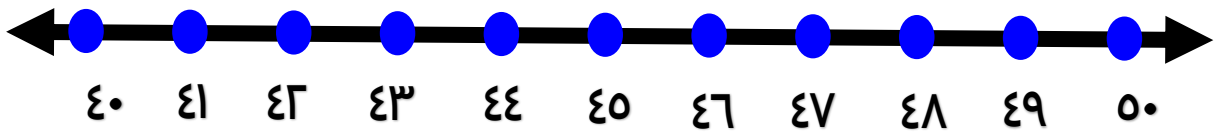
٢) حوٲ الشهر الأول من السنة الهجرية .



٣) لون ضعف



٤) حوٲ العشرة الأقرب إلى العدد ٤٢ .



٤٥

٥٠

٤٠



٥) حوٲ العدد الذي يقع بين العددين ٦٨ ، ٧٠

