



تدريبات علاجية (الاجتماعيات)

للمصف الرابع الابتدائي

منتصف الفصل الدراسي الثاني

2025 – 2026 م





1- صل بين القائمة (أ) وما يناسبها من القائمة (ب) في الجمل الآتية :-

الرقم	(أ)	(ب)
أ-	تقع مزرعة الابقار في دولة قطر بمنطقة.	■ أم قرن
ب-	توجد مزرعة الدواجن في دولة قطر بمدينة.	■ الركية
ج-	يقع مصنع الأسمدة في دولة قطر بمدينة.	■ مسعيد
		■ دخان

2- اذكر أهم صادرات دولة قطر.

أ- البترول.

ب- الآلات والمعدات.

3- بم تفسر: تركز الزراعة في منطقة الروضات.

أ- خصوبة التربة.

ب- وفرة المياه الجوفية.



2- ما النتائج المترتبة على إنهاء معاهدة الحماية.

1. استقلال قطر.

2. انضمت لجامعة الدول العربية ومنظمة الامم المتحدة

2- وضح أهمية الأنشطة الاقتصادية في دولة قطر.

1- مصدر للدخل 2- توفير الغذاء

3- توفير فرص عمل 4- تنويع الاقتصاد القطري

3- عدد صفات الشيخ علي بن عبدالله ال ثاني

1- متدينا. 2- أديبا. 3- شاعرا. 4- حب العلم والعلماء.

5- التواضع 6- الكرم. 7- عمل الخير.

- عدد اعمال الشيخ علي بن عبدالله ال ثاني.

1- انشأ مستشفى الرميلة وجعل فيها العلاج مجانا.

2- تصدير اول شحنة بترول من ميناء مسعيد عام 1949م.

3- امشأ اول مدرسة نظامية واهتم ببناء المساجد.



ما إنجازات الشيخ خليفة بن حمد ال ثاني .

1- افتتاح اول مجلس للشورى.

2- انشأ جامعة قطر.

3- تأسيس مستشفى حمد العام.

4- انشأ قطر للبترول.

اذكر أمثلة على الموارد الغير متجددة.

1- الفحم.

2- البترول.

3- الغاز الطبيعي.

عدد أنواع السياحة في دولة قطر

1- الترفيهية.

2- الثقافية.

3- الرياضية



-اختر الإجابة الصحيحة بوضع علامة x في المربع المقابل:-

"الاستهلاك المفرط للموارد الطبيعية" يشير التعريف السابق الى مفهوم:

الموارد الطبيعية .

الموارد المتجددة.

النشاط الاقتصادي.

استنزاف الموارد الطبيعية .

أ

أ

ب

ج

د

أنشأ الشيخ علي بن عبدالله آل ثاني مستشفى:

الخور.

الوكرة.

الرميلة.

الريان القديم.

ج

أ

ب

ج

د

تشتهر مدينة أم باب بصناعة :

الاسمنت

تكرير النفط

الحديد والصلب

إسالة الغاز الطبيعي

أ

أ

ب

ج

د



أي من الآتي يعد محاصيل الزراعة المكشوفة؟

أ

فلفل.

أ

خيار.

ب

طماطم.

ج

الاعلاف.

د

"عملية تبادل المنتجات الاقتصادية عن طريق البيع والشراء" يشير التعريف
السابق الى مفهوم:
الصناعة.

ب

السياحة.

ب

التجارة.

ج

الزراعة.

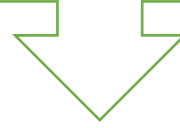
د

س	أي مما يلي يعد من أمثله الموارد غير المتجددة؟
<input type="checkbox"/>	البتروول .
<input type="checkbox"/>	المياه .
<input type="checkbox"/>	الرياح .
<input type="checkbox"/>	الطاقة الشمسية .



رتب على الخط الزمني حكام دولة قطر بحسب فترات الحكم تسلسل زمني صحيح.

(الشيخ احمد بن علي آل ثاني -الشيخ علي بن عبدالله آل ثاني - الشيخ خليفة بن حمد ال ثاني)



الشيخ خليفة بن حمد
آل ثاني

الشيخ أحمد بن علي
ال ثاني.

الشيخ علي بن
عبدالله آل ثاني

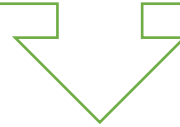
1995-2013م

1972-1995م

1960-1972م

رتب على الخط الزمني حكام دولة قطر بحسب فترات الحكم تسلسل زمني صحيح.

(الشيخ خليفة بن حمد آل ثاني - الشيخ أحمد بن علي ال ثاني - الشيخ حمد بن خليفة ال ثاني)



الشيخ حمد بن خليفة
ال ثاني

الشيخ خليفة بن حمد
آل ثاني

الشيخ أحمد بن علي
ال ثاني.

1995-2013م

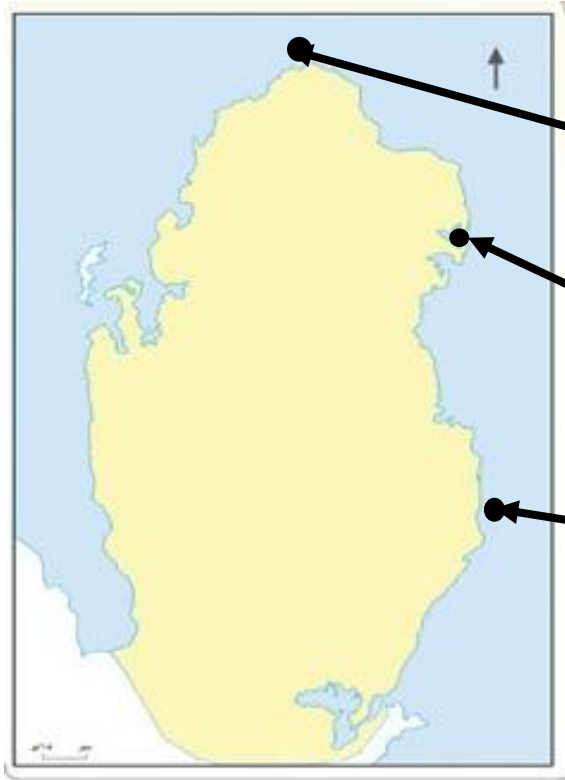
1972-1995م

1960-1972م



1- حدد على خريطة دولة قطر أمامك موانئ الصيد بكتابة الأسماء المشار إليها
بالأسهم في المربعات المخصصة لذلك.

(الوكرة - الرويس - الذخيرة)



الرويس

الذخيرة

الوكرة



ضع علامة (✓) أو علامة (x) أمام الجمل الآتية :-

- أ- أنشأ الشيخ علي بن عبدالله ال ثاني مستشفى الرميلة . (✓) .
ب- ولد الشيخ أحمد بن علي آل ثاني في الدوحة . (✓) .
ج- تم تصدير أول شحنة بترول من ميناء دخان . (x) .
د- انشئت اول مدرسة نظامية في عهد الشيخ أحمد بن علي ال ثاني . (x) .
هـ- يعد من الإنجازات السياسية للشيخ خليفة بن حمد انشاء جامعة قطر . (x) .
و- تولى الشيخ خليفة بن حمد ال ثاني الحكم عام 1972م . (✓) .

2- صنف إنجازات الشيخ خليفة بن حمد آل ثاني كما في الجدول التالي:

(انشاء مؤسسة قطر للبترول – إنشاء جامعة قطر – تأسيس مستشفى حمد)

الصحية	الاقتصادية	التعليمية
تأسيس مستشفى حمد	انشاء مؤسسة قطر للبترول	إنشاء جامعة قطر