


مدرسة الأندلس الخاصة للبنات

العام الأكاديمي 2026/2025



إختبار الوحدة (السادسة)

مادة الرياضيات

الصف الثالث الابتدائي

اسم الطالبة/.....

الصف والشعبة /.....

منتصف الفصل
الدراسي الثاني

مادة رياضيات

إختبار الوحدة
السادسة

العام الأكاديمي
2026/2025



الوحدة 6

الوحدة السادسة

الدروس المطلوبة

1-6 قراءة التمثيلات بالمصورات والتمثيلات بالأعمدة

الصفحات (10-5)

3-6 إنشاء تمثيل بالأعمدة

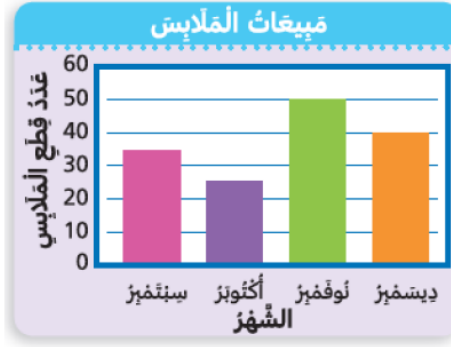
الصفحات (22 – 17)

وباقى الدروس إثرائية غير مطلوبة بالاختبار

السؤال الأول: الأسئلة الموضوعية:
اختر الإجابة الصحيحة:

1

من خلال التمثيل بالأعمدة في أي شهر بيع أكثر عدد من قطع الملابس؟



A سبتمبر

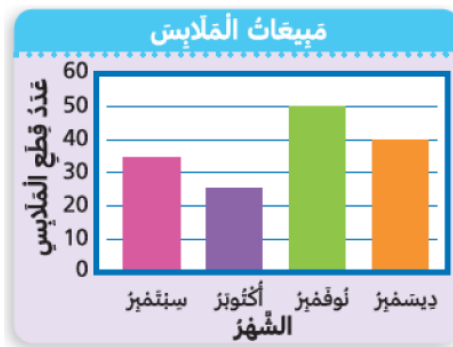
---/1

B ديسمبر

C نوفمبر

2

من خلال التمثيل بالأعمدة في أي شهر بيع أقل عدد من قطع الملابس؟



A سبتمبر

---/1



B أكتوبر



C نوفمبر

كم عدد الطلاب الذين يفضلون الشوفان بالعسل؟

3

أنواع خبوز الإفطار المفضلة

المقرمشات بالتوت	
الشوفان بالعسل	
الدرة بالسكّر	
القمح بالمكسرات	

كل  = 2 من الأصوات. كل  = 1 من الأصوات.

A 4

---/1





B 6


C 10

كم عدد الميداليات التي حصلت عليها قطر؟

4

الميداليات الذهبية التي تم الفوز بها

الكويت	
الأردن	
قطر	
العراق	

كل  = 1 من الميداليات الذهبية.

A 3

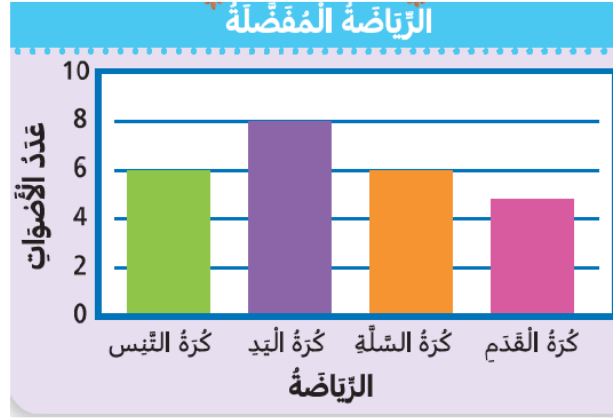
---/1

B 5

C 6

5

كم عدد الأشخاص الذين اختاروا كرة اليد؟



A 5


---/1

B 6

C 8

6

كم عدد المنازل في المدينة A؟



A 30

---/1

B 45

C 50

بكم يزيد عدد الطلاب الذين يفضلون وجبة البيتزا عن الطلاب الذين يفضلون وجبة السلطة؟

7

البيانات	الْوَجْبَةُ الْمُفَضَّلَةُ		
	الْوَجْبَةُ	الإِشَارَاتُ	الْعَدَدُ
دَجَاجٌ مَشْوِيُّ	//	2	
بَيْتْزَا	///	8	
سَلْطَةٌ	///	3	

A

5

---/1

B

8

C

11

ما المكان الذي يضاء فيه الأنوار مدة 50 ساعة بالضبط ؟

8

ساعات استِعمالِ الإِضاءةِ في مَزَكِرِ رياضيِّ
عَدَدُ السَّاعَاتِ الَّتِي تَكُونُ الأَنْوَارُ فِيهَا مُضاءَةً في الأُسْبُوعِ

غُرْفَةُ التَّمْرِينِ	
غُرْفَةُ تَبْدِيلِ المَلَابِسِ	
قَاعَةُ السَّبَاحَةِ	
مَلْعَبُ التَّنِيسِ	

كُلُّ  = 10 ساعات. كُلُّ  = 5 ساعات.

A

غرفة التمرين

---/1

B

غرفة تبديل الملابس

C

ملعب التنس

الأسئلة المقالية:

السؤال الأول

من خلال جدول التمثيل بالمصورات أجب عما يلي :

عدّد المنازل الّتي بُنيت في عامٍ واحدٍ	
المدينة A	
المدينة B	
المدينة C	
المدينة D	
المدينة E	
المدينة F	

كُلُّ  = 10 منازل. كُلُّ  = 5 منازل.

(A) كم عدد المنازل التي بنيت في المدينة C؟

الإجابة:

(B) أي من المدن لديها أكبر عدد من المنازل؟

الإجابة:

(C) كم عدد المنازل التي بنيت في المدينة A؟



الإجابة:

(D) بكم تزيد عدد المنازل في المدينة D عن عدد المنازل في المدينة F؟

الإجابة:

السؤال الثاني

من خلال جدول التمثيل بالمصورات أجب عما يلي :

أنواع حبوب الإفطار المُفضَّلة	
المُقْرَمَشَاتُ بالتوت	
الشُوفَانُ بالعسل	
الذرة بالسُكَّرِ	
القَمْحُ بالمُكْسَرَاتِ	
كُلُّ  = 2 مِنَ الْأَصْوَاتِ. كُلُّ  = 1 مِنَ الْأَصْوَاتِ.	

(A) ما عدد الطلاب الذين يفضلون حبوب المقرمشات بالتوت؟

.....

(B) ما عدد الطلاب الذين يفضلون حبوب القمح بالمكسرات؟

.....

(C) بكم يزيد عدد الطلاب الذين يفضلون حبوب الذرة بالسكّر عن الطلاب الذين يفضلون حبوب الشوفان بالعسل؟

.....

السؤال الثالث

أكمل التمثيل بالأعمدة لعرض البيانات .

A.

عدّد الأشخاص الذين اشتركوا في النادي

الصف	الإشارات	عدّد الأشخاص
الشطرنج	III /	6
الكاراته	III III	10
الرسم	III //	...7.
الكتابة	III IIII	...9.

عدّد الأشخاص الذين اشتركوا في النادي



B.

سجّل القراءة اليومي

اسم الطالب	عدّد الصفحات المقروءة
يوسف	13
عمر	10
سعيد	10
فهد	6

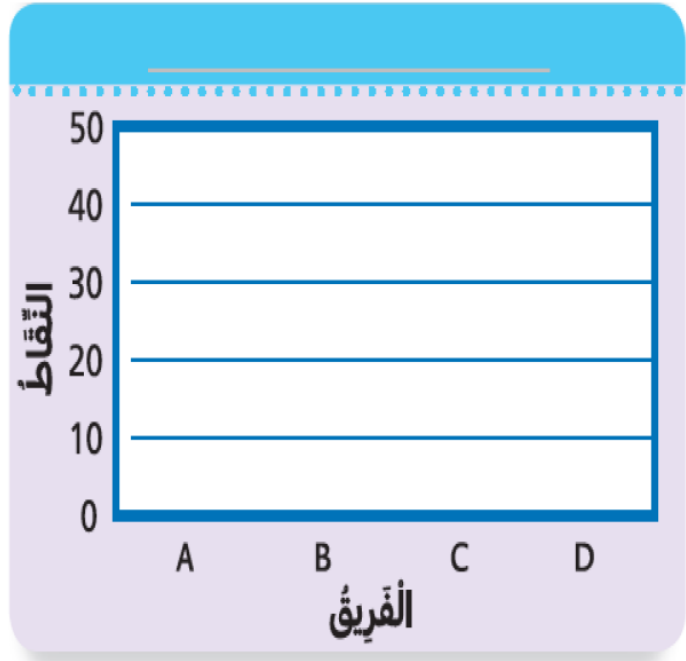
سجّل القراءة اليومي



السؤال الرابع

أكمل التمثيل بالأعمدة لعرض البيانات .

نتائج التّوْم الرياضيّ	
الفريق	النّقاط
A	45
B	30
C	25
D	40



أجب عما يلي:

(A) ما هو الفريق الذي حصد أكبر عدد من النقاط؟

.....

(B) ما هو الفريق الذي حصد على أقل عدد من النقاط؟

.....

انتهت الاسئلة

بالتوفيق للجميع