

نماذج الإجابة اختبارات الأعوام الماضية جميع المناطق التعليمية

اجتماعيات

مدرستي
الكويتية



مدرستي

الكويتية

حمل التطبيق



مدرستي معكم خطوة بخطوة للنجاح والتفوق



مدرستي

الكويتية

حمل التطبيق



مدرستي



الكويتية



اضغط هنا



وزارة التربية
الإدارة العامة لمنطقة الأحمدى التعليمية



نموذج إجابة امتحان الفترة الدراسية الثانية

مادة: الاجتماعيات

الصف: السابع

العام الدراسي ٢٠٢٢ - ٢٠٢٣



أجب عن جميع الأسئلة

السؤال الأول : (موضوعي) يتكون من (أ - ب - ج) : (لكل نقطة درجة = ١٥ درجة)

(أ) أكمل العبارات التالية بما يناسبها مما درست :

- ١- القارة التي يتوزع بها ٧٠ % من سكان الوطن العربي اسمها الأفريقية ص ٩٩
- ٢- أقل دولة في الوطن العربي من حيث عدد السكان اسمها جزر القمر ص ١٠٠
- ٣- تبلغ نسبة المساحة المزروعة في الوطن العربي حوالي ٥٦ % ص ١١٦
- ٤- يقصد بالغاز المصاحب للنفط الخام أو يوجد منفرداً الغاز الطبيعي ص ١٢٥
- ٥- العام الذي أنشئ فيه الصندوق الكويتي للتنمية الاقتصادية العربية ١٩٦١ م ص ١٧٩
- ٦- الشعار المقابل يمثل منظمة خليجية تسمى مجلس التعاون لدول الخليج العربية ص ١٨١



(ب) صح ما تحته خط في العبارات التالية بكتابة الإجابة الصحيحة ما بين الأقواس :

- ١- تشكل نسبة القطاع الزراعي من الاقتصاد العربي حوالي ٣٠ % . (٥٠ %) ص ١١٠
- ٢- تنفرد اليمن بزراعة محصول القطن . (البن) ص ١١٤
- ٣- الدولة العربية الأولى في إنتاج الأسماك هي المغرب . (مصر) ص ١٢٣
- ٤- يبلغ عدد الدول المؤسسة لجامعة الدول العربية ٥ دول . (٦ دول) ص ١٧٨
- ٥- أنشئ صندوق أبوظبي للتنمية في عام ١٩٧٤ م . (١٩٧١ م) ص ١٧٩

(ج) اكتب المفاهيم أو المصطلحات الدالة على العبارات التالية :

المفهوم	العبرة
الغلات النقدية	الغلات التي تدخل في الصناعة وتزرع بغرض التجارة والحصول على نقد. ص ١١٣
التجارة البينية	التبادل التجاري بين الدول العربية . ص ١٥٢
التصحّر	زحف رمال الصحراء على المناطق الجافة وشبه الجافة . ص ١٦٢
التنمية	التطور والتطوير وهي عملية تتطلب التخطيط والمشاركة من الجميع . ص ١٧٢



السؤال الثاني : (موضوعي) يتكون من (أ - ب - ج) :

(لكل نقطة درجة = ١٥ درجة)

(أ) ضع خطأ تحت الخيار الصحيح من بين الخيارات التي تلي كل عبارة :

١- الدائرة البيانية  تمثل نسبة :

أ- احتياط النفط الخام **ب - إنتاج النفط الخام** ج - احتياط الغاز الطبيعي د - إنتاج الغاز الطبيعي ص ١٢٧

٢- المدينة العربية التي تأسست فيها منظمة الأوبك :

أ - أبو ظبي ب - الرياض **ج - بغداد** د - الكويت ص ١٣٤

٣- عملية تركيب وجمع المواد المصنعة على اختلاف مصادرها كي نحصل على سلع متنوعة :

أ- **الصناعات التجميعية** ب - الصناعات الحرفية ج - الصناعات التحويلية د - الصناعات التعدينية ص ١٤٣

٤- الأسواق التي تحتل المكانة الأولى بالنسبة لتجارة الصادرات العربية :

أ- اليابان ب - العربية **ج - الأوروبية** د - الأمريكية ص ١٥١

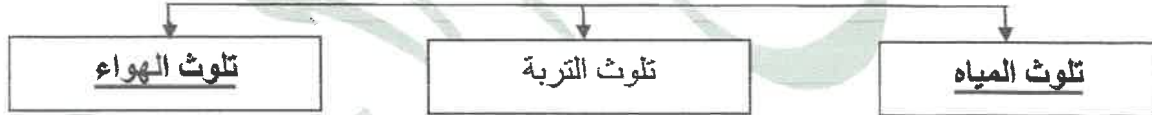
٥- استضافت الكويت المؤتمر الدولي الأول لماتحي سوريا في عهد الشيخ :

أ- عبدالله السالم الصباح ب - صباح السالم الصباح ج - جابر الأحمد الصباح د- **صباح الأحمد الصباح** ص ١٨٨

(ب) أكمل المخططات السهمية التالية :


ص ١٦٧

١- أنواع التلوث البيئي



ص ١٠٣

٢- تقسم مناطق الوطن العربي من حيث الكثافة



(ج) صنف الصناعات التالية حسب مكانها المناسب في الجدول التالي :

(الصناعات الغذائية - الفحم - المنسوجات - المعادن - الخشب والورق)

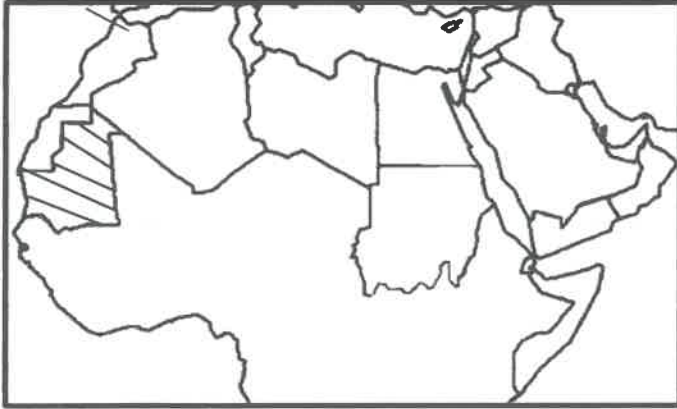
الصناعات التحويلية	الصناعات الاستخراجية
<ul style="list-style-type: none"> - المنسوجات - الخشب والورق - الصناعات الغذائية 	<ul style="list-style-type: none"> - الفحم - المعادن
ص ١٤٢	ص ١٤١



(لكل نقطة درجة = ١٥ درجة)

السؤال الثالث : (مقال) يتكون من (أ - ب - ج) :

(أ) لاحظ خريطة الوطن العربي الصماء ثم أجب عن الأسئلة التالية :



١- ظلل على الخريطة الدولة العربية الأولى في إنتاج الحديد ص ١٣٣

٢- اذكر نسبة إنتاج الوطن العربي من معدن الفوسفات بالنسبة للعالم .

- ٢٥٪ ص ١٣٢

٣- حول نسبة إنتاج الوطن العربي من معدن الفوسفات بالنسبة للعالم إلى دائرة بيانية



(ب) فرق بين كل مما يلي من حيث التعريف :

الموارد البشرية ص ١٠٩	الموارد الطبيعية ص ١٠٩
- ترتبط بالسكان من حيث أعدادهم وتوزيعهم ومناسبة أعدادهم لمساحة الأرض التي يستغلونها.	- الثروات التي منحها الله لإقليم من دون أن يكون للإنسان أي دور في وجودها مثل الثروات المعدنية والغابات والمراعي والموارد المائية وموقع الإقليم .
الطاقة ص ١٢٥	النفط ص ١٢٥
- قوى محركة للآلات وعنصر مهم للتقدم والتطور الاقتصادي في جميع المجالات .	- بقايا عضوية على هيئة نباتات وحيوانات دقيقة ترسبت في عصور قديمة وانطمرت تحت رواسب سمكية وتحولت بالضغط والحرارة إلى صورتها الحالية .
أوباك ص ١٣٥	أوبك ص ١٣٤
- منظمة الأقطار العربية المصدرة للنفط.	- منظمة عالمية تعتمد على صادراتها النفطية اعتماداً كبيراً لتحقيق مدخولها . (أو منظمة الدول المصدرة للنفط)

(ج) علل لما يلي :

- ١- تحتل الأغنام العربية مكاناً مهماً ضمن الثروة الرعوية. (يكتفى بثلاث نقاط) ص ١١٨
 - الأكثر انتشاراً في المراعي العربية .
 - لأهمية منتجاتها بالنسبة للسكان .
 - أكثر الحيوانات المستأنسة والملائمة لمراعي الوطن العربي وذلك لتحملها الجفاف والانتقال .
 - لأنها مصدر أساسي من مصادر الثروة القومية.

- ٢- تواجه التنمية البشرية في الوطن العربي عدة مشكلات . (يكتفى بثلاث نقاط) ص ١٧٥
 - ضعف الاستفادة من القدرات البشرية في المنطقة العربية
 - نقص ومحدودية مشاركة المرأة في المنظمات السياسية .
 - الاختلاف الكبير في مستويات المعيشة بين دولة وأخرى وفي داخل الدولة الواحدة .

السؤال الرابع: (مقال) يتكون من (أ - ب - ج) :

(لكل نقطة درجة = ١٥ درجة)

ص ١٤٧

(أ) أقرأ الفقرة التالية ثم أجب عما يليها من أسئلة :

" يعتمد التبادل التجاري ودرجة نشاطه على مدى توافر وسهولة سبل النقل ووسائله الثلاث وهي طرق النقل البرية وطرق النقل المائية النهرية والبحرية لما يتمتع فيه الوطن العربي من سواحل ومنافذ بحرية طويلة ساعدت على إنشاء العديد من الموانئ التجارية والنقطية ، وأيضاً طرق النقل الجوي " .

١- ضع عنواناً مناسباً للفقرة السابقة . التبادل التجاري بين الدول العربية أو كل ما يراه المصحح مناسباً .

٢- عرف ما تحته خط : طرق النقل المائي بواسطة الأنهار وطرق النقل المائي الخارجي في البحار والمحيطات . ص ١٤٩

٣- علل / إنشاء العديد من الموانئ التجارية والنقطية في الوطن العربي . ص ١٥٠

- يتمتع الوطن العربي بسواحل ومنافذ بحرية طويلة .

٤- اذكر أمثلة لطرق النقل البرية في الوطن العربي . (يكتفى بنقطتين) ص ١٤٨

- السكك الحديدية (القطارات) - السيارات - الشاحنات

(ب) قارن بين كل من حسب المطلوب منك في الجدول التالي :

أوجه المقارنة	إنتاج النفط الخام	إنتاج الغاز الطبيعي
نسبة الجناح الآسيوي	٨٨% ص ١٢٨	٦٦,٥% ص ١٢٨
الدولة العربية الأولى في الإنتاج	السعودية ص ١٢٩	قطر ص ١٢٩

(ج) اكتب فيما يلي مما درست :

١- مقومات الصناعة البشرية في الوطن العربي . (يكتفى بنقطتين) ص ١٣٩

- رؤوس الأموال - الأيدي العاملة - السوق - المهارات والخبرة

٢- أهداف الصناعات البتروكيمياوية . (يكتفى بنقطتين) ص ١٤٥

- تنويع مصادر الدخل للدولة المنتجة - تطوير الصناعات البتروكيميائية إلى تقنيات متخصصة وعالية - توفير المواد الأولية للصناعات التحويلية لتأمين حاجات القطاعات الاستهلاكية (خاصة مجال البناء) .

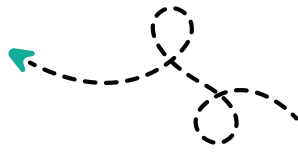
٣- أسباب التصحر . ص ١٦٢

- بشرية - طبيعية

(انتهت الإجابة)



مدرستي معكم خطوة بخطوة للنجاح والتفوق



مدرستي

الكويتية

حمل التطبيق



مدرستي



الكويتية



اضغط هنا



وزارة التربية
الإدارة العامة لمنطقة الجواء التعليمية لمقرر الكويت والوطن العربي
التوجيه الفني للاجتماعيات
العام الدراسي : ٢٠٢٢/٢٠٢٣ م
الزمن : ساعة و ٤٥ دقيقة
عدد الأوراق : ٦

نموذج الإجابة

أجب عن جميع الأسئلة

السؤال الأول (موضوعي) : يتكون من (أ- ب- ج- د- هـ- و) :

(أ) أكمل العبارات التالية بما يناسبها فيما درست : (٦ × ١ = ٦)

- ١- أكبر الدول العربية من حيث المساحة في الجناح الآسيوي تسمى السعودية ص ١٠٠
- ٢- العام الذي تم فيه إنشاء الصندوق الكويتي للتنمية الاقتصادية العربية ١٩٦١م ص ١٧٩
- ٣- الدولة العربية التي تحتل المركز الثالث في إنتاج النفط تسمى الكويت ص ١٢٩
- ٤- القطاع الذي يمثل المرتبة الأولى من اقتصاد الدول العربية غير النفطية يسمى القطاع الزراعي ص ١١٠
- ٥- زحف رمال الصحراء على المناطق الجافة وشبه الجافة تسمى التصحّر ص ١٦٢
- ٦- الغلات التي تزرع بغرض التجارة والحصول على النقد اسمها الغلات النقدية ص ١١٣

(ب) صنف مقومات الصناعة الطبيعية التالية حسب مكانها المناسب في الجدول الذي يليها : (٥ × ١ = ٥)

ص ١٣٩

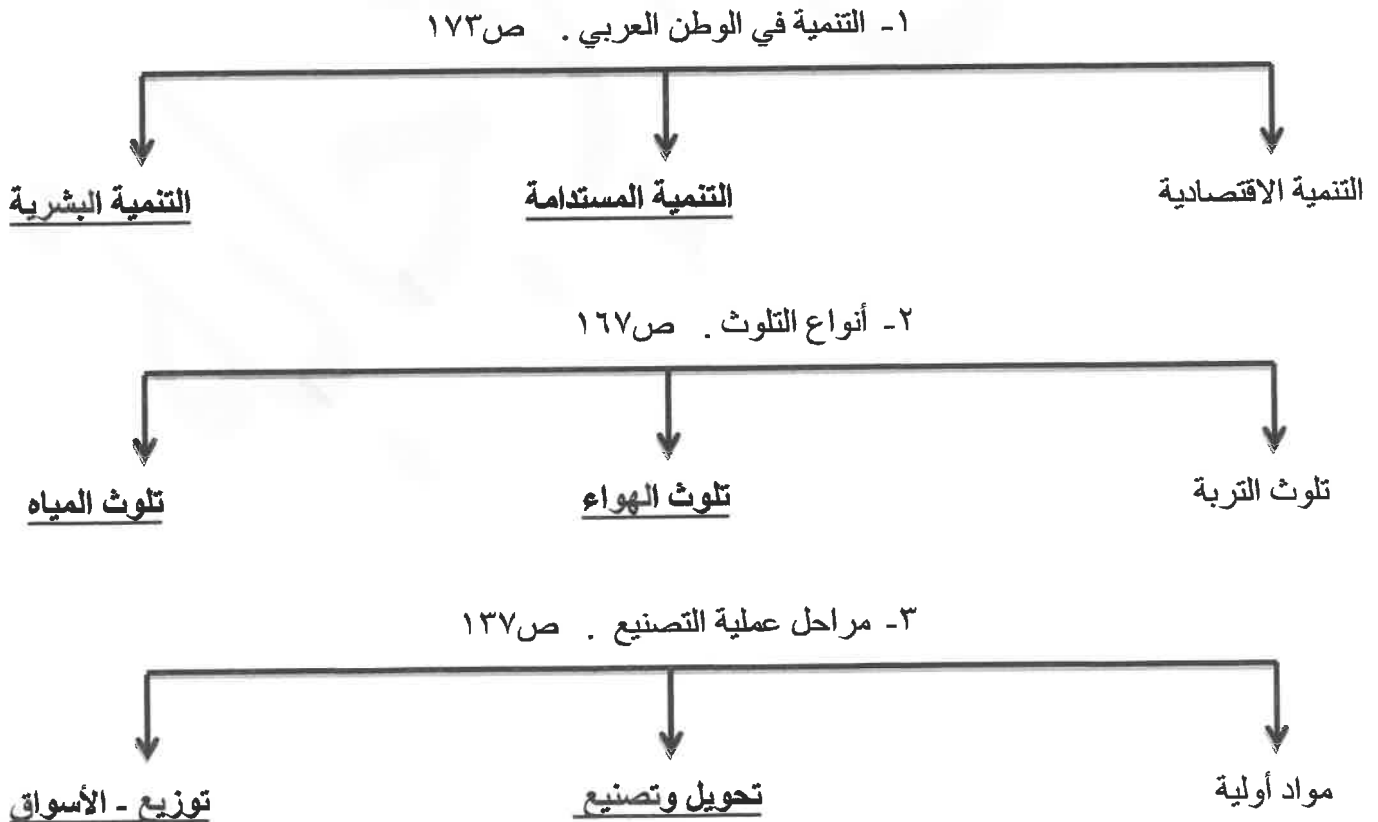
(غاز طبيعي - معدنية - حيوانية - بترول - نباتية)

الطاقة	المواد الخام
غاز طبيعي - بترول	معدنية - حيوانية - نباتية

ج) ضع خطاً تحت الخيار الصحيح من بين الخيارات التي تلي كل عبارة : (٦=٦×١)

- ١- العام الذي استضافة فيه دولة الكويت أكبر وأهم مؤتمر قمة عربية اقتصادية تنموية : ص ١٨٦
(٢٠٠٦م - ٢٠٠٧م - ٢٠٠٨م - ٢٠٠٩م)
- ٢- تبلغ نسبة سكان الوطن العربي في القارة الآسيوية : ص ٩٩
(١٠% - ٢٠% - ٣٠% - ٤٠%)
- ٣- الدولة العربية التي تحتل المركز الأول في إنتاج البن : ص ١١٤
(السعودية - اليمن - مصر - الصومال)
- ٤- الدولة العربية الأولى في إنتاج الغاز الطبيعي : ص ١٢٩
(السعودية - البحرين - الجزائر - قطر)
- ٥- العام الذي تأسست فيه منظمة الدول المصدرة للنفط أوبك : ص ١٣٤
(١٩٦٠م - ١٩٦١م - ١٩٦٢م - ١٩٦٣م)
- ٦- الصناعات الأولى في العالم وتستخدم مواد أولية محلية تسمى الصناعات : ص ١٤٣
(التعدين - الحرفية - التجمعية - البتروكيمياوية)

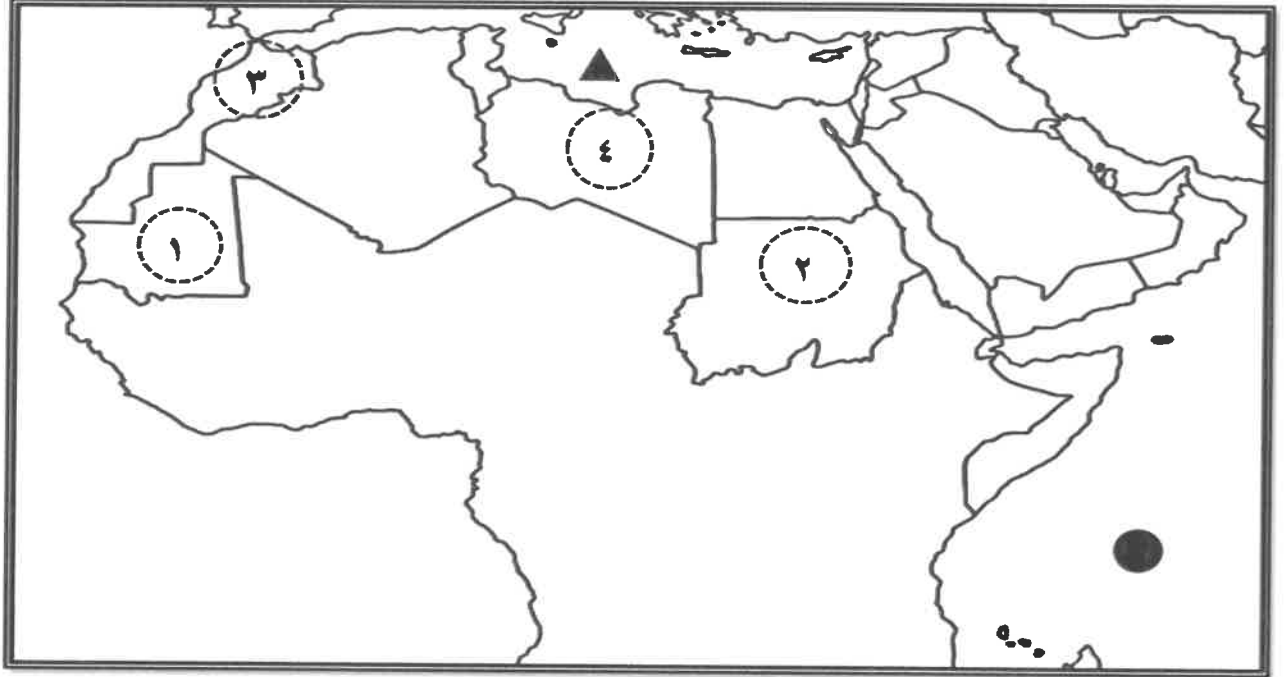
د) أكمل المخططات السهمية التالية : (٦=٦×١)



هـ (اكتب المفاهيم أو المصطلحات الدالة على العبارات التالية : (٣ = ٣ × ١)

م	المفهوم	العبرة
١	التنمية	التطور والتطوير وهي عملية تتطلب التخطيط والمشاركة من الجميع . ص ١٧٢
٢	التضامن العربي	العمل على توثيق الصلات بين الدول والشعوب العربية وحماية مصالحها السياسية والاقتصادية والثقافية. ص ١٧٧
٣	الطاقة	قوى محركة للآلات ، وعنصر مهم للتقدم والتطور الاقتصادي في جميع المجالات . ص ١٢٥

و (لاحظ خريطة الوطن العربي الصماء ثم نفذ عليها المطلوب: (٤ = ٤ × ١)



أ) اكتب الرقم الدال على العبارات التالية :

- الدولة العربية التي تحتل المرتبة الأولى في إنتاج معدن الحديد يمثلها على الخريطة الرقم (١) ص ١٣٣
- الدولة العربية التي تحتل المرتبة الأولى في إنتاج معدن الفوسفات يمثلها على الخريطة الرقم (٣) ص ١٣٣

ب) حدد باستخدام الرموز التالية :

- المحيط الهندي باستخدام الرمز ● ص ١٣٣
- البحر المتوسط باستخدام الرمز ▲ ص ١٣٣

ثانياً: الأسئلة المقالية :

السؤال الثاني : يتكون من (أ - ب - ج) :

أ) عرف المفاهيم والمصطلحات التالية : ($3=3 \times 1$)

- ١- النفط : هو بقايا عضوية على هيئة نباتات وحيوانات دقيقة ترسبت في عصور قديمة وانطمرت تحت رواسب سميكة تحولت بالضغط والحرارة إلى صورتها الحالية . ص ١٢٥
- ٢- التلوث : هو الضرر الذي يلحق بالتربة والهواء والماء ويصيب التلوث عناصر البيئة من عدة مصادر . ص ١٦٦
- ٣- التجارة البينية : هي التبادل التجاري بين الدول العربية . ص ١٥٢

ب) علل لما يأتي : ($5=5 \times 1$)

- ١- تحتل الأغنام العربية مكاناً مهماً ضمن الثروة الرعوية . درجتان يكتفي بنقطتين ص ١١٨
 - الأكثر انتشاراً في المراعي العربية . - لأهمية منتجاتها بالنسبة للسكان .
 - أكثر الحيوانات المستأنسة والملائمة لمراعي الوطن العربي وذلك لتحملها الجفاف والانتقال .
 - لأنها مصدر أساسي من مصادر الثروة القومية .
- ٢- تختلف أنواع المنتجات الزراعية من دولة عربية إلى أخرى . درجة ويكتفي بنقطة ص ١١٠
 - بسبب اختلاف المناخ والتربة - مدى توافر المياه في هذه الدول .
- ٣- تدني وفرة المياه في الوطن العربي . درجتان ويكتفي بنقطتين ص ١٦٤
 - النمو السريع للسكان الذي يشكل ضغطاً متزايداً على المياه المتوفرة لكل فرد .
 - ٥٠٪ من الموارد المائية في العالم العربي تأتي من خارج حدوده وتتحكم فيها دول لمنع في غياب تشريعات دولية.
 - الطرق التقليدية المستخدمة في استغلال المياه في معظم مناطق العالم العربي (استخدام الري بالغمر) .
 - الشبكات المؤهلة لنقل المياه شبكات قديمة . - افتقار الدول العربية إلى برامج لإدارة المياه .
- ج) فرق بين كل من : ($2=2 \times 1$) ص ١٠٩

الموارد البشرية	الموارد الطبيعية
هي التي ترتبط بالسكان من حيث أعدادهم وتوزيعهم ومناسبة أعدادهم لمساحة الأرض التي يستغلونها . (درجة)	الثروات التي منحها الله لإقليم من دون أن يكون للإنسان أي دور في وجودها . مثل الثروات المعدنية والغابات والمراعي والموارد المائية وموقع الإقليم . (درجة)

السؤال الثالث : يتكون من (أ- ب) :

(أ) قارن بين كل من الصناعات الاستخراجية والصناعات التحويلية حسب الجدول التالي: (١×٤= ٤)

ص ١٤١ و ص ١٤٢

أوجه المقارنة	الصناعات الاستخراجية	الصناعات التحويلية
التعريف	استخراج مصادر الطاقة من باطن الأرض وإعدادها لتصبح جاهزة للتصنيع (درجة ويكتفى بنقطة)	وهي تقوم على تحويل المواد الأولية من معدنية نباتية وحيوانية إلى سلع استهلاكية صالحة للاستعمال . (درجة ويكتفى بنقطة)
أمثلة عليها	النفط – الغاز – الفحم – خامات المعادن والأملاح . (درجة ويكتفى بنقطة)	الصناعات الغذائية – صناعات المنسوجات صناعة الخشب والورق – صناعات مشتقات النفط المكررة – الصناعات البتروكيماوية – الصناعات الإنشائية . (درجة ويكتفى بنقطة)

(ب) اكتب فيما يلي : (١×٦= ٦)

- (١) أهداف القمة الاقتصادية التنموية العربية . (درجتان يكتفى بنقطتين) ١٨٦
 - إنشاء بنك عربي لتمويل شتى المشاريع التنموية للتقليل من معدلات الفقر .
 - القضاء على البطالة والفقر بتوفير فرص العمل .
 - الاستثمار الاقتصادي بين الدول العربية وتقوية التبادل التجاري
 - الاعتناء بالعنصر البشري والتنمية المستدامة .
- (٢) المشكلات التي تواجه التنمية البشرية . (درجتان يكتفى بنقطتين) ص ١٧٥
 - ضعف الاستفادة من القدرات البشرية في المنطقة العربية .
 - مشكلة الأمية - نقص ومحدودية مشاركة المرأة في المنظمات السياسية .
 - الاختلاف الكبير في المستويات المعيشية بين دولة وأخرى ، وفي داخل الدولة الواحدة .
- (٣) العقبات التي تواجه الإنتاج الزراعي في الوطن العربي . (درجتان يكتفى بنقطتين) ص ١٦١
 - عدم استغلال الأراضي القابلة للزراعة لندرة مياه الري أو تذبذب الأمطار أو قلة الأيدي العاملة .
 - اتباع طرق زراعية تقليدية في معظم أجزاء الوطن العربي .
 - زحف الرمال (التصحر) وانجراف التربة .
 - تلوث التربة نتيجة للإسراف في استخدام المبيدات الحشرية وارتفاع نسبة الملوحة في التربة .
 - الرعي الجائر .



السؤال الرابع : يتكون من (أ- ب) :

(أ) اقرأ الفقرة التالية ثم أجب عما يليها من الأسئلة : (١ × ٤ = ٤) ص ١٨٨

حظيت المبادرة التي أعلنها الأمير الراحل الشيخ صباح الأحمد الجابر الصباح رحمه الله لاستضافة الكويت للمؤتمر الدولي الأول لمانحي سورية في نهاية يناير ٢٠١٣م بترحيب عربي ودولي كبيرين نظرا لأهمية الكبيرة في هذا الوقت .

(١) اذكر اسم المؤتمر الوارد في الفقرة .

المؤتمر الدولي الأول لمانحي سورية .

(٢) من هو صاحب المبادرة لعقد المؤتمر .

الشيخ صباح الأحمد الجابر الصباح رحمه الله .

(٣) في أي دولة عربية عقد المؤتمر .

دولة الكويت

(٤) اذكر هدف من أهداف المؤتمر .

لدعم الوضع الإنساني في سوريا الذي يعاني من ظروف معيشية بالغة السوء والتعقيد .

(ب) عدد ما يلي : (١ × ٦ = ٦)

(١) أنواع طرق النقل في الوطن العربي . (درجتان يكتفى بنقطتين) ص ١٤٨ ص ١٤٩

- طرق النقل البرية .

- طرق النقل المائية (النقل النهري – النقل البحري) .

- طرق النقل الجوي .

(٢) أهداف الصناعات البتروكيميائية . (درجتان يكتفى بنقطتين) ص ١٤٥

- تنويع مصادر الدخل للدول المنتجة .

- توفير المواد الأولية للصناعات التحويلية لتأمين حاجات القطاعات الاستهلاكية (خاصة مجال البناء) .

- تطوير الصناعات البتروكيميائية إلى تقنيات متخصصة وعالية .

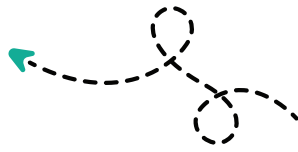
(٣) أنواع الهجرة . (درجتان يكتفى بنقطتين) ص ١٠٦

- هجرة داخلية من القرى إلى المدن .

- هجرة خارجية من دولة إلى دولة أخرى .



مدرستي معكم خطوة بخطوة للنجاح والتفوق




مدرستي

الكويتية

حمل التطبيق



مدرستي



الكويتية



اضغط هنا

العام الدراسي : ٢٠٢٢/٢٠٢٣ م
الزمن : ساعة ونصف
عدد الأوراق: (٤)

امتحان نهاية الفترة الدراسية الثانية
المادة : الاجتماعيات
مقرر الكويت والوطن العربي
الصف السابع المتوسط

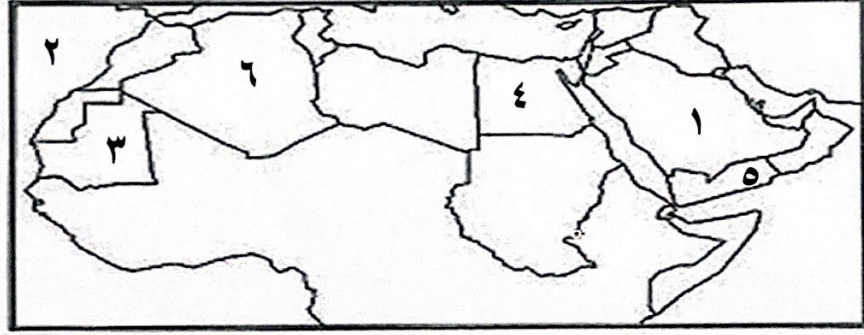
وزارة التربية
الإدارة العامة للتعليم الخاص
التوجيه الفني للاجتماعيات

السؤال الاول ويتكون من (أ - ب - ج)

أ - اكمل العبارات التالية بما يناسبها مما درست : (١×٥=٥ درجات)

- ١- أكبر دولة عربية من حيث المساحة تسمى الجزائر ص ١٠٠
- ٢- الدولة التي يوجد بها مقر منظمة اوابك تسمى الكويت ص ١٣٥
- ٣- عمليتا التصدير والاستيراد بين الدول تسمى التبادل التجاري ص ١٥١
- ٤ - الضرر الذي يلحق بالتربة والهواء والماء يسمى التلوث ص ١٦٦
- ٥ - غاز مصاحب للنفط الخام أو يوجد منفردا تتم إيسالته لاستخدامات عديدة يسمى الغاز الطبيعي ص ١٢٥

ب- لاحظ خريطة شبه الجزيرة العربية ثم اكتب مدلولات الارقام التالية (١×٥=٥ درجات)



- * المحيط الأطلسي يمثل على الخريطة الرقم (٢) ص ١٣٣
- * الدول العربية التي تحتل المرتبة الأولى في إنتاج البن يمثلها الرقم (٥) ص ١١٤
- * الدولة العربية الأولى في إنتاج معدن الحديد يمثلها على الخريطة الرقم (٣) ص ١٣٢
- * أكثر الدول العربية سكانا يمثلها على الخريطة الرقم (٤) ص ١٠٠
- * الدولة العربية التي تحتل المركز الأول في إنتاج التمور يمثلها على الخريطة الرقم (١) ص ١١٤

ج - صنف الصناعات التالية في مكانها حسب الجدول التالي : (١×٥=٥ درجات)

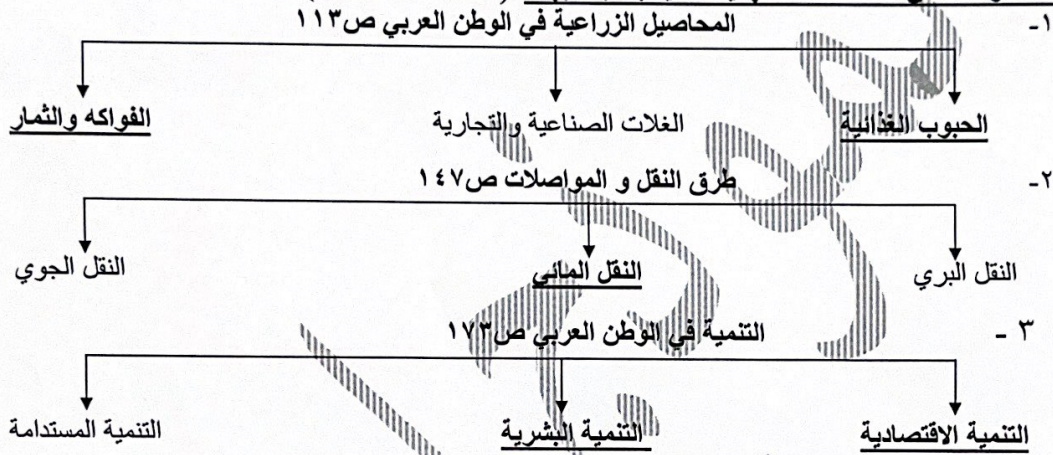
(تجميع السيارات - المنسوجات - استخراج النفط - الغذائية - سبائك وصفائح معدنية)

الصناعات الإستخراجية	الصناعات التعدينية	صناعات تجميعية	صناعات تحويلية
استخراج النفط ص ١٤١	سبائك وصفائح معدنية ص ١٤١	تجميع السيارات ص ١٤٣	المنسوجات الغذائية ص ١٤٢

السؤال الثاني ويتكون من (أ - ب - ج)
أ- ظلل الحرف (ص) للعبارة الصحيحة أو الحرف(خ) للعبارة الخاطئة فيما يلي: (١ × ٥ = ٥ درجات)

م	العبارة	ص	خ
١	يقصد بالتجارة البينية التبادل التجاري بين الدول العربية . ص ١٥٢		
٢	أنشأ الصندوق الكويتي للتنمية الاقتصادية العربية عام ١٩٦٠م . ص ١٧٩		
٣	تتصدر المغرب المرتبة الأولى في إنتاج الفوسفات . ص ١٣٢		
٤	يبلغ عدد دول الوطن العربي ٢٣ دولة . ص ٩٩		
٥	صاحب مبادرة عقد القمة العربية الاقتصادية والتنمية الاجتماعية عام ٢٠٠٩م هو الشيخ جابر الأحمد ص ١٨٦		

ب- املأ الفراغات في المخططات السهمية التالية بما يناسبها : (١ × ٥ = ٥ درجات)



ج- ضع خط تحت الخيار الصحيح من بين الخيارات التي تلي كل عبارة : (١ × ٥ = ٥ درجات)

١- بقايا عضوية على هيئة نباتات وحيوانات ترسبت في عصور قديمة وتحولت بالضغط والحرارة لصورتها الحالية : ص ١٢٥

أ- النفط ب- الغاز الطبيعي ج- التربة د- المعادن

٢- الدولة العربية التي تحتل المرتبة الأولى في إنتاج النحاس : ص ١٣٢

أ- السودان ب- المغرب ج- لبنان د- موريتانيا

٣- تبلغ نسبة المساحة المزروعة في الوطن العربي من المساحة القابلة للزراعة : ص ١١٦

أ - ٥٤% ب- ٥٥% ج- ٥٦% د- ٥٧%

٤- الغاز الناتج عن عوادم السيارات ويؤدي إلى ارتفاع متزايد في حرارة الأرض : ص ١٦٩

أ- النيتروجين ب- أكسيد الكربون ج- الأكسجين د- الهليوم

٥- الدولة العربية التي تحتل المرتبة الأولى في إنتاج الموز: ص ١١٤

أ- الجزائر ب- الصومال ج- الامارات د- تونس

السؤال الثالث ويتكون من (أ - ب - ج)
أ- عرف المفاهيم والمصطلحات التالية: (١ × ٥ = ٥ درجات)

- ١- التنمية : تعني التطور والتطوير، وهي عملية تتطلب التخطيط والمشاركة من الجميع . ص ١٧٢
- ٢- الطاقة: قوى محركه للآلات ، وعنصر مهم للتقدم والتطور الاقتصادي في جميع المجالات . ص ١٢٥
- ٣- التوازن البيئي : بقاء عناصر الطبيعة في حالة توازن لتؤدي وظائفها على أكمل وجه. ص ١٧٠
- ٤- الهجرة الداخلية: هجرة السكان من القرى الى المدن . ص ١٠٦
- ٥- التضامن العربي : هو العمل على توثيق الصلات بين الدول والشعوب العربية ، وحماية مصالحها السياسية والاقتصادية والثقافية . ص ١٧٧

ب- علل لما يلي : (٣ × ٢ = ٦ درجات)

- ١- تحتل الأغنام العربية مكانا مهما ضمن الثروة الرعوية . ص ١١٨ ٣ درجات (يكتفي بثلاث نقاط)
* الأكثر انتشارا في المراعي العربية .
* أكثر الحيوانات المستأنسة ملائمة لمراعي الوطن العربي .
* لأهمية منتجاتها بالنسبة للسكان .
* لأنها مصدر أساسي من مصادر الثروة القومية
- ٢- تدني وفرة المياه في الوطن العربي . ص ١٦٤ ٣ درجات (يكتفي بثلاث نقاط)
• النمو السريع للسكان .
• ٥٠ % من الموارد المائية تأتي من خارج حدودها .
• الطرق التقليدية المستخدمة في استغلال المياه .
• الشبكات المؤهلة لنقل المياه شبكات قديمة .
• افتقار الدول العربية الى البرامج لإدارة المياه، كما أنها لا تستخدم الأدوات الاقتصادية اللازمة لترشيد الاستخدام المتزايد من المياه .

ج- فرق بين كل مما يلي : (١ × ٤ = ٤ درجات)

الموارد البشرية	الموارد الطبيعية
هي التي ترتبط بالسكان من حيث أعدادهم وتوزيعهم ومناسبة أعدادهم لمساحة الأرض التي يستغلونها . ص ١٠٩ (درجة واحدة)	الثروات التي منحها الله لإقليم من دون أن يكون للإنسان أي دور في وجودها . ص ١٠٩ (درجة واحدة)
زيادة غير طبيعية	زيادة طبيعية
هي الزيادة الناتجة عن الهجرة . ص ١٠٦ (درجة واحدة)	هي الفرق بين معدل المواليد ومعدل الوفيات . ص ١٠٦ (درجة واحدة)

٢- السؤال الرابع ويتكون من (أ - ب - ج)
أ- اقرأ العبارة التالية ثم اجب عما يليها من أسئلة :

("موقع الوطن العربي في المناطق الجافة وشبه الجافة يعرضه بشكل أساسي لمشكلة التصحر ")

- ١- عرف ما تحته خط (درجة واحدة) ص ١٦٢
زحف رمال الصحراء على المناطق الجافة وشبه الجافة .
- ٢- عدد أسباب التصحر ؟ (درجتان)
❖ أسباب بشرية
❖ أسباب طبيعية
- ٣- اذكر النتائج التي تحققت باعتماد الدول العربية لخطط استراتيجية لتكثيف العمل الزراعي؟ (درجتان) ص ١٦٣
(يكتفي بنقطتين)

- ❖ زيادة الإنتاج عن طريق الأساليب العلمية
- ❖ زيادة المساحات المزروعة
- ❖ إقامة مشروعات الري

ب- لاحظ الجدول التالي ثم اجب عما يلي :

الدولة	احتياط النفط الخام (مليار برميل)
الكويت	١٠١,٥
البحرين	٠,١
السعودية	٢٦٥,٨
الإمارات	٩٧,٨
العراق	١٤٥,٣

- ١- ضع عنوان مناسباً للجدول؟ ص ١٢٩ (درجة واحدة)
الطاقة والثروة المعدنية في الوطن العربي . (أي عنوان مناسب)
- ٢- أقل دولة عربية في احتياطي النفط الخام. ص ١٢٩ (درجة واحدة)
البحرين.
- ٣- رتب ثلاث دول عربية أولى في احتياطي النفط الخام من الأعلى الى الأقل. ص ١٢٩ (٣ درجات)
* السعودية .
* العراق .
* الكويت .

ج- اكتب فيما يلي مما درست :

- ١- أهداف الصناعات البتروكيميائية . ص ١٤٥ (يكتفي بنقطتين) (١ × ٢ = ٢ درجات)
* تنوع مصادر الدخل للدولة المنتجة .
* توفير المواد الأولية للصناعات التحويلية لتأمين حاجات القطاعات الاستهلاكية (الخاصة مجال البناء).
* تطوير الصناعات البتروكيميائية إلى تقنيات متخصصة وعالية .
- ٢- العقبات التي تواجه الإنتاج الزراعي في الوطن العربي . ص ١٦١ (يكتفي بثلاث نقاط) (١ × ٣ = ٣ درجات)
* عدم استغلال الأراضي القابلة للزراعة لندرة مياه الري أو تذبذب الأمطار أو قلة الأيدي العاملة .
* اتباع طرق الزراعة التقليدية في معظم أجزاء الوطن العربي .
* زحف الرمال (التصحر) زحف وانجراف التربة .
* تلوث التربة نتيجة للإسراف في استخدام المبيدات الحشرية وارتفاع نسبة الملوحة بالتربة .
* الرعي الجائر .

انتهت الأسئلة ،،



مدرستي معكم خطوة بخطوة للنجاح والتفوق



مدرستي

الكويتية

حمل التطبيق




مدرستي



الكويتية



اضغط هنا



منطقة العاصمة التعليمية

الاجابة النموذجية





وزارة التربية
الإدارة العامة لمنطقة العاصمة التعليمية
التوجيه الفني للاجتماعيات

إجابة امتحان نهاية الفترة الثانية
لمقرر دولة الكويت والوطن العربي
الصف السابع المتوسط

العام الدراسي: ٢٠٢٢ / ٢٠٢٣ م
الزمن ساعة وخمس وأربعون دقيقة
عدد الصفحات (٦)

لكل نقطة ١ درجة

السؤال الأول موضوعي ويتكون من (أ - ب) :

(أ) ظلل الحرف (أ) إذا كانت العبارة صحيحة والحرف (ب) إذا كانت العبارة خاطئة :

م	العبارة	(أ)	(ب)
١	الجزائر أكثر الدول العربية من حيث عدد السكان حسب إحصاء ٢٠١٤ م. ص		
٢	المساحة المزروعة في الوطن العربي تبلغ حوالي ٥٦٪ من المساحة القابلة للزراعة. ص ١١٦		
٣	العراق أولى دول الوطن العربي في إنتاج الماعز. ص ١١٨		
٤	يتمتع الوطن العربي بسواحل ومنافذ بحرية طويلة. ص ١٥٠		
٥	عُقد مؤتمر قمة الأرض عام ١٩٩٢ م في المكسيك. ص ١٦٧		

(ب) أكمل العبارات التالية بما يناسبها مما درست :

١- اختلاف عدد السكان وتفاوته بين الدول العربية يعود لعوامل طبيعية وعوامل بشرية. ص ١٠١

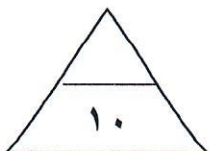


٢- الحاكم الذي عُقد في عهده أهم مؤتمر اقتصادي عربي في دولة الكويت وتمثله الصورة المقابلة يسمى صباح الأحمد الجابر الصباح ص ١٨٦

٣- التبادل التجاري بين الدول العربية يسمى التجارة البينية. ص ١٥٢

٤- العام الذي تأسس فيه الصندوق الكويتي للتنمية الاقتصادية العربية ١٩٦١ م. ص ١٧٩

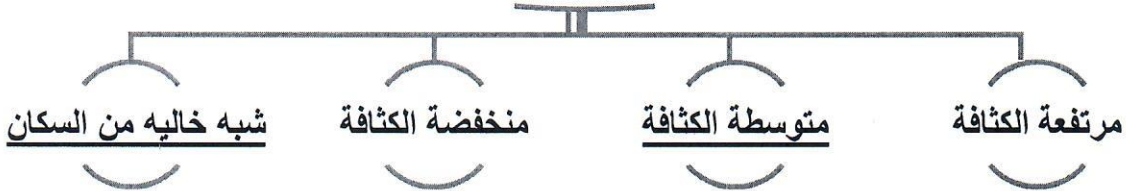
٥- الدولة العربية الأولى في إنتاج الغاز الطبيعي حسب إحصاء ٢٠١٤ م تسمى قطر. ص ١٢٩



السؤال الثاني موضوعي ويتكون من (أ - ب) : (١٠ درجات لكل سؤال درجة)

(أ) أكمل المخططات السهمية التالية:

١- تقسم مناطق الوطن العربي من حيث الكثافة ص ١٠٣



٢- طرق النقل والمواصلات ص ١٤٧

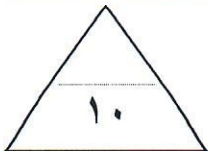


٣- مصادر التلوث البيئي ص ١٦٦



(ب) اكتب المفهوم أو المصطلح الدال على كل من العبارات التالية :

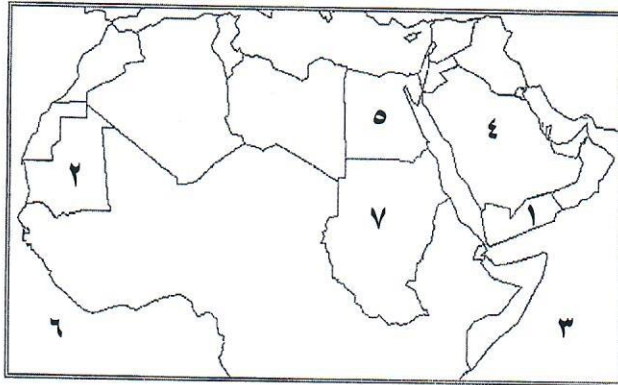
م	المفهوم أو المصطلح	العبارة
١	الموارد البشرية	ارتباط السكان من حيث أعدادهم وتوزيعهم ومناسبة أعدادهم لمساحة الأرض التي يستغلونها. ص ١٠٩
٢	الإحصاء الحيوي	تسجيل المواليد والوفيات وحالات الزواج والطلاق والحصول على بياناتها من واقع السجلات الرسمية. ص ٩٩
٣	التصحّر	زحف الرمال على المناطق الجافة وشبه الجافة. ص ١٦٢
٤	التضامن العربي	العمل على توثيق الصلات بين الدول والشعوب العربية وحماية مصالحها السياسية والاقتصادية والثقافية. ص ١٧٧



السؤال الثالث موضوعي ويتكون من (أ - ب) :

(أ) لاحظ خريطة الوطن العربي الصماء التي أمامك ثم استعن بمدلولات الأرقام التي عليها

لإكمال العبارات التالية :



- ١- الدولة العربية الأولى في إنتاج البن
يمثلها على الخريطة الرقم ١ ص ١١٤ .
- ٢- الدولة العربية الأولى في إنتاج الأسماك
يمثلها على الخريطة الرقم ٥ ص ١٢٣ .
- ٣- الدولة العربية الأولى في إنتاج معدن الحديد
يمثلها على الخريطة الرقم ٢ ص ١٣٢ .
- ٤- الدولة العربية الأولى في إنتاج النفط
يمثلها على الخريطة الرقم ٤ ص ١٢٩ .
- ٥- المحيط الهندي يمثل على الخريطة الرقم ٣ ص ١٣٣ .

(ب) ظلل الخيار الصحيح من بين الخيارات التي تلي كل عبارة :

١- الدولة العربية التي تحتل المركز الأول في إنتاج التمور : ص ١١٤

الكويت	السعودية	اليمن	عمان
--------	----------	-------	------

٢- العوامل التي تساعد على تحويل المادة الخام إلى سلع استهلاكية : ص ١٣٩

مقومات الصناعة	مقومات الطاقة	المقومات الطبيعية	المقومات البشرية
----------------	---------------	-------------------	------------------

٣- نسبة انتاج الوطن العربي من الغاز الطبيعي بالنسبة للعالم يبلغ : ص ١٢٧

١٤,٥ %	١٥,٥ %	١٦,٥ %	١٧,٥ %
--------	--------	--------	--------

٤- تعتبر الرياح والشمس والمياه من مصادر الطاقة : ص ١٧١

البشرية	الصناعية	الرئيسية	البديلة
---------	----------	----------	---------

٥- الصورة المقابلة تمثل نوع من أنواع الصناعات تسمى : ص ١٤٤



التجميعية	التحويلية
-----------	-----------

التعدينية	الحرفية
-----------	---------



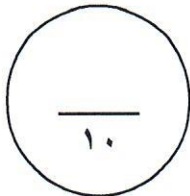
السؤال الرابع مقالتي ويتكون من (أ - ب) :

(أ) فرق بين كل مما يلي بالاستعانة بالجدول التالي: ٦ درجات لكل ١ درجة

الصناعات التحويلية ص ١٤٢	الصناعات الاستخراجية ص ١٤١
تقوم على تحويل المواد الأولية من معدنية نباتية وحيوانية إلى سلع استهلاكية صالحة للاستعمال، حيث تؤمن حاجات الإنسان من مسكن وغذاء وأدوات آلات.	تقتصر على استخراج مصادر الطاقة كالنفط والغاز والفحم وخامات المعادن والأملاح وغيرها من باطن الأرض وإعدادها لتصبح جاهزة للتصنيع.
النفط ١٢٥	الغاز الطبيعي ص ١٢٥
بقايا عضوية على هيئة نباتات وحيوانات دقيقة ترسبت في عصور قديمة وانطمرت تحت رواسب سميكة وتحولت بالضغط والحرارة إلى صورتها الحالية.	غاز مصاحب للنفط الخام أو يوجد منفردا تتم إيسالته لاستخدامات عديدة.
أهداف منظمة الأوبك (OPEC) ص ١٣٤	أهداف منظمة الأوبك ص ١٣٥
الحرص على استقرار أسعار النفط الأسواق العالمية.	- تعميق التعاون فيما بينها في مختلف أوجه النشاط الاقتصادي في صناعة النفط تأمين وصول النفط إلى الأسواق الاستهلاكية بشروط وأسعار عادلة تسهم في تطوير الصناعات البترولية في جميع المجالات وتبادل الخبرات (يكتفي بنقطة واحدة)

(ب) علل لكل مما يلي : ٤ درجات لكل ١ درجة

- ١- تحتل الأغنام مكاناً مهماً ضمن الثروة الرعوية في الوطن العربي. ص ١١٨ (يكتفي بنقطتين)
 - الأكثر انتشاراً في المراعي العربية.
 - لأنها مصدر أساسي للثروة القومية.
 - أكثر الحيوانات المستأنسة والملائمة لمراعي الوطن العربي وذلك لتحملها الجفاف والانتقال.
- ٢- تختلف المنتجات الزراعية من دولة عربية إلى أخرى. ص ١١٠ (يكتفي بنقطتين)
 - اختلاف المناخ والتربة. - مدي توافر المياه في هذه الدول.



السؤال الخامس مقالي ويتكون من (أ - ب) :

(أ) اقرأ الفقرة التالية ثم أجب عما يليها من أسئلة : ٦ درجات لكل ١ درجة

ترتفع الكثافة السكانية في المناطق التي تتمتع بمقومات طبيعية ومناخية ملائمة وثرورات طبيعية وطرق ومواصلات، وتنخفض الكثافة في المناطق التي لا تتوفر فيها هذه المقومات. فرغم الصعوبات التي تواجه السكان في بعض أنواع التضاريس وبفضل التطور العلمي فقد استطاع الإنسان التغلب عليها والعيش في تلك المناطق، فحول الجبال إلى مدرجات وزرعها وشق العديد من الطرق وكذلك استطاع أن يواجه ظروف العيش في الصحراء ويستغل ثرواتها الطبيعية.

١- عرف ما تحته خط: نسبة عدد السكان الكلي في دولة ما ، أو منطقة ما ، إلى المساحة الكلية لهذه الدولة أو المنطقة . ص ١٠٢

٢- استخرج من الفقرة السابقة ما يلي:

- مناطق ترتفع بها الكثافة السكانية :

المناطق التي تتمتع بمقومات طبيعية ومناخية ملائمة وثرورات طبيعية وطرق مواصلات . ص ١٠٥

-مناطق تنخفض بها الكثافة السكانية :

المناطق التي لا تتمتع بمقومات طبيعية ومناخية ملائمة وثرورات طبيعية وطرق مواصلات .

٣- كيف تغلب الإنسان على صعوبة العيش والزراعة في الجبال؟

حول الجبال إلى مدرجات وزرعها وشق العديد من الطرق .

٤- ماهي العوامل الطبيعية التي تؤثر في توزيع السكان ؟ ص ١٠٤

- موارد المياه - التضاريس - السهول والوديان

- الجبال - المناخ المعتدل

(ب) عرف لكل مما يلي : ٤ درجات لكل ١ درجة

الصناعات التجميعية	هي عملية تركيب وجمع المواد المصنعة، على اختلاف مصادرها كي نحصل على سلع متنوعة. ص ١٤٣
التنمية	التطور والتطوير ، وهي عملية تتطلب التخطيط والمشاركة من الجميع . ص ١٧٢
التوازن البيئي	بقاء عناصر الطبيعة في حالة من التوازن لتؤدي وظائفها على اكمل وجه ، حيث تعمل عناصر البيئة كمنظومة واحدة مثل جسم الإنسان . ص ١٧٠
الغلات النقدية	الغلات التي تدخل في الصناعة وتزرع بغرض التجارة والحصول علي نقد. ص ١١٣



السؤال السادس: مقالي ويتكون من (أ - ب) :

(أ) دُل على صحة العبارات التالية : ٣ درجات لكل ١ درجة

١- يتمتع النفط العربي بمكانة مهمة على المستوى العالمي . ص ١٣١
- لأهميته للدول الصناعية المتقدمة في أوروبا واليابان والولايات المتحدة الأمريكية .

١- للكويت مساهمات كبيرة في العمل العربي المشترك. ص ١٨٢-ص ١٨٦ (يكتفى بنقطتين)
- المساهمات الاقتصادية - الصندوق الكويتي للتنمية الاقتصادية العربية.
- مشاركة الكويت في تنفيذ العديد من المشاريع التنموية العربية.
- استضافة الكويت لأضخم وأهم المؤتمرات الاقتصادية العربية.

(ب) أجب عما يلي : ٧ درجات لكل ١ درجة

١- اقترح حلاً لمشكلة قلة وانخفاض الإنتاج الزراعي في الوطن العربي .

- زيادة الإنتاج عن طريق الأساليب العلمية - زيادة المساحات المزروعة . ص ١٦٣ (يكتفى بنقطتين)
- إقامة مشروعات الري .

٢- عدد أنواع التلوث . ص ١٦٧ (يكتفى بنقطتين)
- تلوث التربة - تلوث الهواء .
- تلوث المياه .

٣- اذكر لكل مما يلي :

- أهداف جامعة الدول العربية . ص ١٧٧ (يكتفى بنقطتين)
- توثيق العلاقات بين الدول الأعضاء وتنسيق التعاون فيما بينها للحفاظ على استقلالها وسيادتها .
- النظر في شئون ومصالح الدول العربية .
- محاور أو أنواع التنمية في الوطن العربي . ص ١٧٣ (يكتفى بنقطة واحدة فقط)
- التنمية الاقتصادية - التنمية المستدامة - التنمية البشرية .

انتهت الأسئلة



مدرستي معكم خطوة بخطوة للنجاح والتفوق



مدرستي

الكويتية

حمل التطبيق



مدرستي



الكويتية



اضغط هنا



الاجابة النموذجية





وزارة التربية
الإدارة العامة لمنطقة الفروانية التعليمية
التوجيه الفني للاجتماعيات

امتحان نهاية الفترة الدراسية الثانية
(الصف السابع)
للعام الدراسي (٢٠٢٢ / ٢٠٢٣ م)
نموذج الإجابة

مقرر / الكويت والوطن العربي

زمن الإجابة: ساعة ونصف
عدد الأوراق : (٦)

أجب عن جميع الأسئلة التالية :-

السؤال الأول (موضوعي) ويتكون من (أ - ب - ج - د - هـ - و) : (لكل إجابة درجة)

أ) اختر الخيار الصحيح من بين الخيارات التي تلي كل عبارة بوضع خط تحتها:

- ١- تبلغ مساحة الوطن العربي حوالي :
(١٢,٥ مليون كم^٢ - ١٣,٥ مليون كم^٢ - ١٤,٥ مليون كم^٢ - ١٥,٥ مليون كم^٢)
- ٢- الدولة العربية الأكثر سكاناً في الوطن العربي :
(اليمن - ليبيا - مصر - السعودية)
- ٣- عقد مؤتمر قمة الأرض في مدينة ريودي جانيرو عام ١٩٩٢ م في :
(البرازيل - كندا - فرنسا - اليابان)
- ٤- تأسس الصندوق الكويتي للتنمية الاقتصادية العربية في عهد الشيخ :
(جابر الأحمد - عبدالله السالم - صباح الأحمد - صباح السالم)

ب) صنف الكلمات مابين القوسين حسب موقعها في الجدول التالي : ص ١١٤

(العنب - البن - التمور - القمح - الحوز)

الدولة الأولى في الإنتاج	مصر	السعودية	سوريا	اليمن	الصومال
الغلة الزراعية	القمح	التمور	العنب	البن	الحوز



تابع السؤال الأول :

ج) أكمل العبارات التالية بما يناسبها مما درست :

- ١- يبلغ عدد دول الوطن العربي دولة . ص ٩٩
- ٢- نسبة عدد السكان الكلي في دولة ما ، أو منطقة ما ، إلى المساحة الكلية لهذه الدولة تسمى .. الكثافة السكانية ... ص ١٠٢
- ٣- الغلات التي تدخل في الصناعة وتزرع بغرض التجارة والحصول على نقد تسمى الغلات النقدية..... ص ١١٢
- ٤- أكثر أنواع الثروة الرعوية انتشاراً في مراعي الوطن العربي اسمها الأغنام..... ص ١١٨
- ٥- التجارة التي يتم فيها التبادل التجاري بين الدول العربية اسمها التجارة البينية..... ص ١٥٢
- ٦- عقد أكبر مؤتمر قمة عربية اقتصادية منذ نشأة جامعة الدول العربية عام ٢٠٠٩ م في دولة تسمى الكويت ... ص ١٨٦


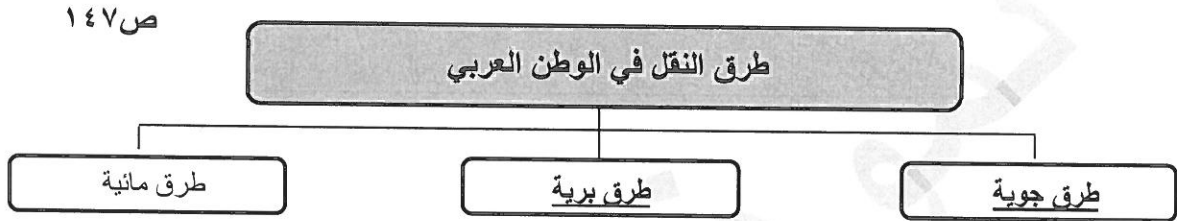
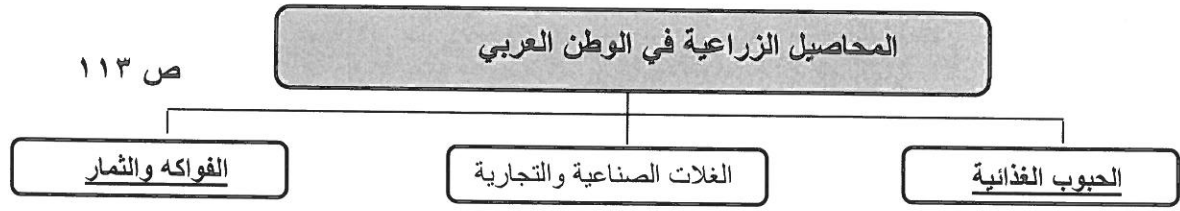
د) اختر المفهوم المناسب من بين القوسين ثم ضعه في المكان المناسب له في الجدول التالي :

(الصناعات الحرفية – الصناعات التجميعية – الصناعات التحويلية – الصناعات التعدينية – الصناعات الاستخراجية)

المفهوم	التعريف
الصناعات الإستخراجية ص ١٤١	١- استخراج مصادر الطاقة كالنفط والغاز والفحم وخامات المعادن والأملاح وغيرها من باطن الأرض ، وإعدادها لتصبح جاهزة للتصنيع .
الصناعات التعدينية ص ١٤١	٢- تهدف إلى تنقية الخامات المعدنية وتحويلها إلى صفائح أو سبائك صالحة لتنفيذ صناعات معدنية مختلفة .
الصناعات التحويلية ص ١٤٢	٣- تقوم على تحويل المواد الأولية من معدنية نباتية وحيوانية إلى سلع استهلاكية صالحة للاستعمال .
الصناعات الحرفية ص ١٤٣	٤- تستخدم مواد أولية وتعتمد على المجهود البشري ، وتختص بعض العائلات باحتراف بعض منها .
الصناعات التجميعية ص ١٤٣	٥- عملية تركيب وجمع المواد المصنعة ، على اختلاف مصادرها كي نحصل على سلع متنوعة .



هـ) أكمل المخططات السهمية التالية :



و) اختر للقائمة (ب) ما يناسبها من القائمة (أ) بكتابة الرقم المناسب :

الجموعة (أ)	الرقم	الجموعة (ب)
١- الدولة العربية التي تحتل المرتبة الأولى في إنتاج واحتياط النفط .	٢	الصومال ص ١١٨
٢- الدولة العربية التي تحتل المرتبة الأولى بما تملكه من الإبل .	١	السعودية ص ١٢٩
٣- الدولة العربية التي تحتل المرتبة الأولى في إنتاج معدن الحديد .	٤	المغرب ص ١٣٢
٤- الدولة العربية التي تصدر المرتبة الأولى في إنتاج معدن الفوسفات .	-	مصر
	٣	موريتانيا ص ١٣٢

السؤال الثاني : يتكون من : [أ ، ب]

(أ) إقرأ العبارة التالية ثم أجب عما يليها من أسئلة : (ص ١٦٢-١٦٣)

"يقع الوطن العربي في المناطق الجافة وشبه الجافة ، مما يعرضه بشكل أساسي لمشكلة التصحر ."

١- استخرج من العبارة السابقة مشكلة .. ثم عرفها . (درجة)

(مشكلة التصحر) : التصحر هو زحف رمال الصحراء على المناطق الجافة وشبه الجافة .

٢- عدد أسبابها . (درجتان)

- بشرية (الرعي الجائر)
- طبيعية (زحف الرمال)

٣- اقترح حلاً مناسباً لعلاج المشكلة السابقة . (درجتان)

- تكثيف العمل الزراعي وتطويره / استخدام التكنولوجيا الحديثة / تأصيل البذور / استعمال الأسمدة (أو أي مقترح آخر يراه المصحح مناسب) .

(ب) علل لما يلي :

١- تحتل الأغنام العربية مكاناً مهماً ضمن الثروة الرعوية . (درجتان) ص ١١٨

- الأكثر انتشاراً في المراعي العربية .
- مصدر أساسي من مصادر الثروة القومية .
- أهمية منتجاتها للسكان .
- أكثر الحيوانات المستأنسة ملائمة لمراعي الوطن العربي .
- وذلك لتحملها الجفاف والانتقال .

٢- تنوع الثروة المائية في الوطن العربي . (درجة) ص ١٢٢

- بسبب وجود السواحل والمسطحات المائية الواسعة المالحة والعذبة .

٣- تدني وفرة المياه في الوطن العربي . (درجتان) ص ١٦٤

- النمو السريع للسكان الذي يشكل ضغطاً متزايداً على المياه المتوفرة لكل فرد .
- ٥٠ % من الموارد المائية في العالم العربي تأتي من خارج حدوده . شبكات نقل المياه شبكات قديمة .
- الطرق التقليدية المستخدمة في استغلال المياه في معظم مناطق العالم العربي .
- استخدام الري بالغمر والاستهلاك غير المسؤول في استخدام المياه .
- الشبكات المؤهلة لنقل المياه قديمة .
- افتقار الدول العربية إلى برامج لإدارة المياه / عدم استخدام أدوات اقتصادية لترشيد استخدام المياه

السؤال الثالث : ويتكون من : [أ ، ب]

أ) قارن بين كل من حسب الجدول التالي : (٤ درجات)


أوجه المقارنة	منظمة الدول المصدرة للنفط (أوبك) ص ١٣٤	منظمة الأقطار العربية المصدرة للنفط (أوابك) ص ١٣٥
سنة الإنشاء	عام ١٩٦٠ م (درجة)	عام ١٩٦٨ م (درجة)
أجهزتها	- المؤتمر - مجلس المحافظين - الأمانة العامة (درجة ويكتفى بنقطة فقط)	- المجلس الوزاري - المكتب التنفيذي - الأمانة العامة (درجة ويكتفى بنقطة فقط)

ب) عدد لكل مما يلي : ٦ درجات (يكتفى بنقطتين فقط)

- ١- أقسام مناطق الوطن العربي من حيث الكثافة السكانية . (درجتين ويكتفى بنقطتين) ص ١٠٣
 - مناطق مرتفعة الكثافة .
 - مناطق منخفضة الكثافة .
 - مناطق متوسطة الكثافة .
 - مناطق شبه خالية السكان .
- ٢- العقبات التي تواجه الإنتاج الزراعي في الوطن العربي . (درجتين ويكتفى بنقطتين) ص ١٦١
 - عدم استغلال الأراضي القابلة للزراعة لندرة مياه الري أو تذبذب الأمطار أو قلة الأيدي العاملة .
 - اتباع طرق الزراعة التقليدية في معظم أجزاء الوطن العربي .
 - زحف الرمال (التصحر) وانجراف التربة .
 - تلوث التربة نتيجة للإسراف في استخدام المبيدات الحشرية وارتفاع نسبة الملوحة بالتربة .
 - الرعي الجائر
- ٣- المشكلات التي تواجه التنمية البشرية . (درجتين ويكتفى بنقطتين) ص ١٧٥
 - ضعف الاستفادة من القدرات البشرية في المنطقة العربية .
 - مشكلة الأمية .
 - نقص ومحدودية مشاركة المرأة في المنظمات السياسية .
 - الاختلاف الكبير في مستويات المعيشة بين دولة وأخرى ، وفي داخل الدولة الواحدة .

السؤال الرابع: ويتكون من : [أ ، ب]

(أ) لاحظ الصورة المقابلة ثم أجب عن الأسئلة التالية : ص ١٦٦



١- ما نوع التلوث في الصورة المقابلة ؟ (درجة)

- (تلوث هوائي / بيئي / كيميائي) .

٢- عدد - أنواع التلوث . (درجتين) ص ١٦٧

- تلوث الهواء .

- تلوث الماء .

- تلوث التربة .

(ومايراه المصحح مناسباً)

٣- عرف التلوث : (درجة)

- هو الضرر الذي يلحق بالتربة والهواء والماء ، ويصيب

عناصر البيئة من عدة مصادر للملوثات .

(ب) فرق بين كل من المفاهيم التالية : (٦ درجات / لكل تعريف درجة)

الزيادة السكانية الطبيعية ص ١٠٦	الزيادة السكانية الطبيعية ص ١٠٦
هي الزيادة الناتجة عن الهجرة . (درجة)	هي الفرق بين معدل المواليد ومعدل الوفيات . (درجة)
الهجرة الخارجية ص ١٠٦	الهجرة الداخلية ص ١٠٦
وهي تكون من دولة إلى دولة أخرى . (درجة)	وهي تكون من القرى إلى المدن . (درجة)
الموارد البشرية ص ١٠٩	الموارد الطبيعية ص ١٠٩
الموارد البشرية هي التي ترتبط بالسكان من حيث أعدادهم وتوزيعهم ومناسبة أعدادهم لمساحة الأرض التي يستغلونها . (درجة)	الثروات التي منحها الله لإقليم من دون أن يكون للإنسان أي دور في وجودها . أو / الثروات المعدنية والغابات والمراعي والموارد المائية وموقع الإقليم . (درجة)

مدرستي معكم خطوة بخطوة للنجاح والتفوق



مدرستي

الكويتية

حمل التطبيق



مدرستي



الكويتية



اضغط هنا

منطقة حولي التعليمية

اختبارات نهاية الفترة الدراسية الثانية
العام الدراسي ٢٠٢٢/٢٠٢٣

نموذج الإجابة

الصف	السابع
المادة	الإجتماعيات





وزارة التربية

الإدارة العامة لمنطقة حولي التعليمية

التوجيه الفني للاجتماعيات

نموذج اجابة

امتحان نهاية الفترة الدراسية الثانية

لمقرر/ الكويت والوطن العربي

للمصف السابع

العام الدراسي : ٢٠٢٢/٢٠٢٣م

الزمن: ساعة و ٤٥ دقيقة

عدد الصفحات : (٦)

السؤال الأول موضوعي ويتكون من (أ - ب - ج - د - هـ - و) : (٣٠ درجة لكل سؤال درجة)

(أ) ظل الخيار الصحيح من بين الخيارات التي تلي كل عبارة: (٥ درجات)

١- صاحب المبادرة لعقد المؤتمر الدولي للمانحين لدعم الوضع الإنساني في سوريا عام ٢٠١٣م الشيخ: (ص ١٨٨)

صباح السالم الصباح	جابر الأحمد الصباح	صباح الأحمد الصباح	نواف الأحمد الصباح
--------------------	--------------------	--------------------	--------------------

٢- غاز ناتج عن عوادم السيارات ويؤدي إلى ارتفاع متزايد في حرارة الأرض وإلى تغيير مناخي: (ص ١٦٨)

أول أكسيد الكربون	أوكسيد الكربون	أكسجين	ثاني أكسيد الكربون
-------------------	----------------	--------	--------------------

٣- العام الذي عقد فيه "مؤتمر قمة الأرض" بمدينة ريودي جانيرو بالبرازيل (ص ١٦٧)

١٩٩٠م	١٩٩١م	١٩٩٢م	١٩٩٣م
-------	-------	-------	-------

٤- تحتل جمهورية مصر العربية المركز الأول في الإنتاج : (ص ١٢٣)

السمكي	الرعي	المعدني	الزراعي
--------	-------	---------	---------

٥- يشكل القطاع الزراعي بالنسبة للاقتصاد العربي نسبة :

٢٠%	٣٠%	٤٠%	٥٠%
-----	-----	-----	-----

(ب) أكمل العبارات التالية بما يناسبها فيما درست : (خمسة درجات)

١- برامج تحسين نوعية الحياة ولا تتحقق إلا بمشاركة جميع المواطنين تسمى التنمية المستدامة (ص ١٧٥)

٢- الغلات التي تزرع بغرض التجارة والحصول على النقد تسمى نقدية. (ص ١١٣)

٣- هجرة الأفراد من دولة إلى دولة أخرى تسمى هجرة خارجية. (ص ١٠٦)

٤- الدولة الأولى في زراعة العنب بالوطن العربي اسمها سوريا. (ص ١١٤)

٥- الطبقة التي تحمي الأرض من الأشعة فوق البنفسجية الضارة تسمى الأوزون. (ص ١٦٨)

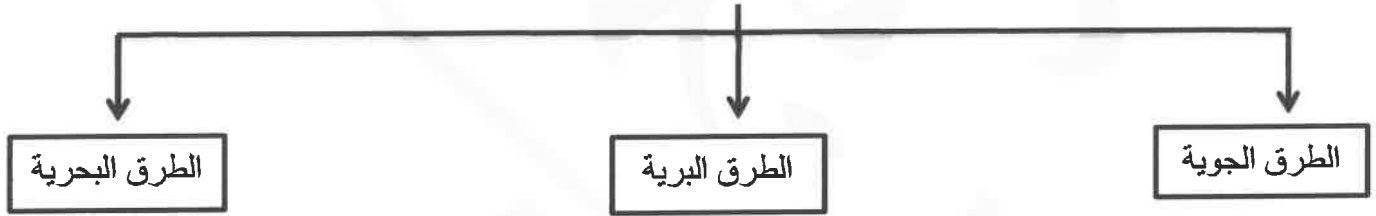


(ج) ظلل الحرف (أ) إذا كانت العبارة صحيحة أو الحرف (ب) إذا كانت العبارة خاطئة : (خمسة درجات)

م	العبارة	(أ)	(ب)
١	الموارد الطبيعية هي الثروات التي منحها الله لإقليم من دون أن يكون للإنسان أي دور في وجودها (ص١٠٩)		
٢	الثروة المائية في دول الوطن العربي قليلة و محدودة . (ص١٢٢)		
٣	نسبة احتياط النفط الخام في دول الجناح الأفريقي تبلغ ٩٠٪ . (ص١٢٨)		
٤	أكبر تجمع للسكان يكون حول الأنهار والبحار ومصادر المياه . (ص١٠٥)		
٥	المنظمة العربية للتنمية الزراعية من المنظمات العربية التي شاركت فيها دولة الكويت. (ص١٨٢)		

(د) أكمل المخططات السهمية التالية بما يناسبها فيما درست : (ستة درجات)

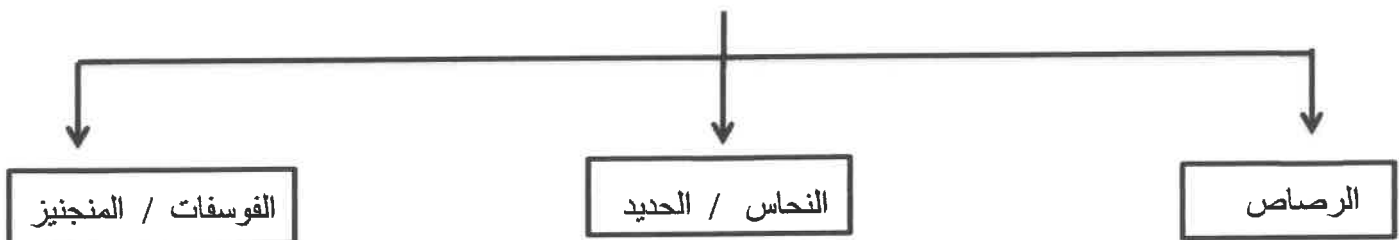
١- طرق النقل في الوطن العربي (ص١٤٧)



٢- مراحل عملية التصنيع (ص١٣٧)



٣- المعادن التي يمتلكها الوطن العربي (ص١٣٢)

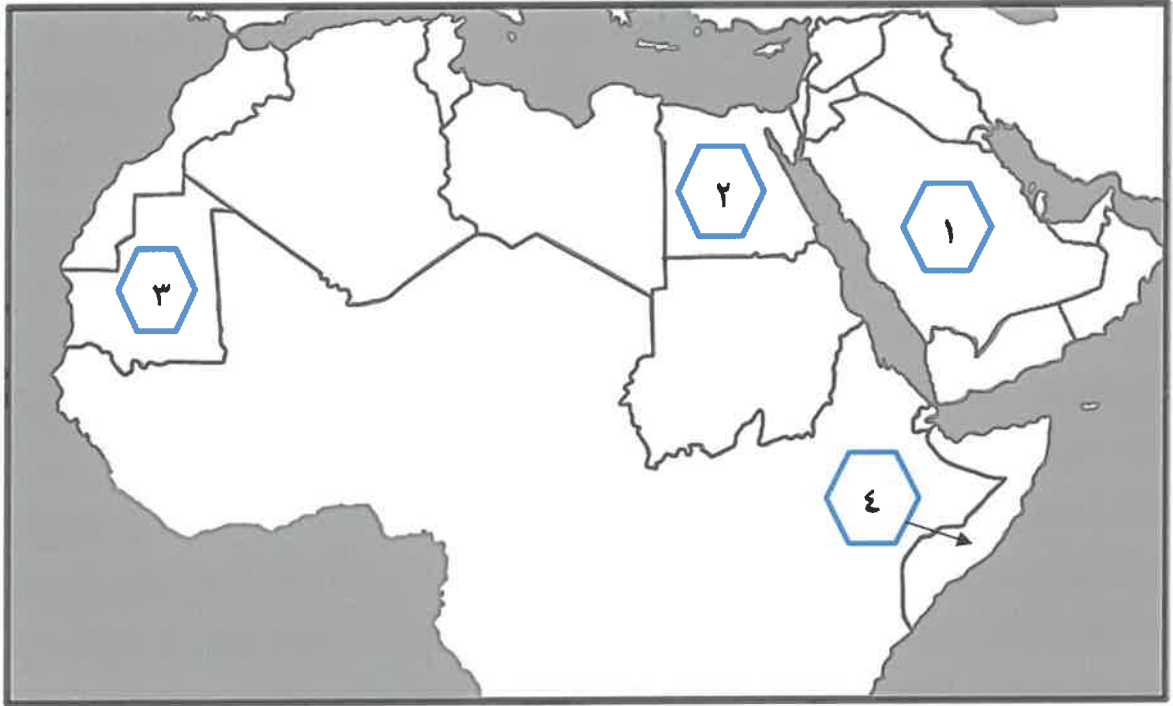


(هـ) صنف المحاصيل الزراعية التالية حسب ماهو مطلوب منك في الجدول (ستة درجات)

(القطن - الشعير - العنب - القمح - قصب السكر - التمر) (ص١١٤)

الحبوب الغذائية	الغلات الصناعية	الفواكه والأشجار
القمح	القطن	العنب
الشعير	قصب السكر	التمر

(و) أمامك خريطة الوطن العربي - أكتب الرقم الدال على العبارات التالية : (ثلاثة درجات)



- الدولة الأولى في إنتاج معدن الحديد يمثلها على الخريطة الرقم (٣) (ص١٣٢)
- دولة تحتل المركز الأول في زراعة القمح يمثلها على الخريطة الرقم (٢) (ص١١٤)
- دولة تحتل المركز الأول في تربية الإبل يمثلها على الخريطة الرقم (٤) (ص١١٩)

السؤال الثاني مقالي ويتكون من (أ - ب - ج) :

(أ) فرق بين كل من : (ستة درجات لكل نقطة درجة)

صناعات حرفية ١٤٣	صناعات تجميعية ص ١٤٣
تعد من الصناعات الأولى في العالم وتستخدم مواد أولية محلية وتعتمد على المجهود البشري	عملية تركيب وجمع المواد المصنعة على اختلاف مصادرها كي نحصل على سلع متنوعة
الغاز الطبيعي (ص ١٢٥)	النفط (ص ١٢٥)
غاز مصاحب للنفط الخام أو يوجد منفرداً، تتم إيسالته لاستخدامات عديدة .	بقايا عضوية على هيئة نباتات وحيوانات دقيقة ترسبت في عصور قديمة وانطمرت تحت رواسب سمكية وتحولت بفعل الضغط والحرارة على صورتها الحالية .
التجارة البينية (ص ١٥٢)	التبادل التجاري (ص ١٥١)
التبادل التجاري بين الدول العربية	عمليات التصدير والاستيراد بين الدول

(ب) أذكر نقطتين حول كل مما يلي : (ستة درجات لكل نقطة درجة)

- ١ - أسباب تدني وفرة المياه في الوطن العربي . (ص ١٦٤)
- النمو السريع للسكان والضغط على المياه المتوفرة / الطرق التقليدية المستخدمة في استغلال المياه في معظم مناطق الوطن العربي .
- ٥٠٪ من الموارد المائية في الوطن العربي تأتي من خارج حدوده وتتحكم فيها دول المنبع في غياب تشريعات دولية تضمن حقوقنا
- الشبكات المؤهلة لنقل المياه شبكات قديمة / افتقار الدول العربية إلى برامج لإدارة المياه كما أنها لا تستخدم الأدوات الاقتصادية اللازمة لترشيد الاستخدام المتزايد من المياه.
- ٢ - المشكلات التي تواجه التنمية البشرية. (ص ١٧٥)
- ضعف الاستفادة من القدرات البشرية في المنطقة العربية / مشكلة الأمية
- نقص ومحدودية مشاركة المرأة في المنظمات السياسية / الاختلاف الكبير في مستويات المعيشة بين دولة وأخرى وفي داخل الدولة الواحدة
- ٣ - المحاور الرئيسية للتنمية في الوطن العربي . (ص ١٧٣)
- التنمية الاقتصادية - التنمية المستدامة - التنمية البشرية .

(ج) لاحظ الجدول المقابل ثم أجب عن الأسئلة التالية : (ثلاثة درجات)

الدولة العربية	تقديرات عدد السكان (ألف نسمة)
السعودية	٣٠,٧٧٠
البحرين	١,٣٩٩
العراق	٣٦,٠١٥
الكويت	٣,٧١٥

(إحصائية تقديرات عدد السكان في عام ٢٠١٤م)

* استخرج من الجدول ما يلي : ص ١٠٠

١- أعلى دولة عربية من حيث عدد السكان.

العراق

٢- أقل دولة عربية من حيث عدد السكان .

البحرين

٣- ما ذاتنتج من الجدول المقابل .

* هناك تفاوت في توزيع عدد السكان في الوطن العربي.

* العراق هي أعلى دولة في عدد السكان .

* البحرين أقل دولة في عدد السكان.

* (حسب ما يراها المصحح)



السؤال الثالث مقالي ويتكون من (أ - ب - ج) :

(أ) اقرأ الفقرة التالية ثم أجب عما يليها من أسئلة: (ص ١٦٦) (خمس درجات لكل نقطة درجة)

التلوث ظاهرة تصيب عناصر البيئة من عدة مصادر منها صناعية ، زراعية ، منزلية ومن أكثر الملوثات إنتشاراً التلوث الكيميائي وتعد هذه الظاهرة من المشكلات التي تهدد الكائنات الحية على سطح الأرض.

١- عرف ما تحته خط : (درجة)

التلوث هو الضرر الذي يلحق بالتربة والهواء والماء ويصيب التلوث عناصر البيئة من عدة مصادر للملوثات.

٢- استخرج من الفقرة السابقة ما يلي:

* مصادر تلوث البيئة (يكتفى بثلاثة نقاط)

- مصادر صناعية - مصادر زراعية - مصادر منزلية

٣- ضع عنواناً مناسباً للفقرة السابقة . (حسب ما يراه المصحح) (درجة)

(ب) قارن بين كل من : (أربعة درجات لكل نقطة درجة)

وجه المقارنة	أوبك (١٣٤)	أوابك (ص ١٣٥)
سنة التأسيس	١٩٦٠م	١٩٦٨م
المقر الحالي	فيينا	الكويت

(ج) علل لما يلي : (ستة درجات لكل سؤال درجتين)

١ - تحتل الأغنام العربية مكاناً مهماً ضمن الثروة الرعوية. (ص ١١٨)
-الأكثر انتشاراً في المراعي العربية / أكثر الحيوانات المستأنسة والملائمة لمراعي الوطن العربي
-أهمية منتجاتها بالنسبة للسكان / مصدر أساسي من مصادر الثروة القومية.

٢ - اختلاف المنتجات الزراعية من دولة عربية إلى أخرى . (ص ١١٠)
- اختلاف المناخ / اختلاف التربة / مدى توافر المياه في هذه الدول .

٣ - ارتفاع معدل النمو السكاني في الوطن العربي . (ص ١٠٦)
-الزيادة الطبيعية
-الزيادة الغير طبيعية (الهجرة)



مدرستي معكم خطوة بخطوة للنجاح والتفوق



مدرستي

الكويتية

حمل التطبيق



مدرستي



الكويتية



اضغط هنا

وزارة التربية
الإدارة العامة لمنطقة مبارك الكبير التعليمية

نموذج إجابة اختبار الفترة الدراسية الثانية 2023/2022

الصف	السابع
المادة	الاجتماعيات





وزارة التربية
الإدارة العامة لمنطقة مبارك الكبير التعليمية
التوجيه الفني للاجتماعيات
امتحان نهاية الفترة الدراسية الثانية
مقرر/ الدراسات الاجتماعية الكويت الوطن العربي
العام الدراسي ٢٠٢٢ / ٢٠٢٣ م
الزمن : ساعة و ٤٥ دقيقة
عدد الأوراق : (٥)
للف السابع المتوسط

السؤال الأول (موضوعي) يتكون من (أ - ب - ج - د - هـ - و) : (لكل نقطة درجة)

(أ) أكمل العبارات التالية بما يناسبها :

- ١- المنظمة الإقليمية التي تضم جميع الدول العربية تسمى جامعة الدول العربية . ص ١٧٨
- ٢- التبادل التجاري بين الدول العربية يسمى التجارة البينية . ص ١٥٢
- ٣- تزايد عدد السكان من عام لآخر نتيجة للزيادة الطبيعية للسكان و الهجرة يسمى النمو السكاني . ص ١٠٦
- ٤- العام الذي تم فيه إنشاء الصندوق الكويتي للتنمية الاقتصادية العربية ١٩٦١ م . ص ١٧٩
- ٥- برامج تحسين نوعية الحياة ولا تتحقق إلا بمشاركة جميع المواطنين تسمى التنمية المستدامة . ص ١٧٥

(ب) ضع خطأ تحت الخيار الصحيح من بين الخيارات التي تلي كل عبارة :



- ١- من المقومات الطبيعية للإنتاج الزراعي : ص ١١١
- رأس المال - الأسواق - المناخ - الأيدي العاملة
- ٢- النسبة التي يحتلها القطاع الزراعي من الاقتصاد العربي تمثلها الدائرة البيانية : ص ١١٠



- ٣- الدولة العربية التي تحتل المركز الأول من حيث احتياطي الغاز الطبيعي : ص ١٢٩

- قطر - المغرب - السعودية - ليبيا

- ٤- الصناعة التي تقوم بتحويل المواد الأولية من معدنية و نباتية و حيوانية إلى سلع استهلاكية صالحة للاستعمال : ص ١٤٢

- الصناعات الحرفية - الصناعات التحويلية - الصناعات التجميعية - الصناعات التعدينية

- ٥- يبلغ عدد دول مجلس التعاون الخليجي : ص ١٨١

- ٦ - ٧ - ٨ - ٩



تابع السؤال الأول :

(ج) صنف الكلمات التالية بمكانها الصحيح في الجدول الذي يليها :

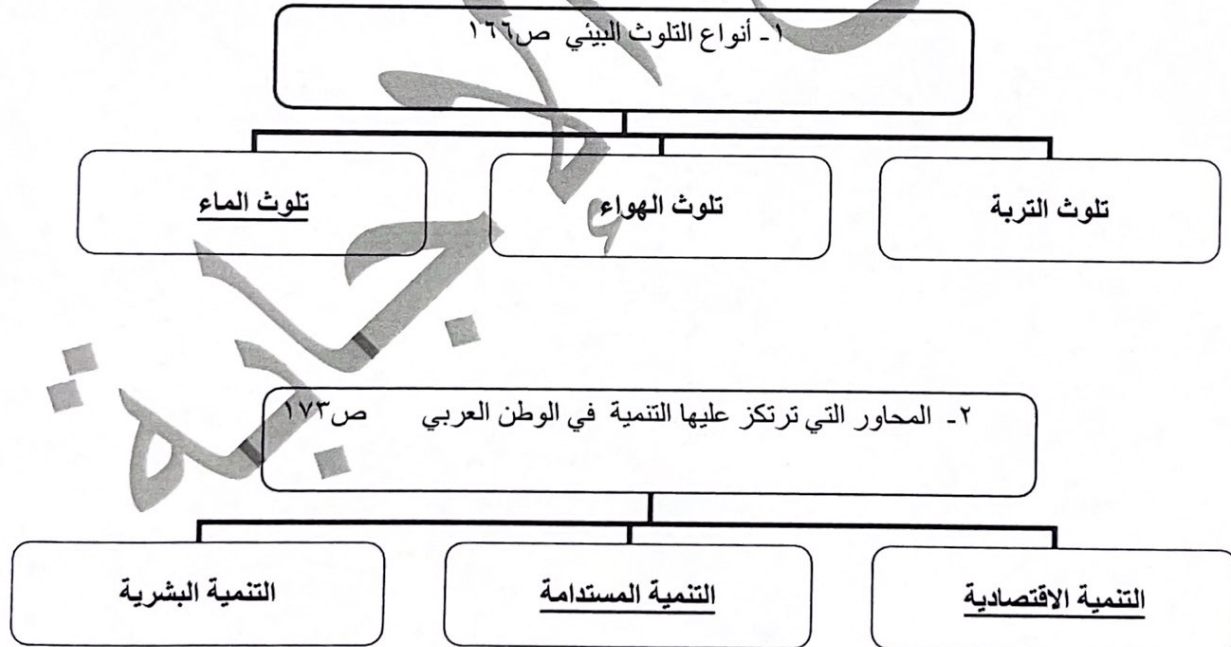
١- (الشعير - التمر - القمح - العنب) ص ١١٣

الحبوب الغذائية	الفواكه و الثمار
الشعير	التمر
القمح	العنب

٢- (صناعة الخشب و الورق - النفط - الصناعة الغذائية - الفحم) ص ١٤١-١٤٢

الصناعات التحويلية	الصناعات الاستخراجية
صناعة الخشب و الورق	النفط
الصناعة الغذائية	الفحم

(د) أكمل المخططات السهمية التالية :

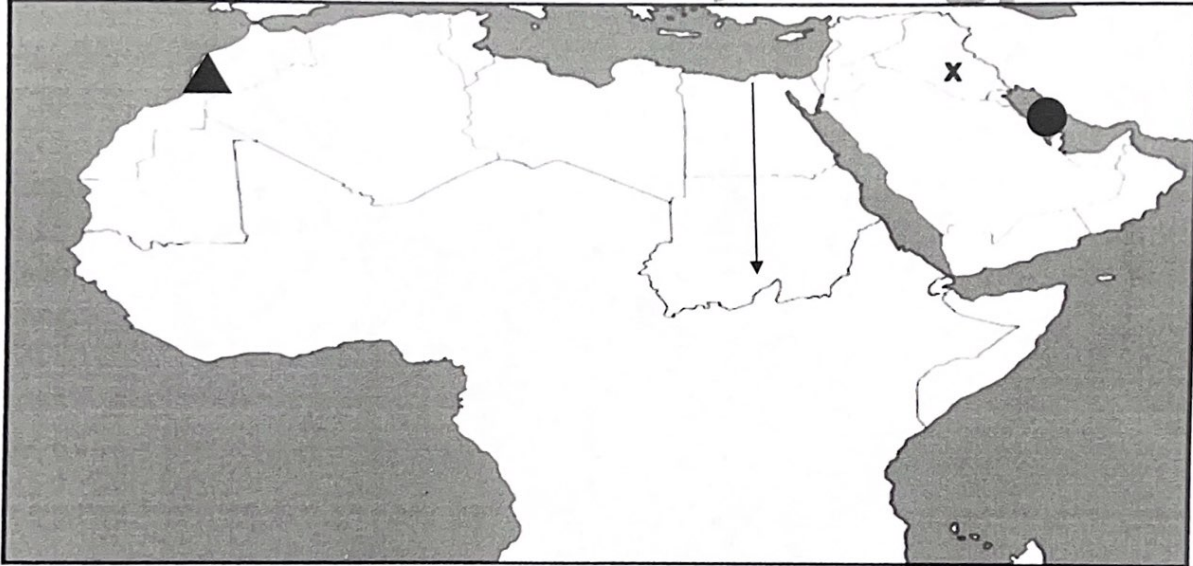


تابع السؤال الأول :

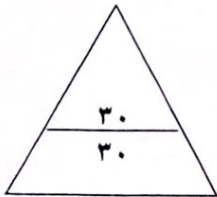
(هـ) صحح ما تحته خط في العبارات التالية وذلك بكتابة الإجابة الصحيحة في مكانها المناسب :

- ١- تأسس الصندوق الكويتي للتنمية الاقتصادية في عهد الشيخ صباح السالم الصباح . (عبدالله السالم الصباح ص ١٨٤)
- ٢- تبلغ نسبة إنتاج الوطن العربي من الإنتاج العالمي للنفط الخام ٢٠٪ . (٣٠٪ ص ١٢٧)
- ٣- صاحب المبادرة لعقد القمة العربية الاقتصادية و التنمية و الاجتماعية عام ٢٠٠٩م الشيخ جابر الأحمد . (صباح الأحمد ص ١٨٦)
- ٤- الدولة العربية التي استضافت المؤتمر الدولي الأول لمانحي سوريا عام ٢٠١٣ هي قطر . (الكويت ص ١٨٨)
- ٥- قوى محركة للآلات وعنصر مهم للتقدم و التطور الاقتصادي في جميع المجالات تسمى التنمية . (الطاقة ص ١٢٥)

(و) لاحظ خريطة الوطن العربي الصماء ، ثم أجب عن الأسئلة التالية :



- حدد موقع الخليج العربي باستخدام الرمز ● ص ١٣٣
- حدد موقع الدولة الأولى عربياً في إنتاج معدن الفوسفات باستخدام الرمز ▲ ص ١٣٢
- حدد موقع نهر دجلة باستخدام الرمز X ص ١٤٩
- ارسم نهر النيل باستخدام الرمز ← على الخريطة ص ١٤٩



(٣)

السؤال الثاني (مقالي) يتكون من (أ - ب - ج) :

(أ) : عرف المفاهيم أو المصطلحات التالية : (لكل جزئية درجة ٣ درجات

- ١- التصحر : زحف رمال الصحراء على المناطق الجافة وشبه الجافة . ص ١٦٢
- ٢- التضامن العربي: العمل على توثيق الصلات بين الدول العربية و الشعوب وحماية مصالحها السياسية والاقتصادية والثقافية. ص ١٧٧
- ٣- الغلات النقدية : الغلات التي تدخل في الصناعة وتزرع بغرض التجارة والحصول على نقد . ص ١١٣

(ب) قارن بين كل مما يلي : (لكل جزئية درجة ٤ درجات

أوجه المقارنة	منظمة الأوبك	منظمة الأوابك
المقر	فيينا ص ١٣٤	الكويت ص ١٣٥
سنة التأسيس	١٩٦٠ ص ١٣٤	١٩٦٨ ص ١٣٥

(ج) أجب عما يلي :

- ١- عدد - أهم الإحصاءات السكانية التي تعتمد عليها دراسة السكان في الوطن العربي . ص ٩٩ (درجتان)
- التعداد السكاني - الإحصاء الحيوي .
- ٢- علل - تحتل الأغنام العربية مكانا مهما ضمن الثروة الرعوية . ص ١١٨ (درجتان - يكتفى بنقطتين)
- الأكثر انتشارا في المراعي العربية - لأنها مصدر أساسي من مصادر الثروة القومية - لأهمية منتجاتها بالنسبة للسكان .
- أكثر الحيوانات المستأنسة والملائمة لمراعي الوطن العربي وذلك لتحملها الجفاف و الانتقال .
- ٣- علل - تدني وفرة المياه في الوطن العربي . ص ١٦٤ (درجتان - يكتفى بإجابتين)
- النمو السريع للسكان الذي يشكل ضغطا متزايدا على المياه المتوفرة لكل الفرد .
- ٥٠٪ من الموارد المائية في العالم العربي تأتي من خارج حدوده و تتحكم فيها دول المنيع في غالب تسييرات دوله نظمي مقنونا .
- الطرق التقليدية المستخدمة في استغلال المياه في معظم مناطق العالم العربي (استخدام الري بالغمر و الاستهلاك الغير مسؤول) - الشبكات المؤهلة لنقل المياه شبكات قديمة .
- افتقار الدول العربية إلى برامج لإدارة المياه كما أنها لا تستخدم الأدوات الاقتصادية اللازمة لترشيد الاستخدام المتزايد من المياه .
- ٤- عدد - طرق النقل في الوطن العربي . ص ١٤٧ (ثلاث درجات)
- طرق جوية .
- طرق بحرية . (طرق نقل الحائيه)
- طرق برية .



السؤال الثالث يتكون من (أ - ب - ج) :

(أ) فرق بين كل مما يلي من حيث التعريف : (لكل جزئية درجة) ٤ درجات

الزيادة الطبيعية ص ١٠٦	الزيادة غير الطبيعية ص ١٠٦
الفرق بين معدل المواليد ومعدل الوفيات .	الزيادة الناتجة عن الهجرة .
الغاز الطبيعي ص ١٢٥	النفط ص ١٢٥
غاز مصاحب للنفط الخام أو يوجد منفرداً تتم إيسالته لاستخدامات عديدة .	بقايا عضوية على هيئة نباتات وحيوانات دقيقة ترسبت في عصور قديمة و انطمرت تحت رواسب سميكة و تحولت بالضغط و الحرارة إلى صورتها الحالية .

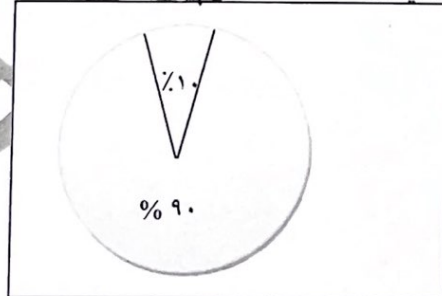
(ب) علل لما يلي :

- ١ - اختلاف المنتجات الزراعية من دولة إلى أخرى . (درجتان - يكتفى بنقطتين)
- اختلاف المناخ - التربة - مدى توافر المياه .
- ٢ - العقبات التي تواجه الإنتاج الزراعي في الوطن العربي . ص ١٦١ (درجتان - يكتفى بنقطتين)
- عدم استغلال الأراضي القابلة للزراعة لندرة مياه الري أو تذبذب الأمطار أو قلة الأيدي العاملة . / - اتباع طرق الزراعة التقليدية في معظم أجزاء الوطن العربي . / - زحف الرمال (التصحر) وانجراف التربة . / - تلوث التربة نتيجة للإسراف في استخدام المبيدات الحشرية وارتفاع نسبة الملوحة بالتربة . / - الرعي الجائر .
- ٣ - قيام الدول من حين إلى آخر بإجراء تعداد لسكانها . (درجة)
- لتحصل الدولة على معلومات وافية عن أوضاع سكانها : عددهم الإجمالي و عدد كل جنس و أعمارهم . ص ٩٩

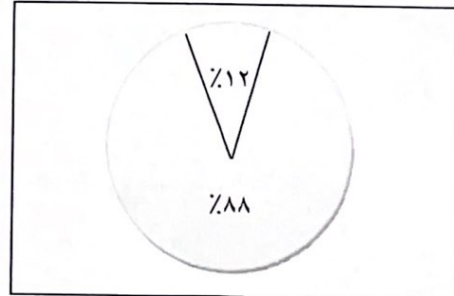
(ج) لاحظ الجدول الإحصائي الذي أمامك ثم اجب عما يليه من الأسئلة :

جدول نسب إنتاج و احتياطي النفط في الجناح الآسيوي و الأفريقي في الوطن العربي		
الجناح	إنتاج النفط	احتياطي النفط
الآسيوي	%٨٨	%٩٠
الأفريقي	%١٢	%١٠

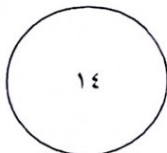
- ١ - استنتج حقيقة من الجدول . درجة ص ١٢٨
- ان الجناح الآسيوي يتفوق على الجناح الأفريقي في إنتاج النفط و احتياطي النفط . (كل ما يكتبه المتعلم و يراه المصحح مناسب)
- ٢ - تبلغ نسبة إنتاج النفط الخام في الجناح الأفريقي %١٢ . (درجة)
- ٣ - حول نسب إنتاج النفط و احتياطي النفط في الجناح الآسيوي و الأفريقي إلى دائرة بيانية (لكل رسم درجة و نصف)



احتياطي النفط



إنتاج النفط



(٥)

انتهت الأسئلة



مدرستي معكم خطوة بخطوة للنجاح والتفوق



مدرستي

الكويتية

حمل التطبيق



مدرستي



الكويتية



اضغط هنا

أجب عن جميع الأسئلة

السؤال الأول: (موضوعي) يتكون من (أ - ب - ج) (١٥ نقطة × درجة واحدة = ١٥ درجة)

(أ) أكمل العبارات التالية بما يناسبها مما درست :

- ١- عدد دول الوطن العربي يبلغ ٢٢ دولة ص-٩٩
- ٢- صاحب المبادرة لعقد مؤتمر القمة العربية الاقتصادية والتنموية والاجتماعية عام ٢٠٠٩م هو الشيخ صباح الأحمد ص-١٨٦
- ٣- أكثر دول الوطن العربي في عدد السكان تسمى مصر ص-١٠٠
- ٤- التبادل التجاري بين الدول العربية يسمى التجارة البينية ص-١٥٢
- ٥- الشعار في الشكل المقابل يمثل منظمة تسمى مجلس التعاون الخليجي ص-١٨١



(ب) ضع خطأ تحت الخيار الصحيح من بين الخيارات التي تلي كل عبارة :

- ١- الأسواق التي تحتل المكانة الأولى بالنسبة لتجارة الصادرات العربية : ص-١٥١
 - أ- الأمريكية
 - ب- العربية
 - ج- اليابان
 - د- الأوروبية
- ٢- طبقة الأوزون تحمي الأرض من الإشعاعات : ص-١٦٩
 - أ- فوق البنفسجية
 - ب- تحت البنفسجية
 - ج- فوق الحمراء
 - د- تحت الحمراء
- ٣- عقد مؤتمر قمة الأرض بالبرازيل لمواجهة مشكلة التلوث البيئي عام : ص-١٦٧
 - أ- ١٩٩٠ م
 - ب- ١٩٩١ م
 - ج- ١٩٩٢ م
 - د- ١٩٩٣ م
- ٤- الغاز الناتج عن عوادم السيارات ويؤدي إلى ارتفاع متزايد في حرارة الأرض: ص-١٦٩
 - أ- الأكسجين
 - ب- أكسيد الكربون
 - ج- النيتروجين
 - د- الهليوم
- ٥- يبلغ عدد الدول الأعضاء المؤسسين لجامعة الدول العربية: ص-١٧٨
 - أ- ٦ دول
 - ب- ٧ دول
 - ج- ٨ دول
 - د- ٩ دول

(ج) صنف الصناعات حسب أنواعها في مكانها الصحيح في الجدول التالي : ص ١٤١-١٤٢

(السيارات - النفط - الخشب - خامات المعادن - الورق)

الصناعات التحويلية	الصناعات التجميعية	الصناعات الاستخراجية
الخشب \ الورق	السيارات	النفط \ خامات المعادن

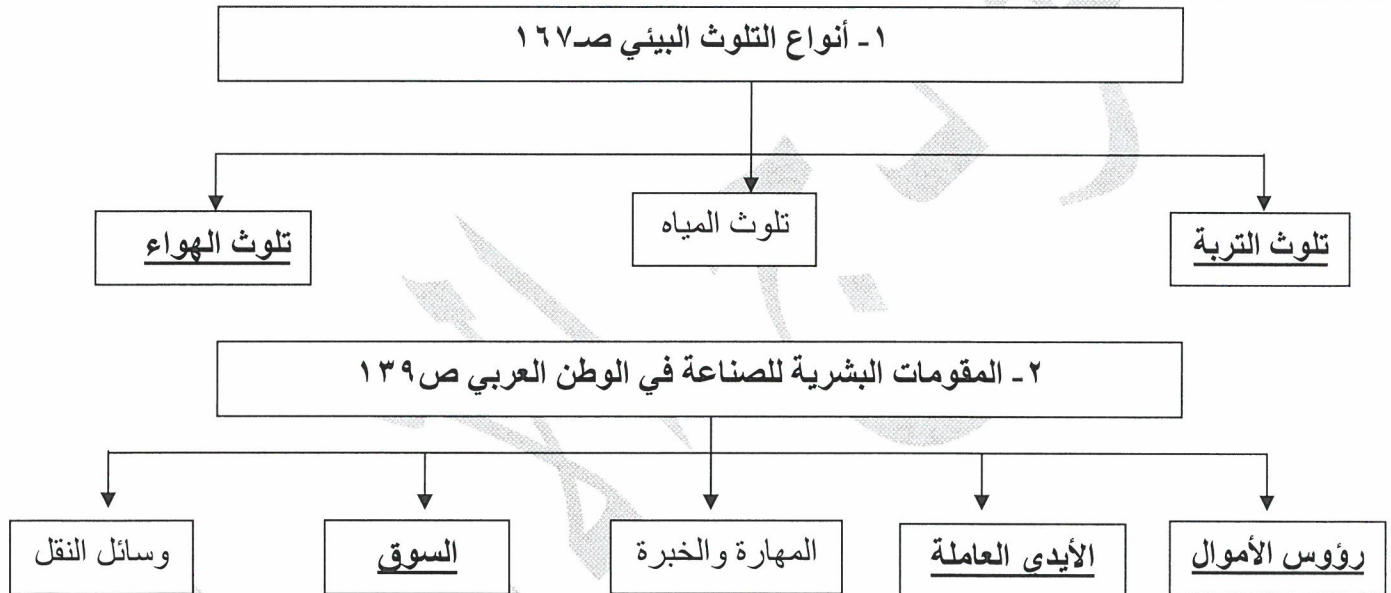


السؤال الثاني : (موضوعي) يتكون من (أ - ب - ج) (٥ نقطة × درجة واحدة = ٥ درجة)

(أ) اختر للمجموعة (أ) ما يناسبها من المجموعة (ب) بوضع الرقم الصحيح في مكانه المناسب :

الرقم	المجموعة (أ)	الرقم المناسب	المجموعة (ب)
١	القمح - الشعير - الأرز	٣	الغلات الصناعية ص ١١٤
٢	الحديد - النحاس - المنجنيز	-	الدواجن والطيور
٣	القطن - البن - قصب السكر	٥	الفواكه والأشجار ص ١١٤
٤	الأبقار - الماعز - الإبل	٢	الثروة المعدنية ص ١٣٢
٥	العنب - التمر - الموز	١	الحبوب الغذائية ص ١١٤
		٤	الثروة الرعوية ص ١١٨

(ب) أكمل المخططات السهمية التالية :



(ج) صحح ما تحته خط في العبارات التالية وذلك بكتابة التصويب فيما بين القوسين :

- ١ - أول مؤسسة للتنمية في الوطن العربي صندوق أوظيفي للتنمية. (الصندوق الكويتي للتنمية الاقتصادية العربية) ص ١٨٤
- ٢ - الحقول النفطية التي يوازي إنتاجها ٤,٧% في الوطن العربي تتركز بمنطقة الصحراء الكبرى. (خليج السويس) ص ١٢٦
- ٣ - ضرورة الاعتماد على مصادر الطاقة البديلة مثل النفط. (الشمس \ الرياح \ المياه) ص ١٧١ يكتفى بنقطة
- ٤ - تبلغ نسبة إنتاج النفط الخام في الوطن العربي بالنسبة للعالم حوالي ٦٠% (٣٠%) ص ١٢٧
- ٥ - استخدام التكنولوجيا في صناعة الأقمار الصناعية من أساليب التنمية المستدامة. (التنمية الاقتصادية) ص ١٧٣

السؤال الثالث : (مقال) يتكون من (أ - ب - ج) . (١٥ نقطة × درجة واحدة = ١٥ درجة)

(أ) فرق بين كل مما يلي من حيث التعريف:

١- الموارد الطبيعية ص ١٠٩	الموارد البشرية ص ١٠٩
هي الثروات التي منحها الله لإقليم من دون أن يكون للإنسان أي دور في وجودها .	هي التي ترتبط بالسكان من حيث أعدادهم وتوزيعهم ومناسبة أعدادهم لمساحة الأرض التي يستغلونها .
٢- النفط ص ١٢٥	الغاز الطبيعي ص ١٢٥
بقايا عضوية على هيئة نباتات وحيوانات دقيقة ترسبت في عصور قديمة وانطمرت تحت رواسب سميكة وتحولت بالضغط والحرارة إلى صورتها الحالية .	غاز مصاحب للنفط الخام أو يوجد منفرداً تتم إيسالته لاستخدامات عديدة .

(ب) علل لما يلي:

- ١- تحتل الأغنام العربية مكاناً مهماً ضمن الثروة الرعوية. ص ١١٨ (يكتفي بنقطتين)
- الأكثر انتشاراً في المراعي العربية . \ أكثر الحيوانات المستأنسة والملائمة لمراعي الوطن العربي وذلك لتحملها الجفاف والانتقال . \ لأهمية منتجاتها بالنسبة للسكان . \ لأنها مصدر أساسي من مصادر الثروة القومية .
- ٢- تدني وفرة المياه في الوطن العربي . ص ١٦٤ (يكتفي بنقطتين)
- النمو السريع للسكان الذي يشكل ضغطاً متزايداً على المياه المتوفرة لكل فرد . \ - ٥٠٪ من الموارد المائية في العالم العربي تأتي من خارج حدوده، وتتحكم فيها دول المنبع في غياب تشريعات دولية تضمن حقوقنا . \
- الطرق التقليدية المستخدمة في استغلال المياه في معظم مناطق العالم العربي مسؤولة عن تدني نسبة المياه استخدام الري بالغمر والاستهلاك غير المسؤول في مجالات المياه) . \ - الشبكات المؤهلة لنقل المياه شبكات قديمة .
- افتقار الدول العربية إلى برامج لإدارة المياه، كما أنها لا تستخدم الأدوات الاقتصادية اللازمة لترشيد الاستخدام المتزايد من المياه .

- ٣- اختلاف المنتجات الزراعية من دولة عربية إلى أخرى . ص ١١٠ (يكتفي بنقطتين)
- بسبب اختلاف المناخ \ التربة \ مدى توافر المياه في هذه الدول .

(ج) اكتب فيما يلي مما درست :

- ١- أنواع طرق النقل الموجودة بالوطن العربي ١٤٧- ١٤٨- ١٤٩- ١٥٠
- طرق النقل البرية \ طرق النقل المائية
- طرق النقل الجوي
- ٢- العقبات التي تواجه الإنتاج الزراعي بالوطن العربي . ص ١٦١ (يكتفي بنقطتين)
- عدم استغلال الأراضي القابلة للزراعة لنذرة مياه الري وتذبذب الأمطار أو قلة الأيدي العاملة .
- إتباع طرق الزراعة التقليدية في معظم أجزاء الوطن العربي .
- زحف الرمال (التصحّر) وانجراف التربة \ الرعي الجائر
- تلوث التربة نتيجة للإسراف في استخدام المبيدات الحشرية وارتفاع نسبة الملوحة في التربة

السؤال الرابع: (مقالى) يتكون من (أ - ب - ج) . (١٥ نقطة × درجة واحدة = ١٥ درجة)

(أ) أقرأ الفقرة التالية ثم أجب عما يليها من أسئلة :

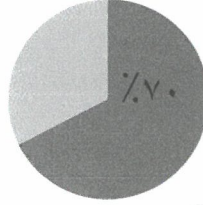
(يضم الوطن العربي حوالي ٣٨٢,٠٠٩ مليون نسمة تقريباً ويتوزعون بنسبة ٧٠٪ في القارة الأفريقية و ٣٠٪ في القارة الآسيوية وتعتمد دراسة السكان بصورة عامة على الإحصاءات السكانية مثل التعداد السكاني والإحصاء الحيوي) .

١- عدد الإحصاءات السكانية التي تعتمد عليها دراسة السكان بصورة عامة . ص ٩٩

- التعداد السكاني .

- الإحصاء الحيوي .

٢- حول النسب المئوية لتوزيع السكان في الوطن العربي في القارة الإفريقية إلى دائرة بيانية. ص ٩٩



(ب) قارن بين كل مما يلي:-

وجه المقارنة	منظمة الأوبك ص ١٣٤	منظمة الأوبك ص ١٣٥
سنة التأسيس	١٩٦٠ م	١٩٦٨ م
المقر	فيينا	الكويت
أجهزة المنظمة (يكتفى بنقطتين)	١- المؤتمر . ٢- مجلس المحافظين . ٣- الأمانة العامة .	١- المجلس الوزاري . ٢- المكتب التنفيذي . ٣- الأمانة العامة .

(ج) عرف المفاهيم والمصطلحات التالية :

١- التنمية : التطور والتطوير وهي عملية تتطلب التخطيط والمشاركة من الجميع . ص ١٧٢

٢- التبادل التجاري: عمليتا التصدير والاستيراد بين الدول. ص ١٥١

٣- التصحر: زحف رمال الصحراء على المناطق الجافة وشبه الجافة. ص ١٦٢

٤- التضامن العربي: العمل على توثيق الصلات بين الدول والشعوب العربية، وحماية مصالحها السياسية والاقتصادية والثقافية. ص ١٧٧

(انتهت الإجابة)



مدرستي معكم خطوة بخطوة للنجاح والتفوق



مدرستي

الكويتية

حمل التطبيق



مدرستي



الكويتية



اضغط هنا



وزارة التربية

الإدارة العامة لمنطقة الجهراء التعليمية
التوجيه الفني للاجتماعيات

امتحان نهاية الفترة الدراسية الثانية
لمقرر الكويت والوطن العربي
للمصف السابع المتوسط
نموذج الإجابة

العام الدراسي ٢٠٢١ / ٢٠٢٢ م
الزمن: ساعة وخمس وأربعون دقيقة
عدد الأوراق: ٥

أولاً الاسئلة الموضوعية :

السؤال الأول: يتكون من (أ - ب - ج - د - هـ) :-

(أ) أكمل العبارات التالية بما يناسبها فيما درست :- (٦×١) = ٦

- ١ - العام الذي حرق فيه أبار النفط الكويتية على يد النظام العراقي البائد ١٩٩١م ص ١٦٨
- ٢ - الدولة التي عقد بها المؤتمر الدولي الأول لمانحي سورية تسمى الكويت ص ١٨٨
- ٣ - القطاع الذي يحتل المرتبة الأولى في الاقتصاد العربي يسمى القطاع الزراعي ص ١١٠
- ٤ - الدولة العربية الأولى في إنتاج الغاز الطبيعي تسمى قطر ص ١٢٩
- ٥ - الغاز الناتج بصورة خاصة عن عوادم السيارات يسمى أول أكسيد الكربون ص ١٦٩
- ٦ - الطبقة التي تحمي الأرض من الأشعة فوق البنفسجية الضارة تسمى طبقة الأوزون ص ١٦٩

(ب) - ضع خطأ تحت الخيار الصحيح من بين الخيارات التي تلي كل عبارة : (٦×١) = ٦

- ١ - أكبر الدول العربية من حيث عدد السكان : ص ١٠٠
(مصر - السعودية - الجزائر - المغرب)
- ٢ - العام الذي تم فيه إنشاء الصندوق الكويتي للتنمية الاقتصادية العربية: ص ١٧٩
(١٩٦١م - ١٩٦٢م - ١٩٦٣م - ١٩٦٤م)
- ٣ - صناعة الخشب والورق من الصناعات: ص ١٤٢
(التجميعية - التحويلية - الاستخراجية - التجميعية)
- ٤ - الدولة التي عقد فيها مؤتمر قمة الأرض عام ١٩٩٢م : ص ١٦٧
(فرنسا - ألمانيا - البرازيل - الإمارات)
- ٥ - اليمن الدولة العربية الأولى في إنتاج محصول: ص ١١٤
(العنب - البرتقال - البن - التمر)
- ٦ - يبلغ عدد دول الوطن العربي : ص ٩٩
(٢٠ دولة - ٢١ دولة - ٢٢ دولة - ٢٣ دولة)

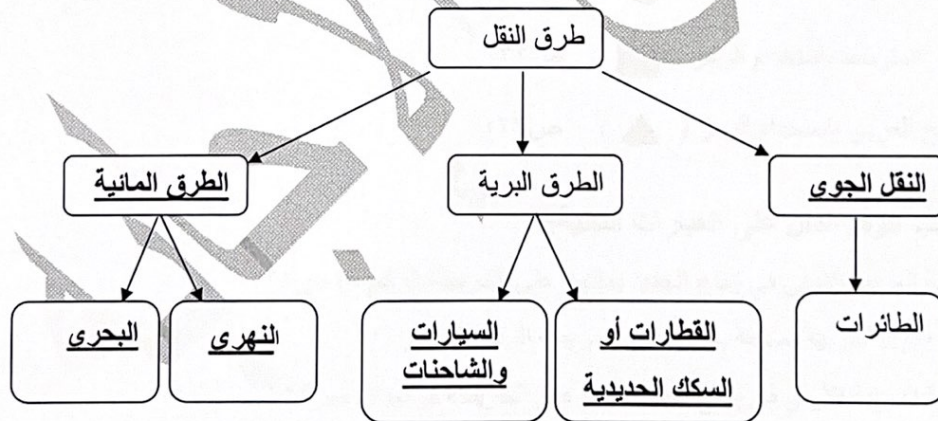


تابع إجابة امتحان مقرر الكويت والوطن العربي- الصف السابع- الفترة الدراسية الثانية- العام الدراسي ٢٠٢١/٢٠٢٢ م

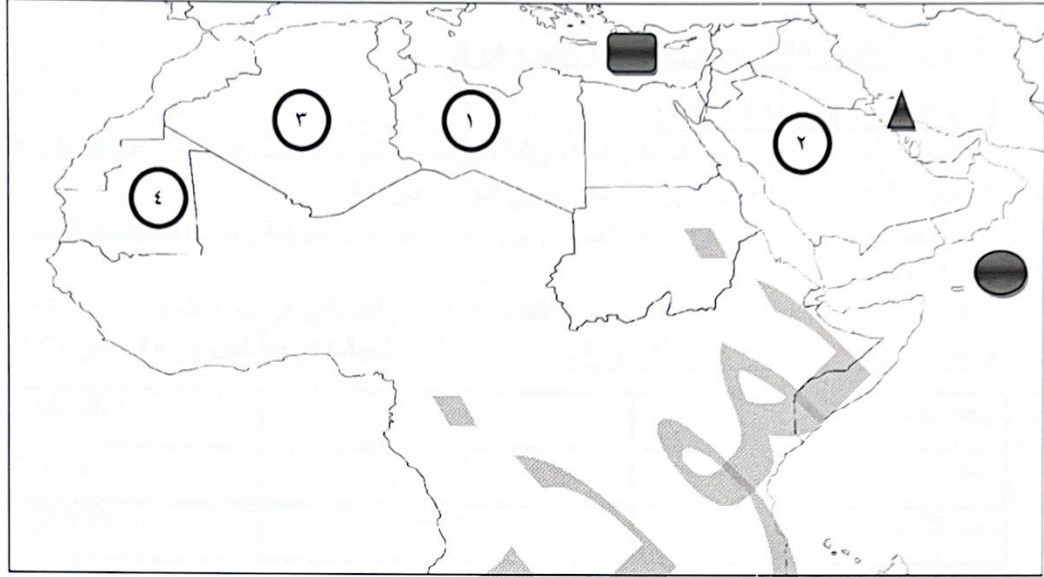
(ج) صوب ما تحته خط في العبارات التالية: (٦×١)=٦

١- يعد رأس المال والأسواق من مقومات الصناعة <u>الطبيعية</u>	(البشرية) ص ١٣٩
٢- الصناعات الأولى في العالم هي الصناعات <u>البتر وكيميائية</u>	(الحرفية) ص ١٤٣
٣- القمح والأرز والشعير يعتبر نوع من أنواع <u>الفواكه</u>	(الحبوب الغذائية) ص ١١٣
٤- بقاء العناصر الطبيعية في حالة التوازن تسمى <u>التوازن الطبيعي</u>	(التوازن البيئي) ص ١٧٠
٥- يفضل السكان العيش في المناطق <u>الجبلية</u>	(السهلية) ص ١٠٣
٦- أكثر الدول العربية إنتاجاً للزيت <u>السعودية</u>	(الصومال) ص ١١٨

(د) أملأ الفراغ في المخطط السهمي التالي: (٦×١)=٦ : ص ١٤٧-١٥٠



(هـ) لاحظ خريطة الوطن العربي الصماء ثم نفذ المطلوب منك (٦×١) = ٦ :-



أولاً: عين على الخريطة باستخدام الرموز التالية :

- ١- المحيط الهندي باستخدام الرمز (●) ص ١٣٣
- ٢- البحر المتوسط باستخدام الرمز (■) ص ١٣٣
- ٣- الخليج العربي باستخدام الرمز (▲) ص ١٣٣

ثانياً: اكتب الرقم الدال على العبارات التالية:

- ١- الدولة العربية الأولى في إنتاج الحديد يمثلها على الخريطة الرقم (٤) ص ١٣٢
- ٢- أكبر الدول العربية مساحة يمثلها على الخريطة الرقم (٣) ص ١٠٠
- ٣- الدولة العربية الأولى في إنتاج النفط يمثلها على الخريطة الرقم (٢) ص ١٢٩

تابع إجابة امتحان مقرر الكويت والوطن العربي- الصف السابع- الفترة الدراسية الثانية- العام الدراسي ٢٠٢٢/٢٠٢١ م

ثانياً الأسئلة المقالية :

السؤال الثاني : مقالتي يتكون من (أ ، ب ، ج) :

(أ) عرف ما يلي (١×٤)=٤ :

- ١- التلوث: الضرر الذي يلحق بالتربة والهواء والماء، ويصيب التلوث عناصر البيئة من عدة مصادر للتلوث ص ١٦٦
 - ٢- التبادل التجاري: عملية التصدير والاستيراد بين الدول ص ١٥١
 - ٣- التضامن العربي: العمل على توثيق الصلات بين الدول والشعوب العربية وحماية مصالحها السياسية والاقتصادية والثقافية ص ١٧٧
 - ٤- الطاقة : قوى محركة للآلات وعنصر مهم للتقدم والتطور الاقتصادي في جميع المجالات ص ١٢٥
- (ب) قارن بين كل من (١/٢×٤)=٢ : (نصف درجة لكل جزء) ص ١٣٤-١٣٦

وجه المقارنة	الأوبك	الأوابك
المقر	فيينا	الكويت
عام التأسيس	١٩٦٠ م	١٩٦٨ م

(ج) علل لما يلي (الذكر السبب) (١×٨)=٨ :

- ١- تحتل الأغنام العربية مكاناً مهماً ضمن الثروة الرعوية ص ١١٨ ثلاث درجات يكتفى بثلاث نقاط
 - أ- الأكثر انتشاراً في المراعي العربية ب- أكثر الحيوانات المستأنسة والملائمة لمراعي الوطن العربي وذلك لتحملها الجفاف ج- أهمية منتجاتها بالنسبة للسكان د- مصدر أساسي من مصادر الثروة القومية
- ٢- اختلاف أنواع المنتجات الزراعية من دولة عربية إلى أخرى . ص ١١٠ ثلاث درجات
 - أ- لاختلاف المناخ . ب- لاختلاف التربة ج- ومدى توافر المياه .
- ٣- تدني وفرة المياه في الوطن العربي . ص ١٦٤ درجتان يكتفى بنقطتين
 - أ- النمو السريع للسكان ب- ٥٠% من موارده المائية تأتي من خارج حدوده تتحكم فيه دول المنبع في ظل غياب تشريعات دولية تضمن ذلك ج- الطرق التقليدية المستخدمة في استغلال المياه مثل الري بالغمر والاستهلاك الغير مسؤول في مجالات المياه د- الشبكات الغير مؤهلة لنقل المياه شبكات قديمة هـ -افتقار الدول العربية إلى برامج لإدارة المياه ، كما أنها لا تستخدم الأدوات الاقتصادية اللازمة لترشيد الاستخدام المتزايد للمياه .
- ٤- يتمتع النفط العربي بمكانة مهمة على المستوى العالمي . ص ١٣١ درجة يكتفى بنقطة
 - نظراً لأهمية الدول الصناعية المتقدمة في أوروبا واليابان والولايات المتحدة الأمريكية .



تابع إجابة امتحان مقرر الكويت والوطن العربي- الصف السابع- الفترة الدراسية الثانية- العام الدراسي ٢٠٢١/٢٠٢٢م

السؤال الثالث :- مقالتي يتكون من (أ ، ب ، ج) :-

(أ) :- أقرأ الفقرة التالية ثم أجب عما يليها من أسئلة : (١×٥) = ٥ ص ١٦٢-١٦٣

" تواجه دول الوطن العربي مشكلات وتحديات كثيرة من ضمن هذه التحديات التصحر كونه يقع في المناطق الجافة وشبه الجافة والتي تكونت بسبب عوامل بشرية وطبيعية، لكن الدول العربية تعمل على علاج تلك المشكلة بسياسة تنموية وخططاً إستراتيجية "

١- ضع عنواناً للفقرة السابقة. (درجة)

- (ما يراه المصحح مناسباً)

٢ - عرف ما تحته خط . (درجة)

التصحر: زحف رمال الصحراء على المناطق الجافة وشبه الجافة ص ١٦٢.

٣- استخلص من الفقرة أسباب التصحر . ص ١٦٢ (درجتان)

أ- بشرية ب- طبيعية

٤- اذكر اسماء دولتان عربيتان تعتبران من أكثر الدول العربية تهديداً بالتصحر. ص ١٦٢

أ- السودان ب- الصومال ج- موريتانيا (نصف درجة لكل نقطة)

(ب) عدد مايلي: (١×٨) = ٨ يكتفى بنقطتين

١- وسائل الري الحديثة. ص ١٦٥

أ- الري (الرش) بالتنقيط . ب- الري (الرش) المحوري.

٢- أنواع التنمية في الوطن العربي. ص ١٧٣

أ- تنمية مستدامة ب- تنمية اقتصادية ج- تنمية بشرية

٣- الإحصاءات السكانية في الوطن العربي. ص ٩٩

أ- التعداد السكاني ب- الإحصاء الحيوي

٤- مصادر الطاقة البديلة (المتجددة) ص ١٧١

أ- الشمس ب- المياه ج- الرياح

(ج) فرق من حيث التعريف بين كل من: (١×٢) = ٢

الموارد الطبيعية ص ١٠٩	الموارد البشرية ص ١٠٩
ثروات منحها الله تعالى للإقليم من دون أن يكون للإنسان أي دور في وجودها مثل الثروات المعدنية والغابات والمراعي والموارد المائية وموقع الإقليم.	هي التي ترتبط بالسكان من حيث أعدادهم وتوزيعهم ومناسبة أعدادهم لمساحة الأرض التي يستغلونها .





وزارة التربية

الإدارة العامة لمنطقة الجاهراء التعليمية
التوجيه الفني للاجتماعيات

امتحان المنهج الكامل
لمقرر الكويت والوطن العربي
للفص السابع المتوسط
نموذج الإجابة

العام الدراسي: ٢٠٢١/٢٠٢٢ م
الزمن : ساعة وخمسة وأربعون دقيقة
عدد الأوراق : (٦)

أولاً: الأسئلة الموضوعية :-

السؤال الأول : يتكون من (أ- ب - ج - د - هـ - و) - (٣٠ درجة - درجة واحدة لكل إجابة)

(أ) - اكمل العبارات التالية بما يناسبها فيما درست : (١×٦=٦)

- ١- الدولة التي انضمت حديثاً لجامعة الدول العربية عام ١٩٩٣ تسمى جزر القمر. ص ٢٣
 - ٢- أكثر الأشكال التضاريسية انتشاراً في الوطن العربي تسمى الهضاب ص ٤٠
 - ٣- الدولة العربية التي يقع فيها جبال عسير تسمى السعودية. ص ٣٨
 - ٤- تعرف الحشائش الحارة باسم السافانا. ص ٥٢
 - ٥- تم إنشاء الصندوق الكويتي للتنمية الاقتصادية العربية في عام ١٩٦١ م. ص ١٧٩
 - ٦- العام الذي عقد فيه مؤتمر قمة الأرض لمواجهة التلوث البيئي في البرازيل ١٩٩٢ م. ص ١٦٧
- (ب) - ظلل (أ) إذا كانت العبارة صحيحة وظلل (ب) إذا كانت العبارة خاطئة : (٤×٤=٤)

م	العبارة	أ	ب
١	أصبحت الكويت تعتمد اعتماداً كاملاً على تحلية مياه البحر منذ عام ١٩٥٤ م ص ٦١		
٢	الإنجيل من الكتب السماوية نزل على سيدنا عيسى بن مريم ص ٩٠		
٣	تعد الحبوب الغذائية من أهم المزروعات في الوطن العربي حيث تشغل مساحة كبيرة من الأراضي المزروعة ص ١١٣		
٤	تنتشر تربية الدواجن والطيور في جميع الدول العربية ص ١٢٠		



(ج) ضع خطاً تحت الخيار الصحيح من بين الخيارات التي تلي كل عبارة: (5=5×1)

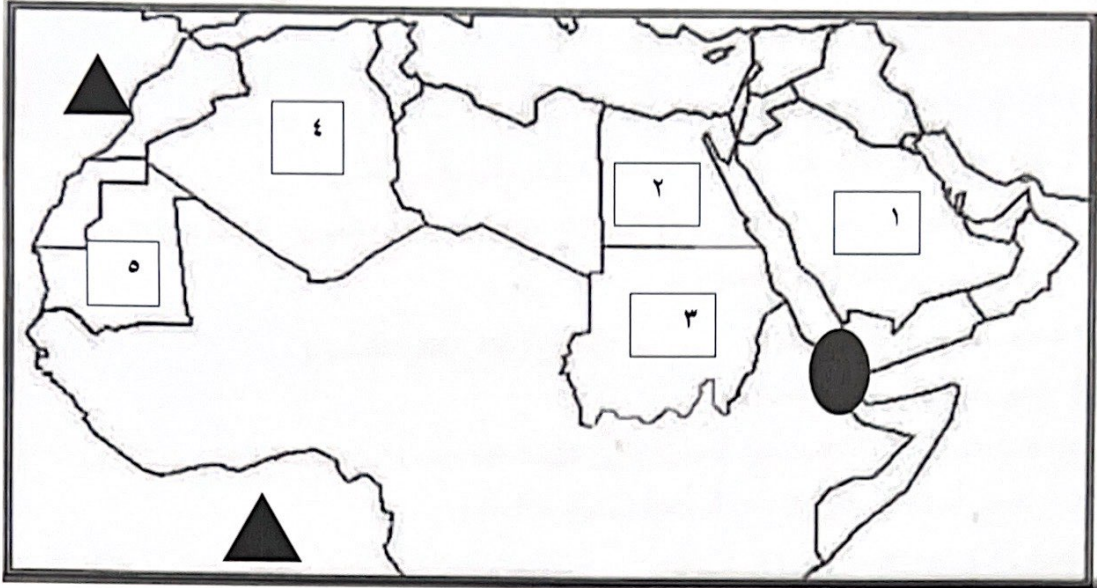
- ١- الدولة العربية التي يمر بها خط الاستواء . ص ٣١
 - مصر .
 - السعودية .
 - الصومال .
 - الجزائر .
- ٢- صناعة السيارات في الوطن العربي تعتبر من الصناعات . ص ١٤٣
 - الحرفية .
 - التجميعية .
 - البتر وكيمائية .
 - الاستخراجية .
- ٣- العام الذي أنزل فيه القرآن الكريم على سيدنا محمد صلى الله عليه وسلم . ص ٩٠
 - ٦١٠ م .
 - ٦٢٠ م .
 - ٦٣٠ م .
 - ٦٤٠ م .
- ٤- أكثر مصادر الملوثات انتشاراً في الوطن العربي. ص ١٦٦
 - الفيزيائي .
 - الصناعي .
 - الكيميائي .
 - الزراعي .
- ٥- تشكل نسبة القطاع الزراعي من الاقتصاد العربي . ص ١١٠
 - ٢٠% .
 - ٣٠% .
 - ٤٠% .
 - ٥٠% .

(د) اكتب المفاهيم و المصطلحات الدالة على العبارات التالية: (5=5×1)

م	المفهوم او المصطلح	العبارة
1	الموقع الاستراتيجي ص ٢٨	أي موقع ذي مكانة مهمة بين دول العالم.
2	الحضارة ص ٧١	كل ما يطرأ على المجتمع من تقدم ورقي في جميع نواحي الحياة الدينية والسياسية والاقتصادية والفكرية.
3	التلوث ص ١٦٦	هو الضرر الذي يلحق بالتربة والهواء والماء ويصيب التلوث عناصر البيئة من عدة مصادر للملوثات .
4	الطاقة ص ١٢٥	قوى محركة للألات وعنصر مهم للتقدم والتطور الاقتصادي في جميع المجالات.
5	كثافة السكان ص ١٠٢	نسبة عدد السكان الكلي في دولة ما أو منطقة ما إلى المساحة الكلية لهذه الدولة أو المنطقة .



(هـ) - لاحظ خريطة الوطن العربي الصماء ثم نفذ عليها المطلوب : (٥=٥×١)



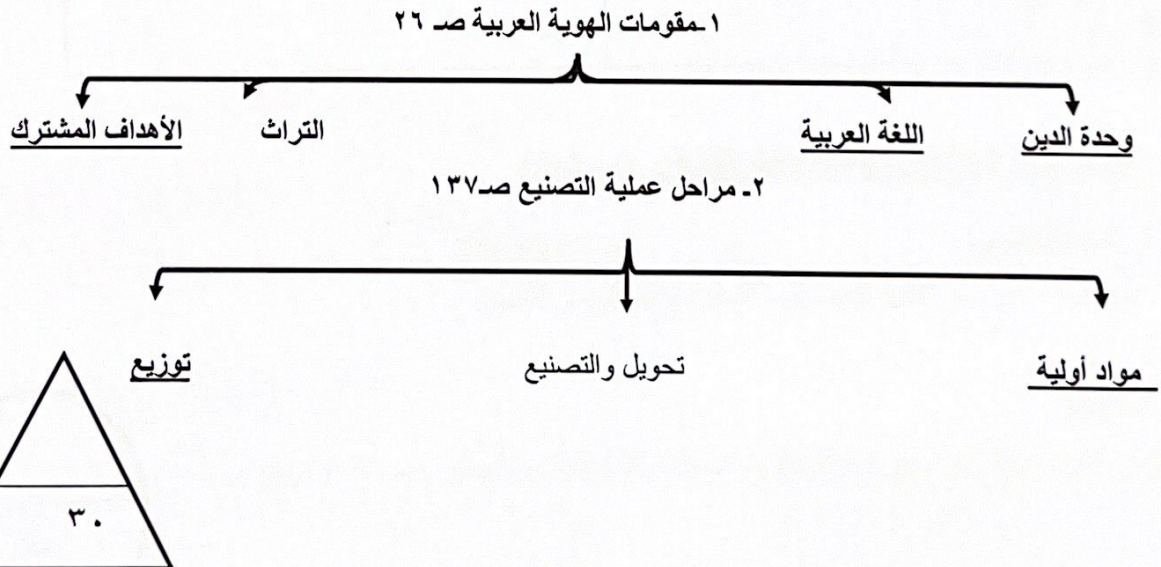
(١) - أكتب الرقم الدال على العبارات التالية :-

- الدولة العربية الأولى في إنتاج الأغنام يمثلها على الخريطة الرقم . (٣) ص ١١٨
- أولى الدول العربية في إنتاج معدن الحديد يمثلها على الخريطة الرقم . (٥) ص ١٣٢
- الدولة العربية الأولى في إنتاج واحتياط النفط يمثلها على الخريطة الرقم . (١) ص ١٢٩

(٢) - حدد على الخريطة باستخدام الرموز التالية :-

- مضيق باب المندب باستخدام الرمز . (●) ص ٢٨
- المحيط الأطلسي باستخدام الرمز . (▲) ص ٣٣

(و) - اكمل المخطط السهمي التالي : (٥=٥×١)



ثانياً: الأسئلة المقالية :

السؤال الثاني : يتكون من (أ - ب - ج) :

(أ) - عدد ما يلي : $(4=2 \times 2)$

١- مصادر المياه في الوطن العربي. ص ٥٧ (درجتان يكتفي بنقطتين)

(أ) مياه الأنهار . (ب) الأمطار . (ج) البحيرات . (د) المياه الجوفية العيون - الينابيع - الأفلاج .
(هـ) مياه البحار والمحيطان والخلجان .

٢- أهداف الصناعة البتروكيميائية. ص ١٤٥ (درجتان يكتفي بنقطتين)

(أ) تنويع مصادر الدخل للدولة المنتجة .

(ب) توفير الموارد الأولية لصناعات التحويلة لتأمين حاجات القطاعات الاستهلاكية خاصة في مجال البناء .

(ج) تطوير الصناعات البتروكيميائية إلى تقنيات متخصصة عالية.

(ب) - فرق بين كل من : $(4=4 \times 1)$

المناخ ص ٤٤	الطقس ص ٤٤
حالة الجو خلال فترة زمنية طويلة من حيث درجة الحرارة والرطوبة والأمطار والرياح .	حالة الجو في مكان لمدة قصيرة تتراوح بين يوم أو عدة أيام من حيث درجة الحرارة والرطوبة والأمطار والرياح والضغط الجوي .
الموارد البشرية ص ١٠٩	الموارد الطبيعية ص ١٠٩
هي التي ترتبط بالسكان من حيث أعدادهم وتوزيعهم ومناسبة أعدادهم لمساحة الأرض التي يستغلونها .	الثروات التي منحها الله لإقليم من دون أن يكون للإنسان أي دور في وجودها .

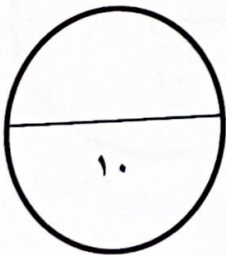
(ج) - عرف المفاهيم والمصطلحات التالية : $(2=2 \times 1)$

١- النبات الطبيعي. ص ٥١ (درجة)

هو النبات الذي ينمو تلقائياً عقب سقوط المطر دون تدخل من الإنسان.

٢- التنمية .

تعني التطور والتطوير وهي عملية تتطلب التخطيط والمشاركة من الجميع . ص ١٧٢ (درجة)



السؤال الثالث : يتكون من (أ - ب - ج) :

(أ) - قارن بين كل من : ($5=5 \times 1$)

أوجه المقارنة	الغابات المدارية ص ٥٢	الغابات المعتدلة
مميزاتها (درجة لكل نقطة)	*تمتاز بضخامة أشجارها وجذوعها. *تشابك أغصانها *أوراقها عريضة. * ارتفاعها كبير (يكتفي بنقطة واحدة)	*تنسم بعدم كثافتها * بعضها يكون دائم الخضرة وبعضها الآخر تتساقط أوراقه في فصل الشتاء (يكتفي بنقطة واحدة)
أسماء أهم الأشجار (نصف درجة لكل نقطة)	*الساج * الماهوجني * الأبنوس *السدر * الأثل * السنط (يكتفي بنقطة واحدة)	*الأرز * العرعر * الصنوبر الحلبي * البلوط * السنديان *أشجار التفاح والزيتون والحمضيات والفواكه الأخرى البرية. (يكتفي بنقطة واحدة)
استخداماتها (درجة لكل نقطة)	*البناء * صناعة الأثاث (يكتفي بنقطة واحدة)	*يستخدم لحاء البلوط والسنديان في صناعة الفلين (يكتفي بنقطة واحدة)

(ب) - علل لما يأتي (انكر السبب) : ($3=3 \times 1$ درجة لكل إجابة)

١ - تسمى الغلات الصناعية والتجارية بالغلات النقدية . ص ١١٣

• تدخل في الصناعة وتزرع بغرض التجارة والحصول على نقد .

٢ - يتمتع النفط العربي بمكانة مهمة على المستوى العالمي . ص ١٣١

• نظراً لأهميته للدول الصناعية المتقدمة في أوروبا واليابان والولايات المتحدة الأمريكية .

٣ - تختلف أنواع المنتجات من دولة عربية إلى أخرى . ص ١١٠

• بسبب اختلاف المناخ والتربة ومدى توافر المياه في هذه الدول .

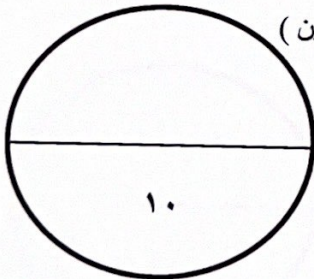
(ج) - عدد المشكلات التي تواجه التنمية البشرية . ص ١٧٥ (درجتان يكتفي بنقطتين)

• ضعف الاستفادة من القدرات البشرية في المنطقة العربية .

• مشكلة الأمية .

• نقص ومحدودية مشاركة المرأة في المنظمات السياسية .

• الاختلاف الكبير في مستويات المعيشة بين دولة وأخرى .



السؤال الرابع : يتكون من (أ - ب) :

(أ) اقرأ الفقرة التالية ثم اجب عما يليها من الاسئلة :

(موقع الوطن العربي في المناطق الجافة وشبه الجافة يعرضه بشكل أساسي لمشكلة التصحّر حيث تتحول الأراضي الزراعية إلى أراضٍ صحراوية غير منتجة وتعتبر السودان والصومال وموريتانيا أكثر الدول العربية تهديداً بالتصحّر) .

١- عرف ما تحته خط . ص ١٦٢ (درجة)

التصحّر: هو زحف رمال الصحراء على المناطق الجافة وشبه الجافة .

٢- عدد أسباب التصحر. ص ١٦٢ . (درجتان)

* بشرية * طبيعية

٣- ما العقبات التي تواجه الإنتاج الزراعي في الوطن العربي . ص ١٦١ (درجتان يكتفي بنقطتين)

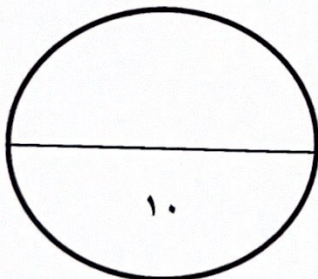
* عدم استغلال الأراضي القابلة للزراعة لندرة مياه الري أو تنذب الأمطار أو قلة الأيدي العاملة .

* اتباع طرق الزراعة التقليدية في معظم أجزاء الوطن العربي . * زحف الرمال التصحر وانجراف التربة .

* تلوث التربة نتيجة للإسراف في استخدام المبيدات الحشرية . * الرعي الجائر .

(ب) - قارن بين كل من :

معايير المقارنة	منظمة الأوبك ص ١٣٤	منظمة الأوبك ص ١٣٥
التعريف	منظمة عالمية تعتمد علي تصدير النفط (درجة)	منظمة الدول العربية المصدرة للنفط (درجة)
سنة التأسيس	١٩٦٠ م (درجة)	١٩٦٨ م (درجة)
مقر المنظمة	فيينا (نص درجة)	الكويت (نص درجة)



مدرستي معكم خطوة بخطوة للنجاح والتفوق



مدرستي

الكويتية

حمل التطبيق



مدرستي



الكويتية



اضغط هنا



وزارة التربية
الإدارة العامة للتعليم الخاص
التوجيه الفني للاجتماعيات

امتحان نهاية الفترة الدراسية الثانية
لمادة الاجتماعيات مقرر (الكويت والوطن العربي)
للمصف السابع المتوسط

العام الدراسي ٢٠٢١ - ٢٠٢٢ م
الزمن : ساعة ونصف
عدد الأوراق: ٥

أجب عن جميع الأسئلة التالية :

السؤال الأول : يتكون من (أ - ب - ج) :

(أ) أكمل العبارات التالية بما يناسبها: (١ × ٥ = ٥ درجات)

- ١- الصناعات التي تقتصر على استخراج مصادر الطاقة والخامات من باطن الأرض تسمى الاستخراجية. ص ١٤١
- ٢- أول مؤسسة للتنمية في الوطن العربي تسمى الصندوق الكويتي للتنمية. ص ١٨٤
- ٣- أقل الدول العربية من حيث عدد السكان تسمى جزر القمر. ص ١٠٠
- ٤- تبلغ نسبة إنتاج النفط الخام في الوطن العربي من نسبة إنتاج العالم حوالي ٣٠% . ص ١٢٧
- ٥- الدولة التي عقد بها أكبر مؤتمر للأمم المتحدة عام ١٩٩٢ م تسمى البرازيل. ص ١٦٧

(ب) اكتب المفاهيم أو المصطلحات الدالة على العبارات التالية: (١ × ٥ = ٥ درجات)

م	المفهوم	العبرة
١	الغلات النقدية	الغلات التي تزرع بهدف بغرض التجارة والحصول على نقد . ص ١١٣
٢	الموار البشرية	ترتبط بالسكان من حيث أعدادهم وتوزيعهم ومناسبة أعدادهم لمساحة الأرض التي يستغلونها . ص ١٠٩
٣	الكثافة السكانية	نسبة عدد السكان الكلي في دولة ما إلى المساحة الكلية لهذه الدولة . ص ١٠٢
٤	الغاز الطبيعي	غاز مصاحب للنفط الخام ، أو يوجد منفرداً ، يتم إرساله لاستخدامات عديدة . ص ١٢٥
٥	التبادل التجاري	عملية التصدير والاستيراد بين الدول . ص ١٥١

(ج) صنف مقومات الصناعة التالية حسب الجدول التالي :- (١ × ٥ = ٥ درجات)

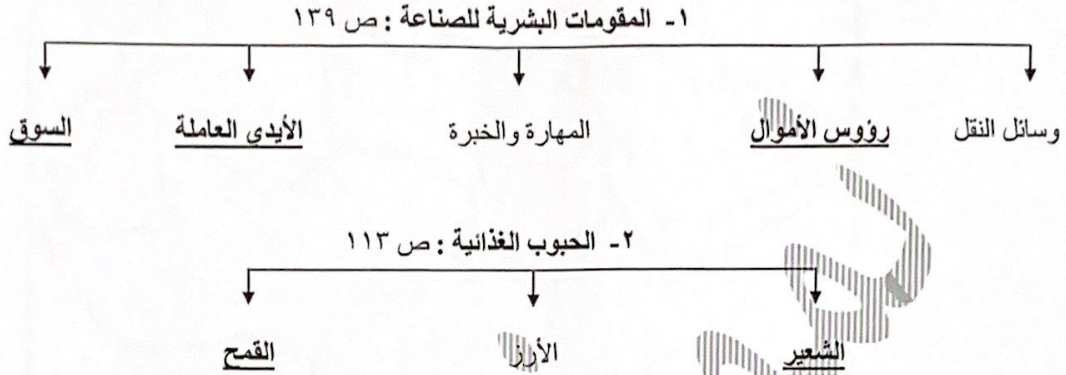
(البترول - نباتية - حيوانية - معدنية - الغاز الطبيعي) ص ١٣٩

المواد الخام	الطاقة
نباتية - حيوانية - معدنية	البترول - الغاز الطبيعي



السؤال الثاني : - يتكون من (أ - ب - ج) :

(أ) اكمل المخططات السهمية التالية : (١ × ٥ = ٥ درجات)



(ب) ضع خطأ تحت الخيار الصحيح من بين الخيارات التي تلي كل عبارة :- (١ × ٥ = ٥ درجات)

١- الدولة العربية التي تحتل المرتبة الأولى عربياً في إنتاج معدن الرصاص : ص ١٣٢

- المغرب - موريتانيا - السعودية - مصر

٢- نسبة الموارد المائية في العالم العربي والتي تأتي من خارج حدوده : ص ١١٤

- ٥٠ % - ٦٠ % - ٧٠ % - ٨٠ %

٣- العام الذي استضافة فيه دولة الكويت أكبر وأهم مؤتمر قمة عربية : ص ١٨٦

- ٢٠٠٦ م - ٢٠٠٧ م - ٢٠٠٨ م - ٢٠٠٩ م

٤- أكثر أنواع التلوث انتشاراً : ص ١٦٦

- البقايا الصلبة - الكيميائي - تراكم النفايات - المواد البلاستيكية

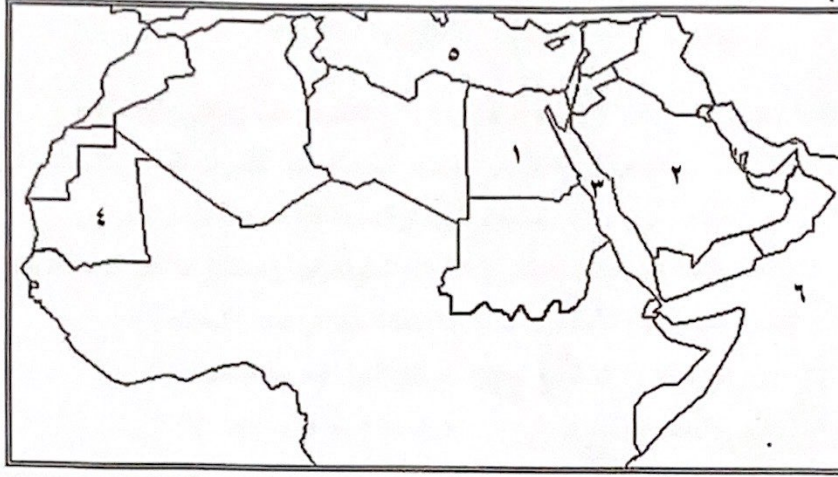
٥- عدد الدول العربية : ص ٩٩

- ٢٠ - ٢١ - ٢٢ - ٢٣

تابع / السؤال الثاني : -

(ج) لاحظ خريطة الوطن العربي التي أمامك ثم استخرج منها الرقم الدال على العبارات التالية :

(١ × ٥ = ٥ درجات)



- الدولة العربية الأولى في إنتاج النفط الخام يمثلها على الخريطة الرقم (٢) ص ١٢٩
- الدولة العربية الأولى في إنتاج معدن الحديد يمثلها على الخريطة الرقم (٤) ص ١٣٢
- أكثر الدول العربية من حيث السكان يمثلها على الخريطة الرقم (١) ص ١٠٠
- البحر الأحمر يمثل على الخريطة الرقم (٣) ص ١٣٣
- بحر العرب يمثل على الخريطة الرقم (٦) ص ١٣٣

السؤال الثالث : يتكون من (أ - ب - ج) :

(أ) نفذ المطلوب من بين الأقواس :

١ - حاجات الإنسان التي تؤمنها الصناعات التحويلية . (اذكرها) ص ١٤٢ (درجتان ويكتفى بنقطتين)
- المسكن . - الغذاء . - اللبس . - الأدوات . - الآلات .

٢ - طرق المحافظة على ثروة المياه . (عددها) ص ١٦٥ (ثلاث درجات ويكتفى بثلاث نقاط)
- ترشيد استخدام المياه والحد من التبذير في المنازل . - تطوير استعمال مياه الصرف الصحي المعالجة في الزراعة .
- الحد من هدر المياه في عمليات الري وذلك باستخدام الوسائل الحديثة كالرش بالتنقيط والمحوري .
- تنظيم عملية الاستفادة من المياه الجوفية ومنع تسرب الأملاح الملوثة إليها واستثمارها على الوجه الأمثل .
- إقامة البحيرات والسدود لتجميع مياه الأمطار والسيول للاستفادة منها في فصل الجفاف .
- توقيع اتفاقيات مع الدول المشاركة ودول المنبع لتحقيق مصالح الدول العربية المعنية .

(ب) عرف المفاهيم والمصطلحات التالية : (١ × ٥ = ٥ درجات)

م	المفهوم	العبارة
١	التوازن البيئي	بقاء عناصر الطبيعة في حالة من التوازن لتؤدي وظائفها على اكمل وجه . ص ١٧٠
٢	التصحّر	زحف رمال الصحراء على المناطق الجافة وشبه الجافة . ص ١٦٢
٣	الموارد الطبيعية	الثروات التي منحها الله لإقليم من دون أن يكون للإنسان أي دور في وجودها . ص ١٠٩
٤	التلوث	الضرر الذي يلحق بالتربة والهواء والماء، ويصيب التلوث عناصر البيئة من عدة مصادر للملوثات . ص ١٦٦
٥	التنمية	التطور والتطوير ، وهي عملية تتطلب التخطيط والمشاركة من الجميع . ص ١٧٢

(ج) علل لما يلي :

- ١- تعد الصناعات الحرفية الصناعات الأولى في العالم . ص ١٤٣ (٣ درجات)
- تستخدم مواد أولية محلية .
- تعتمد على المجهود البشري .
- تختص بعض العائلات باحتراف بعض منها حيث يتوارث فيها الأبناء الخبرة عن آبائهم .
- ٢- تختلف أنواع المنتجات الزراعية من دولة عربية إلى أخرى . ص ١١٠ (درجتان ويكتفى بنقطتين)
- اختلاف المناخ . - التربة . - مدى توافر المياه في هذه الدول .



السؤال الرابع: يتكون من (أ - ب - ج):

(أ) برهن على صحة العبارات التالية :

- ١- تحتل الأغنام مكاناً مهماً ضمن الثروة الرعوية. ص ١١٨ (درجتان ويكتفى بنقطتين)
- الأكثر انتشاراً في المراعي العربية.
- أكثر الحيوانات المستأنسة والملائمة لمراعي الوطن العربي ، وذلك لتحملها الجفاف والانتقال .
- لأهمية منتجاتها بالنسبة للسكان . - لأنها مصدر أساسي من مصادر الثروة القومية .
- ٢- العقبات التي تواجه الإنتاج الزراعي في الوطن العربي . ص ١٦١ (درجتان ويكتفى بنقطتين)
- عدم استغلال الأراضي القابلة للزراعة لندرة مياه الري أو تذبذب الأمطار أو قلة الأيدي العاملة .
- اتباع طرق الزراعة التقليدية في معظم أجزاء الوطن العربي .
- زحف الرمال (التصحر) وانجراف التربة . - الرعي الجائر .
- تلوث التربة نتيجة للإسراف في استخدام المبيدات الحشرية وارتفاع نسبة الملوحة بالتربة .

(ب) قارن بين كل من :

وجه المقارنة	منظمة الدول المصدرة للنفط	منظمة الأقطار العربية المصدرة للنفط
	أوبك ص ١٣٤	أوابك ص ١٣٥
سنة التأسيس	١٩٦٠ م (درجة)	١٩٦٨ م (درجة)
المقر	- فيينا (درجة)	- الكويت . (درجة)
الدول المؤسسة (يكتفى بدولة واحدة)	الكويت - السعودية - العراق إيران - فنزويلا (درجة)	الكويت - السعودية - ليبيا (درجة)

(ج) اقرأ الفقرة التالية ثم أجب عن الأسئلة التالية : ص ١٦٣

عالجت الدول العربية المشكلات المرتبطة بالزراعة بسياسة تنموية وخطط استراتيجية حققت زيادة في الإنتاج وزيادة المساحة المزروعة .

- ١- استنتج ما حققته الدول العربية في معالجة مشاكل الزراعة . (ثلاث درجات ويكتفى بثلاث نقاط)
- زيادة الإنتاج .
- زيادة المساحات المزروعة . - إقامة مشروعات الري .
- ٢- ما النتائج المترتبة على غياب سياسة زراعية على صعيد العالم العربي ؟ (درجتان ويكتفى بنقطتين)
- تشابه المحاصيل . - تنافسها في الأسواق العربية . - غياب محاصيل أخرى أساسية يمكن إنتاجها محلياً .



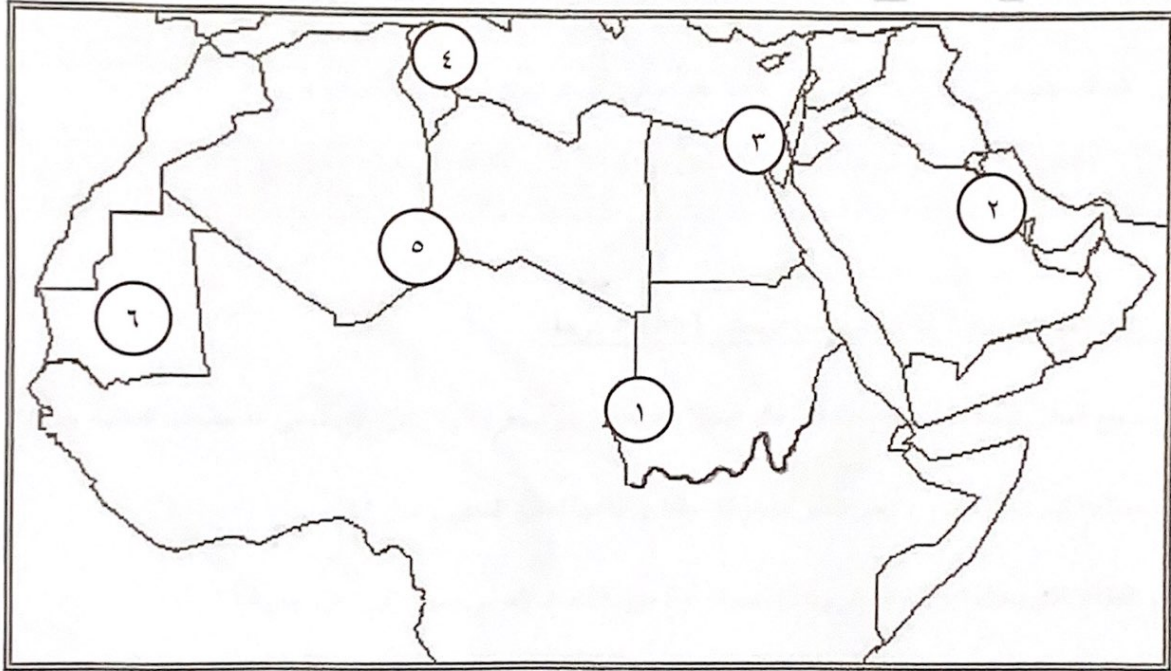
وزارة التربية
الإدارة العامة للتعليم الخاص
التوجيه الفني للاجتماعيات

العام الدراسي: ٢٠٢٢/٢٠٢١ م
الزمن: ساعة ونصف
عدد الصفحات: (٥)

امتحان المنهج الكامل
لمقرر الكويت والوطن العربي
للمصف السابع
(نموذج الإجابة)

- السؤال الأول: ويتكون من (أ - ب - ج):

أ- أمامك خريطة الوطن العربي الصماء - أكتب الرقم الدال على العبارات التالية:



- ١ - قناة السويس يمثلها على الخريطة الرقم (٣). ص ٢٨
- ٢ - جبل مره يمثلها على الخريطة الرقم (١). ص ٣٨
- ٣ - نهر المجردة يمثلها على الخريطة الرقم (٤). ص ٤٢-٥٨
- ٤ - حضارة دلمون يمثلها على الخريطة الرقم (٢). ص ٧١
- ٥ - الدولة العربية الأولى في انتاج الحديد يمثلها على الخريطة الرقم (٦). ص ١٣٢-١٣٣



تابع/ السؤال الأول:

ب- اكتب المفهوم أو المصطلح الدال على العبارات التالية: $5 \times 1 = 5$ درجات

المفهوم أو المصطلح	العبارات
التنمية	تعني التطور والتطوير وهي عملية تتطلب التخطيط والمشاركة من الجميع. ص ١٧٢
التصحّر	زحف رمال الصحراء على المناطق الجافة وشبه الجافة. ١٦٢
الضغط الجوي	وزن الهواء فوق أي مكان. ص ٤٤
النبات الطبيعي	النبات الذي ينمو تلقائياً عقب سقوط المطر دون تدخل من الإنسان. ص ٥١
الجبل	هو كل ما ارتفع من الأرض وله قمة لا يقل ارتفاعها عن ١٠٠٠ متر. ص ٣٨

ج- أكمل العبارات التالية بما يناسبها مما درست: $5 \times 1 = 5$ درجات

- ١- جميع أشكال المياه على سطح الأرض مثل البحار والمحيطات والبحيرات والأنهار.. الخ تسمى المسطحات المائية. ص ٢٨
- ٢- مساحة كبيرة من سطح الأرض تتميز باستوائها وقلة ارتفاعها تسمى السهول. ص ٤٢
- ٣- القطاع الذي يحتل المرتبة الأولى ويشكل نسبة ٥٠٪ من الاقتصاد العربي يسمى الزراعي. ص ١١٠
- ٤- بقاء عناصر الطبيعة في حالة من التوازن لتؤدي وظائفها على أكمل وجه يسمى التوازن البيئي. ص ١٧٠
- ٥- تم إنشاء الصندوق الكويتي للتنمية الاقتصادية العربية في عام ١٩٦١ م. ص ١٧٩



- السؤال الثاني: ويتكون من (أ - ب - ج):

أ- ظلل (أ) إذا كانت العبارة صحيحة و الحرف (ب) إذا كانت العبارة خاطئة فيما يلي: $٥ \times ١ = ٥$ درجات

ب	أ	العبارات
		١- أكثر الأشكال التضاريسية انتشارا في الوطن العربي هي التلال. ص ٤٠
		٢- يتركز سكان جمهورية مصر العربية في (وادي النيل ودلتاه). ص ١٠٢
		٣- تبلغ نسبة انتاج النفط الخام ٣٠٪ في الوطن العربي بالنسبة للعالم. ١٢٧
		٤- الطقس هو حالة الجو في مكان لمدة زمنية طويلة. ص ٤٤
		٥- أصبحت دولة الكويت تعتمد اعتمادا كاملا على تحلية مياه البحار منذ عام ١٩٥٣م. ص ٦١

ب- ضع خطا تحت الكلمة التي لا تنتمي الى المجموعات التالية: $٥ \times ١ = ٥$ درجات

- ١- دول الجناح الأفريقي في الوطن العربي. (موريتانيا - تونس - جيبوتي - لبنان) ص ٢٣
- ٢- المقومات البشرية للصناعة. (رؤوس الأموال - المواد الخام - الأيدي العاملة - السوق) ص ١٣٩
- ٣- جوهر التنمية المستدامة. (المحسوبية - الحزبية - المعرفة - العمل الجماعي) ص ١٧٦
- ٤- الحضارات في الوطن العربي. (بلاد اليمن - بلاد الرافدين - الفارسية - مصر القديمة) ص ٧١
- ٥- مراكز انتقال الحضارة العربية الإسلامية الى أوروبا. (الأندلس - صقلية - بلاد الشام - الصين) ص ٩٢

ج- صنف الكلمات الواردة ما بين القوسين بمكانها الصحيح في الجدول التالي: $٥ \times ١ = ٥$ درجات ص ١٤١-١٤٢

(الخشب والأوراق - النفط - الغذائية - المعادن - الإنشائية)

صناعات تحويلية	صناعات استخراجية
الخشب والأوراق	النفط
الغذائية	المعادن
الإنشائية	

- السؤال الثالث: ويتكون من (أ - ب - ج):

أ- أجب عن الأسئلة التالية: (يكتفى بإجابتين لكل سؤال فقط) $3 \times 2 = 6$ درجات

١- عدد مقومات الهوية العربية؟ ص ٢٦

- الدين - اللغة

- التراث - الأهداف المشتركة

٢- ما اهم مميزات النباتات الصحراوية؟ ص ٥٢

- تقاوم الجفاف من خلال عدة وسائل. - جذورها طويلة.

- القدرة على خزن المياه. - تحمي نفسها بلحاء سميك وأوراق إبرية.

٣- أذكر أهم الإحصاءات السكانية؟ ص ٩٩

- التعداد السكاني.

- الإحصاء الحيوي.

ب- فرق بين كل من المفاهيم والمصطلحات التالية: $6 \times 1 = 6$ درجات

الموارد البشرية ص ١٠٩	الموارد الطبيعية ص ١٠٩
هي التي ترتبط بالسكان من حيث أعدادهم وتوزيعهم ومناسبة أعدادهم لمساحة الأرض التي يستغلونها.	الثروات التي منحها الله لإقليم من دون أن يكون للإنسان أي دور في وجودها. مثل: الثروات المعدنية والغابات والمراعي والموارد المائية وموقع الإقليم.
المضيق ص ٢٨	القناة ص ٢٨
ممر مائي يصل بين بحرين أو محيطين أو أي مساحتين كبيرتين نسبياً من الماء.	مجرى مائي صناعي ضيق يشق لأغراض الري أو النقل.
الاستبس ص ٥٢	السافانا ص ٥٢
هي حشائش قصيرة نوعاً ما تنمو في الشتاء خلال موسم سقوط الأمطار.	هي حشائش طويلة يختلف نوعها حسب كمية الأمطار.

ج- عَرِّف ما يلي: $3 \times 1 = 3$ درجات

١- الكثافة السكانية العامة: عدد السكان الكلي في دولة ما أو منطقة ما إلى المساحة الكلية لهذه الدولة أو المنطقة. ص ١٠٢

عدد السكان الكلي

المساحة الكلية

٢- النهر: مجرى مائي عذب ينحدر على الدوام لينتهي إلى بحر أو إلى نهر آخر أو ينتهي تدريجياً في الصحراء. ص ٥٨

٣- الحضارة: كل ما يطرأ على المجتمع من تقدم وتطور في جميع نواحي الحياة الدينية والسياسية والاقتصادية والاجتماعية والفكرية. ص ٧

- السؤال الرابع: ويتكون من (أ - ب - ج):

أ- اقرأ الفقرة التالية ثم أجب عن الأسئلة التي تليها: ص ١٨٦ $١ \times ٤ = ٤$ درجات

"عقد أكبر وأهم مؤتمر قمة عربية منذ تاريخ نشأة جامعة الدول العربية في دولة الكويت، ولقد كان الأمير الراحل الشيخ صباح الأحمد الجابر الصباح - رحمه الله - هو صاحب المبادرة لعقد القمة، إيماناً منه بأن العالم العربي يمر بمرحلة حرجية وتحديات خطيرة."

١- ما اسم الدولة المستضيفة للمؤتمر؟

- دولة الكويت.

٢- في أي عام عقد هذا المؤتمر؟

- يومي ١٩ - ٢٠ يناير ٢٠٠٩م.

٣- من هو صاحب المبادرة لعقد المؤتمر؟

- الأمير الراحل الشيخ صباح الأحمد الجابر الصباح.

٤- ما هي أولويات هذا المؤتمر؟

- إعادة تعمير قطاع غزة بعد تعرضه للغزو الإسرائيلي الغاشم.

ب- علل لما يلي: ٧ درجات

١- الأهمية الحضارية والثقافية للوطن العربي. ص ٣٦ (درجتان)

- قامت على أرض الوطن العربي حضارات عديدة. - وهبطت على أرضه الديانات السماوية التي انتشرت في أنحاء العالم.

٢- اختلاف المنتجات الزراعية من دولة عربية إلى أخرى. ص ١١٠ (درجتان) يكتفى بنقطتين

- بسبب اختلاف المناخ والتربة.

٣- يعاني الوطن العربي من عدة مشكلات تواجه التنمية البشرية. ص ١٧٥ يكتفى بنقطتين (درجتان)

- ضعف الاستفادة من القدرات البشرية في المنطقة العربية. - نقص ومحدودية مشاركة المرأة في المنظمات السياسية.

- مشكلة الأمية. - الاختلاف الكبير في مستويات المعيشة بين دولة وأخرى، وفي داخل الدولة الواحدة.

٤- كانت أوروبا منذ القرن العاشر الميلادي تعيش في عصور الظلام. ص ٩٢ (درجة واحدة)

- بسبب سيطرة الكنيسة على عقول الناس.

ج- قارن بين كل من: ص ١٣٤ - ١٣٥ ٤ درجات

أوجه المقارنة	تاريخ التأسيس	مقرها
أوبك	١٩٦٠م	فيينا
أوابك	١٩٦٨م	الكويت

مدرستي معكم خطوة بخطوة للنجاح والتفوق



مدرستي

الكويتية

حمل التطبيق




مدرستي



الكويتية



اضغط هنا



منطقة العاصمة التعليمية

الاجابة النموذجية





وزارة التربية اجابة امتحان نهاية الفترة الدراسية الثانية العام الدراسي: ٢٠٢١ / ٢٠٢٢ م
الإدارة العامة لمنطقة العاصمة التعليمية للصف السابع الزمن: ساعة وخمس وأربعون دقيقة
التوجيه الفني للاجتماعيات مقرر (الكويت والوطن العربي) عدد الأوراق: ٦ أوراق

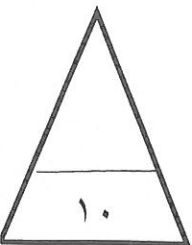
السؤال الأول (موضوعي): يتكون من (أ - ب):

(أ) أكمل العبارات التالية بما يناسبها فيما درست: (٥ درجات - لكل نقطة درجة)

- ١- يطلق على زحف رمال الصحراء على المناطق الجافة وشبه الجافة اسم التصحّر ص ١٦٢
- ٢- الطبقة التي تحمي الأرض من الاشعاعات فوق البنفسجية الضارة تسمى الأوزون ص ١٦٩
- ٣- الدولة العربية التي تحتل المركز الأول في إنتاج القمح تسمى مصر ص ١١٤
- ٤- يطلق على بقاء العناصر الطبيعية والتي تكون في حالة من التوازن لتؤدي وظائفها اسم التوازن البيئي .. ص ١٧٠
- ٥- الدولة العربية التي تم اختيارها مقرأاً لمنظمة الأقطار العربية المصدرة للنفط (أوبك) تسمى .. الكويت .. ص ١٣٥

(ب) اختر الإجابة الصحيحة من بين البدائل التالية بوضع خط تحتها: (٥ درجات - لكل نقطة درجة)

- ١- تأسس صندوق أبو ظبي للتنمية في عام: ص ١٧٩
(١٩٧٠ - ١٩٧١ - ١٩٧٢ - ١٩٧٣ م)
- ٢- أكثر دول الوطن العربي سكاناً تسمى: ص ١٠٠
(السعودية - السودان - مصر - الجزائر)
- ٣- يبلغ عدد الدول الأعضاء المؤسسين لمنظمة جامعة الدول العربية: ص ١٧٨
(ستة - سبعة - ثمانية - تسعة)
- ٤- تتركز حقول النفط بنسبة ٨٠٪ بالنسبة للوطن العربي في منطقة: ص ١٢٦
(خليج السويس - الصحراء الكبرى - هضبة نجد - الخليج العربي وسهول دجلة والفرات)
- ٥- عُقدت قمة الأرض بالبرازيل عن مشكلة التلوث البيئي عام: ص ١٦٧
(١٩٩١ - ١٩٩٢ - ١٩٩٣ - ١٩٩٤ م)




السؤال الثاني (موضوعي): يتكون من (أ - ب): ص ١١٤

(أ) اختر لعبارات المجموعة (ب) ما يناسبها من المجموعة (أ) بوضع الرقم في مكانه الصحيح:
(٥ درجات - لكل نقطة درجة)

الرقم	المجموعة (أ) الغلة الزراعية	الرقم المناسب	المجموعة (ب) الدولة الأولى في الانتاج
١	العنب	(٢)	مصر
٢	القطن	(٤)	الصومال
٣	التمور	(٥)	اليمن
٤	الموز	(٣)	السعودية
٥	البن	(١)	سوريا
		-	المغرب

(ب) أكمل المخططات السهمية التالية: (٥ درجات - لكل نقطة درجة)

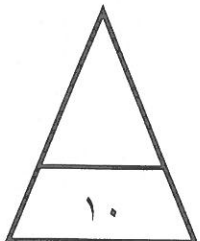

١- مراحل عملية التصنيع ص ١٣٧



٢- أقسام المحاصيل الزراعية ص ١١٣



٣- المقومات البشرية للصناعة ص ١٣٩



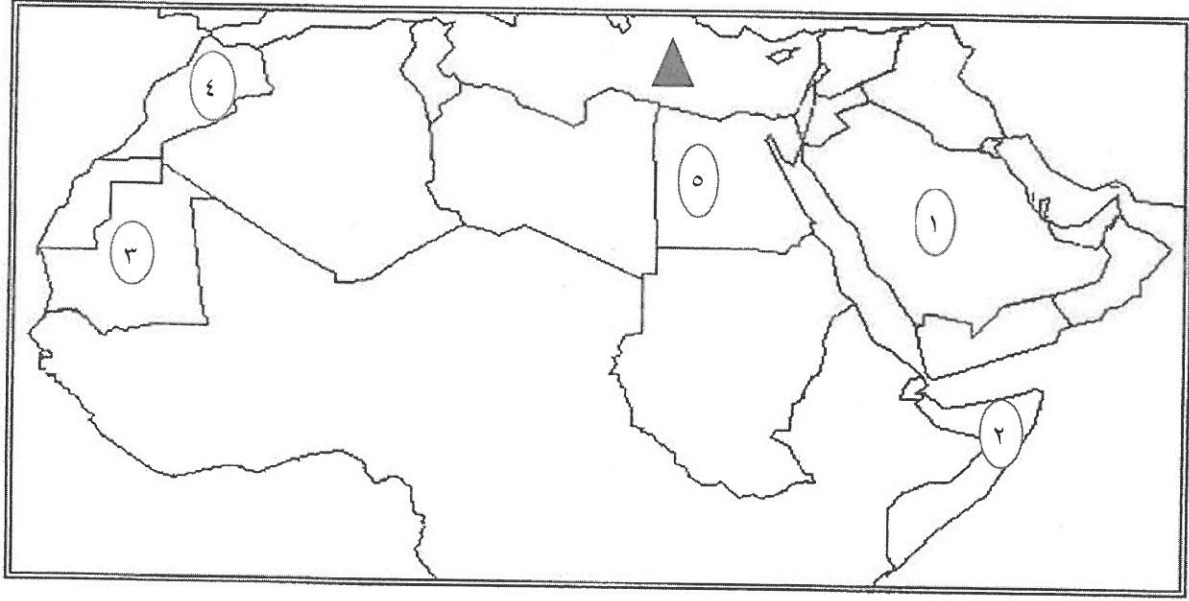
السؤال الثالث (موضوعي): يتكون من (أ - ب):

(أ) اكتب المفهوم أو المصطلح الدال على كل من العبارات التالية: (٥ درجات - لكل نقطة درجة)

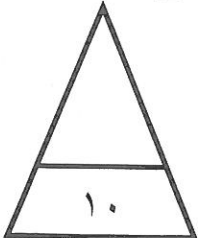
- ١- (التضامن العربي) توثيق الصلات بين الدول والشعوب العربية وحماية مصالحها السياسية والاقتصادية والثقافية. ص ١٧٧
- ٢- (الإحصاء الحيوي) تسجيل المواليد والوفيات وحالات الزواج والطلاق. ص ٩٩
- ٣- (الغلات النقدية) الغلات التي تزرع بغرض التجارة والحصول على النقد. ص ١١٣
- ٤- (الكثافة السكانية) نسبة عدد السكان الكلي في دولة ما أو منطقة ما إلى المساحة الكلية لهذه الدولة أو المنطقة. ص ١٠٢
- ٥- (الصناعات التجميعية) عملية تركيب وجمع المواد المصنعة على اختلاف مصادرها لنحصل على سلع متنوعة. ص ١٤٣

(ب) لاحظ خريطة الوطن العربي ثم استعن بالمدلولات التي عليها لإكمال العبارات التالية:

(٥ درجات - لكل نقطة درجة)



- ١- الدولة العربية الأولى في إنتاج الابل يمثلها على الخريطة الرقم٢..... ص ١١٨
- ٢- الدولة العربية الأولى في إنتاج الأرز يمثلها على الخريطة الرقم٥..... ص ١١٤
- ٣- الدولة العربية الأولى في إنتاج معدن الفوسفات يمثلها على الخريطة الرقم٤..... ص ١٣٢
- ٤- الدولة العربية التي تحتل المركز الأول في احتياطي النفط الخام يمثلها على الخريطة الرقم١..... ص ١٢٩
- ٥- الشكل ▲ يمثل مسطح مائي يسمىالبحر المتوسط..... ص ١٣٣



السؤال الرابع (مقالى): يتكون من (أ - ب):

(أ) اقرأ الفقرة التالية ثم أجب عما يليها من أسئلة: ص ١٦٦ ص ١٦٧ (٥ درجات)

التلوث البيئي من أهم وأخطر المشاكل التي تواجه شعوب العالم اليوم، حيث عقد أكبر مؤتمر للأمم المتحدة في مدينة ريو دي جانيرو بالبرازيل، ويصيب التلوث عناصر البيئة من عدة مصادر للملوثات منها صناعية وزراعية ومنزلية.

١- عرف ما تحته خط. ص ١٦٦ (درجة)

.....الضرر الذي يلحق بالتربة والماء والهواء ويصيب التلوث عناصر البيئة من عدة مصادر للملوثات.....

٢- استخرج من القطعة ما يلي:

أ- المدينة التي عقد فيها أكبر مؤتمر للأمم المتحدة لمواجهة مشكلة التلوث. ص ١٦٧ (درجة)

.....ريودي جانيرو.....

ب- مصادر الملوثات. ص ١٦٦ (درجة)

.....صناعية وزراعية ومنزلية.....

٣- عدد النتائج السلبية للتلوث بأوكسيد الكربون الناتج من عوادم السيارات. (يكتفى بنقطتين - لكل نقطة درجة) ص ١٦٩

.....يؤدى إلى ارتفاع متزايد في حرارة الأرض.....

.....تغيير مناخى يهدد بإغراق المدن.....

(ب) اكتب فيما يلى مما درست: (٥ درجات)

١- أسباب تدني وفرة المياه في الوطن العربي. ص ١٦٤ (يكتفى بنقطتين - لكل نقطة درجة)

النمو السريع للسكان الذي يشكل ضغطاً متزايداً على المياه المتوفرة لكل فرد - الطرق التقليدية المستخدمة

في استهلاك المياه مسئولة عن تدني نسبة المياه - ٥٠٪ من الموارد المائية في العالم العربي تأتي من

خارج حدوده - الشبكات المؤهلة لنقل المياه شبكات قديمة - افتقار الدول العربية إلى برامج لإدارة المياه

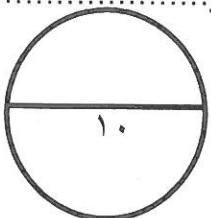
٢- العقبان التي تواجه الانتاج الزراعي في الوطن العربي. ص ١٦١ (يكتفى بنقطتين - لكل نقطة درجة)

.....زحف الرمال (التصحّر) وانجراف التربة - الرعي الجائر - تلوث التربة - اتباع طرق زراعية

.....تقليدية في معظم أجزاء الوطن العربي - عدم استغلال الأراضي القابلة للزراعة.....

٣- أهمية النفط العربي على المستوى العالمي. ص ١٣١ (درجة)

.....لأهميته للدول الصناعية المتقدمة في أوروبا واليابان والولايات المتحدة الأمريكية.....



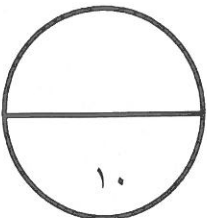
السؤال الخامس (مقالى): يتكون من (أ - ب):

(أ) فرق بين كل مما يلي من حيث التعريف: (٦ درجات - لكل مفهوم درجة)

الصادرات ص ١٥٢	الواردات ص ١٥٢
السلع والمنتجات التي تبيعها الدولة في الخارج .	السلع التي تشتريها الدولة من الخارج لسد احتياجاتها.
الصناعات التحويلية ص ١٤٢	الصناعات التعدينية ص ١٤١
<u>تحويل المواد الأولية من معدنية نباتية وحيوانية إلى سلع استهلاكية صالحة للاستعمال.</u>	<u>تنقية الخامات المعدنية وتحويلها إلى صفائح أو سبائك صالحة لتنفيذ صناعات معدنية مختلفة.</u>
النفط ص ١٢٥	الغاز الطبيعي ص ١٢٥
<u>بقايا عضوية على هيئة نباتات وحيوانات دقيقة ترسبت في عصور قديمة وانظمرت تحت رواسب سميكة وتحولت بالضغط والحرارة إلى صورتها الحالية.</u>	<u>غاز مصاحب للنفط الخام أو يوجد منفرداً تتم إسالته لاستخدامات عديدة.</u>

(ب) علل لما يلي: (٤ درجات)

- ١- أهمية الغاز الطبيعي. ص ١٣١ (درجة)
لأنه يستخدم في الوقود - يستخدم في التدفئة - يعتبر مصدر مهم من مصادر الطاقة البديلة أماناً .
- ٢- انشاء منظمة الأقطار العربية المصدرة للنفط (أوبك). ص ١٣٥ (يكتفى بنقطتين - لكل نقطة درجة)
توثيق التعاون بين الدول العربية في النشاط الاقتصادي في صناعة النفط - تأمين وصول النفط إلى الأسواق بشروط وأسعار عادلة - تطوير الصناعات البترولية - تبادل الخبرات - التعاون مع منظمة أوبك.....
- ٣- تتركز زراعة الفواكه والثمار في حوض البحر المتوسط. ص ١١٣ (درجة)
لأنها تتطلب ظروف مناخية خاصة.....



السؤال السادس (مقالى): يتكون من (أ - ب):

(أ) عدد إثنين لكل مما يلي:

- ١- أهداف جامعة الدول العربية. ص ١٧٧ (نقطتين - لكل نقطة درجة)
-توثيق العلاقات بين الدول الأعضاء - تنسيق التعاون بينها - الحفاظ على استقلالها وسيادتها
- النظر في شئون ومصالح الدول العربية.....
- ٢- المشكلات التي تواجه التنمية البشرية. ص ١٧٥ (نقطتين - لكل نقطة درجة)
-ضعف الاستفادة من القدرات البشرية في المنظمة العربية - مشكلة الأمية - نقص ومحدودية مشاركة المرأة في المنظمات السياسية - الاختلاف الكبير في مستويات المعيشة بين دولة وأخرى.....
- ٣- أهداف الصناعات البتروكيميائية. ص ١٤٥ (نقطتين - لكل نقطة درجة)
-تنويع مصادر الدخل للدولة المنتجة - توفير المواد الأولية للصناعات التحويلية لتأمين حاجات القطاعات الاستهلاكية - تطوير الصناعات البتروكيميائية إلى تقنيات متخصصة وعالية.....

(ب) لاحظ الجدول التالي ثم أجب عن الأسئلة التي تليه:

الرقم	اسم الدولة العربية	المساحة كم ^٢	تقديرات عدد السكان (ألف نسمة)
١	المغرب	٧١٠,٨٥٠	٣٣,٣٠٤
٢	جيبوتي	٢٣,٢٠٠	٩٣٩
٣	السودان	١,٨٨٢,٠٠٠	٣٧,٤٠٢
٤	البحرين	٧١٢	١,٣٩٩
٥	الجزائر	٢,٣٨١,٧٤١	٣٩,٤٠٢
٦	جزر القمر	٢,٢٣٦	٧٦٥

١- استخلص من الجدول ما يلي:

أ- أصغر الدول العربية مساحة. ص ١٠٠ (درجتين - لكل نقطة درجة)

.....البحرين.....

ب- أقل الدول العربية سكانا. ص ١٠٠

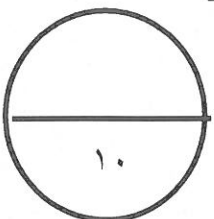
.....جزر القمر.....

٢- عدد العوامل المؤثرة في توزيع السكان. ص ١٠٤ (درجة - يكتفى بنقطة واحدة)

.....عوامل طبيعية - عوامل بشرية.....

٣- علل/ أهمية التعداد السكاني. ص ٩٩ (درجة)

لأن الدولة تحصل من خلاله على معلومات وافية عن أوضاع سكانها (عددهم الإجمالي - عدد كل جنس (ذكور , إناث) أعمارهم وغير ذلك من المعلومات .



مدرستي معكم خطوة بخطوة للنجاح والتفوق



مدرستي

الكويتية

حمل التطبيق



مدرستي



الكويتية



اضغط هنا

خروج اجابة





أجب عن جميع الأسئلة التالية :

السؤال الأول : ويتكون من (أ - ب - ج - د - هـ - و) :-

(٦ درجات)

(أ) أكمل العبارات التالية بما يناسبها فيما درست :-

- ١- الدولة العربية التي تحتل المركز الأول في عدد السكان حسب إحصاء عام ٢٠١٤ م تسمى مصر ص ١٠٠
- ٢- صاحب مبادرة عقد القمة العربية الاقتصادية والتنمية الاجتماعية عام ٢٠٠٩ م الشيخ الراحل صباح
- الأحمد الجابر الصباح ص ١٨٦
- ٣- القوى المحركة للآلات وعنصر مهم للتقدم والتطور الاقتصادي في جميع المجالات تسمى الطاقة ص ١٢٥
- ٤- زحف رمال الصحراء على المناطق الجافة وشبه الجافة يسمى التصحّر ص ١٦٢
- ٥- الدولة العربية التي تحتل المركز الأول في إنتاج واحتياطي النفط لعام ٢٠١٤ م تسمى السعودية ص ١٢٩
- ٦- الدولة العربية التي تحتل المركز الأول في إنتاج الموز تسمى الصومال ص ١١٤

(ب) اختر البديل المناسب من بين البدائل التي تلي كل عبارة وضع تحته خط :- (٦ درجات)

- ١- أنشئ صندوق أبو ظبي للتنمية في عام : ص ١٧٩
(١٩٧١ م - ١٩٧٢ م - ١٩٧٣ م - ١٩٧٤ م) .
- ٢- الصندوق الكويتي للتنمية الاقتصادية العربية تأسس في عهد الشيخ : ص ١٨٤
(جابر الأحمد - عبدالله السالم - صباح الأحمد - صباح السالم) .
- ٣- تعتبر صناعة المنسوجات من الصناعات : ص ١٤٢
(الاستخراجية - الحرفية - التحويلية - التجميعية) .
- ٤- الدولة العربية التي تحتل المركز الأول في تربية الإبل : ص ١١٨
(السعودية - قطر - الصومال - الأردن) .
- ٥- بقاء عناصر الطبيعة في حالة من التوازن لتؤدي وظائفها على أكمل وجه : ص ١٧٠
(البيئة - الموارد الطبيعية - الموارد البشرية - التوازن البيئي) .
- ٦- الدولة العربية التي تحتل المركز الأول في إنتاج البن : ص ١١٤
(المغرب - اليمن - العراق - الجزائر) .



(٤ درجات)

(ج) صوب ما تحته خط في العبارات التالية :-

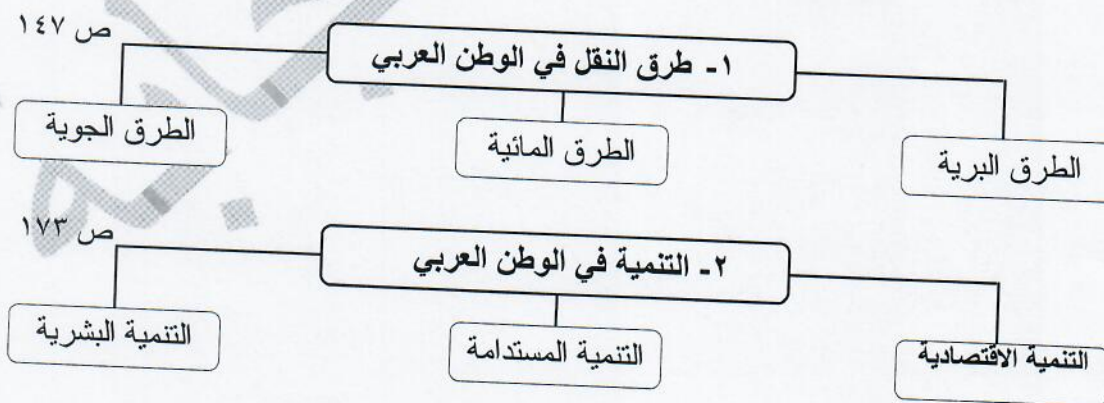
- ١- تسجيل المواليد والوفيات وحالات الزواج والطلاق يسمى التعداد السكان (الإحصاء الحيوي) ص ٩٩
- ٢- الطبقة التي تحمي الأرض من الإشاعات فوق البنفسجية الضارة تسمى التروبوسفير . (الاوزون) ص ١٦٩
- ٣- الصندوق الكويتي للتنمية الاقتصادية العربية تم إنشاؤه عام ١٩٧٤ م . (١٩٦١ م) ص ١٧٩
- ٤- نسبة عدد السكان الكلي للدولة على المساحة الكلية يسمى النمو السكاني . (الكثافة السكانية العامة) ص ١٠٢

(د) صنف المحاصيل الزراعية الآتية حسب المطلوب في الجدول التالي :- (٦ درجات)

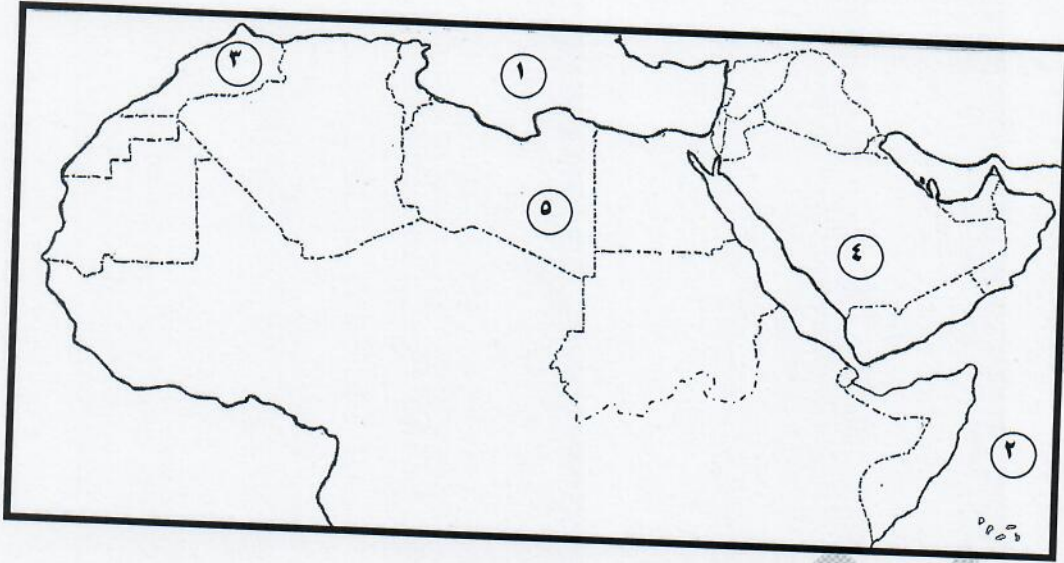
((العنب - الشعير - الزيتون - التمر - الشندر - الأرز)) ص ١١٣

الحبوب الغذائية	الغلات الصناعية والتجارية	الفواكه والثمار
الشعير - الأرز	الزيتون - الشندر	التمر - العنب

(هـ) أكمل المخططات السهمية الآتية :- (٤ درجات)



(و) لاحظ الخريطة التي أمامك ثم أجب عن الأسئلة التالية :-



- الرقم (١) على الخريطة يمثل مسطح مائي يسمى البحر المتوسط ص ١٣٣
- الرقم (٢) على الخريطة يمثل محيط يسمى الهندي ص ١٣٣
- الدولة العربية التي تحتل المركز الأول في إنتاج الحديد تحمل على الخريطة الرقم (٣) ص ١٣٢
- الدولة العربية التي تحتل المركز الأول في إنتاج التمور تحمل على الخريطة الرقم (٤) ص ١١٤

السؤال الثاني : ويتكون من (أ - ب) :-
(أ) فرق بين كل من :- (٤ درجات)

الصناعات التعدينية ص ١٤١	الصناعات الاستخراجية ص ١٤١
تهدف الى تقنية الخامات المعدنية وتحويلها إلى صفائح أو سبائك صالحة لتنفيذ صناعات معدنية مختلفة .	تقتصر على استخراج مصادر الطاقة كالنفط والغاز والفحم وخامات المعادن والاملاح واعادها لتصبح جاهزة للتصنيع .
الغاز الطبيعي ص ١٢٥ (درجة واحدة)	النفط ص ١٢٥ (درجة واحدة)
غاز مصاحب للنفط الخام أو يتواجد منفردا تتم إيسالته لاستخدامات عديدة .	بقايا عضوية على هيئة نباتات وحيوانات دقيقة ترسبت في عصور قديمة وانطمرت تحت رواسب سمكية وتحولت بالضغط والحرارة إلى صورتها الحالية .

(ب) أقرأ الفقرة جيدا ثم أجب عن الأسئلة التي تليها :- (٦ درجات)

" التلوث البيئي من أهم وأخطر المشاكل التي تواجه شعوب العالم اليوم ويتم مواجهتها على مستوى عالمي حيث عقد أكبر مؤتمر للأمم المتحدة في مدينة ريو دي جانيرو بالبرازيل عام ١٩٩٢ م وحضره أكثر من ١٠٠ رئيس دولة "

١- عرف ما تحته خط . ص ١٦٦ (درجة واحدة)

الضرر الذي يلحق بالتربة والهواء والماء (ما يراه المصحح مناسب)

٢- ما اسم المؤتمر الذي عقد في البرازيل ؟ ص ١٦٧ (درجة واحدة)

قمة الأرض

٣- في أي عام عقد هذا المؤتمر ؟ ص ١٦٧ (درجة واحدة)

١٩٩٢ م

٤- عدد أنواع التلوث . ص ١٦٧ (٣ درجات)

أ - تلوث التربة .

ب - تلوث الهواء .

ج - تلوث المياه .



السؤال الثالث :- ويتكون من (أ - ب) :-

(أ) عرف المصطلحات التالية :

- ١- التجارة البينية : التبادل التجاري بين الدول العربية . ص ١٥٢ (درجة واحدة)
- ٢- التضامن العربي : العمل على توثيق الصلات بين الدول والشعوب العربية وحماية لمصالحها السياسية والاقتصادية والثقافية . ص ١٧٧ (درجة واحدة)

(يكتفي بنقطتين لكل سؤال)

(ب) عدد كل من :

- ١- أهداف القمة الاقتصادية التنموية العربية . ص ١٨٦ (درجتان)
 - أ - إنشاء بنك عربي لتمويل شتى المشاريع التنموية للتعويض من معدلات الفقر .
 - ب - القضاء على البطالة والفقر بتوفير فرص العمل - الاستثمار الاقتصادي بين الدول العربية وتقوية التبادل التجاري - الاعتناء بالعنصر البشري والتنمية المستدامة .
- ٢- أسباب التصحر . ص ١٦٢ (درجتان)
 - أ - بشرية
 - ب - طبيعية
- ٣- أسباب تدني وفرة المياه في الوطن العربي . ص ١٦٤ (درجتان)
 - أ - النمو السريع للسكان الذي يشكل ضغطاً متزايداً على المياه المتوفرة لكل فرد .
 - ب - ٥٠ % من الموارد المائية في العالم العربي تأتي من خارج حدوده . - الطرق التقليدية المستخدمة في استغلال المياه في معظم مناطق العالم العربي - الشبكات المؤهلة لنقل المياه شبكات قديمة . - افتقار الدول العربية إلى برامج لإدارة المياه .
- ٤- المقومات البشرية اللازمة لقيام الصناعة . ص ١٣٩ (درجتان)
 - أ - الأيدي العاملة - المهارة والخبرة - رؤوس الأموال -
 - ب - السوق - وسائل النقل .

السؤال الرابع : ويتكون من (أ - ب) :-

(أ) قارن بين كل مما يلي :-

أوجه المقارنة	منظمة الأوبك ص ١٣٤	منظمة الأوابك ص ١٣٥
تاريخ التأسيس	١٩٦٠ م (درجة واحدة)	١٩٦٨ م (درجة واحدة)
المقر	فيينا (درجة واحدة)	الكويت (درجة واحدة)
الأجهزة مطلوب جهاز واحد فقط	المؤتمر (درجة واحدة) مجلس المحافظين الأمانة العامة	المجلس الوزاري (درجة واحدة) المكتب التنفيذي الأمانة العامة

(ب) علل لما يلي :-

١ - سبب تسمية الغلات الصناعية والتجارية بالغلات النقدية .. ص ١١٣ (درجة واحدة)
- لأنها تدخل في الصناعة وتزرع بغرض التجارة والحصول على نقد ولذلك تسمى الغلات النقدية .

٢ - تحتل الأغنام العربية مكانا مهما ضمن الثروة الرعوية . ص ١١٨ (يكتفي بثلاثة نقاط) ٣ درجات

- الأكثر انتشارا في المراعي العربية .
- مصدر أساسي من مصادر الثروة القومية .
- أكثر الحيوانات المستأنسة ملائمة لمراعي الوطن العربي
- تحملها الجفاف والانتقال .
- أهمية منتجاتها بالنسبة للسكان .

مدرستي معكم خطوة بخطوة للنجاح والتفوق



مدرستي

الكويتية

حمل التطبيق



مدرستي



الكويتية



اضغط هنا



اختبار نهاية الفترة الدراسية الثانية

العام الدراسي 2022/2021م

الصف السابع

نموذج إجابة اختبار مادة

الاجتماعيات

الخميس – 2 / 6 / 2022



نموذج اجابة



وزارة التربية

الإدارة العامة لمنطقة حولي التعليمية

التوجيه الفني للاجتماعيات

العام الدراسي : ٢٠٢١/٢٠٢٢م

الزمن: ساعة و ٤٥ دقيقة

عدد الصفحات : (٧)

امتحان نهاية الفترة الدراسية الثانية

مقرر/ دولة الكويت والوطن العربي

للفيف السابع المتوسط

السؤال الأول موضوعي ويتكون من (أ - ب - ج - د - هـ - و) : (٣٠ درجة لكل سؤال درجة)

(أ) ظل الخيار الصحيح من بين الخيارات التي تلي كل عبارة :

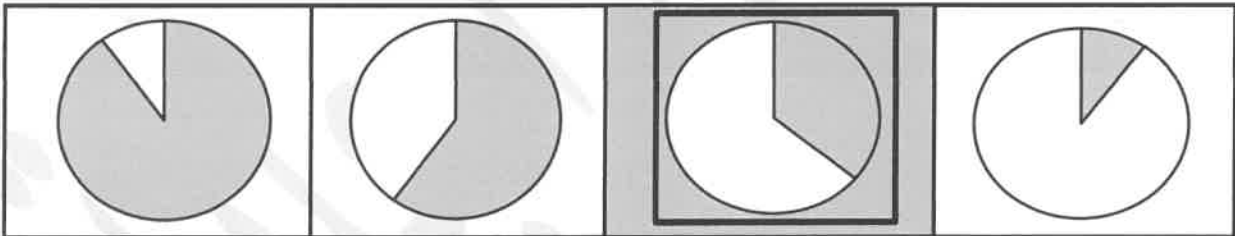
١- الدولة العربية التي تحتل المركز الأول في إنتاج البن : ص ١١٤

الكويت	السعودية	<u>اليمن</u>	عمان
--------	----------	--------------	------

٢- العوامل التي تساعد على تحويل المادة الخام إلى سلع إستهلاكية : ص ١٣٩

<u>مقومات الصناعة</u>	مقومات بشرية	مقومات طبيعية	مقومات الطاقة
-----------------------	--------------	---------------	---------------

٣- نسبة إنتاج الوطن العربي من النفط الخام بالنسبة للعالم يمثلها الجزء المظلل على الدائرة البيانية : ص ١٢٧



٤- العام الذي عقد فيه أكبر مؤتمر للأمم المتحدة بالبرازيل (ريودي جانيرو) : ص ١٦٧

١٩٩١م	<u>١٩٩٢م</u>	١٩٩٣م	١٩٩٤م
-------	--------------	-------	-------



٥- الشكل المقابل يمثل نوع من أنواع الصناعات : ص ١٤٤

التعدينيه	التحويلييه
<u>الحرفيه</u>	التجميعيه

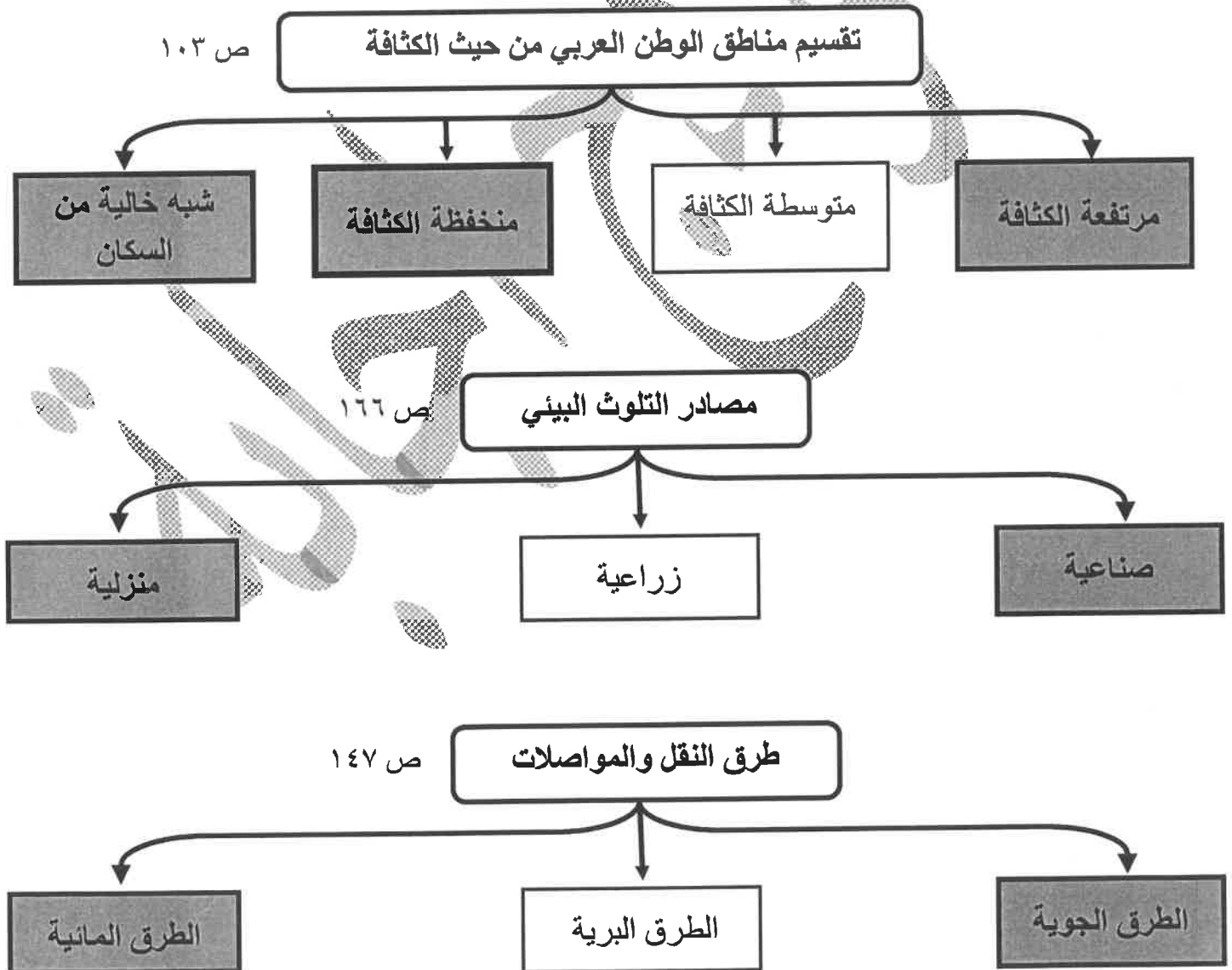


(ب) أكمل العبارات التالية بما يناسبها فيما درست :



- ١- الدولة العربية التي تحتل المركز الأول في عدد السكان اسمها مصر ص ١٠٠
- ٢- الصورة المقابلة تمثل حاكم عُقد في عهده أهم مؤتمر في دولة الكويت اسمه الشيخ صباح الأحمد الجابر الصباح ص ١٨٦
- ٣- المعدن الذي تحتل موريتانيا المرتبة الأولى عربياً في إنتاجه اسمه الحديد ص ١٣٢
- ٤- العام الذي تأسس فيه الصندوق الكويتي للتنمية الاقتصادية العربية ١٩٦١ م ص ١٧٩
- ٥- التصدير والإستيراد بين الدول يُعرف باسم التبادل التجاري ص ١٥١

(ج) أكمل المخططات السهمية التالية :



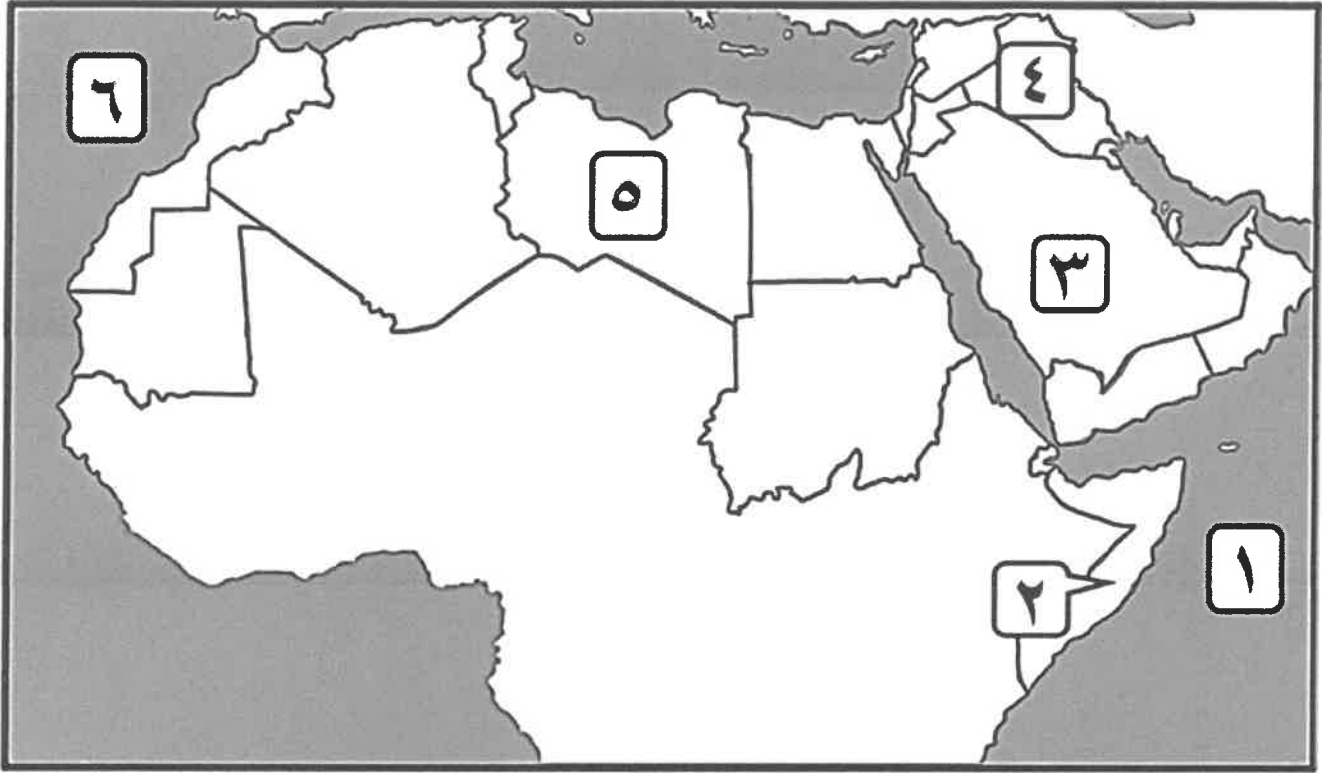
(د) ظلل الحرف (أ) إذا كانت العبارة صحيحة أو الحرف (ب) إذا كانت العبارة خاطئة :

م	العبارة	(أ)	(ب)
١	يختلف عدد السكان بين دولة وأخرى طبقاً للعوامل الطبيعية والبشرية والمساحة الكلية. ص ١٠١		
٢	الحبوب الغذائية من أهم المزروعات في الوطن العربي وتشغل مساحه كبيرة من الأراضي الزراعية . ص ١١٣		
٣	المغرب أولى دول الوطن العربي في إنتاج الأبقار. ص ١١٨		
٤	يتمتع الوطن العربي بسواحل ومنافذ بحرية قصيرة وضيقه . ص ١٥٠		
٥	طبقة الأوزون هي الطبقة التي تحمي الأرض من الإشعاعات فوق البنفسجية ص ١٦٩		

(هـ) أكتب المفاهيم أو المصطلحات الدالة على العبارات التالية :

م	المفهوم أو المصطلح	العبارة
١	التضامن العربي	العمل على توثيق الصلات بين الدول والشعوب العربية وحماية مصالحها السياسية والإقتصادية والثقافية . ص ١٧٧
٢	الإحصاء الحيوي	تسجيل المواليد والوفيات وحالات الزواج والطلاق والحصول على بياناتها من واقع السجلات الرسمية . ص ٩٩
٣	الموارد الطبيعية	الثروات التي منحها الله لإقليم من دون أن يكون للإنسان أي دور في وجودها . ص ١٠٩
٤	الغلات الصناعية والتجارية (الغلات النقدية)	الغلات التي تدخل في الصناعة وتزرع بغرض التجارة والحصول على نقد . ص ١١٣
٥	التضامن العربي	برامج تحسين نوعية الحياة ، ولا تتحقق إلا بمشاركة جميع المواطنين. ص ١٧٥

(و) أمامك خريطة الوطن العربي السياسية - أكتب الرقم الدال على العبارات التي تليها :



* دولة عربية تحتل المركز الأول في إنتاج التمور تحمل على الخريطة الرقم (٣) ص ١١٤

* المحيط الأطلسي يحمل على الخريطة الرقم (٦) ص ١٢٣

* دولة يجري بها نهري دجلة والفرات تحمل على الخريطة الرقم (٤) ص ١٤٩

* دولة عربية تحتل المركز الأول في نسبة إنتاج الأبل تحمل على الخريطة الرقم (٢) ص ١١٨



السؤال الثاني مقالي ويتكون من (أ - ب - ج) :

(أ) علل مايلي : (٤ درجات)

- ١- تختلف المنتجات الزراعية من دولة عربية إلى أخرى . ص ١١٠ (يكتفى بنقطتين)
- اختلاف المناخ والتربة .
- مدى توافر المياه في هذه الدول .

- ٢- تحتل الأغنام مكاناً مهماً ضمن الثروة الرعوية في الوطن العربي . ص ١١٨ (يكتفى بنقطتين)
- الأكثر إنتشاراً في المراعي العربية .
- أكثر الحيوانات المستأنسة والملائمة لمراعي الوطن العربي وذلك لتحملها الجفاف والانتقال .
- لأهمية منتجاتها بالنسبة للسكان .
- لأنها مصدر أساسي من مصادر الثروة القومية .

(ب) فرق بين كل من : (٦ درجات)

الصناعات التجميعية ص ١٤٣	الصناعات التحويلية ص ١٤٢
هي عملية تركيب وجمع المواد المصنعة ، على اختلاف مصادرها كي نحصل على سلع متنوعة.	هي تقوم على تحويل المواد الأولية من معدنية نباتية وحيوانية إلى سلع استهلاكية صالحة للإستعمال ، حيث تؤمن حاجات الإنسان من مسكن وغذاء ولباس وأدوات وآلات.
أهداف منظمة الأوبك ص ١٣٥	أهداف منظمة الأوبك (OPEC) ص ١٣٤
- تعميق التعاون فيما بينها في مختلف أوجه النشاط الاقتصادي في صناعة النفط \ تأمين وصول النفط إلى الأسواق الاستهلاكية بشروط وأسعار عادلة اتسهم في تطوير الصناعات البترولية في جميع المجالات وتبادل الخبرات. (يكتفى بنقطة واحدة)	الحرص على استقرار أسعار النفط في الأسواق العالمية.
الغاز الطبيعي ص ١٢٥	النفط ص ١٢٥
غاز مصاحب للنفط الخام ، أو يوجد منفرداً، تتم إيسالته لاستخدامات عديدة.	بقايا عضوية على هيئة نباتات وحيوانات دقيقة ترسبت في عصور قديمة وانطمرت تحت رواسب سمكية ، وتحولت بالضغط والحرارة إلى صورتها الحالية.

(ج) اقترح حلولاً للمشكلات التالية : (٥ درجات)

١- تدني وفرة الثروة المائية في الوطن العربي . ص ١٦٥ (يكتفى بثلاث نقاط)

- ترشيد استخدام المياه والحد من التبذير في المنازل .
- الحد من هدر المياه في عمليات الري وذلك باستخدام الوسائل الحديثة كالرش بالتنقيط والمحوري .
- تنظيم عملية الاستفادة من المياه الجوفية ومنع تسرب الأملاح الملوثة إليها واستثمارها على الوجه الأمثل .
- تطوير استعمال مياه الصرف الصحي المعالجة في الزراعة.
- إقامة البحيرات والسدود لتجميع مياه الأمطار والسيول للاستفادة منها في فصل الجفاف .
- توقيع اتفاقيات مع الدول المشاركة ودول المنبع لتحقيق مصالح الدول العربية المعنية .

٢- قلة وانخفاض الإنتاج الزراعي في الوطن العربي . ص ١٦٣ (يكتفى بنقطتين)

- زيادة الإنتاج عن طريق الأساليب العلمية ,
- زيادة المساحات المزروعة .
- إقامة مشروعات الري.



السؤال الثالث مقالي ويتكون من (أ - ب - ج) :

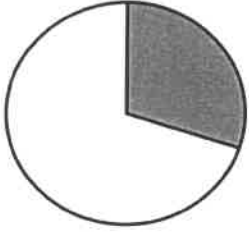
(أ) اقرأ الفقرة التالية ثم أجب عما يليها من أسئلة: ص ٩٩ - ص ١٠٢ (٦ درجات)

يغطي الوطن العربي مساحة كبيرة من الأرض ويتألف من ٢٢ دولة ، ويتوزع سكانه بنسبة ٧٠% في القارة الأفريقية و ٣٠% في القارة الآسيوية ، وتختلف الكثافة السكانية فيه من دولة لأخرى ، إختلافاً كبيراً طبقاً لعوامل عديدة ، حيث يتركز السكان في المناطق التي تتوفر فيها مصادر المياه والمناطق السهلية ذات المناخ المعتدل ، بينما ينخفض السكان في المناطق الجبلية الوعرة والصحراوية ذات المناخ القاسي .

١- عرف ما تحته خط : الكثافة السكانية : نسبة عدد السكان الكلي في دولة ما ، أو منطقة ما ، إلى المساحة الكلية لهذه الدولة أو المنطقة . ص ١٠٢

٢- استخرج من الفقرة السابقة ما يلي :

- مناطق يتركز فيها السكان : ■ المناطق التي تتوفر فيها مصادر المياه ■ المناطق السهلية . ■ مناطق ذات مناخ معتدل .
- مناطق ينخفض فيها السكان : ■ المناطق الجبلية الوعرة ■ الصحراوية ■ ذات المناخ القاسي .



٣- حول نسبة سكان الوطن العربي في القارة الآسيوية إلى دائرة بيانية مع التظليل . ص ١٠٣

(ب) عرف ما يلي : (٥ درجات)

١- التلوث	هو الضرر الذي يلحق بالتربة والهواء والماء ويصيب التلوث عناصر البيئة من عدة مصادر للملوثات . ص ١٦٦
٢- الطاقة	قوى محركة للآلات ، وعنصر مهم للتقدم والتطور الاقتصادي في جميع المجالات . ص ١٢٥
٣- الموارد البشرية	هي التي ترتبط بالسكان من حيث أعدادهم وتوزيعهم ومناسبة أعدادهم لمساحة الأرض التي يستغلونها . ص ١٠٩
٤- الصناعات التعدينية	تهدف إلى تنقية الخامات المعدنية وتحويلها إلى صنفائح أو سبائك صالحة لتنفيذ صناعات معدنية مختلفة . ص ١٤١
٥- التصحر	هو زحف رمال الصحراء على المناطق الجافة وشبه الجافة . ص ١٦٢

(ج) دلل على صحة العبارات التالية : (٤ درجات)

١- يواجه الإنتاج الزراعي في الوطن العربي العديد من العقبات . ص ١٦١ (يكتفى بنقطتين)

- عدم استغلال الأراضي القابلة للزراعة لندرة مياه الري أو تذبذب الأمطار أو قلة الأيدي العاملة . / - اتباع طرق الزراعة التقليدية في معظم أجزاء الوطن العربي / - زحف الرمال (التصحر) وانجراف التربة . / - تلوث التربة نتيجة للإسراف في استخدام المبيدات الحشرية وارتفاع نسبة الملوحة بالتربة . / - الرعي الجائر .

٢- تعاني التنمية البشرية في الوطن العربي من مشكلات عديدة . ص ١٧٥ (يكتفى بنقطتين)

- ضعف الاستفادة من القدرات البشرية في المنطقة العربية . / - مشكلة الأمية / - نقص ومحدودية مشاركة المرأة في المنظمات السياسية . \ الاختلاف الكبير في مستويات المعيشة بين دولة وأخرى ، وفي داخل الدولة الواحدة .



مدرستي معكم خطوة بخطوة للنجاح والتفوق



مدرستي

الكويتية

حمل التطبيق



مدرستي




الكويتية



اضغط هنا



وزارة التربية
الإدارة العامة لمنطقة مبارك الكبير التعليمية



نموذج إجابة

الإدارة العامة لمنطقة مبارك الكبير التعليمية





وزارة التربية
دائرة العامة لمنطقة مبارك الكبير التعليمية مقرر/ الدراسات الاجتماعية الكويت والوطن العربي الزمن : ساعة ٤٥ دقيقة
التوجيه الفني للاجتماعيات
نموذج إجابة امتحان نهاية الفترة الدراسية الثانية العام الدراسي: ٢٠٢١/ ٢٠٢٢ م
للصف السابع المتوسط
عدد الاوراق : ٦

السؤال الأول (الموضوعي) : يتكون من (أ - ب - ج - د - هـ - و) : (لكل جزئية درجة)

(أ) ضع خطأ تحت الخيار الصحيح من بين الخيارات التي تلي كل عبارة مما يأتي :

١- أنشأ صندوق أبو ظبي للتنمية عام : ص ١٧٩

١٩٧١م - ١٩٧٢م - ١٩٧٣م - ١٩٧٤م

٢- تنفرد الصومال بين الدول العربية بزراعة محصول : ص ١١٤

البن - قصب السكر - القطن - الموز

٣- يبلغ عدد دول مجلس التعاون الخليجي : ص ١٨١

٥ دول - ٦ دول - ٧ دول - ٨ دول

٤- تبلغ مساحة الوطن العربي : ص ٩٩

١٣,٥ مليون كم^٢ - ١٤,٥ مليون كم^٢ - ١٥,٥ مليون كم^٢ - ١٦,٥ مليون كم^٢

٥- تبلغ نسبة إنتاج النفط الخام لدول الوطن العربي بالنسبة للعالم : ص ١٢٧

١٠٪ - ٢٠٪ - ٣٠٪ - ٤٠٪



(ب) اكمل العبارات التالية بما يناسبها :

١- يطلق على التبادل التجاري بين الدول العربية اسم التجارة البينية . ص ١٥٢

٢- التطور و التطوير و هي عملية تتطلب التخطيط و المشاركة من الجميع تسمى التنمية . ص ١٧٢

٣- تأسس الصندوق الكويتي للتنمية الاقتصادية العربية في عهد الشيخ عبد الله السالم الصباح . ص ١٨٤

٤- تؤدي بعض المواد الغازية لا سيما الكلور الموجودة في وسائل التبريد إلى ثقب في طبقة تسمى الاوزون . ص ١٦٩

٥- عقد أكبر مؤتمر للأمم المتحدة في البرازيل عام ١٩٩٢م و عرف باسم قمة الارض . ص ١٦٧

٦- أهم مصادر الطاقة المتجددة المياه و الرياح و الشمس . ص ١٧١

تابع / السؤال الأول :

(ج) صنف الصناعات حسب أنواعها في الجدول التالي : ص ١٤١+١٤٢

استخراج المعادن - صناعة المنسوجات - صهر الحديد - الصناعة الغذائية

صناعات تحويلية	صناعات استخراجية
صناعة المنسوجات	استخراج المعادن
الصناعة الغذائية	صهر الحديد

(د) صحح ما تحته خط في العبارات التالية وذلك بكتابة التصويب في المكان المناسب :

م	العبارة	التصويب
١	يقتصر النقل النهري في الوطن العربي على نهري دجلة و الفرات و نهر <u>المجرية</u> ص ١٤٩	النيل
٢	يتبع الصندوق الكويتي للتنمية الاقتصادية العربية حاليا وزارة <u>الداخلية</u> ص ١٨٤	الخارجية
٣	عدد السكان الكلي على المساحة الكلية تسمى <u>التعداد السكاني</u> ص ١٠٢	الكثافة السكانية
٤	عملية تركيب و جمع المواد المصنعة كي نحصل على سلع متنوعة تسمى الصناعات <u>التعدينية</u> ص ١٤٣	التجميعية
٥	تتألف دول الوطن العربي من <u>٢٦ دولة</u> ص ٩٩	٢٢ دولة
٦	الضرر الذي يلحق بالتربة و الهواء و الماء يسمى <u>التوازن البيئي</u> ص ١٦٦	التلوث



(هـ) أكمل المخططات السهمية التالية:

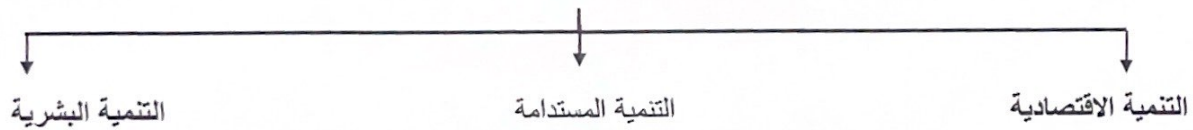
١- المحاصيل الزراعية في الوطن العربي ص ١١٣



٢- أنواع طرق النقل ص ١٤٧



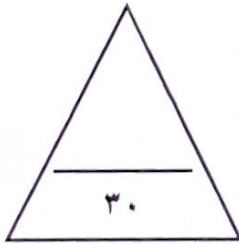
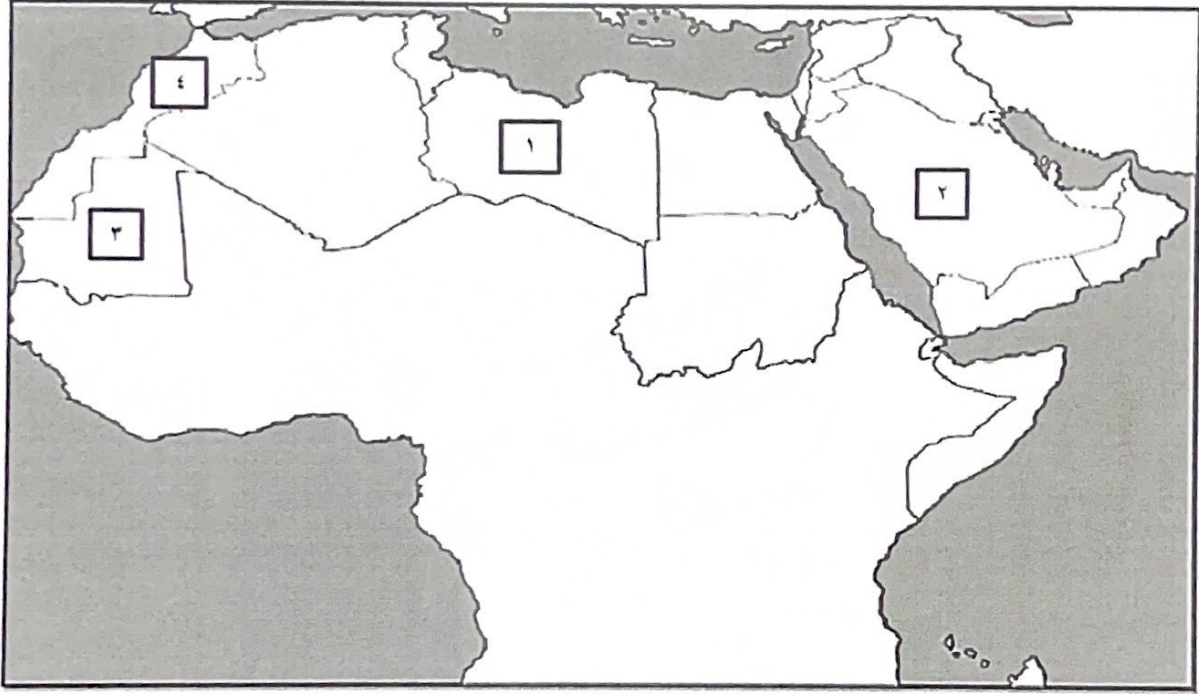
٣- وسائل وأساليب التنمية في الوطن العربي ص ١٧٣



تابع / السؤال الأول :

(و) لاحظ خريطة الوطن العربي الصماء من ثم نفذ ما هو مطلوب منك :

- تحتل موريتانيا المرتبة الأولى عربيا في إنتاج الحديد و يمثلها على الخريطة الرقم (٣) ص ١٣٣
- تتصدر المغرب المرتبة الأولى عربيا في إنتاج الفوسفات و يمثلها على الخريطة الرقم (٤) ص ١٣٣
- المملكة العربية السعودية أحد أعضاء منظمة أوابك و يمثلها على الخريطة الرقم (٢) ص ١٣٦



السؤال الثاني (المقال) يتكون من (أ - ب - ج) :

(أ) علل لما يأتي :

- ١- تحتل الأغنام العربية مكانا مهما ضمن الثروة الرعوية . (درجتان يكتفى بإجابتيين) ص ١١٨
 - الأكثر انتشارا في المراعي العربية / لأنها مصدر أساسي من مصادر الثروة القومية / الأهمية منتجاتها بالنسبة للسكان / أكثر الحيوانات المستأنسة و الملائمة لمراعي الوطن العربي و ذلك لتحملها الجفاف و الانتقال
- ٢- تدني وفرة المياه في الوطن العربي . (درجتان يكتفى بإجابتيين) ص ١٦٤

النمو السريع للسكان الذي يشكل ضغطا متزايدا على المياه المتوفرة لكل فرد / ٥٠٪ من الموارد في العالم العربي تأتي من خارج حدوده و تتحكم فيها دول المنبع في غياب تشريعات دولية تضمن حقوقنا / الطرق التقليدية المستخدمة في استغلال المياه في معظم مناطق العالم العربي مسنولة عن تدني نسبة المياه (استخدام الري بالغمر و الاستهلاك غير المسئول في مجالات المياه / الشبكات المؤهلة لنقل المياه شبكات قديمة / افتقار الدول العربية الى برامج لإدارة المياه كما انها لا تستخدم الأدوات الاقتصادية اللازمة لترشيد الاستخدام المتزايد من المياه.

(ب) فرق بين كل مما يلي من حيث التعريف : (٤ درجات لكل جزئية درجة)

الموارد الطبيعية ص ١٠٩	الموارد البشرية ص ١٠٩
الثروات التي منحها الله لإقليم من دون ان يكون للإنسان أي دور في وجودها.	هي التي ترتبط بالسكان من حيث اعدادهم و توزيعهم و مناسبة اعدادهم لمساحة الأرض التي يستغلونها.
النفط ص ١٢٥	الغاز الطبيعي ص ١٢٥
بقايا عضوية على هيئة نباتات و حيوانات دقيقة ترسبت في عصور قديمة و انطمرت تحت رواسب سميكة و تحولت بالضغط و الحرارة الى صورتها الحالية.	غاز مصاحب للنفط الخام او يوجد منفردا تتم اسالته لاستخدامات عديدة.

(ج) عرف المفاهيم التالية : (٤ درجات لكل جزئية درجة)

- ١- الإحصاء الحيوي: ص ٩٩ تسجيل المواليد و الوفيات و حالات الزواج و الطلاق و نحصل على بياناتها من واقع السجلات الرسمية للدولة.
- ٢- الطاقة: ص ١٢٥ قوى محركة للآلات و عنصر مهم للتقدم و التطور الاقتصادي في جميع المجالات .
- ٣- التبادل التجاري: ص ١٥١ عمليتا التصدير و الاستيراد بين الدول .
- ٤- التضامن العربي: ص ١٧٧ هو العمل على توثيق الصلات بين الدول و الشعوب العربية و حماية مصالحها السياسية و الاقتصادية و الثقافية .





الأسئلة الثالث (المقال) يتكون من (أ - ب - ج) :

(أ) اذكر نقطتين فيما يلي:

- ١- أهداف التنمية الاقتصادية . (درجتان) ص ١٧٤
استخدام العلم في زيادة الإنتاج / تحقيق التكامل بين الدول العربية في الإمكانيات و الحاجات
- ٢- أهداف جامعة الدول العربية. (درجتان) ص ١٧٧
توثيق العلاقات بين الدول الأعضاء /تنسيق التعاون فيما بينها للحفاظ على استقلالها و سيادتها /النظر في شئون و مصالح الدول العربية /تحقيق التعاون العربي و التكامل الاقتصادي بين الدول العربية.
- ٣- مقومات الصناعة (البشرية) في الوطن العربي . (درجتان) ص ١٣٩
رؤوس الأموال / الايدي العاملة / المهارة و الخبرة / السوق / وسائل النقل
- ٤- العقبات التي تواجه الإنتاج الزراعي في الوطن العربي. (درجتان) ص ١٦١
عدم استغلال الأراضي القابلة للزراعة لندرة مياه الري او تذبذب الامطار او قلة الايدي العاملة / اتباع طرق الزراعة التقليدية في معظم أجزاء الوطن العربي / زحف الرمال (التصحّر) و انجراف التربة /تلوث التربة نتيجة للإسراف في استخدام المبيدات الحشرية و ارتفاع نسبة الملوحة بالتربة / الرعي الجائر

(ب) قارن بين كل مما يلي : (٦ درجات لكل جزئية درجة)

أوجه المقارنة	منظمة الدول المصدرة للنفط (أوبك)	منظمة الأقطار العربية المصدرة للنفط (أوبك)
سنة التأسيس	ص ١٣٤ ١٩٦٠م	ص ١٣٥ ١٩٦٨م
المقر	فيينا	الكويت
الأهداف	الحرص على استقرار أسعار النفط في الأسواق العالمية	حاجة الدول العربية المنتجة للنفط إلى تعميق التعاون فيما بينها في مختلف أوجه النشاط الاقتصادي في صناعة النفط/ تأمين وصول النفط إلى الأسواق الاستهلاكية بشروط و أسعار عادلة /تطوير الصناعات البترولية في جميع المجالات / تبادل الخبرات

(ج) لاحظ الصورة التي أمامك ثم أجب عما يلي : (٤ درجات لكل جزئية درجة) ص ١٨٦



- ١- اذكر اسم القمة .
القمة العربية الاقتصادية والتنمية والاجتماعية
- ٢- من هو صاحب المبادرة لعقد القمة ؟
الشيخ صباح الأحمد الجابر الصباح
- ٣- في أي دولة عربية عقدت القمة ؟ دولة الكويت
- ٤- اذكر واحدة من أهداف هذه القمة.
انشاء بنك عربي لتمويل شتى المشاريع التنموية للتقليل من معدلات الفقر / القضاء على البطالة و الفقر بتوفير فرص العمل / الاستثمار الاقتصادي بين الدول العربية و تقوية التبادل التجاري / الاعتناء بالعنصر البشري و التنمية المستدامة.

