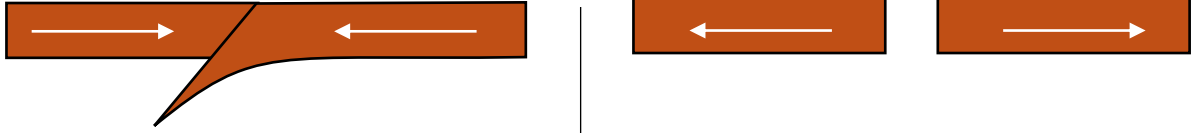


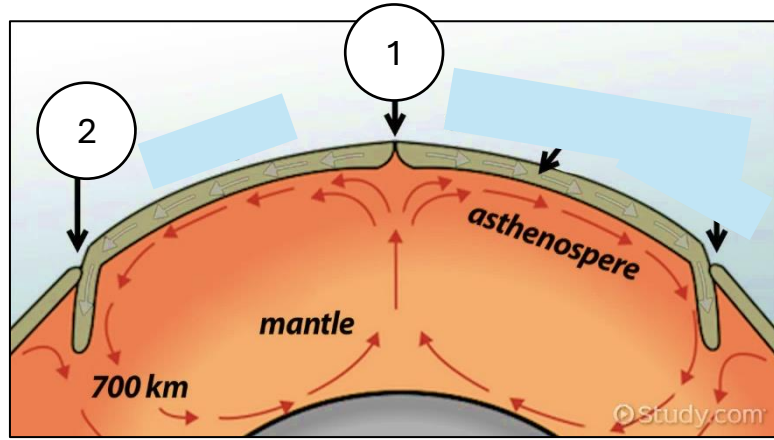
## ورقة عمل

### درس: الصفائح التكتونية

- حدد اتجاه تيارات الحمل أسفل الصفائح التكتونية حسب اتجاه الحركة:



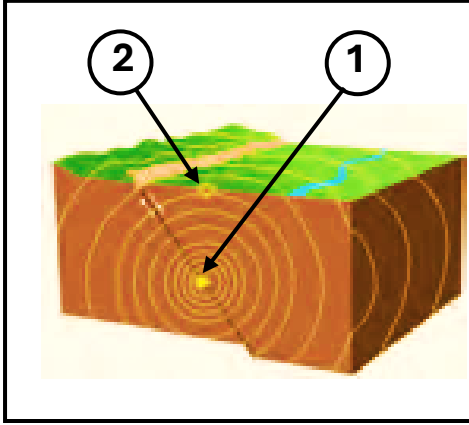
- الشكل المقابل يمثل تيارات الحمل في الطبقة العليا من الوشاح حيث رقم (1) يمثل ..... ورقم (2) يمثل .....





## ورقة عمل

### درس: الآثار المترتبة على حركة الصفائح



■ ادرس الرسومات التالية وأجب عن المطلوب:

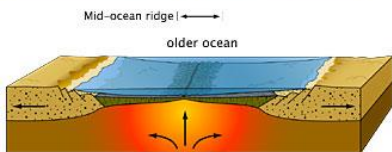
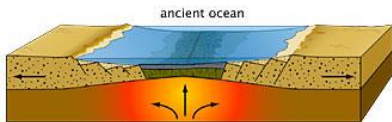
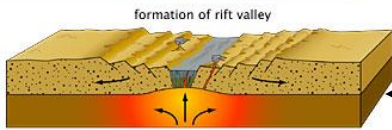
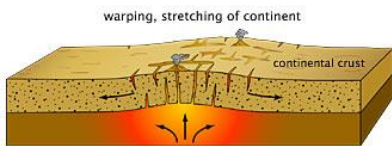
- الشكل المقابل يمثل أنواع الصفائح التكونية

حيث رقم (1) يمثل .....

ورقم (2) يمثل .....

■ بالاستعانة بالشكل المقابل قارنى بين كل من:

أوجه المقارنة	الأخاديد الصدعية	الحيد المحيطي
القوى المؤثرة		
نوع الصدع		
انبثاق الصهارة		



أخدود صدعي

حيد محيطي

عمل المعلمة: أ. نوره المخيال