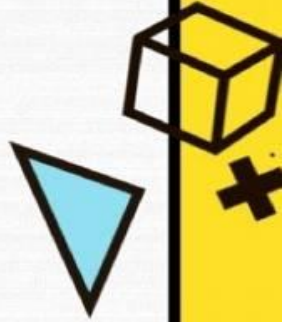


وزارة التربية  
الإدارة العامة لمنطقة الفروانية التعليمية  
مدرسة أحمد عطيه الاثري الابتدائية بنين  
قسم الرياضيات

# مراجعة الإختبار التقويمي الثالث

## الصف الأول




عبر عن الصورة بعبارة جمع / طرح



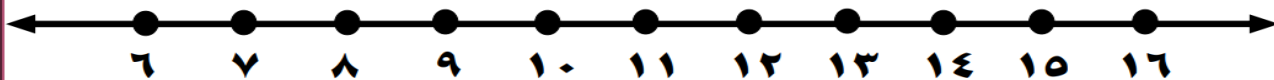
أطفال  $\text{---} = \text{---}$   $\bigcirc$   $\text{---}$

عبر عن الصورة بعبارة جمع / طرح



تفاحة  $\text{---} = \text{---}$   $\bigcirc$   $\text{---}$

أوجد الناتج باستخدام خط الأعداد



$$\text{---} = 3 + 8$$

$$\text{---} = 2 - 13$$





# أوجد الناتج:-

$$\begin{array}{r}
 10 \\
 + 7 \\
 \hline
 \end{array}
 = 9 + 9 \\
 = 10 - 7$$

## اشطب لتطرح

عَشَرَات	آحاد
٢	٣ ٢-

عَشَرَات	وَحَدَات
	

## اطرح:-

عَشَرَات	آحاد
٢	٤
١	٤-

عَشَرَات	آحاد
٣	٠
٢	٠-

اجمع :



عشرات	آحاد
١	٧ ٤ +

عشرات	وحدات
	 

اجمع :

عشرات	آحاد
<input type="text"/> ١	٤ ٩ +

عشرات	آحاد
<input type="text"/> ١	٧ ٥ +

<sup>٢٩</sup> عشرات	<sup>٢٩</sup> آحاد
<input type="text"/> ١	٧ ٨ +

<sup>٢٩</sup> عشرات	<sup>٢٩</sup> آحاد
<input type="text"/> ١	٩ ٢ +

