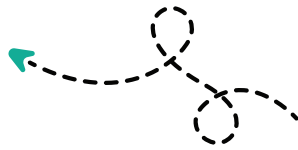


# مدرستي معكم خطوة بخطوة للنجاح والتفوق




مدرستي

الكويتية

حمل التطبيق



مدرستي



الكويتية



اضغط هنا

**السؤال الأول: (موضوعي) ويتكون من (أ، ب، ج):-**

أ/ أكمل العبارات التالية بما يناسبها: (١ × ٥ = ٥ درجات)

١. جمعية إنسانية تطوعية تقدم المساعدات والعون سواء لوضع اجتماعي ضعيف أو حرب أو كوارث طبيعية دون التفرقة بين دين أو مذهب أو جنس أو لون تأسست في عام ١٩٦٦ م تسمى .. جمعية الهلال الأحمر الكويتي .. ص ١٨٠
٢. العام الذي تم فيه إعلان جنيف لحقوق الطفل هو ..... ١٩٢٤ .... م. ص ١٢٧
٣. المقر الدائم لهيئة الأمم المتحدة مدينة تسمى ... نيويورك .... ص ١٦٨
٤. شخصية كويتية نشرت الدين الإسلامي في القارة الأفريقية اسمه ... د. عبد الرحمن السميث ... ص ١٤٢
٥. الدولة التي أقيمت على جزيرتيها هيروشيما ونجازاكي قنبلة ذرية تسمى ... اليابان .... ص ١١٣

ب/ اختر البديل المناسب من بين البدائل التالية بوضع خط تحت الإجابة الصحيحة: (١ × ٥ = ٥ درجات)

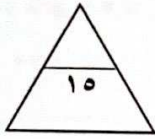
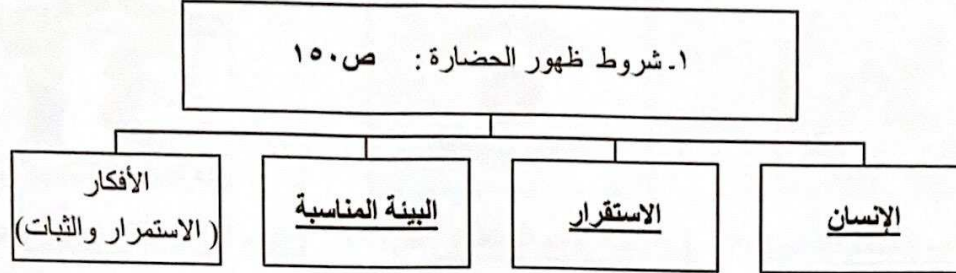
١. عدد الدول التي انضمت لهيئة الأمم المتحدة عند الإعلان عن إنشائها عام ١٩٤٥ م :  
( ٣٠ - ٤٠ - ٥٠ - ٦٠ ) ص ١٦٧
٢. العام الذي تعرضت فيه دولة الكويت لاحتلال من قبل النظام العراقي البائد :  
( ١٩٦٠ م - ١٩٧٠ م - ١٩٨٠ م - ١٩٩٠ م ) ص ١٣٧
٣. المقر الدائم لمحكمة العدل الدولية مدينة تسمى :  
( سان فرانسيسكو - يالطا - لاهاي - طوكيو ) ص ١٧١
٤. حدوث نقص واضح في كمية الغذاء ونوعيته عن المعدلات المطلوبة تسمى مشكلة :  
( الغذاء - سوء التغذية - التصحر - البطالة ) ص ١١٨
٥. مؤسسة اقتصادية أنشأتها دولة الكويت عام ١٩٦١ م لتوزيع المعونات المالية والفنية للدول النامية تسمى :  
( الهلال الأحمر - الصندوق الكويتي للتنمية الاقتصادية - الجمعية العامة - اليونسكو ) ص ١٧٧



**تابع السؤال الأول :**

( ١ × ٥ = ٥ درجات )

**ج/ أكمل المخططات السهمية التالية:**



**السؤال الثاني : ( موضوعي ) ويتكون من ( أ، ب، ج ) :-**

( ١ × ٥ = ٥ درجات )


**أ/ اختر من القائمة (أ) ما يناسبها من القائمة (ب) بوضع الرقم المناسب :**

| الرقم | القائمة ( أ )           | الرقم المناسب | القائمة ( ب )   |
|-------|-------------------------|---------------|---|
| ١     | تسونامي                 | (٣)           | مجموعة الصفات الأخلاقية كالعادات والمبادئ والاتجاهات حول ما هو مرغوب وغير مرغوب اجتماعياً . ص ١٣٧ |
| ٢     | حضارة                   | (٦)           | النقص في الغذاء من حيث الكم والنوع . ص ١١٨  |
| ٣     | قيم                     | (٤)           | زحف التكنولوجيا وقدرتها على التفوق في مواجهة العنصر البشري . ص ١٢٠                                |
| ٤     | ذكاء اصطناعي            | (٥)           | الطرق والوسائل التي تمكن الإنسان من التواصل مع العالم الخارجي . ص ١٢٩                             |
| ٥     | برامج التواصل الاجتماعي | (١)           | أمواج زلزالية في أرضية المحيطات . ص ١١٨   |
| ٦     | سوء تغذية               |               |   |


**تابع السؤال الثاني :**

( ١ × ٥ = ٥ درجات )

ب/ لاحظ الشعارات التي أمامك ثم أكتب الاسم المناسب لها :



( هيئة الأمم المتحدة ) ص ١٦٧ ( عصبة الأمم المتحدة ) ص ١٦٧ ( اليوم العالمي للغة العربية ) ص ١٥٤



( برامج التواصل الاجتماعي ) ص ١٢٩

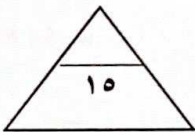
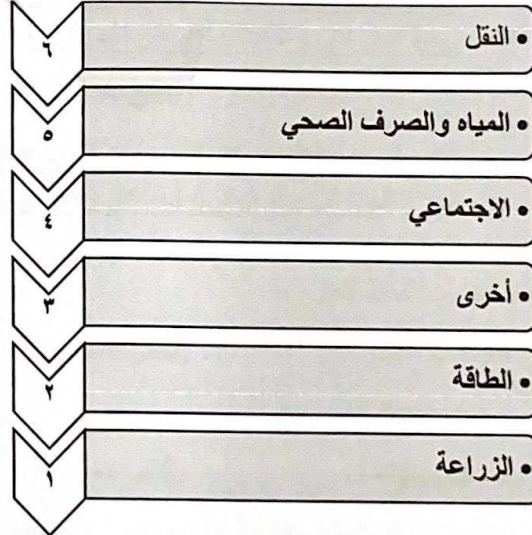
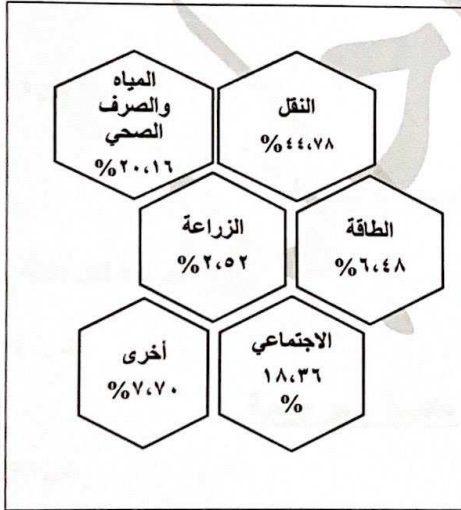
( اليونسكو ) ص ١٧٨

( ١ × ٥ = ٥ درجات )

ج/ لاحظ الشكل البياني التالي ثم نفذ المطلوب :

ص ١٧٧

١. رتب تنازلياً القطاعات التي يمولها الصندوق الكويتي للتنمية الاقتصادية -



**السؤال الثالث: (مقالى) ويتكون من ( أ، ب، ج ) :-**

**أ/ عرف المفاهيم أو المصطلحات العلمية التالية:** (درجة لكل نقطة)

|                          |   |
|--------------------------|---|
| ١- حضارة .               | <u>جملة مظاهر الرقي العلمي والفني والأدبي والاجتماعي في مجتمع من المجتمعات أو في مجتمعات متشابهة وهي مرحلة سامية من مراحل التطور الإنساني .</u> |
| ٢- بطالة .               | <u>تطلق على الأفراد الذين يعيشون بدون عمل .</u>   |
| ٣- تكنولوجيا .           | <u>الطرق المادية المستعملة في صناعة الأشياء وعملها .</u>  |
| ٤- هجرة غير مشروعة .     | <u>دخول الأشخاص لبلد ما دون القيام بالإجراءات القانونية .</u>   |
| ٥- محكمة العدل الدولية . | <u>الجهاز القضائي الرئيسي للأمم المتحدة.</u>  |

**ب/ اقرأ الفقرة التالية ثم أجب عن الأسئلة التي تليها:** (درجة لكل نقطة)

" ضاع مستقبل بعض المتعلمين ومنهم من هو في نفس عمر ك نتيجة الإدمان على المخدرات، ولقد حرصت الكويت على محاربة المخدرات ومروجيها من خلال وضع قوانين صارمة تصل للإعدام أو الحبس المؤبد لكل من استورد أو جلب مواد مخدرة كفاعل أصلي أو شريك (المادة رقم ٣١) ."

١. عرف ما تحته خط : الإدمان: حالة نفسية وأحياناً عضوية تنتج من التفاعل مع العقار.
٢. عدد بعض خصائص المدمن: (يكتفى بنقطتين)
٣. عدد بعض طرق علاج الإدمان: (يكتفى بنقطتين)

- الرغبة في تعاطي العقار المخدر ولا يستطيع الإقلاع عنه
- زيادة الجرعات وعددها / أعراض نفسية وجسمية

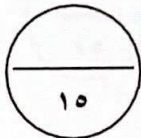
- الإصرار على الإقلاع والتخلص منه / تقوية الوازع الديني
- العلاج الجماعي والسلوكي / استغلال وقت الفراغ / زيارة المصحات العلاجية

**ج/ أكتب ما تعرفه عن:** (درجة لكل نقطة)

١. خصائص القيم: (يكتفى بنقطتين)
٢. خصائص الثقافة : (يكتفى بنقطتين)
٣. نجاح دول العالم المتقدمة في تحقيق الأمن الغذائي .

- ذاتية / نسبية
- إنسانية / مكتسبة وغير وراثية
- ذاتية / نسبية
- إنسانية / مكتسبة / قابلة للانتشار والنقل
- إنسانية / مكتسبة / ثابتة ومتغيرة

- وضعت خطط مستقبلية بهدف تأمين الاكتفاء الذاتي لإنتاج الغذاء .



### السؤال الرابع: (مقالى) ويتكون من (أ، ب، ج):-

أ/فرق بين اختصاصات كل مما يلي: (يكتفى بنقطتين) (درجة لكل نقطة)

|                |  |
|----------------|--|
| الجمعية العامة | - التعاون الدولي في الميادين المختلفة / تحقيق حقوق الإنسان والحريات الأساسية للجميع / إقرار التوصيات السلمية بعد أي حدث .<br>- تعيين السكرتير العام للأمم المتحدة بناء على توصية مجلس الأمن / النظر في قبول دول جديدة في عضوية المنظمة . |
| مجلس الأمن     | - المحافظة على السلام و الأمن الدوليين / التحقيق في أي خلاف دولي .<br>- التوصيات بشأن المنازعات الدولية / التوصية بقبول أعضاء جدد .  |
| الأمانة العامة | - تنبيه مجلس الأمن إلى أي مسألة يرى أنها قد تهدد السلم العالمي / اقتراح قضايا على الجمعية العامة أو أي هيئة أخرى من هيئات الأمم المتحدة لمناقشتها .<br>- تعيين ممثل للأمم المتحدة لحل النزاعات بين الدول الأعضاء .                       |

ب/ عدد مايلي : (درجتان - يكتفى بنقطتين)

١- الآثار السلبية للأزمات السياسية :

ص ١١٣

- سباق التسلح بين الدول . / تخصيص الميزانيات المالية الهائلة للإتفاق على شراء الأسلحة.
- انخفاض المستوى المعيشي للشعوب وظهور مشاكل أخرى فيها مثل الأمراض الوبائية والتلوث البيئي والمجاعات.

٢- سلبيات برامج التواصل الاجتماعي :

ص ١٢٩

- التجارة غير المشروعة / نقل الأخبار الكاذبة وإطلاق الإشاعات
- ظاهرة التشهير بالناس وتسمى عالمياً بظاهرة تسلط البشر إلكترونياً

ج/برهن على صحة العبارات التالية: (درجة لكل نقطة)

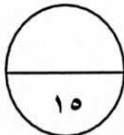
١- بذلت دولة الكويت جهوداً كبيرة في مجال محو الأمية وتعليم الكبار على المستوى المحلي أو العالمي- ص ١٧٨

- المستوى المحلي: جعلت التعليم إلزامياً ومجانياً حتى المرحلة المتوسطة / سمحت بالتعليم في مدارسها لجميع الجنسيات -
- المستوى العالمي: بناء مراكز للتعليم في الدول النامية / نشر تعاليم الدين الإسلامي التي تحت على حب العلم والمعرفة.

٢- وجود مشكلة غذائية كتحدٍ اقتصادي .

ص ١١٨

- استمرار تراجع مقومات الإنتاج الزراعي بسبب انتشار الجفاف والتصحر .
- استمرار انتشار الأمراض الناتجة من سوء التغذية. تكرار حدوث الكوارث الطبيعية (مجاعات وأمواج زلزالية في أرضية المحيطات والمعروفة بتسونامي)
- استخدام الدول الكبرى الغذاء كسلاح لتحقيق بعض المكاسب السياسية على حساب الدول الفقيرة .



انتهت الأسئلة

٥



وزارة التربية

الإدارة العامة للتعليم الخاص

التوجيه الفني للإجتماعيات

نموذج الإجابة

امتحان المنهج الكامل

لمادة الإجتماعيات للصف التاسع المتوسط  
( الكويت والعالم )

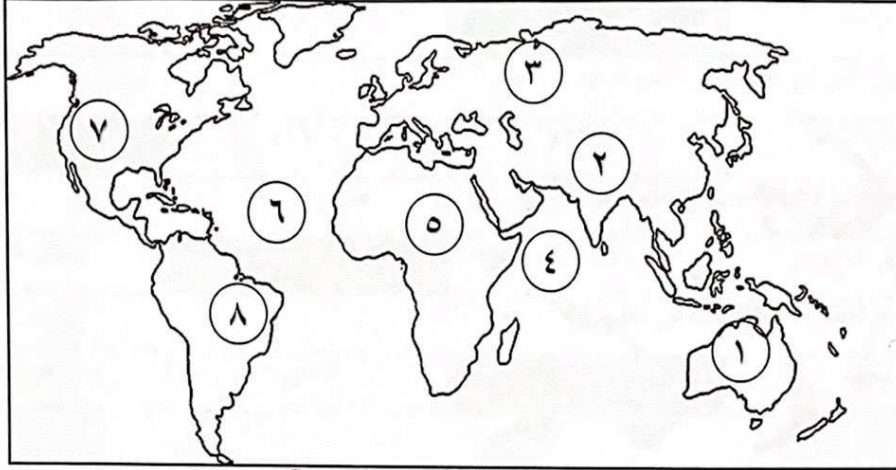
العام الدراسي: ٢٠٢١-٢٠٢٢م

الزمن : ساعة وخمس وأربعون

عدد الأوراق : ٥

السؤال الأول : يتكون من ( أ ، ب ، ج ) :

( أ ) لاحظ خريطة العالم ثم اكتب الرقم الدال على العبارات التالية: ( ١ × ٥ = ٥ درجات )



- المحيط الأطلنطي يمثل على الخريطة الرقم ( ٦ ) ص ٢٠
- هضبة البرازيل يمثلها على الخريطة الرقم ( ٨ ) ص ٢٥
- سهول سيبيريا يمثلها على الخريطة الرقم ( ٣ ) ص ٢٥
- جبال الروكي يمثلها على الخريطة الرقم ( ٧ ) ص ٢٥
- قارة أفريقيا يمثلها على الخريطة الرقم ( ٥ ) ص ٢٠

( ب ) اكتب المصطلح أو المفهوم الدال للعبارة التالية: ( ١ × ٥ = ٥ درجات )

| م | المفهوم أو المصطلح | العبارة  |
|---|--------------------|--|
| ١ | البيئة الطبيعية    | - كل ما يحيط بالإنسان من ظواهر حية وغير حية ليس للإنسان أي دخل في وجودها وتتمثل في بنية الأرض والتضاريس والمناخ والنبات الطبيعي والحيوانات.<br>ص ١٥    |
| ٢ | التلوث الضوضائي    | - خليط متنافر من الأصوات ذات استمرارية غير مرغوب فيها.<br>ص ٦٩   |
| ٣ | مشكلة الغذاء       | - هي حدوث نقص واضح في كمية الغذاء ونوعيته عن المعدلات المطلوبة.<br>ص ١١٨   |
| ٤ | الثقافة            | - الكل المعقد الذي يتضمن المعرفة والفن والعقائد والقانون والعادات والتقاليد وغيرها من القدرات المكتسبة لدى الإنسان لأنه عضو من أعضاء المجتمع.<br>ص ١٤٩ |
| ٥ | منظمات دولية       | - هيئة يشترك فيها عدد من الدول للقيام بمجموعة من الأعمال ذات الأهمية المشتركة.<br>ص ١٦٧  |



**تابع / السؤال الأول :**

( ج ) ظلّل الخيار الصحيح من بين الخيارات التي تلي كل عبارة: ( ١ × ٥ = ٥ درجات )

١- خط الأساس لدوائر العرض ورقمه صفر : ص ١٩

| خط الإستواء | خط التاريخ الدولي | خط جرينتش | خط الطول |
|-------------|-------------------|-----------|----------|
|-------------|-------------------|-----------|----------|

٢- نسبة مساحة الجبال بالنسبة لمساحة القارات : ص ٢٤

|     |     |     |     |
|-----|-----|-----|-----|
| %١٠ | %١٢ | %١٤ | %١٦ |
|-----|-----|-----|-----|

٣- حدث الغزو العراقي على دولة الكويت عام : ص ١٣٧

|       |       |       |       |
|-------|-------|-------|-------|
| ١٩٦٠م | ١٩٧٠م | ١٩٨٠م | ١٩٩٠م |
|-------|-------|-------|-------|

٤- أول من استخدم فكرة الحضارة كفكره مستقلة لها مفهومها : ص ١٥٠

|                |               |                     |             |
|----------------|---------------|---------------------|-------------|
| انطونيو غوتيرس | ادوارد تايلور | عبد الرحمن بن خلدون | مايكل فالون |
|----------------|---------------|---------------------|-------------|

٥- المقر الدائم لهيئة الأمم المتحدة في مدينة : ص ١٦٨

|      |         |       |               |
|------|---------|-------|---------------|
| جنيف | نيويورك | لاهاي | سان فرانسيسكو |
|------|---------|-------|---------------|

**السؤال الثاني : يتكون من ( أ ، ب ، ج ) :**

( أ ) صنف الكلمات التالية في المكان المناسب حسب الجدول التالي: ( ١ × ٦ = ٦ درجات )


- |          |          |               |
|----------|----------|---------------|
| ١- دينية | ٢- ذاتية | ٣- ديموقراطية |
| ٤- نسبية | ٥- صحية  | ٦- مكتسبة     |

| خصائص القيم | أنواع القيم |
|-------------|-------------|
| ص ١٤٠       | ص ١٣٩       |
| ذاتية       | دينية       |
| نسبية       | ديموقراطية  |
| مكتسبة      | صحية        |




تابع / السؤال الثاني:


( ب ) ضع عنواناً مناسباً للصور والأشكال التالية مما درست : ( ١ × ٤ = ٤ درجات )



١- التوازن البيني . ص ١٦



٢- وسائل التواصل الإجتماعي. ص ١٢٩



٣- شعار اليوم العالمي للغة العربية . ص ١٥٤

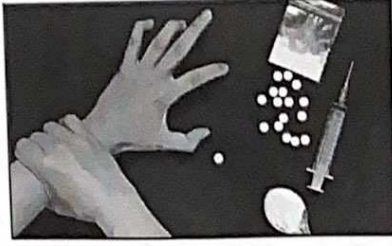


٤- الهيئة الخيرية الإسلامية العالمية . ص ١٨٢

( ج ) أكمل العبارات التالية بما يناسبها : ( ١ × ٥ = ٥ درجات )

- ١- أول رياضي عربي يتسلق قمة إفرست اسمه زيد السيد الرفاعي ص ٢٥
- ٢- أحد درجات التلوث ينهار فيها النظام الأيكولوجي يسمى المدمر ص ٦٢
- ٣- الطرق المادية المستعملة في صناعة الأشياء وعملها تسمى التكنولوجيا ص ١٢٠
- ٤- المدينة التي تعتبر المقر الدائم لمحكمة العدل الدولية تسمى لاهاي ص ١٧١
- ٥- مؤسس جمعية العون المباشر التطوعية أسمه الدكتور عبدالرحمن السميّط ص ١٨١

**السؤال الثالث : يتكون من ( أ ، ب ، ج ) :**



**( أ ) لاحظ الصورة المقابلة ثم أجب عما يلي : ص ١٢٣ ( ٥ درجات )**

١- **أذكر** - ما تدر عليه الصورة . ( درجة )

- إدمان المخدرات ( أو ما يراه المصحح مناسباً )

٢- **عرف** - الإدمان . ( درجة )

- حالة نفسية وأحياناً عضوية تنتج من التفاعل مع العقار.

٣- **عدد** - خصائص المدمن وصفاته . ( درجتان ) ( يكتفى بنقطتين ) ص ١٢٤

- الرغبة في تعاطي العقار المخدر ولا يستطيع الإقلاع عنه.

- زيادة الجرعات وعددها.

- أعراض نفسية وجسمية على المدمن .

٤- **اقترح** حلاً مناسباً لعلاج الإدمان . ( درجة ) ص ١٢٤

- الإصرار على الإقلاع والتخلص منه . - العلاج الجماعي والسلوكي

- تقوية الوازع الديني . - استغلال وقت الفراغ في الأنشطة المفيدة .

**( ب ) فرق بين كل من المفاهيم التالية : ( ٦ × ١ = ٦ درجات )**

|  |  |
|--|--|
| عناصر الثقافة المادية ص ١٥٣  | عناصر الثقافة المادية ص ١٥٣  |
| قواعد السلوك والأخلاق والقيم والعادات والتقاليد واللغة والأساليب الفنية التي تستعملها الجماعة وكل العناصر السيكولوجية (النفسية) التي تنتج عن الحياة الاجتماعية .   | كل ما أنتجه وصنعه واخترعه الإنسان ويمكن اختباره بالحواس مثل (المسكن والآلات ووسائل المواصلات...) |
| السهول ص ٢٤  | الهضاب ص ٢٤  |
| مساحة كبيرة من سطح الأرض تتميز باستوائها وقلة ارتفاعها .   | أرض مرتفعة وسطوحها مستوية وتمتد على مساحة كبيرة .  |
| الأمانة العامة للأمم المتحدة ص ١٧١   | الجمعية العامة للأمم المتحدة ص ١٧٠   |
| الجهاز الإداري والفني الذي يقوم بتولى كافة الأعمال الإدارية بالنسبة لجميع فروع الأمم المتحدة وأجهزتها الرئيسية والفرعية، وتتكون من الأمين العام وعدد كاف من الموظفين للقيام بالأعمال الإدارية المطلوبة . | الهيئة الرئيسية للأمم المتحدة والوحيدة التي تمثل فيها جميع الدول الأعضاء وعلى نحو متساو .        |

**( ج ) أكتب في اثنين لكل مما يلي : ٤ درجات ( لكل نقطة درجة )**

١- الآثار السلبية للأزمات السياسية . ص ١١٣

- سباق التسلح . - تخصيص الميزانيات المالية الهائلة للإنفاق على شراء الأسلحة .

- انخفاض المستوى المعيشي للشعوب وظهور مشاكل أخرى فيها مثل الأمراض الوبائية والتلوث البيئي والمجاعات .

٢- أضرار تلوث التربة . ص ٦٧

- قلة الإنتاج الزراعي الذي يحتاجه الإنسان بسبب اعتماد النباتات على التربة .

- انقراض بعض النباتات والحيوانات بسبب تلوث التربة .

- ازدياد الطفيليات والبكتيريا ومسببات الأمراض للإنسان بسبب تلوث المحاصيل الزراعية .

- تلوث المياه الجوفية ومياه البحار التي يعتمد عليها الإنسان في الشرب .

**السؤال الرابع: يتكون من ( أ ، ب ، ج ):**

**( أ ) اقرأ الفقرة التالية ثم أجب عما يليها من أسئلة : ( ٥ درجات ) ص ١٤٩**

"تتداخل ( الثقافة ) و( الحضارة ) ويتقاربان ويتباعدان من حيث مفهوم كل منهما ومدى شمول أحدهما للآخر ، حيث يرى بعضهم أن المفهومين يعبران عن الشيء نفسه، بينما يرى علماء آخرون أن الحضارة هي أحد أشكال الثقافة ، وأن الحضارة تشمل في داخلها الثقافة كجزء منها ."

١- عرف ماتحته خط . ص ١٥٠ ( درجة )

- الحضارة : جملة مظاهر الرقي العلمي والفني والأدبي والاجتماعي في مجتمع من المجتمعات أو في مجتمعات متشابهة وهي مرحلة سامية من مراحل التطور الإنساني .

٢- عدد - شروط ظهور الحضارة . ص ١٥٠ ( درجتان ) ( يكتفى بنقطتين )

- الإنسان

- البيئة المناسبة.

- الأفكار ( الاستمرار والثبات )

٣- أذكر - مكونات الثقافة الرئيسية . ص ١٥٠ ( درجتان ) ( يكتفى بنقطتين )

- مكونات مادية .

- مكونات اجتماعية .

**( ب ) اكتب فيما يلي : ( ٦ درجات ) لكل نقطة درجة**

١- اختصاصات مجلس الأمن . ص ١٧١ ( يكتفى بنقطتين )

- المحافظة على السلام والأمن الدوليين .

- التحقيق في أي خلاف دولي .

- التوصية بقبول الأعضاء الجدد .

٢- جهود دولة الكويت في محاربة الأمية على المستوى المحلي . ص ١٧٨

- جعلت التعليم إلزامياً ومجانياً حتى المرحلة المتوسطة .

- سمحت بالتعليم في مدارسها لجميع الجنسيات .

٣- الحلول الفردية التي يقوم بها السكان لظاهرة الإحتباس الحراري . ص ٨٢ ( يكتفى بنقطتين )

- الترشيد باستهلاك الطاقة في دول العالم - تشجيع النقل العام والمواصلات بكل أنواعها.

- حث المواطنين لبناء منازل معزولة حرارياً.

**( ج ) عرف المفاهيم والمصطلحات التالية : ( ٤ درجات )**

| م  | المفهوم / المصطلح       | التعريف   |
|----|-------------------------|---|
| ١- | الدبلوماسية             | - أداة لتشكيل وتنفيذ السياسة الخارجية من أجل إقامة وتطوير علاقات سلمية بين حكومات الدول، تتم عبر الإتصال المباشر بين وزراء الخارجية أو رؤساء الدول ص ٩٥ |
| ٢- | الهجرة غير المشروعة     | - دخول الأشخاص لبلد ما بدون القيام بالإجراءات القانونية . ص ١١٥   |
| ٣- | برامج التواصل الاجتماعي | - الطرق والوسائل التي تمكن الإنسان من التواصل مع العالم الخارجي. ص ١٢٩  |
| ٤- | العنف ضد الأطفال        | - العنف الجسدي ، اللفظي، العاطفي، الذي يمارس على الطفل ويؤدي الى آثار سنية على الجانب النفسي مما يؤثر عليه في المستقبل وأحياناً يؤدي الى الوفاة. ص ١٢٧  |

**انتهت الإجابة**