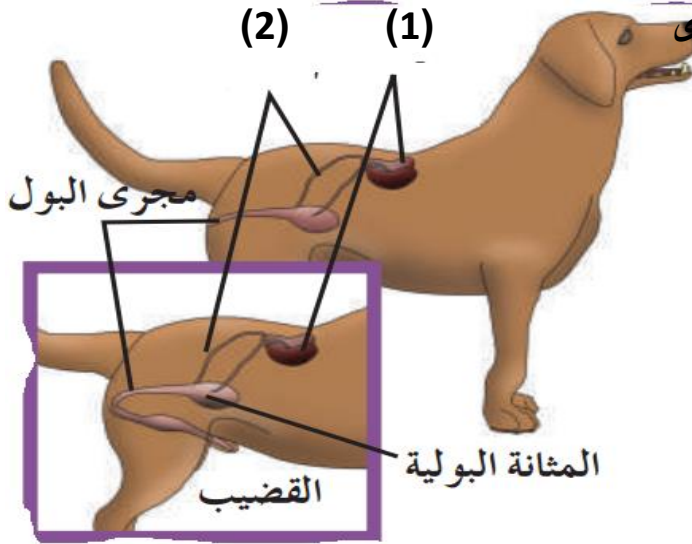


اسم الطالب / رقم الكشف /	اختبار قصير اول 2024/2023	مدرسة
الصف	الدرجة /	قسم

السؤال الاول :- اكتب بين القوسين الاسم أو المصطلح العلمي المناسب

1- (حصول الكائن الحي على المواد الغذائية والطاقة عن طريق التغذية)

على المركبات العضوية للكائنات الأخرى



ب- اكتب ما تشير إليها الأسهم

1-

2-

السؤال الثاني :- علل لكل مما يلي

بسط العضلات باتجاه الهيكل الخارجي في مفصليات الأرجل ؟

.....
.....

عدد أنواع التكاثر في اللاسعات

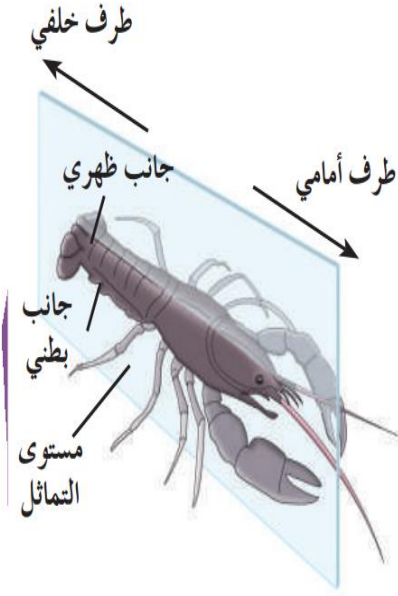
1- 2-

.....

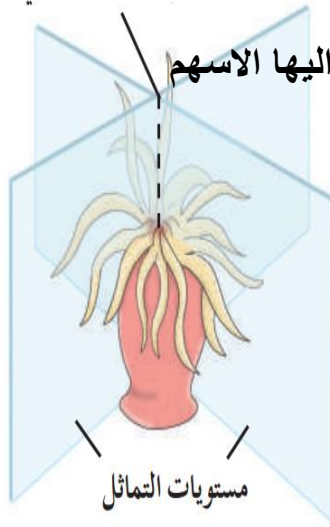
مدرسة	اختبار قصير اول 2024/2023	اسم الطالب / رقم الكشف /
قسم	الدرجة /	الصف

السؤال الاول :- اكتب بين القوسين الاسم أو المصطلح العلمي المناسب

(.....) تواجد أعضاء الحس والخلايا العصبية بكثرة في مقدمة جسم الحيوان أو طرفه الأمامي.



(2)



(1)

1-.....

2-.....

السؤال الثاني :- علل لكل مما يلي

-يستطيع الاسفنج حماية نفسه من المفترسات رغم عدم وجود خلايا عصبية

.....

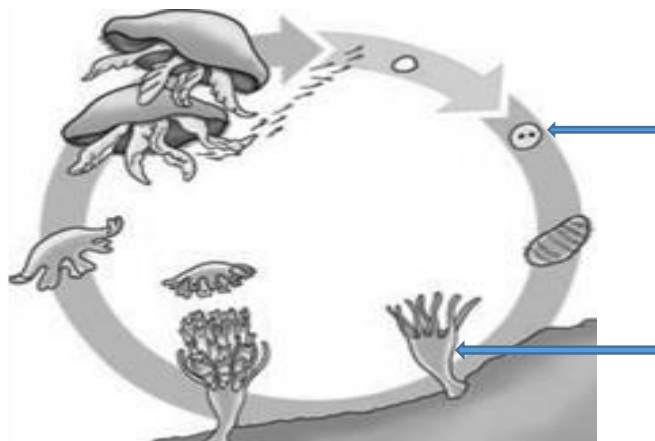
- عدد انواع الاخراج فى مفصليات الارجل

1-..... 2-.....

اسم الطالب / رقم الكشف /	اختبار قصير اول 2024/2023	مدرسة
الصف	الدرجة /	قسم

السؤال الاول :- اكتب بين القوسين الاسم أو المصطلح العلمي المناسب

1- (.....) مادة تحتوي على النيتروجين، من المنتجات الإخراجية الأولية لعملية الأيض الخلوي



ب- اكتب ما تشير اليها الاسهم

1-.....

(1)

2-.....

(2)

السؤال الثاني :- علل لكل ممايلي

- بسط العضلات باتجاه الهيكلّ الخارجى فى مفصليات الارجل ؟

.....

.....

عدد انواع التكاثر فى الالاسعات

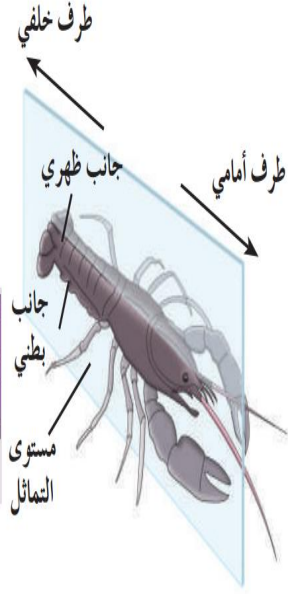
1-..... 2-.....

.....

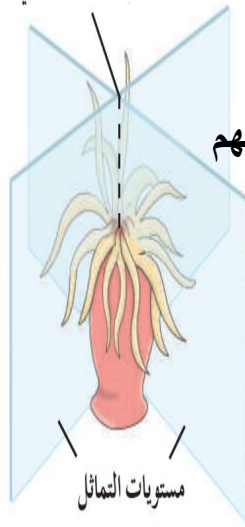
مدرسة	اختبار قصير اول 2024/2023	اسم الطالب / رقم الكشف /
قسم	الدرجة /	الصف

السؤال الاول :- اكتب بين القوسين الاسم أو المصطلح العلمي المناسب

(.....) تواجد أعضاء الحس والخلايا العصبية بكثرة في مقدمة جسم الحيوان أو طرفه الأمامي.



(2)



(1)

ب- اكتب نوع التماثل الكائنات التي تشير اليها الاسهم

1-.....

2-.....

السؤال الثاني :- علل لكل ممايلي

-يوصف الهضم في اللاسعات بأنه خارجي ثم داخلي

.....

-عدد انواع التنفس في مفصليات الارجل

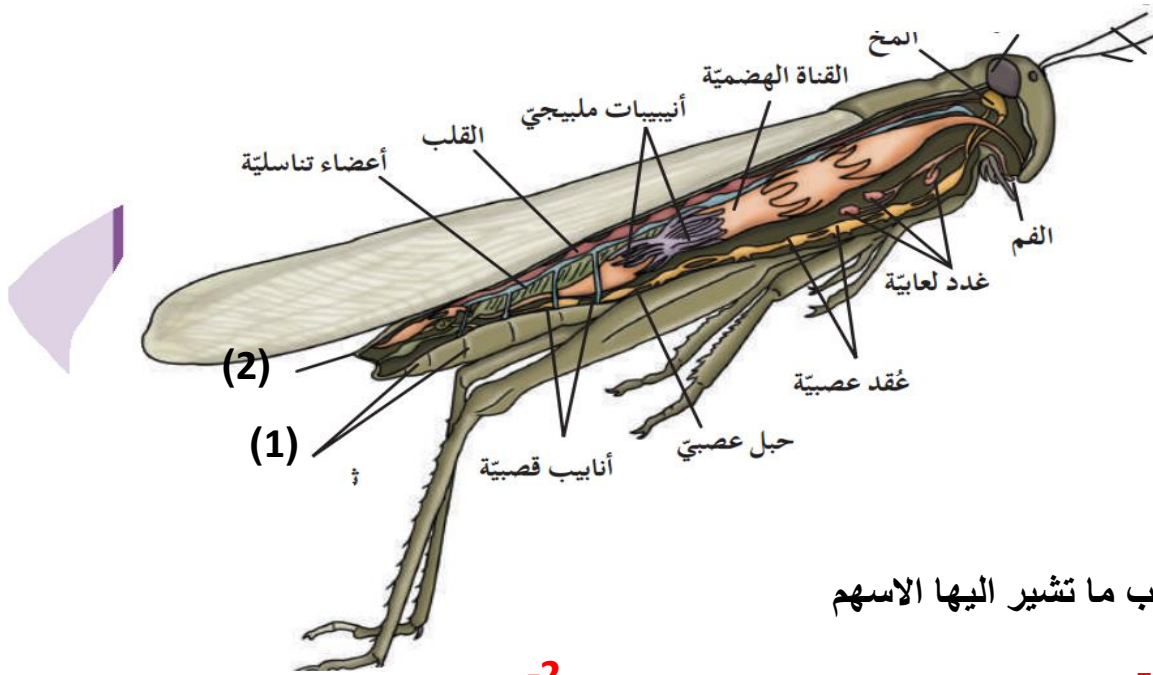
1-..... 2-.....

3-.....

مدرسة	اختبار قصير اول 2024/2023	اسم الطالب / رقم الكشف /
قسم	الدرجة /	الصف

السؤال الاول :- اكتب بين القوسين الاسم أو المصطلح العلمي المناسب

1- (.....) وحدات الاخراج في مفصليات الارجل الارضية



ب- اكتب ما تشير اليها الاسهم

.....-2

.....-1

السؤال الثاني :- علل لكل ممايلي

(أ) بسط العضلات باتجاه الهيكلّ الخارجى فى مفصليات الارجل ؟

.....

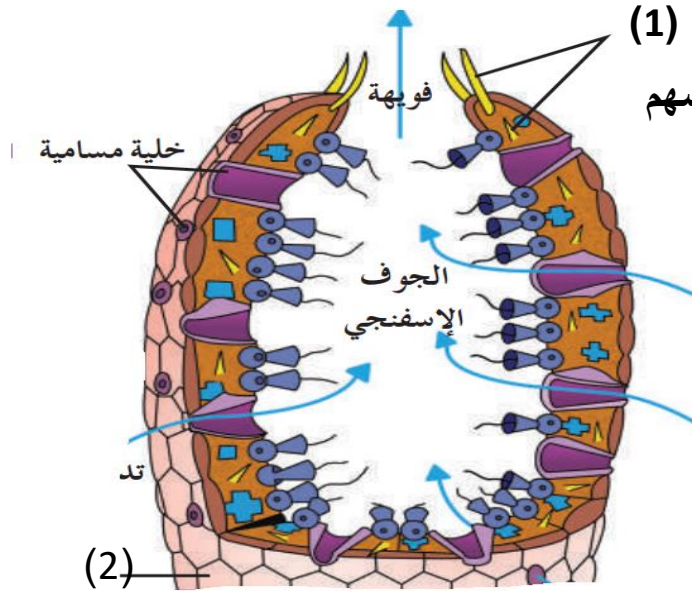
(ب) عدد انواع التكاثر فى الالاسعات

.....-1-2

مدرسة	اختبار قصير اول 2024/2023	اسم الطالب / رقم الكشف /
قسم	الدرجة /	الصف

السؤال الاول :- اكتب بين القوسين الاسم أو المصطلح العلمي المناسب

(.....) حيوانات لاحمة، وليئة الجسم، ولها لوامس لاسعة مرتبة في حلقات حول أفواهها



(1)

ب- اكتب اسم التراكيب التي تشير اليها الاسهم

1-

2-

السؤال الثاني :- علل لكل ممايلي

تستطيع مفصليات الارجل ان تتناول اي غذاء يمكن ان تتصوره؟

.....

عدد انواع الاخراج في مفصليات الارجل (الارضية والمائية)

1- 2-