

(نموذج ١)

السؤال الأول أ - أكمل العبارات التالية بما يناسبها (٣ درجات)

- ١- أن تسيطر دولة قوية على دولة ضعيفة بهدف استغلال موقعها و مواردها
يسمى.....
- ٢- المدار الذي يمر بدول الخليج العربية يسمى
- ٣- الدولة الاوربية التي ارادت مد خط سكة حديد فى دولة الكويت تسمى.....
- ب- اختر البديل الصحيح من بين البدائل التى تلى كل عبارة مما يلى وضع خطا تحته (٣ درجات)

١- الجهة التى تقع منطقة فيها دول الخليج العربية بالنسبة للوطن العربي
(- الشمال - الجنوب - الشرق - الغرب)

٢- العام الذى عقدت فيه اتفاقية الحماية بين دولة الكويت وبريطانيا
(١٦٩٩ م - ١٧٩٩ م - ١٨٩٩ م - ١٩٩٩ م)

٣- حاكم دولة الكويت الذي وقع اتفاقية الحماية مع بريطانيا يسمى

(الشيخ عبدالله السالم - الشيخ مبارك الصباح - الشيخ جابر الاحمد - الشيخ صباح الاحمد)

السؤال الثانى قارن بين كلا مما يلى حسب المطلوب فى الجدول التالى (٤ درجات)

وجه المقارنة	الاستعمار البرتغالي	الاستعمار الهولندي
هدف الاستعمار
القرن

(نموذج ٢)

السؤال الأول أ – صحح ما تحته خط في العبارات التالية وذلك بكتابة الإجابة الصحيحة في مكانها المناسب حسب الجدول (٣ درجات)

التصويب	العبارة
.....	١- هي المتطلبات الأساسية لجميع الأفراد دون تمييز <u>الدستور</u>
.....	٢- العام الذي أعلن فيه استقلال مملكة البحرين <u>١٩٧٠ م</u>
.....	٣- البلد الخليجي الوحيد الذي لم يتعرض للاستعمار مملكة <u>قطر</u>

ب- اختر البديل الصحيح من بين البدائل التي تلى كل عبارة مما يلي وضع خطاً تحته (٣ درجات)

١- الدولة الخليجية التي تمر بها دائرة مدار السرطان تسمى
(قطر - الكويت - البحرين - عمان)

٢- عدد مواد الدستور الكويتي

(١٨١ - ١٨٣ - ١٨٥ - ١٨٧)

٣- العام الذي أعلن فيه استقلال مملكة قطر

(١٩٦١ - ١٩٧٠ - ١٩٧١ - ١٩٧٢)

السؤال الثاني قارن بين كل من حسب المطلوب منك في الجدول التالي (٤ درجات)

وجه المقارنة	اتفاقية الحماية	اتفاقية (الصدقة والتشاور)
سنة الاتفاقية		
اسم الحاكم الذي وقع الاتفاقية		

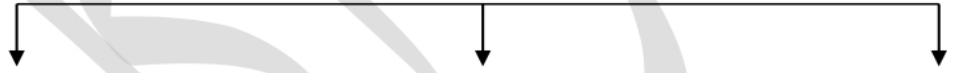
(نموذج ٣)

السؤال الأول أ- أكمل العبارات التالية بما يناسبها فيما درست (٤ درجات)

- ١- العام الذي عقدت فيه اتفاقية الحماية بين دولة الكويت وبريطانيا
- ٢- الحاكم الذي وقع اتفاقية الحماية يسمى الشيخ
- ٣- استبدل الشيخ عبدالله السالم الصباح اتفاقية الحماية باتفاقية سميت
- ٤- البلد الخليجي الوحيد الذي لم يتعرض للاستعمار

(ب) اكمل المخطط السهمي التالي

التنافس الاستعماري الأوروبي على منطقة دول الخليج العربية.



الاستعمار البرتغالي
.....

السؤال الثاني أ- عرف المفاهيم او المصطلحات التالية (درجتان)

١- الاستعمار:

.....

٢- الاستقلال:

.....

ب- علل لما يلي (اذكر السبب) (درجتان)

١- لقب الشيخ عبدالله السالم الصباح - رحمه الله - بـ (أبو الاستقلال)

.....

٢- تعاون الدولة العثمانية مع ألمانيا من خلال مشروع سكة حديد،

.....

(نموذج ٤)

السؤال الأول أ- أكمل العبارات التالية بما يناسبها فيما درست (٣ درجات)

- ١- التشاور والحوار لتحقيق المصلحة العامة وهي ترتبط بمفهوم المواطنة.....
- ٢- الجهة التي تقع فيها منطقة الخليج العربية بالنسبة للوطن العربي.....
- ٣- كانت منطقة دول الخليج العربية مركزاً عالمياً لتجارة

(ب) ضع خطاً تحت الخيار الصحيح من بين الخيارات التي تلي كل عبارة (٣ درجات)

- ١- الدولة الخليجية التي أعلنت استقلالها عام ١٩٦١ م تسمى
(قطر - السعودية - الكويت - البحرين)
- ٢- العام الذي أعلن فيه استقلال سلطنة عمان
(١٩٦١ - ١٩٧٠ م - ١٩٧١ - ١٩٨١)
- ٣- عدد مواد الدستور الكويتي
(١٨١ - ١٨٣ - ١٨٥ - ١٨٧)

السؤال الثاني أ- علل لما يلي (درجتان)

- ١- برزت الأهمية الاقتصادية لموقع منطقة دول الخليج العربية منذ القدم

- ٢- لقب الشيخ عبد الله السالم الصباح بـ أبو الدستور

ب- عرف المفاهيم او المصطلحات التالية (درجتان)

١- الدستور:

٢- الاستقلال

(نموذج ٥)

السؤال الأول أ- أكمل العبارات التالية بما يناسبها فيما درست (٣ درجات)

- ١- أن تسيطر دولة قوية على دولة ضعيفة بهدف استغلال موقعها و مواردها،
- ٢- الشيخ الذي رفض مشروع سكة حديد المانيا يسمى الشيخ
- ٣- أول دولة أوروبية وصلت إلى المنطقة.....

(ب) ضع خطا تحت الخيار الصحيح من بين الخيارات التي تلي كل عبارة (٣ درجات)

- ١- الدولة الخليجية التي اعلنت قيامها عام ١٩٣٢ م تسمى
(قطر - السعودية - الكويت - البحرين)
- ٢- العام الذي أعلن فيه استقلال سلطنة عمان
(١٩٦١ - ١٩٧٠ م - ١٩٧١ - ١٩٨١)
- ٣- سيطر البريطانيون على ممتلكات
(هولندا - فرنسا - المانيا - الدولة العثمانية)

السؤال الثاني أ- علل لما يلي (درجتان)

- ١- قامت شعوب منطقة دول الخليج العربية بالمطالبة بالتححرر من تبعية بريطانيا

- ٢- لقب الشيخ عبد الله السالم الصباح بـ (أبو الاستقلال)

ب- عرف المفاهيم او المصطلحات التالية (درجتان)

- ١- الدستور:

- ٢- الاستقلال:

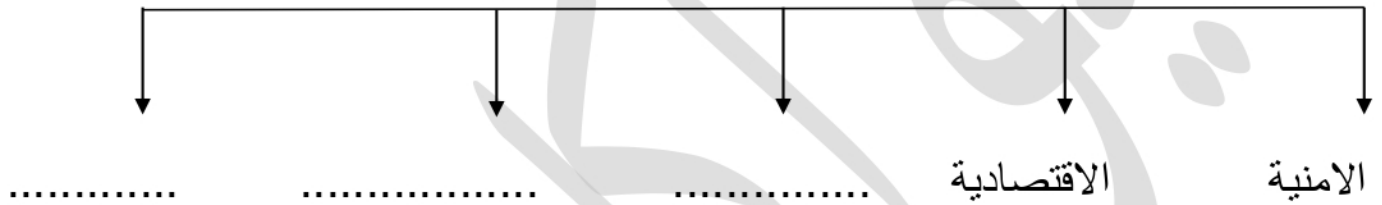
(نموذج ٦)

السؤال الأول أ- أكمل العبارات التالية بما يناسبها فيما درست (٣ درجات)

- ١- التغيير الذي يحدث لعدد السكان نتيجة الزيادة الطبيعية وغير الطبيعية مشكلة
- ٢- أعلى دولة خليجية في الكثافة السكانية بين دول الخليج العربية تسمى
- ٣- هي تطبيقات حديثة للتواصل والتفاعل مع الآخرين.

(ب) اكمل المخطط السهمي التالي (٣ درجات)

الآثار الناجمة عن الخلل في التركيب السكاني:



السؤال الثاني أ- فرق بين كل مما يلي من حيث التعريف (درجتان)

الزيادة الطبيعية	الزيادة غير الطبيعية
.....
.....

ب- علل لما يلي (اذكر السبب) (درجتان)

١- تدهور اللغة العربية والتأثير على الوعي الديني

.....

٢- انشاء الهيئة العامة للاتصالات وتقنية المعلومات

.....

(نموذج ٧)

السؤال الأول أ- أكمل العبارات التالية بما يناسبها فيما درست (٤ درجات)

- ١- النسبة المئوية للمواطنين في دول الخليج العربية (٢٠٢٢ - ٢٠٢٣ م).....
- ٢- العامل الذي ساعد على الغزو الثقافي يسمى وسائل
- ٣- معظم الأصول السكانية لدول الخليج تنتمي إلى
- ٤- انتشار الجرائم والفوضى والإضراب عن العمل. يسمى الآثار.....

(ب) اكمل المخطط السهمي التالي (درجتان)

التشابه الثقافي بين سكان دول الخليج العربية



السؤال الثاني (أ) عرف المفاهيم او المصطلحات التالية (درجتان)

١- الخلل في التركيب السكاني

٢- وسائل التواصل الاجتماعي:

ب- علل لما يلي (اذكر السبب) (درجتان)

١- الهوية الثقافية تعرضت لتأثيرات خارجية،

٢- تدهور اللغة العربية والتأثير على الوعي الديني

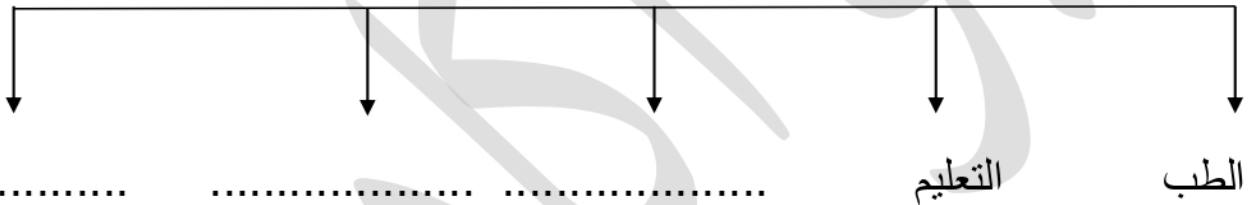
(نموذج ٨)

السؤال الأول أ- أكمل العبارات التالية بما يناسبها فيما درست (٣ درجات)

- ١- تخصيص تاريخ ١٤ سبتمبر من كل عام يوماً
- ٢- ينشابه سكان منطقة الخليج في الزي الوطني والاحتفال بالمناسبات الاجتماعية يسمى
- ٣- دولة خليجية واحدة لم تتعرض للاستعمار تسمى

(ب) اكمل المخطط السهمي التالي (٣ درجات)

مجالات استخدام الذكاء الاصطناعي في حياتنا ؟:



السؤال الثاني (أ) عرف المفاهيم او المصطلحات التالية (درجتان)

١- وسائل التواصل الاجتماعي:

٢- الأمن السيبراني:

ب- علل لما يلي (اذكر السبب) (درجتان)

١- انشاء الهيئة العامة للاتصالات وتقنية المعلومات

٢- الهوية الثقافية تعرضت لتأثيرات خارجية،

(نموذج ٩)

السؤال الأول

أ صحح ما تحته خط في العبارات التالية وذلك بكتابة الاجابة الصحيحة في مكانها المناسب (٣ درجات)

التصويب	العبارة
.....	١- تخصيص تاريخ ١٤ سبتمبر من كل عام يوماً <u>للأسرة العربية</u>
.....	٢- الفرق بين عدد المواليد وعدد الوفيات للسكان <u>الزيادة غير الطبيعية</u>
.....	٣- اكبر دولة خليجية من حيث الكثافة السكانية <u>تسمى قطر</u>

ب- اختر البديل الصحيح من بين البدائل التي تلي كل عبارة مما يلي وضع خطاً تحته (٣ درجات)

- ١- الدولة الخليجية التي لم تتعرض للاستعمار تسمى (قطر – الكويت – البحرين – السعودية)
- ٢- نسبة غير المواطنين في دول الخليج العربية (٢٠٢٢ – ٢٠٢٣ م)
(٣٣ % - ٤٣ % - ٥٣ % - ٦٣ %)
- ٣- معظم الأصول السكانية لدول الخليج تنتمي إلى (شبه الجزيرة العربية – البحر الاحمر – افريقيا – البحر المتوسط)

السؤال الثاني (أ) عرف المفاهيم او المصطلحات التالية (درجتان)

١- الذكاء الاصطناعي :

٢- الأمن السيبراني:

ب- علل لما يلي (اذكر السبب) (درجتان)

١- تأسيس المركز الوطني للأمن السيبراني

.....

٢- انشاء الهيئة العامة للاتصالات وتقنية المعلومات

.....