

الفصل الدراسي الثاني

الاسم: .....

الصف: .....

السؤال الأول:

( أ ) قسم إلى مجموعات متساوية . ثم أكمل.




$$\frac{4}{2} = \frac{2}{1} \div \frac{8}{4}$$

$$\frac{2}{1} = \frac{4}{2} \div \frac{8}{4}$$

( ب ) لون ما يمثل النصف .



( ج ) اكتب رمز العدد الممثل .



٢٠٤


السؤال الثاني:

( أ ) ارسم عقربي الساعة اللذين يدلان على الوقت .



الساعة الخامسة و النصف

( ب ) حوط ما يمثل الثلث .

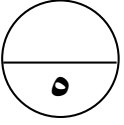


( ج ) ارسم العناصر . أكمل.

وزعت لولوة عدد من على ٤ بالتساوي ، وضعت في كل سلة ٢ .  
فكم كان عدد كل الموز ؟

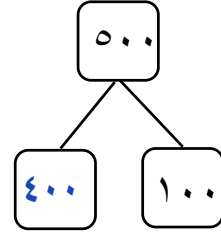


$$2 = 4 \div 8$$

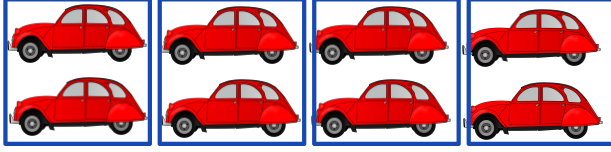


### السؤال الثالث:

(أ) أكمل :

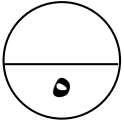


(ب) حوٲ ٤ مجموعات متساوية .



(ج) أكمل .

عدد أيام الاسبوع ٧ أيام



### السؤال الرابع:

(أ) حوٲ الاجابة الصحيحة :

(١) العدد الناقص هو :

$$١ = ٥ \div \square$$

١٥

١٠

٥

(٢) الشهر الذي نحتفل فيه بالعيد الوطني :

مارس

فبراير

يناير

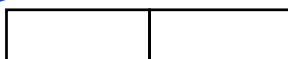
(٣) القيمة المكانية للرقم الذي تحته خط في العدد ٤٣٨ :

٤٠٠



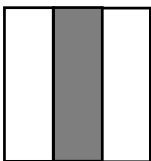
٣٠٠

٤

(٤) الشكل الذي قسم إلى جزئين متطابقين :



(٥) الشكل الذي يمثل الربع :



(( انتهت الأسئلة ))