



السؤال الأول :

(أ) اجمع

عَشَرَات	آحَاد	عَشَرَات	وَحَدَات
١	٢		
١	٥+		

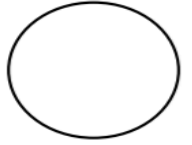
(ب) أوجد العدد المجهول

$$\begin{array}{r} ٣ \quad ٩ \\ \square \quad \square - \\ ١ \quad ٥ \end{array}$$

السؤال الثاني :

(أ) اكمل .

عدد الرؤوس _____
عدد الأضلاع _____



عدد الرؤوس _____
عدد الأضلاع _____



(ب)

إذا كانت  تنتج 
فإن عدد  التي يتم إنتاجها من
 = ----- تقريباً 



السؤال الثالث :

(أ) استخدم الرزنامة للإجابة عن الأسئلة

فبراير

الأحد	الاثنين	الثلاثاء	الأربعاء	الخميس	الجمعة	السبت
			١	٢	٣	٤
٥	٦	٧	٨	٩	١٠	١١
١٢	١٣	١٤	١٥	١٦	١٧	١٨
١٩	٢٠	٢١	٢٢	٢٣	٢٤	٢٥
٢٦	٢٧	٢٨				

(ب) اشطب لتطرح

عَشَرَات	آحَاد	عَشَرَات	وَحَدَات
٤	٦		
	٣-		

- كم يوما في هذا الشهر؟
- كم يوم جمعة في هذا الشهر؟
- في أي يوم من أيام الأسبوع يوافق ٢٦ فبراير يوم التحرير؟

السؤال الرابع: حوّل الإجابة الصحيحة

(١) الوعاء ذو السعة الأقل



(٢) المجسم الذي يتدحرج



(٣) كوب القهوة الأثقل وزناً .. قبل الشرب أو بعده



(٤) عدد أوجه المكعب

٤

٦

٨

(٥) أحضرت سلوى ٣٠  و ١٠  ، عدد كل الكعكات التي أحضرتها





٣٠ كعكة

٤٠ كعكة

الإجابات

السؤال الأول :

(أ) اجمع

عَشَرَات	آحَاد	عَشَرَات	وَحَدَات
١	٢		
١	٥+		
٢	٧		

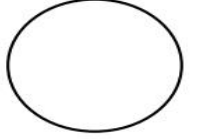
(ب) أوجد العدد المجهول

$$\begin{array}{r} ٣ \quad ٩ \\ ٢ \quad ٤ - \\ \hline ١ \quad ٥ \end{array}$$

السؤال الثاني :

(أ) اكمل .

عدد الرؤوس صفر
عدد الأضلاع صفر



عدد الرؤوس ٤
عدد الأضلاع ٤



(ب)

إذا كانت  تنتج 
فإن عدد  التي يتم إنتاجها من
 = ٨ تقريباً 



السؤال الثالث :

(أ) استخدم الرزنامة للإجابة عن الأسئلة

فبراير						
الأحد	الاثنين	الثلاثاء	الأربعاء	الخميس	الجمعة	السبت
			١	٢	٣	٤
٥	٦	٧	٨	٩	١٠	١١
١٢	١٣	١٤	١٥	١٦	١٧	١٨
١٩	٢٠	٢١	٢٢	٢٣	٢٤	٢٥
٢٦	٢٧	٢٨				

- كم يوما في هذا الشهر؟ ٢٨
- كم يوم جمعة في هذا الشهر؟ ٤
- في أي يوم من أيام الأسبوع يوافق ٢٦ فبراير يوم التحرير؟ الأحد

(ب) اشطب لتطرح

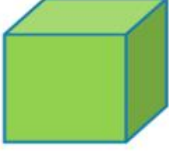
عَشَرَات	آحَاد	عَشَرَات	وَحَدَات
٤	٦		
٤	٣		

السؤال الرابع: حوّل الإجابة الصحيحة

(١) الوعاء ذو السعة الأقل



(٢) الجسم الذي يتدحرج



(٣) كوب القهوة الأثقل وزناً .. قبل الشرب أو بعده



(٤) عدد أوجه المكعب

٤

٦

٨

(٥) أحضرت سلوى ٣٠  و ١٠  ، عدد كل الكعكات التي أحضرتها

٣٠ كعكة

٤٠ كعكة



مدرسة التميز النموذجية
(ابتدائي - متوسط - ثانوي)
الجهاز الفني التربوي

منصات التميز التعليمية

لزيارة منصة التميز التعليمية في اليوتيوب امسح الباركود التالي :



لزيارة منصة التميز التعليمية في تليجرام امسح الباركود الخاص بقناة كل فصل مما يلي :



الصف الرابع



الصف الثالث



الصف الثاني



الصف الأول



الصف التاسع



الصف الثامن



الصف السابع



الصف السادس



الصف الخامس



الصف الثاني عشر
أدبي



الصف الثاني عشر
علمي



الصف الحادي عشر
علمي



الصف الحادي عشر
أدبي



الصف العاشر



لزيارة صفحتنا في تويتر

لزيارة صفحتنا في الإنستغرام

عنواننا : خيطان - ق ٤ - ش ١٠٠