


- قررت وزارة التعليم تدريس هذا الكتاب وطبعه على نفقتها

العلوم

الصف الأول المتوسط - الفصل الدراسي الأول



العلوم
h ü l u l . o n l i n e

قام بالتأليف والمراجعة
فريق من المتخصصين

بُذِعَ مَبَانِئًا وَلِإِبْتِاعِ

طبعة ١٤٤٢ - ٢٠٢٠



ح) وزارة التعليم ، ١٤٣٦هـ

فهرسة مكتبة الملك فهد الوطنية أثناء النشر
وزارة التعليم

العلوم للصف الأول المتوسط : الفصل الدراسي الأول. / وزارة التعليم.

الرياض ، ١٤٣٦هـ .

٢٢٠ ص ٢٧,٥ X ٢١ سم

ردمك : ٢-٠٨٤-٥٠٨-٦٠٣-٩٧٨

١ - العلوم - كتب دراسية ٢ - التعليم المتوسط - السعودية -

كتب دراسية. أ - العنوان

١٤٣٦/٤٧٦

ديوي ١٣, ٥٠٧

رقم الإيداع : ١٤٣٦/٤٧٦

ردمك : ٢-٠٨٤-٥٠٨-٦٠٣-٩٧٨

حقوق الطبع والنشر محفوظة لوزارة التعليم

www.moe.gov.sa

مواد إثرائية وداعمة على "منصة عين"



IEN.EDU.SA

الجلولك اون لاين
h u l . o n l i n e

تواصل بمقترحاتك لتطوير الكتاب المدرسي



FB.T4EDU.COM



الحمد لله رب العالمين والصلاة والسلام على سيدنا محمد ﷺ وبعد:
تهتم العلوم الطبيعية بدراسة الظواهر المادية على الأرض، وفي الكون المحيط بنا، وتشكل أساساً للعلوم التطبيقية، وتسهم معها في تقدم الأمم ورفقي الشعوب، وتحقيق الرفاهية للإنسان؛ فالعلم هو مفتاح النجاح والتنمية. ولهذا يحظى تعليم العلوم الطبيعية بمكانة خاصة في الأنظمة التربوية، حيث تُكرس الإمكانيات لتحسين طرائق تدريسها، وتطوير مضامينها وتنظيمها وفق أحدث التوجهات التربوية، وتطوير وتوفير المواد التعليمية التي تساعد المعلمين والطلاب على تحقيق أهداف تدريس هذه المادة على الوجه الأكمل والأمثل.

ويأتي اهتمام المملكة العربية السعودية بتطوير المناهج وتحديثها من منطلق أحد التزامات رؤية المملكة العربية السعودية (٢٠٣٠) هو: "إعداد مناهج تعليمية متطورة تركز على المهارات الأساسية بالإضافة إلى تطوير المواهب وبناء الشخصية"، وذلك من منطلق تطوير التعليم وتحسين مخرجاته ومواكبة التطورات العالمية على مختلف الصعد.

وقد جاء كتاب العلوم للصف الأول المتوسط بجزأيه الأول والثاني لدعم رؤية المملكة العربية السعودية (٢٠٣٠) نحو الاستثمار في التعليم عبر "ضمان حصول كل طالب على فرص التعليم الجيد وفق خيارات متنوعة"، فبنية وتنظيم المحتوى يستند إلى معايير المحتوى الخاصة بهذا الصف، ويستند كذلك إلى أحدث نظريات التعلم والممارسات التدريسية الفاعلة على المستوى العالمي. كما تجعل الطالب محور العملية التعليمية التعلمية، فيتعلم الطالب في هذا الكتاب من خلال ممارساته النشاطات العملية والبحث والاستقصاء بمستوياته المختلفة. والأمر نفسه للمعلم، فقد تغير دوره من مصدر يدور حوله التعليم إلى موجه وميسر لتعلم الطلاب. ولهذا جاءت أهداف هذا الكتاب لتؤكد على تشجيع الطلاب على طرح التساؤلات لفهم الظواهر الطبيعية المحيطة بهم وتفسيرها، وتزويدهم بالمعارف والمهارات والاتجاهات الإيجابية للمشاركة الفاعلة، وتزويد الطلاب بالمعارف والمهارات اللازمة لوظائف المستقبل.

جاء كتاب الصف الأول المتوسط بجزأيه في ست وحدات، هي: العلم وتفاعلات الأجسام،

وطبيعة المادة، وسطح الأرض المتغير، وما وراء الأرض، وتباين الحياة، والحياة والبيئة.
جاء تنظيم وبناء محتوى كتاب الطالب بأسلوب مشوق، وبطريقة تشجع الطالب على القراءة الواعية والنشطة، وتسهل عليه بناء أفكاره وتنظيمها، وممارسة العلم كما يمارسه العلماء وبما يعزز أيضاً مبدأ رؤية (٢٠٣٠) «نتعلم لنعمل». تبدأ كل وحدة دراسية بسؤال استهلاكي مفتوح، وخلفية نظرية، ومشاريع الوحدة التي تدور حول تاريخ العلم، والتقنية، وبناء النماذج، وتوظيف الشبكة الإلكترونية

في البحث. وتتضمن كل وحدة عددًا من الفصول، يبدأ كل منها بصورة افتتاحية تساعد المعلم على التمهيد لموضوع الفصل من خلال مناقشة مضمون الصورة، وتسهم في تكوين فكرة عامة لدى الطلاب حول موضوعات الفصل، ثم نشاطات تمهيدية تشمل: التجربة الاستهلاكية، المطويات، والتهيئة للقراءة، ثم ينتهي بمراجعة الفصل. ويتضمن الفصل عددًا من الدروس، يشتمل كل منها على افتتاحية تحتوي على أهداف الدرس، وأهميته، ومراجعة المفردات السابقة، والمفردات الجديدة. وفي متن الدرس يجد الطالب شرحًا وتفسيرًا للمحتوى الذي تم تنظيمه على شكل عناوين رئيسة وفرعية بألوان معبرة، وهوامش تساعد على استكشاف المحتوى وارتباطه بمحاور رؤية المملكة العربية السعودية (٢٠٣٠) وأهدافها الاستراتيجية. وتعنى الدروس ببناء المهارات العملية والعلمية من خلال التجارب العملية، والتطبيقات الخاصة ببناء المهارات في الرياضيات والعلوم. ويختتم كل درس بمراجعة تتضمن ملخصًا لأبرز الأفكار الواردة في الدرس، واختبر نفسك. ويدعم عرض المحتوى في الكتاب الكثير من الصور والأشكال والرسوم التوضيحية المختارة والمعدة بعناية لتوضيح المادة العلمية وتعزيز فهم مضامينها. كما يتضمن كتاب الطالب ملحقات خاصة بمصادر تعلم الطالب، ومسردًا بالمصطلحات.

وقد وُظف التقييم على اختلاف مراحلها بكفاءة وفاعلية، فقد راعى تنوع أدواته وأغراضه، ومن ذلك، القبلي، والتشخيصي، والتكويني (البنائي)، والختامي (التجميعي)؛ إذ يمكن توظيف الصور الافتتاحية في كل وحدة وفصل، والأسئلة المطروحة في التجربة الاستهلاكية بوصفها تقييمًا قبليًا تشخيصيًا لاستكشاف ما يعرفه الطلاب عن موضوع الفصل. ومع التقدم في دراسة كل جزء من المحتوى يُطرح سؤال تحت عنوان «ماذا قرأت؟»، وتجد تقييمًا خاصًا بكل درس من دروس الفصل يتضمن أفكار المحتوى وأسئلة تساعد على تلمس جوانب التعلم وتعزيزه، وما قد يرغب الطالب في تعلمه في الأقسام اللاحقة. وفي نهاية الفصل يأتي دليل مراجعة الفصل متضمنًا تلخيصًا لأهم الأفكار الخاصة بدروس الفصل، وخريطة للمفاهيم تربط أبرز المفاهيم الرئيسة التي وردت في الدرس. يلي ذلك تقييم الفصل والذي يشمل أسئلة وفقرات متنوعة تستهدف تقييم تعلم الطالب في مجالات عدة، هي: استعمال المفردات، وتثبيت المفاهيم، والتفكير الناقد، وأنشطة لتقويم الأداء. كما يتضمن الكتاب في نهاية كل وحدة دراسية اختبارًا مقننًا يتضمن أسئلة وفقرات اختبارية تسهم في إعداد الطلاب للاختبارات الوطنية والدولية، بالإضافة إلى تقييم تحصيلهم للموضوعات التي سبق دراستها في الوحدة.

والله نسأل أن يحقق الكتاب الأهداف المرجوة منه، وأن يوفق الجميع لما فيه خير الوطن وتقدمه وازدهاره.



فهرس المحتويات

كيف تستخدم كتاب العلوم؟..... ٨

طبيعة المادة

الوحدة ٢

العلم وتفاعلات الأجسام

الوحدة ١

٧٦..... المادة وتغيراتها

الفصل ٣

١٤..... طبيعة العلم

الفصل ١

٧٨..... أتهياً للقراءة - مراقبة التعلم

١٦..... أتهياً للقراءة - نظرة عامة

٨٠..... الدرس ١: الخواص والتغيرات الفيزيائية*

١٨..... الدرس ١: العلم وعملياته

٨٧..... الدرس ٢: الخواص والتغيرات الكيميائية*

٢٦..... الدرس ٢: النماذج العلمية

٩٢..... استقصاء من واقع الحياة

٣٠..... الدرس ٣: تقويم التفسيرات العلمية*

٩٥..... دليل مراجعة الفصل

٣٤..... استقصاء من واقع الحياة

٩٦..... مراجعة الفصل

٣٧..... دليل مراجعة الفصل

٣٨..... مراجعة الفصل

٩٨..... الذرات والعناصر والجدول الدوري

الفصل ٤

٤٠..... الحركة والقوى والآلات البسيطة

الفصل ٢

١٠٠..... أتهياً للقراءة - المفردات الجديدة

٤٢..... أتهياً للقراءة - تصورات ذهنية

١٠٢..... الدرس ١: تركيب المادة

٤٤..... الدرس ١: الحركة

١٠٧..... الدرس ٢: العناصر والمركبات والمخاليط

٥٠..... الدرس ٢: قوانين نيوتن للحركة

١١٨..... استقصاء من واقع الحياة

٥٨..... الدرس ٣: الشغل والآلات البسيطة

١٢١..... دليل مراجعة الفصل

٦٦..... استقصاء من واقع الحياة

١٢٢..... مراجعة الفصل

٦٩..... دليل مراجعة الفصل

١٢٤..... اختبار مقنن

٧٠..... مراجعة الفصل

٧٢..... اختبار مقنن



فهرس المحتويات

الوحدة ٣ سطح الأرض المتغير

١٥٤ القوى المشكلة للأرض

الفصل

٦

١٢٨ الصخور والمعادن

الفصل

٥

١٥٦ أتهياً للقراءة - التلخيص

١٣٠ أتهياً للقراءة - السبب والنتيجة

١٥٨ الدرس ١: صفائح الأرض المتحركة*

١٣٢ الدرس ١: المعادن - جواهر الأرض*

١٧٢ الدرس ٢: التجوية والتعرية وأثرهما*

١٣٩ الدرس ٢: أنواع الصخور

١٨٤ استقصاء من واقع الحياة

١٤٨ استقصاء من واقع الحياة

١٨٧ دليل مراجعة الفصل

١٥١ دليل مراجعة الفصل

١٨٨ مراجعة الفصل

١٥٢ مراجعة الفصل

١٩٠ اختبار مقنن

١٩٣ مصادر تعليمية للطالب



(*) : موضوعات غير مقررة على مدارس تحفيظ القرآن الكريم.



كيف تستخدم ...

كتاب العلوم؟

لماذا تحتاج إلى كتاب العلوم؟

قبل أن تقرأ

• **افتتاحية الفصل:** يبدأ كل فصل بصورة تشير إلى الموضوعات التي يتناولها، ويليه أنشطة تمهيدية، منها التجربة الاستهلالية التي تهيئ الطالب لمعرفة محتويات الفصل، والمطويات، وهي منظم أفكار يساعد على تنظيم التعلم.

• **افتتاحية الدرس:** قُسمت الفصول إلى دروس، كلٌّ منها موضوع متكامل يستغرق أكثر من حصة دراسية. في بداية كل درس تحت عنوان «في هذا الدرس»، تحدّد قيمة الدرس من خلال أربعة أقسام: الأهداف ويتم من خلالها التعرف على أهداف التعلم التي يجب أن تحققها عند الانتهاء من هذا الدرس. الأهمية: تدلُّنا على الفائدة التي يمكن تحقيقها من دراسة محتوى الدرس. مراجعة المفردات: مصطلحات تم التعرف عليها في مراحل سابقة من التعلم؛ أو من خلال خبراتك وممارساتك السابقة. المفردات الجديدة: مصطلحات تحتاج إليها في تعلم الدرس لفهم المحتوى. لذا تصفح على نحو سريع، متلاحظ أنه بالإضافة إلى اشتغاله على النصوص والصور فإن هناك أشياء جديدة، منها العلوم عبر المواقع الإلكترونية، وماذا قرأت؟ وتجارب بسيطة، وبعض التطبيقات في مختلف أنواع العلوم. وقد تضمنت الدروس صفحات مستقلة للعلوم الإثرائية. وينبغي التركيز على المفردات التي ظللت واستيعاب معانيها.

هل سبق أن حضرتَ درساً في العلوم ولم تستوعبه، أو استوعبته كله لكنك عندما ذهبت إلى البيت وجدت مشكلة في الإجابة عن الأسئلة؟ وربما تساءلت عن أهمية ما تدرسه وجدواها! لقد صُممت الصفحات التالية لتساعدك على أن تفهم كيف يُستعمل هذا الكتاب.



المطويات

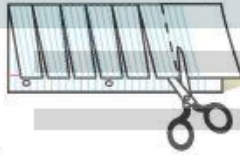
منظمات الأفكار

مفردات العلوم اعمل المطوية التالية لتساعدك على فهم مفردات الفصل ومصطلحاته.



الخطوة ١ اطو الورقة طولياً من جانب إلى آخر.

الخطوة ٢ قص الجهة العلوية من الورقة لعمل أشربة، كما في الشكل.



الخطوة ٣ اكتب على كل شريط مصطلحاً، أو مفردة علمية من مفردات الفصل.



بناء المفردات: في أثناء قراءتك للفصل، اكتب تعريف كل مفردة أو مصطلح في الجهة المقابلة من الورقة.

عندما تقرأ

• **العناوين الرئيسية:** كُتب عنوان كل درس بأحرف حمراء كبيرة، ثم قُسم إلى عناوين كتبت باللون الأزرق، ثم عناوين أصغر باللون الأحمر في بداية بعض الفقرات؛ لكي تساعد على المذاكرة، وتلخيص النقاط الأساسية المتضمنة في العناوين الرئيسة والفرعية.

• **الهوامش:** سوف تجد في هوامش المحتوى مصادر مساعدة كثيرة، منها العلوم عبر المواقع الإلكترونية، ونشاطات الربط مع المناهج الأخرى وتهدف إلى التكامل بين المحتوى ومحتويات المناهج الأخرى، كما أن التجارب تعمل على ترسيخ المفاهيم العلمية التي يتم تعلمها.

• **بناء المهارات:** سوف تجد تطبيقات خاصة بالرياضيات والعلوم في كل فصل، مما يتيح لك ممارسة إضافية للمعرفة، وتطوير مهاراتك.

• **مصادر تعلم الطالب:** تجد في نهاية هذا الكتاب مصادر تعلم تساعد على الدراسة، وتتضمن مهارات علمية وجدول مرجعية مختلفة ومسرد للمصطلحات. كما يمكن استعمال المطويات بوصفها مصدرًا من المصادر المساعدة على تنظيم المعلومات ومراجعة المادة قبل الاختبار.

• **في غرفة الصف:** تذكر أنه يمكن أن تسأل المعلم توضيح أي شيء غير مفهوم.



في المختبر

يعد العمل في المختبر من أفضل طرائق استيعاب المفاهيم وتطوير الممارسات؛ فهو لا يمكنك فقط من اتباع الخطوات الضرورية للاستمرار في عملية البحث، بل يساعدك أيضًا على الاستكشاف واستثمار وقتك على أكمل وجه. وسيكون هذا الكتاب مرشدًا لك في التجارب العملية. وفيما يلي بعض الإرشادات الخاصة بذلك:

- يتضمن كل استقصاء سؤال من واقع الحياة؛ ليدرك أن العلم شيء يستعمل يوميًا في كل مكان، لا في غرفة الصف وحدها. وهذا يقود إلى أسئلة أخرى تدور حول كيفية حدوث الأشياء في الحياة.
- تذكر أن التجارب لا تعطي دائمًا النتائج التي تتوقعها. وقد كانت بعض اكتشافات العلماء مبنية على البحث دون توقع نتائج مسبقة. وتستطيع تكرار التجربة للتحقق من أن نتائجك صحيحة، أو لتضع فرضية جديدة يمكن اختبارها.
- يمكنك كتابة أي أسئلة في دفتر العلوم قد تبرز في أثناء بحثك. وهذه أفضل طريقة لتذكرك بالحصول على إجابات لهذه الأسئلة لاحقًا.



ابحث عن:

- التجربة الاستهلالية في بداية كل فصل.
- التجربة في هامش كل فصل.
- استقصاء من واقع الحياة في نهاية كل فصل.



قبل الاختبار

تضمن الكتاب مجموعة من الطرائق لجعل الاختبارات محببة إليك. وسوف يساعدك كتابك أن تكون أكثر نجاحًا في الاختبار عند استعمالك المصادر المعطاة لك.

- راجع جميع المفردات الجديدة، وتأكد أنك فهمت تعريف كل منها.
- راجع الملاحظات التي دونتها ضمن المطويات أو سجلتها مع زملائك داخل الصف أو في المختبر، وكتب أي سؤال أنت في حاجة إلى الإجابة عنه.
- أجب عن أسئلة المراجعة في نهاية كل درس.
- ادرس المفاهيم الواردة في دليل مراجعة الفصل، وأجب عن أسئلة مراجعة الفصل وأسئلة الاختبار المقنن الواردة في نهاية كل وحدة.

الجلول اون لاين
h ü l u l . o n l i n e

ابحث عن:

- الأسئلة الواردة ضمن المحتوى.
- أسئلة المراجعة في نهاية كل درس.
- دليل مراجعة الفصل في نهاية كل فصل.
- أسئلة مراجعة الفصل في نهاية كل فصل.
- الاختبار المقنن في نهاية كل وحدة.

ما العلاقة بين

مواعيد القطار ومضخات الزيت؟

6024

الجلول اون لاين
hü l u l . o n l i n e



في بداية القرن التاسع عشر، كانت القطارات مضطرة إلى التوقف بشكل متكرر، من أجل تشحيم عجلاتها وأجزائها المتحركة الأخرى، فبدون هذه العملية، تتعرض هذه الأجزاء للتلف، بتأثير قوة الاحتكاك. فكان القطار يتوقف كل بضعة أميال، وينزل عمال الصيانة ليقوموا بعملية التشحيم بشكل يدوي، وكانت هذه الطريقة تستهلك وقتاً كبيراً، وتجعل من الصعب جداً تسيير القطارات وفق جدول زمني دقيق.

وحوالي عام ١٨٧٠م، طوّر المهندس إليجا ماكوي، أول نظام للتشحيم الآلي، يمكنه تشحيم الأجزاء المتحركة أثناء سير القطار، دون الحاجة إلى توقفه. ومنذ ذلك الحين، تم تطوير العديد من أجهزة التشحيم الآلي. اليوم توجد في كل سيارة مضخة تمرر الزيت في دورة، ضمن المحرك، لتشحيم الأجزاء المتحركة.

مشاريع الوحدة

ارجع إلى أي موقع إلكتروني للبحث عن فكرة أو موضوع يصلح لمشروع تنفذه بنفسك. ومن المشروعات المقترحة ما يلي:

- التاريخ: أكتب بحثاً عن تاريخ علماء لهم إسهامات في الميكانيكا.
- التقنية: بناء نماذج مصغرة لأجهزة بها آلات بسيطة وقترح طريقة عملها.
- النماذج: صمم مدينة ألعاب وحدد الألعاب التي سوف تحتويها وأنواع الآلات البسيطة التي تستخدم في كل منها.

البحث عبر

الشبكة الإلكترونية

تقييم مصداقية الإعلانات: ساعد زملاءك الطلاب في تعرف التقنيات المستخدمة في الإعلانات، وكيفية تقييم مدى مصداقيتها في التعبير عن غايتها.

طبيعة العلم

الفكرة العامة

العلم طريقة منظمة لمعرفة العالم الطبيعي

الدرس الأول

العلم وعملياته

الفكرة الرئيسية بصف العلم الظواهر التي تحدث في العالم الطبيعي، ويقترح تفسيرًا لها، ويوظف الطرائق العلمية التي تتضمن الملاحظة ووضع الفرضيات وإجراء التجارب، وتحليل النتائج، والاستنتاج.

الدرس الثاني

النماذج العلمية

الفكرة الرئيسية النموذج العلمي هو تمثيل للأشياء أو الأحداث يساعد العلماء على فهم العالم من حولنا.

الدرس الثالث

تقويم التفسيرات العلمية

الفكرة الرئيسية تعتمد صحة التفسير العلمي على دقة الملاحظة ومصداقية الاستنتاج.

دور العلم في حياتنا اليومية

أثناء دراستهم النظام البيئي في صحراء شبه الجزيرة العربية، تساءل العلماء كيف يمكن أن تنبت أزهار بهذه الروعة في مثل هذه البيئة الجافة.. بدأ العلماء بطرح الأسئلة.. ثم شرعوا في عمل استقصاءاتهم..

دفتر العلوم اذكر ثلاثة أمثلة توضح دور العلم في حياتنا اليومية.

التنبؤ بالطقس

تفسير الظواهر الطبيعية مثل الخسوف والكسوف والمد والجزر
تشخيص الأطباء للأمراض المختلفة

نشاطات تمهيدية


المطويات

اعمل مطوية تساعدك على تحديد ما تعرفه عن العلوم، وما تريد أن تعرفه.

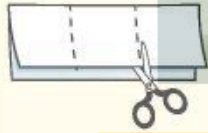
منظّمات الأفكار



الخطوة ١
اطو ورقة في وضع رأسي من طرفها إلى طرفها الآخر، واجعل الجزء الأمامي أقصر من الخلفي.



الخطوة ٢
اقلب الورقة بشكل طولي، ثم اطوها ثلاثة أجزاء.



الخطوة ٣
اقطع الطبقة العليا فقط على طول

كلاهما لهما نفس السرعة عند السقوط

حدد الأسئلة قبل قراءة الفصل، اكتب في الجزء الأول من المطوية ما تعرفه عن العلوم، والثاني ما ترغب في معرفته، وبعد ذلك اكتب في الجزء الثالث ما تعلمته.

سيسقط القلم بنفس السرعة التي يسقط بها الثلاثون قلم المرتبطون ببعضهم البعض



لاحظ كيف تسرع الجاذبية الأجسام

الجاذبية قوة طبيعية تبقى الأجسام على سطح الأرض، ولكن كيف تعمل؟ اهتم العلماء بدراسة موضوع الجاذبية والمفاهيم المرتبطة معها من خلال طرح أسئلة، وتسجيل الملاحظات. قم بتنفيذ التجربة التالية، لمعرفة تأثير الجاذبية في الأجسام.

١. خذ ثلاثة أقلام متماثلة غير مبرّبة.
٢. اربط قلمين منها معاً.
٣. ارفع الأقلام كلها إلى أعلى، ثم اتركها تسقط معاً من الارتفاع نفسه، ولاحظ ما يحدث.
٤. التفكير الناقد أيهما أسرع سقوطاً: القلم المنفرد أم القلمان المربوطان معاً؟ اكتب في دفتر العلوم، أيهما أسرع سقوطاً: القلم المنفرد أم ثلاثون قلمًا مربوطة معاً؟

h ü l u l . o n l i n e

أتهياً للقراءة

نظرة عامة

١ **أتعلم** لكي يسهل عليك استيعاب الأفكار والعلاقات التي ترد في النص، اتبع الخطوات التالية عند البدء في قراءته:

١. انظر إلى العنوان والرسوم التوضيحية الواردة.
٢. اقرأ العناوين الرئيسية والفرعية والكلمات المكتوبة بالخط الداكن.
٣. ألق نظرة سريعة على النص لتعرف كيفية تنظيمه، وتقسيمه إلى أجزاء.
٤. انظر إلى الصور والرسوم والأشكال والخرائط، وقرأ العناوين والتفاصيل المرافقة لها.
٥. حدد هدفًا للقراءة، هل تقرأ لتتعلم شيئًا جديدًا؟ أم تقرأ للبحث عن معلومات محددة؟

٢ **أدرب** بعد قراءة سريعة للفصل، تصفح مع زميلك العناوين الرئيسية والفرعية جميعها، وأجب عن الأسئلة التالية:

- أي أجزاء الفصل كان أكثر إمتاعًا لك؟
- هل هناك أي كلمة في العناوين غير مألوفة لديك؟
- اختر أحد أسئلة المراجعة، وناقشه مع زميلك.

٣ **أطبق** بعد تصفحك الفصل، اكتب فقرة قصيرة تصف فيها شيئًا تودّ تعلمه.

إرشاد

عند إلقاء نظرة عامة على الفصل تأكد من اطلاعك على كافة الرسومات والجداول والتعليقات المرافقة لها.

توجيه القراءة وتركيزها

ركز على الأفكار الرئيسة عند قراءتك الفصل باتباعك ما يلي:

١ قبل قراءة الفصل

أجب عن العبارات في ورقة العمل أدناه:

• اكتب (م) إذا كنت موافقاً على العبارة.

• اكتب (غ) إذا كنت غير موافق على العبارة.

٢ بعد قراءة الفصل

ارجع إلى هذه الصفحة لترى إن كنت قد غيّرت رأيك حول أي من هذه العبارات.

• إذا غيرت إحدى الإجابات فبين السبب.

• صحّح العبارات غير الصحيحة.

• استرشد بالعبارات الصحيحة أثناء دراستك.

قبل القراءة م أو غ	العبارة	بعد القراءة م أو غ
	١. توضع النظريات العلمية قبل القيام بأي استقصاءات علمية.	
	٢. يمكن أن تؤول النظريات العلمية إلى قوانين علمية في نهاية الأمر.	
	٣. إذا لم تدعم الاستقصاءات الفرضية العلمية فالاستقصاءات هدر للوقت.	
	٤. لا يمكن أن يعرف العلماء يقيناً صحة تفسير ما حتى بعد القيام بالعديد من الاستقصاءات العلمية.	
	٥. من المفيد تغيير أكثر من متغير خلال التجربة الواحدة.	
	٦. تكون النماذج العلمية دقيقة بقدر دقة المعلومات المستخدمة لبنائها.	
	٧. تكون البيانات العلمية موثوقة إذا تمت ملاحظتها مرة واحدة على الأقل.	
	٨. تزداد مصداقية الاستنتاجات العلمية عندما تُستبعد الاستنتاجات الأخرى (يثبت أن الاستنتاجات الأخرى غير ممكنة).	



العلم وعملياته

التعلم عن العالم

عندما تفكر في العالم، فهل تتخيل شخصاً في مختبر محاطاً بالجدول والرسوم البيانية والزجاجات وأنابيب الاختبار؟ إن أي شخص يحاول أن يتعلم شيئاً ما عن طبيعة العالم هو عالم.

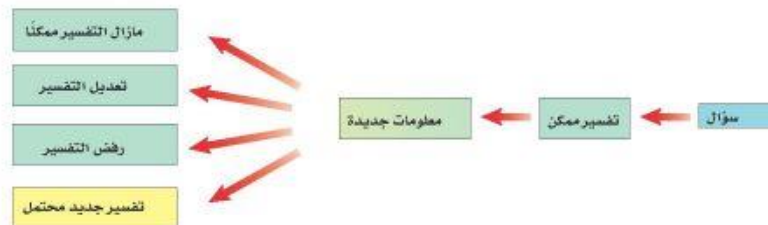
العلم طريقة لتعلم المزيد حول العالم الطبيعي. فالعلم يسعى إلى معرفة لماذا أو كيف أو متى تحدث الأشياء؟ من خلال ملاحظتها وطرح أسئلة حولها. وقد أثنى الله عز وجل على التفكير في ملكوته لندرك من خلاله عظمة الخالق وحكمته، فقال سبحانه: ﴿الَّذِينَ يَذْكُرُونَ اللَّهَ قِيَمًا وَقُعُودًا وَعَلَىٰ جُنُوبِهِمْ وَيَتَفَكَّرُونَ فِي خَلْقِ السَّمَوَاتِ وَالْأَرْضِ رَبَّنَا مَا خَلَقْتَ هَذَا بَطُلًا تُسَبِّحُكَ وَقَوْنًا عَدَاِبًا لَّآئِرًا ﴿١٣١﴾﴾ آل عمران.

طرح الأسئلة يطرح العلماء العديد من الأسئلة حول العالم الطبيعي، مثل: مم تتكون الأشياء؟ وما آلية عملها؟ وما سبب وقوع حدث ما؟ ويحاولون الإجابة عن هذه الأسئلة من خلال العلم. لكن بعض الأسئلة لا يمكن الإجابة عنها من خلال العلم. فمثلاً، لا يدرك العلم الطبيعي على الصواب والخطأ، أو عن الجيد والرديء، أو من صديقك المفضل، ولمن تصوت... إلخ.

تفسيرات محتملة إذا كان التعلم عن العالم يبدأ بطرح أسئلة، فهل يستطيع العلم الإجابة عنها؟ تُقدم العلوم إجابات عن الأسئلة من خلال المعلومات المتوافرة في ذلك الوقت. لكن الإجابات التي يقدمها العلم ليست قطعية دائماً؛ لأن الإنسان لا يعرف كل شيء عن العالم المحاط به. كما سيظهر الشكل ١، فإن

بعض المشاهدات قد تجبر العبد **لأنه يتم اكتشاف معلومات جديدة باستمرار** فلا يمكن الإجابة عن شيء بشكل نهائي وقاطع في تفسيرات جديدة. فالعلم تقا

لماذا لا تستطيع العلوم الإجابة عن الأسئلة بجزم دائماً؟



الشكل ١ عندما تتوفر معلومات جديدة يمكن أن تتغير التفسيرات القديمة أو تُرفض، كما يمكن أن توضع تفسيرات جديدة.

ففي هذا الدرس

الأهداف

- تعرف العلوم، وتحدد بعض الأسئلة التي لا تجيب عنها.
- تقارن بين النظريات والقوانين.
- تعرف الفروع الثلاثة للعلوم.
- تحدد بعض المهارات التي يستخدمها العلماء.
- توضح المقصود بالفرضية.
- تميز الاختلاف بين الملاحظة والاستنتاج.

الأهمية

نستفيد من العلوم في تعرف العالم الذي نعيش فيه.

مراجعة المفردات

النظرية تفسر الأشياء أو الأحداث بناءً على المعرفة التي تم الحصول عليها من الملاحظات والتجارب. الملاحظة سجل، أو وصف لمشاهدات أو أنماط في الطبيعة.

المفردات الجديدة

- العلوم
- التجربة المصبوطة
- الطريقة العلمية
- المتغير
- القانون العلمي
- المتغير المستقل
- الفرضية
- المتغير التابع
- الاستدلال
- الثابت
- النظرية العلمية



الشكل ٢ عالم البراكين يدرس درجة حرارة الصهارة الخارجة من البركان.

النظريات العلمية هي محاولة لتفسير سلوك أو نمط معين تم ملاحظته مرارًا في العالم الطبيعي، و**النظريات العلمية** ليست مجرد تخمينات عشوائية أو آراء أشخاص، وليست كذلك أفكارًا غامضة. وإنما يجب أن تُدعم النظرية بالملاحظات والاستقصاءات العلمية. وعلى الرغم من أن النظرية هي أفضل تفسير ممكن في ضوء البيانات الحالية، إلا أنها قابلة للتغيير في ضوء بيانات جديدة لا تدعم النظرية القائمة، وعندئذ لا بد أن تتطابق النظرية الجديدة والملاحظات والبيانات الجديدة.

القوانين العلمية تسمى القاعدة التي تصف نمطًا أو سلوكًا معينًا في الطبيعة **القانون العلمي**. ولكي تصبح الملاحظة قانونًا يجب أن تشاهد مرات كثيرة. ويساعد القانون العلمي على توقع حدوث الأشياء، فمثلا قد يساعدنا القانون على التنبؤ بسقوط حبة التفاح في اتجاه الأرض، لكنه لا يفسر وجود الجاذبية الأرضية، ولا يوضح عملها، فالقانون بخلاف النظرية لا يشرح سبب حدوث الأشياء، وإنما يصف فقط نمطًا معينًا.

فروع العلوم

تُقسم العلوم إلى ثلاثة فروع: علم الأحياء، وعلم الأرض والفضاء، والعلوم الطبيعية، وكل منها يتكون من أنظمة مختلفة.

يهتم **علم الأحياء** بدراسة المخلوقات الحية وطرائق ارتباطها معًا، من خلال الإجابة عن أسئلة، منها: كيف تمنع اللقاحات الإصابة بالأمراض؟ أين تعيش المخلوقات؟ وكيف ترتبط بعلاقات بينها؟

أما **علم الأرض والفضاء** فيُعنى بدراسة أنظمة الأرض والفضاء، ويتضمن دراسة الأشياء غير الحية، ومنها: الصخور، والتربة، والغيوم، والأنهار، والطقس، والمناخ، والنجوم، والكواكب، وتضاريس الكواكب، واحتمال وجود الماء فيها. كما يدرس علماء الأرض تضاريس الأرض ويعملون خرائط لها ويدرسون كيفية حدوث الزلازل والبراكين، والمتغيرات المرتبطة معها. ويبين الشكل ٢ أحد علماء الأرض المختصين بدراسة البراكين أثناء قيامه بعمله.

✓ **ماذا قرأت؟** ماذا يدرس علماء الأرض؟



الشكل ٣ باحث كيميائي يدرس بعض التفاعلات الكيميائية.

أما **ي**درس علماء الأرض أشياء غير حية ومنها الصخور والتربة والغيوم والأنهار والمحيطات والكواكب والنجوم والثقوب السوداء والطقس على الأرض وفي الفضاء

أما الفيزياء فعلم يهتم بدراسة الطاقة وقدرتها على تغيير المادة.

الممارسات العلمية

إنك تعلم أن العلوم تتضمن دائماً أسئلة، ولكن كيف تقود هذه الأسئلة إلى التعلم؟ لأنه لا توجد طريقة واحدة للحصول على المعرفة، فإن العلماء لديهم مجموعة كبيرة من المهارات، تتضمن مهارات التفكير، والملاحظة، والتنبؤ، والاستقصاء، والبحث، والنمذجة، والقياس، والتحليل، والاستدلال.

الطرائق العلمية كما يوضح الشكل ٤، فإن معظم الاستقصاءات تبدأ عادةً بمشاهدة شيء ما، ثم تُطرح أسئلة عما تم ملاحظته. والعلماء عادةً يتعاونون على كتابة أبحاثهم. ولذلك فإنهم يقرؤون كتباً ومجلات علمية للاطلاع على ما سبق التوصل إليه من العلماء الآخرين بخصوص أسئلتهم. ويضع العلماء عادةً تفسيرات محتملة لملاحظاتهم. وللحصول على معلومات أكثر، فإنهم يبنون نموذجاً للشيء الذي يقومون بدراسته واستقصائه. وكل العمليات السابقة متضمنة في **الطريقة العلمية**.

التساؤل والملاحظة قام معلم العلوم بوضع صندوق على طاولة المختبر أمام جميع الطلاب، ثم طرح عليهم السؤال التالي: ماذا يوجد داخل الصندوق؟

قال أحد الطلاب هل يمكن لمس الصندوق؟

قال المعلم نعم.

فقام أحد الطلاب بتحريك الصندوق أكثر من مرة، ولاحظ أنه ليس ثقیلاً. وقام طالب آخر بهز الصندوق، فسمع طلاب الصف صوت اهتزاز لمواد فلزية (حديد، ألومنيوم مثلاً) ثم مرّر الصندوق على جميع طلاب الصف لإبداء ملاحظاتهم وتدوينها في دفاتر العلوم. انظر الشكل ٥.

الشكل ٤ بالرغم من وجود طرائق علمية مختلفة لاستقصاء مسألة معينة، إلا أن معظم الاستقصاءات تتبع نمطاً عاماً.





الشكل ٥ يبدأ الاستقصاء عادة بالملاحظات وطرح الأسئلة.



علماء الأحياء

يدرس علماء الأحياء المخلوقات الحية، من خلال الملاحظة بفهم يلاحظون الحيوانات، والنباتات في بيئاتها الطبيعية دون إزعاجها.

لاحظ مخلوقات حية: نباتات أو حيوانات في حديقة قريبة أو في حديقة المنزل، ثم سجل ما تلاحظه في دفتر العلوم.

وضع توقعات بعد تدوين الملاحظات بدأ الطلاب بوضع التوقعات.

أحد الطلاب أتوقع وجود مقص داخل الصندوق.

طالب آخر أتوقع وجود دباسة داخل الصندوق.

المعلم لماذا تتوقع ذلك؟

الطالب لأن الدباسة صغيرة الحجم.

طالب آخر لأننا نسمع رنين مواد فلزية عند هز الصندوق.

المعلم إذا أنتم تتوقعون أن ما بداخل الصندوق هي دباسة.

أحد الطلاب نعم.

المعلم إذا فقد وضعتهم فرضية.

أحد الطلاب ماذا؟

الفرضية الفرضية تخمين لجواب أو تفسير منطقي محتمل يعتمد على معرفتك وملاحظتك.

تجربة

تكوين فرضية

الخطوات

1. املأ وعاءً كبيراً بالماء، وضع فيه علبة غير مفتوحة من مشروب غازي يحتوي على السكر. وعلبة أخرى مماثلة بدون سكر، ثم لاحظ ماذا يحدث.
2. ضع قائمة بالنتفسيرات المحتملة لملاحظاتك في دفتر العلوم، ثم اختر أفضل تفسير، وكتب فرضية.
3. اقرأ مكونات كل من العلبتين وقارن بينها.
4. تأكد من صياغة فرضيتك بناءً على هذه المعلومات الجديدة.

التحليل

1. ماذا لاحظت عند وضع العلبتين في الماء؟
2. ما أثر المعلومات الجديدة في تغيير فرضيتك؟
3. استنتج سبب الاختلاف فيما حدث لكل منهما.

في المنزل

الشكل ٦ ميزان لقياس كتل الأشياء.

اختبار الفرضية المعلم: يبقى عقل العالم مفتوحاً للتفسيرات والاحتمالات المختلفة. ماذا يجب عليكم أن تعملوا إذا عرفتم معلومات جديدة لا تتفق مع فرضيتكم الأصلية؟ وما المعلومات الجديدة التي يمكن أن تجمعوها للتحقق من صحة فرضيتكم أو رفضها؟

طالب هل تقصد اختباراً أو شيئاً من هذا القبيل؟
طالب آخر لدي طريقة لاختبار فرضيتنا.. نحضر صندوقاً شبيهاً بالصندوق الأول، ونضع فيه دباسة، ثم نغلقه ونهزه ونقارنه بالصندوق الأول. قدم المعلم للطلاب صندوقاً فارغاً شبيهاً بالصندوق الأول ودباسة، فنفذ الطلاب اقتراح زميلهم لاختبار الفرضية.
طالب آخر إن الصندوق أثقل، ولكن لا أسمع صوتاً فلزياً مثل الصوت الصادر عند هز الصندوق الأصلي.
طالب آخر ماذا لو قسنا كتلة كل من الصندوقين باستخدام الميزان؟ انظر الشكل ٦. وجد الطلاب أن كتلة الصندوق الأصلي تساوي ٢٧٠ جم، وأن كتلة صندوق التجربة تساوي ٤١٠ جم.

تنظيم النتائج بعد أن انتهى الطلاب من اختبار الفرضية، بدأ الحوار:

ثم تطفو علبة المشروب الغازي الذي يحتوي على سكر بينما تطفو علبة المشروب الغازي بدون سكر

أدى هذا إلى تفكيري أن اختلاف سلوك العلبة يكون تبعاً لاختلاف مكوناتها
طالب آخر نستطيع مقارنة ملاحظتنا حول الصندوق الأصلي مع ملاحظتنا حول الصندوق الجديد.

إن إحدى علب المشروب الغازي تحتوي على كمية سكر أقل من الأخرى



جدول ١ : مخطط الملاحظات

صندوق التجربة	الصندوق الأصلي	أسئلة حول ما بداخل الصندوق
- ينزلق ويبدو أنه منبسط / مسطح.	- ينزلق ويبدو أنه منبسط / مسطح.	- هل يتدحرج أم ينزلق؟
- يصدر صوتاً مكتوماً.	- يصدر صوتاً يماثل أصوات الفلزات (حديد، ألومنيوم...)	- هل يصدر صوتاً؟
- لا. كتلة الدباسة غير موزعة بانتظام.	- لا. الجسم لا يملأ الصندوق كله.	- هل تتوزع الكتلة بشكل منتظم في الصندوق كله؟
- ٤١٠ جم.	- ٢٧٠ جم.	- ما كتلة الصندوق؟

الاستنتاجات

ماذا تعلمتم من الاستقصاء الذي قمتم به؟

المعلم

أول شيء تعلمناه هو أن فرضيتنا لم تكن صحيحة.

أحد الطلاب

الصندوقان ليس لهما الكتلة نفسها، وصندوق التجربة لا يصدر الصوت نفسه مثل الصندوق الأصلي. وكذلك قد يختلف نوع مادة الدباسة في الصندوق الأصلي عما في صندوق التجربة.

طالب آخر

إذن، أتم استدلتكم على أن الجسم في الصندوق الأصلي يختلف عن الجسم الموجود في صندوق التجربة.

المعلم

ماذا تقصد يا معلمي بالاستدلال؟

أحد الطلاب

الاستدلال هو التوصل إلى استنتاجات بناء على المشاهدات السابقة. إذن، نحن استدللنا على أن الجسمين مختلفان؛ لأن ملاحظتنا عن الصندوقين مختلفة، أي أننا عدنا إلى نقطة البداية.

المعلم

إذا كانت ملاحظتكم لا تدعم فرضيتكم، فإن لديكم الآن معرفة أكثر من السابق.

المعلم

هل نستطيع فتح الصندوق لعرف ما بداخله؟

أحد الطلاب

هل تتوقع أن العلماء يستطيعون النظر إلى الأشياء التي يدرسونها دائماً؟

المعلم

أتوقع أنهم لا يستطيعون ذلك وخصوصاً إذا كان الشيء كبيراً جداً أو صغيراً جداً.

طالب آخر

إذن، عليكم جمع المزيد من الملاحظات والمعلومات أو وضع فرضيات أو عمل أبحاث جديدة.

المعلم

كثير من العلماء أمضوا حياتهم في البحث عن إجابات، وتحلوا بالصبر والمثابرة.

المعلم

العلوم عبر المواقع الإلكترونية

الطرائق العلمية
ارجع إلى المواقع الإلكترونية عبر شبكة الإنترنت.

نشاط حدد المتغيرات الثلاثة التي تحتاج إليها في كل تجربة، وشرح الفرق بينها.

تجربة عملية حل المشكلة بالطريقة العلمية ارجع إلى دراسة التجارب العملية على منصة عين



التواصل حول نتائج الأبحاث كثيرًا ما يكمل عالم عمل عالم آخر، كما أنه من المعتاد أن يعيد عالم ما قام به غيره من العلماء. لذلك يقوم العلماء دائمًا بنشر ما يتوصلون إليه من نتائج، وكذلك الطرائق التي يستخدمونها في البحث، عن طريق المجلات، والكتب، والإنترنت، كما يحضرون المؤتمرات ويشاركون بإلقاء الكلمات عن إنجازاتهم حتى يستفيد منها علماء آخرون الشكل ٧.

ماذا قرأت؟ لماذا يشارك العلماء في المعلومات؟

حتى يتمكن علماء الآخريين من الاستمرار في العمل وإعادة ما قاموا به



نبات غير معرض للضوء

نبات معرض للضوء

التجارب

قام طلاب الصف بإجراء العديد من الملاحظات حول الصندوق الأصلي وصندوق التجربة. ولمعرفة المزيد عمّا بداخل الصندوق قاموا بعمل نموذج وهو صندوق التجربة. وكانت بعض أسئلة الطلاب تدور حول تأثير عامل في عامل آخر. ومن الطرائق المستخدمة في استقصاء هذه الأسئلة إجراء تجربة مضبوطة. والتجربة المضبوطة تتضمن تغيير عامل وملاحظة تأثيره في عامل آخر، مع ثبات العوامل الأخرى.

المتغيرات والثوابت تخيل سباقًا تختلف فيه أطوال المسارات، فبعضها طوله ١٠٢ م، وبعضها الآخر طوله ٩٨ م، وبعضها طوله ١٠٠ م انظر الشكل ٨. ترى كيف نحدد الأسرع؟ هل هو الذي يصل إلى خط النهاية أولاً؟ ليس من

الشكل ٧ العروض من الطرائق المستخدمة في العلوم لنقل النتائج إلى الآخريين.

الشكل ٨ سباق الأربع مئة متر من الأمثلة على التجارب المضبوطة؛ فالمسافة والمادة المصنوعة منها أرضية السباق وسرعة الرياح من الثوابت. أما قدرات المتسابقين والزمن الذي يحتاج إليه كل منهم للوصول إلى خط النهاية فهي متغيرات.



الضروري؛ لأن المسارات تختلف في أطوالها. المتغيرات عوامل يمكن أن تُغيّر أثناء التجربة. والعوامل التي يتم تغييرها أثناء التجربة تُسمى متغيرات مستقلة. والعوامل التي تتغير بسبب تغيير العوامل المستقلة تُسمى متغيرات تابعة. وهناك عوامل يتم ضبطها أثناء التجربة ولا تتغير.

يجيب العلم عن الأسئلة المتعلقة بالعالم الطبيعي عن طريق الملاحظات والاستقصاءات ولا يستطيع العلم الإجابة عن الآراء والأسئلة المتعلقة بالفن والكتب والموسيقى

تتغير النظرية العلمية عندما تعجز عن تفسير معلومات أو ملاحظات

مراجعة

الخلاصة

التعلم عن العالم

يتم التوصل إلى الملاحظة عن طريق الحواس أما الاستنتاج فيتم التوصل إليه عن طريق العمليات العقلية

المتغير المستقل: هو المتغير الذي يتم تغييره أثناء التجربة
المتغير التابع: هو المتغير الذي يتبع في تغييره المتغير المستقل

المهارات العلمية

- تساعد الطريقة العلمية العلماء على الاستقصاء والإجابة عن الأسئلة.
- الفرضية تخمين محتمل لجواب أو تفسير منطقي يبين سبب وقوع الأحداث.

الاستنتاجات

- يتواصل العلماء معاً ليتشاركوا في المعلومات المهمة.

التجارب

- تختبر التجارب المضبوطة تأثير عامل في عامل آخر مع ثبات العوامل الأخرى.

النظرية العلمية: تحاول تفسير سبب وقوع الأحداث
القانون العلمي: يصف أحداثاً نمطية تتكرر في الطبيعة

١. قارن بين النظرية العلمية والقانون العلمي.

٢. اشرح كيف يمكن أن تتغير النظرية العلمية.

٣. وضح لماذا يستطيع العلم أن يجيب عن بعض الأسئلة، بينما لا يمكنه أن يجيب عن أسئلة أخرى؟

٤. صنف الجملة التالية، هل هي نظرية أم قانون؟ «تسخين الهواء الموجود في بالون يجعل

البالون يرتفع عاليًا». **قانون علمي**

٥. اشرح الفرق بين الملاحظة والاستنتاج.

٦. اشرح الفرق بين المتغيرات المستقلة والمتغيرات التابعة في تجربة ما.

تطبيق الرياضيات

٧. استنتج يسأل العلماء أسئلة ويجرون ملاحظات. ما أنواع الأسئلة والملاحظات التي تقوم بها لو كنت عالماً يقوم بدراسة أفواج الأسماك في المحيط؟

لماذا تسبح الأسماك في أفواج؟
عندما تكون الأسماك في أفواج تكون في أمان من أعدائها
أم أكثر عرضة لمهاجمة الأعداء لها؟



النماذج العلمية

في هذا الدرس

أهمية النماذج

كما أنه باستطاعتك أن تستخدم عدة طرائق للبحث، يمكنك أيضًا أن تختبر الفرضية بعدة طرائق مختلفة. وقد قام الطلاب في الدرس السابق باختبار فرضيتهم من خلال عمل نموذج للصندوق الأصلي. فبناء النماذج يساعد على اختبار الفرضية. وفي العلوم، **النموذج** محاكاة لشيء ما أو حدث ما، ويستخدم كأداة لفهم العالم الطبيعي؛ حيث تساعد النماذج على تصور أو تخيل الأشياء التي يصعب رؤيتها أو فهمها. فطلبة الصف قاموا بعمل نموذج لأنهم لم يستطيعوا رؤية ما بداخل الصندوق الأصلي.

وتستخدم النماذج أيضًا لتمثيل أشياء قد تكون صغيرة جدًا، أو كبيرة جدًا، أو لأحداث سريعة جدًا، أو بطيئة جدًا. ويوضح الشكل ٩ أنواعًا من النماذج.

أنواع النماذج

هناك ثلاثة أنواع من النماذج: نماذج مادية، ونماذج حاسوبية، ونماذج فكرية. وقد يستخدم العلماء نوعًا واحدًا أو أكثر من النماذج.

النماذج المادية نماذج يمكن لمسها أو رؤيتها. ومنها: نموذج الكرة الأرضية، أو نموذج التركيب الداخلي للخلية، أو نموذج مركب كيميائي.

الأهداف

- تصف أنواعًا مختلفة من النماذج.
- تناقش كيفية تغير النماذج بتطور المعرفة.

الأهمية

- تساعد النماذج على توضيح المفاهيم الصعبة.

مراجعة المفردات

الطريقة العلمية عمليات يستخدمها العلماء لجمع المعلومات والإجابة عن الأسئلة.

المفردات الجديدة

- النموذج

الشكل ٩ تساعد النماذج العلماء على تخيل أو تصور الأشياء المعقدة أو الأشياء التي لا يمكن رؤيتها ودراستها مباشرة.



نموذج يبين بعض أجرام

النظام الشمسي



نموذج التركيب الداخلي للخلية



النماذج الحاسوبية نماذج يتم بناؤها ببرامج حاسوبية. ولا يمكن لمسها، بل تعرض على شاشة الحاسوب، وتوضح حوادث لا يمكن رؤيتها بسبب طول زمن حدوثها، أو سرعة حدوثها. ومن ذلك استخدام الحاسوب في عمل نموذج لحركة الصفائح الأرضية، أو عمل نماذج لحركة أو مواقع أشياء قد تستغرق ساعات أو أياماً لحسابها يدوياً. ويوضح الشكل ١٠ استخدام النماذج الحاسوبية في التنبؤ بالطقس.

✓ **ماذا قرأت؟** ما أهمية النماذج الحاسوبية؟

الشكل ١٠ خريطة الطقس نموذج حاسوبي يظهر حالة الجو في مناطق واسعة. ويستخدمها العلماء في التنبؤ بالطقس، وتحذير الناس من مخاطر الظروف الجوية الصعبة.

النماذج الفيزيائية توضح الأحداث السريعة جداً أو البطيئة جداً والتي يصعب رؤيتها وكذلك توضح مواقع الأجسام وحركتها التي قد يستغرق حسابها ساعات أو أياماً أن يكون نموذجاً مادياً. ولا يمكن لمسها.

عمل النماذج

تشبه طريقة عمل النماذج عملية رسم صورة لشخص غير معروف، حيث يقوم الرسام برسم صورة ذلك الشخص من خلال الأوصاف التي حصل عليها. وكلما كانت الأوصاف دقيقة كانت الصورة أفضل؛ أي أكثر مطابقة للشخص. وكذلك كلما زادت كمية المعلومات التي يجمعها العلماء حول شيء ما كان النموذج أكثر دقة.

تجربة عملية نمذجة الطقس
أرسل إلى كراسة التجارب العملية على منصة عين



استخدامات النماذج

عندما تفكر في النماذج قد يخطر ببالك نموذج لطائرة أو مبنى مما يستخدم في اللعب أو العرض؛ فليست جميع النماذج للاستخدام العلمي، لكنك تستخدم النماذج كثيرًا، وربما لا تدرك ذلك؛ فالرسوم التوضيحية والخرائط والنماذج الكروية هي جميعًا أمثلة للنماذج، ولها استخدامات مختلفة:

استخدام النماذج في التواصل تُستخدم بعض النماذج في عمليات التواصل العلمي لنقل الملاحظات والأفكار للآخرين، فنقل بعض الأفكار عن طريق عمل نموذج يوضحها أسهل من الكتابة عنها للآخرين، كما أن النماذج تيسر على الآخرين تصور الأفكار بطريقة محسوسة.

استخدام النماذج لاختبار التوقعات والفرضيات تُستخدم بعض النماذج لاختبار التوقعات، كما حدث مع الطلاب الذين درست عنهم أنفاً؛ فقد توقعوا أن يكون لصندوق يحوي دباسة نفس خصائص الصندوق المغلق الذي أعطاه المعلم لهم، وللتحقق من صدق توقعهم عملوا نموذجًا باستخدام دباسة وصندوق مشابه للصندوق الأصلي. وكذلك يستخدم المهندسون الأنفاق الهوائية لدراسة أثر الرياح على أداء السيارات والطائرات التي يصممونها.

استخدام النماذج لتوفير الوقت والمال والمحافظة على الأرواح في بعض الحالات تُستخدم النماذج لأن التعامل معها وإجراء الاختبارات عليها أكثر أمانًا وأقل تكلفة من استخدام الجسم الأصلي. من ذلك استخدام الدُمى بدلًا من البشر لاختبار أثر حوادث التصادم بين السيارات في راكبها، واستخدام وكالات الفضاء لنماذج طائرات تهيئ ظروفًا تحاكي الوضع في الفضاء لتدريب طاقم رواد الفضاء، كما في الشكل ١١. مما يقلل التكلفة ويسر مهمات التدريب، ويحافظ على

قبل إضافة الزيت والصبغة الغذائية: عدم وجود أي تغير على سطح الماء بعد إضافة الزيت والصبغة: بعد إضافة الزيت النباتي طفت قطرات الزيت فوق الماء وظلت متماسكة حتى إضافة الصبغة الغذائية فدفعت قطرات الزيت إلى داخل الماء وانفجرت على شكل دوامات لونية

في العصور القديمة حينما ارتفع في مركز النظام الشمسي والسماء السحب بغطاء يغلفها، وعملوا نماذج تعبر عن أفكارهم حولها، ثم اكتشف العلماء



الشكل ١١ يتدرب رواد الفضاء في طائرة خاصة تهيئ ظروفًا تحاكي الوضع في الفضاء

تجربة

التفكير كالعلماء

الخطوات


١. صب ١٥ مل من الماء في أنبوب اختبار.
٢. صب بيطء ٥ مل من زيت نباتي في أنبوب الاختبار.
٣. أضف قطرتين من صبغة الطعام إلى أنبوب الاختبار، ولاحظ السائل مدة ٥ دقائق.

التحليل

١. دوّن ملاحظتك حول أنبوب الاختبار قبل إضافة الزيت النباتي والصبغة الغذائية وبعد إضافتهما.
٢. استخلص تفسيرًا علميًا لملاحظاتك.

صبغات الطعام لا تمتزج بالزيت بينما تمتزج بالماء لأن السوائل المتشابهة تمتزج بعضها ببعض

أ- في نموذج قديم للنظام الشمسي ظهرت الأرض في المركز بينما تدور بقية الأجرام حولها.



ب- تطور نموذج جديد فيما بعد ظهرت فيه الشمس في المركز وبقية الأجرام تدور حولها.

الشكل ١٢ أ- ب تغير نموذج النظام الشمسي في كل مرة حصل



بفضل ملاحظاتهم أن الأجرام التي تراها - ومنها الشمس والقمر والكواكب والنجوم - جميعها تدور في السماء، فتغير النموذج ليظهر الأرض في المركز والأجرام تدور حولها، كما في الشكل ١٢. ومع تزايد الملاحظات وتحسن

دقتها اكتشف العلماء أن الشمس هي مركز النظام الشمسي، في حين

تستخدم النماذج العلمية في التواصل العلمي لنقل الملاحظات

والأفكار للآخرين بطريقة محسوسة

تستخدم النماذج أيضاً لاختبار التوقعات والفرضيات

أيضاً تستخدم النماذج لتوفير الوقت والمال والمحافظة على الأرواح حيث أنها تكون أكثر أماناً وأقل تكلفة من استخدام الجسم الأصلي

يمكن استخدام أوراق الرسم والحاسوب لنمذجة الطقس ويمكن أن يظهر كلاً منهما الأحداث السابقة لكن نموذج الحاسوب يستطيع توقع الأحداث المستقبلية

مراجعة

النموذج المادي: يحتاج إلى وقت ويصعب تعديله
النموذج الحاسوبي: يظهر التغيرات البطيئة أو السريعة ويمكن إعادة عرضه عدة مرات لكنه لا يظهر العلاقات الفراغية بشكل جيد
النموذج الفكري: يمكن أن يظهر العلاقات بين الأفكار المجردة لكنه يصعب فهمه للأحداث المستقبلية

١. استنتج ما أنواع النماذج التي تستخدم لنمذجة الطقس؟ وكيف تستخدم لتوقع الطقس؟
٢. وضح كيف تستخدم النماذج في العلوم؟
٣. صف مزايا أنواع النماذج الثلاثة وحدود إمكاناتها.

تطبيق الرياضيات

٤. يبين مقياس رسم إحدى الخرائط أن كل ١ سم يعادل ٥ كم. إذا كانت المسافة بين قريتين ١٧,٧ سم على الخريطة، فما المسافة الحقيقية التي تفصل بين القريتين بالكيلومترات؟

المسافة بالكيلومترات = $10.7 * (5 \text{ كم} / 1 \text{ سم}) = 8,5 \text{ كم}$

كلما كانت معلوماتك أوسع كان نموذجك أدق، وقدرته على توضيح الأفكار والمفاهيم أفضل
استخدامات النماذج
تستخدم النماذج في تمثيل المعلومات المهمة، ومنها الخرائط والجداول.

تغير النماذج بتطور المعرفة

يمكن أن يتغير النموذج مع الزمن بزيادة المعلومات المتوافرة.



تقويم التفسيرات العلمية

ففي هذا الدرس

الأهداف

■ تقويم التفسيرات العلمية.

الأهمية

تقويم الادعاءات والتفسيرات العلمية يساعد على اتخاذ قرارات صائبة.

مراجعة المفردات

التوقع تخمين عقلي لما سيحدث بناء على ملاحظات ومعرفة سابقة

المفردات الجديدة

- التفكير الناقد
- البيانات

صدّق أو لا تصدّق

انظر إلى الشكل ١٣، هل تصدق ما ترى؟ هل تصدق كل شيء تقرأه أو تسمعه؟ فكر في شيء أخبرك به شخص ولم تصدقه. ولماذا لم تصدقه؟ وعندما تسمع عبارة معينة من شخص فإنك تسأل: «كيف عرفت ذلك؟». فإذا قررت أن ما تسمعه موثوق به فإنك تصدقه. وإذا كان غير موثوق به فإنك لا تصدقه.

التفكير الناقد عندما تقوم شيئاً فإنك تستخدم التفكير الناقد. التفكير الناقد هو الربط بين ما تعرفه من معلومات مع الحقائق الجديدة لتقرر ما إذا كنت توافق على شيء ما. ويمكن تقويم أي تفسير من خلال تقسيمه إلى جزأين:

أولاً: تقويم الملاحظات بالاعتماد على المعلومات المتوفرة لديك، ثم تقدر مدى دقتها. ثانياً: تقويم الاستنتاجات التي تم بناؤها اعتماداً على الملاحظات. وتقرير ما إذا كانت تلك الاستنتاجات معقولة أم لا.

تقويم البيانات

البيانات معلومات يتم تجميعها أثناء البحث العلمي من خلال الملاحظات، ويمكن تدوينها على شكل وصف، أو جداول، أو رسوم بيانية، أو أشكال. وعندما تقوم ادعاءً علمياً، فقد تطلب أولاً أي بيانات مقدّمة معه. عليك أن تحذر من تصديق أي ادعاء غير مدعوم بالبيانات.

الشكل ١٣ في العلوم، لا يتفق الجميع على الملاحظات والاستنتاجات دائماً.

قارن هل ترى الأشياء نفسها التي يراها زملاؤك في الصورة؟

لا، قد يرى زملائي بعض الأشياء التي لم أنتبه إليها



جدول ٢، الطعام المفضل		
التكرار	السجل / التعداد	رغبات الناس
٣٧	<pre> </pre>	لحم الغنم
٢٨	<pre> </pre>	الدجاج

هل البيانات محدّدة؟ يجب أن تكون البيانات محدّدة، أي دقيقة. فإذا أخبرك صديقك أن معظم الناس يحبون لحم الأغنام أكثر من لحم الدجاج فما البيانات التي تحتاج إليها لتتفق مع صديقك في الرأي؟ لعلك تحتاج أن تعرف عدد الذين يفضلون لحم الغنم، وعدد الذين يفضلون لحم الدجاج في عدد محدد (عينة) من الناس. فعندما تحصل على بيانات محدّدة تصبح العبارة موثوقاً بها وأكثر قابلية للتصديق. ويمثل الجدول ٢ طريقة لعرض البيانات تسمى الجدول التكراري، حيث يبين الجدول التكراري؛ عدد مرات حدوث بيانات من أنواع معينة.

الشكل ١٤ هذان العالمان يسجلان ملاحظتهما خلال الاستقصاء وقبل أن يعودا إلى اليابسة. سجل استنتاجاتك هل تتوقع أن ذلك يزيد أم يقلل من مصداقية بياناتهما؟

سيزيد من مصداقية بياناتهما لأنه سيكون من الصعب نسيان شيء مهم


تدوين ملاحظات جيدة يجب على العلماء أن يدونوا ملاحظاتهم تدويناً شاملاً وكاملاً أثناء إجراء الاستقصاء، انظر إلى الشكل ١٤؛ إذ من الممكن فقدان كثير من التفاصيل المهمة إذا لم يتم تدوين الملاحظات في وقتها. كما يجب تدوين أي ملاحظة مهما كانت بسيطة أو غير متوقعة.

دفتر العلوم عندما تسجل ملاحظتك في دفتر العلوم يجب أن تكون هذه الملاحظات مفصلة بحيث يستطيع أي شخص أن يقرأها ويعيد التجربة تماماً كما أجرتها أنت.



لذلك فإن كتابة الملاحظات خلال التجربة مباشرة أدق من كتابتها فيما بعد، اعتمادًا على الذاكرة. استخدم مهارتك في الملاحظة لوصف ما تشاهده في الشكل ١٥.

هل يمكن الحصول على البيانات ذاتها مرة أخرى؟ إذا أخبرك صديقك أنه تمكن من قذف كرة مسافة ١٠٠م باستخدام مضرب فلعلك تطلب إليه أن يكرر ذلك أمامك، ولعلك تشكك في مصداقية روايته إن لم يتمكن من تكرار الضربة! بالمثل يطلب العلماء أدلة قابلة للتكرار، وعندما يصف عالم استقصاء ما لا بد أن يكون العلماء الآخرون قادرين على الحصول على النتائج نفسها عند تكرارهم للاستقصاء، وهذا ما يُقصد بالبيانات القابلة للتكرار. عندما تقوم ببيانات علمية عليك أن تبحث فيما إذا تمكن علماء آخرون من تكرار الحصول على هذه البيانات، وإلا فإن هناك شكًا في مصداقية هذه البيانات.



الشكل ١٥ الملاحظات المنفصلة مهمة للحصول على بيانات موثوق بها.

لاحظ استعمال عشر كلمات لتصف ما تراه في الصورة.

تقويم الاستنتاجات

إلا أن تطرح على نفسك كوب ماء وبه قطعتين من البلاستيك أحدهما حمراء والأخرى خضراء وسلك حلزوني

أن الدوام المدرسي في مدرستك سيبدأ متأخرًا ساعتين، وقال لك زميلك إن سبب ذلك هبوب عاصفة رملية. ولكن عندما نظرت من النافذة وجدت أن الجو صحو والسماء صافية، فهل يكون استنتاج زميلك أن سبب التأخير بسبب العاصفة هد تويده، فهل سبب الأخرى رسة تعاني من في أحد مباني مع شك حتى

هذا الإعلان الهدف منه هو تقديم مادة إعلامية للحث على شراء المنتج المعلن عنه عن طريق محاولة إدعاء أن هذا المنتج يستطيع تقديم الحل النهائي للعديد من المشاكل التي يعاني منها المستهلكون

الشكل ١٦ يجب قراءة جميع المواد وتحليلها بشكل دقيق. وضح ماذا يعني هذا الإعلان؟

يثبت أن جميع التفسيرات الواردة الأخرى غير محتملة.

تقويم المواد الدعائية

هل تُستخدم عمليات العلم فقط في المختبر؟ افترض أنك رأيت إعلانًا في إحدى وسائل الإعلام، كما في الشكل ١٦ ما رأيك فيه؟ في البداية يمكن أن تسأل نفسك: هل هذا صحيح؟ يبدو من الإعلان أنه غير قابل للتصديق. إذن عليك الحصول على بيانات علمية تؤكد هذا الادعاء قبل تصديقه.

فكيف يمكنك فحص هذا الادعاء؟ وكيف يمكنك التأكد من المعلومات التي يتضمنها الإعلان؟ قد ترغب في الحصول على



- تم البحث عن ٢٠٠ شخص من الذين يعانون من الصلع الوراثي وكانت نسبة النجاح ٨٣٪
- يعمل على استئصال التساقط والقشرة بشكل نهائي ١٠٠٪

نتائج من أحد المختبرات المستقلة الموثوقة تؤكد أو تنفي المعلومات المتضمنة في الإعلان؛ فالنتائج التي تحصل عليها من مختبر مستقل تكون أفضل من النتائج التي تحصل عليها من مختبر تابع للشركة صاحبة المنتج.

وتصمّم المواد الإعلانية لحثك على شراء المنتج، ولهذا من المهمّ تقييم معلومات المنتج وبياناته التي تدعم ذلك الادعاء قبل اتخاذ قرار شراء المنتج وإنفاق أموالك.

للتأكد من مصداقية النتائج التي تم التوصل إليها عن طريق
تقويم التفسيرات العلمية والبيانات والاستنتاجات فيصبح
الدليل العلمي موثقاً به

مراجعة ٣

الخلاصة

١. صف أهمية إعادة التجارب العلمية
٢. وضح كيف يمكن أن تكون الإعلانات التجارية مضللة؟

ذلك عندما تقوم بنشر معلومات غير صحيحة في أي موضوع
أو أن تحتوي بعض الإعلانات على بعض العبارات المضللة
والتي يمكن أن تفهم بأكثر من معنى

تطبيق المهارات

٣. صنف شاهد ثلاثة إعلانات تجارية تُبث من خلال التلفاز، واقرأ ثلاثة من الإعلانات التي تنشر في الجرائد، ثم سجل ما يدّعيه كلٌّ منها، وصنفها إلى: إعلانات واقعية، أو مضللة، أو علمية.

من المهم تسجيل الملاحظات خلال تنفيذ الاستقصاء.
البيانات المعتمدة أو الموثوقة بيانات محددة، وقابلة
للتكرار.

تقويم الاستنتاج

يجب أن يكون للاستنتاجات معنى حتى يمكن
اعتمادها.

تقويم المواد الدعائية

تقوم المختبرات المستقلة الموثوقة بفحص المنتجات
للتأكد من صلاحيتها.

الجلول اون لاين
h u l u l . o n l i n e

تعرّف مكونات الاستقصاء

سؤال من واقع الحياة

يتكون الاستقصاء العلمي من مكونات عديدة؛ فبالإضافة إلى المتغيرات والثوابت التي ينبغي مراعاتها هناك المحاولة التجريبية الضابطة.

من العوامل المؤثرة على التجربة والتي يجب تثبيتها على جميع أنواع الأسمدة هي الأرض والتربة والهواء والماء بينما نوع السماد من العوامل المتغيرة

ما العوامل المختلفة في تجربة لا اختبار السماد الذي يساعد على نمو أفضل للنبات؟

الأهداف

- تعرّف مكونات الاستقصاء.
- تعرف ثوابت التجربة ومتغيراتها وضوابطها.
- تمثل نتائج التجربة بيانياً، وتستخلص الاستنتاج المناسب منها.

المواد والأدوات

- أنواع مختلفة من الأسمدة.

الخطوات

- اقرأ التعليمات الخاصة بمكونات السماد.
- اعمل قائمة بالعوامل التي تبقى ثابتة خلال التجربة.
- تعرّف متغيرات التجربة.
- تعرّف ضابط التجربة.
- حدّد فرضية يمكن للمزارع أن يختبرها في تجربته.
- صف كيف يمكن أن يختبر المزارع فرضيته مستخدماً أنواعاً مختلفة من الأسمدة.
- مثل البيانات التي جمعها المزارع في رسم بياني خطي.

كان المزارع مهتماً جداً بنمو نباتاته بصورة أسرع. وعندما ذهب إلى المشتل وجد ثلاثة أنواع من الأسمدة، أحدها



السماد (أ) الذي سبق وأوصي باستخدامه، لكنه قرر عمل تجربة لتحديد أي هذه الأسمدة الثلاثة سيساعد بشكل أفضل على نمو أسرع لنباتاته. زرع المزارع أربع بذور في كل أصيص من أربعة أصص منفصلة، مستخدماً في

استخدام الطريقة العلمية

ارتفاع النبات (سم)				
الأسبوع	السماد (أ)	السماد (ب)	السماد (ج)	بدون سماد
١	٠	٠	٠	٠
٢	٢	٤	١	١
٣	٥	٨	٥	٤
٤	٩	١٣	٨	٧
٥	١٤	١٨	١٢	١٠
٦	٢٠	٢٤	١٥	١٣
٧	٢٧	٣١	١٩	١٦
٨	٣٥			

كل مرة الأضيء نفسه، والتربة نفسها.

ثم قام بإضافة السماد (أ) إلى تربة الأضيء الأول، والسماد (ب) إلى تربة الأضيء الثاني، والسماد (ج) إلى تربة الأضيء الثالث، أما تربة الأضيء الرابع فلم

يزداد نمو النبات عند إضافة السماد ج بالمقارنة بعدم إضافة سماد إلى التربة، كما أن النبات يزداد نموه في حالة إضافة السماد أ ولكن تكون زيادة محدودة في البداية ثم يزداد النمو بداية من الأسبوع الرابع ليصبح نموه أكثر منه في حالة السماد ج؛ أما في حالة إضافة السماد ب فيكون زيادة نمو النبات أعلى منها وهذه العملية تسمى تحليل البيانات

استخدام السماد ب يساعد على نمو النباتات بشكل أسرع وهذه العملية تسمى الاستدلال

١. صف النتائج المتضمنة في الجدول السابق. ما العملية الاستقصائية التي قمت بها الآن؟

٢. استنتج بالاعتماد على النتائج في الجدول السابق نوع السماد الذي يجب على المزارع استخدامه لتنمو نباتاته بشكل أسرع. ما العملية الاستقصائية التي قمت بها الآن؟

٣. حدّد نوع السماد الذي توصي باستخدامه لزراعة هذه الأنواع من النباتات؟ أنصحه باستخدام السماد ب ثم السماد أ

الاستنتاج والتطبيق

١. فسّر البيانات افترض أنّ السماد (ب) أعلى ثمنًا من السمادين (أ) و (ج) فهل تعتقد أن هذا يؤثر في قرار المزارع حول نوع السماد الذي سيشتريه؟ ولماذا؟

٢. وضح هل يحتاج كل باحث إلى تبني الفرضية نفسها عند أداء التجربة ذاتها؟ وما الفرضية الثانية الممكنة التي يمكن أن تضعها في هذه التجربة؟

٣. وضح ما إذا كان اختبار الفرضية الذي نفذته المزارع كافيًا.

تواصل

بياناتك

قارن استنتاجاتك باستنتاجات طلاب آخرين في الصف. وللمزيد من المساعدة ارجع إلى دليل المهارات العلمية في مصادر تعلم الطالب.

لا يحتاج كل باحث إلى تبني الفرضية نفسها عند أداء التجربة نفسها بل يجب أن يتبع الخطوات نفسها الفرضية الثانية: سيتوقف أثر السماد بعد فترة زمنية محددة

لا، فكان من الممكن إضافة اختبار تأثير خلط نوعين من السماد ليرى إذا كانت ستعطي نتيجة أفضل أم لا، حتى يقوم بعم سماد بمواصفات جودة عالية

بالطبع سيؤثر هذا على قرار المزارع فلو لم يتوافر لدى المزارع النقود الكافية لشراء السماد ب فسوف يضطر إلى شراء السماد أ أو ج على حسب ما يتوافر لديه من نقود

النساء والعلم



خولة الكريع

في عام ٢٠٠٧م، فازت الطبيبة والعالمة السعودية خولة الكريع بجائزة جامعة هارفارد للتميز العلمي عن أبحاثها في تشخيص البصمة الوراثية لمرضى السرطان. مما ساعد على الكشف المبكر عن هذا المرض وتعزيز الجهود الرامية إلى القضاء عليه.

ماري كوري

عالمة في الفيزياء والكيمياء، وهي أول امرأة حصلت على جائزة نوبل، كما أنها الوحيدة التي حصلت على جائزتي نوبل في مجالين مختلفين، في الفيزياء والكيمياء. من خلال أبحاثها وسعيها الحثيث مع زوجها بيري كوري، اكتشفت ماري عنصري البولونيوم والراديوم وطوّرت بعد ذلك استعمال الأشعة السينية. ووضعت فرضية مفادها أن الأشعة تنبعث من البنية الذرية للعنصر نفسه وليس من تفاعل حاصل بين الذرات. أسست هذه النظرية المجال المعروف بـ «الفيزياء الذوقية» وابتكرت ماري حينها مصطلحاً جديداً يُدعى «النشاط الإشعاعي» يصف ظاهرة الإشعاع الناتج عن الذرة.

هل طبيب العائلة رجل أم امرأة؟ قبل مئة سنة، لم تُشجّع النساء على دراسة العلوم في كثير من الدول والمجتمعات ومع ذلك ظهرت مجموعة من النساء اللواتي لهن إنجاز على مستوى العالم، منهن على سبيل المثال:

ماريا جوبرت ماير

فازت عالمة الفيزياء الألمانية ماريا جوبرت ماير بجائزة نوبل للفيزياء عام ١٩٦٣م عن أبحاثها في بنية نواة الذرة. وقدمت ماريا بذلك مساهمة كبرى في زيادة فهم الإنسان لعالم الذرة.

ليلي عبد المنعم

في عام ٢٠٠٤م فازت المهندسة المصرية ليلي عبد المنعم بجائزة جلوبال العلمية بلندن عن أبحاثها في تصميم خلطات البناء المقاومة للزلازل، وهذا الإنجاز يأتي بعد أكثر من مئة إنجاز علمي قامت به ليلي في ميادين الهندسة والزراعة والإلكترونيات وغيرها.

ابحث في المواقع الإلكترونية للحصول على معلومات حول نساء حصلن على جائزة نوبل في حقول الفيزياء والكيمياء والطب، وكتب مقالة قصيرة تصف فيها حياتهن، وأهمية اكتشاف كل منهن.

العلوم
عبر المواقع الإلكترونية

ارجع إلى المواقع الإلكترونية عبر شبكة الإنترنت..



دليل مراجعة الفصل

مراجعة الأفكار الرئيسية

1. هناك ثلاثة أنواع من النماذج وهي: المادية، والحاسوبية، والفكرية.
2. يمكن تعديل النماذج في ضوء المعلومات الجديدة، فهي قابلة للتطور.

الدرس الأول العلم وعملياته

1. العلم طريقة التعلم عن العالم الطبيعي، ويمكن أن يقدم تفسيرات عن سبب حدوث الأشياء، وكيفية حدوثها.
2. الفرضية تخمين لجواب أو تفسير منطقي متوقع مبني على معارف وملاحظات سابقة.
3. تستخدم التجارب المضبوطة في الاستقصاءات العلمية حيث يتم تغيير عامل وملاحظة تأثيره في عامل آخر.

الدرس الثالث تقويم التفسيرات العلمية

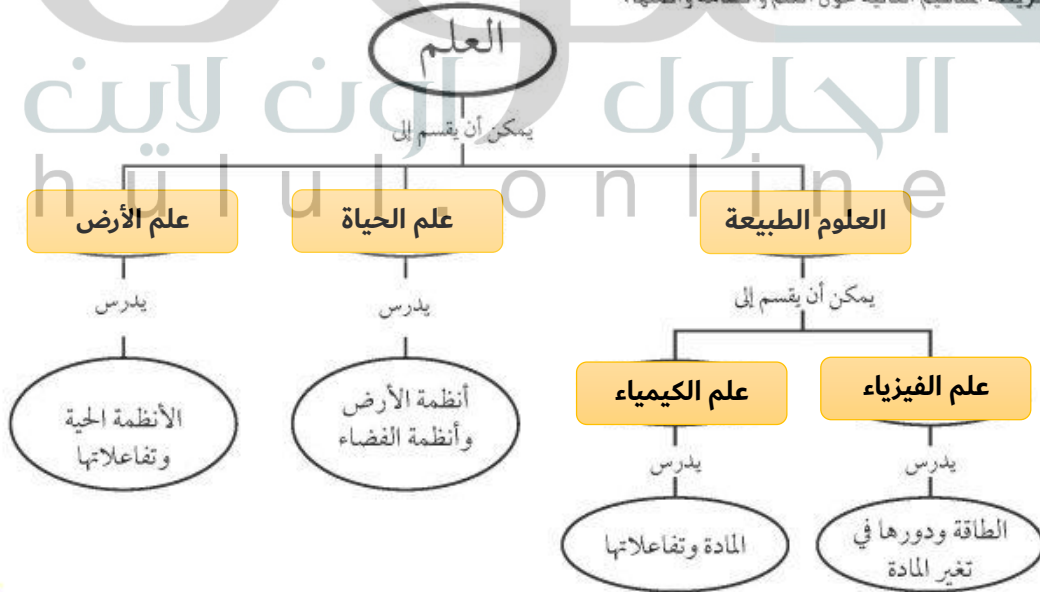
1. البيانات المعتمدة أو الموثوقة بيانات محددة، وقابلة للتكرار، أي يمكن أن يتوصل إليها علماء آخرون.
2. يعد الاستنتاج موثوقًا إذا كان مقبولًا ذا معنى، ويشكل التفسير الأقرب للصواب.

الدرس الثاني النماذج العلمية

1. النموذج أي تمثيل لشيء أو حدث يستخدم كأداة لفهم العالم الطبيعي، وللتواصل بالأفكار والتحقق من التوقعات وتوفير الجهد والمال.

تصور الأفكار الرئيسية

انسخ خريطة المفاهيم التالية حول العلم وأقسامه وأكملها:



علم الأرض: هو العلم الذي يهتم بدراسة أنظمة الأرض والفضاء

علم الفيزياء: هو العلم الذي يهتم بدراسة المادة والطاقة والعلاقات بينهم كثيرة في العالم الطبيعي

الثوابت: عوامل يتم ضبطها أثناء التجربة ولا تتغير المتغيرات: عوامل يمكن أن تتغير أثناء التجربة وهي كثيرة في العالم الطبيعي

الفرضية: هي جواب أو تخمين محتمل يعتمد على معرفتك وملاحظتك النظرية: هي محاولة لتفسير سلوك أو نمط معين تمت ملاحظته مرات كثيرة في العالم الطبيعي

وضح العلاقة بين كل مصطلحين مما يلي:

١. الفرضية - النظرية العلمية

٢. الثوابت - المتغيرات

٣. علم الأرض - علم الفيزياء

٤. النظرية العلمية - القانون العلمي

النظرية العلمية: هي محاولة لتفسير سلوك نمط معين تمت ملاحظته مرات كثيرة في العالم الطبيعي القانون العلمي: يصف أنماطاً ولكنه لا يفسر حدوث الأشياء

٧. أي مما يلي يمكن أن يفسر حدثاً في العالم الطبيعي؟

أ. قانون علمي

ب. نظرية علمية

ج. تقنية

د. تجربة علمية

٨. يُعد نموذج الطائرة مثلاً على نموذج:

أ. مادي

ب. فكري

ج. حاسوبي

د. عقلي

٩. ماذا نعني بالاستدلال؟

أ. عمل ملاحظات

ب. استبدال

ج. استخلاص نتائج

د. اختبار

٥. ماذا تعمل إذا كانت نتائج تجاربك لا تدعم فرضيتك؟

أ. لا أعمل شيئاً.

ب. أُعيد التجربة حتى تتفق مع الفرضية.

ج. أُغَيِّرُ الفرضية.

د. أُغَيِّرُ بياناتي حتى تطابق فرضيتي.

٦. ماذا نسمى صورة ثلاثية الأبعاد لبضء معين حصلنا عليها باستخدام الحاسوب؟

أ. نموذجاً

ب. ثابتاً

ج. فرضية

د. متغيراً

التفكير الناقد

١٠. قارن بين القانون العلمي والنظرية العلمية من حيث أوجه التشابه والاختلاف.

١١. توقع ما أسرع طريقة للوصول إلى المدرسة في الصباح؟ اكتب بعض الطرائق التي يمكن أن تستخدمها لاختبار توقعك.

١٢. استخلص النتائج عندما يقوم العلماء بتجربة علاج جديد، يُعطى هذا العلاج لمجموعة من المرضى ولا يُعطى لمجموعة أخرى. لماذا؟

يمكن للعلماء معرفة فعالية الدواء من خلال تأثيره على المجموعة التي عولجت به ومقارنة مدى تحسنها بالمجموعة التي لم تعالج بالدواء


كل من النظرية العلمية والقانون العلمي تعميم، فالنظرية العلمية تفسر لماذا يحدث الشيء أما القانون فيقرر حدوثه



مراجعة الفصل

تطبيق الرياضيات

استخدم الرسم التالي للإجابة عن السؤال ١٥.



١٥. استخدام التناسب تبين الخريطة أعلاه المسافة بين نقطتين. وبيّن مقياس الرسم المستخدم أن ١ سم على الخريطة يمثل ١,٠٥ كم تقريبًا على الواقع. ما المسافة التقريبية بين النقطتين أ و ب؟

المسافة بين النقطتين على الخريطة = ٤,٥ سم
المسافة التقريبية بينهما = ٤,٥ * (١,٠٥ / ١ سم) = ٤,٧ كم

أنشطة تقويم الأداء

١٣. وضع فرضية استخدم كرة السلة وكرة الطاولة لوضع فرضية عن عدد المرات التي ترتدها كل منهما إذا اصطدمت بالأرض. أسقط كلتا الكرتين من ارتفاع يعادل مستوى كتفك خمس مرات، وسجل عدد الارتدادات في جدول. أي الكرتين ارتدت مرات أكثر؟ ضع فرضية لتوضيح السبب.

١٤. لاحظ ضع كمية من الماء في صحن، ثم رش مسحوق الفلفل الأسود على سطح الماء، ولاحظ كيف يطفو الفلفل على الماء. أضف بضع قطرات من الصابون السائل إلى الماء. ما الذي يحدث؟



الفكرة العامة

مجموعة القوى التي تؤثر في جسم ما يمكن أن تغير من حركته.

الدرس الأول

الحركة

الفكرة الرئيسية تسارع الجسم عندما يتغير مقدار سرعته أو اتجاه حركته.

الدرس الثاني

قوانين نيوتن للحركة

الفكرة الرئيسية تغير القوى غير المتزنة مقدار سرعة الجسم أو اتجاه حركته.

الدرس الثالث

الشغل والآلات البسيطة

الفكرة الرئيسية تسهل الآلات الشغل من خلال تغيير مقدار واتجاه القوة اللازمة لأدائه.

الحركة والقوى والآلات البسيطة

احبس أنفاسك! .online.hutulu

عندما يقفز هذا المتزلج فإنه يتوقف برهة في الهواء ليغير اتجاهه ويبدأ في الهبوط. كيف تتغير حركته عندما يصل إلى أخفض نقطة في مساره ويبدأ في الصعود إلى الجانب الآخر؟

في هذا الفصل سوف تتعلم كيف تؤثر القوى في حركة الجسم.

دفتر العلوم اكتب فقرة تقارن فيها بين حركتي هبوط كرة وطائرة ورقية تم قذف كل منهما إلى أعلى.

عند هبوط الطائرة الورقية فإنها تطير لمسافات أثناء الهبوط، أما الكرة فتهبط مباشرة دون أن تسير مسافات أفقية

نشاطات تمهيدية

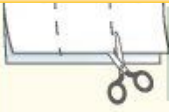
وصف وتفسير الحركة اصنع المطوية التالية لتساعدك على فهم الحركة والقوى والآلات البسيطة.

المطويات منظومات الأفكار



الخطوة ١ اطو ورقة طولياً من الحافة إلى الحافة وهي في الوضع الرأسي، واجعل الحافة الأمامية أقصر اسم من الحافة الخلفية.

إلى ارتفاع بسيط ومنخفض وسرعتها أكبر ما يمكن عند الهبوط والوصول إلى أخفض نقطة



الخطوة ٣ اقطع الطبقة العليا فقط على طول المطوية لعمل ثلاثة أجزاء.



الخطوة ٤ اكتب عنواناً حركة الكرة أسرع من الخطوة ٢

حدد الأسئلة. قبل قراءة الفصل، اكتب ما تعرفه عن الحركة

كلما أفلتت الكرة من ارتفاع أكبر عند حافة المنحنى وصلت إلى ارتفاع أعلى عند الحافة الأخرى

تجربة استدلالية

نموذج الحركة على مسار نصف دائري

يجعل متزلجو اللوح هذه الحركة على مسار يشبه نصف الأنبوب تبدو سهلة، فهم يندفعون إلى أسفل أحد الجانبين، ثم يصعدون إلى الجانب الآخر، ويرتفعون فوق الحافة حيث يلتفون في الهواء، ثم يعودون. إنهم يتمرنون على هذه الحركات حتى يتقنوها. سوف تتعلم في هذا الفصل كيف يمكن تفسير هذه الحركة المعقدة بفهم تأثير القوى، ومنها قوة الجاذبية.

١. استعمل ورقة سميكة أو قطعة كرتون لعمل مسار على هيئة حرف U بين مجموعتين من الكتب، ليكون نموذجاً لنصف أنبوب. إن كرة زجاجية تصلح نموذجاً للوح التزلج.
٢. أفلت الكرة الزجاجية عند نقطة قريبة من قاع المنحنى. راقب حركتها. إلى أي ارتفاع تصل؟ أين تكون سرعتها أكبر ما يمكن؟
٣. أفلت الكرة الزجاجية عند نقطة قرب حافة المنحنى. راقب الحركة. قارن حركة الكرة الزجاجية مع حركتها في الخطوة ٢.
٤. التفكير الناقد كيف أثرت نقطة بدء الحركة في الارتفاع الذي تصل إليه الكرة الزجاجية في الجانب الآخر؟

أتهياً للقراءة

تصورات ذهنية

١ أتعلم يقصد بالتصورات الذهنية تخيل صور للأفكار الواردة في المادة العلمية أثناء قراءتها. أثناء قراءتك حاول أن تتخيل كيف تبدو الأشياء المذكورة في النص العلمي، وكيف يكون صوتها، وملمسها، ورائحتها، ومذاقها، وابحث عن الصور والأشكال التوضيحية المرافقة للنص والتي يمكن أن تساعدك على تحقيق فهم أفضل.

٢ أتدرب اقرأ الفقرة الآتية، وتأمل العبارات فوق الخط لتكوّن صورة ذهنية لما تقرأه.

كيف تتحد القوى لتكوّن القوة المحصلة؟ إذا كانت القوى في الاتجاه نفسه فإنها تُجمع لتعطي القوة المحصلة. وإذا كانت قوتان متعاكستان فإن القوة المحصلة تساوي الفرق بينهما وتكون في اتجاه القوة الكبرى.

حاول أن تجسد الأفكار المرتبطة في اتحاد القوى مكوّنًا صورًا ذهنية لها في ضوء الوصف الوارد أعلاه، ثم انظر إلى الشكل التوضيحي ص ٥١

- إلى أي درجة تطابقت الصورة الذهنية التي كونتها مع الشكل التوضيحي في الكتاب؟
- أعد قراءة الفقرة، ثم انظر إلى الشكل التوضيحي مرة أخرى. هل تغيرت أفكارك؟
- قارن الصورة الذهنية التي تكونت لديك بالصور الذهنية التي كونها أقرانك في الصف.

٣ أطبق اقرأ الفصل، واكتب ثلاثة مواضيع تمكنت من تصورها، ثم ارسم رسمًا توضيحيًا للصور الذهنية التي كونتها.

إرشاد

حاول أن تكون صوراً ذهنية خاصة بك حول ما تقرأه؛ فتجسيد الأفكار يساعدك على الفهم والتذكر.

توجيه القراءة وتركيزها

ركز على الأفكار الرئيسة عند قراءتك الفصل باتباعك ما يلي:

١ قبل قراءة الفصل أجب عن العبارات في ورقة العمل أدناه:

• اكتب (م) إذا كنت موافقاً على العبارة.

• اكتب (غ) إذا كنت غير موافق على العبارة.

٢ بعد قراءة الفصل ارجع إلى هذه الصفحة لترى إن كنت قد غيرت رأيك حول أي من هذه العبارات.

• إذا غيرت إحدى الإجابات فبين السبب.

• صحح العبارات غير الصحيحة.

• استرشد بالعبارات الصحيحة أثناء دراستك.

بعد القراءة م أو غ	العبارة	قبل القراءة م أو غ
	١. تشير قراءة مقياس السرعة في السيارة إلى متوسط سرعة السيارة.	
	٢. إذا كان تسارع الجسم صفراً فإن سرعته لا تتغير.	
	٣. إذا تغير مقدار السرعة دون تغير اتجاهها فإن السرعة المتجهة لم تتغير.	
	٤. يمكن للجسم الذي تؤثر فيه قوى محصلتها صفر أن يكون متحركاً.	
	٥. يعتمد تسارع الجسم على القوة المحصلة المؤثرة فيه فقط.	
	٦. عندما تقفز إلى أعلى فإن الأرض تؤثر فيك بقوة إلى أعلى.	
	٧. أنت تبدل شغلاً عندما تدفع الحائط مع أن الحائط لا يتحرك.	
	٨. يعد المستوى المائل من الآلات البسيطة.	
	٩. في بعض الآلات يكون الشغل الناتج أكبر من الشغل المبذول.	



الحركة

فيم هذا الدرس

الأهداف

- تعرف كل من السرعة والتسارع.
- تربط التسارع بالتغير في السرعة.
- تحسب كلاً من المسافة والسرعة والتسارع.

الأهمية

يمكن وصف الحركة بدلالة المسافة والزمن والسرعة والتسارع.

مراجعة المفردات

المتر وحدة قياس المسافة في النظام الدولي، ويستخدم الرمز (م) اختصاراً لها.

المفردات الجديدة

- السرعة المتوسطة
- السرعة اللحظية
- التسارع
- السرعة المتجهة

السرعة

تخيل أنك متزحج على لوح ذي عجلات، وتوجه متسارعاً إلى أسفل في مسارٍ نصف دائري. سوف يخفق قلبك كلما زادت سرعتك. وعند وصولك إلى أخفض جزء ستكون متسارعاً إلى درجة الشعور بالإثارة، وربما بالخوف. وعندما تغير اتجاهك صاعداً الجانب الآخر سوف تقل سرعتك. وعند وصولك إلى قمة المنحدر فإنك تكاد تتوقف عن الحركة، ويمكنك التوقف بسهولة إن أردت، أو أن تعود متسارعاً ثانية نحو أسفل المسار.

ولفهم كيف تصف حركة معقدة كهذه، فكر في حركة أبسط، مثل حركة الدراجة الميينة في الشكل ١. ولوصف سرعة الدراجة عليك أن تعرف شيئاً عن حركتها، الأول المسافة التي قطعتها، والثاني الزمن الذي احتاجت إليه لتحرك هذه المسافة.

السرعة المتوسطة يستطيع راكب الدراجة أن يتسارع أو يتباطأ عدة مرات خلال فترة زمنية معينة. ومن طرائق وصف حركة راكب الدراجة استخدام السرعة المتوسطة. ولحساب **السرعة المتوسطة** اقسم المسافة التي قطعها على الزمن الذي استغرقه في قطع تلك المسافة.

$$\text{السرعة المتوسطة (م/ث)} = \frac{\text{المسافة المقطوعة (م)}}{\text{زمن الحركة (ث)}}$$

$$v = \frac{d}{t}$$

ولأن السرعة المتوسطة تحسب بقسمة المسافة على الزمن فإن وحداتها تكون وحدة مسافة مقسومة على وحدة زمن. ومن ذلك أن وحدة سرعة الدراجة هي متر في الثانية، بينما وحدة سرعة السيارة هي عادة كيلومتر في الساعة.

الشكل ١ لحساب سرعة الدراجة اقسم المسافة المقطوعة على الزمن الذي استغرقته في قطعها.

استنتج ماذا يحدث للسرعة المتوسطة لو كانت الدراجة تسير على تل منحدر إلى أسفل؟

سوف تزداد السرعة



حل معادلة بسيطة

تطبيق الرياضيات

سرعة الدراجة إذا احتجت وأنت تركب دراجتك إلى ٣٠ دقيقة للوصول إلى بيت صديقك الذي يبعد ٩ كيلومترات، فما مقدار سرعتك المتوسطة؟

الحل

- ١ المعطيات
- المسافة: ف = ٩ كم
 - الزمن: ز = ٣٠ دقيقة = ٠,٥ ساعة
 - السرعة: ع = ؟
- ٢ المطلوب
- عوض بقيمتي المسافة والزمن اللتين تعرفهما في معادلة السرعة
- ٣ طريقة الحل

$$ع = \frac{ف}{ز} = \frac{٩ \text{ كم}}{٠,٥ \text{ ساعة}}$$

$$= ١٨ \text{ كم / ساعة}$$

- ٤ التحقق من الحل
- اضرب الإجابة في الزمن. يجب أن تحصل على المسافة المعطاة أعلاه.

مسائل تدريبية

١. تقطع طائرة ١٣٥٠ كم في ٣ ساعات. احسب سرعتها المتوسطة.
٢. حدد السرعة المتوسطة بوحدة كم/ساعة لمتسابق يقطع مسافة ٥ كم في ١٨ دقيقة.



الشكل ٢ يقيس عداد المسافة في السيارة المسافة التي قُطعتُها، بينما يعطي مقياس السرعة السرعة اللحظية.

صف كيف تستعمل عداد المسافة لحساب السرعة المتوسطة؟

السرعة اللحظية تعد السرعة المتوسطة مفهوماً مفيداً إذا لم تكن مهتمّاً بتفاصيل الحركة. افترض مثلاً أنك قطعت في رحلة طويلة مسافة ٦٤٠ كم في ٨ ساعات. إن سرعتك المتوسطة ٨٠ كم/ساعة حتى لو كنت تعطلت لبعض الوقت بسبب الزحام مثلاً.

وإذا كنت تتسارع أو تتباطأ أحياناً فقد يكون من المفيد معرفة سرعتك عند لحظة معينة. ولتجنب تجاوز حدود السرعة القصوى المسموح بها في الطريق فإن السائق يحتاج إلى معرفة **سرعته اللحظية**؛ أي سرعته عند لحظة معينة. ويبين عداد سرعة السيارة، السرعة اللحظية للسائق، كما هو مبين في الشكل ٢. كيف تتغير سرعتك اللحظية عندما تهبط بدراجتك تلاً، أو تصعد آخر؟

ماذا قرأت؟ ما الفرق بين السرعة اللحظية والسرعة المتوسطة؟

أقيس المسافة المقطوعة باستخدام عداد المسافات ثم أقسمها على الزمن اللازم لقطعها

السرعة الخيطية: هي السرعة عند لحظة معينة
السرعة المتوسطة: هي السرعة خلال فترة زمنية

حل مسائل تدريبية صفحة ٤٥:

ج١- المعطيات:

المسافة ف = ١٣٥٠ كم

الزمن ز = ٣ ساعات

المطلوب: السرعة ع = ؟ كم / ساعة

طريقة الحل:

بالتعويض في معادلة السرعة عن قيمتي المسافة والزمن

$$ع = ف / ز$$

السرعة المتوسطة = ١٣٥٠ كم / ٣ ساعات = ٤٥٠ كم / ساعة

ج٢- المعطيات:

المسافة ف = ٥ كم

الزمن ز = ١٨ دقيقة

المطلوب: السرعة ع = ؟ كم / ساعة

طريقة الحل:

يتم تحويل الدقائق أولاً إلى ساعات إذن ١٨ دقيقة = ١٨ / ٦٠ = ٠,٣ ساعة

وبالتعويض في قانون السرعة المتوسطة عن قيمتي المسافة والزمن

السرعة المتوسطة = ٥ كم / ٠,٣ ساعة = ١٦,٦٦ كم / ساعة



حركة القشرة الأرضية

القشرة الأرضية هي القسم الخارجي من الأرض. تنقسم القشرة الأرضية إلى قطع هائلة الحجم تتحرك ببطءٍ تسمى الصفائح. ابحث في سرعة هذه الصفائح، واعمل جدولاً في دفتر العلوم تبين فيه سرعة بعض هذه الصفائح.

السرعة الثابتة أحياناً يتحرك جسم ما لفترة زمنية قد تطول أو تقصر، بحيث لا تتغير سرعته اللحظية. إذا لم تتغير السرعة اللحظية فإن الجسم يتحرك بسرعة ثابتة. وفي هذه الحالة فإن السرعة اللحظية والسرعة المتوسطة تكونان متساويتين.

حساب المسافة إذا تحرك الجسم بسرعة ثابتة فإن المسافة التي يقطعها في فترة زمنية محددة يمكن حسابها من معادلة السرعة المتوسطة. فإذا ضربت طرفي هذه المعادلة في الزمن فسوف تحصل على المعادلة التالية:

معادلة المسافة

$$\text{المسافة المقطوعة (م)} = \text{السرعة المتوسطة (م/ث)} \times \text{الزمن (ث)}$$

$$f = e \times z$$

لاحظ أن وحدة الزمن المستعملة في السرعة وفي الفترة الزمنية لا بد أن تكون هي نفسها لكي يتم اختصارها عند حساب المسافة.

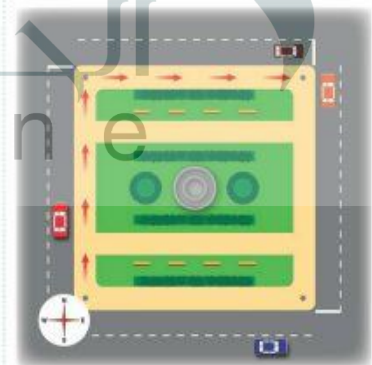
السرعة المتجهة

افتراض أنك تمشي بسرعة ثابتة في شارع ما متجهاً شمالاً. وعند تقاطع طرق توجهت نحو الشرق وبدأت السير بالسرعة نفسها، كما في الشكل ٣. لقد تغيرت حركتك رغم أن سرعتك بقيت قيمتها ثابتة. لكي تصف حركتك بصورة كاملة، عليك أن تحدد السرعة التي كنت تسير بها، وكذلك اتجاه حركتك. فالسرعة المتجهة لجسم ما هي مقدار سرعة ذلك الجسم واتجاه حركته. وبذلك تتغير السرعة المتجهة لجسم ما إذا تغير مقدار سرعته، أو تغير اتجاه حركته أو كلاهما.

الشكل ٣ إذا كنت تسير نحو الشمال بسرعة ثابتة، ثم اتجهت شرقاً بالسرعة نفسها فإنك قد غيرت سرعتك المتجهة. حدد طريقة أخرى لتغيير سرعتك المتجهة.

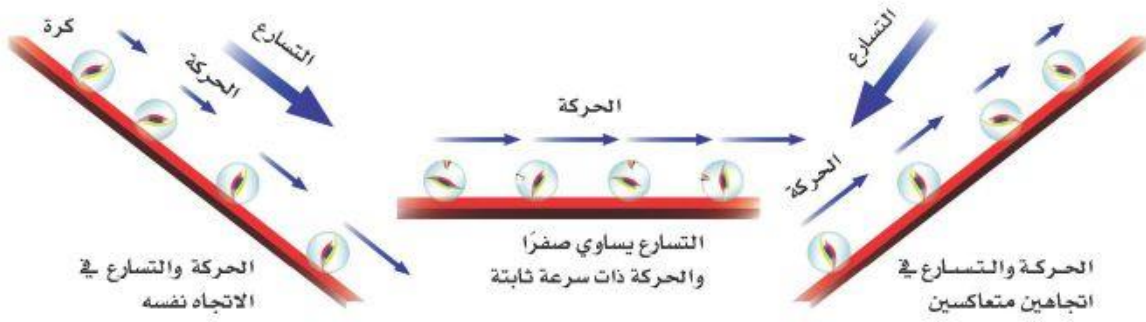
التسارع

عند قمة منحدر يكون المتزلج في حالة سكون، أي أن سرعته صفر. وعند النزول تزداد سرعته أكثر فأكثر. ولو كان المنحدر أكثر ميلًا فإن سرعته سوف تزايد بمعدل أكبر. كيف تصف تغير السرعة في هذه الحالة؟ وكما أن السرعة تصف تغير المسافة مع الزمن فإن التسارع يصف كيف تتغير السرعة مع الزمن. التسارع هو التغير في السرعة المتجهة مقسومًا على الزمن اللازم لهذا التغير. يبين الشكل ٤ أمثلة على التسارع عندما يتغير مقدار السرعة، بينما يبقى اتجاه الحركة ثابتًا. ولتحديد اتجاه التسارع نأخذ بالاعتبار ما يحدث للسرعة؛ فإذا كانت السرعة تزايد فالتسارع في اتجاه السرعة، وإذا كانت تتناقص فالتسارع في عكس اتجاه السرعة.



✓ **ماذا قرأت؟** صف طريقتين تتغير فيهما حركة جسم عندما يتسارع.

يمكن أن أغير من اتجاه حركة الجسم أو أغير من سرعته



الشكل ٤ إذا تغيرت سرعة جسم

مع بقاء اتجاه حركته ثابتاً فإنه يتسارع. يعتمد اتجاه التسارع على تزايد أو تناقص قيمة السرعة.

حساب التسارع إذا تغيرت سرعة الجسم ولم يتغير اتجاه حركته فإنه يمكن حساب تسارعه من المعادلة التالية:

تجربة عملية سرعة الأجسام الساقطة
ارجع إلى كراسة التجارب العملية على منصة عين

$$\text{التسارع (م/ث}^2\text{)} = \frac{\text{السرعة النهائية (م/ث)} - \text{السرعة الابتدائية (م/ث)}}{\text{الزمن (ث)}}$$



$$ت = \frac{١٤ - ٢٤}{ز} \text{ إن الوحدات الدولية للتسارع هي م/ث}^2.$$

حساب التسارع

تطبيق الرياضيات

التسارع على منحدر واجه متزلج يتحرك بسرعة ٨ م/ث انحداراً أدى إلى زيادة سرعته إلى ١٨ م/ث خلال ٥ ثوان. احسب تسارع المتزلج.

الحل

المعطيات ١

• السرعة الابتدائية: ٨ م/ث

• السرعة النهائية: ١٨ م/ث

• الزمن: ٥ ث

التسارع: $ت = ? \text{ م/ث}^2$

المطلوب ٢

عوض في معادلة التسارع بقيم الكميات المعلومة

طريقة الحل ٣

$$ت = \frac{١٤ - ٢٤}{ز} = \frac{٨ - ١٨}{٥} = \frac{١٠}{٥} = ٢ \text{ م/ث}^2$$

اضررب إجابتك التي حصلت عليها في الزمن، ثم أضف السرعة الابتدائية، سوف تحصل على السرعة النهائية التي وردت في السؤال أعلاه.

التحقق من الحل ٤

مسائل تدريبية

١. تسير عربة في مدينة الألعاب بسرعة ١٠ م/ث، وبعد ٥ ثوانٍ من المسير على سكتها المنحدرة أصبحت سرعتها ٢٥ م/ث. احسب تسارع هذه العربة.
٢. تتباطأ السيارة التي تستقلها نظراً لاقترابها من إشارة ضوئية. فإذا كانت السيارة تسير بسرعة ١٦ م/ث وتوقفت خلال ٩ ثوانٍ، فما تسارع هذه السيارة؟

المعطيات:

السرعة البدائية: $١٠ = ١٠ \text{ م / ث}$

السرعة النهائية: $٢٥ = ٢٥ \text{ م / ث}$

الزمن: $٥ = ٥ \text{ ثواني}$

المطلوب: التسارع $ت = ? \text{ م / ث}^٢$

طريقة الحل: بالتعويض في معادلة الحل

تسارع العربة = (السرعة النهائية - السرعة

البدائية) / الزمن

$ت = (٢٥ - ١٠) / ٥ = ٣ \text{ م / ث}^٢$

$ت = (١٠ - ٢٥) / ٥ = -٣ \text{ م / ث}^٢$

المعطيات:

$١٦ = ١٦ \text{ م / ث}$

$٠ = ٢٥ \text{ م / ث}$

الزمن $ز = ٩ \text{ ثواني}$

المطلوب: التسارع $ت = ? \text{ م / ث}^٢$

طريقة الحل: بالتعويض في معادلة التسارع

$ت = (١٦ - ٢٥) / ٩$

$ت = (٠ - ١٦) / ٩ = -١.٧٧ \text{ م / ث}^٢$

$ت = -١.٧٧ \text{ م / ث}^٢$

والإشارة السالبة تشير إلى تباطؤ السرعة

الجزء «ب» من الرسم. يبين الخط الأفقي أن التسارع يساوي صفرًا؛ لأن السرعة لا تتغير بمرور الزمن. أما في الجانب المقابل عندما تصعد التلّ فإن سرعتك سوف تتناقص، كما هو مبين في الجزء «ج» من الرسم.

الشكل ٥ أ حركة العربات في طريق متعرج في مدينة الألعاب.



الشكل ٥ ب يمكن بيان تسارع جسم ما من خلال منحنى السرعة - الزمن.

نعم، لأن الاتجاه قد تغير

يمكن أن تكون السرعة اللحظية أكبر من السرعة المتوسطة خلال جزء من الرحلة وتكون أصغر خلال الجزء الآخر

نعم، إذا قامت بتغيير اتجاهها

١. فسر إذا طارت طائرة بسرعة ثابتة مقدارها ٥٠٠ كم/ ساعة فهل يمكن اعتبارها تتسارع؟
٢. استنتج هل يمكن للسرعة اللحظية لجسم ما أن تكون أكبر من سرعته المتوسطة؟
٣. حدد هل يمكن لجسم متحرك بسرعة ثابتة في المقدار أن تغير سرعته المتجهة؟
٤. التفكير الناقد صف حركة متزلج عندما يتسارع نازلاً إلى أسفل منحدر ثم عندما يصعد الجانب الآخر من المنحدر. ماذا يمكن أن يحدث لو كان الجانب الذي يصعد أقل انحداراً من الجانب الآخر؟

تطبيق الرياضيات

٥. حساب السرعة المتوسطة خلال فترة ازدياد السير قد يحتاج سائق سيارة إلى ١,٥ ساعة لقطع مسافة ٤٥ كم. احسب السرعة المتوسطة للسيارة خلال هذه الرحلة.
٦. قارن المسافة المقطوعة والسرعة المتوسطة لكل من الشخصين التاليين: سار أحمد بسرعة ١,٥ م/ث لمدة ٣٠ ثانية، بينما سار سالم بسرعة ٢ م/ث لمدة ١٥ ثانية ثم بسرعة ١ م/ث لمدة ١٥ ثانية أخرى.

عند هبوط المنحدر يتسارع المتزلج على لوح التزلج وعند صعوده المنحدر فإنه يتباطأ، فإذا كان الجانب الذي يصعد أقل انحداراً من الجانب الآخر فإنه سيقطع مسافة أكبر من تلك التي قطعها عند نزوله

المعطيات:

الزمن $z = 1,5$ ساعة

المسافة $f = 4,5$ كم / ساعة

المطلوب: السرعة $e = ?$ كم / ساعة

طريقة الحل: بالتعويض في معادلة السرعة بقيم الزمن والمسافة

$$e = f / z$$

$$e = 4,5 \text{ كم} / 1,5 \text{ ساعة} = 3,0 \text{ كم} / \text{ساعة}$$

المعطيات:

سرعة أحمد $= 1,5$ م / ث

الزمن الذي استغرقه أحمد $= 30$ ثانية

السرعة الأولى لسالم $= 2$ م / ث

السرعة الثانية لسالم $= 1$ م / ث

زمن السرعة الثانية لسالم $= 15$ ثانية

المطلوب:

المسافة المقطوعة لأحمد $= ?$ م

المسافة المقطوعة لسالم $= ?$ م

مقارنة السرعة المتوسطة لكلاً من أحمد وسالم

طريقة الحل:

من معادلة السرعة: $e = f / z$

يمكن إيجاد المسافة التي قطعها كل من أحمد وسالم من المعادلة التالية

$$f = e * z$$

$$\text{مسافة أحمد} = 1,5 * 30 = 45 \text{ متراً}$$

السرعة المتوسطة $= 1,5$ م / ث (ثابتة)

المسافة التي قطعها سالم عند السرعة الأولى $= 2 * 15 = 30$ م

المسافة التي قطعها سالم عند السرعة الثانية $= 1 * 15 = 15$ م

المسافة الكلية التي قطعها سالم $= 15 + 30 = 45$ م

الزمن الكلي الذي استغرقه سالم لقطع المسافة كلها $= 15 + 15 = 30$ ث

السرعة المتوسطة $= 45 / 30 = 1,5$ م / ث

تحرك أحمد وسالم نفس المسافة بنفس السرعة المتوسطة رغم اختلاف

السرعة اللحظية لكل منهما




قوانين نيوتن للحركة

القوة

ما الذي يحرك الأجسام؟ إذا أردت الجلوس على المائدة فإنك تسحب الكرسي بعيداً عن الطاولة قبل أن تجلس، ثم تدفعه تحت الطاولة عندما تغادر. إنك تؤثر بقوة في الكرسي لتحركه. ف **القوة** إما دفع أو سحب وتقاس القوة بوحدتي النيوتن في النظام الدولي للوحدات.

القوة والتسارع لتغيير حركة جسم ما يجب أن تؤثر فيه بقوة، وتعمل على تسارعه. فعندما تقذف كرة مثلاً، فإن يدك تؤثر بقوة في الكرة، وتؤدي إلى زيادة سرعتها، ويقال عندئذ إن الكرة تسارعت. تعمل القوة كذلك على تغيير اتجاه حركة الكرة. فبعد أن تغادر الكرة يدك يتغير مسارها كما في الشكل ٦. في أثناء تحليق الكرة تكون تحت تأثير قوة الجاذبية الأرضية لذلك يكون تسارع الكرة إلى أسفل فتتناقص سرعتها حتى تصبح صفراً عند قمة مسارها، ثم تغير اتجاه حركتها فتصبح السرعة باتجاه التسارع نفسه، فتزيد سرعة الكرة هابطة إلى أسفل. تذكر أن تغيير اتجاه حركة جسم يعني أنه في حالة تسارع. إن قوة الجاذبية سببت تسارع الكرة. وفي كل مرة تتغير سرعة جسم ما، أو يتغير اتجاه حركته، أو يتغيران معاً فإن قوة ما تكون قد أثرت في هذا الجسم.

القوى المتزنة وغير المتزنة قد تؤثر مجموعة من القوى في جسم ما دون أن تحدث تغييراً في حركته. إذا ضغطت أنت وصديقك بقوتين متساويتين على الباب، وكانت القوتان متعاكستين فإن الباب لا يتحرك. تكون القوى متزنة إذا ألغى بعضها أثر بعض، ولم تسبب تغييراً في حركة الجسم. فإذا لم تلغ بعض القوى أثر بعض، فإنها تكون غير متزنة.



في هذا الدرس

الأهداف

- تصف كيف تؤثر القوى في الحركة.
- تحسب التسارع مستخدماً القانون الثاني لنيوتن في الحركة.
- توضح القانون الثالث لنيوتن في الحركة.

الأهمية

تصف قوانين نيوتن أنماط الحركة سواء البسيطة منها كما في المشي، أو المعقدة كما في إطلاق الصواريخ.

مراجعة المفردات

الجاذبية (الثقالة) قوة جذب بين جسمين، تعتمد على كتلة كل منهما والمسافة بينهما.

المفردات الجديدة

- القوة
- الاحتكاك
- قوانين الحركة لنيوتن
- الفصول الذاتي

الشكل ٦ بعد قذف الكرة تتبع مساراً منحنياً نحو الأرض.

فسر كيف يبين هذا المسار المنحني تسارع الكرة؟

يدل التغيير في الاتجاه على تسارع الكرة

الشكل ٧ عندما تؤثر مجموعة من القوى في جسم ما فإن القوى تكوّن قوة محصلة.



عندما تؤثر قوتان في الاتجاه نفسه في جسم ما فإن القوة المحصلة تساوي مجموعهما.



إذا أثرت قوتان متساويتان في جسم ما في اتجاهين متعاكسين فإن القوة المحصلة تساوي صفرًا.



إذا أثرت قوتان غير متساويتين في جسم في اتجاهين متعاكسين فإن القوة المحصلة تساوي الفرق بينهما، وتكون في اتجاه القوة الكبرى.



القوة ونبات البذور

لكي تنمو النبتة الصغيرة الضعيفة فإنّ عليها أن تؤثر بقوة كافية لدفع التربة التي فوقها. حيث تتمدد هذه الخلايا مولودة ضغطًا، وهذه القوة تنتج عن ضغط الماء الذي تمتصه خلايا النبتة التي تتمدد بدورها مولودة ضغطًا، قد يصل إلى ٢٠ ضعف الضغط الجوي. ابحث في بعض العوامل التي تؤثر في الإنبات، واكتب فقرة في دفتر العلوم تبين ما تعلمته عن ذلك.

جمع القوى إذا أثرت في الجسم أكثر من قوة فكيف تكون حركة هذا الجسم؟ للإجابة عن ذلك نوحّد هذه القوى في قوة واحدة تسمى القوة المحصلة، وهي التي تحدد حركة هذا الجسم. فكيف تتحد هذه القوى لتكوّن القوة المحصلة؟ إذا كانت القوى في الاتجاه نفسه فإنها تجمع، لتعطي القوة المحصلة، وإذا كانت قوتان متعاكستان في الاتجاه فإن القوة المحصلة تساوي الفرق بينهما، وتكون في اتجاه القوة الكبرى أو تساوي صفرًا إذا كانت القوتان المتعاكستان متساويتين الشكل ٧.

قوانين الحركة لنيوتن

كان إسحق نيوتن عام ١٦٦٥م قد حصل على شهادة البكالوريوس في كلية ترنتي بجامعة كامبردج. لكن الكلية أغلقت مؤقتًا خوفًا من وباء الطاعون الذي أخذ ينتشر في كل أنحاء أوروبا، مما اضطر نيوتن إلى العودة إلى الريف، حيث فرغ لمراقبة الطبيعة، والتفكير في أمورها ووقائعها، وإجراء التجارب البسيطة. وقد أثمر ذلك كثيرًا من الاكتشافات العلمية، من بينها اكتشاف قانون الجاذبية. ومن أعظم اكتشافاته توضيح أثر القوى في تغيير حالة حركة الأجسام؛ حيث أدرك أن بإمكانه تفسير الحركة من خلال مجموعة من المبادئ تعرف حاليًا بقوانين الحركة لنيوتن.

تجربة

تحديد الأوزان بوحدة النيوتن

الخطوات

1. قف على ميزان، وقس كتلتك بالكيلوجرام.
2. خذ كتابًا كبيرًا، وقف على الميزان ثانية، وقس الكتلة الكلية لك أنت والكتاب معًا.
3. كرر الخطوة 2 مستعملًا كرسيًا، ومقطعًا ثقيلاً، وجسمًا رابعًا تختاره أنت.

التحليل

1. اطرح كتلتك من كل من الكتل السابقة لحساب كتلة كل جسم بالكيلوجرام.
2. اضرب كتلة كل جسم بالكيلوجرام في 9,8 لحساب الوزن بالنيوتن.
3. احسب وزنك بالنيوتن.

القانون الأول لنيوتن

لو أنك دفعت كتابًا على سطح الطاولة أو على أرض الغرفة فإنه ينزلق ثم لا يلبث أن يتوقف. وكذلك لو ضربت كرة الجولف فإنها تصطدم بالأرض وتتدحرج ثم لا تلبث أن تتوقف. ويبدو أن أي جسم تحركه يتوقف بعد فترة. ربما تستنتج من ذلك أن الجسم لكي يستمر في حركته لابد من التأثير فيه بقوة وبصورة مستمرة. إن هذا الاستنتاج غير صحيح.

أدرك نيوتن، وقبله مجموعة من العلماء، أنه يمكن لجسم ما أن يكون متحركًا دون أن تؤثر فيه قوة محصلة. ينص القانون الأول لنيوتن على أن الجسم المتحرك لا يغير حركته ما لم تؤثر فيه قوة محصلة (قوة غير متزنة). ولذلك فإن جسمًا ساكنًا، ككتاب فوق الطاولة، سوف يستمر كذلك ما لم تؤثر فيه قوة تدفعه أو تسحبه.

إذا دفعت كتابًا على الطاولة فإنه ينزلق ثم يتوقف. لكن ماذا يحدث لو أن هناك جسمًا في حالة حركة، مثل كرة قذفها نحو شخص آخر؟ حسب قانون نيوتن فإنها تستمر في حركتها إلا إذا أثرت فيها قوة محصلة. وهذا يعني أن هناك قوة يجب أن تعمل لتزيد سرعة الكرة أو تبطئها أو تغير اتجاه حركتها. أي أن الكرة المتحركة في الشكل 8 سوف تستمر في حركتها في خط مستقيم وبسرعة ثابتة ما لم تؤثر فيها قوة أو قوى غير متزنة.

الاحتكاك ينزلق الكتاب على سطح الطاولة، بتباطؤ، ثم يتوقف. ووفقًا لقانون نيوتن الأول، وحيث إن حركة الكتاب تغيرت فلا بد من وجود قوة أدت إلى توقفه. تسمى هذه القوة الاحتكاك. الاحتكاك قوة ممانعة تنشأ بين سطوح الأجسام المتلامسة، وتقاوم حركة هذه السطوح بعضها بالنسبة لبعض. تؤثر قوة الاحتكاك دائمًا في عكس اتجاه الحركة، كما هو مبين في الشكل 9. ولتحافظ على حركة جسم في وجود الاحتكاك عليك أن تؤثر فيه دائمًا بقوة تتغلب على قوة الاحتكاك.

ماذا قرأت؟ في أي اتجاه تؤثر قوة الاحتكاك؟

معاكسًا لاتجاه الحركة



الشكل 8 بعد ضرب الكرة تتحرك على الأرض في خط مستقيم ما لم تؤثر فيها قوة خارجية.



الشكل ٩ ينتج الاحتكاك عن خشونة السطوح المتلامسة. تكبير الشكل بين ما يبدو عليه سطح الكتاب و سطح الطاولة لو كان باستطاعتك رؤية جزئياتها.

يعتمد مقدار قوة الاحتكاك على طبيعة السطحين المشتركين في الحركة. وكلما كانت الخشونة أكبر كان الاحتكاك أكبر. فلو دفعت صندوقاً على سطح من الجليد مثلاً فإنه يتحرك مسافة كبيرة قبل أن يتوقف، ولو دفعت الصندوق نفسه بقوة مساوية على سطح أملس لكنه أقل نعومة من الجليد فإنه يتحرك إلى مسافة أقل من الأولى. ولو كررت فعل ذلك على سطح سجادة خشنة فستجد أن الصندوق يكاد لا يتحرك.

القصور الذاتي والكتلة لا بد أنك لاحظت الصعوبة التي تواجهك عند

الشكل ١٠ العربية لها قصور ذاتي يُقاوم تحريكها عندما تدفعها. قارن بين القصور الذاتي للعربة وهي فارغة، وقصورها الذاتي وهي تحمل جهاز العرض وباقي أغراضه.

القصور الذاتي للعربة وهي فارغة يكون أقل مما يسهل عملية تحريك العربة ويزداد القصور الذاتي للعربة وهي تحمل جهاز العرض وباقي أغراضه لأنه كلما ازدادت كتلة الجسم زاد قصوره الذاتي

تحريك جسم ثقيل عندما تحاول أن تتحركه بينما يسهل عليك تحريك جسم ثقيل متحرك في هذه الحالات، ومن ثم

إحداث تغيير في حالة حركته. هذا الميل إلى مقاومة إحداث تغيير في حركة الجسم يسمى **القصور الذاتي**. بناءً على الخبرة العملية فإن تحريك أو إيقاف جسم ثقيل أصعب من إيقاف جسم خفيف؛ فكلما احتوى الجسم على مادة أكثر صار إحداث تغيير في حركته أصعب. وكتلة الجسم مقدار المادة الموجودة فيه. ولذلك كلما زادت كتلة الجسم زاد قصوره الذاتي. أي أن القصور الذاتي يتناسب مع الكتلة.



تجربة عملية قانون نيوتن الأول في الحركة
اربع إلى كراسة التجارب العملية على منصة عين



القانون الثاني لنيوتن

حسب القانون الأول لنيوتن فإن التغيير في حركة جسم لا يحدث إلا إذا أثرت في الجسم قوة محصلة. لكن القانون الثاني لنيوتن يخبرنا كيف تعمل القوة المحصلة هذه على تغيير حركة الجسم؛ إن القوة المحصلة تغير السرعة المتجهة للجسم وتؤدي إلى تسارعه. ينص القانون الثاني لنيوتن على أنه إذا أثرت قوة محصلة في جسم ما فإن تسارع هذا الجسم يكون في اتجاه تلك القوة، وهذا التسارع يساوي ناتج قسمة القوة المحصلة على كتلة الجسم.

المعطيات:

الكتلة: ك = ٨٠ كجم

القوة: ق_م = ٨٠ نيوتن

المطلوب: التسارع ت = ؟ م / ث^٢

طريقة الحل:

بالتعويض بقيم القوة والكتلة في معادلة التسارع

$$ت = ق_{م} / ك = ٨٠ / ٨٠ = ١ نيوتن / كجم = ١ م / ث^٢$$

المعطيات:

الكتلة: ك = ٢٠ كجم

القوة: ق_م = ٤٠ نيوتن

المطلوب: التسارع ت = ؟ م / ث^٢

طريقة الحل:

بالتعويض بقيم القوة والكتلة في معادلة التسارع

$$ت = ق_{م} / ك = ٤٠ / ٢٠ = ٢ م / ث^٢$$

تطبيق الرياضيات

تسارع كرة سلة إذا أثرت قوة مقدارها ١٠ نيوتن في كرة سلة كتلتها ٥,٥ كجم فما تسارع الكرة؟

الحل

١ المعطيات

الكتلة: ك = ٥,٥ كجم

القوة المحصلة: ق_م = ١٠ نيوتن

٢ المطلوب

التسارع: ت = ؟ م / ث^٢

٣ طريقة الحل

عوض بقيم الكميات المعلومة في معادلة التسارع:

$$ت = ق_{م} / ك = ١٠ نيوتن / ٥,٥ كجم = ٢ م / ث^٢$$

٤ التحقق من الحل

اضرب الجواب في كتلة الكرة. يجب أن تحصل على القوة المعطاة.

مسائل تدريبية

١. إذا دفعت صندوقاً كتلته ٢٠ كجم بقوة ٤٠ نيوتن فما تسارع الصندوق؟

٢. احسب تسارع عداء كتلته ٨٠ كجم إذا انطلق تحت تأثير قوة دفع مقدارها ٨٠ نيوتن.



الكتلة والتسارع عندما تؤثر قوة محصلة في جسم ما فإن تسارع هذا الجسم يعتمد على كتلته. وكلما كانت كتلة الجسم أكبر زاد قصوره الذاتي وزادت بذلك صعوبة إحداث تسارع في حركته. فإذا أثرت بقوة دفع في عربة تسوق فارغة وأثرت بالقوة نفسها في ثلاجة، فإن تسارع الثلاجة سيكون أقل كثيرًا من تسارع العربة انظر الشكل ١١. وهكذا كلما كانت الكتلة أكبر كان التسارع أقل إذا كانت القوة نفسها تؤثر في الأجسام المختلفة.



القانون الثالث لنيوتن

من السهل أن تدرك أنك عندما تستند إلى جدار فإنك تضغط عليه، ولكن قد تتفاجأ لو عرفت أن الجدار أيضا يضغط عليك. بناءً على القانون الثالث لنيوتن فإنه عندما يؤثر جسم ما بقوة في جسم آخر فإن الجسم الآخر يؤثر في الجسم الأول بقوة مساوية لها في المقدار ومعاكسة لها في الاتجاه. فمثلاً عندما تسير على الرصيف فإنك تدفع الرصيف بقوة نحو الخلف، لكن الرصيف أيضًا يدفعك بقوة مساوية ولكن نحو الأمام. القوة التي يؤثر بها الجسم الأول هي قوة

عند ثبوت القوة المؤثرة على جسمين فإن التسارع يعتمد

على الكتلة فكلما زادت الجسم زاد قصوره الذاتي وقل

التسارع ولذلك فإن تسارع السيارة التي كتلتها ٩٠٠ كجم أقل

من تسارع الدراجة الهوائية التي كتلتها ١٢ كجم

الشكل ١١ يعتمد تسارع أي جسم على كل من: القوة المحصلة المؤثرة فيه، وكتلته.

قارن بين تسارع سيارة كتلتها ٩٠٠ كجم ودراجة هوائية كتلتها ١٢ كجم، إذا أثرت في كل منهما قوة مقدارها ٢٠٠٠ نيوتن.

الشكل ١٢ عندما يضغط السباح بقوة على جدار حوض السباحة فإن الجدار يدفعه بقوة معاكسة له في الاتجاه ومساوية لقوته في المقدار.

الفعل، بينما قوة الفعل التي المقدار وتؤثر قواين

لماذا لا تلغي قوتا الفعل ورد الفعل إحداها الأخرى؟

ماذا قرأت؟

قوتا الفعل ورد الفعل متساويتين في المقدار ومتضادتين في الاتجاه لكن كل منهما تؤثر في جسم مختلف



العلاقة بين قوانين نيوتن ورحلات الفضاء

الشكل ١٣

وبحسب القانون الثالث لنيوتن فإن لكل قوة فعل قوة رد فعل مساوية في المقدار ومعاكس له في الاتجاه. إن إطلاق مكوك الفضاء يوضح القانون الثالث. احتراق الوقود في الصاروخ يولد الغازات. يعمل الصاروخ على دفع هذه الغازات للتخلص منها عند فتحة أسفل الصاروخ. قوة رد الفعل تولدها هذه الغازات، وتؤثر في الصاروخ نحو الأعلى.

يفسر القانون الثاني لنيوتن لماذا يبقى المكوك في مساره. فقوة جذب الأرض على المكوك تؤدي إلى تسارعه. وهذا يؤدي إلى تغيير اتجاه حركة المكوك بحيث يظل يدور حول الأرض.

قوانين نيوتن للحركة شاملة فهي تنطبق على الفضاء الخارجي كما تنطبق على الأرض. وتساعد هذه القوانين في تصميم مركبات الفضاء من خلال استنتاج مساراتها عندما تطلق في تلك المسارات حول الأرض والمناطق البعيدة. إليك بعض الأمثلة على تأثير قوانين نيوتن في رحلات المكوك الفضائي.



وتبعاً للقانون الأول لنيوتن فإن حركة الجسم تتغير فقط إذا أثرت فيه قوة محصلة خارجية. فرائد الفضاء يدور حول الأرض مع المكوك. فلو دفع الرائد المكوك بقوة فإن المكوك بدوره سوف يدفع رائد الفضاء بقوة أيضاً. وتبعاً للقانون الأول فإن هذا سوف يؤدي إلى ابتعاد رائد الفضاء عن المكوك.

لا، لأنه لو تحركت السيارة بسرعة ثابتة فسوف تنعطف في حركتها والانعطاف يعطي نوعاً من التسارع وهذا يعني أن هناك قوة محصلة تؤثر في السيارة

القوة المحصلة ٤ نيوتن في اتجاه اليمين

كلما كانت كتلة الجسم كبيرة كلما زاد قصوره الذاتي

١. اشرح العلاقة بين القصور الذاتي لجسم وكتلته.

٢. اطبق إذا أثرت قوة مقدارها ٥ نيوتن في جسم نحو اليسار وقوة أخرى مقدارها ٩ نيوتن نحو اليمين، فما القوة المحصلة؟

٣. استنتج إذا كانت سيارة تتحرك بسرعة ثابتة المقدار، فهل يلزم أن تكون واقعة تحت تأثير قوى متزنة؟

٤. التفكير الناقد ينزل كتاب على سطح طاولة، بحيث تقل سرعته تدريجياً حتى يتوقف. فسر ما إذا كان ذلك يشكل تناقضاً مع القانون الأول لنيوتن في الحركة أم لا؟

تطبيق الرياضيات

٥. احسب القوة المحصلة المؤثرة في كرة كتلتها ١٥ كجم وتسارعها ٢٠ م/ث^٢؟

المعطيات:

الكتلة: $k = ١٥$ كجم

التسارع: $t = ٢٠$ م / ث^٢

المطلوب:

القوة: $ق = ٢$ نيوتن

طريقة الحل: باستخدام معادلة التسارع يمكن حساب القوة المؤثرة

$$ت = ق / ك$$

$$ق = ت * ك$$

$$ق = ٢٠ * ١٥ = ٣٠٠ \text{ نيوتن}$$

مراجعة

الخلاصة

القوة

- القوة دفع أو سحب.
- القوة المحصلة هي اتحاد لجميع القوى المؤثرة

لا، لأن قوة الاحتكاك مع الطاولة تعمل على إبطاء الكتاب ثم إيقافه

الحالة الحركية للجسم لا تتغير ما لم تؤثر فيه قوة.

- ينص قانون نيوتن الثاني في الحركة على أن الجسم يتسارع في اتجاه القوة المحصلة المؤثرة فيه، ويمكن حساب تسارعه من المعادلة:

$$ت = ق / ك$$

- ينص قانون نيوتن الثالث في الحركة على أنه عندما يؤثر جسم بقوة في جسم آخر فإن الأخير يؤثر في الأول بقوة مساوية في المقدار ومعاكسة في الاتجاه.



الشغل والآلات البسيطة

فيم هذا الدرس

الأهداف

- تعرف المقصود بالشغل.
- تميز بين أنواع مختلفة من الآلات البسيطة.
- توضح كيف تقلل الآلات البسيطة الجهد المبذول.

الأهمية

تسهل الآلات البسيطة الشغل المبذول.

مراجعة المفردات

نصف القطر المسافة بين مركز الدائرة وأي نقطة على محيطها.

المفردات الجديدة

- الشغل
- الآلة المركبة
- الآلة البسيطة
- الفائدة الآلية

الشغل

تفسر قوانين نيوتن في الحركة كيف تغير القوى من حالة حركة الجسم. فأنت إذا أثرت بقوة في الصندوق، كما هو مبين في الشكل ١٤، فسوف يتحرك إلى أعلى. فهل يعني ذلك أنك بذلت شغلاً على الصندوق؟ عندما تفكر في الشغل ربما يتبادر إلى ذهنك الأعمال المنزلية الروتينية. أما في العلوم فإن تعريف الشغل أكثر تحديداً. يُبذل **الشغل** عندما تؤدي القوة المؤثرة في جسم إلى تحريك الجسم في اتجاه القوة المؤثرة نفسه.

الجهد لا يساوي الشغل دائماً إذا ضغطت على جدار فهل تبذل شغلاً؟ تذكر أنه لبذل شغل لا بد من توافر شرطين. أولاً، يجب أن تؤثر بقوة في الجسم. ثانياً، يجب أن يتحرك الجسم في اتجاه القوة المؤثرة. إذا لم يتحرك الجدار فليس هناك شغل مبذول. تخيل نفسك ترفع الصندوق في الشكل ١٤، إن يديك تؤثران بقوة إلى أعلى لرفع الصندوق، ويتحرك الصندوق إلى أعلى في اتجاه القوة، لذا فأنت بذلت شغلاً. ولكن إذا تحركت إلى الأمام وأنت تحمل الصندوق، فإنك سوف تبقى تشعر بأن ذراعيك تؤثران بقوة للأعلى على الصندوق. ولكن الصندوق يتحرك إلى الأمام. ولأن اتجاه الحركة ليس بنفس اتجاه القوة المؤثرة من ذراعيك على الصندوق فإن ذراعيك لا يبذلان شغلاً.

الشكل ١٤ يُبذل شغل فقط عندما يتحرك الجسم في اتجاه القوة المؤثرة فيه.

أنت تبذل شغلاً عند رفعك
الصندوق إلى أعلى لأن
الصندوق يتحرك إلى أعلى.



بالرغم من حركة الصندوق إلى الأمام فإن ذراعيك لا تبذلان شغلاً لأنهما تؤثران بقوة إلى أعلى.



العضلات والشغل

رغم أن الجدار لا يتحرك عندما تضغط عليه، لكنك تشعر

حساب الشغل

لبذل شغل يجب أن تؤثر قوة ويتحرك الجسم في اتجاه القوة نفسها. وكلما كانت القوة أكبر زاد الشغل المبذول. أي العمليين يلزمه شغل أكثر؛ رفع الحذاء من الأرض إلى ارتفاع خصرك، أم رفع كومة من الكتب من الأرض إلى الارتفاع نفسه؟

رغم أن الحذاء وكومة الكتب تحركا المسافة نفسها إلا أن القوة اللازمة لرفع الكتب أكبر. ولذلك، يلزم بذل شغل أكبر. ويمكن

المعطيات:

المسافة: ف = ١٠٠ متر

القوة: ق = ٥٠ نيوتن

المطلوب: الشغل: ش = ؟ جول

طريقة الحل: بالتعويض في معادلة الشغل

الشغل = ق (نيوتن) * ف (المتر) = ٥٠ * ١٠ = ٥٠٠ جول

المعطيات:

المسافة: ف = ٢٠٠ متر

القوة: ق = ٦ نيوتن

المطلوب: الشغل: ش = ؟ جول

طريقة الحل: بالتعويض في معادلة الشغل

الشغل = ق (نيوتن) * ف (المتر) = ٦ * ٢٠٠ = ١٢٠٠ جول

حل معادلة بسيطة

رفع الأثقال رفع رافع أثقال وزناً مقداره ٥٠٠ نيوتن مسافة ٢ م من الأرض إلى موقع أعلى من رأسه. احسب الشغل الذي بذله.

الحل

١ المعطيات

القوة: ق = ٥٠٠ نيوتن

المسافة: ف = ٢ م

٢ المطلوب

الشغل: ش = ؟ جول

٣ طريقة الحل

عوض بالقيم المعلومة للقوة والمسافة في معادلة الشغل

ش = ق * ف = ٥٠٠ نيوتن * ٢ م

ش = ١٠٠٠ جول

٤ التحقق من الحل

اقسم الإجابة على المسافة، سوف تنتج القوة المعطاة.

مسائل تدريبية

١. إذا دفعت عربة حاسوب مسافة ١٠ أمتار بقوة أفقية مقدارها ٥٠ نيوتن، فما مقدار الشغل الذي تبذله؟
٢. ما مقدار الشغل الذي يبذله متسابق أولمبي أثناء ركضه مسافة ٢٠٠ متر بقوة ٦ نيوتن؟

يقاس الشغل بوحدته الجول (J)، نسبة إلى العالم البريطاني جيمس بريسكوت جول الذي بين أن الشغل والطاقة مرتبطان.

قد يساعدك على تكوين تصور عن قيمة الجول أن تعلم أنه لرفع ثمرة خوخ كبيرة من الأرض إلى ارتفاع خصرك يلزم بذل ١ جول من الشغل تقريبًا.

ما الآلة؟

كم آلة استعملت اليوم؟ وفيما استعملتها؟

الآلة أداة تسهل أداء العمل. مفتاح العلب المبين في الشكل ١٥ آلة تحول القوة الصغيرة إلى قوة أكبر، وبذلك يسهل فتح العلبة. الآلة البسيطة هي التي تتطلب حركة واحدة فقط. مفك البراغي مثال على الآلة البسيطة؛ فهو يعمل بحركة دائرية. ومن الآلات البسيطة: البكرة، والرافعة (العتلة)، والعجلة والمحور، والسطح المائل، والإسفين والبرغي. أما الآلة المركبة فتتكوّن من مجموعة من الآلات البسيطة، ومنها مفتاح العلب. تسهل الآلات البسيطة الشغل بإحدى الطرائق التالية: تغيير مقدار القوة، أو تغيير اتجاه القوة، أو كليهما معًا.

الفائدة الآلية نقول إن الآلات مفيدة؛ لأنها تقوم بمضاعفة أثر القوى المبذولة. وتعرف النسبة التي تضاعف بها الآلة أثر القوة المؤثرة بـ **الفائدة الآلية**. عندما تضغط على مقبض مفتاح العلب فإنك تؤثر فيه بقوة تسمى القوة المبذولة ويغير مفتاح العلب هذه القوة إلى قوة أخرى تؤثر في النصل الذي يقطع غطاء العلبة، وتسمى هذه القوة الناتجة. ويمكن إيجاد الفائدة الآلية بقسمة القوة الناتجة على القوة المبذولة.

معادلة الفائدة الآلية

$$\text{الفائدة الآلية} = \frac{\text{القوة الناتجة}}{\text{القوة المبذولة}}$$

ماذا قرأت؟ كيف تجعل الآلات البسيطة الشغل أسهل؟

إما بتغيير مقدار القوة أو تغيير اتجاه القوة أو كليهما معًا



الشكل ١٥ مفتاح العلب يحول القوة الصغيرة من يدك إلى قوة كبيرة على النصل الذي يقطع غطاء العلبة.

العلوم

عبر المواقع الإلكترونية

الآلات القديمة

ارجع إلى المواقع الإلكترونية عبر شبكة الإنترنت

نشاط اكتب قصة تقع أحداثها في القرن التاسع عشر استخدم فيها شخصيات القصة ثلاث آلات قديمة. وبيّن كيف تسهل الآلات العمل.

البكرة

لرفع ستارة نافذة فإنك تشد حبلًا للأسفل يمر خلال بكرة تغير اتجاه القوة. فالبكرة عجلة بها تجويف في وسط إطارها يمكن أن يمر خلاله حبل. تغير البكرة اتجاه القوة المبدولة. فالبكرة البسيطة المبيّنة في الشكل ١٦ تغير اتجاه القوة فقط وليس مقدارها، لذا فالفائدة الآلية لها تعادل ١.

يمكن الحصول على فائدة آلية أكبر إذا استخدمنا أكثر من بكرة واحدة. نظام البكرتين المبيّن في الشكل ١٦ فائدته الآلية تساوي ٢.

كل حبل من حبال الحمل يحمل نصف الوزن المعلق. ولذلك تكون القوة المبدولة مساوية لنصف وزن الثقل المرفوع. وهكذا، تكون الفائدة الآلية ضعف الفائدة الآلية للبكرة الواحدة. لاحظ أنه في هذه الحالة حصلنا على قوة مقدارها ١٠٠ نيوتن (٥٠ نيوتن + ٥٠ نيوتن) لرفع الصندوق وذلك بالتأثير في الحبل الحر بقوة مقدارها ٥٠ نيوتن فقط.



البكرة الواحدة تغير اتجاه القوة المبدولة

مجموعة البكرات تقلل القوة المبدولة، وبذلك تكون الفائدة الآلية أكبر من

من غير الممكن تقريباً منع سحب العصوين معاً

تجربة

ملاحظة الفائدة الآلية للبكرات

الخطوات

١. اربط حبلًا طوله ٣ أمتار في منتصف عصا مكنسة أو وتد، وأمسك هذه العصا أفقيًا. اطلب إلى زميلك أن يمسك عصا أخرى أفقيًا. لف الحبل حول كلا العصوين أربع مرات مع المحافظة على مسافة بين العصوين مقدارها نصف متر.

٢. يسحب طالب ثالث الحبل بينما يحاول زميلاه إبقاء العصوين على البعد نفسه.

٣. لاحظ ما يحدث. كرر التجربة بلف الحبل لفتين ثم ثماني لفات.

التحليل

١. صف ما شاهدت. هل استطاع الطالبان الإبقاء على العصوين متباعدين؟

٢. قارن النتائج في حالة لف الحبل لفتين ثم أربعًا، ثم ثماني لفات حول العصوين.

كلما زاد عدد لفات الحبل حول العصوين كان منع سحبهما معاً أصعب



الشكل ١٧ تصنف الرافعة (العتلة)

تبعاً لموضع كل من القوة المبذولة والقوة الناتجة ونقطة الارتكاز.

الرافعة (العتلة)

من المحتمل أن تكون الرافعة أول آلة بسيطة اخترعها الإنسان. و الرافعة قضيب أو لوح يركز على نقطة ثابتة تسمى نقطة الارتكاز. تعمل الرافع على زيادة القوة أو زيادة المسافة التي تؤثر خلالها القوة. وكما هو موضح في الشكل ١٧، فالروافع تنقسم إلى ثلاثة أنواع، بناءً على موضع تأثير القوة المبذولة، والقوة الناتجة، ونقطة الارتكاز. ففي النوع الأول تكون نقطة الارتكاز بين القوة المبذولة والقوة الناتجة، ويستعمل النوع الأول عادة لزيادة القوة، كما هو الحال في المفك المستخدم لرفع غطاء. أما إذا وقعت القوة الناتجة بين القوة المبذولة وبين نقطة الارتكاز- كما في عربة اليد- فتكون الرافعة من النوع الثاني، وتكون القوة الناتجة دائماً أكبر من القوة المبذولة. وفي النوع الثالث تكون القوة المبذولة بين نقطة الارتكاز والقوة الناتجة. والفائدة الآلية للنوع الثالث تكون دائماً أقل من واحد، ففي النوع الثالث تزيد المسافة التي تؤثر خلالها القوة، كما في الملقط.



الشكل ١٨ نصف قطر العجلة أكبر من نصف قطر المحور. ولذلك تكون الفائدة الآلية للعجلة والمحور أكبر من واحد.


العجلة والمحور حاول إدارة مقبض دائري من قاعدته الضيقة القريبة من الباب، ثم كرر المحاولة من رأسه العريض. ستجد أن إدارته من رأسه العريض أسهل. مقبض الباب مثال على العجلة والمحور. انظر الشكل ١٨. يتكون هذا النظام من جسمين مثبتين معاً ويدوران حول المحور نفسه. الجزء الأكبر يسمى العجلة بينما الأصغر يسمى المحور. تحسب الفائدة الآلية لهذا النظام بقسمة نصف قطر العجلة على نصف قطر المحور، وتكون دائماً أكبر من واحد.

ماذا قرأت؟ كيف تسهل كل من الرافعة، والبكرة، والعجلة والمحور، العمل؟

الرافعة: تضخم القوة المبذولة أو تزيد المسافة التي تؤثر خلالها القوة وهي في الحالتين تزيد من مقدار الشغل
البكرة: تغيير اتجاه القوة المبذولة ويمكن أن تزيدها
العجلة والمحور: تزيد من القوة المبذولة وتغير من اتجاهها أيضاً

اللازم بذله ثابت في الحالتين لذلك يلزمك التأثير بقوة أقل في حالة استخدام السطح المائل. تحسب الفائدة الآلية في هذه الحالة بقسمة طول السطح المائل على ارتفاعه. وكلما زاد طول السطح المائل قلت القوة التي نحتاج إليها لتحريك الجسم. ويعتقد علماء الآثار أن قدماء المصريين قد استعملوا السطوح المائلة لبناء الأهرامات.

الشكل ١٩ تحميل هذه العربة في الشاحنة أسهل باستعمال السطح المائل. وبالرغم من دفع العربة مسافة أطول فإنه يلزم قوة أقل.





هذه الأسنان لها شكل أسافين
لتمكن المفترسات من تمزيق
اللحوم.

الشكل ٢٠ لكل من آكلات الأعشاب وآكلات
اللحوم أسنان مختلفة.



أسنان آكلات الأعشاب مفلطحة
وتستخدم في الطحن.



الإسفين هو سطح مائل متحرك له
وجه واحد أو وجهان مائلان.
فأسنانك الأمامية أسافين. والإسفين
يغير اتجاه القوة المبذولة.

**فمثلاً عندما تدفع بأسنانك الأمامية في التفاحة تتغير قوة الدفع جانبياً
لتزيح قشرة التفاحة. وتعدّ السكاكين والفؤوس أسافين تستخدم للقطع.**

يبين الشكل ٢٠ أن أسنان آكلات اللحوم تتخذ شكل الأسافين أكثر مما هي
لدى آكلات الأعشاب؛ فأسنان آكلات اللحوم تقطع وتمزق اللحم، بينما آكلات
الأعشاب تعمل على طحن المادة النباتية. يستطيع العلماء تحديد ما كان يأكله
الحيوان المتحجر بفحص أسنانه. قال تعالى: ﴿ **إِنَّا كَلَّمْنَاهُ بِقَدْرِ ۝٢٠** ﴾
القمر.

البرغي عند الصعود إلى قمة جبل عالٍ فإننا نسلك طريقاً ملتصقاً حول الجبل؛
لأن هذا الطريق يكون أقل انحداراً من الطريق المستقيم الممتد رأسيّاً من أسفل
الجبل إلى قمته، مما يسهّل تسلّقه على الرغم من زيادة مقدار المسافة التي تقطعها
لصعوده، ويشبه هذا الطريق الجبلي البرغي. وهو عبارة عن سطح مائل تمثله حوز
أو انحناءات البرغي الملتفة حول عمود شبه أسطواناني الشكل، مدب من أحد طرفيه
وعريض من الجهة الأخرى. والبرغي يغير اتجاه القوة المبذولة كما هو الحال في
الإسفين. فعند تدوير البرغي فإن أسنان البرغي تغير اتجاه القوة المبذولة بحيث
تدفع البرغي داخل المادة. والاحتكاك بين أسنان اللولب والمادة يثبت البرغي بقوة
في مكانه.



الشكل ٢١

لأن الاحتكاك يحول بعض الشغل المبذول إلى الحرارة ولا تشارك في إنجاز الشغل

العجلة والمحور هما في الواقع رافعة تدور ٣٦٠ درجة حول محور ثابت ويمكن أن تؤثر القوة المبذولة أو تتولد القوة الناتجة في أي نقطة على نصف قطر العجلة أو المحور

زيادة القوة المؤثرة وكذلك زيادة المسافة التي تؤثر خلالها وتغيير اتجاه القوة

الخلاصة

الشغل

• ينجز الشغل عندما يتحرك جسم في نفس

الذراع والساق وكلاهما من النوع الثالث للرافع

• يحسب الشغل باستخدام المعادلة الآتية:

$$ش = ق \times ف$$

الآلات البسيطة

• الآلة أداة تسهل العمل.

• هناك ستة أنواع من الآلات البسيطة، هي:

١. صف ثلاث طرائق تبين أن استخدام الآلة يسهل العمل.
٢. فسر لماذا يكون الشغل الناتج أقل من الشغل المبذول في الآلات؟
٣. قارن بين العجلة والمحور وبين الرافعة.
٤. التفكير الناقد حدد جزأين من جسمك يعملان بوصفهما رافعتين. إلى أي أنواع الرافع ينتمي كل منهما؟

تطبيق الرياضيات

٥. احسب الشغل اللازم لرفع حجر جيري يزن ١٠٠٠٠ نيوتن مسافة ١٥٠ متراً.
٦. احسب القوة المؤثرة اللازمة لرفع حجر وزنه ٢٥٠٠ نيوتن باستخدام نظام بكرات فائدته الآلية ١٠.

المعطيات:

المسافة: ف = ١٥٠ متر

الوزن (القوة): ق = ١٠٠٠٠ نيوتن

المطلوب: الشغل: ش = ؟ جول

طريقة الحل: بالتعويض في معادلة الشغل

$$ش = ق * ف = ١٠٠٠٠ * ١٥٠ = ١٥٠٠٠٠٠ جول$$

المعطيات:

الفائدة الآلية = ١٠

القوة الناتجة = ٢٥٠٠ نيوتن

المطلوب: القوة المؤثرة = ؟ نيوتن

طريقة الحل: باستخدام معادلة الفائدة الآلية يمكن

حساب القوة المؤثرة

الفائدة الآلية = القوة الناتجة / القوة المؤثرة

القوة المؤثرة = القوة الناتجة / الفائدة الآلية

$$القوة المؤثرة = ٢٥٠٠ / ١٠ = ٢٥٠ نيوتن$$

وسائل السفر

سؤال من واقع الحياة



ما الزمن الذي تستغرقه في الوصول إلى الجانب الآخر من المدينة؟ وكم تستغرق لكي تصل إلى الجانب الآخر من البلد؟ إذا كنت تخطط للسفر لأداء العمرة من مدينة الرياض إلى مكة المكرمة، فكم تستغرق الرحلة؟ وكيف يتغير زمن الرحلة إذا ذهبت بواسطة الطائرة؟ عند التخطيط لرحلة أو إجازة من المفيد أولاً تقدير الزمن الذي

يستغرقه سفرك. وهذا يتوقف على وسيلة المواصلات التي تستقلها، ومدى السرعة التي تسافر بها، وبالطريق التي تسلكها، ويتعلق كذلك بطبيعة سطح الأرض؛ فالسفر عبر الجبال الوعرة يستغرق زمناً أكبر منه في الأراضي المنبسطة. في ضوء هذه المعلومات يمكنك وضع خطة لرحلتك؛ بحيث تصل في الوقت المحدد. كوّن فرضية حول أسرع أشكال السفر.

الأهداف

- تبحث في الزمن الذي يستغرقه السفر.
- تقارن بين المدة الزمنية التي تستغرقها وسائل السفر المختلفة.
- تقوم أسرع وسيلة للسفر بين موقعين.
- تصمم جدولاً لعرض النتائج التي توصلت إليها، وتناقشها مع الطلاب الآخرين.

مصدر البيانات

ارجع إلى المواقع الإلكترونية عبر شبكة الإنترنت لمعرفة المزيد من المعلومات عن المدة الزمنية التي تستغرقها وسائل السفر، وطرائقه، والمسافات بين المواقع، وغيرها من المواضيع التي يطرحتها الطلاب للبحث.

تصميم الخطة

١. اختر نقطة البداية والوجهة النهائية.
٢. حدّد مسارات واتجاهات السفر الشائعة الاستخدام بين هذين الموقعين.



استخدام الطرائق العلمية



٣. حدّد وسائل النقل الشائعة الاستخدام للتنقل بين هذين الموقعين.

٤. ابحث في كيفية تقدير زمن السفر، وفي العوامل التي تزيد أو تقلل من زمن رحلتك.

تنفيذ الخطة

١. تأكد من موافقة معلمك على خطتك قبل أن تبدأ العمل.

٢. احسب المسافة بين الموقعين والزمن الذي يستغرقه السفر بينهما لكل وسيلة نقل متاحة.

٣. سجل بياناتك في دفتر العلوم.

تحليل البيانات

١. حلّل البيانات التي دونتها في دفتر العلوم لتحديد أسرع وسيلة سفر. هل كان من الأفضل استخدام وسيلة سفر برية أم جوية؟ وهل بحثت عن وسائل أخرى للسفر؟

٢. احسب متوسط سرعة وسائل السفر التي بحثت فيها. أيها كانت أسرع وأيها أبطأ؟

٣. نظم البيانات باستخدام الحاسوب (سواء في المنزل، أو المكتبة، أو مختبر الحاسوب) لعمل رسم بياني يقارن بين أزمان السفر، ومتوسط السرعات، ومسافات وسائل السفر المختلفة، مستخدمًا رسمك البياني لتحديد أسرع وسيلة سفر. ما العوامل الأخرى التي تؤثر في اختيارك وسيلة السفر؟

الاستنتاج والتطبيق

١. قارن نتائجك بنتائج زملائك، ما أكبر مسافة سفر تم البحث فيها؟ وما أقصر مسافة؟

٢. اكتسب النتائج ما العوامل التي تؤثر في الزمن الذي تستغرقه وسائل السفر المختلفة؟ وكيف يختلف زمن رحلتك إذا لم تتوافر رحلة طيران مباشرة بين الموقعين؟

٣. استنتج إذا اشتملت رحلتك أو جزء منها على السفر بالطائرة فكيف يؤثر متوسط سرعة الطائرة، والزمن الذي تستغرقه للتنقل من المطار وإليه، وفترة الانتظار في إجمالي الوقت اللازم للسفر؟

بياناتك

استخدم بياناتك وبيانات الطلاب الآخرين في عمل كتيب سفر تُضمّنهُ المدة الزمنية اللازمة للسفر إلى مواقع مختلفة حول العالم.

حقائق حول السرعة

هل تعلم أن..



أسرع مخلوق على وجه الأرض هو الصقر القطامي (الشاهين) فهو ينقض على فريسته بسرعة تتجاوز ٣٠٠ كم/ساعة، حيث تمكنه هذه السرعة الهائلة من اصطيد فرائسه التي عادة ما تكون من الطيور الأخرى.

الطائرة التي تفوق سرعتها سرعة الصوت هي أسرع وسيلة لنقل الركاب؛ إذ تبلغ سرعتها ضعفي سرعة الصوت، وعندما تطير بسرعتها القصوى التي تبلغ ٢١٥٠ كم/ساعة، فإنها تقطع المسافة بين مدينتي نيويورك ولندن -٥٦٠٠ كم تقريباً- خلال ساعتين و٥٥ دقيقة و٤٥ ثانية.

تطبيق الرياضيات ما الزمن الذي يستغرقه الصقر القطامي لقطع المسافة بين مدينتي نيويورك ولندن إذا طار بسرعة ثابتة تساوي سرعته القصوى؟



أسرع مخلوق على اليابسة هو الفهد؛ فسرعة هذا القط الضخم الوثاب يمكن أن تتجاوز ١٠٠ كم/ساعة، وهي السرعة التي غالباً ما تتحرك بها السيارات على الطرق السريعة غير أن الفهد لا يستطيع أن يحافظ على سرعته القصوى إلا لبضع مئات من الأمتار فقط.

ارسم شكلاً بيانياً

ابحث في المواقع الإلكترونية عن سرعات أربعة أو خمسة حيوانات برية، ثم دون سرعاتها القصوى وارسم شكلاً بيانياً بالأعمدة يوضح البيانات التي حصلت عليها.

مراجعة الأفكار الرئيسية

٣. ينص القانون الثالث لنيوتن على أن لكل قوة فعل قوة رد فعل تساويها في المقدار وتعاكسها في الاتجاه.

الدرس الثالث الشغل والآلات البسيطة

١. الشغل يساوي القوة المؤثرة مضروبة في المسافة التي تؤثر خلالها القوة: ش = ق ف

٢. الآلة عبارة عن أداة تسهل العمل، وتعمل الآلة على زيادة القوة أو المسافة أو تغيير اتجاه القوة المؤثرة.

٣. الفائدة الآلية تساوي القوة الناتجة مقسومة على القوة المبذولة.

٤. هناك ستة أنواع من الآلات، هي: الرافعة، والبكرة، والعجلة والمحور، والسطح المائل، والإسفين، والبرغي.

الدرس الأول الحركة

١. السرعة المتوسطة هي المسافة المقطوعة مقسومة على الزمن: $ع = \frac{ف}{ز}$

٢. عندما تتغير سرعة الجسم أو اتجاه حركته أو كلاهما يكون الجسم في حالة تسارع.

٣. يمكن حساب التسارع بقسمة التغير في السرعة على الزمن.

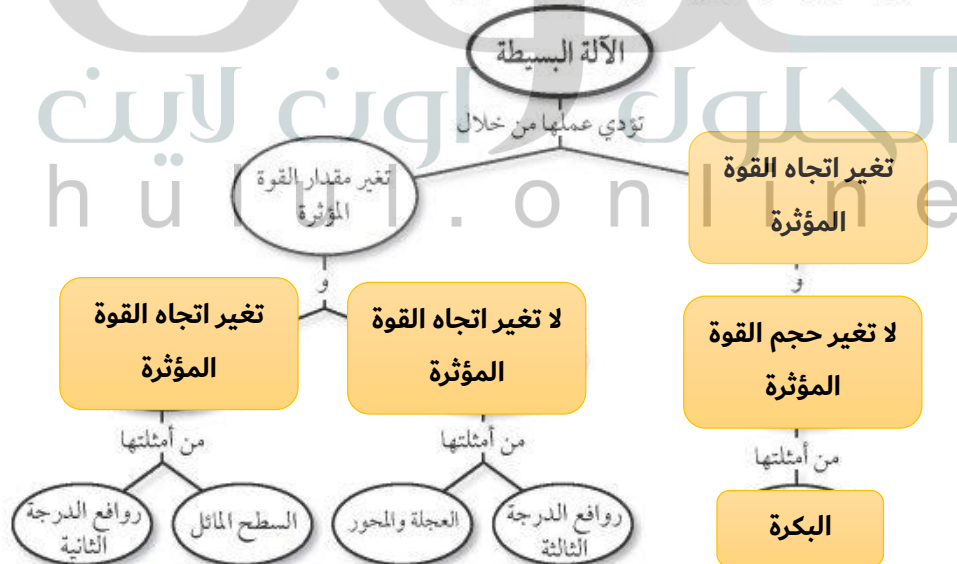
الدرس الثاني قوانين نيوتن للحركة

١. ينص القانون الأول لنيوتن على أن الجسم الساكن يبقى ساكناً، والجسم المتحرك بسرعة ثابتة يبقى كذلك ما لم تؤثر فيه قوة محصلة.

٢. بناء على القانون الثاني لنيوتن يُعطى التسارع بالعلاقة التالية: $ت = \frac{ف}{ك}$

تصور الأفكار الرئيسية

انسخ خريطة المفاهيم التالية وأكملها لتوضح المفاهيم المرتبطة بالآلة البسيطة.



يحدث الشغل عندما تؤدي قوة ما إلى تحريك جسم
باتجاه تأثير ذات القوة



التسارع هو تغير السرعة مع الزمن

الآلة البسيطة تعتمد على نوع واحد من الحركة تجعل
الشغل أسهل بتغيير مقدار القوة أو اتجاهها

كلما كان الجسم له كتلة أكبر كلما كان قصوره الذاتي
أكبر كلما احتاج إلى قوة أكبر لتحريكه

قوانين نيوتن تفسر علاقة القوى بالحركة

وضح العلاقة بين كل مصطلحين فيما يلي:

الاحتكاك هي قوة تنشأ بين جسمين متلامسين وتعيق
الحركة

١. القصور الذاتي - القوة

٢. التسارع - السرعة

٣. الرافعة - البكرة

٤. القوة - الشغل

٥. الشغل - الآلة البسيطة

٦. قوانين نيوتن للحركة - القوة

٧. الاحتكاك - القوة

٨. القوة - الفائدة الآلية

٩. السرعة المتوسطة - السرعة اللحظية

١٠. الآلة البسيطة - الآلة المركبة

الفائدة الآلية هي ناتج قسمة القوة الناتجة على القوة
المبذولة

إذا تحرك الجسم بسرعة ثابتة فإن سرعته اللحظية
تساوي سرعته المتوسطة

١٤. شاحنة كبيرة تصدم سيارة صغيرة. أي العبارات

الآلة المركبة هي مجموعة من الآلات البسيطة

تثبيت المفاهيم

اختر الإجابة الصحيحة في كل مما يلي:

١١. أي مما يلي يقلل الاحتكاك؟

أ. السطوح الخشنة

ب. السطوح الملساء

ج. زيادة السرعة

د. زيادة مساحة السطح

١٦. أي مما يلي قوة؟

أ. القصور الذاتي

ب. التسارع

ج. السرعة

د. الاحتكاك



استخدام المفردات

وضح العلاقة بين كل مصطلحين فيما يلي:

١. القصور الذاتي - القوة

٢. التسارع - السرعة

٣. الرافعة - البكرة

٤. القوة - الشغل

٥. الشغل - الآلة البسيطة

٦. قوانين نيوتن للحركة - القوة

٧. الاحتكاك - القوة

٨. القوة - الفائدة الآلية

٩. السرعة المتوسطة - السرعة اللحظية

١٠. الآلة البسيطة - الآلة المركبة

تثبيت المفاهيم

اختر الإجابة الصحيحة في كل مما يلي:

١١. أي مما يلي يقلل الاحتكاك؟

أ. السطوح الخشنة

ب. السطوح الملساء

ج. زيادة السرعة

د. زيادة مساحة السطح

١٢. ماذا يحدث عندما تؤثر قوة محصلة في جسم؟

أ. يتسارع الجسم.

ب. يتحرك الجسم بسرعة ثابتة.

ج. يبقى الجسم في حالة سكون.

د. تزداد قوة الاحتكاك.

١٣. أي مما يلي مثال على الآلة البسيطة؟

أ. مضرب البيسبول

ب. المقص.

ج. مفتاح العلب

د. السيارة

١٤. شاحنة كبيرة تصدم سيارة صغيرة. أي العبارات

التالية صحيح؟

أ. القوة التي تؤثر بها الشاحنة في السيارة أكبر.

ب. القوة التي تؤثر بها السيارة في الشاحنة أكبر.

ج. القوتان متساويتان.

د. ليس هناك قوى في هذه الحالة.

١٥. ما وحدة التسارع؟

أ. م/ث^٢

ب. كجم/م/ث^٢

ج. م/ث

د. نيوتن

١٦. أي مما يلي قوة؟

أ. القصور الذاتي

ب. التسارع

ج. السرعة

د. الاحتكاك

تقوم بتحويل الوحدات: سيكون $1 \text{ م} = 100 \text{ سم}$
 سيكون $200 \text{ سم} / \text{ث} = 200 / 100 = 2 \text{ م} / \text{ث}$
 $1 \text{ كم} = 1000 \text{ م}$
 إذن $0,2 \text{ كم} / \text{ث} = 200 \text{ م} / \text{ث} = 1000 * 0,2 = 200 \text{ م} / \text{ث}$
 السرعة الأكبر هي $0,2 \text{ كم} / \text{ث}$

يتغير اتجاه حركة السيارة لذا فإن السيارة تتسارع
 وحسب قانون نيوتن الثاني إذا تسارعت السيارة فإن
 القوى المؤثرة فيها غير متزنة

كتلة القطار الكبيرة تعطيه قصوراً أكبر ولذلك من
 الصعب أن يتوقف مباشرة

٢٢. استعمال الرسوم البيانية يمثل الرسم البياني السابق
 سرعة عداء في سباق 100 متر . هل يظهر الرسم تزايد
 سرعة العداء، أم تباطؤها، أم ركضه بسرعة ثابتة؟

١٧. علل. قد يحتاج قطار بضائع يسير بسرعة كبيرة إلى عدة
 كيلومترات ليتوقف بعد استعمال المكابح (الفرامل).

١٨. القياس أي السرعات التالية أكبر: $20 \text{ م} / \text{ث}$ ،
 $200 \text{ سم} / \text{ث}$ ، $0,2 \text{ كم} / \text{ث}$ ؟

إرشاد عبّر عن جميع هذه السرعات بالأمتار لكل
 ثانية، ثم قارن.

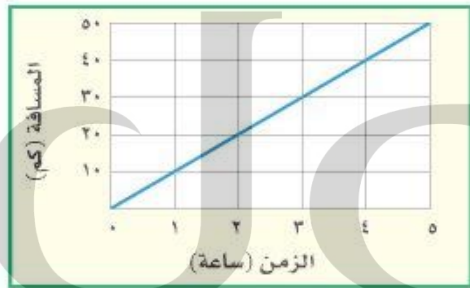
١٩. استنتج تسير سيارة في طريق منحني بسرعة
 $50 \text{ كم} / \text{ساعة}$ ، وقراءة العداد ثابتة. هل القوى المؤثرة
 في السيارة متزنة أم غير متزنة؟

تطبيق الرياضيات

٢٣. احسب الشغل الذي تبذله قوة مقدارها 30 نيوتن تؤثر
 لمسافة 3 م .

٢٤. القوة احسب القوة التي تؤثر بها محركات صاروخية
 في مكوك فضاء كتلته 2 مليون كجم ، ويتحرك بتسارع
 $30 \text{ م} / \text{ث}^2$.

استخدم الرسم البياني التالي للإجابة عن السؤال ٢٥.



٢٥. السرعة والزمن يمثل الرسم البياني أعلاه العلاقة بين
 المسافة والزمن لرحلة قام بها حسين على الدراجة. ما

المعطيات:

القوة $Q = 30 \text{ نيوتن}$

المسافة $F = 3 \text{ متر}$

المطلوب: الشغل $W = ? \text{ جول}$

طريقة الحل: بالتعويض عن قيمة المسافة والقوة في معادلة

الشغل

$W = Q * F$

الشغل $= 30 * 3 = 90 \text{ جول}$

المعطيات:

الكتلة $K = 2 \text{ مليون كجم}$ - التسارع $T = 30 \text{ م} / \text{ث}^2$

المطلوب: القوة $Q = ? \text{ نيوتن}$

طريقة الحل: من معادلة التسارع يمكن حساب القوة المؤثرة على

الصاروخ

$T = Q / K$ ومنها يمكن حساب القوة

$Q = K * T = 2000000 * 30 = 60000000 \text{ نيوتن}$

المعطيات: من الرسم البياني بتحديد إحدى النقاط وتعيين المسافة

والزمن المقابل لها على الرسم

الزمن $Z = 5 \text{ ساعات}$ - المسافة $F = 50 \text{ كم}$

عند قطع مسافة $F = 25 \text{ كم}$

المطلوب: السرعة $E = ? \text{ كم} / \text{ساعة}$

الزمن اللازم لقطع المسافة $F = 25 \text{ كم} = ? \text{ ساعة}$

طريقة الحل: بالتعويض في معادلة السرعة بقيم الزمن والمسافة

$E = F / Z = 50 / 5 = 10 \text{ كم} / \text{ساعة}$

الزمن اللازم لقطع مسافة $F = 25 \text{ كم} = Z = F / E$

$Z = 25 / 10 = 2,5 \text{ ساعة}$



٥. ما اسم القوة التي تقاوم حركة الانزلاق بين سطحين؟

- أ. القصور الذاتي
- ب. التسارع
- ج. الاحتكاك
- د. الجاذبية

استخدم الشكل المجاور للإجابة عن السؤال ٦:



٦. ماذا يقيس عداد السرعة في السيارة؟

- أ. متوسط السرعة
- ب. السرعة اللحظية
- ج. السرعة المتجهة
- د. السرعة الثابتة

الجزء الأول أسئلة الاختيار من متعدد

اختر الإجابة الصحيحة في كل مما يلي:

١. تُسمى المتغيرات التي لا تتغير أثناء التجربة:

- أ. مستقلة
- ب. تابعة
- ج. ثابتة
- د. استدلالية

٢. يُسمى التخمين العلمي الذي يعتمد على الملاحظة

وجمع المعلومات السابقة بـ:

- أ. توقع
- ب. فرضية
- ج. استخلاص
- د. بيانات

٣. ماذا يحدث عندما تندرج كرة صاعدة التل؟

- أ. تزيد سرعتها.
- ب. يكون تسارعها صفراً.
- ج. تكون السرعة والتسارع في نفس الاتجاه.
- د. تكون السرعة والتسارع في اتجاهين متعاكسين.

٤. أي العبارات التالية صحيح عندما تستخدم المستوى

- المائل لرفع كرسي ثقيل مقارنة برفعه رأسياً؟
- أ. تحتاج إلى قوة أقل.
- ب. تحتاج إلى قوة أكبر.
- ج. يتحرك الكرسي لمسافة قصيرة.
- د. تحتاج إلى بذل شغل أقل لتحريكه.

الجزء الثالث أسئلة الإجابات المفتوحة

١٧. وضح أهمية استخدام حزام الأمان، مستعيناً بالقانون الأول لنيوتن في الحركة.
١٨. طبق القانون الثالث لنيوتن لتوضح الاتجاه الذي على الطاقم أن يجذف فيه لكي يتحرك قارب إلى الأمام.
١٩. قرر شخص أن ينقل بعض الأثاث في شاحنته، ما الاحتياطات الواجب عليه مراعاتها وفق القانون الثاني لنيوتن في الحركة عندما تكون الشاحنة محملة بحمل ثقيل؟
٢٠. يجلس طفل في عربة تتحرك في مسار دائري بسرعة ثابتة المقدار. هل يتحرك الطفل بتسارع أم لا في هذه الحالة؟ وضح إجابتك.

الجزء الثاني أسئلة الإجابات القصيرة

٧. وضح. لماذا تكون التفسيرات التي يقدمها العلم للأحداث في الطبيعة تفسيرات محتملة فقط؟
٨. قارن بين الملاحظة والاستنتاج.
٩. بين أهمية النماذج العلمية.
١٠. لماذا يعد الرسم البياني فعالاً في نقل المعلومات؟
١١. ما مقدار الشغل المبذول عندما تؤثر قوة مقدارها ١٠ نيوتن في مقعد ثابت دون تحريكه؟
١٢. كيف يشبه الإسفين السطح المائل؟
١٣. تسير سيارة بسرعة ١٢٠ م/ث، ثم توقفت خلال ٥ ثوانٍ. ما تسارعها؟

استخدم الشكل أدناه للإجابة عن السؤالين ١٤، ١٥:



١٤. إذا كانت كتلة العربة ٢٥ كجم، وتُدْفَع بقوة ١٠ نيوتن، فما تسارع العربة؟
١٥. كيف سيؤثر ملء العربة بمعلبات غذائية على تسارعها، إذا دُفِعَت العربة بنفس القوة؟
١٦. ما الآلات البسيطة التي يتركب منها المقص؟

حل الصفحة ٧٣:

ج٧- لأن العلم يقدم التفسيرات حسب المعلومات المتوفرة في حينه وعند توفر معلومات جديدة فإنه يتم تعديل أو تغيير هذه التعديلات

ج٨- الملاحظة هو تسجيل البيانات حول حركة الشيء ومضمونه أما الاستنتاج فهو استخلاص النتائج استناداً على الملاحظات التي سجلتها

ج٩- تتيح للعلماء أن يتصوروا الأشياء التي يصعب مشاهدتها أو فهمها

ج١٠- وذلك لأنه يحتوي على البيانات والمعلومات التي تم جمعها أثناء البحث العلمي من خلال الملاحظات فيوضح

العلاقة بين المتغيرات

ج١١- لا ينتج شغل من تأثير هذه القوة

ج١٢- الإسفين هو سطح مائل متحرك بجانب واحد أو بجانبين

ج١٣- التسارع = (السرعة النهائية - السرعة الابتدائية) / الزمن

$$ت = -٥ / ١٢٠ = -٢٤ م / ث^٢$$

والإشارة السالبة تعني تناقص السرعة

ج١٤- التسارع = القوة المؤثرة / الكتلة

$$\text{التسارع} = ١٠ / ٢٥ = ٠,٤ م / ث^٢$$

ج١٥- يكون تسارع العربة أقل، لأن بزيادة كتلة الجسم يصعب أن يتسارع

ج١٦- الإسفين والرافعة

ج١٧- عند سير السارة يكتسب الجسم الحركة وعند توقف السيارة بشكل مفاجئ فإن الجسم يحتفظ بحالته من الحركة مما يؤدي إلى اندفاعه إلى الأمام فيمكن أن يرتطم بمقود السيارة إذا لم يستخدم حزام الأمان

ج١٨- يجب أن يجذب الطاقم إلى الخلف فيؤثر بقوة باتجاه الخلف على الماء على المجذف بقوة متساوية في المقدار مع قوة الجذب ومعاكسة لها في الاتجاه فتدفع القارب والمجذاف إلى الأمام

ج١٩- عندما تزداد كتلة الشاحنة تزداد القصور الذاتي لها فيصعب تغيير السرعة أو الاتجاه لذا يجب على السائق قبل دخوله منعطف أن يضغط على الفرامل ويقلل السرعة ليسهل تغيير الاتجاه

ج٢٠- يتحرك الطفل في مسار دائري بسرعة ثابتة إذاً فهو يغير من اتجاه حركته لذلك فإن الطفل يتسارع في هذه الحالة

ما العلاقة بين التفاح

والسفن الحديدية

المهجورة؟

الجلول اون لاين
hü l u l . o n l i n e

هل لفت انتباهك تغير لون التفاح إذا ترك معرضاً للهواء بعد تقطيعه؟ يسبب تقطيع التفاح تحطم خلاياه وتعرض مكوناتها لأكسجين الهواء، ومن هذه المكونات إنزيم ينشط تأكسد بعض المركبات الفينولية في وجود الأكسجين لتنتج مركبات بنية داكنة. تعتبر قدرة المواد على التأكسد خاصية هامة، لكنها قد لا تكون مرغوبة أحياناً؛ فعملية التأكسد هي المسؤولة عن صدأ الحديد في العديد من الآلات والمنشآت من حولنا، مثل السفينة الحديدية المبينة في الصورة. ويؤدي صدأ الحديد - وهو مركب كيميائي يتكون من ذرتي حديد وثلاث ذرات أكسجين أي أن صيغته الجزيئية هي Fe_2O_3 - إلى هشاشة الأجسام المصنوعة من الحديد، وبالتالي تلفها.



مشاريع الوحدة

ارجع إلى أي موقع إلكتروني للبحث عن فكرة أو موضوع يمكن أن يكون مشروعاً تنفذه بنفسك. ومن المشروعات المقترحة ما يلي:

- **التقنية** ابحث في التحديات التي يواجهها المهندسون عند استخدامهم الحديد في الآلات والمنشآت المختلفة، والتقنيات التي يتعاملون من خلالها مع هذه التحديات.
- **النماذج** اعمل نموذجاً حاسوبياً تقارن فيه بين النماذج الذرية المختلفة.

البحث عبر

الشبكة الإلكترونية

مضادات الأكسدة: ابحث عبر المواقع الإلكترونية عن مصطلح "مضادات الأكسدة" في الغذاء. اعرض ما توصلت إليه على زملائك في الصف مبيّناً المقصود بمضادات الأكسدة والدور الذي تقوم به في الجسم.



المادة وتغيراتها

الفكرة العامة

جميع المواد لها خواص فيزيائية وأخرى كيميائية، ويمكن تغيير كليهما.

الدرس الأول

الخواص والتغيرات الفيزيائية
الفكرة الرئيسية يمكن ملاحظة الخواص الفيزيائية للمادة، وقياسها وتغييرها.

الدرس الثاني

الخواص والتغيرات الكيميائية
الفكرة الرئيسية للمادة خواص كيميائية، والتغير الكيميائي للمادة يغير ماهيتها.

العلوم

العلوم اون لاين
h u l u l . o n l i n e

أبحاث تحت الماء

الخواص الذي يظهر في الصورة مهندس جيولوجي يجري مسحًا لقاع المحيط بحثًا عن المعادن.

كم من أشكال المادة يوجد في الصورة؟ في هذا الفصل ستتعرف الأشكال (الحالات) الأربعة للمادة، وخواصها الكيميائية والفيزيائية.

دفتن العلوم اعمل قائمة بحالات المادة التي تستطيع مشاهدتها في الصورة.

الحالة الغازية في الفقاعات في الماء والحالة السائلة هي

الماء والحالة الصلبة وهي الشعب المرجانية

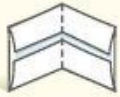
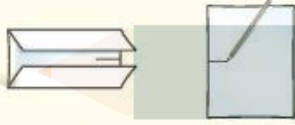
نشاطات تمهيدية

المطويات

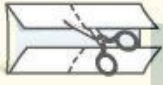
منظمات الأفكار

خواص المادة اعمل هذه المطوية لتساعدك على تنظيم أفكارك حول خواص المادة.

الخطوة ١ ارسم علامة في منتصف حافة الورقة، ثم اطو حافتي الورقة بحيث تلامسان نقطة المنتصف.



الخطوة ٢ اطو الورقة من منتصفها من حافة إلى أخرى.



الخطوة ٣ اقلب الورقة رأسياً، ثم افتحها وقصّها على طول خطّي الطي، كما هو موضح

يمكن تصنيف النقود تبعاً للمعان ومكان السك



هو مبين في الشكل.

يمكن أن تقوم المجموعة بتصنيف النقود على

أساس اللعان وهناك صفات أخرى يمكن

تصنيف النقود على أساس صفات أخرى مثل

السك وتاريخ السك

تجربة استدلالية

هل تستطيع تصنيف قطع النقد حسب خواصها؟

أعطاك معلمك مجموعة من قطع النقد، وطلب منك تصنيفها إلى مجموعات. في هذا الفصل، سوف تتعلم كيف تتعرف الأشياء بناءً على خواصها الكيميائية والفيزيائية. وعند فهم هذه المبادئ عن المادة، سوف تكتشف كيف تصنف الأشياء أو توضع في مجموعات.

١. انظر إلى مجموعة القطع النقدية.
٢. اختر خاصية تساعدك على فرز النقود، ووضعها في مجموعات.
٣. صنّف النقود وافصل بينها حسب الخاصية التي اخترتها، ثم سجّل بياناتك في جدول تكراري.
٤. وضح كيف صنّفت هذه النقود. قارن طريقتك في التصنيف بطرائق التصنيف التي استعملها زملاؤك.
٥. التفكير الناقد. اكتب فقرة في دفتر العلوم توضح فيها الأسلوب الذي استخدمته مجموعتك في التصنيف. ما الصفات الأخرى التي كان يمكن بناءً عليها تصنيف القطع النقدية؟



أتهياً للقراءة

مراقبة التعلم

١ **أتعلم** مراقبة التعلم، أو تعرف نقاط الضعف والقوة لديك، استراتيجية مهمة تساعدك على تحسين القراءة؛ فعندما تقرأ نصًا راقب نفسك وتفكر؛ لتأكد أن ما تقرأه ذو معنى بالنسبة إليك. ويمكنك اكتشاف أساليب مراقبة أخرى يمكن أن تستخدم في أوقات مختلفة، اعتمادًا على الهدف من القراءة.

٢ **أدرب** اقرأ الفقرة التالية ثم أجب عن الأسئلة التي تليها. ناقش إجابتك مع زملائك؛ لتعرف كيف يراقب كل منهم قراءته.

كيف تتغير حالة الماء عندما تتغير درجة حرارته من ٢٠°س إلى ما دون صفر°س؟ سوف يتحول من حالة السيولة إلى حالة الصلابة.

حالات المادة الأربع، هي: الصلابة، والسيولة، والغازية، والبلازما.

وتعتمد حالة المادة على درجة حرارتها ومقدار الضغط الواقع عليها. ثلاث من هذه الحالات أنت على معرفة ودراية بها من خلال خبراتك اليومية. أما حالة البلازما فتحدث عند درجات حرارة عالية جدًا، كما في أنابيب الفلورسنت الضوئية (النيون)، وفي الغلاف الجوي عند حدوث البرق.

- ماذا تبقى لديك من أسئلة بعد القراءة؟
- هل فهمت الكلمات الموجودة في النص كلها؟
- هل كان النص سلسًا ومفهومًا بالنسبة إليك، أم واجهتك صعوبة جعلتك تتوقف عن القراءة؟

٣ **أطبق** اختر إحدى الفقرات التي يصعب فهمها، وناقشها مع زميلك لتحسن مستوى فهمك.

إرشاد

راقب قراءتك من حيث البطء أو السرعة، اعتمادًا على فهمك للنص.

توجيه القراءة وتركيزها

ركز على الأفكار الرئيسة عند قراءتك الفصل باتباعك ما يلي:

١ قبل قراءة الفصل

أجب عن العبارات في ورقة العمل أدناه:

- اكتب (م) إذا كنت موافقًا على العبارة.
- اكتب (غ) إذا كنت غير موافق على العبارة.

٢ بعد قراءة الفصل

ارجع إلى هذه الصفحة لترى إن كنت قد غيرت رأيك حول أي من هذه العبارات.

- إذا غيرت إحدى الإجابات فبين السبب.
- صحّح العبارات غير الصحيحة.
- استرشد بالعبارات الصحيحة أثناء دراستك.

قبل القراءة م أو غ	العبارة	بعد القراءة م أو غ
	١. المادة هي كل شيء له كتلة ويشغل حيزًا من الفراغ.	
	٢. تتغير ماهية المادة إذا حدث لها تغير فيزيائي.	
	٣. من الخواص الفيزيائية للمادة: اللون، والشكل، والطول، والكتلة، والكثافة.	
	٤. تتميز المواد غير الفلزية بأنها قابلة للطرق والسحب.	
	٥. حالات المادة ثلاث.	
	٦. للمادة خواص كيميائية.	
	٧. تعد القابلية للاشتعال من الخواص الفيزيائية.	
	٨. تُفقد الكتلة عند احتراق المادة وعند حدوث التفاعلات الكيميائية.	
	٩. يعد انبعاث الضوء والحرارة من دلائل حدوث تفاعل كيميائي.	





www.ien.edu.sa

الخواص والتغيرات الفيزيائية

ففي هذا الدرس

استخدم الحواس

يمكنك أن تستخدم حواسك في ملاحظة المواد والأشياء. وأي خاصية للمادة يمكن ملاحظتها أو قياسها دون إحداث تغيير في تركيب المادة الأصلي، هي خاصية فيزيائية. ولكن من المهم جداً عدم لمس أي مادة في المختبر أو تذوقها أو شمها دون وجود إرشادات تسمح بذلك. انظر الشكل ١.

الشكل ١ من أجل السلامة في المختبر، تستخدم لإجراء التجارب عادة حاستين فقط من حواسك، هما: النظر، والسمع. والعديد من المواد الكيميائية تكون خطيرة عند لمسها، أو تذوقها، أو شمها.



أنظر



أسمع



لا تلمس



لا تشم



لا تذوق



الأهداف

- تتعرف الخواص الفيزيائية للمادة.
- تفسر سبب اختلاف الكثافة بين المواد التي تختلف في كتلتها.
- تلاحظ كيفية استخدام طريقة الإزاحة لتحديد حجوم الأجسام.
- تصف حالات المادة المختلفة.
- تحدد أثر تغير درجة الحرارة على المواد.
- تصنف المواد بناء على خواصها الفيزيائية.

الأهمية

تساعد ملاحظة الخواص الفيزيائية للمادة على فهم العالم من حولنا.

مراجعة المفردات

الكتلة كمية المادة في الجسم.

المفردات الجديدة

- الخاصية الفيزيائية
- حالات المادة
- درجة الانصهار
- التغير الفيزيائي
- درجة الغليان
- الكثافة

الخواص الفيزيائية



الشكل ٢ هوية المادة لا تعتمد بالضرورة على لونها. كل من العبوتين في الصورة مصنوعة من المادة البلاستيكية نفسها. صف تغيراً فيزيائياً من الممكن إحداثه للعبوتين.

اللون والشكل المادة هي كل ما له كتلة ويشغل حيزاً، وللمادة خواص محسوسة إذ يمكن رؤيتها، أو شمها، أو لمسها، أو تذوقها. وعادة ما يكون اللون هو أول خاصية تلاحظها في المادة. فأنت تشاهد أكثر من لون لعب مواد التنظيف مثلاً، وربما تحاول ترتيبها حسب ألوان قوس المطر.

ولربما لكل قارورة أو علبه شكل مختلف، فبعضها مكعب، وبعضها أسطواني، وبعضها ليس له شكل محدد، ويمكنك ترتيبها حسب شكلها.

عند تشكيل البلاستيك المستخدم في عملية التغليف، يتغير شكله، لكن المادة تبقى هي نفسها البلاستيك، هذا النوع من التغير يُسمى تغيراً فيزيائياً. وفي **التغير الفيزيائي** تتغير الخواص الفيزيائية، ولكن هوية المادة الأصلية تبقى دون تغيير. لاحظ الشكل ٢، فعبوتنا مواد التنظيف صنعتنا من المادة البلاستيكية نفسها على الرغم من الاختلاف في بعض خواصها الفيزيائية كاللون والشكل.

يمكن لهذه العلب أن تتعرض للسحق أو الصهر أو القطع

كل ما يشغل حيز من الفراغ وله كتلة

ما المادّة؟ ماذا قرأت؟

الطول والكتلة يمكن تحديد بعض الخواص الفيزيائية للمادة باستخدام الحواس أو عن طريق القياس، فخاصية الطول من الخواص الفيزيائية المفيدة والتي يمكن قياسها باستخدام المسطرة أو الشريط المتر كما في الشكل ٣. بينما الكتلة من الخواص الفيزيائية التي تصف كمية المادة في جسم ما.

الشكل ٣ يمكن قياس طول أي جسم باستخدام أدوات مناسبة. صف كيف تقيس طول بناء مدرستك؟



الحجم والكثافة الكتلة ليست الخاصية الفيزيائية الوحيدة التي تعبر عن مقدار المادة فهناك أيضاً خاصية الحجم التي تعبر عن مقدار الفراغ (الحيز) الذي يشغله الجسم. وهناك خاصية فيزيائية أخرى ترتبط بالحجم والكتلة، وهي **الكثافة**، وتعرّف بأنها كتلة المادة الموجودة في وحدة الحجم، وتساوي ناتج قسمة كتلة الجسم على حجمه.



الشكل ٤ هاتان الكرتان تشغلان الحيز نفسه، لكن كتلة كرة البولنج على اليسار أكبر من كتلة الكرة الثانية على اليمين. لذلك فكرة البولنج أكبر كثافة.

تجربة

تحديد الحجم

الخطوات

١. اختر ثلاثة أجسام مختلفة في حجمها ومادتها، مثلاً كرة مطاطية، وكرة زجاجية، وكرة خشبية.
٢. ضع ٥٠ مل من الماء في مخبر مدرج سعته ١٠٠ مل.
٣. اغمر جسمًا واحدًا في المخبر المدرج، وسجل المستوى الجديد للماء.
٤. كرر الخطوات ٢، ٣ للجسمين الآخرين.

التحليل

١. أي الأجسام الثلاثة السابقة أزاح أكبر كمية من الماء في المخبر المدرج؟ وأيها أزاح الأقل؟
٢. ماذا تستدل من ذلك بالنسبة إلى حجم الأجسام؟
٣. ما الكميات الأخرى التي تحتاج إلى قياسها لحساب كثافة كل جسم؟

$$\text{الكثافة} = \frac{\text{الكتلة}}{\text{الحجم}} \text{ أو } \frac{\text{ك}}{\text{ح}}$$

يمكنك أن تلاحظ هذه الخاصية عند محاولتك رفع شيتين متساويين في الحجم ومختلفين في الكتلة.

يُظهر الشكل ٤ كرتين متشابهتين في الحجم ومختلفتين في الكتلة. فكرة البولنج أكثر كثافة من الكرة الأخرى المجاورة في الصورة. وتبقى كثافة المواد ثابتة عند ثبات الضغط ودرجة الحرارة. فكثافة الماء مثلاً عند درجة حرارة الغرفة تساوي ١ جم/سم^٣. وعند تغيير الضغط أو درجة الحرارة ستتغير كثافته. فعندما يتحول الماء إلى جليد عند درجة صفر^٣ تصبح كثافته ٩١٦٨ ، ٠ جم/سم^٣.

الكتلة والحجم

✓ **ماذا قرأت؟** ما الخاصيتان المرتبطتان بقياس الكثافة؟

حالات المادة

كيف سؤو حالات
الزجاج أزاح أكبر كمية من الماء والمطاط أزاح أقل كمية من الماء

أنه على الرغم من تساوي الحجم إلا أن كمية الماء المزاح اختلفت

و ه الب
الضوئية (النيون)، وفي الغلاف الجوي عند حدوث البرق. ويمكن الاعتماد على حالات المادة في تصنيف المواد. فحالة المادة خاصة فيزيائية أخرى للمادة.

العلوم عبر المواقع الإلكترونية

الخصائص الفيزيائية
ارجع إلى المواقع الإلكترونية عبر شبكة
الانترنت
للحصول على معلومات حول
تصنيف المواد بالاعتماد على
خواصها الفيزيائية.

نشاط اختر ثلاثة أشياء في
غرفتك، وحاول وصفها باستخدام
أكبر عدد ممكن من الخواص
الفيزيائية، ثم مرّر وصفك هذا
على زملائك، وانظر هل بإمكانهم
تحديد كل من تلك الأشياء.

تجربة عملية كثافة المواد الصلبة ارجع إلى كراسة التجارب العملية على منصة عين

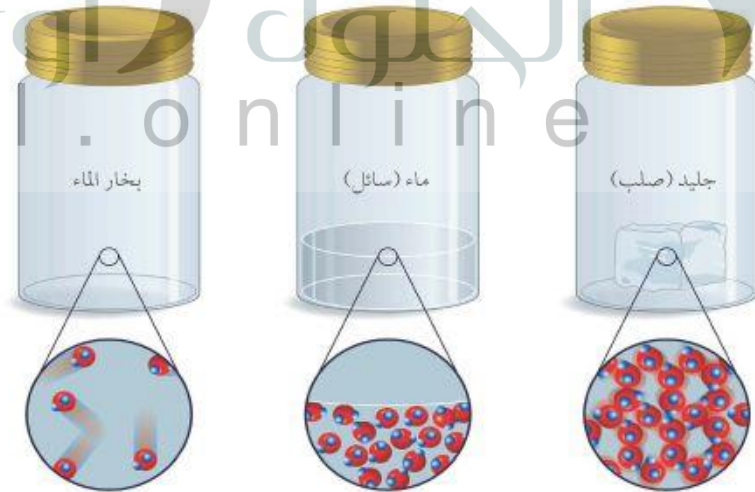


حركة الدقائق تتكون المادة من دقائق أو جسيمات متحركة. وتُحدّد حالة المادة من خلال حركة دقائقها. فدقائق المادة الصلبة تهتز في مكان محدد، بحيث تبقى قريبة بعضها من بعض. لذلك، يحتفظ الجسم الصلب بشكل وحجم ثابتين. أما دقائق المادة السائلة، فتتحرك بسرعة أكبر، وتمتلك طاقة كافية لينزلق بعضها فوق بعض، وهذا يجعل السائل يحتفظ بحجم ثابت إلا أنه يأخذ شكل الوعاء الذي يوضع فيه. أما دقائق المادة الغازية، فتتحرك بسرعة عالية لدرجة أنها تمتلك طاقة كافية لتتحرك بحرية بعيداً عن الدقائق الأخرى، وتشغل بذلك أكبر حيز ممكن، وتنتشر لتماماً أي وعاء توضع فيه. والشكل ٥ يوضح الاختلافات بين حالات الماء.

الكرسي: خشبي، ناعم اللمس، كبير الحجم، ثقيل
الكرة: مصنوعة من البلاستيك، خفيفة، ناعمة اللمس،
لونها أحمر
الكوب: زجاجي، شفاف، صغير الحجم، خفيف

مكعبات من الجليد موضوعة في كأس. وكذلك تحول الماء من حالة السيولة إلى حالة الصلابة عند وضعه في مجمد الثلاجة. تسمى درجة الحرارة التي يحدث عندها تحول المادة من حالة الصلابة إلى الحالة السائلة درجة الانصهار. لاحظ أنه في جميع الحالات لم يحدث تغيير في تركيب الماء الأصلي ولكن تغيرت حالته. والرصاص مثلاً ينصهر عند درجة ٣٢٧°س، وعندما ينصهر يتحول من الحالة الصلبة إلى السائلة، وهذا تغير فيزيائي، بينما تعدّ درجة انصهاره خاصية فيزيائية.

الشكل ٥ يتواجد الماء في ثلاث حالات: الصلبة، والسائلة، والغازية. فالجزيئات في الجليد مترابطة مع بعضها البعض وتهتز في مكانها، ولكنها في الماء السائل تنزلق بعضها فوق بعض لأنها تمتلك طاقة حركية أكبر. وفي حالة بخار الماء، تتحرك الجزيئات بحرية داخل الوعاء لأن طاقتها أكبر بكثير.





الشكل ٦ يتحول النيتروجين المسال إلى غاز فور تعرضه لحرارة الغرفة، فدرجة غليان النيتروجين (-٨, ١٩٥°س) أقل بكثير من درجة حرارة الغرفة.

درجة الغليان عند أي درجة حرارة يتحول الماء من الحالة السائلة إلى الحالة الغازية؟ **درجة الغليان** هي النقطة التي تثبت عندها درجة الحرارة عند تحول المادة من حالة السيولة إلى الحالة الغازية. كل مادة نقية لها درجة غليان ثابتة عند ضغط جوي معين. فدرجة غليان الماء تساوي ١٠٠°س عند ضغط جوي واحد. ودرجة غليان النيتروجين تساوي -٨, ١٩٥°س، ولذلك يتحول إلى غاز عند وضعه في الهواء، كما في الشكل ٦، ودرجة الغليان مثل درجة الانصهار لا تعتمد على كمية المادة بل تعتمد على نوعها.

ماذا قرأت؟ ما التغير الفيزيائي الذي يحدث عند درجة الغليان؟ يمكن الاستفادة من درجة الغليان ودرجة الانصهار في تعريف المواد. فمثلاً، إذا كانت درجة غليان سائل شفاف ما تساوي ١٠٥°س عند ضغط جوي واحد، فهو ليس ماءً نقيًا، لأن الماء النقي يغلي عند ١٠٠°س عند ضغط جوي واحد.

تغير المادة من الحالة السائلة إلى الحالة الغازية

الربط مع فنون اللغة

وصف المعادن

يستخدم علماء الأرض مصطلحات محددة وواضحة يفهمها كل العلماء الآخرين، ولوصف مظهر المعادن يستعملون مصطلحات مثل: فلزي، ماسي، زجاجي، صمغي (راتنجي)، لؤلؤي، حريري، شمعي. ابحث عن هذه المصطلحات، واذكر مثالاً لكل واحد منها، وكتبه في دفتر العلوم.

الشكل ٧ استغل الفنان خاصية السحب التي تمتاز بها الفلزات، فاستخدم الأسلاك في عمل هذا النموذج.



خواص الفلزات واستعمالاتها

هناك خواص فيزيائية أخرى يمكن استخدامها لتصنيف المواد إلى فلزات، ولافلزات. ما خواص الفلزات؟ وكيف تبدو؟

غالبًا ما يكون أول شيء تلاحظه على الفلز مظهره اللامع، وهذا ينتج عن عكس سطح الفلز الضوء الساقط عليه. أما الأجسام غير الفلزية فيبدو لونها لؤلؤيًا أو حليبيًا أو معتمةً.

كما أن معظم الفلزات لها قابلية التشكيل، فهي من الممكن أن تصير صفائح رقيقة عند طرقها بمطرقة. وتسمى هذه الخاصية قابلية الطرق. وهذه الخاصية جعلت عنصر النحاس عنصرًا مناسبًا للتشكيل في الأعمال الفنية. كما أن العديد من الفلزات يمكن سحبها على شكل أسلاك، وتسمى هذه الخاصية قابلية السحب كما في الشكل ٧. وتستخدم الأسلاك المصنوعة من النحاس في التمديدات الكهربائية في المباني والأجهزة الكهربائية. وكذلك تُصنع أبواب وشبابيك البيوت من الفلزات. وبعض الفلزات لها خواص مغناطيسية، فيمكن جذبها بواسطة المغناطيس كما في الشكل ٨، حيث يُستخدم المغناطيس لرفع بعض الأجسام الفلزية الثقيلة التي لها خاصية الانجذاب نحوه.



الشكل ٨ يستخدم المغناطيس لرفع الأجسام الفلزية التي لها قابلية الانجذاب للمغناطيس.



الحالة الصلبة: المادة لها حجم وشكل ثابتين مثل قطع الجليد
الحالة السائلة: لها حجم ثابت وتتشكل بشكل الإناء الذي توضع فيه مثل الماء

الحالة الغازية: ليس لها شكل ولا حجم ثابت مثل الهواء
حالة البلازما: وهي تحدث عند تأين الغازات عند تعرضها لدرجة حرارة عالية أو إمدادها بكمية طاقة كبيرة كما في مصابيح النيون

بتغيير درجة الحرارة أو الضغط، فعند انخفاض درجة الحرارة يتحول الماء إلى جليد أقل في الكثافة من الماء

الكحول غير المبرد يتبخر بسرعة لارتفاع درجة حرارته فتزداد حركة الجزيئات ويتحول الكحول من الحالة السائلة إلى الحالة الغازية

الكتاب مادة صلبة له شكل متوازي المستطيلات

١. اذكر الخواص الفيزيائية لهذا الكتاب.
٢. سَمِّ حالات المادة الأربع، وصف كل واحدة منها، وأعط أمثلة عليها.
٣. اشرح كيف يمكن أن يكون للماء كثافتان مختلفتان.
٤. التفكير الناقد أيهما يتبخر بسرعة أكبر، كحول مُبرِّد أم كحول غير مُبرِّد؟

تطبيق الرياضيات

٥. حل المعادلات كثافة النيكل ٩,٨ جم / سم^٣، وكثافة الرصاص ١١,٣ جم / سم^٣. إذا كانت لديك عيتان منهما حجم الواحدة ٤ سم^٣، فما كتلة كل منهما؟

كتلة النيكل = ٩,٨ جم / سم^٣ * ٤ سم^٣ = ٣٩,٢ جم
كتلة الرصاص = ١١,٣ جم / سم^٣ * ٤ سم^٣ = ٤٥,٢ جم



الخواص والتغيرات الكيميائية

فيم هذا الدرس

الأهداف

- تتعرف بعض الخواص الكيميائية للمواد.
- تحدد التغيرات الكيميائية.
- تصنف المادة تبعاً لخواصها الكيميائية.
- توضح قانون حفظ الكتلة.

الأهمية

تساعد معرفة الخواص الكيميائية على تحديد الفروق بين المواد والتمييز بينها.

مراجعة المفردات

الحرارة صورة من صور الطاقة تنتقل من الجسم الساخن إلى الجسم البارد عند تلامسها معاً.

المفردات الجديدة

- الخاصية الكيميائية
- التغير الكيميائي
- قانون حفظ الكتلة

قابلية التغير

عندما نحرق قطعاً من الخشب لا يتبقى منها إلا كومة صغيرة من الرماد. فأين ذهب الخشب؟ وما الخاصية الموجودة في الخشب التي سببت هذا التغير؟ جميع الخواص التي درستها واستخدمتها في التصنيف في الدرس السابق هي خواص فيزيائية يمكن ملاحظتها بسهولة. بالإضافة إلى ذلك، عندما كانت هذه الخواص تتغير، فإن تركيب المادة الأصلي بقي ثابتاً. ومن الواضح أن ما حدث في حالة احتراق الخشب شيء مختلف. فبعض الخواص تشير إلى حدوث تغير في التركيب الأصلي للمادة. فالخاصية الكيميائية هي الخاصية التي تشير إلى ميل المادة لحدوث تغير في تركيبها الأصلي بفعل تفاعل كيميائي مما ينتج مواد جديدة. والشكل ٩ يوضح بعض خواص المواد التي يمكن ملاحظتها فقط عند حدوث تغير كيميائي فيها.

ماذا قرأت؟ إلى ماذا تشير الخاصية الكيميائية للمادة؟




تشير إلى أنه عندما تمر المادة بتغير ينتج عنه مادة جديدة

الشكل ٩ أمثلة توضح بعض الخواص الكيميائية.

اشتعال المغنسيوم

تفاعل قرص الفوار مع الماء

تفاعل الحديد مع الأكسجين





بوابة حديدية تعرضت للصدأ



إناء فضي فقد بريقه ولمعانه



نتج اللون الأخضر عن تفاعل النحاس مع الأكسجين الموجود في الجو.

خواص كيميائية شائعة

ليس شرطاً أن تكون في المختبر لتشاهد التغيرات التي تحدث بسبب الخواص الكيميائية. وتسمى هذه التغيرات تغيرات كيميائية. **التغير الكيميائي**: هو التغير الذي يحدث في تركيب المادة بسبب خواصها الكيميائية وتنتج عنه مادة أو مواد جديدة. فالنار المشتعلة في الخشب تُنتج تغيرات كيميائية. فكيف يحدث ذلك؟ يتفاعل الأكسجين الموجود في الهواء مع الخشب فيحترق منتجاً مادة جديدة تُسمى رماداً. والخشب مادة قابلة للاحتراق، لذا تُسمى هذه الخاصية الكيميائية قابلية الاشتعال أو الاحتراق. ويوضع على بعض المواد تحذيرات لحفظها بعيدة عن الحرارة واللهب؛ بسبب قابليتها للاشتعال. وهناك مواد غير قابلة للاشتعال كالحجارة.

تفاعلات شائعة تحدث تفاعلات كيميائية بين بعض المواد وبين أكسجين الهواء الجوي مكونة أكسيد المادة أو العنصر؛ فالحديد -مثلاً- يتفاعل مع أكسجين الهواء الجوي في وجود الماء مكوناً أكسيد الحديد (الصدأ)، كما في الشكل ١٠، حيث تصدأ بوابة الحديد غير المدهون وتآكل مع مرور الزمن. كما تتفاعل مكونات بعض أنواع الفاكهة كالموز والتفاح مع أكسجين الهواء الجوي فيصبح لونها بنيًا إذا قشرناها وتركتها معرضة للهواء. كذلك تتفاعل بعض العناصر مع عناصر أخرى، وتُظهر الصورة الوسطى فقدان الإناء الفضي بريقه ولمعانه؛ بسبب تفاعل الفضة مع مواد في الهواء الجوي. وتعدّ قابلية المواد للتفاعل مع الأكسجين أو الكبريت وسواهما من المواد مثالاً على الخواص الكيميائية للمادة. وتُظهر الصورة اليمنى من الشكل ١٠ مثالاً آخر على الخواص الكيميائية.

الشكل ١٠ قد تحدث أنواع من التفاعلات مع الأكسجين؛ فالنحاس المنحوت يتحول إلى مادة لونها أخضر، وهي خليط من مركبات النحاس.



أبحاث الإنزيمات

اكتشف الباحثون إنزيمًا في الفواكه يعمل على إعطاء الثمرة اللون البني. وهم يجرون تجارب يحاولون من خلالها إنتاج عنب يحتوي على مستوى قليل من هذا الإنزيم، بحيث لا يتحول العنب إلى اللون البني بسرعة.



الحرارة والضوء يُحدث كل من الضوء والحرارة تغيرات كيميائية في بعض المواد ولذلك تحفظ الفيتامينات في زجاجات بنية معتممة، والحجر الجيري يحدث فيه تغير كيميائي عند تعرضه للحرارة ويُنتج غاز ثاني أكسيد الكربون. كذلك تعمل الكهرباء على إحداث تغيرات كيميائية في بعض المواد فتفككها، فالتحليل الكهربائي للماء يؤدي إلى الحصول على غازي الهيدروجين والأكسجين المكونان للماء.

الشكل ١١ عندما يتفاعل السكر مع حمض الكبريتيك يحدث تغير كيميائي وتكون مادة جديدة. ويتطلق غاز سام ويبقى فقط الماء والكربون.

تختلف التغيرات الكيميائية للمادة عن التغيرات الفيزيائية في أن الأولى تنتج مواد جديدة تختلف في خواصها عن خواص المواد الأصلية. وبسبب التغيرات الكيميائية نستمتع بالعديد من الأشياء في الحياة، فالسكر عادة بلورات ناعمة بيضاء اللون، ولكن بتسخينه فوق لهب، يتحول إلى مادة جديدة هي كراميل بني اللون. كما يتفاعل السكر مع حمض الكبريتيك مكوناً مادة جديدة تختلف في خواصها كلياً عن الأصل. انظر الشكل ١١.



الشكل ١٢ الدليل على حدوث التغير الكيميائي في قطعة الكعك هو وجود فقاعات هوائية نتجت خلال عملية التخزين. حدد أمثلة أخرى تدل على حدوث التغير الكيميائي.

دلائل حدوث التغير كيف تعرف أنك حصلت على مادة جديدة؟ هل فقط لأنها تبدو مختلفة؟ يمكنك أن تضع سلطة في الخلاط الكهربائي وتخفقها. ستبدو السلطة مختلفة ولكن الحقيقة أنه لم يحدث لها تغير كيميائي. يمكنك البحث عن دلائل عندما تريد معرفة ما إذا كانت مادة جديدة قد نتجت عن تغير كيميائي أم لا. انظر إلى الكعكة في الشكل ١٢، عندما يُخبز الكعك تتكون فقاعات غاز، وهذه الفقاعات دليل على حدوث تغير كيميائي. وعند النظر بدقة إلى قطعة الكعك تلاحظ الثقوب التي تركتها الفقاعات داخلها. فالتغير الكيميائي الذي يحدث بسبب الحرارة يغير في طعم الأشياء ومظهرها، وهذا ما تلاحظه عند طبخ الأطعمة. والضوء، أو

إنتاج الحرارة والضوء والداخان والتغير في اللون

من هذه الدلائل يمكنك سماعها أو رؤيتها عند حرق الخشب؟

تجربة عملية دلائل حدوث التغير الكيميائي

ارجع إلى كراسة التجارب العملية على منصة عين





الشكل ١٣ يمكن عكس التغير في شكل قطعة الصلصال بسهولة.

تجربة

مشاهدة الخميرة

الخطوات

١. لاحظ، مستخدمًا عدسة مكبرة، خميرة جافة موجودة في ملعقة كبيرة، ثم ارسم وصِف ما تلاحظه؟
٢. ضع الخميرة في ٥٠ مل من الماء الفاتر.
٣. قارن بين ما شاهدته في الخطوة الأولى وما شاهدته في الخطوة الثانية.
٤. أضف كمية قليلة من السكر إلى الماء والخميرة، ولاحظ ما يحدث خلال ١٥ دقيقة.
٥. سجل ملاحظاتك.

التحليل

١. هل ظهرت مواد جديدة عند إضافة السكر للماء والخميرة؟ وضح ذلك.
٢. هل تعتقد أن هذا تغير فيزيائي أم كيميائي؟ وضح ذلك.

الزبدة المنصهرة إلى زبدة صلبة بوضعها في ثلاجة، وبعد تشكيل الصلصال كما في الشكل ١٣ يمكن إعادة طيه مرة أخرى لإرجاعه إلى العلبة. أما التغير الكيميائي فلا يمكن الرجوع عنه بطرق فيزيائية. فمثلاً: لا يمكن تحويل الرماد مرة أخرى إلى قطعة خشب. هل تستطيع استخلاص البيضة من قطعة الكعك؟ وهل تستطيع استخلاص الطحين الأبيض أيضاً؟

التغير الفيزيائي

ماذا قرأت؟ أي أنواع التغيرات يمكن الرجوع عنها بسهولة؟

الجدول ١: أمثلة على الخواص الفيزيائية والكيميائية

الخواص الفيزيائية	الخواص الكيميائية
اللون، الشكل، الطول، الكتلة، الحجم، الكثافة، الحالة، قابلية التأثر بالمغناطيس، درجة الانصهار، درجة الغليان، قابلية الطرق وقابلية السحب	الاحتراق، التفاعل مع: الأكسجين، الماء، الخل، الخ، التفاعل بوجود الكهرباء، أو الضوء، أو الحرارة، الخ.

قانون حفظ الكتلة

نعم ظهرت مواد جديدة حيث تكونت مادة جديدة وغاز وتم الاستدلال عليه من الفقاعات المتصاعدة

مجموع الكتل قبل التفاعل وبعده إذا راقبت عملية احتراق الخشب بدقة، ترى أن قانون حفظ الكتلة صحيح. لأن قطع الخشب عندما تحترق تتفاعل مع مختلفه تنطلق في الجو. ثم حرقها ومقارنتها مع كتلة الرماد والدخان والغازات، ستجد أن مجموع كتل المواد المتفاعلة يساوي مجموع كتل المواد الناتجة عن التفاعل.

هذا تغير كيميائي بسبب تكون الغاز



التغير في اللون وإنتاج ضوء أو حرارة أو دخان أو صوت

عنه مواد جديدة فقد بقيت

جم ١,١١

هي الخاصية التي تعطى للمادة المقدرة لحدوث تغير فيها ينتج مواد جديدة ومنها الاحتراق، التفاعل غير موجود بوجود الكهرباء والتفاعل مع الأكسجين والتفاعل بوجود الضوء

١. عرّف الخاصية الكيميائية. أعط أربعة أمثلة عليها.
٢. حدد بعض الدلائل التي تشير إلى حدوث تغير كيميائي.
٣. التفكير الناقد إذا رأيت وميضًا ساطعًا، ثم هبًا خلال عرض في المختبر، فهل يدل ذلك على تغير فيزيائي أم تغير كيميائي؟ فسّر إجابتك.

تطبيق الرياضيات

٤. حل المعادلات سلّخن طالب ٤,٠٠ جم من مركب أزرق اللون، فتفاعل منتجًا ٢,٥٦ جم من مركب أبيض، وكمية من غاز عديم اللون. فما كتلة هذا الغاز؟

كتلة الغاز = ٤,٠٠ - ٢,٥٦ - ١,٤٤ جم

ويمكن توضيح قانون حفظ الكتلة باستخدام الشكل ١٤. فالدور الصورة الأولى يحتوي على إحدى المواد، ويحتوي أنبوب الات داخل الكأس على مادة أخرى مختلفة، ومجموع كتلتهما يساوي ١,١١ جم. وفي الصورة الثانية قُلبَ الدورق المغلق إلى أسفل فاختلطت الـ أما في الصورة الثالثة فتم وزن الدورق مرة أخرى فوجد أن كتلته وتساوي ٢,٦١ جم.

مراجعة

الخلاصة

قابلية التغير

- تؤدي التغيرات الكيميائية إلى تكون مادة أو مواد جديدة.

يدل ذلك على تغير كيميائي لأنه نتج مواد جديدة بخصائص جديدة ومختلفة

- يمكن تصنيف المواد تبعًا لخواصها الكيميائية.

- يمكن عكس التغيرات الفيزيائية أو الرجوع عنها، بينما لا يمكن عكس التفاعلات الكيميائية بطرائق فيزيائية بسيطة.

قانون حفظ الكتلة

- مجموع كتل المواد الناتجة عن التفاعل الكيميائي يساوي دائمًا مجموع كتل المواد المتفاعلة.

سلطة الفواكه المفضلة

سؤال من واقع الحياة

عندما تريد أن تذهب في نزهة وتستمتع بطعم سلطة الفواكه وحلاوتها، فإن آخر شيء تريد رؤيته هو اللون البني للفواكه في الصحن. فماذا تفعل لحل هذه المشكلة؟ أعطاك معلمك بعض أنواع مختلفة من الفواكه. وطلب منك عمل اختبار تلاحظ فيه تغيراً فيزيائياً وآخر كيميائياً. فهل من الممكن التحكم في التغير الكيميائي؟

تكوين فرضية

بالاعتماد على قراءتك وملاحظاتك، اكتب فرضية حول إمكانية التحكم بالتغير الكيميائي.

إضافة الليمون إلى طبق فواكه تحد من التغير الكيميائي الذي يحدث للفواكه عند تعرضها للهواء فالليمون يمنع تفاعل الفاكهة مع الهواء

1. **ضع** أنت وزملاؤك فرضية، ثم قرر كيف يمكن اختبارها، وحدد النتائج التي ستتحقق منها.
2. **اكتب** قائمة بالخطوات التي سوف تتبعها لاختبار الفرضية بدقة. وصف بدقة أيضاً ماذا ستعمل في كل خطوة، ثم اكتب أسماء المواد جميعها التي ستستخدمها.
3. **حضر** جدولاً للبيانات على الحاسوب، أو في دفتر العلوم لتسجيل ملاحظاتك.
4. **تأكد** من أن خطوات التجربة مرتبة بشكل منطقي.
5. **حدد** جميع الثوابت، والمتغيرات، وضوابط التجربة.

الأهداف

- **تصمم** تجربة لتحديد التغيرات الفيزيائية والكيميائية في الفواكه.
- **تلاحظ** إمكانية التحكم بالتغيرات الكيميائية.

المواد والأدوات

- موز
- تفاح
- كمثرى
- صحن كبير عميق (٢)
- محلول ليمون/ ماء (٥٠٠ مل).
- سكين بلاستيكية

إجراءات السلامة

تحذير. كن حذراً عند التعامل مع الأدوات الحادة. وأبعد يديك عن حوافها الحادة. لا تأكل أي شيء في المختبر.



استخدام الطرائق العلمية

تأثير وجود الليمون على أنواع مختلفة من الفاكهة

الفاكهة الطازجة المقطعة التي لم تمتزج مع
محلول الليمون

تغيرات للعوامل الثابتة والعوامل المتغيرة،

لن يتغير لون الفاكهة في الوعاء الذي أضيف إليه
عصير الليمون بينما يصبح لون الفاكهة الذي لم
يضاف إليها الليمون بنياً

تغير في دفتر العلوم أو في الحاسوب،

تشابه النتائج

نعم تدعم النتائج فرضيتي حيث أنه من خلال إضافة
عصير الليمون إلى الفاكهة استطعت التحكم في التغير
الكيميائي الذي يحدث للفواكه عند تعرضها للهواء

١. قارن بين التغيرات التي لاحظتها في اختبار الفواكه.

٢. قارن بين نتائجك ونتائج المجموعات الأخرى.

٣. ما ضوابط التجربة؟

٤. ما العوامل المتغيرة في التجربة؟

٥. هل واجهت مشاكل أثناء إجراء التجربة؟

٦. هل لديك اقتراحات لتحسين التجربة في المستقبل؟

الاستنتاج والتطبيق

١. هل تدعم النتائج التي حصلت عليها فرضيتك؟ وضح ذلك.

٢. صف تأثير التبريد على صحتي ساطة الفواكه.

٣. ماذا ستفعل بالفواكه المستخدمة في هذه التجربة؟ وهل من الممكن أكلها؟

سوف يعمل التبريد على إبطاء تحول
الفاكهة إلى اللون البني في الصحن الذي لا
يحتوي على الليمون ولن يؤثر على
الصحن الثاني

لا يمكن أكل أطعمة في المختبر ولذلك يمكن أن أقدم
هذه الأطعمة كغذاء للحيوانات الموجودة في المدرسة

تخيل أنك تعدّ صفحة لكتاب « الطهي المصور »،
وضح فيها الفوائد التي اكتسبتها من هذه التجربة،
بحيث تشتمل على رسوم توضيحية وخطوات
العمل التفصيلية.

تغيرات كيميائية خطيرة

حرائق الغابات

تعد حرائق الغابات من أخطر الكوارث البيئية، ويشكل المناخ الجاف العامل الرئيس في اندلاعها. وقد تستمر هذه الحرائق أشهرًا وينجم عنها العديد من المخاطر التي تهدد حياة الإنسان وبخاصة انبعاث غاز أول أكسيد الكربون السام.

يمكن أن تندلع حرائق الغابات بفعل الإنسان، ومنها ذلك الحريق الذي نشب في إندونيسيا في جزيرتي «كاليمانتان» و«سومطرة»، بين عامي 1997 - 1998م، حيث انبعث منها غازات سامة غطت مساحة كبيرة من منطقة جنوب شرق آسيا، نتجت عنها مشاكل صحية وبيئية خطيرة أثرت في السكان. نشبت الحرائق في حوالي 808 موقعًا تم تحديدها بصور الأقمار الصناعية، وقد قدرت المساحة التي دمرتها بحوالي 45600 كم².

ابحث عن حرائق الغابات، أسبابها وآثارها وطرائق مكافحتها، ثم قم بإعداد عرض تقديمي مستعينا بما جمعته من معلومات، ومبيِّنا أثر الغازات السامة المنبعثة منها في البيئة والسكان، وسبل التخفيف منها.

العلوم
عبر المواقع الإلكترونية

ارجع إلى المواقع الإلكترونية عبر شبكة الإنترنت..



دليل مراجعة الفصل

مراجعة الأفكار الرئيسية

الدرس الأول الخواص والتغيرات الفيزيائية

1. أي خاصية للمادة يمكن ملاحظتها أو قياسها هي خاصية فيزيائية.
 2. حالات المادة الأربع هي: الصلبة، والسائلة، والغازية، والبلازما. تُحدّد حالة المادة بناءً على طاقة جزيئاتها.
 3. اللون، والشكل، والطول، والكتلة، والحجم، والكثافة، ودرجة الانصهار، ودرجة الغليان جميعها خواص فيزيائية.
 4. في التغير الفيزيائي تتغير خواص المادة دون أن يتغير نوعها.
 5. يمكن تصنيف المواد بناءً على خواصها الفيزيائية.
1. الخاصية الكيميائية هي الخاصية التي تحدد ميل المادة لحدوث تغير في تركيبها الأصلي بفعل تفاعل كيميائي مما ينتج مواد جديدة.
 2. من الخواص الكيميائية العامة: قابلية الاحتراق، والتفاعل مع الأكسجين، والتفاعل مع الحرارة أو الضوء، والتحلل بالكهرباء.
 3. عند حدوث تغير كيميائي تنتج مواد جديدة ذات خواص مختلفة عن المواد المتفاعلة.
 4. في التغير الكيميائي يكون مجموع كتل المواد الناتجة عن التفاعل مساوياً لمجموع كتل المواد المتفاعلة.

تصور الأفكار الرئيسية

تتغير خصائص مكونات الكعكة من البيض والدقيق ولا يمكن فصلها

لونها أبيض، صلبة، يمكن فصل المكسرات عن الكعك

خواص المادة

الخواص الكيميائية

يحترق وينتج ضوء وحرارة

الخواص الفيزيائية

لونه بني وسميك

المادة

جذع خشبي

عجينة كعك بالمكسرات

كتاب

كأس به عصير

يمكن أن يحترق بوجود الأكسجين

جسم صلب

يمكن أن تتغير صفات العصير عند تفاعله مع مواد أخرى

الكأس جسم صلب
والعصر سائل
وكلاهما له لون وكتلة
وحجم وكثافة

استخدام المفردات

املاً الفراغات بالكلمات المناسبة.

١. درجة الحرارة التي تتحول عندها المادة من حالة

الصلابة إلى حالة السيولة هي .. **الانصهار**

٢. الصلبة، والسائلة، والغازية هي أمثلة على

حالات المادة

الكثافة

هي كتلة وحدة الحجم من مادة ما.

التفاعل الكيميائي

يُنتج مادة جديدة، ولا يمكن الرجوع عنه بطرق فيزيائية.

٧. أيّ الخواص التالية تعد خاصية كيميائية؟

أ. الحجم

ب. الاشتعال

ج. الكثافة

د. الكتلة

٨. أيّ الخيارات التالية يصف معنى الحجم؟

أ. مساحة مربع

ب. مقدار الحيز الذي يشغله جسم ما

ج. المسافة بين ثلاث نقاط

د. درجة الحرارة التي يحدث عندها الغليان

التفكير الناقد

٩. وضع استخدام قانون حفظ المادة لتوضيح ما يحدث

للذرات عندما تتحد لإنتاج مادة جديدة.

١٠. صف حالات المادة الأربع. وما أوجه الاختلاف

بينها؟

١١. قوِّم ما المعلومات التي تحتاج إليها لإيجاد كثافة

مادة ما؟

١٢. خريطة المفاهيم صمم خريطة المفاهيم لتنظيم

الخواص الفيزيائية للمادة وتعريفها، بحيث

تتضمن المفاهيم التالية: اللون، والكثافة،

ودرجة الانصهار، ودرجة الغليان، وحالة المادة،

والكتلة، والطول، والشكل.

تثبيت المفاهيم

اختر الإجابة الصحيحة فيما يلي.

٥. أيّ مما يلي يعد دليلاً على حدوث تغير كيميائي؟

أ. تصاعد الغاز

ب. قطع مكسّرة

ج. التغير في الحجم

د. التغير في حالة المادة

٦. أيّ الخيارات التالية يصف درجة الغليان؟

أ. خاصية كيميائية

ب. تغير كيميائي

ج. خاصية فيزيائية

د. ثابتة لجميع المواد

حل الصفحة ٩٦:

ج٩- تتكسر الروابط بين المتفاعلات وتتكون روابط جديدة بين الذرات لتكوين نواتج جديدة لتكوين نواتج جديدة وتصبح جميع الذرات في المواد المتفاعلة جزء من المواد المتكونة

ج١٠- حالات المادة:

المادة الصلبة: لها حجم ثابت وشكل ثابت

المادة السائلة: لها حجم ثابت وتأخذ شكل الإناء الذي توضع فيه

الحالة الغازية: ليس لها شكل ثابت أو حجم ثابت

البلازما: نحدث عند درجات الحرارة العالية بسبب تأين الغاز

ج١١- نحتاج لمعرفة كلاً من كتلة الجسم وحجمه تبعاً لقانون الكثافة

الكثافة = كتلة / حجم

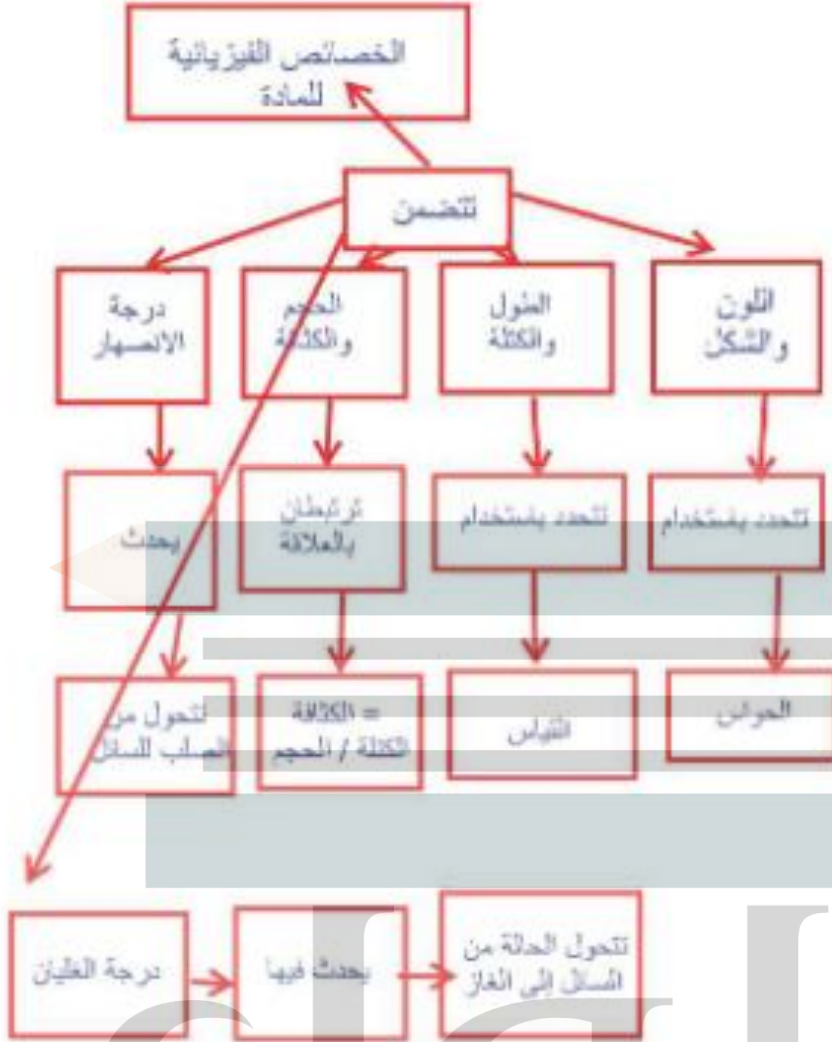
الجلول
الجلول اون لاين
h u l u l . o n l i n e



حلول

الجلول اون لاين
h u l u l . o n l i n e

حل السؤال رقم 12



حل السؤال ١٢ من الصفحة ٩٦



مراجعة الفصل

أنشطة تقويم الأداء

١٣. لوحة عرض صمّم لوحة عرض توضح فيها مفهوم قانون حفظ الكتلة في التغيرات الكيميائية، وضمّن بها رسوماتٍ وصورًا توضيحية لهذه التغيرات.

تطبيق الرياضيات

١٤. الكثافة أوجد كثافة قطعة من الرصاص كتلتها

٤٩,٠١ جم وحجمها ٤,٥ سم^٣.

١٥. املا الفراغات الموجودة في الجدول التالي:

الكثافة			
المادة	الكتلة (جم)	الحجم (سم ^٣)	الكثافة جم/سم ^٣
أ	٣,٠	٦,٥	
ب	١,٢	١,١	
ج	٤,٥		٠,٨٨
د	١٢٥		٠,٣٦
هـ		٨٥	٢,٣
و		١٠	٠,٧٥

١٦. الكثافة إذا كان لعيتين الحجم نفسه لكنهما

مختلفتان في الكثافة، فهل يمكن أن تتساويا

في الكتلة؟ وضح إجابتك باستخدام معادلة

حساب الكثافة، وأعط مثالا لدعمها.

باستخدام قانون الكثافة:

الكثافة = الكتلة / الحجم

مادتان مختلفتان في الكثافة لهما نفس الحجم يكون لكل منهما كتلة

مختلفة ولا يتساويان في الكتلة

مثال: قطعتان من الحديد لهما نفس الحجم ولهما نفس الكثافة

فيكونان متساويان في الكتلة

الذرات والعناصر والجدول الدوري

الفكرة العامة

جميع أشكال المادة من عناصر ومركبات ومخاليط تتكون من ذرات.

الدرس الأول

تركيب المادة

الفكرة الرئيسة تحتوي الذرات على بروتونات ونيوترونات في نوى صغيرة تدور حولها سحابة من الإلكترونات.

الدرس الثاني

العناصر والمركبات

والمخاليط

الفكرة الرئيسة يتكون العنصر من ذرات تحتوي على العدد نفسه من البروتونات، في حين أن المركبات تحتوي على أنواع مختلفة من الذرات مرتبطة معاً.

رحلة بالمنطاد في ربوع بلادي

قُبيل الإقلاع يطلق الموقد لهباً طويلاً، فيسخن الهواء داخل المنطاد، ويبدأ في الارتفاع في الهواء. لعلك تساءلت كيف يمكن لعملية بسيطة مثل تسخين الهواء أن تجعل المنطاد يحلق في الهواء؟

في هذا الفصل؛ وانت تدرس عن العناصر والذرات، ستتعلم المزيد عن المادة.

دفتر العلوم اعمل قائمة بثلاثة أسئلة خطرت ببالك أثناء تأملك الصورة.

ما الذي جعل المنطاد يرتفع للأعلى؟

ما المادة الموجودة داخل المنطاد؟

هل لحالة الطقس تأثير على ارتفاع المنطاد؟



نشاطات تمهيدية

اعمل المطوية التالية لمساعدتك على تحديد الأفكار الرئيسة عن الذرات، والعناصر، والمركبات، والمخاليط.

المطويات

منظمات الأفكار

الخطوة ١ ضع علامة على جانب منتصف



الورقة. ثم اطو حافتي الورقة حتى تلامسا نقطة المنتصف.



الخطوة ٢ اطو الورقة من منتصفها من حافة

لأخرى، كما في الرسم.



الخطوة ٣ افتح الورقة، وقصها على طول

خط الطي الناتج عن الخطوة ٢ لتحصل على أربعة ألسنة.



الخطوة ٤ اكتب عنواناً لكل لسان

كالآتي: الذرات، العناصر، المخاليط، المركبات.



اقرأ واكتب. أثناء قراءتك لهذا الفصل، سجل أمثلة على الذرات، والعناصر، والمركبات، والمخاليط خلف الألسنة.

تجربة استدلالية

ملاحظة المادة

لعلك تأملت زجاجة نصفها يحوي ماء، وتساءلت هل الزجاجاة فعلاً نصف فارغة؟ وإذا شربت ما بها من ماء فهل تصبح فارغة تماماً؟ أم أنها تحوي داخلها شيئاً؟

١. ألصق ورقة نشاف جافة داخل كأس زجاجية.



٢. املا وعاء عميقاً

بالماء واقلب الكأس رأساً على عقب، ثم ادفعها رأسياً ببطء في الماء إلى أقصى عمق ممكن.

٣. اسحب الكأس الزجاجية من الماء ببطء، وأخرج الورقة من الكأس وافحصها.

٤. التفكير الناقد صف تجربتك ونتائجك، واكتبها في دفتر العلوم. اشرح ما تعتقد أنه حدث. وهل كان يوجد شيء في الكأس غير الورقة؟ وإذا وجد هذا الشيء فما هو؟

عندما وضع الفنجان في الماء لم تبتل الورقة بالماء وذلك لوجود الهواء داخل الفنجان والذي يشغل حيزاً فيمنع دخول الماء إلى الفنجان

أتهياً للقراءة

المفردات الجديدة

١ **أتعلم** ماذا تفعل عندما تمرّ بك كلمة لا تدرك معناها؟ إليك بعض الاستراتيجيات المقترحة:

١. استخدم الدلالات الموجودة في سياق النص أو الفقرة لتساعدك على تحديد معنى الكلمة.

٢. ابحث عن جذر الكلمة، فلعل معناه مفهوم لديك من قبل.

٣. اكتب الكلمة واطلب المساعدة لإيجاد معناها.

٤. تخمّن معنى الكلمة.

٥. ابحث عن الكلمة في مسرد المصطلحات في نهاية الكتاب (مصادر تعليمية للطالب) أو في المعجم.

٢ **أدرب** اقرأ الفقرة الآتية، وتمعن في كلمة مُهَيِّج، ولاحظ كيف تساعدك دلالات سياق النص على فهم معناها.

نموذج رذرفورد توصل رذرفورد بعد ذلك من خلال تجربته الرائدة والمشهورة إلى أن معظم حجم الذرة فراغ، وأنها تتكون من نواة غاية في الصغر تحوي بداخلها جسيمات موجبة الشحنة أطلق عليها اسم **بروتونات**، كما اقترح أن الإلكترونات تنتشر في الفراغ المحيط بالنواة. ثم قام عالم آخر (شادويك) بتجارب علمية كان من نتائجها اكتشاف جسيم داخل النواة متعادل الشحنة (غير مشحون) أطلق عليه اسم **النيوترون**.

• دلالة من سياق النص: توجد النواة في مركز الذرة.

• دلالة من سياق النص: البروتونات جسيمات موجبة الشحنة توجد في النواة.

• دلالة من سياق النص: النيوترونات جسيمات متعادلة الشحنة توجد في النواة.

٣ **أطبق** جهز قائمة مرجعية بالمفردات الجديدة على

شريط ورقي؛ وأثناء قراءتك ضمّن القائمة كل الكلمات التي لا تدرك معناها أو ترغب في فهمها بشكل أعمق.

إرشاد

اقرأ الفقرة التي تتضمن المفردة الجديدة من بدايتها إلى نهايتها، ثم عاود القراءة محاولاً تحديد معنى المفردة.

توجيه القراءة وتركيزها

ركز على الأفكار الرئيسة عند قراءتك الفصل باتباعك ما يلي:

١ قبل قراءة الفصل أجب عن العبارات التالية في ورقة العمل أدناه.

- اكتب (م) إذا كنت موافقاً على العبارة.
- اكتب (غ) إذا كنت غير موافق على العبارة.

٢ بعد قراءة الفصل ارجع إلى هذه الصفحة؛ لترى إن كنت قد غيرت رأيك حول بعض هذه العبارات.

- إذا غيرت إحدى الإجابات فبين السبب.
- صحح العبارات غير الصحيحة.
- استعن بالعبارات الصحيحة أثناء دراستك.

بعد القراءة م أو غ	العبارة	قبل القراءة م أو غ
	١. المادة لا تفنى ولا تستحدث.	
	٢. بقي نموذج الذرة غالباً دون تغيير منذ بداية تصور مفهوم الذرة.	
	٣. معظم حجم الذرة فراغ.	
	٤. تحتوي جميع الذرات على نيوترون واحد على الأقل.	
	٥. قد تحتوي ذرتان للعنصر نفسه على عددين مختلفين من النيوترونات.	
	٦. إذا كان اسم العنصر معلوماً لك أمكنك أن تحدد كتلته الذرية.	
	٧. المواد المكوّنة من العناصر نفسها تشابه في خصائصها الفيزيائية والكيميائية.	
	٨. تحتوي المركبات والمخاليط على أكثر من نوع من العناصر.	



تركيب المادة

ما المادة؟

كثيراً ما نصف الكأس التي ليس فيها أي سائل بأنها فارغة. ترى هل هي فارغة بالفعل؟

في الحقيقة، الكأس مملوءة بالهواء وليست فارغة، والأوعية التي تقول عنها فارغة هي مملوءة بالهواء، فما الهواء؟ الهواء مخلوط من غازات متعددة، منها النيتروجين والأكسجين، وهي مواد. والمادة - كما عرفت - هي أي شيء له كتلة ويشغل حيزاً. فالهواء مادة، رغم أنك لا تستطيع رؤيته أو إمساكه بيدك. إذاً، فماذا عن الأشياء التي يمكن أن تراها، وتذوقها، وتشمها، وتلمسها؟ معظمها مواد أيضاً. انظر إلى الأشياء الموجودة في الشكل ١، وحدد أيها يعد مادة.

هل الضوء له كتلة، أو يشغل حيزاً؟ هل حرارة الشمس أو الحرارة الناتجة عن السخان تعد مادة؟ الحرارة والضوء لا يشغلان حيزاً، وليس لهما كتلة، إذن فهما لا يعدان من المواد. كذلك الإحساس، والأفكار ليست مواد.

لماذا يعد الهواء مادة، ولا يعد الضوء كذلك؟



ففي هذا الدرس

الأهداف

- تصف خصائص المادة.
- تتعرف مكونات المادة.
- تتعرف مكونات الذرة.
- تقارن بين النماذج الذرية المختلفة.

الأهمية

تكوّن المادة جميع الأشياء التي نراها، وأشياء أخرى كثيرة لا نراها.

مراجعة المفردات

الكثافة كتلة وحدة الحجم من المادة.

المفردات الجديدة

- الذرة
- النواة
- قانون حفظ المادة
- البروتون
- الإلكترون
- النيوترون

الشكل ١ قوس المطر يتنج عندما يمر الضوء خلال قطرات المطر، والنبات ينمو من بذرة في التربة، والأناة مصنوع من النحاس ومحفور عليه الكلمات والنقوش.

حدّد أي هذه الأشياء مواد؟

القرع (نبات) - النقوش والكلمات المحفورة على النحاس أما قوس قزح فهو ليس مادة



النموذج الذري

طوّر كل من العالم ليوسبوس وتلميذه ديمقريبس فكرة الذرة حوالي عام ٤٤٠ قبل الميلاد. وكان اعتقادهما حول الذرة يركز على خمس نقاط، هي:

١. تتكون كل المواد من ذرات.
٢. يوجد بين الذرات فراغ.
٣. الذرات صلبة.
٤. ليس للذرات بنية داخلية.
٥. تختلف الذرات بعضها عن بعض من حيث الحجم، والشكل، والوزن.

ما مكونات المادة؟

افتراض أنك كسّرت قطعة كبيرة من الخشب إلى أجزاء صغيرة. فهل هذه الأجزاء تتكون من المادة نفسها التي تتكون منها قطعة الخشب الكبيرة؟ استمر في تقطيع الخشب إلى أجزاء أصغر فأصغر. هل تبقى القطع الصغيرة تحمل صفات القطعة الخشبية الكبيرة نفسها؟ إذا وصلت إلى أصغر قطعة خشبية ممكنة، فهل ستشبه القطعة الخشبية الكبيرة؟ هل هناك حدّ للوصول إلى أصغر قطعة؟ عبر القرون، سأل الناس أسئلة مشابهة لهذه الأسئلة حول حقيقة المادة.

أفكار قديمة اعتقد ديمقريبس - وهو فيلسوف يوناني عاش حوالي عام ٤٦٠ إلى ٣٧٠ قبل الميلاد - أن الكون يتألف من فراغ، ومن جسيمات صغيرة جدًا من المادة. واعتقد أن هذه القطع صغيرة، لدرجة أنه لا يمكن تقسيمها إلى أجزاء أصغر. وقد سمّى هذه الأجزاء الصغيرة ذرات، يعني الشيء الذي لا يجزأ. وحاليا تُعرّف الذرة على أنها أصغر جزء من المادة وتتكون من البروتونات والنيوترونات والإلكترونات.

مساهمة لافوازييه اهتم الكيميائي الفرنسي لافوازييه بدراسة المادة، وخصوصًا تغيراتها، وكان الناس قبله يعتقدون أن المادة تختفي أو تظهر بسبب التغيرات. وأوضح لافوازييه أن كتلة الخشب والأكسجين الذي يتفاعل معها عند الاحتراق تساوي كتلة كل من الرماد والماء وثاني أكسيد الكربون والغازات الأخرى التي تنتج عن الاحتراق كما في الشكل ٢. وكذلك، فإن كتلة قطعة الحديد والأكسجين والماء تساوي كتلة الصدا الذي ينتج عن حدوث التفاعل. وبناء على تجارب لافوازييه ظهر قانون حفظ المادة، الذي ينص على أن المادة لا تفنى ولا تستحدث - إلا بقدرته الله تعالى -، وإنما تتحول من شكل إلى آخر.

الشكل ٢ عندما يحترق الخشب فإن ماوته لا تفنى. والكتلة الكلية للخشب والأكسجين تساوي الكتلة الكلية لكل من الرماد وبخار الماء وثاني أكسيد الكربون والغازات الأخرى الناتجة عن الاشتعال. استنتج ما مصدر الأكسجين اللازم لاحتراق الخشب في المدفأة؟



خشب + أكسجين = رماد + غازات + بخار ماء

الهواء الجوي

تجربة

البحث عن شيء غير مرئي

الخطوات

١. سوف يعطيك معلمك صندوقًا يحوي شيئًا أو بعض الأشياء.
٢. حاول أن تحدّد عدد الأشياء الموجودة داخل الصندوق وتتعرف أنواعها، دون النظر في داخله.

التحليل

١. ما عدد الأشياء التي استنتجتها مما هو موجود داخل الصندوق؟ حاول أن ترسم شكلها وتحددها.
٢. قارن بين ما قمت به وما يقوم به العلماء من تجارب ويعملونه من نماذج لمعرفة المزيد عن الذرة.

النماذج الذرية

نموذج دالتون الذري درس العالم الكيميائي جون دالتون حوالي عام ١٨٠٠م تجارب لافوازييه وغيره. وقد فكّر دالتون في تصميم نموذج ذري لشرح نتائج تلك التجارب. نموذج دالتون الذري هو مجموعة من الأفكار وليس نموذجًا ماديًا؛ إذ اعتقد دالتون أن المادة تتكون من ذرات صغيرة جدًا لا يمكن رؤيتها بالعين المجردة. وكذلك اعتقد أن كل نوع من المادة يتكون فقط من نوع واحد من الذرات. فذرات الذهب مثلًا يتكون منها خام الذهب، وهي التي تعطي خاتم الذهب مظهره اللامع. وكذلك قضبان الحديد تتكون من ذرات الحديد، وهذه الذرات تعطي الحديد خصائص فريدة. وقد اعتمد نموذج دالتون في ذلك الوقت بوصفه نظرية ذرية للمادة.

نموذج طومسون تمكن العالم طومسون عن طريق التجربة أن يثبت وجود جسيمات مشحونة بشحنة سالبة في الذرة، وأطلق على هذه الجسيمات اسم **إلكترونات**. اشتهرت تجربة طومسون باسم تجربة الأشعة المهبطية، وفي ضوء نتائجها وضع طومسون نموذجًا للذرة كما في الشكل ٣، حيث اقترح أن الذرة تتكون من كرة متجانسة موجبة الشحنة تتوزع فيها إلكترونات سالبة الشحنة.

يمارس العلماء تجاربهم لبناء نموذج للذرة لا يستطيعون في الواقع رؤية ما بداخلها للتأكد من صحة النموذج

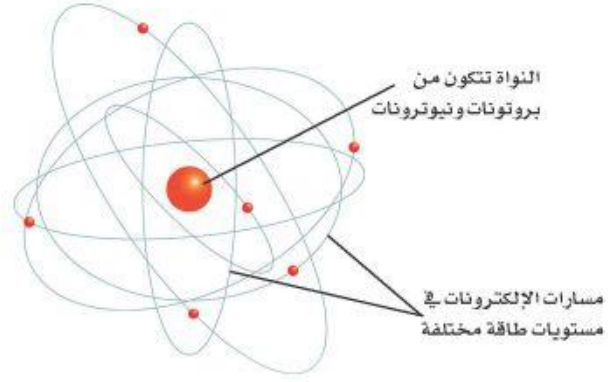
إلكترونات سالبة الشحنة

نموذج رذرفورد توصل راذرفورد بعد ذلك من خلال تجربته الرائدة والمشهورة إلى أن معظم حجم الذرة فراغ، وأنها تتكون من نواة غاية في الصغر تحوي بداخلها جسيمات موجبة الشحنة أطلق عليها اسم **بروتونات**، كما اقترح أن الإلكترونات تنتشر في الفراغ المحيط بالنواة. ثم قام عالم آخر (شادويك) بتجارب علمية كان من نتائجها اكتشاف جسيم داخل النواة متعادل الشحنة (غير مشحون) أطلق عليه اسم **النيوترون** الشكل ٤.

الشكل ٣ يبين نموذج طومسون أن الذرة كرة موجبة الشحنة تتوزع فيها إلكترونات سالبة. **وضح** كيف توصل طومسون إلى معرفة أن الذرة تتكون من شحنات موجبة وشحنات سالبة.

توصل طومسون إلى ذلك عندما اكتشف بوجود إلكترونات سالبة الشحنة في تركيب الذرة ولكنه وجد أن الذرات متعادلة الشحنة ولذلك استنتج وجود شحنات موجبة تساوي عدد الشحنات السالبة حتى تتعادل الذرة

الشكل ٤ استنتج رذرفورد أن معظم حجم الذرة فراغ، وأن الإلكترونات تتحرك فيه خلال مسارات عشوائية حول النواة. وقد اعتقد أن حجم نواة الذرة يجب أن يكون صغيراً وشحنتها موجبة، حدد أين يمكن أن تتركز كتلة الذرة.



الفيزيائيون والكيميائيون

يدرس علماء الفيزياء عادة فيزياء الذرة التي تتضمن مكّونات الذرة الداخلية، ومنها البروتونات، والنيوترونات، والقوى التي تحافظ على تماسكها أو تغير مواقعها، وخصائص العناصر المهمة، مثل درجة الانصهار وغيرها.

أما علماء الكيمياء فيدرسون كيمياء الذرة، أي العلاقة بين العناصر المختلفة، وكيف تتفاعل معاً لإنتاج مواد جديدة بما فيها المواد الدوائية والصيدلانية.

الشكل ٥ النواة والإلكترونات ومستويات الطاقة حسب نموذج بور الذري.

تطور النموذج الذري

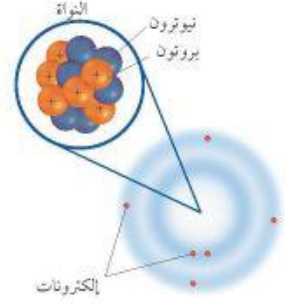
نموذج بور في بداية القرن العشرين، قدّم العالم بور الدليل على أن الإلكترونات تدور حول نواة الذرة في مستويات طاقة مختلفة. فمستوى الطاقة الأول القريب من النواة يتسع للإلكترونين، ومستويات الطاقة الأعلى أكثر بعداً عن النواة وتتسع للإلكترونات أكثر.

ولتوضيح مستويات الطاقة هذه، اعتقد بعض العلماء أن الإلكترونات تدور حول النواة في مدارات تبعد عن النواة مسافات محددة، كما في الشكل ٥. وهذا يشبه دوران الكواكب حول الشمس.



تدل على المنطقة التي يزيد فيها احتمال وجود إلكترون

النموذج الذري الحديث نتيجة الأبحاث المستمرة، توصل العلماء إلى أن للإلكترونات خصائص موجية وخصائص مادية، وأن مستويات الطاقة غير محددة. وأن الإلكترونات توجد حول النواة على شكل سحابة إلكترونية. كما في الشكل ٦.



الشكل ٦ نموذج الذرة يظهر أن الإلكترونات تتحرك حول النواة التي تتكون من بروتونات ونيوترونات على شكل سحابة إلكترونية. واللون الغامق من السحابة يُمثل المنطقة التي يزيد احتمال وجود الإلكترون فيها.

استنتج علام تدل كثافة اللون بالقرب من النواة؟

مراجعة ١ الدرس

اختبر نفسك

١. اذكر خمسة أمثلة على المادة، وخمسة أمثلة على أشياء ليست مادة. وضح إجابتك.
٢. صف أهم مكونات الذرة.
٣. فسّر لماذا كان اختيار كلمة (ذرة) مناسباً لفكرة ديمقريطس؟
٤. اشرح قانون حفظ المادة.
٥. التفكير الناقد كيف يختلف نموذج السحابة الإلكترونية عن نموذج بور للذرة؟

تطبيق المهارات

٦. صف العلماء الذين وردت أسماؤهم في هذا الدرس حسب مساهماتهم العلمية. وفسّر لماذا وضعت كلاً منهم في مجموعته.
٧. قوّم البيانات والنتائج راجع نقاط الضعف والقوة في نظرية طومسون، وحللها وانقدها مستعملاً نموذج رذرفورد.

الخلاصة

ما المادة؟

- المادة جزيئات تتألف من ذرات لها كتلة وتشغل حيزاً.
- تتكون المادة من الذرات.

النماذج الذرية

- كان ديمقريطس أول من تقدم بفكرة الذرة، وبين لأفوازييه أن المادة لا تستحدث ولا تفتنى، وإنما تتغير من حالة إلى أخرى.
- قادت أفكار دالتون إلى النظرية الذرية للمادة.
- اكتشف طومسون الإلكترون.
- اكتشف رذرفورد البروتونات الموجودة في النواة.

تطور النموذج الذري

- اقترح بور أن الإلكترونات تدور في مستويات طاقة مختلفة.
- اليوم، يرى علماء الفيزياء والكيمياء أن الإلكترونات توجد حول النواة على شكل سحابة إلكترونية.

حل الصفحة ١٠٦:

ج١- أمثلة على المادة: الماء - الصخور - التربة - المعادن - الحيوانات

أمثلة على غير المادة: الضوء - الحرارة - الموجات - الصوت - الأفكار

ج٢- تتكون الذرة من نواة بداخلها جسيمات موجبة الشحنة تسمى البروتونات وجسيمات متعادلة الشحنة وتسمى

النيوترونات وتدور حول النواة جسيمات سالبة الشحنة وتسمى الإلكترونات

ج٣- لأن كلمة الذرة تعني الجسم غير قابل للانقسام

ج٤- قانون حفظ الطاقة ينص على: المادة لا تفنى ولا تستحدث من العدم، مثلاً عند احتراق كتلة من الخشب فإن كتلة

الخشب قبل الحرق مضاف إليها كتلة الأكسجين المتفاعل معها = كتل المواد الناتجة بعد الحرق من غازات ورماد

وماء

ج٥- نموذج الغيمة الإلكترونية بخلاف نموذج بور حيث أنه لا يتضمن وجود الإلكترونات في مستويات طاقة محددة تدور

فيها النواة بل وجد في نموذج الغيمة أن مستويات الطاقة غير محددة وأن الإلكترونات توجد حول النواة في شكل غيمة

حول النواة

ج٦- ديموقريطس ودالتون: كلاهما تصور أن الذرة أصغر جزء من المادة ولا يمكن تقسيمها إلى أجزاء أصغر منها

تومسون وراذرفورد وتشادويك: جميعهم ساهموا في اكتشاف النواة وما بها من جسيمات

بور: اهتم بدراسة الإلكترونات وتحديد مستويات طاقتها

ج٧- مواطن القوى: أن الذرة قابلة للانقسام وتتكون من جسيمات

مواطن الضعف: اعتباره أن معظم حجم الذرة فراغ كالسحابة ولم يتناول بنيتها



العناصر والمركبات والمخاليط

في هذا الدرس

الأهداف

- تصف العلاقة بين العناصر والجدول الدوري.
- توضح المقصود بكل من الكتلة الذرية والعدد الذري.
- تتعرف مفهوم النظير.
- تقارن بين كل من الفلزات واللافلزات وأشباه الفلزات.
- تحدد صفات المركب.
- تقارن بين أنواع مختلفة من المخاليط.

الأهمية

جميع الأجسام مكونة من عناصر محددة في الجدول الدوري. تصنف الأطعمة التي نأكلها والمواد التي نستخدمها إلى مخاليط ومركبات.

مراجعة المفردات

الصبغة الكيميائية تبين العناصر وعدد الذرات التي يتكون منها المركب. الكتلة مقدار ما يحويه الجسم من مادة.

المفردات الجديدة

- العنصر
- العدد الذري
- النظائر
- العدد الكتلي
- الكتلة الذرية
- المخلوطة المتجانس
- الفلز
- اللافلز
- أشباه الفلزات
- المركب
- المخلوطة غير المتجانس

العناصر

هل فكرت في جهاز التلفاز، ومم يتركب؟ التلفاز جهاز شائع وله نظام معقد. وهو مصنوع من الخارج من البلاستيك غالبًا، والشاشة مصنوعة من الزجاج، والعديد من أجزائه الموصلة للكهرباء فلزات أو مجموعات فلزية. وهناك في داخله مواد أخرى قليلة التوصيل للكهرباء. وهذه الأشياء جميعها تشترك في أنها مصنوعة من مواد أبسط.

نوع واحد من الذرات تقسم المواد إلى مجموعات حسب نوع الذرات المكونة لها يسمى كل منها عنصر، والعنصر مادة تتكون من نوع واحد من الذرات. وعدد العناصر في الجدول الدوري المعروفة حتى الآن ١١٨ عنصرًا، ٩٢ منها موجود في الطبيعة.

وهذه العناصر تشكل الغازات في الهواء، والمعادن في الصخور، والسوائل مثل الماء. ومن العناصر الموجودة في الطبيعة: الأكسجين والنتروجين في الهواء، والذهب والفضة والألومنيوم والحديد في الأرض.

وهناك عناصر غير موجودة في الطبيعة، ولكن يتم تحضيرها من قبل العلماء من خلال التفاعلات النووية بواسطة آلات تُسمى مسرعات الجسيمات أو الدقائق، كما في الشكل ٧. وبعض هذه العناصر الاصطناعية مهمة، ولها استخدامات في مجال الطب ومنها بطاريات منظم ضربات القلب، كذلك تستخدم في كواشف الدخان.

الشكل ٧ بعض المسرعات لها محيط طوله ٣،٦ كم. وهذه التقنية تسمح للدقائق بالتسارع إلى سرعات عالية. وهذه السرعات العالية للدقائق تجعلها تصادم بقوة كافية منتجة عناصر اصطناعية جديدة.

تصورات للجدول الدوري

الشكل ٨

• مرت عملية ترتيب العناصر وتنظيمها في الجدول الدوري بمراحل كثيرة. ففي عام ١٧٩٠ م، تم وضع أحد أوائل قوائم العناصر ومركباتها من قبل الكيميائي الفرنسي لافوازييه الظاهر في الصورة.

ELEMENTS		
Hydrogen, 1	Strontian, 46	
Nitrogen, 5	Barytes, 68	
Carbon, 6	Iron, 50	
Oxygen, 7	Zinc, 56	
Phosphorus, 9	Copper, 56	
Sulphur, 13	Lead, 90	
Magnesia, 20	Silver, 190	
Lime, 24	Gold, 190	
Soda, 28	Platina, 190	
Potash, 42	Mercury, 167	

▲ استخدم دالتون (بريطانيا، عام ١٨٠٣ م) الرموز لتمثيل العناصر، وكذلك وضع كتلاً لها.

SCHEMA MATERIALIUM		LABORATORIO FORTATILI F. 28	
I MINERA			
II METALLA			
III MINERALIA			
IV SALIA			
V DECOMPOSITA			
VI TERRA			
VII DESTILLATA			
VIII OLEA			
IX LIMI			
X COMPOSITA			

▲ رتب أحد الكيميائيين القدامى العناصر والمركبات واستخدم لها رموزاً فلكية.

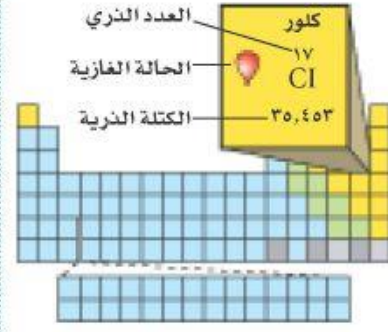
▶ رتب مندليف (روسيا عام ١٨٦٩ م) ٦٣ عنصراً كانت معروفة في زمنه في مجموعات حسب خصائصها الكيميائية وكتلها الذرية. وترك فراغات لعناصر توقع وجودها، ولم تكن مكتشفة بعد.

XVIII PRINCIPLES OF CHEMISTRY																			
PERIODIC SYSTEM OF THE ELEMENTS IN GROUPS AND SERIES.																			
Groups	GROUPS OF ELEMENTS																		
	0	I	II	III	IV	V	VI	VII	VIII										
1		Hydrogen H 1.008																	
2		Li 7.00	Be 9.01	B 10.81	C 12.01	N 14.01	O 16.00	F 19.00	Ne 20.18										
3		Na 22.99	Mg 24.31	Al 26.98	Si 28.09	P 30.97	S 32.06	Cl 35.45	Ar 39.94										
4		K 39.10	Ca 40.08	Sc 44.96	Ti 47.88	V 50.94	Cr 51.99	Mn 54.94	Fe 55.85	Co 58.93	Ni 58.71	Cu 63.54	Zn 65.37	Ga 69.72	Ge 72.64	As 74.92	Se 78.96	Br 79.90	
5		Rb 85.47	Sr 87.62	Y 88.91	Zr 91.22	Nb 92.91	Mo 95.94	Tc 98.90	Ru 101.07	Rh 102.91	Pd 106.42	Ag 107.87	Cd 112.41	In 114.82	Sn 118.71	Sb 121.75	Te 127.60	I 126.90	
6		Cs 132.91	Ba 137.33	La 138.91	Ce 140.12	Pr 140.91	Nd 144.24	Pm 144.91	Sm 150.36	Eu 151.96	Gd 157.25	Tb 158.93	Dy 162.50	Ho 164.93	Er 167.26	Tm 168.93	Yb 173.05	Lu 174.97	
7		Fr 223.02	Ra 226.07	Ac 227.03	Th 232.04	Pa 231.04	U 238.03	Np 237.05	Pu 244.06	Am 243.06	Cm 247.07	Bk 247.07	Cf 251.08	Es 252.08	Fm 257.09	Mendelevium 258.10	Nobelium 259.10	Lanthanum 260.11	Actinium 260.11
8		Xe 131.29	Os 190.23	Rh 186.21	Pt 195.08	Au 196.97	Hg 200.59	Tl 204.38	Pb 207.2	Bi 208.98	Po 209	At 210	Rn 222	Fr 223	Ra 226	Ac 227	Th 232	Pa 231	U 238
9																			
10																			
11																			
12																			



الجدول الدوري

هو مخطط لتنظيم وعرض العناصر وضعه وطوّره علماء الكيمياء. وكل عنصر في الجدول الدوري له رمز كيميائي يتكون من حرف أو حرفين، ويُستخدم الرمز لاختصار الوقت والمكان في كتابة اسم العنصر، في الجدول الدوري وفي الصيغ الكيميائية. وهذه الرموز مهمة جدًا ومتعارف عليها بين العلماء الشكل ٨. وقد ضُمن الكتاب صورة للجدول الدوري في آخره (مصادر تعليمية للطالب).



الشكل ٩ صندوق الكلور في الجدول الدوري يعرض رمز الكلور، وعدده الذري، وكتلته الذرية، وحالته.

تم ترتيب العناصر في الجدول الدوري بناء على خصائصها في صفوف وأعمدة. فالصفوف تسمى دورات. والعناصر الموجودة في دورة واحدة تكون متساوية في عدد مستويات الطاقة. أما الأعمدة في الجدول الدوري فتسمى مجموعات، وتميز العناصر التي تنتمي إلى المجموعة نفسها في الجدول الدوري بخصائص كيميائية متشابهة؛ بسبب تركيبها؛ إذ تميل هذه العناصر للإتحاد مع غيرها بطرائق متشابهة.

تحديد الخصائص

يختلف كل عنصر في الجدول الدوري عن الآخر، وله خصائص مميزة. وهذا الاختلاف ناتج عن اختلاف أعداد جسيمات الذرة في كل عنصر.

عدد البروتونات والنيوترونات ابحث عن عنصر الكلور في الجدول الدوري. Cl هو رمز عنصر الكلور كما هو مبين في الشكل ٩. ولكن ما العدان الموجودان أعلى رمز الكلور وأسفله؟ العدد الأعلى هو **العدد الذري**، وهو يمثل عدد البروتونات في نواة الذرة؛ فكل ذرة كلور يوجد في نواتها ١٧ بروتونًا.

راجع الجدول الدوري في نهاية الكتاب في جزء مصادر تعليمية للطالب.

ما العدد الذري لكل من: Ne، Cs، U، Pb؟

Ne = 10

Cs = 55

U = 92

Pb = 82

النظائر يختلف عدد البروتونات من عنصر لآخر، أمّا ذرات العنصر الواحد فلها العدد نفسه من البروتونات. لكن عدد النيوترونات قد يتغير من ذرة لأخرى حتى للعنصر نفسه، فمثلاً بعض ذرات الكلور تحوي ١٨ نيوترونًا، وبعضها الآخر يحوي ٢٠ نيوترونًا. هذان النوعان من ذرات الكلور هما كلور-٣٥، وكلور-٣٧، ويُسميان نظيري الكلور.

النظائر هي ذرات العنصر نفسه، ولها عدد البروتونات نفسه، ولكنها تختلف في عدد النيوترونات.



الشكل ١٠ نظائر الهيدروجين الثلاثة. أحدها لا يحتوي على نيوترونات بينما يحتوي الثاني على نيوترون واحد أما الثالث فيحتوي على نيوترونين. ويعد البروتيوم هو أكثر نظائر الهيدروجين شيوعاً.

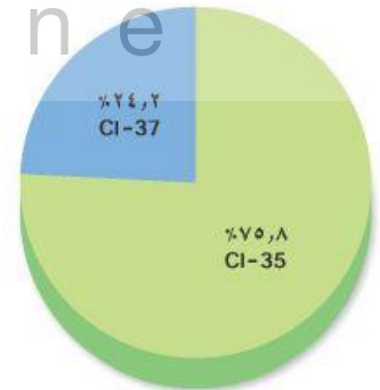
العدد الكتلي يسمّى مجموع عدد البروتونات وعدد النيوترونات في نواة الذرة **بالعدد الكتلي**. فالعددان ٣٥ و ٣٧ في ذرة الكلور، هما عددان كتليان. وذرة الهيدروجين لها ثلاثة نظائر بأعداد كتل مختلفة ١، ٢، ٣، كما في الشكل ١٠. وكل ذرة هيدروجين لها بروتون واحد فقط ولكن عدد النيوترونات فيها يختلف من نظير لآخر.

معادلة العدد الكتلي

$$\text{العدد الكتلي} = \text{عدد البروتونات} + \text{عدد النيوترونات.}$$

وتتمثل نظائر العناصر بالرموز بحيث تشير الأرقام العلوية على يسار الرمز إلى العدد الكتلي لكل نظير بينما تشير الأرقام السفلية على يسار الرمز إلى الأعداد الذرية مثل تمثيل نظائر الكربون $^{14}_6\text{C}$ ، $^{13}_6\text{C}$ ، $^{12}_6\text{C}$.

الكتلة الذرية متوسط كتل النظائر للعنصر الواحد هو **الكتلة الذرية** للعنصر. والوحدة المستخدمة لقياس الكتلة الذرية تُسمى وحدة الكتلة الذرية، ورمزها و.ك.ذ (amu). وهي تساوي $\frac{1}{12}$ من كتلة ذرة الكربون-١٢. ولحساب الكتل الذرية، يجب الأخذ في الاعتبار كل الكتل الذرية لنظائر العنصر الواحد. فمثلاً الكتلة الذرية للكلور تساوي ٣٥,٤٥ وحدة كتل ذرية. فكيف حدد الكيميائيون كتلته الذرية؟ إن ٧٥,٨% تقريباً من ذرات الكلور هي كلور-٣٥ ذو الكتلة الذرية ٣٥,٩٧ وحدة كتل ذرية (أي أن كتلته الذرية = $35,97 \times \frac{1}{11}$ كتلة ذرية كربون-١٢) و ٢٤,٢% من ذرات الكلور هي كلور-٣٧ ذو الكتلة الذرية ٣٦,٩٧ وحدة كتل ذرية. انظر الشكل ١١. ولحساب متوسط كتل نظائر الكلور



الشكل ١١ إذا كان لديك ١٠٠٠ ذرة كلور فإن ٧٥٨ ذرة منها كلور-٣٥. وحوالي ٢٤٢ ذرة كلور-٣٧.

حل المعادلات

تطبيق الرياضيات

عدد النيوترونات العدد الكتلي لذرة الصوديوم ٢٣. ما عدد النيوترونات في نواة هذه الذرة؟

الحل

١ المعطيات

العدد الكتلي = ٢٣

٢ المطلوب

عدد النيوترونات = ؟

٣ طريقة الحل

بالبحث في الجدول الدوري للعناصر نجد أن عدد البروتونات في نواة ذرة الصوديوم ١١ بروتوناً. عوض بقيمتي العدد الكتلي وعدد البروتونات في معادلة العدد الكتلي:

العدد الكتلي = عدد البروتونات + عدد النيوترونات

$$23 = 11 + \text{عدد النيوترونات}$$

عدد النيوترونات = $23 - 11 = 12$ نيوتروناً

٤ التحقق من الحل اجمع الإجابة مع عدد البروتونات، يجب أن تحصل على العدد الكتلي المعطى أعلاه.

مسائل تدريبية

١. عدد النيوترونات في نواة ذرة الباريوم (Ba) ٨١. ما العدد الكتلي لذرة الباريوم؟

٢. تحتوي نواة ذرة الألومنيوم (Al) على ١٤ نيوترونًا، و١٣ بروتونًا. ما العدد الكتلي لذرة الألومنيوم؟

نجمع حاصل ضرب كتلة كل نظير بنسبة وجوده في الطبيعة كالآتي:

$$35, 45 = 242 \times 36, 97 + 758 \times 34, 97$$

(تنبه إلى استخدام النسبة في الصورة العشرية في الحساب)

h ü l u l . o n l i n e

تصنيف العناصر

تقسم العناصر إلى ثلاثة أنواع: فلزات، وأشباه فلزات، ولافلزات. وتتشابه عناصر كل نوع في خصائصها.

الفلزات الفلزات مواد موصلة للحرارة والكهرباء، ولها لمعان فلزي، وجميعها صلبة ما عدا الزئبق. وهي مواد قابلة للطرق والسحب، أي يمكن تشكيلها بأشكال مختلفة، منها

حل المسائل التدريبية صفحة ١١١:

ج١- المعطيات: عدد البروتونات = ٨١

المطلوب: العدد الكتلي = ؟

طريقة الحل: بالبحث في الجدول الدوري نجد أن عدد البروتونات في نواة الباريوم ٥٦ بروتوناً وبالتعويض بقيمتي عدد البروتونات وعدد النيوترونات في معادلة العدد الكتلي

العدد الكتلي = عدد البروتونات + عدد النيوترونات

$$\text{العدد الكتلي} = ٨١ + ٥٦ = ١٣٧$$

التحقق من الحل: اطرح عدد البروتونات من الإجابة يجب أن تحصل على عدد النيوترونات المعطى أعلاه

ج٢- المعطيات: عدد البروتونات = ١٣ - عدد النيوترونات = ١٤

المطلوب: العدد الكتلي = ؟

طريقة الحل: بالتعويض بقيمتي عدد البروتونات وعدد النيوترونات في معادلة العدد الكتلي

العدد الكتلي = عدد البروتونات + عدد النيوترونات

$$\text{العدد الكتلي} = ١٣ + ١٤ = ٢٧$$

التحقق من الحل: اطرح عدد البروتونات من الإجابة يجب أن تحصل على عدد النيوترونات المعطى أعلاه أو أطرح عدد النيوترونات من الإجابة فأحصل على عدد البروتونات المعطى أعلاه



الشكل ١٢ يقوم الحرفي بالنقش على الفلز القابل للطرق للحصول على الشكل المطلوب.

الأسلاك والصفائح، انظر الشكل ١٢. ومعظم عناصر الجدول الدوري فلزات.

اللافلزات اللافلزات مواد يكون مظهرها معتمًا غالبًا، وقد تكون صلبة أو سائلة، ولكن معظمها غازية، والصلبة منها هشة قابلة للكسر، وهي مواد ضعيفة التوصيل للحرارة والكهرباء، وليس لها لمعان فلزيّ.

وتوجد اللافلزات في جسم الإنسان بنسبة تزيد على ٩٧% كما هو موضح في الشكل ١٣، وهي تقع في الجانب الأيمن من الجدول الدوري، ما عدا الهيدروجين.

أشباه الفلزات العناصر التي لها بعض خواص الفلزات وبعض خواص اللافلزات تُسمى أشباه الفلزات وتقع بين الفلزات واللافلزات في الجدول الدوري. وجميعها صلبة في درجة حرارة الغرفة. وبعض أشباه الفلزات لامع، والكثير منها موصل للحرارة والكهرباء، ولكن بدرجة أقل من الفلزات.

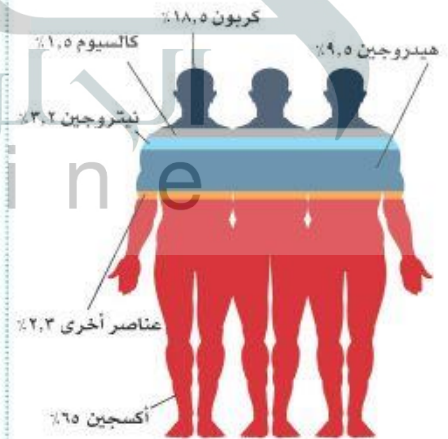
تُستخدم بعض أشباه الفلزات، ومنها السليكون، في صنع الدوائر الكهربائية في الحاسوب والتلفاز وفي أجهزة إلكترونية أخرى.

ماذا قرأت؟ ما أشباه الفلزات؟

عناصر لها خصائص فلزية وخصائص لا فلزية

المركّبات

المواد تُصنّف المواد بطرائق عدة تبعًا لتركيبها وسلوكها، فالعناصر التي تعرّفناها من قبل مواد، ومنها شريط الذهب وصفحة الألومنيوم. وعندما تتحد العناصر المختلفة تتكون مواد أخرى.



الشكل ١٣ يتكون معظم جسمك من اللافلزات.



المركبات تسمى المادة التي تنتج من اتحاد عنصرين أو أكثر مع بعض ويختلف في خواصه عن خواص العناصر المكونة له **بالمركب**. فالماء مثلاً الذي صيغته الكيميائية H_2O يتكون من عنصري الهيدروجين والأكسجين، وكل منهما غاز عديم اللون، إلا أنهما يتحدان ليكونا مركب الماء الذي تكون خواصه مختلفة عن خواص أي منهما، كما في الشكل ١٤.

للمركبات خصائص تختلف عن العناصر المكونة لها؛ فالماء يختلف تماماً عن العنصرين اللذين كوّناه، كما ذكر سابقاً. كما أن الماء يختلف عن أي مركب آخر يتكون من العنصرين نفسيهما. فهل سبق أن استعملت فوق أكسيد الهيدروجين (H_2O_2) لتعقيم الجروح؟ هذا المركب يتكون من الهيدروجين والأكسجين، ولكنه يختلف من حيث خصائصه عن الماء. الماء سائل غير مُهَيِّج، يُستعمل للاستحمام والشرب والطبخ وغير ذلك. وفي المقابل، فإننا نقرأ تحذيراً يقول: «ابتعد فوق أكسيد الهيدروجين عن العينين!»؛ فعلى الرغم من فائدته بوصفه محلولاً لتنظيف العدسات اللاصقة فإنه على عكس الماء ليس آمناً للعينين بحالته التي يكون عليها وهو في الزجاجية.

الشكل ١٤ يندفع المكوك الفضائي نتيجة تفاعل الهيدروجين والأكسجين، الذي ينتج طاقة هائلة، ومركب الماء. فسر لماذا تُعدّ السيارة التي تحرق الهيدروجين بدل البنزين صديقة للبيئة.

الصيغ الكيميائية للمركبات ما الفرق بين الماء وفوق أكسيد الهيدروجين؟ الصيغة الكيميائية للماء هي H_2O بينما صيغة فوق أكسيد الهيدروجين هي H_2O_2 . والعدد ذرات كل منها كذلك، عن يمينه يدل على عدد ذرات أكسيد الهيدروجين من ذرات الماء من ذرتي هيدروجين وذرة واحدة من الأكسجين.

لأنه ينتج الماء من عملية الاحتراق كنتاج ثانوي بدلاً من الغازات المسببة للتلوث

تدريّة عملية بناء المركبات
ارجع إلى كراسة التجارب العملية على منصة عين



الشكل ١٥ عنصرا الهيدروجين والأكسجين يكوّنان الماء، وفوق أكسيد الهيدروجين. لاحظ الفرق في تركيبهما.



تجربة

مقارنة المركبات

الخطوات

1. احصل على المواد الآتية: سكر، و عطر، وزيت.
2. لاحظ ألوان هذه المواد وأشكالها وحالاتها وقوامها.
3. أذب مقدار ملعقة من كل منها في كأس تحوي ماءً ساخنًا.

التحليل

1. قارن بين الخصائص المختلفة لتلك المواد.
2. تتكون المواد الثلاث من عناصر الكربون والهيدروجين والأكسجين لا أكثر. فكيف تستدل على اختلاف خصائصها من صيغها الكيميائية؟

ويتكون ثاني أكسيد الكربون CO_2 من ذرة كربون واحدة وذرتي أكسجين. لاحظ عندما تدخل ذرة واحدة من العنصر في المركب فإن الأرقام التي عن يمينه لا تكتب. يتكوّن المركّب دائمًا من العناصر والنسب نفسها. فالماء - مثلاً - مهما اختلف مصدره يتكون من ذرتي هيدروجين وذرة أكسجين واحدة. ومهما تكن كمية المركّب الموجودة لديك فإن صيغته تبقى كما هي، فإذا كان لديك مثلاً 6 جزئيات ماء (H_2O)، فهذا يعني أنها تحتوي على 12 ذرة هيدروجين و6 ذرات أكسجين وتكتب $6H_2O$ وليس $H_{12}O_6$. فصيغة المركب تدل على نوعه ومظهره. وهذا يمكن أي باحث في العالم من معرفته.

✓ **ماذا قرأت؟** يتكون البروبان - وهو أحد مكونات غاز الطهي - من 3 ذرات كربون و 8 ذرات هيدروجين. اكتب الصيغة الكيميائية للبروبان؟



المخاليط

الكحول الطبي: سائل لا لون له ذو رائحة نفاذة ويذوب في الماء
زيت السلطة: سائل ذهبي اللون أكثر لزوجة من الكحول ذو رائحة خفيفة أو بدون رائحة ويطفو على الماء
السكر: حبيبات بيضاء صلبة ليس لها رائحة وتذوب بسهولة في الماء

عدد الذرات لكل نوع من العناصر ونوعها وترتيبها يفسر الخصائص المختلفة لهذه المواد



تجربة عملية

ارجع إلى كراسة التجارب العملية على منصة عين



الشكل ١٦ طبقات عينة الدم هذه تحتوي على البلازما، و صفائح، و خلايا دم بيضاء، و خلايا دم حمراء.

يمكن أن تتغير نسب المواد التي يتكون منها
المخلوط دون أن تتغير هويته

ما العلاقة بين نسب المخاليط وهويتها؟ **ماذا قرأت؟**

تطبيق العلوم

ما أفضل طريقة لتحلية مياه المحيط؟

لا يمكنك شرب ماء المحيط؛ لأنه يحتوي على أملاح ومواد عالقة أخرى. ما الطريقة التي يمكننا بها جعل هذا الماء صالحًا للشرب؟
في أماكن عديدة من العالم، حيث يشح الماء، تُستخدم طرائق للتخلص من الأملاح والحصول على مياه عذبة. استخدم مهارات حل المشكلة لإيجاد أفضل طريقة لتحلية المياه في منطقة معينة.

طرائق تحلية مياه المحيط			
الطريقة	كمية الماء التي تنتجها وحدة واحدة (متر ³ /يوم)	احتياجات خاصة	عدد العاملين
التقطير	١,٠٠٠ - ٢٠٠,٠٠٠	طاقة هائلة لتغلي الماء	عدد كبير
التحليل الكهربائي	١٠ - ٤,٠٠٠	مصدر كهربائي ثابت	شخص أو شخصان

حل المشكلة

تحديد المشكلة


يقدم الجدول المبين أعلاه مقارنة بين طريقتين للتحلية. ففي حالة التقطير يلزم تسخين مياه المحيط؛ حيث يُغلي الماء ويُجمع بخاره ليتكاثف ماءً نقيًا ويبقى الملح. أما في حالة التحليل الكهربائي، فيُستعمل تيار كهربائي لسحب دقائق الملح بعيدًا عن الماء.

١- أي الطريقتين تفضل استعمالها لتحلية الماء لأعداد كبيرة من الناس حيث تتوافر الطاقة؟ **التقطير**

٢- أي الطريقتين تختار لتحلية الماء لمنزل واحد فقط؟ **الفصل الكهربائي**

الفصل الكهربائي

فصل المخاليط: يمكنك أحيانًا استعمال سائل لفصل مخلوط مكون من مواد صلبة. فإذا أضفت الماء إلى مخلوط مكون من سكر ورمل، مثلاً، فسيذوب السكر فقط في الماء. ثم يفصل الرمل عن السكر والماء بصب المخلوط في مرشح، ثم بتسخين المحلول المتبقي يفصل الماء عن السكر. وفي حالات أخرى، ربما يسهل فصل مخلوط من مواد صلبة باستعمال مناخل أو مرشحات ذات ثقب متفاوتة السعة؛ إذ يمكن فصل مكونات مخلوط من الكرات الزجاجية والحصى والرمل بهذه الطريقة.



سلطة



شراب الفاكهة

الشكل ١٧ المخاليط جزء من حياتك اليومية.

متجانس وغير متجانس يمكن تصنيف المخاليط على أنها متجانسة أو غير متجانسة؛ فالمتجانسة لا يمكن التمييز بين مكوناتها، وتكون جميع أجزائها متماثلة في الخواص. وفي الحقيقة ربما يصعب عليك بوساطة الرؤية وحدها معرفة أن المخاليط المتجانسة هي فعلاً مخاليط.

أي المخاليط في الشكل ١٧ متجانسة؟

مهما أمعنت النظر فإنه سيصعب عليك أن تميّز الشراب المركز من الماء في الشكل ١٧، وبالمثل لن تتمكن من رؤية الأشياء التي يتكون منها الهواء، فهذه المخاليط متجانسة.

تذكر أن المخاليط المتجانسة قد تكون صلبة، أو سائلة، أو غازية.

أما المخلوط غير المتجانس فيمكن التمييز بين مكوناته، ويكون أجزاؤه غير متماثلة في الخواص. فمثلاً السلطة في الشكل ١٧ تمثل نوعاً لذيذاً من المخاليط غير المتجانسة، وكذلك الأمر لحساء الخضار وطبق البيتزا.



دمك مخلوط يتكون من عناصر ومركبات؛ إذ يحتوي على خلايا دم بيضاء وحمراء، وماء، وعدد من المواد الذائبة. وتتغير نسب المواد المكونة لدمك يومياً، إلا أن المخلوط يحافظ على هويته. ويمكن للأطباء أن يفصلوا الدم إلى أجزائه المختلفة لاستعمالها بطرائق شتى.

اختبر نفسك

١. وضح بعض استخدامات الفلزات وفقاً لخواصها.
٢. وضح الفرق بين العدد الذري والعدد الكتلي.
٣. عرف النظائر ووضح بمثال كيف تختلف نظائر عنصر ما بعضها عن بعض
٤. صنف اذكر ثلاثة أمثلة على كل من المركبات والمخاليط. وفّر اختياراتك.
٥. حدّد يحتوي إناء على مخلوط من الرمل والملح والخصي. كيف يمكن فصل هذه المواد؟
٦. التفكير الناقد
- حدد ما إذا كان الذي تناولته اليوم في وجبة الفطور مركباً، أو مخلوطاً متجانساً، أو مخلوطاً غير متجانس؟
- صف كيفية إيجاد العدد الذري لعنصر الأكسجين. ثم وضح ما الذي نستفيد من معرفته؟

تطبيق الرياضيات

٧. معادلة بسيطة إذا كان العدد الكتلي لذرة البوتاسيوم ٣٩، ما عدد النيوترونات في نواة هذه الذرة علماً بأن عدد بروتونات يساوي ١٩؟ إذا كان في نواة ذرة الفوسفور ١٥ بروتوناً و ١٥ نيوتروناً فما العدد الكتلي لهذا النظير؟

الخلاصة

العناصر

- العنصر مادة مكونة من نوع واحد من الذرات.
- بالإضافة إلى العناصر الطبيعية هناك عناصر مصنعة يتم تحضيرها عن طريق التفاعلات النووية.
- تُصنف العناصر في ثلاث فئات اعتماداً على خواص فيزيائية محددة.

الجدول الدوري

- يضم الجدول الدوري جميع العناصر المعروفة ويعرضها بطريقة منظمة.
- لكل عنصر رمز كيميائي.

المركب

- يحتوي المركب على أكثر من عنصر مرتبطة معاً.
- توضح الصيغة الكيميائية العناصر التي تكوّن المركب وعدد ذرات كل منها.

المخاليط

- يحتوي المخلوط على مواد لا ترتبط معاً كيميائياً.
- يمكن فصل المخاليط إلى مكوناتها بطرق عدة تبعاً للخصائص الفيزيائية لمكوناتها.
- تصنف المخاليط إلى متجانسة وغير متجانسة. المخلوط المتجانس لا يمكن التمييز بين مكوناته، وأجزاؤه جميعها خواصها متماثلة.
- المخلوط غير المتجانس يمكن التمييز بين مكوناته. وأجزاؤه غير متماثلة في الخواص.

حل الصفحة ١١٧:

ج١- تستخدم بعض المعادن القابلة للطرق والسحب في صناعة الأسلاك والصفائح

ج٢- **العدد الذري:** هو عدد البروتونات الموجودة داخل نواة العنصر

العدد الكتلي: هو مجموع عدد النيوترونات والبروتونات داخل نواة العنصر

ج٣- **النظائر:** هي ذرات العنصر نفسه ولها عدد البروتونات ولكنها تختلف في عدد النيوترونات

مثال: كلور - ٣٥ يحتوي على ١٨ نيوترون أما كلور - ٣٧ يحتوي على ٢٠ نيوترون وكلاً من ذرتي الكلور تحتوي على ١٧ بروتون

ج٤- **المركبات:** الماء - ثاني أكسيد الكربون - ملح الطعام

المخاليط: ماء البحر - الهواء - النحاس الأصفر

المخاليط يمكن فصلها بطرق فيزيائية أما المركبات فلا يمكن فصلها

ج٥- باستخدام المنخل يمكن فصل الحصى عن مخلوط الرمل والملح ثم يضاف الماء، لإذابة الملح ويفصل الرمل من المحلول الملحي بالترشيح

ج٦- بالبحث عن رمز الأكسجين في الجدول الدوري ثم تحديد الرقم المكتوب أعلى رمز الأكسجين يكون هو العدد الذري للأكسجين ويفيدنا العدد الذري في تحديد خصائص الأكسجين

ج٧- (تطبيق الرياضيات):

المعطيات: العدد الكتلي لذرة البوتاسيوم = ٣٩

عدد البروتونات لذرة الفسفور = ١٥ = عدد النيوترونات

المطلوب: عدد نيوترونات ذرة البوتاسيوم = ؟

العدد الكتلي لذرة الفسفور = ؟

طريقة الحل: أولاً ذرة البوتاسيوم

بالبحث في الجدول الدوري عن ذرة البوتاسيوم نجد أن عدد البروتونات في نواة ذرة البوتاسيوم = ١٩ وبالتعويض بقيمتي العدد الكتلي وعدد البروتونات في معادلة العدد الكتلي

$$\text{عدد النيوترونات} + ١٩ = ٣٩$$

$$\text{عدد النيوترونات} = ٣٩ - ١٩ = ٢٠$$

التحقق من الإجابة: بجمع الإجابة مع قيمة عدد البروتونات نحصل على قيمة العدد الكتلي المعطاة

أعلاه

ثانياً: ذرة الفسفور

بالتعويض بقيمتي عدد البروتونات وعدد النيوترونات في معادلة العدد الكتلي

$$\text{العدد الكتلي} = \text{عدد البروتونات} + \text{عدد النيوترونات}$$

$$\text{العدد الكتلي} = ١٥ + ١٥ = ٣٠$$

التحقق من الحل: اطرح عدد البروتونات من الإجابة يجب أن أحصل على عدد النيوترونات المعطى

أعلاه أو أطرح عدد النيوترونات من الإجابة فأحصل على عدد البروتونات المعطى أعلاه

المادة المجهولة

سؤال من واقع الحياة



ستتعرف العديد من المركبات المتماثلة، مثل المساحيق البيضاء التي تصادفها كثيرا في المختبرات، والتي ينبغي معرفتها وتمييزها بعضها عن بعض. وهناك كذلك العديد من المواد في المنزل مثل: نشاء الذرة ومسحوق الخبز ومسحوق السكر، وجميعها مركبات متشابهة ظاهريا. يمكن تعرف المركبات

المختلفة باستخدام الاختبارات الكيميائية. فبعض المركبات تطلق غازات لدى تفاعلها مع سوائل معينة، وبعضها الآخر يعطي ألوانا مميزة، وبعضها يمتاز بدرجة انصهار مرتفعة، وأخرى ذات درجة انصهار منخفضة. كيف يمكنك أن تتعرف المركبات في مادة مجهولة من خلال التجربة؟

الخطوات

1. ارسم الجدول في الصفحة التالية في دفتر العلوم، وسجل نتائجك فيه بعناية بعد كل خطوة من الخطوات التالية.
2. ضع مقدار ملعقة من نشاء الذرة في صينية الكعك، أضف المقدار



الأهداف

- تختبر وجود مركبات معينة.
- تقرر أي هذه المركبات موجود في المادة المجهولة.

المواد والأدوات

- أنابيب اختبار (عدد 4)
- نشاء الذرة
- مسحوق السكر
- مسحوق الخبز (بيكربونات الصوديوم)
- مسحوق مادة مجهولة التركيب
- ملاعق صغيرة (عدد 3)
- قطارة (عدد 2)
- محلول اليود
- الحلل الأبيض
- سخان كهربائي أو موقد صغير
- كأس سعة 250 مل
- ماء (125 مل)
- ماسك أنابيب الاختبار
- صينية كعك

إجراءات السلامة



تحذير انتبه، عند حمل الأجسام الساخنة، والمواد التي قد تصبغ ملابسك أو تحرقها، وعليك أن تبعد أنبوب الاختبار عن وجهك وعن زملائك أثناء التسخين.

استخدام الطرائق العلمية

الكشف عن وجود المركبات			
تنصهر عندما تسخن	تتحول إلى أزرق مع اليود	تكون فقاعات عند تفاعلها مع الخل	المادة المراد اختبارها
			نشاء الذرة
			مسحوق السكر
			مسحوق الخبز

نفسه من مسحوق السكر ومسحوق الخبز بحيث تكون أكوامًا منفصلة، ثم أضف قطرة من الخل الأبيض إلى كل منها... سجل ملاحظتك ثم اغسل الصينية وجففها.

٣. ضع مرة أخرى مقدار ملعقة صغيرة من كل من نشاء الذرة ومسحوق السكر ومسحوق الخبز في صينية الكعك، بحيث تشكل أكوامًا منفصلة،

إذا لم تعطي المادة المجهولة لون أزرق عند تفاعلها مع اليود ولم تكون فقاعات عن التفاعل مع الخل ولم تنصهر فالمادة المجهولة لا تحتوي على نشاء الذرة أو السكر أو مسحوق الخبز

صل، ثم أمسك أنبوب الاختبار بلسانك، ثم امسك أنبوب الاختبار بلسانك، ثم امسك أنبوب الاختبار بلسانك.

وذلك عن طريق إجراء الثلاث اختبارات السابقة (التفاعل مع الخل - مع اليود - الانصهار) على المادة المجهولة ومنها يمكن تحديد المادة التي تتركب منها المادة المجهولة

١. صف كيف يمكن أن تقرّر أيّ المواد موجودة في المادة المجهولة.
٢. وضح كيف يمكنك أن تكون قادرًا على معرفة؛ إن كانت المركبات الثلاثة غير موجودة في المادة المجهولة التي اختبرتها.

تواصل

٣. استخلص النتائج ما الذي تستنتجه إذا اختبرت (بيكنج بودر) في منزلك، ووجدت أنه يطلق فقاعات عند إضافة الخل إليه، ويتحول إلى اللون الأزرق لدى تفاعله مع اليود، ولا ينصهر عند تسخينه.

استنتج أن البيكنج بودر يحتوي على النشا ومسحوق الخبز ولا يحتوي على السكر

بياناتك
اعمل جدول بيانات آخر تعرض فيه نتائجك بطريقة مختلفة. للمزيد من المساعدة، ارجع إلى دليل المهارات العلمية في مصادر الطالب التعليمية.

الطب النووي

تستخدم النظائر المشعة في المستشفيات لدراسة وظائف الأعضاء. فمثلاً عندما يريد الطبيب أن يدرس وظائف كلية مريض فإنه يستخدم نظيراً مشعاً يتجمع في الكلية. وتُطلق المادة المشعة أثناء تحليلها أشعة جاما.

يُلتقط بعضها بجهاز الماسح ليرى الطبيب الصورة على الماسحة ويتبين منها إذا كانت الكلية سليمة أم لا. كذلك تستخدم النظائر المشعة في علاج السرطان لتدمير الخلايا السرطانية. فمثلاً يمكن استخدام نظير مشع لليود لعلاج سرطان الغدة الدرقية. فالليود المشع يصدر إشعاعاً يقتل الخلايا السرطانية. وفي الصناعة أيضاً تستخدم النظائر المشعة لأغراض كثيرة منها:

استخدام أشعة جاما في فحص السبائك الفلزية، والكشف عن نقاط الضعف في لحامات خطوط أنابيب النفط. وفي الأبحاث تستخدم النظائر المشعة في دراسة سلوك المواد الكيميائية في جسم النبات والحيوان، وأيضاً في تحديد أعمار المواد وتواريخها مثل الصخور.



ابحث في المواقع الإلكترونية عن نسبة استهلاك العالم من الطاقة النووية إلى الطاقة الكلية المستهلكة، ثم اجمع بيانات عن معدل إنتاج الطاقة النووية في الدول النووية، واعمل رسماً بيانياً بالأعمدة لهذه البيانات.

العلوم عبر المواقع الإلكترونية

ارجع إلى المواقع الإلكترونية عبر شبكة الإنترنت..



دليل مراجعة الفصل

مراجعة الأفكار الرئيسية

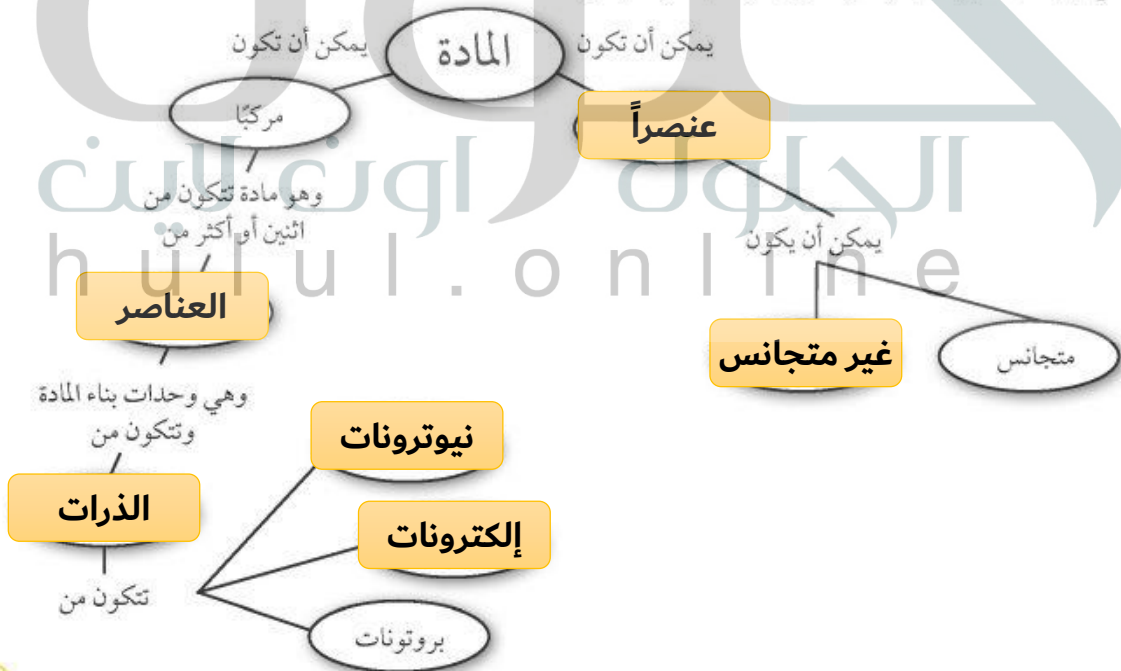
الدرس الثاني العناصر والمركبات والمخاليط

الدرس الأول تركيب المادة

- المادة كل ما له كتلة ويشغل حيزاً من الفراغ.
- المادة مكونة من ذرات.
- الذرة تتكوّن من أجزاء صغيرة هي البروتونات، والنيوترونات والإلكترونات.
- وضع العلماء مجموعة من النماذج الذرية أثناء سعيهم لاكتشاف التركيب الداخلي للذرة، ويتكون النموذج الحديث للذرة من نواة مركزية يوجد فيها بروتونات ونيوترونات، ويحيط بها سحابة إلكترونية.
- العناصر وحدات بناء المادة.
- يدل العدد الذري للعنصر على عدد البروتونات في نواة الذرة، وتدل الكتلة الذرية على متوسط كتل النظائر العنصر الواحد.
- النظائر هي ذرتان أو أكثر من العنصر نفسه، تحتوي عدداً مختلفاً من النيوترونات.
- المركب مادة تتنج عند اتحاد العناصر معاً بنسب ثابتة، وتختلف في خصائصها عن خصائص العناصر المكونة لها.
- المخلوط مزيج من مركبات وعناصر لا تشكل مادة جديدة ويمكن أن تتغير نسبتها دون تغير في طبيعة المخلوط.

تصور الأفكار الرئيسية

انسخ خريطة المفاهيم التالية وأكملها لتبين مكونات المادة وتصنيفاتها:





استخدام المفردات

املاً الفراغات بالكلمات المناسبة:

المادة

- كل شيء يشغل حيزاً وله كتلة، يُسمى .
- الجسيمات الموجودة في نواة الذرة وتحمل شحنة موجبة وعددها يساوي العدد الذري، تسمى .

البروتونات

نيوترونات

- يوجد في نواة الذرة بروتونات و .
- عندما يرتبط عنصران أو أكثر كيميائياً فإن المادة الناتجة تسمى .
- العناصر التي لها لمعان وموصلة للكهرباء والحرارة وقابلة للطرق والسحب وتشغل معظم الجدول الدوري هي .

مركباً

الفلزات

تثبيت المفاهيم

اختر الإجابة الصحيحة فيما يأتي:

- يعد محلول السكر والماء:
 - عنصرًا
 - مخلوطاً غير متجانس
 - مركبًا
 - مخلوطاً متجانساً

٧. تحتوي ذرة على ١٢ بروتوناً و١٢ نيوترونًا، وتحتوي ذرة

أخرى على ١٢ بروتوناً و١٦ نيوترونًا. ماهاتان الذرتان؟

أ. ذرتا كروم

ب. عنصران مختلفان

ج. نظيران للعنصر نفسه

د. مشحونتان شحنة سالبة

٨. إذا تماثلت العناصر المكونة لمركبين فلا بد أن:

أ. المركبين متماثلان.

ب. خصائص المركبين الفيزيائية والكيميائية متماثلة

ج. الصيغ الكيميائية للمركبين متماثلة.

د. الرموز الكيميائية في صيغ المركبين متماثلة،

لكن الأرقام قد تختلف.

٩. تتكوّن الذرة من:

أ. إلكترونات وبروتونات.

ب. نيوترونات وبروتونات.

ج. إلكترونات وبروتونات ونيوترونات.

د. عناصر وبروتونات وإلكترونات.

١٠. الجسيمات ذات الشحنة السالبة في الذرة هي:

أ. البروتونات

ب. الإلكترونات

ج. النيوترونات

د. النواة.

وذلك من خلال متوسط مجموع الكتل الذرية لنظائر لعنصر الواحد

لأن كوبالت ٦٠ وكوبالت ٥٩ نظائر، لأن كل
منهما يحتوي على ٢٧ بروتون في نواته

١٦. فسر كيف يمكن أن يكون (كوبالت - ٦٠)
(كوبالت - ٥٩) العنصر نفسه، مع أن لكل منهما
عددًا كتليًا مختلفًا.

١٧. اشرح كيف يمكن حساب الكتلة الذرية للعنصر؟

١١. أين تتواجد الإلكترونات في الذرة؟

أ. في النواة مع البروتونات

ب. مرافقة للنيوترونات

ج. حول النواة على شكل سحابة إلكترونية

د. في الجدول الدوري للعناصر

١٢. أي المواد التالية خليط غير متجانس؟

أ. الهواء

ب. السَّلْطَة

ج. عصير التفاح

د. سبيكة الذهب

الكربون = ٦

الصوديوم = ١١

النكل = ٢٨

النيوتروجين

في حمض الكبريتيك: نسبة الهيدروجين إلى

الأكسجين = ١:٢

نسبة الهيدروجين إلى الأكسجين لـ فوق أكسيد

الهيدروجين = ١:١

تطبيق الرياضيات

١٩. الكتلة الذرية لعنصر الكريبتون له ستة نظائر
طبيعية، أعدادها الكتلية: ٧٨، ٨٠، ٨٢، ٨٣،
٨٤ و ٨٦.

اعمل جدولاً يبين عدد البروتونات
والإلكترونات والنيوترونات في كل من تلك
النظائر.

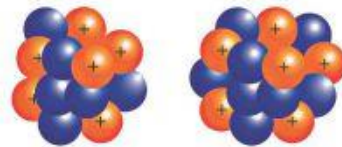
٢٠. نسبة الذرات ما نسبة الهيدروجين إلى
الأكسجين في كل من حمض الكبريتيك
(H_2SO_4) وفوق أكسيد الهيدروجين (H_2O_2)؟

التفكير الناقد

١٣. صف استخدام الجدول الدوري، لإيجاد العدد الذري
لكل من الكربون والصوديوم والنكل.

١٤. ما العنصر الذي يحتوي على ٧ بروتونات؟

١٥. الرسمان التاليان لذرتي كربون. هل هما نظيران أم
لا؟ فسر إجابتك.



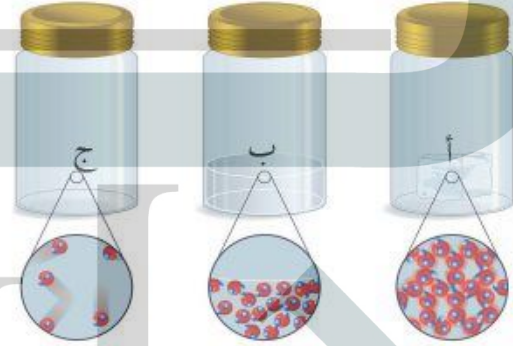
ذرتي الكربون نظيران لأنها يتساويان في عدد
البروتونات ويختلفان في عدد النيوترونات حيث تحتوي
أحدهما على ٦ بروتونات و ٦ نيوترونات أما الذرة
الأخرى فتحتوي على ٦ بروتونات و ٨ نيوترونات

كريبتون ٧٨:٣٦ بروتون + ٣٦ إلكترون + ٤٢ نيوترون
كريبتون ٨٠:٣٦ بروتون + ٣٦ إلكترون + ٤٤ نيوترون
كريبتون ٨٢:٣٦ بروتون + ٣٦ إلكترون + ٤٦ نيوترون
كريبتون ٨٣:٣٦ بروتون + ٣٦ إلكترون + ٤٧ نيوترون
كريبتون ٨٤:٣٦ بروتون + ٣٦ إلكترون + ٤٨ نيوترون
كريبتون ٨٦:٣٦ بروتون + ٣٦ إلكترون + ٥٠ نيوترون

الجزء الأول أسئلة الاختيار من متعدد

١. أي مما يلي ليس من الخصائص الفيزيائية للمادة؟
- الحجم
 - الكتلة
 - الكثافة
 - الاشتعال

استخدم الأشكال التالية للإجابة عن السؤالين (٢، ٣).



٢. الدقائق في الوعاء (أ) هي دقائق مادة:

- صلبة
- سائلة
- غازية
- بلازما

٣. إذا كانت الأوعية الثلاثة السابقة تحوي على ماء في حالاته الثلاث، فإن الوعاء (ج) يمثل:

- الماء السائل
- بخار الماء
- الجليد
- خليط من غازي الأكسجين والهيدروجين

٤. صاحب فكرة «أن المادة تتكون من دقائق صغيرة تسمى الذرات» هو العالم:

- أرهينيوس
- أفوجادرو
- شادويك
- ديمقريطس

٥. أغلب العناصر الموجودة على يسار الجدول الدوري، هي:

- فلزات
- غازات
- لا فلزات
- أشباه فلزات

٦. أي الخصائص التالية تتصف بها اللافلزات الصلبة:

- لامعة
- هشة
- جيدة التوصيل للحرارة
- جيدة التوصيل للكهرباء

٧. في ذرة نظير عنصر الكالسيوم $^{40}_{20}\text{Ca}$ يدل الرقم ٤٠ على عدد:

- النيوترونات
- البروتونات
- الإلكترونات
- النيوترونات + عدد البروتونات

التغير الفيزيائي: لا يحدث تغير في هوية المادة أو تركيبها بينما تتغير الخصائص الفيزيائية فقط للمادة
التغير الكيميائي: تتغير المادة وينتج مادة جديدة ويرافق التغير الكيميائي خروج ضوء أو حرارة أو دخان أو يتغير اللون أو يتصاعد الفقاعات

تسمى الصفوف بالدورات والأعمدة بالمجموعات

٨. ماذا نسمي كلاً من الصفوف والأعمدة في الجدول الدوري؟

٩. يتكوّن جزيء فوق أكسيد الهيدروجين من ذرتي أكسجين وذرتي هيدروجين ما الصيغة الجزيئية لستة من جزيئات فوق أكسيد الهيدروجين؟

(H₂O)₆

١٠. هل يتكون معظم جسم الإنسان من فلزات أو لافلزات أو أشباه فلزات؟ لا فلزات

١١. اختر أي جسم في غرفة الصف، ثم صف خصائصه الفيزيائية.

١٢. ما الفرق بين التغير الفيزيائي والتغير الكيميائي؟ وما دلائل حدوث كل منهما؟

الجزء الثالث | أسئلة الإجابات المفتوحة

١٣. لديك قصاصة من الورق، وضح كيف تغير في خصائصها الفيزيائية والكيميائية.

١٤. لديك ٢٠ مل من الزيت، و٢٠ مل من الخل. هل تتوقع أن تكون لهما الكتلة نفسها؟ لماذا؟

١٥. صناعة الخبز مثال على التغير الكيميائي. صف خواص المواد قبل عملية الخبز وبعدها؟

١٦. اشرح ثلاث طرائق لفصل مكونات المخاليط، واعط مثالا على كل واحدة.

أغير في الخصائص الفيزيائية بتقطيعها إلى قطع صغيرة أو أغير شكلها وأغير في الخصائص الكيميائية يحرق الورقة

المنضدة جسم صلب له وله كتلة وحجم

لا، ليست لهما نفس الكثافة وبالتالي ليس لهما نفس الكتلة

قبل الخبز تكون المواد على شكل مخلوط وبعدها الخبز يتكون مواد جديدة بفعل عملية التخمر والخبز وهذا يؤدي إلى تغير تركيبها وطعمها ولونها ولا يمكن إعادتها إلى مكوناتها الأصلية

الترشيح: وهو فصل مادة تذوب في الماء عن أخرى لا تذوب مثل فصل مخلوط الرمل والملح
التبخير: مثل فصل الملح عن الماء
المغناطيسية: مثل فصل برادة الحديد عن الكبريت

سطح الأرض المتغير

الوحدة



ما العلاقة بين

الصخور والمصاييح

الفلورية؟

الخطوة الأولى
h u l u l . o n l i n e



حوالي عام 1600م، اكتشف صانع أحذية إيطالي صخرة تحتوي على معدن يضيء في الظلام، وقد دفع هذا الاكتشاف العلماء للبحث عن معادن أخرى تتمتع بهذه الخاصية، ونجحوا في اكتشاف عدة معادن من النوع الفوسفوري، والفلوري، تتفاعل مع بعض أشكال الطاقة، وتصدر ضوءها الخاص. وكما ترى في الصورة، يبدو أحد المعادن الفلورية بمظهر عادي عند رؤيته في ضوء النهار، لكنه يصدر إضاءة غريبة عند تعريضه للأشعة فوق البنفسجية، وفي منتصف القرن التاسع عشر، استطاع أحد العلماء أن يستفيد من تفاعل خصائص المواد الفلورية في توليد نوع جديد من الإضاءة، فوضع مادة فلورية داخل أنبوب زجاجي، ومرر فيه شحنة كهربائية، فكان هذا أول اختراع لمصباح الفلوروسنت (النيون) الذي يستخدم اليوم على نطاق واسع في إضاءة الشوارع، والمنازل والمكاتب والمصانع والمدارس.

مشاريع الوحدة

ارجع إلى أي موقع إلكتروني للبحث عن فكرة أو موضوع يصلح لمشروع تنفذه بنفسك. ومن المشروعات المقترحة ما يلي:

- **التاريخ** ابحث عن الكيميائي / الصناعي الذي اخترع الديناميت (المتفجرات)، ووضعه جوائز نوبل.
- **التقنية** حلل خواص التربة من خلال مقطع أنطقة التربة (طبقات التربة) مبيّنًا خواص كل نطاق من حيث درجة الحرارة والنسيج وحجم الحبيبات وأي خواص أخرى تحصل عليها. تواصل مع زملائك عبر النت بنتائجك.
- **النماذج** ابحث عن عينات من الصخور لها خصائص متنوعة، واستخدمها في جلسة حوار مع زملائك.

صخور المريخ: ابحث عن خصائص كوكب المريخ، والدليل الذي قاد العلماء للاعتقاد بإمكانية وجود حياة علمية.

البحث عبر
الشبكة الإلكترونية

الصخور والمعادن

الفكرة العامة

تشكل أعداد قليلة فقط من المعادن معظم صخور الأرض

الدرس الأول

المعادن - جواهر الأرض

الفكرة الرئيسية لكل معدن خواص فيزيائية تميزه، وتستخدم في تعرفه.

الدرس الثاني

أنواع الصخور

الفكرة الرئيسية أنواع الصخور هي: نارية ورسوبية ومتحولة، وتخضع هذه الأنواع الثلاثة لعوامل كثيرة تغيرها من نوع إلى آخر باستمرار.

الجلول أون لاين
h u l u l o n l i n e

كيف تشكلت هذه المعالم؟

أثناء تنزهك في هذه المنطقة ستبدو لك هذه الصخور وكأنها لا تتغير. إلا أن الصخور والمعادن المكونة لها تتغير بشكل دائم وفقاً لتغير الظروف الطبيعية.

دفتن العلوم لاحظ صخرة أو عينة معدن قممت بالتقاطها أو أعطاك إياها المعلم، وصف ثلاثاً من خواصها.


نشاطات تمهيدية

المطويات

الصخور والمعادن اعمل المطوية التالية للمقارنة بين خصائص الصخور وخصائص المعادن.

منظمات الأفكار

الخطوة ١ اطو الورقة على استقامتها طولياً.



الخطوة ٢ اطو الورقة إلى ثلاثة أجزاء.

الخطوة ٣ ابسط الورقة، وارسم شكلين بيضيين

مقاطعين، ثم قص الطبقة العلوية على طول خطي الطيات.



الخطوة ٤ اكتب عناوين الأشكال البيضية كما في الشكل.



ارسم مخطط فن وأنت تقرأ الفصل، اكتب خصائص المعادن تحت الجزء الأيمن من المطوية، وخصائص الصخور تحت الجزء الأيسر، والخصائص المشتركة بينهما تحت الجزء الأوسط.

تجربة استدلالية

ملاحظة الصخر

عندما تصل إلى القمة، تكون فرصتك أفضل للنظر عن قرب إلى الصخر الذي كنت تتسلقه. في البداية، تلاحظ أن الصخر يلمع في ضوء الشمس بسبب وجود بقع لامعة موجودة فيه، ولكن بالنظر عن قرب، يمكنك مشاهدة قطع زجاجية واضحة ووردية غير منتظمة. فَمِمَّ يتكون الصخر؟ وكيف وصل إلى هنا؟

١. احصل على صخر لأمع من معلمك، وعدسة مكبرة.
٢. شاهد الصخر باستخدام العدسة المكبرة، وسجل أكبر قدر من خصائصه التي تشاهدها.
٣. أعد الصخر إلى معلمك.
٤. صف الصخر الذي معك بطريقة تمكن طلاباً آخرين من تعرفه وتمييزه من بين مجموعة صخور أخرى.
٥. التفكير الناقد كيف تجمعت أجزاء الصخر لتشكله كاملاً؟ صف ذلك في دفتر العلوم، واستخدم الرسوم. احرص على وضع عناوين لرسومك.

البلورات المكونة للصخر مترابطة وتبدو متصلة

مع بعضها بإحكام

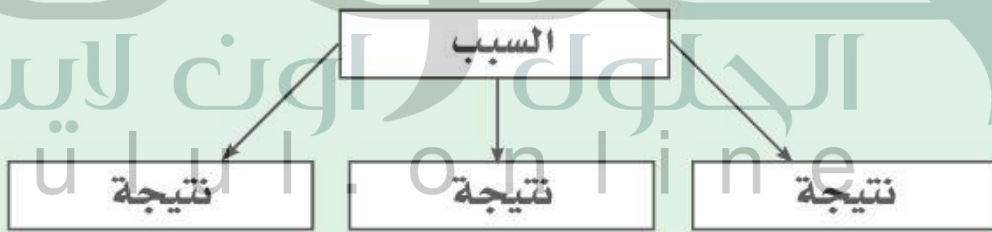
أتهياً للقراءة

السبب والنتيجة

١ **أتعلم** السبب هو تعليل حدوث الأشياء، والنتيجة هي أثر ما يحدث. وباستخدام المنظمات التخطيطية يمكنك ترتيب الأسباب والنتائج وتحليلها أثناء قراءتك.

٢ **أدرب** اقرأ الفقرة الآتية ثم استخدم المنظم التخطيطي المرفق لتوضيح ما يحدث عندما تشكل الصخور الصلبة من المواد الصخرية المصهورة:

يؤثر التركيب الكيميائي للصهير الصخري في لون الصخر الناتج. فإذا احتوى الصهير على نسب عالية من السليكا ونسب قليلة من الحديد والماغنسيوم والكالسيوم كان الصخر فاتح اللون، ويسمى هذا النوع بالصخور الجرانيتية. أما إذا كانت نسبة السليكا قليلة وتحتوي الصهارة على الحديد والماغنسيوم والكالسيوم بنسبة عالية فإن الصخر الناري يكون غامق اللون، كما في حالة البازلت.



٣ **أطبق** انتبه جيداً أثناء قراءة الفصل لأسباب الذوبان ونتائجه، وحدد سبباً واحداً على الأقل ونتيجته.

إرشاد

تساعدك المنظمات التخطيطية
- ومنها منظم السبب والنتيجة -
على تنظيم ما تقرأ؛ ليسهل فهمه
وتذكره لاحقًا.

توجيه القراءة وتركيزها

ركز على الأفكار الرئيسة عند قراءتك الفصل باتباعك ما يلي:

١ قبل قراءة الفصل

أجب عن العبارات التالية في ورقة العمل أدناه.

- اكتب (م) إذا كنت موافقًا على العبارة.
- اكتب (غ) إذا كنت غير موافق على العبارة.

٢ بعد قراءة الفصل

ارجع إلى هذه الصفحة، لترى إن كنت قد غيرت رأيك حول أي من هذه العبارات.

- إذا غيرت إحدى الإجابات فبين السبب.
- صحح العبارات غير الصحيحة.
- استعن بالعبارات الصحيحة أثناء دراستك.

بعد القراءة م أو غ	العبارة	قبل القراءة م أو غ
	١. تصنع الأواني الفلزية والخزفية من المعادن.	
	٢. يعد اللون دائمًا أفضل خاصية يمكن الاستعانة بها لتمييز أنواع المعادن.	
	٣. المعادن المكونة لمعظم الصخور محدودة.	
	٤. تتكون الصخور النارية الجوفية على سطح الأرض، أما الصخور النارية السطحية فتتكون في باطن الأرض.	
	٥. تستغرق الصخور الرسوبية آلاف أو ملايين السنين لتتكون.	
	٦. الفحم صخر رسوبي.	
	٧. عندما تتعرض الصخور لعوامل الضغط والحرارة حتى تنصهر تصبح صخورًا متحولة.	
	٨. في دورة الصخور المستمرة تتحول الصخور النارية إلى صخور رسوبية ومن ثم إلى صخور متحولة.	





المعادن - جواهر الأرض

فيم هذا الدرس

الأهداف

- تحدد الفرق بين المعدن والصخر.
- تصف الخصائص المستخدمة في تحديد المعادن.

الأهمية

المعادن مواد أساسية في الطبيعة يستخدمها الإنسان في أغراض مختلفة.

مراجعة المفردات

الخصائص الفيزيائية خصائص للمادة يمكن ملاحظتها دون أن يؤدي ذلك إلى إحداث تغيير في ماهيتها.

المفردات الجديدة

- المعدن
- الحجر الكريم
- الصخر
- الخام
- البلورات

ما المعدن؟


افترض أنك تخطط للبحث عن المعادن، فأين تبحث عنها؟ هل تبحث عنها داخل كهف أم تخترق أعماق منجم؟ في الواقع، يمكنك إيجاد المعادن بسهولة في بيتك؛ داخل علبة الملح، وفي قلم الرصاص. فالأباريق الفلزية والأواني الزجاجية، وأطباق الخزف كلها منتجات مصنوعة من المعادن. انظر الشكل ١ الذي يوضح معادن ومنتجات مألوفة مصنوعة منها.

تعريف المعدن المعدن مادة صلبة غير عضوية موجودة في الطبيعة. ومعنى غير عضوية أنها لم تنشأ عن نبات أو حيوان. وقد تبين من خلال فحص المعادن بالأشعة السينية أن ذراتها ذات ترتيب منتظم ومتكرر، ويشير المظهر البلوري الجميل في العديد من المعادن إلى هذا الترتيب. وينفرد كل معدن بتركيبه الكيميائي، وترتيب ذراته. أما **الصخر** فهو مكون من معدن واحد أو أكثر. وكل معدن له خصائص مميزة يمكنك بواسطتها تعرفه، وحتى الآن تم التعرف على أكثر من ٤٠٠٠ معدن.

كيف تتشكل المعادن؟ تتشكل المعادن بعدة طرائق، منها طريقة التبريد البطيء للصهير الصخري الموجود في باطن الأرض والمسمى الصهارة، حيث تتحد الذرات بطريقة منتظمة وتكون أنواعاً خاصة من المعادن. أما إذا وصل الصهير الصخري إلى سطح الأرض فإنه يطلق عليه اسم لابة، ويحدث له تبريد سريع فيتكون نوع آخر من المعادن، وهذه هي الطريقة الثانية لتشكل المعادن، وهناك طرائق أخرى؛ إذ يمكن للتبخّر أن يكون المعادن أيضاً. فكما تتشكل بلورات



المادة داخل قلم الرصاص ليست عنصر الرصاص، وإنما هي من معدن الجرافيت.



معدن الكوارتز يستخدم في صناعة الزجاج الذي تستخدمه يومياً.

الشكل ١ أنت تستعمل المعادن يومياً دون أن تنتبه إلى ذلك؛ لأنها تدخل في صناعة الكثير من المواد والأدوات المألوفة.



الشكل ٢ هذا التجمع من بلورات معدن الفلوريت تكوّن من محلول مشبع بمعادن ذائبة فيه.



الربط مع
علم الأحياء

تركيب العظام

إن العظام الموجودة في أجسام المخلوقات الحية، ومنها الإنسان والخيول، تحتوي على بلورات صغيرة من معدن يسمى الأباتيت. ابحث عن معدن الأباتيت، وأخبر زملاءك بما توصلت إليه.



الشكل ٣ معدن البيريت يتكون عادة من بلورات سداسية الأوجه. فسر لماذا يسمى هذا المعدن بالذهب الزائف؟

للمعدن البيريت لون ذهبي ولمعان فلزي فيبدو كالذهب

الملح عند تبخر ماء البحر تتشكل بلورات معادن أخرى ذائبة في الماء عند تبخره، ومنها الجبس. وإضافة إلى ما سبق تتشكل المعادن بفعل عملية الترسيب؛ فالماء يمكنه حمل كميات محددة من المواد الذائبة فيه، وما يفيض عنها يبدأ في الترسيب على شكل مادة صلبة، ومن أمثلة المعادن التي تتشكل بطريقة الترسيب معدن المنجنيز؛ إذ تغطي رواسبه البلورية مساحات شاسعة من قيعان المحيطات متخذة أشكالاً كروية تسمى عُقيدات المنجنيز، تصل أقطارها إلى ٢٥ سم.

أدلة تشكّل المعدن في بعض الأحيان، يمكنك الحكم على طريقة تكون المعدن من مظهره؛ فوجود بلورات معدنية كبيرة مرتبطة معاً بإحكام دليل على تكوّن الصخر نتيجة عملية تبريد بطيء للصهارة. أما إذا رأيت بلورات كبيرة مكتملة الشكل فذلك يعني أن المعدن قد توافر له حيز كافٍ لينمو داخله، كما يحدث عند تكونه في فجوة موجودة داخل الصخور مثلاً.

البلورات الظاهرة في الشكل ٢ تشكلت من محلول مشبع بالمعادن الذائبة، ولمعرفة كيف يتشكل معدن ما يجب أن تلاحظ حجم البلورات، وكيف تتنظم معاً.

خصائص المعادن

إذا لمحننا عن بعد صديقاً بين حشد من الناس فقد لا نستطيع التأكد من شخصه إلا برؤية وجهه، أي من خلال معرفة سمات تميزه عن الآخرين، ومنها لون الشعر وشكل العينين والقدم. نستطيع من خلالها تمييز كل معدن عن غيره من المعادن الأخرى. ومعظم المعادن الشائعة يمكن تعرفها من خلال مواد موجودة حولك، أو يمكنك حملها في جيبك، مثل قطعة نقود أو مفرد فولاذ. وبالتدريب يمكنك تمييز أشكال المعادن المختلفة.

الشكل البلوري جميع المعادن تتركب من ذرات مرتبة بشكل منتظم ومتكرر. وتُسمى المادة الصلبة التي تحوي ذرات بهذا الشكل **بلورات**. وتحوي البلورات أحياناً سطوحاً ملساء تُسمى السطوح البلورية. فمعدن البيريت يتشكل من بلورات سداسية الأوجه كما في الشكل ٣.

ماذا قرأت؟ ما الذي يميز البلورات عن الأنواع الأخرى من المواد الصلبة؟

تتربك من ذرات مرتبة بشكل منتظم ومتكرر



ج المكسر يمكن أن يكون غير منتظم أو متحنياً مثل الكوارتز.



ب معدن الهاليت (الملح الصخري) له ثلاثة اتجاهات انقسام متعامدة. استنتج لماذا يمكن أن تظهر حبيبات الملح الصخري على شكل مكعبات صغيرة؟



أ معادن مجموعة المايكا لها اتجاه انقسام واحد، وتتشقق إلى صفائح.

ينتج عن الاتجاهات الثلاثة لمستويات الانقسام المتقاطعة بزوايا قائمة شكل خارجي مكعب

التي
إن لها
صفائح

رقيقة، أو في ثلاثة اتجاهات متعامدة كما في معدن الهاليت الشكل ٤ ب. ويحدث الانقسام بسبب وجود مناطق ضعف داخل ترتيب الذرات المكوّنة للمعادن. لا تظهر جميع المعادن خاصية الانقسام؛ فبعضها ينكسر ويتحول إلى قطع ذات سطوح خشنة، كما في معدن الكوارتز ويقال إن لها مكسراً. يُظهر الشكل ٤ ج مكسر الكوارتز.

الشكل ٤ بعض المعادن لها انقسام في اتجاه أو أكثر. إذا لم ينكسر المعدن على طول سطح مسطح يكون له مكسر.

تجربة عملية بلورات الشب والجيود
اربع إلى كراسة التجارب العملية على منصة عين

اللون يشير اللون الذهبي المحمّر في بعض قطع النقد الجديدة إلى احتوائها على النحاس، بينما يتميز الكبريت بلونه الأصفر اللامع. لذا يمكن تعرّف المعدن أحياناً من لونه، ولكن قد يكون اللون خادعاً أيضاً. فمثلاً، معدن البيريت له لون أصفر لامع مثل الذهب الحقيقي مما يخدع المُتقبّلين عن الذهب، لذلك يُسمّى ذهب المغفلين. وأحياناً يكون هناك معادن مختلفة لها اللون نفسه، وقد يظهر المعدن نفسه بألوان مختلفة، كما في معدن الكالسيت، انظر الشكل ٥. قال تعالى: ﴿وَمِنَ الْجِبَالِ جُدَدٌ بَيَضٌ وَحُمْرٌ مُّخْتَلِفٌ أَلْوَانُهَا وَغَرَابِيبُ سُودٌ﴾ فاطر.



الشكل ٥ يتشكل معدن الكالسيت بألوان مختلفة بسبب الشوائب.



الشكل ٦ المخدش هو لون مسحوق المعدن. معدن الهيماتيت له مخدش بني محمر. وضع كيف تحصل على مخدش معدن؟

يخدش المعدن بلوح بورسلين أبيض اللون

المخدش واللمعان المخدش هو الفتات الناعم الملون الذي ينتج عن حك المعدن بلوح الخدش، وهو قطعة خزف بيضاء سطحها خشن. ومن العجيب أن لون المخدش ليس بالضرورة هو لون المعدن انظر الشكل ٦. والاعتماد على لون المخدش في تمييز المعادن أفضل من الاعتماد على لون المعدن نفسه. وهذه الخاصية مهمة جدًا للمنقبين عن الذهب؛ فلون مخدش معدن البيريت أخضر مسود أو بني مسود، بينما لون مخدش الذهب اصفر. أما اللمعان (البريق) فيصف كيفية انعكاس الضوء عن سطح المعدن. فإذا كان سطح المعدن يشع كالفلزات قيل إن له لمعانًا فلزيًا. ويوصف اللمعان غير الفلزي بأنه لؤلؤي، أو زجاجي، أو باهت، أو ترابي.

القساوة تتميز بعض المعادن، ومنها التلك، بأنها طرية يمكن خدشها بالظفر. وبعضها الآخر كالألماش قاس جدًا يمكن استخدامه لقص أي مادة أخرى. في عام ١٨٢٢م قام الجيولوجي السويسري موهس بتصنيف المعادن حسب قساوتها. انظر جدول ١. ويمكنك معرفة قساوة أي معدن بخدشه بمعدن آخر لمعرفة أيهما أقسى. فمعدن الفلوريت (قساوته ٤) مثلًا سوف يخدش معدن الكالسيت (قساوته ٣)، لكنه لن يخدش معدن الأباتيت (قساوته ٥). ويمكنك استخدام مواد معروفة، منها قطعة النقد أو الزجاج؛ لتحديد القساوة. حاول معرفة ما يحدث عند خدش معدن الفلوريت بقطعة نقدية وبقطعة زجاجية.

جدول ١: مقياس موهس

المعدن	القساوة	قساوة مواد معروفة
التلك	١ (الأقل قساوة)	الظفر ٢,٥
الجبس	٢	قطعة نقد ٣
الكالسيت	٣	مسمار حديد ٤,٥
الفلوريت	٤	زجاج ٥,٥
الأباتيت	٥	ميرد فولاذي ٦,٥
الفلسبار	٦	لوح الخدش ٧
الكوارتز	٧	
التوباز	٨	
الكورندم	٩	
الألماس	١٠ (الأقصى)	

المعادن الشائعة

على الرغم من وجود أكثر من ٤٠٠٠ معدن في الطبيعة فإن المعادن التي تتكون منها الصخور قليلة جداً وتسمى المعادن المكوّنة للصخور، والمعادن الأخرى نادرة. يستخدم بعضها باعتباره أحجاراً كريمة، وبعضها الآخر كخامات لفلزات ثمينة. إن معظم المعادن المكوّنة للصخور هي معادن تتكون من عنصري السيليكون والأكسجين. فمعدن الكوارتز هو سليكا نقية (SiO_2). وأكثر من نصف المعادن في قشرة الأرض هي من نوع المعادن السليكاتية. ومن المجموعات الأخرى المهمة الكربونات المكوّنة من الكربون والأكسجين، وهي تدخل في تركيب الحجر الجيري المستخدم في البناء. وهناك معادن أخرى معروفة وتشكل قيعان البحار القديمة المتبخرة، ومن ذلك الجبس المتوافر بكثرة في مناطق عديدة، والملح الصخري المكون من معدن الهاليت.

العلوم
عبر المواقع الإلكترونية

تحديد موقع الأحجار الكريمة
ارجع إلى المواقع الإلكترونية عبر شبكة الإنترنت
للبحث عن معلومات حول التوزيع الجغرافي لمناجم الأحجار الكريمة.
نشاط اختر قارة، ولتكن إفريقيا مثلاً، وأعط ثلاث أمثلة على أحجار كريمة تتوافر فيها، وحدد مواقع التعدين على الخريطة، واعرضها على زملائك.

ما ذرات؟ ما أهمية معدن الفلسبار السليكاتي؟

تشكل أنواع الفلسبار أكثر من نصف معادن القشرة الأرضية

تطبيق العلوم

ما مدى قساوة هذه المعادن؟

اختبار القساوة				
المعدن	ظفر	قطعة نقد	سكين	فولاذ
تركواز	×	×	✓	✓
هاليت	×	✓	✓	✓
ياقوت	×	×	×	×
جرافيت	✓	✓	✓	✓
زهرد	×	×	×	×

بعض المعادن - ومنها الألماس - قاسية، بينما تعدّ بعض المعادن الأخرى - ومنها التلك - طرية. كيف يمكن تحديد قساوة المعادن؟

لا، لأنه من الممكن معرفة الأقل قساوة وهو الجرافيت ثم الهاليت ثم التركواز لكن لا يمكن معرفة الأكثر قساوة الزمرد أو الياقوت لأن لهما نفس البيانات

المذكورة، والعلامة (X) أنه لم يحدد.


حل المشكلة

١. هل يمكن ترتيب المعادن الخمسة من الأكثر قساوة إلى الأقل قساوة، باستخدام البيانات المعطاة في الجدول؟ فسّر إجابتك.

٢. أي الطرائق يمكنك استخدامها لتحديد المعدن الأكثر قساوة: الياقوت أم الزمرد؟

أخذش الياقوت بالزمرد وأخذش الزمرد بالياقوت والذي يحدد الآخر هو الأقسى

الشكل ٧ يزداد جمال الأحجار الكريمة بقصها وتلميعها. بلورة الجارنت في الشكل مغلفة بمعدن آخر لكنها ما زالت تشع لوناً أحمر غامقاً. وبعد قص الجارنت نحصل على حجر كريم ثمين.



تجربة

تصنيف المعادن



الخطوات

١. قَرِّب مغناطيساً من عينات من الكوارتز والكالسيت، والهورنبلند، والمغنيتيت، وسجل أيها ينجذب إلى المغناطيس.
٢. ضع القليل من حمض الهيدروكلوريك المخفف على كل عينة باستخدام قطارة.
٣. اغسل العينات بالماء.

التحليل

١. صف الطريقة التي يتفاعل بها كل معدن في الخطوات ١، ٢.
٢. سجّل في جدول، الخصائص الطبيعية الأخرى للمعادن الأربعة.

الأحجار الكريمة يعدّ الألماس المستخدم في صناعة الحلبي الثمينة من أنفس الأحجار الكريمة. والحجر الكريم معدن نادر قابل للقص والصقل، مما يعطيه مظهرًا جميلًا يجعله مثاليًا لصناعة الحلبي، انظر الشكل ٧. وحتى يُصنّف بين الأحجار الكريمة العالية الجودة يجب أن يكون المعدن نقيًا، خاليًا من الشقوق والعيوب، جميل اللمعان واللون. ولأن القليل من المعادن تُحقّق هذه الشروط فهي نادرة وقيمة.

تكوّن الأحجار الكريمة من أسباب ندرة الأحجار الكريمة أنها تتكون في ظروف خاصة. فالألماس مثلاً يتكون من عنصر الكربون إثر تعرضه إلى ضغوط مرتفعة أكبر من الضغوط الموجودة في قشرة الأرض. ويعتقد العلماء أن الألماس يتكون في منطقة الستار، ثم يخرج إلى السطح بثوران بركاني.

في الخطوة ١: ينجذب معدن المجناتيت إلى

المغناطيس

في الخطوة ٢: عند إضافة حمض الهيدروكلوريك المخفف إلى معدن الكالسيت تتكون فقاعات

والرصاص المستخدم في البطاريات من معدن الجانيت، والمغنيسيوم المستخدم في الفيتامينات من معدن الدولوميت. ويتم استخراج هذه الفلزات من الأرض بطريقة تُسمى التعدين.

الكوارتز: أقسى من الزجاج - له لمعان فلزي

الكالسيت: له ثلاثة اتجاهات للانقسام - له ألوان مختلفة

بسبب وجود الشوائب

الهوزنيلند: له انقسام باتجاهين - أسود اللون

المجناتيت: يخدش الزجاج المجناتيت - له حكاكة سوداء

معالجة الخامات بعد استخراج الخام يجب معالجته للحصول على المعدن أو العنصر المطلوب. فللحصول على النحاس مثلاً يُصهر الخام، ثم ينقى للتخلص من المعادن غير المرغوب فيها. ويستخدم النحاس في صناعة أشياء كثيرة، من أهمها الألواح والتوصيلات الكهربائية في المنازل والسيارات والكثير من الأجهزة الكهربائية والإلكترونية.



مراجعة 1 الدرس

اختبر نفسك

1. وضع الفرق بين المعدن والصخر. واذكر أسماء خمسة معادن تدخل في تكوين الصخور.
2. اكتب قائمة تتضمن خمس خواص تُستخدم في تعريف المعادن.
3. صف الظاهرة التي تدفع الألماس إلى سطح الأرض. أين يتكون الألماس في الأرض؟
4. قارن ما الفرق بين لون المعدن ومخدشه؟ اذكر مثالاً على ذلك.
5. التفكير الناقد هل توافق على السكن بالقرب من منجم ذهب يجري العمل فيه؟ فسر إجابتك.

تطبيق الرياضيات

6. استخدام النسب المئوية أنتج بلد ما حوالي ٢٣٤٠٠٠٠٠ طن من النحاس المكرر في عام ١٩٩٦م، وفي عام ١٩٩٧م أنتج ٢٤٤٠٠٠٠٠ طن منه. ما النسبة المئوية للزيادة في الإنتاج؟

الخلاصة

ما المعدن؟

- العديد من المنتجات التي نصادفها كل يوم في حياتنا اليومية مصنوعة من معادن.
- تتشكل المعادن بطرائق مختلفة، منها تبلور الصهارة، أو من المحاليل الغنية بالمواد الذائبة.

خصائص المعادن

- تعرف المعادن من خلال خواصها الفيزيائية.
- تُظهر بعض المعادن خواص فيزيائية غير عادية، منها التفاعل مع الأحماض، والمغناطيسية، وغيرها.

المعادن الشائعة

- تشكل معادن قليلة - من أكثر من ٤٠٠٠ معدن معروف لدينا - معظم الصخور.
- الأحجار الكريمة معادن قيمة تستخدم بوصفها قطعاً ثمينة في المجوهرات، وفي أشياء أخرى متنوعة.

ج١- المعدن: مادة صلبة طبيعية غير عضوية النشأة ولا تركيب كيميائي محدد وترتيب ذري داخلي منتظم

الصخر: يتكون من معدنين أو أكثر

المعادن المكونة للصخور هي: الكوارتز - الهاليت - الفلسبار - الكالسيت - الجبس

ج٢- اللون - اللعان - الحكاكة - الانفصام - المغناطيسية

ج٣- يتكون الألماس في ستار الأرض تحت ضغوط عالية ويصعد ألماس على السطح مع المقذوفات البركانية

ج٤- الحكاكة: هي لون الفتات الناتج من حك المعدن بلوح الحكاكة وليس بالضرورة أن يكون لون الحكاكة هو لون المعدن والاعتماد على لون الحكاكة في تمييز المعدن أفضل من الاعتماد على لون المعدن

مثال: لون حكاكة معدن البيريت الأصفر يكون أخضر مسود أو بني مسود بينما لون حكاكة الذهب صفراء

ج٥- لا أوافق، وذلك لأن المناجم يفضل تواجدها بعيداً عن المناطق السكنية وذلك للأضرار البيئية التي من الممكن أن يسببها المنجم

ج٦- الزيادة = $2440000 - 2340000 = 100000$

% النسبة المئوية للزيادة = $100 * (100000 / 2340000) = 4,3\%$



أنواع الصخور

الصخور النارية

لو نظرت إلى جرف صخري أو قمة جبلية أو صخرة كبيرة جداً فسوف يبدو لك كل منها كما لو كان على هيئته منذ القدم دون حركة أو تغيير. أما الحقيقة فإن الأشياء على الأرض تتغير مع مرور الوقت باستمرار، فتتكون صخور جديدة، وتبلى صخور قديمة عبر أزمان طويلة. وينشأ عن هذه العمليات ثلاثة أنواع أساسية من الصخور: نارية ورسوبية ومتحولة.

وكلما تعمقت في باطن الأرض ازدادت درجة الحرارة وازداد الضغط. وعلى عمق محدد تكون درجة الحرارة كافية لصهر الصخور. وتتكون الصخور النارية نتيجة تبريد الصخور المصهورة الموجودة في باطن الأرض. وتحدث عملية التبريد والتصلب إما على سطح الأرض مكونة صخوراً نارية سطحية، انظر الشكل ٨. أو تحت سطح الأرض مكونة صخوراً نارية جوفية.

التركيب الكيميائي يؤثر التركيب الكيميائي للصهير الصخري في لون الصخر الناتج. فإذا احتوى الصهير على نسب عالية من السليكا ونسب قليلة من الحديد والماغنسيوم والكالسيوم كان الصخر فاتح اللون، ويسمى هذا النوع بالصخور الجرانيتية. أما إذا كانت نسبة السليكا قليلة وتحتوي الصهارة على الحديد



ففي هذا الدرس

الأهداف

- توضيح الفرق بين الصخور النارية السطحية والصخور النارية الجوفية.
- تصف كيف تتكون الأنواع المختلفة من الصخور الرسوبية.
- تصف الظروف الملائمة لتكوّن الصخور المتحولة.
- توضيح كيف ترتبط كافة الصخور معاً في دورة الصخر.

الأهمية

تشكل الصخور اليابسة من حولنا، وتظهر كل من الصخور المتحولة ودورة الصخر أن الأرض في تغير مستمر.

مراجعة المفردات

اللابدة مواد الصخر المنصهر التي توجد فوق سطح الأرض.
الضغط القوة الواقعة على مساحة معينة.

المفردات الجديدة

- الصخور النارية
- الصخور الرسوبية
- الصخور المتحولة
- التسيخ الصخري
- الصخور المتورقة
- الصخور غير المتورقة
- دورة الصخر

الشكل ٨ أحد البراكين أثناء ثورانه، وقد قذف بمواد صخرية مصهورة (لابدة) على سطح الأرض.



استخدامات صخر الأوبسيديان

(زجاج بركاني): تم تطوير استخدامات الزجاج البركاني من الماضي إلى الحاضر. ابحث كيف استخدم الناس هذا الصخر، واستنتج أين وجدوه؟ وكيف عالجه؟ وأين ينتشر؟

والمغنسيوم والكالسيوم فإن الصخر الناري الناتج يكون غامق اللون، كما في حالة البازلت. ومعظم الصخور النارية الجوفية جرانيتية، بينما تكون الصخور السطحية بازلتية غالبًا.

الصخور الناتجة عن اللابة تتكون الصخور النارية السطحية عندما تبرد المادة الصخرية المنصهرة على سطح الأرض، وتسمى حينئذ لابة. وتبرد اللابة بسرعة، فلا تتشكل بلورات كبيرة للمعادن. لذا تكون سطوح الصخور السطحية ملساء، وأحيانًا زجاجية المظهر.

ويمكن أن تتشكل الصخور السطحية بطريقتين: الأولى حدوث ثوران بركاني وقذف اللابة والرماد البركاني إلى السطح. والثانية انسياب اللابة من خلال شقوق القشرة الأرضية أو فوهات البراكين إلى اليابسة أو الماء، ويسمى الانسياب البركاني. أما إذا خرجت اللابة إلى السطح وبردت بسرعة كبيرة جدًا فلن تتكون


الشكل ٩ الصخور النارية السطحية تتكون على سطح الأرض بينما الصخور النارية تتكون في باطن الأرض. يمكن للرياح والماء أن تعمل على حت الصخور فتبدو مظاهر جديدة.

إما تتكون من اندفاع اللابة من الرماد أثناء ثوران البركان أو تخرج اللابة من شقوق في القشرة الأرضية عندما تخرج إلى القشرة الأرضية تبرد

ماذا قرأت؟ كيف تتكون الصخور النارية السطحية؟

البازلت من أكثر الصخور النارية السطحية انتشارًا، ومعظم بلوراته لا يمكن رؤيتها بالعين المجردة، وفي بعض الأحيان يحتوي هذا الصخر على ثقوب.

الجاهرو صخر ناري جوفي ذو بلورات معدنية كبيرة تُظهر أنه قد برد ببطء.



الصخور الناتجة عن الصهارة بعض مصهور الصخور لا يصل إلى سطح الأرض، ويسمى صهارة. وتسمى الصخور النارية الجوفية إذا برد مصهور الصخور تحت الأرض، كما في الشكل ٩. وتتكون هذه الصخور عندما تصعد كمية كبيرة من الصهارة إلى أعلى، لكن دون أن تصل إلى سطح الأرض. وتبقى هذه الصهارة تحت سطح الأرض، وتبرد ببطء خلال ملايين السنين حتى تتصلب وتسمح لبلورات المعادن بالتشكل. لذلك فإن الصخور النارية الجوفية تحوي بلورات كبيرة يمكن رؤيتها بالعين المجردة بسهولة. وهناك صخور نارية تحوي خليطاً من بلورات كبيرة وصغيرة. ويوضح الشكل ١٠ بعض خصائص الصخور النارية.

ما أوجه الاختلاف بين الصخور النارية الجوفية والصخور النارية السطحية؟ **ماذا قرأت؟**

تحوي الصخور الجوفية بلورات يمكن رؤيتها بالعين المجردة بسهولة في حين لا يمكن رؤية بلورات جميع الصخور السطحية

صخر سطحي له نفس تركيب الجرانيت، ولكن اللابة التي شكلته بردت بسرعة، لذا فهو يحتوي على عدد قليل في البلورات المرئية.

هذا الصخر الجرانيتي يبرد ببطء داخل الأرض مشكلاً بلورات معدنية كبيرة.


الصخور النارية الجوفية



◀ القاطع غير التوافقي
يتكون عندما تضغط
الصهارة خلال شقوق تقطع
الطبقات الصخرية.

الشكل ١٠

تتكون الصخور النارية الجوفية عندما تصعد الصهارة في اتجاه سطح الأرض وتبرد قبل أن تصل إلى السطح. تبرد الصهارة بطرائق مختلفة، ثم تتعرض الصخور التي تعلوها للرفع والتعرية، فتتكشف هذه الصخور الجوفية ويمكن رؤية مجموعة منها في هذه الصفحة.



◀ تتكون الأعناق البركانية
عندما تتصلب الصهارة داخل
فوهة بركان. ولأن الصخور
داخل الفوهة أكثر قساوة فإنها
تقاوم الحت وتبقى ظاهرة بعد
حت ما حولها.

◀ الباثوليت اسم يطلق على جسم
ناري ضخم جداً يتكون نتيجة تبرد
الصهارة أسفل سطح الأرض.
والجانب الأيمن من الشكل
المجاور جبل يشكل جزءاً من
الباثوليت.



◀ تتكون القواطع التوافقية عندما
تندفع الصهارة في فراغات بين
طبقات الصخور المتوازية.

الصخور الرسوبية



الشكل ١١ تمثل الطبقات في هذه الصورة الأنواع المختلفة من الصخور الرسوبية. وضح ما الذي يسبب ظهور الطبقات في الصخور الرسوبية؟

تتكون الرسوبيات من فتات الصخور أو الأصداف أو حبيبات معادن أو مواد أخرى. فالرمال التي تراها على الشاطئ نوع من هذه الرسوبيات. وكما هو موضح في الشكل ١١، فإن الرسوبيات تتجمع في طبقات لتكون الصخور التي تُسمى **صخوراً رسوبية**. وتُحمل الرسوبيات بواسطة الأنهار وأمواج البحار والانزلاقات الطينية والجليديات وكذلك الرياح. وعندما تسقط الرسوبيات في أماكن الترسيب تتجمع في طبقات، وتخضع بعد ترسيبها لعمليات طويلة تستمر آلاف السنين تجعل منها صخوراً متماسكة. وكما في الصخور النارية، فإن الصخور الرسوبية تُقسم إلى ثلاثة أنواع هي: الفتاتية، والكيميائية، والعضوية.

✓ **ماذا قرأت؟** كيف يتم نقل الرواسب؟

الناس يفكرون
تتأية. الصخور
حبيبات صخور
الرياح. وتعمل

تنتقل الصخور الرسوبية عن طريق الأنهار وأمواج البحر والرياح والتدفقات الطينية والجليديات

معادن أخرى ذائبة في المياه دور المادة اللاصقة لهذا الفتات. وتساعد الرسوبيات التي فوقها أيضاً على رصّ الحبيبات وتحويلها إلى صخر.


تعرف الصخور الرسوبية الفتاتية لتعرف أنواع الصخور الرسوبية الفتاتية ينبغي التدقيق في حجم الحبيبات التي يتكون منها كل صخر. فالأقل حجماً هو حجم الصلصال - أصغر حبيبات الطين - الذي يعطي ملمساً زلقاً، عندما يكون رطباً، ويكون في حالته الجافة صخوراً يُسمى الغضار. ويكون حجم حبيبات الغرين أكبر قليلاً من حجم حبيبات الغضار، لذا فهي تشكل صخوراً أكثر خشونة وصلابة منه يُسمى صخر الغرين (الحجر الطيني). أما الحجر الرملي فهو مكون من حبيبات حجمها أكبر من حجم حبيبات الغرين، وهي حبيبات الرمل، وأما أكبر الحبيبات فهي الحصى (الحصباء) التي تكون صخوراً يسمى الكونجلوميرات، عندما يلتحم بعضها مع بعض.

الصخور الرسوبية الكيميائية يتكون هذا النوع من الصخور الرسوبية عندما يتبخر ماء البحر الغني بالمعادن الذائبة، أو عندما تتبخر مياه مشبعة بالمعادن من الينابيع الحارة والبحيرات المالحة. وإذا جلست تحت أشعة الشمس بعد السباحة فسوف تشاهد بلورات الملح على جلدك نتيجة تبخر ماء البحر تاركاً ملح الهاليت الذي كان ذائباً فيه.

تترسب الرسوبيات طبيعياً على شكل طبقات أفقية موازية لسطح الأرض



الغضار



الحجر الطيني



الحجر الرملي



كونجلوميرات

الشكل ١٢ يمكن مشاهدة أربعة أنواع من الصخور الرسوبية الفتاتية في الشكل: الغضار والحجر الرملي والحجر الطيني والكونجلوميرات.

تجربة

عمل تصميم يوضح كيف تشكل الأحافير صخوراً.



الخطوات

1. املاء وعاء صغيراً من الألمنيوم بقطع من المعكرونة المكسرة والتي تمثل الأحافير.
2. امزج ٥٠ مل من الغراء الأبيض مع ٢٥٠ مل من المياه. وأضف المزيج إلى المعكرونة وضعها جانباً لتجف.
3. قم بإزالة المادة من الوعاء وقارنها بعينة حجر جيرى مكون من أحافير.

التحليل

1. اشرح لماذا قمت باستعمال محلول الغراء، وماذا يمثل في الطبيعة.
2. مستخدماً المعكرونة كدليل، اربط بين المعكرونة (الأحفورة) في الصخر والمعكرونة الأصلية (قبل أن توضع في عينة الأحفورة)، وارسم ذلك في دفتر العلوم.

تجربة عملية العمليات الرسوبية

ارجع إلى دراسة التجارب العملية على منصة عين



الصخور الرسوبية العضوية قد تدهش إذا علمت أن الطباشير الذي نكتب به على السبورة وكذلك الفحم الحجري المستخدم في توليد الكهرباء صخور رسوبية. فالطباشير والفحم مثالان على نوع من الصخور الرسوبية تسمى الصخور العضوية. وتتكون هذه الصخور عندما تموت المخلوقات الحية وترسب بقاياها، وتتراص متحولة إلى صخر. فمثلاً، الصخر المتكون من بقايا نباتات متراكمة يُسمى فحمًا، أما الصخور العضوية المتكونة في البحار فتُسمى حجرًا جيريًا.

الأحافير الأحفورة بقايا أو آثار حيوان أو نبات كان يعيش في الماضي. وتضم بعض الصخور الرسوبية أحافير مرئية ذات حجم كبير، ومنها عظام الديناصورات، في حين يحتوي بعضها الآخر على ملايين الأحافير المجهرية التي لا يمكن رؤيتها بالعين المجردة، كما هو الحال في الحجر الجيري.

صخور جديدة من صخور قديمة

تعمل الكثير من العوامل الفيزيائية على سطح الأرض أو في داخلها بشكل دائم على تغيير الصخور. تتكون صخور جديدة بفعل عمليات تحدث في

يلعب الصمغ دور المادة اللاصقة التي تربط الصخور بعضها

ببعض وهو يحاكي طريقة عمل معدن الكالسيت الذي يسبب

تلاحم أجزاء الحجر الصخري

انصهار. وعادة ماتحدث هذه الظروف في مناطق تصادم الصفائح الأرضية لتشكل الجبال. وقد تحتاج الصخور إلى ملايين السنين حتى تتحول. وهذا هو الوقت اللازم لحدوث ضغط كبير ينشأ عن دفن الصخور في الأعماق، أو عن تصادم القارات. وفي بعض الأحيان، قد تُطهى صخور قشرة الأرض بفعل الصهارة المندفعة إلى القشرة الأرضية، مما يؤدي إلى تغيير بلورات معادن الصخور. كل هذه العمليات يمكن أن تُنتج صخوراً جديدة عن صخور قديمة.

ما الأحداث التي قد تغير الصخور؟

الصخور المتحولة إحداث تغير في ظروف الضغط ودرجة الحرارة

الأرض تحت تأثير كل من الصعق الحبير والحرارة المرتفعة التي بفي دون درجة انصهار الصخر، مما يغير من صفات وتركيب الصخر القديم ويؤدي إلى تحوله إلى نوع آخر، أطلق عليه العلماء اسم الصخر المتحول.

تعني تغير صفات وتركيب الصخر القديم وتحوله إلى نوع آخر تحت

تأثير كلاً من الضغط الكبير والحرارة المرتفعة



الجرانيت يتحول إلى نايس.



الحجر الجيري يتحول إلى رخام.



الرمل يتحول إلى كوارتزيت.

ماذا قرأت؟ ماذا يعني بالصخر المتحول؟

يوضح الشكل ١٣ ثلاثة أنواع من الصخور الأصلية والصخور المتحولة التي تنشأ عنها نتيجة تعرضها للضغط والحرارة والسوائل الساخنة. بالإضافة إلى تغير شكل الصخر، فقد يتبلور من جديد أو يتغير تركيبه الكيميائي. وغالبًا ما يعاد ترتيب المعادن في اتجاه محدد.

أنواع الصخور المتحولة تنتج الصخور المتحولة عن صخور قديمة قد تكون نارية أو رسوبية أو متحولة. والخاصية الفيزيائية التي تساعدنا على تصنيف جميع الصخور هي نسيجها الصخري. ويعني **النسيج الصخري** الشكل العام للصخر ويشمل حجم وشكل وطريقة ترتيب بلورات وحبيبات المعادن المكونة للصخر. وتصنف الصخور المتحولة حسب نسيجها الصخري إلى صخور متورقة، وصخور غير متورقة، كما هو موضح في الشكل ١٤.

الشكل ١٣ الحرارة والضغط العاليان يمكن أن يسببا تغير الصخر الموجود إلى صخر جديد متحول.

لدى تفحص **الصخور المتورقة** تميز بسهولة طبقاتها المتتالية التي تشبه الأوراق والترتيب الواضح للحبيبات المعدنية. ويتكون العديد من الصخور المتورقة من معادن مختلفة الألوان على هيئة أشرطة. ويُعد الأردواز والنايس والشيست والفيليت أمثلة على الصخور المتورقة.

الصخور غير المتورقة ليس لها بنية ورقية واضحة، وهي غالبًا ذات توزيع لوني متجانس، أما حبيباتها فهي غالبًا غير مرئية، ولا تصطف بنمط منتظم، ومنها صخر الرخام، وصخر الكوارتزيت الذي ينتج عن تعرض الصخر الرملي للضغط والحرارة.

الشكل ١٤ هناك أنواع مختلفة من الصخور المتحولة.



سطح البناء مصنوع من صخر الأردواز الذي يُصنف على أنه صخر متحول متورق.



أعمدة مصنوعة من الرخام موجودة في الحرم المكي، وهو صخر متحول غير متورق.

اختبر نفسك

١. قارن بين تكوُّن الصخور النارية السطحية والصخور النارية الجوفية.
٢. ارسم جدولاً توضح فيه كيف يتكون كل نوع من الصخور الرسوبية الثلاثة، وأعط مثلاً واحداً على كل نوع.
٣. رتّب الصخور الرسوبية الفتاتية من الأصغر إلى الأكبر وفق حجم الحبيبات فيها.
٤. حدّد عاملين يمكن أن يُتّجا صخرًا متحولاً.
٥. اعمل قائمة تتضمن أمثلة على صخور متحولة متورقة وأخرى غير متورقة. ووضح الفرق بين النوعين.
٦. وضح كيف تتكوّن الصخور النارية والمتحولة تحت الضغط الشديد ودرجات الحرارة المرتفعة. ما الفرق بين آلية تكوُّن الصخرين؟
٧. وضح ما تصفه دورة الصخور.
٨. التفكير الناقد تتبع رحلة قطعة من الجرانيت في دورة الصخور. وأشرح كيف يمكن أن تتحول هذه القطعة من صخر ناري إلى رسوبي ثم إلى متحول.

تطبيق المهارات

٩. باستعمال الحاسوب اعمل جدولاً توضح فيه خواص الصخور والمعادن التي درستها في هذا الفصل. ويعد ذلك قم بقص وإلصاق البيانات التي تحتويها في صفوف الجدول لتصنف الصخور والمعادن بناء على خواصها؟
١٠. ابحث عن موقع نشاط بركاني في منطقة ما، واقراء عن المعالم التي تريد مشاهدتها، ثم صفها وسجلها في دفتر العلوم. ولا تنس أن تصف كيف تكوّن كل معلم.

الخلاصة

الصخور النارية

- يشير لون الصخور النارية إلى أنواع المواد الكيميائية المكونة لها.
- اللابة والصحارة من المواد الأولية التي تكوّن الصخور النارية.

الصخور الرسوبية

- تكون الصخور الرسوبية عادة على شكل طبقات، وهي تتكون بفعل الرياح أو الماء أو الجليديات التي تعزي الصخور وتنقل الفتات من منطقة وترسبه في أخرى.
- لبعض الصخور تركيب حبيبي لأنها تتكون من صخور ومعادن وفتات عضوي، ملتحمة فيما بينها بمحاليل غنية بالمعادن.
- هناك صخور رسوبية ذات مظهر بلوري، وهي تتكون مباشرة من المحاليل الغنية بالمعادن.

صخور جديدة من صخور قديمة

- تنشأ الصخور المتحولة عن صخور قديمة قد تكون نارية أو رسوبية أو متحولة، نتيجة تعرضها للضغط الكبير والحرارة المرتفعة.
- الصخور المتحولة قد تكون صخوراً متورقة أو غير متورقة.

دورة الصخور

- تؤدي العمليات التي تحدث خلال دورة الصخر إلى تغير الصخور بمرور الزمن.
- تتغير كل من الصخور النارية والرسوبية والمتحولة باستمرار، وتتحول من نوع إلى آخر بتأثير عوامل الانصهار والتجوية وتغير درجة الحرارة والضغط.

ج١- تبرد الصخور النارية السطحية بسرعة مكونة بلورات صغيرة أو عديمة البلورات بينما تبرد الصخور

النارية الجوفية ببطء مكونة بلورات كبيرة

ج٢- الصخور الفتاتية: تتكون من قطع صخور أخرى - مثل حجر رملي

الصخور الكيميائية: تتكون من ترسيب معادن من محاليل مثل ملح صخري

الصخور العضوية: تتكون من بقايا كائنات حية مثل الفحم

ج٣- طين - غرين - رمل - حصى

ج٤- الضغط والحرارة ونشاط الموانع

ج٥- متورقة: نايس - أردواز - فليت - شيت

غير متورقة: رخام - كوارتزيت - حجر الصابون

ولا تترتب المعادن بانتظام في الصخور غير المتورقة بعكس المتورقة

ج٦- تتكون الصخور من تصلب مادة صخرية مصهورة المجما بينما تتكون الصخور المتحولة بفعل

ارتفاع الضغط والحرارة لكن دون حدوث عملية انصهار

ج٧- تبين كيف يتغير صخر من نوع إلى نوع آخر

ج٨- بفعل الرياح والأمطار يتآكل الصخر وتنفصل منه أجزاء ترسبها الجداول والأنهار في قاع المحيط

حيث تتراكم مع الزمن ويؤدي ثقل الرسوبيات العلوية إلى تراص الرسوبيات السفلية وتساعد المعادن

على تلاحم الطبقات ويتكون صخر رسوبي وإذا دفن في أعماق الأرض فإنه بفعل الضغط والحرارة يتحول

إلى صخر متحول

تصنيف المعادن

سؤال من واقع الحياة

تصادف - أحياناً عندما تقوم بنزهة في الطبيعة- أنواعاً غريبة ولافتة من المعادن، وتلاحظ أن لبعضها ألواناً جذابة وأوجهاً بلورية مميزة، فتعتقد أنها ثمينة، وتحفز لتعرفها. إذا رغبت في ذلك فما عليك إلا استخدام دليل الصخور والمعادن. (مصادر تعليمية للطالب)

لكن، ما الخواص التي ينبغي ملاحظتها؟ وما الاختبارات التي يجب عليك إنجازها في الميدان؟

الخطوات

١. **اعمل جدولاً** موائلاً للجدول ١ في دفتر العلوم، ثم دوّن فيه ملاحظاتك معتمداً على اختبارات القساوة. أدرج في العمود السادس عدد عينات المعادن التي يمكن خدشها بوساطة العينة موضوع الدراسة. ستمكنك هذه المعلومات من ترتيب العينات من الألين (الأقل قساوة) إلى الأقسى، وفقاً لمقياس موهس، وسيساعدك ذلك على تمييز المعادن وتعرفها.

الأهداف

■ **تختبر** خواص المعادن المهمة وتلاحظها.

المواد والأدوات

- مجموعة من المعادن
- عدسات مكبرة
- سكين
- لوح الخدش
- (صفيحة خزفية بيضاء خشنة)
- مقياس موهس
- دليل الصخور والمعادن

إجراءات السلامة



تحذير انتبه عندما تستعمل السكين، ولا تذوق أي مواد تُستعمل في المختبر.



استخدام الطرائق العلمية

٢. أحضر مجموعة من المعادن إلى المختبر أو غرفة الصف.
٣. **لاحظ** واختبر كل عينة على حدة، محاولاً إدراج أكبر قدر ممكن من البيانات في الجدول، ثم ارجع إلى الجداول المرجعية الخاصة بالمعادن في مصادر الطالب التعليمية؛ لكي تساعدك على ملء العمود الأخير.

الجدول ١ خواص المعادن							
رقم العينة	شكل البلورة	الانقسام / المكسر	اللون	المخدش واللمعان (البريق)	العينات التي تم خدشها	ترتيب القساوة	اسم المعدن
١							
٢							
٣							
٤							
٥							
.....							
							عدد العينات

تحليل البيانات

١. **حدد** اسم ونوع المعدن، بالاستعانة بجدول بياناتك.
٢. **قوم** هل أنت بحاجة إلى كل المعلومات الواردة في الجدول لتعرف المعادن؟ لماذا؟
٣. **وضح** أي الخواص كانت سهلة التحديد، وأيها كانت أصعب؟

الاستنتاج والتطبيق

١. **قوم** أي الخواص تساعد أكثر من غيرها على تحديد نوع المعدن؟
٢. **طبق** هل تستطيع تمييز المعادن في الميدان بعد تنفيذ هذه التجربة؟ وأي الخواص من السهل تحديدها هناك، وأيها يكون صعباً؟
٣. **صف** وجه الشبه بين ما قمت به في هذه التجربة وما يقوم به العلماء. ما العمل الإضافي الذي يمكن أن يقوم به العالم لتعرف المعادن المجهولة؟

تواصل

بياناتك

أنشئ ملصقاً جذاباً يوضح المعادن في هذه التجربة، والخواص التي تفيد في تعرف كل معدن. تأكد من تضمين ملصقك شروحات توضيحية.

العلم و التقنية والمجتمع

معادن مميزة .. التيتانيوم

التيتانيوم أقوى من الفولاذ وأخف منه بحوالي ٤٥٪، لذا تستخدم سبائكه في العديد من الصناعات المهمة، ومنها صناعة الطائرات والمركبات الفضائية بسبب خفة وزنه وقوته وتحمله درجات الحرارة العالية. اكتشف التيتانيوم عام ١٧٩١م وقد تم تعدينه للحصول على فلزه النقي سنة ١٩١٠م، لكن استخدامه ظل مقتصرًا على المختبرات حتى سنة ١٩٤٦م، حيث أصبح من الممكن استخلاصه من معادنه بشكل مجد تجاريًا. تعد الشهب أحد مصادر التيتانيوم حيث تحتوي صخور الشهب المتجمدة على أكسيد التيتانيوم، ويوجد كذلك في الصخور البركانية وبعض الصخور الرسوبية .



التيتانيوم

معادن التيتانيوم متنوعة الأشكال والألوان، أما فلزه النقي فهو لامع أبيض، وكثافته قليلة، وقوته عالية، سهل التشكيل، ويمتاز بمقاومة كبيرة للأكسدة والصدأ. العدد الذري ٢٢، الرمز Ti، الوزن الذري ٤٧,٩، درجة الانصهار ١٦٦٨°س، درجة الغليان ٣٢٨٧°س.

أبحث عن طرائق التخلص الآمن من مخلفات التعدين، ثم قدم تقريرًا عنها، وضمنه الإجراءات والتكلفة والآثار البيئية للطرائق المختلفة في التعامل مع مخلفات التعدين.

العلوم عبر المواقع الإلكترونية
ارجع إلى المواقع الإلكترونية عبر شبكة الإنترنت ..



دليل مراجعة الفصل

مراجعة الأفكار الرئيسية

الدرس الثاني أنواع الصخور

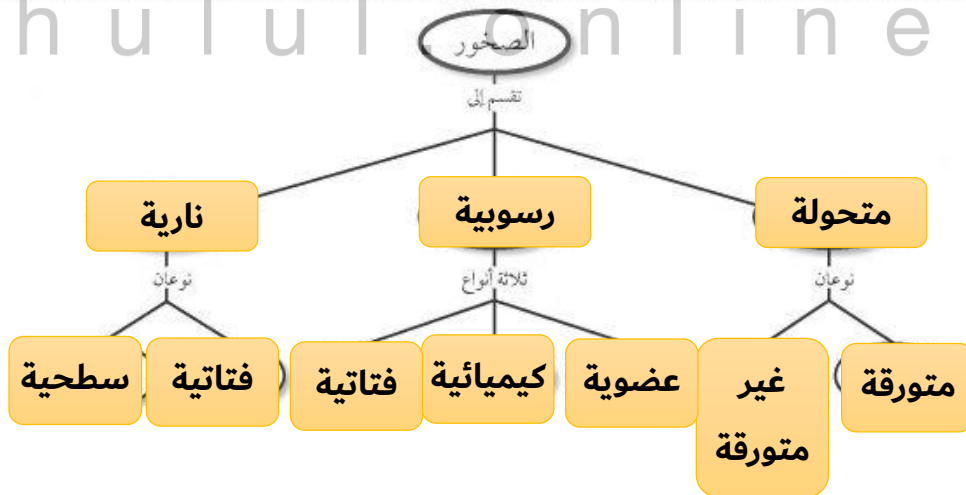
١. تتكون الصخور النارية عندما تبرد المواد المصهورة في باطن الأرض أو على سطحها وتتصلب؛ فتتكون الصخور النارية السطحية على سطح الأرض، أما الصخور الجوفية فتتكون تحت السطح.
٢. الصخور الرسوبية التي تتكون من معادن أو قطع صخرية تسمى الصخور الرسوبية الفتاتية.
٣. الصخور الرسوبية الكيميائية تتكون من محاليل مائية مشبعة بفعل عملية التبخر، أما الصخور التي تتألف من الأحافير وبقايا النباتات فتسمى الصخور الرسوبية العضوية.
٤. تتكون الصخور المتحولة نتيجة تغيرات في كل من درجة الحرارة والضغط وظروف التدفق في باطن الأرض.
٥. تصف دورة الصخور كيف تخضع جميع الصخور لتغير مستمر.

الدرس الأول المعادن - جواهر الأرض

١. المعادن مواد صلبة غير عضوية توجد في الطبيعة، ولها مكونات كيميائية محددة وترتيب ذري داخلي منتظم. أما الصخور فمواد تتكون من معدنين أو أكثر.
٢. تُستخدم الخصائص الفيزيائية للمعادن من أجل تعرّفها.
٣. الأحجار الكريمة معادن تمتاز بندرتها وجمالها.
٤. لا بد من تعدين خامات المواد المفيدة ومعالجتها لاستخلاص المواد المرغوبة.

تصور الأفكار الرئيسية

انسخ خريطة المفاهيم التالية، واكملها باستخدام الكلمات التالية: سطحية، جوفية، عضوية، متورقة، غير متورقة، كيميائية، فتاتية، متحولة، رسوبية، نارية.



١٣. ما نوع الصخور التي تنتج عن انفجار البراكين؟

- أ. فتاتية
- ب. عضوية
- ج. ورقية
- د. سطحية

١٤. أي العبارات التالية ينطبق على تشكل الصخور

- أ. تتكون من حبيبات صخور موجودة أصلاً.
- ب. تتكون من اللابة.
- ج. تتكون بوساطة التبخر.
- د. تتكون من بقايا النباتات.

١٥. مم تتكون الصخور عادة؟

- أ. قطع صغيرة
- ب. معادن
- ج. وقود أحفوري
- د. تورق

١٦. يمكن تصنيف الصخور الرسوبية إلى:

- أ. متورقة أو غير متورقة.
- ب. أحجار كريمة أو خامات.
- ج. سطحية أو جوفية.
- د. فتاتية، أو كيميائية، أو عضوية.

استخدام المفردات

وضح الفرق بين كل مصطلحين فيما يأتي:

١. صخر - معدن
٢. بلورة - حجر كريم
٣. انفصام - مكسر
٤. قساوة - مخدش
٥. صخر - دورة الصخر
٦. صخر سطحي - صخر جوفي
٧. صخر ناري - صخر متحول
٨. صخر متورق - صخر غير متورق
٩. صخر - خام
١٠. صخر متحول - صخر رسوبي

تثبيت المفاهيم

اختر الإجابة الصحيحة في كل مما يلي:

١١. تتكون الصخور المتحوّلة نتيجة لـ:
 - أ. ترسب طبقات من الرسوبيات.
 - ب. تصلب اللابة في ماء البحار.
 - ج. تفتت الصخور على سطح الأرض.
 - د. الحرارة الشديدة والضغط المرتفع.

١٢. أي العبارات التالية ينطبق على المادة التي تُعد معدناً؟

- أ. تكون عضوية.
- ب. تكون زجاجية.
- ج. تكون حجراً كريماً.
- د. توجد في الطبيعة.

حل الصفحة ١٥٢:

ج١- المعدن: مادة صلبة غير عضوية متبلورة

الصخر: يتكون من معدنين أو أكثر

ج٢- البلورة: مادة صلبة ذراتها منتظمة الترتيب

الحجر الكريم: معدن جميل نادر يقطع عادة من البلورات ثم يتم صقله

ج٣- انفصام: هو تكسر المعدن وفق سطوح ناعمة ملساء ذات اتجاهات محددة مستوية

مكسر: تكسر الصخور بسطوح غير منتظمة

ج٤- القساوة: هي قياس مدى قدرة معدن على خدش معدن آخر

الخدش: هو إزالة قشرة معدن بفعل معدن آخر

ج٥- الصخر: مكون من تجمع عدة معادن

دورة الصخر: تبين تغير الصخور

ج٦- الصخر السطحي: تتكون على سطح الأرض وتكون بلوراتها صغيرة

الصخر الجوفي: يتكون في باطن الأرض وتكون بلوراتها كبيرة

ج٧- الصخر الناري: ينتج من المagma أو اللابة

الصخر المتحول: ينتج من تعرض الصخر للضغط والحرارة الشديدين فضلاً عن تأثير السوائل النشطة

ج٨- توجد الصخور المتورقة على هيئة طبقات من حبيبات معادن مرتبة بصورة منتظمة في حين أن

الصخور غير المتورقة ليس لها طبقات

ج٩- الصخر: هو تجمع معادن بينما الخام هو صخر أو معدن يمكن تعدينه وبيعه وبربح

ج١٠- صخر متحول: ينتج من تعرض الصخر للحرارة والضغط الشديدين أو تعرضه للسوائل النشطة

الصخر الرسوبي: ينتج من تراكم الرسوبيات أو ترسبها في محاليل في درجات حرارة تقل عن تلك التي

تسبب تحول الصخر



مراجعة الفصل

٢٤. اختبار فرضية افترض أن معلمك أعطاك صحنًا زجاجيًا، ومسارًا، وقطعة نقدية نحاسية، ومغناطيسًا، فكيف تستخدم هذه المواد لمعرفة قساوة معدن الماجنتيت وبعض خصائصه المميزة؟ استعن بمقياس موهس في إجابتك.

١٧. توصف المعادن جميعها بأنها:

- مواد غير عضوية صلبة.
- لها درجة قساوة ٤ أو أكثر.
- ذات لمعان زجاجي.
- تُحْدَش قطعة نقدية معدنية.

أنشطة تقويم الأداء

٢٥. عمل نموذج حدّد المواد والعمليات التي تحتاج إليها لعمل نموذج يمثل دورة الصخر. صف الجوانب التي كان فيها النموذج دقيقًا أو غير دقيق، ثم اعرض نموذجك على طلبة الصف.

التفكير الناقد

١٨. صنف هل بلورة السكر معدن؟ وضح ذلك.

١٩. ما الأسباب التي تدعونا إلى الاعتقاد أن المعادن في القطب الجنوبي ليست من الخامات؟

٢٠. توقع هل يمكنك أن تجد عظمة ديناصور في صخر متحول؟ وضح ذلك.

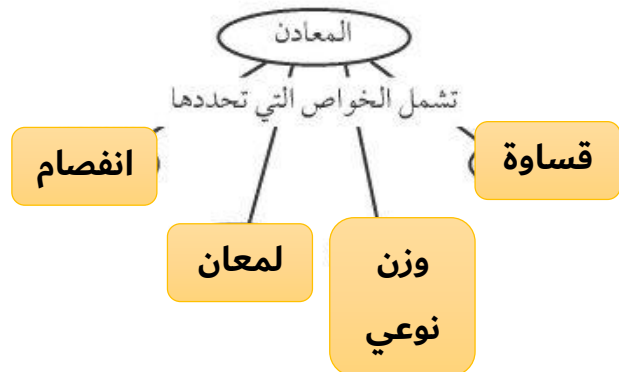
٢١. فسّر كيف يمكن لمعدن الكوارتز أن يوجد في صخر رسوبي وصخر ناري.

٢٢. صنف إذا أعطاك معلمك معدنين شفافين: الكوارتز والكالسيت فما الفحص السريع الذي تجريه لتعرّف كل منهما؟

٢٣. خريطة المفاهيم انقل خريطة المفاهيم إلى دفترك ثم أكملها لتبين خواص المعادن.

تطبيق الرياضيات

٢٦. حجم الحبيبات تحتوي عينة من الحجر الطيني على حبيبات يتراوح حجمها بين ٠,٠٣١ مم - ٠,٠٠٨ مم. حوّل هذا الحجم من وحدة المليمتر إلى وحدة الميكرومتر. راجع المصادر التعليمية للطلاب في نهاية الكتاب لتعرّف العلاقة بين وحدات القياس.



ج١٨- لا، لأن السكر نبات والمعادن مواد غير عضوية

ج١٩- كمياتها قليلة أو تكاليف تعدينها مرتفعة

ج٢٠- لا، لأن الضغط والحرارة والموانع تدمر العظمة

ج٢١- يتكون الكوارتز في الصخر الناري عندما تبرد المagma وعندما يتعرض الكوارتز لعوامل التجوية

والنقل والترسيب يتراس الكوارتز ويتلاحم في الصخر الرسوبي

ج٢٢- يتفاعل الكالسيت مع الأحماض بينما لا يتفاعل الهاليت وإذا نظرت من خلال الكالسيت يكون

شكلاً مزدوجاً بينما لا يفعل ذلك الهاليت

ج٢٤- أقوم بخدش قطعة النقود والمسمار والزجاج بمعدن المغنيت عندما يستطيع المغنيت خدش

معدن فإن المغنيت يكون أشد منه قساوة، سوف يخدش المغنيت الزجاج والنقد فتكون قساوته أكبر

من ٥,٥ باستخدام المغناطيس نجد أنه ينجذب إلى المغناطيس

ج٢٦- للتحويل من المليمتر إلى الميكرومتر:

$$1 \text{ مم} = 1000 \text{ ميكرومتر}$$

$$\text{إذن } 0,31 \text{ مم} = 0,31 * 1000 = 310 \text{ ميكرومتر}$$

$$0,008 \text{ مم} = 0,008 * 1000 = 8 \text{ ميكرومتر}$$

يتراوح حجم الحبيبات من 31 ميكرومتر إلى 8 ميكرومتر

القوى المشكّلة للأرض

الفكرة العامة

العديد من التضاريس الأرضية تشكّلت بواسطة قوى مصدرها الأرض.

الدرس الأول

صفائح الأرض المتحركة

الفكرة الرئيسية تتحرك صفائح الأرض بفعل القوة الداخلية فيها. ويتنج عنها تكون أربعة أنواع من الجبال وهي جبال الكتل المتصدعة والمطوية والناهضة والبركانية.

الدرس الثاني

التجوية والتعرية وأثرهما

الفكرة الرئيسية تؤثر عوامل التجوية والتعرية مثل الجاذبية والجليديات والرياح والماء في تغير سطح الأرض. بالإضافة إلى الزمن والمناخ.

هل هي جبال قديمة أم حديثة؟

هذه الجبال الرائعة المغطاة بالثلج لا تزال في مراحل تكوينها الأولى. وسوف تحتاج قممها الحادة إلى مئات ملايين السنين من الحت حتى تصبح ملساء. في هذا الفصل سوف تتعرف كيفية نشأة الجبال والقوى المسببة لحركة الصفائح الأرضية.

دفتر العلوم

اكتب فقرة قصيرة تصف فيها ما تتوقع أن يحدث لهذه الجبال

بعد مرور ألف عام.

نشاطات تمهيدية

المطويات

باطن الأرض وسطحها اعمل المطوية التالية لتساعدك على فهم العلاقة بين باطن الأرض وسطحها.

منظمات الأفكار



الخطوة ١ أحضر ورقتين، وضع إحداهما فوق الأخرى، بحيث تكون حافة الأولى أخفض ٢,٥ سم من حافة الثانية.



الخطوة ٢ اطو الورقتين لشكلا أربعة أسنة متساوية كما في الشكل.



الخطوة ٣ ألصق حافة المطوية جهة الطي، ثم عنون الأسنة كما في الشكل.

السبب والنتيجة أثناء قراءتك للفصل سجل المعلومات عن كل طبقة وعلاقتها بالطبقات الأخرى تحت اللسان الخاص بها.

تجربة استدلالية

عمل نموذج لباطن الأرض

يعرف الجيولوجيون معلومات كثيرة عن باطن الأرض، مع أن عمق مركزها يزيد على ٦٠٠٠ كم. استخدم طين التشكيل لعمل نموذج لباطن الأرض.

١. احصل على أربع قطع من الطين بألوان مختلفة.
٢. اصنع كرة من قطعة طين وهذا يمثل اللب الداخلي.
٣. غلف الكرة الأولى بغلاف طيني مستخدماً قطعة أخرى من الطين لتمثل اللب الخارجي.
٤. كرر الخطوة الثالثة مستخدماً قطعة الطين الثالثة لتمثل الستار (الوشاح). غلف النموذج بطبقة رقيقة من قطعة الطين الرابعة التي تمثل القشرة.
٥. استخدم سكيناً بلاستيكية لقطع كرة الطين نصفين.
٦. التفكير الناقد ارسم صورة تمثل النموذج الذي عملته، واكتب على كل طبقة اسمها.

الجيل أون لاين
h u l u l . o n l i n e

أتهياً للقراءة

التلخيص

١ **أتعلم** يساعدك التلخيص على تنظيم المعلومات، والتركيز على الأفكار الرئيسية، وتقليل كمية المعلومات التي يجب عليك تذكرها، لكي تلخص أعد صياغة الحقائق المهمة في جمل أو فقرات قصيرة، على ألا يتضمن التلخيص الكثير من الأفكار.

٢ **أدرب** اقرأ فقرة (حدود الصفائح)، ثم اقرأ الملخص أدناه، وانظر إلى الحقائق المهمة.

حقائق مهمة

حدود الصفائح هي المواقع التي تلتقي عندها صفائح مختلفة.

تؤدي القوى إلى تكوين جبال عند بعض حدود الصفائح.

تتكون حفر انهدام ضخمة ذات نشاط بركاني عند حدود صفائح أخرى.

في مناطق حدود ثالثة تتكون صدوع ضخمة.

ملخص

تنشأ قوى تؤثر في سطح الأرض عند حدود الصفائح بفعل الحركة المستمرة لهذه الصفائح.

٣ **أطبق** تدرب على التلخيص أثناء قراءة هذا الفصل، وتوقف بعد كل درس، وحاول كتابة ملخص مختصر له.

إرشاد

اقرأ ملخصك وتأكد من عدم تغيير أفكار النص الأصلي أو معناه.

توجيه القراءة وتركيزها

ركز على الأفكار الرئيسة عند قراءة الفصل باتباع ما يلي:

١ قبل قراءة الفصل

أجب عن العبارات التالية في ورقة العمل أدناه.

- اكتب (م) إذا كنت موافقاً على العبارة.
- اكتب (غ) إذا كنت غير موافق على العبارة.

٢ بعد قراءة الفصل

ارجع إلى هذه الصفحة؛ لترى إن كنت قد غيرت رأيك حول أي من هذه العبارات.

- إذا غيرت إحدى الإجابات فبين السبب.
- صحح العبارات غير الصحيحة.
- استعمل العبارات الصحيحة دليلاً للدراسة.

قبل القراءة م أو غ	العبارة	بعد القراءة م أو غ
	١. الطبقة الداخلية الموجودة في مركز الأرض هي لب في الحالة السائلة.	
	٢. يتجزأ الستار إلى صفائح تتحرك فوق الغلاف الصخري اللدن.	
	٣. يسمى الموقع الذي تلتقي فيه الصفائح المختلفة حدود الصفائح.	
	٤. القشرة القارية أعلى كثافة من القشرة المحيطية.	
	٥. يمكن أن تتكون الجبال البركانية في قاع المحيط.	
	٦. التجوية عملية ميكانيكية أو كيميائية تحدث لسطح الأرض، وينتج عنها تفتت الصخور إلى قطع أصغر.	
	٧. يمكن للنباتات أن تسبب تجوية ميكانيكية.	
	٨. لا يطرأ أي تغيير على التركيب الكيميائي للصخرة أثناء أي من عمليات التجوية.	
	٩. يُعد كل من الزحف والسقوط والانزلاق الصخري والتدفق الطيني من عوامل التعرية التي تُدعى حركة الكتل الأرضية.	
	١٠. تُعد الرياح أهم عوامل التعرية.	





صفائح الأرض المتحركة


دلائل على تكوين باطن الأرض

إذا قدّم لك شخص هدية مغلّفة فكيف يمكنك معرفة ما بداخلها دون أن تفتحتها؟ يمكنك حملها، ورجها بلطف، أو وزنها. يمكن أن تبحث عن دلائل أخرى تساعدك على تعرف ما بداخلها. ولأنك لا تستطيع رؤية ما بداخلها فإن الملاحظات التي تقوم بها تسمى ملاحظات غير مباشرة.

وقد استخدم الجيولوجيون أسلوب الملاحظات غير المباشرة أيضًا لمعرفة ما يوجد في باطن الأرض، فعلى الرغم من أن أفضل طريقة لمعرفة محتويات باطن الأرض تتمثل في حفر نفق إلى مركزها إلا أن تنفيذ ذلك ضربٌ من المستحيل، فأعمق المناجم على الأرض لا يمثل سوى خدش على سطحها. في حين يتطلب الوصول إلى مركزها حفر نفق بعمق أكثر من 6٠٠٠ كم. إن استخدام الجيولوجيين لأسلوب الملاحظة غير المباشرة يعني جمع أدلة مختلفة عن مكونات باطن الأرض، ويتطلب ذلك دراسة الزلازل والصخور المكشوفة على سطح الأرض.

الأمواج عندما ترمي حجرًا في بحيرة أو بركة ساكنة فإنك تشاهد أمواجًا، كما في الشكل ١.

فالأموّاج اضطراب يحمل الطاقة عبر المادة أو عبر الفراغ. فعندما يرتطم حجر بالماء، تحمل الأمواج جزءًا من الطاقة الحركية للحجر بعيدًا عن مكان الارتطام. وعند حدوث الزلازل تنتقل الطاقة بواسطة الأمواج عبر المواد، وتعتمد سرعة الموجات الزلزالية على كثافة وطبيعة الوسط الذي يتقلها، فالموجات تسير في المواد الصلبة أسرع مما في المواد السائلة، وإضافة إلى ذلك قد تنحني الأمواج الزلزالية عن مسارها الأصلي أو تتوقف كليًا في أوساط معينة، وتقسّم الأمواج الزلزالية إلى ثلاثة أنواع: الأولية، والثانوية، والسطحية. وتعدّ الأمواج الأولية



الشكل ١ الأمواج تنقل الطاقة عبر الماء كما تنقل الأمواج الزلزالية الطاقة عبر الأرض.

فيم هذا الدرس

الأهداف

- تصف أن باطن الأرض مقسم إلى طبقات.
- تشرح كيف تتحرك الصفائح الأرضية.
- تناقش لماذا تتحرك الصفائح الأرضية.
- تصف كيف تتكون الجبال، وكيف تُحَتُّ.
- تقارن بين أنواع الجبال.
- تحدد القوى التي تشكّل جبال الأرض.

الأهمية

تتحرك صفائح الأرض مبتعدة أو مقترية إحداهما من الأخرى، أو متحاذية، وتنشأ هذه الحركة عن قوى تشكل سطح الأرض عبر أحداث مختلفة مثل بناء الجبال، وانفجار البراكين، وحدوث الزلازل.

مراجعة المفردات

الصحارة مواد صخرية منصهرة توجد تحت القشرة الأرضية.

المفردات الجديدة

- اللب الداخلي
- اللب الخارجي
- الستار (الوشاح)
- القشرة
- الغلاف الصخري
- الصفائح
- جبال الكتل المتصدعة
- الجبال المطوية
- الجبال الناهضة
- الجبال البركانية
- الصدوع
- غوص الصفائح
- جبال الكتل المتصدعة
- الجبال المطوية
- الجبال الناهضة
- الجبال البركانية

أسرعها، وتنتقل في المواد: الصلبة، والسائلة، والغازية، وتعمل على تضاعف جسيمات الصخور وتخلخلها في نفس اتجاه حركتها. بينما تنتقل الأمواج الثانوية في المواد الصلبة فقط وتسبب تحريك جسيمات الصخر عمودياً على اتجاه حركتها. أما الأمواج السطحية فهي أبطأ الأنواع الثلاثة، وتنتقل فقط على سطح الأرض وبدراسة سرعة الأمواج والطرق التي سلكتها يستطيع الجيولوجيون معرفة تركيب كوكب الأرض.

الأدلة الصخرية من الأدلة الأخرى التي تساعد على معرفة تركيب باطن الأرض، وجود صخور معينة منتشرة في مواقع مختلفة على سطح الأرض. هذه الصخور تشبه في مكوناتها مكونات باطن الأرض. تتكون هذه الصخور في الأعماق، ثم تُدفع إلى السطح أو بالقرب منه؛ حيث تتعرض للتعرية. وتشير أدلة الأمواج الزلزالية والأدلة الصخرية إلى أن الأرض مكونة من طبقات تختلف في مكوناتها.

طبقات الأرض

اعتماداً على أدلة الأمواج الزلزالية والأدلة الصخرية، وضع العلماء نموذجاً لباطن الأرض يوضح أنه يتكون على الأقل من أربعة نطاقات مميزة، وهي: اللب الداخلي، واللب الخارجي، والستار (الوشاح)، والقشرة. ويمكن تشبيه تركيب باطن الأرض بتركيب ثمرة الخوخ التي تتألف من قشرة رقيقة تغلف الجزء الرطب السميك الذي تأكله، ويلى ذلك فجوة كبيرة تغلف البذرة. كما في الشكل ٢.

اللب الداخلي يشبه لب الأرض الفجوة والبذرة في ثمرة الخوخ. وقد تم تقسيمه إلى جزأين مختلفين أحدهما سائل والآخر صلب. يسمى النطاق الواقع في مركز الأرض باللب الداخلي، وهو صلب. وهذا الجزء من الأرض يتميز بكثافة مرتفعة، ويتكون معظمه من الحديد. وعندما تصل إليه الأمواج الزلزالية تزداد سرعتها، مما يدل على وجوده في الحالة الصلبة. الظروف في اللب الداخلي ظروف قاسية مقارنة بسطح الأرض؛ فدرجة الحرارة هناك حوالي ٥٠٠٠°س، كما أن الضغط مرتفع جداً بسبب ثقل الصخور المحيطة.

اللب الخارجي يقع اللب الخارجي فوق اللب الداخلي للأرض ويُعتقد أنه يتكون من عناصر منصهرة. وقد استنتج العلماء أنه موجود في الحالة السائلة؛ لأنه تسبب في انقطاع نوع من الموجات الزلزالية وانخفاض في سرعة نوع ثانٍ.

ماذا قرأت؟ أي طبقات حبة الخوخ تشبه اللب الخارجي للأرض؟

الجزء الذي تعيش عليه مشابهاً لقشرة
ثمرة الخوخ مما يدل على أن القشرة
الأرضية هي أقل طبقات الأرض سمكاً

الشكل ٢ يشبه تركيب باطن الأرض تركيب ثمرة الخوخ. وضح إذا كان الجزء الذي تعيش عليه من الأرض مشابهاً لقشرة ثمرة الخوخ، بم يخبرك ذلك عن هذه الطبقة من طبقات الأرض؟





الستار الطبقة الموجودة في باطن الأرض وتعلو اللب الخارجي تسمى **الستار**، وهي تشبه الجزء الرطب الذي تأكله في نموذج حبة الخوخ. ويعد الستار النطاق الأكبر في باطن الأرض. وعلى الرغم من كونه صلبًا إلا أنه يتحرك ببطء شديد كالمعجون.

القشرة النطاق الخارجي من الأرض هو **القشرة**، وهو يشبه القشرة الرقيقة في نموذج ثمرة الخوخ. وبمقارنة سُمك القشرة بسُمك باقي النطاقات فإنها تبدو رقيقة وغير منتظمة السمك؛ إذ يقل سمكها تحت المحيطات ويزداد في القارات. وجميع المعالم الموجودة على سطح الأرض هي جزء من القشرة.

لب الحديد تتكون قشرة الأرض من الحديد بنسبة ٥%. ويعتقد الجيولوجيون أن اللب يتكون معظمه من الحديد. قم بدراسة النظرية السابقة، وحدد نقاط الضعف والقوة فيها ذاكراً الأدلة والمعلومات التي وصلت إليها.

بنية الأرض

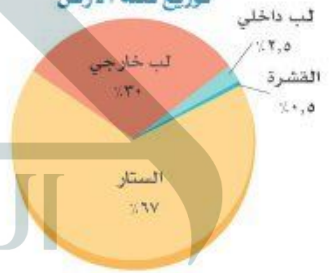
مع أن الأرض مكونة من أربعة نطاقات رئيسة فإنه يمكن تقسيمها إلى نطاقات أخرى اعتماداً على تغير الخصائص الفيزيائية مع العمق. يوضح الشكل ٣ بنية الأرض ويصف بعض خصائصها، ومنها الكثافة ودرجة الحرارة والضغط، وهي خصائص تكون قيمها أقل ما يمكن عند القشرة، وأكبر ما يمكن في اللب الداخلي.

الزلازل وتكشف الصخور التي تكونت في باطن الأرض بفعل التعرية

الشكل ٣ تتكون الأرض من أربعة نطاقات رئيسة تتفاوت في سمكها. حدد الأدلة والأحداث الجيولوجية التي ساعدت العلماء على دراسة مكونات طبقات الأرض.



توزيع كتلة الأرض

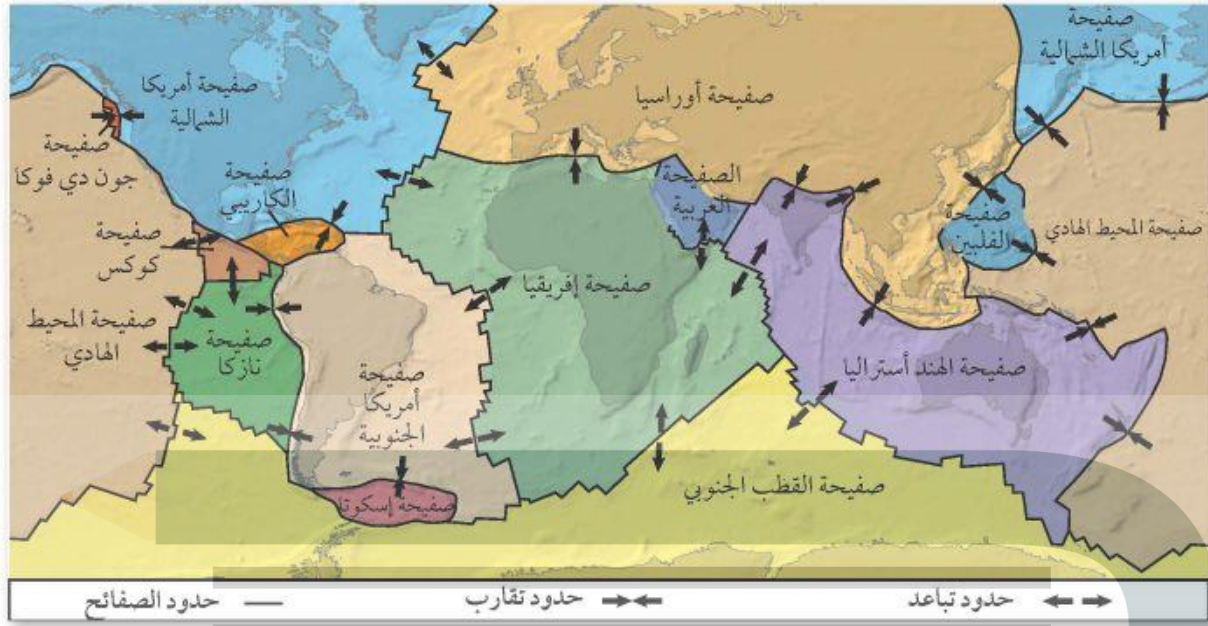


القشرة الأرضية



اللب الخارجي

اللب الداخلي



الشكل ٤: حواف الصفائح الأرضية قابلة

للاطباق بعضها على بعض، مثل لعبة الصورة المجزأة.

استتج إذا كانت الصفائح تتحرك، فما الذي يحدث برأيك في مناطق الحدود التي تفصل بينها؟

تتحرك الصفائح مقتربة أو مبتعدة أو تنزلق بجانب بعضها بعضاً على طول حدود الصفائح



تجربة
البناء

صفائح الأرض

على الرغم من انفصال القشرة عن الستار فإن الجزء العلوي المتماسك من الستار يتحرك كما لو أنه جزء من القشرة. ويكوّن الجزء العلوي من الستار مع قشرة الأرض ما يسمى **الغلاف الصخري**، وهو يتجزأ إلى ٣٠ قطعة أو **صفائح أرضية** تتحرك فوق الغلاف اللدن الذي يعد جزءاً من الستار. تختلف صفائح الأرض الرئيسة في الحجم والشكل، كما هو مبين في الشكل ٤.

تتحرك صفائح الأرض حركة بطيئة، بحيث تزحف الصفائح مسافة بضعة سنتيمترات في السنة الواحدة، وهذا يعني أن هيئة الصفائح ليست ثابتة أو مستقرة، وأن شكلها وحجمها في الماضي مختلف عن شكلها الحالي، كما يعني أن القارات قد تحركت مسافات شاسعة حتى أصبحت على صورتها الحالية كما في الشكل ٤، فمثلاً تقع القارة المتجمدة الجنوبية حالياً في القطب الجنوبي، لكنها كانت في يوم من الأيام عند خط الاستواء. أما أمريكا الشمالية فقد كانت فيما مضى متصلة بأوروبا وإفريقيا.

تستخدم حالياً أشعة الليزر وصور الأقمار الاصطناعية لقياس الحركة الصغيرة للصفائح والتي تصبح مع الزمن مسافات كبيرة. فإذا كانت صفائح ما تتحرك بمعدل ٢ سم في السنة، فما المسافة التي تقطعها الصفائح في ١٠٠٠ سنة؟ وما المسافة بعد ١٠ ملايين سنة؟

ما أجزاء الأرض التي تكون الغلاف الصخري؟ **ماذا قرأت؟**

القشرة والجزء العلوي من الستار

حدود الصفائح

تسمى مناطق التقاء الصفائح معًا بحدود الصفائح. وتؤدي حركتها الدائمة إلى توليد قوى تؤثر في سطح الأرض في مناطق الحدود بين الصفائح، وفي بعض الحدود تكون هذه القوى كبيرة لدرجة تؤدي إلى تكون الجبال.

وفي مناطق حدود أخرى تتكون حفر انهدام ضخمة ذات نشاطات بركانية. وفي مناطق حدود ثالثة تتكون صدوع ضخمة. والصدوع كسور كبيرة في الصخور بفعل حركتها. هذه الحركة يمكنها أن تسبب حدوث الزلازل. يوضح الشكل ٥ أنواع الحركات المختلفة للصفائح.

الصفائح المتباعدة تتحرك الصفائح متباعدة نتيجة قوى الشد التي تؤثر فيها في اتجاهين متعاكسين. يوضح الشكل ٦ ما يحدث عندما تستمر قوى الشد في مبعادة صفيحتين إحداهما عن الأخرى. ومن نتائج التباعد تكوّن قشرة جديدة في الفجوات الناتجة عن الحركة. ومع استمرار التباعد على هذه الحدود تتكون فجوات جديدة تمتلئ تدريجيًا بالصحارة المندفعة من الستار، ومع الزمن تبرد الصحارة المتكونة في الفجوات لتكون قشرة جديدة.

الشكل ٥ صفائح الأرض يمكن أن تتقارب أو تتباعد، أو تتحرك متحاذاة.

الصفائح المتباعدة: عندما تتباعد الصفائح تتكون قشرة جديدة تملأ الفراغ بينها. وتكون القشرة الجديدة أقل كثافة من الصخور المحيطة لذلك تكوّن في الغالب ظهرًا مرتفعًا.



الصفائح المتحركة جانبيًا (الانزلاقية): عندما تتحرك الصفائح متحاذاة تتسبب في وقوع الزلازل التي تستمد قدرتها التدميرية من التحرير المفاجئ للطاقة المخزنة في منطقة الحدود.



الصفائح المتقاربة: عندما تتقارب الصفائح تؤدي القوى الناتجة إلى تكوين جبال مثل جبال الأنديز في أمريكا الجنوبية.



الوديان الخسفية

الشكل ٦



تتصدع الصحارة أثناء حركتها من القشرة الأرضية إلى أعلى مسببة تشققات في أجزاءها الصلبة.



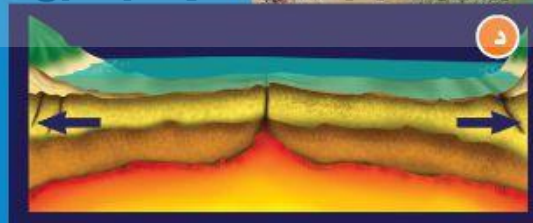
عندما تتباعد صفيحتان قاربتان تتكون وديان خسفية. وإذا استمر التباعد واتصل الحوض الخسفي بشاطئ بحر فإن المياه تندفق إلى الحوض الخسفي.

تندفع الصحارة في مناطق التوسع والضعف في قاع الحوض الخسفي، ومع مرور الزمن يتوسع الفراغ المتكون بين الجزأين المتباعدين مكونًا محيطًا يتوسع باستمرار، ويمكن رؤية المراحل الأربع لهذه العملية في الشكل المرفق هنا.

يمتد الانهدام العظيم في شرق إفريقيا مسافة ٥٦٠٠ كم بشكل مواز لساحل إفريقيا الشرقي، ويمثل هذا الانهدام المرحلة الثانية من مراحل تكون المحيط الأربع، وإذا استمرت عمليات الخسف في الانهدام الإفريقي فإن الجزء الشرقي من إفريقيا سينفصل في النهاية عن اليابسة الرئيسية.



مع زيادة التوسع يتكون بحر صيق أو بحيرة



في النهاية يتكون حوض محيط، وظهر محيط





تحدث عملية تباعد الصفائح وتكون القشرة الجديدة أسفل المحيط في أماكن معينة منه. ومع تكون القشرة المحيطية الجديدة وتحركها مبتعدة عن وسط المحيط، تبرد وتزداد كثافتها.

الشكل ٧ هناك ثلاثة أنواع من الحدود المتقاربة.

الصفائح المتقاربة عندما تتحرك الصفائح المتقاربة وتتصادم مع بعضها البعض تسمى حدودًا تصادمية وتنشأ عن ذلك عدد من الظواهر، كما تروى في الشكل ٧. وتعتمد نتيجة الاصطدام على كثافة كل من الصفيحتين المتقاربتين. وفي العادة تكون القشرة المكونة لقاع المحيط أو القشرة المحيطية أكثر كثافة من القشرة القارية المكونة للقارات.

فإذا تصادمت صفيحتان قاريتان وكانت كثافتهما متساويتين وأقل من كثافة الستار الموجود تحت الصفائح، أدى هذا التصادم إلى اندفاع القشرة إلى أعلى وتحديدها. كما ينتج عن تصادم الصخور بهذا الشكل قوى ضغط تؤدي إلى طي الصخور في كلتا الصفيحتين وينتج عن ذلك تكوّن جبال.

في بعض الأحيان يكون الطي شديدًا لدرجة أن الطبقات ينشي بعضها فوق بعض تمامًا وتقلب. ومع تعرض طبقات الصخور إلى الطي والكسر فإنها تندفع إلى أعلى مكونة الجبال. إن أعلى سلاسل جبلية في العالم، وهي الهملايا في قارة آسيا، لا تزال قممها ترتفع إلى أعلى نتيجة تصادم صفيحتين قاريتين معًا.

الشكل ٨ عندما تتحرك صفيحتان متحاذيتين بمحاذاة الأخرى فإن إحداهما تحتك بالأخرى، وتنشأ بينهما قوى قص، ويتبع ذلك حركة مفاجئة تؤدي إلى حدوث الزلازل وتكوّن الصدوع.



غوص الصفائح عندما تقترب صفيحة محيطية مع صفيحة محيطية أو قارية، فإن الصفيحة الأكثر كثافة تنثني إلى أسفل الصفيحة الأخرى، تسمى هذه العملية **غوص الصفائح**. وعندما تنثني الصفيحة فإنها تغطس في الستار. ونتيجة لذلك لا تستمر القشرة الأرضية في النمو. ومع تكون قشرة جديدة في مناطق الانهدام (التباعد)، تغطس مادة القشرة القديمة بدورها في الستار عند مناطق غوص الصفائح.

تجربة

نمذجة الشد والتضاغط

الخطوات

١. أحضر قطعتين (إصبعين) من حلويات طرية ومتماسكة ومرنة.
٢. أمسك إحدى القطعتين من طرفيها، ثم قم بالضغط عليها بكلتا يديك.
٣. سجل ملاحظاتك في دفتر العلوم.
٤. أمسك بالقطعة الأخرى وقم بسحبها بلطف من كلا الجانبين.
٥. سجل مشاهداتك في دفتر العلوم.

التحليل

١. في أي قطعة أحدثت شداً، وفي أيهما أحدثت تضاغطاً؟
٢. اشرح كيف ينطبق ذلك على حدود الصفائح؟



الصفائح التي تتحرك متحاذية إضافة إلى تحرك الصفائح متباعدة ومتقاربة يمكنها أن تتحرك متحاذية. فيمكن مثلاً أن تتحرك صفيحة نحو الشمال بينما تتحرك الصفيحة المجاورة لها نحو الجنوب. في هذه الحالة تسمى الحدود بين الصفيحتين حدوداً تحويلية. وعندما تؤثر قوتان متوازيتان في اتجاهين متعاكسين في كلتا الصفيحتين ينشأ عن ذلك ما يسمى قوى القص التي تتسبب في تكوين زلازل وصدوع في منطقة التماس بين الصفيحتين كما في الشكل ٨. قال تعالى: ﴿وَالسَّيِّدَاتِ ذَاتِ الرَّجْعِ ۝١١﴾ وَالْأَرْضِ ذَاتِ الصَّنْعِ ۝١٢ الطارق. ومن الأمثلة على الحدود التحويلية منطقة البحر الميت.

لماذا تتحرك الصفائح؟

من خلال ملاحظتك للصفائح المبيّنة على خرائط الأرض كما في الشكلين ٤، ٥، ترى أنها كبيرة. ولتحريك شيء كبير بهذا الحجم يتطلب الأمر كمية هائلة من الطاقة.

نتج الشد عند سحب قطعة الحلوى للخارج ونتج

الضغط عندما دفعت قطعة الحلوى نحو بعضها بعضاً

يتم الحصول على الضغط عندما تتحرك الصفائح نحو

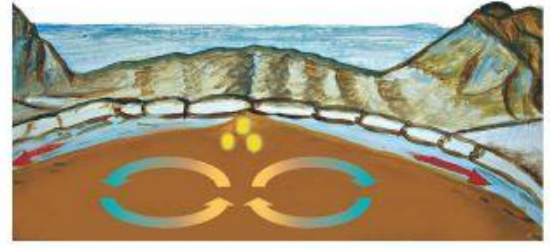
بعضها بعضاً ويتم الحصول على التوتر عندما تتحرك

الصفائح مبتعدة عن بعضها بعضاً

بوصفها جزءاً من الحركة الدورانية لمادة الستار.

الشكل ٩ تتضافر تيارات الحمل وقوة الدفع وقوة السحب لتحريك الصفائح.

التسخين غير المنتظم للستار يسبب تيارات الحمل.



يحدث الدفع مرتفعات في أماكن في وسط المحيط.



تؤدي تيارات الحمل الهابطة إلى سحب الصفائح المحيطية الغاطسة إلى أسفل.

تكون الجبال

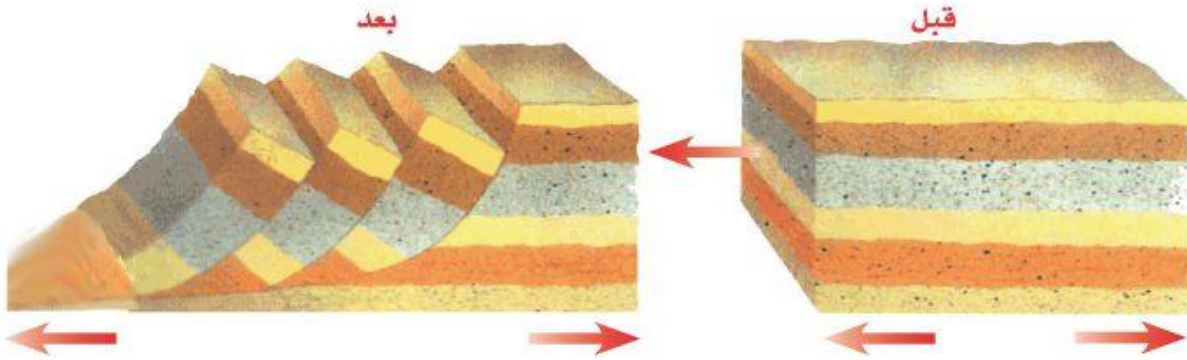
من أفضل الرحلات التي يرغب فيها معظم الناس الرحلة إلى الجبال؛ حيث توفر قممها المرتفعة مشاهد جميلة. وأعلى قمة جبلية على الأرض هي قمة إفرست في جبال الهمالايا في هضبة التبت، والتي يبلغ ارتفاعها أكثر من ٨٨٠٠ متر فوق سطح البحر. أما في المملكة العربية السعودية فيزيد ارتفاع قمة جبل السوداء على ٣٠٠٠ متر. ويوجد على الأرض أربعة أنواع من الجبال هي: الكتل الصدعية، والمطوية، والفاهضة، والبركانية، وكل نوع يتكون بطريقة مختلفة ويكون جبالاً تختلف في الحجم.

عمر الجبل يمكن أن تكون الجبال وعرة ذات قمم عالية مكسوة بالثلج، أو تكون مستديرة مكسوة بالغابات وتحوي ودياناً صغيرة وجدالاً. وتعتمد عمورة الجبل على استمرار أو توقف عملية تكوينه. فجبال الهمالايا مثلاً ما تزال ترتفع بمقدار بضعة سنتيمترات كل سنة، بينما توقفت تكون العديد من الجبال القديمة منذ ملايين السنين، وهي الآن في طور التآكل بسبب تعرضها للتحلل بالعوامل الجيولوجية، انظر الشكل ١٠.

جبال الكتل المتصدعة أول أنواع الجبال التي ستدرسها هي الجبال التي تتكون نتيجة انزلاق الكتل المتصدعة. تذكر أن قوى الشد تتولد في منطقة حدود الصفائح المتباعدة وتؤدي إلى تكون صدوع وحفر انهدام. تتكون **جبال الكتل المتصدعة** من كتل صخرية ضخمة مثنية ومنفصلة عن الصخور المجاورة بصدوع. وعند تعرضها لقوى شد من جهتين متقابلتين تنزلق كتل كبيرة إلى أسفل مكونة قمماً وودياناً، انظر الشكل ١١. ومن أمثلتها جبال سييرا نيفادا في ولاية كاليفورنيا في الولايات المتحدة الأمريكية.

الشكل ١٠ تمييز قسم الجبال الحديثة (١٠-أ) بكونها مرتفعة، وذات نهايات مدببة، أما الجبال القديمة (١٠-ب) فتكون قممها منبسطة قليلة الانحدار.






الشكل ١١ قبل تعرضها لقوى الشد تكون الصخور مستوية، وبعد تعرضها للشد تنفصل كتل كبيرة وتنزلق بشكل مائل بطريقة تنشأ عنها وديان وقمم جديدة.

نموذج لتكون الجبال إذا أمسكت قطعة حلوى بين يديك وبدأت بسحبها من كلتا الجهتين سوف تتكون تشققات على سطحها. وبالطريقة نفسها عندما تتعرض الصخور لقوى شد تتكون الصدوع. وتمتاز الصخور السطحية عن الصخور في باطن الأرض بأنها هشة. لذلك عند تعرضها لقوى شد فإن كتلاً كبيرة منها تتحرك على طول الصدوع.

الآن، أمسك بقطعة مسطحة من الصلصال من طرفيها بين يديك، ثم اضغط عليها برفق إلى الداخل. ستلاحظ أن قطعة الصلصال تنثني ثم تتراكم بعضها فوق بعض. تسبب عملية مشابهة طي الصخور وثنيها مشكلة الجبال المطوية على سطح الأرض.

الشكل ١٢ الطريق المقصودة في المنطقة كشف صخوراً مطوية .




الجبال المطوية إذا سافرت على طريق يمر عبر الجبال فقد ترى طبقات الصخور المطوية التي ستذكرك بما حدث لعينة الطين عندما عرضتها للضغط، انظر الشكل ١٢. إن تأثير قوى ضغط شديدة بسبب حركة صفيحتين قاريتين إحداهما نحو الأخرى يضغط الصخور من كلا الجانبين. ويسبب ذلك طي وثني الصخور وتشكل الجبال المطوية. فالجبال المطوية جبال تكونت نتيجة طي طبقات الصخور عند تعرضها لقوى الضغط.

الضغط

ما نوع القوى التي تسبب تكون الجبال المطوية؟

✓ ماذا قرأت؟

جبال زاغروس جبال مطوية نشأت بتأثير قوى الضغط الناجمة عن تقارب صفيحة أوراسيا والصفيحة العربية. تعد جبال زاغروس أطول سلاسل الجبال في الهضبة الإيرانية فهي تمتد عبر شمالها الغربي وتستمر في العراق.



الشكل ١٣ جبال الروكي الجنوبية أحد الأمثلة على الجبال الناهضة.


الجبال الناهضة تعد جبال الروكي الجنوبية في كولورادو والمكسيك مثلاً على هذا النوع من الجبال الشكل ١٣. تتكون الجبال الناهضة عندما تعمل قوة من باطن الأرض على دفع القشرة إلى أعلى. ومع الزمن يتم تعرية طبقات الصخور الرسوبية فتتكشف الصخور النارية والمتحولة التي تقع أسفلها. وبدورها تتعرض الصخور النارية والمتحولة للتعرية مكونة قمماً ومرتفعات حادة.

الجبال البركانية عندما تتدفق اللابة منصهرة ساخنة على سطح الأرض تتكون **الجبال البركانية**. ومع مرور الزمن يؤدي تراكم طبقات اللابة إلى تكوّن شكل مخروطي يسمى الجبل البركاني، انظر الشكل ١٤. ويعد الجبل الأبيض في المملكة العربية السعودية مثالاً على هذا النوع من الجبال، حيث تمثل قمته أحدث الفوهات البركانية في منطقة خيبر.

وتتكون بعض الجبال البركانية عندما تغطس صفيحة محيطية داخل الستار في مناطق الغوص أسفل صفيحة أخرى، فتتصهر مكونة صهارة كثافتها أقل من الصخور المجاورة لها فترتفع الصهارة ببطء حتى تصل إلى سطح الأرض. وتتدفق اللابة والرماد على السطح، وتتراكم لتكوّن الجبال البركانية.

الشكل ١٤ تتشكل الجبال البركانية من تراكم اللابة والرماد البركاني عبر الزمن.

الجبال البركانية تحت البحار علمت سابقاً أن الجبال البركانية تتكون على اليابسة، لكن هل تعلم أن هذه الجبال تتكون أيضاً في قاع المحيط؟



الجبل الأبيض بمنطقة خيبر

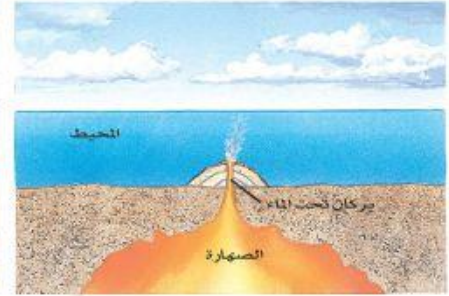
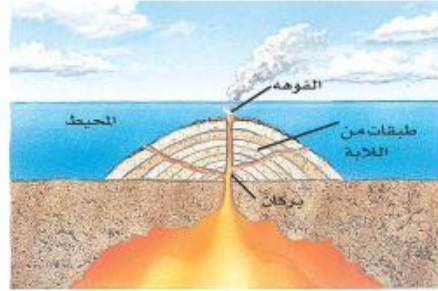
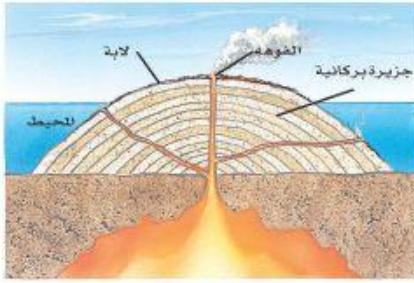
الفوهة هذا الجزء يشبه الزيدية ويحيط بالفتحة. عادة تتراكم اللابة هنا قبل أن تتدفق على المنحدر.

الفتحة مع صعود الصهارة إلى أعلى خلال الأنبوب تصل إلى السطح خلال جزء يسمى الفتحة، وقد تتكون فتحات جانبية من الأنبوب الرئيس.

الأنبوب تتدفق الصهارة بشكل رأسي خلال شق من الصخور يسمى الأنبوب.

الصهارة خليط مصهور حار من المادة الصخرية والغازات.

حجرة الصهارة الصهارة التي اندفعت إلى أعلى تملأ تجاويف كبيرة تحت البركان. هذه التجاويف تسمى حجرة الصهارة. في بعض الحالات تقوم حجرة صهارة واحدة بتغذية عدة براكين.



الشكل ١٥ جزر هاواي سلسلة من الجبال البركانية، تكونت وامتدت من سطح المحيط الهادي. حيث بدأت بتدفق اللاية على قاع المحيط ومع مرور الوقت زاد حجم الجبل البركاني، وارتفع فوق سطح الماء.

يشكل ثوران البراكين تحت الماء جبلاً في قاع البحار. وفي النهاية، إذا تدفقت كمية كافية من اللاية، فإن هذه الجبال تنمو لتصل إلى سطح البحر. فجزر هاواي مثلاً هي قمم جبال بركانية ضخمة تمتد فوق سطح مياه المحيط الهادي. الشكل ١٥

جبال



ماذا قرأت؟ أي أنواع الجبال تكون جزر هاواي؟

أنواع أخرى من الرفع

درست سابقاً منشأ قوى الضغط التي تسبب ثني صخور القشرة أثناء عمليات بناء الجبال. لكن توجد قوة أخرى تعمل على إبقاء الجبال أعلى من المناطق المحيطة بها. فمثلاً إذا وضعت قطعاً خشبية مختلفة السمك في الماء، فستطفو القطع الخشبية السميكة فوق الماء أكثر من القطع الأقل سمكاً. وفي هذه الحالة تعادل (توازن) قوى الطفو في الماء قوى الجاذبية، وتتصرف الجبال الجليدية الطافية بطريقة مشابهة لما يحدث في قطعة الخشب؛ فعندما تنصهر تلك الجبال تفقد جزءاً من كتلتها فترتفع إلى أعلى في الماء. انظر الشكل ١٦.

الشكل ١٦ التوازن يجعل قشرة الأرض تتصرف بنفس طريقة الجبال الجليدية (الجليديات)، فعندما تنصهر أجزاء من الجبال الجليدية يقل وزنها فتطفو أكثر مندفعة إلى أعلى.

الجلول اون لاين
h ü l u l . o n l i n e



١٦٩

وهناك عملية توازن مشابهة في الأرض؛ بناءً عليها يطفو الغلاف الصخري للأرض فوق جزء من الستار يشبه المادة البلاستيكية ويدعى الغلاف اللدن.

لوحظ تأثير التوازن في البداية بجوار السلاسل الجبلية الكبيرة، فقد وجد أن سمك القشرة أسفل الجبال أكبر من سمكها في أي مكان آخر. وكما تستمر الجبال في الارتفاع فإن قاعدة الجبال تستمر في الهبوط ضمن الستار فيزداد سمك القشرة تحت القارات. وقد أشار الله تعالى في كتابه الكريم إلى بديع قدرته في خلق الجبال، قال تعالى: ﴿وَجَعَلْنَا فِي الْأَرْضِ رَوَاسِيَ أَنْ تَمِيدَ بِهِمْ وَجَعَلْنَا فِيهَا فِجَاجًا سُبُلًا لَّعَلَّهُمْ يَهْتَدُونَ﴾ (٢١) الأنبياء.

العلوم
عبر المواقع الإلكترونية

الجبال البركانية

ارجع إلى المواقع الإلكترونية عبر شبكة الإنترنت للبحث عن معلومات حول الجبال البركانية.

نشاط اجمع أكبر قدر من صور الجبال البركانية. ارسم خريطة كبيرة للعالم، وضع الصور في مواقعها الصحيحة. استنتج بعض المعلومات عن الجبال البركانية وأثرها في البيئة من حولها.

سيؤدي ارتفاع القشرة الأرضية إلى طي الشواطئ، لا ترتفع الشواطئ بنفس المقدار فقد تكون الجليديات أكثر سمكاً في بعض المناطق كما يمكن أن تكون بعض مناطق القشرة أقل مرونة وبالتالي تتحرك أقل من المناطق الأخرى

تطبيق العلوم

كيف تسبب الجليديات ارتفاع اليابسة؟

قبل ٢٠٠٠٠ سنة كانت أمريكا الشمالية مغطاة بصفحة ثلجية ضخمة. ترى، كيف يؤثر الغطاء الجليدي على القشرة الأرضية؟ وماذا تتوقع أن يحدث عندما تنصهر؟

تعريف المشكلة

قبل ١٠٠ سنة، لاحظ الناس الذين سكنوا مناطق كانت فيما مضى مغطاة بالجليد وجود ظواهر معينة، منها ميلان الشواطئ القديمة التي يكون ارتفاعها أعلى في بعض المناطق وأقل في مناطق أخرى. ترى، كيف حدث ميلان هذه الشواطئ؟

حل المشكلة

١. يدفع وزن الجليديات قشرة الأرض إلى أسفل. ماذا تتوقع أن يحدث عندما ينصهر الجليد؟



ترتد اليابسة أو تندفع إلى الأعلى بعد انصهار الجليد

اختبر نفسك

١. وضع كيف توفر الموجات الزلزالية معلومات عن مكونات باطن الأرض؟
٢. اذكر أمثلة على أماكن تحدث فيها الأنواع الثلاثة من حركة الصفائح.
٣. صف طبقة الأرض الداخلية الأكبر حجماً.
٤. رتب طبقات الأرض من الأكثر كثافة إلى الأقل كثافة.
٥. قارن بين اللب الداخلي واللب الخارجي، وبين قوة الدفع وقوة السحب.
٦. استنتج نوع الجبال التي تتكوّن نتيجة تأثير قوى الضغط على الطبقات الصخرية.
٧. وضع كيفية تكون الجبال الناتجة عن الكتل المتصدعة.
٨. وضع كيفية تكوّن البركان.
٩. التفكير الناقد رتب سلاسل الجبال الآتية من الأحدث إلى الأقدم: الأبالاش، الهملايا، روكي. علماً بأن جبال الهملايا هي الأكثر وعورة، وقممها أشد انحداراً، وجبال الأبالاش هي الأقل وعورة وقممها أقل انحداراً.

تطبيق المهارات

١٠. خريطة المفاهيم اعمل خريطة مفاهيم لسلسلة أحداث تصف تكوّن الجبال المطوية.

الخلاصة

دلائل على تكوّن باطن الأرض

- تم استكشاف باطن الأرض بدراسة الصخور والأمواج الزلزالية.

طبقات الأرض

- يتكوّن باطن الأرض من اللب الداخلي واللب الخارجي، والستار، والقشرة الأرضية.

حدود الصفائح

- تتحرك الصفائح إما متباعدة أو متقاربة أو متحاذاة.
- تتحرك الصفائح بفعل تيارات الحمل وعوامل أخرى.

تكوّن الجبال

- تقسم الجبال إلى أربعة أنواع هي: الكتل الصدعية، والكتل المطوية، والكتل البركانية، والكتل الناهضة.
- تتميز الجبال الحديثة بعلوها ووعورتها وشدة انحدار قممها، أما الجبال القديمة فتكون أقل ارتفاعاً ووعورة.
- يمكن أن تتكون الجبال البركانية على اليابسة أو في قيعان المحيطات.

حركة صفيحتين قاريتين نحو بعضهما

تسبب

قوى ضغط شديدة تؤثر على كلا الجانبين للصخور

طي وثني الصخور

تشكل الجبال المطوية

حل الصفحة ١٧١:

ج١- إذا تغيرت قيمة سرعة الموجات الزلزالية أو مسارها فهذا يدل على اختلاف المواد التي تنتقل الأمواج عبرها

ج٢- المتقاربة في الهيمالايا - المتباعدة في الانهدام العظيم وشرق إفريقيا - الجانبية في سان أندرياس

ج٣- بعد الستار النطاق الأكبر في باطن الأرض وهو صلب لكنه يتحرك ببطء

ج٤- اللب الداخلي - اللب الخارجي - الستار - القشرة

ج٥- اللب الخارجي والداخلي كلاهما جزء من باطن الأرض

اللب الخارجي سائل والداخلي صلب

الدفع والسحب كلاهما من طرق تحريك الصفائح، قوة الدفع موجودة عند الحدود المتباعدة وقوة السحب عند الحدود المتقاربة

ج٦- جبال مطوية

ج٧- هي جبال ضخمة مطوية مفصولة بصدوع عن الصخور المجاورة

ج٨- ترغم المجما في باطن الأرض على الصعود لأعلى حتى تتدفق إلى السطح ويتكون البركان عندما تتراكم اللابة بعضها فوق بعض مشكلة شكلاً قمعياً

ج٩- ترتيب الجبال من الأحدث إلى الأقدم: الهيمالايا - روكي - الأبلش



www.ien.edu.sa

التجوية والتعرية وأثرهما

التجوية


هل لاحظت يوماً وجود أخاديد في الشوارع أو أرضة متكسرة؟

عندما تسير السيارة فوق أخدود في الشارع، أو عندما تسير أنت فوق رصيف مكسور فستعرف أن صلابتها ليست كما يجب أن تكون. إن وجود الحفر في الشوارع وتكسر الأرضة يشير إلى أن المواد تتغير بعوامل الطبيعة. والتجوية عملية سطحية ميكانيكية أو كيميائية تؤدي إلى تفتت الصخور إلى قطع صغيرة. فالتجمد والانصهار والأكسجين في الهواء، وحتى النباتات والحيوانات جميعها يمكن أن تؤثر في استقرار الصخور وثباتها. إنها من العوامل التي تسبب تجوية الصخور على سطح الأرض وتحويلها إلى تربة في بعض الحالات.

التجوية الميكانيكية

عندما ينكسر الرصيف فهذا يعني أن قطعة إسمنت كبيرة قد تكسرت إلى قطع صغيرة دون أن يطرأ تغير على تركيب أو هوية الإسمنت نفسه. فهو قد تفتت فقط إلى قطع صغيرة. وهذه العملية مشابهة للتجوية الميكانيكية. فالتجوية الميكانيكية تكسر الصخور إلى قطع صغيرة دون أن تغير تركيبها الكيميائي. ويكون تركيب القطع

تم تكسير الجرانيت إلى قطع صغيرة دون حدوث أي تغير كيميائي في بنيته



صف كيف يمكنك معرفة ما إذا كانت قطع صغيرة من الجرانيت نتجت عن تجوية ميكانيكية؟

في هذا الدرس

الأهداف

- تحدد العمليات التي تؤدي إلى تكسر الصخور.
- تصف العمليات التي تؤدي إلى تغير البنية الكيميائية في الصخر.
- توضح كيف تكونت التربة.
- تحدد عوامل التعرية.
- تصف آثار التعرية.

الأهمية

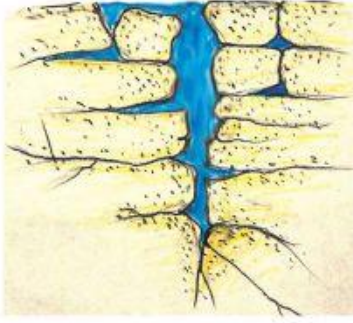
تتكون التربة عندما تفتت الصخور ويتغير تركيبها الكيميائي. والتربة موطن للعديد من المخلوقات الحية. ومعظم النباتات تحتاج إلى التربة لكي تنمو. وتساهم التعرية في تشكل سطح الأرض.

مراجعة المفردات

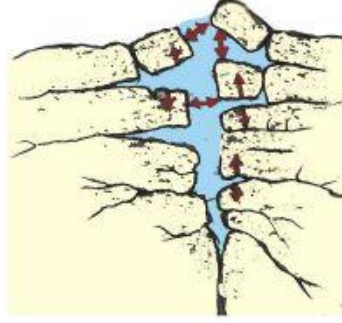
المطر الحمضي رطوبة حمضية لها رقم هيدروجيني أقل من ٦، ٥. الترسيب يحدث الترسيب عندما لا تستطيع التعرية نقل ما تحمله.

المفردات الجديدة

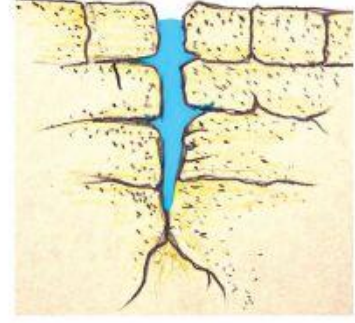
- التجوية
- التجوية الميكانيكية
- التجوية الكيميائية
- التربة
- حركة الكتل الأرضية
- الاحت
- الجريان السطحي



يتسرب الماء إلى الشقوق. وكلما كانت الشقوق أعمق وصل الماء إلى عمق أكبر.



يتجمد الماء ويتمدد ويؤدي ذلك إلى توسع الشقوق.



ينصهر الجليد، وإذا انخفضت الحرارة إلى ما دون درجة التجمد مرة أخرى تكرر العملية.


الشكل ١٨ يؤدي الماء مع الزمن إلى كسر الصخور.

الجليد تنخفض درجة الحرارة في بعض الأماكن إلى درجة تؤدي إلى تجمد الماء، وعندما ترتفع درجة الحرارة ثانية ينصهر الجليد، فتؤدي عملية تجمد الماء وانصهاره إلى تكسر الصخور. ولكن كيف يحدث ذلك؟ عندما يسقط المطر أو ينصهر الجليد، يتخلل الماء في الشقوق الموجودة في الصخور. وإذا انخفضت درجة الحرارة إلى ما دون التجمد فإن بلورات الجليد تتشكل. ومع ازدياد حجم هذه البلورات تأخذ حيزاً أكبر مما يأخذه الماء السائل؛ فالماء حين يتجمد تتباعد جزيئاته. وهذا التمدد يؤدي إلى تولد ضغط على الصخر. وعند وجود قوى كافية، يتشقق الصخر، وفي النهاية ينكسر، انظر الشكل ١٨.

مع تشكل الثلج فإنه يحتاج إلى حيز أكبر من الماء مما يسبب ضغط على الصخر يؤدي إلى حدوث التشقق

ماذا قرأت؟ ✓ وضح كيف يعمل الجليد على تفتيت أو تكسير الصخور.

الشكل ١٩ تعمل جذور الأشجار على تفتيت الصخور.



النباتات والحيوانات تسبب النباتات والحيوانات تجوية ميكانيكية أيضاً، حيث تنمو النباتات في أماكن تبدو غير ملائمة، وتنمو جذورها عميقاً داخل الشقوق في الصخور حيث تتجمع المياه. انظر الشكل ١٩ ومع نمو الجذور، تصبح أكثر سمكاً وطولاً، وتؤدي إلى توليد ضغط على الصخور، ومن ثم كسرها. وتعمل السناجب والحيوانات الأخرى التي تحفر داخل الأرض على تجوية الصخور. فعندما تحفر الحيوانات داخل الرسوبيات أو الصخور الرسوبية الطرية فإنها تكسر الصخور، كما أنها تدفع بعض الصخور والرسوبيات إلى السطح، حيث يسود نوع آخر من التجوية يُسمى التجوية الكيميائية.

الشكل ٢٠ تؤدي التجوية الكيميائية إلى تغيير التركيب الكيميائي للصخور والمعادن. وضح كيف يختلف معدن الكاولين عن الفلسبار؟



عندما تتفاعل بلورات الفلسبار مع حمض الكربونيك يتكون معدن الكاولين.

التجوية الكيميائية

تحدث **التجوية الكيميائية** عندما يتغير التركيب الكيميائي للصخور. هذا النوع من التجوية أكثر تأثيرًا في المناطق الاستوائية؛ لأنها مناطق رطبة، ودرجة حرارتها مرتفعة معظم الوقت. وتكون التجوية الكيميائية بطيئة في الصحارى لأن الأمطار فيها قليلة، وبيئية في القطبين لأن درجة الحرارة فيها منخفضة. ويلخص الجدول ١ معدل التجوية الكيميائية تبعًا للمناخات المختلفة. وأهم عاملين في التجوية الكيميائية هما الأكسجين والأحماض الطبيعية.

ماذا قرأت؟ لماذا تكون التجوية الكيميائية سريعة في المناطق الاستوائية؟

ظروف درجة الحرارة والرطوبة تسرعان من عملية التجوية

الأحماض الطبيعية تتفاعل مع بعض الصخور مع الأحماض الطبيعية الموجودة في البيئة، فعندما يتفاعل الماء مع ثاني أكسيد الكربون الموجود في الهواء أو التربة يتكون حمض الكربونيك، الذي يستطيع تغيير التركيب الكيميائي للمعادن في الصخور، كما هو موضح في الشكل ٢٠.

ومع أن حمض الكربونيك ضعيف، إلا أنه يتفاعل كيميائيًا مع العديد من الصخور. ويتفاعل الخل مع كربونات الكالسيوم في الطباشير ويؤدي إلى إذابتها. وبالمثل فإن حمض الكربونيك عندما يلامس صخر الحجر الجيري أو الدولوميت أو الرخام فإنه يتفاعل معها ويذيبها. وهناك صخور أخرى تحدث فيها تجوية عندما تتعرض لحمض الكربونيك.

التجوية الكيميائية	المناخ
بطيء	حار وجاف
سريع	حار ورطب
بطيء	بارد وجاف
بطيء	بارد ورطب

الشكل ٢١ تنمو الحزازيات على الصخور
مسببة تجوية كيميائية لها.

تجربة

إذابة الصخور بالأحماض

الخطوات

تحذير لا تنزع النظارة الواقية إلا بعد
تنظيف المختبر وغسل اليدين.

١. استخدم قطارة لوضع عدة
قطرات من الخل فوق طباشير
وحجر جيرى. وشاهد النتائج
بعدسة مكبرة.

٢. ضع عدة قطرات من حمض
الهيدروكلوريك المخفف ٥%
على طباشير وحجر جيرى.
وشاهد النتائج.

التحليل

١. صف أثر الخل وحمض
الهيدروكلوريك على الطباشير
والحجر الجيري.

٢. ابحث عن نوع الحمض الذي
يوجد في الخل.

حمض الأستيك

تجربة عملية

ارجع إلى كراسة التجارب العملية على منصة عين



أحماض النباتات تفرز جذور النباتات أحماضًا يمكن أن تتفاعل مع الصخور. وتقوم الكثير من النباتات بتكوين مادة تسمى التينين. ومع وجود السوائل تكوّن هذه المادة حمض التنيك، فيقوم هذا الحمض بإذابة بعض المعادن في الصخور. وعندما تذوب المعادن، يصبح المتبقي من الصخر ضعيفًا ويتكسر إلى قطع صغيرة. لذا عندما تشاهد طحالب أو نباتات تنمو فوق صخر قم بإزالتها، وسوف تلاحظ زوال لون الصخر في المناطق التي تتفاعل فيها أحماض النباتات مع بعض معادن الصخر الشكل ٢١.






أثر الأكسجين عندما ترى سيارات صدئة، أو تربة حمراء، أو صخرًا أحمر، فإنك تشاهد نتائج عملية أكسدة، وهي تأثير التغير الكيميائي الذي يحدثه الأكسجين. وعندما تتأكسد مواد غنية بالحديد فإن تفاعلًا كيميائيًا يؤدي إلى تكون صدأ على المادة. تتعرض الصخور إلى التجوية بالطريقة نفسها. فعندما تتعرض معادنها التي تحتوي على الحديد إلى الأكسجين، تتحول إلى مركبات هشة تشبه الصدأ، ويؤدي ذلك إلى ضعف الصخر وتكسر

حمض الهيدروكلوريك والخل يتفاعلان مع الطباشير
ويظهر التفاعل على شكل فوران وفقااعات وقد لا يكون
هناك تأثير للخل على الحجر الجيري

التربة خليط من مواد عضوية وماء وهواء وصخر تعرض لعمليات التجوية، وهي مواد مهمة لنمو النباتات. كما تتضمن التربة المواد العضوية المتحللة ومنها أوراق وأغصان وجذور ومواد أخرى، وهناك العديد من العوامل التي تؤثر في تكون التربة.

الصخر الأصلي يوضح الجدول ٢ أن نوع الصخر الأصلي الذي يتعرض للتجوية من العوامل المؤثرة في تكون التربة. فمثلًا في المناطق التي يتعرض فيها الحجر الجيري للتجوية الكيميائية تكثر التربة الطينية؛ لأن الطين يبقى في المنطقة بعد ذوبان الحجر الجيري. أما المناطق التي يتعرض فيها الصخر الرملي للتجوية فتتكون فيها تربة رملية.

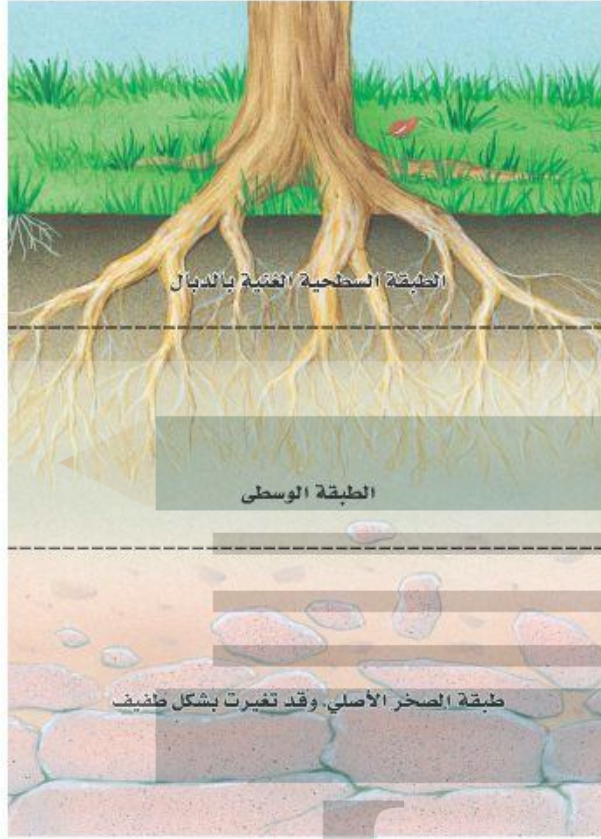
جدول ٢ العوامل المؤثرة في تكون التربة

المخلوقات الحية	الزمن	المناخ	درجة ميل السطح	الصخر الأصلي
				

درجة ميل السطح تؤثر تضاريس سطح المنطقة في نوع التربة المتكونة فيها. ولعلك لاحظت أن المناطق الجبلية ذات السفوح المنحدرة نادرًا ما تحوي تربة. ويعود السبب في ذلك إلى أن فتات الصخور ينزلق إلى أسفل الجبل بشكل مستمر. وفي المقابل ترسب المياه والرياح- في المناطق التي تكون فيها الأرض منبسطة- رسوبيات ناعمة تساعد في تكون تربة سميكة.

المناخ يؤثر المناخ أيضًا في تكون التربة. فإذا تعرضت الصخور لتجوية فعالة، فسوف تتكون تربة سميكة بسرعة. وهذا ما يحدث عادة في المناطق الاستوائية حيث المناخ حار ورطب. كما يؤثر المناخ في كمية المواد العضوية في التربة. فتربة الصحارى مثلًا تحتوي كمية قليلة من المواد العضوية، بينما توجد كميات كبيرة من المواد العضوية في تربة مناطق المناخ الحار والرطب. وعندما تموت النباتات والحيوانات تبدأ عملية التحلل بواسطة البكتيريا والفطريات. ويؤدي ذلك إلى تكون مادة قاتمة اللون تُسمى الدبال كما هو مبين في مقطع التربة في الشكل ٢٢. ومعظم المواد العضوية في التربة دبال، ويساعد الدبال التربة على حفظ الماء وتوفير المواد المغذية التي تحتاج إليها النباتات للنمو.

الزمن تستغرق عملية تجوية الصخور زمنًا معينًا. وقد تحتاج التربة إلى آلاف السنين حتى تتكون. وبمرور الزمن على تكوّن التربة، تصبح مختلفة عن الصخر الذي تكونت منه. فالصخر الأصلي في التربة الحديثة هو الذي يحدد خصائص التربة، ومع استمرار التجوية يزداد اختلاف التربة عن الصخر الأصلي. وتتكون تربة سميكة مكتملة التكوين في المناطق التي تؤثر فيها التجوية بشكل مستمر لفترات زمنية طويلة. ولكي يحدث هذا فإن مادة التربة يجب ألا تتعرض للتعرية، كما يجب ألا ترسب رسوبيات جديدة فوق سطح الأرض بسرعة.



المخلوقات الحية من الأمثلة الواضحة على تأثير المخلوقات الحية في تطور التربة، الأشنات وهي مخلوقات صغيرة مكونة من طحالب وفطريات تعيش معاً، وتبادل المنفعة، ونراها في الطبيعة على شكل بقع متعددة الألوان تنمو فوق أغصان النبات أو الصخور المنحدرة، وعندما تنمو الأشنات على الصخر تستمد منه المواد المغذية مما يؤدي إلى إضعاف الصخور وتفتيتها، وتنشأ نتيجة هذه العملية طبقة رقيقة من التربة.

وبعد تكوّن التربة يمكن للعديد من النباتات كالأعشاب والأشجار أن تنمو فيها. وتبدأ جذور هذه النباتات بدورها في تفتيت الصخر الأصلي. كما أن بقايا النباتات الميتة -ومنها الأوراق- تتراكم وتضيف المواد العضوية إلى التربة. وتعطي بعض النباتات مواد عضوية للتربة أكثر من غيرها. لذلك تكون التربة المتكونة تحت المناطق العشبية غنية بالمواد العضوية أكثر من التربة التي تتكون في الغابات.

عوامل التعرية

تخيل أنك تنظر إلى واد كبير محفور بتأثير نهر طويل، أو أنك تنظر إلى غروب الشمس في منطقة صخرية شاطئية. إن مناظر كهذه أمثلة رائعة على جمال الطبيعة التي أبدعها الله الذي خلق كل شيء. لكن كيف تتكون الوديان الكبيرة والأقواس المنحوتة في صخور صلبة؟ تنتج هذه الظواهر وغيرها عن تعرية سطح الأرض. **فالتعرية** هي تآكل الصخور أو الرسوبيات ونقلها، وتحدث التعرية بفعل الجاذبية والجليد والرياح والمياه التي تعمل على نحت سطح الأرض.

الشكل ٢٢ تتكون التربة من طبقات نشأت بفعل التجوية، وجريان الماء، والمواد الكيميائية، ونشاط المخلوقات الحية.

وضح ما الدور الذي تلعبه المخلوقات الحية الدقيقة في تطور التربة؟

نقوم بتحليل المواد العضوية

الجاذبية

الجاذبية هي القوة التي تسحب الأجسام بعضها نحو بعض. كما تسحب الجاذبية الأرضية كل شيء موجود على الأرض نحو مركزها. ونتيجة لذلك، فإن المياه تنحدر إلى أسفل الجبال، والصخور تسقط نحو أسفل المنحدرات. وعندما تتحرك الصخور أو الرسوبيات نحو أسفل منحدر بسبب الجاذبية فقط فإن ذلك يسمى **حركة الكتل الأرضية**. وتتحرك الكتل الأرضية في أي مكان يوجد فيه تلال أو جبال، كما يحدث أيضاً بجانب البراكين. وهناك أربعة أنواع من حركات الكتل الأرضية: الزحف، والسقوط، وانزلاق الصخور، والتدفق الطيني، انظر الشكل ٢٣.

حركة الكتل الأرضية

أ الزحف عندما تتحرك التربة على المنحدرات ببطء شديد إلى أسفل فإن حركة الكتل الأرضية هذه تُسمى زحفاً. وقد مالت بعض الأشجار في الشكل الأيمن تدريجياً بسبب تأثير ضغط الزحف في جذوعها.



الشكل ٢٣ عندما تؤدي قوة الجاذبية إلى سقوط قطعة كبيرة من التربة أو الصخر إلى أسفل تل تدريجياً أو فجأة، فإن ذلك ما يسميه الجيولوجيون حركة الكتل الأرضية. وتشارك عادةً التجوية والمياه في إحداثها. وترى هنا عدة أشكال منها.

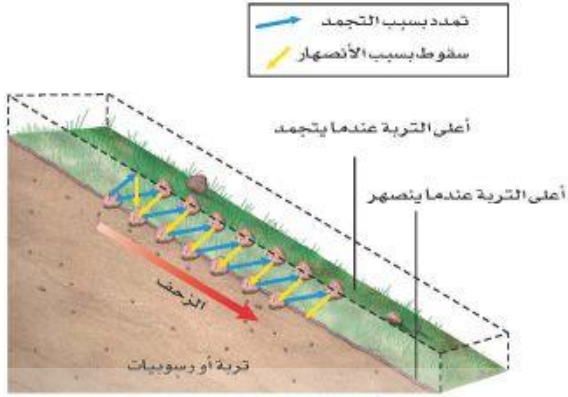
ج الانزلاق الصخري عندما تنكسر الصخور الواقعة على جانب جرف أو جبل، فإنها تنهار إلى أسفل فيما يسمى الانزلاق الصخري. والانزلاق الصخري كما في الشكل عن اليسار يمكن أن يحدث دون سابق إنذار.



د التدفق الطيني مدينة يظهر فيها الدمار الذي سببه النوع الرابع من الانزلاقات الأرضية وهو التدفق الطيني. عندما تؤدي الأمطار الغزيرة إلى إشباع الرسوبيات يتكون التدفق الطيني على هيئة خليط كالعجين من ماء ورسوبيات ويتحرك إلى الأسفل.

ب السقوط هذا الجرف يبين تأثير الانزلاق الأرضي الذي يعرف بالسقوط. وعادة ما يحدث السقوط بعد حدوث الزلازل أو الأمطار الغزيرة.





الزحف العملية التي تحدث أثناء حركة الرسوبيات ببطء نحو أسفل المنحدرات تُسمى الزحف، الشكل ٢٣. ويسود الزحف في المناطق التي يحدث فيها تجمد الماء وانصهاره الشكل ٢٤. فمع تمدد الجليد الناتج عن تجمد الماء في التربة فإنه يدفع الرسوبيات إلى السطح، وعندما ينصهر الجليد في التربة تتحرك الرسوبيات إلى أسفل المنحدر. وبمرور الزمن، فإن الزحف يستطيع تحريك كميات كبيرة من الرسوبيات، مما يسبب دمارًا لبعض الأبنية والمنشآت الأخرى.

الشكل ٢٤ عندما تتجمد التربة ترتفع دقائقها للأعلى. وعندما تنصهر المياه في التربة تسحب قوة الجاذبية دقائق التربة للأسفل. وفي النهاية ستتحرك كميات ضخمة من التربة بهذه العملية.

السقوط يحدث السقوط عندما تتحرك كتلة من الصخور أو الرسوبيات إلى أسفل منحدر تاركة فيه أثرًا منحنيًا، الشكل ٢٣. ويحدث السقوط عادة في الطبقات السمكية المكونة من رسوبيات مفككة، أو من الصخور الرسوبية. وكثيرًا ما يحدث السقوط على المنحدرات التي تم حثها من أسفل، كذلك الواقعة فوق قاعدة جرف جرى حته بأمواج البحر. وهذا النوع من السقوط قد يؤدي إلى تدمير الكثير من المنازل المبنية فوق الصخور الشاطئية.

الانزلاق الصخري هل يمكنك تخيل ملايين الأمتار المكعبة من الصخور وهي تنحدر مزمجرة إلى أسفل جبل بسرعة تزيد على ٢٥٠ كم/ساعة؟ هذا ما يحدث في الواقع أثناء الانزلاق الصخري، حيث تنفصل طبقات من الصخور وتنزلق إلى أسفل. وعادة تنفتت هذه الصخور المنزلفة. وتؤدي هذه العملية إلى تراكم قطع كبيرة من الصخور أسفل المنحدر، انظر الشكل ٢٣ ج. وفي بعض الحالات يكون للصخور المنزلفة أثر تدميري على المباني والقرى والطرق وحياة السكان. ومن ذلك ما حدث نتيجة الانزلاق الصخري في جبل المقطم في القاهرة عام ٢٠٠٨ م.

الربط مع الفيديو

حركة الكتل الأرضية يحدث السقوط والانزلاق الصخري عادة عند إشباع الرسوبيات بالماء؛ حيث يقوم الماء الموجود بين حبات الرواسب برفع الصخر والرسوبيات، مما يسهل انزلاقها. هل يمكن أن تفكر في طريقة تحمي بها المنحدرات من الانزلاق الصخري والسقوط؟ وضح ذلك.

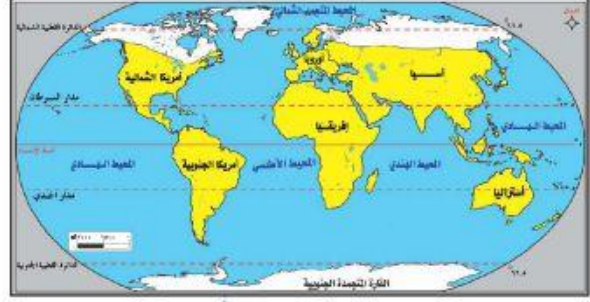
التدفق الطيني يحدث التدفق الطيني عندما يعمل الجليد المنصهر أو المطر على إشباع الرسوبيات. والتدفق الطيني كتلة من الرسوبيات الرطبة المتدفقة إلى أسفل منحدر، انظر الشكل ٢٣ د. وتختلف التدفقات الطينية في حجمها وسرعتها؛ فهناك تدفق بطيء وسميك يسير عدة أمتار في اليوم، وآخر أكثر سيولة يسير بسرعة تصل إلى ١٦٠ كم/ساعة. وهذا النوع الأخير يكثر في بعض مناطق البراكين.

ما أبطأ نوع من حركات الكتل الأرضية الأربعة؟ **ماذا قرأت؟**

الزحف

الجليد

يلعب الجليد في بعض الأماكن دور عامل التعرية. ففي الأماكن الباردة تكون كمية الثلوج التي تسقط أكثر من تلك التي تنصهر. ومع مرور السنين يتراكم الثلج ليشكل كتلاً ضخمة وسميكة من الجليد تدعى الجليديات. وعندما يصبح سُمكها كافيًا، تنزلق على المنحدرات بفعل الجاذبية. ومع حركة الجليد على سطح الأرض فإنه يؤدي إلى تعرية المواد من مكان، وترسيبها في مكان آخر.



الشكل ٢٥ تتكون الجليديات في المناطق الباردة

وفي الوقت الحالي تغطي جليديات القارات نحو ١٠% من مساحة الأرض انظر الشكل ٢٥، بينما توجد جليديات الوديان في الجبال التي لا تكون درجات الحرارة فيها مرتفعة بشكل كافٍ لصهر الجليد. وتتراوح سرعة حركة الجليديات في الوديان الجليدية بين ١ سم/يوم، إلى ٢ م/يوم، وقد تصل إلى ٢٠٠ م/يوم في أوج اندفاعها.

التعرية بفعل الجليد تستطيع الجليديات تعرية الصخور تحتها بإحدى طريقتين؛ الأولى إذا كان الصخر به شقوق فيمكن أن يفتته الجليد إلى قطع يحملها معه؛ فيسبب تعريته ببطء. والثانية: إذا تفككت الصخور إلى قطع فوق قاع المجرى، فيمكن أن تسحبها الجليديات على سطح القاع فيؤدي ذلك إلى خدشها وحتها. ومن النتائج الواضحة لتعرية الجليديات للوديان أنها تؤدي إلى زيادة عرض الوادي الذي يصبح شكله كحرف U باللغة الإنجليزية، انظر الشكل ٢٦.

الترسيب بفعل الجليد تقوم الجليديات أيضًا بالترسيب؛ فمع انصهار الجليد الثابت في مكانه أو في أسفل الوديان أو على أطرافها، تقوم الجليديات بترسيب حمولتها على شكل رواسب جليدية. وما يميز هذه الرواسب أنها خليط من حبيبات مختلفة الأقطار، يختلف مقاسها بين حجم حبيبات الطين الصغيرة إلى الجلاميد.

العلوم
عبر المواقع الإلكترونية

تعرية الجليديات وترسيبها


ارجع إلى المواقع الإلكترونية عبر شبكة الإنترنت للبحث عن معلومات حول الترسيبات الجليدية والتعرية. نشاط ابحث في التعرية الجليدية، وصف كيف تؤثر في سطح الأرض.

الشكل ٢٦ تستطيع الجليديات زيادة عرض الوديان وإعطاءها شكل حرف U





الشكل ٢٧ نقل الرياح للرمال يكون كثباناً رملية. ومع حركة الرياح فوق الكثيب الرملية، تتحرك رماله وتسقط فوق الجهة الأخرى. وبهذه الطريقة يقوم الكثيب بالهجرة فوق الأرض.



الشكل ٢٨ تحمل السيول والأنهار المياه التي تعمل على حت الصخور.

الرياح

عندما تتحرك الرياح فوق رسوبيات طرية حبيباتها بحجم الغرين (الطمي) أو الرمل فإنها تحمل معها جزءاً من حباتها الناعمة تاركة وراءها الحبات الكبيرة التي لا تستطيع رفعها. كما تستطيع الرياح الحاملة للرمال حت الصخور التي تمر بها، وهذا

ما يُسمى بال**تَبْرِي** أو **الحت**. وعندما تمر الرياح على جسم غير منتظم مثل صخر أو تجمع للنباتات فإنها تتباطأ وترسب حمولتها، وإذا استمرت عملية الترسيب يتكون كثيب رملية، كالذي يظهر في الشكل ٢٧. ومع استمرار حركتها تقوم الرياح بدفع حبات الرمل في الكثيب وتنقله بالكامل من مكان إلى آخر.

الماء

تسمى حركة الماء الذي يجري على سطح الأرض **الجريان السطحي**. ويُعد الجريان السطحي عاملاً رئيساً في التعرية، خصوصاً إذا تحركت المياه بسرعة كبيرة الشكل ٢٨. وكلما زادت سرعة المياه زادت مقدرتها على حمل المواد. ويتحرك الماء فوق سطح الأرض بعدة طرائق، إحداها تحدث عند هطول الأمطار على سطح منحدر، حيث تتحرك المياه على شكل طبقة رقيقة، ويسمى هذا الجريان الصفائحي. ويمكنك مشاهدة هذا النوع عندما تسكب الماء على سطح سيارة. وعندما تسير المياه حول حواجز فإنها تصبح أعمق وتكون الجداول الصغيرة. ومع الزمن، تتعمق هذه الجداول وتتحول إلى أخاديد. وهذه الجداول والأخاديد هي النوع الثاني من طرائق جريان المياه، وهي أقدر على تعرية سطح الأرض من الماء الذي يجري جرياناً صفائحيًا.

أما النوع الثالث والشهير من طرق جريان المياه فهي الأنهار. وقد تكون الأنهار صغيرة بحيث تستطيع القفز من فوقها، أو كبيرة تصلح لسير البواخر الضخمة، ففي المناطق الجبلية تجري الأنهار بسرعة كبيرة لدرجة تستطيع معها قطع الصخور وخصوصاً في مناطق تكون الشلالات. وعندما تترك الأنهار الجبال وتسير نحو المناطق المنبسطة فإن سرعتها تنخفض. وقد تتحرك الأنهار يميناً ويساراً، فتقوم بحت الصخور على أحد الجانب وترسيبها على الجانب الآخر.

تشكيل سطح الأرض تعد الأنهار من أهم عوامل حت سطح الأرض. فبمرور فترات زمنية طويلة يستطيع النهر بقوته الكبيرة أن يقطع الصخور الصلبة ويكون ودياناً ضخمة. كما تقوم الأنهار بتشكيل سطح الأرض عن طريق ترسيب فتات الصخور. فعندما يصل النهر إلى بحر أو بحيرة فإن سرعته تنخفض وترسب حمولته على القاع. وهذا النوع من الرسوبيات يشكل ما يسمى الدلتا، مثل دلتا نهر النيل في مصر.



أثر التعرية

تتشارك جميع عوامل التعرية في تشكيل سطح الأرض، فتنقل الصخور والرسوبيات من مكان ترسيبها إلى مكان آخر. وفي الأماكن التي تُزال منها المواد تتكون الوديان والأخاديد. بينما يتكون في أماكن الترسيب الدلتا والكثبان الرملية ومظاهر أخرى.

الشكل ٢٩ منطقة الرسوبيات الثلاثية الشكل الموجودة عند مصبات الأنهار تسمى الدلتا. وتعد التربة في هذه المناطق أكثر أنواع التربة خصوبة

الصورة عبارة عن أرض محروثة جزء منها مرتفع

ولونها بني

١. لاحظ الصورة، واكتب وصفاً لها في دفتر العلوم.
٢. استنتج لماذا يكون لبعض المناطق لون داكن أكثر من الأخرى؟ وما أعلى نقطة في الحقل؟



تطبيق العلوم

هل يمكن مشاهدة أثر التعرية في الحقول؟

لعلك ذهبت يوماً في رحلة داخل الوطن أو خارجه، ومررت بمناطق فيها مزارع. قد تكون شاهدت أرضاً جرداء أو زُرعت حديثاً. ربما كانت التربة مهتأة لزراعة محصول ما مثل الذرة أو القمح أو الفاصولياء. فهل تؤثر التعرية في حقول الزراعة؟

تحديد المشكلة

الطبقة العلوية في معظم أنواع التربة لونها داكن أكثر من الطبقات السفلية؛ لأنها تحتوي على مواد عضوية أكثر. وهذه الطبقة هي التي تتم تعريتها أولاً. كيف تظهر الصورة دلائل على ذلك؟

يؤدي الجريان الصفائحي إلى غسل التربة السطحية الغنية بالمواد العضوية ونقلها إلى أسفل المنحدر ويكون لون التربة في أعلى نقطة أفتح ما يمكن لفقدانها المواد العضوية داكنة اللون

اللون

اختبر نفسك

١. صف كيف تتعرض الصخور للتجوية الميكانيكية؟
٢. سمّ عاملين من عوامل التجوية الكيميائية.
٣. وضح كيف يعمل حمض الكربونيك على تجوية الصخور؟
٤. صف أربعة من عوامل التعرية. أي هذه العوامل أسرع وأبها أبطأ؟ وضح إجابتك.
٥. وضح متى تقوم الأنهار بترسيب الرسوبيات؟ ومتى تقوم الأنهار بحت الصخور؟
٦. قارن بين التجوية الميكانيكية الناتجة عن الجليد والتجوية الميكانيكية الناتجة عن نمو الجذور.
٧. صف كيف تتكون التربة؟
٨. التفكير الناقد

- كيف يؤثر المناخ في معدل كل من التجوية الميكانيكية، والتجوية الكيميائية؟ وما العلاقة بين هذين النوعين من التجوية؟
- لماذا يقوم النهر الذي كان يحت الرسوبيات ويرسبها على جوانبه بقص الصخور وتكوين أخاديد كبيرة؟

الخلاصة

التجوية الميكانيكية

- تؤدي دورة التجمد والانصهار إلى تآكل الصخور وتفتتها.
- تؤدي جذور النباتات والحيوانات التي تحفر الأرض إلى تفتت الصخور.

التجوية الكيميائية

- تتفاعل بعض الصخور مع الأحماض الطبيعية.
- تؤثر في التربة عوامل مختلفة هي: نوع الصخر الأصلي، ودرجة ميل السطح، والمناخ، والزمن، والمخلوقات الحية.

الجليديات

- تتحرك الجليديات على سطح الأرض فتعري المواد من مكان، وترسبها في مكان آخر.

الرياح

- البرّي والنحت نوعان من التعرية ينجمان عن الرياح.

الماء

- تُسمى حركة الماء الذي يجري الجريان السطحي.
- تنجم التعرية عن جريان من منحدر، أو الجداول أو الأنهار والأخاديد.

يؤدي الجريان الصفاحي إلى غسل التربة

السطحية الغنية بالمواد العضوية ونقلها إلى

أسفل المنحدر ويكون لون التربة في أعلى نقطة

أفتح ما يمكن لفقدانها المواد العضوية داكنة

اللون

سدل ٢ مم كل
٧ مم كل سنة،
٢٠٠٠ مرور
دها مع افتراض
نفسه؟

حل الصفحة ١٨٣:

ج١- يتم تكسير الصخور بتأثير نمو كل من جذور النباتات وبلورات الثلج

ج٢- الحموض الطبيعية والأكسجين

ج٣- يقوم حمض الكربونيك بالتفاعل مع بعض المركبات الصخرية لإنتاج مركبات جديدة تذوب في الماء

ج٤- الجاذبية والجليد والماء والرياح تؤدي الجاذبية إلى تحريك الرسوبيات أسفل المنحدرات وينقل

الجليد والماء والرياح الرسوبيات لذا فإن الجاذبية أسرع عوامل التعرية والجليد أبطأها

ج٥- يحدث الترسيب عندما تقل قوة التيار عن القوة اللازمة لحمل الرسوبيات أما التعرية فتحدث

عندما تزداد قوة التيار

ج٦- كلاهما يكسر الصخور والتجوية الناتجة عن الجليد بسبب زيادة حجمه أما التجوية بالجذور تنتج

عن نمو الجذور

ج٧- تتكون التربة عن طريق تعرض أنواع مختلفة من الصخور إلى عوامل التجوية المختلفة وبعد تكون

التربة تنمو النباتات والأشجار والتي تفتت جذورها الصخر الأصلي كما تتراكم بقايا النباتات الميتة

وتضيف المواد العضوية إلى التربة

ج٨- تكون التجوية الميكانيكية سريعة في المناخ الحار الرطب بسبب النمو السريع للنباتات وفي المناخ

البارد الرطب بسبب تكرار عمليتي تجمد الثلج وذوبانه أما في التجوية الكيميائية فتكون بطيئة في

الحالات التالية للمناخ: حار جاف - بارد جاف - بارد ورطب - وتكون سريعة في المناخ الحار والرطب

وكلا النوعين يوجد في المناخ الرطب

** يحدث ذلك بسبب انحدار الأرض مما يزيد من قدرة التيار المائي على الحث وتكوين


الأخاديد

ج٩- عمق المنطقة الأولى = $2 * 2000 = 4000$ ملم

ارتفاع المنطقة الثانية = $7 * 2000 = 14000$ ملم

توازن القشرة الأرضية

سؤال من واقع الحياة



ينص مبدأ توازن القشرة الأرضية على كونها تطفو فوق طبقة الوشاح الأكثر كثافة منها، وهذا يشبه الطريقة التي تطفو بها الأجسام فوق الماء. ماذا تتوقع أن يحدث عندما تزيد كتلة الجسم الطافي، أو عندما تنقص؟

الأهداف

■ تلاحظ نتائج توازن

زيادة كتلة الجسم الطافي
يزداد انغمار الجسم
وينقصان كتلته يقل انغمار
الجسم

اصنع نموذجًا

- 1- قرر ما الجسم (أو الأجسام) الذي ستستخدمه في الطفو على سطح الماء أولاً. كيف يمكنك أن تُنقص أو تزيد كتلته؟
- 2- ماذا تلاحظ عندما تُغير من كتل الأجسام الطافية؟ وكيف تسجل تأثير زيادة كتلة الأجسام الطافية أو إنقاصها؟
- 3- ما كمية الماء التي ستعملها؟ وما المشاكل التي ستصادفك إذا كان لديك كمية كبيرة جداً، أو صغيرة جداً من الماء؟
- 4- هل ستعمل أي قياسات إضافية، أو تُسجل أي بيانات أخرى؟

- 5 سم × 5 سم × 2 سم .
- وعاء بلاستيكي أبعاده 10 سم × 35 سم × 15 سم
- ماء
- قلم تخطيط
- مسطرة

إجراءات السلامة



بإضافة أثقال إلى الجسم الطافي ثم رفع الثقل عن الجسم وملاحظة ما يحدث

زيادة كتلة الأجسام يزداد انغمار الجسم وينقص الكتلة يقل انغمار الجسم

استخدام الطرائق العلمية

٥. **اعمل** قائمة بجميع الخطوات التي خططت لها في هذه التجربة. هل الخطوات مرتبة ترتيباً منطقيًا؟
٦. **قارن** بين نموذج خطتك ونماذج الطلاب الآخرين.
٧. تأكد من موافقة معلمك قبل بدء تنفيذ التجربة.

عندما تنقص الكتلة يزيد حجم الجزء الطافي من الجسم ويقل حجم الجزء المغمور من الجسم الطافي

اختبر نموذجك

١. املا الصندوق بكمية مناسبة من

يشبه الجسم الأول طفو الأجسام في الطبيعة كطفو الثلج على الماء أو طفو الجبال في الوشاح وقمت بإضافة أثقال إضافية إلى الجسم كي تزداد كتلته وإزالة بعض الأثقال عنه لينقص الوزن

١. **صف** ماذا يشبه الجسم الأول الذي اخترته؟ ما المستوى الذي ارتفع إليه الماء عندما وضعت في الصندوق؟ وكيف زدت كتلته؟ وكيف أنقصتها؟
٢. **لخص** ماذا يحدث لحجم كل من جزء الجسم المغمور والجزء غير المغمور (الطافي) عندما تنقص كتلته؟
٣. **لخص** ماذا يحدث لحجم الجزء المغمور في الماء والجزء البارز فوق الماء عندما تزيد كتلة الجسم الطافي؟
٤. **فسر** ملاحظتك حول حجم جزء الجسم الطافي وحجم الجزء المغمور في الماء. ما مقدار الجزء غير المغمور منه؟ وكيف يشبه ذلك العمليات التي تحدث في الأرض؟

نقص كتلة الجسم يؤدي إلى زيادة طفوه إلى أعلى وهذا يشبه ما يحدث للجبال عندما تنقص كتلتها بسبب التعرية فيزيد طفو قاعدتها في الوشاح

بزيادة كتلة الجسم يزداد حجم الجزء المغمور في الماء ويقل حجم الجزء البارز فوق الماء



الجبال

هل تعلم..

.. أن أكبر سلسلة جبلية في العالم موجودة تحت الماء؟



رسم يظهر سلاسل جبلية في قاع المحيط كما تبدو من نافذة غواصة.

يبلغ طول ظهر وسط المحيط الذي يلتف حول العالم تحت المحيط المتجمد الشمالي والمحيط الهادي حوالي ٦٥٠٠٠ كم.

يشكل هذا الطول أربعة أضعاف طول سلسلة جبال الأنديز والروكي والهمالايا مجتمعة.

.. أن جبال عسير من أقدم الجبال في العالم؟ يعتقد

الجيولوجيون أن جبال عسير - وهي جبال ناهضة - قد تكونت منذ ما يزيد على ٥٠٠ مليون عام، وهي لا تزال تتعرض لعوامل التعرية والتجوية والترسيب منذ نشأتها وحتى الآن. هذه الجبال العريقة هي جزء من تكوين جيولوجي يمتد بمحاذاة شاطئ البحر الأحمر الشرقي والغربي، وقد كان هذا التكوين متصلاً قبل مئات ملايين السنين، ثم شطره البحر الأحمر عند بدء نشأته.



.. في عام ١٩٦٣م تشكلت جزيرة سيرتسي عندما ثار بركان تحت الماء بالقرب من شواطئ أيسلندا. تشكلت هذه الجزيرة بطول ٦,١ كم وبارتفاع ١٨٣ متر أي بارتفاع بناء ذي ٥٥ طابقاً.

تطبيق الرياضيات

الطابق الواحد في البناء؟

$$\text{ارتفاع الطابق الواحد} = 183 / 55 = 3,27 \text{ متر}$$

ابحث عن

ابحث عبر المواقع الإلكترونية عن جبل من اختيارك، وحدد موقعه على الخريطة، ثم ارسم الجبل والمنظر من قمته بأفضل دقة ممكنة.



دليل مراجعة الفصل

مراجعة الأفكار الرئيسية

الدرس الثاني التجوية والتربة ونتائجهما

1. تتضمن التجوية جميع العمليات التي تؤدي إلى تفتيت الصخور.
2. أثناء التجوية الميكانيكية تتكسر الصخور إلى قطع أصغر نتيجة تعرضها للعمليات الفيزيائية.
3. تتغير المكونات الكيميائية للصخور أثناء التجوية الكيميائية.
4. تنشأ التربة مع الزمن من تجوية الصخور. وتشمل عوامل تشكل التربة: الصخر الأصلي، والتضاريس، والمناخ، وتأثير المخلوقات الحية.
5. التعرية هي إزالة الصخور أو الرسوبيات من مكانها ونقلها إلى مكان آخر.
6. تشمل عوامل التعرية كلاً من الجاذبية والجليديات والرياح والماء.
7. تقوم عوامل التعرية بنقل الصخور والرسوبيات، وترسبها عندما تنخفض طاقتها الحركية.
8. يحدد كل من التعرية والترسيب شكل سطح اليابسة.

الدرس الأول حركة صفائح الأرض

1. يُقسَّم باطن الأرض إلى أربع طبقات: اللب الداخلي، واللب الخارجي، والستار والقشرة.
2. يُعتقد أن معظم مادة اللب الداخلي واللب الخارجي تتألف من الحديد، ويعتقد أن اللب الخارجي موجود في الحالة السائلة، واللب الداخلي في الحالة الصلبة.
3. تتألف صفائح الأرض من أجزاء من القشرة الأرضية والجزء العلوي المتصلب من الستار، وهي تتحرك فوق طبقة تشبه البلاستيك في طبيعتها، تسمى الغلاف اللدن.
4. تتحرك صفائح الأرض معاً؛ فتبتعد إحداها عن الأخرى، أو تقترب منها، أو تتحرك بمحاذاتها.
5. تسهم كل من تيارات الحمل في الستار والقوى الناتجة عن حركته الدورانية، في حركة الصفائح الأرضية.
6. تتشكل الجبال بسبب عمليات الرفع، وتتنوع الجبال تبعاً لعمليات الرفع، فإما أن تكون جبلاً صدعية أو مطوية أو بركانية أو ناهضة.

تصور الأفكار الرئيسية

انسخ الجدول الآتي المتعلق بأنواع الجبال، وأكمله:

أنواع الجبال الأربعة		
السبب	مثال	نوع الجبل
	جبال سييرا نيفادا	جبال الكتل المتصدعة
ضغط		جبال الطيات
	جبال الروكي	الجبال الناهضة
تدفق اللابة		الجبال البركانية



استخدام المفردات

١٠. صفائح الأرض هي قطع من :

- أ. الغلاف الصخري ج. اللب الداخلي
ب. الغلاف اللدن د. الستار (الوشاح)

أجب عن الأسئلة التالية :

١. أي أجزاء لب الأرض يعتقد العلماء أنه سائل؟

١١. أي القوى تسبب تقارب الصفائح؟

- أ. الشد ج. القص
ب. الضغط د. التوازن

٢. ضُمَّن أي نوع من الجبال تصنف جبال عسير في المملكة العربية السعودية؟

٣. أي نوع من الجبال يتكون في المناطق التي تضغط فيها الصخور بعضها على بعض؟

- أ. الشد ج. القص
ب. الضغط د. التوازن

استخدم كل مصطلحين مما يلي في جملة علمية مفيدة :

٤. التجوية الكيميائية - التجوية الميكانيكية

٥. التعرية - التجوية

٦. الجريان السطحي - الجريان الصفائحي

٧. حركة الكتل - التجوية الميكانيكية

٨. التجوية - التجوية الكيميائية

١٣. أي نوع من حركة الصفائح الأرضية تحدث عند الحدود التحويلية؟

- أ. تقارب الصفائح
ب. تباعد الصفائح

ج. غوص الصفائح

د. انزلاق الصفائح بعضها بجانب بعض

تثبيت المفاهيم

اختر الإجابة الصحيحة فيما يلي :

١٤. أي عوامل التعرية التالية يكون ودياناً على شكل

حرف U؟

- أ. الرياح ج. الجليد
ب. المياه د. الجاذبية

٩. أي أجزاء الأرض أكبر؟

- أ. القشرة ج. اللب الخارجي
ب. الستار د. اللب الداخلي

حل الصفحة ١٨٨:

ج١- اللب الخارجي

ج٢- الجبال الناهضة

ج٣- الجبال المطوية

ج٤- التجوية الكيميائية: تعمل على تغير تركيب الصخر

التجوية الميكانيكية: تعمل على تكسير الصخر إلى قطع صغيرة دون تغيير في تركيبه الكيميائي

ج٥- التجوية: عملية تكسير الصخور إلى قطع صغيرة

التعرية: نقل هذه القطع من مكان لآخر

ج٦- الجريان السطحي: هو جريان الماء على سطح الأرض

الجريان الصفائحي: هو حركة الماء على شكل طبقة رقيقة

ج٧- التجوية الميكانيكية: هي عملية تؤدي إلى تكسير الصخور

حركة الكتل: هي تحريك هذه الصخور على المنحدرات

ج٨- التجوية: هي عملية سطحية ميكانيكية أو كيميائية تؤدي إلى تفتت الصخور أو تحللها

التجوية الكيميائية: تؤدي إلى تحلل الصخر وتغير مكوناته الكيميائية

٢٣. **السبب والنتيجة** اشرح كيف تعمل مياه الأنهار على تكوين الوديان، وكيف تشكّل الجليديات ودياناً على شكل حرف U.

٢٤. **كُون** فرضية حول كيفية عمل المياه العميقة والجليديات الضخمة على تعرية الصخور.

٢٥. **صنف** كلاً من الكثبان الرملية والدلتا والرواسب الجليدية وفق العوامل التي ترسيبها.

٢٦. **خريطة المفاهيم** ارسم خريطة مفاهيم تبين فيها الأنواع المختلفة من حركات الكتل الأرضية.

٢٧. **ملصقات** استخدم صوراً من مجلات قديمة لعمل ملصق يوضح الأنواع المختلفة من التجوية والتعرية. واعرض ملصقك على الصف.

أنشطة تقويم الأداء

٢٨. **عمل نموذج** استخدم البوليسيتين، وألواح ورق مقوى والطين لعمل نموذج لإحدى الجليديات، موضحاً فيه جداول ماء تخرج من الجليديات، وحدد المناطق التي تحدث فيها التعرية والترسيب. واعرض نموذجك على زملائك.

تطبيق الرياضيات

٢٩. **تسلق الجبال** يقوم متسلقو جبل إفرست بالتسلق حتى مخيم القاعدة الذي يقع على ارتفاع ٥٤٠٠ م. فإذا كانت قمة الجبل على ارتفاع ٨٨٥٠ م فما نسبة ارتفاع المخيم بالنسبة لارتفاع القمة؟

١٥. أي الأماكن التالية تكون فيها التجوية الكيميائية أكثر نشاطاً؟

أ. الصحارى ج. المناطق القطبية
ب. الجبال د. المناطق الاستوائية

١٦. عندما يتحد ثاني أكسيد الكربون مع الماء يتكون:

أ. كربونات الكالسيوم ج. حمض التنيك
ب. حمض الكربونيك د. حمض الهيدروكلوريك

١٧. أي عوامل التعرية التالية يكون الكثبان الرملية؟

أ. الرياح ج. الجاذبية
ب. المياه د. الجليد

١٨. وضح كيف تحدد ما إذا كان الجبل ما زال في طور التشكل؟

١٩. استنتج كيف تتباطأ الأمواج الزلزالية عند دخولها الغلاف اللدن وعلام يدل هذا حول طبيعة هذا الغلاف؟

التفكير الناقد

٢٠. **توقع** ماذا يحدث لارتفاع جزيرة جرينلاند عندما تنصهر طبقة الجليد؟

٢١. **صف** إذا أردت أن تعرف أن جبلاً تشكّل بفعل قوى الضغط فعمّ تبحث؟

٢٢. **قارن** بين الجبال البركانية والجبال المطوية، ارسم مخططاً لكل نوع من الجبال، وحدد الأجزاء على الرسم.

حل الصفحة ١٨٩:

ج١٨- الجبال التي ما زالت تتشكل تتميز عادة بقمم حادة متعرجة متداخلة

ج١٩- قد تكون الكثافة أقل من كثافة الصخور المحيطة أو تكون منصهرة نوعاً ما

ج٢٠- ارتفاع الجزيرة سيزداد بسبب انصهار طبقة الجليد

ج٢١- طبقات صخر مطوية

ج٢٢- كلاهما تكون بفعل قوى الدفع إلى أعلى وتكون الجبال البركانية مخروطية الشكل بينما تظهر في

الجبال المطوية طبقات صخرية ذات انثناءات

ج٢٣- طاقة المياه الجارية تفكك الرسوبيات وتحملها بعيداً عن مجرى النهر فتتشكل الأودية وعندما

تتحرك الجليديات في مجرى الوادي فإن جوانب الكتلة الجليدية المتحركة تنحت جوانب الوادي مما

يؤدي إلى تغير شكل الوادي

ج٢٤- مقدار التعرية التي تحدثه المياه العميقة في الصخور يتوقف على سرعتها وتركيب الصخر

الأساس

ج٢٥- الكثبان الرملية: الرياح - الدلتا: الأنهار - الرواسب الجليدية: الجليد

ج٢٩- نسبة ارتفاع المخيم = $(\frac{٨٨٥٠}{٥٤٠٠}) * ١٠٠\%$

نسبة ارتفاع المخيم = ٦١%

الجزء الأول أسئلة الاختيار من متعدد

اختر الإجابة الصحيحة في كل مما يلي:

١. ما المعدن الأكثر شيوعاً على سطح الأرض؟

- أ. الكوارتز
ب. الكالسيت
ج. الفلسبار
د. الجبس

٢. ما المادة الصلبة التي تتكون من أنماط متكررة من الذرات؟

- أ. البلورة
ب. الحجر الثمين
ج. الخام
د. الصخر


٣. ما الذي يغير الرسوبيات إلى صخر رسوبي؟

- أ. التجوية والتعرية
ب. الحرارة والضغط
ج. التراص والتماسك
د. الانصهار

٤. ما نوع الصخور التي تتشكل عندما تبرد الصهارة؟

- أ. رسوبية
ب. كيميائية
ج. متحولة
د. نارية

استخدم الرسمين التاليين للإجابة عن السؤالين ٥ و ٦.



٥. ماذا يحدث للضغط عند الانتقال من باطن الأرض إلى سطحها؟

- أ. ينقص
ب. ينقص ثم يزداد
ج. يزداد
د. يزداد ثم ينقص

٦. ماذا يحدث لدرجة الحرارة عند الانتقال إلى باطن الأرض؟

- أ. ينقص
ب. تنقص ثم تزداد
ج. تزداد
د. تزداد ثم تنقص

٧. ما نوع الجبال التي تتكون عندما تؤثر قوى الشد في الصفائح الأرضية في اتجاهين متعاكسين؟

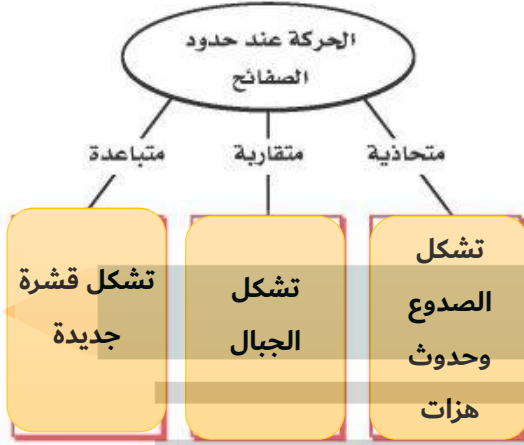
- أ. الكتل المتصدعة
ب. المطوية
ج. الناهضة
د. البركانية

٨. أي مما يلي يعد مثلاً على التجوية الميكانيكية؟

- أ. الزحف
ب. الإسفين الجليدي
ج. الأكسدة
د. الانزلاق

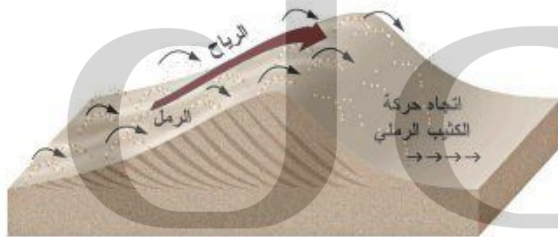


استخدم الرسم التالي للإجابة عن السؤال ١٧ .



١٧. اكتب في الصناديق ما يحدث عند كل نوع من أنواع حركة الصفائح.

استخدم الصورة التالية للإجابة عن السؤال ١٨ .



١٨. مستعيناً بالصورة، وضح كيف تتحرك الكثبان؟

١٩. ما أثر المناخ في تشكل الدبال؟

٢٠. ما نوع الرسوبيات التي تنقلها الرياح؟

٩. أي مما يلي يعد خليطاً من صخور تعرضت للتجوية، ومواد عضوية وهواء؟

- أ. الدبال
ب. الصخر الأصلي
ج. المخلوقات الحية
د. التربة

١٠. ما الاسم العلمي الذي يطلق على كتلة مؤلفة من رسوبيات وماء عندما تتحرك على هيئة عجينة إلى أسفل تل؟

- أ. الزحف
ب. انزلاق الصخور
ج. التدفق الطيني
د. التعرية

الجزء الثاني | أسئلة الإجابات القصيرة

١١. ما أوجه الاختلاف بين الصخر والمعدن؟

١٢. كيف تتشكل الصخور الرسوبية العضوية؟ أعط مثالاً عليها.

١٣. فيم تختلف الصخور النارية السطحية عن الصخور النارية الجوفية؟

١٤. كيف تتعرف المعادن من خلال خصائصها الطبيعية؟

١٥. كيف تُستخدم الموجات الزلزالية لمعرفة تركيب الأرض؟

١٦. ما سبب حدوث الزلازل على حدود الصفائح الأرضية؟

حل الصفحة ١٩١:

ج١١- الصخر مزيج من معادن ومكونات أخرى أما المعادن فهي مواد متجانسة لها ترتيب ذري داخلي منتظم خصائص كيميائية محددة

ج١٢- تتشكل الصخور الرسوبية العضوية على بقايا الكائنات الحية مثل الحجر الجيري والفحم

ج١٣- الصخور النارية السطحية بردت بسرعة فتكونت من بلورات صغيرة بينما الصخور الجوفية من بلورات كبيرة لأنها بردت ببطء

ج١٤- يمكن إجراء تجارب لتحديد الخصائص الطبيعية ثم مقارنة هذه الخصائص بقائمة الخصائص في جدول تحديد المعادن

ج١٥- تعتمد سرعة الأمواج الزلزالية على كثافة وطبيعة المواد التي تنتقل فيها، فتزداد سرعتها في المواد الصلبة وتقل في السوائل وتنتقل بسرعة أكبر في المواد الأكثر كثافة من المواد الأقل كثافة ويستطيع الجيولوجيون معرفة تركيب باطن الأرض من سرعة الزلازل واتجاهها


ج١٦- قد يحدث أثناء عملية انزلاق الصفائح بجانب بعضها أن تتوقف الحركة بسبب تلاصق الصفيحتين في نقاط التماس وهذا يؤدي إلى تخزين طاقة حركية هائلة وتستمر تراكم الطاقة حتى تبلغ الحد الذي يستطيع فيه فك التلاصق وتحرر طاقة كبيرة تحدث حركات عنيفة في القشرة

ج١٨- كلما هبت الرياح فوق الكثيب الرملي تنتقل الرمال إلى أعلى ثم إلى أسفل وتسقط على الجانب الآخر وبهذه الطريقة تهجر الكثبان الرملية

ج١٩- يتكون الدبال في المناخ الحار الرطب بكمية أكبر من المناخ الصحراوي، لأن المناخ الحار الرطب يتيح نمو النباتات التي تتحول فيما بعد إلى دبال

ج٢٠- تحمل الرياح الرسوبيات مثل حبيبات الرمل وتترك الحبيبات التي لا تستطيع حملها

استخدم الرسم التالي للإجابة عن سؤال ٣٠.



٣٠. وضح بالتفصيل نوع التجوية التي حدثت، وصف نوع البيئة التي حدثت فيها.

الجزء الثالث أسئلة الإجابات المفتوحة

٢١. ما أهمية المعادن للمجتمع؟

٢٢. قارن بين انفصام المعدن ومكسره.

٢٣. أكمل الشكل التالي لثتين نوع الصخر الذي سيتكون بفعل الحرارة والضغط في كل حالة مما يلي.

الجرانيت ← حرارة وضغط **النيس**

الحجر الرملي ← حرارة وضغط **الكوارتز**

الحجر الجيري ← حرارة وضغط **الرخام**

٢٤. لماذا يجب أن تعالج الخامات بعد تعدينها؟

٢٥. ما الفرق بين الصخر الجرانيتي الناري والصخر البازلتية الناري؟

٢٦. قارن بين لب الأرض الداخلي ولبها الخارجي.

٢٧. كيف توصلنا إلى أن اللب الخارجي للأرض في الحالة السائلة؟

٢٨. قارن بين التجوية الميكانيكية والتجوية الكيميائية.

٢٩. كيف تؤثر دورات التجمد والانصهار على التجوية والتعرية؟

حل الصفحة ١٩٢:

ج٢١- تعتمد المجتمعات على المعادن في صناعات هامة مثل البناء والكيماويات والسيارات

ج٢٢- يحدث انفصام عندما ينكسر وفق مستوى سطح أملس ويحدث المكسر عند كسر المعدن وفق سطوح عشوائية غير منتظمة

ج٢٤- لاستخلاص المعادن وتنقيتها من الشوائب غير المرغوب فيها

ج٢٥- الصخر الجرانيتي الناري: لونه فاتح ويحتوي على سليكا أكثر من البازلتي ويتميز بكبر حجم بلوراته أما الصخر البازلتي فبلوراته صغيرة بسبب سرعة تبرده

ج٢٦- اللب الخارجي والداخلي: يوجدان في باطن الأرض تحت ضغط وحرارة هائلتين وكلاهما يتكون من معادن

اللب الداخلي: صلب ويتعرض لضغط أكثر بفعل الجاذبية

اللب الخارجي: يتكون من معادن مصهورة وحدود غير متجانسة

ج٢٧- تنخفض سرعة أو تقف الموجات الزلزالية عندما تصل إلى اللب الخارجي الأقل كثافة من الستار وتتسارع

الموجات مرة أخرى عندما تنتقل إلى اللب الخارجي الصلب

ج٢٨- كلاهما تسبب تفتت الصخر ولكن التجوية الميكانيكية لا تسبب تغير في تركيب الصخر ويحدث بسبب عوامل عديدة منها الجليد والنباتات والحيوانات

أما التجوية الكيميائية فهي تغير من التركيب الكيميائي للصخور وتحدث بتأثير الحموض الطبيعية ومنها حموض النبات

ج٢٩- الانصهار والتجمد يسببان وتد الجليد، ينساب الماء في شقوق الصخور وعندما يتجمد يتمدد الجليد مسبباً تشقق الصخور

ج٣٠- التجوية التي حدثت كيميائية، حدثت في بيئة رطبة وحارة

مصادر تعليمية للطالب

- الطرائق العلمية ١٩٤
- السلامة في مختبرات العلوم ٢٠٣
- رموز السلامة في المختبر ٢٠٥
- القياس ٢٠٦
- وحدات القياس في النظام الدولي ٢٠٨
- خواص الصخور ٢٠٩
- خواص المعادن ٢١٠
- الجدول الدوري للعناصر ٢١٢
- مسرد المصطلحات ٢١٤



الطرائق العلمية



الشكل ١ يمكن أن تكون شبكة المواقع الإلكترونية أداة بحث قيّمة.

تقويم مصادر المعلومات ليست جميع المصادر معتمدة، وعليك دائماً تقويم هذه المصادر واعتماد المصادر الموثوقة. فالمواقع الحكومية مثلاً أكثر مصداقية إذا أردت البحث عن بيوت أكثر ترشيحاً في استهلاك الطاقة. وتذكر دائماً أن البحث يتغير، فاسترشد دائماً بالمصادر الحديثة. فمصادر ترشيح استهلاك الطاقة عام ١٩٨٥ م مثلاً لا تعكس المستجدات الحديثة في هذا المجال لهذا العام.

يستخدم بعض العلماء بيانات لم يقوموا بجمعها بأنفسهم، لذا يجب أن تقوم بعناية، وأن تسأل كيف تم الحصول عليها؟ وهل تم تنفيذ الاستقصاء العلمي بشكل ملائم، أم تم نقل النتائج نفسها؟ وهل يمكنك أن تحصل على النتائج نفسها من هذه البيانات؟ وتأكد من أن ما لديك من معلومات وبيانات إنما هو من مصادر موثوقة وصحيحة حتى تطمئن إلى استخدامها.

يستخدم العلماء منهجاً منتظماً لحل المشكلات، يسمى الطريقة العلمية. وعلى الرغم من تنوع الطرائق العلمية إلا أنها تتضمن غالباً مجموعة محددة من الخطوات، تتميز بممارسة المهارات العلمية في أثناء تنفيذها.

تحديد السؤال

الخطوة الأولى في الاستقصاء العلمي أو في التجارب العلمية هي تحديد السؤال أو المشكلة المطلوب حلها. فمثلاً، يمكن أن تسأل: أي المنظفات أفضل في غسل الملابس؟

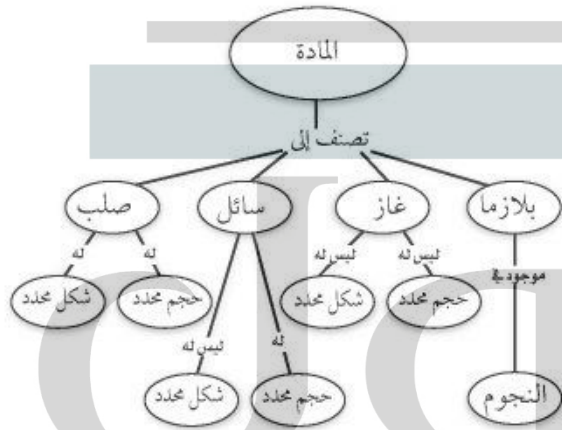
جمع المعلومات وتنظيمها

بعد تحديد سؤالك، تبدأ في جمع المعلومات وتنظيمها. وهناك طرائق متعددة لجمع المعلومات، منها البحث في المكتبة، ومقابلة أشخاص لديهم معرفة واسعة في موضوع السؤال، وإجراء اختبارات وتجارب في المختبر أو في الميدان. والعمل الميداني هو استقصاءات ورصد لمشاهدات خارج المختبر.

البحث عن المعلومات قبل استئناف العمل، من المهم أن تجمع المعلومات المعروفة عن الموضوع. ابدأ بطرح أسئلة مختلفة لتساعدك على تحديد ما تحتاج إليه من معلومات، ثم ابحث عن المعلومات من مصادر مختلفة، كما يفعل الطالب في الشكل ١. ومن هذه المصادر الكتب والمراجع والموسوعات والمجلات المتخصصة والمواقع الإلكترونية. اعمل دائماً قائمة بالمصادر والمراجع التي استعنت بها.

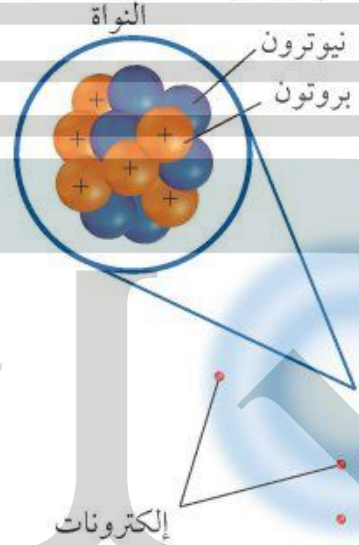
شبكة المفاهيم نوع من خرائط المفاهيم يظهر العلاقة بين المفاهيم، وكيف ترتبط في شبكة كما في الشكل ٣. في هذه الشبكة تكتب الكلمات في الشكل البيضاوي، بينما يكتب الوصف على الخطوط التي تصل بين الأشكال البيضاوية.

عند تصميم مثل هذه الشبكات، اكتب المفهوم الرئيس والمفاهيم الفرعية، كلاً على بطاقة ورقية، ثم رتبها متسلسلة من العام إلى الخاص، وقم بتفريع المفاهيم الصغيرة من المفاهيم الكبيرة، وارسم خطوطاً بينها، وكتب وصفاً للعلاقة التي تربط بينها.



الشكل ٣ تظهر شبكة المفاهيم العلاقة بين المفاهيم أو الأشياء.

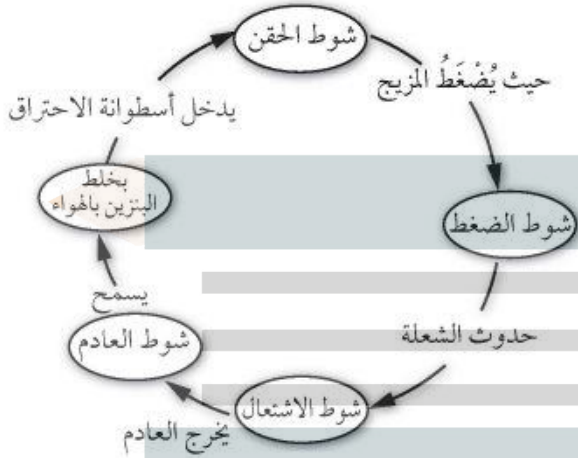
تفسير الرسوم العلمية عندما تبحث حول موضوع معين في العلوم سوف ترى أشكالاً، ورسوماً توضيحية وصوراً تساعدك على فهم ما تقرؤه، وتصور الأفكار المجردة، مثل جسيمات الذرة الموضحة في الشكل ٢. وتساعد الرسوم التوضيحية أو الأشكال على تذكر الأجزاء بسهولة، وإعطاء أمثلة حول المفاهيم الصعبة، وتوفير معلومات إضافية حول الموضوع الذي تبحث عنه. ومعظم الرسوم لها عناوين تدل عليها.



الشكل ٢ يمثل هذا الرسم ذرة الكربون التي لها ٦ بروتونات، و٦ نيوترونات، و٦ إلكترونات.

خريطة المفاهيم من طرائق تنظيم البيانات رسم مخطط يظهر العلاقة بين الأفكار (المفاهيم). وتساعد خريطة المفاهيم على إعطاء المعاني والمصطلحات وضوحاً أكثر، وتساعدك على فهم وتذكر ما تعلمته. وخريطة المفاهيم مفيدة جداً في تجزئة المفاهيم إلى مفاهيم أصغر، وجعل التعلم أكثر سهولة.

حدث، والذي يليه في الدورة. يختلف عدد الأحداث في خريطة الدورات، ولكنها في الغالب تحتوي على ثلاثة أحداث أو أكثر.



الشكله تظهر خريطة الدورة الأحداث التي تحدث في آلة الاحتراق الداخلي.

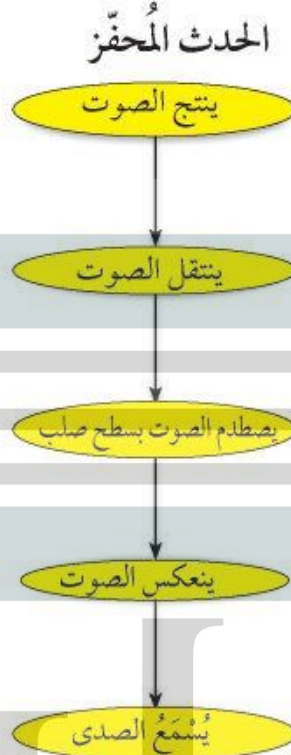
الخريطة العنكبوتية (الشبكية)

هي نوع من خرائط المفاهيم التي يمكن استخدامها للعصف الذهني، عندما يكون لديك فكرة رئيسية؛ فقد تجد هناك مجموعة من الأفكار غير المنظمة المرتبطة بالفكرة الرئيسية، ولكنها غير مترابطة معاً. ويظهر الشكل ٦ أنه يمكن كتابة الأفكار وتصنيفها في مجموعات يسهل الاستفادة منها.



الشكل ٦ الخريطة العنكبوتية تساعد على وضع قائمة بالأفكار المرتبطة بالفكرة الرئيسية.

سلسلة الأحداث هي أحد أشكال خرائط المفاهيم، وتسمى أحياناً المخططات الانسيابية، وهي خريطة مفاهيمية تصف تسلسل الأحداث أو الخطوات أو مراحل الدورات. فعند تكوين سلسلة أحداث، ابدأ بالحدث المحفز، ثم الحدث التالي حتى تصل إلى الناتج الأخير، كما في الشكل ٤.



الشكل ٤ تظهر خريطة مفاهيم سلسلة الأحداث ترتيب الخطوات في عملية أو حدث. وتظهر سلسلة الأحداث هذه كيف ينشأ صدى الصوت.

خريطة الدورات

تحدث بعض سلاسل الأحداث في دورة. وتستخدم خريطة الدورات عندما تكون هناك سلسلة من الأحداث التي تتكرر، وتعيد نفسها في دورة، كما في الشكل ٥. ولعمل خريطة الدورات عليك أولاً أن تقرر الحدث الأول الذي يُسمى أيضاً الحدث المحفز، ثم الحدث الثاني في الترتيب، حتى تصل إلى الحدث الأخير الذي يرجع ثانية إلى الحدث المحفز. ويمكن كتابة كلمات بين الأحداث تصف ما يحدث بين كل

عمل النماذج هو من الطرائق التي تساعدك على فهم الأجزاء في تركيب معين، وفهم العمليات، أو لتظهر الأشياء أصغر أو أكبر، ومثال ذلك نموذج الذرة المصنوع من كرة بلاستيكية تمثل النواة، وأسلاك تمثل أفلاك الإلكترونات؛ حيث يساعدك هذا على تصور كيف ترتبط مكونات الذرة معًا. وبعض النماذج الأخرى تصمم بالحاسوب.

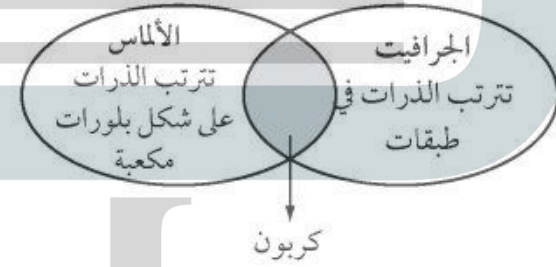
تكوين فرضية

الفرضية تفسير محتمل مبني على معارف ومشاهدات سابقة. يمكنك مثلاً وضع فرضية حول أفضل أنواع جازولين السيارات. وحتى تكون الفرضية صادقة يجب أن تكون قابلة للاختبار.

التوقع هو افتراض مسبق مبني على المشاهدات والتجارب السابقة والمنطق العلمي. يقوم الناس يوميًا بافتراض توقعات لاتخاذ قرارات. ويختبر العلماء التوقعات بتنفيذ استقصاءات. وبناءً على مشاهداتك وخبرتك الحياتية يمكنك أن تتوقع أن الجازولين (٩٥) أكثر كفاءة من الجازولين (٩١) وهذا التوقع يمكن اختباره.

مخطط فن تستطيع استخدام مخطط فن لتوضيح أوجه التشابه والاختلاف بين الأشياء والأحداث؛ حيث يمكنك مشاهدة الخواص العامة المشتركة؛ والخواص المختلفة لكل من الجرافيت والألماس، كما في الشكل ٧.

ولعمل مخطط فن، ارسم شكلين بيضيين متقاطعين، واكتب الخواص المميزة لكل منهما في شكل بيضي، واكتب الخواص المشتركة بينهما في الجزء المتقاطع.



الشكل ٧ يقارن مخطط فن بين مادتين مكوّنتين من الكربون.

استخدام الجداول تستخدم الجداول في تنظيم المعلومات وجعلها سهلة الفهم. وتتضمن الجداول أعمدة وكتابات أو كليهما.

ولعمل الجدول اكتب البنود التي تود مقارنتها في العمود الأول، والخواص في الصف الأول. ويجب أن يعكس عنوان الجدول محتواه بوضوح.

الجدول ١ - تجميع نفايات قابلة للتدوير في أسبوع

اليوم	ورق (كجم)	ألومنيوم (كجم)	زجاج (كجم)
الاثنين	٥,٠	٤,٠	١٢,٠
الأربعاء	٤,٠	١,٠	١٠,٠
الجمعة	٢,٥	٢,٠	١٠,٠

اختبار الفرضية

وفي العديد من التجارب تستخدم التجارب الضابطة للمقارنة بين النتائج التجريبية ونتائج التجارب الضابطة. فمثلاً لتصميم تجربة ضابطة، يمكن استخدام سيارتين في الوقت نفسه، بحيث تمثل التجربة الضابطة السيارة التي تستخدم الجازولين لمدة أربعة أسابيع.

جمع البيانات

سواء أكنت تقوم بتنفيذ استقصاء علمي أو تجربة بسيطة تعتمد على الملاحظة فإنك ستقوم بجمع البيانات اللازمة الشكل ٩. يجمع العلماء البيانات على شكل أرقام أو وصف وينظمونها في طريقة محددة.

الملاحظة

يلاحظ العلماء الأشياء والأحداث ويسجلون ما يشاهدونه. ويستخدمون الكلمات لوصف المشاهدات، وتُسمى هذه البيانات بالنوعية أو الوصفية. أما إذا استخدم العلماء الأرقام والكلمات، فتُسمى هذه البيانات الكمية. فمثلاً، عند وصف الذهب بأنه أصفر وثقيل، فهذه بيانات نوعية، أما البيانات الكمية لهذه العينة من الذهب فتشمل مثلاً كتلته ٣٠ جم، وكثافته ١٩,٣ جم/سم^٣.



الشكل ٩ جمع البيانات طريقة لجمع المعلومات مباشرة.

بعد أن وضعت فرضيتك، تحتاج إلى اختبارها مستخدماً الاستقصاء، وعمل مشاهدات وجمع بيانات أو معلومات قد تدعم فرضيتك هذه أو تنفيها. والعلماء يجمعون بيانات مختلفة، على شكل أرقام وأوصاف ينظمونها.

اتباع الخطوات لكي تعرف أي المواد تستخدم، وبأي ترتيب، عليك أن تتبع خطوات محددة. ويظهر الشكل ٨ الخطوات التي يمكن اتباعها لاختبار فرضيتك حول الجازولين.

الخطوات

١. استخدم الجازولين (٩١) لمدة أسبوعين.
٢. سجل الكيلومترات التي قطعتها بكمية الجازولين (٩١).
٣. استخدم الجازولين (٩٥) لمدة أسبوعين آخرين.
٤. سجل الكيلومترات التي قطعتها بكمية الجازولين (٩٥).

الشكل رقم ٨ الخطوات التي يمكن اتباعها لاختبار الفرضية.

تحديد العوامل الثابتة والعوامل المتغيرة


والتعامل معها من المهم في أي تجربة أن نحافظ على بقاء كافة العوامل ثابتة، باستثناء العامل الذي تريد اختباره، ويُسمى المتغير المستقل، تأكد أن يكون هناك عامل واحد مستقل تريد اختباره، فمثلاً في تجربة الجازولين، كان العامل الثابت هو السيارة، والمتغير المستقل هو نوع الجازولين، والعامل المتغير هو كفاءة الجازولين.

عينة لإجراء البحث أن تكون ممثلة للشيء أو الجماعة؛ حيث تساعدك الملاحظات الدقيقة التي تسجلها، والمتغيرات التي تستخدمها في العينة على اكتشاف معلومات واشتقاق استنتاجات تنطبق على أفراد مجتمع الدراسة كافة. والعينة التي تم اختيارها بشكل غير مناسب قد لا تمثل الكل، فإذا أردت مثلاً قياس كمية سقوط المطر المتساقط فمن المؤكد أن تحت الشجرة مثلاً ليس مكاناً مناسباً لأخذ العينة.

القياس أنت تستخدم القياسات يومياً، وكذلك يستخدمها العلماء عند جمع البيانات، وعند أخذ القياسات يجب أن تعرف جيداً كيف تستخدم أداة القياس.

الطول لقياس الطول -وهو المسافة بين نقطتين- يستخدم العلماء الأمتار. تقاس المسافات القصيرة بالسنتيمترات والملمترات، وبوحدات قياس أقل من ذلك.

يستخدم المتر لقياس الأطوال، وعند قياس طول جسم توضع حافة المسطرة (0 سم) عند نهاية الجسم كما في الشكل ١١. وتُقاس المسافة بالوحدات الكبيرة (سم)، وكذلك بالوحدات الأصغر الملمتر (مم). طول الجسم في الشكل ١١ هو ٥,٤ سم.



الشكل ١١ هذه المسطرة لها أجزاء مكونة من سنتيمترات وملمترات.




الشكل ١٠ سجل البيانات بطريقة منظمة وواضحة ليسهل فهمها.

عندما تسجل مشاهدات يجب عليك أولاً تفحص الشيء أو الحدث كاملاً، ثم النظر بدقة إلى التفاصيل. ومن المهم أن تسجل مشاهداتك بدقة وبشكل تام ومباشرة حتى لا تنسى أي تفاصيل. لا تسجل أي ملاحظات على ورق جانبي، بل سجلها على دفتر الملاحظات، الشكل ١٠. وعند تسجيل مشاهداتك، اكتبها بطريقة منظمة وواضحة لتسهيل قراءتها لاحقاً. وفي كل مرحلة من التجربة سجل مشاهداتك وعنوانها حتى لا تضطر إلى وضع عنوان لها في المستقبل. وعندما تستخدمها صمم جداولك مسبقاً، وعنوانها لتكون جاهزة عند استخدامها. وتجنب التحيز من منظورك الشخصي عند جمع البيانات.

التقدير يستخدم العلماء التقدير للحكم على حجم الشيء أو عدده دون إجراء قياسات أو حسابات. وهذا مهم جداً عندما يكون عدد الشيء أو العينة كبيراً جداً، ويصعب قياسه بدقة.

العينة قد يستخدم العلماء العينة أو جزءاً من العدد الكلي بوصفه نوعاً من التقدير. وعليك عند اختيار

الشكل ١٣ مدرج من قاعدته إلى أعلى بالملمترات، وقد تستخدم في المختبر مخبراً مدرجاً قياس ١٠ مل أو ١٠٠ مل. وعند قياس حجم السائل، لاحظ السطح الهلالي للسائل، وانظر إلى مستوى سطح السائل. يقيس المخبر المدرج في الشكل ١٣ حجم السائل وهو ٧٩ مل أو ٧٩ سم^٣.



الشكل ١٣ يقيس المخبر المدرج حجم السائل.

الكتلة وحدة قياس الكتلة في النظام الدولي هي الكيلوجرام (كجم)، وهناك وحدات أصغر، مثل الجرام، والمليجرام. ولقياس الكتلة، قد تستخدم موازين ثلاثية الأذرع، كما في الشكل ١٢. وللميزان كفة يوضع فيها الجسم، ويوجد على الأذرع قطع منزلة لمعرفة كتلة الجسم. ويمكنك تحريك هذه القطع على الأذرع. لمعرفة كتلة جسم نضعه على كفة الميزان. ثم تحسب مجموع الأوزان على الأذرع الثلاثة. وبدلاً من وضع الأجسام في كفة الميزان، توضع في أوعية كتلتها معروفة ويتم وزن الجسم والوعاء معاً، لمعرفة كتلة الجسم يتم طرح كتلة الوعاء من كتلة الجسم والوعاء معاً.



الشكل ١٢ يستخدم الميزان الثلاثي الأذرع لقياس كتلة جسم.

درجة الحرارة يقيس العلماء درجة الحرارة باستخدام مقياس الحرارة الترمومتر. درجة حرارة تجمد الماء النقي هي صفر[°]س، ودرجة غليانه ١٠٠[°]س عند ضغط جوي يساوي واحد. ووحدة قياس درجة الحرارة هي السيلسيوس، كما يمكن قياس درجة الحرارة باستخدام مقياس الفهرنهايت ومقياس كلفن.

حجم السائل لقياس حجم السوائل تُستخدم وحدة اللتر. يستخدم العلماء وحدات أصغر تُسمى المللتر. والمللتر يعادل حجم مكعب أبعاده ١ سم من كل جهة، ولذا فإن المللتر يعادل ستمتراً مكعباً (سم^٣ = ١ سم × ١ سم × ١ سم). ويطلق عليه مصطلح (مل). يمكنك استخدام كأس زجاجية ومخبراً مدرجاً لقياس حجم سائل. المخبر المدرج الموضح في

تحليل البيانات التي جمعوها، وكل أسلوب يناسب نمطاً معيناً محدداً.

تفسير البيانات تعني كلمة تفسير توضيح معنى شيء ما. عند تحليل بيانات لتجربة، حاول أن تجد ما تظهره البيانات، وحدد المجموعة الضابطة والمجموعة التجريبية لمعرفة ما إذا كان التغير في المتغير المستقل له أثر أو ليس له أثر.

ابحث عن المتغيرات المستقلة في كل من المجموعة الضابطة والمجموعة التجريبية.

التصنيف وضع الأشياء أو الأحداث في مجموعات بناءً على صفات عامة يُسمى التصنيف. وعندما تقوم بالتصنيف لاحظ أولاً الأشياء أو الأحداث التي ستصنفها، ثم اختر صفة واحدة مشتركة بين بعض أفراد المجموعة، وليس بين أفراد المجموعة كلها. وضع الأفراد الذين لهم الصفة نفسها في مجموعة جزئية، وبتكرار العملية مع أفراد المجموعة الجزئية تصنف الأفراد في مجموعات جزئية أصغر فأصغر.

المقارنة يمكن تحليل المشاهدات والملاحظات بتحديد أوجه التشابه وأوجه الاختلاف بين جسمين أو حدثين، وعندما تنظر إلى الأشياء أو الأحداث لتحديد أوجه التشابه والاختلاف بينهما فإنك تقارن بينهما.

تحديد السبب والنتيجة السبب هو المبرر لوقوع الحدث أو الحالة، والنتيجة هي الحدث أو الحالة. يصعب أن نجزم عند تراقف حدثين معاً بأن أحدهما مسبب للآخر. وعلى العلماء أن يصمموا تجربة مضبوطة لتحديد السبب والنتيجة.



الشكل ١٤ يستخدم مقياس الحرارة لقياس درجة حرارة الأجسام. ومعظم مقاييس الحرارة في المختبرات هي عبارة عن أنبوب زجاجي في نهايته مستودع، يحتوي على سائل مثل الكحول الملون. ويرتفع السائل في الأنبوب أو ينخفض كلما تغيرت درجة الحرارة. ولقراءة درجة الحرارة حرك المقياس بشكل دائري حتى تتمكن من مشاهدة السائل الملون، واقرأ درجة الحرارة عند نهاية السائل.

تكوين تعريفات إجرائية يحدد التعريف الإجرائي جسمًا ما عن طريق وظيفته، وكيف يعمل أو يسلك. وقد يكون للأشياء أكثر من تعريف إجرائي. فمثلاً، يمكن تعريف المسطرة بأنها أداة لقياس أطوال الأجسام، ويمكن استخدامها كأداة معيارية.

تحليل البيانات

لتحديد معنى نتائج مشاهداتك وملاحظاتك واستقصائك، عليك أن تنظر إلى نمط في البيانات، وعليك أن تستخدم التفكير الناقد لتحديد ماذا تعني هذه البيانات. يستخدم العلماء أساليب متعددة عند

الاستنتاج

لا يتطابق الاستقصاء الجيد دائماً مع التوقعات الأولية.

تجنب التحيز تتضمن الاستقصاءات العلمية إصدار أحكام، وعندما تصدر حكماً تكون رأياً. ومن المهم جداً أن تكون صادقاً وألا تتحيز لأي من النتائج المتوقعة، وهذا مهم جداً خلال مراحل الاستقصاء كاملة بالألا تكون متحيزاً بدءاً من مرحلة جمع البيانات وحتى استخلاص الاستنتاجات.

عندما يحلل العلماء البيانات التي قاموا بجمعها يبدوون بعملية استخلاص النتائج منها. وتُصاغ هذه الاستنتاجات في كلمات شبيهة بالفرضية التي شكلتها سابقاً. وقد تؤدي هذه الاستنتاجات الفرضية أو تقود إلى فرضية جديدة.

التواصل

إن إيصال الأفكار جزء مهم من عمل العلماء. وإن الاكتشافات التي لا تسجل لا تسهم في تطوير فهم المعرفة العلمية عند العلماء. والتواصل بين العلماء أمر مهم لتحسين الاستقصاء العلمي، وهو يتم بينهم بطرائق مختلفة من كتابة المقالات في المجالات لتوضيح استقصاء دراستهم وتجاربهم إلى إعلان الاكتشافات المهمة عن طريق التلفاز والإذاعة. كما يشارك العلماء زملاءهم في أبحاثهم عن طريق المواقع الإلكترونية أو بتقديم محاضرات، كما في الشكل ١٥.

الاستنتاج يقوم العلماء غالباً بعمل استدالات من ملاحظاتهم، والاستدلال هو محاولة لتفسير الملاحظات أو تحديد السبب، والاستنتاج أو الاستدلال ليس حقيقة، ولكنه خلاصة منطقية تحتاج إلى مزيد من الاستقصاء. فقد تستنتج مثلاً أن النار تسبب الدخان.

التطبيق عندما تستنتج يجب أن تطبق هذه الاستنتاجات لتحديد مدى دعمها للفرضية، فإذا لم تدعمها فإن الفرضية غير صحيحة، وهذا يعني أن النتائج لم تدعم الفرضية، أو قد تكون التجربة بحاجة إلى إعادة تصميم، أو أن الملاحظات كانت غير كاملة ومجزأة. وعادة



الشكل ١٥ يتواصل الطالب بنتائج أبحاثه مع زملائه.

السلامة في مختبرات العلوم

- مختبر العلوم مكان آمن للعمل فيه إذا أُتبع إجراءات السلامة. كن مسؤولاً عن سلامتك الشخصية لتجعل دخول المختبر آمناً لك ولغيرك. وعندما تنفذ أي تجربة اقرأ التعليمات التحذيرية وشروط السلامة المذكورة، وطبقها في بداية التجربة.
٥. لا تأكل أو تشرب أو تمضغ العلك، أو تستخدم أدوات الزينة. ولا تستخدم زجاجيات المختبر في الأكل أو الشرب، وأبعد يديك دائماً عن فمك ووجهك.
٦. اعرف طريقة الاستخدام الصحيحة لكل من مرش الماء، ومغسل العينين، وبطانية الحريق ومنبه الحريق وطفاية الحريق وموقع كل منها.

قواعد السلامة العامة

١. استأذن معلمك قبل البدء في عمليات الاستقصاء واستخدام أدوات المختبر.
٢. ادرس طريقة العمل واسأل معلمك عن أي استفسار، وتأكد من فهمك لشروط السلامة المذكورة في بداية الصفحة.
٣. أخبر معلمك عن أي مشاكل صحية أو تحسّس قد يؤثر في مشاركتك في المختبر.
٤. تعلم واتبع الطريقة السليمة الآمنة لاستخدام أدواتك، واسأل معلمك إذا كنت غير متأكد.
١. استخدم أدوات السلامة المتوافرة، ومنها النظارات الواقية ومعطف المختبر في أثناء تنفيذ الاستقصاء.
٢. لا تستخدم رذاذ الشعر، أو أي مستحضرات أخرى للشعر قابلة للاشتعال، واربطي شعرك إذا كان طويلاً، واربطي ملابسك الفضفاضة.
٣. لا تلبس الصنادل أو الأحذية المفتوحة في المختبر.
٤. لا تذوق أي مادة أو تسحب السوائل بالأنابيب الماصة بفمك.
٥. التصرف اللائق متوقع في المختبر؛ فالمزاح والتصرف غير المسؤول يؤدي إلى حوادث وإصابات.

العمل في المختبر

١. احصل على جميع أدوات ومواد التجربة، واحملها بطريقة صحيحة إلى منطقة العمل الخاصة بك قبل البدء في إجراء التجربة.
٢. ابق في منطقة العمل الخاصة بك، ما لم يطلب إليك معلمك تركها.
٣. أبعد فوهة الأنبوب بعيداً عنك وعن زملائك دائماً، عندما تقوم بالتسخين أو إضافة المواد إليها أو غسلها.



٤. إذا طُلبَ إليك شم رائحة مادة في علبه فاحمل العلبه بعيدًا عنك قليلاً، ثم ادفع بخار المادة في اتجاه أنفك بكفك.
٥. اغسل يديك بالماء والصابون جيداً قبل إزالة النظارات الواقية.

حالات الطوارئ

١. أخبر معلمك عند حدوث أي حريق، أو صدمة كهربائية، أو كسر أدوات زجاجية، أو حدوث إصابات حتى لو كانت بسيطة، واتبع تعليماته.
٢. إذا اشتعلت النار في ملابسك فتوقف عن الحركة، وانزل على الأرض وتدحرج. وإذا كان ممكناً فأخمد النار باستخدام بطانية الحريق، أو اذهب إلى مرش السلامة، ولا تركض.



٣. إذا حدث حريق فأغلق مصادر الغاز وغادر الغرفة سريعاً وفقاً للإجراءات المتبعة.

٤. ينظف معلمك غالباً المواد المنسكبة، فلا تحاول تنظيفها بنفسك إلا إذا طلب إليك وأعطاك تعليمات بذلك.
٥. إذا سقط شيء من مادة كيميائية على جلدك أو عينيك، فأخبر معلمك مباشرة، واستخدم غسول العيون أو اشطف جلدك أو عينيك بكميات كبيرة من الماء.

٦. يجب استخدام طفاية الحريق من قبل معلمك فقط ما لم تكن الحالة طارئة جداً وأعطيت الأمر للقيام بذلك.
٧. إذا أصيب أحد بجرح أو أصبح مريضاً، فإن المختصين في الطب أو رجال الإسعافات الأولية المؤهلين هم من يقدمون المساعدة والإسعافات الأولية.

٥. لا تستبدل بأي مادة مذكورة في التجربة مادة أخرى إلا إذا طلب إليك معلمك ذلك.
٦. لا تأخذ أي مادة كيميائية إلى خارج المختبر.
٧. ابق بعيداً عن مناطق التخزين إلا إذا طلب إليك معلمك ذلك وتحت إشرافه.

تنظيف المختبر

١. أطفئ المصابيح المشتعلة، وأغلق صنبور الماء والغاز، وافصل جميع مصادر الكهرباء.
٢. نظف القطع والأدوات جميعها، وأعد المواد إلى مكانها المناسب.
٣. تخلّص من المواد الكيميائية والمواد التي تم استخدامها في التجربة وفق إرشادات معلمك، وضع قطع الزجاج المتكسرة والمواد الصلبة في وعاء النفايات المخصص لذلك، ولا ترم شيئاً منها في المغسلة.
٤. نظف منطقة عملك.

رموز السلامة في المختبر

الرمز	المخاطر	الأمثلة	الاحتياطات	العلاج
 التخلص من المخلفات	مخلفات التجربة قد تكون ضارة بالإنسان.	بعض المواد الكيميائية، والمخلوقات حية.	لا تتخلص من هذه المواد في المسلة أو في سلة المهملات.	تخلص من المخلفات وفق تعليمات المعلم.
 ملوثات حيوية بيولوجية	مخلوقات ومواد حية قد تسبب ضرراً للإنسان.	البكتيريا، الفطريات، الدم، الأنسجة غير المحفوظة، المواد النباتية.	تجنب ملامسة الجلد لهذه المواد، ارتد كمامة وقمازين.	أبلغ معلمك في حالة حدوث ملامسة للجسم، وغسل يديك جيداً.
 درجة الحرارة المؤذية	الأشياء التي قد تحرق الجلد بسبب حرارتها أو برودتها الشديتين.	غليان السوائل، السخانات الكهربائية، الجليد الجاف، النيتروجين السائل.	استعمال قفازات واقية.	اذهب إلى معلمك طلباً للإسعاف الأولي.
 الأجسام الحادة	استعمال الأدوات والزرجاجات التي تجرح الجلد بسهولة.	المقصات، الشفرات، السكاكين، الأدوات المعدنية، أدوات التشريح، الزجاج المكسور.	تعامل بحكمة مع الأداة، وتبع إرشادات استعمالها.	اذهب إلى معلمك طلباً للإسعاف الأولي.
 الأبخرة الضارة	خطر محتمل على الجهاز التنفسي من الأبخرة.	الأمونيا، الأستون، الكبريت الساخن، كرات العث (التفلاين).	تأكد من وجود تهوية جيدة، ولا تشم الأبخرة مباشرة، وارتدي كمامة.	اترك المنطقة، وأخبر معلمك فوراً.
 الكهرباء	خطر محتمل من الصعقة الكهربائية أو الحريق.	تأريض غير صحيح، سواثل منسكبة، تماس كهربائي، أسلاك مفرقة.	تأكد من التوصيلات الكهربائية للأجهزة بالتعاون مع معلمك.	لا تحاول إصلاح الأعطال الكهربائية، واستعن بمعلمك فوراً.
 المواد المهيجة	مواد قد تهيج الجلد أو الغشاء المخاطي للفتاة التنفسية.	حبوب اللقاح، كرات العث، سلك تنظيف الأواني، ألياف الزجاج، برمنجنات البوتاسيوم.	ضع واقياً للقباز وارتد قفازين وتعامل مع المواد بحرص شديد.	اذهب إلى معلمك طلباً للإسعاف الأولي.
 المواد الكيميائية	المواد الكيميائية التي قد تتفاعل مع الأنسجة والمواد الأخرى وتتلذها.	المبيشات مثل فوق أكسيد الهيدروجين والأحماض كحمض الكبريتيك، الفواعل كالأمونيا وهيدروكسيد الصوديوم.	ارتد نظارة واقية، وقمازين، ولبس معطف المختبر.	اغسل المنطقة المصابة بالماء، وأخبر معلمك بذلك.
 المواد السامة	مواد تسبب التسمم إذا ابتلعت أو استنشقت أو لمست.	الزئبق، العديد من المركبات الفلزية، اليود، النباتات السامة.	اتبع تعليمات معلمك.	اغسل يديك جيداً بعد الانتهاء من العمل، واذهب إلى معلمك طلباً للإسعاف الأولي.
 مواد قابلة للاشتعال	بعض الكيماويات التي يسهل اشتعالها بوساطة اللهب، أو الشرر، أو عند تعرضها للحرارة.	الكحول، الكيروسين، الأستون، برمنجنات البوتاسيوم، الملابس، الشعر.	تجنب مناطق اللهب عند استخدام هذه الكيماويات.	أبلغ معلمك طلباً للإسعاف الأولي واستخدم مطفاة الحريق إن وجدت.
 اللهب المشتعل	ترك اللهب مفتوحاً يسبب الحريق.	الشعر، الملابس، الورق، المواد القابلة للاشتعال.	اربط الشعر إلى الخلف (لنظائبات)، ولا تلبس الملابس الفضفاضة، واتبع تعليمات المعلم عند إشعال اللهب أو إطفائه.	أبلغ معلمك طلباً للإسعاف الأولي واستخدم مطفاة الحريق إن وجدت.


 غسل اليدين	 نشاط إشعاعي	 سلامة الحيوانات	 وقاية الملابس	 سلامة العين
اغسل يديك بعد كل تجربة بالماء والصابون قبل نزع النظارة الواقية.	يظهر هذا الرمز عند استعمال مواد مشعة.	يشير هذا الرمز لتأكيد على سلامة المخلوقات الحية.	يظهر هذا الرمز عندما تسبب المواد بقعاً أو حريقاً للملابس.	يجب دائماً ارتداء نظارة واقية عند العمل في المختبر.

القياس

القياس

تقوم يومياً بعمليات قياس واستخدام أرقام مختلفة. فالقياس طريقة لوصف الأشياء باستخدام الأرقام. وهو إجابة عن أسئلة كثيرة، منها: ما عدد...؟ ما طول...؟ ما المسافة...؟ فمثلاً من خلال القياس نستطيع معرفة كمية الحليب في علبة، ومعرفة المسافة بين منزلك ومدرستك، وكتلة الذرة.. وهكذا. والقياسات مهمة جداً في كافة مناشط الحياة ومنها صناعة الأدوية والسيارات، بحيث تكون هذه القياسات دقيقة حتى يتم صنع أدوية آمنة وفعالة وسيارات تمتاز بالأمان والسلامة.


وصف الأحداث يمكن استخدام القياسات في وصف الأحداث كما هو موضح في الشكل ١.



الشكل ١ قياس الوقت والمسافة بدقة عملية مهمة في رياضة السباق.

التقدير

يمكن استخدام المقارنة لتقدير القياسات. فعلى سبيل المثال، الشجرة - في الشكل ٢ - طويلة لدرجة يصعب قياسها، ولكن من خلال معرفة طول الطالب يمكن تقدير ارتفاعها. وفي عملية التقدير نستعمل دائماً كلمة « تقريباً ». فنقول مثلاً: طول شخص ما يساوي ١,٥ م تقريباً.



الشكل ٢ طول الطالب الموجود في الصورة يساوي ١,٣٥ م.

الدقة والضبط

طرائق تقويم القياسات هي تقرير مدى دقتها. فالدقة وصف مدى تقارب القياسات بعضها من بعض. افرض أنك قست المسافة بين بيتك ومدرستك خمس مرات بوساطة عدّاد المسافات، وفي كل مرة تكون المسافة ٧,٢ كم. وقام طالب آخر بقياس

أصبحت أدوات القياس الآن أكثر دقة. والشكل ٣ يعرض مجموعة من أدوات قياس الوقت بدرجات دقة متفاوتة.

الضبط عند مقارنة قياس ما بالقيمة المقبولة لقياس الكمية نفسها، فإننا نتحدث عن الضبط. فالساعة التي يوجد فيها عقرب الثواني أكثر دقة من الساعة التي لا يوجد فيها، ولكن إذا لم يتم ضبطها كما ينبغي فستعطي أوقاتاً بعيدة عن التوقيت الصحيح، فتعدّ هذه الساعة غير مضبوطة. وكذلك عند مقارنة القياسات $١,٠٣$ م، $١,٠٤$ م، $١,٠٦$ م، $١,٠٥$ م، فإنها تُعدّ مضبوطة ولكنها غير دقيقة.

المسافة نفسها فحصل على القياسات الآتية: $٢,٧$ كم خلال يومين، $٢,٨$ كم خلال يومين آخرين، $٢,٦$ كم في يوم خامس. سوف تلاحظ أن قياساتك أكثر دقة من قياسات زميلك. ويُستعمل مصطلح «الدقة» أيضًا عند التحدث عن عدد المنازل العشرية التي تقيسها أداة قياس ما. فالرقم $١,٣٠$ أكثر دقة من الرقم $١,٣$ ولذا تُعد الساعة التي فيها عقربٌ للثواني أكثر دقة من الساعات الأخرى التي يوجد فيها عقربٌ للساعات وآخر للدقائق.

درجة الدقة كان للتوقيت أهمية كبيرة في الألعاب الأولمبية ولا يزال. فالألعاب التي كانت تُقاس بجزء من العشرة من الثانية قبل ١٠٠ سنة، أصبحت الآن تُقاس بجزء من المئة من الثانية، كما

الشكل ٣ كل واحدة من هذه الساعات لها مستوى مختلف من الدقة.



الساعات الرقمية أصبحت شائعة.



الساعات ذات العقارب شاع استعمالها عدة قرون.



قبل اختراع الساعات المعروفة حالياً، استعمل الإنسان الساعة الشمسية لمعرفة الوقت.

وحدات القياس في النظام الدولي

وتم إعادة تسمية الوحدات الجديدة عن طريق تغيير البادئة كما في الجدول ٢. فمثلاً: جزء من مليون من المتر يُسمى مايكرومتر، وألف جرام تساوي كيلوجراماً واحداً، وهكذا.

الجدول ٢ بادئات النظام الدولي

البادئة	المضروب فيه
جيجا	١٠٠٠٠٠٠٠٠٠
ميغا	١٠٠٠٠٠٠
كيلو	١٠٠٠
هكتو	١٠٠
ديكا	١٠
الوحدة	١
ديسي	٠,١
سنتي	٠,٠١
ملي	٠,٠٠١
مايكرو	٠,٠٠٠٠٠١
نانو	٠,٠٠٠٠٠٠٠١

هل يمكنك تصور الفوضى الناجمة عن استعمال الناس أنظمة قياس مختلفة للكميات الفيزيائية التي تعبر عن بعض خواص الأشياء؟ سوف يصبح تبادل البيانات والأفكار معقداً بلا شك. وتجنباً للفوضى، وضع العلماء نظاماً دولياً (SI) لوحدات القياس عام ١٩٦٠م. وقد تم تصميمه لكي يُستعمل في العلوم والصناعة والتجارة في أرجاء العالم كافة. ويوضح الجدول ١ الكميات الفيزيائية الأساسية ووحدات قياسها الدولية ورمزها.

الجدول ١ وحدات النظام الدولي للكميات الأساسية

الرمز	الوحدة	الكمية الأساسية
م	متر	الطول
كجم	كيلوجرام	الكتلة
ك	كلفن	درجة الحرارة
ث	ثانية	الزمن
أمبير	أمبير	التيار الكهربائي
مول	مول	كمية المادة
شمعة	شمعة	شدة الضوء

ملاحظة

يمكنك الرجوع إلى مرجعيات الطالب في كتب العلوم للمرحلة الابتدائية؛ للحصول على مزيد من التفصيل حول الكميات الفيزيائية الأساسية ووحدات قياسها الدولية. كما يمكنك تعرف العديد من الأشكال والجداول والرسوم البيانية المستخدمة في كتب العلوم وكيفية بنائها.

يمكن تحويل أي وحدة من وحدات النظام الدولي، إلى وحدة أكبر أو أصغر بالضرب في قوى الرقم (١٠). وقد عبر عنها بتسميات (مقاطع) وفقاً للقوة المرفوعة للعدد (١٠) وأطلق عليها اسم البادئات، لاحظ الجدول ٢. فمثلاً عند تحويل وحدة الكيلوجرام إلى جرامات نضرب في ١٠٠٠. مثال: $5,67 \text{ كجم} = 1000 \times 5670 \text{ جراماً}$.

خواص الصخور

خواص	اسم الصخر	نوع الصخر
حبيبات معادن كبيرة الحجم من الكوارتز والفلسبار والهورنبلند والمايكا، عادة لونها فاتح. حبيبات معادن كبيرة الحجم من الفلسبار والهورنبلند والمايكا وحبيبات أقل من الكوارتز، متوسطة اللون.	جرانيت ديوريت	ناري (جوفي)
حبيبات كبيرة الحجم من الفلسبار والأوجيت والأوليفين ولا يحتوي على كوارتز، غامق اللون.	جايرو	
حبيبات معادن صغيرة الحجم من الكوارتز والفلسبار والهورنبلند والمايكا، لونها فاتح. حبيبات معادن صغيرة الحجم من الفلسبار والهورنبلند والمايكا، متوسطة اللون.	ريولايت أنديزيت	ناري (سطحي)
حبيبات معادن صغيرة الحجم من الفلسبار والأوجيت ويحتمل وجود حبيبات الأوليفين، حبيباته غير مرئية. لا يحتوي على كوارتز، غامق اللون. نسيج زجاجي. حبيباته غير مرئية. زجاج بركاني. نسيج به ثقوب. يطفو في الماء وعادة لونه فاتح.	بازلت أوبسديان خفاف	
حبيبات خشنة، بحجم الحصى. حجم حبيباته بين $\frac{1}{16}$ مم إلى 2 مم. حبيباته أصغر من الرمل لكن أكبر من الطين. أصغر الحبيبات حجماً، غامق اللون، عادة صفائحي.	كونجلوميرات صخر رملي غرين (طمي) غضار (طفل)	رسوبي (فتاتي)
المعدن الرئيس فيه هو الكالسيت، عادة يتكون في البحار والبحيرات، ويحتوي على أحافير. يتكون في مناطق المستنقعات، وهو طبقات مترابطة من مواد عضوية معظمها من بقايا نباتات.	حجر جير فحم	رسوبي (كيميائي أو عضوي)
يتكون عادة من تبخر مياه البحر ويتكون من معدن الهاليت.	ملح صخري	رسوبي (كيميائي)
يتكون من طبقات متوالية (أشرطة) من معادن مختلفة الألوان. والصخر الأصلي له غالباً ما يكون جرانيت. ترتيب متواز لمعادن على شكل صفائح معظمها مايكا، ويتكون من صخور متنوعة الأصل. مظهره لامع وحريري، وأحياناً يظهر مجعداً، الصخر الأصلي له هو الغضار والأردواز، أكثر صلابة، وكثافة، وأكثر لمعاً من الغضار، الصخر الأصلي الشائع له الغضار.	نايس شيسيت فيليت الأردواز	متحول (متورق)
يتكون من كالسيت أو دولوميت، الصخر الأصلي له صخر جير. صلب ذو بلورات كوارتز متداخلة، الصخر الأصلي له الحجر الرملي. مكون بشكل رئيس من التلك، ناعم وملمسه صابوني.	الرخام كوارتزيت الحجر الصابوني	متحول (غير متورق)

خواص المعادن

المعدن (التركيب)	اللون	المخدش	القساوة	المكسر وسطوح الانقسام	الاستخدامات وخواص أخرى
جرافيت (C)	أسود إلى رمادي	أسود إلى رمادي	١ - ١,٥	سطح انقسام في اتجاه واحد	قلم رصاص، شحوم، قضبان للسيطرة على التفاعل النووي، أقطاب بطاريات.
جالينا (PbS)	رمادي	رمادي إلى أسود	٢,٥	سطوح انقسام مكعبة	خام الرصاص، أنابيب، أجهزة الأشعة السينية، أجهزة العرض
هيماتيت (Fe ₂ O ₃)	أسود إلى بني مُحمرّ	بني مُحمرّ	٥,٥ - ٦,٥	مكسر غير منتظم	مصدر لحام الحديد، يتم تحويله إلى فولاذ
ماجنيثيت (Fe ₃ O ₄)	أسود	أسود	٦	مكسره محاري	مصدر لحام الحديد، يجذب المغناطيسات
بيريت (FeS ₂)	فاتح، نحاسي أصفر	أسود مخضّر	٦,٥ - ٦	مكسر غير منتظم	شبيه الذهب
تلك Mg ₃ Si ₄ O ₁₀ (OH) ₂	أبيض، مُحضّر	أبيض	١	سطح انقسام في اتجاه واحد	بودرة التلك، نحت، ورق سطوح الطااولات
جبس CaSO ₄ ·O ₂ H	بدون لون، رمادي، أبيض، بني	أبيض	٢	سطح انقسام في اتجاه واحد	لصنع الجبس الباريسي، الجدران في المباني
سفاليريت (ZnS)	بني، بني مُحمرّ، مخضّر	فاتح إلى بني غامق	٣,٥ - ٤	سطوح انقسام في ستة اتجاهات	خام الزنك، دهانات، أدوية، صبغات
مسكوفيت KAl ₃ Si ₃ O ₁₀ (OH) ₂	أبيض، رمادي فاتح، أصفر، وردي، أخضر	عديم اللون	٢ - ٢,٥	سطح في اتجاه واحد	يوجد على شكل صفائح، يُستخدم عازلاً في الأدوات الكهربائية، التشحيم
بيوتيت K(Mg,Fe) ₃ (Al ₃ Si ₃ O ₁₀)(OH) ₂	أسود وغمق	عديم اللون	٢,٥ - ٣	سطح انقسام في اتجاه واحد	يوجد على شكل صفائح كبيرة مرنة

خواص المعادن

المعدن (التركيب)	اللون	المخدش	القساوة	المكسروسطوح الانقسام	الاستخدامات وخواص أخرى
هاليت NaCl	عديم اللون، أحمر، أبيض، أزرق	عديم اللون	٢,٥	سطح انقسام مكعب	ملح يذوب في الماء، حافظ للمواد.
كالسيت (CaCO ₃)	عديم اللون، أبيض، أزرق فاتح	عديم اللون، أبيض	٣	سطوح انقسام بثلاثة اتجاهات	يتفاعل مع HCl ويستخدم في الإسمنت ومواد البناء.
دولوميت CaMg (CO ₃) ₂	عديم اللون، أبيض، وردي، أخضر، رمادي، أسود	أبيض	٤-٣,٥	سطوح انقسام بثلاثة اتجاهات	الخرسانة والإسمنت، وحجارة البناء.
فلوريت CaF ₂	عديم اللون، أبيض، أزرق، أخضر، أحمر، أصفر، أرجواني	عديم اللون	٤	سطوح انقسام بأربعة اتجاهات	في صناعة الأجهزة البصرية، يتوهج بتأثير الضوء فوق البنفسجي
هورنبلند (Ca, Na) ₂ (Mg, Fe, Al) ₅ (Si, Al) ₈ O ₂₂ (OH, F) ₂	أخضر إلى أسود	رمادي إلى أبيض	٦-٥	سطوح انقسام في اتجاهين	تمرير الضوء في الحواف الرقيقة. مقطع عرضي بستة جوانب.
فلسبار KAlSi ₃ O ₈ NaAlSi ₃ O ₈ CaAl ₂ Si ₂ O ₈	عديم اللون، أبيض إلى رمادي، أخضر	عديم اللون	٦	سطوح انقسام متعامدان	صناعة السيراميك
أوجيت (Ca, Na)(Mg, Fe, Al)(Al, Si) 2O	أسود	عديم اللون	٦	سطوح انقسام في اتجاهين	مربع أو مقطع ثنائي الأوجه.
أوليفين (Mg, Fe) ₂ SiO ₄	زيتي، أخضر	لا توجد	٧-٦,٥	مكسر محاري	حجر كريم، رمل صناعة.
كوارتز SiO ₂	عديم اللون، ألوان متعددة	لا توجد	٧	مكسر محاري	في صناعة الزجاج، الأدوات الإلكترونية، الراديو، الحاسوب، الساعات، الأحجار الكريمة.

الجدول الدوري للعناصر



يدل لون صندوق كل عنصر على كونه فلزًا أو شبه فلزًا أو لا فلزًا.

			13	14	15	16	17	18
			Boron 5 B 10.811	Carbon 6 C 12.011	Nitrogen 7 N 14.007	Oxygen 8 O 15.999	Fluorine 9 F 18.998	Helium 2 He 4.003
			Aluminum 13 Al 26.982	Silicon 14 Si 28.086	Phosphorus 15 P 30.974	Sulfur 16 S 32.065	Chlorine 17 Cl 35.453	Neon 10 Ne 20.180
10	11	12						
Nickel 28 Ni 58.693	Copper 29 Cu 63.546	Zinc 30 Zn 65.409	Gallium 31 Ga 69.723	Germanium 32 Ge 72.64	Arsenic 33 As 74.922	Selenium 34 Se 78.96	Bromine 35 Br 79.904	Argon 18 Ar 39.948
Palladium 46 Pd 106.42	Silver 47 Ag 107.868	Cadmium 48 Cd 112.411	Indium 49 In 114.818	Tin 50 Sn 118.710	Antimony 51 Sb 121.760	Tellurium 52 Te 127.60	Iodine 53 I 126.904	Krypton 36 Kr 83.798
Platinum 78 Pt 195.078	Gold 79 Au 196.967	Mercury 80 Hg 200.59	Thallium 81 Tl 204.383	Lead 82 Pb 207.2	Bismuth 83 Bi 208.980	Polonium 84 Po (209)	Astatine 85 At (210)	Xenon 54 Xe 131.293
Darmstadtium 110 Ds (269)	Roentgenium 111 Rg (272)	Copernicium 112 Cn (277)	Ununium * 113 Uut (Unknown)	Flerovium 114 Fl (289)	Ununpentium * 115 Uup (Unknown)	Livermorium 116 Lv (298)	Ununseptium * 117 Uus (Unknown)	Ununoctium * 118 Uuo (Unknown)

* أسماء ورموز العناصر 113، 115، 117، 118 مؤقتة، وسيتم اختيار رموز وأسماء نهائية لها قريبا بعد من الاتحاد الدولي للكيمياء البحتة والتطبيقية (IUPAC).

Europium 63 Eu 151.964	Gadolinium 64 Gd 157.25	Terbium 65 Tb 158.925	Dysprosium 66 Dy 162.500	Holmium 67 Ho 164.930	Erbium 68 Er 167.259	Thulium 69 Tm 168.934	Ytterbium 70 Yb 173.04	Lutetium 71 Lu 174.967
Americium 95 Am (243)	Curium 96 Cm (247)	Berkelium 97 Bk (247)	Californium 98 Cf (251)	Einsteinium 99 Es (252)	Fermium 100 Fm (257)	Mendelevium 101 Md (258)	Nobelium 102 No (259)	Lawrencium 103 Lr (262)

جداول مرجعية

جداول مرجعية

العناصر في كل عمود تدعى مجموعة، ولها خواص كيميائية متشابهة.



1	Hydrogen 1 H 1.008	2							
2	Lithium 3 Li 6.941	Beryllium 4 Be 9.012							
3	Sodium 11 Na 22.990	Magnesium 12 Mg 24.305	3	4	5	6	7	8	9
4	Potassium 19 K 39.098	Calcium 20 Ca 40.078	Scandium 21 Sc 44.956	Titanium 22 Ti 47.867	Vanadium 23 V 50.942	Chromium 24 Cr 51.996	Manganese 25 Mn 54.938	Iron 26 Fe 55.845	Cobalt 27 Co 58.933
5	Rubidium 37 Rb 85.468	Strontium 38 Sr 87.62	Yttrium 39 Y 88.906	Zirconium 40 Zr 91.224	Niobium 41 Nb 92.906	Molybdenum 42 Mo 95.94	Technetium 43 Tc (98)	Ruthenium 44 Ru 101.07	Rhodium 45 Rh 102.906
6	Cesium 55 Cs 132.905	Barium 56 Ba 137.327	Lanthanum 57 La 138.906	Hafnium 72 Hf 178.49	Tantalum 73 Ta 180.948	Tungsten 74 W 183.84	Rhenium 75 Re 186.207	Osmium 76 Os 190.23	Iridium 77 Ir 192.217
7	Francium 87 Fr (223)	Radium 88 Ra (226)	Actinium 89 Ac (227)	Rutherfordium 104 Rf (261)	Dubnium 105 Db (262)	Seaborgium 106 Sg (266)	Bohrium 107 Bh (264)	Hassium 108 Hs (277)	Mitlerium 109 Mt (268)

العنصر
العدد الذري
الرمز
الكتلة الذرية

حالة المادة

الرموز الثلاثة العليا تدل على حالة العنصر في درجة حرارة الغرفة. بينما يدل الرمز الرابع على العناصر المصنعة.

صفوف العناصر الأفقية تدعى دورات. يزداد العدد الذري من اليسار إلى اليمين في كل دورة.

الرقم المحاط بقوسين هو العدد الكتلي للنظير الأطول عمراً للعنصر.

سلسلة اللانثانيدات

سلسلة الأكتينيدات

يدل السهم على المكان الذي يجب أن توضع فيه هذه العناصر في الجدول. لقد تم نقلها إلى أسفل الجدول توفيراً للمكان.

Cerium 58 Ce 140.116	Praseodymium 59 Pr 140.908	Neodymium 60 Nd 144.24	Promethium 61 Pm (145)	Samarium 62 Sm 150.36
Thorium 90 Th 232.038	Protactinium 91 Pa 231.036	Uranium 92 U 238.029	Neptunium 93 Np (237)	Plutonium 94 Pu (244)

مسرد المصطلحات

التجوية: عملية سطحية ميكانيكية أو كيميائية تؤدي إلى تفتت الصخور إلى قطع صغيرة.

التجوية الكيميائية: عملية تؤدي إلى تغير التركيب الكيميائي للصخور بفعل عوامل، منها: الأحماض، والأكسجين.

التجوية الميكانيكية: عملية تسبب كسر الصخور إلى قطع أصغر دون إحداث تغيير في تركيبها الكيميائي.

التربة: خليط من مواد عضوية وماء وهواء وصخر تعرّض لعمليات تجوية تشكّلت مع مرور الزمن. وتعدّ مهمة لنمو النباتات.

التسارع: ناتج قسمة التغير في السرعة على الزمن. ويحصل التسارع عندما يسرع الجسم أو يبطئ أو يغير اتجاه حركته.

التعرية: تآكل الصخور أو الرسوبيات ونقلها.

التفسير الفيزيائي: التغير الذي يطرأ على الخواص الطبيعية للمادة، دون تغيير في تركيبها الأصلي.

التغير الكيميائي: كل تغير يطرأ على المادة ويغير من تركيبها الأصلي، وقد ينتج عنه مادة أو مواد جديدة.

التفكير الناقد: يتضمن استخدام المعرفة ومهارات التفكير وتقديم الدليل والتفسير.

الثابت: عامل يتم ضبطه أثناء التجربة ولا يتغير.

الألة البسيطة: أداة تسهّل أداء العمل، وتتطلب حركة واحدة فقط.

الألة المركبة: هي آلة مكوّنة من مجموعة من الآلات البسيطة.

الاحتكاك: قوة ممانعة تنشأ بين سطوح الأجسام المتلامسة، فتنشأ عنها مقاومة فيما بين هذه السطوح.

الاستدلال: التوصل إلى استنتاجات بناء على المشاهدات السابقة.

الإلكترون: جسيم غير مرئي، سالب الشحنة، يدور حول النواة في السحابة الإلكترونية المحيطة بنواة الذرة.

الانزلاق الأرضي: يحدث عندما تتحرك كتل على المنحدرات بفعل الجاذبية وحدها.

البروتون: جسيم موجب الشحنة يوجد في النواة. واكتشفه العالم رذرفورد.

بلورات: مادة صلبة لها ترتيب ذري منظم ومتكرر.

البيانات: المعلومات التي تُجمع في أثناء عملية البحث، وتُسجل على شكل وصف، أو جداول، أو رسوم بيانية، أو أشكال.

التجربة المضبوطة: هي تغيير عامل وملاحظة تأثيره في عامل آخر، مع ثبات العوامل الأخرى.

الخواص الفيزيائية: أي خاصية للمادة يمكن قياسها أو ملاحظتها دون حدوث تغير في المادة، وتشمل: الحالة، واللون والحجم.

الخواص الكيميائية: أي خاصية تحدث تغيراً في المادة لإنتاج مادة جديدة، ومنها القدرة على الاحتراق.

درجة الانصهار: هي درجة الحرارة التي تتحول عندها المادة من حالة الصلابة إلى حالة السيولة.

درجة الغليان: هي درجة الحرارة التي تتحول عندها المادة من الحالة السائلة إلى الحالة الغازية.

دورة الصخر: نموذج يصف علاقة الصخور بعضها مع بعض، وآلية تحول الصخور من نوع إلى آخر.

الذرة: أصغر جزء من المادة، يتكون من جسيمات صغيرة جداً هي البروتونات والنيوترونات والإلكترونات.

الستار: أكبر نطاقات الأرض، يقع فوق اللب الخارجي، وهو في الحالة اللدنة حيث يتحرك ببطء.

السرعة اللحظية: سرعة الجسم عند لحظة زمنية معينة.

السرعة المتجهة: مقدار سرعة جسم واتجاه حركته.

السرعة المتوسطة: تساوي المسافة الكلية التي يقطعها الجسم مقسومة على الزمن الكلي اللازم لقطع هذه المسافة.

الجبال البركانية: أحد أنواع الجبال التي تتكون نتيجة خروج اللابة على السطح وتراكمها مع الزمن مكونة شكلاً مخروطياً.

جبال الكتل المتصدعة: أحد أنواع الجبال، تتكون من كتل صخرية ضخمة مثنية ومنفصلة عن الصخور المجاورة بصدوع تتج بفعال قوى شد من جهتين متقابلتين، مما يؤدي إلى انزلاق كتل كبيرة إلى أسفل مكونة ودياناً وقممًا.

الجبال المطوية: أحد أنواع الجبال التي تتكون نتيجة طي طبقات الصخور عند تعرضها لقوى الضغط.

الجبال الناهضة: أحد أنواع الجبال، تتكون نتيجة قيام قوى من باطن الأرض بدفع القشرة إلى أعلى، ونتيجة الحث والتعرية مع الزمن تتكون قمم ومرتفعات حادة.

الجريان السطحي: حركة المياه على سطح الأرض.

حالة المادة: خاصية فيزيائية تعتمد على كل من: درجة الحرارة، والضغط. وتوجد على أربعة أشكال، هي: الصلبة، والسائلة، والغازية، والبلازما.

حجر كريم: معدن نادر قابل للقص والصقل، مما يعطيه مظهرًا جميلاً يجعله مثاليًا لصناعة الحلي.

حركة كتل الأرض: تحرك الصخور أو الرسوبيات عند المنحدرات نحو أسفل بفعل الجاذبية الأرضية.

خام: معادن تحوي مادة مفيدة يمكن بيعها وتحقيق أرباح، ومنها الفلزات.

الصخور بحركة إما رأسية وإما أفقية.

الصفیحة: جزء من قشرة الأرض وأعلى الستار يتحرك ببطء فوق غلاف لدن.

الصفیحة الأرضية: قطعة من الغلاف الصخري تتحرك فوق الغلاف اللدن.

الطريقة العلمية: خطوات أو طريقة يتم اتباعها لحل المشكلات، وتختلف بحسب اختلاف المشكلات.

العدد الذري: عدد البروتونات في نواة ذرة العنصر، وهو الرقم العلوي في الجدول الدوري.

العدد الكتلي: مجموع عددي البروتونات والنيوترونات في نواة الذرة.

العلوم: طريقة لتعلم المزيد حول العالم الطبيعي.

العنصر: مادة طبيعية لا يمكن تجزئتها إلى مواد أصغر منها بالطرائق الاعتيادية، وله خواصه الخاصة، ويصنف بشكل عام إلى: فلز، وشبه فلز، ولا فلز.

الغلاف الصخري: طبقة سميكة من الأرض يبلغ سمكها حوالي ١٠ كم، تتكون من الجزء العلوي من الستار والقشرة.

غوص الصفائح: انثناء الصفیحة الأرضية الأكثر كثافة أسفل صفیحة أخرى أقل كثافة مما يؤدي إلى غوصها في الستار.

الفائدة الآلية: عدد المرات التي تضاعف أو تقلل

شبه الفلز: العنصر الذي له بعض خواص فلزية وأخرى لافلزية، ويوجد في الحالة الصلبة في درجة حرارة الغرفة.

الشغل: ينتج عندما تسبب القوة المؤثرة في جسم ما حركة في هذا الجسم في اتجاه القوة نفسها.

صخر: مادة تتكون من معدن واحد أو أكثر.

صخور رسوبية: أحد أنواع الصخور التي تتكون من تجمع الفتات الصخري والمعادن الذائبة وبقايا الكائنات الحية على شكل طبقات.

صخور غير متورقة: أحد أنواع الصخور المتحولة التي ليس لها بنية ورقية واضحة.

صخور متحولة: صخور جديدة تتكون عندما تتعرض الصخور السابقة إلى ارتفاع في الضغط أو في درجة الحرارة قبل الوصول إلى درجة الانصهار.

صخور متورقة: أحد أنواع الصخور المتحولة التي تتميز بسهولة طبقاتها المتتالية التي تشبه الأوراق، والترتيب الواضح للحبيبات المعدنية فيها.

صخور نارية: أحد أنواع الصخور التي تتكون نتيجة تبريد الصهارة وتصلبها على سطح الأرض أو في باطن الأرض.

الصخور النارية السطحية: صخور نارية لها بلورات صغيرة أو غير مرئية تتكون عندما تبرد مادة الصهارة بسرعة على سطح الأرض.

الصدوع: كسور في الصخور، تتحرك حولها

الكتلة: كمية المادة التي يحويها الجسم، وتقاس بوحدة كيلوجرام.

الكتلة الذرية: متوسط كتل النظائر للعنصر الواحد.

الكثافة: كتلة وحدة الحجم من المادة، ويمكن حسابها بقسمة كتلة الجسم على حجمه.

اللافلزات: عناصر توجد في الحالة الغازية أو الصلبة، وهي رديئة التوصيل للكهرباء والحرارة، وتمثل أساس كيمياء الحياة.

اللب الخارجي: أحد نطاقات الأرض، يقع فوق اللب الداخلي، ويكون في الحالة السائلة، ويتكون من الحديد والنيكل.

اللب الداخلي: أحد نطاقات الأرض، يقع في مركزها ويمثل الكتلة المركزية الصلبة في باطنها، وهو في الحالة الصلبة ويتكون من الحديد والنيكل، وهو أسخن جزء من الأرض، ويتعرض لأكثر قوى ضغط.

المادة: أي شيء له كتلة ويشغل حيزًا في الفراغ.

المتغير التابع: عامل يتغير بسبب تغير العامل المستقل.

المتغير المستقل: عامل يتم تغييره أثناء التجربة.

المخلوط: مادتين أو أكثر موجودتان معًا لا تتحدان كيميائيًا لتكوّنا مادة جديدة.

فيها الآلة، القوة المؤثرة فيها. أو النسبة بين القوة الناتجة إلى القوة المؤثرة.

الفرضية: تخمين منطقي، يمكن اختباره ويعتمد على ما هو معروف وما هو مُلاحظ.

الفلز: العنصر القابل للطرق والسحب، وهو موصل جيد للحرارة والكهرباء، وله لمعان وبريق فلزي بشكل عام.

قانون حفظ الكتلة: ينص على أن كتلة المواد المتفاعلة تساوي كتلة المواد الناتجة من التفاعل.

قانون حفظ المادة: ينص على أن المادة لا تفنى ولا تُستحدث -إلا بقدره الله تعالى-، ولكن تتغير من شكل إلى آخر.

القانون العلمي: القاعدة التي تصف ظاهرة في الطبيعة، ولكن لا تفسر سبب حدوث شيء ما.

القشرة: النطاق الخارجي للأرض يتكون من الصخور، ويعدّ أقلّ النطاقات سُمكًا، ويختلف سُمك القشرة؛ فيزيد تحت الجبال، ويقلّ أسفل المحيطات.

القصور الذاتي: ميل الجسم إلى مقاومة إحداث تغيير في حركته.

القوة: دفع أو سحب، وتقاس بوحدة نيوتن.

قوانين الحركة لنيوتن: مجموعة من القوانين طوّرها العالم إسحق نيوتن؛ لتوضيح كيف تؤثر القوى في حركة الأجسام.

النيوترون: جسيم متعادل الشحنة يوجد في النواة، اكتشفه العالم شادويك.

المركب: المادة التي تنتج عند اتحاد العناصر بعضها مع بعض، وتختلف في خواصها عن خواص العناصر المكونة لها.

المستوى المائل: سطح مائل أو منحدر.

المطر الحمضي: أحد أشكال التلوث، يحدث عندما تنطلق الغازات من حرق الوقود الأحفوري، وتتحد مع الماء لتشكّل المطر الحمضي.

المعدن: مادة صلبة غير عضوية موجودة في الطبيعة، لها ترتيب ذري منتظم، وتركيب بلوري واضح، وتركيب كيميائي محدد.


النسيج صخري: الشكل العام للصخر ويشمل: الحجم والشكل وطريقة الترتيب البلورات وحيبيات المعادن المكونة للصخر.

النظائر: ذرتان أو أكثر للعنصر نفسه لها نفس عدد البروتونات، لكنها تحتوي على عدد مختلف من النيوترونات في أنويتها.

النظرية العلمية: تفسير محتمل لظاهرة معينة ملاحظة في الطبيعة، مدعومة بالملاحظات، ونتيجة عن مجموعة استقصاءات.

النموذج: محاكاة لشيء أو لحدث ما، ويستخدم أداة لفهم العالم الطبيعي؛ حيث تساعد النماذج على تصور أو تخيل الأشياء التي يصعب رؤيتها.

النواة: توجد في مركز الذرة، وتمثل معظم كتلة الذرة، وتحتوي على البروتونات والنيوترونات.





حلول

الجلول اون لاين
h u l u l . o n l i n e

