

تم تحميل الملف
من موقع حلول



حلول
الحلول اون لاين

hulul.online

حلول الكتب - اختبارات الكترونية • مراجعات وتدريبات
والمزيد من الملفات التعليمية للمناهج السعودية



التَّقْوِيمُ المِیلَادِيّ

عَلَامٌ يَدُلُّ الشُّعَارُ الآتِيّ؟

المُضَاهِيْمُ الرِّئِيسِيَّةُ:
التَّقْوِيمُ المِیلَادِيّ

يدل على رؤية المملكة العربية
السعودية لعام ٢٠٣٠

رؤية VISION



المملكة العربية السعودية
KINGDOM OF SAUDI ARABIA

هَلِ التَّارِيخُ (٢٠٣٠) بِالتَّقْوِيمِ الهَجْرِيّ أَمْ المِیلَادِيّ؟

بالتقويم الميلادي

الحلول اون لاين
hulul.online

نشاط

لَمْ سُمِّيتِ السَّنَةُ المِیلَادِيَّةُ بِهَذَا الاسْمِ؟

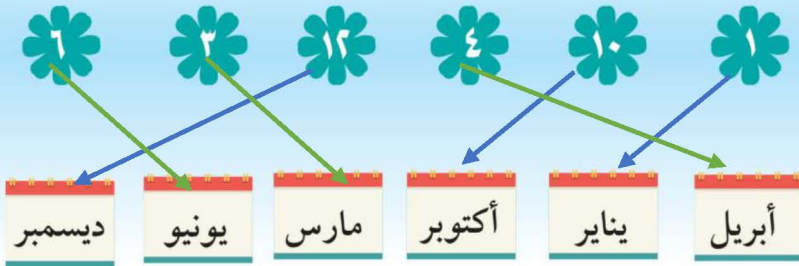
نسبة إلى ميلاد النبي عيسى عليه السلام

السنة الميلادية تتكون من اثني عشر شهراً، كما هي الشهور الهجرية

يَناير	فِبرَير	مَارس	إبريل
مايو	يُونيو	يُوليو	أغسطس
سبتمبر	أكتوبر	نوفمبر	ديسمبر



بالتعاون مع مجموعتك صلي بين الشهر الميلادي ورقم ترتيبه بين شهور السنة.



تُسَمَّى السَّنَةُ المِیْلَادِیَّةُ بِالسَّنَةِ الشَّمْسِیَّةِ لِأَنَّهَا تَدُلُّ عَلَى إِكْمَالِ الأَرْضِ
لِدَوْرَةٍ كَامِلَةٍ حَوْلَ الشَّمْسِ.



مَا أَوْجُهُ الشَّبَهُ وَالْأَخْتِلَافَ بَيْنَ السَّنَةِ المِیْلَادِیَّةِ وَالسَّنَةِ الهِجْرِیَّةِ



السَّنَةُ الهِجْرِیَّةُ

السَّنَةُ المِیْلَادِیَّةُ

الْأَخْتِلَافُ

الْأَخْتِلَافُ

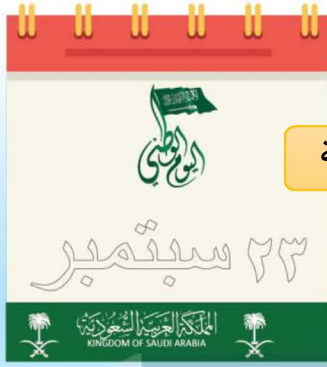
وَجْهُ الشَّبَهُ

نسبة إلى هجرة النبي
محمد عليه السلام
يكون الشهر فيها إما ٣٠
أو ٣١ يوماً

كلاهما إثنا عشر
شهرًا

نسبة إلى ميلاد المسيح
عيسى عليه السلام
يكون فيها الشهر إما ٣٠
أو ٣١ يوماً

ولكن الشهر الثاني من السنة الميلادية يكون ٢٨ يوماً كل ثلاث
سنوات أما في السنة الرابعة فيكون الشهر الثاني ٢٩ يومًا وتسمى
تلك السنة "السنة الكبيسة"

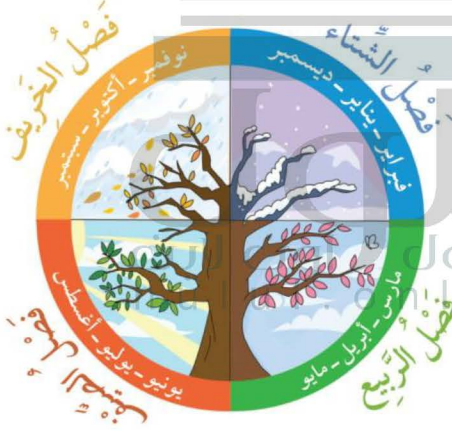


متروك للطالبة



اَفْرِي نَمَّ لَوْنِي تَارِيخَ الْيَوْمِ
الْوَطَنِيِّ السُّعُودِيِّ

تَوْزِيعُ الشُّهُورِ الْمِيلَادِيَّةِ
بَيْنَ الْفُصُولِ الْأَرْبَعَةِ



إذا لم تكن هناك فصول فهذا يعني أن لا وجود لمحور الأرض المائل وهذا معناه أن الشمس ستتركز على خط الاستواء وتزداد البرودة كلما ابتعدنا عنه إلى أن تتجمد المناطق البعيدة وسيجتمع الناس قرب خط الاستواء حيث أن درجات الحرارة لا تختلف بين يوم وآخر وسيعيشون كذلك في الجزء المداري حيث ستستمر الأمطار الغزيرة وتنجرف التربة وتصبح الزراعة صعبة ولن تنمو المحاصيل التي تعتمد على الفصول فتكثر المجاعة وتنتشر الأمراض بسبب الحشرات التي تأتي مع الأمطار فتكثر الوفيات إذاً لا حياة

ماذا يحدث لو لم يكن هناك تعاقب في فصول السنة
وضحي أثر ذلك علينا؟



هيا نمرح

ابحثي في التقويم عن الشهر الميلادي الحالي والشهر الذي يسبقه والذي يليه ثم دوّني إجابتك :

متروك للطالبة



متروك للطالبة

أكتبي الشهر الميلادي الذي وُلدت فيه

أكتبي اسم أول شهر من الشهور الميلادية:

يناير