



1

الجبر: الأنماط العددية والدوال



واجباتي

التهيئة

أوجد ناتج الجمع: (مهارة سابقة)

$$129 + 83$$

$$\begin{array}{r} 11 \\ 129 \\ + 83 \\ \hline 212 \end{array}$$

$$56 + 99$$

$$\begin{array}{r} 1 \\ 99 \\ + 56 \\ \hline 155 \end{array}$$

$$42 + 67$$

$$\begin{array}{r} 67 \\ 42 \\ + \\ \hline 109 \end{array}$$



$88 + 79$

$$\begin{array}{r} 88 \\ 79 + \\ \hline 167 \end{array}$$

$97 + 78$

$$\begin{array}{r} 97 \\ 78 + \\ \hline 175 \end{array}$$

$86 + 66$

$$\begin{array}{r} 1 \\ 86 \\ 66 + \\ \hline 152 \end{array}$$



أوجد ناتج الطرح: (مهارة سابقة)

$$7 - 43$$

$$\begin{array}{r} 3/13/ \\ 43 \\ - 7 \\ \hline 36 \end{array}$$

$$27 - 75$$

$$\begin{array}{r} 6/13/ \\ 75 \\ - 27 \\ \hline 48 \end{array}$$

$$34 - 128$$

$$\begin{array}{r} 9/12/ \\ 128 \\ - 34 \\ \hline 94 \end{array}$$



$$68 - 150$$

$$\begin{array}{r} 14 \\ 0/4/10 \\ 150 \\ \underline{68} \\ 82 \end{array}$$

$$76 - 102$$

$$\begin{array}{r} 9 \\ 0/10/12 \\ 102 \\ \underline{76} \\ 26 \end{array}$$

$$126 - 230$$

$$\begin{array}{r} 2/15 \\ 230 \\ \underline{126} \\ 109 \end{array}$$

واجباتي

شترى سلطانُ ثلاثةَ كتبٍ ثمنُها ٨٩ ريالاً .
إذا كانَ ثمنُ أحدِ الكتبِ ٢٤ ريالاً، وثمانُ كتابٍ آخرَ
٣١ ريالاً، فما ثمنُ الكتابِ الثالثِ؟



١٣

ثمان الكتاب الثالث = الكتب كلها - مجموع الاثنین الآخرين

$$\begin{array}{r} 31 \\ 24 + \\ \hline 55 \end{array} = \text{مجموع الاثنین الآخرين}$$

$$\begin{array}{r} 89 \\ 55 - \\ \hline 34 \end{array} \quad \text{ثمان الكتاب الثالث} = 34 \text{ ريالاً}$$



أوجد ناتج الضرب: (مهارة سابقة)

$$12 \times 25 \quad \text{٢٤}$$

$$\begin{array}{r} 1 \\ 25 \\ 12 \times \\ \hline 50 \\ 250 + \\ \hline 300 \end{array}$$

$$30 \times 18 \quad \text{٢٥}$$

$$\begin{array}{r} 30 \\ 18 \times \\ \hline 240 \\ 300 + \\ \hline 540 \end{array}$$

$$15 \times 42 \quad \text{٢٦}$$

$$\begin{array}{r} 42 \\ 15 \times \\ \hline 210 \\ 420 + \\ \hline 630 \end{array}$$



34×27 ١٧

$$\begin{array}{r} \overset{2}{34} \\ 27 \times \\ \hline \overset{1}{238} \\ 680 + \\ \hline 918 \end{array}$$

16×50 ١٨

$$\begin{array}{r} 50 \\ 16 \times \\ \hline 300 \\ 500 + \\ \hline 800 \end{array}$$

22×47 ١٩

$$\begin{array}{r} \overset{1}{47} \\ 22 \times \\ \hline 94 \\ \overset{1}{940} + \\ \hline 1034 \end{array}$$



أوجد ناتج القسمة: (مهارة سابقة)

$$9 \div 72$$

$$\begin{array}{r} 8 \\ 9 \overline{)72} \\ \underline{72} \\ 00 \end{array}$$

$$6 \div 84$$

$$\begin{array}{r} 14 \\ 6 \overline{)84} \\ \underline{6} \\ 24 \\ \underline{24} \\ 00 \end{array}$$

$$3 \div 126$$

$$\begin{array}{r} 42 \\ 3 \overline{)126} \\ \underline{12} \\ 006 \\ \underline{006} \\ 000 \end{array}$$



$$2 \div 146 \quad \text{٣٣}$$

$$\begin{array}{r} 73 \\ 2 \overline{)146} \\ \underline{14} \\ 006 \\ \underline{6} \\ 00 \end{array}$$

$$4 \div 208 \quad \text{٥٢}$$

$$\begin{array}{r} 52 \\ 4 \overline{)208} \\ \underline{20} \\ 08 \\ \underline{08} \\ 00 \end{array}$$


$$8 \div 504 \quad \text{٦٣}$$

$$\begin{array}{r} 63 \\ 8 \overline{)504} \\ \underline{48} \\ 24 \\ \underline{24} \\ 00 \end{array}$$

الخطوات الأربع لحل المسألة

استعد

حرف يدوية: تعمل سميرة ٨ قلادات باستعمال حبات الخرز. حيث يتطلب عمل القلادة الواحدة تكرار نمط حبات الخرز المبيّن أدناه أربع مرّات:



١ ما عدد كل من حبات الخرز البنفسجية والصفراء المُستعملة لعمل قلادة واحدة؟

عدد حبات الخرز البنفسجية = $4 \times 10 = 40$ حبة

عدد حبات الخرز الصفراء = $4 \times 4 = 16$ حبة



٢ ما عددُ كلِّ منُ حَبَاتِ الخرزِ البنفسجيةِ والصفراءِ لعملِ ثمانِي قِلاَداتٍ؟

٣٢٠ = ٤٠ × ٨ حبة خرز بنفسجية، ١٦ × ٨ = ١٢٨ حبة خرز صفراء.

٢ اشرح طريقة إيجاد عدد حبات الخرز لكل لون لعمل ثمانِي قِلاَداتٍ.

احسب عدد حبات الخرز من كل لون في النمط المبين، ثم أضرب الناتج في ٤ لإيجاد عدد حبات الخرز من كل لون في القلادة الواحدة. وأخيرا اضرب الناتج الأخير في العدد ٨ لإيجاد العدد الكلي لحبات الخرز في الثمانِي قِلاَداتٍ.



(أ) كرة سلة: بناءً على ما ورد في الجدول السابق، إذا كان عدد الرميات الناجحة لنواف هو ٣ أمثال عدد الرميات الناجحة لسليمان، فما عدد رميات نواف الناجحة؟



ما معطيات المسألة؟

جدول نتائج رميات كرة السلة للأصدقاء الستة.

عدد الرميات الناجحة لنواف هو ٣ أمثال عدد الرميات الناجحة لسليمان.

المطلوب: كم عدد رميات نواف الناجحة؟



لإيجاد عدد الرميات لنواف اضرب ٣ في ٢٥.



$$٧٥ = ٢٥ \times ٣ \text{ رمية.}$$



$$٢٥ = ٣ \div ٧٥$$

واجباتي

ب) حلبة سباق: اشترك سالم في فريق الجري. والجدول الآتي يوضح عدد الكيلومترات التي قطعها في أول أربعة أيام من التدريب. فإذا استمر سالم على هذا النمط، فكم كيلومتراً يقطع في يوم الخميس؟

اليوم	الأحد	الاثنين	الثلاثاء	الأربعاء	الخميس
المسافة بالكيلومترات	٢	٤	٧	١١	



ما معطيات المسألة؟

جدول على نمط معين، يوضح عدد الكيلومترات التي قطعها سالم في أول أربعة أيام من التدريب.

المطلوب: إذا استمر سالم على هذا النمط، فكم كيلومتراً يقطع في يوم الأربعاء؟



استعمل الحساب الذهني.



٢ ، ٤ ، ٧ ، ١١ ، ١٦

٢ + ٣ + ٤ + ٥



١٦ - ٥ = ١١ ، ١١ - ٤ = ٧

٧ - ٣ = ٤ ، ٤ - ٢ = ٢



واجباتي

تأكد

١ **دببة:** تبلغ كتلة ذكر الدبّ البنيّ ٦٢٥ كجم تقريباً، وكتلة أنثاه ٢٨٥ كجم تقريباً. فكم كيلوجراماً تقلُّ كتلة أنثى الدبّ البنيّ عن كتلة الذكر؟

افهم

ما معطيات المسألة؟

كتلة ذكر الدب البني ٦٢٥ كجم تقريباً.

وكتلة أنثاه ٢٨٥ كجم تقريباً.

المطلوب: كم تقل كتلة أنثى الدب البني عن كتلة الذكر؟

خطط

لإيجاد الفرق، اطرح ٢٨٥ من ٦٢٥

حل

$$٦٢٥ - ٢٨٥ = ٣٤٠ \text{ كجم.}$$

تحقق

$$٦٢٥ = ٣٤٠ + ٢٨٥$$

واجباتي

المثال ٢

١ مسيح: يوضِّح الجدولُ أدناه كميةَ الماءِ التي تَمَلأُ مسبِّحًا بعدَ أوقاتٍ مختلفةٍ. فإذا استمرَّ هذا النمطُ، فأوجدُ كميةَ الماءِ التي تَمَلأُ المسبِّحَ بعدَ ٣٠ دقيقةً.

٣٠	٢٥	٢٠	١٥	١٠	٥	الزمن (بالدقائق)
		١٢٠٠	٩٠٠	٦٠٠	٣٠٠	كمية الماء (باللترات)



ما معطيات المسألة؟

جدول يوضح كمية الماء التي تملأ بركة بعد أوقات مختلفة.
المطلوب: أوجد كمية الماء التي تملأ البركة بعد ٣٠ دقيقة.



المسألة تحتوي على نمط، أستعمل الحساب الذهني.



٣٠	٢٥	٢٠	١٥	١٠	٥	الزمن بالدقائق
١٨٠٠	١٥٠٠	١٢٠٠	٩٠٠	٦٠٠	٣٠٠	كمية الماء (باللترات)

بجمع ٣٠٠ في كل مرة



$$١٥٠٠ = ٣٠٠ - ١٨٠٠$$

$$١٢٠٠ = ٣٠٠ - ١٥٠٠$$

تدرب وحل المسائل:

استعمل الخطوات الأربع لحل كل من المسائل (٣ - ٨) الآتية:

٢ **أنهار:** يُعدُّ نهر النيل أطول أنهار العالم؛ حيث يبلغ طوله ٦٦٥٠ كم، بينما يُعدُّ نهر الفولجا أطول نهر في أوروبا، حيث يبلغ طوله ٣٦٩٠ كم. فكم يزيد طول نهر النيل على طول نهر الفولجا؟

افهم

ما معطيات المسألة؟

أطول أنهار العالم نهر النيل وطوله ٦٦٥٠ كم.

وأطول نهر في أوروبا نهر الفولجا وطوله ٣٦٩٠ كم.

المطلوب: كم يزيد طول نهر النيل على نهر الفولجا؟

خطط

لإيجاد الفرق اطرح ٣٦٩٠ من ٦٦٥٠

حل

$$٦٦٥٠ - ٣٦٩٠ = ٢٩٦٠ \text{ كلم.}$$

تحقق

$$٦٦٥٠ = ٣٦٩٠ + ٢٩٦٠$$

واجباتي

٤ تحليل تمثيلات بيانية : بناءً على التمثيل أدناه، بكم يزيد عدد الأشخاص الذين يستعملون شبكة الإنترنت في قارة أوروبا على عدد الذين يستعملونها في قارة إفريقيا؟



المصدر: intrnet world stats

ما معطيات المسألة؟

افهم

جدول يوضح مستعملو الإنترنت في قارات العالم.

المطلوب: بكم يزيد عدد الأشخاص الذين يستعملونها في قارة أوروبا عن قارة إفريقيا؟

خطط

لإيجاد الفرق اطرح ٤٢ من ٣١٥.

حل

$315 - 42 = 273$ مليون شخص.

تحقق

$315 = 42 + 273$

واجباتي

٥ أنماط: أكمل النمط: ٥، ١١، ١٧، ٢٣، ، ، ،

افهم

ما معطيات المسألة؟

نمط من الأعداد

المطلوب: أكمل هذا النمط.

خطط

المسألة تحتوي على نمط، أستعمل الحساب الذهني.

حل



٤١، ٣٥، ٢٩، ٢٣، ١٧، ١١، ٥

تحقق

وهكذا $٢٩ = ٦ - ٣٥$ ، $٣٥ = ٦ - ٤١$

واجباتي

١ صحة: كانت مواعيد أول خمسة مراجعين لطبيب الأسنان في فترة الصباح هي:
٧:٤٠، ٨:١٠، ٨:٤٠، ٩:١٠، ٩:٤٠ صباحاً. فإذا استمر هذا النمط، فأوجد مواعيد
المراجعين الثلاثة التاليين.

افهم

ما معطيات المسألة؟

مواعيد اول خمسة مراجعين لطبيب الأسنان في فترة الصباح هي

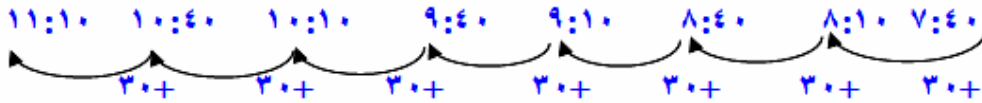
٧:٤٠ ، ٨:١٠ ، ٨:٤٠ ، ٩:١٠ ، ٩:٤٠ صباحاً

المطلوب: إذا استمر هذا النمط فأوجد مواعيد المراجعين الثلاثة التاليين.

خطط

المسألة تحتوي على نمط، أستعمل الحساب الذهني.

حل



٧:٤٠ ، ٨:١٠ ، ٨:٤٠ ، ٩:١٠ ، ٩:٤٠ ، ١٠:١٠ ، ١٠:٤٠ ، ١١:١٠ صباحاً

بإضافة ٣٠ دقيقة في كل مرة.

تحقق

١١:١٠ + ٣٠ دقيقة = ١٠:٤٠ وهكذا.

واجباتي

٧ **نقود:** اشترى سعيدُ سيارةً جديدةً، على أن يدفعَ ثمنها على أقساطٍ شهريةٍ مدّة ٤ سنواتٍ. فإذا كانَ القسطُ الشهريُّ ٩٥٠ ريالاً، فأوجدْ ثمنَ السيارة.

افهم

ما معطيات المسألة؟

اشترى سعد سيارة على أن يدفع ثمنها بأقساط شهرية لمدة ٤ سنوات.

القسط الشهري ٩٥٠ ريالاً.

المطلوب: أوجد ثمن السيارة.

خطط

لإيجاد ثمن السيارة اضرب القسط الشهري في عدد الشهور.

حل

عدد الشهور = $4 \times 12 = 48$ شهراً.

ثمن السيارة = $48 \times 950 = 45600$ ريالاً.

تحقق

$950 = 48 \div 45600$ ريال.

واجباتي

مشي: يستعمل بلال مقياساً ليجد عدد الخطوات التي يمشيها من بيته إلى مدرسته. فإذا كان يمشي إلى مدرسته يومياً ١٦٦٠ خطوة (ذهاباً وإياباً) ، فكم خطوة تقريباً يمشيها في الأسبوع كله؟

افهم

ما معطيات المسألة؟

يستعمل بلال مقياساً ليجد عدد الخطوات التي يمشيها إلى مدرسته .
ويمشي إلى مدرسته يومياً ١٦٦٠ خطوة (ذهاباً وإياباً)
المطلوب: كم خطوه تقريباً يمشيها في الأسبوع؟

خطط

لإيجاد عدد الخطوات اضرب عدد الخطوات في ٥

حل

$$٨٣٠٠ = ٥ \times ١٦٦٠ \text{ خطوة.}$$

تحقق

$$١٦٦٠ = ٥ \div ٨٣٠٠$$



واجباتي

مسائل مهارات التفكير العليا:

كمل النمط: ٣ ، ٣ ، ٦ ، ١٨ ، ٧٢ ، ٣٦٠

تحل:



عند استعمالك الخطوات الأربع لحل المسألة، لماذا تقارنُ جوابك

اكتب:

بتقديرك له.

تقارن الإجابة مع التقدير لتحديد معقولية الإجابة.

تدريب على اختبار

11 يستطيع وليد أن يسبح ٨ أشواط في ٤ دقائق. إذا استمر بهذا المعدل في السباحة، فكم دقيقة يحتاج لسباحة ٤٠ شوطاً؟

(أ) ٢٤ دقيقة

(ب) ٢٠ دقيقة

(ج) ١٥ دقيقة

(د) ١٠ دقائق

$$٤٠ = ؟ \times ٨ \quad \leftarrow \quad ٤٠ = ٥ \times ٨$$

$$٢٠ = ٥ \times ٤ \quad \text{دقيقة.}$$



٢٢ أوجد الأعداد الثلاثة التالية في النمط أدناه:

.....،.....،.....،٣٣،٤١،٤٩،٥٧

٩،١٧،٢٥ (أ)

١٠،١٨،٢٦ (ب)

١١،١٨،٢٥ (ج)

٨،١١،٢٦ (د)

الاختيار الصحيح (ج) ١١،١٨،٢٥



مهارة سابقة : اقسّم كلاً ممّا يأتي :

$$3 \div 42 \quad \text{١٣}$$

$$\begin{array}{r} 14 \\ 3 \overline{)42} \\ \underline{3} \\ 12 \\ \underline{12} \\ 00 \end{array}$$



$$6 \div 126 \text{ (13)}$$

$$\begin{array}{r} 21 \\ 6 \overline{)126} \\ \underline{12} \\ 6 \\ \underline{6} \\ 0 \end{array}$$

$$7 \div 49 \text{ (7)}$$

$$7 = 7 \div 49$$

$$2 \div 118 \text{ (59)}$$

$$\begin{array}{r} 59 \\ 2 \overline{)118} \\ \underline{10} \\ 18 \\ \underline{18} \\ 00 \end{array}$$



١ ما عدد المربعات التي تحتاج إليها لتكوين أكثر من مستطيل؟

٤، ٦، ٨، ١٠، ٩، ١٢، ١٤، ١٥، ١٦، ١٨

٢ ما عدد المربعات التي تحتاج إليها لتكوين مستطيل واحد فقط؟

١، ٢، ٣، ٥، ٧، ١١، ١٣، ١٧، ١٩

٣ ماذا تلاحظ على بُعدي المستطيل الواحد الذي يمكن تكوينه من المربعات؟

بعدا المستطيل هما ١ و عدد المربعات التي يمكن تشكيل المستطيل منها.



صنّف كلّ عددٍ فيما يأتي إلى أوليّ، أو غير أوليّ:

(i) ٢٨

عوامل العدد ٢٨ هي ١، ٤، ٧، ٢، ١٤، ٢٨ بما أن العدد له أكثر من عاملين فهو عدد (مؤلف).

(ب) ١١

عوامل العدد ١١ هو ١، ١١، بما أن العدد له عاملان فقط، فهو عدد أولي.

(ج) ٨١

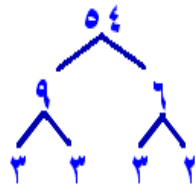
عوامل العدد ٨١ هي ١، ٣، ٢٧، ٩، ٨١ بما أن العدد له أكثر من عاملين فهو عدد (مؤلف).



حلّ كلاً من العددين الآتيين إلى عوامله الأولية:

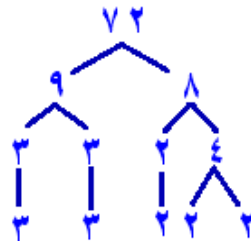
د) ٥٤

$$2 \times 3 \times 2 \times 2 \times 2$$



هـ) ٧٢

$$2 \times 3 \times 2 \times 2 \times 2$$





تأكد

المثالان ٢،١ صنف كل عدد فيما يأتي إلى أولي، أو غير أولي، أو غير ذلك:

١٠ ١

عوامل العدد ١٠ هي ١، ٢، ٥، ١٠ بما أن العدد له أكثر من عاملين فهو عدد (مؤلف).

٣ ٢

عوامل العدد ٣ هو ١، ٣، العدد ٣ له عاملان فقط، فهو عدد أولي.

١ ٣

العدد ١ له عامل واحد فقط فهو لا أولي ولا مؤلف.

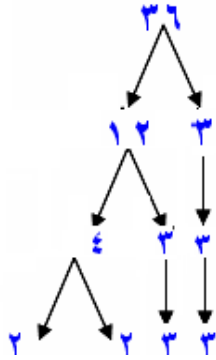
٦١ ٤

عوامل العدد ٦١ هو ١، ٦١، بما أن العدد ٦١ له عاملان فقط، فهو عدد أولي.



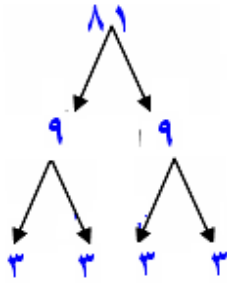
المثال ٣ حلّل كل عدد فيما يأتي إلى عوامله الأولية:

٣٦



$$2 \times 2 \times 3 \times 3$$

٨١



$$3 \times 3 \times 3 \times 3$$

٦٥

$$5 \times 13$$



١٩

١٩

الدُّولُ العَرَبِيَّةُ : يبلغُ عددُ الدولِ الأعضاء في
جامعةِ الدولِ العَرَبِيَّةِ ٢٢ دولةً. اكتبِ العددَ ٢٢ في
صورةٍ حاصلٍ ضربٍ عوامله الأوليَّةِ.

١١ × ٢

تدرب وحل المسائل:

صنّف كلّ عددٍ فيما يأتي إلى أوّلِيّ، أو غير أوّلِيّ، أو غير ذلك:

- | | | | |
|--|--|--|--|
| ٤٤  | ١٥  | صفر  | ١٧  |
| ٢٩  | ٤٥  | ٥٧  | ٢٣  |
| ٣١  | ٥٣  | ٩٣  | ٥٦  |

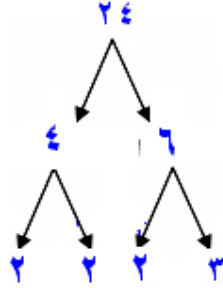
١٥ مؤلف	صفر غير ذلك	١٧ أوّلي
٥٧ مؤلف	٢٣ أوّلي	٤٤ مؤلف
٥٦ مؤلف	٢٩ أوّلي	٤٥ مؤلف
٣١ أوّلي	٥٣ أوّلي	٩٣ مؤلف



واجباتي

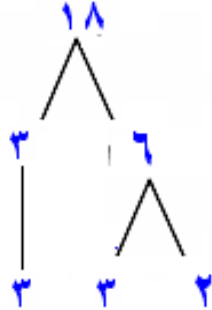
حلّل كل عدد فيما يأتي إلى عوامله الأولية:

٢٤



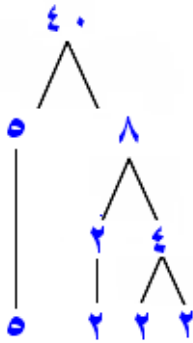
$$2 \times 2 \times 2 \times 3$$

١٨



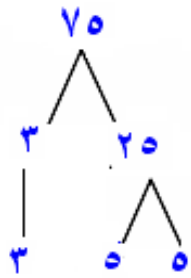
$$2 \times 3 \times 3$$

٤٠



$$2 \times 2 \times 2 \times 5$$

واجباتي



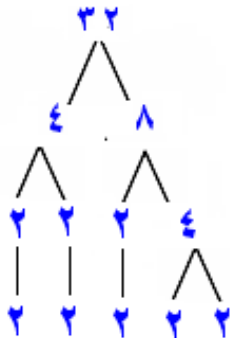
70 

$$5 \times 5 \times 2$$



27 

$$3 \times 3 \times 3$$



32 

$$2 \times 2 \times 2 \times 2 \times 2$$

واجباتي 

٤٩ 

7×7


٢٥ 

5×5

٤٢ 



$7 \times 3 \times 2$

١٠٤ 



$13 \times 2 \times 2 \times 2$


٥٥ 

$$11 \times 5$$

٧٧ 

$$11 \times 7$$

تحليل الجداول لحلّ التمارين ٣٥-٣٨، استعمل الجدول أدناه الذي يمثّل طول القطر التقريبيّ بالآلاف الكيلومترات لكلّ كوكب في المجموعة الشمسية:

أيّ الأطوال لها ثلاثة عوامل أولية؟ 

طول القطر التقريبي (بالآلاف الكيلومترات)	الكوكب	طول القطر التقريبي (بالآلاف الكيلومترات)	الكوكب
١٤٣	المشتري	٤	عطارد
١٢١	زحل	١٢	الزهرة
٥١	أورانوس	١٣	الأرض
٤٩	نبتون	٧	المريخ

١٢



واجباتي

٣٥ أيُّ الأطوالِ عواملُها الأوليةُ متماثلةٌ؟

١٢١، ٤٩، ٤

٣٦ أيُّ الكواكبِ يمثلُ طولُ قُطرِهِ عددًا أوليًا؟

الأرض، المريخ، المشترى

٣٧ اذكرْ طولَي قُطْرَيْ كوكبينِ لهُما عاملانِ أوليانِ مشتركانِ.

١٢، ٤

٣٨ **ورودٌ** : نسقتُ نورةً عددًا من باقاتِ الوردِ، كلُّ منها يحوي على العدد نفسه من الوردِ. فإذا كان عددُ الوردِ التي نسقتها ٢٠ وردةً، فأوجدُ ثلاثَ طرائقَ للتعبيرِ عن عددِ الباقاتِ وعددِ الوردِ في كلِّ باقةٍ.

باقتان في كل منهما ١٠ وردات،

٤ باقات في كل منها ٥ وردات،

٥ باقات في كل منها ٤ وردات.



صنّف كلّ عددٍ فيما يأتي إلى أوّلِيّ، أو غير أوّلِيّ، أو غير ذلك:

١٢٥

عوامل العدد ١٢٥ هي ١، ٥، ٢٥، ١٢٥ بما أن العدد له أكثر من عاملين فهو عدد (مؤلف).

١١٤

عوامل العدد ١١٤ هي ١، ٢، ٥٧، ٣، ٣٨، ٦، ١٩، ١١٤ بما أن العدد له أكثر من عاملين فهو عدد (مؤلف).

١٧٩

عوامل العدد ١٧٩ هو ١، ١٧٩، العدد ١٧٩ له عاملان فقط، فهو عدد أولي.

٢٩١

عوامل العدد ٢٩١ هو ١، ٣، ٩٧، ٢٩١ العدد ٢٩١ له أكثر من عاملين، فهو مؤلف.

مسائل مهارات التفكير العليا:

٤٣ **مسألة مفتوحة:** اختر عددين أوليين، كلٌّ منهما أكبر من ٥٠ وأصغر من ١٠٠

تختلف الإجابات، إلا أنها يجب أن تتضمن عددين مما يأتي:

٥٣، ٥٩، ٦١، ٦٧، ٧١، ٧٣، ٧٩، ٨٣، ٨٩، ٩٧.

٤٤ **نبراز:** يمكن التعبير عن جميع الأعداد الفردية الأكبر من ٧ في صورة مجموع ثلاثة أعداد أولية. فما الأعداد الثلاثة الأولية التي مجموعها ٥٩؟ علّل إجابتك.

٢٩، ٢٣، ٧

$$٥٩ = ٢٩ + ٢٣ + ٧$$

٤٥ **الحس العددي:** العددان الأوليان التوأمان هما: عددان أوليان فرديان صحيحان

ومتتاليان؛ مثل: ٣ و ٥، ٥ و ٧، ١١ و ١٣. أوجد جميع التوائم الأصغر من ١٠٠

٣ و ٥، ٥ و ٧، ١١ و ١٣، ١٧ و ١٩، ٢٩ و ٣١، ٤١ و ٤٣، ٥٩ و ٦١،

٧١ و ٧٣.



نُخذ: المثال المضادُّ هو: مثالٌ يبيِّنُ خطأً عبارةً مُعطاةً. أوجدُ مثالاً مضادًّا للعبارة الآتية، مع تفسير ذلك: "جميعُ الأعدادِ الزوجيةِ أعدادٌ غيرُ أوليةٍ".

٢؛ عدد أولي لأن له عاملين أوليين فقط، هما ١ و العدد نفسه.

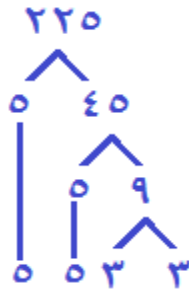
كيفَ تعرفُ أنَّ عددًا ما أوليُّ؟



يكون العدد أولياً إذا كان له عاملان فقط. هما: ١، العدد نفسه.

تدريب على اختبار

٤٨ أي مما يأتي يعبر عن تحليل العدد ٢٢٥ إلى عوامله الأولية؟



(أ) $5 \times 5 \times 3 \times 2$

(ب) $5 \times 5 \times 3 \times 3 \times 3$

(ج) $5 \times 5 \times 3 \times 3$

(د) $7 \times 5 \times 5 \times 3$

٤٩ أي مما يأتي عدد أولي؟

(أ) ٣٥

(ب) ١٥

(ج) ٦٤

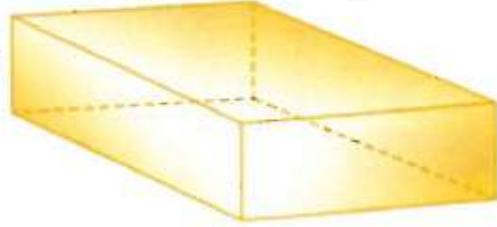
(د) ٢٩

الاختيار الصحيح (ب) ٢٩

واجباتي

٥٠ إذا كان حجم متوازي المستطيلات يساوي الطول \times العرض \times الارتفاع. أي مما يأتي يمثل أبعاد متوازي المستطيلات أدناه؟

الحجم = ٧٥ سم^٣



(أ) ٢ سم \times ٦ سم \times ٦ سم

(ب) ٣ سم \times ٥ سم \times ٧ سم

(ج) ٥ سم \times ٥ سم \times ٧ سم

(د) ٣ سم \times ٥ سم \times ٥ سم

الاختيار الصحيح (د) ٣ سم \times ٥ سم \times ٥ سم

مراجعة تراكمية

٥١ الأنماط: أكمل النمط: ٥، ٧، ١٠، ١٤، ١٩،

٥ \leftarrow ٢+ \leftarrow ٧ \leftarrow ٣+ \leftarrow ١٠ \leftarrow ٤+ \leftarrow ١٤ \leftarrow ٥+ \leftarrow ١٩ \leftarrow ٦+ \leftarrow ٢٥

٥١ **سفر:** سافر بدر وعائلته بالسيارة من الرياض إلى المدينة المنورة. مسافة ٨٤٠ كلم، فسار بمعدل ١٠٥ كلم/ ساعة. إذا كان قد توقّف مدة ساعة واحدة في أثناء الرحلة للاستراحة، فكم ساعة استغرقت الرحلة للوصول إلى المدينة المنورة؟ (الدرس ١-١)

الوقت المفترض للوصول = $840 \div 105 = 8$ ساعات

الوقت الحقيقي بعد التوقف = $1 + 8 = 9$ ساعات



واجباتي

الإستعداد

للدروس اللاحق

مهارة سابقة: أوجد ناتج ضرب كل مما يأتي:

$$2 \times 2 \times 2 \quad ٥٣$$

$$8 = 2 \times 2 \times 2$$

$$5 \times 5 \quad ٥٤$$

$$25 = 5 \times 5$$

$$4 \times 4 \times 4 \quad ٥٥$$

$$64 = 4 \times 4 \times 4$$

$$10 \times 10 \times 10 \quad ٥٦$$

$$1000 = 10 \times 10 \times 10$$

القوى والأسس

نشاط

يمكنُ كتابةُ كلِّ عددٍ في صورةٍ حاصلِ ضربِ عواملٍ أوليةٍ:



اطوِ ورقةً علي خطِّ المنتصفِ، ثمَّ اعملِ فيها ثقبًا واحدًا. افتحِ الورقةَ وعدِّ الثقوبَ التي فيها. ثمَّ ارسمْ جدولًا علي النحو الآتي، وسجِّلِ النتائج التي حصلتَ عليها.

الخطوة ١

التحليل إلى العوامل الأولية	عدد الثقوب	عدد الطيّات
		١
		⋮
		٥

حلِّ عددَ الثقوبِ إلى عوامله الأولية، وسجِّلِ النتائجِ في الجدولِ.
اطوِ ورقةً أخرى علي خطِّ المنتصفِ مرتين، ثمَّ اعملِ ثقبًا واحدًا بعد ذلك، وأكملِ الجدولَ للطَّيَّتين.
أكملِ الجدولَ عندما يكونُ عددُ مرّاتِ الطيِّ: ٣، ٤، ٥ طيَّاتٍ.

الخطوة ٢

الخطوة ٣

الخطوة ٤



١ ما العوامل الأولية التي سجلتها؟

٢ مكرراً.

٢ ما العلاقة بين عدد مرات طي الورقة وعدد العوامل في تحليل عدد الثقوب إلى عوامله الأولية؟

عدد مرات الطي يساوي عدد العوامل الأولية في تحليل عدد الثقوب.

٣ اكتب تحليل عدد الثقوب إلى عوامله الأولية عند طي الورقة ثماني مرات؟

$$2 \times 2 \times 2 \times 2 \times 2 \times 2 \times 2 \times 2$$



اكتب كلاً من نواتج الضرب الآتية باستعمال الأسس:

$$6 \times 6 \times 6 \times 6 \text{ (أ)}$$

٤٦

$$10 \times 10 \times 10 \times 10 \times 10 \text{ (ب)}$$

٥١٠



واجباتي

اكتب القوتين الآتيتين في صورة حاصل ضرب العامل في نفسه، ثم أوجد قيمة ذلك:

ج) 2^3

$$8 = 2 \times 2 \times 2$$

د) 8^2

$$64 = 8 \times 8$$

هـ) **مسافات:** تبلغ المسافة بين مدينتي مكة المكرمة وجدة 10^2 كلم تقريباً. فما قيمة 10^2 ؟

$$100 = 10 \times 10 = 10^2$$



واجباتي

و) اختبارات: يتضمّنُ أحدُ اختباراتِ الاختيارِ مِنْ متعدّدِ ٧ أسئلةٍ، لكلِّ سؤالٍ مِنْهَا ٤ بدائلٍ. وعليه فهناك ٧٤ طريقةً للإجابة عن الاختبار. فما قيمة ٧٤؟

$$16384 = 4 \times 4 \times 4 \times 4 \times 4 \times 4 \times 4 = 4^7$$

حلّ كلِّ عددٍ مِنَ الأعدادِ الآتيةِ إلى عواملِهِ الأوليةِ مُستعملًا الأسسَ:

٢٤ (ب)

$$3 \times 2^2 = 3 \times 2 \times 2 = 3 \times 4 =$$

٤٥ (ج)

$$5 \times 3^2 = 5 \times 3 \times 3 = 5 \times 9 =$$

١٢٠ (ط)

$$5 \times 3 \times 2^2 = 5 \times 3 \times 2 \times 2 =$$



تأكد

المثال ١ اكتب كلاً من نواتج الضرب الآتية باستعمال الأسس:

$$2 \times 2 \times 2 \times 2 \quad \text{①}$$

$$= 2^4$$

$$6 \times 6 \times 6 \quad \text{②}$$

$$= 6^3$$

المثال ٢ اكتب كلاً من القوتين الآتيتين في صورة حاصل ضرب العامل في نفسه، ثم أوجد قيمة ذلك:

$$6^2 \quad \text{③}$$

$$6^2 = 2 \times 2 \times 2 \times 2 \times 2 \times 2 = 2^6$$

$$7^3 \quad \text{④}$$

$$2187 = 3 \times 3 \times 3 \times 3 \times 3 \times 3 \times 3 = 3^7$$



واجباتي

المثال ٣ ٥ حيوانات: إذا علمت أنه يوجد 3^5 نوعاً من القردة تقريباً تعيش على سطح الأرض.
فما عدد أنواع القردة تقريباً؟

$$243 = 3 \times 3 \times 3 \times 3 \times 3 = 3^5$$

١ سكان: يسكن مدينة القريات 10^5 نسمة تقريباً. فما العدد التقريبي لسكان مدينة القريات؟

$$100000 = 10 \times 10 \times 10 \times 10 \times 10 = 10^5$$



الأمثلة ٤-٦ حلُّ كلِّ عددٍ من الأعداد الآتية إلى عوامله الأولية مُستعملًا الأسس:

٢٠

$$5 \times 2^2 = 5 \times 2 \times 2$$

٤٨

$$3 \times 2^4 = 3 \times 2 \times 2 \times 2 \times 2$$

٩٠

$$5 \times 2 \times 3^2 = 5 \times 3 \times 3 \times 2$$

تدرب وحل المسائل:



اكتب كلاً من نواتج الضرب الآتية باستعمال الأس:

$$9 \times 9$$

٨١

$$8 \times 8 \times 8 \times 8$$

٤٨

$$3 \times 3 \times 3 \times 3 \times 3 \times 3$$

٦٣

$$5 \times 5 \times 5 \times 5 \times 5$$

٥



واجباتي

اكتب كل قوة من القوى الآتية في صورة حاصل ضرب العامل في نفسه، ثم أوجد قيمة ذلك:

$$310 \quad 14$$

$$1000 = 10 \times 10 \times 10$$

$$23 \quad 15$$

$$9 = 3 \times 3$$

$$40 \quad 16$$

$$625 = 5 \times 5 \times 5 \times 5$$

$$8^5 \quad 17$$

$$32768 = 8 \times 8 \times 8 \times 8 \times 8$$



٣٩

$$٧٢٩ = ٩ \times ٩ \times ٩$$

٥٦

$$٧٧٧٦ = ٦ \times ٦ \times ٦ \times ٦ \times ٦$$

١١٠

$$١٠ = ١٠$$

٧١

$$١ = ١ \times ١ \times ١ \times ١ \times ١ \times ١ \times ١$$



٢٢ طعام: تحتوي فطيرتان على ٣٤ سعرًا حراريًا. فما العدد الذي تمثله القوة ٣٤ ؟

$$٦٤ = ٣٤$$

٢٣ أنياب: تبلغ أكبر كتلة لناب الفيل الإفريقي ٧٢ كجم تقريبًا، فما العدد الذي تمثله تلك الكتلة؟

$$١٢٨ = ٧٢ \text{ كجم}$$

حلّل كل عدد من الأعداد الآتية إلى عوامله الأولية مستعملًا الأسس:

٢٥ ٢٤

$$٢٥ = ٥ \times ٥$$

٥٦ ٢٥

$$٧ \times ٢^٢ = ٧ \times ٢ \times ٢ \times ٢$$

واجباتي 

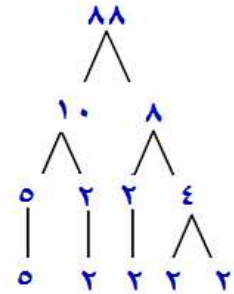
٥٠ 

$$20 \times 2 = 5 \times 5 \times 2$$

٦٨ 

$$17 \times 22 = 17 \times 2 \times 2$$

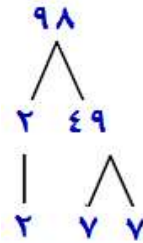
٨٨ 



$$5 \times 2 \times 2 \times 2 \times 2 = 88$$


$$5 \times 2^4 =$$

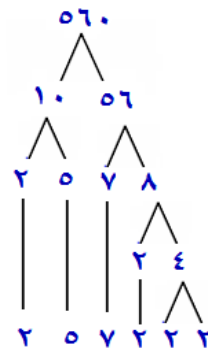
٩٨ 



$$2 \times 7 \times 7 = 98$$

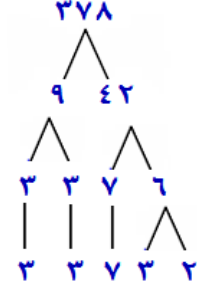
$$2 \times 7^2 =$$

٥٦٠ 



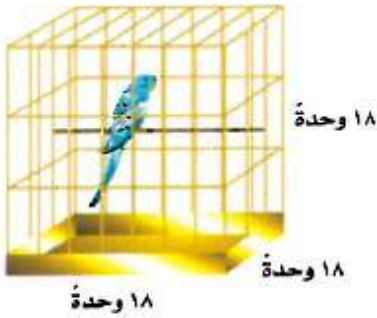
$$7 \times 5 \times 2 \times 2 \times 2 \times 2 = 560$$

$$7 \times 5 \times 2^4 =$$



$$7 \times 3 \times 3 \times 3 \times 2 = 378$$

$$7 \times 3^3 \times 2 =$$



٣١ **طيور:** لإيجاد مقدار الفراغ في قفص العصفور المكعب الشكل، نجد مكعب طول أحد أضلاع القفص. عبّر عن مقدار الفراغ في قفص العصفور المجاور باستعمال الأسس، ثم أوجد قيمة ذلك.

$$\text{مقدار الفراغ} = 18^3 = 18 \times 18 \times 18$$

$$= 5832 \text{ وحدة مكعبة.}$$



واجباتي

اكتب كل قوة من القوى الآتية في صورة حاصل ضرب العامل في نفسه، ثم أوجد قيمة ذلك:

٧ تربيع. Ⓜ

$$49 = 7 \times 7$$

٨ تكعيب. Ⓜ

$$512 = 8 \times 8 \times 8$$

القوة الخامسة للعدد ٤ Ⓜ

$$1024 = 4 \times 4 \times 4 \times 4 \times 4$$



واجباتي

٣٦ **بستنة:** زرع عبد العزيز ٦ صفوف من أشجار النخيل في حديقته، في كل صف منها ٦ أشجار، ما مجموع الأشجار التي زرعها عبد العزيز في حديقته؟ اكتب عدد الأشجار باستخدام الأسس، ثم أوجد قيمة ذلك.

$$\text{عدد الأشجار} = 6^2$$

$$= 36 \text{ شجرة}$$

٣٧ **هوايات:** تُعدُّ هواية التطريز من الهوايات المحببة لدى خديجة، وقد قامت بتطريز شالها برسم ٢٠ مربعاً، كل مربع منها يتكون من ٢٠ صفًا، وفي كل صف ٢٠ غرزة. اكتب عدد الغرز الموجودة في هذا الشال باستخدام الأسس، ثم أوجد قيمة ذلك.

$$20 \text{ مربعا} \times 20 \text{ صف} \times 20 \text{ غرزة} = 20^3 = 8000$$

$$\text{عدد الغرز} = 8000 \text{ غرزة.}$$

مسائل مهارات التفكير العليا:

استعمل الجدول المجاور لحلّ الأسئلة (٣٨-٤٠).

تحذ:

٣٨ صِفْ نمطَ قُوى العددِ ٣، ثمَّ أوجدْ قيمةَ ٠٣

قُوى العددِ ٣	قُوى العددِ ٥	قُوى العددِ ١٠
$٨١ = ٤٣$	$٦٢٥ = ٤٥$	$١٠٠٠٠ = ٤١٠$
$٢٧ = ٣٣$	$١٢٥ = ٣٥$	$١٠٠٠ = ٣١٠$
$٩ = ٢٣$	$٢٥ = ٢٥$	$١٠٠ = ٢١٠$
$٣ = ١٣$	$٥ = ١٥$	$١٠ = ١٠$
$١ = ٠٣$	$١ = ٠٥$	$١ = ٠١٠$

نجد القيمة التالية بقسمة

القوة السابقة على ٣،

$$١ = ٠٣$$

٣٩ صِفْ نمطَ قُوى العددِ ٥، ثمَّ أوجدْ قيمةَ ٠٥

نجد القيمة التالية بقسمة القوة السابقة على ٥، $١ = ٠٥$

٤٠ صِفْ نمطَ قُوى العددِ ١٠، ثمَّ أوجدْ قيمةَ ١٠ و ٠١٠

نجد القيمة التالية بقسمة القوة السابقة على ١٠، $١٠ = ٠١٠$ ، $١٠ = ٠١٠$ ، $١ = ٠١٠$

واجباتي

اكتشف الخطأ: أوجد خالد وسعيد قيمة ٣٧، أيهما كانت إجابتُهُ صحيحة؟ فسّر إجابتك.



لسعيد
 $7 \times 7 \times 7 = 343$
 $343 =$

لخالد
 $3 \times 7 = 21$
 $21 =$



سعيد، كتب الأساس كعامل مكرر ٣ مرات.


اكتب: اشرح كيف تجد ناتج ٦١٠ ذهنيًا.



٦١٠ يساوي العدد ١ على يمينه ٦ أصفار أو ١٠٠٠٠٠٠٠

تدريب على اختبار

٤٣ إذا استمرَّ نمطُ الأشكالِ أدناه، فأَيُّ القيمِ التالية تمثل الشكلِ السابعِ؟



٢٣



٢٢



٢١

٧٧ (ج)

٢٧ (ا)

٧٣ (د)

٧١ (ب)

الاختيار الصحيح (ا) ٢٧



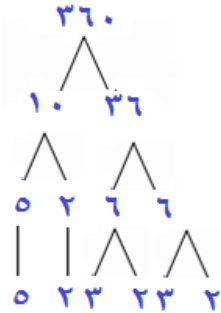
٤٤ أي ممّا يأتي يعبر عن تحليل العدد ٣٦٠ إلى عوامله الأولية؟

(أ) $25 \times 3 \times 22$

(ب) $5 \times 23 \times 32$

(ج) $5 \times 23 \times 22$

(د) $5 \times 23 \times 2$



$5 \times 3 \times 3 \times 2 \times 2 \times 2 = 360$

مراجعة تراكمية

صنّف كلّ عددٍ ممّا يلي إلى أوليّ، أو غير أوليّ، أو غير ذلك:

٦٣ 

عوامل العدد ٦٣ هي ١، ٣، ٧، ٩، ٢١، ٦٣
بما أن العدد له أكثر من عاملين فهو عدد (مؤلف).

٥٠ 

عوامل العدد ٥٠ هي ١، ٢، ٥، ٢٥، ٥٠
بما أن العدد له أكثر من عاملين فهو عدد (مؤلف).



٢٩ ٤٧

عوامل العدد ٢٩ هو ١ ، ٢٩
العدد ٢٩ له عاملان فقط، فهو عدد أولي.

٧١ ٤٨

عوامل العدد ٧١ هو ١ ، ٧١
العدد ٧١ له عاملان فقط، فهو عدد أولي.

٤٩ **الوقت:** احسب عدد الثواني في اليوم الواحد، إذا علمت أن الدقيقة = ٦٠ ثانية.

$$\text{الساعة الواحدة} = 60^2 = 3600 \text{ ثانية}$$

$$\text{اليوم} = 24 \times 3600 = 86400 \text{ ثانية.}$$



الاستعداد
للدروس اللاحق

أوجد ناتج قسمة كلِّ ممَّا يأتي:

$$3 \div 36 \quad \text{٥٠}$$

$$\begin{array}{r} 12 \\ 3 \overline{)36} \\ \underline{3} \\ 06 \\ \underline{6} \\ 0 \end{array}$$

$$5 \div 45 \quad \text{٥١}$$

$$9 = 5 \div 45$$



$$8 \div 104 \quad \text{٥٢}$$

$$\begin{array}{r} 13 \\ 8 \overline{)104} \\ \underline{8 } \\ 24 \\ \underline{24} \\ 00 \end{array}$$

$$6 \div 120 \quad \text{٥٣}$$

$$20 = 6 \div 120$$

ترتيب العمليات

استعد

وجباتٌ خفيفةٌ: الجدولُ أدناهُ يبيِّنُ أسعارَ بعضِ الأصنافِ التي يقدِّمها المقصفُ المدرسيُّ.

السنفُ	السعرُ بالريالِ
كعكٌ	٢
عصيرٌ	١
شطيرةٌ	٤



١ ما ثمنُ ٣ قطعٍ من الكعكِ؟ وما ثمنُ ٤ شطائرٍ؟

ثمن ٣ قطع من الكعك = $٢ \times ٣ = ٦$ ريالاً

ثمن ٤ شطائر = $٤ \times ٤ = ١٦$ ريالاً.



٢ ما الثمن الكلي لشراء ٣ قطع من الكعك و ٤ شطائر؟

الثن الكلي = ٦ + ١٦ = ٢٢ ريالاً.

٣ ما العمليتان اللتان استعملتَهُما في حلّ السؤالين ١ ، ٢؟ وضح ذلك.

الضرب والجمع، ضرب ثمن كل صنف في عدد القطع، ثم جمع النواتج.



أوجد قيمة كلٍّ من العبارتين الآتيتين:

$$١٥ \times ٢ + ١٠ \text{ (أ)}$$

اضرب ١٥×٢ أولاً ثم الجمع

$$٤٠ = ٣٠ + ١٠ =$$

$$٤ \times ٢ \div ١٦ \text{ (ب)}$$

اقسم $٢ \div ١٦$ أولاً ثم الناتج $\times ٤$

$$٣٢ = ٤ \times ٨ =$$



أوجد قيمة كلٍّ من العبارتين الآتيتين:

$$\text{ج) } ١٢ - ٥ \div (٢ - ٥) \times ٢٥$$

طرح ٢ من ٥ أولاً

$$١٢ - ٥ \div ٣ \times ٢٥ =$$

ضرب ٢٥ في ٣

$$١٢ - ٥ \div ٧٥ =$$

قسمة ٧٥ على ٥ ثم الطرح

$$٣ = ١٢ - ١٥ =$$

$$\text{د) } ٦ + ٣٢ \div ٢٤$$

أوجد قيمة ٣٢

$$٦ + ٨ \div ٢٤ =$$

اقسم ٢٤ على ٨ ثم اجمع

$$٩ = ٦ + ٣ =$$

هـ) **كعكات**: تعملُ حصّة ٣ كعكاتٍ في اليوم، بينما تعملُ هندُ ٤ كعكاتٍ في اليوم. اكتبْ عبارةً تمثلُ عددَ الكعكاتِ التي تعملُها حصّةٌ وهندُ معاً في ٥ أيام، ثمَّ أوجدِ العددَ الكليَّ لهذهِ الكعكاتِ.

$$(٤ + ٣) \times ٥$$

$$٧ \times ٥ = (٤ + ٣) \times ٥$$

$$= ٣٥ \text{ كعكة.}$$



تأكد

الأمثلة ١-٤ أوجد قيمة كلِّ عبارةٍ ممَّا يأتي:

$$٥ - ٣ + ٩ \quad ١$$

اجمع ٩ إلى ٣

$$٧ = ٥ - ١٢ =$$

$$٩ + ٣ - ١٠ \quad ٢$$

اجمع ٩ إلى ٣

$$١٦ = ٩ + ٧ =$$

$$١٥ - ٢ \times (٥ + ٢٦) \quad ٣$$

اجمع ٢٦ إلى ٥

$$١٥ - ٢ \times ٣١ =$$

اضرب ٢ في ٣١

$$٤٧ = ١٥ - ٦٢ =$$

$$١ + ٢ \times (٧ + ٢) \div ١٨ \quad ٤$$

اجمع ٢ إلى ٧

$$١ + ٢ \times ٩ \div ١٨ =$$

اقسم ١٨ على ٩

$$٥ = ١ + ٤ = ١ + ٢ \times ٢ =$$

واجباتي

$$2 \div 8 + 25$$

أوجد قيمة 25

$$2 \div 8 + 25 =$$

اقسم 8 على 2

$$29 = 4 + 25 =$$

$$6 + (4 + 23) - 19$$

أوجد قيمة 23

$$6 + (4 + 9) - 19 =$$

$$12 = 6 + 6 = 6 + 13 - 19 =$$

المثال 5
حلوى: مع معلمة 29 قطعة حلوى. كافأت طالباتها فأعطت 5 طالباتٍ لكلٍ منهنّ 3 قطع، وأعطت 3 طالباتٍ لكلٍ منهنّ 4 قطع. اكتب عبارةً تمثل عدد قطع الحلوى التي بقيت مع المعلمة، ثم أوجد قيمتها.

$$[(4)3 + (3)5] - 29$$

$$(12 + 15) - 29 = [(4)3 + (3)5] - 29$$

$$27 - 29 = 2 \text{ قطعة.}$$

تدرب وحل المسائل:



أوجد قيمة كلِّ عبارة مما يأتي:

$$3 - 4 + 8 \quad \text{٨}$$

$$9 = 3 - 12 =$$

$$10 - 12 + 9 \quad \text{٩}$$

$$6 = 10 - 21 =$$

$$12 + 19 - 38 \quad \text{١٦}$$

$$31 = 12 + 19 =$$

$$8 + 17 - 22 \quad \text{١١}$$

$$13 = 8 + 5 =$$



$$(٨ + ٣) \times ٩ + ٧ \quad ١٢$$

$$١٠٦ = ٩٩ + ٧ = ١١ \times ٩ + ٧ =$$

$$٥ - ٦ \times (٢ + ٩) \quad ١٣$$

$$٦١ = ٥ - ٦٦ = ٥ - ٦ \times ١١ =$$

$$٣ \times (٣ - ١٠) \div ٦٣ \quad ١٤$$

$$٢٧ = ٣ \times ٩ = ٣ \times ٧ \div ٦٣ =$$

$$١ + (٢ \div ٦) \times ٦٦ \quad ١٥$$

$$١٩٩ = ١ + ١٩٨ = ١ + ٣ \times ٦٦ =$$

$$١٢ - ٥ \times (٦ + ٣) \div ٢٧ \quad ١٦$$

$$١٢ - ٥ \times ٩ \div ٢٧ =$$

$$٣ = ١٢ - ١٥ = ١٢ - ٥ \times ٣ =$$



$$(14 + 2) \times 7 + 11 \div 55 \quad 17$$

$$16 \times 7 + 11 \div 55 =$$

$$117 = 112 + 5 =$$

$$3 \div 12 - 35 \quad 18$$

$$3 \div 12 - 125 =$$

$$121 = 4 - 125 =$$

$$4 \div 26 + 26 \quad 19$$

$$4 \div 36 + 26 =$$

$$35 = 9 + 26 =$$

$$4 \div 22 - 15 \quad 20$$

$$4 \div 8 - 15 =$$

$$13 = 2 - 15 =$$

$$23 \times 2 \div 22 \quad 21$$

$$9 \times 2 \div 22 =$$

$$99 = 9 \times 11 =$$

واجباتي

١١ **قراءة:** تقرأ مريمُ كتابًا عن سيرة أحد الصحابة، فقرأت في ٥ أيام متتالية بمعدل كل يوم ٦ صفحات، وفي اليومين التاليين كل يوم ٣ صفحات، وبقيت ٥ صفحات من الكتاب. اكتب عبارة تمثل عدد صفحات الكتاب، ثم أوجد العدد.

$$٥ + (٢)٣ + (٥)٦$$

$$٤١ = ٥ + ٦ + ٣٠ \text{ صفحة.}$$

١٣ **ترفيه:** ذهبت عبيد مع ثلاث من زميلاتها إلى مدينة الألعاب، فإذا دفعت كل منهن ٧ ريالاً ثمن تذكرة الدخول، و ٣ ريالاً ثمن قطعة حلوى، وريالاً ثمن قارورة ماء، فاكتب عبارة تمثل الثمن الكلي الذي دفعته عبيد وزميلاتها، ثم أوجد هذا الثمن.

$$٤ \times ٧ \text{ ريال} + ٤ \times ٣ \text{ ريال} + ٤ \times ١ \text{ ريال}$$

$$= ٢٨ + ١٢ + ٤ = ٤٤ \text{ ريال.}$$



واجباتي

أوجد قيمة كل عبارة مما يأتي:

$$8 + (3 - 42) \times 8 \quad 24$$

$$112 = 8 + 104 = 8 + 13 \times 8 =$$

$$(6 - 25) + 4 \div 12 \quad 25$$

$$22 = 19 + 3 = 19 + 4 \div 12 =$$

$$6 + 2 \div (8 - 20) \times 34 + 9 \quad 27$$

$$6 + 2 \div 12 \times 34 + 9 =$$

$$219 = 6 + 204 + 9 = 6 + 2 \div 408 + 9 =$$

$$3 - 15 - (2 \times 25) + 24 \div 96 \quad 27$$

$$3 - 15 - 50 + 24 \div 96 =$$

$$36 = 3 - 39 = 3 - 15 - 54 = 3 - 15 - 50 + 4 =$$



اكتب عبارة عددية لكل عبارة لفظية فيما يأتي، ثم أوجد قيمتها:

٢٨ ضرب العدد ٧ في ٦ ثم طرح ٢

$$٤٠ = ٢ - ٤٢ = ٢ - ٦ \times ٧$$

٢٩ مكعب ناتج قسمة العدد ٢٤ على ٦

$$٦٤ = ٢٤ = ٢(٦ \div ٢٤)$$

مسائل مهارات التفكير العليا:

٣٠ **نخذ:** اكتب عبارة عددية قيمتها ١٠، تتضمن عمليتين مختلفتين وأربعة أعداد.

$$١٠ = ٥ + ٥ = ٢ \div ١٠ + ٥ \div ٢٥$$

٣١ **اكتشف الخطأ:** أوجد كلٌّ من ناصرٍ وجمال ناتج $٩ - ٦ + ٢$ فأيُّهُمَا كانت إجابتهُ صحيحةً؟ فسّر إجابتك.



جمال

$$٨ - ٩ = ٢ + ٦ - ٩$$
$$١ =$$

$$٢ + ٣ = ٢ + ٦ - ٩$$
$$٥ =$$



ناصر

ناصر، جمال لم يجمع أو يطرح بالترتيب من اليمين إلى اليسار.



سأله من واقع الحياة يمكن حلها باستعمال ترتيب العمليات،



ثم حلها.

في الدوري السعودي لكرة القدم للعام ١٤٣٠ هـ، فاز أحد الفرق في ٨ مباريات، وتعادل في ٥، وخسر في ٩. فإذا علمت أن الفريق الفانز يجمع ٣ نقاط، والمتعادل نقطة واحدة، ولا يجمع الخاسر أي نقاط، فما مجموع النقاط التي جمعها هذا الفريق.

الحل:

$$٢٩ = ٠ + ٥ + ٢٤ = ٠ \times ٩ + ١ \times ٥ + ٨ \times ٣$$

تدريب على اختبار

٣١ عُمرُ فاطمةَ أقلُّ بستين من عُمرِ عائشةَ، وعائشةُ أكبرُ من هندَ التي عمرُها ٩ سنواتٍ بخمسِ سنواتٍ. أيُّ جدولٍ ممَّا يأتي نستطيعُ منه حسابَ عُمرِ فاطمةَ؟

(ج)

الاسمُ	العمرُ (بالسنواتِ)
فاطمةُ	٥
عائشةُ	٤
هندُ	٩

(أ)

الاسمُ	العمرُ (بالسنواتِ)
فاطمةُ	$٥ + ٩$
عائشةُ	$٢ - ٥ + ٩$
هندُ	٩

(د)

الاسمُ	العمرُ (بالسنواتِ)
فاطمةُ	$٢ - ٥ + ٩$
عائشةُ	$٥ + ٩$
هندُ	٩

(ب)

الاسمُ	العمرُ (بالسنواتِ)
فاطمةُ	٢
عائشةُ	٥
هندُ	٩



واجباتي

مراجعة تراكمية

٣٢ **بريد إلكتروني:** أرسلت سمر رسالة بريد إلكتروني عن الصدق إلى أربع من صديقاتها يوم السبت، ثم قامت كل منهن بإرسالها إلى أربع صديقات أخريات يوم الأحد، وهكذا كل واحدة تستلم الرسالة ترسلها إلى أربع صديقات جديد في اليوم التالي. إذا كان عدد الرسائل المُرسلة يوم الثلاثاء ٤٤ رسالة، فكم رسالة أرسلت يوم الثلاثاء؟ (الدرس ١ - ٣)

$$\text{عدد رسائل يوم الثلاثاء} = 4 \times (4) \times 4$$

$$= 64 \text{ رسالة.}$$

حلل كل عدد مما يأتي إلى عوامله الأولية:

٤٢ ٣٤



$$7 \times 3 \times 2 = 42$$



١٠٥ ٣٥

$$7 \times 5 \times 3 = 105$$

واجباتي

١١٠ 



$$11 \times 5 \times 2 = 110$$


١٣٠ 



$$13 \times 5 \times 2 = 130$$

الاستعداد
للدروس اللاحق

أوجد ناتج جمع كلِّ ممَّا يأتي:

٩٨ + ٢٦ 

$$\begin{array}{r} 98 \\ 26 + \\ \hline 124 \end{array}$$



$16 + 23$

$$\begin{array}{r} 23 \\ 16 + \\ \hline 39 \end{array}$$

$19 + 61$

$$\begin{array}{r} 1 \\ 61 \\ 19 + \\ \hline 80 \end{array}$$

$6 + 54$

$$\begin{array}{r} 1 \\ 54 \\ 6 + \\ \hline 60 \end{array}$$

اختبار منتصف الفصل

١ **كتب:** قرأ فيصل كتاباً عدد صفحاته ٤٦٥ صفحةً في أسبوع. الجدول أدناه يبيّن عدد الصفحات التي قرأها في ٥ أيام. ما عدد الصفحات التي قرأها يومي الخميس والجمعة معاً؟ (الدرس ١ - ١)

اليوم	عدد الصفحات
السبت	٦٠
الأحد	٧٢
الاثنين	٥٩
الثلاثاء	٨٥
الأربعاء	٦٧

عدد الصفحات التي قرأها في ٥ أيام = $٦٠ + ٧٢ + ٥٩ + ٨٥ + ٦٧$

$$= ٣٤٣ \text{ صفحة.}$$

عدد الصفحات التي قرأها يومي الخميس والجمعة = $٤٦٥ - ٣٤٣ = ١٢٢$ صفحة.

واجباتي

اختيار من متعدد: دراسة فيها ٣٨٤ مقعداً

صفيًا موزعين على ١٦ غرفةً صفيّةً بالتساوي. ما

عدد المقاعد في كل غرفة صفيّة؟ (الدرس ١ - ١)

٣٦٨ (ج)

١٦ (ا)

٦١٤٤ (د)

٢٤ (ب)

$$٣٨٤ \div ١٦ = ٢٤ \text{ مقعد.}$$

$$\begin{array}{r} 24 \\ 16 \overline{)384} \\ \underline{32} \\ 64 \\ \underline{64} \\ 00 \end{array}$$

صنّف كلّ عددٍ ممّا يأتي إلى أوليٍّ، أو غير أوليٍّ، أو غير

ذلك: (الدرس ١ - ٢)

٥٧

عوامل العدد ٥٧ هي ١، ٣، ١٩، ٥٧

بما أن العدد له أكثر من عاملين فهو عدد (مؤلف).



٩٧

عوامل العدد ٩٧ هو ١ ، ٩٧
العدد ٩٧ له عاملان فقط، فهو عدد أولي.

٠

الصفء له عدد لا نهائي من العوامل، لذا فهو غير ذلك.

واجباتي

كُتِبَ: هل يمكنُ وضعُ ٤١ كتاباً على أكثرَ من رفٍّ؛ بشرطِ أن يكونَ على كلِّ رفٍّ العددُ نفسُه من الكتبِ؟ فسِّرْ إجابتك (الدرس ١ - ٢)

نعم، حيث أن العدد ٤١ عدد أولي عوامله ١، ٤١،

لذا يمكن وضع كتاب واحد على ٤١ رف ولكنه غير مقبول نظرياً، فالإجابة الأفضل لا.

اكتب كل قوة من القوى الآتية في صورة حاصل ضرب العامل في نفسه، ثم أوجد قيمة ذلك: (الدرس ١ - ٣)

٤٣ 

$$81 = 3 \times 3 \times 3 \times 3 = 3^4$$

٣٦ 

$$216 = 6 \times 6 \times 6 = 6^3$$



حلّل كلّ عددٍ من الأعداد الآتية إلى عوامله الأولية
مستعملًا الأسس: (الدرس ١ - ٣)

٢٢



$$\begin{array}{c} 22 \\ \swarrow \searrow \\ 11 \quad 2 \\ 11 \times 2 = 22 \end{array}$$

٤٠



$$\begin{array}{c} 40 \\ \swarrow \searrow \\ 10 \quad 4 \\ \swarrow \searrow \quad \swarrow \searrow \\ 5 \quad 2 \quad 2 \quad 2 \\ 5 \times 2^3 = 40 \end{array}$$



٧٥



$$5^2 \times 3 = 75$$

رحلة بريّة: ذهب ناصرٌ في رحلة بريّة مع أصدقائه، فدفعَ ٣٠ ريالاً، فكم ريالاً دفع ناصرٌ؟ (الدرس ١ - ٣)

$$243 = 3 \times 3 \times 3 \times 3 \times 3 = 3^5$$



واجباتي

أوجد قيمة كل مما يأتي:

$$20 + 6 - 10 \quad 13$$

$$24 = 20 + 4 = 20 + 6 - 10$$

$$2 \times (10 - 15) \div 25 \quad 14$$

$$2 \times 5 \div 25 = 2 \times (10 - 15) \div 25$$

$$2 \times 5 =$$

$$10 =$$

$$2 \div 32 + 23 \quad 15$$

$$2 \div 32 + 9 = 2 \div 32 + 23$$

$$16 + 9 =$$

$$25 =$$

$$1 + (8 \div 4) - 12 \quad 16$$

$$1 + (8 \div 64) - 12 = 1 + (8 \div 4) - 12$$

$$1 + 8 - 12 =$$

$$1 + 4 =$$

$$5 =$$

ريدُ فهدُ وزوجتُهُ وأطفالهُ **اختيار من متعدد:** ١٧

الأربعة الذهاب إلى حديقة الحيوان، إذا كان ثمنُ
تذكرة الدخول للكبار ١٠ ريالاً، وللأطفال
٦ ريالاً، فرتب الخطوات الآتية بالتسلسل
الصحيح لمعرفة التكلفة الإجمالية لدخول فهد
وعائلته حديقة الحيوان.

الخطوة (س): اضرب ثمن تذكرة الطفل في عدد
الأطفال.

الخطوة (ص): اجمع ناتجَي الضرب معاً.

الخطوة (ع): اضرب ثمن تذكرة الكبير في عدد
الكبار.

الخطوة (ل): اكتب عدد الأطفال وعدد الكبار
الذين يريدون شراء التذاكر.

أي قائمة مما يأتي تبين الخطوات بالتسلسل
الصحيح؟ (الدرس ١ - ١)

(أ) ل، ص، ع، س (ج) س، ع، ل، ص

(ب) ل، ع، س، ص (د) ع، س، ل، ص

الاختيار الصحيح (ب) ل، ع، س، ص

الجبر: المتغيرات والعبارات

استعد



فواكه: إذا كان لديك سلة بها تفاح، وهناك تفاحتان خارجها، فإن عدد التفاح جميعه هو مجموع العددين إلى عدد ما؛ حيث يعبر عن التفاحتين خارج السلة بالقيمة ٢، أمّا التفاح داخلها فعدده غير معروف.

١ ما المقصود بأن السلة بها عدد ما من التفاح؟

المجموع الكلي لعدد التفاحات داخل السلة.



ما قيمة العبارة ((جمع ٢ إلى عدد ما)) إذا كان ذلك العدد يساوي ١٤؟

$$16 = 14 + 2$$

افترض أن لديك سلتين فيهما عدد التفاح نفسه. فما العبارة التي تمثل عدد التفاح فيهما؟

٢ مضروباً في عدد التفاح في السلة الواحدة أو ضعف عدد التفاح في السلة الواحدة.



إذا كانت $أ = ٦$ ، $ب = ٤$ ، فاحسب قيمة العبارات الآتية:

$$١٤ = ٨ + ٦ = \quad أ + ٦$$

$$٢ = ٤ - ٦ = \quad ب - أ$$

$$٢٤ = ٤ \times ٦ = \quad أ \times ب$$

$$٧ = ٥ - ١٢ = ٥ - (٦)٢ = \quad ٥ - ١٢$$

هـ) ثمن تذكرة دخول إحدى مدن الألعاب هو ٧ ريالاً، وثمان تذكرة استعمال أي لعبة لمرّة واحدة هو ٣ ريالاً. ويُعبّر عن تكلفة دخول طفل إلى مدينة الألعاب واستعمال الألعاب ٥ مرّة بالصورة $٧ + ٣$ ت. أوجد تكلفة دخول أحد الأطفال واستعماله الألعاب ٥ مرّات.

(أ) ١٠ ريالاً (ب) ٢٢ ريالاً (ج) ٣٥ ريالاً (د) ٣٨ ريالاً

$$٢٢ = ١٥ + ٧ = ٥ \times ٣ + ٧$$

(ب) ٢٢ ريالاً.



الأمثلة ١-٣ إذا كانت $m = 4$ ، $n = 9$ ، فاحسب قيمة كلِّ عبارة ممَّا يأتي:

$$m + 3 \quad 1$$

$$7 = 4 + 3 = m + 3$$

$$5 + n \quad 2$$

$$14 = 5 + 9 = 5 + n$$

$$m - n \quad 3$$

$$5 = 4 - 9 = m - n$$

$$2 - m \quad 4$$

$$2 = 2 - 4 = 2 - m$$



$$٥ \quad ٢ - م٤$$

$$١٤ = ٢ - ١٦ = ٢ - (٤)٤ = ٢ - م٤$$

$$٦ \quad ٣ + ن٢$$

$$٢١ = ٣ + ١٨ = ٣ + (٩)٢ = ٣ + ن٢$$

المثال ٤ اختر من متعدد: إذا كان مقدار النقود التي أعادها البائع إلى سلطان بعد أن أعطاه ٢٠ ريالاً ثمناً لـ ٤ دفاتر هو ٢٠ - ٤ د؛ حيث د تمثل ثمن كل دفتر، فإن مقدار المبلغ الذي أعاده البائع إلى سلطان إذا كان ثمن الدفتر الواحد ٣ ريالات هو:

(أ) ٤ ريالات (ب) ١٧ ريالاً (ج) ٨ ريالات (د) ٤٨ ريالاً

$$(ج) ٢٠ - ٤د = ٢٠ - (٣)٤ = ١٢ - ٢٠ = ٨ ريالات.$$

تدرب وحل المسائل:



إذا كانت $m = 2$ ، $n = 16$ ، فاحسب قيمة كل عبارة مما يأتي:

$$12 = 10 + 2 = 10 + m$$

$$10 + m \quad \text{⑧}$$

$$24 = 8 + 16 = 8 + n$$

$$8 + n \quad \text{⑨}$$

$$7 = 2 - 9 = m - 9$$

$$m - 9 \quad \text{⑩}$$

$$6 = 16 - 22 = n - 22$$

$$n - 22 \quad \text{⑪}$$

$$4 = 4 \div 16 = 4 \div n$$

$$4 \div n \quad \text{⑫}$$



$$6 = 2 \div 12 = m \div 12$$

$$m \div 12 \text{ (13)}$$

$$48 = 3 \times 16 = 3 \times n$$

$$3 \times n \text{ (14)}$$

$$12 = (2)^6 = m^6$$

$$m^6 \text{ (15)}$$

$$18 = 16 + 2 = n + m$$

$$n + m \text{ (16)}$$

$$18 = 2 + 16 = m + n$$

$$m + n \text{ (17)}$$



واجباتي

$$١٠ = ٦ - ١٦ = ٦ - ن$$

$$٦ - ن \text{ ٢٨}$$

$$١ = ١ - ٢ = ١ - م$$

$$١ - م \text{ ٢٩}$$

إذا كانت أ = ٤، ب = ٧، ج = ١١، فاحسب قيمة كلِّ عبارة مما يأتي:

$$٣ = ٤ - ٧ = أ - ب$$

$$ب - أ \text{ ٢٠}$$

$$٤ = ٧ - ١١ = ج - ب$$

$$ج - ب \text{ ٢١}$$



$$٥ ج + ٦ \quad \text{٢٢}$$

$$٦١ = ٦ + ٥٥ = ٦ + (١١)٥ = ٦ + ٥ ج$$

$$٧ + ٢ ب \quad \text{٢٣}$$

$$٢١ = ٧ + ١٤ = ٧ + (٧)٢ = ٧ + ٢ ب$$

$$٤ - ١٣ \quad \text{٢٤}$$

$$٨ = ٤ - ١٢ = ٤ - (٤)٣ = ٤ - ١٣$$

$$١٠ - ٤ ب \quad \text{٢٥}$$

$$١٨ = ١٠ - ٢٨ = ١٠ - (٧)٤ = ١٠ - ٤ ب$$

واجباتي

٢٦ **نبته الخيزران:** تُستعملُ العبارةُ م ن لإيجادِ مقدارِ نموِّ نبتةٍ معينةٍ من الخيزرانِ في زمنٍ محدّدٍ؛ حيثُ تدلُّ م على معدّلِ النموِّ، وتدلُّ ن على مقدارِ الزمنِ. فما مقدارُ النموِّ لهذهِ النبتةِ في ٧ أيامٍ إذا كانَ معدّلُ نموِّها ٩٠ ستمترًا في اليومِ الواحدِ؟

$$م ن = (٩٠) (٧) = ٦٣٠ \text{ سم}$$

٢٧ **سباق:** تُستعملُ العبارةُ ف ÷ ن لإيجادِ معدّلِ السرعةِ؛ حيثُ تمثّلُ ف المسافةَ المقطوعةَ، وتمثّلُ ن الزمنَ. أوجدِ السرعةَ ع لسيارةٍ سباقٍ قطعتْ ٨١٢ كلم في ٤ ساعاتٍ.

$$ع = ف ÷ ن = ٨١٢ ÷ ٤ = ٢٠٣ \text{ كلم/ساعة}$$

إذا كانتْ أ = ٩، ب = ١٥، س = ٣، ع = ٨، فاحسبْ قيمةَ كلِّ عبارةٍ مما يأتي:

٢٨ **ب^٢ - أ^٢**

$$ب^2 - أ^2 = (١٥)^2 - (٩)^2 = ٢٢٥ - ٨١ = ١٤٤$$



$$٢٩ \text{ ب } ٤ \div ٥$$

$$١٢ = ٥ \div ٦٠ = ٥ \div (١٥)٤ = ٥ \div ٤$$

$$٣٠ \text{ أ ب } ٢$$

$$٢٧٠ = (١٥) (٩)٢ = ٢ \text{ أ ب } ٢$$

$$٣١ \text{ ع } ٤ + ٨ - ٦$$

$$٣٤ = ٦ - ٤٠ = ٦ - ٨ + ٣٢ = ٦ - ٨ + (٨)٤ = ٦ - ٨ + ٤ \text{ ع } ٤$$

$$٣٢ \text{ س } ٥ + ٤ \div ٧ \text{ ع } ٧$$

$$٣ \times ٥ + ٤ \div ٥٦ = (٣)٥ + ٤ \div (٨)٧ = ٥ \text{ س } + ٤ \div ٧ \text{ ع } ٧$$

$$٢٩ = ١٥ + ١٤ = ٣ \times ٥ + ١٤ =$$

$$٣٣ \text{ ع } ٢ - (٥ \text{ س})$$

$$٤٩ = ١٥ - ٦٤ = (٣ \times ٥) - (٨)٢ = (٥ \text{ س}) - ٢ \text{ ع } ٢$$



واجباتي

٣٤ **طائرات:** تُستعمل العبارة ٩٠٠ ن لحساب المسافة بالكيلومترات التي تقطعها طائرة (البوينغ ٧٨٧)؛ حيث يمثل المتغير ن الزمن بالساعات. أوجد المسافة التي تقطعها هذه الطائرة في زمن مقداره ٤ ساعات.

$$ف = ٩٠٠ ن = ٩٠٠ \times ٤ = ٣٦٠٠ \text{ كلم}$$



٣٥ **هندسة:** نستعمل العبارة ل ع لحساب مساحة المستطيل؛ حيث يمثل ل الطول، ع العرض. احسب مساحة المستطيل المجاور؟

$$ل ع = ١٦ \times ٧ = ١١٢ \text{ سم}^٢$$

مسائل مهارات التفكير العليا:

نقد: أدخل محمد العدد ١٠٠ في آتية الحاسبة، ثم طرح ٧ عدة مرات. بينما بدأ عبد القادر من الصفر، ثم أخذ يضيف ٣ في كل مرة. فإذا كان الاثنان يقومان بعملية واحدة كل مرة، فهل سيصلان إلى العدد نفسه؟ إذا كانت الإجابة نعم، فما هذا العدد؟ فسّر إجابتك.

٣٠	٣٧	٤٤	٥١	٥٨	٦٥	٧٢	٧٩	٨٦	٩٣	١٠٠	محمد
٣٠	٢٧	٢٤	٢١	١٨	١٥	١٢	٩	٦	٣	٠	عبد القادر

٣٧ اختر طريقة: يريد سالم إيجاد قيمة $س^٢ - ص$ ، عندما $س = ٣$ ، $ص = ٨$. فأأي الطرق الآتية يستعملها لإيجاد قيمة العبارة؟ علّل اختيارك، ثم استعملها لحل المسألة.

التقدير	الورقة والقلم	الحساب الذهني
---------	---------------	---------------

الحساب الذهني، يمكن لسالم حساب قيمة $س^٢$ ذهنياً ثم يطرح قيمة $ص$

$$ص = ٨ - ٩ = ١$$

واجباتي

٣٨ **اكتشف المختلف:** حدّد العبارة المختلفة عن العبارتين الأخرى. وفسّر إجابتك.

$$٢ + ١٣$$

٧ ص

$$٨ + ٦$$

٧ ص

٨ + ٦ ، لا تحتوي متغيرات

٣٩ **اكتب:** قارن بين العبارتين العددية والعبارتين الجبرية، واستعمل أمثلة توضيحية.

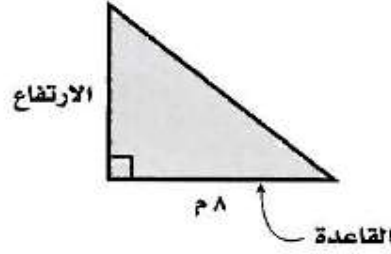
تستعمل كلتا العبارتين العددية والجبرية في العمليات.

ومثال ذلك $٦ + ٧$ ، $٦ + أ$ وتتضمن العبارة الجبرية أعداداً أو متغيرات

على حين تتضمن العبارة العددية أعداداً فقط مثال ذلك ٣×٧ أو ٣

تدريب على اختبار

يمكن إيجاد ارتفاع المثلث أدناه باستعمال العبارة $48 \div b$ ، حيث b تمثل قاعدة المثلث. أوجد ارتفاع المثلث.



- (أ) 4 م
(ب) 6 م
(ج) 8 م
(د) 10 م

$$6 = 8 \div 48$$

الاختيار الصحيح (ب)

٤١ يبين الجدول أدناه مجموع الميداليات التي حصلت عليها بعض الدول المشاركة في دورة الألعاب الأولمبية الشتوية عام ٢٠٠٦ م.

الدولة	مجموع الميداليات
ألمانيا	٢٩
أمريكا	٢٥
كندا	س
أستراليا	٢٣
روسيا	٢٢
النرويج	١٩

المصدر: International Olympic Committee

أي عبارة مما يأتي تمثل المجموع الكلي للميداليات في الجدول؟

(أ) ١١٨ - س (ب) ١١٨ + س

(ج) ١١٨ - س (د) ١١٨ + س

الاختيار الصحيح (د)



مراجعة تراكمية

احسب قيمة كل من العبارات التالية:

$$1 + 2 \div 8 - 12 \quad \text{٤٣}$$

$$1 + 4 - 12 = 1 + 2 \div 8 - 12$$

$$1 + 8 =$$

$$9 =$$

$$7 - (2 \div 20) + 25 \quad \text{٤٤}$$

$$7 - 10 + 25 = 7 - (2 \div 20) + 25$$

$$7 - 10 + 25 =$$

$$7 - 35 =$$

$$28 =$$



$$٨ - ٣ \times (٤ + ٣) \div ٢١ \quad \text{٤٥}$$

$$٨ - ٣ \times ٧ \div ٢١ = ٨ - ٣ \times (٤ + ٣) \div ٢١$$

$$٨ - ٣ \times ٣ =$$

$$٨ - ٩ =$$

$$١ =$$

٤٦ لغة: ١٠ شخص في العالم تقريباً يتكلمون لغة الماندرين، ما عدد الأشخاص تقريباً الذين يتكلمون هذه اللغة؟ (الدرس ١ - ٣)

$$10^9 = 1000000000$$

٤٧ اختبار: أجاب محمد على ٤ أسئلة إجابة خاطئة في اختبار مكون من ٦٢ سؤالاً، كم سؤالاً أجاب عنه إجابة صحيحة؟ (الدرس ١ - ١)

$$\text{الإجابات الصحيحة} = ٦٢ - ٤$$

$$= ٥٨ \text{ سؤالاً}$$



الاستعداد

للدروس اللاحق

اجمع أو اطرح كلاً ممّا يأتي:

$$9 - 18 \quad ٤٨$$

$$9 = 9 - 18$$

$$18 + 5 \quad ٤٩$$

$$23 = 18 + 5$$

$$7 + 14 \quad ٥٠$$

$$21 = 7 + 14$$

$$15 - 21 \quad ٥١$$

$$6 = 15 - 21$$

الجبر: الدوال

استعد



علوم: يرفف الطائرُ الطنانُ ذو الحنجرةِ الياقوتيةِ بجناحيه ٥٢ مرةً تقريباً في الثانية.

١ اكتبْ عبارةً تمثلُ عددَ مراتِ رفرقةِ الجناحينِ في ثانيتينِ، ٦ ثوانٍ، ن من الثواني؟

$$٢ \times ٥٢ ؛ ٦ \times ٥٢ ؛ ن \times ٥٢ ؛ ٥٢ ن$$



املأ الفراغات في الجدولين الآتيين بالأعداد المناسبة:

(i)

المخرجة (س - ٤)	المدخلة (س)
■	٤
■	٧
■	١٠

طرح ٤ من كل مدخلة

المخرجة (س - ٤)	المدخلة (س)
٠	٤
٣	٧
٦	١٠



(ب)

المخرجة (س٣)	المدخلة (س)
■	٠
■	٢
■	٥

ضرب ٣ في كل مدخلة

المخرجة (س٣)	المدخلة (س)
٠	٠
٦	٢
١٥	٥

أوجد قاعدة كلٍّ من الدالتين الممثلتين بالجدولين الآتيين:

(ج)

المخرجة (■)	المدخلة (س)
٠	٠
١	٤
٤	١٦

س ÷ ٤

واجباتي

(د)

المخرجة (س)	المدخلة (س)
١	٤
٥	٨
٧	١٠

س - ٣

(هـ) **تسوق**: يقدم أحد المتاجر الكبرى خصمًا مقداره ٢٠ ريالاً على إجمالي قيمة المشتريات إذا زادت على ٣٠٠ ريال. عرف متغيراً، واكتب قاعدة دالة تربط التكلفة النهائية بقيمة إجمالي المشتريات.

افرض أن المتغير هو **س** وهو يرمز إلى إجمالي قيمة المشتريات، القاعدة

النهائية هي **س - ٢٠**



تأكد

املأ الفراغات في الجدولين الآتيين بالأعداد المناسبة:

المثال ١

المخرجة (س + ٣)	المدخلة (س)
■	٠
■	٢
■	٤



المخرجة (س+٣)	المدخلة (س)
٣	٠
٥	٢
٧	٤

المخرجة (٤ س)	المدخلة (س)
■	١
■	٣
■	٦



المخرجة (٤س)	المدخلة (س)
٤	١
١٢	٣
٢٤	٦

واجباتي

أوجد قاعدة كلٍّ من الدالتين الممثلتين بالجدولين الآتيين:

المثال ٢

■	المدخل (س)
٠	١
٢	٣
٤	٥

س-١

■	المدخل (س)
٠	٠
٦	٣
١٢	٦

س٢

واجباتي

المثال ٣ ٥ حلوى: يريدُ عمرُ شراءَ حلوى، سعرُ الكيلو جرام الواحد منها ٢٥ ريالاً. عرّف متغيراً، ثم اكتب قاعدة الدالة التي تربط التكلفة الكلية للحلوى بعدد الكيلو جرامات التي يشتريها.

افرض أن x يرمز إلى عدد الكيلوجرامات.

القاعدة هي $25x$

تدرب وحل المسائل:

املأ الفراغات في الجدولين الآتيين بالأعداد المناسبة:

المخرجة (س - ٤)	المدخلة (س)
■	٤
■	٨
■	١١

المخرجة (س - ٤)	المدخلة (س)
٠	٤
٤	٨
٧	١١

واجباتي

المخرجة (س ÷ ٣)	المدخلة (س)
■	٠
■	٣
■	٩



المخرجة (س ÷ ٣)	المدخلة (س)
٠	٠
١	٣
٣	٩

أوجد قاعدة الدالة الممثلة في كلٍّ من الجداول الآتية:

س + ٢

■	س
٢	٠
٣	١
٨	٦



س - ٥

■	س
٢	٧
٤	٩
١٠	١٥



واجباتي

س ٥

س	ع
٠	٠
٢٠	٤
٣٥	٧

١٢

س ٢ ÷

س	ع
٣	٦
١١	٢٢
١٧	٣٤

١١

١١ **أعمار:** إذا كان عمر رائد يزيد بمقدار ٨ سنوات على عمر أخته. فعرف متغيراً، واكتب قاعدة الدالة التي تربط عمر رائد بعمر أخته.

افرض أن ع يرمز إلي عمر الأخت القاعدة هي $ع + ٨$

واجباتي

١٣ طعام: قدّمت فاطمة ٣٠ قطعة من الكعك لضيوفها. عرّف متغيراً، واكتب قاعدة الدالة التي تربط عدد الكعك لكل ضيف بعدد الضيوف.

افرض أن $ض$ يرمز إلى عدد الضيوف.

القاعدة هي $٣٠ \div ض$

أوجد قاعدة الدالة الممثلة في كل من الجداول الآتية:

قاعدة الدالة هي $٣س - ٤$

س	س
٢	٢
٥	٣
٨	٤
١١	٥

قاعدة الدالة هي $٦س + ١$

س	س
١	٠
٧	١
١٣	٢
١٩	٣

واجباتي

س	س
١٣	٣
٢٨	٦
٤٣	٩
٥٨	١٢

قاعدة الدالة هي $s - 2$

في السؤالين ١٧ ، ١٨ : عرّف متغيرًا واكتب قاعدة الدالة، ثم حلّ المسألة:
١٧ حشرات: إذا كان متوسط سرعة طيران النحل أثناء جمعه الرحيق ١١ كيلومترًا في الساعة الواحدة، فأوجد المسافة التي يستطيع أن يطيرها في ساعتين بهذا المعدل.

افرض أن n متغير يرمز إلى عدد الساعات، والقاعدة هي

$$n = 22 \text{ كلم.}$$

١٨ نقود: تريد سحر أن تشتري ٧ أقلام بسعر ٦ ريالات لكل قلم. فإذا كان معها بطاقة خصم مقدارها ٩ ريالات على إجمالي قيمة مشترياتها، فكم ستدفع ثمنًا للأقلام؟

افرض أن s ترمز إلى عدد الأقلام، والقاعدة هي $s - 9 = 33$

ريالاً.

أسعار دخول حديقة الحيوانات

السعر	فئة التذكرة
١٠ ريالاً	الكبير
٥ ريالاً	الصغير



حديقة حيوانات: تخططُ عائلةٌ لزيارة حديقة الحيوانات. فإذا كانَ سعرُ تذاكرِ الدخولِ كما هو موضحٌ في الشكلِ المجاور، فاكتبْ قاعدةَ الدالة التي تمثلُ التكلفة الكلية لشراءِ س من تذاكرِ الكبار، و ص من تذاكرِ الصغار. ثمَّ استعملْ هذه القاعدةَ لحسابِ تكلفةِ دخولِ ٨ من الكبارِ و ٣ من الصغارِ.

قاعدة الدالة هي $١٠س + ٥ص$

تكلفة دخول ٨ من الكبار و ٥ من الصغار هي:

$$٩٥ \text{ ريالاً} = ٣ \times ٥ + ٨ \times ١٠$$

مسائل مهارات التفكير العليا:

يريدُ كلُّ من فيصل وسعود أن يجدَ قاعدةَ الدالةِ، حيثُ تقلُّ قيمةُ كلِّ مخرجةٍ بمقدارِ ٣ عن قيمةِ المدخلةِ. فأيهما كانت إجابتهُ صحيحةً؟ وضحْ إجابتك.

اكتشف الخطأ:



لسعود

قاعدةُ الدالةِ:
هي ٣ - س

قاعدةُ الدالةِ:
هي س - ٣



فيصل

حل فيصل صحيحا حيث تبين قاعدته أنه يقل مقدار المخرجة بمقدار ٣ عن المدخلة، وتمثلها العبارة س-٣.

واجباتي

نخذ: نشرت في بعض مراكز التسوق التجارية في المملكة العربية السعودية والتي يقدر عدد سكانها بحوالي ٢٥ مليون نسمة، فكرة التبرع بما يتبقى من عملة نقدية معدنية من باقي ثمن المشتريات، لصالح جمعيات خيرية. فإذا تبرع كل شخص بما يعادل ١٠ ريال سنويًا. فكون جدول الدالة، وبين مجموع النقود المتبرع بها بعد: سنة واحدة، سنتين، ثلاث سنوات.

السنوات (س)	٢٥ مليوناً × ١٠ × س
١	٢٥٠٠٠٠٠٠٠ ريال
٢	٥٠٠٠٠٠٠٠٠ ريال
٣	٧٥٠٠٠٠٠٠٠ ريال

اكتب: كيف يمكن أن تجد قاعدة الدالة إذا أعطيت جدول تلك الدالة؟

لإيجاد قاعدة الدالة، ادرس العلاقة بين كل مدخله ومخرجه، ثم اوجد العملية التي أجريت على المدخلة للوصول إلى المخرجة.

تدريب على اختبار

٢٣ أيُّ عبارةٍ ممَّا يأتي تمثُّلُ أفضلَ علاقةٍ بينَ قيمِ ص وقيمِ س؟

٦	٥	٤	٣	٢	١	س
١٥	١٣	١١	٩	٧	٥	ص

(أ) $٣ + ٢س$

(ب) $٥ + س$

(ج) $٢ - ٣س$

(د) $٦ - س$

الاختيار الصحيح: (أ) $٣ + ٢س$



واجباتي

٢٤ يربح محلّ ٥ ريالاً عن كلّ قميصٍ يبيعه، أيّ عبارة ممّا يأتي تمثل ربح بيع ٢٥ قميصاً؟

(أ) $25 + 5$

(ب) 25×5

(ج) $5 \div 25$

(د) $5 - 25$

الاختيار الصحيح: (ب) 25×5

مراجعة تراكمية

إذا كانت: أ = ٣، ب = ٦، ج = ١٠، فاحسب قيمة كل عبارة مما يأتي:

$$\text{٢٥} \quad \text{ب} - \text{أ}$$

$$\text{ب} - \text{أ} = ٦ - ٣$$

$$= ٣$$

$$\text{٢٦} \quad \text{ج} + \text{أ}$$

$$\text{ج} + \text{أ} = ١٠ + ٣$$

$$= ١٣$$

$$= ١٣$$

$$\text{٢٧} \quad \text{ب} + \text{ج} + ١٢$$

$$\text{ب} + \text{ج} + ١٢ = ٦ + ١٠ + ١٢$$

$$= ٢٨$$

$$= ٢٨$$



٢٨ قرطاسية: إذا كان ثمنُ الدفترِ الواحدِ ٥ ريالاً، وثنُّ المسطرةِ ٣ ريالاً، فاكتبْ عبارةً تمثلُ ثمنَ ٣ دفاترٍ ومسطرتينِ ثمَّ حلّها. (الدرس ١ - ٤)

$$٢١ \text{ ريال} = ٦ + ١٥ = (٣)٢ + (٥)٣$$

٢٩ مساحةٌ حديقة: لدى سلطان حديقةٌ مساحتها ٥ م^٢، فما قيمة ٥؟

$$25 = 5^2$$

الاستعداد

للدروس اللاحق

ما وفره عدد من الطلاب	
المبلغ (بالريال)	الاسم
٢١٩	سعود
١٠١	تركي
٩٠	حمد
٧٣	فيصل

مهارة سابقة: يبين الجدول المجاور ما وفره ٤ طلاب في أحد الشهور، كم يزيد ما وفره سعود وحمد على ما وفره فيصل؟ استعمل الخطوات الأربع لحل المسألة. (الدرس ١-١)

افهم

ما معطيات المسألة؟

جدول يبين ما وفره ٤ طلاب في أحد الشهور

المطلوب: كم يزيد ما وفره سعود وحمد على ما وفره فيصل؟

خطط

لإيجاد الفرق، اجمع ما وفره سعود وحمد واطرح منه ما وفره فيصل

حل

$$٢١٩ + ٩٠ = ٣٠٩ \text{ ريال.}$$

$$٣٠٩ - ٧٣ = ٢٣٦ \text{ ريال.}$$

تحقق

الإجابة صحيحة

خطة حل المسألة

حل الخطة

١ اشرح متى تُستعملُ خطةُ " التخمينُ والتحققُ " لحلَّ المسألةِ.

عندما تحاول أن تجد حلاً لمعادلة.

١ اكتب: مسألة يمكن حلها باستعمال خطة التخمين والتحقق، ثم اكتب الخطوات التي تنفذها لحل المسألة.

مجموع ٤ أوراق نقد سعودية يساوي ٦٢ ريالاً، فما هذه الأوراق؟ لتجد حلاً لهذه المسألة، اختر ٤ أوراق نقد سعودية، وجد مجموع قيمتها، وتحقق من انه يساوي ٦٢ ريالاً. وإذا لم يكن كذلك فاختر ٤ أوراق أخرى وجد المجموع. وكرر هذه العملية حتى تجد الحل. الإجابة هي: ورقة واحدة من فئة ١٠ ريالاً وورقة واحدة من فئة ١٠ ريال، وورقتان كل منهما من فئة ١ ريال.

استعمل خطة التخمين والتحقق لحل المسائل ٣-٦:

١. **كتب:** تبيع مكتبة كتباً مستعملة في رزم من ٥ كتب، وكتباً جديدة في رزم من ٣ كتب. إذا اشترى مشعل ١٦ كتاباً، فما عدد الرزم التي اشترها من الكتب المستعملة والكتب الجديدة؟



ما معطيات المسألة؟

- تبيع مكتبة كتباً مستعملة في رزم من ٥ كتب
- وكتباً جديدة في رزم من ٣ كتب
- اشترى مشعل ١٦ كتاباً

ما المطلوب؟

- ما عدد الرزم التي اشترها من الكتب المستعملة والكتب الجديدة؟



استعمل خطة التخمين والتحقق



عدد الكتب	عدد الرزم	
	المستعملة	الجديدة
أكبر	٣	٤
أكبر بقليل	٢	٣
يساوي	٢	٢

واجباتي

رزمتين من الكتب المستعملة ورزمتين من الكتب الجديدة.

تحقق

عدد الرزم الجديدة ٢ في ٣ كتب تساوي ٦ كتب، وعدد الرزم المستعملة ٢ في ٥ تساوي ١٠ كتب، وبما أن $١٠ = ٦ + ٤$ ، فإن التخمين صحيح.

٤ اختبارات: حصل صالح على ١٨ درجة في اختبار العلوم. فإذا كان الاختبار يتكوّن من ٦ مسائل، لكلّ منها درجتان، ومسألتين لكلّ منهما ٤ درجات، فما عدد المسائل التي حلّها صالح بصورة صحيحة من كلّ نوع؟

افهم

ما معطيات المسألة؟

- حصل صالح على ١٨ درجة في اختبار العلوم.
- الاختبار يتكون من ٦ مسائل لكل منها درجتان.
- ومسألتين لكل منها ٤ درجات.

ما المطلوب مني؟

- ما عدد المسائل التي حلّها صالح بصورة صحيحة من كلّ نوع؟

خطّط

استعمل خطة التخمين والتحقق

واجباتي

حل

الدرجة	مسائل من								
	٤ درجات		درجتان						
	٢	١	٦	٥	٤	٣	٢	١	
أقل بقليل	$١٦ = ٤ \times ٢ + ٢ \times ٤$	Y	Y			Y	Y	Y	Y
يساوي	$١٨ = ٤ \times ٢ + ٢ \times ٥$	Y	Y		Y	Y	Y	Y	Y

حل ٥ مسائل من النوع الأول (لكل منها درجتان) ومسالتين من النوع الثاني (لكل منها ٤ درجات).

تحقق

٥ أسئلة من درجتان، وسؤالين من ٤ درجات تساوي ١٨ درجة إذن التخمين صحيح.

٥ أعداد: يفكر أحمد في أربعة أعداد من ١ إلى ٩ مجموعها ١٨. أوجد هذه الأعداد.

افهم

ما معطيات المسألة؟

• أربعة أعداد من ١ إلى ٩ مجموعها ١٨

ما المطلوب؟ إيجاد هذه الأعداد

واجباتي

خطط

استعمل خطة التخمين والتحقق

حل

المجموع		الأعداد			
أكبر بقليل	١٩	٧	٦	٤	٢
يساوي	١٨	٧	٦	٤	١

ملاحظة: تتنوع الإجابات

تحقق

الإجابة معقولة.

٦ نقود: يوجد في محافظة سلمان ٢٢٠ ريالاً في صورة أوراق نقدية عددها ٢٠ من الفئات التالية: ١ ريال، ٥ ريالات، ١٠ ريالات، ٢٠ ريالاً. فما عدد الأوراق النقدية الموجودة في محافظة سلمان من كل فئة من تلك الفئات؟

استعمل أي خطة من الخطط الآتية لحل المسائل من ٧-١٣:

خطط حل المسألة
• التخمين والتحقق
• البحث عن نمط

واجباتي



ما معطيات المسألة؟

- يوجد في محافظة سلمان ٢٢٠ ريالاً على صورة أوراق نقدية عددها ٢٠ من الفئات التالية: ١ ريال، ٥ ريالات، ١٠ ريالات، ٢٠ ريالاً.

ما المطلوب مني؟

- فما عدد الأوراق النقدية الموجودة في محافظة سلمان من كل فئة من تلك الفئات؟



استعمل خطة التخمين والتحقق.



المجموع		٢٠ ورقة			
		٢٠ ريال	١٠ ريال	٥ ريال	١ ريال
اقل بكثير	$٩٠ = ٢٠ \times ١ + ١٠ \times ٣ + ٥ \times ٦ + ١ \times ١٠$	١	٣	٦	١٠
اقل	$١٧٢ = ٢٠ \times ٥ + ١٠ \times ٥ + ٥ \times ٣ + ١ \times ٧$	٥	٥	٣	٧
يساوي	$٢٢٠ = ٢٠ \times ٨ + ١٠ \times ٤ + ٥ \times ٣ + ١ \times ٥$	٨	٤	٣	٥

تتنوع الإجابات، ٥ ورقات من فئة ١ ريال، و٣ ورقات من فئة ٥ ريالات، و٤ ورقات من فئة ١٠ ريالات، و٨ ورقات من فئة ٢٠ ريالاً.



الإجابة معقولة.



واجباتي

٧ علوم: إذا كان المريخُ يدورُ حولَ الشمسِ بسرعة ٢٤ كيلومترًا في الثانية. فما المسافةُ التي يقطعُها في يومٍ واحدٍ؟



ما معطيات المسألة؟

• يدور المريخ حول الشمس بسرعة ٢٤ كيلومترًا في الثانية.

ما المطلوب مني؟

• المسافة التي يقطعها في يوم واحد.



$$24 \times 24 \times 60 \times 60 = 2073600 \text{ كيلومتر.}$$



الإجابة معقولة.

واجباتي

٨ أعداد: أوجد عددين أوليين مجموعهما ٣٠.

افهم

ما معطيات المسألة؟

• عددين أوليين مجموعهما ٣٠

ما المطلوب مني؟

• إيجاد العددين.

خطط

استعمل خطة التخمين والتحقق.

حل

المجموع	العدد الثاني	العدد الأول
أقل بكثير	٢٢	١٧
أقل بقليل	٢٨	١١
يساوي	٣٠	١٣

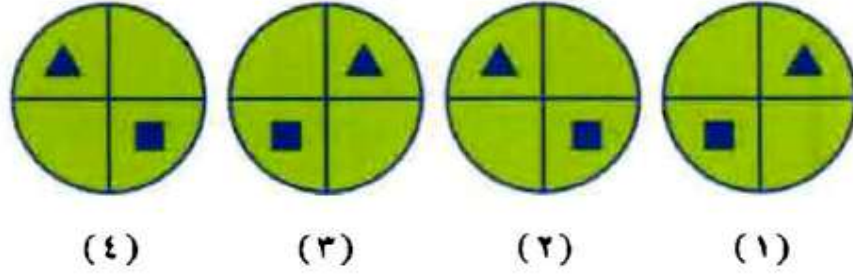
العددان هما ١٧ و ١٣

تحقق

الإجابة معقولة.

واجباتي

٩ أنماط: ارسم الشكل التالي في النمط أدناه.



افهم

ما معطيات المسألة؟

• أشكال هندسية لها نمط معين

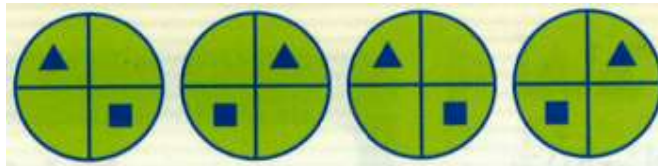
ما المطلوب مني؟

• ارسم الشكل التالي.

خطط

البحث عن نمط.

حل



تحقق

الإجابة معقولة.

واجباتي

١٥ **ترتيب العمليات:** استعمل الإشارات المناسبة مما يلي: + ، - ، × ، ÷ ، والتي تجعل الجملة الرياضية الآتية صحيحة، على أن تستعمل الإشارة مرة واحدة فقط.

$$18 = 1 \square 6 \square 4 \square 3$$

افهم

ما معطيات المسألة؟

- إشارات بدون جملة رياضية + ، - ، × ، ÷
- جملة رياضية بدون إشارات $18 = 1 \square 6 \square 4 \square 3$

ما المطلوب مني؟

- وضع الإشارة في المكان الصحيح على أن تستعمل الإشارة مرة واحدة فقط.

خطط

استعمل خطة التخمين والتحقق.

حل

الناتج	الجملة الرياضية
أكبر بكثير	$1 \div 6 \times 4 + 3$
يساوي	$1 \div 6 + 4 \times 3$

تحقق

الإجابة معقولة.

واجباتي

١١ مواعيد الرحلات: الجدول الآتي يبيّن مواعيد رحلات بعض الحافلات.

الحافلة	وقت الوصول	وقت المغادرة
١	٨:٤٢	٨:٥٢
٢	٩:١٢	٩:٢٢
٣	٩:٤٢	٩:٥٢
٤	١٠:١٢	١٠:٢٢

إذا استمرّ هذا النمط، فما موعدًا وصول الحافلة السادسة ومغادرتها؟



ما معطيات المسألة؟

• جدول أوقات رحلات بعض الحافلات

ما المطلوب مني؟

• وقتي وصول الحافلة السادسة ومغادرتها؟



البحث عن نمط.



الحافلة	وقت الوصول	وقت المغادرة
١	٨:٤٢	٨:٥٢
٢	٩:١٢	٩:٢٢
٣	٩:٤٢	٩:٥٢
٤	١٠:١٢	١٠:٢٢
٥	١٠:٤٢	١٠:٥٢
٦	١١:١٢	١١:٢٢



الإجابة معقولة.

واجباتي

١٧ تحليلُ جداولٍ: الجدولُ الآتي يبيِّنُ أسماءَ بعضِ جبالِ نجدَ وارتفاعاتها.

الارتفاع (م)	الجبل
١٦٤٧	حِضْن
١٦٢٠	أجا
١٢٠٠	سلمى

كم يزيدُ ارتفاعُ جبلِ حِضْنِ على جبلِ سلمى؟



ما معطيات المسألة؟

• جدول ارتفاعات بعض جبال نجد

ما المطلوب مني؟

• كم يزيد ارتفاع جبل حِضْن عن جبل سلمى؟



استعمل خطة التخمين والتحقق.



التخمين	التحقق
٤٢٠	أقل بكثير $١٦٢٠ = ٤٢٠ + ١٢٠٠$
٤٤٠	أقل بقليل $١٦٤٠ = ٤٤٠ + ١٢٠٠$
٤٤٧	يساوي $١٦٤٧ = ٤٤٧ + ١٢٠٠$



$$٤٤٧ = ١٢٠٠ - ١٦٤٧$$

واجباتي

١٣ **نقود:** يوفر محمدٌ لشراءِ جهازِ حاسوبٍ ثمنه ٢٢٥٠ ريالاً. فإذا كان لديه الآن ١٩٠٠ ريال، ويوفر ٧٠ ريالاً في الشهر، فبعد كم شهرٍ من الآن يكون لديه المال الكافي لشراءِ الجهازِ؟

افهم

ما معطيات المسألة؟

- ثمن جهاز الحاسوب ٢٢٥٠ ريالاً
- ولدى محمد الآن ١٩٠٠ ريال
- يوفر ٧٠ ريالاً في الشهر

ما المطلوب مني؟

- بعد كم شهر من الآن يكون لديه المال الكافي لشراء الجهاز؟

خطط

استعمل خطة التخمين والتحقق.

حل

المجموع	ما لديه بعد
أقل بكثير	$3 \times 70 + 1900$
أقل بقليل	$4 \times 70 + 1900$
يساوي	$5 \times 70 + 1900$

بعد ٥ أشهر يكون لديه المال الكافي لشراء الجهاز.

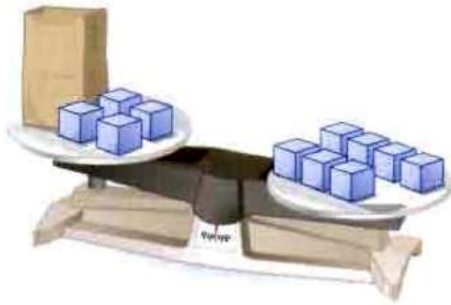
تحقق

الإجابة معقولة.

الجبر: المعادلات

نشاط

يَتَرَنَّ الميزانُ عندما تتساوى المقاديرُ على كِفَّتَيْهِ.



الخطوة ١
ضع أربعة مكعباتٍ وكيسَ ورقٍ يحوي عددًا من المكعباتِ على إحدى كِفَّتَيْ الميزانِ.

الخطوة ٢
ضع سبعةً مكعباتٍ على الكفةِ الأخرى من الميزانِ.

١ إذا كان المتغيرُ (س) يمثل عددَ المكعباتِ الموجودة في الكيسِ . فما المعادلةُ التي تمثل هذا الموقفَ؟

$$٧ = س + ٤$$

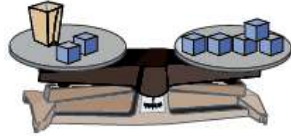
واجباتي

❶ استبدل الكيس بمكعبات صغيرة حتى يتزن الميزان. ما عدد المكعبات التي استعملتها حتى اتزن الميزان؟

$$4 = 3 + 7 \text{ ؛ } 3 \text{ مكعبات}$$

افترض أن المتغير (س) يمثل عدد المكعبات في الكيس. ومثل كل واحدة من الجمل الآتية على ميزان، وأوجد عدد المكعبات اللازمة لاتزان الميزان:

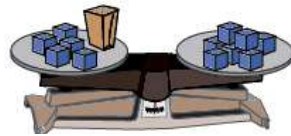
$$5 = 2 + \text{س} \quad \text{❷}$$



$$5 = 2 + \text{س}$$

$$3 = \text{س}$$

$$7 = 5 + \text{س} \quad \text{❸}$$

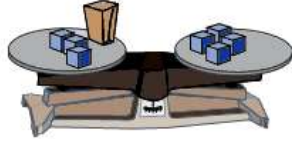


$$7 = 5 + \text{س}$$

$$2 = \text{س}$$

واجباتي

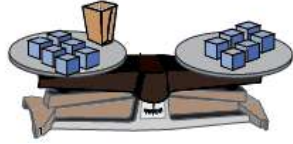
$$4 = 3 + \text{س} \quad \textcircled{5}$$



$$4 = 3 + \text{س}$$

$$1 = \text{س}$$

$$6 = 6 + \text{س} \quad \textcircled{6}$$



$$6 = 6 + \text{س}$$

$$0 = \text{س}$$



(أ) أيُّ هذه القيم: (٢، ٣، ٤) حلٌّ للمعادلة: $٤ن = ١٦$ ؟

هل الطرفان متساويين؟	$٤ن = ١٦$	قيمة ن
لا	$٨ = ٢ \times ٤$ $١٦ \neq ٨$	٢
لا	$١٢ = ٣ \times ٤$ $١٦ \neq ١٢$	٣
نعم	$١٦ = ٤ \times ٤$ $١٦ = ١٦$	٤

إذن حل هذه المعادلة هو ٤ لأن التعويض عن ن بالعدد ٤ أعطى جملة صحيحة.

(ب) حلُّ المعادلة: $٢٤ \div ع = ٨$ ذهنيًّا.

$٨ = ٣ \div ٢٤$ ، الحل هو ٣



(ج) حيوانات، الفرقُ بين سرعة النعامة وسرعة الدجاجة هو ٤٨ كيلومتراً في الساعة، وتستطيع النعامة أن تركض بسرعة ٦٤ كيلومتراً في الساعة. حلّ المعادلة $٤٨ = د - ٦٤$ ؛ لتجد قيمة (د) التي تمثل سرعة الدجاجة.

$$٤٨ = د - ٦٤$$

$$د = ٤٨ + ٦٤$$

إذن سرعة الدجاجة تساوي ١٦ كيلومتراً في الساعة.



المثال ١ في الأسئلة ١-٤، حدّد حلّ كلّ معادلةٍ ممّا يأتي مستعملًا القيمَ المجاورة لكلِّ منها:

$$٩، ٨، ٧؛ ١٧ = ل + ٩$$

$$١٧ = ل + ٩$$

$$٨ = ٩ - ١٧ = ل$$

$$١٦، ١٥، ١٤؛ ٥ = ١١ - س$$

$$٥ = ١١ - س$$

$$١٦ = ١١ + ٥ = س$$

$$٤، ٣، ٢؛ ٢ = ٤ \div ص$$

$$٢ = ٤ \div ص$$

$$٢ = ٢ \div ٤ = ص$$



واجباتي

$$2010 \div 8 = m \div 8 \quad 4$$

$$8 = m \div 8$$

$$1 = m$$

المثال ٢ حل كل معادلة مما يأتي ذهنيًا:

$$18 = 6 + s \quad 5$$

$$18 = 6 + s$$

$$12 = 6 - 18 = s$$

$$30 = 10 - n \quad 6$$

$$30 = 10 - n$$

$$40 = 10 + 30 = n$$



$$٣٠ = ١٥ ك$$

$$٣٠ = ١٥$$

$$٢ = ١٥ \div ٣٠ = ك$$

المثال ٣ ٨ أعمار: إذا كان مجموع عمري يوسف وأخيه حميد ٢١ سنة، وعمري يوسف ٦ سنوات،
فحل المعادلة $٦ + ص = ٢١$ ؛ لتجد قيمة ص التي ترمز إلى عمر حميد.

$$٢١ = ص + ٦$$

$$٦ - ٢١ = ص$$

$$ص = ١٥ \text{ سنة}$$

تدرب وحل المسائل:

في الأسئلة ٩-١٤، حدّد حلّ كلّ معادلةٍ ممّا يأتي مستعملًا القيمَ المُجاورة لكلِّ منها:

٩ $س + ١٥ = ٢٣$ ؛ ٨، ٧، ٦

		$س + ١٥ = ٢٣$
جرب ٨	جرب ٧	جرب ٦
$٢٣ = ١٥ + ٨$	$٢٢ \neq ١٥ + ٧$	$٢٣ \neq ١٥ + ٦$
		$٨ = س$

١٠ $٣٥ = ٤٥ - ن$ ؛ ١٢، ١١، ١٠

		$٣٥ = ٤٥ - ن$
		$٣٥ - ٤٥ = ن$
جرب ١٢	جرب ١١	جرب ١٠
$١٢ \neq ٣٥ - ٤٥$	$٢٢ \neq ٣٥ - ٤٥$	$١٠ = ٣٥ - ٤٥$
		$١٠ = ن$

١١ $١٩ = ص - ١٢$ ؛ ٣١، ٣٠، ٢٩

		$١٩ = ص - ١٢$
		جرب ٢٩
جرب ٣١	جرب ٣٠	$١٢ + ١٩ \neq ٢٩$
$١٢ + ١٩ = ٣١$	$١٢ + ١٩ \neq ٣٠$	
		$٣١ = ص$



$$٧٠٦٠٥ ؛ ٣٠ = ل٦ \text{ (١٢)}$$

جَرَبُ ٧	جَرَبُ ٦	جَرَبُ ٥
$٣٠ \neq ٧ \times ٦$	$٣٠ \neq ٦ \times ٦$	$٣٠ = ٥ \times ٦$
		٥ = ل

$$٨٠٧٠٦ ؛ ٩ = ٦٣ \text{ (١٣)}$$

جَرَبُ ٨	جَرَبُ ٧	جَرَبُ ٦
$٨ \times ٩ \neq ٦٣$	$٧ \times ٩ = ٦٣$	$٦ \times ٩ \neq ٦٣$
		٧ = ك

$$١١٠٩ ؛ ٤ = ٣٦ \div س \text{ (١٤)}$$

جَرَبُ ١١	جَرَبُ ١٠	جَرَبُ ٩
$٤ \neq ١١ \div ٣٦$	$٤ \neq ١٠ \div ٣٦$	$٤ = ٩ \div ٣٦$
		٩ = س



واجباتي

حُلِّ كُلُّ معادلةٍ ممَّا يَأْتِي ذَهْنِيًّا:

$$١٣ = ٧ + هـ \quad ١٥$$

$$٦ = ٧ - ١٣ = هـ$$

$$م - ٣٠ = ٢٢ \quad ١٦$$

$$٨ = ٢٢ - ٣٠ = م$$

$$١٢ = ب - ١٥ \quad ١٧$$

$$٣ = ١٢ - ١٥ = ب$$

$$٢٥ = م \div ٥ \quad ١٨$$

$$٥ = ٥ \div ٢٥ = م$$



$$٢ = ٢٢ \div \text{ص} \quad \text{٢٩}$$

$$\text{ص} = ٢ \div ٢٢ = ١١$$

$$\text{ب} = ٥٤ \div ٦ \quad \text{٢٦}$$

$$\text{ب} = ٦ \div ٥٤ = ٩$$

٢١ كرة قدم: فاز فريق لكرة القدم في ٢٠ مباراة من ٢٥ مباراة شارك فيها. حُلَّ المعادلة
 $٢٥ = م + ٢٠$ ؛ لتجد قيمة م التي ترمز إلى عدد المباريات التي خسرها أو تعادَل فيها
الفريق.

$$٢٥ = م + ٢٠$$

$$م = ٢٥ - ٢٠ = ٥ \text{ مباريات.}$$

واجباتي

٢٢ نقود: حصل خمسة عمال على مبلغ ٢٥٠ ريالاً مقابل عملهم في تنظيف أحد المراكز التجارية، حيث تلقى كل منهم الأجر نفسه. حل المعادلة $٥ص = ٢٥٠$ ؛ لتجد قيمة ص التي ترمز إلى المبلغ الذي حصل عليه كل واحد منهم.

$$٥ص = ٢٥٠$$

$$ص = ٢٥٠ \div ٥ = ٥٠ \text{ ريالاً.}$$

٢٣ حيوانات: يبلغ طول أحد أنواع الدلافين ٨ أقدام. فإذا علمت أن كل ٣٠ سم تقريباً تُساوي ١ قدم، فحل المعادلة $٨ \times ٣٠ = ل$ ؛ لتجد قيمة ل التي ترمز إلى طول الدلفين بالستمرات.

$$ل = ٨ \times ٣٠$$

$$ل = ٢٤٠ \text{ سم.}$$

مسائل مهارات التفكير العليا:

أعطِ مثالاً على معادلةٍ يكونُ العددُ ٥ حلاً لها.

مسألة مفتوحة:

٢٤

$$س + ٨ = ١٣$$


تحد: في السؤالين ٢٥، ٢٦: بين إذا كانت العبارة صحيحة أم لا، ثم فسّر إجابتك.

٢٥ يمكن أن يأخذ المتغير م في العبارة $م + ٨$ أي قيمة.


م + ٨ لا تساوي قيمة محددة، ولا يوجد قيود على قيمة م.

العبارة صحيحة.

واجباتي

يمكن أن يأخذ المتغير m في المعادلة $m + 8 = 12$ أي قيمة ويكون حلاً للمعادلة. 

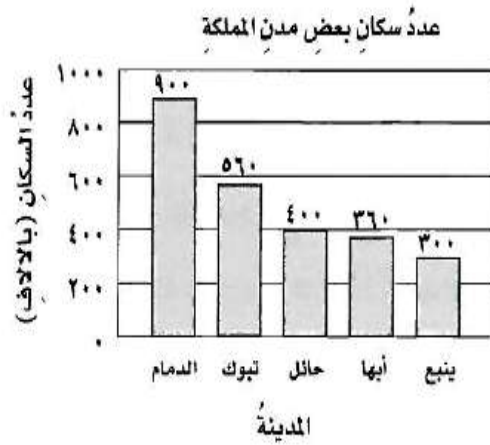
هذه معادلة قيمة كلا طرفيها يجب أن تكون متساوية لذا $m + 8 = 12$ لها حل واحد هو **٤**. العبارة خاطئة.

مسألة من واقع الحياة تحتاج عند حلها إلى حل المعادلة $12 + a = 30$. 

لدى هاشم ١٢ كتاباً زيادة على ما عند جلال، حل المعادلة $12 + a = 30$ لتجد عدد كتب جلال.

تدريب على اختبار

٢٨ التمثيل المجاور يمثل عدد السكان لأقرب ألف لبعض مدن المملكة عام ١٤٣١هـ، أي معادلة مما يأتي يمكن استعمالها لإيجاد الفرق (ع) بين عدد سكان أبها وعدد سكان الدمام؟



المصدر: مصلحة الإحصاءات العامة والمعلومات ١٤٣١هـ

(أ) $٩٠٠ = ٣٦٠ + ع$

(ب) $٩٠٠ = ٣٦٠ - ع$

(ج) $ع = ٣٦٠ + ٩٠٠$

(د) $٣٦٠ = ٩٠٠ - ع$

الاختيار الصحيح: (أ) $٩٠٠ = ٣٦٠ + ع$

مراجعة تراكمية

٢١ **كرات ملونة:** صندوق فيه ٢٧ كرة ملونة: حمراء وصفراء وخضراء. إذا كان عدد الكرات الحمراء يزيد ٦ كرات على عدد الكرات الصفراء، وعدد الكرات الخضراء يقل ٣ كرات عن عدد الكرات الصفراء، فما عدد الكرات لكل لون؟ (الدرس ١ - ٧)

$$ح + خ + ص = ٢٧ \text{ كرة}$$

$$٢٧ = ص + (٣ - ص) + (٦ + ص)$$

$$٢٧ = (٣ - ٦) + ص٣$$

$$٢٧ = ٣ + ص٣$$

$$٣ - ٢٧ = ٣ - ٣ + ص٣$$

$$٣ \div ٢٤ = ٣ \div ص٣$$

$$١٤ = ح، ٥ = خ، ٨ = ص$$


واجباتي

نقود: إذا كانت هند توفّر ١٤ ريالاً أسبوعياً، فاكتب عبارةً تمثل مجموع ما توفّر هندُ لعددٍ من الأسابيع، ثم أوجد مجموع ما ستوفّره في ٨ أسابيع؟ (الدرس ١-٦)

١٤ ع

ما توفّره في ٨ أسابيع = $٨ \times ١٤ = ١١٢$ ريالاً.

إذا كانت: س = ٢، ص = ٤، ع = ٦، فاحسب قيمة كلٍّ من العبارات التالية:

٣س ص ع + ١٤ 

$$٣س ص ع + ١٤ = ١٤ + (٦) (٤) (٢)٣$$

$$١٤ + ١٤٤ =$$

$$١٥٨ =$$



$$ع + ص \div 9 \quad \text{٣٢}$$

$$٦ + ٤ \times ٣ \div ٩ = ع + ص \div ٩$$

$$٦ + ٤ \times ٣ =$$

$$٦ + ١٢ =$$

$$١٨ =$$

$$ع + ٤ \div س \times ٤ \quad \text{٣٣}$$

$$٤ \times ٤ \times ٢ \div ٦ + ٤ = ع + ٤ \div س \times ٤$$

$$٤ \times ٤ \times ٢ + ٤ =$$

$$٤ \times ١٢ + ٤ =$$

$$٤٨ + ٤ =$$

$$٥٢ =$$

اختبار الفصل

اختيار من متعدد: حصل حامد على مبلغ ١٢٠٠ ريال نظير عمله مدة ٤٣ ساعة في مطعم ومركز تجاري. فإذا علمت أنه حصل على ٣٧٥ ريالاً نظير عمله ١٥ ساعة في المركز التجاري، فرتب الخطوات الآتية بالتسلسل الصحيح لمعرفة أجره عن ساعة العمل في المطعم.

الخطوة س: أجد الفرق بين ١٢٠٠ ريال والمبلغ الذي تلقاه مقابل عمله في المركز التجاري.

الخطوة ل: أجد ناتج قسمة ٨٢٥ على عدد ساعات عمله في المطعم.

الخطوة ص: أجد عدد ساعات عمل حامد في المطعم. أي قائمة مما يأتي تبين الخطوات بالتسلسل الصحيح؟

(أ) س، ل، ص (ب) ص، ل، س

(ج) ل، ص، س (د) ص، س، ل



واجباتي

صنّف كلّ عددٍ فيما يأتي إلى أوليّ، أو غير أوليّ:

٦٩ ٢

بما أن العدد ٥٧ له أكثر من عاملين فهو عدد مؤلف.

٤٥ ٣

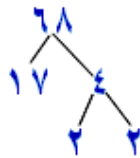
بما أن العدد ٤٥ له أكثر من عاملين فهو عدد مؤلف.

٣١ ٤

بما أن العدد ٣١ له عاملان فقط فهو عدد أولي.

حلّل العدد ٦٨ إلى عوامله الأولية. ٥

$$17 \times 2 \times 2$$



واجباتي

٦ **درجات:** أبلغ منصور ٣ من أصدقائه أنه حصل على درجة كاملة في اختبار الرياضيات، وقام كل منهم بإبلاغ ٣ طلاب آخرين. وعند الظهيرة كان عدد الذين يعلمون الخبر ٣ طالبًا. اكتب هذا العدد في صورة حاصل ضرب العامل في نفسه، ثم أوجد قيمته.

$$٣^٥ = ٣ \times ٣ \times ٣ \times ٣ \times ٣ = ٢٤٣ \text{ طالب.}$$

أوجد قيمة كل عبارة مما يأتي:

$$١٥ + ٢ \times ٣ - ١٢ \quad \text{٧}$$

$$٢١ = ١٥ + ٦ = ١٥ + ٦ - ١٢ =$$

$$٢ \times ٤ - ٢ \div ٧٢ \quad \text{٨}$$

$$١ = ٨ - ٩ = ٢ \times ٤ - ٨ \div ٧٢ =$$



إذا كانت $أ = ٤$ ، $ب = ٣$ ، فاحسب قيمة كلِّ عبارة ممَّا يأتي:

$$١٢ + أ$$

$$١٦ = ١٢ + ٤ =$$

$$ب \div ٢٧$$

$$٩ = ٣ \div ٢٧ =$$

$$٢ - أ$$

$$٥٨ = ٦ - ٦٤ = ٣ \times ٢ - ٢٤ =$$

واجباتي

ذهب سامي ورائدُ

اختيار من متعدد:

١٢

إلى المكتبة، فاشترى كلُّ منهما قلمًا بسعرِ
٣,٥٠ ريالاً، وآلةَ حاسبةٍ بسعرِ ٢٩ ريالاً، وعلبةَ
ألوانٍ بسعرِ ٧,٥٠ ريالاً. فأَيُّ العباراتِ الآتيةِ يمكنُ
استعمالها لحسابِ المبلغِ الذي دفعَهُ الاثنانِ معاً؟

$$(أ) ٧,٥٠ + ٢٩ \times ٢ + ٣,٥٠$$

$$(ب) (٧,٥٠ + ٢٩ \times ٢ + ٣,٥٠ \times ٢)$$

$$(ج) (٧,٥٠ + ٢٩ + ٣,٥٠) \times ٢$$

$$(د) ٧,٥٠ + (٢٩ + ٣,٥٠ \times ٢)$$



أوجد قاعدة كلٍّ من الدالتين الممثلتين بالجدولين الآتيين:

س	س
٨	٣
١٢	٧
١٦	١١

س + ٥

س	س
٠	٠
١	٨
٢	١٦

س ÷ ٨

واجباتي

١٥ **تغذية:** تحتوي حبة البطاطس المتوسطة على ٢٦ جراماً من الكربوهيدرات. عرّف مُتغيراً، واكتب قاعدة الدالة التي تربط كمية الكربوهيدرات بعدد حبات البطاطس.

افترض أن ص ترمز لعدد حبات البطاطا، إذن قاعدة الدالة هي

٢٦ ص.

١٦ **نقود:** مع فهد ٢٢٠ ريالاً في صورة أوراق نقدية من الفئات ٥، ١٠، ٢٠ ريالاً. فإذا كان معه العدد نفسه من الأوراق من الفئتين (٥ ريالاً، ٢٠ ريالاً)، وكان عدد الأوراق من فئة ١٠ ريالاً يزيد بمقدار واحد على عدد الأوراق من فئة ٥ ريالاً، فكم ورقة نقدية من كل فئة معه؟

ما معطيات المسألة؟

افهم

مع فهد ٢٢٠ ريالاً من الفئات ٥، ٢٠، ١٠ ريالاً.

واجباتي

- معه العدد نفسه من الفئتين ٥ ، ٢٠
- عدد الأوراق من فئة ١٠ يزيد بمقدار واحد على عدد الأوراق من فئة ٥

ما المطلوب مني؟

- كم ورقة نقد من كل فئة معه؟

خط

استعمل خطة التخمين والتحقق.

حل

المجموع	عدد الأوراق		
	٢٠	١٠	٥
أقل بكثير	٢٠×٥	١٠×٦	٥×٥
يساوي	٢٠×٦	١٠×٧	٥×٦

معه ٦ أوراق من فئة ٥ ريال و ٧ أوراق من فئة ١٠ ريال و ٦ أوراق من فئة ٢٠ ريالاً.

تحقق

الإجابة معقولة.



حُلِّ كلاً من المعادلتين الآتيتين ذهنياً:

$$١٤ = ٩ + د \quad ١٧$$

$$٥ = ٩ - ١٤ = د$$

$$٧ك = ٥٦ \quad ١٨$$

$$٧ك = ٥٦$$

$$٨ = ٧ \div ٥٦ = ك$$

اختبار تراكمي

القسم ١ الاختيار من متعدد

اختر الإجابة الصحيحة:

١ توجد في إحدى المدارس ١٨ غرفةً صفيةً، في كلُّ منها ٢٢ طالبًا تقريبًا، فما العددُ التقريبيُّ للطلابِ في هذه المدرسة؟

- (أ) ٢٥٠ (ب) ٣٢٥
(ج) ٤٠٠ (د) ٦٥٠

$$\text{عدد الطلاب} = ٢٢ \times ١٨ =$$

$$= ٣٩٦ \text{ طالباً.}$$

واجباتي

٢ يقطعُ مشعلٌ بسيارته مسافةً ٩٧١ كيلومترًا ليصلَ إلى المكانِ الذي يقضي فيه إجازته، ويحتاجُ إلى ٩ ساعاتٍ لقطعِ هذه المسافة، كيفَ تجدُ متوسطَ سرعته خلالَ الرحلة؟

- (أ) أجمعُ المسافةَ الكليةَ إلى الزمنِ الكليِّ.
(ب) أطرحُ الزمنَ الكليَّ من المسافةِ الكليةِ.
(ج) أضربُ المسافةَ الكليةَ في الزمنِ الكليِّ.
(د) أقسمُ المسافةَ الكليةَ على الزمنِ الكليِّ.

الاختيار الصحيح: (د)

٣ يسعُ خزانُ سيارةٍ ٦٠ لترًا من البنزين. إذا امتلأ بعدَ إضافةِ ١٤ لترًا إليه، فأَيُّ معادلةٍ ممَّا يأتي تمثلُ مقدارَ ما كانَ في الخزانِ؟

(أ) $60 = 14 + ك$ (ب) $60 = \frac{ك}{14}$

(ج) $60 = 14 - ك$

(د) $60 = 14 + ك$

الاختيار الصحيح: (د)



واجباتي

٤ بدأ عاملُ الساعة ٨:٤٥ صباحًا طلاءَ غرفةٍ، وأنهى عمله الساعة ١٢:٠٠ ظهرًا، ما الزمنُ التقريبيُّ الذي استغرقه العاملُ في طلاءِ الغرفةِ؟

- (أ) ٢ ساعة (ب) ٤ ساعاتٍ
(ج) ٣ ساعاتٍ (د) ٥ ساعاتٍ

الاختيار الصحيح: (ج)

٥ أيُّ ممَّا يأتي يعبرُ عن تحليلِ العددِ ٥٤٠ إلى عوامله الأوليةِ؟

- (أ) $5 \times 2^3 \times 3^2$ (ب) $5 \times 2^2 \times 3^3$
(ج) $5 \times 2^2 \times 3^3$ (د) $5 \times 2^3 \times 3^2$

الاختيار الصحيح: (ج)

واجباتي

٦ يوضِّح الجدول الآتي عمر كل من نور وريم على مدار ٤ سنوات متتالية:

عمر نور بالسنوات (س)	عمر ريم بالسنوات (ص)
٢	٥
٣	٦
٤	٧
٥	٨

فأي العبارات الآتية يُعدُّ أفضل تمثيل لعمر ريم بدلالة عمر نور؟

- (أ) $٣ + ص$ (ب) $٣ + س$
(ج) $٣ س$ (د) $٣ ص$

الاختيار الصحيح: (أ)

واجباتي

٧ طلب إلى سعد إيجاد عددين مجموعهما ٧١، والفرق بينهما ٣، وكانت إجابته أن العددين هما ٣٩، ٣٦، لماذا كانت إجابة سعد خطأ؟

(أ) الفرق بين ٣٦، ٣٩ لا يساوي ٣

(ب) الفرق بين ٣٦، ٣٩ يساوي ٣

(ج) مجموع ٣٦، ٣٩ لا يساوي ٧١

(د) مجموع ٣٦، ٣٩ يساوي ٧١

الاختيار الصحيح: (ج)

٨ يزيد طول عبد الرحمن ٢٠ سم عن طول أخته، إذا كان مجموع طوليهما ٣١٠ سم، فما طول عبد الرحمن؟

(أ) ١٧٥ سم (ج) ١٥٥ سم

(ب) ١٦٥ سم (د) ١٤٥ سم

$$٣١٠ = ٢٠ - ع + ع$$

$$٣١٠ = ٢٠ - ع٢$$

$$٢٠ + ٣١٠ = ٢٠ + ٢٠ - ع٢$$

$$٣٣٠ = ع٢$$

$$٢ \div ٣٣٠ = ٢ \div ع٢$$

$$ع = ١٦٥ \text{ سم.}$$

واجباتي

٩ تستهلكُ سيارةُ خالدٍ ٣ لتراتٍ من البنزينِ لكلِّ ٢٠ كلم،
فكم لتراتٍ تستهلكُ تقريباً في ١٤٠ كلم؟

- (أ) ٢١ (ب) ٢٣
(ج) ١١٧ (د) ٤٢٠

$$\text{ما تستهلكه} = 3 \times \frac{140}{20} = 21 \text{ لتراتاً.}$$

١٠ يبيِّنُ الجدولُ الآتي المبيعاتَ اليوميةَ لمحَلِّ خضارٍ من التفاحِ:

اليوم	كمية التفاح المبيعة (كجم)
السبت	٤٠
الأحد	٢٠
الاثنين	٣٠
الثلاثاء	٤٢
الأربعاء	٦٥
الخميس	٧٠
الجمعة	٥٠

كم كيلوجراماً من التفاحِ تقريباً بيعَ خلالَ أسبوعٍ؟

- (أ) ٢٥٠ (ب) ١٥٠
(ج) ٣٢٠ (د) ٢٠٠

$$320 = 50 + 70 + 70 + 40 + 30 + 20 + 40$$



القسم ٢ الإجابة القصيرة

أجب عن الأسئلة الآتية:

١١ ما قيمة $٤٥ \div (٧+٢) - ١$ ؟

$$٤ = ١ - ٥ = ١ - ٩ \div ٤٥$$

١٢ ما قيمة $٢س + ٣$ ، إذا كانت $س = ٣$ ؟


$$٩ = ٣ + ٦ = ٣ + (٣)٢$$

١٣ متوسط كتلة دماغ الحصان بالجرامات $٢^٩$ جرام، فكم تساوي هذه القيمة؟

$$512 = 2 \times 2 \times 2 \times 2 \times 2 \times 2 \times 2 \times 2 \times 2 = 2^9$$

القسم ٣ الإجابة المطولة

أجب عن السؤال الآتي موضِّحًا خطوات الحلّ:
 ١٤ تمّ تكوين الأشكال الآتية من عيدان الأسنان:



(أ) كوّن جدولًا يوضِّح عدد عيدان الأسنان
 اللازمة لأول خمسة أشكال.

٥	٤	٣	٢	١	الأشكال
١٤	١٢	١٠	٨	٦	عدد العيدان

(ب) اكتب عبارة تجدُّ من خلالها عدد عيدان
 الأسنان اللازمة لتكوين أيِّ شكلٍ، وفسر
 تبريرك.

بمتابعة النمط نجد انه في كل مرة يضاف ٤ على ضعف رقم

الشكل ٢س + ٤