



التكاثر في النباتات الزهرية

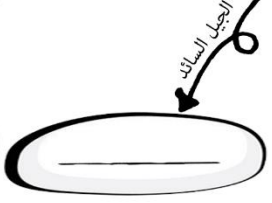
أتوقع اني اعرف مايقارب _____ % من هذه المعلومات



ابدأ من هنا

بعد انتهاءك من قرأت الفصل الخاص بالتكاثر في النباتات وعرفت كل ماهو مطلوب منك عن الزهرة والإخصاب فيها ، سوف نحاول في هذه الورقة أن نتعرف على مواطن قوتك ومعلوماتك عن هذا الفصل . المطلوب: حاول اكمال المخطط هذا بدون أن تفتح الكتاب. وبعد انتهاءك من الإجابة راجع صحة إجابتك في الكتابيلا ورينا ابداعك

ماهي الازهار؟
هي اعضاء التكاثر في النباتات الزهرية ويحدث فيها عملية الاخصاب لتكوين البذور



عضو التكاثر هو
الجيل السائد



(1) _____
ويوجد داخله قلم ويوجد لها نوعان

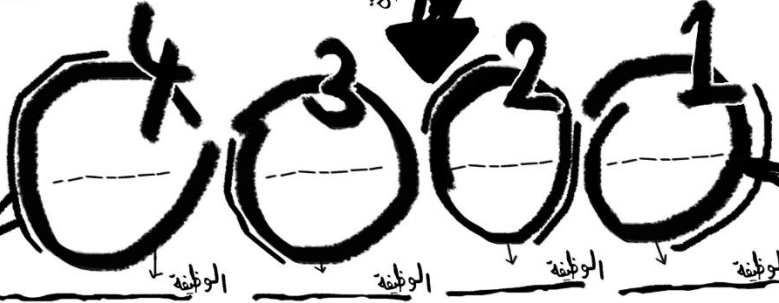
(2) _____
ويوجد داخله قلمتين ولا يوجد

(1) _____
فيها كل اجزاء الزهرة وتسمى ايضا ثنائية الجنس

(2) _____
تفتقد احد اجزاء الزهرة وتسمى ايضا احادية الجنس

تنتج بذور
تسبب
البتلات و السبلات يكون عددهم في ذوات الفلقه الواحده — ومضاعفاتها ، اما ذوات الفلقتين فيكون عددها — أو — ومضاعفاتها

تركيب الزهرة

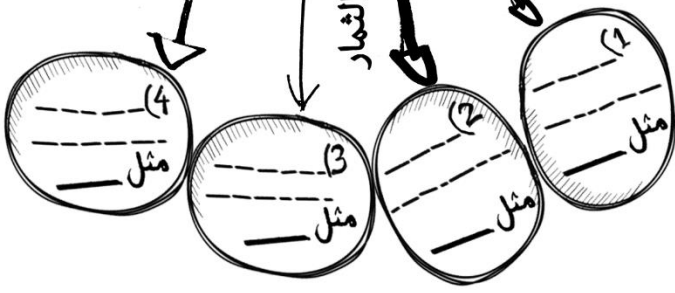


وينقسم الى ثلاث اقسام



يتحول غالبا الى ثمار

أنواع الثمار



هل كان توقعك صحيح في نسبة النجاح ؟
معرفتك بهذه المعلومات ؟

نعم لا



التكاثر في النباتات الزهرية

أتوقع اني اعرف مايقارب % من هذه المعلومات

ابدأ من هنا

بعد انتهاءك من قرأت الفصل الخاص بالتكاثر في النباتات وعرفت كل ماهو مطلوب منك عن الزهرة والإخصاب فيها ، سوف نحاول في هذه الورقة أن نتعرف على مواطن قوتك ومعلوماتك عن هذا الفصل . المطلوب: حاول اكمال المخطط هذا بدون أن تفتح الكتاب. وبعد انتهاءك من الإجابة راجع صحة إجابتك في الكتاب ...يلا ورينا ابداعك

ماهي الازهار؟
هي اعضاء التكاثر في النباتات الزهرية ويحدث فيها عملية الاخصاب لتكوين البذور

البوغوي

(1) ذو فلقه

ويوجد داخله فلقه ويوجد الاندوسبيرم

(2) ذو فلقتين

ويوجد داخله فلقتين ولا يوجد الاندوسبيرم

البتلات و السبلات يكون عددهم في ذوات الفلقه الواحده — ومضاعفاتهما ، اما ذوات الفلقتين فيكون عددها — أو — ومضاعفاتهما

تركيب الزهرة

(1) كاملة

فيها كل اجزاء الزهره وتسمى ايضا ثنائيه الجنس


(2) ناقصة

تفتقد احد اجزاء الزهره وتسمى ايضا احادية الجنس

1 الحيوانات

2 الرياح

3 الذاتي والخلطي

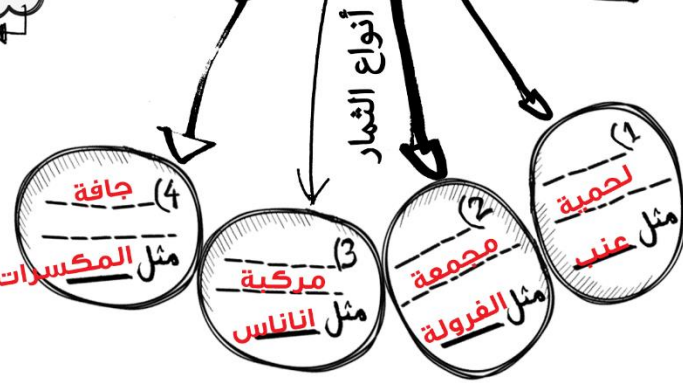


الوظيفة: جذب الملقحات برعم الزهرة
الوظيفة: حماية برعم الزهرة
الوظيفة: عضو التذكير في الزهرة

وينقسم الى ثلاث اقسام
1 مبيض
2 قلم
3 مبيض

1 متك
2 خيط
توجد في جيب القاح

يتحول غالباً الى ثمار



هل كان توقعك صحيح في نسبة معرفتك بهذه المعلومات ؟
لا نعم