



بعد ان تعلمنا كيف نرسم مراحل الانقسام المنصف، الان اكتب ماذا يحدث في كل مرحلة باختصار.

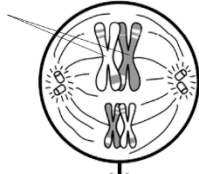
١/ الطور البييني



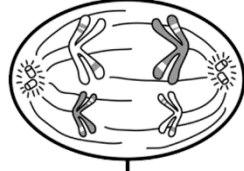
٢/ الطور التمهيدي الاول



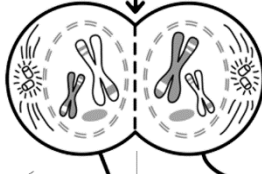
٣/ الطور الاستوائي الاول



٤/ الطور الانفصالي الاول



٥/ الطور النهائي الاول



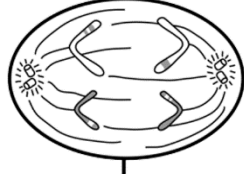
١/ الطور التمهيدي الثاني



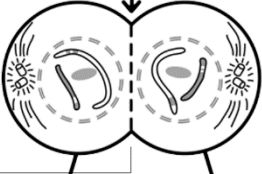
٢/ الطور الاستوائي الثاني



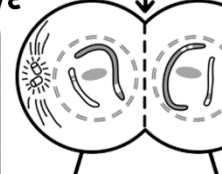
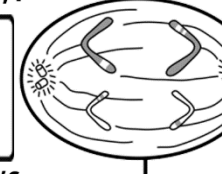
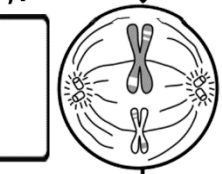
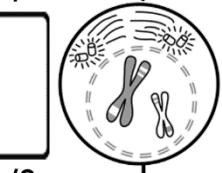
٣/ الطور الانفصالي الثاني



٤/ الطور النهائي الثاني



\* عدد الخلايا الناتجه من الانقسام المنصف هي \_\_\_\_\_ وعدد الكروموسومات فيها هي \_\_\_\_\_



الانقسام المنصف الاول

الانقسام المنصف الثاني



استخدم هذا QR للحصول على نسخة من الاجابة لهذه الورقة

ورقة العمل من تصميم وإعداد أ. فيصل الجمعان @FaisalTheTeacher

بعد ان تعلمنا كيف نرسم الان الان اكتب ماذا يحدث في كل مرحلة باختصار.

