

Name : ..... Class : .....

worksheet : ( Unit 4 )



**Rewrite these sentences :** أعد كتابة الجمل التالية بشكل صحيح على الأسطر

- How old are you ?

.....

- I am ten years old .

.....

**Count and answer :** احسب ثم اكتب الناتج


$1 + 2 = \square$

$2 + 5 = \square$


$3 + 6 = \square$

$5 + 5 = \square$


**Color :** لون



Orange fish



Blue square



Red circle

اعداد الأستاذ  
بدر الشهري



**How is your result ?**



well done



try harder