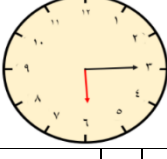
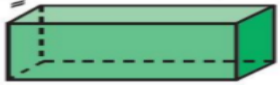












## الاختبار التشخيصي الخاص بالفاقد التعليمي للصف الرابع الابتدائي

الزمن الذي تشير إليه ساعة العقارب هو:							١
أ	ب	ج	د	٦:٣٠	٦:١٥	٦:٠٠	
اسم الجسم التالي:							٢
أ	ب	ج	د	مكعب	هرم	متوازي مستطيلات	
في التمثيل البياني التالي:							٣
ما اللون الذي يفضله أكثر الطلاب؟							
أ	ب	ج	د	الأبيض	الأصفر	الأزرق	
في التمثيل السابق: كم عدد الطلاب الذي يفضلون اللون الأزرق؟							٤
أ	ب	ج	د	٢	٤	١٢	
صف اختيار مثلث من بين الأشكال التالية:							٥
أ	ب	ج	د	أكيد	أكثر احتمال	أقل احتمال	
الكسر الذي يمثل الجزء المظلل في الشكل التالي:							٦
أ	ب	ج	د	$\frac{1}{5}$	$\frac{1}{4}$	$\frac{2}{5}$	
أي الأشكال التالية له محور تماثل؟							٧
لدي بطاقات من ١ إلى ١٠ ما احتمال سحب بطاقة عليها عدد أكبر من ١٠؟							٨
أ	ب	ج	د	أكيد	أكثر احتمال	أقل احتمال	
العدد المناسب في ليكون الكسرين متكافئين في العبارة التالية:							٩
$\frac{\square}{8} = \frac{1}{4}$							
أ	ب	ج	د	١	٢	٤	
الكسر الذي يمثل اللون الأصفر في القرص ذي المؤشر الدوار هو:							١٠
أ	ب	ج	د	$\frac{1}{4}$	$\frac{1}{3}$	$\frac{3}{4}$	

نموذج إجابة الاختبار التشخيصي الخاص بالفاقد التعليمي للصف الرابع الابتدائي

١	الزمن الذي تشير إليه ساعة العقارب هو:								
أ	٦:٣٠	ب	٦:١٥	ج	٦:٠٣	د	٦:٠٠		
٢	اسم الجسم التالي:								
أ	مكعب	ب	هرم	ج	أسطوانة	د	متوازي مستطيلات		
٣	في التمثيل البياني التالي: ما اللون الذي يفضله أكثر الطلاب؟								
أ	الأبيض	ب	الأصفر	ج	الأزرق	د	الأحمر		
٤	في التمثيل السابق: كم عدد الطلاب الذي يفضلون اللون الأزرق؟	أ	٢	ب	٤	ج	١٢	د	١٤
٥	صف اختيار مثلث من بين الأشكال التالية:								
أ	أكد	ب	أكثر احتمال	ج	أقل احتمال	د	مستحيل		
٦	الكسر الذي يمثل الجزء المظلل في الشكل التالي:								
أ	$\frac{1}{5}$	ب	$\frac{1}{4}$	ج	$\frac{2}{5}$	د	$\frac{1}{4}$		
٧	أي الأشكال التالية له محور تماثل؟	أ		ب		ج		د	
٨	لدي بطاقات من ١ إلى ١٠ ما احتمال سحب بطاقة عليها عدد أكبر من ١٠؟	أ	أكد	ب	أكثر احتمال	ج	أقل احتمال	د	مستحيل
٩	العدد المناسب في ليكون الكسرين متكافئين في العبارة التالية:	$\frac{\square}{8} = \frac{1}{4}$							
أ	١	ب	٢	ج	٤	د	٨		
١٠	الكسر الذي يمثل اللون الأصفر في القرص ذي المؤشر الدوار هو:								
أ	$\frac{1}{4}$	ب	$\frac{1}{2}$	ج	$\frac{2}{3}$	د	$\frac{3}{4}$		