

اختبار قبلي

الصف الخامس

الوحدة الرابعة

الصف :

اسم الطالب :

Answer these mathematical equations :

$6 + 7 = \square$

$8 \times 3 = \square$

$15 - 8 = \square$

$16 + 9 = \square$

$22 \div 2 = \square$

$10 \times 3 = \square$

$$\frac{\square}{3}$$

Match :

Paper



Glue







Candy



$$\frac{\square}{3}$$

Listen and fill in with (sp - sw) :

			
__ ing	__ ring	__ ort	__ an

$$\frac{\square}{4}$$

درجة الطالب/ة :

معلم/ة المادة :

توقيع ولي الأمر :

المشرف/ة التربوي/ة :

قائدة المدرسة :