


علم الأرض (الجيولوجيا)

التعليم الثانوي - نظام المقررات

(مسار العلوم الطبيعية)



قام بالتأليف والمراجعة

فريق من المتخصصين

يُوزع مجاناً ولا يُباع

طبعة ١٤٤٢-٢٠٢٠

ح) وزارة التعليم ، ١٤٣٩هـ

فهرسة مكتبة الملك فهد الوطنية أثناء النشر
وزارة التعليم
علم الأرض (الجيولوجية): التعليم الثانوي - نظام المقررات - مسار العلوم
الطبيعية. / وزارة التعليم - الرياض ، ١٤٣٩هـ
٢٥٠ ص ، ٥ ، ٢٧ x ٢١ سم
ردمك : ٨ - ٦٦٠ - ٥٠٨ - ٦٠٣ - ٩٧٨

أ- الجيولوجيا - كتب دراسية
السعودية - أ. العنوان
ديوي ٧ ، ٥٥٠
٢- التعليم الثانوي - مناهج -
١٤٣٩ / ٩٥٢٣

رقم الإيداع: ١٤٣٩ / ٩٥٢٣

ردمك : ٨ - ٦٦٠ - ٥٠٨ - ٦٠٣ - ٩٧٨

حقوق الطبع والنشر محفوظة لوزارة التعليم

www.moe.gov.sa

مواد إثرائية وداعمة على "منصة عين"



IEN.EDU.SA

تواصل بمقترحاتك لتطوير الكتاب المدرسي



FB.T4EDU.COM

بِسْمِ اللَّهِ الرَّحْمَنِ الرَّحِيمِ

الحمد لله رب العالمين، والصلاة والسلام على أشرف الأنبياء والمرسلين، وعلى آله وصحبه أجمعين، وبعد:

يأتي اهتمام المملكة بتطوير المناهج الدراسية وتحديثها من منطلق أحد التزامات رؤية المملكة العربية السعودية (٢٠٣٠) وهو: "إعداد مناهج تعليمية متطورة تركز على المهارات الأساسية بالإضافة إلى تطوير المواهب وبناء الشخصية"، وذلك من منطلق تطوير التعليم وتحسين مخرجاته ومواكبة التطورات العالمية على مختلف الصعد.

وقد جاء كتاب علم الأرض داعماً لرؤية المملكة العربية السعودية (٢٠٣٠) نحو الاستثمار في التعليم عبر "ضمان حصول كل طالب على فرص التعليم الجيد وفق خيارات متنوعة". وقد جاء هذا الكتاب في ثمانية فصول، هي: المعادن، والصخور النارية، والصخور الرسوبية والمتحولة، والمياه الجوفية، والصفائح الأرضية، والبراكين، والزلازل، والأحافير والسجل الصخري.

وقد تم بناء محتوى كتاب الطالب بطريقة تتيح ممارسة العلم كما يمارسه العلماء، وجاء تنظيم المحتوى بأسلوب مشوق يعكس الفلسفة التي بنيت عليها سلسلة مناهج العلوم من حيث إتاحة الفرص المتعددة للطالب لممارسة الاستقصاء العلمي بمستوياته المختلفة: المبني والموجه والمفتوح. من خلال تنفيذ التجربة الاستهلاكية، وتجربة، ومختبر حل المشكلات، ومختبر الجيولوجيا، وبما يُعزز أيضاً مبدأ رؤية ٢٠٣٠ "نتعلم لنعمل".

وعندما تبدأ دراسة المحتوى تجد في كل قسم ربطاً بين المفردات السابقة والمفردات الجديدة، وفكرة رئيسة خاصة بكل قسم ترتبط مع الفكرة العامة للفصل. وستجد أدوات أخرى تساعدك على فهم المحتوى، منها ما يتعلق بالربط بمحاور رؤية (٢٠٣٠) وأهدافها الاستراتيجية ومنها ربط المحتوى مع واقع الحياة. وكذلك تضمن كل قسم مجموعة من الصور والأشكال والرسوم التوضيحية بدرجة عالية الوضوح تعزز فهمك للمحتوى.

وقد وظفت أدوات التقويم الواقعي في مستويات التقويم بأنواعه الثلاثة: التمهيدي، والتكويني، والختامي؛ إذ يمكن توظيف الصورة الافتتاحية والتجربة الاستهلاكية في كل فصل بوصفهما تقويماً تمهيدياً؛ لتقييم ما يعرفه الطلاب عن موضوع الفصل. ومع التقدم في دراسة كل جزء من المحتوى تجد سؤالاً تحت عنوان «ماذا قرأت؟»، وفي نهاية الفصل تجد دليلاً لمراجعة الفصل يتضمن تذكيراً بالفكرة العامة والأفكار الرئيسة والمفردات، وخلاصة بالأفكار الرئيسة التي وردت في كل قسم. كما تجد تقويماً للفصل في صورة أسئلة متنوعة تهدف إلى مراجعة المفردات وتثبيت المفاهيم، وأسئلة بنائية، وأسئلة خاصة بالتفكير الناقد، وتصميم خرائط مفاهيمية، وسؤال تحفيز. وفي نهاية كل فصل تجد اختباراً مقنناً يهدف إلى تقويم فهمك للموضوعات التي درستها في الفصل.

والله نسأل أن يحقق الكتاب الأهداف المرجوة منه، وأن يوفق الجميع لما فيه خير الوطن وتقدمه وازدهاره.

دليل الطالب

- كيف نستفيد من كتاب علم الأرض؟ 6
 مقدمة إلى علم الأرض 9

الفصل 1

المعادن

- 1-1: ما المعدن؟ 14
 1-2: أنواع المعادن 16
 السياحة الجيولوجية 26
 مختبر الجيولوجيا 32
 دليل مراجعة الفصل 33
 تقييم الفصل 34
 اختبار مقنن 35

الفصل 2

الصخور النارية

- 2-1: ما الصخور النارية؟ 40
 2-2: تصنيف الصخور النارية 42
 الجيولوجيا والبيئة 48
 مختبر الجيولوجيا 54
 دليل مراجعة الفصل 55
 تقييم الفصل 56
 اختبار مقنن 57

الفصل 3



الصخور الرسوبية والمتحولة

- 3-1: تشكّل الصخور الرسوبية 62
 3-2: أنواع الصخور الرسوبية 64
 3-3: الصخور المتحولة 71
 السياحة الجيولوجية 76
 مختبر الجيولوجيا 83
 دليل مراجعة الفصل 84
 تقييم الفصل 85
 اختبار مقنن 86

الفصل 4

المياه الجوفية

- 4-1: حركة المياه الجوفية وتخزينها 90
 4-2: موارد المياه الجوفية 92
 الجيولوجيا والبيئة 99
 مختبر الجيولوجيا 105
 دليل مراجعة الفصل 106
 تقييم الفصل 107
 اختبار مقنن 108



الفصل 7

166	الزلازل
168	7-1: الأمواج الزلزالية وبنية الأرض
176	7-2: قياس الزلازل وتحديد أماكنها
182	7-3: الزلازل والمجتمع
189	الجيولوجيا والمجتمع
190	مختبر الجيولوجيا
191	دليل مراجعة الفصل
192	تقويم الفصل
194	اختبار مقنن

الفصل 8

196	الأحافير والسجل الصخري
198	8-1: السجل الصخري
203	8-2: التأريخ الجيولوجي
215	علم الأرض والتقنية
216	مختبر الجيولوجيا
217	دليل مراجعة الفصل
218	تقويم الفصل
220	اختبار مقنن

الفصل 5

112	الصفائح الأرضية
114	5-1: انجراف القارات
119	5-2: توسع قاع المحيط
126	5-3: حدود الصفائح وأسباب حركتها
134	الجيولوجيا والبيئة
135	مختبر الجيولوجيا
137	دليل مراجعة الفصل
138	تقويم الفصل
140	اختبار مقنن

الفصل 6

142	البراكين
144	6-1: ما البركان؟
153	6-2: الثورات البركانية
159	علم الأرض والتقنية
160	مختبر الجيولوجيا
161	دليل مراجعة الفصل
162	تقويم الفصل
164	اختبار مقنن

مرجعيات الطالب

224	صفات المعادن ذات البريق الفلزي
225	صفات المعادن ذات البريق اللافلزي
226	الصخور
227	سلم الزمن الجيولوجي
228	الجدول الدوري للعناصر
230	المعادن الفلزية في المملكة العربية السعودية
232	خريطة ظهور المحيطات
234	حدود الصفائح
236	جيولوجية شبه الجزيرة العربية
238	مواقع محطات الرصد الزلزالي
239	مواقع المراكز السطحية للزلازل في العالم
240	الحرات في المملكة العربية السعودية
242	المصطلحات



عندما تقرأ كتاب علم الأرض إنما تقرؤه للحصول على المعلومات؛ فالكتابة العلمية ليست مجرد كتابة خيالية، وإنما تصف أحداثاً حياتية واقعية تربط الناس مع الأفكار والتقنيات. وفيما يأتي بعض الأدوات التي تضمنها الكتاب والتي تساعدك على القراءة.

قبل أن تقرأ

اقرأ كلاً من **الفكرة العامة** و **الفكرة الرئيسية** قبل قراءة الفصل أو في أثنائها؛ فهي تزودك بنظرة عامة تمهيدية لهذا الفصل.



الفكرة العامة تقدم صورة شاملة لكل فصل، ولكل موضوع

من موضوعات الفصل.

الفكرة الرئيسية تصف الموضوع، وتدعم فكرته العامة.

ما المعادن؟
المعادن مادة صلبة في الطبيعة في صورة مركب غير عضوية أو عنصر

طرائق أخرى للتصفح

- اقرأ عنوان الفصل لتتعرف موضوعاته.
- تصفح الصور والرسوم والجداول.
- ابحث عن المفردات البارزة والمظللة باللون الأصفر.
- اعمل مخططاً للفصل مستخدماً العناوين الرئيسة والعناوين الفرعية.

عندما تقرأ

في كل جزء من الفصل ستجد أساليب لتعميق فهمك للموضوعات التي ستدرسها، واختبار مدى استيعابك لها.

الربط مع الحياة: يصف ارتباط المحتوى مع حياتك.

1-1

ما المعدن؟ What is a mineral?



تعريف المعدن مادة صلبة توجد في الطبيعة، في صورة مركب غير عضوي أو عنصر، ولها شكل بلوري ثابت.

الربط مع الحياة: انظر حولك في غرفة صفك، لتجد الفلز في مقعدك والجرانيت في قلمك الرصاص، والزجاج في النوافذ. هذه الأشياء أمثلة على استعمال الإنسان المعاصر لمواد مصنوعة من المعادن.

الخصائص العامة للمعادن Mineral Characteristics

تتكون القشرة الأرضية من 3000 معدن تقريباً، للمعدن Mineral مادة طبيعية، صلبة، غير عضوية لها مكونات كيميائية معينة، وبناء بلوري. عدد، انظر الشكل 1-1. وهذه المعادن كوتت الصخور وتشكلت سطح الأرض. وقد ساعدت بعض المعادن في تشكيل الحضارة الإنسانية، فقد حدث تقدم في مرحلة ما قبل التاريخ عندما تمكن الإنسان وتخليق من استخلاص فلز الحديد، واستعماله في صنع أدواته. وقد قال تعالى في محكم آياته: ﴿وَتَوَلَّى نَكَبًا بِآيِ النَّجْمِ وَيَوْمَ تَوَلَّى سَوْدًا يَلْمِزُ أَهْلَ الْبُلْدِ الَّذِينَ آمَنُوا وَيَوْمَ تَوَلَّى سَوْدًا يَلْمِزُ أَهْلَ الْبُلْدِ الَّذِينَ آمَنُوا﴾ سورة الحديد.

تتكون بشكل طبيعي وغير عضوي Naturally occurring and inorganic تتكون المعادن بطرق طبيعية. لهذا، فإن الألبان الصناعي والمواد الأخرى التي تم تحضيرها في المختبرات لا تعدّ معادن.

الأهداف

- تعريف المعدن.
- تصف كيف تتكون المعادن.
- تصف المعادن حسب خصائصها الكيميائية والفيزيائية.
- مراجعة المفردات
- العنصر: مادة نقية لا يمكن تقطيعها إلى مواد أبسط بطرق فيزيائية أو كيميائية.
- المفردات الجديدة
- المعدن
- البلورة
- الجرانيت
- الفسارة
- الانقسام
- المكسر
- المخفس
- الوزن النوعي



الكالسيت



البيريت

الشكل 1-1-1 يعكس أشكال بلورات المعادن هذه الترتيب الداخلي للذرات.

16



جرانيت تحت المجهر

صخر الجرانيت

الشكل 2-12 يمكن ترميز المعادن المكونة للجرانيت باستعمال شرائح رقيقة تحت المجهر المنطبخ.

الشرائح الرقيقة Thin Sections

تعرّف الصخر يخص الجيولوجيون بلورات المعادن في العينات الصخرية في صورة شرائح رقيقة تحت أنواع خاصة من المجاهر. والشرائح الرقيقة قطعة من الصخر سمكها 0.03 mm تقريباً، مثبتة على قلمة زجاجية بحيث تسمح بنفاذ الضوء خلالها. ويوضع الشكل 2-12 مقطع من الجرانيت تحت المجهر.

الصخور النارية موارد طبيعية Igneous rocks as Resources

الصخور النارية أهمية اقتصادية كبيرة في حياتنا، فالعديد من المعادن التي تستخدم في المجاهرات وتلويرو فيها، ويمكن أن يستخلص منها العديد من العناصر المعدنية ومنها الليثيوم وغيره مما يدخل في مجالات عديدة في حياتنا، وتستخدم الصخور النارية أيضاً في المباني. وتوضح الفقرات التالية بعض هذه الاستخدامات:

الصنوبر Vienna يحتوي الرافع الشبكي من تبلور الصهارة على تراكيز عالية من السيليكا واللؤلؤ، كما يحتوي على شوائب أو بقايا من عناصر لم تصنف ضمن الصخور النارية فالذهب والفضة والرصاص والنحاس من الفلزات التي لم تتضمنها المعادن الشائعة. وتحتوي هذه العناصر من السيليكا اللدنية في نهاية عملية تبلور الصهارة، على هيئة مواقع ساخنة غنية بالعناصر، مملاً الشقوق والفراغات في الصخور الجانورة. وتتصلب هذه المواقع مكونة عروقاً غنية في مهد الذهب في المملكة العربية السعودية. وبين الشكل 2-13 ذباً متكرراً في عروق الكوارتز.



الشكل 2-13 صخر الذهب والكوارتز من الناجم ثم يصفان لاحقاً. استغل ما الذي يمكنك تحديده من هذه الصورة عن درجة تصهار الذهب؟

51

الروابط البيئية يتضمن محتوى علم الأرض أجزاء من فصول وفقرات تؤكد التطبيقات البيئية المرتبطة مع واقع الحياة: وعندما تشاهد هذه الأيقونة فكر في كيفية ربط المحتوى مع العالم من حولك.



ماذا قرأت؟ أسئلة تقوّم مدى فهمك لما درسته.

الانقسام و المكسر: يكون للمعدن انقسام إذا انكسر بسهولة و **بمستويات** في اتجاه واحد (المايكا) أكثر لضعف الترابط بين الذرات يكون للمعدن مكسر إذا انكسر بشكل منتظم وبحواف متعرجة خشنة بسبب الترابط بين الذرات الكوارتز - الصوان الحكاكة: هي لون مسحوق المعدن لا يمكن استخدام هذه الخاصية إلا مع المعادن الأطرى من الخنزف الوزن النوعي: هو النسبة بين كتلة المادة إلى كتلة حجمها من الماء في درجة حرارة 0 م

مهارات قرائية

- اسأل نفسك: ما **(الفكرة العامة)**؟ وما **(الفكرة الرئيسية)**؟
- فكر في المخلوقات الحية والمواقع والمواقف التي مررت بها، هل بينها وبين دراستك لمادة علم الأرض علاقة؟
- اربط معلومات هذا الكتاب مع المجالات العلمية الأخرى.
- توقع نتائج باستخدام المعلومات التي لديك.
- غير توقعاتك حينما تقرأ معلومات جديدة.

بعدما قرأت

اقرأ الخلاصة وأجب عن الأسئلة لتقويم مدى فهمك لما درسته.

يتضمن كل جزء من الفصل أسئلة و خلاصة. تقدم الخلاصة مراجعة للمفاهيم الرئيسية، بينما تختبر الأسئلة فهمك لما درست.

Remote Sensing، وتستخدم هذه الطريقة من خلال الأقمار الاصطناعية أو طائرات تحمل معدات خاصة بجمع بيانات وتصورات عن إشارات معينة، أو التركيب الجيولوجية الخاصة للجيومات المعينة على سطح الأرض. وتحتد هذه الطريقة على قياس مقدار الطاقة الكهرومغناطيسية المنبعثة أو المنعكسة عن الأجسام المراد دراستها، كسماءها باستخدام برمجيات خاصة، وتتم صور وعرضها للأجسام والبيئات. ومن أهم تطبيقات هذه التقنية التي يتم استخدامها في مجالات الطب والبيئة والجيولوجيا والجيولوجيا والبيئات الحضرية.

ويوجد في المملكة العربية السعودية الكثير من المجالات التطبيقية، من أهمها المجال الذي يستخرج من نتائج صور الأقمار والصور الفضائية والبيانات التي تأتي من الأقمار الاصطناعية والبيانات التي تأتي من الأقمار الاصطناعية والبيانات التي تأتي من الأقمار الاصطناعية.

الأحجار الكريمة Gem ما الذي يجعل القزرات أكثر قيمة من المكافئة لندرتها، وتكونه أكثر جمالاً من المكافئة، لذا يعتبر القزرات من الأحجار الكريمة، والأحجار الكريمة Gem مواد صلبة وواضحة وجميلة، فضلاً عن صلابتها وقوتها لمقاومة الخدش، والأحجار الكريمة صلبة، وتتضمن في صناعتها المعادن الثقيلة، وتوجد في شكل 1-23 أشكالاً مختلفة، وأخر غير معروفة.

ولا بد وجود بعض الشوائب أحياناً في أحد المعادن لإعطاء اللون، فمثلاً، وأمل تلك من المعدن الذي نقتنه. فلو كانت حبيبات من الكوارتز حيث يجري حل كمية من الحديد الذي يعمل ألونه بنفسه، ومنه الكوارتز الذي يستعمل في جعل أدوات القطع أكثر صلابة بعد أيضاً في تشكيل من الأحجار الكريمة كما: الكوارتز، وهو أكثر صلابة، حيث يجري القزرات على كميات كبيرة من عنصر الكروم، يتأثر يجري الزفير على مقدار شغل من الكربون والنتروجين.



اختبار مقنن

تقويم الفصل 1

1. أي المعدن الآتي لا يمكن تحديده تحليله باستخدام طريقة الأوسمان؟
 أ. الكوارتز
 ب. الكالسيت
 ج. الجبس
 د. الكبريت

2. ما الخاصية التي تصف المصطنعات الألياف، ماثت؟
 أ. البريق
 ب. اللؤلؤ
 ج. الصلابة
 د. الأقسام

3. ما الذي يحدد لون الأحجار الكريمة؟
 أ. نوع المعدن
 ب. نوع المعدن
 ج. نوع المعدن
 د. نوع المعدن

4. أي المعدن الآتي لا يمكن تحديده تحليله باستخدام طريقة الأوسمان؟
 أ. الكوارتز
 ب. الكالسيت
 ج. الجبس
 د. الكبريت

5. ما الخاصية التي تصف المصطنعات الألياف، ماثت؟
 أ. البريق
 ب. اللؤلؤ
 ج. الصلابة
 د. الأقسام

6. ما الذي يحدد لون الأحجار الكريمة؟
 أ. نوع المعدن
 ب. نوع المعدن
 ج. نوع المعدن
 د. نوع المعدن

7. أي المعدن الآتي لا يمكن تحديده تحليله باستخدام طريقة الأوسمان؟
 أ. الكوارتز
 ب. الكالسيت
 ج. الجبس
 د. الكبريت

8. ما الخاصية التي تصف المصطنعات الألياف، ماثت؟
 أ. البريق
 ب. اللؤلؤ
 ج. الصلابة
 د. الأقسام

9. ما الذي يحدد لون الأحجار الكريمة؟
 أ. نوع المعدن
 ب. نوع المعدن
 ج. نوع المعدن
 د. نوع المعدن

10. أي المعدن الآتي لا يمكن تحديده تحليله باستخدام طريقة الأوسمان؟
 أ. الكوارتز
 ب. الكالسيت
 ج. الجبس
 د. الكبريت

التقويم 1-2

الخلاصة

1. ترتبط قزرات من السيليكات مع أربع ذرات من الأكسجين لتكوين جرم بلوري الأربعة.

2. مجموعات المعادن الرئيسية تتقسم إلى: السيليكات والكربونات والأكاسيد والكبريتات والفلورينات والكبريتات والفلورينات والمعادن الحرة.

3. يجري الحل على مادة قيمة، لتعطيها قيمة اقتصادية.

4. الأحجار الكريمة معادن قيمة لتدورها وجمالها.

مهم الأقسام الرئيسية

1. صنع جلة توضيح العلاقة بين العناصر الكيميائية الأخرى المعادن.

2. اعمل قائمة توضيح العناصر من الأخر شهوراً في القشرة الأرضية، واتق اسم المجموعة البلورية التي يشكلها.

3. كون قائمة تشرح لماذا لا يوجد الألياف معاً.

4. اشرح في القزرات الآتي يفسر استخدامه في الأدوات الرياضية وفي التطبيقات الطبية: الكوارتز الذي وزنه النوعي 4.5 وجرمي من T1 فقط، لم القزرات الذي وزنه النوعي 7.7 وجرمي من C2 و C3 و C4 و C5.

5. اشرح إعلان قيم معدن من المعادن، يمكنك اختيار أحجار كريمة أو معدن مهم صناعتها، وفسح الإعلان أي معلومات تظن أنها ستساعدك على بيع المعدن.

في نهاية كل فصل أسئلة التقويم، فضلاً عن أسئلة الاختبارات المقننة.

طرائق أخرى للمراجعة

- حدّد **(الفكرة العامة)**.
- اربط **(الفكرة الرئيسية)** مع **(الفكرة العامة)**.
- استخدم كلماتك الخاصة لتوضيح ما قرأت.
- وظّف المعلومات التي تعلمتها في المنزل، أو في موضوعات أخرى تدرسها.
- حدد المصادر التي يمكن أن تستخدمها للبحث عن مزيد من المعلومات حول الموضوع.

علم الأرض Earth Science

مجال علم الأرض The Scope of Earth Science

مجال علم الأرض مجال واسع، يمكن تقسيمه إلى خمسة تخصصات رئيسة هي: علم الفلك، علم الأرصاد الجوية، علم طبقات الأرض، علم المحيطات، علم البيئة.

علم الفلك Astronomy يسمّى العلم الذي يدرس الأجسام الموجودة خارج نطاق الغلاف الجوي الأرضي. وقبل اكتشاف الأجهزة المعقدة المستخدمة في الرصد - ومنها التلسكوب الظاهر في الشكل 1 كان الفلكيون يقتصرون على وصف مواقع الأجسام الفضائية بعضها بالنسبة إلى بعض. أما اليوم فأصبح علم الأرض يدرس الكون وكل شيء فيه، ويشمل ذلك: المجرات، والنجوم، والكواكب، والأجرام السماوية الأخرى.

علم الأرصاد الجوية Meteorology يسمّى العلم الذي يدرس القوى والعمليات التي تسبب تغييراً في الغلاف الجوي وتكوّن الطقس. ويحاول علماء الأرصاد الجوية توقع حالة الطقس، وتعرّف كيف يمكن أن تؤثر تغيرات الطقس في مناخ الأرض مع مرور الزمن.



الشكل 1 أحد التلسكوبات الحديثة الموجود في جزيرة موناكيا في هاواي.

علم طبقات الأرض Geology هو العلم الذي يدرس المواد المكوّنة للأرض، والعمليات التي تعمل على تكوّن وتغيّر تلك المواد، كما يدرس علمُ الجيولوجيا تاريخ الأرض وأشكال الحياة منذ نشأتها. ويعمل الجيولوجيون على تعرّف الصخور، ودراسة حركات الجليديات، ويفسّرون الأدلة التي تشير إلى أن تاريخ الأرض قد بدأ قبل 4.6 بليون سنة، ويحددون كيف تُغيّر بعض القوى كوكبنا.

علم البيئة Environmental يسمى العلمُ الذي يدرس العلاقات المتبادلة بين المخلوقات الحية والبيئة المحيطة بها علمُ البيئة. ويُدرس علماءُ البيئة كيف تؤثر المخلوقات الحية في البيئة المحيطة بها بشكل إيجابي أو سلبي. والمواضيع التي يدرسها علماءُ البيئة تشملُ المواردَ الطبيعية، والتلوث، ومصادر الطاقة البديلة، وتأثير الإنسان في الغلاف الجوي.

علم المحيطات Oceanography تغطي المحيطات حوالي ثلاثة أرباع سطح الأرض، ويسمى العلم الذي يدرس المحيطات ومكوناتها علمُ المحيطات. ويدرس هذا العلم المخلوقات الحية التي تعيش في المياه المالحة، وقياس الخصائص الفيزيائية والكيميائية للمحيطات، كما يرصد العمليات المختلفة في هذه المسطحات المائية. وعندما يقوم علماء المحيطات بأبحاثهم العملية فغالبًا ما يغوصون في أعماق المحيطات لجمع البيانات، انظر الشكل 2.



الشكل 2 يدرس علماء المحيطات حياة المخلوقات الحية والخصائص المختلفة للمحيط.

تخصصات فرعية Subspecialties تتألف التخصصات الرئيسة لعلم الأرض من تخصصات فرعية مختلفة، ويوضح

الجدول 1 بعض تلك التخصصات.

أمثلة على التخصصات الفرعية لعلم الأرض		الجدول 1
المواضيع التي تدرسها	التخصص الفرعي	التخصص الرئيس
فيزيائية الكون، وتشمل الخصائص الفيزيائية للأجرام السماوية الموجودة في الفضاء.	الفيزياء الفلكية Astrophysics	علم الفلك Astronomy
الكواكب والعمليات التي تكونها.	علم الكواكب Planetary science	
نمط الطقس خلال فترة زمنية طويلة.	علم المناخ Climatology	علم الأرصاد Meteorology
كيمياء الغلاف الجوي للأرض وللکواكب الأخرى.	كيمياء الغلاف الجوي Atmospheric chemistry	
بقايا المخلوقات الحية التي عاشت على الأرض، والبيئات القديمة.	علم الأحافير Paleontology	علم طبقات الأرض Geology
تركيب الأرض والعمليات التي تغيرها.	الجيوكيمياء geochemistry	
الخصائص الفيزيائية للمحيطات ومنها: الملوحة، والموجات، والتيارات البحرية.	علم المحيطات الفيزيائي Physical oceanography	علم المحيطات Oceanography
المميزات الرئيسة لقاع المحيط، وتشمل الصفائح التكتونية للمحيط.	جيولوجية البحار Marine geology	
التفاعلات بين الإنسان والتربة، ومنها: تأثير الأساليب الزراعية، آثار الملوثات على التربة والنباتات والمياه الجوفية.	علم بيئة التربة Environmental soil science	علم البيئة Environmental science
التغيرات الكيميائية المؤثرة في البيئة بسبب التلوث والطرق والعمليات الطبيعية.	كيمياء البيئة Environmental chemistry	

أغلفة الأرض Earth's Spheres


حدّد العلماء الذين يدرسون الأرض أربعة أغلفة رئيسة هي: الغلاف الصخري، والغلاف الجوي، والغلاف المائي، والغلاف الحيوي. وكل غلاف من هذه الأغلفة له خصائص تميّزه ومع ذلك يتفاعل مع باقي الأغلفة.

الغلاف الصخري Geosphere تسمى المنطقة التي تمتدّ من سطح الأرض حتى مركزها الغلاف الصخريّ. ويقسم هذا الغلاف إلى ثلاثة أجزاء رئيسة هي: القشرة، والستار، واللب. ويبيّن الشكل 3 تلك الأجزاء. أما القشرة فهي الغلاف الخارجي للأرض، وتكون في الحالة الصلبة، وهي نوعان: قشرة قارية، وقشرة محيطية. ويقع الستار أسفلّ منها، ويختلف عنها من حيث التركيب والخصائص الفيزيائية. وتتراوح درجة حرارة الستار بين 100°C و 4000°C ، وهو أعلى حرارة من القشرة الأرضية. ويقع أسفلّ الستار لبّ الأرض ويقسم إلى قسمين: لبّ خارجي سائل، ولبّ داخلي صلب.

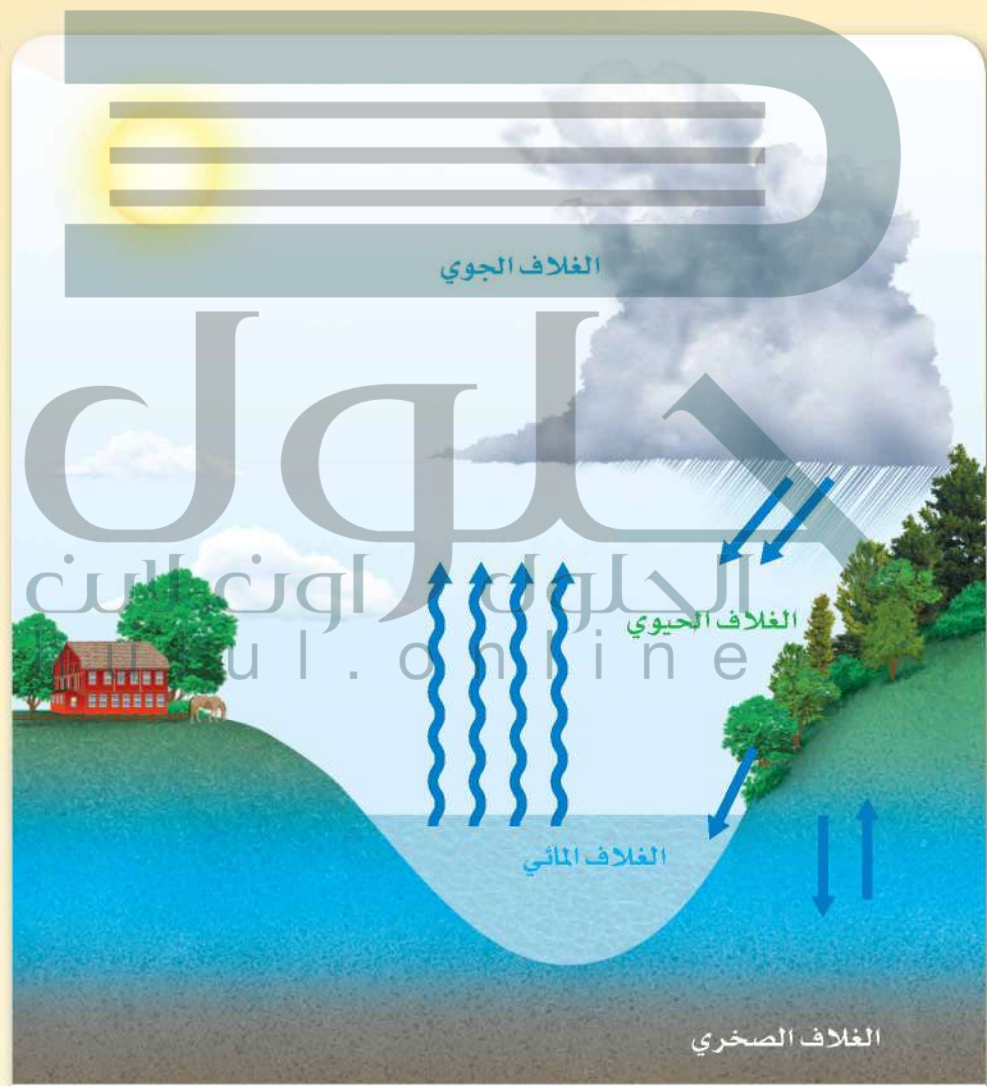
الغلاف الجوي Atmosphere تسمى طبقة الغازات التي تحيط بكوكبنا الغلاف الجويّ. ويتكون الغلاف الجوي من: 78% نيتروجين، و21% أكسجين، ونسبة 1% الباقية تشمل بخار الماء والأرجون وثاني أكسيد الكربون وغيرها من الغازات. وللغلاف الجوي العديد من الفوائد، منها: تزويد المخلوقات الحية بالأكسجين، وحماية سكان الأرض من الأشعة الضارة الآتية من الشمس، والمساعدة على الحفاظ على كوكب الأرض عند درجة حرارة مناسبة لحياة المخلوقات الحية فيه.

الغلاف المائي Hydrosphere هو جميع المياه الموجودة على الأرض، ومن ضمنها المياه الموجودة في الغلاف الجوي. وتشكّل المياه المالحة حوالي 97% من مياه الأرض، بينما تشكّل المياه العذبة النسبة الباقية وتساوي 3%. وتتواجد المياه العذبة في كل من: الجليديات، والبحيرات، والأنهار، والمياه الجوفية الموجودة في باطن الأرض.

الشكل 3 يتكون الغلاف الصخري من القشرة والستار واللب. لاحظ قلة سماكة القشرة الأرضية مقارنة بباقي الأجزاء.



الغلاف الحيوي Biosphere يشمل الغلاف الحيويُّ جميع المخلوقاتِ الحيةِ التي تعيش على كوكب الأرض، بالإضافة إلى البيئات التي تعيش فيها. وتعيش معظم المخلوقات الحية ضمن أعماق لا تتعدى عدة أمتار من سطح الأرض. ولكن بعضها تعيش على أعماق كبيرة تحت سطح المحيطات. وبعضها يعيش على قمم الجبال العالية. وتتطلب جميع أشكال الحياة تفاعلاً على الأقل مع واحد من الأغلفة الأخرى؛ لبقائها على قيد الحياة. ويبين الشكل 4 الترابط بين الأغلفة الأربعة، فمثلاً الغلاف الجوي الأرضي الحالي تَشَكَّلَ قبل ملايين السنين خلال تفاعله مع كل من الغلاف الصخري والغلاف المائي والغلاف الحيوي. وتُغيَّر المخلوقاتُ الحية - ومنها الإنسان - بشكل مستمر في الغلاف الجوي من خلال أنشطتها وعملياتها الطبيعية.



الشكل 4 تعتمد أغلفة الأرض على بعضها البعض. لاحظ كيف ينتقل الماء من الغلاف المائي إلى الغلاف الجوي ثم يهطل على الغلاف الحيوي ثم يترشح إلى داخل الغلاف الصخري.



الهوابط

ترسيب كربونات الكالسيوم

بلورات أراجونيت

الفكرة العامة المعادن جزء ضروري في حياتنا اليومية.

1-1 ما المعدن؟

الفكرة الرئيسية المعدن مادة صلبة غير عضوية توجد في الطبيعة، لها تركيب كيميائي، وشكل بلوري ثابت.

1-2 أنواع المعادن

الفكرة الرئيسية تصنف المعادن اعتمادًا على خواصها الكيميائية وخصائصها الفيزيائية.

حقائق جيولوجية

- المعدل الزمني لتكوّن الهوابط في الكهوف يساوي آلاف السنين. وتفيد بعض التقديرات أن الهوابط تنمو بمعدل 10 cm كل 1000 عام؛ أي ما يعادل 0.1 mm كل عام.
- قد يعادل قطر أحد أنواع الهوابط الذي يسمى Soda Straw قطرة الماء التي تسقط منه بينما قد يتجاوز طوله تسعة أمتار.

تعرف المعادن


اعمل المطوية الآتية، وسجل فيها الخواص الفيزيائية التي تستخدم في تعرف المعادن.

المطويات

منظمات الأفكار



الخطوة 1: ضع أربع أوراق من دفتر الملاحظات بعضها فوق بعض، متباعدة إحداها عن الأخرى بمقدار 2cm كما في الشكل المجاور.



الخطوة 2: اثن الطرف السفلي للأوراق لتكوين سبعة ألسنة متساوية. ثم اضغط بقوة على الجزء المطوي لتثبت الألسنة في أماكنها.



الخطوة 3: ثبت الأوراق المطوية معاً بالدبابيس من الأعلى كما في الشكل المجاور.

الخطوة 4: اكتب الخواص الفيزيائية المستعملة في تعرف المعادن على كل لسان.

استخدم هذه المطوية في القسم 1-1، مع قراءتك هذا الدرس، صف الخواص الفيزيائية والكيميائية للمعادن المستعملة في كل فحص.

تجربة استهلاكية

ما الأشكال التي تتخذها المعادن؟

رغم وجود آلاف المعادن في القشرة الأرضية، إلا أن لكل معدن خصائص فريدة تميزه عن غيره من المعادن. تدل هذه الخصائص على مكونات المعدن وعلى الطريقة التي تكوّن بها، وتستعمل الخواص الفيزيائية في التمييز بين المعادن.



الخطوات

1. اقرأ تعليمات السلامة في المختبر.
2. ضع قليلاً من حبيبات ملح الطعام (معدن الهاليت) على شريحة المجهر. ضع الشريحة على منضدة المجهر، أو شاهد الحبيبات باستخدام العدسة المكبرة.
3. ركز على حبيبة واحدة في كل مرة. عدّ أوجه كل حبيبة، ثم ارسمها.
4. اختبر بلورة كوارتز بعد ذلك باستخدام المجهر أو العدسة المكبرة. عدّ جوانب البلورة، ثم ارسمها. (قد لا تحتاج إلى عدسة مكبرة إذا كانت بلورة الكوارتز أو الهاليت كبيرة الحجم).

التحليل

1. قارن بين شكل بلورة الكوارتز وبلورة الهاليت.
2. صف خواص أخرى لعيناتك المعدنية.
3. استنتج سبب الفروق التي شاهدها.

ما المعدن؟ What is a mineral?

الأهداف

تتعرف المعدن.

تصف كيف تتكون المعادن.

تصنف المعادن حسب خصائصها الكيميائية والفيزيائية.

مراجعة المفردات

العنصر: مادة نقية لا يمكن تفتيتها إلى مواد أبسط بطرائق فيزيائية أو كيميائية.

المفردات الجديدة

المعدن

البلورة

البريق

القساوة

الانفصام

المكسر

المخدش

الوزن النوعي

الفكرة الرئيسية المعدن مادة صلبة غير عضوية توجد في الطبيعة، لها تركيب كيميائي، وشكل بلوري ثابت.

الربط مع الحياة. انظر حولك في غرفة صفك، لتجد الفلز في مقعدك والجرافيت في قلمك الرصاص، والزجاج في النوافذ. هذه الأشياء أمثلة على استعمال الإنسان المعاصر لمواد مصنوعة من المعادن.

الخصائص العامة للمعادن Mineral Characteristics

تتكون القشرة الأرضية من 3000 معدن تقريباً، والمعدن **Mineral** مادة طبيعية، صلبة، غير عضوية، لها مكونات كيميائية معينة، وبناء بلوري محدد، انظر الشكل 1-1. وهذه المعادن كونت الصخور وشكلت سطح الأرض. وقد ساعدت بعض المعادن في تشكيل الحضارة الإنسانية؛ فقد حدث تقدم في مرحلة ما قبل التاريخ عندما تمكن الإنسان وقتئذٍ من استخلاص فلز الحديد، واستعماله في صنع أدواته. وقد قال تعالى في محكم آياته ﴿ وَسَخَّرْنَا مَا فِي السَّمَوَاتِ وَمَا فِي الْأَرْضِ جَمِيعًا مِمَّا إِنَّا فِي ذَلِكَ كَالْبَيْتِ لَقَوْمٍ يَنْفَكُونَ ﴾ [سورة الجاثية: 13].

تتكون بشكل طبيعي وغير عضوي Naturally occurring and **inorganic** تتكون المعادن بطرائق طبيعية. لذا، فإن الألماس الصناعي والمواد الأخرى التي تم تحضيرها في المختبرات لا تعدُّ معادن.



الكالسيت



البيريت

الشكل 1-1 يعكس أشكال بلورات المعادن هذه الترتيب الداخلي لذراتها.



الشكل 1-2 تبلورت هذه القطعة من الكوارتز في حيز محصور ضمن كسر أو شق في الصخر.

المفردات
مفردات أكاديمية
محصور

والمعادن مواد غير عضوية؛ فليست مكونة من مادة حية، ولا من مادة كانت حية، أو ناشئة عن نشاط حيوي. وبناء على هذه الخاصية يعدُّ الملح معدناً، أما السكر الذي يستخرج من النبات فليس معدناً. ماذا عن الفحم الحجري مثلاً؟ الفحم الحجري ليس معدناً؛ لأنه تكون من مواد عضوية قبل ملايين السنين.

بناء بلوري محدد Definite crystalline structure المعدن له بناء بلوري محدد، وهذا يعني أن الذرات مرتبة في بناء هندسي منتظم ومتكرر، وينتج عن هذا البناء البلورة. والبلورة **Crystal** جسم صلب تترتب فيه الذرات بنمط متكرر. وغالباً ما يمثل البناء الداخلي المنتظم شكل البلورة نفسها.

وعندما يتوافر للمعدن حيز فإنه ينمو فيه أحياناً مكوناً بلورة كبيرة مكتملة الأوجه كالتي في الشكل 1-1. إلا أن البلورات المكتملة الأوجه نادرة الوجود. أما الأكثر شيوعاً فهي بلورات غير مكتملة الأوجه، ومنها الميئة في الشكل 1-2؛ لنموها في حيز محصور (مغلق)، ولا ينعكس بناؤها الذري الداخلي على شكلها الخارجي.

✓ **ماذا قرأت؟** صف الترتيب الذري لبلورة ما.

يتم ترتيب الذرات بانتظام وبنمطية متكررة داخل البلورات

مواد صلبة ذات تراكيب المواد الصلبة لها شكل ولا يعدان من المعادن.

لكل نوع من المعادن مكونات كيميائية خاصة به، وقد تكون هذه المكونات محددة أو متغيرة إلى حد ما. والقليل من المعادن ومنها المعادن الحرة (الأصلية) - وتشمل النحاس والفضة والكبريت - مكون من عنصر واحد فقط انظر الشكل 1-3، أما معظم المعادن فمكون من مركبات؛ فمعدن الكوارتز (SiO_2) مثلاً؛ مكون من ذرتين من الأكسجين وذرة واحدة من السيليكون. ورغم وجود معادن أخرى تحتوي على السيليكون والأكسجين، إلا أن نسب هذين العنصرين وترتيبهما في الكوارتز خاصيتان ينفرد بهما هذا المعدن.



الكبريت



النحاس



الفضة

الشكل 1-3 بعض المعادن ومنها الكبريت والنحاس والفضة مكونة من عنصر واحد.



الفلوريت



الكوارتز



التغيرات في المكونات الكيميائية Variation in composition قد تختلف المكونات الكيميائية لبعض المعادن قليلاً تبعاً للظروف التي تتكوّن عندها بلوراتها. فمعادن الفلسبار البلاجيوكليزي مثلًا في الشكل 1-4 تتفاوت مكوناتها من معدن الألبيت الغني بالصوديوم الذي يتكون في درجات حرارة منخفضة، إلى معدن الأنورثيت الغني بالكالسيوم الذي يتكون في درجات حرارة مرتفعة. وعندما يتبلور المعدن عند درجات حرارة متوسطة يدخل كل من الصوديوم والكالسيوم في البناء البلوري مُتَتَجِنّ طبقات متبادلة تسمح للضوء بالانكسار والتشتت، مسببًا ظهور المعدن بألوان متدرجة، كما في معدن اللابرادوريت، انظر الشكل 1-4. وينتج عن هذا التغير الطفيف في مكونات المعدن الكيميائية تغيّر في مظهره الخارجي.

الشكل 1-4 مدى التغير في المكونات الكيميائية وما يتبعه من تغير في المظهر الخارجي كافيًا لتعرّف أنواع معادن الفلسبار المتعددة بدقة.

الصخور تتكون من معادن Rock-Forming minerals

رغم وجود ثلاثة آلاف معدن تقريبًا في القشرة الأرضية، إلا أن ثلاثين معدنًا فقط هي الأكثر شيوعًا. وتشكّل ثمانية إلى عشرة من هذه المعادن معظم صخور القشرة الأرضية. لذا يشار

المعادن الأكثر شيوعًا في صخور القشرة الأرضية			الجدول 1-1
البيروكسين	المايكا	الفلسبار	الكوارتز
MgSiO ₃ CaMgSi ₂ O ₆ NaAlSi ₂ O ₆	K(Mg,Fe) ₃ (AlSi ₃ O ₁₀)(OH) ₂ KAl ₂ (AlSi ₃ O ₁₀)(OH) ₂	NaAlSi ₃ O ₈ - CaAl ₂ Si ₂ O ₈ و KAlSi ₃ O ₈	SiO ₂
الكالسيت	الجارنت	الأوليفين	الأمفيبول
CaCO ₃	Mg ₃ Al ₂ Si ₃ O ₁₂ Fe ₃ Al ₂ Si ₃ O ₁₂ Ca ₃ Al ₂ Si ₃ O ₁₂	(Mg,Fe) ₂ SiO ₄	Ca ₂ (Mg,Fe) ₅ Si ₈ O ₂₂ (OH) ₂ Fe ₇ Si ₈ O ₂₂ (OH) ₂





الجرانيت



الملح الصخري

الشكل 1-5 تكونت البلورات في هاتين العينتين بطرائق مختلفة. صف الفرق بين هاتين العينتين.

إليها أنها المعادن المكونة للصخور، وهي مكونة من ثمانية عناصر هي الأكثر شيوعاً في القشرة الأرضية وهي الأكسجين والسيلكون والألومنيوم والحديد والكالسيوم والصدويوم والبوتاسيوم والماغنسيوم انظر الجدول 1-1.

معادن تتبلور من الصهارة Minerals from magma تسمى المادة المصهورة التي تتكون وتتجمع تحت سطح الأرض الصهارة. وهي أقل كثافة من الصخور الصلبة المحيطة بها، لذا يمكنها الصعود نحو طبقات الأرض العليا الباردة ثم تتبلور.

إذا بردت الصهارة ببطء في الأعماق فسوف يكون لدى الذرات وقت كاف لترتب نفسها في بلورات كبيرة الحجم، كما في صخر الجرانيت المبين في الشكل 1-5. أما إذا وصلت إلى سطح الأرض ولا مست الماء أو الهواء فإنها تبرد بسرعة، وتتكون بلورات صغيرة. ويسهم عدد العناصر الموجودة في الصهارة ونوع هذه العناصر في تحديد نوع المعدن المتكون.

✓ **ماذا قرأت؟** وضح كيف تؤثر ملامسة الصهارة للماء في حجم البلورة؟

يتسبب التماس مع الماء في تبريد الصهارة سريعاً مما ينتج عنه بلورات صغيرة الحجم

الظروف لتكوين المعادن؛ حيث ترتبط الذرات المنفردة بعضها مع بعض، وترسب مكونة بلورات المعادن.

وقد تتبلور المعادن من المحاليل أيضاً عند تبخر الماء؛ حيث تترسب المعادن المذابة في المحلول. وتسمى المعادن المتكونة من تبخر السوائل المتبخرات. ومن ذلك تكوّن الملح الصخري كما في الشكل 1-5 بفعل عملية التبخر. ويوضح الشكل 1-6 تكوّن المتبخرات الملحية في سبخة القصب في المملكة العربية السعودية.

الشكل 1-6 تكونت هذه المتبخرات بسبب تبخر الماء المالح المتجمع في السبخة.



تعرف المعادن Identifying Minerals

يجري الجيولوجيون كثيرًا من الاختبارات لتعرف المعادن. وتعتمد هذه الاختبارات على الخواص الفيزيائية والكيميائية للمعادن، ومنها: الشكل البلوري والبريق والقساوة والانقسام والمكسر والمخدش واللون والنسيج والكثافة والوزن النوعي، وبعض الخواص الأخرى.

الشكل البلوري Crystal Form بعض المعادن تمتاز بأشكال بلورية مميزة يمكن تعرفها بسهولة. فالهاليت (ملح الطعام) غالبًا ما تكون بلوراته المكعبة كاملة الأوجه، وبلورات الكوارتز ذات النهايتين المدببتين والمحاطة بستة أوجه جانبية تمثل ميزة لها تسهل تعرفها، انظر الشكل 1-7. ولأن البلورات المكتملة النمو نادرة التشكل، لذا يندر تعرف المعدن اعتمادًا على شكل بلوراته.

البريق Luster تسمى الكيفية التي يعكس بها المعدن الضوء الساقط على سطحه البريق Luster. ويوجد نوعان من البريق: الفلزي واللافلزي. فالفضة والذهب والنحاس والجالينا لها سطوح لامعة تعكس الضوء، كما تعكس قطع السيارة المصنوعة من الكروم الضوء الساقط عليها، لذا يقال إن هذه المعادن بريقًا فلزيًا. والمعادن ذات البريق الفلزي ليست جميعها فلزات، ولكن سطحها لامع كالفلزات. أما المعادن ذات البريق اللافلزي - ومنها الكالسيت والجبس والكبريت والكوارتز - فلا تلمع كالفلزات. ويوصف البريق اللافلزي بأنه باهت أو لؤلؤي أو شمعي أو حريري أو أرضي (مطفي). ويوضح الشكل 1-8 الفرق في البريق الناتج بسبب الاختلافات في المكونات الكيميائية للمعدنين. ويعد البريق اللافلزي للمعادن صفة غير مميزة لها؛ فالمعدن الذي يبدو شمعيًا لشخص ما قد لا يبدو كذلك لشخص آخر، لذا لا بد أن يقترن اختبار البريق باختبارات فيزيائية أخرى لتعرف المعادن.

ماذا قرأت؟ عرّف مصطلح البريق.

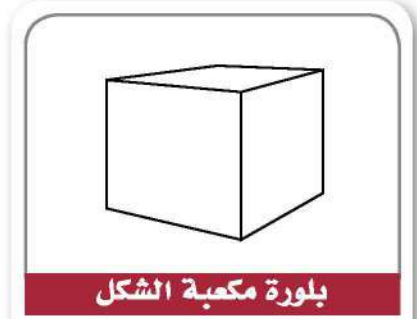
الكيفية التي يعكس بها المعدن الضوء الساقط على سطحه



الكاؤولينيت



التلك



بلورة مكعبة الشكل



بلورة سداسية الأوجه

الشكل 1-7 توجد المعادن المكتملة بأشكال بلورية مميزة لها يمكن من خلالها تعرفها.

مهنة مرتبطة بالمعادن

الجوهري: الجوهري شخص يقطع الأحجار الكريمة ويلمعه وينقشها. وهو الذي يدرس المعادن وصفاتها من أجل معرفة أنسبها لاستخدامها في عمله. أبحث عبر الإنترنت لتعرف المزيد من المهنة المرتبطة بالمعادن.

الشكل 1-8 المظهر الصفحي اللامع للتللك يكسبه بريقه اللؤلؤي، في حين أن الكاؤولينيت - وهو أيضًا معدن أبيض لكنه على النقيض من التلك - ذو بريق أرضي.

الشكل 9-1 أكثر المعادن الجارية الشائعة
معدي الألماس والكورندوم ودرجتا قساوتهما
10 و 9 بالترتيب.

**حسب مقياس موهس
للقساوة: الزجاج أقسى من
الظفر، لذا فإن المعدن الذي
يخدش الزجاج أقسى من
المعدن الذي انخدش بالظفر**



الكورندوم

الشكل 10-1 المعدن العلوي يمكن
خدشه بظفر الأصبع. والمعدن الشفاف
السفلي، لا يمكن خدشه بظفر الأصبع

تقيس القساوة مقاومة المعدن للخدش **ماذا قرأت؟** وضح ماذا تقيس القساوة؟

حدد أي المعدنين احر قساوة؟



القساوة Hardness أكثر الاختبارات مصداقية واستخداماً في تعريف المعادن هو **القساوة Hardness** وهو مقياس لقابلية المعدن للخدش. وقد طور الجيولوجي الألماني فريدريك موهس مقياساً لتعرف قساوة المعادن المجهولة، بمقارنتها بقساوة عشرة معادن معلومة القساوة. والمعادن المختارة في مقياس موهس يمكن تعريفها بسهولة، ويكثر وجودها في الطبيعة إلا الألماس.

يمثل معدن التلك الدرجة رقم 1 في مقياس موهس للقساوة؛ لأنه من اطرى المعادن، ويمكن خدشه بظفر الأصبع. وفي المقابل فإن الألماس يمثل الرقم 10 في المقياس نفسه. لذا يستخدم لجعل أدوات القطع ومنها مثقاب الحفر ومعدات الصقل أكثر حدة. ويوضح الشكل 9-1 معدي الماس والكورندوم.

ويستخدم المقياس المبين في الجدول 1-2 بالطريقة الآتية: المعدن الذي يُخدش بظفر الإصبع قساوته تعادل 2 أو أقل، والمعدن الذي لا يُخدش بظفر الإصبع ويُخدش قطعة نحاسية تتراوح قساوته بين 2.5-3.5. أما المعدن الذي يُخدش قطعة نحاسية فقساوته أكبر من 3.5. ويمكن أن تستخدم مواد أخرى شائعة كتلك المدوّنة في الجدول. ويوضح الشكل 10-1 معدنين مختلفين في قساوتهما.

الانقسام والمكسر Cleavage and Fracture يُحدّد البناء البلوري كيف تنكسر المعادن، فهي تنكسر بسهولة عند المستويات التي تكون الروابط الذرية على طولها ضعيفة. ويقال عن المعدن الذي ينقسم بسهولة وبشكل مستوي في اتجاه واحد أو أكثر أن له **انقساماً Cleavage**. ولتعرف المعدن حسب انقسامه يقوم الجيولوجيون بعدّ مستويات الانقسام، ودراسة الزوايا بينها. فعلى سبيل المثال، لمعدن المايكا انقسام بمستوى واحد إذ ينقسم إلى رقائق بسبب ضعف الروابط الذرية له.

المعدن	القساوة	قساوة بعض المواد الشائعة
التلك	1	
الجبس	2	ظفر الأصبع = 2.5
الكالسييت	3	قطعة نحاسية = 3.5
الفلوريت	4	مسار حديدي = 4.5
الأباتيت	5	الزجاج = 5.5
الفلسبار	6	نصل السكين = 6.5
الكوارتز	7	قطعة بورسلان = 7
التوباز	8	
الكورندوم	9	
الألماس	10	



الصوان



الكوارتز



الهاليت

الشكل 1-11 للهاليت انقسام مكعب تام؛ فهو ينكسر إلى قطع بزوايا 90 درجة. أما معدن الكوارتز فإن الروابط القوية فيه تمنع حدوث الانقسام. أما المكسر المحاري فيميز المعادن التي تتكون من بلورات لا ترى بالعين المجردة مثل الصوان.

الشكل 1-11 يوضح انقسام مكعب تام لمعدن الهاليت؛ بمعنى أنه يفصل بمستويات ثلاثة؛ بسبب ضعف التجاذب الذري على طول هذه المستويات. أما معدن الكوارتز فينكسر بدون انتظام بحواف متعرجة بسبب الترابط الذري المحكم. ويقال عن المعادن التي تنكسر بحواف متعرجة إن لها **مكسراً** **Fracture**. فالصوان والجاسبر والكالسيدوني (أنواع مختلفة من الكوارتز المجهرى البلورات) تظهر مكسراً فريداً بأشكال قوسية تشبه زخارف أصداف المحار، ويسمى هذا المكسر مكسراً محارياً.

تجربة

تعرف الانقسام والمكسر

كيف يستخدم الانقسام في تعرف المعادن؟ يتكون الانقسام عندما ينكسر المعدن في مستويات الروابط الضعيفة، وإن لم يكن للمعدن انقسام يظهر مكسراً. وتعد طريقة تعرف وجود انقسام أو عدم وجوده وتحديد عدد

4. اختر المعادن التي لا انقسام لها، ووصف سطوحها، وتعرفها إن استطعت.

الجزء الثاني

5. احصل على عيتين إضافيتين من معلمك. هل للمعادن الجديدة انقسام أم مكسر؟ صفها.

6. استعمل المنقلة لقياس الزوايا بين مستويات الانقسام للمعادن الإضافية، وسجل قياساتك.

التحليل

1. سجل عدد مستويات الانقسام، أو وجود مكسر في العينات السبع.

2. قارن بين زوايا الانقسام للعينتين 6، 7. وهل تمثل العيتان نفس المعدن أم لا؟

3. توقع نتيجة ما يحصل لكل معدن منها لو ضرب بمطرقة.

ج1: خصائص العينات السبع: هناك مستو ومستويان وثلاثة مستويات انقسام؛ ومكسر محاري

ج2: زوايا الانقسام ليست متساوية؛ لذا فالمعدنان مختلفان

ج3: ستنتهي المايكا على الأرجح؛ ويمكن ألا تكون الجالينا مكعبات أما المعادن الأخر ذات أسطح الانقسام فستنكسر على امتداد الروابط الأضعف مكونة مستويات انقسام جديدة في القطع الأصغر تأخذ شكل القطع الكبيرة أما المعادن التي ليس لها أسطح انقسام فستنكسر بصورة عشوائية غير منتظمة إلى قطع أصغر وذات أشكال مختلفة



الشكل 1-12 رغم أن هاتين القطعتين من الهيماتيت مختلفتان في المظهر، إلا أن مחדشهما واحد (لون المسحوق نفسه)؛ لأن مكوناتها الكيميائية واحدة.

المطويات

ضمّن مطويتك معلومات من هذا القسم.

المخدش Streak يترك المعدن الذي يُخدش بقطعة البورسلان مسحوقاً ملوناً على سطحها. والمخدش **Streak** هو لون مسحوق المعدن، ويكون مخدش المعادن اللافلزية في العادة أبيض اللون، لذا يكون المخدش مفيداً جداً في تعرّف المعادن الفلزية أكثر من المعادن اللافلزية، وقد لا يشبه مخدش المعدن الفلزي لونه الخارجي، كما في الشكل 1-12. فعلى سبيل المثال يوجد معدن الهيماتيت بهيئتين ينجم عنهما مظهران مختلفان. فالهيماتيت الذي يتكون بفعل التجوية والتعرض للهواء والماء يكون مظهره صدئاً، ويريقه أرضياً، بينما الهيماتيت الذي تكوّن من الصهارة لونه فضي، ومظهره فلزي، أما مחדشها فأحمر إلى بني. ولا يمكن أن نستخدم المخدش إلا مع المعادن الأظرى من قطعة الخزف، وهذا سبب آخر يجعل استعمال المخدش في تعرّف المعادن محدوداً.

✓ **ماذا قرأت؟** فسر أي نوع من المعادن يمكن تعرّفه باستعمال المخدش؟

يمكن تعرّف المعادن الفلزية عموماً باستخدام المخدش؛ كما يمكن تعرّف بعض المعادن اللافلزية أيضاً بهذه الطريقة

السابق وسنرى أيضاً يوجد بلورات حسنة، كما في الشكل 1-13؛ بسبب وجود عناصر نادرة فيه. فالجاسبر الأحمر والجمشت الأرجواني والسترين البرتقالي تحتوي على كميات وأشكال مختلفة من الحديد. أما الكوارتز الوردية فيحتوي على المنجنيز أو التيتانيوم. وسبب ظهور الكوارتز بلون حليبي أنه يحتوي على فقاعات من الغازات والسوائل المحصورة في البلورة.



الكوارتز الوردية



السترين



الجمشت



الجاسبر الأحمر (اليشب)

الشكل 1-13 تحتوي هذه العينات المختلفة وجميعها من الكوارتز على السيليكون والأكسجين، وتحدد الشوائب لون العينة.

الكثافة والوزن النوعي Density and specific gravity

أحيانًا الحجم نفسه، إلا أن كليهما مختلفان بسبب اختلاف كثافتهما. فإذا كان لديك عيتان من الذهب والبيريت لهما الحجم نفسه، فسوف تكون كتلة الذهب أكبر؛ لأن كثافته أكبر. والكثافة انعكاس للكتلة الذرية وبنائية المعدن، فكثافة البيريت 5.2 g/cm^3 ، وكثافة الذهب 19.3 g/cm^3 . ويمكن حساب الكثافة من خلال العلاقة: $D = \frac{M}{V}$ حيث D الكثافة، M الكتلة، و V الحجم. ولأن الكثافة لا تعتمد على شكل أو حجم المعدن فإنها وسيلة ناجحة لتعرّف المعادن. ويسمى مقياس الكثافة الأكثر استخدامًا من قِبَل الجيولوجيين **الوزن النوعي Specific gravity**، وهو النسبة بين كتلة المادة إلى كتلة حجمها من الماء في درجة حرارة 4°C . فمثلاً، الوزن النوعي للبيريت 5.2، والوزن النوعي للذهب النقي 19.3.



الشكل 1-14 يختلف الإحساس بالنسيج من شخص لآخر. توصف عينة الفلوريت هذه بأنها ناعمة.

النسيج Texture يصف النسيج ملمس المعدن، وتعدّ هذه الخاصية غير مميزة للمعادن، مثلها في ذلك مثل خاصية البريق، ويمكن وصف النسيج بأنه ناعم أو خشن أو متعرج أو شحمي أو صابوني. فمثلاً، نسيج الفلوريت في الشكل 1-14 ناعم، بينما نسيج التلك في الشكل 1-8 شحمي.

✓ ماذا قرأت؟ فسر العلاقة بين الوزن النوعي والكثافة.

مختبر تحليل البيانات

ما البيانات التي تتضمنها بطاقة تعريف

التحليل

1. انسخ البيانات في الجدول، واستعمل مرجعًا مناسبًا لتعبئة الجدول.
2. أضف أعمدة للجدول لكتابة اسم المعدن واستعمالاته وخصائص أخرى مميزة.

التفكير الناقد

3. حدد أي هذه المعادن يחדش الزجاج؟ لماذا؟
4. توقع المعادن التي توجد في الطلاء وفي مقعدك.
5. توقع أي بيانات أخرى يمكن أن نضيفها إلى الجدول.

ج3: كل من: الهيماتيت والجارنت وقلسبار البلاجيوكليز سوف يחדش الزجاج؛ وذلك لأن قساوتها جميعا أكبر من قساوة الزجاج؛ والتي تساوي 5.5
ج4: يمكن استخدام معدني الهيماتيت والنحاس كمادة صابغة في الدهانات الملونة؛ كذلك يصنع كل من الحديد والفولاذ المستخدم في الأدراج من معدن الهيماتيت؛ وهو الخام الرئيس للحديد
ج5: يمكن أن يضمن الطلاب الخصائص الآتية: استعمال المعدن والشكل البلوري والبريق وصفات خاصة واسم المعدن. كذلك يمكن تضمين الجدول بالصيغ الكيميائية للمعادن. ارجع إلى مرجعيات الطالب للإجابات وإكمال الجدول

- ج1: النفط سائل؛ أما المعدن فصلب، كما أن النشاط تكوّن من تبلل مخلوقات حية عاشت في الماضي لذا فهو مادة عضوية. في حين أن المعدن مادة غير عضوية
- ج2: المعادن مواد تكونت في الطبيعة؛ وليست مواد يحفرها الإنسان في المختبر
- ج3: تتكون المعادن عندما تبرد الصهارة في الأعماق أو على سطح الأرض أو بالقرب منه. كما تتكوّن أيضًا في صورة أملاح بفعل تبخر المحاليل فوق المشبعة؛ وكلتا الطريقتين تشكل بلورات
- ج4: الخصائص الموضوعية فهي حقائق لا خلاف فيها بين الناس ومنها القساوة والانقسام أما الخصائص غير الموضوعية (الجدلية) خاضعة للنقاش لاختلاف الفهم بين الناس ومنها النسيج واللون والبريق
- ج5: ابدأ بالمواد الطرية؛ وستعطينا أول مادة تخدش المعدن فكرة عن قساوته وسيكون الترتيب على النحو التالي: عملة نحاسية؛ شريحة زجاج، قطعة بورسلان
- ج6: سيكون هذا الفحص غير فاعل؛ إذ لا يوجد معدن فلزي من هذه المعادن، لذا ستكون ألوان حكاكتها بيضاء

التقويم 1-1

الخلاصة

- المعدن مادة صلبة غير عضوية توجد في الطبيعة، ولها مكونات كيميائية محددة، وترتيب ذريّ داخلي منتظم.
- البلورة مادة صلبة، تترتب الذرات فيها وفق ترتيب معين بصورة متكررة.
- تتكون المعادن من الصهارة أو من محاليل فوق مشبعة.
- يتم تعريف المعادن اعتمادًا على خواصها الفيزيائية والكيميائية.
- لتعرّف نوع المعدن بشكل دقيق نحتاج إلى إجراء اختبارات متعددة له منها: تحديد القساوة، وتحديد الوزن النوعي.

فهم الأفكار الرئيسية

1. الفترة الرئيسية اذكر سببين لعدم اعتبار النفط معدنًا.
2. عرف المقصود بأن المعادن تتشكل بصورة طبيعية.
3. قارن بين تكون المعادن من الصهارة، ومن المحاليل.
4. ميز بين الخواص الأكثر مصداقية والأقل مصداقية للمعادن.

التفكير الناقد

5. وضح كيف يمكنك فحص قساوة معدن الفلسبار باستخدام كل مما يأتي: قطعة زجاج، عملة نحاسية، قطعة بورسلان.
6. توقع مدى نجاح الفحص المخبري الذي يقوم به الطلاب لمقارنة المخدش واللون لكل من الفلوريت والكوارتز والفلسبار.

الرياضيات في الجيولوجيا

7. احسب حجم 5 g من الذهب النقي، إذا علمت أن كثافة الذهب 19.3 g/cm^3 .

أنواع المعادن Types of Minerals

الفكرة الرئيسية تُصنف المعادن اعتمادًا على خواصها الكيميائية والفيزيائية.

الربط مع الحياة. يُصنف كل شيء في العالم إلى مجموعات مختلفة، فالطعام والحيوانات والنباتات وغيرها تُصنف في مجموعات اعتمادًا على بعض صفاتها أو خصائصها. ولا تختلف المعادن في ذلك؛ حيث تُصنف هي أيضًا في مجموعات.

مجموعات المعادن Minerals Groups

ترتبط العناصر بعضها مع بعض بطرائق وأشكال ونسب مختلفة، وينتج عن ذلك تكوّن آلاف المعادن. ولتسهيل دراسة المعادن وفهم خواصها صَنَّفَهَا الجيولوجيون إلى مجموعات، ولكل مجموعة طبيعة كيميائية محددة وخصائص مميزة.

السيليكات Silicate يُعد الأكسجين أكثر العناصر شيوعًا في القشرة الأرضية، يليه السيليكون، وتسمى المعادن المحتوية على الأكسجين والسيليكون وعنصر آخر أو أكثر - في الغالب - السيليكات **Silicate**. وتشكل السيليكات 96٪ تقريبًا من المعادن الموجودة في القشرة الأرضية. ويتبع المعدن الأكثر شيوعًا (الفلسبار والكوارتز) مجموعة السيليكات.

وحدة البناء الأساسية للمعادن السيليكاتية هي سيليكات الهرم الرباعي الأوجه المين في الشكل 1-15. والهرم الرباعي الأوجه **Tetrahedron** جسم صلب محاط بأربعة أوجه من مثلثات متساوية الأضلاع على شكل هرم، لذا يمكن تسميته هرم السيليكات. من المعروف أن الإلكترونات في مستويات الطاقة الأخيرة في الذرة تسمى إلكترونات التكافؤ. ويحدد عدد إلكترونات التكافؤ نوع وعدد الروابط الكيميائية التي تشكلها الذرة، ولأن للذرة السيليكاتية أربعة إلكترونات تكافؤ، فلديها القدرة على الارتباط بأربع ذرات أكسجين بطرائق متعددة، مما يسمح بوجود معادن السيليكات بتراكيب متنوعة، وخصائص مختلفة. كما في الشكل 1-16.

الأهداف

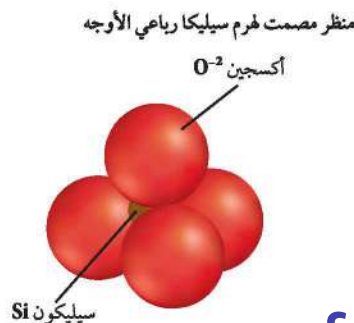
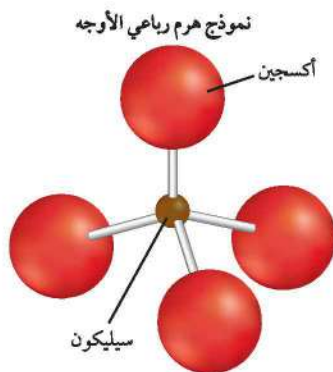
- تعرف مجموعات المعادن المختلفة.
- توضح مجسم السيليكات الرباعي الأوجه.
- تناقش كيف تستعمل المعادن؟

مراجعة المفردات

رابطة كيميائية: القوة التي تربط ذرتين إحداهما بالأخرى.

المفردات الجديدة

السيليكات
الهرم الرباعي الأوجه
الخام
الأحجار الكريمة



الشكل 1-15 يشكل أيون السيليكات SiO_4^{-4} ما يسمى سيليكات رباعي الأوجه (هرم السيليكات)؛ حيث توجد ذرة السيليكون في مركزه الذي يرتبط برابطة تساهمية مع أيونات الأكسجين.

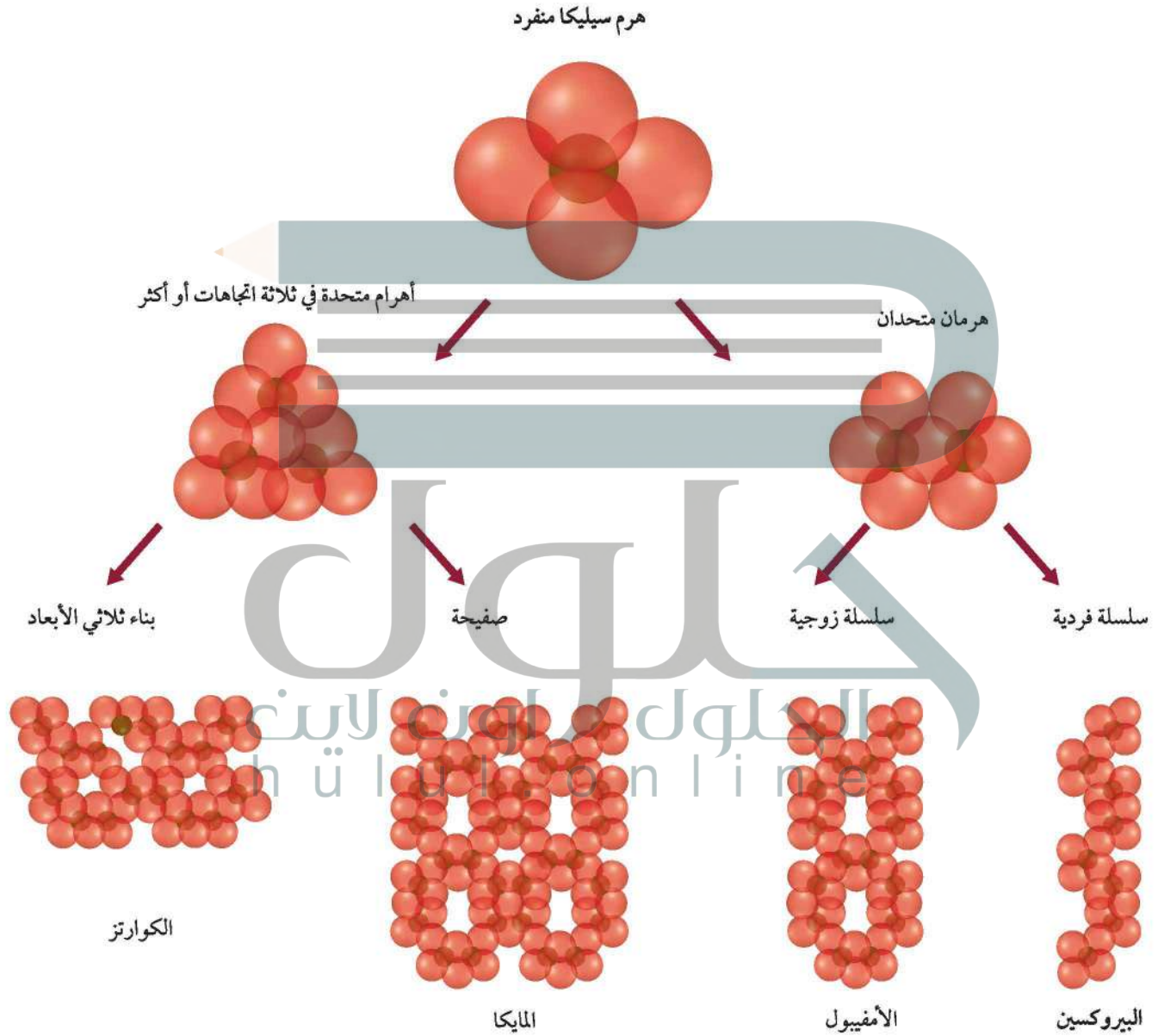
حدد عدد الذرات في الهرم الواحد.

يوجد خمس ذرات في رباعي الأوجه منها 4 ذرات أكسجين

وذرة سيلكون 26


أهرامات السيليكا Silica Tetrahedron

الشكل 1-16 تحتوي أهرامات السيليكا على أربعة أيونات أكسجين مرتبطة مع ذرة سيليكون مركزية، وتتحد أهرامات السيليكا، بعضها مع بعض على شكل سلاسل وصفائح وتراكيب معقدة، وتصبح هذه التراكيب معادن سيليكاتية متعددة في الأرض.





الإسبتوس



المايكا

الشكل 1-17 تختلف المعادن السيليكاتية اعتيادًا على ترتيب أهرامات السيليكا فيها. فمثلاً ترتبط أهرامات السيليكا على شكل سلاسل زوجية في الإسبتوس بينما ترتبط على شكل صفائح في المايكا. وفي كلا النوعين تكون الروابط ضعيفة بين السلسلتين وبين كل صفيحتين.

ترتبط أيونات رباعي الأوجه بعضها مع بعض بروابط قوية لتشكل الصفائح أو السلسلة أو تراكيب معقدة ثلاثية الأبعاد. والروابط بين الذرات تساعد في تنوع خصائص المعادن، ومنها المكسر والانقسام.

يظهر الشكل 1-17 الصفائح السيليكاتية (Phyllosilicate)، حيث ترتبط كل من أيونات البوتاسيوم الموجبة أو الألومنيوم مع صفائح الأهرامات السالبة الشحنة، وتنقسم المايكا إلى صفائح بسهولة؛ لأن قوى التجاذب بين صفائح أهرامات السيليكا وأيونات الألومنيوم والبوتاسيوم ضعيفة. ويتكون الإسبتوس أيضًا من سلاسل مزدوجة من أهرامات السيليكا، وتنتج عن ضعف الروابط بين هذه السلاسل المزدوجة الطبيعة اللطيفة لمعدن الأسبتوس.

الكربونات Carbonates يتحد الأكسجين بسهولة مع معظم العناصر تقريبًا مكونًا مجموعات معدنية منها الكربونات. والكربونات معادن مكونة من أيونات فلز أو أكثر موجبة الشحنة متحدة مع أيون الكربونات CO_3^{2-} سالب الشحنة.

ومن أمثلة الكربونات: الكالسيت والدولوميت والروودوكروزييت. وتوجد معادن

المفردات
صفائحي
الاستعمال العلمي
صفائح سيليكات رباعي الأوجه
الاستعمال الشائع
صفائح المعجنات والحلويات

الشكل 1-19 استعمال المعادن عبر الزمن تغيرت قيم المعادن واستعمالها عبر الزمن.

800 ق.م استعمال الألماس في الهند، ومنها انتشر إلى أماكن أخرى في العالم، في القطع، والحفر، وفي الحلي.



3000-3300 ق.م شاعت الأسلحة البرونزية في منطقة الشرق الأدنى مع بزوغ فجر الإمبراطوريات القوية.

500 قبل الميلاد

3000 قبل الميلاد

10000 قبل الميلاد


506 ق.م سيطرت روما على صناعة الملح في أوستايا. وقد دفعت روما رواتب جنودها على شكل حصص من الملح.



1000-1200 ق.م أصبح البرونز في الشرق الأدنى نادرًا، واستعمل الحديد بدلًا منه في صناعة الأدوات والأسلحة.



9000-12000 ق.م أدى الطلب على الأوبسديان وهو زجاج بركاني يستخدم في صنع الأدوات إلى تشكيل أول طريق تجاري طويل.



الرودوكروزيت



الكالسيت

الشكل 1-18 من الأمثلة عن الكربونات الرودوكروزيت والكالسيت.

الكربونات في الصخور الجيرية والرخام، وتمتاز بعض معادن الكربونات ومنها الكالسيت بتعدد ألوانها بسبب وجود شوائب فيها، كذلك يتميز معدن الرودوكروزيت بلونه الوردى المين في الشكل 1-18.

الأكاسيد Oxides مركبات تتألف من أكسجين وفلز. وتعد معادن الهيماتيت Fe_2O_3 والماجنتيت Fe_3O_4 أكاسيد حديد شائعة، ومصدرًا جيدًا للحديد. ومعدن اليورانينيت UO_2 معدن قيم؛ لأنه يشكل المصدر الرئيس لليورانيوم المستخدم في إنتاج الطاقة النووية.

الفوسفات Phosphate معادن تحتوي على أيون الفوسفات $(Ph_4)^{3-}$ ضمن تركيبها الكيميائي. ومن أشهر معادن هذه المجموعة الأباتيت (F, Cl, OH) $Ca_5(PO_4)$ ، وتستخدم الفوسفات في صناعة الأسمدة وإنتاج حامض الفوسفوريك.

المجموعات الأخرى Other groups هناك مجموعات معدنية رئيسة أخرى، ومنها الكبريتات والكبريتيدات والهاليدات والفوسفات والعناصر الحرة (الأصلية). فالكبريتيدات - ومنها البيريت FeS_2 - مركبات تتألف من الكبريت وعنصر واحد أو أكثر. أما الكبريتات - ومنها الأنهدريت $CaSO_4$ - فهي مركبات لعناصر متحدة مع أيون الكبريتات SO_4^{2-} . وتتكون الهاليدات - ومنها معدن الهاليت $NaCl$ - من أيونات الكلوريد أو الفلوريد متحدة مع كالسيوم أو صوديوم أو بوتاسيوم. والعناصر الحرة - ومنها الفضة Ag أو النحاس Cu - مكونة من عنصر واحد فقط كما في الشكل 1-3 السابق.

المعادن الاقتصادية Economic Minerals

تستعمل المعادن في صناعة الحواسيب والسيارات والتلفزيونات والمكاتب والطرق والبنيات والمجوهرات والدهانات وأدوات الرياضة والأدوية، وفي صناعات أخرى كثيرة. وتوضح الاستعمالات المختلفة للمعادن عبر التاريخ بدراستك

2006 م هنالك 242 محطة طاقة نووية وقودها اليورانيوم تعمل عبر العالم بقدرة كلية مقدارها 369.566 جيجا وات.

1546 م ساعدت مناجم الفضة في أمريكا الجنوبية الأسبان على تأسيس تجارة عالمية قوية، وتوفير الفضة اللازمة في صك النقود.

900-800 م استعمل الكيميائيون الصينيون الملح الصخري وعنصري الكبريت والكربون في صناعة ملح البارود الذي استعمل للمرة الأولى في الألعاب النارية، واستعمل في وقت لاحق في الأسلحة.



2000 ميلادية

1500 ميلادية

500 ميلادية

1927 م حققت أول ساعة كوارتز نجاحًا في الحفاظ على دقة الوقت، وقد ساهمت خصائص الكوارتز في تطوير صناعة المذياع والرادار والحاسوب.



400-200 م مكنت أدوات الزراعة والأسلحة الحديدية الناس من الهجرة عبر إفريقيا لاستصلاح الأراضي وإقامة المستوطنات والحلول محل مجتمعات الصيد.

يلخص الجدول 1-4 مجموعات المعادن واستعمالاتها الرئيسية.

مجموعات المعادن الرئيسية		الجدول 1-4
الاستعمالات الاقتصادية	الأمثلة	المجموعة
نوافذ الأفران الأحجار الكريمة (بيروdot) صناعة الزجاج يضاف لتربة الأرصص	المابكا (بيوتيت) أوليفين Mg_2SiO_4 الكوارتز SiO_2 الفيروميكيوليت	السيليكات
صناعة حمض الكبريتيك مجوهرات خام الرصاص خام الزنك	البيريت FeS_2 المركزيت FeS_2 الجالينا PbS السفاليريت ZnS	الكبريتيدات
خام حديد، صبغة حمراء حجر جملخ، مجوهرات (الياقوت، زفير) مصدر لليورانيوم مصدر للتيتانيوم، صبغة، يستعاض به عن الرصاص في الدهانات مصدر للكروم، وصلات سباكة، إضافات للسيارات.	الهيماتيت Fe_2O_3 الكوروندم Al_2O_3 اليورانييت UO_2 الإلمنيت $FeTiO_3$ الكروميت $FeCr_2O_4$	الأكاسيد
أعمال المسح، مثبت لتصلب الأسمنت أعمال المسح الجيولوجية.	الجبس $CaSO_4 \cdot 2H_2O$ الأنهيدريت $CaSO_4$	الكبريتات
ملح الطعام، علف للمواشي، قاتل للأعشاب، إعداد الأطعمة وحفظها صناعة الفولاذ، صناعة أدوات الطهي صناعة الأسمدة	الهاليت $NaCl$ الفلوريت CaF_2 السلفيت KCl	الهاليدات
صناعة الأسمدة	الآباتيت $Ca_5(PO_4)_3(OH,F,Cl)_2$	الفوسفات
صناعة الأسمنت والجير والطباشير صناعة الأسمنت والجير، مصدر للكالسيوم والمغنسيوم في الفيتامينات	الكالسيت $CaCO_3$ الدولوميت $CaMg(CO_3)_2$	الكربونات
العملات المعدنية والمجوهرات العملات المعدنية والأسلاك الكهربائية والمجوهرات العملة والمجوهرات والتصوير الأدوية والصناعات الكيميائية (أعواد الثقاب والألعاب النارية) أقلام الرصاص والتشحيم	الذهب Au النحاس Cu الفضة Ag الكبريت S الجرافيت C	العناصر الحرة الطبيعية (الأصلية)

المخطط الزمني في الشكل 1-19.

الخامات Ores كثير من المواد التي سبق ذكرها مصنوعة من الخامات. ويسمى المعدن **خامًا Ore** إذا احتوى على مواد قيمة يمكن تعدينها، بحيث تكون مجدية اقتصاديًا. فالهيماتيت على سبيل المثال خام يحتوي على عنصر الحديد، فالمواد المصنوعة من الحديد في غرفة صفك مصدرها على الأغلب خام الهيماتيت، والمواد المصنوعة من الألومنيوم مصدرها خام البوكسيت، والدراجة النارية في الشكل 1-20 مصنوعة من فلز التيتانيوم الذي يستخرج من معدن الإلمنيت. ويتم استكشاف المعادن الاقتصادية بطرق مختلفة منها الاستشعار عن بُعد



الشكل 1-20 أجزاء من هذه الدراجة مصنوعة من التيتانيوم؛ لخفة وزنه ومتانته الجيدة، مما يجعله فلزًا مثاليًا للاستخدام.

- ج1: ترتبط العناصر بعضها مع بعض بطرائق عدة وتعتمد الخصائص المعدنية، ومنها القساوة واللون على العناصر المكونة للمعادن وكيفية ارتباط بعضها مع بعض؛ لذا تختلف المعادن باختلاف العناصر المكونة لها
- ج2: السيليكون والأكسجين؛ المجموعة هي مجموعة السيليكات
- ج3: إجابة محتملة: لا يعد الأديال معدناً لأن له بعض خصائص المعادن الطبيعي وصلب وله مكونات كيميائية محددة) ولكن لا تتوافر فيه صفات) أخرى ليس له بناء داخلي منتظم، أي أن ذراته غير مرتبة بصورة هندسية منتظمة
- ج4: تشير قيمة الوزن النرعي إلى أن التيتانيوم أخف وزناً وتشير المكونات الكيميائية إلى أن الفولاذ بسبب وجود الحديد والأكسجين في مكوناته سوف يصدأ مع الزمن والفلز الأفضل للاستخدام هو التيتانيوم
- ج5: يترك للطالب

التقويم 1-2

فهم الأفكار الرئيسية

1. الفكرة الرئيسية صغ جملة توضح العلاقة بين العناصر الكيميائية وخواص المعادن.
2. اعمل قائمة توضح العنصرين الأكثر شيوعاً في القشرة الأرضية، واذكر اسم المجموعة المعدنية التي يشكلانها.

التفكير الناقد

3. كوّن فرضية تفسر لماذا لا يعد الأوبال معدناً.
4. قوم أي الفلزات الآتية يفضل استخدامه في الأدوات الرياضية وفي التطبيقات الطبية: التيتانيوم الذي وزنه النوعي 4.5 ويحتوي على Ti فقط، أم الفولاذ الذي وزنه النوعي 7.7 ويحتوي على Cr و O و Fe؟

الكتابة 2 الجيولوجيا

5. صمّم إعلاناً لبيع معدن من اختيارك. يمكنك اختيار أحجار كريمة أو معدن مهم صناعياً، وضمّن الإعلان أي معلومات تظن أنها تساعدك على بيع المعدن.

الخلاصة

- ترتبط ذرة من السيليكون مع أربع ذرات من الأكسجين لتكوين هرم رباعي الأوجه.
- مجموعات المعادن الرئيسية تتضمن السيليكات والكربونات والأكاسيد والكبريتات والفوسفات والكبريتيدات والهاليدات والعناصر الحرة.
- يحتوي الخام على مادة قيمة، تعدينها مجّد اقتصادياً.
- الأحجار الكريمة معادن قيمة لندرتهما وجمالها.

السياحة الجيولوجية

في الميدان

الدحول في المملكة العربية السعودية



تعتبر الدحول الصحراوية في المملكة العربية السعودية واحدة من أجمل وأروع المناطق السياحية الطبيعية في الصحراء. وقد تكونت هذه الدحول ببطء عبر مئات الألوف من السنين. وتقوم هيئة المساحة الجيولوجية السعودية بدراسة الدحول، ومنها الواقعة في منطقة الصمان شمال شرق الرياض، واتخاذ الإجراءات اللازمة للمحافظة عليها.

والدحول - مفردها دحل - فتحات في الأرض، أشبه بالأنفاق، يصل قُطر فوهة بعضها إلى حوالي ٢٠ متراً. وتتكون الدحول نتيجة تسرب المياه عبر الشقوق في الصخور، ومع مرور الزمن يذوب الصخر وتتكون الدحول. وتنمو في الدحول بلورات من معدني الكالسيت والجبس بأشكال وألوان مميزة، وتختلف البلورات في أطوالها حيث يتجاوز بعضها المتر أحياناً.

كيف تكونت هذه البلورات؟ تحتاج البلورات إلى أشياء عدة لكي تتكون، أولها الفراغ وهو الدحل، وتحتاج البلورات في تكوينها أيضاً إلى مصدر من الماء غني بالمعادن الذائبة. وهناك عوامل أخرى أيضاً، منها: الضغط، درجة الحرارة، مستوى الماء في الكهف، كيميائية المياه الغنية بالمعادن.

ومن الدحول المشهورة في المملكة العربية السعودية: دحل سلطان الذي يقع بالقرب من قرية المعاقلة في منطقة الصمان الذي يتميز بمدخل ضيق، يقود إلى بهو رائع، تتدلى من سقفه الهوابط الجميلة. وفيه ممرات عديدة، ممتدة، ويمتلئ في الشتاء بالمياه.

ومن الدحول أيضاً دحل درب نجم، في صحراء المجموعة الشرقية وهو أقدم الدحول المكتشفة، ودحل هيت في جبال الجبيل بالقرب من الخرج وهو من أعجب وأغرب الدحول في المملكة العربية السعودية؛ حيث اكتشف في باطنه بحيرة تقع على عمق مئة متر تقريباً تحت سطح الأرض. كذلك دحل المربع ودحل المفاجأة في منطقة الصمان الذي يوصف بأنه أجمل الدحول على الإطلاق؛ لما فيه من مناظر خلابة ناتجة عن تبلور معدن الكالسيت على شكل هوابط وصواعد وأعمدة في غرفتي الثريا والأنياب.

الجيولوجيا

الكتابة في

ابحث: ابحث في الإنترنت والموسوعات العلمية حول أحد الدحول أو الكهوف الشهيرة، أو زر - مصطحباً معلمك - أحد الدحول القريبة من منطقتك، ووثق زيارتك بصور أو عينات صخرية تجمعها ثم اكتب تقريراً يتضمن المعلومات التي حصلت عليها

يجب أن يتضمن البحث مواقع الكهوف وحجومها وأنواع تكويناتها والمعادن التي تكونت منها

مختبر الجيولوجيا

صمم بنفسك

دليل المعادن الميداني

6. اقرأ المخطط وتأكد إذا كانت جميع الخطوات مقبولة وقابلة للتنفيذ أم لا.
7. هل هناك إجراء يحتاج إلى بحث إضافي؟ استخدم المراجع العلمية أو الإنترنت لجمع المعلومات اللازمة لإنجاز الدليل.
8. ما المعلومات الإضافية التي يتضمنها الدليل؟ يمكن أن يبين الدليل طريقة تكوّن كل معدن، واستعماله وصيغته الكيميائية وصورة معنونة للمعدن أو رسم المعدن.

التحليل والاستنتاج

1. حلل أيّ الاختبارات أكثر تمييزاً للمعادن؟ وأيّها أقل تمييزاً؟ ناقش الأسباب التي تجعل خاصية ما أكثر فائدة من غيرها في تعريف المعدن.
2. لاحظ وفسّر أيّ المعادن يتفاعل مع حمض الهيدروكلوريك؟ ولماذا تظهر الفقاعات على سطح العينة؟
3. الربط مع الكيمياء اكتب معادلة كيميائية موزونة تصف فيها التفاعل الكيميائي بين المعدن والحمض.
4. رخص ما المعلومات التي تضمنها الدليل؟ وما المصادر التي استخدمت لجمع المعلومات؟ صف تصميم صفحة الدليل.
5. قوم ما إيجابيات وسلبيات الدليل؟
6. استخلص النتائج اعتماداً على نتائجك، هل هناك أي فحص حاسم يمكن استعماله بشكل دائم لتمييز المعادن؟ وضح إجابتك.

الكتابة في الجيولوجيا

مشاركة الزملاء أرسل ملخص نتائجك إلى زملائك في الصف أو المدرسة. قارن بين نتائجك ونتائج طلاب آخرين نفذوا هذه التجربة.

خلفية علمية: هل استخدمت دليلاً ميدانياً من قبل لتعرف الطيور أو الأزهار أو الصخور أو الحشرات. إذا فعلت ذلك فأنت تعرف أن الدليل الميداني لا يحتوي فقط صوراً لما تبحث أو ترغب في تعرفه، بل أكثر من ذلك؛ إذ يحتوي الدليل الميداني للمعادن على خلفية علمية عن المعادن عموماً، ومعلومات محددة عن كل معدن، تتضمن خصائصه، وتكوينه، واستعمالاته.

سؤال: ما المعلومات التي يجب أن يتضمنها دليل المعادن الميداني لمساعدة القارئ على تعرف معدن مجهول؟

الأدوات

عينات معادن	قطعة نحاس
عدسة مكبرة	مشبك أوراق
لوح زجاج	مغناطيس
لوح المخدش (قطعة خزف)	حمض هيدروكلوريك مخفف
مقياس موهس للقساوة	قطارة
مسار أو دبوس فولاذي	مرجع علمي للمعادن



إجراءات السلامة

خطوات العمل

1. اقرأ تعليمات السلامة في المختبر.
2. تأكد من موافقة معلمك على خطتك قبل تنفيذها.
3. نظّم مع أفراد مجموعتك الخطوات التي ستبناها لإعداد الدليل الميداني، مع الأخذ في الاعتبار المواد المتاحة التي تحتاج إليها عند التخطيط للعمل.
4. هل يجب أن تكرر إجراءات فحص أي خاصية للمعدن؟ وكيف تعرف إذا كانت خاصية معينة تدل على معدن معين دون سواه؟
5. صمم جدول بيانات لتلخيص نتائجك، وتأكد من وجود عمود لتسجيل إذا كان الدليل يتضمن اختباراً محدداً يتم من خلاله تعرف المعدن أم لا. ويمكنك استعمال هذا الجدول كأساس للدليل الميداني.

الفكرة العامة المعادن جزء ضروري في حياتنا اليومية.

المفاهيم الرئيسية

المفردات

1-1 ما المعدن؟

- الفكرة الرئيسية** المعدن مادة صلبة توجد في الطبيعة، في صورة مركب غير عضوي أو عنصر، ولها شكل بلوري ثابت.
- المعادن مادة طبيعية، صلبة، غير عضوية، لها مكونات كيميائية معينة، وبناء بلوري محدد.
 - البلورة جسم صلب تترتب فيه الذرات بنمط متكرر. وغالبًا ما يمثل البناء الداخلي المنتظم للمعدن شكل البلورة.
 - المعادن تتبلور من الصهارة، ومن المحاليل فوق المشبعة.
 - لتمييز المعادن بطريقة صحيحة لا بد من اختبار أكثر من خاصية.



المعدن
البلورة
البريق
القساوة
الانفصام
المكسر
المخدش
الوزن النوعي

1-2 أنواع المعادن

- الفكرة الرئيسية** تُصنف المعادن اعتمادًا على خواصها الكيميائية والفيزيائية.
- تحتل ذرة السيليكون في مجموعة السيليكات بأربع ذرات أكسجين لتشكل هرم السيليكات.
 - مجموعات المعادن الرئيسية هي: السيليكات والكربونات والأكاسيد والفوسفات والكبريتيدات والكبريتات والهاليدات والعناصر الحرة.
 - الخام يحتوي على مواد قيّمة يمكن تعدينها بحيث تكون مجدية اقتصاديًا.
 - يمكن تصنيف المعادن اعتمادًا على صفاتها الكيميائية وخصائصها الفيزيائية.
 - الأحجار الكريمة معادن ثمينة ونادرة وجميلة، فضلًا عن قساوتها ومقاومتها للخدش.

سيليكات
هرم رباعي الأوجه
الخام
الأحجار الكريمة



ج4: كل من الخامات والأحجار الكريمة معادن اقتصادية وتعتمد قيمتها على تكلفة إنتاجها وعلى العرض والطلب
ج5: تتكون المعادن السيليكاتية من ترابط رباعيات الأوجه السيليكاتية

مراجعة المفردات

لتحديد المصطلح الذي يصف كلاً من العبارات الآتية استعن بما ورد في دليل مراجعة الفصل:

1. العنصر أو المركب غير العضوي الصلب الذي يوجد في الطبيعة. **المعادن**
2. الأشكال الهندسية المنتظمة والمرتبطة بنمط متكرر في المعادن. **البلورة**

السيليكات

3. مجموعة المعادن المحتوية على السيليكون والأكسجين. وضح العلاقة بين المصطلحات الآتية في كل زوج مما يأتي:
4. خام، حجر كريم.

5. سيليكات، هرم رباعي الأوجه.

أكمل الجمل الآتية بالمفردات المناسبة:

6. تُظهر المعادن التي تنكسر عشوائياً..... **مكسر**
7. فحص ال..... يحدد المواد التي يحددها المعدن.

القساوة

تثبيت المفاهيم الرئيسية

استعمل الصورة أدناه في الإجابة عن سؤال 8.



8. ما الخاصية المعدنية التي يتم فحصها؟

- a. النسيج
- b. المكسر
- c. الانفصام
- d. القساوة

9. ما الخاصية التي تؤدي إلى تكسر معدن الجالينا إلى مكعبات صغيرة؟

- a. الكثافة
- b. البناء البلوري
- c. القساوة
- d. البريق

10. ما الخاصية المستعملة في تصنيف المعادن إلى مجموعات منفردة؟

- a. البناء الذري الداخلي.
- b. وجود أهرامات السيليكا أو عدم وجودها.

- c. المكونات الكيميائية
- d. الكثافة والقساوة.

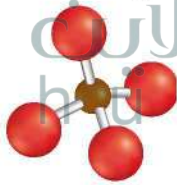
11. معدن كتلته 100 g وحجمه 50 cm³. ما كثافته؟

- a. 5000 g/cm³
- b. 2 g/cm³
- c. 5 g/cm³
- d. 150 g/cm³

12. ما الصيغة الكيميائية الصحيحة لهرم السيليكا؟

- a. SiO₂
- b. Si₂O₂⁺⁴
- c. SiO₄⁻⁴
- d. Si₂O₂

استعمل الشكل أدناه في الإجابة عن السؤالين 13 و 14



13. أين يرتبط رباعي الأوجه بعضه مع بعض؟

- a. في مركز ذرة السيليكون.
- b. عند أي ذرة أكسجين.
- c. عند ذرة الأكسجين العلوية فقط.
- d. عند ذرات الأكسجين السفلية فقط.

14. أي مجموعات المعادن الآتية تتكون بشكل رئيس من شكل رباعي الأوجه؟

- a. السيليكات
- b. الأكاسيد
- c. الكربونات
- d. الكبريتات

ج22: لأنهما يحتويان على كميات قليلة من عناصر شحيحة مختلفة

ج23: ستظهر كلمة جيولوجيا مرتين؛ لأن الأشعة الضوئية تنحني في اتجاهين متعاكسين

عندما تمر بمعدن سبار أيسلندا. هذا الانكسار المزدوج للضوء مرده إلى البناء البلوري الداخلي المنتظم لمعدن سبار أيسلندا

ج24: يزداد تركيز السكر مع تبخر الشاي؛ وفي النهاية يصبح الشاي مشبعاً بالسكر ثم يصبح فوق مشبع؛ وعندئذ تترسب بلورات السكر وتتفصل عن الشاي

19. أي معدن تتصاعد منه فقاعات غازية (فوران) عند ملاسته حمض الهيدروكلوريك؟

- a. الكوارتز
b. الكالسيت
c. الجبس
d. الفلوريت

20. ما الخاصية التي تصف المصطلحات الآتية: باهت، حريري، شمعي، لؤلؤي، أرضي؟

- a. البريق
b. المخدش
c. اللون
d. الانفصام

21. ماذا يتطلب المعدن لكي يعتبر خاماً؟

- a. أن يكون شائعاً.
b. ألا يسبب إنتاجه تلوثاً.
c. أن يوجد بصورة تلقائية في الطبيعة.
d. أن يحقق إنتاجه ربحاً اقتصادياً.

أسئلة بنائية

22. فسّر لماذا يختلف لون حجر الياقوت عن لون الزفير رغم أنها شكلان لمعدن الكورندوم؟

23. صف الأثر الضوئي الناجم عن وضع قطعة شفافة من معدن سبار أيسلندا (نوع من معدن الكالسيت) فوق كلمة جيولوجيا في كتاب ما.

24. لخص عملية تكون بلورات سكر في كأس من الشاي الساخن محلي بالسكر.

25. كوّن فرضية أي الخواص المعدنية نتيجة مباشرة لترتيب الذرات أو الأيونات في البلورات؟ وضع إجابتك.

26. قارن للألماس والجرافيت المكونات الكيميائية نفسها. ما أوجه الشبه والاختلاف بين هذين المعدنين؟ ولماذا يعد الألماس حجراً كريماً بخلاف الجرافيت؟

15. أي المعادن الآتية لا يمكن تحديد مخدشه باستعمال صفيحة البورسلان؟

- a. الهيماتيت
b. الذهب
c. الفلسبار
d. الماجنيتيت

16. أي من العناصر الآتية أكثر شيوعاً في القشرة الأرضية؟

- a. الصوديوم
b. السيليكون
c. الحديد
d. الكربون

استعمل الجدول الآتي للإجابة عن السؤال (17):

الصيغ الكيميائية لبعض المعادن	
الصيغة الكيميائية	الاسم
SiO ₂	الكوارتز
NaAlSi ₃ O ₈ — CaAl ₂ Si ₂ O ₈ و KAlSi ₃ O ₈	الفلسبار
Ca ₂ (Mg,Fe) ₅ Si ₈ O ₂₂ (OH) ₂ Fe ₇ Si ₈ O ₂₂ (OH) ₂	الأمفيبول
(Mg,Fe) ₂ SiO ₄	الأوليفين

17. ما العامل الرئيس الذي يحدد الاختلاف في المكونات الكيميائية في المعادن في الجدول أعلاه؟

- a. معدل تبريد الصهارة.
b. درجة حرارة الصهارة.
c. وجود الماء أو غيابه.
d. تغيرات في الضغط.

18. المعدن السائد في الحجر الجيري هو الكالسيت. فإلى أي مجموعة معدنية ينتمي؟

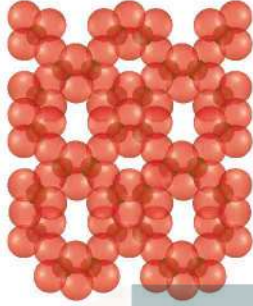
- a. السيليكات
b. الكربونات
c. الأكاسيد
d. الكبريتات

ج25: الشكل البلوري: يعكس النموذج الداخلي. القساوة: تعتمد على قوة الروابط بين الذرات؛ الانفصام: يفصم البلورة على طول أماكن ضعف الروابط، أما الكثافة فتعتمد على مقدار تراص الذرات

لهما خصائص مختلفة؛ مما يجعلهما معدنين مختلفين؛ فالجرافيت طري وغير جذاب أما الألماس فقاس وجذاب؛ ويمكن تشكيله حسب الطلب كما أنه نادر الوجود

- ج30: النفط عضوي وليس صلباً، الخشب والفحم مادتان عضويتان؛ الفولاذ والخرسانة لهما طبيعة طبيعية؛ الزجاج (سواء كان طبيعياً أم اصطناعياً) ليس له بناء بلوري
- ج31: الذهب عالي الكثافة؛ لذا يمكن للمنقبين أن يميزوا بين الذهب والبيريت من خلال الوزن النوعي
- ج32: سيؤخذ في الاعتبار لتقييم قيمة الحجر الكريم الجديد العوامل الآتية: وفرة وندرة المعدن وكيفية الإنتاج؛ والعرض والطلب
- ج33: تربط الأيونات الفلزية الموجبة مثل البوتاسيوم والماغنسيوم والحديد الصفائح بعضها مع بعض
- ج34: لها سطوح انقسام صفائحية في اتجاه واحد

استعمل الشكل الآتي للإجابة عن السؤالين 33 و 34 :



33. استنتج المايكا معادن سيليكاتية صفائحية تترتب ذراتها، كما في الشكل أعلاه. ما الذي يربط هذه الصفائح التي تتكون من هرم رباعي الأوجه سالب الشحنة؟
34. صف نوع الانقسام في المعادن التي لها التركيب الذري الموضح في الشكل.

خريطة مفاهيمية

35. ارسم خريطة مفاهيمية مستعملاً المصطلحات الآتية:

يجب أن تتضمن الخريطة المفاهيمية المصطلحات الواردة في السؤال وإدراجها أسفل مصطلح "مجموعات المعادن"، بحيث يتفرع من كل مجموعة المعادن التابعة لها ومن ذلك إدراج معدني الهيماتيت والمجنيتيت أسفل مجموعة الأكاسيد؛ ويمكن للطلاب: إضافة أي خصائص آخر تتعلق بكل مجموعة إلى الخريطة المفاهيمية

36. رتب بالإضافة إلى السيليكات الصفائحية هناك سيليكات السلاسل والسيليكات الثلاثية الأبعاد والسيليكات الحلقية. رتب ستة أهرامات سيليكات على شكل سيليكات حلقية، وتأكد من ربط ذرات الأكسجين بدقة.

يجب أن ترتبط ذرات الأكسجين في أحد الجوانب مع ذرات أكسجين آخر على شكل بناء حلقي

التفكير الناقد

27. صف الاختلافات التي تظهرها معادن الجارنت المدونة في الجدول 1-1. **تختلف في اللون**
استعمل الصورة أدناه في الإجابة عن السؤال 28.

ج28: يجب أن يظهر الرسم أن الذرات مصطفة بطريقة هندسية متكررة على هيئة مكعب

ج29: للكورندم قساوة 9 وفق مقياس موهس للقساوة؛ لذا يمكن استخدامه في صناعة ورق الصنفرة أما التوباز والكوارتز فقساوتهما 8 و 7 على التوالي؛ ويستخدم أيضاً في صنع ورق الصنفرة

28. ارسم كيف يكون التركيب الذري لبلورة هذا المعدن إذا كان شكل البلورة انعكاساً خارجياً له؟
29. اقترح أفضل المعادن - ما عدا الألماس - التي يمكن أن تُستخدم في صنع ورق الصنفرة؟ وضح إجابتك مستخدماً الجدول 1-2.
30. قرّر أيّ المواد الآتية ليست معادن؟ النفط، الخشب، الفحم، الفولاذ، الأسمنت، الزجاج. ولماذا؟
31. استدل كيف استعمل المنقبون الأوائل في المناجم الكثافة في تحديد إذا كان المعدن الذي وجدوه بيريتاً أم ذهباً؟
32. قوّم تخيل أنه تم اكتشاف حجر كريم أكثر إبهازاً من الألماس والياقوت. قوّم العوامل التي ستؤخذ بعين الاعتبار لتقدير قيمة الحجر الكريم الجديد مقارنةً بالأحجار الكريمة المعروفة.

استعمل الجدول الآتي للإجابة عن السؤالين 5 و 6:

المعدن	القساوة	المعدن	القساوة
التلك	1	الفلسبار	6
الجبس	2	الكوارتز	7
الكالسيت	3	التوباز	8
الفلوريت	4	كورندوم	9
الأباتيت	5	الأماس	10

5. بم تصف الأماس من واقع البيانات الواردة في الجدول؟

- المعدن الأثقل.
 - المعدن الأبطأ في التكون.
 - الأكثر انتظاماً في البناء البلوري.
 - لا يمكن خدشه بأي معدن آخر.
6. أي معدن يخدش الفلسبار ولا يخدش التوباز؟
- الكوارتز
 - الكالسيت
 - الأباتيت
 - الأماس
7. التخطيط الجيد لإجراء تجربة لا يشترط بالضرورة وجود واحد من العناصر الآتية:
- التكنولوجيا
 - تحديد المتغيرات.
 - صياغة الفرضيات.
 - جمع البيانات.

اختيار من متعدد

1. أي العناصر الآتية ترتيبه الثاني من حيث وفرته في القشرة الأرضية؟

- النيتروجين
- الأكسجين
- السيليكون
- الكربون

استعمل الجدول الآتي للإجابة عن السؤالين 2 و 3:

المعدن	القساوة	الوزن النوعي	البريق / اللون
الفلسبار	6-6.5	2.5-2.8	لافلزي / شفاف أو أبيض
الفلوريت	4	3-3.3	لافلزي / أزرق، أصفر، بنفسجي، أخضر، بني
الجالينا	2.5-2.75	7.4-7.6	فلزي / رمادي، أسود
الكوارتز	7	2.65	لافلزي، شفاف عندما يكون نقياً

2. أي المعادن الآتية أكثر قساوة؟

- الفلسبار
 - الفلوريت
 - أي المعادن الآتية ذات لمعان فلزي؟
 - الأماس
 - الفلوريت
 - أي الخصائص الآتية أكثر مصداقية لتعرف المعادن؟
 - اللون
 - المخدش
- الجالينا
 - الكوارتز
 - الجالينا
 - الكوارتز
 - الأماس
 - البريق

صناعة الأجهزة الإلكترونية، ويوجد السيليكون في الطبيعة بأشكال متعددة؛ فهو موجود في الكثير من الصخور، وأحياناً في المياه، وفي الهواء على شكل دقائق غبار، وفي هياكل بعض المخلوقات الحية، ويوجد أيضاً في الكواكب والنجوم. لا يوجد السيليكون منفرداً في الطبيعة، بخلاف الذهب أو الفضة، بل يوجد دائماً متحدًا مع عناصر؛ منها الأكسجين O والألومنيوم Al والماغنسيوم Mg والكالسيوم Ca والصدوديوم Na والبوتاسيوم K والحديد Fe، وغيرها من العناصر، ويكون مجموعة السيليكات، وهي أكبر المجموعات الكيميائية، وأكثرها تعقيدًا.

لون السيليكون رمادي باهت، ووزنه النوعي 2.42، وتكافؤه مثل تكافؤ الكربون، وقد دخل السيليكون في مجموعة من الصناعات الكيميائية، منها كريد السيليكون الذي يستعمل لشحذ أدوات القطع، ومطاط السيليكون المستعمل في السدادات، والزيوت والدهانات. والسيليكون من العناصر شبه الموصلة، لذا يستعمل في الخلايا الشمسية لتوليد التيار الكهربائي من الضوء، ويستعمل في صنع الرقائق الإلكترونية والترانزستورات.

14. اعتمادًا على النص السابق؛ أيّ خصائص السيليكون الآتية تشكل تحديًا لاستخدامه؟
- a. يحيط به هالة من الإلكترونات.
b. لونه رمادي باهت.
c. لا يوجد منفردًا في الطبيعة.
d. واسع الانتشار في أماكن عديدة.

15. أيّ الصناعات الآتية لا تعتمد على الحالة الكيميائية للسيليكون؟

- a. مطاط السيليكون والسدادات.
b. كريد السيليكون والحجارة التي تشحذ أدوات القطع.
c. الرقائق الإلكترونية.
d. الزيوت والدهانات.

16. لماذا لم يكن السيليكون معروفًا بشكل واسع قبل انتشار الأجهزة الإلكترونية؟

وذلك لأن السيليكون يستخدم في صناعة أشباه الموصلات التي تعد عصب الأجهزة الكهربائية


ج10: لأن وحدة الجرام أكثر شيوعا وهي وحدة قياس مفهومة وكذلك للمساعدة على تسهيل فهم الناس لكتلة الألماس
ج11: يصبح الخام غير اقتصادي إذا أصبحت تكلفة استخراجة عالية جدا وأعلى من سعر الخام نفسه؛ أو تغير العرض والطلب بالنسبة له
ج12: يعرف البريق بأنه الكيفية التي يعكس بها المعدن الضوء الساقط على سطحه ويصعب استعمال البريق وحده في تعرف المعادن؛ لأنه غير موضوعي؛ ويعتمد على نظرة الشخص
ج13: تصنف بعض المواد خامات لأنها تحتوي على مواد قيمة يمكن تعدينها بحيث تصبح مجدية اقتصاديا

8. رتبّ الماسات الثلاث من الأصغر إلى الأكبر حسب أوزانها بالقيراط وسجّل وزن كل منها.
9. كم كيلو جرامًا من الألماس أنتجت غرب أستراليا في العام 2001 م؟ **كجم 4336**
10. لماذا يحول منقبو الألماس قياساتهم من القيراط إلى الجرام؟
11. لماذا يعاد تصنيف بعض المعادن من خام اقتصادي إلى معدن غير اقتصادي؟
12. عرف البريق، وبين لماذا يصعب استعمال البريق في تعرف المعادن؟
13. لماذا تصنف بعض المعادن خامات، ولا تصنف معادن أخرى كذلك؟

القراءة والاستيعاب

السيليكون

السيليكون Si ثاني أكثر العناصر انتشارًا في القشرة الأرضية. إلا أن الاهتمام به زاد بشكل واسع بعد استعماله في



بيروكسين

أوليفين

بلاجيوكليز

الفكرة العامة الصخور النارية أول الصخور التي تشكلت عندما بردت الأرض، وتبلورت في القشرة الأرضية الأولية.

1-2 ما الصخور النارية؟

الفكرة الرئيسة الصخور النارية هي الصخور التي تتكون عندما تبرد المواد المنصهرة الموجودة في باطن الأرض، وتتلور.

2-2 تصنيف الصخور النارية

الفكرة الرئيسة يعتمد تصنيف الصخور النارية على مكوناتها المعدنية وحجم بلوراتها ونسيجها.

حقائق جيولوجية

- بنيت الكعبة المشرفة في عهد نبي الله إبراهيم عليه السلام.
- تم بناؤها باستخدام الحجارة البازلتية المتوافرة في مكة المكرمة.
- تبلغ مساحة الكعبة المشرفة تقريباً 145 m^2 ، وارتفاعها 14 m .

أنواع الصخور النارية


اعمل المطوية الآتية للمقارنة بين الصخور النارية السطحية والصخور النارية الجوفية.

المطويات

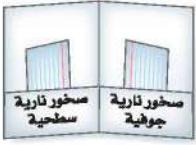
منظمات الأفكار



الخطوة 1: اثن أسفل ورقة أفقية نحو الأعلى بمقدار 3 cm.



الخطوة 2: اثن الورقة من المنتصف.



الخطوة 3: افتحها وأصقها بصمغ أو دبابيس لعمل جيبن، وعنونها كما في الشكل.

استخدم هذه المطوية في القسم 2-2 من الفصل الثاني مستعملاً ربع ورقة تكتب فيها ملخصاً عن كيفية تكوّن كل نوع من الصخور مع إعطاء أمثلة.

تجربة استهلاكية

كيف نتعرف المعادن؟

تتكون الصخور النارية من معادن مختلفة، ويمكن تمييز تلك المعادن في بعض أنواع الصخور النارية التي تتكون من بلورات معدنية كبيرة.

الخطوات

1. اقرأ تعليمات السلامة في المختبر.
2. افحص عيّنة من الجرانيت بالعين المجردة، وسجّل ملاحظتك.
3. استعمل عدسة مكبرة أو مجهرًا مستقطب لمشاهدة عيّنة الجرانيت، وسجّل ملاحظتك.



التحليل

1. وضح ما شاهدته من خلال العدسة المكبرة أو المجهر المستقطب. ضمّن رسمك مقياسًا للرسم توضّح من خلاله النسبة بين حجم البلورات في العينة وحجمها على الرسم.
2. عدّد أنواع المعادن التي شاهدتها في عيّنتك.
3. صف أشكال بلورات المعادن وحجومها.
4. اكتب أي دليل يفيد أن هذه البلورات تكوّنت من صخر مصهور.

ما الصخور النارية؟

What are Igneous Rocks?

الفكرة الرئيسية الصخور النارية صخور تتكوّن عندما تبرد المواد المنصهرة في باطن الأرض وتبلور.

الربط مع الحياة. تستخدم الصخور النارية في العديد من المجالات ومنها: مجال البناء وفي المطابخ وواجهات المباني ورصف الشوارع.

تكوّن الصخور النارية Igneous Rocks Formation

لو أنك تابعت فيلمًا عن بركان نشط لشاهدت كيف تتكوّن الصخور النارية. وكما درست سابقًا، فإن الصهارة صخور مصهورة توجد تحت سطح الأرض. أما اللابة Lava فهي صهارة تتدفق على سطح الأرض. تتكوّن الصخور النارية Igneous Rock عندما تبرد الصهارة أو اللابة وتبلور المعادن. تمكّن العلماء من صهر معظم أنواع الصخور في المختبر بتسخينها إلى درجات حرارة تتراوح بين 800° C و 1200° C. وتتوافر درجات الحرارة هذه في الطبيعة في الجزء السفلي من القشرة الأرضية، وفي الجزء العلوي من الستار. ما هو مصدر هذه الحرارة؟ يعتقد العلماء أن مصدرها الطاقة الحرارية الأرضية هما: الطاقة المتبقية من تكوّن الأرض من الصهير الأولي، وطاقة التحلل الإشعاعي للعناصر.

مكونات الصهارة Composition of magma يعتمد نوع الصخر الناري المتكوّن على مكونات الصهارة، والصهارة خليط من صخر مصهور وغازات مذابة وبلورات معدنية، والعناصر الشائعة في الصهارة هي نفسها العناصر الرئيسية في القشرة الأرضية: الأكسجين O، والسيليكون Si، والألومنيوم Al، والحديد Fe، والكالسيوم Ca، والصدوديوم Na، والبوتاسيوم K، والمغنيسيوم Mg. ومن بين جميع المركبات الموجودة في الصهارة، تعد السيليكا من أكثرها شيوعًا وتأثيرًا في

الأهداف

- تتلخص تكون الصخور النارية.
- تصف مكونات الصهارة.
- تعترف العوامل التي تؤثر في كيفية انصهار الصخور وتبلورها.

مراجعة المفردات

السيليكات: معادن تحتوي على السيليكون والأكسجين، مع وجود واحد أو أكثر من عناصر أخرى غالبًا.

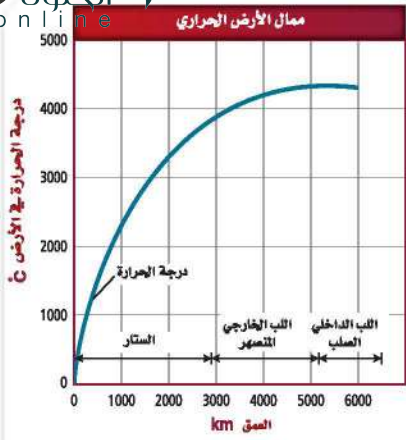
المفردات الجديدة

- اللابة
- الصخور النارية
- الانصهار الجزئي
- سلاسل تفاعلات باون
- التبلور الجزئي

أنواع الصهارة

الجدول 1-2

نوع الصهارة	المحتوى من السيليكا	مثال
بازلتية	42 - 52%	حرات المدينة المنورة
أنديزيتية	52 - 66%	جبال الأنديز
ريولايتية	أكثر من 66%	متنزه يلوستون - أمريكا



الشكل 1-2 متوسط الممال الحراري في القشرة الأرضية $25^{\circ}\text{C}/\text{km}$ تقريباً، ويعتقد العلماء أنها تهبط بشدة إلى $1^{\circ}\text{C}/\text{km}$ في الستار.



الشكل 2-2 تزداد درجة حرارة الجزء العلوي من القشرة مع زيادة العمق $30^{\circ}\text{C}/\text{km}$ تقريباً. وتصادف آلة الحفر عند عمق 3 km صخوراً درجة حرارتها قريبة من درجة غليان الماء.

خصائصها. وتصنف الصهارة اعتماداً على محتواها من السيليكا - كما هو مبين في الجدول 1-2 إلى بازلتية أو أنديزيتية أو ريولايتية. ويؤثر محتوى الصهارة من السيليكا في درجة انصهارها وسرعة تدفقها.

وعندما تتحرر الصهارة من الضغط الواقع عليها من الصخور المحيطة بها تتمكن الغازات الذائبة فيها من الانطلاق إلى الغلاف الجوي. لذا تختلف مكونات اللابة الكيميائية قليلاً عن المكونات الكيميائية للصهارة التي نتجت اللابة عنها.

تكوّن الصهارة Magma formation تتكون الصهارة بانصهار قشرة الأرض، أو مادة الستار. وهناك أربعة عوامل رئيسية تؤثر في تكوّن الصهارة، هي: درجة الحرارة، الضغط، المحتوى المائي، المحتوى المعدني لمادة القشرة أو الستار. وتزداد درجة الحرارة عادة كلما تعمّقنا في القشرة الأرضية، وتسمى هذه الزيادة في درجة الحرارة الممال الحراري، وهي ممثلة في الشكل 1-2. ولدى حفاري آبار النفط خبرة مباشرة في الممال الحراري الأرضي؛ فألات الحفر -كتلك الميمنة في الشكل 2-2- يمكن أن تصادف درجات حرارة تزيد على 200°C في أثناء حفر آبار النفط العميقة. يزداد الضغط أيضاً مع زيادة العمق، وهذا ناجم عن وزن الصخور العلوية. وتفيد التجارب المخبرية أنه مع ازدياد الضغط الواقع على الصخور تزداد درجة الانصهار. لذلك فإن الصخر الذي ينصهر عند 1100°C على سطح الأرض ينصهر عند درجة 1400°C على عمق 100 km.

أما العامل الثالث الذي يؤثر في تكون الصهارة فهو المحتوى المائي الذي يغير من درجة انصهار الصخور التي تقل بازياد المحتوى المائي. **ماذا قرأت؟** عدد العوامل الرئيسية المؤثرة في تكون الصهارة.

العوامل الأربعة هي درجة الحرارة والضغط والمحتوى المائي والمحتوى المعدني

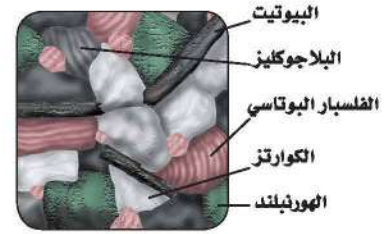
تتكون من معادن الأوليفين والفلسبار الكلسي والبيروكسين عند درجات حرارة أعلى، مقارنة بصخور الجرانيت أو الريولايت التي تتكون من الكوارتز والفلسبار البوتاسي.

إن درجة انصهار صخر الجرانيت أقل من درجة انصهار صخر البازلت؛ لأنه يحتوي على ماء أكثر، ولعادته درجات انصهار أقل.

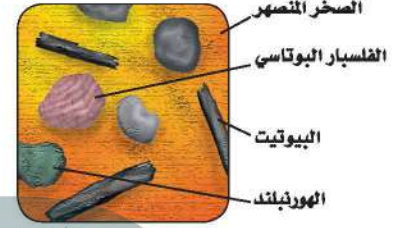
وعموماً تنصهر الصخور المحتوية على الحديد والماغنيسيوم -ومنها البازلت- عند درجات حرارة أعلى، مقارنة بالصخور المحتوية على نسب أعلى من السيليكون، ومنها الجرانيت.

الانصهار الجزئي Partial melting افترض أنك جمدت شمعا منصهرا في قالب في قالب مكعبات جليد، وأخذت هذا القالب خارج الثلاجة وتركته في درجة حرارة الغرفة؛ سوف ينصهر الجليد، ولكن الشمع لن ينصهر. والسبب في ذلك هو اختلاف درجتي انصهارهما. تنصهر الصخور بالطريقة نفسها لاختلاف درجات انصهار المعادن التي تحتويها. لذلك لا تنصهر جميع أجزاء الصخر عند درجة الحرارة نفسها. وهذا يفسر لماذا تُكوّن الصهارة غالبًا مزيجًا من بلورات ومصهور صخري. وتسمى عملية انصهار بعض المعادن عند درجات حرارة منخفضة مع بقاء معادن أخرى صلبة الانصهار الجزئي **Partial Melting**. انظر الشكل 3-2. ويضاف مع صهر كل مجموعة معدنية عناصر جديدة إلى خليط الصهارة، مما يؤدي إلى تغير في مكوناتها، وإذا لم تكن درجات الحرارة كافية لصهر الصخر بأكمله فإن مكونات الصهارة الناتجة ستختلف عن مكونات الصخر الذي تكونت منه، وهذه إحدى الطرائق التي تتكون بها الأنواع المختلفة من الصخور النارية.

✓ **ماذا قرأت؟** لخص لماذا تختلف مكونات الصهارة الكيميائية عن المكونات الكيميائية للصخر الأصلي؟



صخر صلب



صخر منصهر جزئيًا

الشكل 3-2 تبدأ المعادن في الانصهار في منطقة ما عندما تبدأ درجة الحرارة بالإرتفاع. حدد ماذا تتوقع أن تكون درجة انصهار الكوارتز اعتمادًا على هذا الشكل؟

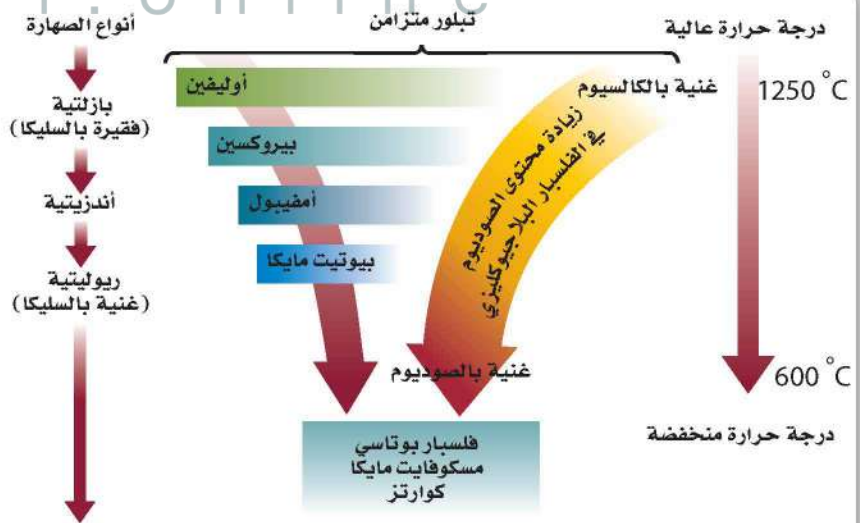
تتكون هذه الصهارة إذا كانت درجات الحرارة غير كافية لصهر الصخر كله؛ وفي هذه الحالة فإن الصهارة لن تحتوي على العناصر نفسها التي يحتويها الصخر الذي نشأت منه؛ لذا لن نحصل على المعادن نفسها ولا على الصخر نفسه عند تبلورها

ينصهر الكوارتز عند درجة حرارة أقل من سائر المعادن

الشكل 4-2 في الطرف الأيسر من سلاسل تفاعلات باون، تتغير المعادن الغنية بالحديد والماغنسيوم بشكل مفاجئ مع انخفاض درجة حرارة الصهارة.

قارن كيف يمكن مقارنة ذلك مع الفلسبار في الطرف الأيمن من الشكل؟

يتغير الفلسبار بالتدرج





الشكل 5-2 عندما تبرد الصهارة بسرعة قد لا تجد بلورة الفلسبار الوقت الكافي للتفاعل تمامًا مع الصهارة فتبقى على أنوية غنية بالكالسيوم. والنتيجة تكون بلورات بنطاقات تتميز بغناها بالكالسيوم وأخرى بالصوديوم.

المعادن الغنية بالحديد والماغنسيوم Iron –magnesium rich mineral يمثل الطرف الأيسر من سلسلة تفاعلات باون المعادن الغنية بالحديد والماغنسيوم، والتي تخضع لتغيرات مفاجئة مع تبريد الصهارة وتبلورها؛ ففي البداية يتبلور معدن الأوليفين من الصهارة، وعندما تبرد الصهارة بما يكفي لبدء تبلور معدن جديد يتشكل البيروكسين من تفاعل الأوليفين مع الصهارة، ومع استمرار انخفاض درجة الحرارة تحدث تفاعلات مشابهة منتجة الأمفيبول والبيوتيت وهي أقل المعادن احتواءً على الحديد والماغنسيوم.

الفلسبار Feldspar يمثل الطرف الأيمن من سلسلة تفاعلات باون معادن فلسبار البلاجيوكليز التي تخضع لتغير مستمر في مكوناتها، فمع تبريد الصهارة يتكون أكثر معادن البلاجيوكليز غني بالكالسيوم. ويتفاعل هذا المعدن مع الصهارة، وتتغير مكوناته ليصبح غنيًا بالصوديوم، وفي بعض الحالات عندما يتم التبريد سريعًا تصبح أنوية الفلسبار الغنية بالكالسيوم غير قادرة على التفاعل تمامًا مع الصهارة، فتكون النتيجة هي تكون بلورة ذات نطاقات غنية بالكالسيوم وأخرى بالصوديوم كما في الشكل 5-2.

التبلور الجزئي Fractional Crystallization

عندما تبرد الصهارة تتبلور معادنها بترتيب عكس ترتيب انصهار بلورات المعادن في حالة الانصهار الجزئي، بمعنى أن آخر المعادن انصهارًا تكون أولها تبلورًا.

وتسمى عملية تصلب بلورات المعادن وانفصالها التبلور الجزئي **Fractional crystallization**. وتشبه هذه العملية عملية الانصهار الجزئي في أن تركيب الصهارة يتغير في كل منها. وفي هذه الحالة تنفصل البلورات التي تتكون في البداية عن الصهارة، ولا تستطيع التفاعل معها، فتصبح الصهارة المتبقية غنية بالسيليكا.

تجربة

مقارنة الصخور النارية

حجم البلورات، والمكونات المعدنية (إن أمكن).

4. صمّم جدول بيانات لتدوين ملاحظتك.

التحليل

1. صنّف عيناتك إما بازلية وإما أنديزيتية وإما ريوليتية. [تلميح: كلما زاد محتوى الصخر من السيليكا يصبح لونه فاتحًا].

2. قارن بين عيناتك باستخدام جدول البيانات. كيف تختلف؟ ما الخصائص التي تشترك فيها المجموعات؟

3. حنّ الترتيب الذي تبلورت به العينات. [تلميح: استخدم سلاسل تفاعلات باون دليلًا].

كيف تختلف الصخور النارية بعضها عن بعض؟ للصخور النارية خصائص كثيرة مختلفة. فاللون وحجم البلورات تعدّ من المعالم التي نستطيع من خلالها تمييز الصخور النارية بعضها عن بعض.

خطوات العمل

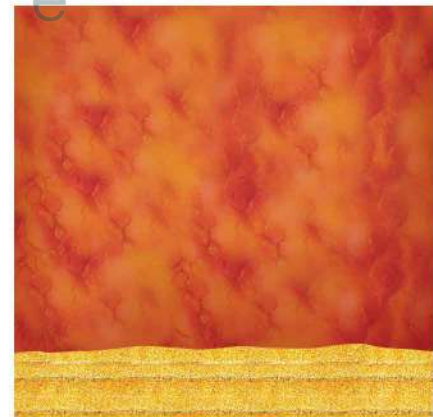
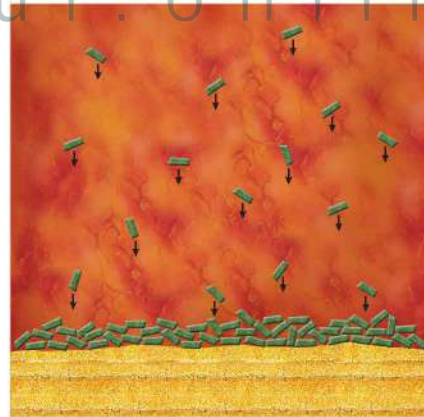

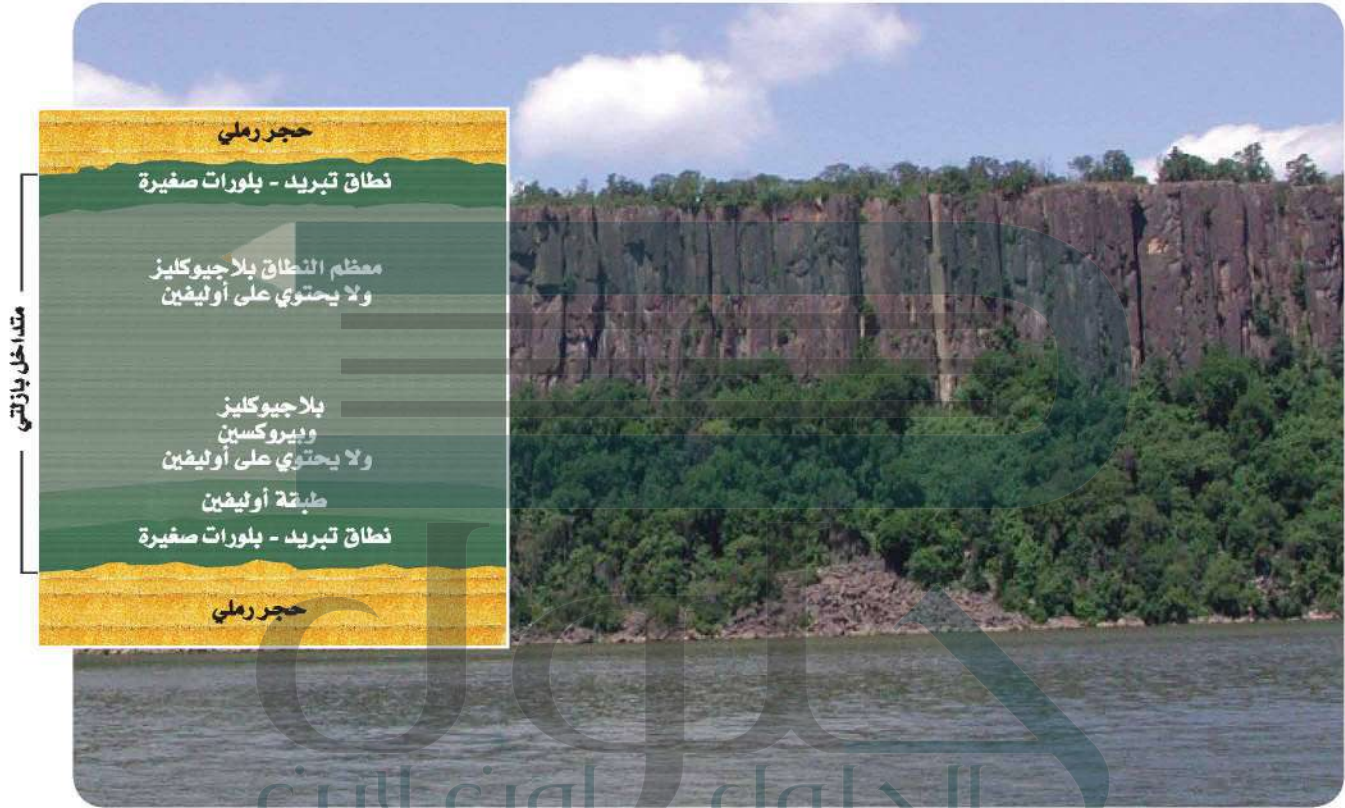
1. اقرأ نموذج السلامة في المختبر الموجود في دليل التجارب العملية، واملأه.

2. احصل على مجموعة من عينات صخرية نارية من معلمك.

3. لاحظ الخصائص الآتية لكل صخر: مجمل اللون،

التبلور الجزئي وترسب البلورات Fractional Crystallization and Crystal Settling

الشكل 6-2 تعتبر عتبة باليسيد (Palisade Sill) في وادي نهر هدسون (Hudson) في نيويورك ونيوجيرسي مثالاً على عملية التبلور الجزئي وترسيب البلورات. ففي العتبة البازلتية تكونت بلورات صغيرة في نطاق التبريد؛ لأن الأجزاء الخارجية من هذا الجسم البازلتية بردت بسرعة أكبر من الأجزاء الداخلية.



مع بدء تبريد الصهارة التي اخترقت الطبقات الصخرية تتكون البلورات وتستقر في القاع، وتسمى هذه الطبقة في توزيع البلورات التبلور الجزئي.

ج1: سيكون للصخور بلورات صغيرة متساوية الحجم؛ لأن الصهارة بسرعة فلم يتح لها وقت كاف لتكون بلورات كبيرة الحجم ومع مرور الوقت بدأت ترد ببطء ولكن هناك لم يكن هناك حيز كاف لتكوين بلورات كبيرة
ج2: الأكسجين - السيلكون - الألمنيوم - الحديد - الماغنسيوم - الكالسيوم - البوتاسيوم - الصوديوم

ج3: درجة الحرارة والضغط والمحتوى المائي والمعدني؛ مجموعات مختلفة من هذه العوامل تنتج أنواعًا مختامة من الصهارة
ج4: تتكون الصهارة تحت سطح الأرض وتحت الضغط أما اللابة فهي صهير يتراكم فوق سطح الأرض وغير واقع تحت الضغط وتختلف مكوناتها الكيميائية عن الصهارة التي تكونت منها فالغازات التي كانت ذائبة تحت الضغط قد تطايرت
ج5: الضغط عال جدًا ودرجة الحرارة ليست عالية بما يكفي لصهر اللب أو إبقائه منصهرًا

ج6: سيكون محتوى الصهارة من السيليكا أعلى من الصخر نفسه لأن الكوارتز ينصهر أولاً لذا فإن نسبة السيليكا في الصهارة ستكون أكثر عند بداية تكونها

التقويم 1-2

الخلاصة

- تتكون الصهارة من صخور منصهرة وغازات مذابة وبلورات معدنية.
- تُصنّف الصهارة إلى بازلتية أو أنديزيتية أو ريوليتية اعتمادًا على كمية السيليكا التي تحتويها.
- تنصهر المعادن المختلفة وتبلور عند درجات حرارة مختلفة.
- توضح سلاسل تفاعلات باون الترتيب الذي تبلور حسب المعادن من الصهارة.

ج7: على الرغم من إمكان وجود المعدنين في الصخر نفسه؛ إلا أن التعليق المحتمل هو اعتماداً على سلاسل تفاعلات باون ودرجة تبلور المعدنيين، فإنه لايجتمل وجودهما في الصخر نفسه؛ ولكن من المحتمل وجود الفيلسبار البلاجيوكليزي مع البيروكسين

فهم الأفكار الرئيسية

- الفكرة الرئيسية توقع المظهر الذي سيبدو عليه صخر ناري تكون من صهارة خرجت إلى السطح فبدأت تبرد بسرعة، ثم قلت سرعة تبريدها مع الوقت.
- اعمل قائمة بالعناصر الثمانية الرئيسية الموجودة في معظم أنواع الصهارة. أضف الرمز الكيميائي لكل عنصر.
- لخص العوامل التي تؤثر في تكوين الصهارة.
- قارن بين الصهارة واللابة.

التفكير الناقد

- توقع إذا كانت درجة الحرارة تزداد نحو مركز الأرض، فلماذا يصبح مركز الأرض صلبًا؟
- استدل على محتوى السيليكا في صهارة مشتقة من الانصهار الجزئي لصخر ناري. هل سيكون أكثر، أم أقل، أم مساويًا لمحتوى الصخر نفسه؟ وضح إجابتك.

الكتابة 2 الجيولوجيا

- ادّعى أحد هواة جمع الصخور أنه وجد أول مثال على البيروكسين والفيلسبار الغني بالصوديوم في الصخر نفسه. اكتب تعليقًا على هذا الادعاء.

الأهداف

- تصنف الصخور النارية وفق مكوناتها المعدنية وأنسجتها.
- تعترف أثر معدلات التبريد في أحجام البلورات في الصخور النارية.
- تصف بعض استخدامات الصخور النارية.

مراجعة المفردات

التبلور الجزئي

عملية متعاقبة يتم في أثناءها فصل أول البلورات المتكونة من الصهير، فلا تتفاعل مع الصهارة المتبقية.

المفردات الجديدة

- الصخور الجوفية
- الصخور السطحية
- الصخر البازلتي
- الصخر الجرانيتي
- الصخور المتوسطة
- الصخور فوق القاعدية
- النسيج
- النسيج البورفيرى
- النسيج الفقاعي
- البيجماتيت
- الكمبرليت

الشكل 8-2 يمكن ملاحظة الفروق في مكونات الصهارة في الصخور التي تتكون عندما تبرد الصهارة وتبلور.

لاحظ. صف الفروق التي تشاهدها في هذه الصخور.

تصنيف الصخور النارية

Classification of Igneous Rocks

الفكرة الرئيسية يعتمد تصنيف الصخور النارية على مكوناتها المعدنية وحجم بلوراتها ونسيجها.

الربط مع الحياة. هناك شيء مشترك بين الأرضيات والمباني والجدران؛ فالعديد منها من النوع الصخري المعروف بالجرانيت، وهو صخر شائع في القشرة الأرضية.

المكونات المعدنية للصخور النارية

Mineral Composition of Igneous Rocks

تُصنف الصخور النارية عموماً إلى صخور جوفية (متداخلة)، وأخرى سطحية (بركانية)؛ فعندما تبرد الصهارة وتبلور تحت سطح الأرض تتكون الصخور الجوفية **Intrusive Rocks**، وتكون بلورات الصخور الجوفية كبيرة عادة، بحيث يمكن رؤيتها بالعين المجردة. وتشكل الصهارة التي تبرد وتبلور على سطح الأرض **صخوراً سطحية Extrusive Rocks**، ويشار إليها أحياناً بالخرات أو طفوح اللابة أو الطفوح البازلتية. والبلورات التي تتكون في هذه الصخور صغيرة ويصعب رؤيتها بالعين المجردة، ويُصنّف الجيولوجيون هذه الصخور حسب مكوناتها المعدنية، بالإضافة إلى الخصائص الفيزيائية ومنها حجم البلورات والنسيج وهذا يمثل مؤشراً لتعرف أنواع الصخور النارية المتنوعة.

تُصنّف الصخور النارية حسب مكوناتها المعدنية؛ فالصخور البازلتية **Basaltic Rocks** ومنها الجابرو- لونها غامق، ومحتواها من السيليكا قليل، وتتكون في غالبيتها من البلاجيوكليز والبيروكسين. أما الصخور الجرانيتية **Granitic Rock** ومنها الجرانيت- فهي فاتحة اللون ومحتواها من السيليكا كثير، ويتكون معظمها من الكوارتز والفلسبار البوتاسي والبلاجيوكليز. وتسمى الصخور ذات المكونات المتوسطة بين البازلت والجرانيت **الصخور المتوسطة Intermediate Rocks**، ويتكون معظمها من البلاجيوكليز والهورنبلند، ويعد الديوريت مثلاً جيداً على هذا النوع. ويوضح الشكل 8-2 أمثلة على الأنواع الثلاثة من الصخور النارية.



الجابرو



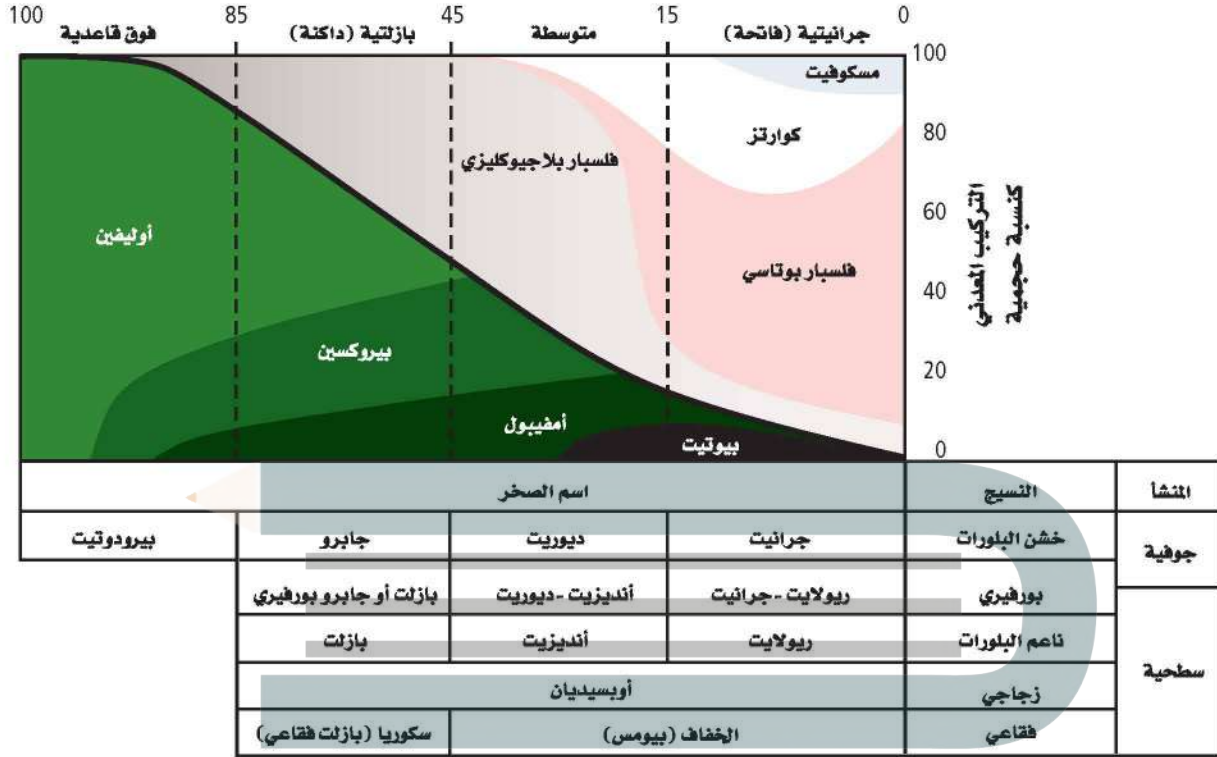
الجرانيت



الديوريت

تعرف الصخور النارية

نسبة المعادن الرئيسية



الشكل 9-2 أنواع الصخور النارية يمكن تعرفها من خلال نسب المعادن فيها.

المطويات

ضمّن مطويتك معلومات من هذا القسم.

الشكل 10-2 للريولايت والجرانيت والأوبسيديان أنسجة مختلفة لأنها تكونت بطرائق مختلفة.

وهناك مجموعة رابعة من الصخور تدعى فوق القاعدية **Ultrabasic**، منها صخر البيروكسين، وتحتوي هذه الصخور فقط على معادن غنية بالحديد مثل الأوليفين والبيروكسين، وهي دائماً داكنة اللون. ويلخص الشكل 9-2 آلية تعرف الصخور النارية.

النسيج Texture

كما تختلف الصخور النارية في مكوناتها المعدنية، وتختلف أيضاً في أحجام بلوراتها، ويشير النسيج **Texture** إلى حجم البلورات التي يتكون منها الصخر، وإلى شكلها وتوزيعها. فعلى سبيل المثال يمكن وصف نسيج الريولايت المين في الشكل 10-2 بأنه ناعم البلورات، أما الجرانيت فيوصف بأنه خشن البلورات، ويرجع الاختلاف في حجم البلورات إلى أن أحدهما صخر سطحي، والآخر صخر جوفي (متداخل).



حجم البلورة ومعدلات التبريد **Crystal size and cooling rates**

cooling rates عندما تتدفق اللابة على سطح الأرض تبرد بسرعة، ولا تنهي الفرصة لتشكيل بلورات كبيرة، فتنتج صخوراً نارية سطحية كالريولايت المين في الشكل 10-2. بلوراتها صغيرة لا يمكن رؤيتها بالعين المجردة، وأحياناً يحدث التبريد بسرعة كبيرة جداً، بحيث لا تنهي الفرصة لتكوّن البلورات، وينتج زجاج بركاني يسمى أوبسيديان كما في الشكل 10-2. وفي مقابل ذلك يمكن للصخور الجوفية - ومنها الجرانيت والديوريت والجابرو- التي تبرد ببطء أن تكون بلوراتها بحجم أكبر من 1 cm.

النسيج البورفييري Porphyritic texture انظر إلى أنسجة الصخور في الشكل 11-2. توضح الصورة العلوية صخوراً يحتوي على بلورات بحجمين مختلفين، ويظهر هذا الصخر نسيجاً بورفييراً **Porphyritic Texture** يتميز بوجود بلورات كبيرة واضحة المعالم، محاطة ببلورات صغيرة من المعدن نفسه أو من معادن مختلفة. ما الذي جعلها تتكون في صورة بلورات صغيرة وأخرى كبيرة وكتلتهما في صخر واحد؟ تدل الأنسجة البورفيرية أن جزءاً من الصهارة مرّ في البداية بتبريد بطيء في باطن الأرض، حيث نمت عليه البلورات الكبيرة الحجم، ثم قذفت فجأة إلى مواقع أعلى في القشرة الأرضية أو على سطح الأرض، وبدأت الصهارة المتبقية تبرد بسرعة مكونة بلورات صغيرة الحجم تحيط بالبلورات الكبيرة التي تبلورت من قبل.

النسيج الفقاعي Vesicular texture تحتوي الصهارة على غازات ذائبة، تأخذ في التصاعد عندما ينحسر الضغط عنها، فتصبح عندئذ لابة؛ فإذا كانت اللابة شديدة القوام، فإنها تمنع تصاعد الفقاعات الغازية بسهولة، فتترك الغازات ثقوباً في الصخر تسمى فقاعات، ويبدو الصخر إسفنجياً، ويسمى هذا المظهر الإسفنجي نسيجاً فقاعياً **Vesicular Texture**. ويعد كل من الخفاف والبازلت الفقاعي أمثلة على ذلك. انظر الشكل 11-2

✓ **ماذا قرأت؟** فسّر سبب تكون الثقوب في الصخور النارية.

تكون الثقوب عند اندفاع فقاع الغاز من اللابة أو عندما تتنحصر داخلها



أنديزيت (النسيج البورفييري)



بازلت فقاعي




الخفاف (بيومس)

الشكل 11-2 تعطي أنسجة الصخور معلومات عن كيفية تكون الصخر؛ حيث تحتفظ أنسجة هذه الصخور بأدلة عن معدلات التبريد، وكذلك تدلّ على وجود الغازات المذابة فيها أو عدم وجودها.

جرانيت تحت المجهر

صخر الجرانيت



الشكل 12-2 يمكن تعرّف المعادن المكونة للجرانيت باستعمال شرائح رقيقة تحت المجهر المستقطب.

الشرائح الرقيقة Thin Sections

لتعرّف الصخر يفحص الجيولوجيون بلورات المعادن في العينات الصخرية في صورة شرائح رقيقة تحت أنواع خاصة من المجاهر (المجهر المستقطب). والشريحة الرقيقة قطعة من الصخر سمكها 0.03 mm تقريباً، مثبتة على قطعة زجاجية بحيث تسمح بفاذ الضوء خلالها. ويوضح الشكل 12-2 مقطع من الجرانيت تحت المجهر المستقطب.

الصخور النارية موارد طبيعية

Igneous rocks as Resources

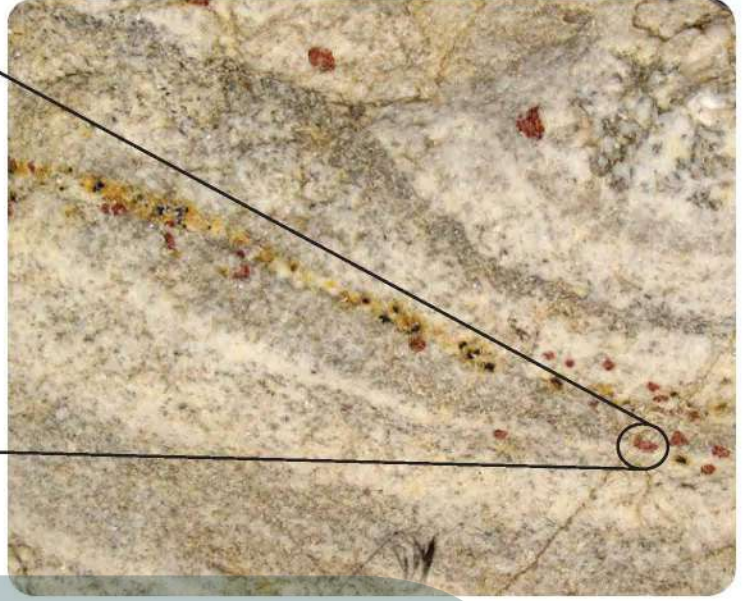
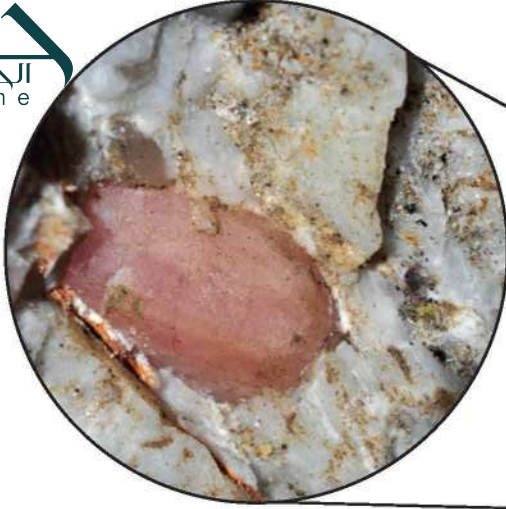
للصخور النارية أهمية اقتصادية كبيرة في حياتنا؛ فالعديد من المعادن التي تستخدم في المجوهرات تبلور فيها، ويمكن أن يستخلص منها العديد من العناصر المفيدة ومنها الليثيوم وغيره مما يدخل في مجالات عديدة في حياتنا، وتستخدم الصخور النارية أيضاً في المباني. وتوضح الفقرات الآتية بعض هذه الاستخدامات:



الشكل 13-2 يستخرج الذهب والكوارتز معاً من المناجم، ثم يفصلان لاحقاً. استدل ما الذي يمكنك تحديده من هذه الصورة عن درجة انصهار الذهب؟

الشكل 13-2 تعادل درجة انصهار الكوارتز تقريباً

العروق Viens تحتوي الموائع المتبقية من تبلور الصهارة على تراكيز عالية من السيليكا والماء، كما تحتوي على شوائب أو بقايا من عناصر لم تصنف ضمن الصخور النارية؛ فالذهب والفضة والرصاص والنحاس من الفلزات التي لم تتضمنها المعادن الشائعة. وتحرر هذه العناصر من السيليكا المذابة في نهاية عملية تبلور الصهارة، على هيئة موائع ساخنة غنية بالعناصر، تملأ الشقوق والفراغات في الصخور المجاورة. وتتصلب هذه الموائع مكونة عروقاً غنية بمعادن أو فلزات ذات قيمة اقتصادية، ومنها عروق الكوارتز الحاملة للذهب في مهد الذهب في المملكة العربية السعودية. ويبين الشكل 13-2 ذهباً متكوناً في عروق الكوارتز.



الشكل 14-2 عرق بيجمايت يخرق صخور الجرانيت، وفيه بلورات جميلة.

الشكل 14-2 عرق بيجمايت يخرق صخور الجرانيت، وفيه بلورات جميلة.

تحتوي العروق على كميات كبيرة من الكوارتز لأن عنصري السيليكون والأكسجين يتبقيان عندما تتبلور الصهارة بالكامل ثم يحشر هذا السائل المتبقي في شقوق الصخور

تتملأ الكهوف وشقوق الصخور فإن المعادن تنمو في الفراغات محتفظة بأشكالها؛ حيث وجدت معظم المعادن النفيسة في العالم في صخور البيجماتيت. ويوجد البيجماتيت في مناطق مختلفة جنوب المملكة العربية السعودية وغربها على هيئة قواطع في صخور جرانيتية.

تشير وشرة الكوارتز والفلسبار البوتاسي إلى أن

مختبر حل المشكلات

تفسير الأشكال العلمية

كيف يمكنك تقدير المحتوى المعدني؟

تصنف الصخور النارية اعتمادًا على محتواها المعدني. ستستخدم في هذا النشاط الشريحة الرقيقة الموضحة في الشكل 12-2؛ لتقدير نسب المعادن المختلفة في العينة.

التحليل

1. صمّم طريقة لتقدير نسب المعادن في العينة الصخرية في الشكل 12-2.
2. اعمل جدول بيانات يضم المعادن ونسبها المقدرة.

التفكير الناقد الصخر جرانيتي

3. حدد باستخدام الشكل 9-2، موقع العينة التي تمثلها الشريحة الرقيقة على المخطط المبين في الشكل.
4. قارن تقديرك لنسب المعادن في الصخور بتقدير زملائك في الصف. لماذا تختلف تقديراتكم؟ ما مصادر الخطأ المحتملة؟
5. اقترح طريقة لتطوير دقة تقديرك.

يترك للطالب

كلما زاد عدد نقاط البيانات
المأخوذة زادت دقة التقدير

- ج1: تشير التحاليل الكيميائية إل أن الأوبسيديان يتكون بشكل رئيس من عناصر شائعة في المعادن الماتحة والمتوسطة اللون؛ وتوجد هذه المعادن الجرانيت أما الأوبسيديان الأسود فينتج عن وجود كميات قليلة من الحديد منتشرة في الزجاج لقلة نمو معادن فيه أو انعدامها
- ج2: المجموعة الجرانيتية بالكوارتز والمعادن الأخرى الفاتحة اللون والمجموعة البازلتية غنية بالحديد والماغنسيوم الموجودين في المعادن القاتمة اللون، أما المجموعة المتوسطة فهي خليط من معادن غامقة وفاتحة اللون
- ج3: ينتج عن تبريد البطيء بلورات كبيرة مكتملة النمو وينتج عن معدلات التبريد السريعة بلورات صغيرة قد تكون مكتملة النمو أو لا تكون
- ج4: المكونات المعدنية: الأنديزيت والديوريت لهما المكونات المعدنية نفسها، الحجم البلوري: الأنديزيت بلوراته صغيرة أما الديوريت فبلوراته كبيرة
- ج5: البلاجيوكليز يتكون في بداية عملية التبلور وهناك متسع في الصحارة لنمو بلوراته، أما الكوارتز فيتبلور لاحقاً ويملاً الفراغات الموجودة بين المعادن التي سبق تبلورها

التقويم 2-2

الخلاصة

- يعتمد تصنيف الصخور النارية على ثلاث خصائص رئيسة هي: التركيب المعدني والنسيج وحجم البلورات.
- يحدد معدل التبريد حجم البلورة.
- يكثر وجود الخامات في البيجماتيت. ويوجد الألماس في الكيمبرليت.
- تستخدم بعض الصخور النارية كمواد بناء؛ بسبب متانتها وجمالها.

فهم الأفكار الرئيسية


- الفكرة الرئيسية استنتج لماذا التركيب الكيميائي للأوبسيديان الأسود أو الأحمر تركيباً جرانيتياً؟
- صف مجموعات الصخور النارية الثلاث الرئيسية.
- طبق ما تعرفه عن معدلات التبريد في توضيح الاختلاف في أحجام البلورات.
- ميّز بين الأنديزيت والديوريت من خلال خاصيتين فيزيائيتين من خصائص الصخور النارية.

التفكير الناقد

- حدّد أيهما أكثر قابلية لتكوين بلورات مكتملة الأوجه في الصخور النارية: الكوارتز أم فلسبار البلاجيوكليز؟ وضح إجابتك.

الرياضيات في الجيولوجيا

- قطعة جرانيت كثافتها 2.7 g/cm^3 ، صنع منها طاولة مطبخ مستطيلة، سمكها 2 cm، وبُعدها $2.5 \text{ m} \times 0.6 \text{ m}$ ؟ ما كتلتها بالجرام؟



صخور القمر Moon Rocks

قام رواد الفضاء بست رحلات فضائية بالسفينة أبولو إلى القمر بين عامي 1969 و 1972م؛ للحصول على معلومات عن نشأة القمر وتاريخه وتركيبه. وجمعوا نحو 2415 عينة مختلفة الأحجام من صخور القمر تزن حوالي 380 kg.

أنواع صخور القمر بدراسة العينات وتحليلها تبين أن صخور القمر تتنوع في ألوانها بين الرمادي والأسود والأبيض والأخضر، كما تختلف في نسيجها بين الزجاجي والقاسي والهش. وقد كشفت تحاليل الصخور أن هناك ثلاثة أنواع من الصخور على سطح القمر؛ وهي الصخور البازلتية التي نتجت عن الرماد البركاني واللابة التي وصلت إلى سطح القمر من خلال الشقوق التي تكونت بسبب ارتطام النيازك بسطح القمر. وصخور البريشيا التي تكونت عندما حطمت النيازك الصخور، وصهرت القطع معاً بفعل الحرارة الناجمة عن الارتطام. أما النوع الثالث هو صخر البريستين فلم ينتج عن ارتطام النيازك، بل هو صخر شائع رمادي اللون، يتكون من الفلسبار البلاجيوكليزي الغني بالكالسيوم.

مكونات صخور القمر تتميز صخور القمر عن غيرها بأمرين؛ أولهما: أنها غير مؤكسدة، ولا تحتوي على الماء، مع الأخذ في الاعتبار كمية الحديد التي يحتويها الصخر، حيث تختلف صخور الأرض عن صخور القمر في كون الأولى صدئة ومجوة، وثانيهما أن بعض سطوح صخور القمر مغطى ببثور (كبثور الجذري) تسمى حفر زاب (Zappits) تنتج عن ارتطام النيازك الدقيقة بصخور سطح القمر، وهذه غير موجودة على سطوح صخور الأرض؛ إذ تحترق في الغلاف الجوي قبل وصولها إلى سطح الأرض.

تصنيف صخور القمر يستعمل العلماء في تصنيف صخور القمر الخصائص نفسها المستعملة في تصنيف صخور الأرض، وقد سَمَّى العلماء فئة جديدة من صخور القمر "كريب" (KREEP)، اعتماداً على المكونات المعدنية؛ لكونها تحتوي على كميات كبيرة من البوتاسيوم (K) والعناصر الأرضية النادرة (REE) والفوسفور (P)، وهي أكثر إشعاعاً من صخور الأرض؛ لأنها تحتوي على ثوريوم أكثر.

الشكل 16-2 قطعة من البازلت الذي تُجمَع من سطح القمر خلال رحلة أبولو.

أبحاث صخور القمر ما زالت الأبحاث مستمرة على صخور القمر؛ حيث تمت حماية تلك العينات من التأكسد، بوضعها في أوعية من الفولاذ المضاد للصدأ في جو جاف من النيتروجين؛ لإبقائها بعيدة عن الرطوبة والصدأ. وما زال العلماء يواصلون بحوثهم حول هذه الصخور وهم يدرسون نشأة القمر وتاريخه.

الكتابة في الجيولوجيا

مقالة علمية ابحث باستخدام مصادر المعرفة المختلفة حول كيفية جمع العينات الصخرية من القمر، وطريقة تحليلها، وأهميتها العلمية. واكتب مقالة تلخص فيها المعلومات الرئيسة حول ذلك، ثم تبادل المقالات مع زملائك.

يجب أن يكتسب الطلاب معرفة علمية جديدة عن القمر وتركيبه من خلال ممارسة الألعاب



مختبر الجيولوجيا

صمم بنفسك نموذج تكون البلورات

خلفية علمية: يعتمد حجم بلوات الصخور النارية على معدل تبريد الصهارة، ومن الصعب مشاهدة تبلور الصهارة؛ لأنها ساخنة جداً، وكذلك بسبب بطء عملية التبلور. لكن هناك بعض المواد التي تتبلور عند درجات حرارة منخفضة، لذلك يمكن استعمالها لنمذجة عملية تبلور المعادن من الصهارة.

سؤال: كيف تتبلور المعادن من الصهارة؟

الأدوات

أطباق بتري نظيفة
محلول الشب المشبع
كأس زجاجية سعة 200 mL
عدسة مكبرة
ورق مقوى أسود

مقياس حرارة

مناشف ورقية

ماء

مصدر حراري

5. املاً كل طبق من أطباق بتري إلى نصفه بالمحلول فوق المشبع مع اتباع إجراءات السلامة في أثناء صب المحلول.

6. راقب أطباق بتري كل 5 دقائق ولمدة 30 دقيقة، وسجل ملاحظاتك، وارسم البلورات التي بدأت تتكون.

التحليل والاستنتاج

1. قارن بين طريقة التبريد وبين الطرائق التي استعملتها المجموعات الأخرى. هل تظن أن هناك طريقة أفضل من الأخرى؟ وضح إجابتك.
2. اختبر بلوراتك. كيف تبدو؟ هل حجوماً متساوية؟ وهل هي متشابهة في الشكل؟
3. ارسم شكل البلورات الأكثر شيوعاً، وقارن بين رسوماتك ورسومات المجموعات الأخرى. صف أي نمط لاحظته في رسومات المجموعات الأخرى.
4. استنتج العوامل المؤثرة في حجم البلورات (الأطباق المختلفة). كيف عرفت ذلك؟
5. فسّر لماذا يختلف شكل البلورات عند نموها؟
6. قارن بين هذه التجربة وتبلور الصهارة في الطبيعة.
7. قوّم العلاقة بين معدل التبريد وتكون البلورات.

شارك بياناتك

راجع مع أقرانك. ضع ملخصاً لبياناتك، ثم قارنها مع الطلبة في الصف.

إجراءات السلامة

احذر: عند صب محلول الشب في أطباق بتري لأول مرة لأنه ساخن، وقد يسبب تهيجاً للجلد. وإذا لامس المحلول الجلد فاغسله بهاء بارد.

خطوات العمل

1. اقرأ احتياطات السلامة الخاصة بهذا النشاط.
2. خطّط مع زملائك في المجموعة كيف تغيرون معدل تبريد محلول الشب الساخن في أطباق بتري، كل عضو في المجموعة سيختار طبق بتري في مكان محدد مسبقاً لمراقبته في أثناء الاستقصاء. تأكد من موافقة معلمك على الخطة المقترحة للعمل.
3. ضع ورقة مقواة سوداء على سطح مستو، وتأكد أنك وضعتها في المكان المحدد مسبقاً، وضع أطباق بتري فوق الورقة.
4. استعمل كأساً زجاجية للحصول على حوالي 150 mL من محلول الشب فوق المشبع من معلمك. درجة حرارة المحلول دون درجة الغليان؛ أي حوالي 95°C – 98°C.

الفكرة العامة الصخور النارية أول الصخور التي تشكلت عندما بردت الأرض وتبلورت في القشرة الأرضية الأولية.

المفاهيم الرئيسية

المفردات

1-2 ما الصخور النارية؟


- الفكرة الرئيسية** الصخور النارية هي الصخور التي تتكون عندما تبرد المواد المنصهرة الموجودة في باطن الأرض، وتتلور.
- تتكون الصهارة من صخور منصهرة وغازات مذابة وبلورات معادن.
 - تصنف الصهارة إلى بازلتية وأندزيتية وريولايتية؛ اعتمادًا على نسبة السيليكا في كل نوع.
 - المعادن المختلفة تنصهر وتتلور عند درجات حرارة مختلفة.
 - تين سلسلة تفاعلات باون تسلسل تبلور المعادن من الصهارة.



اللابة
الصخور النارية
الانصهار الجزئي
سلاسل تفاعلات باون
التبلور الجزئي

2-2 تصنيف الصخور النارية

- الفكرة الرئيسية** يعتمد تصنيف الصخور النارية على مكوناتها المعدنية وحجم بلوراتها ونسيجها.
- تصنف الصخور النارية اعتمادًا على خصائصها.
 - يعتمد حجم البلورات على معدل التبريد.
 - غالبًا توجد الخامات في البيجماتيت، والألماس في الكيمبرليت.
 - تستخدم بعض أنواع الصخور النارية في البناء؛ لصلابتها، وتحملها الضغط، ولجمالها.



الصخور الجوفية (المتداخلة)
الصخور السطحية
الصخر البازلتية
الصخر الجرانيتي
الصخور المتوسطة
الصخور فوق القاعدية
النسيج
النسيج البورفيرى
النسيج الفقاعي
البيجماتيت
الكمبرليت

مراجعة المفردات

ضع المصطلح الصحيح مكان الكلمات التي تحتها خط فيما يأتي:

1. تتساعد الغازات من الصهارة مع تدفقها على سطح الأرض. **اللابة**

2. يصف مقياس موهس للقساوة الترتيب الذي تتبلور على أساسه المعادن. **سلاسل تفاعلات باون**

3. تتميز الصخور الجرانيتية بلونها الغامق ومحتواها القليل من السيليكات. **الصخور البازلتية**

4. **الصهارة** تتكون اللابة في الأعماق تحت القشرة الأرضية. املاً الفراغ في الجمل الآتية بالمفردات الصحيحة:

5. يسمى النسيج الناري الذي يمتاز باحتوائه على بلورات كبيرة في أرضية من البلورات الصغيرة **بورفيرى بيمباقي**

6. يقال عن الصخور النارية التي تتكون في ظروف تبريد سريعة إنها... **صخور سطحية**

7. يقال عن الصخور الفاتحة اللون ذات البلورات كبيرة الحجم إنها... **صخور غرانيتية**

تثبيت المفاهيم الرئيسية

8. ما أول المعادن التي تتكون عندما تبرد الصهارة؟

- a. الكوارتز
b. المايكا
c. الفلسبار البوتاسي
d. الأوليفين

استعمل الصورتين أدناه في الإجابة عن السؤال 9.



9. ما العملية التي حدثت؟

a. الانفصال الجزئي

c. التبلور الجزئي

b. الفصل البلوري

d. الانصهار الجزئي

10. أي المعادن مرتبط بالفرع الأيمن من سلاسل تفاعلات باون؟

a. أوليفين وبيروكسين

c. فلسبار

b. مايكا وفلسبار

d. كوارتز وبيوتيت

11. أي أنواع الصهارة تحتوي كمية أكبر من السيليكات؟

a. البازلتية

c. الريولايتية

b. الأندزيتية

d. البيرويتية

12. أي العوامل الآتية لا يؤثر في تكون الصهارة؟

a. الحجم

c. الضغط

b. درجة الحرارة

d. المكونات المعدنية

13. أي الصخور السطحية الآتية لها مكونات الديوريت نفسها؟

a. الريولايت

c. الأوبسيدان

b. البازلت

d. الأندزيت

استعمل الشكل أدناه للإجابة عن السؤال 14.



14. أي العمليات كوَّنت هذا الصخر؟

a. تبريد بطيء

c. تبريد سريع جداً

b. تبريد سريع

d. تبريد بطيء ثم سريع

21. ارسم مخططاً انسيابياً لتوثيق عملية تكون الثقوب في
عينّة البازلت الفقاعي. **يترك للطالب**
22. فكر في الأسباب التي تجعل عينّة الخفاف (اليومس)
تطفو فوق سطح الماء. **يترك للطالب**
23. وضح بالرسم كيف يغير التبلور الجزئي مكونات
الصهارة من خلال تكون الأوليفين الغني بالحديد
يترك للطالب
24. طبق مفاهيم درجة الحرارة والتبلور لتفسير لماذا - في
الغالب - توصف الصهارة بأنها مزيج من بلورات
وصهر صخري.

15. أي أنواع الصخور فوق القاعدية تحتوي أحياناً على
الأماس؟
a. البيجماتيت
b. الكمبرليت
c. الجرانيت
d. الريولايت
16. لمعدلات التبريد السريعة أثر في حجم البلورات في
الصخور النارية، حيث تكوّن:
a. بلورات صغيرة
b. بلورات كبيرة
c. بلورات فاتحة
d. بلورات داكنة
17. ما المصطلح الذي يصف الصخور النارية التي تتبلور
داخل الأرض؟
a. الصهارة
b. الجوفية
c. اللابة
d. السطحية
18. أي المعدين أكثر شيوعاً في الجرانيت؟
a. الكوارتز والفلسبار
b. الأوليفين والبيروكسين
c. الفلسبار البلاجيوكليزي وأمفيبول
d. الكوارتز والأوليفين

**تنصهر المعادن وتتبلور عند درجات حرارة
مختلفة؛ لذا يمكن أن تبقى بعض المعادن
في الحالة الصلبة؛ في حين تنصهر معادن
أخر**

0	0	35	5	كوارتز
0	0	15	0	فلسبار بوتاسي

**ج25: الصخر 2 على الأرجح جرانيت لأنه
عندما نسقط
نسب المعادن الآتية: الكوارتز والفلسبار
والبيوتيت والأمفيبول، على مخطط تعرف
الصخور النارية فإنها تقع في حقل الجرانيت**

25. حلل البيانات في الجدول وفسّر أيّ الصخور أكثر
شبهًا بالجرانيت؟
26. ادمج. استعمل بيانات الصخر 4 وحقيقة أن بلوراته
صغيرة، في تحديد اسمه.

**تشير نسب المعادن في الصخر 4 إلى أن حوالي نصف
معادن الصخر ذات لون فاتح؛ مما يعني أنه من
الصخور المتوسطة؛ وتوحي طبيعة حبيباته الناعمة
بأن الصخر يمكن أن يكون أنديزيت**

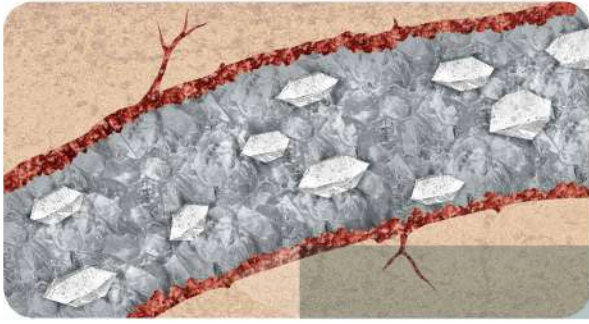
19. اعمل قائمة ببعض استخدامات الصخور النارية في
صناعة البناء. **يترك للطالب**
20. فسّر كيف، ولماذا يختلف الفلسبار البلاجيوكليزي في
الصخور البازلتية عنه في الصخور الجرانيتية؟

**يتكون الفلسبار البلاجيوكليزي في الصخور
البازلتية عند درجات حرارة مرتفعة؛
ويحتوي على كميات أكثر من الكالسيوم
مقارنة بمحتواه من الصوديوم أما
البلاجيوكليز في الجرانيت فيحتوي على
صوديوم أكثر من الكالسيوم**

ج27: الأوبسيديان زجاج بركاني ليس له بناء بلوري داخلي؛ لذا ينشطر بسهولة بالمطرقة أما الجرانيت فيتكون من معادن لها بناء بلوري داخلي منتظم بالرغم من قابلية هذه المعادن للكسر إلا أنها تكون بسهولة قطعاً صغيرة مماثلة للمعدن ولا تتحطم

ج28: يمكن حدوث ذلك من خلال عملية الانصهار الجزئي؛ لأن محتوى المعادن التي تنصهر من أولاً يكون مرتفعاً فينتج عن ذلك صهارة تحوي نسبة من السيليكا أعلى مما في الصخر الأم

استعمل الصورة الآتية في الإجابة عن السؤال 35.



35. حدد. يوضح الشكل مقطعاً عرضياً لعرق في صخر ناري. ما مراحل تكوّن هذا العرق الصخري؟

ج30: يعتقد أن أنابيب الكيمبرليت تمتد إلى الستار لذا فإن مكوناتها يمكن أن تمثل مكونات الستار
ج31: لا يحتوي الصخر على المعادن لا يعد الزجاج معدناً لعدم وجود بناء بلوري له
ج32: وتعد المعادن التي تتكون عند درجات حرارة عالية وضغط عال أقل ثباتاً على سطح الأرض؛ لاختلاف ظروف تشكلها مع الظروف على سطح الأرض بصورة جوهريّة

ج33: يمكن أن يلاحظ الطلاب أن المعادن الموجودة في العتبة فاتحة اللون مثل الكوارتز والفلسبار البوتاسي والمسكوفيت كذلك يمكن أن يقترحوا أن نطاق التبريد يتكون من المكونات الأصلية؛ بحيث تتكون طبقة البلورات التي تكونت في البداية من الفلسبار الصودي؛ بينما الجزء الأوسط من العتبة يتكون من كوارتز ومايكا وفلسبار متبق

ج35: يتألف هذا الصخر البورفيرى من ثلاثة أقسام منها: الحواف وتسمى نطاق التبريد السريع؛ بلوراتها صغيرة وألوانها مختلفة مقارنة بالصخر الذي خلفيته ناعمة الحبيبات. وقد تكونت هذه البلورات عندما أصبحت الصهارة في تماس مع الصخر البارد المحيط بها؛ فبردت بسرعة وكونت هذه البلورات الصغيرة بمكونات محددة ومع تبريد ما تبقى من الصهارة تتكون بداية بلورات كبيرة مكتملة النمو من الفلسبار؛ وفي النهاية يبرد ما تبقى من الصهارة بسرعة كبيرة مكوناً أرضية بازلتية ناعمة الحبيبات

ج29: وذلك لأن قساوة المعادن الرئيسية في الجرانيت وهي الكوارتز والفلسبار أعلى من قساوة الفولاذ غير القابل للصدأ

29. طبق ما تعرفه عن قساوة المعادن لتفسير عدم خدش سكاكين الفولاذ غير القابل للصدأ شفرة قطع الجرانيت.

30. استدلُّ تُعد صخور الكيمبرليت مصدر معظم الألماس. لماذا يدرس العلماء صخور الكيمبرليت ليعرفوا المزيد عن ستار الأرض؟

31. قوّم تتكون الصخور عموماً من المعادن، وعندما يبرد الصخر المنصهر بسرعة كبيرة يتحول إلى زجاج، والزجاج البركاني عبارة عن صخر ناري سطحي. قوّم إذا كان هذا الصخر يحتوي على المعادن أم لا. فسّر إجابتك (ملاحظة: تذكر تعريف المعدن في الفصل الأول).

32. استدل. لماذا تكون الصخور المكونة من المعادن التي تتبلور أولاً حسب سلاسل تفاعلات باون غير مستقرة وتتحلل بسرعة على سطح الأرض؟

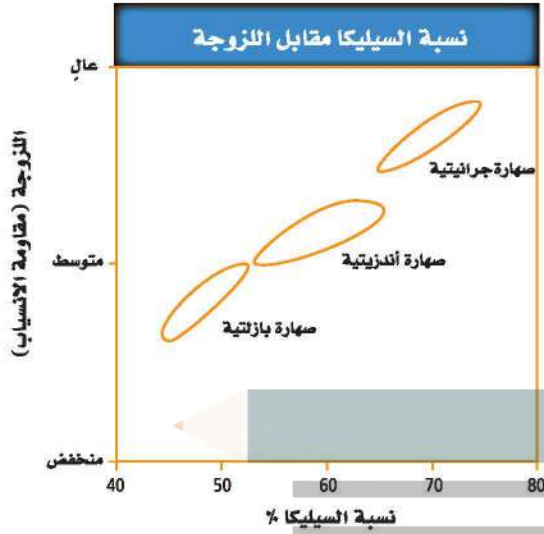
33. كوّن فرضية كيف تبدو عتبة باليسيد إذا كان تركيب الصهارة جرانيتياً؟

خريطة مفاهيمية

34. استعمل المصطلحات الآتية في عمل خريطة مفاهيم تبين العلاقات بين المواقع في القشرة الأرضية والستار وحجم البلورات ونوع الصخر: سريع، بطيء، الأبطأ، جوفي، سطحي، صهارة، لابة، جرانيت، ريولايت، بازلت، جابرو، أوبسيديان، خفاف.

ج34: يجب ربط المصطلحات على النحو الآتي: الأبطاء جوفي؛ صهارة؛ جرانيت؛ جابرو، بطيء؛ جوفي أم سطحي، لابة؛ ريوليت؛ بازلت. سريع؛ أوبسيديان، بيوميس

استعمل الرسم البياني الآتي في الإجابة عن السؤالين 6 و 7.



6. ما العلاقة التي يمكن استخلاصها من الرسم البياني؟

- a. الصهارة التي تحتوي على سيليكات أكثر تكون أعلى لزوجة.
- b. الصهارة التي تحتوي على سيليكات أقل تكون أعلى لزوجة.
- c. لزوجة الصهارة منخفضة دائماً.

d. لا توجد علاقة بين محتوى السيليكا واللزوجة.

7. ما العبارة الصحيحة حول الصهارة الجرانيتية؟

- a. أثقل من النوعين الآخرين من الصهارة.
- b. أخف من النوعين الآخرين من الصهارة.
- c. تنساب بسرعة أكبر من النوعين الآخرين من الصهارة.

d. تنساب أبطأ من النوعين الآخرين من الصهارة.

اختيار من متعدد

استعمل الجدول أدناه للإجابة عن السؤالين 1 و 2

خصائص الصخور			
المكونات	محتوى السيليكا	اللون	
كوارتز وفلسبار	مرتفع	فاتح	الصخر A
أوليفين وبلاجيوكليز	منخفض	غامق	الصخر B

1. ما نوع الصخر الأكثر شبيهاً بالصخر A؟

- a. الجرانيت
- b. البازلت
- c. البيردوتيت
- d. الديوريت

2. ما نوع الصخر B؟

- a. الجرانيت
- b. الديوريت
- c. الجابرو
- d. البيجماتيت

3. أي المواد الآتية أكثر وفرة في الصهارة، ولها تأثير كبير في خصائصها؟

- a. O
- b. Ca
- c. Al
- d. SiO_2

4. ما العملية التي تصف انتقال بلورات المعادن وانفصالها عن الصهارة؟

- a. الانصهار الجزئي
- b. التبلور الجزئي
- c. الممال الحراري
- d. الانفصال الجزئي

5. أي الخصائص الآتية لا تُستعمل في تعريف المعادن؟

- a. القساوة
- b. اللون
- c. الكثافة
- d. الحجم

تصويره مؤخرًا تحت سطح الماء غرب المحيط الهادي.
المنظر التي يعرضها هذا الفيلم حقيقية، التقطت لبركان
نشط من البراكين التي شكلت أقواس الجزر البركانية.

تحدث هذه البراكين بمحاذاة الأخاديد البحرية؛ حيث تنزلق
صفيحة أرضية تحت صفيحة أخرى، وفي مقابل البراكين
التي تحدث عند ظهر المحيط، حيث تتباعد الصفائح عن
بعضها، فإن المقذوفات البركانية عند الأخاديد تتراكم
بعضها فوق بعض، حيث ترتفع الجبال البركانية تدريجيًا
حتى تصل فوق سطح الماء، وتشكل الجزر البركانية. لقد
مكّنت التقنيات الحديثة العلماء من دراسة النشاط البركاني
عند أقواس الجزر البركانية عن قرب، مما مكّنتهم من الحصول
على معلومات واقعية عن عمليات تكوّن بعض هذه الجزر،
ومنها جزيرة ماريانا. حيث تم رصد النشاط البركاني لجزيرة
ماريانا للمرة الأولى عام 2004، ورغم أن النشاط البركاني
في الجزيرة يحدث بمعدل ثابت وضعيف إلا أن ذلك لا يعني
أنه كان نشطًا خلال العصور الماضية. وهذا يساعد العلماء
على تصور الآلية التي تتكون بها هذه الجزيرة.

بعد قراءتك للنص أجب عن الأسئلة الآتية:

13. ما أهمية الدراسات الحديثة لجزيرة ماريانا؟

a. تعطي العلماء فرصة لإلقاء نظرة واقعية على
العمليات التي تشكل الجزر البركانية.

b. تكشف أن البراكين يمكن أن تستمر في الثوران
عقودًا طويلة.

c. تكشف عن أسرار الحياة قرب فوهات البراكين.

d. تمثل أول ملاحظة مباشرة على البراكين النشطة
عند أقواس الجزر البركانية.

14. ماذا تستنتج من النص؟

a. تستمر البراكين في الثوران بمستوى ثابت من الشدة.

b. تحدث البراكين عند ظهر المحيط فقط.

c. الروبيان يأكل الأسماك الميتة فقط.

d. هناك نشاط بركاني في مواقع مختلفة تحت سطح الماء.

ج8: صخر ناري جوفي ومن الأمثلة عليه
الجرانيت ويتكون عند تدفق الصهارة في
الشقوق والفراغات الموجودة في القشرة
الأرضية؛ ثم تبرد ببطء وتتحول إلى صخر
ج9: صخر ناري سطحي ومن الأمثلة عليه
الريوليت؛ تتدفق اللابة عبر القشرة الأرضية
وتبرد بسرعة

ج10: تتكون الصخور النارية الجوفية عندما
تبرد الصهارة وتتبلور ببطء أسفل سطح
الأرض بينما تتكون الصخور النارية السطحية
عندما تبرد اللابة وتتبلور بسرعة على سطح
الأرض

ج11: يعني ذلك أن المعادن تتكون من خلال
عمليات طبيعية؛ وأن المعدن لم يكن في أي
مرحلة من مراحل تكونه مكونا من مادة حية
ج12: تصنف المعادن على أنها أحجار كريمة
عندما تكون أكثر ندرة؛ وأكثر جمالا من باقي
المعادن

8. ما نوع الصخر المبيّن أسفل الصورة؟ أعط مثالاً على صخر

شائع من هذا النوع، ووضح كيف يتكون هذا النوع.

9. ما نوع الصخر المبيّن أعلى الصورة؟ أعط مثالاً

لصخر شائع من هذا النوع، ووضح كيف يتكون
هذا النوع.

10. ما الفرق بين طريقة تكون نوعي الصخور النارية؟


11. ما المقصود بأن المعدن يتكون طبيعياً، ومن أصل غير
عضوي؟

12. لماذا تصنف بعض المعادن على أنها معادن نفيسة؟

القراءة والاستيعاب

براكين قاع المحيط

تتصاعد أعمدة الرماد البركاني وقطرات الكبريت المنصهر،
ويتجمع الروبيان على وليمة من الأسماك التي قتلتها اللابة
المتدفقة من فوهة البركان. هذا وصف لمشهد من فيلم تمّ



الحجر الرملي



الفكرة العامة تنشأ معظم الصخور من صخور سابقة لها عبر عمليات جيولوجية خارجية أو داخلية.

1-3 تشكل الصخور الرسوبية

الفكرة الرئيسة تنشأ الصخور الرسوبية عن تصخر الرسوبيات الناتجة عن عمليتي التجوية والتعرية.

2-3 أنواع الصخور الرسوبية

الفكرة الرئيسة تصنف الصخور الرسوبية بناء على طرائق تشكيلها.

3-3 الصخور المتحولة

الفكرة الرئيسة تنشأ الصخور المتحولة عندما تتعرض صخور سابقة لها لزيادة الضغط والحرارة والمحاليل الحرارية المائية.

حقائق جيولوجية

- مدائن صالح
- تقع مدائن صالح أو ما يُعرف بالحجر على بعد 22 km شمال شرق مدينة العُلا التابعة لمنطقة المدينة المنورة.
- تتكون صخور مدائن صالح من الحجر الرملي.
- أعلنت منظمة الأمم المتحدة للعلوم والتربية والثقافة عام 2008 أن مدائن صالح موقع تراث عالمي.

الربط مع رؤية ٢٠٣٠



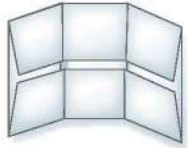
دورة الصخر اعمل المطوية الآتية
لتوضح مسارات محتملة في تكون
الصخور.

المطويات

منظمات الأفكار



الخطوة 1: علم رأسياً وسط ورقة
مستطيلة، واطو أعلاها وأسفلها
نحو الوسط لتشكيل جناحين.



الخطوة 2: اطوها إلى ثلاثة أقسام.



الخطوة 3: افتح الورقة، وقص
الجناحين على طول خطوط الشطي،
كما هو موضح.



الخطوة 4: عنون أقسام المطوية
كما هو موضح.

استخدم هذه المطوية في أثناء دراسة هذا الفصل. سجّل تحت
كل عنوان العمليات التي يمكن للصخور أن تمر بها
عندما تتغير من نوع إلى آخر، كما في العنوان المجاور في
المطوية.

ج1: على الأقل 2

ج2: أنواع الحيوانات؛ طول خطوات
الحيوانات؛ وأوزانها وعدد أصابع القدم؛
واتجاه الحركة؛ إلخ

ج3: يتنوع تفسير المخططات؛ ومن الأسباب
المحتملة لتنوع تفسيرات الطلاب أن
حيوانات مختلفة قد تترك آثارا متشابهة؛ أو
قد يفسر الطلاب الأثر بطريقة مختلفة.

تجربة استهلاكية

ما الذي حدث هنا؟

الأحافير بقايا أو آثار لنباتات أو لحيوانات كانت تعيش في
الزمن الماضي. في هذا النشاط، ستقوم بتفسير نشاط
حيوان من آثار أقدامه الأحفورية.



الخطوات

1. اقرأ نموذج السلامة في المختبر.
2. ادرس صورة لمجموعة آثار أقدام حُفظت في صخور
رسوبية.
3. اكتب وصفاً تبين فيه احتمال كيفية تكوّن هذه
الآثار.
4. ارسم مخططاً لمجموعة آثار أقدام أحفورية سجلت
تأثير المخلوقات الحية في البيئة.
5. أعط مخططك إلى طالب آخر، واطلب إليه تفسير
ما حدث.

التحليل

1. حدد عدد الحيوانات التي خلّفت هذه الآثار.
2. استدل على المعلومات التي يمكن الحصول عليها
من دراسة آثار الأقدام الأحفورية.
3. فسّر هل تتفق إجابتك مع إجابات زملائك
بالصف؟ ما الذي أدى إلى وجود اختلافات في
التفسير؟

تشكل الصخور الرسوبية

Formation of Sedimentary Rocks


الفكرة الرئيسية تنشأ الصخور الرسوبية عن تصخر الرسوبيات الناتجة عن عمليتي التجوية والتعرية.

الربط مع الحياة. قد ترى كمية من الرمل والترربة أو قطعاً مكسرة من الصخر على الأرض. ما الذي حدث لهذه المواد؟ وماذا سيحدث لها مستقبلاً؟

التجوية والتعرية Weathering and Erosion

تؤدي عمليات التجوية والتعرية إلى تكوّن رسوبيات تتراكم فتشكّل الصخور الرسوبية. والرسوبيات **Sediment** قطع صغيرة من الصخر انتقلت وترسبت بفعل المياه والرياح والجليديات والحادية. وتتسبب مجموعة من العمليات الفيزيائية والكيميائية، إضافة إلى التجوية والتعرية، في تفتيت الصخور المتكشّفة فوق سطح الأرض إلى قطع أصغر فأصغر، تتحرك مع التيارات المائية، ومع مرور الوقت تتراكم وترسب وتلتحم معاً وتتصلّب فتكوّن صخوراً رسوبية.

التجوية Weathering تُنتج التجوية فتاتاً من الصخور والمعادن يعرف بالرسوبيات. ويتراوح حجم هذه الرسوبيات بين كتل ضخمة وحببيات مجهرية. وتقسّم التجوية إلى قسمين: تجوية كيميائية تحدث عندما تذوب أو تتغير معادن الصخر الأقل استقراراً كيميائياً. وتجووية فيزيائية تنفصل فيها الحبيبات أو البلورات الأكثر مقاومة عن الصخر على شكل حبيبات أصغر حجماً، دون أن تتغير كيميائياً. ويوضح الشكل 1-3 صخوراً تجوي كيميائياً وفيزيائياً. ترى، ما الذي يحدث للمعادن الأكثر مقاومة للتجوية؟



الشكل 1-3 عندما يتعرض الجرانيت لنوعي التجوية الكيميائية والفيزيائية يفتت في النهاية، ويمكن أن يتحلل، كما تشاهده في الشكل المجاور.

فسّر أي المعادن أكثر مقاومة للتجوية: الكوارتز، أو الفلسبار، أو المايكا؟

سيكون الكوارتز هو المعدن الأكثر مقاومة؛ لأنه ينصهر عند درجة حرارة منخفضة ويتشكل تحت ظروف أقرب ما تكون إلى ظروف سطح الأرض

الأهداف

- تتبع تشكّل الصخور الرسوبية.
- توضح عملية التصخر.
- تصف مظاهر الصخور الرسوبية.

مراجعة المفردات

النسيج: المظهر الفيزيائي للصخر أو ملمسه.

المفردات الجديدة

- الرسوبيات
- التصخر
- الترّاص
- السمتة
- مادة لاحمة
- التطبّق
- التطبّق المتدرّج
- التطبّق المتقاطع

التعرية Erosion تسمى عملية إزالة الرسوبيات ونقلها التعرية. ويوضح الشكل 2-3 عوامل التعرية الأربعة: الرياح والمياه الجارية والجازبية والجليديات. وتعد الرياح أكثر عوامل التعرية تأثيراً في المملكة العربية السعودية؛ وذلك بسبب انتشار المناطق الصحراوية وقلّة الغطاء النباتي فيها. وعندما تعصف الرياح على تلك المناطق تزيل الرمال والفتات الصخري وتحملها معها إلى أماكن أخرى ثم ترسبها على شكل كثبان رملية. وتؤثر المياه الجارية أيضاً على أراضي المملكة العربية السعودية، وعلى الرغم من قلة كميات الأمطار الساقطة عليها إلا أن مياه الأمطار تتجمع على شكل سيول وجداول بعد العواصف المطرية. ومن العلامات التي تدل بوضوح على حدوث التعرية تعكر مياه السيول بسبب اختلاط حبيبات الطين الناتجة عن التعرية مع المياه الجارية. وبعد تجوية الصخور تنتقل غالباً إلى أماكن جديدة من خلال عملية التعرية، حيث تُحمل المواد وتنتقل دائماً نحو المناطق المنخفضة أسفل المنحدر بتأثير الجاذبية الأرضية. وتعمل الجليديات أيضاً وهي كتل ضخمة من الجليد تتحرك عبر اليابسة على تعرية سطح الأرض. ولعلك لاحظت صورة مدائن صالح في بداية الفصل كيف أثرت التعرية على ارتفاع مستوى الأبواب عن سطح الأرض.

الشكل 2-3 تتعرض الصخور المجوأة والرسوبيات للتعرية والنقل بتأثير عوامل التعرية الرئيسة: الرياح والمياه الجارية والجازبية الأرضية والجليديات.

✓ **ماذا قرأت؟** لخص ما يجري في أثناء عملية التعرية.

تفتت الصخور إلى قطع ثم تنقل هذه القطع من مكان إلى آخر




المياه الجارية



الرياح



الجليديات



الجازبية

الترسيب Deposition يحدث الترسيب عندما تستقر الحبيبات الرسوبية المنقولة على سطح الأرض، أو تهبط في قاع حوض مائي. ما الذي حدث في التجربة عندما توقفت عن قلب القنينة المليئة بالماء والرسوبيات؟ هبطت الرسوبيات إلى القاع وترسبت في طبقات، بحيث استقرت الحبيبات الكبرى في الأسفل والحبيبات الصغرى فوقها. وبالمثل، تترسب الرسوبيات في الطبيعة عندما يتوقف عامل النقل أو تقل سرعته. فعندما يتوقف هبوب الرياح، أو عند دخول نهر مياها هادئة في بحيرة أو محيط تترسب الرسوبيات المحمولة مكونة طبقات من الرسوبيات، وتكون الحبيبات الكبيرة في الأسفل.

طاقة عوامل النقل Energy of transporting agents

تستطيع المياه السريعة أن تنقل حبيبات كبيرة الحجم أفضل من المياه البطيئة الحركة؛ فعندما تقل سرعة المياه تترسب أولاً الحبيبات الكبرى، ثم الصغرى وهكذا، بحيث تُفرز الحبيبات المتساوية الحجم في طبقات. أما الرياح فلا تحرك إلا الحبيبات الصغيرة. ولهذا تتكون الكثبان الرملية في العادة من رمل ناعم جيد الفرز، كما في الشكل 3-3. ولكن ليست جميع الرسوبيات مفروزة؛ فالجليديات مثلاً تحمل جميع المواد على اختلاف حجمها بالقدر نفسه؛ فتحمل الصخور الكبيرة والرمل والطين، وعندما تنصهر الجليديات فإنها تلقيها دفعة واحدة على هيئة كتلة مفرزة.

ج1: يجب أن تظهر الرسوم المواد الخشنة في القاع تعلوها طبقات متتابعة متدرجة في الحجم أي أن الطبقات العلوية تتكون من المواد الناعمة
ج2: رواسب خشنة
ج3: الطين، ينبغي أن توضح إجابات الطلاب أن الحبيبات الصغيرة الخفيفة تهبط ببطء بسبب لزوجة الماء واحتكاكها به

الشكل 3-3 تشكّلت هذه الكثبان من الرمل الذي عصفت به الرياح، فنقلته وأعدت ترسيبه. لاحظ أن حبيبات الرمل متساوية في الحجم تقريباً.

تجربة

نموذج لتطبيق الرسوبيات


كيف تتشكّل الطبقات في الصخور الرسوبية؟ توجد الصخور الرسوبية عادة على شكل طبقات. ستلاحظ في هذا النشاط كيف تتشكّل الطبقات من ترسب حبيبات في الماء.

خطوات العمل

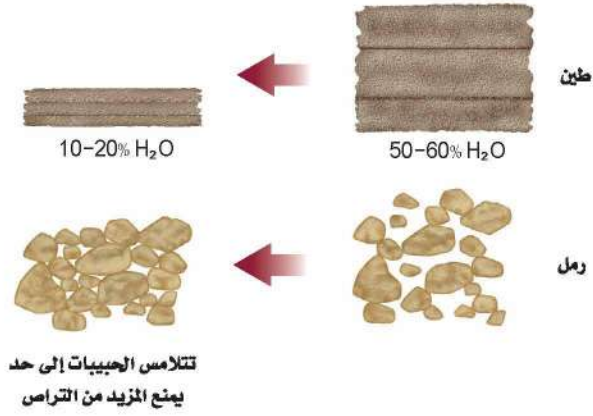
1. اقرأ نموذج السلامة في المختبر.
2. احصل على 100 cm³ من الرسوبيات من مكان يجده معلمك.
3. ضع الرسوبيات في قنينة لها غطاء سعتها 200 mL.
4. ضع ماء في القنينة إلى ثلاثة أرباعها.
5. أحكم إغلاق القنينة بالغطاء.
6. اعمل القنينة بكلتا يديك واقبها عدة مرات لخلط الماء والرسوبيات معاً، ودع القنينة مقلوبة قبل أن تضعها معتدلة على سطح مستو، ثم اتركها مدة 5 دقائق تقريباً.
7. لاحظ عملية الترسيب.

التحليل

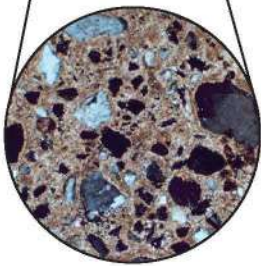
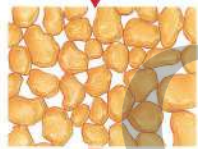
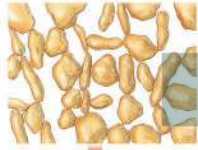
1. وضح ما لاحظته على شكل مخطط.
2. صف نوع الحبيبات التي ترسبت أولاً في قاع القنينة.
3. صف نوع الحبيبات التي تكوّن الطبقات العليا.



الشكل 3-4 يؤدي محتوى رسوبيات الطين المرتفع من الماء وشكل حبيباتها الأفقي إلى تراص كبير عندما تخضع لثقل الرسوبيات التي فوقها.



المطويات
ضمّن مطويتك معلومات من هذا القسم.



الشكل 3-5 ترسب المعادن من المياه في أثناء تدفقها عبر مسامات الرسوبيات. تشكّل هذه المعادن مادة لاحمة تعمل على ربط الرسوبيات بعضها مع بعض.

يزداد الضغط على الطبقات السفلى، فتزداد درجة حرارتها، مما يؤدي إلى تصخر الرسوبيات. والتصخر **Lithification** عمليات فيزيائية وكيميائية تؤدي إلى تماسك الرسوبيات وتكوّن صخر رسوبي. والمقطع الأول من كلمة التصخر بالإنجليزية lithification وهو lithify مأخوذ من الكلمة اليونانية lithos، وتعني الحجر.

التراص Compaction تشمل عملية التصخر مجموعة من العمليات تبدأ بعملية التراص **Compaction**؛ وهي تقارب حبيبات الرسوبيات بسبب الضغط الناتج عن وزن الرسوبيات التي تعلوها، ويترتب على ذلك تغيرات فيزيائية، كما في الشكل 3-4. فطبقات الطين تحتوي على 60% من حجمها ماء تقريباً. لذا ينقص حجمها عندما يخرج الماء منها بتأثير الضغط. أما الرمل فلا ينضغط بقدر انضغاط الطين في أثناء عملية الدفن؛ وذلك لأن حبيبات الرمل تتكون في العادة من الكوارتز، وهي غير قابلة للتشوّه تحت ظروف الدفن العادية. يشكل تلامس حبيبات الرمل بعضها بعضاً هيكلًا داعماً يعمل على بقاء الفراغات بين الحبيبات، حيث توجد المياه الجوفية والنفط والغاز الطبيعي في هذه الفراغات في الصخور الرسوبية.

السمتة Cementation لا يشكل الضغط القوة الوحيدة التي تربط الحبيبات معاً. حيث تحدث السمتة **Cementation** وهي عملية يتم فيها ترسب معادن جديدة كانت مذابة ضمن المياه الجوفية بين الحبيبات الرسوبية مما يؤدي إلى التحام حبيبات الرسوبيات معاً مشكلةً صخوراً صلباً. ويحدث هذا عندما ترسب **مواد لاحمة** ومنها: معدن الكالسيت $CaCO_3$ أو أكسيد الحديد Fe_2O_3 بين الحبيبات الرسوبية بالكيفية نفسها التي ترسب بها المعادن المذابة من المياه الجوفية. ويوضح الشكل 3-5 كيف تحدث هذه العملية.

معالم الصخور الرسوبية Sedimentary Features

كما تحتوي الصخور النارية على معلومات عن تاريخ نشأتها، فإن للصخور الرسوبية معالمها وخصائصها التي تساعد الجيولوجيين على تفسير نشأتها وتاريخ المنطقة التي تشكلت فيها.



الشكل 6-3 توضح الصورة كيف تم تسجيل التطبق المتدرج في أثناء انخفاض سرعة المياه وفقدان طاقتها الترسيبية.

التطبق Bedding يسمى ترئب الصخور على هيئة طبقات أفقية التطبيق **Bedding**. ويعدّ التطبق الأفقي هو الغالب والشائع في الصخور الرسوبية، ويحدث نتيجة للطريقة التي تترسب بها الرسوبيات بتأثير المياه أو الرياح. ويتراوح سمك الطبقة الواحدة بين ملمترات وعدة أمتار. وهناك نوعان مختلفان من التطبق، يعتمد كل منهما على طريقة النقل. أما حجم الحبيبات ونوع المادة المكوّنة للطبقات فتعتمد على عوامل أخرى.

التطبق المتدرج Graded bedding يسمى نوع التطبق الذي تصبح فيه الحبيبات أثقل وأكبر حجماً كلما اتجهنا إلى أسفل التطبيق المتدرج **Graded bedding**. وغالباً ما يلاحظ التطبق المتدرج في الصخور الرسوبية البحرية فعندما تقل سرعة التيارات البحرية تفقد طاقتها على حمل الفتات الصخري، فتترسب المواد الأثقل والأكبر حجماً أولاً، ثم تترسب بعدها بالتدرج المواد الأصغر. ويوضح الشكل 6-3 مثلاً على التطبق المتدرج.

التطبق المتقاطع Cross - bedding مظهر آخر مميز للصخور الرسوبية. ينشأ التطبق المتقاطع **Cross bedding**، كالذي يظهر في الشكل 7-3، عندما تترسب طبقات مائلة نسبة إلى بعضها البعض، وبعد تصخر هذه الرسوبيات، يحتفظ الصخر بالتطبق المتقاطع. ويوضح الشكل 8-3 هذه العملية.

علامات النيم Ripple marks تتشكل علامات النيم - كما هو موضح في الشكل 8-3 - عندما تترسب الرسوبيات في تموجات صغيرة تكونت بفعل الرياح أو الأمواج أو التيارات النهرية. وتحفظ هذه العلامات في الصخر الصلب إذا طمرت بهدوء ودون اضطراب أو اختلاط برسوبيات أخرى.

المهنة في علم الأرض

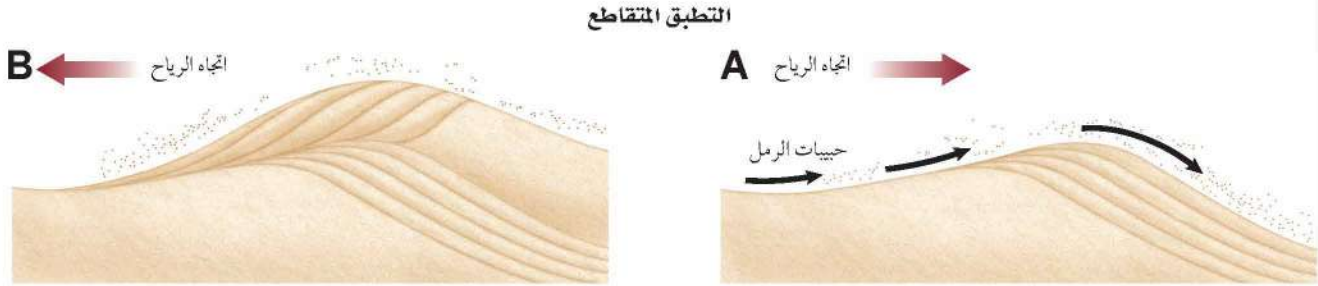
عالم الرسوبيات؛ مهنة عالم الرسوبيات هي دراسة أصل الرسوبيات وترسيبها وتحويلها إلى صخور رسوبية. وغالباً ما ينشغل علماء الرسوبيات في البحث عن البترول والغاز الطبيعي والمعادن المهمة اقتصادياً والحصول عليها.



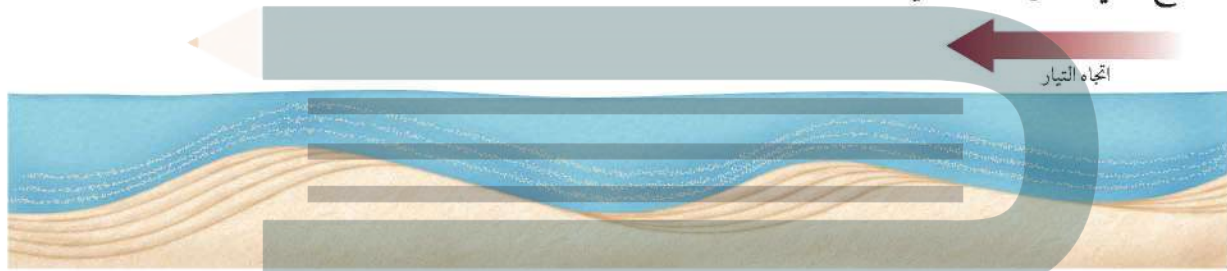
الشكل 7-3 تطبق متقاطع كبير الحجم في كتيبان قديمة تشكّلت بالرياح.

التطبيق المتقاطع وعلامات النيم Cross-Bedding and Ripple Marks

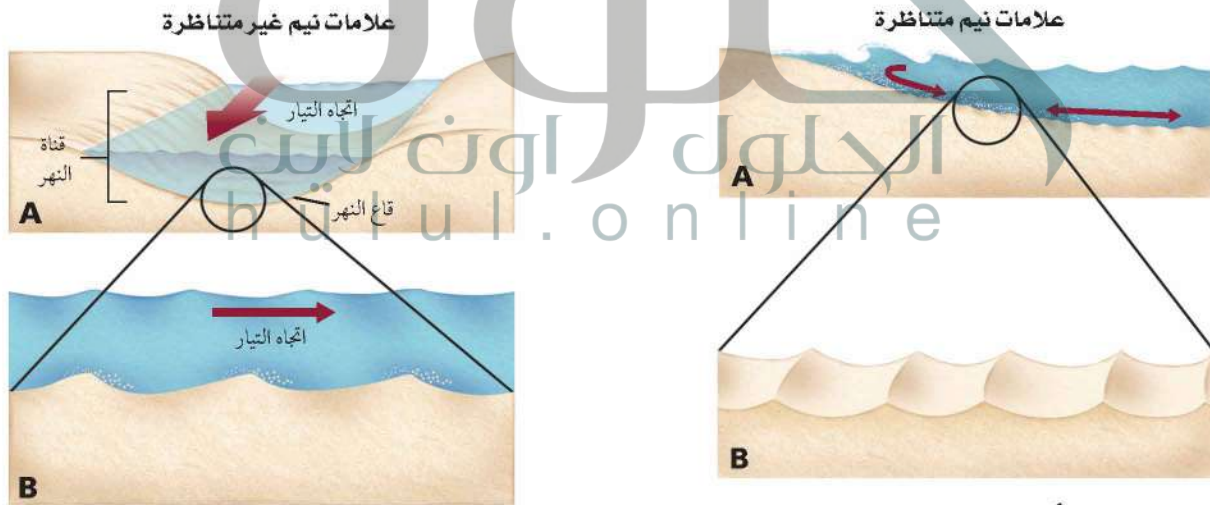
الشكل 3-8 ينتج عن حركة المياه والرسوبيات المفككة تكوّن تراكيب رسوبية كالتطبيق المتقاطع وعلامات النيم.



يستقر الرمل الذي تحمله الرياح على جانب الكتيب البعيد عن اتجاه الرياح، وعندما تغير الرياح اتجاهها يتكون التطبيق المتقاطع الذي يُظهر حادثة تغيير الاتجاه.



تُدفع رسوبيات قاع النهر بفعل حركة التيارات مشكلةً تلالاً صغيرة وموجات، فإذا تلاها استقرار رسوبيات أخرى بزاوية معينة فوق الجانب المائل لهذه التلال في اتجاه التيار فعندئذ يتشكل التطبيق المتقاطع. وفي النهاية تستوي المنطقة أو تتشكل تلال جديدة، وتبدأ العملية من جديد.



تقوم التيارات التي تجري في اتجاه واحد - كتلك التي في الأنهار - بدفع رسوبيات القاع لتشكل علامات نيم غير متناظرة؛ حيث يكون الجانب المعاكس لاتجاه التيار أكثر انحداراً، ويحوي الرسوبيات الأخشن. لاحظ أن التيار المائي يسير من المنبع إلى المصب.

تؤدي حركة الأمواج على الشاطئ ذهاباً وإياباً إلى دفع رمل القاع، فتشكل علامات نيم متناظرة؛ إذ تتوزع حبيبات الرمل على جانبي قمم التلال بانتظام.

- ج1: تؤدي التجوية الفيزيائية والكيميائية إلى تفتيت الصخر فتحول هذه القطع إلى رسوبيات؛ تنقل وترسب بعيداً بفعل عوامل التعرية والنقل
- ج2: يجب أن يُظهر المخطط كلا من: عملية نقل الرسوبيات وأن الترسيب تأثير الجاذبية ينتج طبقات أفقية وكذلك استمرارية الترسيب
- ج3: يجب أن يحتوي المخطط على المعلومات الآتية: تناقص حجم الحبيبات نحو الأعلى وأن طاقة المياه تتناقص أيضا نحو الأعلى
- ج4: تزداد درجة الحرارة والضغط نحو الأسفل في باطن الأرض وتسبب هذه الزيادة تراص الحبيبات وبدء التصخر
- ج5: هذه العبارة صحيحة، تمثل كل طبقة في التطبق المتقاطع حدثاً ترسيمياً؛ إذ يمكن أن تحتوي كل طبقة على تعاقب تتدرج فيه حجم الحبيبات من الأخصن إلى الأنعم نحو الأعلى؛ كي أنه إذا تكون التطبق المتقاطع في أثناء تناقص سرعة الماء فإن حجم الحبيبات يتناقص من تطبق متقاطع إلى آخر
- ج6: اتجاه المسير وهو في اتجاه أعلى المجرى أي نحو مصدر الرسوبيات لأن الرسوبيات تصبح أكثر امتدادة كلما قلت مسافة أطول عن مصدرها
- ج7: يجب أن تحوي الصورة على الشعاب المرجانية وحيوانات بحرية أخرى وأي وصف آخر

1. الفكرة الرئيسة > صف كيف تنتج الرسوبيات عن التجوية والتعرية؟
2. ارسم مخططاً. لتوضح لماذا تستقر الرسوبيات في طبقات؟
3. وضح كيف يتشكل التطبق المتدرج باستخدام الرسم؟
4. قارن علاقة درجة الحرارة والضغط على سطح الأرض وما تحته بعملية التصخر.
- التفكير الناقد
5. قوّم هذه العبارة: قد يكون هناك تطبق متقاطع وتطبق متدرج في طبقة واحدة.
6. حدد في أي اتجاه تسير: نحو أعلى جدول جبلي جاف، أم نحو أسفله، بحيث تلاحظ أن شكل حبيبات الرسوبيات يصبح مديباً أكثر باستمرار السير؟ فسر ذلك.
- الكتابة > الجيولوجيا
7. تخيل أنك تصمم عرضاً لمتحف يتضمن صخوراً رسوبية تحوي أحافير المرجان وحيوانات بحرية أخرى. ارسم صورة البيئة التي تتوقع أنها كانت تعيش فيها. ثم اكتب وصفاً مرافقاً للصورة.
- تشكل الصخور الرسوبية بعملية التجوية والتعرية والترسيب والتصخر.
- تصبح الرسوبيات - بعملية التراص والسمتة - صخوراً.
- الأحافير بقايا أو آثار مخلوقات حية كانت تعيش في الزمن الماضي، وتكون محفوظة - في الغالب - في الصخور الرسوبية.
- قد تحوي الصخور الرسوبية معالم مميزة، ومنها التطبق المتدرج، والتطبق المتقاطع، وعلامات النيم، واستدارة الحبيبات، واحتواؤها على الأحافير.

أنواع الصخور الرسوبية

Types of Sedimentary Rocks

الفكرة الرئيسية تُصنّف الصخور الرسوبية بناءً على طرائق تشكيلها.

الربط مع الحياة. إذا مشيت على طول شاطئ أو ضفة نهر فقد تلاحظ حجوماً مختلفة من الرسوبيات. يُحدد حجم حبيبات الرسوبيات نوع الصخر الرسوبي الذي يمكن أن يتشكل منها.

الصخور الرسوبية الفتاتية

Clastic Sedimentary Rocks

أكثر أنواع الصخور الرسوبية شيوعاً الصخور الرسوبية الفتاتية **Clastic Sedimentary Rocks** التي تتشكل من تراكم الرسوبيات المفككة على سطح الأرض. وكلمة **Clastic** مأخوذة من كلمة الكلاستوس اليونانية بمعنى مكسرة. وتُصنّف هذه الصخور بناءً على حجم حبيباتها. انظر إلى الجدول 1-3 في الصفحة الآتية، الذي يلخص تصنيف الصخور الرسوبية بناءً على حجم حبيباتها وطريقة تشكيلها ومكوناتها المعدنية.

الصخور الرسوبية الخشنة الحبيبات Coarse – grained rocks

تصنّف الصخور الرسوبية المكونة من فتات الصخر والمعادن التي بحجم الحصباء على أنها صخور خشنة الحبيبات، كما في الشكل 10-3. وبسبب كتلتها الكبيرة نسبياً تُنقل الحصباء بالتيارات المائية العالية الطاقة، كتلك التي تتولد في الجداول الجبلية، والأنهار الفائضة، ومياه الانصهار الجليدي. وفي أثناء عملية النقل تحتك الحبيبات بعضها ببعض، فتصبح مستديرة. وهذا هو سبب الاستدارة الجيدة لحصباء الشواطئ والأنهار وهذا يدل - كما ذكر سابقاً - على زيادة مسافة النقل. وتحوّل عملية التصخر هذه الرسوبيات إلى صخر يسمى الكونجلوميرات.

وعلى نقيض الكونجلوميرات، تتكون البريشيا من حبيبات مدببة الحواف في حجم الحصباء. وتشير الحواف المدببة إلى أن الرسوبيات التي شكلت البريشيا لم تأخذ الوقت الكافي لتصبح مستديرة. ويدل هذا على أن هذه الحبيبات قد نقلت مسافة قصيرة واستقرت قريباً من مصدرها. انظر الجدول 1-3.

الأهداف

- تصف أنواع الصخور الرسوبية الفتاتية.
- توضح كيفية تشكل الصخور الرسوبية الكيميائية.
- تصف الصخور الرسوبية الكيميائية الحيوية.

مراجعة المفردات

حلول مشيع: أعلى محتوى ممكن من المعادن الذائبة في محلول.

المفردات الجديدة

الصخور الرسوبية الفتاتية
الفتاتي
المسامية

الصخور الرسوبية الكيميائية
المتبخرات

الصخور الرسوبية الكيميائية الحيوية

الشكل 10-3 تتكوّن صخور الكونجلوميرات والبريشيا من الرسوبيات الخشنة التي نقلت بمياه عالية الطاقة.

استدل على الظروف التي يمكن أن تسبب أنواع النقل اللازمة لتكوين هذين الصخرين.



البريشيا



الكونجلوميرات

تصنيف الصخور الرسوبية

الجدول 1-3

التصنيف	النسيج / حجم الحبيبات	المكونات	اسم الصخر
الفتاتية	خشن ($> 2 \text{ mm}$)	قطع من أي صخر - كوارتز و صوّان وكوارتزيت هي الشائعة.	كونجولوميرات (مستديرة) بريشيا (مدببة الحواف)
	متوسطة ($\frac{1}{16} \text{ mm} - 2 \text{ mm}$)	كوارتز و قطع صخرية كوارتز و فلبسبار بوتاسي و قطع صخر	حجر رملي حجر رملي أركوزي
	ناعمة ($\frac{1}{256} \text{ mm} - \frac{1}{16} \text{ mm}$)	كوارتز و طين	حجر الطمي
	ناعمة جداً ($> \frac{1}{256} \text{ mm}$)	كوارتز و طين	الطّفّل
الكيميائية	ناعمة إلى خشنة التبلور	كالكسيت CaCO_3	حجر جيرى متبلور
	ناعمة إلى خشنة التبلور	دولوميت $(\text{Ca}, \text{Mg}) \text{CO}_3$ (يتفاعل مع الحمض إذا كان مسحوقاً)	دولوميت
	ناعمة التبلور جداً	كوارتز SiO_2 بلونيه القانح والغامق	صوّان
	ناعمة إلى خشنة التبلور	جبس $\text{CaSO}_4 \cdot 2\text{H}_2\text{O}$	الجبس الصخري
الكيميائية الحيوية	ناعمة إلى خشنة التبلور	هاليت NaCl	الملح الصخري
	بلورات دقيقة مع تشققات محارية	كالكسيت CaCO_3	مكرايت
	أحافير كثيرة في أرضية من المكرايت	كالكسيت CaCO_3	حجر جيرى أحفوري
	أوليت (كرات صغيرة من كربونات الكالسيوم)	كالكسيت CaCO_3	حجر جيرى أوليتي
	أصداف وأصداف مكسرة مفككة	كالكسيت CaCO_3	كوكينا
	أصداف مجهرية وصلصال	كالكسيت CaCO_3	طباشير
	قطع مختلفة الحجم	بقايا نبات متفحمة مع بعض الأحافير النباتية	فحم

الصخور الرسوبية المتوسطة الحبيبات Medium-grained rocks

غالبًا ما تحوي قنوات الجداول المائية والأنهار والشواطئ والصحارى كميات وفيرة من الرسوبيات بحجم حبيبات الرمل. تصنف الصخور الرسوبية التي تتكوّن من قطع صخرية أو معدنية بحجم الرمل على أنها صخور فتاتية متوسطة الحبيبات. انظر إلى الجدول 1-3. وتحوي الصخور الرملية في الغالب مجموعة من المعالم التي تهتم العلماء. فمثلاً تشير علامات النسيم والتطابق المتقاطع إلى اتجاه تدفق التيار. لذا يستعمل الجيولوجيون طبقات الصخور الرملية لعمل خرائط للجدول المائية القديمة وقنوات الأنهار.

المفردات
مفردات أكاديمية

خزان جوفي

هو طبقات من الصخور تحت السطحية، بها قدر كاف من المسامية تسمح بتراكم كمية من النفط أو الغاز الطبيعي أو الماء. ومن الأمثلة على الخزانات الجوفية في السعودية خزان الساق الذي يتكون من الحجر الرملي.



الشكل 11-3 ترسبت الرسوبيات الناعمة جداً في مياه هادئة وشكلت طبقات رقيقة من الطين.

من خصائص الصخور الرملية المهمة أن مساميتها عالية نسبياً. والمسامية **Porosity** هي النسبة المئوية للفراغات الموجودة بين الحبيبات المكونة للصخر. وقد تصل مسامية الرمل المفكك إلى 40%. ويمكن المحافظة على هذه الفراغات في أثناء تحول الرمل إلى حجر رملي، مما يؤدي غالباً إلى وجود مسامية قد تصل نسبتها إلى 30%. وعندما تكون المسام بعضها متصلاً ببعض تستطيع الموائع ومنها المياه أن تتحرك خلال الحجر الرملي بسهولة. وهذه الخاصية تجعل طبقات الصخور الرملية مهمة بوصفها خزانات تحت سطحية للنفط والغاز الطبيعي والمياه الجوفية.

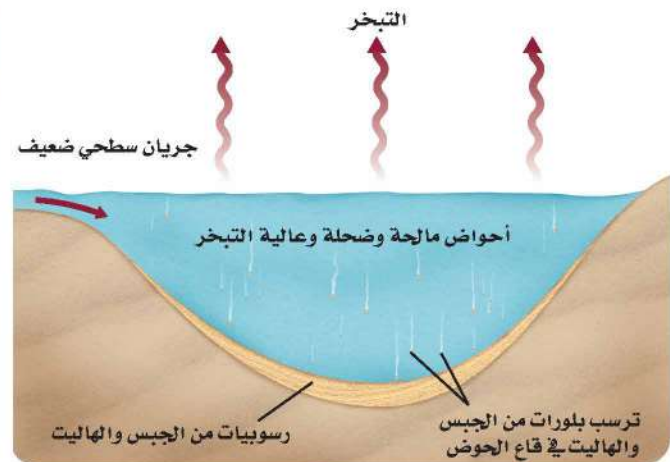
الصخور الرسوبية الناعمة الحبيبات Fine-grained rocks تتكون هذه الصخور من حبيبات صغيرة بحجم حبيبات الطمي والطين. ومنها حجر الطمي والطفل. وتمثل هذه الصخور بيئات مياه ساكنة أو بطيئة الحركة كالمستنقعات والبرك. وفي غياب التيارات القوية وتأثير الأمواج تهبط هذه الرسوبيات إلى القاع، وترسب في طبقات أفقية رقيقة. وعادة ما ينكسر الطفل على طول الطبقات الرقيقة، كما في الشكل 11-3. وعلى النقيض من الحجر الرملي، تعمل الصخور الرسوبية الناعمة الحبيبات ذات النفاذية المنخفضة بوصفها حواجز تعيق حركة المياه الجوفية والبترو.

✓ **ماذا قرأت؟** وضح أنواع البيئات التي تتشكل فيها الصخور الناعمة الحبيبات.

تتشكل الصخور ناعمة الحبيبات في بيئات مياه هادئة أو بطيئة الحركة ومنها البرك والمستنقعات ومياه المحيط العميقة

والمحيطات. وعندما تتبخر المياه من البحيرات والمحيطات تُترك المعادن الذائبة في المياه الباقية. وفي الأقاليم الجافة يمكن لمعدلات التبخر العالية أن تزيد تركيز المعادن الذائبة في المسطحات المائية. ويمثل الشكل 12-3 سبخة القصب غرب الرياض.

الشكل 12-3 يؤدي التبخر المستمر من مسطح مائي مالح إلى ترسيب كميات كبيرة من الملح. كما في سبخة القصب غرب الرياض.



الصخور الرسوبية الكيميائية Chemical sedimentary rocks

يزيد تركيز المعادن الذائبة في مسطح مائي عن حد الإشباع تترسب بلورات المعادن من المحلول، وتهبط إلى القاع. ونتيجة لذلك تتشكل طبقات من الصخور الرسوبية الكيميائية **Chemical sedimentary rocks** تسمى المتبخرات **Evaporites**. تتشكل المتبخرات في معظم الأحيان في الأقاليم الجافة، وفي أحواض التصريف المائي ذات التدفق المنخفض في القارات. وبسبب قلة المياه العذبة التي تتدفق إلى هذه المناطق يبقى تركيز المعادن المذابة مرتفعاً. وعلى الرغم من دخول المزيد من المعادن المذابة إلى هذه الأحواض يستمر تبخر المياه العذبة، مما يحافظ على تراكيز مرتفعة للمعادن. ومع مرور الزمن يمكن أن تتراكم طبقات سميكة من معادن المتبخرات على أرضية الحوض كما في الشكل 12-3. ومن الأمثلة على هذه المعادن الجبس، الذي يتوافر في مناطق متعددة من المملكة العربية السعودية، ومنها منطقة مقنا شمال غرب المملكة العربية السعودية، ومنطقة الخرج، وبالقرب من مدينة بريدة.

الصخور الرسوبية الكيميائية الحيوية Biochemical sedimentary rocks

تتكون الصخور الرسوبية الكيميائية الحيوية **Biochemical sedimentary rocks** من بقايا مخلوقات حية كانت تعيش في الماضي. وأكثر هذه الصخور شيوعاً هو الحجر الجيري المكون أساساً من معدن الكالسيت. وتُستعمل بعض المخلوقات الحية التي تعيش في المحيط ككربونات الكالسيوم الذائبة في المياه لبناء أصدافها. وعندما تموت هذه المخلوقات الحية تهبط أصدافها إلى قاع المحيط فتشكل طبقات سميكة من رواسب الكربونات. وفي أثناء عملية الدفن والتصخر تترسب كربونات الكالسيوم من المياه وتبلور بين الأصداف وتشكل الحجر الجيري. ويستخرج



الشكل 13-3 يمكن لصخر الحجر الجيري أن يحوي أنواعاً كثيرة ومختلفة من الأحافير. ويستطيع الجيولوجيون أن يفسروا أين ومتى تشكل الحجر الجيري من دراسة الأحافير الموجودة فيه.

ج1: صخور رسوبية فتاتية

ج2: لأنه يتشكل من أجزاء كانت تعيش في الزمن الماضي

ج4: يعمل التبخر باستمرار على تقليل المياه العذبة في المسطحات المائية؛ فيزداد تركيز المعادن في المياه المتبقية؛ ثم تترسب هذه المعادن لتشكل الصخور الرسوبية الكيميائية

ج5: تحل مياه بحر إضافية محل المياه المتبخرة في الحوض مع استمرار عملية التبخر، وتحري هذه المياه معادن مذابة يؤدي تبخرها إلى ترسيب معادن إضافية، وتكرر هذه العملية باستمرار

ج6: يتكوّن الطين من حبيبات صفائحية من الطين؛ حيث تتجمع هذه الحبيبات على هيئة طبقة مسطحة ولا يمكنها أن تتراكم بصورة مائلة بعضها على بعض (لا توجد زاوية بينها) لتشكل التطبق المتقاطع أو علامات النيم

1. الفكرة الرئيسية اذكر نوع الصخر الرسوبي الذي يتشكل من تعرية ونقل الحبيبات والقطع الصخرية وترسيبها.

2. وضح لماذا يعد الحجر الجيري صخرًا رسوبيًا كيميائيًا حيويًا؟

3. حلل الظروف البيئية التي تفسر تشكل معظم الصخور الرسوبية الكيميائية في مناطق ذات معدلات تبخر مرتفعة.

التفكير الناقد

4. اقترح سيناريو يفسر إمكانية تشكل طبقات متعددة من المتبخرات من مسطح مائي بحري، علمًا بأن الكمية الأصلية من المعادن المذابة فيه تكفي فقط لتكوين طبقة رقيقة من المتبخرات.

نفحص طبقات الطين في الشكل 11-3، وفسر عدم احتوائها على التطبق المتقاطع أو علامات النيم.

الرياضيات في الجيولوجيا

5. افترض أن طبقة من الطين سينقص حجمها بمقدار 35% في أثناء الترسيب والتراص، فإذا كان السمك الأصلي للطبقة هو 30 cm، فكم يصبح سمكها بعد عملية التراص؟

الصخور الرسوبية فتاتية أو كيميائية أو كيميائية حيوية.

تشكل الصخور الفتاتية من الرسوبيات، وتصنف على أساس حجم الحبيبات وشكلها.

تتكون الصخور الكيميائية أساسًا من المعادن التي تترسب من المياه في مناطق ذات معدلات تبخر مرتفعة.

تتكون الصخور الكيميائية الحيوية من بقايا مخلوقات عاشت في الزمن الماضي.

تزود الصخور الرسوبية الجيولوجيين بمعلومات عن ظروف سطح الأرض التي سادت في الزمن الماضي.

الصخور المتحولة Metamorphic Rocks

الفكرة الرئيسية تنشأ الصخور المتحولة عندما تتعرض صخور سابقة لها لزيادة الضغط والحرارة والمحاليل الحرارية المائية.

الربط مع الحياة. عند صناعة وطبخ المخبوزات تتحول جميع مكوناتها الأولية إلى شيء جديد. وكذلك تتغير خصائص الصخور إلى شيء جديد عندما تتعرض لدرجات الحرارة المرتفعة، وينتج عن ذلك صخور مختلفة كلياً.

تعرف الصخور المتحولة

Recognizing Metamorphic Rocks

يوضح الشكل 15-3 صخوراً تحولت. كيف عرف الجيولوجيون حدوث ذلك؟ تزداد درجة الحرارة والضغط كلما تعمقنا في باطن الأرض، وعندما ترتفعان بقدر كافٍ تنصهر الصخور لتشكل الصهارة. ولكن ما الذي يحدث لو لم تصل الصخور إلى درجة الانصهار؟ عندما تجتمع الحرارة والضغط العاليان، ويغيران نسيج الصخر ومكوناته المعدنية أو مكوناته الكيميائية من دون انصهاره يتشكل الصخر المتحول. وكلمة تحول بالإنجليزية metamorphism مشتقة من الكلمة اليونانية meta بمعنى تغير، وكلمة morphe ومعناها شكل؛ إذ يتغير شكل الصخر في أثناء التحول، لكنه يبقى صلباً.

وتتطلب عملية التحول درجات حرارة عالية، مصدرها حرارة باطن الأرض؛ ويتم ذلك بالدفن العميق، أو من الأجسام النارية الجوفية القريبة. أما الضغط العالي الذي تتطلبه عملية التحول فيتوافر بالدفن العميق أيضاً، أو من التضغوط الناتج في أثناء عملية تكوّن الجبال.

الأهداف

- تقارن بين أنواع الصخور المتحولة وأسباب تشكلها.
- تميز بين أنسجة التحول.
- تفسر كيفية حدوث التغيرات المعدنية والنسيجية في أثناء عملية التحول.

مراجعة المفردات

الصخور النارية الجوفية: صخور تشكلت من صهارة بردت وتبلورت ببطء تحت سطح الأرض.

المفردات الجديدة

- متورقة (صفائحية)
- غير متورقة (غير صفائحية)
- التحول الإقليمي
- التحول بالتماس
- التحول الحراري المائي
- دورة الصخر



الشكل 15-3 يتطلب طي طبقات هذه الصخور أو ثنيها إلى الشكل الذي هي عليه اليوم وجود قوى كبيرة. **كوّن فرضية** للتغيرات التي حدثت للرسوبيات بعد استقرارها.



الستوروليت



المايكا



الجارنت



التلك

الشكل 16-3 معادن متحولة، منها المايكا والستوروليت والجارنت والتلك وتوجد بلوراتها بألوان وأشكال وأحجام متعددة، قد يكون لونها بين القاتم والفاتح.

المعادن المتحولة Metamorphic minerals كيف يمكن أن تتغير المعادن من دون أن تنصهر؟ كما درست سابقاً، تبلور المعادن من صهارة، وتبقى مستقرة ضمن مدى من درجات الحرارة المختلفة، وينطبق هذا المدى أيضاً على المعادن المكونة للصخور المتحولة، التي خضعت لتغيرات وهي في الحالة الصلبة. ففي أثناء التحول تتغير المعادن في الصخر إلى معادن جديدة بفعل ظروف الضغط والحرارة الجديدة. وقد قام العلماء بتجارب لتعرف الظروف التي تؤدي إلى تكوّن معادن جديدة تكرر ظهورها في الصخور المتحولة؛ وذلك لتفسير ما الذي يؤدي إلى تحول هذه الصخور داخل القشرة الأرضية. ويوضح الشكل 16-3 بعض المعادن المتحولة الشائعة.

✓ ماذا قرأت؟ وضح ما المعادن المتحولة؟

المعادن المتحولة هي المعادن التي تتشكل في أثناء عملية التحول وتكون مستقرة تحت ظروف مختلفة عن ظروف معادن أخرى

المتحولة. ويوضح الشكل 17-3 كيفية استعمال هاتين الخاصيتين في تصنيف الصخور المتحولة.

الصخور المتورقة Foliated rocks تتميز الصخور المتحولة المتورقة **Foliated** بوجود المعادن في صفائح وأحزمة (خطوط)؛ حيث يتسبب الضغط العالي في أثناء التحول في صفّ المعادن الصفائحية أو الإبرية الشكل، بحيث يكون محورها الطويل متعامداً مع الضغط، كما في الشكل 18-3 في الصفحة الآتية. وينتج عن هذا الاصطفاف المتوازي للمعادن التورق الذي تلاحظه في الصخور المتحولة المتورقة.

الشكل 17-3 توازي الزيادة في حجم الحبيبات التغير في المكونات وتطور التورق. ولا يعد حجم الحبيبات عاملاً في تصنيف الصخور غير المتورقة.

مخطط الصخور المتحولة

اسم الصخر	المكونات المعدنية	النسيج
الأردواز	الكوارتز، المايكا، الكلوريت	ناعمة الحبيبات
الفضليت	الكوارتز، المايكا، الكلوريت	ناعمة الحبيبات
الشيست	الكوارتز، المايكا، الكلوريت، الفلسبار، الأملفيبول، البيروكسين	خشنة الحبيبات
النائس	الكوارتز، المايكا، الكلوريت	خشنة الحبيبات
الكوارتزيت	الكوارتز	ناعمة إلى خشنة الحبيبات
الرخام	الكالسيت أو الدولوميت	ناعمة إلى خشنة الحبيبات




الشكل 18-3 يتطور التورق عندما يؤثر الضغط في اتجاهين متضادين، ويكون التورق متعامداً على اتجاه الضغط.


الصخور المتحولة غير المتورقة Nonfoliated rocks تختلف

الصخور المتحولة غير المتورقة Nunfoliated عن الصخور المتورقة في أنها مكونة من معادن ذات بلورات كتلية الشكل. ويوضح الشكل 19-3 مثالين شائعين على الصخور غير المتورقة، هما الرخام والكوارتزيت. والكوارتزيت صخر قاس، وغالباً ما يكون فاتح اللون، وينشأ عن تحول الحجر الرملي الغني بالكوارتز، بينما ينشأ الرخام عن تحول الحجر الجيري. ونادراً ما تُحفظ الأحافير في الصخور المتحولة. وبعض أنسجة أنواع الرخام ملساء تشكّلت من تداخل حبيبات الكالسيت. وتستعمل أنواع الرخام هذه غالباً في أرضيات المنازل. ويتم استخراج الرخام في المملكة العربية السعودية من عدة أماكن منها جبل خنوقة شمال شرقي عفيف، بينما يستخرج الرخام الأسود من جبل غرور ودمخ شمال غرب حلبان. ويمكن في ظروف معينة أن يكبر حجم المعادن المتحولة الجديدة، بينما تبقى المعادن المحيطة بها صغيرة الحجم. وعلى الرغم من أن هذه البلورات الكبيرة تشبه البلورات الكبيرة جداً في البيجماتيت الجرانيتي، إلا أنها تختلف عنها؛ فبدلاً من أن تتشكّل من الصهارة فإنها تتشكّل في الصخر الصلب من خلال إعادة ترتيب الذرات في أثناء التحول. ويوضح الشكل 19-3 معدن الجارانت الذي تشكل بهذه الطريقة.


الشكل 19-3 تختلف الصخور المتحولة الظاهرة في الشكل عن الصخور الرسوبية في أنها لا تُظهر وجود الأحافير فيها؛ لأن الحرارة الشديدة التي تعرضت لها أزالت تلك الأحافير. ومع ذلك، لا تؤدي عملية التحول دائماً إلى تدمير التطبق المتقاطع وعلامات النيم التي يمكن مشاهدتها في بعض أنواع الكوارتزيت.



بلورات كبيرة من الجارانت



الكوارتزيت



الرخام



الشكل 20-3 تحول صخر الطفل يؤدي إلى تكون معادن مختلفة الألوان في درجات تحول مختلفة.

درجات التحول Grades of Metamorphism

تؤدي توافقات مختلفة من درجات الحرارة والضغط إلى حدوث درجات تحول مختلفة. يقترن التحول المنخفض الدرجة بدرجات الحرارة والضغط المنخفضين وبمجموعة محددة من المعادن والأنسجة، بينما يقترن التحول العالي الدرجة بدرجات حرارة وضغط مرتفعين وبمجموعة مختلفة من المعادن والأنسجة. أما التحول المتوسط الدرجة فيقع بين التحولين منخفض الدرجة وعالي الدرجة.

ويوضح الشكل 20-3 المعادن الموجودة في صخر طفيل متحول على درجات تحول مختلفة. لاحظ التغيير في المكونات عندما تتغير الظروف من تحول منخفض الدرجة إلى عالي الدرجة. ويستطيع الجيولوجيون أن ينشئوا ما يسمى خرائط تحول من خلال إسقاط أماكن المعادن المتحولة على خريطة اقتصادية، وذلك لتحديد أماكن معادن متحولة اقتصادية، منها الجارنت، والتلك.

أنواع التحول Types of Metamorphism

يمكن أن تنتج آثار التحول عن التحول بالتماس والتحول الإقليمي والتحول الحراري المائي، وتزودنا المعادن التي تشكلت ودرجة التغيير التي حدثت للصخر بمعلومات عن نوع التحول ودرجته.

ج1: المعدن الرئيس هو الكلوريت؛ غير أن الألبيت؛ وهو من البلاجيوكليز الصودي؛ يمكن أن يكون موجودا
ج2: السلمايت

التحليل

1. ما المعدن الذي يتشكل إذا تعرض الطفل والبازلت لتحول منخفض الدرجة؟
2. ما المعدن الذي يتشكل في الطفل تحت ظروف التحول عالي الدرجة، ولا يتشكل في البازلت؟

التفكير الناقد

3. قارن مجموعات المعادن التي تتوقع تشكلها في تحول متوسط الدرجة في كل من البازلت والطفل.
4. صف الاختلاف في المكونات الرئيسة بين الطفل والبازلت. كيف تعكس هذه الاختلافات المعادن التي تنشأ في أثناء التحول؟
5. فسر هناك تغير طفيف في المكونات المعدنية عندما يتحول الحجر الجيري إلى رخام؛ إلا أن معدن الكالسيت يبقى هو المعدن السائد. فسر سبب حدوث ذلك.

مختبر حل المشكلات

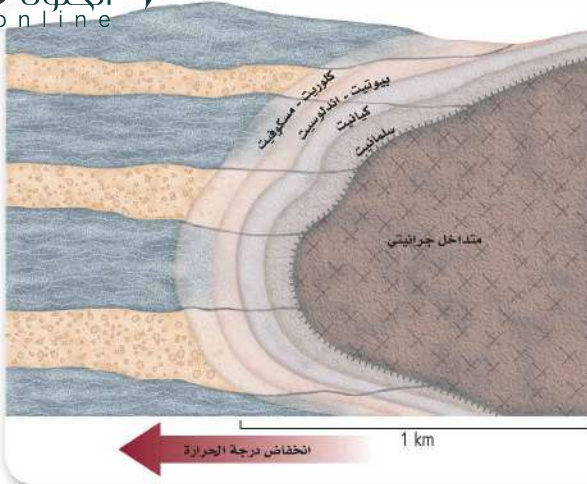
تفسير الرسوم العلمية التوضيحية

أي المعادن المتحولة يتشكل؟ يعتمد تشكل المعادن في الصخور

ج3: الغضار- مسكوفيت وبيوتيت وجارنت وستوروليت وكيانيت وألبيت؛ البازلت - كلوريت وإبيدوت وأمفيبول وجارنت وبلاجيوكليز

ج4: يحوي الغضار كمية أعلى من الألمنيوم والسيلينيوم البازلت فيحوي كمية أعلى من الحديد و المغنسيوم تنشأ معادن سيلكات الألومنيوم كالستوروليت والكيانيت والسلمايت من الغضار، في حين تنشأ المعادن الغنية بالحديد والمغنسيوم كالأمفيبول والبيروكسين من البازلت

ج5: يحوي الحجر الجيري الكالسيوم والكربون الأكسجين وقليل من العناصر الأخرى لذا لا تتشكل معادن أخرى غير الكالسيت ثم إن الكالسيت مستقر على مدى كبير من درجات الحرارة والضغط



الشكل 21-3 قد يسبب التحول بالتماس الناتج عن حقن (المتداخل الجرانيتي) تشكّل أحزمة (نطق) من المعادن المتحوّلة.

وظّف ما تعلمته عن التحول بالتماس لتحديد نوع الصخر الموجود الآن على حافة الجسم الناري الجوفي.

التحول الإقليمي Regional metamorphism ينشأ التحول الإقليمي

regional metamorphism عندما تتعرض مناطق واسعة من القشرة الأرضية لدرجة حرارة وضغط مرتفعين، وتتراوح درجة التحول بين منخفض وعالٍ. أما نتائج التحول الإقليمي فتتضمن التغير المعدني ونوع الصخر، بالإضافة إلى طي وتشويه طبقات صخور المنطقة. ويوضح الشكل 15-3 طبقات صخور مطوية عانت من التحول الإقليمي.

التحول بالتماس contact meramorphism عندما تصبح مادة مصهورة

كالأجسام النارية الجوفية، في تماس مع صخور صلبة، يحدث تأثير محلي نسميه التحول بالتماس contact meramorphism تتشكّل مجموعات المعادن المميزة للتحول بالتماس على درجات حرارة عالية وضغط متوسط إلى منخفض. ويوضح الشكل 21-3 نطق معادن مختلفة تحيط بالجسم الناري الجوفي. ولأن درجة الحرارة تنخفض عند الابتعاد عن الجسم الناري الجوفي فإن تأثيرات التحول تنخفض أيضاً مع المسافة. تعلمت سابقاً أن المعادن تتبلور عند درجات حرارة محددة، فالمعادن المتحوّلة التي تتشكّل عند درجات حرارة أعلى تكون أقرب إلى الجسم الناري الجوفي، حيث أعلى درجة حرارة، ولأن اللابة تبرد بسرعة فإن الحرارة لا يمكنها أن تحترق كثيراً صخور السطح، لذا فإن تأثير التحول بالتماس الناتج عن الصخور النارية البركانية يكون محدوداً.

التحول الحراري المائي hydrothermal metamorphism يحدث التحول

الحراري المائي hydrothermal metamorphism عندما تتفاعل مياه ساخنة جداً مع الصخر، فتغير مكوناته الكيميائية والمعدنية. وجملة الحراري المائي بالإنجليزية hydrothermal مشتقة من الكلمتين اليونانيتين hydro بمعنى الماء، و thermal بمعنى حرارة. ولما كانت الموائع في أثناء التحول تهاجر من الصخر وإليه، لذا فإن المكونات الكيميائية والنسيج الأصليين يمكن أن يتغيرا. وتكون التغيرات الكيميائية شائعة في التحول بالتماس بالقرب من الأجسام النارية الجوفية والبراكين النشطة. وغالباً ما تتوضع خامات اقتصادية بهذه الطريقة كالذهب والنحاس والخارصين والنتجستن والرصاص؛ فالذهب المتوضع في الكوارتز في الشكل 22-3 ناتج عن التحول الحراري المائي.

المفردات

الاستعمال العلمي مقابل الاستعمال الشائع

متداخل (متطفل)

الاستعمال العلمي: صهارة متوضعة في صخر سابق.

الاستعمال الشائع: شخص تداخل في شؤون الآخرين؛ أي اقحم نفسه.

الشكل 22-3 تتكون عروق الذهب في الكوارتز عندما يبرد المحلول الحراري المائي.



الأهمية الاقتصادية للصخور والمعادن المتحولة

Economic Importance of Metamorphic Rocks and Minerals

أدى نمط الحياة الحديث إلى ازدياد استخراج واستخدام موارد الأرض الطبيعية. فنحن مثلاً نحتاج إلى الملح للطهي، والذهب للتجارة، وفلزات أخرى للبناء والأغراض الصناعية، كما نحتاج إلى الوقود الأحفوري للطاقة، وإلى الصخور والعديد من المعادن في المستحضرات التجميلية، إلى غير ذلك من الاستعمالات. ويوضح الشكل 23-3 مثالين لكيفية استعمال الصخور المتحوّلة في البناء. وينتج الكثير من هذه الموارد المعدنية الاقتصادية من عمليات التحوّل، ومن بينها: فلزات الذهب والفضة والنحاس والرصاص، بالإضافة إلى موارد غير فلزية مهمة وكثيرة.

موارد المعادن الفلزية Metallic mineral resources توجد الموارد الفلزية غالباً على شكل خامات معدنية فلزية، وعلى الرغم من اكتشاف توضعات فلزية نقية أحياناً، فإن الكثير من التوضعات غير النقية تترسب من المحاليل الحرارية المائية، متركزة على هيئة عروق، أو منتشرة في كتلة الصخر. ويكثر وجود توضعات الذهب والفضة والنحاس في العروق الحرارية المائية للكوارتز بالقرب من الأجسام النارية الجوفية. وتوجد معظم التوضعات الفلزية الحرارية المائية على شكل كبريتيدات، ومنها: الجالينا (PbS)، والبيريت (FeS₂)، أو على شكل أكاسيد ومنها خاما الحديد (الماجنتيت والهيماتيت)؛ وهما معدنان تشكّلا بالتوضع من محاليل حرارية مائية حاملة للحديد. وفي المملكة العربية السعودية الكثير من المعادن التي توضع من المحاليل الحرارية المائية، ومنها: الذهب، والفضة، والنحاس.

✓ **ماذا قرأت؟** اذكر الموارد الاقتصادية التي تنتجها المحاليل الحرارية المائية.

ينشأ عن التحول الحراري المائي تشكل الخامات الفلزية ومنها الذهب والفضة والنحاس بالإضافة إلى الكبريتيدات الفلزية كالجالينا والبيريت

الشكل 23-3 الرخام والأردواز
صخران متحولان استعملتا في
البناء منذ قرون.

منخفضة، لذا فإنه يستعمل مضاداً للحريق وفي مواد العزل. وقبل أن تُعرف خصائصه المسببة للسرطان، استعمل بشكل واسع في صناعة البناء، ولا تزال كثير من البنايات القديمة تحتوي على الإسبستوس. ومن المعادن الأخرى غير الفلزية التي تنتج عن التحوّل معدن الجرافيت، وهو المكوّن الرئيس في صناعة أقلام الرصاص.



ج1: يؤدي ارتفاع درجة حرارة الصخور إلى إعادة ترتيب ذرات العناصر المعدنية. نما يؤدي إل تشكل معادن جديدة أو يؤدي إلى نمو بلورات المعادن أكثر

ج2: يؤدي الضغط إلى نمو بلورات المعادن المسطحة أو الطولية في اتجاه واحد
ج3: توضح دورة الصخر أن الصخور تتشكل في بيئات خاصة ومن خلال عمليات معينة. وتصنف الأنواع الصخرية الثلاثة: النارية والمتحولة والرسوبية وفي طريقة تشكلها

ج4: التحول الإقليمي - يمتد تأثير درجة الحرارة والضغط إل مناطق كبيرة من قشرة الأرض؛ التحول بالتماس تأثيرات محلية ناتجة عن حرارة متداخل ناري مجاور؛ التحول الحراري المائي - تغيرات في الصخور نتيجة تفاعلها مع مياه حارة جدا

ج5: يتعرض الحجر الجيري للحرارة أو الحرارة والضغط نتيجة ملامسته جسي ناريا أو نتيجة الدفن في باطن الأرض حيث تبدأ بلورات الكالسيت في إعادة التبلور فتتداخل البلورات الجديدة ويزداد حجمها ويتغير نسيج الصخر ويتكون الرخام
ج6: يقع الجسم الناري غالبًا جنوب معادن الجارنت والستوروليت فهي تتشكل عند درجات حرارة أعلى من درجات حرارة تشكل المسكوفيت والكلوريت مشيرة

إلى أن درجة الحرارة كانت أسخن نحو الجنوب

1. الفكرة الرئيسية: لخص كيف يؤدي ارتفاع درجة الحرارة إلى عملية التحول؟
2. لخص أسباب تشكل النسيج المتحول المتورق.
3. طبق مفهوم دورة الصخر لتفسر كيفية تصنيف الأنواع الصخرية الرئيسية الثلاثة.
4. قارن بين العوامل التي تسبب أنواع التحول الرئيسية الثلاثة.

التفكير الناقد

5. استنتج خطوات تكون صخر الرخام من الحجر الجيري.
6. توقع موقع جسم ناري جوفي بناء على المعلومات المعدنية الآتية: جُمع معدنا الكلوريت والمسكوفيت من الجزء الشمالي من منطقة الدراسة؛ وجمع الجارنت والستوروليت من الجزء الجنوبي من المنطقة.

الرياضيات في الجيولوجيا

7. تتشكل غالبًا الأحجار الكريمة في صورة بلورات معدنية كبيرة في الصخور المتحولة. وتوصف الأحجار الكريمة بوحدة القيراط. يساوي القيراط 0.2 g أو 200 mg. اكتشفت بلورة جارنت كبيرة في نيويورك عام 1885 كتلتها 4.4 kg وقطرها 15 cm. ما كتلة هذه الجوهرة بوحدة القيراط؟


- أنواع التحول الثلاثة الرئيسية هي التحول الإقليمي والتحول التماسي والتحول الحراري المائي.
- يمكن أن يكون نسيج الصخور المتحولة متورقًا أو غير متورق.
- في أثناء عملية التحول تتشكل معادن جديدة تكون مستقرة تحت درجة الحرارة المرتفعة والضغط.
- مجموع العمليات التي تتغير خلالها الصخور بشكل مستمر من نوع إلى آخر تسمى دورة الصخر.

في الميدان

الجزيرة العربية عبر العصور

يسافر بعض الناس إلى أماكن قاصية من العالم ليروا أنواعًا مختلفة من الصخور. ولا شك أن جزيرتنا العربية تتمتع بموقع فريد، وطبيعة جيولوجية خلابة تفرض فيها التشكيلات الجيولوجية نفسها؛ وتتكشف فيها سجلات صخرية لمعظم العصور الجيولوجية.

الأشجار المتحجرة



تزخر الجزيرة العربية بعدد من مناطق الأشجار المتحجرة، التي تدل على أنها كانت خضراء في العصور التي نمت فيها تلك الأشجار. ومن ذلك الأشجار المتحجرة المكتشفة في المملكة العربية السعودية، والتي تعود إلى العصر البيرمي، منذ 250 مليون سنة، وأخرى يعود عمرها إلى العصر الطباشيري منذ أكثر من 70 مليون سنة.

ومنها كذلك مجموعة من الأشجار المتحجرة لنوع من الصنوبر في بعض أجزاء صحراء الربع الخالي يرجع تاريخها إلى 50 مليون سنة.

وقد أشار رسول الله صلى الله عليه وسلم في حديثه الشريف عن أبي هريرة رضي الله عنه إلى أن أرض الجزيرة العربية كانت في السابق مليئة بالأشجار والمياه، فقال: لن تقوم الساعة حتى تعود أرض العرب مروجًا وأنهارًا.

الرواسب الجليدية



رواسب الجليديات
بالقرب من القوارة
بمنطقة القصيم

هل تصدق أن جزيرة العرب مرت عليها عصور جليدية تركت وراءها رواسب جليدية موجودة في وديان جليدية قديمة تشبه تلك الموجودة حاليًا في شمال كندا وشمال أوروبا. وقد تكونت تلك الرواسب الجليدية في العصر الأردوفيشي في مناطق مختلفة من الجزيرة العربية، مثل تلك الموجودة في منطقة القصيم في المملكة العربية السعودية، والتي تكونت منذ 450 مليون سنة، وهي تعد من الأمثلة النادرة على العصور الجليدية القديمة.

الجيولوجيا

الكتابة في

مطوية تعزيزية: ابحث عن مزيد من المعلومات عن أنواع الصخور الموجودة في منطقتك، والمستعملة في بناء المنشآت. اعمل مطوية تعزيزية تصف فيها رحلة تركت فيها على الجيولوجيا المحلية.

الربط مع رؤية ٢٠٣٠



مختبر الجيولوجيا

تفسير التغيرات في الصخور



جدول معلومات العينات						
رقم العينة	1	2	3	4	5	6
اسم الصخر ونوعه						
الخصائص						
المميزة						
الكتلة						
الحجم						
الكثافة						

خلفية علمية: مع استمرار دورة الصخور يتغير الصخر من نوع لآخر. بعض التغيرات يمكن ملاحظتها بالعين المجردة إلا أن بعضها الآخر لا يمكن ملاحظته. لون الصخر وحجم الحبيبات والنسيج والتركيب المعدني أشياء يمكن ملاحظتها ووصفها بسهولة. لكن مع تغير المعادن يتغير بناؤها البلوري وكثافتها. كيف يمكن تمثيل ووصف هذه التغيرات؟ ادرس زوجين من عينات الصخور ليتبين لك كيف يتم ذلك.

سؤال: كيف تقارن بين خصائص الصخور النارية والرسوبية وبين خصائص الصخور المتحولة؟

الأدوات

عينات من: صخر رملي، الطّفل، حجر جيري، جرانيت، كوارتزيت، أردواز، رخام، نايس.

عدسة يدوية

ورق

ميزان

مخبار مدرج حجم 100 mL أو كأس يتسع للعينه والماء.

إجراءات السلامة

خطوات العمل

- صف كيف تتغير حبيبات الكوارتز في الحجر الرملي في أثناء التحول.
- صف اختلاف النسيج الذي تراه بين الطّفل والأردواز.
- قارن بين نتائج حساباتك وحسابات زملائك، واستنتج أسباب اختلاف النتائج.
- وضح لماذا يمكن أن يختلف لون الصخور الرسوبية في أثناء عمليات التحول؟
- قوّم التغير في الكثافة بين كل من الطّفل والأردواز، الحجر الرملي والكوارتزيت، الحجر الجيري والرخام. هل حدث تغير في جميع العينات؟ فسر نتائجك.

- اقرأ نموذج السلامة في المختبر.
- حضر جدولاً لتسجيل البيانات كالجدول المجاور.
- لاحظ كل عينة وسجل ملاحظتك في الجدول.
- تذكر أن الكثافة = $\frac{\text{الكتلة}}{\text{الحجم}}$. ضع مخططاً لقياس كل من الحجم والكتلة لكل عينة.
- احسب كثافة كل عينة، وسجلها في الجدول.

شارك بياناتك

راجع مع أقرانك. ناقش نتائجك مع المجموعات الأخرى في الصف مع التركيز على المتغيرات: الكتلة والحجم والكثافة.

التحليل والاستنتاج

- قارن بين الحجر الرملي وبين الكوارتزيت.

الفكرة العامة تنشأ معظم الصخور من صخور سابقة لها من خلال عمليات جيولوجية خارجية أو داخلية.

المفاهيم الرئيسية

المفردات

3-1 تشكل الصخور الرسوبية

- الفكرة الرئيسية** تنشأ الصخور الرسوبية عن تصخر الرسوبيات الناتجة عن عمليتي التجوية والتعرية.
- تتضافر عمليات التجوية والتعرية والترسيب والتصخر لتكوين الصخور الرسوبية.
 - تتصخر الرسوبيات بعمليتي التراص والسمتة.
 - الأحافير هي كل ما يحفظ من بقايا أو طبقات أو أي آثار لمخلوقات عاشت في الماضي.
 - تحتوي الصخور الرسوبية على معالم مميزة كالتطبق المندرج والتطبق المتقاطع وعلامات النيم.

الرسوبيات
التصخر
الترأص
السمتة
مادة لاحمة
التطبق
التطبق المندرج
التطبق المتقاطع

3-2 أنواع الصخور الرسوبية

- الفكرة الرئيسية** تصنف الصخور الرسوبية بناء على طرائق تشكلها.
- الصخور الرسوبية تكون فتاتية أو كيميائية أو كيميائية حيوية.
 - الصخور الرسوبية الفتاتية تتكون من فتات صخري، وتصنف حسب حجم حبيباتها وأشكالها.
 - تتكون الصخور الرسوبية الكيميائية من ترسب معادن مذابة في الماء.
 - تتكون الصخور الرسوبية الكيميائية الحيوية من بقايا مخلوقات كانت تعيش في الزمن الماضي.
 - تفيد الصخور الرسوبية الجيولوجيين في معرفة الظروف التي سادت سطح الأرض في الزمن الماضي.

الصخور الرسوبية الفتاتية
الفتاتي
المسامية
الصخور الرسوبية الكيميائية
المتبخرات
الصخور الرسوبية الكيميائية
الحيوية

3-3 الصخور المتحولة

- الفكرة الرئيسية** تنشأ الصخور المتحولة عندما تتعرض صخور سابقة لها لزيادة الضغط والحرارة والمحاليل الحرارية المائية.
- الأنواع الرئيسة للتحويل هي التحويل الإقليمي والتحويل التماسي والتحويل الحراري المائي.
 - نسيجاً الصخور المتحولة هما المتورقة وغير المتورقة.
 - في أثناء عملية التحويل تتغير المعادن في صخر ما إلى معادن جديدة مستقرة تحت الظروف الجديدة من الحرارة والضغط.
 - دورة الصخر هي مجموعة العمليات المستمرة التي تؤثر في الصخور وتغيرها من نوع لآخر.

متورقة (صفائحية)
غير المتورقة (غير صفائحية)
التحويل الإقليمي
التحويل بالتماس
التحويل الحراري المائي
دورة الصخر

استعمل الشكل الآتي للإجابة عن السؤالين؛ 12 و 13.



مراجعة المفردات

أكمل الجملتين الآتيتين مستعملًا المفردات المناسبة:

التصخر

1. ينتج عن تراص الرسوبيات الفتاتية والتحامها.....
2. تدعى طبقات الصخور الرسوبية التي ترسب مائلة على السطح الأفقي.. **التطبق المتقاطع**

ضع المصطلح الصحيح بدلاً من الكلمة التي تحتها خط:

التطبق المتدرج

3. تحدث السمتة في أثناء استقرار الرسوبيات بتناقص طاقة المياه.
4. تتكوّن الصخور المتحولة الصفائحية من بلورات كتلية الشكل. **غير المتورقة**

اكتب جملة تستعمل فيها زوج الكلمات في كل مما يأتي:

- ج5: لبعض الصخور الرسوبية الفتاتية مسامية عالية
- ج6: عندما يترسب الراسب في طبقات أفقية يتشكل **التطبق**
- ج7: المتبخرات ليست من الصخور الفتاتية

تثبيت المفاهيم الرئيسية

12. ما المصطلح الأفضل لوصف نسيج هذا الصخر؟

- a. متبلور
b. غير متورق
c. متورق
d. فتاتي

13. أي صخر ناري يشكل تحوله العينة أعلاه عادة؟

- a. الديورايت
b. البازلت
c. الجرانيت
d. الجابرو

14. أي مما يأتي تتوقع أن تكون مساميته أكبر؟

- a. الحجر الرملي
b. الناييس
c. الحجر الجيري
d. الكوارتزيت

15. أيّ عوامل التعرية ينقل عادة فتاتًا بحجم حبيبات الرمل أو أقل من ذلك فقط؟

- a. الانزلاقات الأرضية
b. الجليديات
c. الماء
d. الرياح

16. أيّ العمليات مسؤولة عن إذابة ونقل المواد من مكان إلى آخر؟

- a. التجوية
b. التعرية
c. الترسيب
d. السمتة

أسئلة بتائية

استخدم الشكل الآتي للإجابة عن السؤال 17.

- ج17: في أثناء حركة المياه الجوفية خلال الرسوبيات تترسب المعادن الذائبة في المياه على الحبيبات فتربط الحبيبات بعضها مع بعض
- ج18: تتكون الكوكينا من أصداف حديثة ملتحمة بعضها في حين يتكون الحجر الجيري الأحفوري من أصداف أحافير ملتحمة بالطين الكربوناتي

8. ما الراسب الفتاتي الذي حجم حبيباته أصغر فيما يأتي؟

- a. الرمل
b. الطين
c. الحصى
d. حجر الطمي

9. ما الصخر الفتاتي الخشن الحبيبات الذي يحوي قطعًا مدببة؟

- a. الحجر الجيري
b. الكونجلوميرات
c. الحجر الرملي
d. البريشيا

10. ما الصخر الحيوي الكيميائي الذي يحوي أحافير؟

- a. الصوان
b. الحجر الجيري
c. الحجر الرملي
d. البريشيا

11. أيّ مما يأتي ليس من عوامل التحول؟

- a. التصخر
b. المحاليل الحرارية المائية
c. الحرارة
d. الضغط.

ج29: تعد الأحافير دليلا على القديمة، آثار أقدام الحيوانات دليل على ذلك؛ أما علامات النيم فلا تعد دليلا على ذلك

ج30: هذا التطبيق من نوع التطبيق المتدرج وهو جيد الفرز لأن حجم حبيباته يزداد كلما اتجهنا إلى أسفل

ج31: يمكن لجميع عوامل الطقس أن تحمل حبات مختلفة الحجم غير أن الرياح والمياه هما فقط القادران على فرز الرسوبيات في أثناء النقل، فعندما تنخفض سرعة المياه والرياح تفقد جزءا من طاقتها فتترسب الحبيبات الكبيرة وتشكل التطبيق المتدرج

ج32: قساوة الزجاج تساوي 5.5 وقساوة الرمل الكوارتزي تساوي 7 لذا من السهل إعادة تشكيل الزجاج وصقله أما الرمل الكربوناتي فمكون من معدن الكالسيت الذي بلغ قساوته 2 لذا لا يمكن صقل الزجاج. ويبقى الزجاج حادا

ج33: يمكن ربط المصطلحات على النحو الآتي

تطبق أفقي؛ ترسيب مائي؛ ترسيب رياحي
تطبق متدرج؛ ترسيب المياه؛ علامات النيم؛
ترسيب المياه أوترسيب الرياح؛ تيار نهري؛
غير متماثل. حركة الأمواج؛ متماثل

ج34: تنخفض درجة حرارة المياه بزيادة العمق، ثم تذوب كربونات الكالسيوم في المياه الباردة؛ لذا لا تترسب على هذا العمق وعند درجة الحرارة تلك

ج20: يجب أن يظهر الرسم صخرا به معادن طولية أو مسطحة؛ وضغطا يؤثر في اتجاهين متضادين عموديين في اتجاه المعادن الطولية في الصخر
ج21: يتصخر الرمل غالبا بعملية السمنتة؛ في حين يتصخر الطين بالتراص

ج22: سينة الفرز: الرسوبيات الجليدية؛ مواد الانزلاقات الأرضية؛ أما جيدة الفرز: فهي الكثبان الرملية؛ ورمال الشواطئ

ج23: يؤدي ترسب هذه المعادن إلى سمنتة الرسوبيات الفتاتية ثم تصخرها

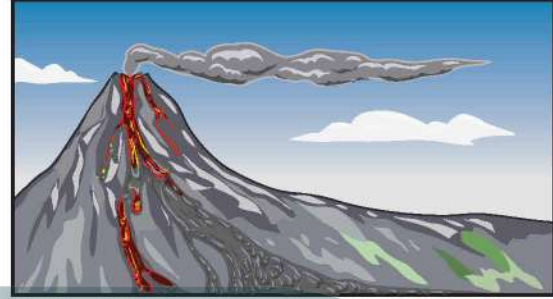
ج24: قطع صخرية مستديرة؛ نقلت من مسافات كبيرة؛ بينما البريشيا: قطع صخرية ذات حواف مدببة تتشكل قريبا من مصدر الرسوبيات؛ ويتبعان الفئة الحجمية نفسها؛ وغالبا ما يحتويان على الكثير من الكوارتز والكوارتزيت

ج25: سوف لا تحوي مياه هذا الحوض هذا التركيز العالي من الملح؛ بسبب إضافة المياه إليه باستمرار مما يحول دون تشكل المتبخرات بسمك كبير
ج26: يتكون الرخام من بلورات كالسيت كتلية متساوية الأبعاد هي ليست طولية أو مسطحة؛ لذلك لا تشكل تورقا

ج27: يوصي علماء الرسوبيات بالرمل والحصي حسب الاستعمال المطلوب، فإذا برزت الحاجة إلى رمل عالي المسامية فإنهم لا يوصون بمخلوط الرمل والرسوبيات

اختيار من متعدد

استعمل الشكل الآتي للإجابة عن السؤالين 1 و2.



1. ما الصخور الأكثر احتمالاً أن تتحول بسبب انسيابات اللابة؟
a. الصخور التي في فوهة البركان؛ حيث تكون اللابة أسخن.

b. الصخور التي في الفوهة والصخور الواقعة على طول الجزء العلوي من الجبل.

c. جميع الصخور التي على الجبل.

d. جميع الصخور التي يصلها انسياب اللابة.

2. ما نوع الصخر الذي يتشكّل، بعد أن تبرد اللابة وتبلور؟

a. الرسوي

b. المتحول

c. الناري السطحي

d. الناري الجوفي

3. ما الاسم الشائع لـ NaCl؟

c. ماء

a. ملح الطعام

b. سكر

d. كلور طبيعي

4. ما الخطوة الأولى التي تبدأ بها عملية تغير الرسوبيات إلى صخور رسوبية؟

c. السمّنة

a. التطبيق

d. التراصّ

b. الدفن

5. ما الصخور المتحولة المكونة من معادن ذات بلورات كتلية الشكل؟

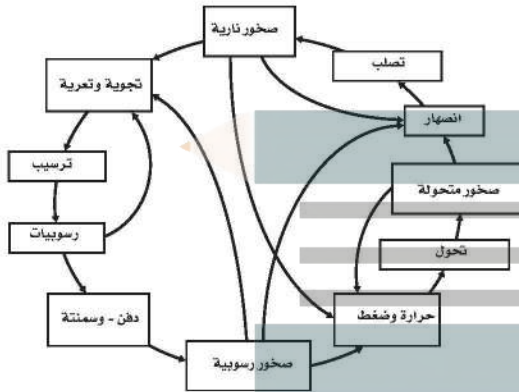
a. المتورقة

c. الناييس

d. الشيست

b. غير المتورقة

استعمل الشكل الآتي في الإجابة عن السؤالين 6 و7.



6. بناء على المخطط أعلاه، كيف تتكون الصخور النارية؟

a. ارتفاع في درجات الحرارة والضغط لصخور موجودة، دون حدوث انصهار لها.

b. انصهار لصخور موجودة، ثم تصلبها.

c. دفن وسمّنة للرسوبيات، ثم تصلبها.

d. تجوية وتعرية للصخور، ثم تصلبها.

7. اعتماداً على دورة الصخر الموضحة أعلاه، ما الاحتمال الذي تتوقع حدوثه أكثر، بعد توضع الرسوبيات؟

a. تشكّل التجوية المزيد من الرسوبيات.

b. تبرّد الصهارة وتشكّل صخوراً نارية.

c. تتسبب الحرارة والضغط في صهر الرسوبيات

d. تحدث السمّنة وتشكّل الصخور الرسوبية.

ج8: تصبح الرسوبيات أكثر تراصا عندما تقل الفراغات بينها
ج9: هذه هي عملية التراص ففي التراص يصغر الفراغ بين الرسوبيات؛ في حين تتماسك الرسوبيات في السمتمنة عندما تتبلور المعادن بين حبيباتها
ج10: يترط للطالب

استعن بالشكل والجدول الآتي للإجابة عن السؤالين 11 و 12

عمر طبقات الصخور الرسوبية			
الطبقة	المكونات	العمر المقدر (بالسنوات)	العمق (بالمتر)
M	صخور رسوبية	100,000	0 – 4.95
N	صخور رسوبية	غير معروف	5 – 7.95
O	صخور رسوبية	6 ملايين	8 – 8.95
P	صخور رسوبية	6.1 مليون	9 – 10

11. ما الذي كان ينبغي على علماء الأحافير تسجيله لتحسين نوعية المعلومات؟

a. الوقت من السنة

b. عمر الطبقة N

c. تحديد موقع العمل

d. كتلة الصخور الرسوبية.

12. إذا وجدت نوعاً من الأحافير في الطبقتين P و O ولم تجده في الطبقتين M و N فماذا تستنتج؟

a. لا يعيش النوع في أي مكان من الأرض في الوقت الحاضر.

b. اختفى وصاد نوع آخر بدلاً عنه

c. لقد انقرض النوع قبل أقل من 100,000 سنة مضت.

d. لقد اختفى النوع من المنطقة قبل 6 ملايين سنة تقريباً.

8. ما الذي تلاحظه في تشكّل الصخر الرسوبي أعلاه؟

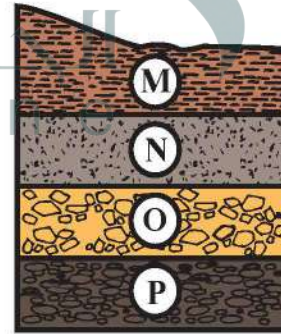
9. هل تمثل هذه العملية التراص أم السمتمنة؟ صف الفرق بين العمليتين.


10. كيف تُساعد دراسة طبقات الصخور الرسوبية وفهم كيفية تشكّلها علماء الأحافير في تعرّف تاريخ الأرض؟

القراءة والاستيعاب

طبقات الصخور الرسوبية

يرغب علماء الأحافير في دراسة طبقات الصخور الرسوبية ومكوناتها في منطقة معينة. ويوضح الشكل أدناه مقطعاً طويلاً لطبقات صخور مدروسة. أما الجدول فيوضح المعلومات التي استطاع العلماء جمعها.





الفكرة العامة يسهم الهطول والرشح في تكوين المياه الجوفية وخبزنها في خزانات في باطن الأرض إلى أن تعود إلى السطح على شكل ينابيع، أو من خلال سحبها من الآبار الارتوازية.

1-4 حركة المياه الجوفية وتخزينها

الفكرة الرئيسة تزود خزانات المياه الجوفية الجداول والينابيع الطبيعية والمناطق بالمياه حيثما يتقاطع منسوبها مع سطح الأرض.

2-4 موارد المياه الجوفية

الفكرة الرئيسة لا تتوافر المياه الجوفية دائماً بالكميات والمواقع المطلوبة حيثما نحتاجها، وإن وجدت فأحياناً ما تكون ملوثة.

حقائق جيولوجية

- يقع ينبوع ذي عين في قرية ذي عين الأثرية جنوب غرب مدينة الباحة على بعد 24 km منها.
- يُعد ينبوع ذي عين من الينابيع دائمة التدفق طوال العام.
- تستخدم مياه الينبوع في ري مزارع القرية وبخاصة الموز.

المخاطر التي تواجه المياه الجوفية
اعمل هذه المطوية لتلخيص المشكلات
الرئيسة التي تهدد المياه الجوفية.

المطويات

منظمات الأفكار



الخطوة 1: اثن الورقة من منتصفها
طوليًا.



الخطوة 2: اثن الورقة إلى نصفين،
واثن كل نصف إلى ثلاثة أقسام.



الخطوة 3: أعد الورقة كما هي
وقصها على منطقة الثني حتى الخط
الذي يقسم الورقة إلى نصفين،
ستحصل على ستة ألسنة.



الخطوة 4: اكتب على كل لسان
مشكلة من المشكلات التي تهدد مصادر
المياه الجوفية كما تلاحظ في الشكل.

استخدم هذه المطوية في أثناء دراستك للقسم 2-4، ولخص فيها
المشكلات التي تهدد المياه الجوفية.

تجربة استهلاكية

كيف تُخزن المياه في جوف الأرض؟

ربما يوجد تحت قدميك كميات هائلة من المياه في الفراغات
بين الحبيبات في الصخور والرسوبيات المفككة والصدوع.
ستقوم في هذا النشاط بعمل نموذج لخزان المياه الجوفية.



الخطوات

1. اقرأ نموذج السلامة في المختبر.
2. املاً مخبرًا مدرجًا سعته 250 mL رملاً ناعماً جافاً.
3. املاً مخبرًا مدرجًا آخر سعته 250 mL ماءً.
4. اسكب الماء من المخبر الثاني في المخبر المدرج
الأول الذي يحتوي على الرمل، حتى يصل إلى
مستوى سطح الرمل. سجل قراءة حجم الرمل
المشبع بالماء.
5. قس كمية المياه المتبقية في المخبر المدرج الثاني وسجلها.
6. كرر خطوات التجربة مرتين: مستخدمًا الرمل
الخشن والطين.

التحليل

1. حدد كمية المياه الموجودة في كل من الرمل الناعم
والرمل الخشن والطين بعد أن أصبح كل منهم
مشبعًا بالماء.
2. احسب النسبة بين حجوم المياه إلى حجم كل من
الرمل الناعم، والرمل الخشن، والطين وعبر عن
هذه القيم في صورة نسبة مئوية.
3. استدل على حجم المياه بالتر، التي يمكن تخزينها في
1m³ لكل نوع من الرسوبيات (الرمل الناعم،
والرمل الخشن، والطين).

حركة المياه الجوفية وتخزينها

Movement and Storage of Groundwater

الفكرة الرئيسية تزود خزانات المياه الجوفية الجداول والينابيع الطبيعية والمناطق بالمياه حيثما يتقاطع منسوبها مع سطح الأرض.

الربط مع الحياة. هل لاحظت ينبوع ماء يتدفق مدة طويلة دون وجود أمطار؟ لا شك أن مياه الأمطار تسهم في تدفق مياه الينابيع، لكن المصدر الأكبر لهذه المياه يأتي من تحت سطح الأرض.

الأهداف

- تصف كيف يرتبط كل من تخزين المياه الجوفية وحركتها مع دورة الماء في الطبيعة.
- توضح المقصود بالخزان المائي الجوفي والطبقة العازلة.
- ترتبط بين مكونات الخزان المائي الجوفي ووجود الينابيع.

مراجعة المفردات

الدورة المائية: الحركة الدورانية الطبيعية المستمرة للماء ضمن أنظمة الأرض.

The Hydrosphere الغلاف المائي

المياه الموجودة في القشرة الأرضية وعلى سطحها وفي الغلاف الجوي تشكل الغلاف المائي. وقد درست سابقاً في إطار أنظمة الأرض التي تضم كلاً من الغلاف الصخري والمائي والجوي والحيوي، أن مياه المحيطات تشكل 97% تقريباً من الغلاف المائي، بينما تشكل مياه اليابسة 3% تقريباً من الغلاف المائي، ومعظمها مياه عذبة.

وتعد المياه العذبة أكثر الموارد المتجددة أهمية وشيوعاً، وعلى الرغم من أن معظم المياه العذبة (70-80%) مخزنة على هيئة غطاء جليدي وجليديات إلا أن مياه الأنهار والجداول المائية والبحيرات تمثل جزءاً يسيراً من المياه العذبة السائلة، كما في الجدول 4-1. تذكر ما درسته سابقاً من أن الماء في الغلاف المائي يتحرك ضمن دورة الماء في الطبيعة.

المفردات الجديدة

- شرح نطاق الإشباع
- منسوب الماء
- نطاق التهوية
- النفاذية
- الخزان المائي الجوفي
- الطبقة العازلة (الصماء)
- ينبوع
- ينبوع ساخن
- الينابيع الفوارة

الجدول 4-1 مصادر المياه على الأرض

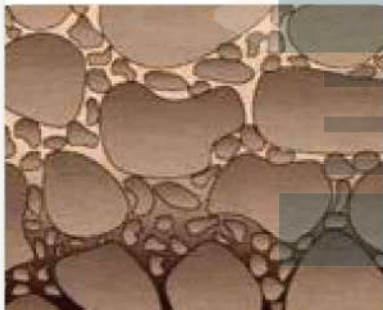
الموقع	النسبة المئوية للمياه الكلية	حجم المياه (km ³)	تقديرات متوسط زمن وجود المياه
المحيطات	97.2	1230000000	3200 سنة
الغطاء الجليدي والجليديات	2.15	28600000	20000 سنة
المياه الجوفية	0.62	800000	200 - 20000 سنة
البحيرات	0.009	123000	عشرات السنوات
الغلاف الجوي	0.001	12700	9 أيام
الأنهار والجداول المائية	0.0001	1200	أسبوعان

الشكل 1-4 تعتمد المسامية على حجم حبيبات المادة وتنوعها. قارن بين المساميات المبينة في كل عينة.

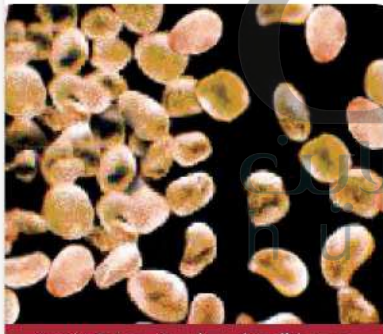
مسامية العينة غير المشروزة في الوسط هي الأقل بينما تكون مسامية الرمل كبيرة الحبيبات أكبر قليلا من مسامية الرمل الناعم الحبيبات



حبيبات رمل كبيرة جيدة الفرز



حبيبات رمل رديئة الفرز



حبيبات رمل صغيرة جيدة الفرز

المياه الجوفية والهطول

Groundwater and Precipitation

تعد المحيطات المصدر الرئيس لجميع المياه على سطح الأرض. تبخر المياه خلال دورة الماء في الطبيعة إلى الغلاف الجوي على شكل بخار ماء وغيوم، ثم تقوم الرياح وأنظمة الطقس بنقل رطوبة الجو إلى جميع أنحاء الأرض، حيث يتركز معظمها فوق اليابسة (القارات)، ويحصل الهطول الذي يمثل عودة الماء إلى سطح الأرض. لاحظ أن بعض الهطول يحدث فوق المحيط مباشرة والبعض الآخر يحدث فوق اليابسة. وقد قال الله تعالى في كتابه العزيز يصف أهمية الماء: ﴿وَمِنْ آيَاتِهِ أَنْ تَرَى الْأَرْضَ خَاشِعَةً فَإِذَا أَنْزَلْنَا عَلَيْهَا الْمَاءَ اهْتَزَّتْ وَرَبَّتْ إِنَّ الَّذِي آخَاَهَا لَمَجِي الْمَوْقِعِ إِنَّهُ عَلَى كُلِّ شَيْءٍ قَدِيرٌ ﴿٣١﴾ فصلت.

وتسمى عملية تسرب مياه الأمطار بعد سقوطها على اليابسة إلى جوف الأرض بالرشح **Infiltration**، وتصبح مياهًا جوفية، بينما يجري جزء بسيط من مياه الأمطار على سطح الأرض في صورة جداول مائية وأنهار تعود مباشرة إلى المحيطات، وتتحرك المياه الجوفية في باطن الأرض حركة بطيئة وتعود في النهاية إلى السطح من خلال الينابيع (العيون)، وتنساب على شكل جداول مائية في المناطق الرطبة، ثم تتدفق عائدة إلى المحيطات.

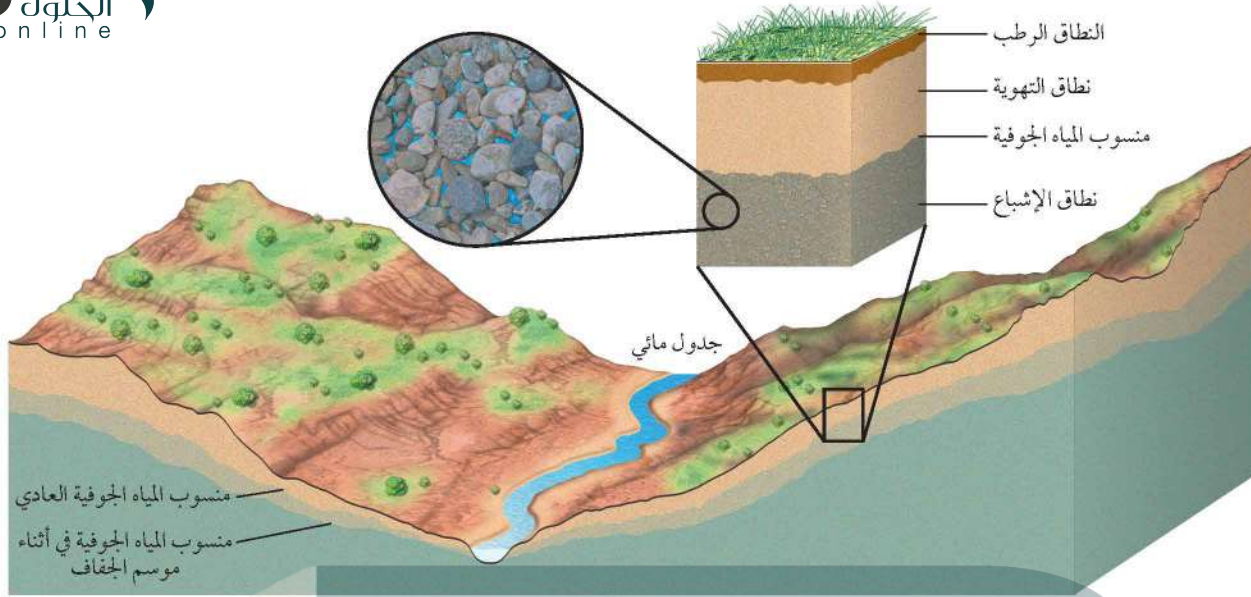
✓ **ماذا قرأت؟ تعرّف ما المصدر الرئيس لجميع المياه على اليابسة؟**

المصدر الرئيس لجميع المياه على سطح الأرض هي البحار والمحيطات

تخزين المياه الجوفية Groundwater Storage

لوحظ أن البرك الصغيرة جدًا التي تنشأ عن تجمع مياه الأمطار تختفي بسرعة؛ إذ ترشح جزئيًا إلى باطن الأرض. ففي التربة الرملية غالبًا ما تتسرب المياه نحو الأسفل بسرعة. فأين تذهب هذه المياه؟ إنها تتجمع في الفراغات الصغيرة في باطن الأرض. وعلى الرغم من أن قشرة الأرض تبدو صلبة مضمتمة إلا أن التربة والرسوبيات والصخور فيها عدد لا يحصى من الفراغات الصغيرة التي تسمى المسامات.

تشكل المسامات نسبة كبيرة من بعض الصخور. ويسمى الحجم الكلي للمسامات في الصخر المسامية. وكلما زادت مسامية الصخر سهّل تدفق الماء من خلاله إذا كانت مساماته متصلة. وتتراوح مسامية الصخور تحت السطحية بين 2% إلى أكثر من 50%. فعلى سبيل المثال، مسامية الرمل جيد الفرز 30%، ولكن في الرسوبيات رديئة الفرز تحتل المكونات صغيرة الحجم جزءًا من المسامات، ولذلك تقلل من المسامية الكلية للرسوبيات. انظر الشكل 1-4. وبالمثل فإن المادة اللاصقة التي تعمل على تماسك الحبيبات في الصخور الرسوبية معًا تقلل من مسامية الصخر. وتكون كميات المياه المختزنة في المسامات كبيرة جدًا؛ لأن حجم الرسوبيات والصخور تحت سطح الأرض ضخم جدًا.



الشكل 2-4 يبين نطاق الإشباع في منطقة تحت سطح الأرض.

صف النطاق الذي يعلو نطاق الإشباع.

تسمى المنطقة تحت سطح الأرض المملوءة مساماتها تمامًا بالمياه الجوفية **نطاق الإشباع Zone of saturation**، ويسمى الحد العلوي لهذا النطاق **منسوب الماء Water table**. انظر الشكل 2-4. وفي نطاق التهوية **Zone of aeration** الذي يعلو منسوب الماء تكون الصخور رطبة، ولكن مساماتها غير مشبعة بالمياه، لذا يحتل الهواء جزءًا كبيرًا منها.

حركة المياه Water movement يمكن تصنيف المياه الموجودة في نطاقي الإشباع والتهوية إلى مياه جاذبية ومياه شعرية. ومياه الجاذبية هي المياه التي تتحرك إلى أسفل نتيجة الجاذبية الأرضية. أما المياه الشعرية فهي المياه التي تُسحب إلى أعلى بفعل الخاصية الشعرية، وهي موجودة فوق منسوب الماء؛ إذ تُحتجز داخل مسامات الصخور والرسوبيات بسبب التوتر السطحي. ويمكن ملاحظة فعل الخاصية الشعرية عندما نضع طرف ورق التنشيف على سطح الماء، حيث يظهر الماء وكأنه يرتفع إلى أعلى من خلال ورق التنشيف.

منسوب المياه الجوفية The water table يتفاوت عمق منسوب الماء في معظم الأحيان اعتمادًا على الظروف المحلية. ففي الجداول المائية على سبيل المثال يكون منسوب الماء قريبًا من سطح الأرض؛ إذ يصل عمق الماء إلى عدة أمتار فقط. أما في مناطق البرك فيصل منسوب الماء إلى مستوى سطح الأرض، بينما في مناطق أعلى التلال أو في المناطق الجافة يتراوح عمق منسوب الماء بين عشرات الأمتار ومئات الأمتار أو يزيد. ويوضح الشكل 2-4 كيف يأخذ شكل منسوب المياه الجوفية شكل تضاريس السطح فوقه. فعلى سبيل المثال، ينطبق شكل انحدار منسوب المياه الجوفية مع شكل الوديان والتلال التي تعلوه على سطح الأرض. ولما كان منسوب الماء يعتمد على الهطول، لذا فهو يتذبذب فصلياً وتبعاً لظروف الطقس الأخرى؛ إذ يرتفع في الفصول الرطبة وخصوصًا في فصل الشتاء، وينخفض في فصل الصيف الجاف.

يقع نطاق التهوية فوق نطاق الإشباع؛ ومنسوب المياه الجوفية هو الحد بين هذين النطاقين

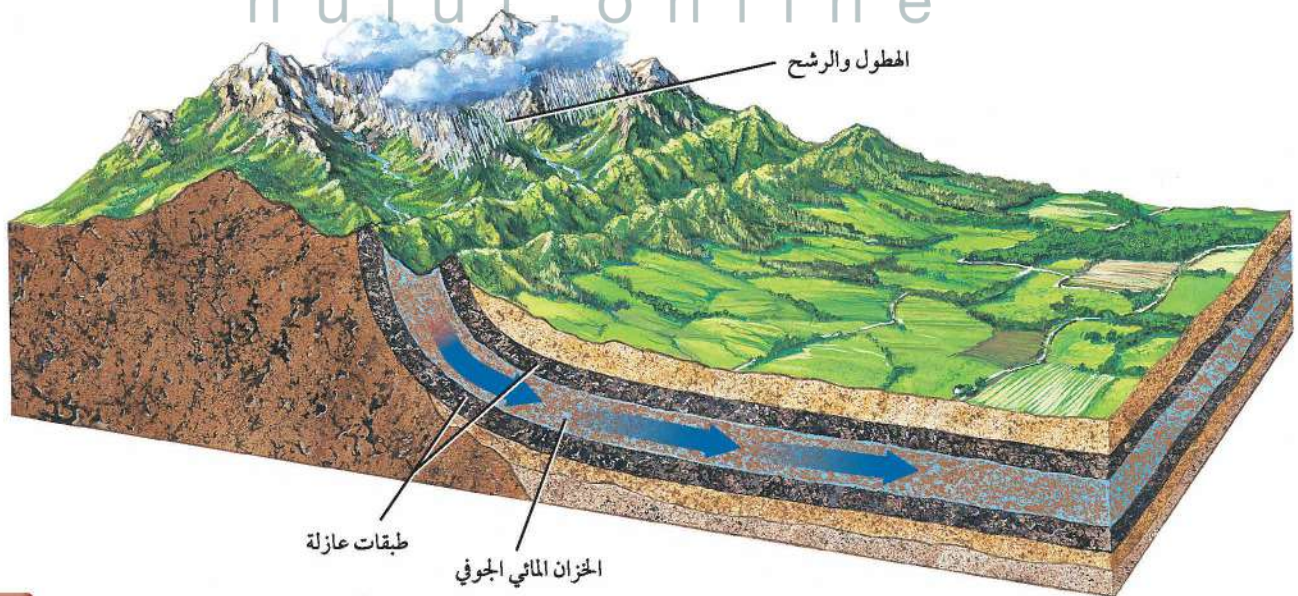
حركة المياه الجوفية Groundwater Movement

تنساب المياه الجوفية من أعلى إلى أسفل في اتجاه ميل منسوب الماء، وعادة ما تكون هذه الحركة بطيئة؛ لأن المياه الجوفية تنساب في خلال عدد كبير من المسامات الدقيقة في المواد تحت السطح. وتسمى قابلية المادة لإنفاذ الماء من خلالها **النفاذية Permeability**. بينما المواد التي حبيباتها كبيرة ومساماتها متصلة - ومنها الرمل والحصى - تكون نفاذيتها كبيرة، وتسمح بمرور المياه الجوفية خلالها بسرعة أكبر، وتتراوح نفاذية الصخور عادةً ما بين 1 متر في اليوم إلى 1 متر في السنة.

النفاذية Permeability تسمى الصخور والرسوبيات المنفذة للمياه الجوفية **الخزان المائي الجوفي Aquifers**. انظر الشكل 3-4. حيث تكون مسامات صخور الخزان المائي الجوفي كبيرة ومتصلة، ومن أمثلتها الرمل. أما الصخور والرسوبيات التي تتكون من حبيبات صغيرة فإن مساماتها صغيرة ونفاذيتها قليلة وتسمى صخوراً غير منفذة، وتسمى الطبقات غير المنفذة التي تحجز الماء وتمنعه من التدفق الطبقة العازلة (الصماء) **Aquicludes**. ويكون انسياب المياه الجوفية فيها بطيئاً، ويقاس غالباً بالملمترات في اليوم. ويعد حجر الطمي والطفل والطين أمثلة على الصخور غير المنفذة؛ فالطين غير منفذ؛ لأن حبيباته دقيقة ومتراصة، وتعمل على الاحتفاظ بالماء، ولهذا السبب يُستخدم الطين طبقة مبطنة في البرك الاصطناعية، وفي مكاب النفايات.

سرعة التدفق Flow velocity تعتمد سرعة تدفق المياه الجوفية على انحدار منسوب المياه الجوفية ونفاذية الصخر التي تتدفق المياه الجوفية من خلاله. وتقوم قوة الجاذبية بسحب المياه إلى أسفل، ويزداد التدفق عندما يكون انحدار منسوب الماء شديداً، كما يتدفق الماء أسرع خلال الفتحات الكبيرة، مقارنة بسرعه خلال الفتحات الصغيرة. وتتناسب سرعة تدفق المياه الجوفية طردياً مع كل من انحدار منسوب المياه الجوفية ونفاذية المادة التي يتدفق الماء من خلالها.

الشكل 3-4 الخزان المائي الجوفي طبقة مكونة من صخور منفذة ومشبعة بالماء، ويقع هذا الخزان المائي الجوفي بين طبقتين غير منفذتين تسميان طبقتين عازلتين.





الشكل 4-4 توجد الينابيع عند نقاط تقاطع منسوب المياه الجوفية مع سطح الأرض.

الينابيع (العيون) Springs

تتحرك المياه الجوفية ببطء وباستمرار خلال الخزان المائي الجوفي، وتعود في النهاية إلى سطح الأرض. وفي معظم الأحيان تخرج المياه الجوفية من مكان تقاطع منسوبها مع سطح الأرض. ومثل هذه التقاطعات غالباً ما توجد في المناطق المنحدرة. ويعتمد مكان خروج المياه الجوفية إلى السطح على ترتيب طبقات الخزان المائي الجوفي والطبقات العازلة في المنطقة.

✓ **ماذا قرأت؟** وضح كيف يؤثر انحدار اليابسة في أماكن الينابيع.

إرشادات الدراسة

الكتابة بالمشاركة

اكتب تقريراً حول أحد الينابيع في المملكة العربية السعودية من حيث اسمه وكيفية تدفقه، ومكان وجوده وأهميته السياحية أو الزراعية.

(يمكن أن يؤثر انحدار اليابسة) سطح الأرض في المكان الذي يتدفق منه الماء الجوفي؛ لأن الينابيع تتدفق حيثما يتقاطع منسوب الماء مع سطح الأرض؛ وتوجد هذه التقاطعات في المناطق التي تنحدر فيها اليابسة

الأرض في منطقة التماس بينهما. انظر الشكل 4-4. يسمى هذا التصريف الطبيعي للمياه الجوفية بالينابيع Springs.

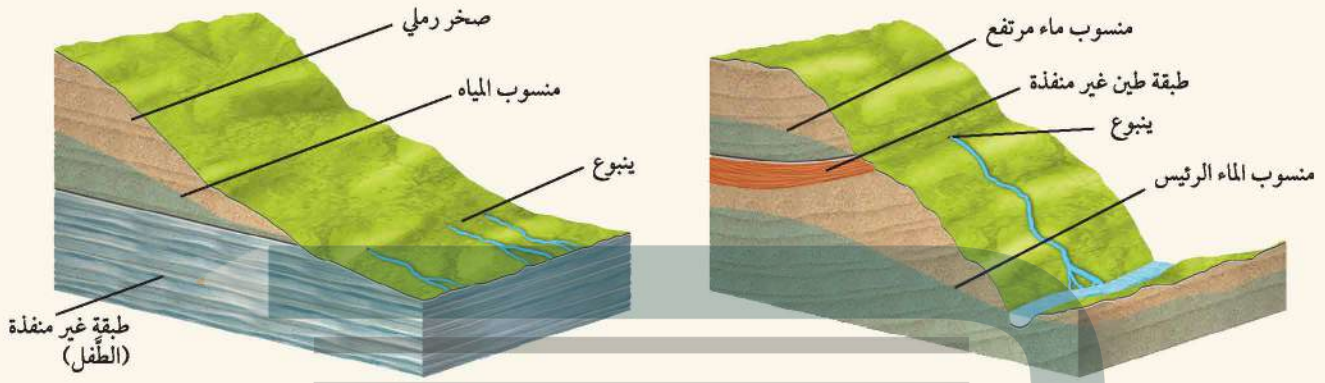
كما يمكن أن تخرج الينابيع عند طرف منسوب المياه الجوفية المرتفع؛ فنطاق الإشباع الذي يعلو الطبقة العازلة يفصل بين مستوى المياه الجوفية للطبقة المعلقة ومنسوب المياه الجوفية الرئيس الذي يقع أسفل منه. وهناك مناطق أخرى تخرج منها الينابيع على امتداد الصدوع.

انبثاق الينابيع Emergence of springs قد يكون الماء المتدفق من الينابيع في صورة نز أو تسرب، وقد يشكّل جدولاً. هناك مثلاً ينابيع كبيرة تسمى ينابيع الكارست ينبثق منها نهر كامل. وتوجد ينابيع الكارست في المناطق التي تتكون من الحجر الجيري؛ حيث تتغذى مياه الينابيع من ممرات تحت الأرض. أما في المناطق التي تتكون من صخور رسوبية أفقية فيتدفق الينابيع على جوانب الوديان من قاعدة الخزان المائي الجوفي، وعلى ارتفاع واحد. كما يظهر في الشكل 4-5. وقد قال الله تعالى: ﴿ أَلَمْ تَرَ أَنَّ اللَّهَ أَنْزَلَ مِنَ السَّمَاءِ مَاءً فَسَلَكَهُ يَنْبِيعٌ فِي الْأَرْضِ ﴾ الزمر (٢١).

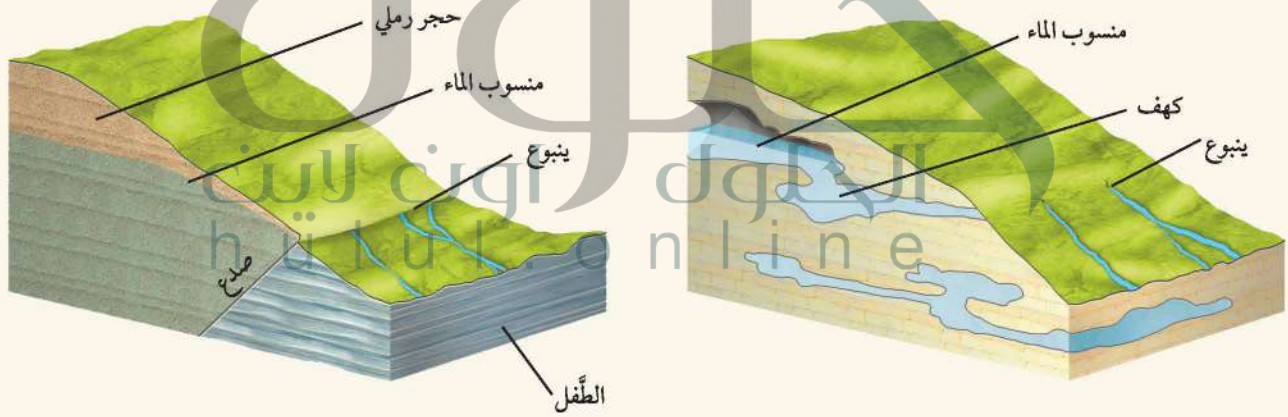
الينابيع Springs

الشكل 4-5 تتكون الينابيع نتيجة خروج المياه الجوفية إلى سطح الأرض، وتشكل نتيجة تقاطع منسوب الماء مع سطح الأرض، ويمكن للينابيع أن يتشكل بطرائق مختلفة.

قارن بين نشأة أنواع الينابيع الأربعة.



يؤدي وجود طبقات غير منفذة - ومنها الطفل - فوق الخزان المائي الجوفي إلى تكوين منسوب الماء المرتفع. تتكون الينابيع نتيجة التقاء طبقة منفذة مع طبقة غير منفذة.



تتكون بعض الينابيع في مناطق الصدوع، حيث تؤدي هذه الصدوع إلى التقاء نوعين مختلفين من الطبقات؛ كأن تلتقي طبقة صخرية مسامية مع أخرى غير مسامية.

تتكون الينابيع الجيرية (Karst) في المناطق التي تعمل فيها المياه الجوفية على تجوية طبقة الحجر الجيري؛ حيث تنبع المياه من الكهوف المتصلة في جوف الأرض، فتصل إلى سطح الأرض.

ج1: عندما يهطل الماء ويرشح إلى باطن الأرض فإنه ينضم إلى المياه الجوفية وعندما يتدفق الماء الجوفي من الينابيع والآبار ينضم إلى المياه الجارية ويمكن أن يعود في النهاية إلى المحيط

ج2: تتنوع الرسوم، يجب أن تتضمن الإجابات: ينبوع ينبثق من خزان جوفي يعلو الطبقة العازلة، وكلاهما يقطع منسوب سطح الأرض

ج3: يمكن أن يسخن الماء الجوفي عندما يمر في صخور تحت سطح الأرض سسختن بفعل نشاط ناري حديث ويميل الماء الجوفي الساخن للصعود إلى الأعلى؛ لأن كثافته أقل من كثافة الماء البارد

ج4: يحدد معدل التدفق بمقدار انحدار منسوب المياه الحوفية ونفاذية التربة أو الصخور

ج5: تعتمد مسامية مادة ما على كمية الفراغات البيئية فيها، في حين تعتمد النفاذية على قابلية الماء للتدفق عبر الفراغات البيئية للمادة ولكي تكون الطبقة نافذة يجب أن تكون فراغاتها البيئية متصلة

ج6: تساعد الطبقة العازلة على جمع الماء الراشح ومنعه من التسرب عميقاً في باطن الأرض مُسهّلة بذلك وصوله إلى الآبار

ج7: يترك للطالب

1. الفكرة الرئيسة وضح كيف ترتبط حركة المياه الجوفية مع دورة الماء في الطبيعة؟
 2. وضح بالرسم كيف تؤدي المواقع النسيبة لكل من الخزان المائي الجوفي والطبقة العازلة إلى وجود الينابيع؟
 3. صف كيف تصبح مياه الينابيع ساخنة؟
 4. حلل العوامل التي تحدد سرعة التدفق.
- التفكير الناقد**
5. قارن بين المسامية والنفاذية للمواد تحت السطحية.
 6. استدل لماذا يعد وجود الطبقة العازلة أسفل الخزان المائي الجوفي ذات فائدة كبيرة للمجتمع؟
- الكتابة في الجيولوجيا**
7. طور مجموعة من الإشارات تصف فيها أفضل الأماكن للبحث عن المياه الجوفية.
- ترشح بعض مياه الهطول إلى جوف الأرض فتصبح مياهًا جوفية.
 - تخزن المياه الجوفية في مسامات الصخور والرسوبيات وتوجد أسفل منسوب الماء.
 - تتحرك المياه خلال طبقات منفذة تسمى الخزان المائي الجوفي، ويتم احتجازها بطبقات غير منفذة تدعى الطبقات العازلة.
 - تنبع المياه الجوفية حيثما يتقاطع منسوبها مع سطح الأرض.

الأهداف

- توضح كيف يتم سحب المياه الجوفية من خزاناتها عن طريق الآبار.
- تصف المشكلات الرئيسية التي تهدد موارد المياه الجوفية.

مراجعة المفردات

الجريان السطحي: انسياب المياه من أعلى إلى أسفل على طول سطح الأرض.

المفردات الجديدة

الآبار

الضخ الجائر

الهبوط في منسوب المياه الجوفية

تغذية المياه الجوفية

البئر الارتوازية

موارد المياه الجوفية

Groundwater Supply

الفكرة الرئيسية لا تتوافر المياه الجوفية دائمًا بالكميات والمواقع المطلوبة حيثما نحتاجها، وإن وجدت فأحيانًا ما تكون ملوثة.

الربط مع الحياة من لديه حساب في البنك، فهل يمكنه سحب نقود كما يشاء؟ بالطبع لا. وكذلك يمكن سحب المياه الجوفية ولكن حسب الكميات المخترنة في الطبقات المائية.

الآبار Wells

الآبار Wells ثقب يُحفر في الأرض للوصول إلى الخزان المائي الجوفي. وهناك نوعان رئيسان من الآبار، هما الآبار العادية، والآبار الارتوازية.

الآبار العادية Ordinary wells أبسط الآبار هي تلك المحفورة أسفل منسوب الماء داخل ما يسمى الخزان المائي الجوفي غير المحصور، كما في الشكل 4-7. في هذا النوع من الخزانات المائية الجوفية يكون منسوب المياه داخل البئر هو نفسه منسوب الماء المحيط به، فعندما يتم سحب المياه من البئر يتم تعويضها من المياه المحيطة في الخزان المائي الجوفي.

يحدث **الضخ الجائر Overpumping** عندما يفوق معدل سحب المياه من البئر معدل تعويض المياه فيه، فيؤدي ذلك إلى خفض منسوب المياه المحلي، متتبعًا مخروط الانخفاض حول البئر، كما في الشكل 4-7. ويسمى الفرق بين منسوب المياه الجوفية الأصلي ومنسوب المياه في أثناء عملية الضخ الهبوط في منسوب المياه الجوفية **Drawdown**. وإذا حدث هبوط في منسوب المياه في مجموعة آبار متجاورة في الخزان غير المحصور فإن مجموعة مخاريط الانخفاض المتجاورة يتحد بعضها مع بعض، مسببة بذلك هبوطًا عامًا في منسوب المياه، مما يؤدي إلى جفاف الآبار الضحلة.

وتزود مياه الأمطار الخزان المائي الجوفي بمحتواه المائي في عملية تسمى **تغذية المياه الجوفية Recharge**. وتؤدي أحيانًا تغذية المياه الجوفية بمياه الأمطار أو بالمياه الجارية إلى تعويضها عن المياه التي سُحبت من الآبار. فإذا تجاوز سحب المياه الجوفية معدل تغذية الخزان الجوفي ازداد الهبوط في منسوب المياه إلى أن تصبح جميع الآبار جافة.

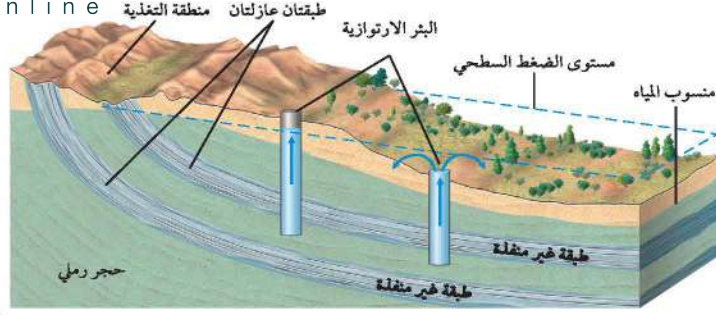
الشكل 4-7 يؤدي الضخ الجائر من البئر أو عدة آبار إلى تكوين مخروط الانخفاض وهبوط عام في منسوب المياه.



بعد الضخ الجائر



قبل الضخ الجائر



الشكل 4-8 يحتوي الخزان المائي الارتوازي على ماء مضغوط.

تعرف السبب الرئيس الذي جعل البئر الارتوازية تختلف عن البئر العادية.

الآبار الارتوازية Artesian wells غالباً ما تكون منطقة تغذية الخزان أعلى من الخزان المائي الجوفي نفسه. ويسمى الخزان المائي الجوفي الواقع بين طبقتين عازلتين خزاناً جوفياً محصوراً، ويقع الماء الذي يحتويه تحت تأثير الضغط. والسبب في ذلك أن قمة منحدر منسوب الماء يقع تحت تأثير الجاذبية الأرضية، لذلك تتجه المياه إلى أسفل. ويسمى الخزان في هذه الحالة الخزان المائي الجوفي الارتوازي. وعندما يكون معدل التغذية كبيراً وكافياً فإن ضغط الماء في بئر محفورة في خزان ارتوازي يجعل الماء يتدفق فوق سطح الأرض على شكل نافورة تسمى **البئر الارتوازية Artesian well**. ويسمى المستوى الذي يرتفع منسوب المياه إليه في الآبار المحفورة مستوى الضغط السطحي، كما في الشكل 4-8. وتسمى أيضاً الينابيع التي يجري تصريفها بضغط الماء الينابيع الارتوازية. وتعود كلمة artesian إلى مقاطعة فرنسية اسمها Artois، حفرت فيها أول بئر ارتوازية، وذلك قبل 900 عام.

مختبر حل المشكلات

اعمل مقطعاً تضاريسياً

بيانات الخزان الجوفي المائي				
الموقع	ارتفاع السطح (m)	منسوب الماء العازل (m)	ارتفاع السطح العلوي للطبقة العازلة (m)	مستوى الضغط السطحي (m)
1	396	392	388	394
2	394	390	386	393
3	390	388	381	392

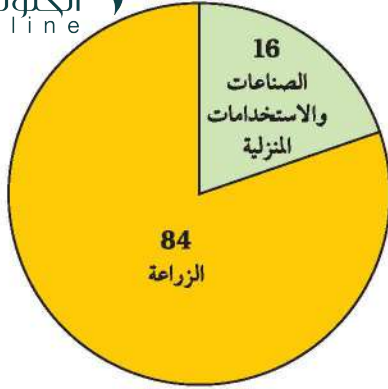
التفكير الناقد

3. حلل. ما عمق الماء في الآبار الثلاثة قبل عملية الضخ؟
4. قوّم ماذا يحدث لو حفرنا بئراً في الخزان المائي المحصور عند الموقع 3؟
5. توقع كيف يؤثر حفر بئر ارتوازية في موقع واحد في بقية الآبار؟

كيف يختلف منسوب المياه في الآبار الارتوازية؟
تحتوي خزانات المياه الجوفية الارتوازية على ماء يقع تحت ضغط عالٍ. ويوضح الجدول المجاور بيانات عن الخزان المائي الجوفي الارتوازي لثلاثة مواقع يبتعد بعضها عن بعض مسافة 100 m على امتداد خط المسح. وهذه البيانات لارتفاعات سطح الأرض، وارتفاعات منسوب المياه، وارتفاعات السطح العلوي للطبقة العازلة للخزان المائي الارتوازي، ومستوى الضغط السطحي.

التحليل

1. أسقط بيانات الارتفاع على رسم بياني، بحيث تكون المواقع على محور السينات، والارتفاعات على محور الصادات.
2. اعمل مقطعاً تضاريسياً لخط المسح من الموقع الأول حتى الموقع الثالث مستعملاً خطاً عريضاً لتمثيل سطح الأرض.



الشكل 9-4 استخدامات المياه العذبة في المملكة العربية السعودية لعام 2015م.

المصدر: وزارة البيئة والمياه والزراعة.

Threats to our Water Supply ما يهدد موارد مياهنا

تعد المياه العذبة موارد طبيعية نفيسة؛ إذ يعتمد الإنسان عليها بصورة كبيرة، لأنها عنصر أساسي في الحياة. كما أنها تستعمل بصورة مكثفة في الزراعة والصناعة. ويوضح الشكل 9-4 استخدامات المياه العذبة في المملكة العربية السعودية لعام 2015م.

ماذا قرأت؟ لخص لماذا تعد المياه العذبة أثمن الموارد الطبيعية؟

الماء العذب ضروري للمحافظة على حياة جميع المخلوقات الحية

مع الزمن، ويتأثر البعض الآخر بالأنشطة البشرية. وتؤدي التغيرات التي تحدث لموارد المياه الجوفية إلى ظهور قضايا بيئية، منها انخفاض مستوى المياه والحسب والتلوث والتملح.

تجربة

نموذج البئر الارتوازية

كيف تتكون البئر الارتوازية؟ ما الأسباب التي تؤدي إلى

انتهائها؟

التحليل

طبقة الرمل السفلية، وسدّ الثقب بإحكام حول الأنابيب البلاستيكية.

1. لاحظ منسوب المياه في الأنابيب. أي الأنابيب يكون ارتفاع الماء فيها أعلى ما يمكن، وأيها يكون فيها أخفض ما يمكن؟
2. حدد منسوب المياه في الصندوق.
3. حلل حدد المكان الذي يكون عنده ضغط المياه أكبر ما يمكن. وضح إجابتك.
4. توقع ما يحدث لمنسوب المياه وللضغط السطحي إذا تدفقت المياه من إحدى الأنابيب.

ج1: يكون منسوب الماء أعلى ما يمكن في الأنبوب الموجود أسفل المنحدر؛ في حين يكون المنسوب أقل ما يمكن في الأنبوب الموجود أعلى المنحدر.

ج2: منسوب الماء هو مستو الماء في الرمل

ج3: يقع أعلى ضغط للماء عند أسفل المنحدر؛ لأن وزن الماء عند أخفض نقطة في عمود الماء يكون أكبر ما يمكن

ج4: ينخفض كل من منسوب الماء في الرمل والضغط السطحي

المهنة في علم الأرض

الهيدرولوجي جيولوجي مختص في مجال تمثيل المياه في خرائط التضاريس الهيدرولوجية؛ إذ يستعمل الطرائق الميدانية والخرائط والصور الجوية لتحديد مكان المياه الجوفية.

المطويات

ضمّن معلومات هذا الدرس في المطوية الخاصة بك.

الاستعمال الجائر Overuse يستنزف الاستعمال الجائر موارد المياه الجوفية، ويهبط معدل الضخ يفوق معدل التغذية فعندئذ ينخفض مستوى التزويد بالمياه الجوفية، ويهبط منسوب المياه. ويحدث الضخ الجائر بسبب زيادة الطلب على المياه العذبة للاستعمالات الزراعية والمنزلية والصناعية حيث يؤدي إلى هبوط مستوى المياه العذبة في خزانات المياه الجوفية، كما في خزان الساق، وخصوصاً في منطقة القصيم. كما يؤدي الضخ الجائر مع الزمن إلى ارتفاع ملوحة المياه الجوفية؛ فتصبح غير قابلة للاستعمال.

الخصف Subsidence ينتج عن الضخ الجائر للمياه الجوفية حدوث مشكلة أخرى هي هبوط اليابسة؛ إذ يدعم حجم المياه الجوفية وزن التربة والرسوبيات والصخور التي تعلوها، وعندما يقل ارتفاع منسوب الماء ينتقل وزن المواد التي تعلوه بالتدريج إلى حبيبات الخزان، مما يؤدي إلى تراصها، وخصف سطح اليابسة فوق الخزان.

تلوث المياه الجوفية Pollution in groundwater إن أكثر خزانات المياه الجوفية عرضة للتلوث هي الخزانات غير المحصورة. أما الخزانات الجوفية المحصورة فلا تتأثر كثيراً بالتلوث المحلي؛ لأنها محمية بالطبقة العازلة التي تحتجز الملوثات، وتحميها من التلوث. ولكن إذا تلوثت مناطق تغذية الخزانات الجوفية المحصورة فعندئذ تصاب مياهها بالتلوث.

✓ ماذا قرأت؟ تعرّف أي الخزانات أكثر عرضة للتلوث؟

غير
ض
إلى
وفي

الخزان المائي الجوفي غير المحصور أكثر عرضة للتلوث؛ إذ تصل الملوثات إلى المياه الجوفية من خلال عملية رشح مياه الأمطار إلى باطن الأرض



الرابط مع رؤية ٢٠٣٠
رؤية
2030
المملكة العربية السعودية
KINGDOM OF SAUDI ARABIA

من أهداف الرؤية الحد من التلوث بمختلف أنواعه (مثل التلوث الهوائي، الصوتي، والمائي، والتراخي).



الشكل 10-4 يمكن أن تنتشر الملوثات بسرعة خلال الخزان المائي. لاحظ كيف سحب البئر التلوث نحوه مع سحب الماء من الخزان المائي الجوفي.

المفردات
مفردات أكاديمية

النقل

وتعني التحريك من مكان إلى آخر.
فالطائرات تنقل البضائع من مكان إلى
آخر عبر البلاد

المواد الكيميائية Chemicals بسبب صغر حجم المواد الكيميائية الذائبة والمنقولة مع المياه إلى جوف الأرض فإنه يمكنها أن تتخلل المسامات الدقيقة الموجودة بين الحبيبات الصغيرة جداً. لهذا السبب فإن المواد الكيميائية يمكنها أن تلوث أي نوع من الخزانات الجوفية. وبمجرد دخول الملوثات الكيميائية إلى المياه الجوفية يصعب إزالتها.

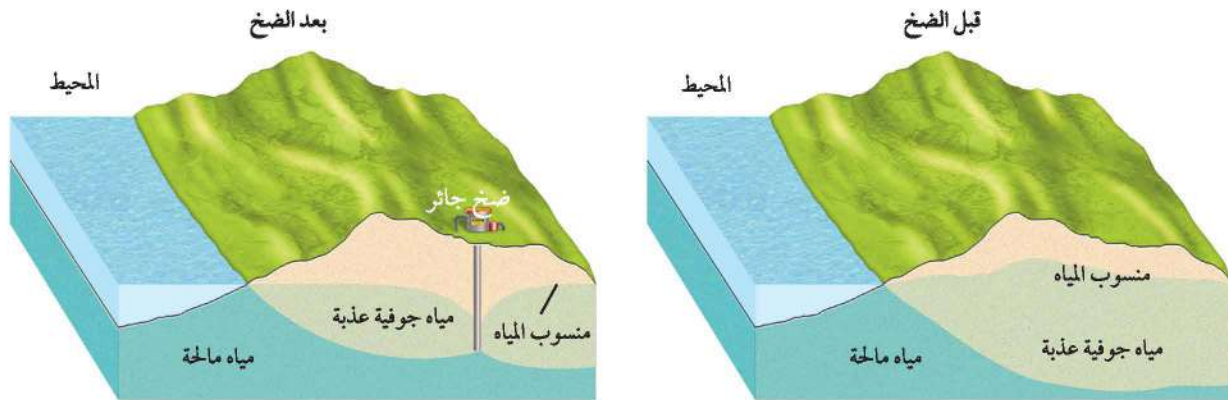
✓ **ماذا قرأت؟** وضح لماذا قد تلوث المواد الكيميائية - ومنها عنصر الزرنيخ - أي نوع من الخزانات الجوفية المائية؟

يمكن للمواد الكيميائية أن تلوث أي نوع من الخزانات المائية الجوفية؛ لأنها ذائبة في الماء وتنتقل معه

الاملاح Salt ليست جميع الملوثات مواد سامة او ضارة بالصحة؛ فعلى سبيل المثال يُستخدم ملح الطعام في المائدة، إلا أن وجوده في الماء بتركيز عالية يجعل الماء غير صالح للشرب. وبالطريقة نفسها تصبح المياه الجوفية غير صالحة للاستعمال بعد اختلاطها مع مياه مالحة. لذا يعد التلوث بالأملاح أحد المخاطر الرئيسية التي تواجه موارد المياه الجوفية، وخصوصاً في المناطق الشاطئية، حيث تشكل مسألة تداخل المياه الجوفية بمياه مالحة مشكلة رئيسة؛ فالمياه المالحة الأكثر كثافة تقع أسفل المياه العذبة، كما في الشكل 11-4، وفي حالة حدوث ضخ جائر من الآبار تصعد مياه البحر المالحة من خلال الآبار، وتلوث المياه الجوفية.

لضخ الجائر يقلل المياه الجوفية العذبة قليلة الكثافة الموجودة أعلى الخزان فوق المياه المالحة الأكثر كثافة؛ فترتفع المياه المالحة في اتجاه الآبار لتحل محلها وعندئذ تبدأ مياه البئر ضخ مياه مالحة

الشكل 11-4 يمكن أن تلوث الخزانات الجوفية العذبة بالماء المالح. تعرف كيف يمكن أن يتسبب الضخ الجائر في ارتفاع الماء المالح من الأسفل إلى الآبار؟



ج1: لو ضخّت مياه الآبار ضخاً جائراً فإنّ مورد المياه الجوفية يقلّ منسوب الماء ولو ضخّت مياه الآبار ضخاً جائراً بالقرب من البحار والمحيطات فإنّ الماء المالح يرشح ويلوث المياه الجوفية
ج2: البشر الارتوازية واقعة تحت الضغط، لأنها محفورة في خزان محصور واقع تحت الضغط بسبب أن قمة منحدر منسوب الماء يقع تحت تأثير الجاذبية الأرضية

ج3: تتنوع الرسوم، يجب أن تبين الرسوم أن الآبار الارتوازية تسحب المياه من الخزان المائي الجوفي المحصور في حين تسحب الآبار العادية المياه من الخزان المائي الجوفي غير المحصور

ج6: يمكن التقليل من تلوث المياه الجوفية في منطقة سكنية بتقليل استعمال المواد الكيميائية في مجالات الزراعة والتنظيف في المنازل واستعمال المبيدات والمواد الكيميائية الأخرى

ج7: كلما زادت نفاذية الخزان المائي الجوفي سهل انتقال الملوثات منه وإليه

الموارد المائية.

والأسمدة الكيميائية والمبيدات الحشرية المستخدمة في الزراعة.

التقويم 2-4

الخلاصة

- تحفر الآبار وصولاً إلى نطاق الإشباع للحصول على المياه.
- يؤدي الضخ الجائر من الآبار إلى تكوين مخروط الانخفاض.
- الآبار الارتوازية مخرج لمياه الخزان المائي الجوفي المحصور الذي تقع مياهه تحت الضغط.
- يؤدي سحب المياه بكميات تفوق كميات تغذية الخزان إلى هبوط منسوب الماء فيه.
- أكثر مصادر تلوث المياه الجوفية شيوعاً هي: مياه الصرف الصحي، ومكاتب النفايات الصلبة وغيرها من مواقع التخلص من النفايات.

فهم الأفكار الرئيسية

1. الفكرة الرئيسية قوّم المشكلة المصاحبة للضخ الجائر في الآبار.
2. فسر لماذا تخضع المياه في الآبار الارتوازية إلى ضغط؟
3. وضح بالرسم الفرق بين البئر العادية والبئر الارتوازية.
4. وضح كيف تعمل المملكة العربية السعودية على حماية مواردها المائية؟

التفكير الناقد

5. صمم تجربة تختبر فيها وجود حواجز غير منفذة (عازلة) تحيط بالمنطقة الملوثة.
6. حلل أفضل طريقة لمنع تلوث المياه الجوفية في المناطق السكنية.

الكتابة في الجيولوجيا

7. توقع كيف تؤثر نفاذية الخزان المائي الجوفي في انتشار الملوثات.



يجمع هذان الهيدروجيولوجيان عينات مائية لتحديد ما إذا كانت المياه ملوثة أم لا.

ضمان الجودة الهيدروجيولوجي مسؤول أيضًا عن فحص نوعية المياه. فمثلاً لو أصبح لمياه أحد الخزانات المائية الجوفية طعم ورائحة مختلفان فعندئذ سيسعى سكان المنطقة للتأكد من صلاحية هذه المياه للشرب. لذا يقوم الهيدروجيولوجي بجمع عينات، وإرسالها إلى المختبرات لفحص مدى إصابتها بالملوثات المختلفة، ومنها مياه الصرف الصحي والمبيدات الحشرية والفطرية والفلزات الذائبة والمواد العضوية. فإذا عُرف مصدر الملوثات فسوف يطلب الهيدروجيولوجي من السكان عدم استعمال المياه حتى يتم تحديد مصدر التلوث وحل المشكلة. وبعدها سيقوم بدراسة المشكلة والبحث عن حلول لها لكي يوقف ذلك التلوث.

الكتابة في الجيولوجيا

المجلات العلمية. ابحث أكثر فيما يمارسه الهيدروجيولوجيون من عمل في الكتب العلمية والإنترنت. ثم تخيل أنك ترافق أحدهم في يوم عمل أو قم بزيارة أو مرافقة الهيدروجيولوجي في يوم عمل. صف ما شاهدت وما فعلت وما تعلمت حول خزانات المياه الجوفية.

مراقبو المياه Watcher of the water

أن يكون ماء الشرب نقيًا أمر مُسَلَّم به عند معظم الناس. ومعظم الماء المستعمل في الشرب وفي الأعمال المنزلية مصدره المياه الجوفية. لذا من يضمن أن تبقى هذه المصادر صالحة للشرب وللإستعمالات المنزلية؟

الهيدروجيولوجيون (اختصاصيو المياه) يسمى عالم المياه الجوفية هيدروجيولوجيا، وهو مسؤول عن إيجاد مصادر للمياه الجوفية، وعن مراقبتها، وضمان التزود بها نقيه وخالية من التلوث، وضمان استعمالها بمعدلات أقل من معدلات تعويضها بمياه جديدة. فكيف يبدو يوم عمل مثالي من أيام عمل الهيدروجيولوجي؟ يمكن تمضية هذا اليوم في الميدان في إجراء اختبارات على مناسيب المياه، واليوم التالي في تقويم البيانات في المكتب، ثم الذي يليه في البحث في مشكلة تزويد أحد المواقع أو المدن بالمياه.

دراسة حالة للخزان المائي افترض أن أحد المزارعين يرغب في إقامة نظام ري يتطلب حفر بئر، فكيف تتم دراسة ذلك؟ لا بد أولاً من اختبار منسوب الماء لضمان أن البئر الجديدة لن تسبب نقصاً في إمدادات المياه. لذا يقوم الهيدروجيولوجي بالبحث عن بئر عاملة (غير مقفلة أو غير جافة) في المنطقة المجاورة، ويقوم بتشغيلها باستعمال مضخة مدة 24 ساعة. ويحدد الاختبار الدوري للآبار العاملة في منطقة ما التغيرات التي تطرأ على منسوب الماء وعلى نوعيته. ومن البيانات التي يتم جمعها يقوم الهيدروجيولوجي بحساب كمية المياه الموجودة في الخزان المائي الجوفي وحساب ما هو متوافر منها للبئر الجديدة.

افترض أنه بعد أن بدأت المزرعة استعمال نظام الري انقطعت المياه عن أحد المنازل أسفل الطريق. سيقوم الهيدروجيولوجي بالذهاب إلى ذلك المنزل لكي يتفحص وجود مشكلات تقنية كثقب في الجدران الداخلية للبئر، فإذا لم يكن السبب تقنياً فسوف يقوم بإعادة تقويم نظام الري بتفحص نظام الخزان المائي الجوفي.

مختبر الجيولوجيا

نموذج محاكاة تلوث المياه الجوفية



خلفية علمية: تتميز المياه بخصائص فيزيائية وكيميائية وحيوية محددة لاستعمالها في أغراض المختلفة. ونتيجة النشاط البشري تتعرض هذه الخصائص للتغير بسبب وصول الملوثات إليها.

سؤال: كيف تصل الملوثات إلى المياه في باطن الأرض؟

الأدوات

حوض زجاجي عمقه تقريبا 20 cm، صبغتا طعام بلونين مختلفين (أخضر وبنفسجي)، ماء، تربة طينية، رمل خشن،

8. حَضْر ماء مصبوغاً بالصبغة الخضراء، وآخر بالصبغة البنفسجية، واحقن كلاً منهما في فوهة، كما في الشكل.
9. رش السطح العلوي للطبقة الرملية الثانية بالماء، ثم راقب انتشار الألوان في الطبقات مدة 10 دقائق.

التحليل والاستنتاج

1. استنتج إلام ترمز الصبغات؟
2. لاحظ أي الطبقات وصل إليها ماء ملون، وأيها لم يصل إليه؟ ولماذا؟
3. حدد الطبقة التي تلوثت أسرع. وبين سبب ذلك.
4. استنتج ما الطبقة الأصعب معالجة إذا تلوثت؟ ولماذا؟
5. قارن بين الطبقات في النموذج وبين الخزان المائي الجوفي.
6. لخص أوجه الشبه والاختلاف بين ما شاهدته والواقع في الطبيعة.
7. قوّم كيف نحمي مصادر المياه من التلوث؟

الكتابة في الجيولوجيا

ابحث مستعيناً بمصادر المعلومات المختلفة، اكتب تقريراً عن مصادر تلوث المياه الجوفية وكيفية حمايتها. شارك أقرانك في الصف بما توصلت إليه من المعلومات حول الموضوع.

ج1: إلى الملوثات

ج2: الطبقات الرملية يصلها ماء ملون بينما طبقات التربة الطينية لا يصلها؛ لأن الطبقة الرملية مساماتها كبيرة فتكون أكثر نفاذية للمواد من الطبقة الطينية التي تكون مساماتها صغيرة وبالتالي تقل نفاذيتها للمواد الملوثة

ج3: طبقة الرمل العلوية تلوثت أسرع لأنها أقرب إلى مصادر التلوث طول الخرطوم أقل

ج4: طبقة الرمل السفلية لأنها محصورة وتقع في أعماق أكبر

ج5: طبقة الرمل السفلية المحاطة من أسفل ومن أعلى بطبقات طينية تمثل خزانا مائياً جوفياً محصوراً بينما طبقة الرمل العلوية التي يقع أسفل منها طبقة طينية تمثل خزانا مائياً جوفياً غير محصور

ج6: أوجه الشبه: تتابع الطبقات الرملية والرسوبية مشابه لخزانات المانية الجوفية؛ انتشار الملوثات من أماكن التلوث على امتداد الطبقة

أوجه الاختلاف: آلية ضخ الملوثات قد تختلف عما هو موجود في الطبيعة؛ سرعة انتقال الملوثات في الطبيعة يكون أبطأ

الفكرة العامة يساهم الهطول والرشح في تكوين المياه الجوفية وتخزينها في خزانات في باطن الأرض إلى أن تعود إلى السطح على شكل ينابيع، أو من خلال سحبها من الآبار الارتوازية.

المفاهيم الرئيسية	المفردات
<p>4-1 حركة المياه الجوفية وتخزينها</p> <p>الفكرة الرئيسية تزود خزانات المياه الجوفية الجداول والينابيع الطبيعية والمناطق بالمياه حيثما يتقاطع منسوبها مع سطح الأرض.</p> <ul style="list-style-type: none"> • ترشح مياه الأمطار بعد سقوطها على اليابسة إلى جوف الأرض، وتصبح مياهًا جوفية. • تخزن المياه الجوفية تحت منسوب المياه في مسامات الصخور والرسوبيات. • تتحرك المياه الجوفية خلال طبقة منفذة تسمى الخزان المائي الجوفي، وتحتصر بطبقة غير منفذة تسمى الطبقة العازلة. • تتدفق المياه الجوفية إلى السطح، عندما يتقاطع منسوب المياه الجوفية مع سطح الأرض. 	<p>رشح نطاق الإشباع منسوب الماء نطاق التهوية النفاذية الخزان المائي الجوفي الطبقة العازلة الينبوع (العين) ينبوع ساخن ينبوع فوار</p>
<p>4-2 موارد المياه الجوفية</p> <p>الفكرة الرئيسية لا تتوافر المياه الجوفية دائمًا بالكميات والمواقع المطلوبة حيثما نحتاجها، وإن وجدت فأحيانًا ما تكون ملوثة.</p> <ul style="list-style-type: none"> • تحفر الآبار في نطاق الإشباع للحصول على الماء. • الضخ الجائر من الآبار يسبب مخاريط الانخفاض. • تقتصر الاستفادة من الآبار الارتوازية على المياه الجوفية المحصورة. • ينخفض منسوب الماء في الخزان المائي الجوفي إذا كانت كمية الضخ أكبر من التغذية. • المصادر الأكثر شيوعًا لتلوث المياه الجوفية هي مياه الصرف الصحي، ومكاتب النفايات. 	<p>الآبار الضخ الجائر المهبوط في منسوب المياه الجوفية تغذية المياه الجوفية البئر الارتوازية</p>

استعن بالرسم البياني الآتي الذي يمثل المياه الجوفية لبئر في منطقة ما، للإجابة عن السؤالين 9 و 10.



مراجعة المفردات

ما المصطلحات التي تصف العبارات الآتية:

1. نطاق الإشباع. منطقة تحت سطح الأرض تحوي مياه جوفية.

2. قابلية الصخور المكونة لطبقات الأرض لإمرار الماء

من خلالها. **النفاذية**

الخزان المائي الجوفي

3. جميع الطبقات المنفذة للماء الراشح في موقع ما.

4. طبقات غير منفذة تحجز الماء وتمنعه من التدفق. **الطبقات العازلة**

9. أي الجمل الآتية تمثل استنتاجًا منطقيًا يمكن استخلاصه من الرسم البياني؟

a- زادت كمية المياه الجوفية في الفترة بين 1993 و 2003 م.

b- انخفض منسوب الماء في الفترة بين 2002 و 2003 م بسرعة أكبر من انخفاضه في الفترة بين 1993 و 1994 م.

c- انخفض منسوب الماء في الفترة 1993 و 1994 م بسرعة أقل من انخفاضه في الفترة 2002 و 2003 م.

d- قلت وفرة الماء في الفترة بين 1993 و 2003 م.

10. في أي عام كان منسوب الماء أعلى ما يمكن؟

a- 2004 م

c- 1996 م

b- 2003 م

d- 1993 م

11. ما الخصائص التي يجب أن تكون للصخور المسامية لكي تصبح منفذة؟

a- يجب أن تكون فوق منسوب الماء.

b- يجب أن تكون المسامات كبيرة.

c- يجب أن تكون المسامات متصلة.

d- يجب أن تكون أسفل منسوب الماء.

ج5: يرتفع الماء في الينابيع الارتوازية إلى السطح بفعل الضغط؛ أما الينابيع العادية فليست واقعة تحت الضغط ج6: تسمى بالعيون الفوارة وهي ينابيع ساخنة متفجرة توجد في المناطق البركانية

6. ماذا تسمى الينابيع الساخنة التي تتكون في المناطق البركانية؟

تثبيت المفاهيم الرئيسية

7. ما المصدر الذي يمثل أكبر تجمع للمياه العذبة المتوافرة للاستعمال البشري؟

a- الجليديات والأغطية الثلجية.

b- بحيرات الماء العذب.

c- الأنهار والجداول المائية.

d- المياه الجوفية.

8. ما اسم الطبقة الرسوبية أو الصخرية التي لا تسمح بمرور الماء خلالها؟

a- الطبقة المنفذة.

b- الطبقة العازلة.

c- الخزان المائي.

d- الطبقة غير المائية.

التفكير الناقد

18. قوّم العاقبة التي ستحل بموارد المياه الجوفية في المناطق الشاطئية بسبب ارتفاع منسوب ماء البحر. استخدم الصورة أدناه للإجابة عن السؤال 19.



19. فكر. ارسم شكلاً يفسر دور المياه الجوفية في هذه الصورة، أخذًا بعين الاعتبار الماء المتدفق من سفح الجبل. **يترك للطالب**

خريطة مفاهيمية

20. ارسم خريطة مفاهيمية باستعمال المصطلحات الآتية: بئر عادية، بئر ارتوازية، طبقة عازلة، محصور، غير محصور، منسوب ماء الخزان الجوفي. **يترك للطالب**

سؤال تحفيز

21. استدل إذا زاد تركيز غاز ثاني أكسيد الكربون CO_2 في الغلاف الجوي، فما تأثير ذلك في المباني التي أنشئت من الأحجار الجيرية، وفي تكوين الينابيع الجيرية (Karst)؟

ج18: يمكن أن يؤدي ارتفاع منسوب ماء البحر إلى تقليل موارد المياه في المناطق الساحلية من خلال رشح ماء البحر المالح إلى المياه الجوفية وتصبح المياه الجوفية مالحة
ج21: يمكن أن يؤدي ازدياد غاز ثاني أكسيد الكربون في الغلاف الجوي إلى زيادة حمض الكربونيك؛ الذي ينتج عن ذوبان غاز ثاني أكسيد الكربون في الماء واتحاده بجزيئات الماء ويمكن لحمض الكربونيك إذابة الصخور الجيرية مكونا الكهوف والتضاريس والينابيع الجيرية الكارستية

12. ما الشروط الضرورية لتكوّن الينابيع؟

- a- توافر منطقة تغذية ونطاق التشبع والطبقة العازلة.
b- وجود طبقة عازلة تحصر المياه فوق نطاق التهوية والإشباع.
c- وجود منسوب ماء مرتفع فوق الطبقة العازلة يتقاطع مع سطح الأرض.
d- وجود طبقة عازلة أسفل منسوب المياه.

ج13: يوجد منسوب الماء في مناطق البحيرات والمستنقعات على السطح، في حين يكون تحت السطح في المناطق التي لا يوجد على سطحها ماء
ج14: يجب أن يكون الخزان المائي الجوفي محصورا وتحت الضغط
ج15: يكون منسوب المياه الجوفية قريبا من السطح في المناطق الرطبة؛ وبعيدا عنه في المناطق الجافة تقريبا
ج16: قد لا يزود الخزان المائي الصغير بالماء في أثناء لجفاف لندرة الأمطار فيجف
ج17: يشكل التخلص من العوادم السامة في الحفر الخسفية خطرا يهدد الموارد المائية؛ لأن طرح الملوثات في الحفرة الخسفية يسهل انتقالها إلى المياه الجوفية

القراءة والاستيعاب

اقرأ النص الآتي ثم أجب عن السؤالين 10 و 11.

خزان الساق الجوفي

يقع خزان الساق الجوفي شمالي المملكة العربية السعودية، ويعد جزءاً منه - وبخاصة الواقع في المناطق الشمالية الشرقية من المملكة - خزاناً جوفياً محصوراً. أما باقي الخزان الجوفي فهو غير محصور.

وتقدر كمية الماء المخزنة في الخزان الجوفي بحوالي 280000 مليون متر مكعب. ويتراوح عمر الماء فيه بين 10-30 ألف سنة، وهو من الخزانات الجوفية غير المتجددة. وتمتاز مياه الساق في معظمها بجودتها العالية؛ حيث يقدر متوسط كمية الأملاح الذائبة 500 mg/L . وفي الوقت الحاضر فإن كمية الماء التي تضخ من الحوض - وخصوصاً للزراعة - تفوق كثيراً كميات المياه التي تضاف إليه، مما أدى إلى انخفاض مستوى الماء، وزيادة ملوحته، وخصوصاً في منطقة القصيم.

10. من خصائص حوض الساق المائي:

- a- مياه ذات جودة منخفضة.
- b- يعدّ حوضاً محصوراً.
- c- ملوحة مياهه عالية.
- d- مياهه غير متجددة.

11. من أكثر المشاكل التي يتعرض لها خزان الساق المائي:

- a- الضخ الجائر للاستخدامات الزراعية.
- b- التلوث بفعل مياه الصرف الصحي.
- c- الضخ الجائر للاستخدامات المنزلية.
- d- التلوث بفعل الأسمدة.

اختيار من متعدد

1. أي المواد الآتية أنسب لتبطين بركة ماء؟

- a- الحصى
- b- الحجر الجيري
- c- الطين
- d- الرمل

2. أي المصادر المائية الآتية أسهل تلوثاً؟

- a- خزان المياه الجوفية غير المحصورة.
- b- خزان المياه الجوفية المحصورة.
- c- الآبار الارتوازية.
- d- الينابيع الساخنة.

3. ما الصفة التي تنطبق على درجة حرارة المياه الجوفية التي تتدفق من خلال العيون الطبيعية؟

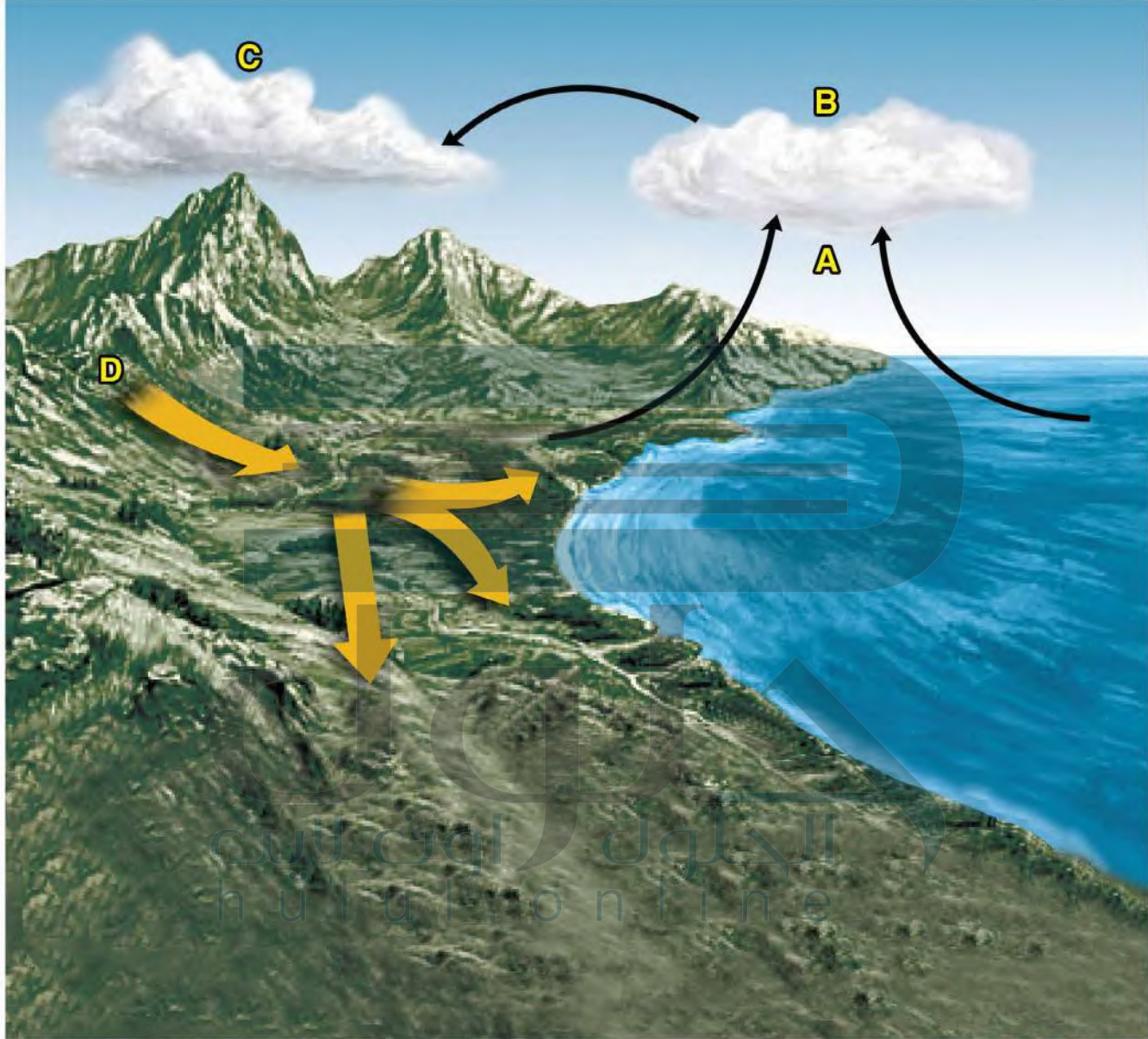
- a- أسخن من متوسط درجة حرارة المنطقة.
- b- أبرد من متوسط درجة حرارة المنطقة.
- c- لها درجة الحرارة نفسها في أي مكان توجد فيه العين.
- d- تساوي متوسط درجة الحرارة السنوية في المنطقة.

أسئلة الإجابات القصيرة

استعن بالشكل الموجودة في الصفحة الآتية للإجابة عن الأسئلة 4 - 6.

- 4. وضح كيف تحدث العملية التي يشير إليها الحرف B؟
- 5. لماذا يوجد سهان يشيران إلى العملية التي يرمز إليها الحرف A في الشكل؟
- 6. ما العمليات التي تحدث في الخطوتين C و D؟
- 7. ما خطورة الضخ الجائر من الآبار؟
- 8. ما الفرق بين البئر العادية والبئر الارتوازية من حيث نوع الخزان الجوفي؟
- 9. ناقش خسف سطح الأرض الناشئ عن الضخ الجائر وخطره على موارد المياه.

دورة الماء في الطبيعة



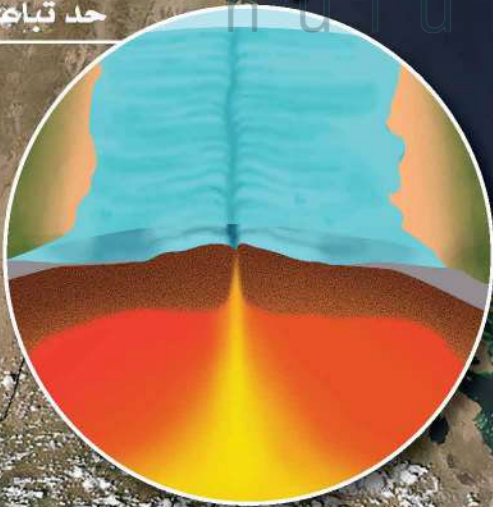
تمثل الأسهم الظاهرة في الشكل حركة المياه في أماكن تجمعها، بينما تشير الأحرف إلى العمليات التي تحدث لها.



بركان الجبل الأبيض

نشاط بركاني

حد تباين



الفكرة العامة تحدث معظم الأنشطة الجيولوجية عند حدود الصفائح.

5-1 انجراف القارات

الفكرة الرئيسة تدل جيولوجية القارات وأشكالها على أنها كانت متصلة معاً يوماً ما.

5-2 توسع قاع المحيط

الفكرة الرئيسة تتكوّن القشرة المحيطية في مناطق التوسع (ظهور المحيطات) وتصبح جزءاً من قيعانها.

5-3 حدود الصفائح وأسباب حركتها

الفكرة الرئيسة تتكون كل من الجبال والبراكين والأخاديد البحرية بين حدود الصفائح، وتؤدي تيارات الحمل في الستار إلى حركة الصفائح الأرضية.

حقائق جيولوجية

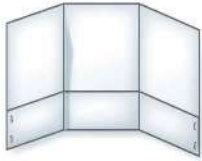
- نشأ البحر الأحمر نتيجة انفصال الجزيرة العربية عن إفريقيا قبل 27 مليون سنة تقريباً.
- أظهرت نتائج صور الأقمار الاصطناعية أن قاع البحر الأحمر يتوسع بمعدل 2 cm سنوياً تقريباً، لذا يطلق الجيولوجيون عليه المحيط الصغير، ويتوقع أن يصبح قاعه محيطاً حقيقياً في المستقبل.
- توجد الصفيحة العربية - وتظهر جزء منها في هذه الصورة - عن يمين البحر الأحمر، وصفيحة إفريقيا على يساره.

حدود الصفائح

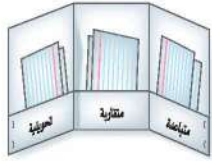
اعمل المطوية الآتية للمقارنة بين أنواع حدود الصفائح والمعالج الجيولوجية المرتبطة معها.



الخطوة 1 اثن الطرف السفلي للورقة طولياً بمقدار 3 cm، ثم اضغط على الجزء المطوي إلى أعلى.



الخطوة 2 اثن الورقة إلى ثلاثة أجزاء متساوية.



الخطوة 3 ألصق الجزء المتني من الورقة من الجوانب لعمل ثلاثة جيوب، وعنونها على النحو الآتي: متباعدة، متقاربة، تحويلية.

استخدم هذه المطوية في أثناء دراسة القسم 3-5، لخص الخصائص الجيولوجية لأنواع حدود الصفائح الثلاث والعمليات المرافقة لها على بطاقات معنونة، وضعها في الجيوب المناسبة لها.

تجربة استهلاكية

هل تتحرك مدينة جدة؟

كانت الجزيرة العربية جزءاً من قارة إفريقيا إلى أن حدث شق عظيم بينهما يُدعى حفرة الانهدام. وأخذ هذا الشق يتوسع ببطء، ثم اندفعت فيه المياه من خليج عدن حتى تكوّن البحر الأحمر وخليج العقبة والسويس، واستمر البحر في التوسع بمعدل 2 cm كل عام، وهذا يعني أن مدينة جدة تبتعد أكثر فأكثر عن شرق إفريقيا وتتحرك في اتجاه الشمال الشرقي.



الخطوات

1. اقرأ نموذج السلامة في المختبر في دليل التجارب العملية.
2. حدّد المسافة الفعلية بين مدينة جدة في المملكة العربية السعودية ومدينة بورسودان في جمهورية السودان، وكذلك بين مدينتي جدة ومكة المكرمة باستعمال المسطرة المترية ومقياس رسم الخريطة.
3. احسب تغير المسافة بين مدينتي جدة وبورسودان، وبين مدينتي جدة ومكة المكرمة بعد 50 مليون سنة، مع افتراض أن البحر الأحمر يتوسع بالمعدل نفسه على طول الخط الواصل بين مدينتي جدة وبورسودان.

التحليل

1. استنتج ما القوى التي أدت إلى ابتعاد شبه الجزيرة العربية عن قارة إفريقيا؟
2. احسب المدة الزمنية التي يستغرقها البحر الأحمر ليزداد عرضه 100 km عن عرضه الحالي، إذا كان معدل توسعه 2 cm في العام الواحد.

انجراف القارات

Drifting Continents

الأهداف

- تتعرف الأدلة التي جعلت العالم فاجنر يقترح أن القارات قد تحركت.
- تناقش كيف دعم دليل المناخ القديم فرضية انجراف القارات.
- توضح لماذا لم تحظ فرضية انجراف القارات بالقبول في البداية.

الفكرة الرئيسية تدل جيولوجية القارات وأشكالها على أنها كانت متصلة معًا يومًا ما.

الربط مع الحياة ما خصائص القطع التي تستعملها في لعبة تركيب القطع (البازل)؟ يستعمل العلماء خصائص - منها الشكل والموقع - لكي تساعد على معرفة لماذا تتشابه حواف القارات وتتطابق على الرغم من تباعدها.

الملاحظات القديمة Early observation

باستثناء الأحداث المفاجئة كالزلازل والبراكين والانزلاقات الأرضية، فإن معظم معالم سطح الأرض لا تظهر تغيرًا نسبيًا في أثناء حياة الإنسان. ومع ذلك فإن الأرض مرت بتغيرات كثيرة عبر تاريخها الطويل الموثق في سلم الزمن الجيولوجي. وأول من اقترح فكرة تغير المعالم الرئيسية للأرض هم رسامو الخرائط. ففي نهاية القرن الخامس عشر لاحظ رسام الخرائط الهولندي إبراهيم أورتيليوس تطابقًا بين حافات القارات على جانبي المحيط الأطلسي، فاقترح أن القارتين الأمريكيتين الشمالية والجنوبية قد انفصلتا عن قارتي أوروبا وإفريقيا بسبب الزلازل والفيضانات. وقد لاحظ العديد من العلماء وجود تطابق بين الحواف القارية. ويوضح الشكل 5-1 خريطة أعدّها رسامو الخرائط في القرن التاسع عشر.

وكان أول من اقترح فكرة حركة القارات العالم الألماني ألفريد فاجنر Alfred Wegener في فرضيته العلمية التي قدمها عام 1912م إلى الأوساط العلمية آنذاك.

ماذا قرأت؟ استنتج ما الذي جعل رسامي الخرائط من أوائل الذين اقترحوا أن القارات كانت متصلة معًا يومًا ما؟

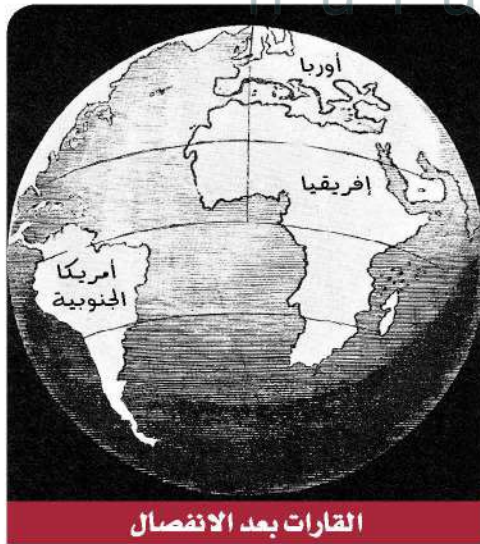
مراجعة المفردات

الفرضية: تفسير لموقف ما قابل للاختبار.

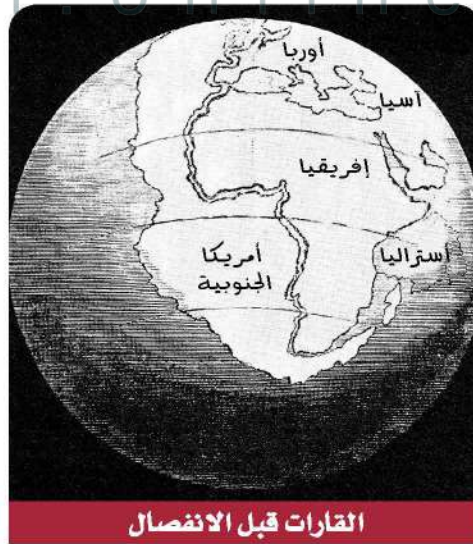
المفردات الجديدة

الانجراف القاري
بانجيا

رسامو الخرائط كانوا على معرفة واسعة بأشكال القارات. وخصوصاً عندما رسمت خرائط قارات النصف الغربي للأرض أول مرة؛ لذا فقد كانوا من أوائل الذين لاحظوا وجود تشابهات في أشكال القارات



القارات بعد الانفصال



القارات قبل الانفصال

الشكل 5-1 خريطتان تظهران التطابق الظاهري بين حواف القارات، أعدهما رسامو الخرائط القدماء عام 1858م، بناءً على ملاحظاتهم.

الانجراف القاري Continental Drift

طوّر العالم فاجنر فكرة تُسمى الانجراف القاري Continental drift، وفيها أن القارات كانت مجتمعة معاً في قارة واحدة ضخمة (القارة الأم أو الأصل) أطلق عليها بانجيا Pangaea. وهي كلمة من أصل إغريقي تعني جميع اليابسة، واقترح أن هذه القارة بدأت في الانقسام قبل 200 مليون سنة، وانفصل بعضها عن بعض إلى أجزاء، ثم انجرفت هذه الأجزاء، واستمرت في الحركة ببطء حتى وصلت إلى مواقعها الحالية، كما في الشكل 2-5.

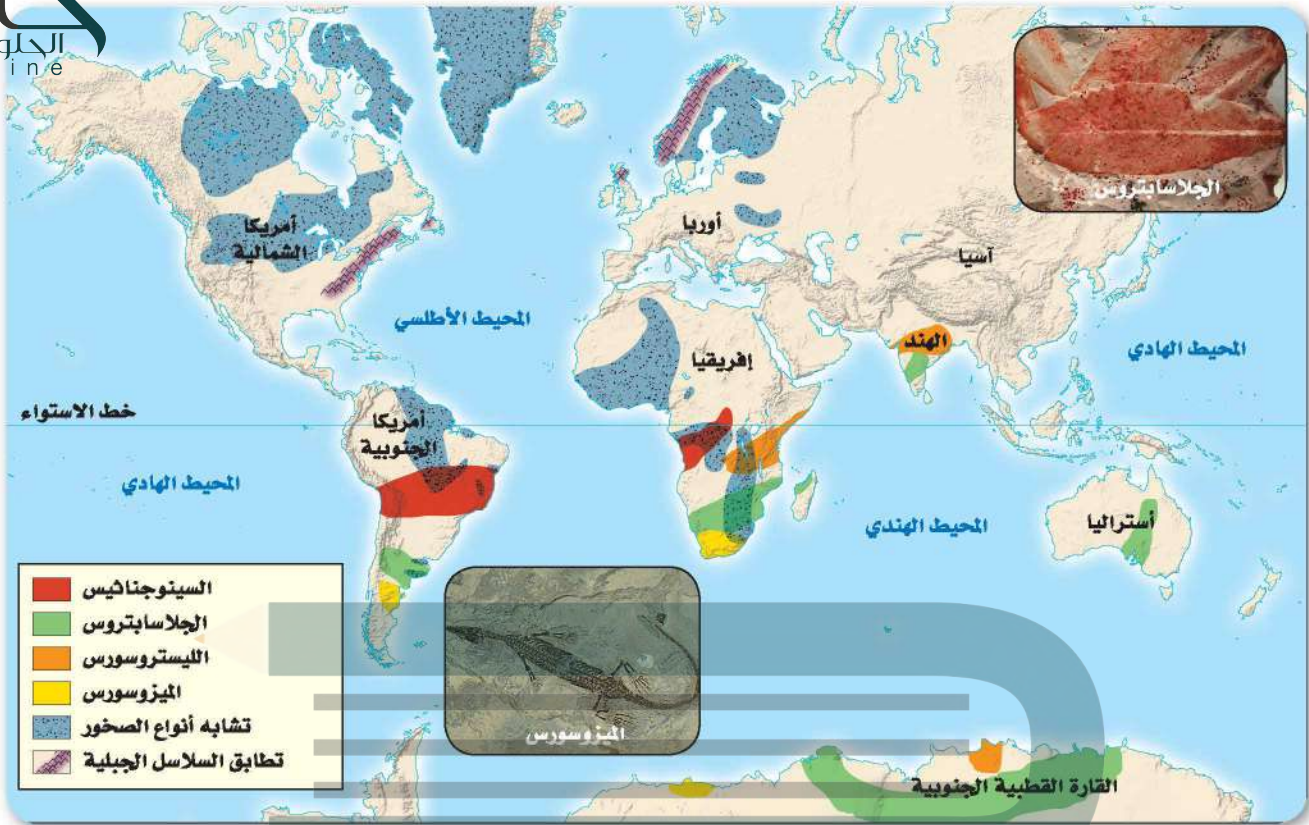
أدلة فاجنر على الانجراف القاري Wegener Evidences for Continental Drift يُعد ألفريد فاجنر أول عالم قدّم أكثر من دليل على تطابق شواطئ القارات على جانبي المحيط الأطلسي. وقد جمع أدلة، صخرية ومناخية وأحفورية تدعم فكرته.

الشكل 2-5 تنص فرضية فاجنر على أن القارات كانت مجتمعة معاً في قارة واحدة قبل 200 مليون سنة، ثم انجرفت حتى وصلت إلى مواقعها الحالية.

حدّد أجزاء بانجيا التي تشكلت منها القارتان الأمريكيتان الشمالية والجنوبية. متى كانتا متحدين؟ ومتى انفصلتا؟

كانت القارات متلاصقة معاً قبل 200 مليون سنة؛ وانفصل بعضها عن بعض في الفترة بين 180 مليون سنة إلى 200 مليون سنة





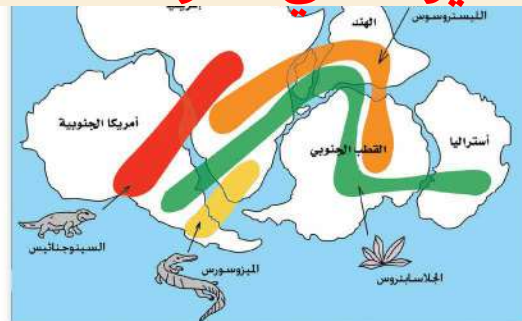
التكوينات الصخرية Rock formations بين فاجنر أنه عندما بدأت بانجيا في الانقسام إلى أجزاء أصغر، تكسرت تراكيب جيولوجية ضخمة، منها السلاسل الجبلية؛ بسبب انفصال القارات وتباعدها. وبناءً على ذلك اعتقد فاجنر أنه لا بد من وجود تشابه في أنواع الصخور على جانبي المحيط الأطلسي. وقد لاحظ تشابهًا بين العديد من الطبقات الصخرية التي يزيد عمرها على 200 مليون سنة في جبال الأبلش في أمريكا الشمالية مع الطبقات الصخرية للجبال في جرينلاند وأوروبا، مما يدعم فكرته أن القارات كانت مجتمعة معًا قبل 200 مليون سنة. ويوضح الشكل 3-5 المواقع التي تتشابه عندها مجموعات الصخور المشار إليها.

الأحافير Fossils جمع فاجنر أدلة أحفورية يثبت فيها وجود قارة بانجيا في وقت ما؛ حيث عثر على أحافير لأنواع مختلفة من الحيوانات والنباتات كانت تعيش على اليابسة، وتنتشر انتشارًا واسعًا في القارات، كما في الشكل 3-5، واستطاع أن يبرهن على صحة فرضيته من خلال مجموعة من هذه الأحافير، منها أحفورة الميزوسورس؛ وهو نوع من الزواحف كان يعيش في المياه العذبة فقط، وغير قادر على السباحة مسافات طويلة في مياه المحيط المالحة، مما يؤكد أن القارات كانت متصلة معًا في زمن حياة هذه المخلوقات الحية التي عاشت على بانجيا قبل انقسامها انظر الشكل 4-5، ولذلك استطاع أن يبرهن على صحة فرضيته.

الشكل 3-5 استعمل ألفريد فاجنر التشابه بين أنواع الصخور والأحافير على جانبي المحيط الأطلسي دليلاً على أن القارات كانت مجتمعة معًا يومًا ما.

حدّد المجموعات التي تثبت أن القارات كانت تشكل قارة واحدة يومًا ما.

تطابق الصخور والسلاسل الجبلية والنباتات وأحافير الحيوانات في القارات



الشكل 4-5 كانت القارات متصلة مع بعضها البعض قبل 200 مليون سنة وقد سميت بانجيا.



الشكل 5-5 يدل وجود توضعات الفحم الحجري في القارة القطبية المتجمدة على أن نباتات المستنقعات قد ازدهرت في هذه المنطقة يوماً ما.

وضح كيف أن الفحم الحجري الذي تكوّن في المستنقعات القديمة قد وجد في القارة القطبية الجنوبية؟

المناخ القديم Ancient climate استطاع فاجنر أن يحدد المناخات القديمة من خلال دراسة الأحافير، ومن الأحافير التي استعملت لدعم فرضية انجراف القارات أحفورة جلاساتبروس، وهي أحفورة لنبات سرخسي بذري يشبه الشجيرات الصغيرة؛ وقد عُثر عليها في أماكن متعددة، منها أمريكا الجنوبية والقارة القطبية الجنوبية والهند، انظر الشكل 3-5. وقد فسّر فاجنر هذا الدليل على النحو الآتي: لأن هذه الأحفورة موجودة في الوقت الحاضر في أماكن منفصلة بعضها عن بعض ومتباعدة جداً يصعب أن يسود فيها مناخ واحد، ولأن نبات هذه الأحفورة يعيش في مناخ معتدل، والأماكن التي وجدت فيها أحافير هذا النبات قريبة من خط الاستواء، لذا استنتج فاجنر من ذلك كله أن صحور هذه الأماكن التي تحوي أحفورة هذا النبات لا بد أنها كانت متصلة معاً يوماً ما، في مكان معتدل المناخ.

✓ **ماذا قرأت؟** استنتج كيف ساعدت خلفية فاجنر العلمية في الأرصاد الجوية على دعم فكرته حول انجراف القارات؟

الخلفية العلمية للعالم فاجنر في الأرصاد الجوية جعلته واعياً على أدلة المناخات القديمة؛ ومعرفة دوائر العرض التي توجد عندها هذه المناخات

المناطق الاستوائية، لذا اعتبر فاجنر أن وجود طبقة من الفحم الحجري في القارة القطبية الجنوبية يدل دلالة قطعية على أن القارة القطبية الجنوبية كانت تقع على خط الاستواء أو قريبة منه في الزمن البعيد.

الترسبات الجليدية Glacial deposits تُعدّ الترسبات الجليدية التي وُجدت في أجزاء من إفريقيا والهند وأستراليا وأمريكا الجنوبية، التي يعود عمرها إلى 290 مليون سنة دليلاً مناخياً آخراً على انجراف القارات، مما جعل فاجنر يقترح أن هذه المناطق كانت ذات يوم مغطاة بغطاء سميك من الجليد، كما هو الحال في القطب الجنوبي اليوم؛ إذ لا يمكن لمناطق دافئة جداً أن تتشكل فيها أغطية جليدية، مما يؤكد أنها كانت في موقع قريب من القطب الجنوبي في ذلك الوقت، انظر الشكل 6-5. وقد اقترح فاجنر احتمالين لتفسير الترسبات الجليدية؛ الأول: أن القطب الجنوبي قد غير موقعه، والثاني: أن هذه القارات كانت في موقع القطب الجنوبي وغيرت مواقعها. وقد رجّح فاجنر الاحتمال الثاني، وهو أن القارات هي التي جرفت بعيداً، لا أن محور الأرض هو الذي غير موقعه.

الشكل 6-5 إن وجود الترسبات الجليدية التي يعود عمرها إلى 290 مليون سنة في عدة قارات جعلت فاجنر يقترح أن هذه القارات كانت مجتمعة معاً ومغطاة بالجليد في ذلك الوقت. ويبين اللون الأبيض المنطقة المغطاة بالجليد.



- ج2: لا تتشكل الرسوبيات الجليدية الموجودة في إفريقيا والهند وأستراليا ضمن دوائر العرض الحالية؛ فإما أن القطب الجنوبي قد تحرك، أو أن هذه القارات كانت مجتمعة معًا في موقع قريب من القطب الجنوبي
- ج3: تتطابق طبقات الصخور والسلاسل الجبلية في عدة قارات يمكن الربط بين أحافير اليابسة المتشابهة من حيوانات ونباتات وبين القارات أما دليل المناخ؛ حيث وجدت رسوبيات في مناطق لا يمكن أن تتشكل في دوائر العرض الحالية لهذه المناطق وأفضل تفسير لذلك هو أن القارات كانت مجتمعة في موقع يختلف كثيرًا عن موقعها الحالي
- ج4: معظم أمريكا الشمالية القديمة كانت عند خط الاستواء أو قليلًا نحو الشمال حيث كان المناخ استوائيًا ودافئًا ورطبًا
- ج5: في غرب إفريقيا
- ج6: جملة غير صحيحة لأن دوائر العرض وخطوط الطول للمناطق قد تغيرت عبر الزمن الجيولوجي عدة مرات بسبب حركة الصفائح
- ج7: ينبغي أن تشير الرسالة إلى حقيقة أن العالم فاجنر ليس لديه تفسير مناسب لكيفية حركة القارات

التقييم 1

الخلاصة

- يوحى تطابق شواطئ القارات على جانبي المحيط الأطلسي بأن القارات كانت مجتمعة معًا يومًا ما
- الانجراف القاري فكرة وُضعت في بداية القرن الماضي، تنص على أن القارات تتحرك فوق قيعان المحيطات.
- جمع فاجنر أدلة من الصخور والأحافير والمناخات القديمة لدعم فرضيته.
- لم تقبل فكرة الانجراف القاري لأنها لم تفسر كيفية حركة القارات، وما يسبب حركتها.

فهم الأفكار الرئيسية

1. **الفكرة الرئيسية** ارسم كيف كانت القارات مجتمعة معًا في قارة بانجيا.
2. وضح كيف تدعم الرسوبيات الجليدية الموجودة في إفريقيا والهند وأستراليا والقارة القطبية الجنوبية فكرة الانجراف القاري.
3. لخص كيف تزودنا الصخور والأحافير والمناخ القديم بأدلة على الانجراف القاري؟
4. استنتج كيف كان مناخ أمريكا الشمالية عندما كانت جزءًا من قارة بانجيا.

التفكير الناقد

5. فسر من خلال الشكل 6-5، اكتشفت ترسبات نفطية في البرازيل عمرها 200 مليون سنة تقريبًا. فأين يمكن أن يعثر الجيولوجيون على ترسبات نفطية لها العمر نفسه؟
6. قوم الجملة الآتية: "موقع المدينة التي أسكنها ثابت لا يتغير".

الكتابة 2 الجيولوجيا

7. اكتب عن إحدى الرحلات الاستكشافية التي قام بها العالم فاجنر، مع توضيح رأيك العلمي حول ما توصل إليه خلالها.

توسع قاع المحيط

Seafloor Spreading

الأهداف

- تلخص الأدلة التي أدت إلى اكتشاف توسع قاع المحيط.
- توضح أهمية الأنماط المغناطيسية في قاع المحيط.
- توضح عملية توسع قاع المحيط.

الفكرة الرئيسية

تشكل القشرة المحيطية عند ظهر المحيط وتصبح جزءاً من قاعه. **الربط مع الحياة** هل قمت يوماً بعد الحلقات السنوية في جذع شجرة لمعرفة عمرها؟ يستطيع العلماء تقدير عمر قاع المحيط من خلال دراسة أنماط مشابهة.

رسم خرائط لقاع المحيط Mapping the Ocean Floor

اعتقد معظم الناس والعديد من العلماء حتى منتصف القرن الماضي أن سطح قاع المحيطات عموماً مستو، كما كانت تسيطر عليهم مفاهيم خاطئة حول القشرة المحيطية بأنها لا تتغير، وهي أقدم عمراً من القشرة القارية. بيد أن التقدم في التقنية في الأربعينات والخمسينات من القرن الماضي أظهر أن جميع هذه الأفكار التي كانت مقبولة على نطاق واسع غير صحيحة.

ويعد جهاز قياس المغناطيسية **Magnetometer** إحدى التقنيات المتقدمة؛ فقد استعمل لدراسة قاع المحيط، انظر الشكل 5-8a، وهو جهاز صغير يُستعمل للكشف عن التغيرات الطفيفة في المجالات المغناطيسية، ويوصل خلف السفينة لتسجيل المجالات المغناطيسية لصخور قاع المحيط.

وهناك تطور آخر أتاح للعلماء دراسة قاع المحيط بقدر كبير من التفصيل، وهو تطوير طرائق السبر الصوتي. ومن الأدوات المستعملة في ذلك السونار؛ وهو جهاز يستعمل الموجات الصوتية لتحديد المسافات عن طريق قياس الزمن الذي تستغرقه هذه الموجات المرسله من السفينة إلى قاع البحر حتى ارتدادها عنه وعودتها إلى السفينة انظر الشكل 5-8b، وقد مكنت التطورات في مجال تقنية السونار العلماء من قياس عمق المياه، ثم رسم خريطة لتضاريس قاع المحيطات.

مراجعة المفردات

البازلت؛ صخر ناري سطحي ناعم الحبيبات لونه رمادي داكن إلى أسود.

المفردات الجديدة

- جهاز قياس المغناطيسية
- ظهر المحيط
- الانقلاب المغناطيسي
- المغناطيسية القديمة
- تساوي العمر
- توسع قاع المحيط
- الأخاديد البحرية



الشكل 5-8

a: يُستعمل جهاز قياس المغناطيسية للكشف عن التغيرات الطفيفة في المجالات المغناطيسية.

b: يستعمل جهاز السونار لتحديد عمق المياه وتضاريس قاع المحيط.

وقد عززت البيانات التي جمعت بهذين الجهازين فهم العلماء للصخور والتضاريس الموجودة في قاع المحيط.



الشكل 9-5 كشفت البيانات المسجلة بالسونار وجود ظهور المحيطات والأخاديد البحرية العميقة. حيث يكثر على امتدادهما الزلازل والبراكين.

يوجد هذا الشكل مكبراً في مرجعيات الطالب في نهاية الكتاب

تضاريس قاع المحيط Ocean-Floor Topography

أدهشت الخرائط التي رُسمت باستعمال بيانات جهازي قياس المغناطيسية والسونار العلماء، وساعدتهم على اكتشاف أن للمحيطات تضاريس، كما لليابسة. انظر الشكل 9-5 الذي يبين تضاريس المحيطات الرئيسة. ومن أهم التضاريس التي أثارت فضول العلماء سلسلة جبلية ضخمة تمتد على طول قيعان المحيطات في جميع أنحاء الأرض؛ أطلقوا عليها اسم **ظهر المحيط Ocean ridge**، وهي أطول سلسلة جبلية على كوكب الأرض؛ إذ يصل طولها إلى 80000 km، وارتفاعها إلى 3 km فوق قاع المحيط، واكتشفوا فيما بعد أن الزلازل والبراكين تحدث على امتدادها بصورة مستمرة.

✓ **ماذا قرأت؟ صف أين توجد أطول سلسلة جبلية على الأرض؟
توجد على امتداد ظهور المحيطات**

كما كشفت خرائط السونار تضاريس أخرى تحت سطح الماء، وهي عبارة عن أخاديد ضيقة عميقة تمتد طويلاً في قاع البحر آلاف الكيلومترات تسمى الأخاديد البحرية، انظر الشكل 9-5. ويعد أخدود ماريانا في المحيط الهادي أعمق أخدود بحري؛ إذ يزيد عمقه على 11 km. فلو وضعنا جبل إفرست -وهو أعلى جبل في العالم؛ حيث يبلغ ارتفاعه 9 km فوق مستوى سطح البحر- في هذا الأخدود، بالإضافة إلى ما يساوي ارتفاع برج المملكة سبع مرات تقريباً، فسوف نصل إلى مستوى سطح البحر.

بعد اكتشاف علماء الجيولوجيا هذين المعلمين من تضاريس المحيطات، وهما: ظهور المحيطات، والأخاديد البحرية تحيروا مدة تزيد على عقدين من الزمان، وبرزت جملة من التساؤلات، منها: كيف تشكلت سلسلة الجبال تحت الماء التي تمتد حول الأرض؟ وما مصدر البراكين المرتبطة مع هذه الجبال؟ وما القوى المؤثرة التي جعلت قشرة الأرض تنخفض إلى عمق 11 km في بعض المناطق؟ سوف تجد الإجابة عن هذه الأسئلة لاحقاً في هذا الفصل.

المفردات

مفردة أكاديمية

الأخدود

منطقة منخفضة عند حدود الصفائح تنتج عن انزلاق صفيحة تحت صفيحة أخرى. المعنى اللغوي: شق مستطيل في الأرض.

صخور ورسوبيات المحيطات

Ocean Rocks and Sediments

المهنة في علم الأرض

الجيولوجي البحري

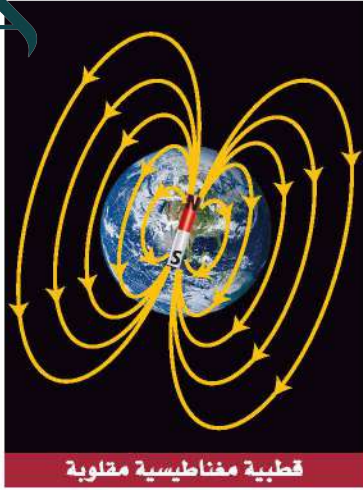
يطلق على علماء الجيولوجيا الذين يدرسون قاع المحيط لفهم العمليات الجيولوجية مثل حركة الصفائح الأرضية الجيولوجيون البحريون.

لم يكتفِ العلماء برسم خرائط لقاع المحيط، بل قاموا بجمع عينات من صخور قاع المحيط ورسوبياته وحللوها، وتوصلوا إلى اكتشافات مهمة، منها: الاكتشاف الأول: أن اختلاف أعمار الصخور عبر قاع المحيط وفق نمط معين يمكن توقعه؛ حيث تزداد أعمار الصخور القشرة المحيطية كلما ابتعدنا عن ظهر المحيط نحو القارات، وبصورة متناظرة على جانبيه، انظر الشكل 10-5. كما اكتشف العلماء أن أقدم صخور قاع المحيط لا يزيد عمرها على 180 مليون سنة تقريباً، وهو عمر قصير مقارنة بعمر أقدم صخور القشرة القارية الذي لا يقل عن 3.5 مليارات سنة. فلماذا تعد صخور قشرة المحيط أقل عمراً مقارنة بعمر صخور القشرة القارية؟ ولما كان الجيولوجيون يعرفون أن المحيطات كانت موجودة قبل 180 مليون سنة، فقد دفعهم هذا إلى التساؤل: لماذا لا يوجد أثر للقشرة المحيطية التي يزيد عمرها على 180 مليون سنة؟

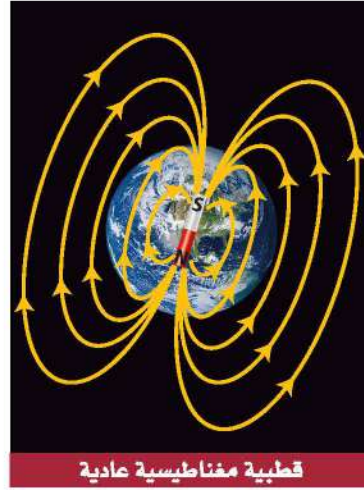
أما الاكتشاف الثاني: فيتعلق برواسب قاع المحيط؛ إذ تشير القياسات إلى أن سُمك رسوبيات المحيطات يصل إلى بضعة مئات من الأمتار عادة، بينما يصل سُمك الصخور الرسوبية التي تغطي مساحات واسعة من القارات إلى 20 كيلومتراً. وعلى الرغم من أن العلماء يعرفون أن المحيطات تتعرض لعمليات الحت والترسيب، إلا أنهم لم يعرفوا لماذا يقل سُمك رواسب قاع المحيط عن سُمك نظيراتها القارية، فافترضوا أن سُمك الرسوبيات مرتبط مع عمر القشرة المحيطية، وهذا ما أيده الملاحظات الميدانية؛ إذ يزداد سُمك الرواسب مع زيادة البعد عن ظهر المحيط، وبصورة متناظرة على جانبيه، كما في الشكل 10-5.

الشكل 10-5 كلما ابتعدنا عن ظهر المحيط ازداد كل من: عمر صخور قشرة المحيط، وسُمك الرسوبيات.

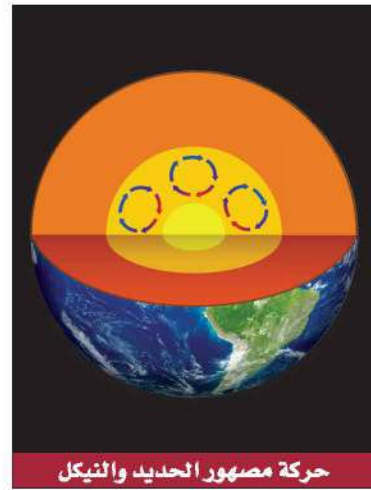




قطبية مغناطيسية مقلوبة



قطبية مغناطيسية عادية



حركة مصهور الحديد والنيكل

المغناطيسية Magnetism

كما تعلم فإن الأرض تقسم إلى ثلاثة أجزاء رئيسية هي: القشرة والستار واللب. ويتكون اللب من جزأين: لب خارجي يوجد في الحالة السائلة، ويتكون معظمه من الحديد والنيكل. ولب داخلي يوجد في الحالة الصلبة. واللب الخارجي هو المسؤول عن المغناطيسية الأرضية. وتولد حركة مصهور الحديد والنيكل في اللب الخارجي للأرض تياراً كهربائياً، ينشأ عنه مجال مغناطيسي للأرض، انظر الشكل 11-5. ويؤدي ذلك إلى تكون قطبين مغناطيسيين: شمالي وجنوبي. ويسمى اتجاه قطبي المجال المغناطيسي القطبية المغناطيسية العادية عندما يكون اتجاه القطبين في اتجاه قطبي الأرض المغناطيسيين نفسه، كما هو في الوقت الحاضر.

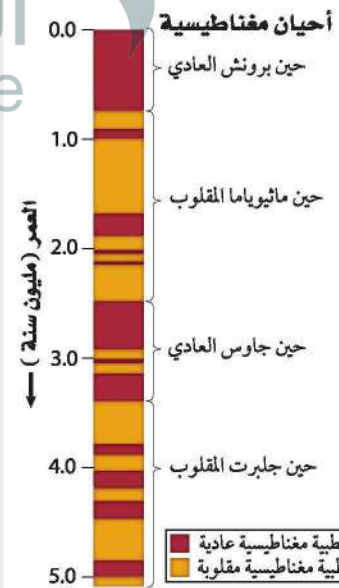
وعندما يتغير اتجاه حركة مصهور الحديد والنيكل في اللب الخارجي يحدث تغير في اتجاه سريان التيار الكهربائي، ومن ثم التغير في اتجاه الأقطاب المغناطيسية الأرضية. ويطلق على هذا قطبية مغناطيسية مقلوبة، انظر الشكل 11-5. ويسمى تغير قطبية المجال المغناطيسي للأرض من عادية إلى مقلوبة الانقلاب المغناطيسي **Magnetic reversal**. وقد حدث الانقلاب المغناطيسي عبر تاريخ الأرض مرات عديدة.

السلم الزمني للقطبية المغناطيسية Magnetic polarity time scale هي دراسة لتاريخ المجال المغناطيسي للأرض. فعندما تتبلور المعادن الحاملة للحديد في اللابة - مثل تبلور معدن الماجنتيت - فإنها تتصرف في أثناء تبلورها مثل البوصلات الصغيرة، فيتخذ مجاها المغناطيسي اتجاه المجال المغناطيسي للأرض. ومن خلال بيانات المغناطيسية القديمة التي جمعت من دراسات اللابة القارية استطاع العلماء بناء السلم الزمني المغناطيسي، كما في الشكل 12-5.

التماثل المغناطيسي Magnetic symmetry لأن معظم القشرة المحيطية تتكون من صخور بازلتية وتحتوي على كميات كبيرة من المعادن البركانية المنشأ الحاملة للحديد، فقد افترض العلماء أن صخور قاع المحيط لا بد أنها تحتفظ بسجلات للانقلابات المغناطيسية. لذا بدؤوا اختبار فرضيتهم باستعمال جهاز قياس المغناطيسية؛ لقياس اتجاهات المجالات المغناطيسية لصخور قاع المحيط، وحصلوا

الشكل 11-5 يتولد المجال المغناطيسي للأرض بفعل جريان مصهور الحديد والنيكل في اللب الخارجي. وتتغير قطبية المجال المغناطيسي للأرض من قطبية مغناطيسية عادية إلى قطبية مغناطيسية مقلوبة نتيجة تغير اتجاه جريان المصهور.

الشكل 12-5 تتعاقب فترات القطبية المغناطيسية العادية مع فترات القطبية المغناطيسية المقلوبة، وتسمى التغيرات الطويلة في المجال المغناطيسي الأرضي (أحياناً)، ومفرداً حين، والتغيرات القصيرة (أحداثاً).



الشكل 13-5 سجلات القطبية العادية والمقلوبة والمغناطيسي الأرضي في صخور قاع المحيط.
حدّد قطبية البازلت المتكون حديثاً في ظهر المحيط.

النمط متماثل أي متساو على جانبي ظهر محيط

قطبية مغناطيسية عادية
قطبية مغناطيسية مقلوبة

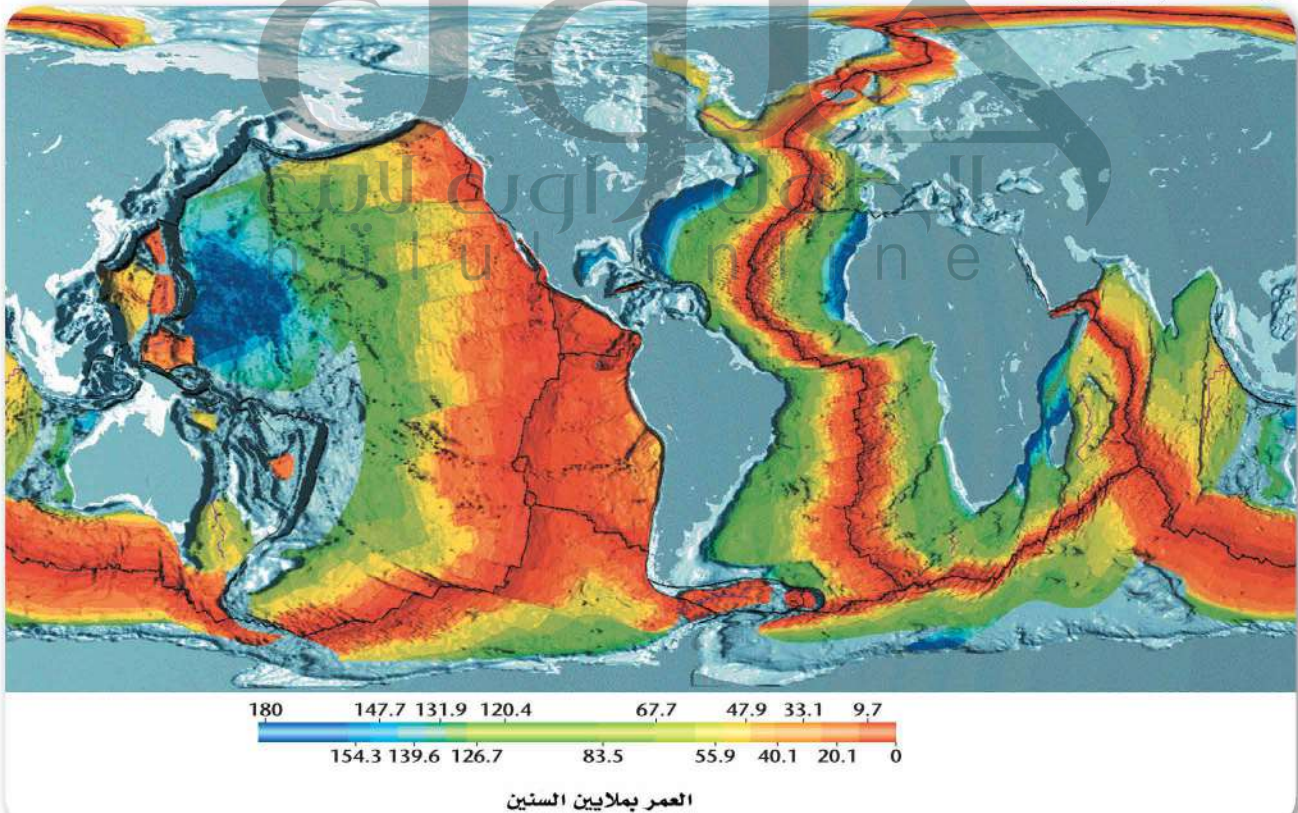


على نتائج مذهلة، منها وجود سلسلة من أشرطة مغناطيسية موازية لظهر المحيط ذات قطبية مغناطيسية عادية ومقلوبة بصورة متعاقبة ومتوازية، ولكنهم اندهشوا أكثر عندما اكتشفوا أن أعمار الأشرطة المغناطيسية وعرضها متماثلة على جانبي ظهر المحيط. قارن النمط المغناطيسي على جانبي ظهر المحيط في الشكل 13-5.

استطاع العلماء تحديد عمر قاع المحيط من خلال مقارنة الأنماط المغناطيسية المقلوبة في قاع المحيط بمثيلاتها المعروفة على اليابسة. وقد مكّنتهم هذه الطريقة من إعداد خرائط تساوي العمر **Isochron** لجميع قيعان المحيطات بسرعة، كما في الشكل 14-5. وخط تساوي العمر خط وهمي على الخريطة يصل بين نقاط لها العمر نفسه. لاحظ أيضًا من الشكل أن القشرة المحيطية الحديثة توجد بالقرب من ظهور المحيطات، في حين أن القشرة المحيطية القديمة تكون على طول الأخاديد البحرية.

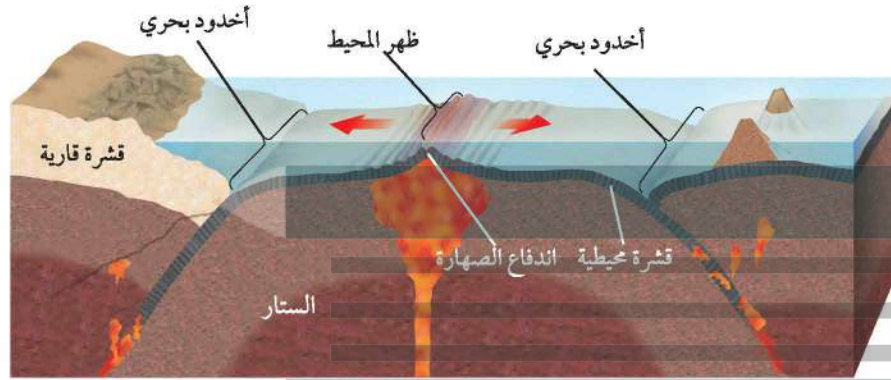
الشكل 14-5 تمثل كل حزمة لونية في خريطة تساوي أعمار قاع المحيط عمر قطاع من قشرة المحيط.

لاحظ. ما النمط الذي تلاحظه في خريطة تساوي العمر؟

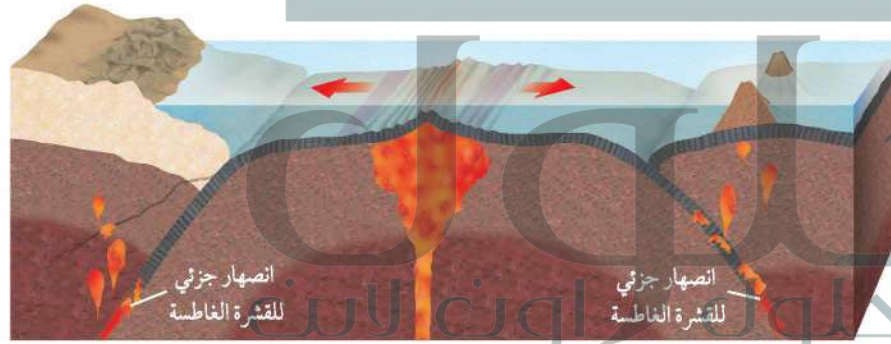


توسع قاع المحيط Seafloor Spreading

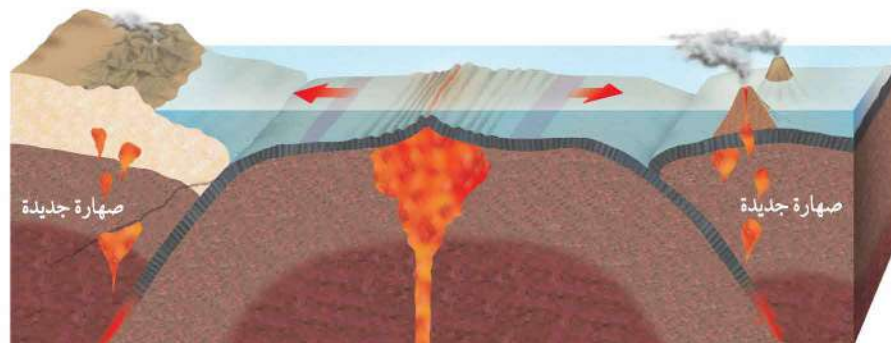
الشكل 15-5 بيانات تضاريس قاع المحيط ورسوبياته ومغناطيسيته القديمة قادت العلماء إلى اقتراح فرضية توسع قاع المحيط. وتوسع قاع المحيط عملية تتشكل من خلالها قشرة محيطية جديدة عند ظهور المحيطات، ثم تتحرك هذه القشرة ببطء بعيداً عن مركز التوسع حتى تُطرح ويعاد تدويرها عند الأخاديد البحرية.



1. تندفع الصهارة إلى قاع المحيط من خلال الفراغات التي تشكلت على امتداد سلسلة ظهر المحيط، وتتصلب مشكّلة قشرة محيطية جديدة.



2. يؤدي استمرار اندفاع الصهارة وتوسع قاع المحيط ببطء إلى تشكل قشرة محيطية جديدة وبشكل متساوٍ على جانبي ظهر المحيط.



3. تغطس الأطراف البعيدة للقشرة المحيطية التي تشكلت عند ظهر المحيط أسفل القشرة القارية في الستار، وبسبب وجود المياه داخل الصخور المكونة للصفائح تقل درجة الانصهار وتنصهر الصفائح الغاطسة مكونة صهارة جديدة، ثم ترتفع الصهارة وتتصلب داخل القشرة أو على السطح وتصبح جزءاً من القشرة القارية.

ج1: لأنه في أثناء عملية توسع قاع المحيط عند ظهر المحيط تضاف قشرة محيطية جديدة، كما يؤدي استمرار خروج الصهارة إلى حركة قاع المحيط (القشرة نحو أطراف الصفيحة المحيطية التي تحب -في النهاية- لتعود إلى الصهارة إلى الأسفل

- ج2: تعد صخور القشرة المحيطية حديثة من الناحية الجيولوجية إذ يتل عمرها في اتجاه ظهر المحيط بما يعني أن هناك آلية لنشأتها وإعادة تدويرها أما رسوبيات قاع المحيط فيزداد سمكها كلما ابتعدنا عن ظهر المحيط مما يدل على أن صخور ظهر المحيط ينبغي أن تكون أحدث عمرًا مقارنة بالصخور البعيدة عند الأطراف
- ج3: اتجاه المجال المغناطيسي لصخور القطبية المغناطيسية العادية هو نفسه اتجاه المجال الحالي للأرض أما اتجاه المجال المغناطيسي لصخور القطبية المغناطيسية المقلوبة فهو معاكس لاتجاه المجال المغناطيسي الحالي للأرض
- ج4: تتميز بأخاديد عميقة وظهور مرتفعة؛ وتعد ظهور المحيطات أطول سلسلة جبلية على سطح الأرض، وبالابتعاد عن ظهور المحيطات 6 تكون معظم قيعان المحيطات مغطاة برسوبيات وقمم من الجبال البحرية التي قد جرى تعريتها
- ج5: توضح خريطة خطوط تساوي العمر المغناطيسية التي سجلت في أثناء تبريد اللابة وجود أنماط متماثلة على جانبي ظهور المحيطات؛ تدل على أن جانبي ظهر المحيط قد تكونا في فترة زمنية واحدة
- ج6: لأن المحيط المادي يتوسع بمعدل أكبر من توسع المحيط الأطلسي

1. الفكرة الرئيسية: صف لماذا تشبه عملية توسع قاع المحيط حركة الحزام الناقل (المتحرك)؟
2. وضح كيف توفر كل من صخور قاع المحيط ورسوبياته أدلة على توسع قاع المحيط؟
3. مميزات مصطلحي: القطبية المغناطيسية العادية، والقطبية المغناطيسية المقلوبة.
4. صف تضاريس قاع المحيط.
- التفكير الناقد
5. وضح كيف تدعم خريطة تساوي العمر لقاع المحيط فرضية توسع قاع المحيط؟
6. حلل لماذا يكون عرض الأشرطة المغناطيسية في شرق المحيط الهادي أكبر من نظائرها في المحيط الأطلسي؟
- الرياضيات في الجيولوجيا
7. حلل الشكل 12-5، ما نسبة فترات القطبية المغناطيسية المقلوبة في آخر خمسة ملايين سنة 70%
- توفر الدراسات التي أجريت على قيعان المحيطات أدلة على أنها ليست مستوية، وأنها تتغير باستمرار.
- القشرة المحيطية صغيرة العمر من الناحية الجيولوجية.
- تتكون قشرة محيطية جديدة عند ظهر المحيط عندما ترتفع الصهارة وتتصلب.
- عندما تتشكل قشرة محيطية جديدة تتحرك القشرة المحيطية القديمة مبتعدة عن ظهر المحيط.

- تصف كيف تتشكل معالم الأرض بفعل حركة الصفائح الأرضية.
- تقارن بين حدود أنواع الصفائح الأرضية الثلاث والمعلم المرتبطة مع كل منها.
- توضح العمليات الجيولوجية المصاحبة لنطاقات الطرح.
- تلخص كيف ترتبط حركة الصفائح مع تيارات الحمل.
- تقارن بين عمليتي الدفع عند ظهر المحيط والسحب للصفائح.

مراجعة المفردات

ظهر المحيط: معلم رئيس يمتد على طول قاع المحيط ويرتفع عن القاع 3 km تقريباً، ويوجد في وسطه واد عميق.

المفردات الجديدة

- الصفائح الأرضية
- الحدود المتباعدة
- حفرة الانهدام
- الحدود المتقاربة
- الطرح
- الحدود التحويلية
- الدفع عند ظهر المحيط
- سحب الصفائح

حدود الصفائح وأسباب حركتها

Plate Boundaries and Causes For motion

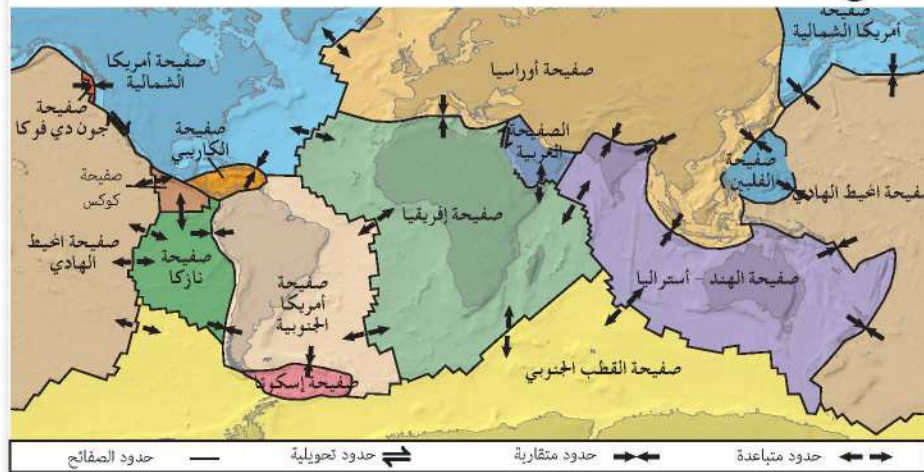
الفكرة الرئيسية تتشكل كل من البراكين والجبال والأخاديد البحرية وتحدث الزلازل بين حدود الصفائح، وتؤدي تيارات الحمل في الستار إلى حركة الصفائح الأرضية.

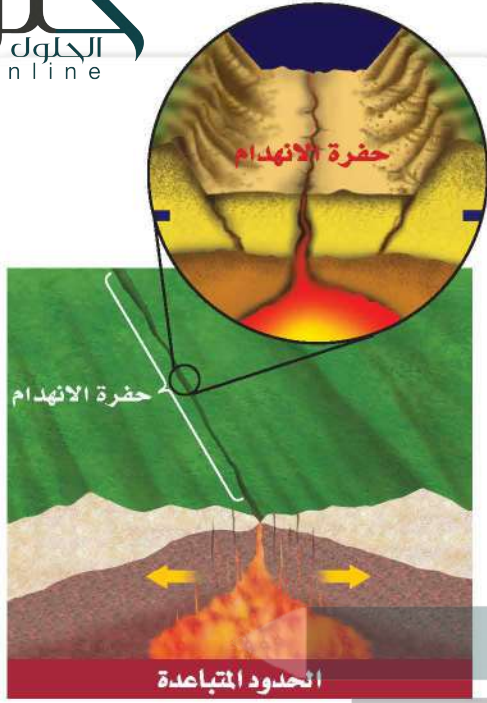
الرابط مع الحياة لو وضعت إناء من الحساء في مجمد الثلاجة وتركته فترة من الزمن، فستتجمد المواد الدهنية في الحساء مكونة طبقة صلبة، ولو أملت الإناء إلى الأمام وإلى الخلف، فستشني هذه الطبقة وتتشقق. هذا النموذج يشبه العلاقة بين الصفائح الأرضية المختلفة.

نظرية حركية الصفائح Theory of Plate Tectonics

يشير الدليل على توسع قاع المحيط إلى أن القشرة القارية والقشرة المحيطية تتحركان بوصفها صفائح ضخمة، يطلق عليها الجيولوجيون الصفائح الأرضية **Tectonic Plates** وهي قطع ضخمة من الغلاف الصخري الذي يتكون من القشرة الأرضية وأعلى الستار الصلب، وتتطابق حواف بعضها مع بعض لتغطي سطح الأرض. ويوضح الشكل 17-5 الصفائح الأرضية الرئيسية ومجموعة من الصفائح الصغيرة. وتتحرك الصفائح الأرضية حركة بطيئة جداً (بضعة سنتيمترات في السنة). وتصف نظرية الصفائح الأرضية حركة الصفائح ومعالم سطح الأرض الناجمة عن هذه الحركة؛ حيث تتحرك الصفائح الأرضية في اتجاهات ومعدلات مختلفة بعضها بالنسبة إلى بعض، وتتفاعل معاً عند حدودها، مما يؤدي إلى تكوين معالم جيولوجية مختلفة بحسب نوع حدود الصفائح، فتقترب الصفائح الأرضية بعضها من بعض عند الحدود المتقاربة، ويتباعد بعضها عن بعض عند الحدود المتباعدة، وتتحرك أفقياً متحاذاة عند الحدود التحويلية (الانزلاقية).

الشكل 17-5 تتكون الصفائح الأرضية من القشرة الأرضية وأعلى الستار الصلب، وتتفاعل هذه الصفائح معاً عند حدودها.





حدود متباعدة Divergent boundaries تسمى المناطق التي تبعد عن بعضها الصفائح بعضها عن بعض الحدود المتباعدة على امتداد قاع المحيط في boundaries. وتوجد معظم الحدود المتباعدة على امتداد قاع المحيط في حفرة الانهدام Rift valleys التي تقع في وسط ظهر المحيط. وهي منخفض طولي ضيق يتكون نتيجة تباعد الصفائح بعضها عن بعض، وتبدأ في هذا المكان عملية توسع قاع المحيط. وتشكل القشرة المحيطية الجديدة في معظم الحالات عند الحدود المتباعدة، فضلاً عن ارتباط هذه الحدود بالبراكين والزلازل والتدفق الحراري الأرضي المرتفع نسبياً.

✓ **ماذا قرأت؟ حدّد السبب الذي يجعل الزلازل والبراكين ترتبط مع ظهور المحيطات.**

تكون الزلازل والبراكين بسبب عملية توسع قاع المحيط؛ وبسبب حركة الصهارة في موقع قريب في قشرة المحيط

الشكل 18-5 الحدود المتباعدة هي الأماكن التي يحدث عندها انفصال الصفائح؛ ويعد ظهور المحيطات في قاع المحيط وحفر الانهدام في القارات - ومنها حفرة الانهدام العظيم في شرق إفريقيا - مثلاً على حدود التباعد.

الانهدام، ويوضح الشكل 18-5 حفرة الانهدام العظيم التي تتشكل حالياً في شرق إفريقيا، وقد تتطور في النهاية إلى حوض محيطي جديد.

تجربة

عمل نموذج لتشكل قاع المحيط

كيف أدت الحدود المتباعدة إلى تشكل جنوب المحيط الأطلسي؟ أدت حدود التباعد قبل 150 مليون سنة إلى انقسام قارة كانت موجودة سابقاً، ومع مرور الوقت أضيفت قشرة جديدة على طول الحدود المتباعدة، وزاد الاتساع بين إفريقيا وأمريكا الجنوبية.

خطوات العمل

1. اقرأ نموذج السلامة في المختبر.
2. استعمل خريطة العالم لإنشاء نموذجين ورقيين لقارتي أمريكا الجنوبية وإفريقيا.
3. ضع نموذجي القارتين في وسط ورقة كبيرة، وطابقهما معاً على طول سواحلها الأطلسية.

التحليل

1. قارن الخريطة التي رسمتها لتمثل المرحلة الأخيرة بخريطة العالم الحالية. هل عرض جنوب المحيط الأطلسي في الخريطين هو نفسه؟
2. تأمل إلام تعود الفروق بين العرض الفعلي لجنوب المحيط الأطلسي الحالي وعرضه وفق نموذجك؟

حدود متقاربة Convergent boundaries

تقرب الصفائح الصخرية عند الحدود المتقاربة **Convergent boundaries**. فعندما تصطدم صفيحتان معاً فإن الصفيحة الأكبر كثافة تغوص تحت الأقل كثافة. وتسمى هذه العملية الطرح **Subduction**. وتتكون القشرة المحيطية من معادن غنية بالحديد والماغنسيوم تكوّن الصخور البازلتية، وهي صخور داكنة ذات كثافة كبيرة نسبياً، انظر الشكل 19-5. أما القشرة القارية فيتكون معظمها من الصخور الجرانيتية، وهي صخور فاتحة اللون وقليلة الكثافة نسبياً وتتكون من معادن الفلسبار، انظر الشكل 19-5. ويؤثر اختلاف كثافة القشرة في كيفية حدوث عملية التقارب. وبناءً على ذلك، توجد ثلاثة أنواع من الحدود المتقاربة، انظر الجدول 1-5، ولاحظ أيضاً التضاريس المصاحبة لكل نوع منها.

تقارب محيطي-محيطي Oceanic-oceanic تحدث عملية الطرح في التقارب المحيطي-المحيطي، وعندما تقترب صفيحة محيطية من صفيحة محيطية أخرى، تغوص الصفيحة الأكبر كثافة؛ نتيجة للتبريد، تحت الصفيحة الأخرى، وتؤدي هذه العملية إلى تشكيل الأخدود البحري، وعندما تهبط الصفيحة الغاطسة في الستار يحدث لها انصهار جزئي؛ حيث يعمل الماء الموجود في الصفيحة على خفض درجة الانصهار، فتصهر الصفيحة انصهاراً جزئياً على أعماق قليلة، وتكون الصهارة الناتجة أقل كثافة من الصخور المحيطة بها، فترفع إلى أعلى في اتجاه السطح، وتثور مشكّلة قوساً من الجزر البركانية يوازي الأخاديد البحرية. ومن ذلك أخدود وأقواس جزر ماريانا في غرب المحيط الهادي، وأخدود وأقواس جزر ألوشيان في شمال المحيط الهادي.

تقارب محيطي-قاري Oceanic-continental تحدث عملية الطرح أيضاً في حالة تقارب محيطي-قاري. حيث تُطرح القشرة المحيطية؛ لأن كثافتها أكبر من الصفيحة القارية، كما ينجم عن هذا النوع من التقارب أخدود بحري وقوس بركاني يتشكل على شكل سلسلة من البراكين تمتد على طول حافة الصفيحة القارية. ومن المعالم المرتبطة مع هذا النوع من التقارب كل من سلسلة جبال الأنديز وأخدود بيرو-تشيلي اللذين يمتدان على جانبي ساحل أمريكا الجنوبية.

تقارب قاري-قاري Continental-continental يتشكل النوع الثالث من الحدود المتقاربة عندما تصطدم صفيحة قارية بصفيحة قارية أخرى، وتحدث بعد فترة طويلة من انتهاء مرحلة طرح صفيحة محيطية أسفل صفيحة قارية. تذكر أنه لا توجد في الغالب صفيحة قارية إلا ومعها جزء محيطي، لذا فإنه مع طرح هذا الجزء كاملاً في الستار، وبعد مرور فترة من الزمن، فإنه يجبر وراءه القارة الملتصقة به إلى نطاق الطرح، فتصطدم الصفيحتان القاريتان معاً بدلاً من غوصهما في الستار بسبب انخفاض كثافتهما، مما يؤدي إلى ارتفاع الصخور وطبها في منطقة التصادم، وتتشكل سلسلة جبلية ضخمة على طول منطقة التصادم، مثل جبال الهملايا.



البازلت



الجرانيت

الشكل 19-5 تتكون معظم القشرة المحيطية من البازلت. وتتكون معظم القشرة القارية من الجرانيت مع وجود طبقة رقيقة نسبياً من الصخور الرسوبية، وكلتاها أقل كثافة من البازلت.

المفردات

مفردة أكاديمية

التوازي

خطان يمتدان في اتجاه واحد ولا يلتقيان، والمسافة بينهما متساوية. ومن الأمثلة على ذلك خطا سكة حديد.

مثال على التضاريس



جزيرة شاجولوك في ألاسكا

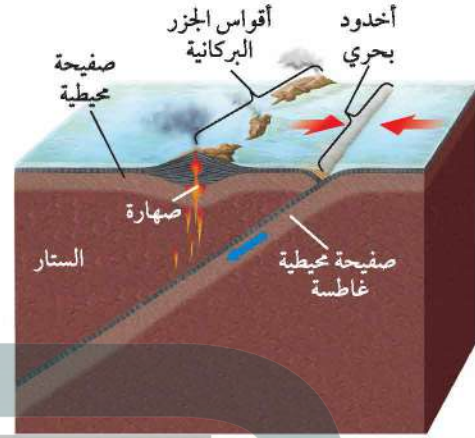
مثال على منطقة تأثرت بالحدود المتقاربة



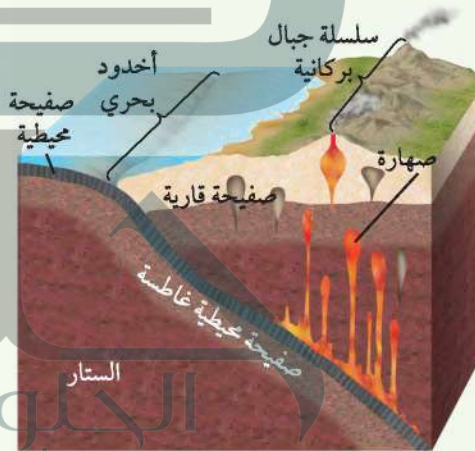
جزر ألوشيان

نوع الحد التقاربي

تقارب محيطي - محيطي




تقارب محيطي - قاري



بركان أزورنو في تشيلي



سلسلة جبال الأنديز

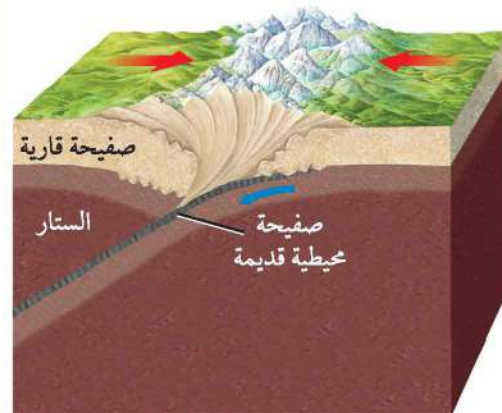


قمة أما - دبلان في نيبال



سلسلة جبال الهملايا

تقارب قاري - قاري



حدود تحويلية (جانبية) Transform boundaries تسمى المنطحة التحويلية

تتحرك عندها صفيحتان أفقيًا إحداهما بجانب الأخرى الحدود التحويلية Transform boundaries، كما في الشكل 20-5، وتمتاز بأنها تحدث على صدوع طويلة قد يمتد بعضها مئات الكيلومترات، كما تمتاز بحدوث زلازل ضحلة على طولها، وسميت هذه الحدود التحويلية؛ لأن اتجاه الحركة النسبي والسرعة يختلفان على طولها من جانب إلى آخر. تذكر أن القشرة الجديدة تتشكل عند الحدود المتباعدة وتستهلك عند الحدود المتقاربة، أما عند الحدود التحويلية فلا تتكون قشرة جديدة ولا تستهلك، بل تتشوه أو تنكسر على طولها إلى حد ما.

توجد معظم الحدود التحويلية في قاع المحيط؛ حيث تؤدي إلى إزاحة قطع ظهور المحيطات جانبيًا، كما ستلاحظ في مختبر حل المشكلات الآتي، ولكن في بعض الحالات تحدث الصدوع التحويلية على القارات.

ومن الأمثلة المعروفة صدع البحر الميت التحويلي، وصدع سان أندرياس في ولاية كاليفورنيا غرب الولايات المتحدة الأمريكية. ويحدث هذان الصدعان العديد من الزلازل الضحلة، فمعظم الزلازل التي تضرب كاليفورنيا في كل عام تُعزى إلى صدع سان أندرياس. كما يعد صدع البحر الميت التحويلي السبب الرئيس في نشوء الزلازل التي تحدث في الأردن وفلسطين.

المطويات

صمّم معلومات هذا الدرس في المطوية الخاصة بك.

مختبر حل المشكلات

تفسير الرسم




كيف تتحوّل حركة الصفيحة الأرضية على طول الحدود التحويلية؟ يوضح الشكل المجاور الجزء الشمالي من ظهر المحيط الأطلسي الذي يفصل بين قارتي أمريكا الشمالية وأوروبا. انسخ الشكل في دفترك، ثم نفذ الخطوات الآتية:

التحليل

1. ارسم أسهمًا على نسختك، مبينًا الحركة النسبية لقشرة المحيط في المواقع: أ ب ج د هـ و.
2. قارن اتجاه الحركة في المواقع الآتية: أ مع د، ب مع هـ ج مع و.

التفكير الناقد

3. ميّز أي المواقع الثلاثة يقع على صفيحة أمريكا الشمالية؟
4. استنتج الحد الفاصل بين أمريكا الشمالية وأوروبا الذي يقع في نطاق الكسر.
5. قوّم حدّد أقدم موقعين في القشرة المحيطية من النقاط الست.



الشكل 20-5 تتحرك الصفائح
أفقياً متحاذيتين على طول الحدود
التحويلية. الانثناء في السكة الحديدية
نتاج عن حركة الصدع التحويلي.

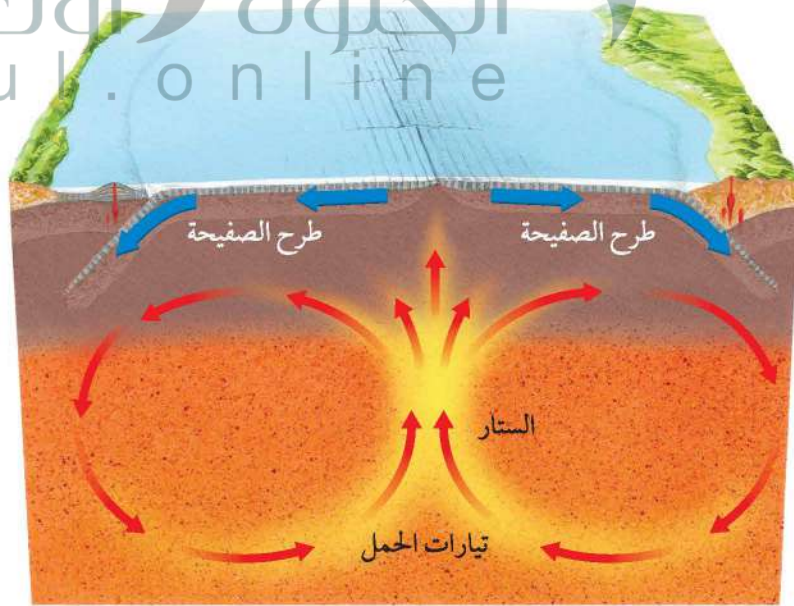
أسباب حركة الصفائح Causes of Plate Motions

وضع العلماء الكثير من الفرضيات لتفسير أسباب حركة الصفائح. ومن هذه الفرضيات:

تيارات الحمل Convection Currents يعتقد العلماء أن تيارات الحمل في الستار هي المسؤولة عن تحريك الصفائح. انظر الشكل 21-5، وتحدث تيارات الحمل على النحو الآتي: نتيجة لتسخين مناطق معينة في الستار تقل كثافة المواد المكونة لها فترتفع إلى أعلى وتحمل معها مواد من الستار باردة نسبياً وأكبر كثافة، وتأتي من أسفل الصفائح الأرضية، حيث تغوص ببطء إلى أسفل.

تؤدي تيارات الحمل المستمرة في الستار - من هبوط المادة الباردة وارتفاع المادة الساخنة - إلى نقل الطاقة الحرارية من المناطق الساخنة في باطن الأرض إلى المناطق الباردة في الأعلى.

الشكل 21-5 تؤدي تيارات الحمل التي تنشأ في الستار إلى حركة الغلاف الصخري (القشرة الأرضية وأعلى الستار الصلب)، وتنقل الطاقة الحرارية من باطن الأرض إلى سطحها الخارجي.



وعلى الرغم من أن تيارات الحمل في الستار تيارات ضخمة قد تمتد إلى آلاف الكيلومترات، إلا أنها تتدفق بمعدلات تصل إلى بضعة سنتيمترات في السنة، ويعتقد العلماء أن هذه التيارات تبدأ الحركة بسبب سحب الصفيحة الغاطسة إلى أسفل في الستار.

✓ **ماذا قرأت؟ ناقش** ما الذي يؤدي إلى تدفق تيارات الحمل: ارتفاع المواد الساخنة إلى أعلى أم هبوط المواد الباردة إلى أسفل؟

كيف ترتبط حركات الصفائح الأرضية المتقاربة والمتباعدة مع تيارات الحمل في الستار؟ تنتشر المواد الصاعدة إلى أعلى في تيارات الحمل لدى وصولها إلى الصفيحة الأرضية، لذا ينجم عنها قوى رأسية وجانبية، مما يؤدي إلى رفع الغلاف الصخري وتشققه عند الحدود المتباعدة، وترتفع المواد المصهورة من الستار لتملأ التشققات هناك، ثم تتصلب مكونة قشرة محيطية جديدة.

أما الجزء الهابط من تيار الحمل فيحدث عند الحدود المتقاربة؛ إذ تؤثر هذه التيارات بقوة سحب تسبب غوص الصفائح الأرضية إلى أسفل في الستار.

الدفع والسحب Push and Pull يفترض العلماء وجود عمليات عدة تحدد كيف تؤثر تيارات الحمل في حركة الصفائح الأرضية. لاحظ الشكل 22-5، وأن القشرة المحيطية القديمة نسبياً تبرد كلما ابتعدت عن الحدود المتباعدة في مناطق ظهر المحيط، وتصبح أكثر كثافة مقارنة بالقشرة المحيطية الحديثة الأقل كثافة، فتتهبط مكونة الجوانب المنحدرة لظهر المحيط، ونتيجة لزيادة وزن الجزء المرتفع والمنحدر

**ينتج الحمل الحراري
بفعل غوص المادة الأكثر
كثافة لتحل محل المادة
الأقل كثافة غير أن
الجيولوجيين غير متفقين
تماماً حول مصدر القوة
الدافعة في الستار**

الشكل 22-5 الدفع عند ظهر المحيط وسحب الصفيحة عمليتان تؤديان إلى تحريك الصفائح الأرضية.



ج1: عندما تصطدم الصفائح بعضها ببعض عند الحدود المتقاربة يتكون العديد من المعالم الجيولوجية، ومنها: الجبال، والبراكين وأقواس الجزر أما عندما ينفصل بعضها عن بعض عند الحدود المتباعدة فتتكون ظهور المحيطات وحفر الانهدام وقشرة محيطية جديدة

ج2: قبل حدوث عملية تصادم صفيحتين قاريتين عادة ما تكون إحدى الصفيحتين القاريتين مرتبطة مع الصفيحة المحيطية وبعد طرح الصفيحة المحيطية كلها تصطدم الصفيحة القارية المرتبطة معها بصفيحة قارية أخرى. ولأن كلا الصفيحتين لا تطرحان فإن الطيات والتجعدات تتشكل في منطقة التصادم وترتفع إلى أعلى مكونة سلاسل جبلية ضخمة

ج3: تقارب محيطي - محيطي: أخاديد بحرية وأقواس جزر بركانية، تقارب محيطي- قاري: أخاديد بحرية؛ سلسلة من الجبال البركانية على اليابسة، تقارب قاري- قاري: سلسلة من الجبال الضخمة شديدة الطي

ج4: عند مناطق ظهور المحيطات

ج5: تسبب تيارات الحمل حركة الصفيحة بعيداً عن ظهر المحيط ومع استمرار حركة هذه الصفيحة تلتقي بصفائح أخرى في الجانب الآخر فإما أن تطرح أسفل صفيحة قارية أو أسفل صفيحة محيطية أخرى، أو أن تطرح صفيحة محيطية أخرى أسفل منها

ج6: ينبغي أن يبين النموذج أن قوى الدفع تكون عند ظهر المحيط وقوى السحب عند نطاقات الطرح

ج7: يترك للطالب

ج8: تتشوه القشرة وتتكسر عندما تتحرك أفقيًا على طول الصدع

ج9: هذه الجملة غير صحيحة؛ فتيارات الحمل تحرك جميع الصفائح على سطح الأرض

ج10: لأن تيارات الحمل تحرك جميع الصفائح على سطح الأرض؛ فتسبب تغير المواقع النسبية للصفائح التي تتضمن قشرة قارية

ج11: يترك للطالب



البحر الأحمر

سُمي البحر الأحمر بهذا الاسم لوفرة الطحالب الخضراء المزرقة التي تطفو على سطحه، والتي تحتوي على صبغة حمراء يمكن مشاهدتها من ارتفاعات عالية. وقد بدأ تكون البحر الأحمر في حين الإيوسين بسبب تباعد الصفيحتين العربية والإفريقية، وهو محيط وليد يتميز بنشاط زلزالي عند حوافه القارية ونشاط بركاني عند المرتفعات المحيطية في وسطه، مما ينتج عنه إضافة قشرة محيطية جديدة تقوم بزيادة مسافة التباعد بين الصفيحتين بمقدار 2 cm سنوياً، كما يقدر طوله بحوالي 2000 km، وعرضه حوالي 300 km، وأعمق نقطة فيه حوالي 2000 m، وأعلى مد قد يصل تقريباً إلى 1m فقط، والمتوسط الإجمالي لدرجة حرارة مياه البحر الأحمر (22°C) والمتوسط الإجمالي لدرجة ملوحته 40 جزءاً في الألف.

مشروع «البحر الأحمر» هي «التخفيف من انبعاثات غاز أكسيد الكربون، والتلوث الضوئي والتفاريات حفاظاً على الموقع لجميع الأجيال، ليصبح مشروع «البحر الأحمر» ضمن أفضل 10 مدن خضراء حول العالم».*



الكتابة في الجيولوجيا

ابحث في النشاط الجيولوجي والتنوع الأحيائي الفريد للبحر الأحمر، واكتب مقالاً يصف تنوع المخلوقات الحية، وطبيعة البيئة البحرية للبحر الأحمر، وأصل نشأته.

ويتم إجراء العديد من الدراسات على البيئة البحرية للبحر الأحمر، منها ما يتعلق بدراسة التغيرات التي تنتج على طول الساحل، ودراسة كل من الخواص الفيزيائية ومنها: اتجاه حركة التيارات وسرعتها، وحرارة مياه البحر وملوحتها، وخواصه الكيميائية ومنها: تحديد العناصر المغذية ومستوى الأحماض؛ لمعرفة جودة المياه، وتحديد مستوى التلوث ومصادره وتأثيره في صحة الشعاب المرجانية، ومعالجة القضايا البيئية والتلوث البحري، وتأثير الحياة البشرية والمنشآت في ظل النمو الاقتصادي والتجاري والسياحي على المدن الساحلية.

ونظراً لموقع البحر الأحمر الاستراتيجي، ومقدراته الغنية فقد اختير ليكون أحد مشاريع رؤية (2030) وهو مشروع «البحر الأحمر» الذي يستهدف الجزر الواقعة بين مدينتي الوجه وأملج، ويتم هذا المشروع بسلامة النظام البيئي، وجماله في البحر الأحمر وعدم تأثره بأي شكل من الأشكال، وإحدى توصيات ميثاق



* كتيب مشروع «البحر الأحمر»

مختبر الجيولوجيا

نمذجة حدود الصفائح وتساوي أعمار الصخور

الحدود في الشكل 2 لم يتغير مع الزمن، وبناءً على ذلك ارسم خطوط تساوي العمر لكل من: 10 و 20 و 30 و 40 مليون سنة.

7. لوّن القشرة بناءً على عمرها على أن يكون اللون:

أحمر: 0-10 ملايين سنة

أصفر: 10-20 مليون سنة

أخضر: 20-30 مليون سنة

أزرق: 30-40 مليون سنة

التحليل والاستنتاج

1. حدّد حركة الصفيحة A (من جميع جوانبها) نسبة إلى حركة الصفيحة B.

2. طبق ما أسهل الطرائق لتحديد موقع الحدود التحويلية باستعمال خريطة تساوي العمر؟

3. فسّر انظر إلى الشكل 3، وحدّد مواقع حدود التباعد في المحيطين الأطلسي والهادي مستعيناً بنسق خطوط تساوي العمر لقاع المحيط.

4. ميّز أي المحيطات تتميز بوجود أعرض نطاقات تساوي العمر (المسافات بين خطوط تساوي العمر كبيرة)؟ وأي حدود الصفائح تتباعد بمعدل أكبر، بناءً على مقدار القشرة المحيطية المتكونة في فترة زمنية معطاة؟

5. استنتج لا يوجد في وسط المحيط الهادي مركز للتوسع كما في المحيط الأطلسي، فكيف يعد ذلك دليلاً على وجود حدود صفائح متقاربة؟

الكتابة في الجيولوجيا

اكتب رسالة. لم يستطع العالم ألفريد فاجنر إقناع الأوساط العلمية بفرضية الانجراف القاري؛ فقد توفي قبل فترة قصيرة من رسم خرائط لقيعان المحيطات. تخيل أنك تكتب رسالة في الماضي توضح فيها لفاجنر ما أظهرته خرائط قيعان المحيطات، وكيف أدى ذلك إلى اكتشاف نظرية الصفائح الأرضية.

خلفية علمية: طُوّرت خرائط تساوي العمر Isochrons لقاع المحيط للمرة الأولى بناءً على بيانات من صخور ورواسب المحيط نفسه. وهي عبارة عن خطوط وهمية افتراضية ترسم على الخريطة لتُظهر الأجزاء المتساوية في العمر على سطح الأرض. وقد اكتشف الجيولوجيون للمرة الأولى عند تحليل خرائط تساوي العمر لقاع المحيط أن القشرة الأرضية تتكون على امتداد ظهور المحيطات، وتُستهلك عند الأضاديد المحيطية. وقد أدى هذا الاكتشاف إلى وضع نظرية تُعرف باسم نظرية الصفائح الأرضية. ويواصل الجيولوجيون استعمال هذه الخرائط لدراسة حركة الصفائح الأرضية.

سؤال: هل يمكن تحديد عمر القشرة المحيطية، ومعرفة نوع حدود الصفائح؟

الأدوات

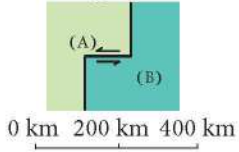
ورق
أقلام تلوين خشبية
مقص
مسطرة مترية
آلة حاسبة

إجراءات السلامة

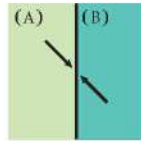
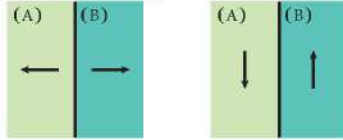
خطوات العمل

1. اقرأ نموذج السلامة في المختبر.
2. يُظهر الشكل 1 الحركة النسبية بين الصفيحة (A) والصفيحة (B). ارسم الصفائح على ورقة منفصلة وقصّها.
3. تدل الأسهم على حركة الصفيحة (B) بالنسبة للصفيحة (A)، حرّك الصفيحة (A) كما في الشكل 1.
4. استعمل الرموز الموجودة في المفتاح لتحديد أنواع حدود الصفائح والحركة النسبية على جانبي الحدود في كل جزء من أجزاء الشكل 1.
5. يُظهر الشكل 2 صفيحتين (A) و (B) مفصولتين إحداهما عن الأخرى بظهري محيط وصدع تحويلي. تتباعد الصفيحتان (A)، (B) إحداهما عن الأخرى بسرعة 2 cm/y. حوّل السرعة من cm/y إلى km/y.
6. ارسم الشكل 2 على ورقة منفصلة، وافترض أن شكل

الشكل 2



الشكل 1



مفتاح


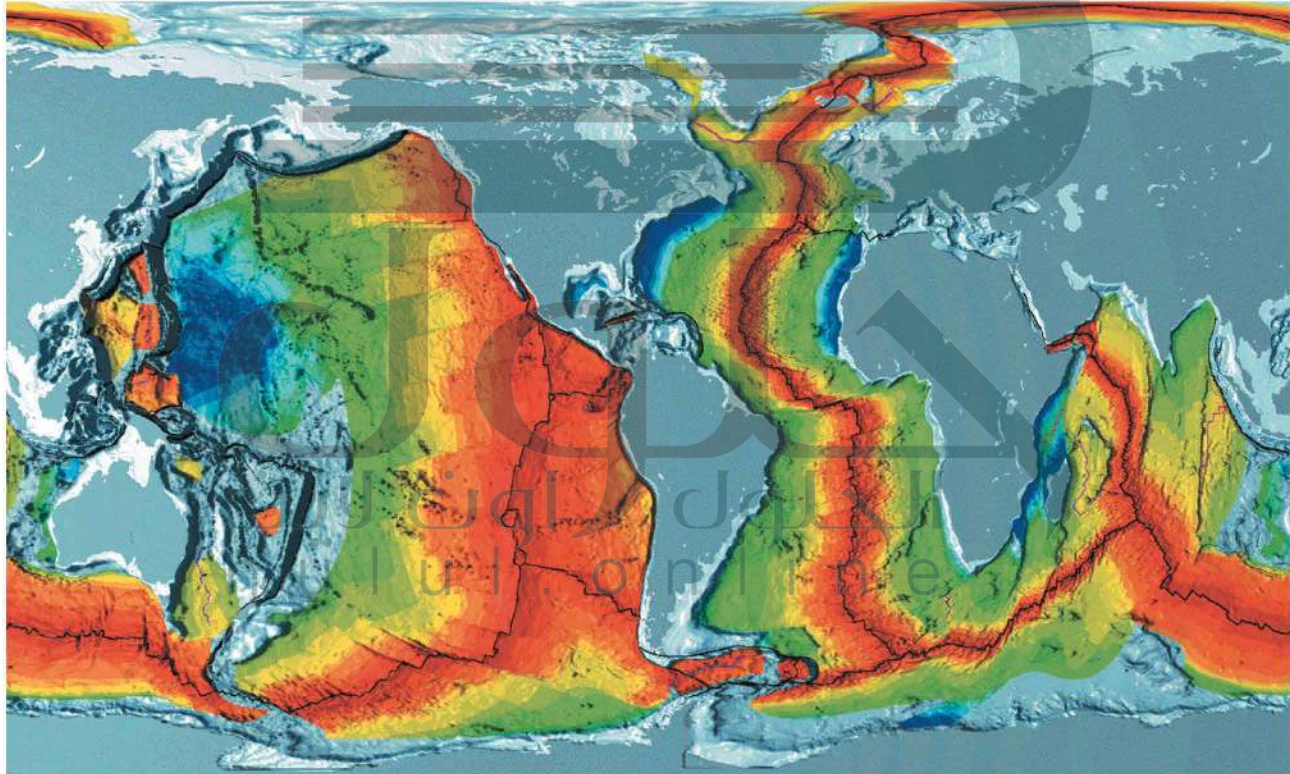
استعمل الرموز المجاورة لتحديد نوع حدود الصفائح التالية:

|| حدود متباعدة.

▲▲▲ حدود متقاربة (تشير المثلثات إلى الصفائح التي تبقى على السطح).

||▲ حدود جانبية: تشير الأسهم إلى الحركة النسبية على حدود الصفائح.

الشكل 3



العمر بملايين السنين

الفكرة العامة تحدث معظم الأنشطة الجيولوجية عند حدود الصفائح.

المفردات	المفاهيم الرئيسية
5-1 انجراف القارات	<p>الفكرة الرئيسية تدل جيولوجية القارات وأشكالها على أنها كانت متصلة معاً يوماً ما.</p> <ul style="list-style-type: none"> يوشي تطابق شواطئ القارات على جانبي المحيط الأطلسي بأن القارات كانت مجتمعة معاً يوماً ما. الانجراف القاري فكرة وضعت في بداية القرن الماضي، تنص على أن القارات تتحرك على قاع المحيط. جمع العالم فاجنر أدلة من الصخور والأحافير والمناخات القديمة لدعم نظريته. لم تقبل فكرة الانجراف القاري؛ لأنها لم تقدم تفسيراً حول كيفية حركة القارات وما يسبب حركتها.
5-2 توسع قاع المحيط	<p>الفكرة الرئيسية تتكون القشرة المحيطية عند ظهور المحيطات، وتصبح جزءاً من القاع الجديد للمحيط.</p> <ul style="list-style-type: none"> توفر الدراسات التي أجريت لقيعان المحيطات أدلة على أنها ليست مستوية وأنها تتغير باستمرار. القشرة المحيطية صغيرة العمر من الناحية الجيولوجية. تتكون قشرة محيطية جديدة عند ظهر المحيط عندما ترتفع الصهارة وتتصلب. عندما تتشكل قشرة محيطية جديدة تتحرك القشرة المحيطية القديمة مبتعدة عن ظهر المحيط.
5-3 حدود الصفائح وأسباب حركتها	<p>الفكرة الرئيسية تتشكل كل من البراكين والجبال والأخاديد البحرية عند حدود الصفائح، وتسبب تيارات الحمل المتكونة في الستار حركة الصفائح الأرضية.</p> <ul style="list-style-type: none"> تقسم القشرة الأرضية والجزء العلوي الصلب من الستار العلوي إلى قطع صخرية ضخمة تسمى الصفائح الأرضية. تتحرك الصفائح الأرضية بسرعات واتجاهات مختلفة على سطح الأرض. تبتعد الصفائح الأرضية بعضها عن بعض عند الحدود المتباعدة، ويقترّب بعضها من بعض عند الحدود المتقاربة، ويتحرك بعضها بمحاذاة بعض عند الحدود التحويلية (الجانبية). يتميز كل نوع من حدود الصفائح بمعالم جيولوجية محددة. الحمل الحراري هو نقل الطاقة عبر حركة المواد الساخنة. ينتج عن تيارات الحمل نقل الطاقة الحرارية في الستار من باطن الأرض الساخن إلى سطحها الخارجي البارد. تنتج حركة الصفائح الأرضية بفعل عمليتي دفع ظهر المحيط وسحب الصفائح.

- ج10: الصفيحة الأرضية قطعة ضخمة تتكون من قشرة الأرض وأعلى الستار تكون بالحالة التي تكونت فيها الصفائح معا عند حوافها
- ج11: هو أحد الآليات المحتملة لحركة الصفائح؛ وينتج عن تشكل قشرة محيطية جديدة تكون ساخنة في البداية؛ ومرتفعة بسبب عملية الرفع هناك؛ ثم تزداد كثافتها عندما تبتعد عن ظهر المحيط؛ مما يؤدي إلى غطسها إلى أسفل في الستار
- ج12: هو أحد الآليات المحتملة لحركة الصفائح؛ ويعمل على سحب طرف الصفيحة المحيطية إلى أسفل في الستار؛ مما يؤدي إلى سحب باقي الصفيحة المحيطية المرتبطة معها التي ما زالت فوقها
- ج13: كلاهما ينتج عن حركة الصفائح ويوجدان في مناطق ظهور المحيطات

تثبيت المفاهيم الرئيسية

ج14: نطاق الطرح أحد أنواع الحدود المتقاربة

ج15: تعد الأدلة على انحراف القارات أدلة تفسر حركة الصفائح الأرضية

ج16: تعد المغناطيسية المقلوبة أحد الأدلة على توسع قاع المحيط

ضع المصطلح الصحيح بدلاً من الكلمات التي تحتها خط:

1. الصفائح الأرضية اسم يُطلق على القارة الأم (الأصل) التي كانت موجودة قبل 200 مليون سنة.
2. التشقق القاري هو الفكرة القائلة إن القارات الحالية المفصولة بالمحيطات كانت متصلة معاً يوماً ما.
3. تُسمى عملية غطس الصفائح الأرضية في الستار التباعد.
4. تُسمى الحدود الناجمة عن تقارب صفيحتين إحداهما من الأخرى الحدود التحويلية.

بانجيا

انجراف القارات

طرح

من الأخرى الحدود التحويلية. حد تقارب

5. يتشكل الأخدود داخل القارات بفعل الحدود المتباعدة.

حفرة انهدام

اختر المفردات المناسبة للتعبير عن الجمل الآتية:

6. خط على الخريطة يصل بين الأماكن في القشرة الأرضية التي تكونت في الوقت نفسه.
7. العملية التي تتشكل فيها قشرة محيطية جديدة من خلال اندفاع الصهارة عند ظهور المحيطات.
8. دراسة تاريخ المجال المغناطيسي الأرضي المحفوظ في الصخور.

خط تساوي العمر

توسع قاع المحيط

المغناطيسية القديمة

9. جهاز يُستخدم لقياس التغيرات في المجال المغناطيسي للأرض.

جهاز قياس المغناطيسية

عرّف المصطلحات الآتية بجمل تامة:

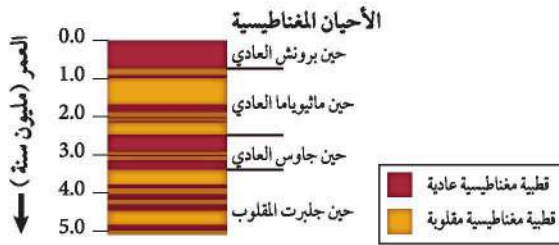
10. الصفيحة الأرضية.
11. الدفع عند ظهر المحيط.
12. سحب الصفيحة.
- حدّد ما هو مشترك بين كل مصطلحين في الجمل الآتية:
13. الحدود المتباعدة، الحدود التحويلية.
14. نطاق الطرح، الحدود المتقاربة.
15. الانجراف القاري، الصفائح الأرضية.

17. ما نوع حدود الصفائح في الشكل أعلاه؟

- a. ظهر المحيط.
 - b. حدود قارية-قارية.
 - c. حدود تحويلية.
 - d. حدود قارية-محيطية.
18. ما المعلم الجيولوجي الذي يتكون على طول هذا النوع من حدود الصفائح؟

- a. نطاقات الطرح.
- b. أخاديد بحرية.
- c. أقواس الجزر.
- d. جبال مطوية.

استعمل الشكل الآتي في الإجابة عن السؤالين 19 و20.



19. ما المدة الزمنية التي استغرقتها حين جاوس، تقريباً؟

- a. 5 ملايين سنة.
- b. 3 ملايين سنة.
- c. مليون سنة.
- d. 100,000 سنة.

ج27: عند الحافة الشرقية لأمريكا الجنوبية
ج28: تكون كلتا القوتين بفعل الجاذبية؛ ووزن
المواد المكونة للصفحة بقوة الدفع عند ظهر
المحيط تكونت بفعل وزن السطح الذي تم رفعه
إلى أعلى عند ظهر المحيط أما قوة سحب
الصفحة فتكونت بفعل وزن الصفحة المطروحة
الأكثر كثافة؛ التي تؤدي إلى سحب القشرة
المحيطية إلى نطاق الطرح
ج29: قياسات تحديد الموقع العالمي دقيقة
ويمكن إجراؤها بصورة مستمرة في أي مكان
ج30: لا بل قد يزداد حجم الصفحة الأرضية عندما
يكون معدل التباعد أكبر من معدل التقارب أو
يقل عندما يكون معدل التقارب أكبر من معدل
التباعد كما قد تختفي الصفحة تماماً

20. ما الحين الذي حدث في أثناءه معظم التذبذبات في
القطبية المغناطيسية العادية والمقلوبة؟

a. جاوس. c. جلبرت.

b. ماثيواما. d. برونش.

21. ما عمر القشرة المحيطية عموماً؟

a. لها عمر القشرة القارية نفسه.

b. أحدث من القشرة القارية.

c. أقدم من القشرة القارية.

d. لم يحدد العلم عمرها.

31. انقد الجملة الآتية: "هناك نوعان من الصفائح الأرضية

هما: الصفائح المحيطية والصفائح القارية".

يترك للطالب

خريطة مفاهيمية

32. استعمل المصطلحات الآتية لبناء خريطة مفاهيم:

مقاربة، حفر انهدام، متباعدة، تحويلية، أقواس

الجزر، زلازل ضحلة، سلاسل جبلية، حدود

الصفائح، أخاديد بحرية.

يترك للطالب

سؤال تحفيز

33. تنبأ أرسم المواقع النسبية للقارات في الكرة الأرضية

بعد 60 مليون سنة، مع افتراض أن الصفائح

الأرضية مستمرة في الحركة، وفي الاتجاهات نفسها،

كما في الشكل (2-5)

يترك للطالب

ج22: الملاحظات التي أدت إلى وضع فرضية الانحراف

القاري: التطابق في شكل سواحل القارات؛ وتشابه

الأحافير بين قارات منفصلة وبعيدة عن بعض؛ ووجود

رسوبيات جليدية في مناطق بعيدة عن القطبين؛

بالإضافة إلى وجود العديد من المعالم الجيولوجية التي

تظهر التشابه؛ لو أعيد تجميع القارات بعضها مع بعض

ج23: تجلب الرسوبيات إلى المحيطات ببطء؛ ومن ثم

ترسب في قاع المحيط؛ ويزداد سمك الرسوبيات بازدياد

عمر قاع المحيط ولأن عمر قاع المحيط يزداد كلما

ابتعدنا عن ظهر المحيط لذا يزداد سمك الرسوبيات

ج24: يتولد المجال المغناطيسي الأرضي بفعل حركة

مصهور الحديد والنيكل في لب الأرض بينما تتكون

المعادن مغناطيسي طيبسية في القشرة الأرضية ولد

تتمغنط ويتخذ مجاله المغناطيسي اتجاه المجال

المغناطيسي الأرضي وشدته؛ وتحتفظ بالمغناطيسية

السائدة وقت تشكلها

ج25: الصخور المكونة للصفائح القارية كثافتها أقل من كثافة

الستار وقابليتها للطفو كبيرة فلا تغطس لتعود إلى الستار بل

تبقى على السطح وتتراكم لتشكل حزاما جبليا بينما الصخور

المكونة للصفائح المحيطية أكثر كثافة فتغطس في الستار

وتكون أخاديد عند حدودها

ج26: افتقرت فرضية العالم فاجنر فيما يتعلق بتوسع قاع

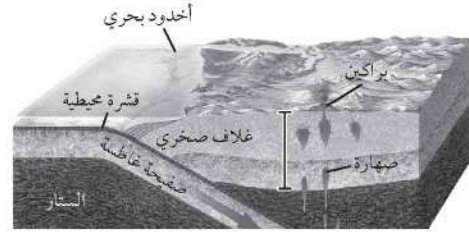
المحيط إلى توضيح آلية حركة القارات؛ إذ توضح الفرضية أن

القارات لم تتحرك فوق قاع المحيط؛ بل قد تشكل القاع

وتوسعه إلى إبعاد القارات بعضها عن بعض

اختيار من متعدد


استعمل الشكل الآتي للإجابة عن السؤال 1.



1. ما العملية التي يمثلها الشكل أعلاه؟

- a. تباعد قاري-قاري. c. تباعد محيطي-قاري.
b. طرح قاري-قاري. d. طرح محيطي-قاري.

استعمل الشكل أدناه للإجابة عن السؤالين 2 و 3.



2. ما نوع حد الصفیحة الذي يظهر في الشكل أعلاه:

- a. ظهر محيط. c. حد قاري - قاري.
b. حد تحويلي. d. حد محيطي - قاري.
3. ما الخاصية التي تتشكل على امتداد هذا النوع من الحدود؟

- a. نطق طرح. c. أخاديد محيطية.
b. أقواس الجزر. d. جبال تحتوي على طيات.

4. ما الدليل على انجراف القارات الذي لم يستعمله

- فاجنر في دعم فرضيته؟
a. طبقات الفحم في أمريكا.
b. أحافير الحيوانات التي تعيش على اليابسة.
c. رسوبيات جليدية.
d. بيانات المغناطيسية القديمة.

5. ما اسم العملية التي تُطلق على إنتاج قاع محيط جديد باستمرار؟

- a. انجراف القارات. c. البقع الساخنة.
b. توسع قاع المحيط. d. الطرح.

6. يؤدي وزن الصفیحة الغاطسة إلى جَرّ طرفها إلى نطاق الطرح. ما اسم هذه العملية؟

- a. السحب عند ظهر المحيط.
b. الدفع عند ظهر المحيط.

c. سحب الصفیحة.

d. دفع الصفیحة.

7. من المعالم التي لا توجد عند الحدود المتقاربة:

- a. ظهر المحيط. c. سلسلة جبال مطوية.
b. أخدود بحري عميق. d. قوس جزر بركاني.

8. تؤدي عملية طرح صفیحة محيطية تحت صفیحة أخرى إلى تكوّن:

- a. أخدود بحري عميق. c. حفرة انهدام.
b. انقلاب مغناطيسي. d. قشرة محيطية جديدة.

أسئلة الإجابات القصيرة

9. كيف تسبب تيارات الحمل حركة الصفائح؟

ج9: تتحرك تيارات الحمل على النحو الآتي: نتيجة لتسخين مناطق معينة في الستار تقل كثافة المواد المكونة لها فترتفع إلى أعلى وتحل محلها مواد من الستار باردة نسبيا وأكبر كثافة والتي تأتي من أسفل الصفائح الأرضية حيث تغوص ببطء إلى أسفل

ج10: تشير الأسهم في النموذج إلى حركة تيارات الحمل الدائرية في الستار التي يعتقد أنها

المسؤولة عن حركة طبقات القشرة الأرضية

ج11: لا بل تحدث تيارات الحمل في الجزء من

الستار ذي اللزوجة العالية الذي يقع أسفل الجزء الصلب حيث تتحرك الصهارة ببطء يشبه حركة


الأسفلت الساخن

- ج12: تمتد تيارات الحمل عبر آلاف الكيلومترات؛ وتتحرك بضعة سنتي تيار في السنة؛ لذا لا يكون لها آثار ملحوظة على سطح الأرض في المد القصير
- ج13: قبل 200 مليون سنة تقريبا كانت القارة الضخمة التي سماها العالم فاجر بانجيا كتلة أرضية ضخمة مكونة من قارات الأرض جميعها وفي ذلك الوقت كانت قارة أمريكا الشمالية الحالية قريبة من خط الاستواء؛ ازدهرت المستنقعات في مناخ استوائي بدليل وجود الفحم الحجري
- ما جنوب إفريقيا وجنوب شرق أمريكا الجنوبية وأجزاء كبيرة من الهند وأجزاء من أستراليا ومعظم القارة المتجمدة الجنوبية كانت قريبة من القطب الجنوبي؛ يؤكد على ذلك وجود الرسوبيات الجليدية المكتشفة في تلك القارات وعندما انجرفت القارات تغيرت مواقعها مع الزمن إلى أن وصلت إلى الوضع الحالي وتغيرت مناخاتها
- ج14: يترك للطالب
- ج15: تندفع المواد المكونة لقاع المحيط من باطن الأرض (الصهارة)؛ بحيث تتدفق على جانبي الظهر مسببة توسع قاع المحيط ومع استمرار خروج هذه المواد ووصولها إلى السطح يتم دفع المواد الأقدم بعيدا عن منطقة الظهر
- ج16: لا يعرف إلا القليل عن قيعان المحيطات؛ وتحسين هذه المعرفة يعود بالنفع على كل من الإنسان والحيوانات
- ج17: يترك للطالب

معلومات أكثر تفصيلا عن % 70 من سطح الارض.

16. ماذا تستنتج من النص أعلاه؟

- a. من الضروري تزويد السفن والغواصات بأجهزة السبر الصوتي حتى تسير بين الجبال البحرية.
- b. رسم خرائط قاع المحيط مكلف وغير مهم بشكل كافٍ للإنسان.
- c. لا يعرف إلا القليل عن قيعان المحيطات، وتحسين هذه المعرفة يعود بالنفع على كل من الإنسان والحيوانات.
- d. العديد من الحيوانات البحرية التي تعيش في المحيطات ستأثر إذا استمر العلماء في رسم خرائط لقاع المحيط.
17. كيف يساعد معرفة معالم قاع المحيط علماء المحيطات على تتبع التسونامي؟



العمر (بملايين السنين)

14. يستعمل العلماء جهاز قياس المغناطيسية وأجهزة أخرى للحصول على مخطط يمثل شدة المجال المغناطيسي لجزء من قاع المحيط. ما المعلومات التي يمكن أن نحصل عليها عند دراسة المخطط؟
15. ماذا يمكن أن يستنتج العلماء حول كيفية تكوّن قاع المحيط بالقرب من ظهر المحيط الأطلسي؟

القراءة والاستيعاب

خرائط قاع المحيط

في عام 2005م تحطمت غواصة نووية نتيجة اصطدامها بأحد الجبال الموجودة تحت الماء في جنوب المحيط الهادي. وقد وضح هذا الحادث أن معلومات الإنسان عن القمر



ثوران بركاني



نهر من اللابة



تدمير بفعل اللابة

الفكرة العامة تتشكل البراكين من الصهارة القادمة من باطن الأرض.

1-6 ما البركان؟

الفكرة الرئيسة ترتبط مواقع البراكين عمومًا مع حركة الصفائح.

2-6 الثورانات البركانية

الفكرة الرئيسة تحدّد مكونات الصهارة خصائص الثوران البركاني.

حقائق جيولوجية

- يمكن رصف شارع ثلاث مرات حول الأرض من اللابة المتدفقة من أحد البراكين الكبيرة.
- يوجد حاليًا 500 بركان نشط على الأرض.
- كلمة صهارة (ماجما) magma مأخوذة من كلمة إغريقية تعني عجينة.
- العديد من معالم الأرض التضاريسية تنتج بفعل البراكين.

تصنيف البراكين

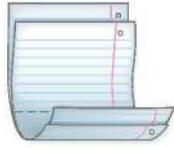
اعمل المطوية الآتية لمساعدتك على تصنيف البراكين.

المطويات

منظمات الأفكار



الخطوة 1 ضع ورقتين من دفترك إحداهما فوق الأخرى، بحيث تبعد إحداهما عن الأخرى 2 cm تقريباً، كما في الشكل المجاور.



الخطوة 2 اثن الطرف السفلي للورقتين لتكوين أربعة أسنة متساوية. ثم اضغط بقوة على الجزء المطوي لتثبيت الأسنة في أماكنها.



الخطوة 3 ثبت أوراق المطوية معاً بالدبابيس، وعنون الأسنة على النحو الآتي: أنواع البراكين (اللسان العلوي): البركان الدرعي، البركان المركب، البركان المخروطي.

استخدم هذه المطوية في أثناء دراسة القسم 1-6، واكتب خصائص كل نوع من البراكين أسفل كل لسان.

تجربة استهلاكية

ما الذي يجعل الصهارة ترتفع إلى أعلى؟

الصهارة صخور مصهورة توجد أسفل سطح الأرض. وسوف تمثل في هذا النشاط حركة الصهارة في باطن الأرض بعمل نموذج "مصباح من اللابة".



الخطوات

1. اقرأ نموذج السلامة في المختبر.
2. اسكب 300 mL من الماء في كأس سعتها 600 mL.
3. اسكب 80 mL من زيت الطعام في الكأس.
4. عدّ ببطء من 1 إلى 5، وفي أثناء العد انثر ملح الطعام فوق الزيت.
5. أضف المزيد من الملح لبقاء الحركة مستمرة.

التحليل

1. حدّد أي المكوّنين في نموذجك يمثل الصهارة؟
2. صف ماذا حدث للزيت قبل إضافة الملح وبعده؟
3. كوّن فرضية ما الذي يسبب صعود الصهارة إلى أعلى؟

يترك للطالب

زيت الطعام يمثل الصهارة

يكون زيت الطعام طافياً فوق الماء قبل إضافة ملح الطعام إليه ويغوص في الماء عند إضافة الملح إليه

ما البركان؟ What is a Volcano?

الأهداف

- تصف كيف تؤثر حركة الصفائح في تشكّل البراكين.
- تحدد المناطق الرئيسة للنشاط البركاني.
- تتعرف أجزاء البركان.
- تميز بين التضاريس البركانية.
- تقارن بين أنواع البراكين.

الفكرة الرئيسية تربط مواقع البراكين عمومًا مع حركة الصفائح.

الربط مع الحياة في فصل الشتاء، يرش الملح على الشوارع المغطاة بالثلوج؛ إذ يعمل الملح على خفض درجة انصهار الثلج. كما يقلل الماء من درجة انصهار الصخور؛ فالصخور ذوات درجات الانصهار المرتفعة جدًا في باطن الأرض تنصهر أسهل إذا اختلطت بالمياه.

مناطق النشاط البركاني Zone of Volcanism

الصهارة مخلوط من الصخور المصهورة والبلورات المعدنية والغازات، وهي مصدر البراكين؛ إذ تصعد إلى أعلى نحو سطح الأرض بعد تشكّلها؛ بسبب انخفاض كثافتها مقارنة بصخور الستار والقشرة الأرضية المحيطة بها، وعندما تخرج إلى سطح الأرض تُسمى اللابة. ويصف النشاط البركاني **Volcanism** جميع العمليات المصاحبة لخروج الصهارة والسوائل الساخنة والغازات من سطح الأرض.

يشور 60 بركانًا تقريبًا في مواقع مختلفة على الأرض في السنة الواحدة. ويوضح الشكل 1-6 خريطة توزيع البراكين النشطة في العالم. لاحظ من الشكل أن البراكين لا تتوزع على سطح الأرض بصورة عشوائية، بل تتجمع في مناطق معينة وهي حدود الصفائح؛ حيث وجد أن معظم البراكين تتشكل عند الحدود المتقاربة والمتباعدة، ولا يوجد سوى 5% منها تثور بعيدًا عن حدود الصفائح.

مراجعة المفردات

تقارب: الحركة نحو الجسم، أو اقتراب جسم من جسم آخر.

المفردات الجديدة

- النشاط البركاني
- وسائد اللابة
- البقعة الساخنة
- طفوح البازلت
- الشقوق
- قناة البركان
- فوهة البركان
- الفوهة البركانية المنهارة
- البركان الدرعي
- البركان المخروطي
- البركان المركب

الشكل 1-6 تقع معظم البراكين النشطة على الأرض على امتداد حدود الصفائح.





الشكل 2-6 في نطاق طرح قاري - محيطي تنزلق الصفيحة المحيطية الأكبر كثافة في الستار أسفل الصفيحة القارية، فتصهر أجزاء من هذه الصفيحة، مما يؤدي إلى صعود الصهارة إلى أعلى مشكّلة البراكين. حدد البركان المصاحب لحدود التقارب القاري- المحيطي في الشكل 1-6.

النشاط البركاني عند الحدود المتقاربة Convergent volcanism

تلتقي الصفائح الأرضية معاً عند الحدود المتقاربة، فتشكّل نطاقات طرح؛ وذلك عندما تغطس صفيحة محيطية أسفل الصفيحة الأخرى في الستار، كما في الشكل 2-6. ويلاحظ من الشكل أن الصهارة تتشكل بفعل الانصهار الجزئي للصفيحة الغاطسة، ثم تصعد نحو سطح الأرض؛ لأنها أقل كثافة من المواد المحيطة بها، فتختلط في أثناء ذلك بصخور ومعادن ورسوبيات الصفيحة العلوية (التي تعلقو الصفيحة الغاطسة) مكونة البراكين. ومعظم البراكين على اليابسة ناجمة عن تقارب صفيحة قارية مع أخرى محيطية. وتتمتاز هذه البراكين بثورانات شديدة الانفجار. **✓ ماذا قرأت؟ حدد المقصود بالنشاط البركاني عند الحدود المتقاربة.**

هي جميع الأنشطة البركانية التي تحدث عندما قرب الصفائح بعضها من بعض

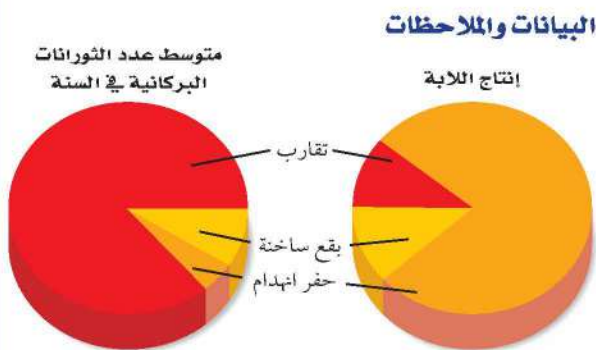
يحيط بسواحل المحيط الهادي، ويعرف أحياناً بحوضه السار، وتصبو حدود هذا الحزام تماماً على حدود صفيحة المحيط الهادي، ويمتد على طول السواحل الغربية للأمريكتين الشمالية والجنوبية إلى جزر الألوشيان، ومنها إلى سواحل شرق قارة آسيا. ومن أمثلة البراكين التابعة لهذا الحزام براكين سلاسل الجبال في غرب الولايات المتحدة الأمريكية، وبران بيناتوبو في الفلبين. أما الحزام الآخر فيسمى حزام حوض البحر المتوسط. وأشهر البراكين التابعة له بركانا: إتنا، وفيزوف في إيطاليا، وتنطبق حدود هذا الحزام، عموماً على الحدود التي تفصل بين صفائح أوراسيا وإفريقيا والصفيحة العربية. انظر الشكل 1-6.

مختبر تحليل البيانات

* بُني هذا النشاط على بيانات حقيقية

تفسير الرسم البياني

2. فكّر ما أهمية أن يدرس العلماء هذه العلاقات؟
3. قوّم ما الخطوة اللاحقة لدراسات العلماء؟



معدلات تدفقات الصهارة والمقدوفات البركانية

Source: Journal of Volcanology and Geothermal Research 20: 177-211

كيف ترتبط أنواع النشاط البركاني بإنتاج اللابة؟ يصنّف الباحثون أنواع الثورانات البركانية، ويدرسون كمية اللابة التي تنبعث من كل نوع من أنواع البراكين في السنة الواحدة. ويوضح الرسم البياني الدائري متوسط عدد الثورانات البركانية وإنتاج اللابة السنوي لكل نوع اعتماداً على بيانات أخذت من 5337 ثورناً بركانياً.

التفكير الناقد

1. صف العلاقة بين نوع النشاط البركاني والإنتاج السنوي للابة.



الشكل 3-6 ثور البراكين المصاحبة لحدود التباعد بصورة هادئة دون حدوث انفجارات، وتكوّن هذه الثورات في قاع المحيط أشكالاً على هيئة وسائد ضخمة، يُطلق عليها وسائد اللابة.

النشاط البركاني عند الحدود المتباعدة Divergent volcanism

تتباع الصفائح الأرضية عند الحدود المتباعدة؛ حيث تصعد الصحارة إلى أعلى لتملأ الفراغ الناجم عن التباعد، مشكّلة قشرة محيطية جديدة؛ وتأخذ اللابة عند ظهور المحيطات شكل وسائد ضخمة، كما في الشكل 3-6، يطلق عليها وسائد اللابة **Pillow lava**. وتشكّل البراكين التي تكوّنت تحت الماء عند ظهور المحيطات ثلثي براكين العالم، وتمتاز -خلافًا لبراكين التقارب- بأنها هادئة، وتنساب دون حدوث انفجارات، مع تدفق كميات كبيرة من اللابة، ويوضح الشكل 4-6 بعض براكين التباعد. **ماذا قرأت؟** وضح كيف تنشأ وسائد اللابة.

الربط مع الرياضيات

حوّل الكسور الاعتيادية لبراكين التباعد التي تشكّلت تحت الماء إلى نسبة مئوية.

عندما تثور البراكين المصاحبة لحدود التباعد بصورة هادئة دون حدوث انفجارات في قيعان المحيطات فإنها تكون أشكالاً على هيئة وسائد ضخمة، يطلق عليها وسائد اللابة



عام 79 قبل الميلاد أدى ثوران بركان فيزوف في إيطاليا إلى دفن مدينتين بالرماد البركاني.

الشكل 4-6 البراكين موضع الاهتمام تُشكّل البراكين بعض تضاريس سطح الأرض باستمرار.

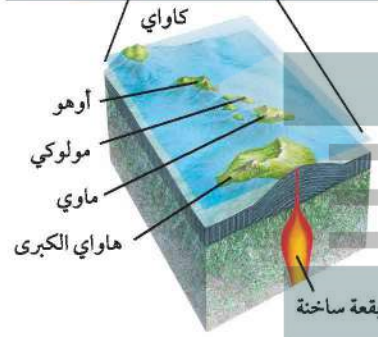
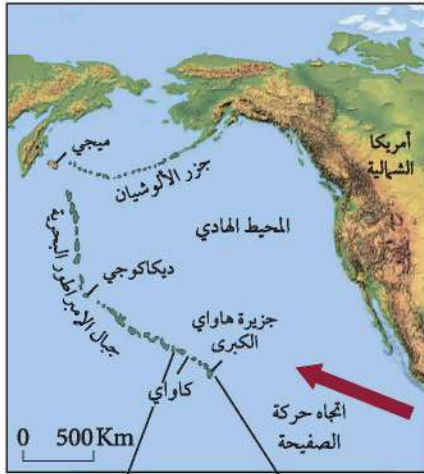
3000 قبل الميلاد

6000 قبل الميلاد

1630 قبل الميلاد تسبب انفجار بركان سانتوريني في اليونان في حدوث تسونامي ارتفاعه 200 m، مما أدى إلى اختفاء الحضارة المينوسية في جزيرة كريت.

4845 قبل الميلاد خريطة تضاريسية لبركان جبل مازاما في ولاية أوريغون، حيث أدى ثورانه إلى انهيار الجبل وأصبح منخفضاً عرضه 9 km، يُعرف حالياً باسم بحيرة الفوهة البركانية.





الشكل 5-6 تشكّلت جزر هاواي قبل ملايين السنين؛ نتيجة حركة صفيحة المحيط الهادي البطيئة فوق بقعة ساخنة ثابتة الموقع؛ حيث تقع حالياً أسفل جزيرة هاواي الكبرى.

براكين البقع الساخنة Hot spot volcanoes تشكّلت بعض

البراكين الأكثر شهرة بفعل البقع الساخنة تحت المحيط. فمثلاً، تقع جزر هاواي التي تظهر في الخريطة المجاورة، في الشكل 5-6، على عمود من الصهارة، وهي جزر بركانية تكوّنت نتيجة ارتفاع الصهارة إلى أعلى من خلال القشرة الأرضية. وتبقى البقعة الساخنة المتكونة بفعل عمود من الصهارة ثابتة أسفل الصفيحة، بينما تتحرك صفيحة المحيط الهادي التي تقع فوقها ببطء نحو الشمال الغربي، ومع مرور الزمن نتج عن البقعة الساخنة سلسلة من الجزر البركانية في قاع المحيط الهادي. وتعد براكين كاواي، من أقدم براكين جزر هاواي، وهي براكين غير نشطة (خامدة)؛ لأنها لا تقع حالياً فوق البقعة الساخنة الثابتة، وينطبق ذلك أيضاً على البراكين القديمة الواقعة إلى الشمال الغربي، التي أصبحت أسفل مستوى سطح البحر. ويُعد بركان كيلاوي في جزيرة هاواي الكبرى الذي يقع حالياً فوق بقعة ساخنة من أكثر البراكين نشاطاً في العالم، كما في بركان لوهي الذي يتشكل حالياً في قاع المحيط جنوب شرق جزيرة هاواي الكبرى، وقد يرتفع عن مستوى سطح البحر، في نهاية المطاف، مشكلاً جزيرة جديدة.

البقع الساخنة وحركة الصفيحة Hot spots and plate motion توفر

سلاسل البراكين التي تتشكل فوق البقع الساخنة الثابتة معلومات حول حركة الصفيحة الأرضية؛ إذ يمكن حساب سرعة حركة الصفائح واتجاهها، من خلال مواقع تلك البراكين. وتبين الخريطة في الشكل 5-6 أن جزر هاواي تمثل الطرف الأول من سلسلة جبال هاواي البركانية، في حين يمثل جبل ميكي الطرف الآخر من السلسلة الأقدم عمراً؛ حيث يبلغ عمره 80 مليون سنة، مما يدل على أن هذه البقعة الساخنة كانت موجودة قبل ذلك بعدة سنوات، كما يدل المنعطف في سلسلة الجبال البحرية في ديكاكوجي على أن صفيحة المحيط الهادي قد غيرت اتجاه حركتها قبل 43 مليون سنة.



1991 أطلق بركان جبل بيناتوبو في الفلبين 10 km³ من الرماد البركاني، مما أدى إلى خفض درجة حرارة الأرض 0.5 °C.

1980 أدى الانفجار البركاني في جبل سانت هيلين في واشنطن إلى وقوع 57 قتيلاً، مات معظمهم نتيجة استنشاق الرماد البركاني.

2000

1900

1800

1912 ثار بركان كاتامي في ألاسكا بقوة أكبر من بركان سانت هيلين عشر مرات، وقد عُدد من أقوى البراكين التي سُجلت عبر التاريخ.

1883 أدى ثوران بركان كراكاتوا في إندونيسيا إلى تدمير ثلثي الجزيرة، ونجم عنه تسونامي أدى إلى قتل أكثر من 36 ألف شخص.



الشكل 6-6 أدى تراكم كميات هائلة من اللابة على السطح إلى تشكيل صخور بركانية بسماكات عالية، ثم تعرضت مع مرور الزمن إلى عمليات حت بفعل الأنهار والقوى الجيولوجية مكونة الهضاب.

طفوح البازلت (الحرثات) Flood basalt يمكن أن تتكون طفوح البازلت Flood basalt من بقع ساخنة تحت القشرة القارية، وهي عبارة عن لابة تتدفق من كسور طويلة في قشرة الأرض، وتسمى هذه الكسور الشقوق Fissures. بعد مرور مئات أو آلاف السنين تؤدي ثورات هذه الشقوق إلى تكوين سهول منبسطة تسمى الهضاب، كما في الشكل 6-6. وتفقد طفوح البازلت، كما هو الحال في البراكين الأخرى، بخار الماء وغيره من الغازات عندما تخرج إلى سطح الأرض.

طفوح البازلت في الجزيرة العربية Basalt flood in arabia peninsula

تغطي طفوح البازلت جزءاً كبيراً من المنطقة الغربية للصفحة العربية، تصل إلى 180000 km² على هيئة حزام واسع متقطع يمتد من الجمهورية اليمنية جنوباً على طول ساحل البحر الأحمر إلى المملكة الأردنية الهاشمية، وحتى الجمهورية العربية السورية شمالاً، انظر الشكل 6-7. ويعود تشكل هذا الحزام إلى الشقوق والصدوع المصاحبة لتكوّن البحر الأحمر، التي بدأت قبل 25 مليون سنة، واستمرت إلى العصر الحالي؛ ويعتبر بركان حليات اللابة (البركان التاريخي) والذي يبعد عن المدينة المنورة بنحو 15 كم باتجاه الجنوب الشرقي ويقع في الأطراف الشمالية الشرقية لحرّة رهاط أحدث براكين المملكة العربية السعودية ثوراناً وتدفقاً. ويتشكل هذا البركان من أربعة مخاريط وفوهات بركانية، يطلق عليها حليات اللابة، خرجت منها الحمم البركانية عام 654 هـ، وسبق ثورانه حركات زلزالية هزت المدينة المنورة، وتصف كتب التاريخ هذا الثوران وصفاً دقيقاً وموثقاً بشهادة أهل المدينة المعاصرين لهذا الحدث التاريخي.

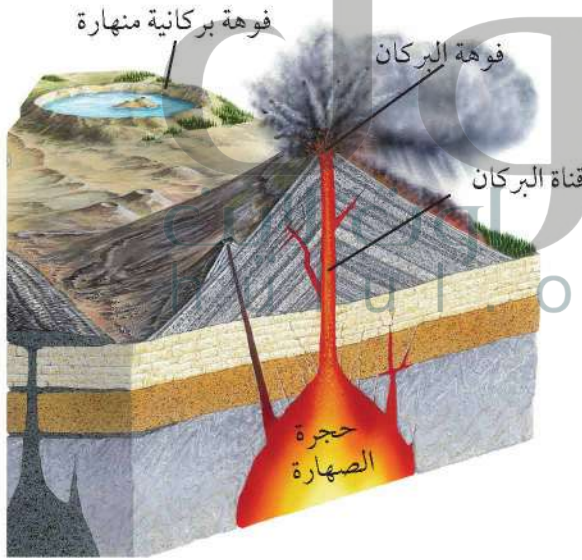
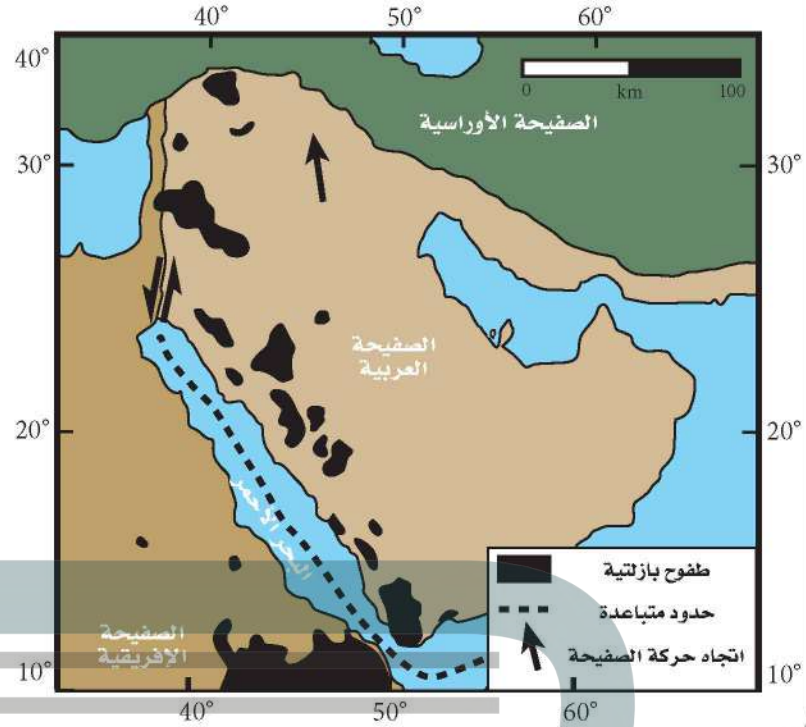
تركيب البركان Volcano Structure

اللابة عبارة عن صهارة مرّت من خلال تركيب يشبه الأنبوب يسمى قناة البركان conduit، ثم خرجت إلى سطح الأرض من خلال فوهة البركان Crater؛ وهي المنخفض الذي يوجد في قمة البركان ويتصل مع حجرة الصهارة عبر القناة. وباستمرار انسياب اللابة وتراكمها مع الزمن يتكوّن جبل يسمى البركان.

المفردات
الاستعمال العلمي مقابل الاستعمال الشائع
العصر الحالي
الاستعمال العلمي: العصر الجيولوجي الأخير، وهو العصر الرباعي.
الاستعمال الشائع: الوقت الحاضر.



الشكل 6-7 طفوح البازلت (الحرّات) التي تغطي أجزاء من المنطقة الغربية من الجزيرة العربية، وقد تشكلت بفعل تدفقات اللابة عبر الشقوق التي أصابت الصفيحة العربية في أثناء تشكّل البحر الأحمر قبل 25 مليون سنة، واستمر تشكّل هذه البراكين إلى العصر الحالي.



الشكل 6-8 ترتفع الصهارة إلى أعلى من باطن الأرض مرورًا بالقناة، ومنها إلى السطح من خلال العنق، مكونة البركان. وتسمى المنطقة المحيطة بالعنق فوهة البركان، وقد تتطور إلى فوهة بركانية منهارة عندما تنهار القشرة الأرضية في حالة وجود فراغ في حجرة الصهارة.

لاحظ موقع كل من فوهة البركان والقناة في الشكل 6-8.

وعلى الرغم من أن قطر فوهة البركان لا يزيد على 1 km، إلا أن قطر الفوهة البركانية المنهارة **Caldera** قد يصل إلى 50 km، وهي منخفض ضخم أكبر من الفوهة. وتتشكّل الفوهة البركانية المنهارة نتيجة انهيار قمة البركان أو جوانبه بعد أن تُخرج حجرة الصهارة الواقعة أسفل البركان مكوناتها بفعل الثورات البركانية الرئيسية، ولاحقًا قد يمتلئ السطح المنهار بالمياه، مما يؤدي إلى تشكّل بحيرات خلافة. ومن الفوهات البركانية المنهارة في المملكة العربية السعودية فوهة الهثيمة بالقرب من قرية طابة في منطقة حائل، انظر الشكل 6-9.



الشكل 9-6 تمثل فوهة الهتيمية في منطقة حائل إحدى الفوهات البركانية المنهارة، ويتراكم على سطحها كميات من الملح نتيجة تبخر المياه التي تتجمع فيها.

تجربة

نمذجة الفوهة البركانية المنهارة

كيف تتشكل الفوهة البركانية المنهارة؟ الفوهة البركانية المنهارة ما هي إلا فوهات بركانية توسعت وتعمقت نتيجة انهيار قمة البركان أو جوانبه في حجرة الصهارة التي كانت تغذي البركان.

5. صب ستة أكواب من الرمل على البالون.
6. كوّن من الرمل شكلاً على صورة بركان، وقد تحتاج إلى تغيير كمية الرمل ونوع الصندوق للتوصل إلى النتيجة المرجوة.
7. انزع المشبك لإخراج الهواء من البالون، ثم لاحظ كيف تتشكل الفوهة البركانية المنهارة الخاصة بك، وسجل ملاحظاتك.
8. قارن نموذجك بنماذج زملائك في الصف.

التحليل

1. رتب مراحل تشكل الفوهة البركانية المنهارة.
2. قارن بين معالم الفوهة البركانية المنهارة ومعالم الفوهة البركانية.
3. استنتج كيف يختلف شكل الفوهة البركانية المنهارة باختلاف مقدار النفخ في البالون؟

ج1: يتشكل البركان مع وجود حجرة الصهارة أسفل منه، عندما تثور الصهارة يتشكل فراغ جزئي في حجرة الصهارة؛ ثم ينهار البركان في حجرة الصهارة مشكلاً الفوهة البركانية المنهارة

ج2: يعتمد شكل الفوهة البركانية المنهارة على شكل حجرة الصهارة

ج3: كل زاد النمخ في البالون زاد عمق الفوهة

خطوات العمل

1. اقرأ نموذج السلامة في المختبر.
2. احصل من معلمك على صندوق صغير وأنبوب مطاطي طوله 10 cm ومشبك وبالون.
3. بطن الصندوق بورق جرائد، واثقبه ثقباً صغيراً باستعمال المقص من الجنب.
4. مرّر عنق البالون عبر الثقب، بحيث يكون البالون في داخل الصندوق، وأدخل الأنبوب المطاطي في عنق البالون، وثبتهما باللاصق، وانفخ البالون من خلال النفخ بالأنبوب، وأغلق البالون بالمشبك.

أنواع البراكين Types of Volcanoes

يعتمد مظهر البركان على عاملين، هما: نوع المواد المكوّنة للبركان، ونوع الثورات البركانية التي تحدث. وبناءً على هذين العاملين، هناك ثلاثة أنواع رئيسة من البراكين تختلف في الحجم والشكل والمكوّنات، انظر الجدول 1-6.

البراكين الدرعية Shield volcanoes: البركان الدرعي Shield volcano جبل عناز في حرة عويرض ذو انحدار قليل وقاعدة شبه دائرية، يتكون عندما تتراكم طبقات من اللابة في أثناء الثورات البركانية الهادئة، وهو من أكبر أنواع البراكين، ويعد بركان حليات اللابة (البركان التاريخي) بحرة رهاط من البراكين الدرعية، انظر الجدول 1-6.

البراكين المخروطية Cinder cones: تتشكل البراكين المخروطية Cinder cones عندما تعود المواد البركانية الصغيرة الحجم المقذوفة في الهواء إلى الأرض، وتتراكم حول فوهة البركان. وتمتاز البراكين المخروطية بأنها شديدة الانحدار، وعادة ما تكون صغيرة الحجم، ومعظمها لا يزيد ارتفاعه على 500 m. ومن أمثلتها براكين حرة الشاقة بالقرب من مدينة العيص.

البراكين المركبة Composite volcanoes: تتكون البراكين المركبة Composite volcanoes من طبقات مكونة من قطع لابة متصلبة في أثناء ثورات عنيفة متعاقبة مع طبقات من اللابة انسابت إلى أسفل قبل أن تتصلب، وتكون البراكين المركبة عموماً مخروطية الشكل، مع وجود منحدرات مقعرة الشكل، وحجمها أكبر كثيراً من البراكين المخروطية. وبسبب طبيعتها المتفجرة فإنها تشكّل خطراً على الإنسان والبيئة. ومن الأمثلة عليها بركان جبل القدر في حرة خيبر شمال المدينة المنورة، كما في الجدول 1-2.

المهّن في علم الأرض

عالم البراكين.

يُسمى العالم الذي يدرس الثورات البركانية وطفوح اللابة والصحارة وظروف تكوينها عالم البراكين. ويدرس العلماء في الميدان البراكين النشطة، ويعملون أيضاً في المختبر لفهم كيف تنصهر الصخور لتشكيل الصحارة.

المطويات

صمّم المعلومات في هذا الدرس في المطوية الخاصة بك.

الجدول 1 - 6

أنواع البراكين

أمثلة على البراكين	الوصف
	<p>البراكين الدرعية</p> <ul style="list-style-type: none"> • أضخم أنواع البراكين الثلاثة. • قليلة الانحدار وتمتد مسافات طويلة. • تتكون من طبقات متعاقبة من اللابة البازلتية المتصلبة. • ثوراتها هادئة.

ج1: ترتبط أنواع معينة من البراكين مع أنواع محددة من الصفائح الأرضية؛ إذ تتشكل براكين مختلفة عند كل من المتقاربة ونطاقات الانهدام والبقع الساخنة

ج2: فيزيوفينوس وإتنا

ج3: ينبغي أن يتضمن الرسم الأجزاء الآتية: حجرة الصهارة؛ الصهارة؛ القناة، فوهة البركان أو الفوهة البركانية المنهارة

ج4: يظهر امتداد الطفوح البركانية على شكل شريط محاذ للبحر الأحمر ويستدل من ذلك على أن هذه البراكين مرتبطة مع حركة الصفيحة العربية وتوسع البحر الأحمر

ج5: الجملة غير صحيحة؛ لأنه قد تتكوّن البراكين في وسط الصفيحة المحيطية لوجود بقع ساخنة أو نطاقات حفر الانهدام

ج6: تنتج طفوح البازلت بفعل النشاط البركاني ومع أنها لا تأخذ شكل الجبل؛ إلا أنها تعد أحد أشكال الثورانات البركانية التي تغطي مساحات واسعة وتحتوي على العديد من البراكين

الخلاصة

- تتضمن عملية النشاط البركاني جميع العمليات التي تصعد فيها الصهارة والغازات إلى سطح الأرض.
- توجد معظم البراكين على اليابسة ضمن حزامي البراكين الرئيسية، وهما: حزام المحيط الهادي، وحزام البحر الأبيض المتوسط.
- تتضمن أجزاء البركان: القناة، والفوهة.
- توجد طفوح البازلت على هيئة سهول منبسطة أو هضاب، وتتكون نتيجة تدفق اللابة من شقوق القشرة الأرضية.
- هناك ثلاثة أنواع رئيسية للبراكين هي: الدرعية، والمخروطية، والمركبة.

فهم الأفكار الرئيسية

1. فكرة الرئيسة: وضح كيف ترتبط مواقع البراكين مع نظرية حركية الصفائح؟
2. اذكر بركائين في حزام البحر المتوسط.
3. ارسم بركاناً وحدّد أجزاءه على الرسم.
4. اقترح نوع (أو أنواع) العمليات الأرضية التي حدثت في منطقة نشاط بركاني سابق في المملكة العربية السعودية مستعيناً بالخريطة.

التفكير الناقد

5. حدّد الجملة الآتية: "توجد البراكين على طول السواحل فقط".
6. حدّد ما إذا كانت طفوح البازلت تمثل بركاناً أم لا.

الرياضيات في الجيولوجيا

7. هب أن صفيحة المحيط الهادي تحركت 500 km في 4.7 ملايين سنة. احسب متوسط سرعة صفيحة المحيط الهادي بالسنتيمتر في السنة (cm/y).

الأهداف

- توضح كيف يؤثر نوع الصهارة في النشاط البركاني.
- تصف دور الضغط والغازات الذائبة في الثورانات البركانية.
- تعرف المواد التي تقذفها الثورانات البركانية.

الثورانات البركانية Volcanic Eruptions

الفكرة الرئيسية تحدّد مكوّنات الصهارة خصائص الثوران البركاني.

الربط مع الحياة لعلك رججت قنينة مشروب غازي يوماً، ثم فتحتها. هل لاحظت فوران المشروب الغازي بشدة خارج القنينة؟ هذه العملية تشبه ما يحدث في الثورانات البركانية المتفجرة.

تشكّل الصهارة Making Magma

ما الذي يجعل بعض الثورانات البركانية هادئة أحياناً وشديدة الانفجار أحياناً أخرى؟ يعتمد النشاط البركاني وخصائص اللابة على مكوّنات الصهارة. ويوضح الشكل 10-6 نوعين من اللابة: لابة رقيقة ومنخفضة اللزوجة تتدفق بسرعة، ولابة سميكة ولزجة تتدفق ببطء. ويتطلب فهم سبب اختلاف الثورانات البركانية معرفة كيف تنصهر الصخور لتشكيل الصهارة.

درجة الحرارة Temperature تنصهر معظم الصخور ضمن مدى من درجات الحرارة يتراوح بين 800°C و 1200°C ، ويعتمد ذلك على مكوّناتها والضغط الواقع عليها ووجود الماء فيها. ومن ذلك صخور القشرة الأرضية وأعلى الستار؛ حيث تزداد درجة حرارة القشرة الأرضية بزيادة العمق، ويصاحبها زيادة في الضغط، وكل من درجة الحرارة والعمق والضغط ووجود الماء يؤثر في نوعية الصهارة المشكّلة.

الضغط Pressure يزداد الضغط بزيادة العمق بسبب زيادة وزن الصخور، إلا أن زيادة الضغط تؤدي إلى رفع درجة الانصهار، انظر الشكل 11-6، الذي يبين منحني انصهار معدن الفلسبار الصودي (الألبيت Albite). لاحظ أن درجة انصهار الألبيت على سطح الأرض في غياب الماء تساوي 1100°C ، وتزداد إلى 1150°C على عمق 6 km، ثم إلى 1440°C على عمق 100 km. ولاحظ أيضاً كيف يفسر عامل الضغط سبب انصهار معظم الصخور أسفل القشرة الأرضية وأعلى الستار.

مراجعة المفردات

البازلتية: ترتبط مع نوع من الصخور الغنية بالمعادن الداكنة التي تحتوي على الماغنسيوم والحديد.

المفردات الجديدة

اللزوجة

المقذوفات البركانية الصلبة

تدفق الفتات البركاني

الشكل 10-6 تعتمد كيفية تدفق اللابة على مكوّنات الصهارة؛ فلزوجة لابة بركان جبل إتنا قليلة، وتتدفق بسرعة مقارنة بلاءة بركان جبل سانت هيلين ذات اللزوجة المرتفعة القليلة التدفق.



جبل سانت هيلين



جبل إتنا

مكوّنات الصهارة Composition of Magma

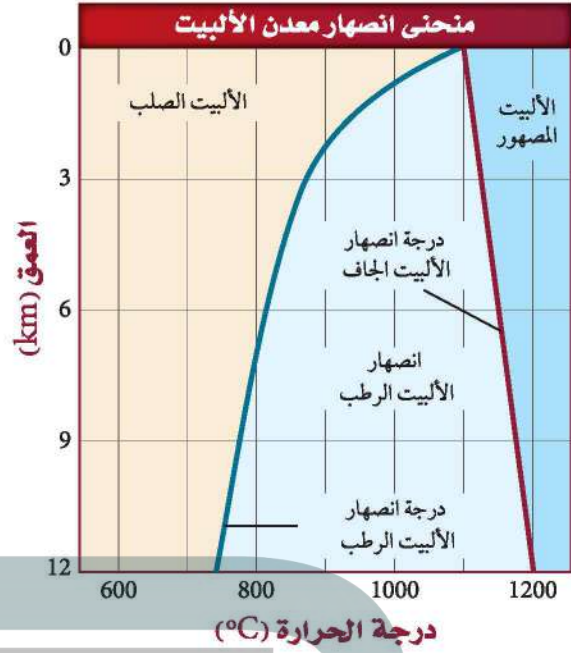
تُحدّد مكوّنات الصهارة شدة ثوران البركان، وكيفية تدفق اللابة على سطح الأرض. فما العوامل التي تحدد هذه المكوّنات؟ استطاع العلماء تحديد العوامل التي تتحكم في مكوّنات الصهارة وهي: تفاعلها مع صخور القشرة الأرضية التي تعلوها، ودرجة حرارتها، والضغط الواقع عليها، وكميات الغازات الذائبة فيها، ومحتواها من السليكا. ويُعد العامل الأخير من أكثر العوامل تأثيراً. ويرى العلماء أن هذه العوامل تساعد على معرفة سلوك الصهارة وتوقع شدة الثورات البركانية.

الغازات الذائبة Dissolved gases تزداد شدة الانفجار البركاني للصهارة بزيادة كمية الغازات الذائبة فيها، مثلما يحدث في المشروب الغازي عندما يزداد فورانه بزيادة الغازات الذائبة فيه. ومن الغازات المهمة في الصهارة بخار الماء، وثنائي أكسيد الكربون، وثنائي أكسيد الكبريت، وكبريتيد الهيدروجين، ويُعد بخار الماء من أكثر الغازات الذائبة أهمية؛ لأنه يحدد أين يمكن أن تتكون الصهارة. ويوضح الشكل 6-11 أن المعادن في الستار - ومنها معدن الألبيت - تنصهر عند درجات حرارة مرتفعة، ولكن وجود بخار الماء يقلل من درجة الانصهار، مما يساعد على انصهار مواد الستار وتكوّن الصهارة، ثم ثورانها على هيئة براكين.

اللزوجة Viscosity تُسمى الخاصية الفيزيائية التي تصف مقاومة المواد للتدفق اللزوجة **Viscosity**. وتؤثر كل من درجة حرارة الصهارة ومحتواها من السليكا في لزوجتها. وعموماً تزداد لزوجة الصهارة بانخفاض درجة حرارتها. أما زيادة محتوى الصهارة من السليكا فيجعلها كثيفة القوام ولزجة. وتؤدي زيادة لزوجة الصهارة إلى زيادة احتفاظها بالغازات الذائبة، فلا تسمح لها بالانفلات بسهولة، لذا تنتج ثورات بركانية متفجرة. وعموماً، إذا كان محتوى الصهارة من السليكا منخفضاً انخفضت لزوجتها، وكانت خفيفة القوام، وتدفق بسرعة ويسر، كما في العسل الساخن، كما أنها تُنتج ثورات هادئة غير مصحوبة بانفجارات. وتتكون البراكين الناتجة من صخور بازلتية كما في حرة كشب غربي المملكة. انظر الشكل 6-12.

✓ **ماذا قرأت؟ أيهما أكثر لزوجة: الماء أم العسل؟**

العسل أكثر لزوجة من الماء



الشكل 6-11 يؤثر كل من المحتوى المائي والضغط في كيفية انصهار معدن الألبيت؛ حيث يزداد الضغط بزيادة العمق.

حدد موقع منحنى انصهار الألبيت الرطب. وبين كيف تختلف درجة انصهار الألبيت الرطب عن درجة انصهار الألبيت الجاف على عمق 3 km، وعلى عمق 12 km؟



الشكل 6-12 بركان حرة كشب غربي المملكة العربية السعودية.


الشكل 13-6 إذا كانت الصهارة أو اللابة فقيرة في السليكا كانت لزوجتها منخفضة، وإذا كانتا غنيتين بالسليكا كانت لزوجتها مرتفعة.

- تتفاعل بكميات قليلة مع صخور القشرة الأرضية العلوية.
- محتواها من السليكا قليل، لذا تتدفق بسهولة.
- تثور بصورة هادئة دون انفجارات.



صهارة بازلتية: لزوجتها منخفضة

- مصدرها مواد القشرة المحيطية والرسوبيات.
- يتراوح محتواها من السليكا بين 50-60%.
- تثور في صورة انفجارات.



صهارة أنديزيتية: لزوجتها متوسطة

- مصدرها مواد القشرة القارية.
- نسبة محتواها من السليكا يزيد على 60%.
- تثور في صورة انفجارات عنيفة.



صهارة ريوليتية: لزوجتها كبيرة

أنواع الصهارة Types of Magma

لا يحدد محتوى الصهارة من السليكا لزوجة الصهارة وشدة ثورانها فقط، بل يحدده أيضًا نوع الصخر البركاني الذي سيتشكل حينما تبرد الصهارة. ادرس الشكل 13-6 لتلخيص أنواع الصهارة.

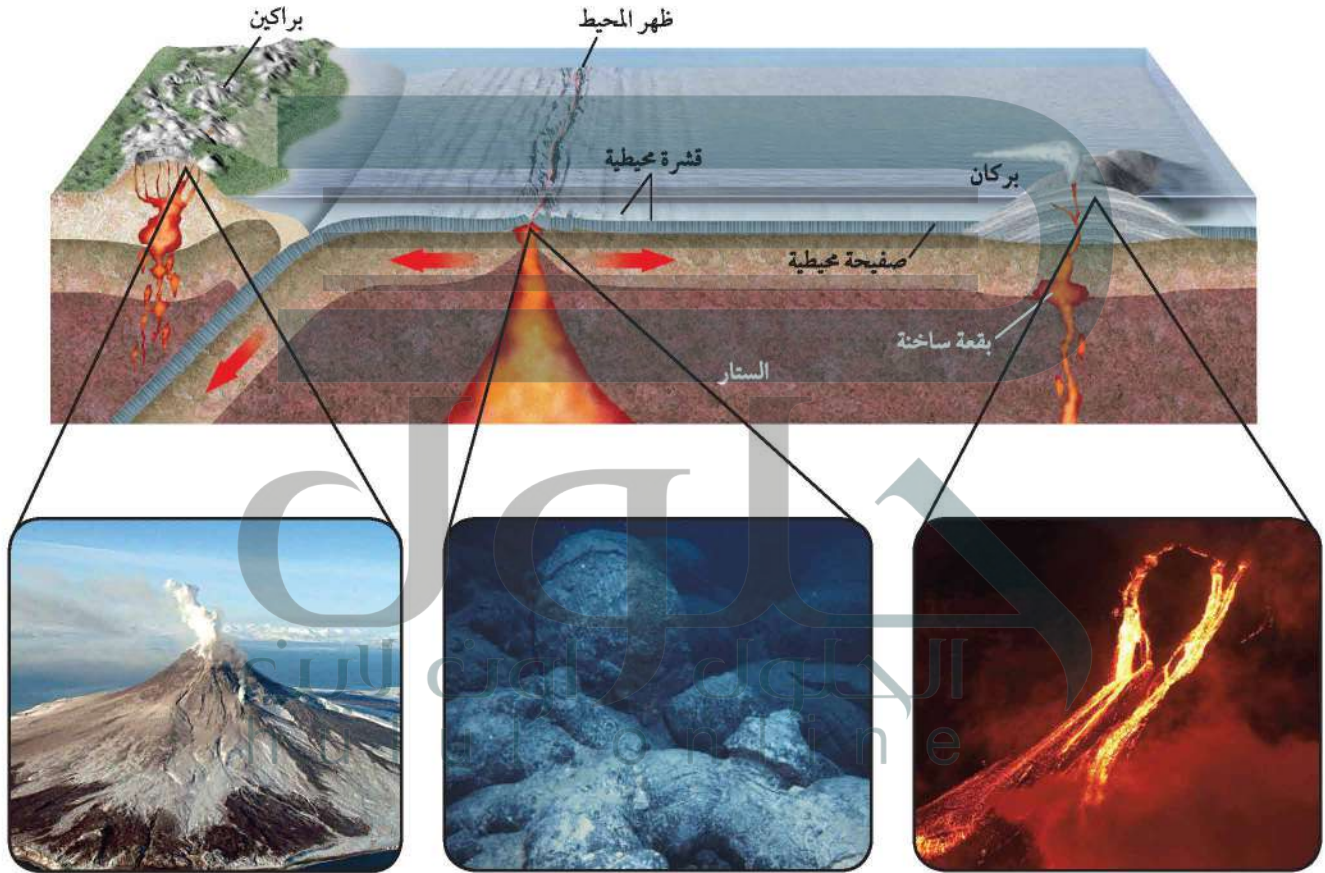
صهارة بازلتية Basaltic magma تتكوّن الصهارة البازلتية عندما تنصهر صخور الستار العلوي عادة، وتتكون من كمية السليكا نفسها التي يحتويها صخر البازلت، وهي أقل من 50%. وعندما تصعد الصهارة من الستار العلوي إلى سطح الأرض تتفاعل مع قليل من صخور القشرة الأرضية والرسوبيات التي تعلوها، وتكون لزوجتها منخفضة لانخفاض محتواها من السليكا، لذا تخرج الغازات منها بسهولة، وتكون ثوراتها هادئة. ويوضح الشكل 14-6 كيف تحدد خصائص الصهارة نوع الثوران البركاني الذي سيحدث. ومن البراكين التي تكوّنت بفعل نشاط صهارة بازلتية حرّة كشب غربي المملكة.

صهارة أنديزيتية Andesitic magma تتكون الصهارة الأنديزيتية من الكمية نفسها من السليكا المكونة لصخر الأنديزيت التي تتراوح بين 50-60%، وتوجد على طول نطاق الطرح القاري-المحيطي، ومصدرها إما القشرة المحيطية وإما رواسب المحيطات، ولأنها تحتوي على كمية متوسطة من السليكا فإن لزوجتها متوسطة وثوراتها متوسطة الشدة، ومنها بركان تامبورا في إندونيسيا، الذي أنتج انفجارات أطلقت كميات ضخمة من الرماد والحطام البركاني في الغلاف الجوي، فلم تؤدّ فقط إلى تدمير المجتمعات المحلية، بل أثرت أيضًا في البيئة العالمية.

صهارة ريوليتية Rhyolitic magma تتكون الصهارة الريوليتية عندما تمتزج الصهارة الصاعدة إلى أعلى مع صخور القشرة القارية العلوية الغنية بالسليكا والماء، وتتكون من الكمية نفسها من السليكا المكونة لصخر الجرانيت التي تزيد على 60%، وتؤدي لزوجتها المرتفعة إلى جعلها تتدفق ببطء، كما أن لزوجتها المرتفعة أيضًا مع وجود كمية كبيرة من الغازات المحصورة يجعل ثوراتها متفجرة جدًا. ومن الأمثلة عليها الصخور الريوليتية في جبل حرّة شامة في المملكة العربية السعودية.

الثورانات البركانية Volcanic Eruptions

الشكل 14-6 عندما تصعد الصهارة إلى أعلى بفعل حركات الصفائح الأرضية والبقع الساخنة، تختلط مع قشرة الأرض، ويؤدي هذا إلى الاختلاف في درجة حرارة الصهارة ومحتواها من السليكا والغازات. وتحدد خصائص الصهارة هذه كيفية ثوران البراكين.



ثورانات بركانية متفجرة

تحدث ثورانات بركانية متفجرة عندما تعبر صهارة غنية بالسليكا قشرة قارية، وتحتفظ هذه الصهارة بالغازات، مما يؤدي إلى تولد ضغط شديد جداً بداخلها، وعند تحرر هذا الضغط تنشأ انفجارات عنيفة.

ثورانات بركانية تحت الماء

أكثر أنواع اللابة شيوعاً هي اللابة الوسادية التي تتكون عند الحدود المتباعدة على امتداد القشرة المحيطية، وتنساب في قاع المحيط وتكوّن كتلاً على شكل وسائد عندما تبرد.

ثورانات بركانية هادئة

معظم براكين الأرض النشطة مصاحبة لبقع ساخنة تقع أسفل قشرة محيطية. ولأن الصهارة التي تعبر القشرة المحيطية في أثناء صعودها إلى أعلى تحتفظ بدرجة حرارة مرتفعة وبمحتويات قليلة من السليكا والغازات فإن اللابة الناتجة عنها تخرج من البراكين بسهولة في صورة ثورانات بركانية هادئة نسبياً.



كتلة بركانية



• حجم الحبيبات 0.5 mm

رماد بركاني

الشكل 15-6 يُعد الرماد البركاني أصغر المقذوفات البركانية الصلبة من حيث الحجم، في حين أن الكتلة البركانية هي مثال على أكبر صنف من المقذوفات البركانية الصلبة.

قارن بين هذين النوعين من المقذوفات البركانية الصلبة. ما الشيء المشترك بينهما؟

الثورانات البركانية المتفجرة Explosive Eruptions

عندما تكون اللابة في القناة لزجة جدًا فإنها لا تتدفق من فوهة البركان بحرية، بل تتراكم فيها الغازات إلى أن تخرج في صورة انفجارات عنيفة، حيث تُقذف اللابة مع الصخور في الهواء. وتسمى المواد التي تقذفها البراكين المقذوفات البركانية الصلبة **tephra**. وربما تكون المقذوفات البركانية الصلبة قطعًا من اللابة تصلبت في أثناء وجودها في الهواء، أو قطعًا من قشرة أرضية حملتها الصهارة معها قبل ثورانها. وتصنف المقذوفات البركانية الصلبة بحسب حجمها؛ فالقطع الصغيرة التي يقل قطرها عن 2 mm تُسمى رمادًا بركانيًا، وتُسمى المقذوفات البركانية الأكبر من ذلك كتلاً بركانية. انظر الشكل 15-6، وقد يبلغ ارتفاع بعض الكتل البركانية مترًا، وقد يصل حجم بعضها إلى حجم سيارة. وتنتشر الثورانات البركانية المتفجرة الضخمة كميات هائلة من المقذوفات البركانية فوق معظم الأرض، وقد يصل الرماد البركاني إلى ارتفاع 40 km في الغلاف الجوي في أثناء الثوران البركاني، ويشكل خطرًا على الطائرات، كما يمكن أن يُغير حالة الطقس. ويوضح الشكل 16-6 بركان جبل بيناتوبو في الفلبين الذي ثار عام 1991م، وشكّل غيمة بركانية من الرماد البركاني على ارتفاع 40 km، حيث بقيت حبيبات صلبة وقطيرات من حمض الكبريتيك في طبقة الستراتوسفير مدة سنتين تقريبًا، مما أدى إلى حجب أشعة الشمس، ثم انخفاض درجة حرارة الأرض.

الشكل 16-6 ثار بركان جبل بيناتوبو في الفلبين عام 1991م فأطلق كميات هائلة من الرماد البركاني تراكمت في طبقة الستراتوسفير، مما أدى إلى انخفاض درجة حرارة الأرض لمدة سنتين.



- ج1: تحدد مكونات السليكا لزوجة الصهارة؛ كما تساءل
الغازات في تحديد شدة الانفجار البركاني
ج2: كلما زادت لزوجة الصهارة زادت شدة الثوران البركاني
ج3: ستكون شدة انفجاره ذات طا ف كبيرة
ج4: الكتل البركانية هي الأكبر حجماً بينما حبات الرماد البركاني
هي الاصغر حجماً
ج5: تكونت من كميات كبيرة من السليكا والغازات الذائبة
ج6: يترك للطالب

تؤدي بعض المقذوفات البركانية الصلبة إلى دمار كبير في الممتلكات وقتل آلاف الناس، كما تقذف بعض البراكين العنيفة غيومًا من الرماد البركاني وغيرها من المقذوفات البركانية الصلبة نحو أسفل المنحدر بسرعة 200 km/h. وتسمى غيوم المقذوفات البركانية الصلبة الممزوجة مع الغازات الساخنة **تدفق الفتات البركاني pyroclastic flow**، وقد تزيد درجة حرارتها الداخلية على 700 °C. ويوضح الشكل 17-6 آثار الدمار التي خلفها بركان بيبي في جزيرة مارتينيك في البحر الكاريبي عام 1902م، وتدفق فتات بركاني يتصاعد إلى أعلى عند ثوران بركان مايون في المكسيك في عام 2000 م.

للعفات البركاني من جبل بيبي إلى تدمير بلدة سانت بيير في جزر المارتينيك في البحر الكاريبي في دقائق معدودة.

التقويم 2-6

الخلاصة

- هناك ثلاثة أنواع رئيسة من الصهارة، هي: البازلتية والأنديزيتية والريوليتية.
- اعتيادًا على نسبة محتوى الصهارة من السليكا فإن الصهارة البازلتية هي أضعف أنواع الصهارة في شدة الثوران، في حين أن الصهارة الريوليتية أشدها.
- درجة الحرارة والضغط ووجود الماء عوامل تؤثر في تشكل الصهارة.
- اللابة المتصلبة والقطع الصخرية التي تطلقها البراكين في أثناء ثورانها تسمى المقذوفات البركانية الصلبة.

فهم الأفكار الرئيسية

1. الفكرة الرئيسية ناقش كيف تحدد مكونات الصهارة خصائص ثورانها؟
2. أعد صياغة كيف ترتبط لزوجة الصهارة بشدة انفجارها؟
3. توقع شدة انفجار بركان ناتج عن صهارة غنية بالسليكا والغازات.
4. ميز بين المقذوفات البركانية الصلبة من حيث أحجامها.

التفكير الناقد

5. استنتج التركيب الكيميائي للصهارة الذي أدى إلى ثوران بركان جبل فيزوف عام 79 قبل الميلاد بهذه الطريقة.

الكتابة 2 الجيولوجيا

6. اكتب نشرة إخبارية تتناول فيها أحداث بركان ما.

علم الأرض والتقنية

مرصد هاواي البركاني



غالبًا ما يرتدي الجيولوجيون خوذات، ويكون بحوزتهم أدوات تسلق، ويرتدون ملابس مقاومة للحرارة وأقنعة واقية من الغاز، وغير ذلك من المعدات؛ لحماية أنفسهم من الظروف الخطرة حول البراكين النشطة. كما أن عليهم ارتداء القفازات المقاومة للحرارة لحظة وصولهم إلى موقع جمع العينات.

رصد سطح الأرض يستعمل العلماء أداة تسمى عداد المسافة الإلكترونية لمساعدتهم على رصد البراكين الأرضية والتنبؤ بثورانها. ففي أثناء صعود الصهارة نحو سطح الأرض قد يحدث ميلان للسطح أو انخفاض أو انتفاخ بسبب ما تشكله الصهارة من الضغوط في أثناء صعودها.

ويقوم العلماء في مرصد هاواي البركاني بتسجيل البيانات باستمرار، وإجراء التجارب، وتناقلها في جميع أنحاء العالم. ويعود الفضل في فهم الكثير من طبيعة البراكين في أيامنا الحالية إلى الأبحاث المستمرة لهؤلاء العلماء.

الكتابة في الجيولوجيا

ابحث في الطرائق التي يتبعها العلماء لتوقع وقت ثوران البركان وحجمه ونوعه. ولزيد من المعلومات يمكنك تصفح مواقع الإنترنت المختلفة. لحص معلومتك وشارك ببياناتك زملاءك في الصف.

كيلاوي من البراكين الدرعية في جزيرة هاواي، وهو أحد البراكين الأكثر نشاطاً وخطورة. ويقوم العلماء بمراقبة الظروف المحيطة بهذا البركان. ويعد مرصد هاواي البركاني بمثابة مختبر؛ حيث يتم فيه دراسة العينات التي تجمع من منطقة البركان.

جمع الالابة البركانية تخيل نفسك واقفاً بجوار الالابة البركانية المتحركة التي تبلغ درجة حرارتها 1170°C . للحصول على القياس المباشر لدرجة الحرارة، أو لجمع العينات الجيولوجية على العلماء تحمل درجات الحرارة المرتفعة وتوخي الحذر في أثناء سيرهم ومتابعة خطواتهم. ويتم جمع العينات في ظروف خاصة؛ حيث تجمع في أوعية مقاومة للحرارة، وتبرد مباشرة بوضعها في وعاء فيه ماء لمنع تلوث العينات بالهواء المحيط. ولكي يحمي العلماء أنفسهم من الأجواء المحيطة بهم فإنهم يرتدون ملابس خاصة، ويصطحبون معداتهم كاملة، كما توضحه الصورة.

النشاط الزلزالي يسبق ثوران البراكين غالباً نشاط زلزالي، ويعد أحد المؤشرات على حدوث ثوران بركاني؛ حيث يلجأ العلماء إلى توزيع أجهزة رصد الزلازل (السيزمومتر) حول فوهة البركان، وفي مناطق قريبة منه لرصد النشاط الزلزالي.

العينات الغازية يجمع العلماء في مرصد هاواي البركاني عينات من الغازات المنبعثة من فوهات البراكين لمعرفة نسبة غازي ثاني أكسيد الكبريت وثاني أكسيد الكربون. وتشير الزيادة في انبعاث غازي ثاني أكسيد الكبريت وثاني أكسيد الكربون إلى ثوران محتمل للبركان.

توقع البركان الآمن

بعض العوامل التي قد تستعملها في تقييم البراكين، ثم دوّن أفكارك في أثناء ذلك. ويمكنك تضمين عوامل، منها: فترات الانفجار، ومكونات اللابة، والعدد التقريبي للأشخاص الذين يعيشون بالقرب من البركان، وتاريخ آخر انفجار للبركان.

4. حدّد مع فريقك العوامل التي سيتم تناولها.
5. اعمل جدول بيانات مستعيناً بالعوامل التي اخترتها، وتأكد من أن المعلم قد وافق على ذلك قبل إكماله.
6. استعمل شبكة الإنترنت أو المعلومات التي يزودك بها المعلم، واختر بلدًا في العالم يوجد فيه بركان معروف.
7. أكمل جدول بياناتك للبلد الأول.
8. كرر الخطوتين 6 و 7 لبلدين آخرين.

التحليل والاستنتاج يترك للطالب

1. فسّر البيانات هل يُعد العيش بالقرب من البراكين السالفة الذكر آمنًا؟ ولماذا؟
2. فسّر البيانات هل يشكّل أي من البراكين تهديدًا مباشرًا للأشخاص الذين يعيشون بالقرب منه؟ ولماذا؟
3. استنتج حصرًا عرضًا تقدم فيه نتائجك لمجموعة من علماء العالم، وضمّنه توقعاتك وتوصياتك، وكن مستعدًا لتلقي الأسئلة والإجابة عنها. ثم اعرض جدول البيانات على زملائك للاطلاع على نتائجك.

شارك ببياناتك

راجع مع أقرانك واكتب ملخصًا لبياناتك وتوصياتك حول كل بركان خاص بك، ثم قارنها مع الطلاب في الصف.

خلفية علمية بعض البراكين متفجرة وخطيرة، وتشمل المخاطر البركانية غيوم الرماد البركاني والكتل البركانية وتدفق الفتات البركاني والانزلاقات الأرضية والتدفقات الطينية. ولكن قد لا يشكل البركان المتفجر خطرًا على حياة الإنسان والممتلكات إذا وقع في منطقة نائية.

سؤال: ما العوامل التي يجب مراعاتها عند تقويم البركان؟



تنقل الطائرات المروحية العلماء إلى أماكن البراكين البعيدة. حيث يجلون البيانات لتحديد المخاطر.

الأدوات

مواقع الإنترنت أو بيانات عن البراكين يزودك بها المعلم، مراجع علمية، أقلام تخطيط أو أقلام تلوين خشبية.

خطوات العمل

تخيّل أنك تعمل لدى دائرة أو جهة رسمية جيولوجية، وطلب إليك تقييم عدة براكين حول العالم، لتحديد هل هي براكين آمنة للسكان المجاورين أم لا، وفي حال كونها غير آمنة يتعين عليك أن تضع توصيات لضمان سلامة الأشخاص القريبين منها.

1. اقرأ نموذج السلامة في المختبر.
2. كوّن فريقًا من 3 أو 4 طلاب.
3. ناقش الفريق، مستعملًا أسلوب العصف الذهني، في

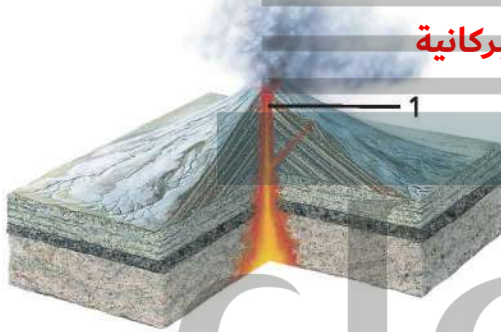
الفكرة العامة تتشكل البراكين من الصهارة القادمة من باطن الأرض.

المفاهيم الرئيسية	المفردات
<p>الفكرة الرئيسية ترتبط مواقع البراكين بحركة الصفائح.</p> <ul style="list-style-type: none"> • تتضمن عملية النشاط البركاني جميع العمليات التي تصعد فيها الصهارة والغازات إلى سطح الأرض. • توجد معظم البراكين على اليابسة ضمن حزامي البراكين الرئيسية، وهما: حزام المحيط الهادي، وحزام البحر الأبيض المتوسط. • تتضمن أجزاء البركان: القناة، والفوهة. • توجد طفوح البازلت على هيئة سهول منبسطة أو هضاب، وتكون نتيجة تدفق اللابة من شقوق القشرة الأرضية. • هناك ثلاثة أنواع رئيسة للبراكين هي: الدرعية، والمخروطية، والمركبة. 	<p>6-1 ما البركان؟</p> <p>النشاط البركاني وسائد اللابة البقعة الساخنة طفوح البازلت الشقوق قناة البركان فوهة البركان الفوهة البركانية المنهارة البركان الدرعي البركان المخروطي البركان المركب</p>
<p>الفكرة الرئيسية تحدد مكونات الصهارة خصائص الثوران البركاني.</p> <ul style="list-style-type: none"> • هناك ثلاثة أنواع من الصهارة، هي: البازلتية، والأنديزيتية، والريوليتية. • اعتمادًا على نسبة محتوى الصهارة من السليكا تكون الصهارة البازلتية أضعف أنواع الصهارة في شدة الثوران، في حين أن الصهارة الريوليتية أشدها. • درجة الحرارة والضغط ووجود الماء عوامل تؤثر في تشكّل الصهارة. • تُسمى اللابة المتصلبة والقطع الصخرية التي تطلقها البراكين في أثناء ثورانها المقذوفات البركانية الصلبة. 	<p>6-2 الثورانات البركانية</p> <p>اللزوجة المقذوفات البركانية الصلبة تدفق الفتات البركاني</p>

تثبيت المفاهيم الرئيسية

15. ما المنطقة التي يحيط بها حزام النار الكبير؟
a. المحيط الأطلسي.
b. قارة أمريكا الشمالية.
c. البحر المتوسط.
d. المحيط الهادي.

استعمل الشكل الآتي في الإجابة عن السؤالين 16 و17.



16. ما نوع البركان في الشكل أعلاه؟
a. درعي.
b. مركب.
c. طفح بازلتي.
d. مخروطي.
17. ما المعلم الجيولوجي المشار إليه بالرقم 1 في الشكل أعلاه؟
a. فوهة البركان.
b. قناة البركان.
c. فتحة البركان.
d. حجرة الصهارة.
18. أي الجمل الآتية غير صحيحة؟
a. تزداد لزوجة الصهارة بازدياد محتواها من السليكا.
b. المحتوى الغازي وشدة ثوران الصهارة الأنديزيتية متوسطان.
c. تزداد لزوجة الصهارة بازدياد درجة الحرارة.
d. الصهارة البازلتية لزوجتها منخفضة وتحفظ بكمية قليلة من الغازات.

مراجعة المفردات

- ضع المصطلح الصحيح بدلاً من الكلمات التي تحتها خط:
1. تتراكم اللابة في أشد أنواع الثورانات البركانية انفجاراً مكونة بركاناً درعياً. **بركان مركب**
2. تصعد الصهارة إلى أعلى عبر القناة وتثور على سطح **فتحة البركان** الأرض من خلال الشقوق الموجودة في قمة البركان.
3. يشير مصطلح **البقع الساخنة** إلى جميع العمليات المرافقة لخروج الصهارة والمياه الساخنة والبخار إلى سطح الأرض. **النشاط البركاني**

4. الرماد البركاني أصغر أنواع تدفق اللابة حجماً. **المقذوفات البركانية**

أكمل الجمل الآتية مستعملاً المفردات المناسبة:

5. **فوهة البركان**... تجويف منخفض يحيط بالفتحة عند قمة البركان.
6. **فوهة البركان منبهرة**... تتشكل في الانخفاض الناتج عن انهيار سقف حجرة صهارة فارغة.
7. يُسمى أصغر أنواع البراكين وأشدّها انحداراً **بركان مخروطي**.

اختر المصطلح المناسب لكل من الجمل الآتية:

8. تجتمع من الصهارة يقع أسفل الصفيحة، ولا يقع عند حدودها، ويتكوّن بسبب اندفاع عمود من الصهارة في الستار في موقع ثابت ويحدث عنده البركان. **بقعة ساخنة**
9. بركان تندفق منه اللابة بسرعة وسهولة، ولزوجته وانحداره قليلان. **بركان درعي**
10. غيمة متدفقة من المقذوفات البركانية الصلبة واللابة مختلطة بغازات حارة خانقة. **تدفق الفتات البركاني**
حدّد المشترك بين كل مصطلحين مما يأتي:

- ج11: كلاهما مقذوفات بركانية
ج12: كلاهما تكون بفعل براكين هادئة (غبر متفجرة)
ج13: كلاهما فتحة تخرج منها اللابة على سطح الأرض
ج14: كلاهما فتحة في قمة البركان

ج26: البراكين الدرعية: صهارة بازلتية وهي منخفضة نسبياً من حيث اللزوجة ومحتواها من السيلكا والغازات

البراكين المركبة والمخروطية: صهارة أنديزيتية او ريوليتية وتتراوح لزوجتها بين المتوسطة والمرتفعة نسبياً ومحتواها من السيلكا والماء مرتفع

ج27: عدم وجود أي أنشطة بركانية إلا من البقع الساخنة فقط

ج28: يجب أن تظهر خريطة المفاهيم تنوع البراكين وتنوع المقذوفات البركانية وارتباط كل من البراكين مع المقذوفات البركانية وخصائص كل نوع منها

ج29: البقع الساخنة تعمل على صهر صخور القشرة التي تعلوها إلى السطح دون اختلاط بكميات كبيرة من صخور القشرة ومن ثم تحافظ على تركيبها البازلتي

26. صنّف البراكين إلى ثلاثة أنواع، وصفها بحسب خصائص الصهارة الواردة في الجدول أعلاه.

27. توقع. ماذا يمكن أن يحدث إذا لم يكن هناك صفائح أرضية؟

خريطة مفاهيمية

28. استعمل المصطلحات الآتية لبناء خريطة مفاهيم: براكين درعية، صغيرة الحجم، تعاقب طبقات من اللابة ومقذوفات صلبة، براكين مخروطية، براكين مركبة، شديدة الانحدار، قليلة الانحدار وواسعة.

سؤال تحفيز

29. فسّر لماذا تشكل البراكين الدرعية بفعل البقع الساخنة من صهارة بازلتية وليست ريوليتية؟

البقعة الساخنة موقع على سطح 19 ج : الأرض حيث يوجد أسفلها أعمدة ثابتة من المواد المنصهرة (الصهارة) التي تصعد إلى السطح البقعة الساخنة ليست لها صلة واضحة مع حدود الصفائح

البركان الدرعي: جبل ماونا لوا، 20 ج ، البركان المركب: جبل سانت هيلين البركان المخروطي: لاسين بارك في كاليفورنيا

الكتل البركانية مقذوفات تطلقها 21 ج : البراكين في أثناء الثورانات العنيفة ولكن لأن براكين الدروع تتكون من البازلت فإنها عادة لا تثور في صورة انفجارات

الجزيرة أهي الأقدم عن البقعة 22 ج : ر التيزالساخنة التي كونتها وهي أكثر الجية مدة أطول ارتعرت لأنها تعرضت للتع تحرك الصفيحة في اتجاه الشمال الغربي ر الأحداث تقع زويعد هذا دليلا على أن الج في الجنوب الشرقي

ج23: كلما كانت الصهارة سخن اتخففت اللزوجة وكانت اسرع وكل كانت الصهارة ابرد ارتشعت اللزوجة وقلت سرعتها

ج24: عند ثوران البركان يتصاعد غاز ثاني أكسيد الكبريت وغازات أخرى والرماد البركاني إلى طبقة الستراتوسفير في الغلاف الجوي والغلاف الجوي عموماً، وقد تبقى عالقة هناك فترة مما يسبب حجب أشعة الشمس وخفض درجات الحرارة على الأرض

استعمل الشكل أدناه للإجابة عن السؤالين 5 و 6.



5. ما نوع البركان في الشكل أعلاه؟

a. مخروطي.

b. درعي.

c. مركب.

d. فتات بركاني.

6. ما مستوى التهديد الذي يحتمل أن يسببه تطور هذا البركان للإنسان؟

a. منخفض؛ لأنه بركان تكوّن من تراكم طبقة فوق أخرى، في أثناء ثورات هادئة غير متفجرة.

b. منخفض؛ لأنه بركان تكوّن من تعاقب طبقات من اللابة مع طبقات من الرماد البركاني.

c. متوسط؛ لأنه بركان صغير تكوّن من ثوران جزء من الصهارة، ومن ثم تراكم هذا الجزء حول الفوهة.

d. مرتفع؛ لأنه بركان ذو ثوران متفجر.

اختيار من متعدد

1. ما نوع البركان الذي يمثل أكبر خطر على الإنسان والبيئة؟

a. الدرعي.

b. المركب.

c. المخروطي.

d. الطفوح.

2. كيف يؤثر زيادة الضغط المحصور في درجة انصهار الصخور؟

a. تزداد درجة الانصهار.

b. تقل درجة الانصهار.

c. تثبت درجة الانصهار.

d. تزداد درجة الانصهار ثم تقل.

3. متى تتكون البراكين الدرعية؟

a. عندما تتراكم طبقات من اللابة بعضها فوق بعض خلال الثورات البركانية غير العنيفة.

b. عندما تتعاقب طبقات صخرية صلبة ناتجة عن ثورات بركانية عنيفة مع طبقات تكونت من ثورات بركانية هادئة.

c. عندما تعود المواد البركانية الصغيرة الحجم المقذوفة في الهواء إلى الأرض، وتتراكم حول فوهة البركان.

d. عندما يكون عمود من الصهارة في الستار بقعة ساخنة.

4. ما العامل الذي لا يؤثر في تشكل الصهارة؟

a. الزمن.

b. درجة الحرارة.

c. الضغط.

d. المياه.

القراءة والاستيعاب

ثوران بركان جبل بيناتوبو

ثار بركان جبل بيناتوبو في 15 من يونيو 1991م بعد سُبات دام ستة قرون، حيث قذف إلى أعلى بارتفاع 1760m سحبًا مكونة من الغازات والرماد البركاني المعروفة بمواد الفتات البركاني، وبلغت درجة حرارتها 816°C ، وصعدت تيارات من غاز ثاني أكسيد الكبريت والرماد البركاني إلى ارتفاع 40km في طبقة الستراتوسفير. ثم وقع انفجار آخر بعيدًا عن جانب الجبل، انبعث منه الكثير من حجر الخفاف والرماد البركاني في الهواء، مما أدى إلى ظلمة السماء بعد ظهر ذلك اليوم. كما سقطت قطع من الصخور البركانية بقوة كتساقط حبات البرد. وفي مساء ذلك اليوم، ضرب زلزال المدينة التي تضررت بفعل البركان، مما أدى إلى انهيار الكهف الذي تكوّن تحت الأرض بفعل ثوران البركان.

12. ماذا تستنتج من النص أعلاه؟

a. لا يمكن توقع حدوث البراكين في أي وقت.

b. تتور البراكين في صورة انفجارات دائمًا.

c. يمكن أن تغير البراكين معالم سطح الأرض بطرائق مختلفة.

d. يرافق حدوث البراكين دائمًا حدوث الزلازل.

13. أي الجمل الآتية غير صحيحة بناءً على النص أعلاه؟

a. يمكن أن تطلق البراكين غازات في طبقة الستراتوسفير.

b. حدث ثوران جبل بيناتوبو بسبب انهيار كهف تحت الأرض.

c. الغاز والرماد البركاني اللذان انبعثا من بركان جبل بيناتوبو 1991م ساخنان بلغت درجة حرارتها 816°C .

d. يمكن أن تُغير الثورات البركانية شكل الجبل.

14. لقد أُخلت المناطق المحيطة بجبل بيناتوبو، في الأيام التي سبقت اندلاع بركان 15 من يونيو 1991م. بناءً على النص أعلاه، وضح لماذا يُعد إخلاء هذه المناطق ضروريًا.

يترك للطالب

ج7: توبا، تاميورا، كاراكاتاو، بيناتوبو،

فيزيرفيوس، سانت هيلين

ج8: قد تتنوع الإجابات، لكن قد تتضمن:

بركان فيزيوففيوس قريب جداً من العمران

وتدفقات الفتات البركانية للبركانين

مختلفة، كم تم تحذير الناس من بركان

بيناتوبو بسبب توافر طرائق حديثة

للكشف عن البراكين

ج9: 25 كم تقريباً

ج10: تحتوي اللابة التي شكلت حجر

الخفاف على كميات كبيرة من الغازات؛

وتتصاعد هذه الغازات عندما تخرج على

السطح وتبرد هناك

ج11: اللابة التي ينتج عنها انفجارات

عنيفة بلزوجة مرتفعة جداً؛ لأنها تمنع

تصاعد الغازات منها فعندما تندفع اللابة

إلى السطح تتصاعد الغازات المذابة

بصعوبة؛ مما ينتج عنه انفجارات عنيفة

1815م مقارنة بارتفاعها في بركان جبل سانت هيلين 1980م.

10. حجر الخفاف صخر ناري فقاعي يطفو على الماء. ما الذي تستنتجه عن حجم الغازات الموجودة في اللابة التي شكلت هذا الحجر؟

11. لماذا ينتج عن اللابة التي تحتوي على كميات كبيرة من الغازات المذابة، عمومًا، انفجارات عنيفة أكبر من اللابة التي تحتوي على كمية أقل من الغازات؟



تدمير المباني

هياكل أبنية متهارئة

انهيار الطرق والجسور

الفكرة العامة الزلازل هزات أرضية طبيعية، ينتج بعضها بفعل الحركة على طول الصدوع في القشرة الأرضية.

7-1 الأمواج الزلزالية وبنية الأرض

الفكرة الرئيسية يتم استعمال الأمواج الزلزالية في تصوّر بنية الأرض الداخلية.

7-2 قياس الزلازل وتحديد أماكنها

الفكرة الرئيسية يقيس العلماء قوة الزلازل ويحددون مكانها على الخريطة باستعمال الأمواج الزلزالية.

7-3 الزلازل والمجتمع

الفكرة الرئيسية يمكن معرفة احتمال حدوث الزلازل من خلال التاريخ الزلزالي للمنطقة، ومعرفة أين وكيف تتراكم الإجهادات بسرعة.

حقائق جيولوجية

- تتعرض الأرض لأكثر من مليون زلزال في العام الواحد.
- معظم الزلازل ضعيفة جدًا حيث لا نشعر بها.
- حدث في منطقة مكة المكرمة منذ عام 183هـ حتى الآن 12 زلزالاً مدمراً بسبب قربها من البحر الأحمر، ومنها ما حدث عامي 1382 و 1414هـ.

تجربة استهلاكية

ما سبب حدوث الزلزال؟

تحدث الزلازل عندما تتحرك قطعة من القشرة الأرضية فجأة بالنسبة إلى قطعة أخرى. وتحدث هذه الحركة على طول كسور في القشرة الأرضية تسمى الصدوع.



الخطوات

1. اقرأ نموذج السلامة في المختبر.
2. حرك كتلتين خشبيتين مصقولتين أفقياً على طول سطحيهما الكبيرين. صف هذه الحركة.
3. قص ورقتي صنفرة (ورق الزجاج) من النوع الخشن، بحيث يزيد طول كل منهما عن 1 cm على طول السطح الكبير لكلتا الكتلتين الخشبيتين.
4. ضع ورقة الصنفرة على السطح الكبير للكتلة الخشبية، بحيث يكون الوجه الخشن للورقة إلى أعلى، واثنها حول حواف الكتلة، وثبتها بدبابيس تثبيت الورق.
5. حرّك الكتلتين الخشبيتين أفقياً إحداهما فوق الأخرى على طول السطحين المغطيين بورقة الصنفرة. صف هذه الحركة.

التحليل

1. قارن بين حركتي الكتلتين الخشبيتين في الحالتين.
2. طبق أي أجزاء الأرض تمثلها الكتلتان الخشبيتان؟
3. استنتج أي الحركتين تُظهر ما يحدث فعلياً في أثناء حدوث الزلزال؟

الأمواج الزلزالية

اعمل المطوية الآتية لتعرف أنواع الأمواج الزلزالية.

المطويات

منظمات الأفكار



الخطوة 1 اثن الورقة أفقياً إلى جزأين، بحيث يزيد الجزء الخلفي للورقة بمقدار 2 cm عن حافة الجزء الأمامي.



الخطوة 2 اثن الورقة عمودياً إلى ثلاثة أجزاء متساوية.



الخطوة 3 افرد الورقة وقص الأجزاء المطوية في الجزء الأمامي للورقة، لعمل ثلاثة جيوب.



الخطوة 4 عنون الجيوب الثلاثة بأنواع الأمواج الزلزالية: الأولية، الثانوية، السطحية.

استخدم هذه المطوية في أثناء دراسة القسم 1-7، لتعرّف مميزات الحركة في الأمواج الزلزالية.

- ج1:** تتحرك الكتلتان الخشبيتان غير المغطاتين بورق الصنفرة إحداهما أسفل الأخرى بسهولة، أما الكتلتان المغطاتان بورق الصنفرة فيحتاج تحريكها إلى قوة أكبر، لذا فإن حركتها تكون أقل انتظاماً وقد تحدث فجأة
- ج2:** إجابات محتملة: الصفائح الأرضية أو قطع من القشرة الأرضية
- ج3:** الحركة الثانية أكثر شبيهاً بعملية حدوث الزلزال، حيث تحتك قطعة ضخمة من القشرة الأرضية مع قطعة أخرى في أثناء حركتها

الأمواج الزلزالية وبنية الأرض

Seismic Waves and Earth's Interior

الفكرة الرئيسية يتم استعمال الأمواج الزلزالية في تصوّر بنية الأرض الداخلية.

الربط مع الحياة عندما تنظر إلى المرآة فإنك ترى نفسك؛ لأن أمواج الضوء تنعكس عن وجهك وتتجه نحو المرآة، ثم ترتد عن سطحها إلى عينيك، فتحدث الرؤية. وبالكيفية نفسها، تنتقل الأمواج الزلزالية في باطن الأرض، وتنعكس عن التراكيب الداخلية معطية بذلك صورة عنها.

الأمواج الزلزالية Earthquake Waves

تنتج معظم الزلازل بفعل الحركة التي تحدث على الصدوع. إن الحركة في الصدوع قد تكون عبر سطوح ملساء نسبياً، أو عبر سطوح خشنة، كما في حركة الكتلتين الخشبيتين المغطتين بورق الصنفرة؛ حيث تعمل السطوح الخشنة على إعاقة الحركة وإيقافها. كذلك مع استمرار حركة الصخور عبر السطوح الخشنة تترامم الجهود فيها، وتعاني الصخور من تشوّه مرّن، حيث ترجع الصخور إلى وضعها الأصلي عند إزالة الإجهاد عنها. عندما تتجاوز الجهود المتراكمة في الصخور حد المرونة، وهو الحد الذي تفقد فيه الصخور خاصية المرونة، فإنها تلتوي أو تتمدد، وتصبح في مرحلة التشوّه اللدن. وعندما تنكسر الصخور أو تنزلق عبر السطوح تتحرر الطاقة المختزنة منتجة الزلازل.

أنواع الأمواج الزلزالية Types of seismic waves تسمى الأمواج التي تنتشر في الأرض والناجمة عن الزلازل الأمواج الزلزالية **Seismic waves**. ويتبع عن كل زلزال ثلاثة أنواع من الأمواج الزلزالية هي: الأولية والثانوية والسطحية.

الأمواج الأولية Primary waves يطلق عليها أيضاً أمواج P. تعمل الأمواج الأولية **Primary Waves** على تضاعف الصخور وتخلخلها في نفس اتجاه حركتها، انظر الشكل 1-7. لاحظ من الشكل أن حجم الصخر المشار إليه بالمربعات الحمراء الصغيرة يتغير مع مرور الأمواج الأولية فيه. وتشبه الحركة التضاغية للأمواج الأولية الحركة التي تحدث على طول نابض رخوا؛ إذ تنتقل الحركة الموجية على طولها في اتجاه مواز لاتجاه شدّه في البداية.

الأهداف

- تقارن بين أنواع الأمواج الزلزالية الثلاثة.
- تصف كيف يعمل مقياس الزلازل (السيزمومتر).
- تفسر كيف استعملت الأمواج الزلزالية في معرفة مكونات باطن الأرض وتركيبها.

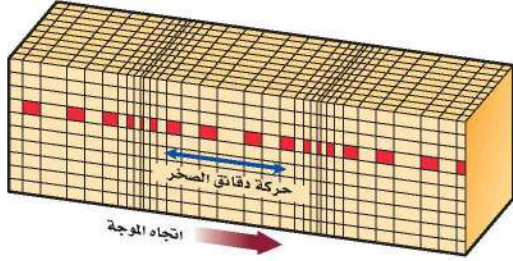
مراجعة المفردات

الستار: جزء من باطن الأرض يقع أسفل القشرة الأرضية وفوق اللب.

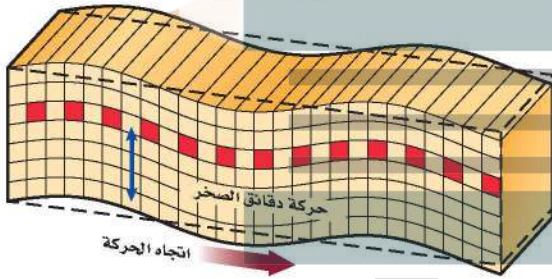
مفردات جديدة

- الأمواج الزلزالية
- الأمواج الأولية
- الأمواج الثانوية
- الأمواج الجسمية
- الأمواج السطحية
- بؤرة الزلزال
- المركز السطحي للزلزال
- مقياس الزلزال
- مخطط الزلزال

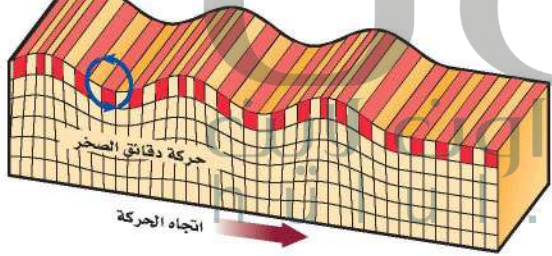
حركة الأمواج الأولية P



حركة الأمواج الثانوية S



حركة الأمواج السطحية

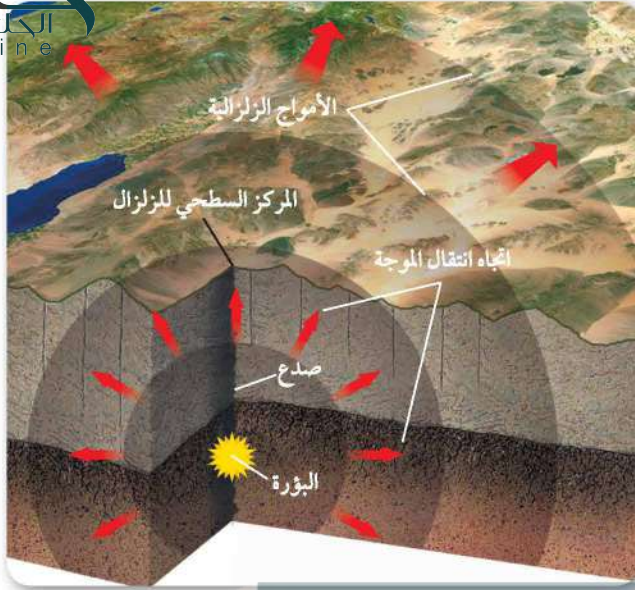


الشكل 1-7 تمتاز الأمواج الزلزالية بنوع الحركة التي تسببها للصخور التي تمر فيها؛ حيث تكون حركة جسيمات الصخر إلى الأمام وإلى الخلف وفي نفس اتجاه حركة أمواج P - بينما تكون حركة الأمواج S عمودية على خط انتشار الموجة، وإلى أعلى وإلى أسفل، ومن جانب إلى آخر في الأمواج السطحية.

الأمواج الثانوية Secondary waves يطلق عليها أيضًا أمواج S. وسميت الأمواج الثانوية Secondary Waves لأنها أبطأ من الأمواج الأولية، وهي ثاني الأمواج الزلزالية وصولاً إلى محطة الرصد. وتُسبب الأمواج الثانوية في أثناء حركتها حركة جسيمات الصخر عمودياً على اتجاه حركتها، كما في الشكل 1-7، وتشبه الحركة الموجية في الحبل؛ حيث تنتقل عمودياً إلى أعلى وإلى أسفل من أحد طرفيه إلى الطرف الآخر. وتسمى كل من الأمواج الأولية والثانوية الأمواج الجسمية Body waves؛ لأنها تنتقل داخل الأرض.

الأمواج السطحية Surface waves تنتقل الموجات السطحية Surface waves على سطح الأرض فقط، وهي أبطأ الأمواج الزلزالية، لذلك فهي ثالث الأمواج وصولاً إلى محطة الرصد وتتسبب في حركة جسيمات سطح الأرض حركة جانبية إلى أعلى وإلى أسفل كحركة الأمواج البحرية، كما في الشكل 1-7. وتعد من أكثر الأمواج الزلزالية تدميراً؛ لأنها تسبب معظم أنواع الحركة، كما أنها تستغرق وقتاً أطول لتعبر الصخور.

نشأة الأمواج الزلزالية Generations of seismic waves تنشأ أولى الأمواج الزلزالية الجسمية في نقطة الكسر في صخور القشرة الأرضية، وتنتشر منها في جميع الاتجاهات، وتسمى هذه النقطة بؤرة الزلزال Focus، وتقع في معظم الأحيان على عمق يبلغ عدة كيلومترات أسفل سطح الأرض. أما النقطة التي تقع على سطح الأرض مباشرة فوق البؤرة فتسمى المركز السطحي للزلزال Epicenter الشكل 2-7، وتنشأ الأمواج الزلزالية السطحية عن المركز السطحي للزلزال، وتنتشر منها على سطح الأرض.

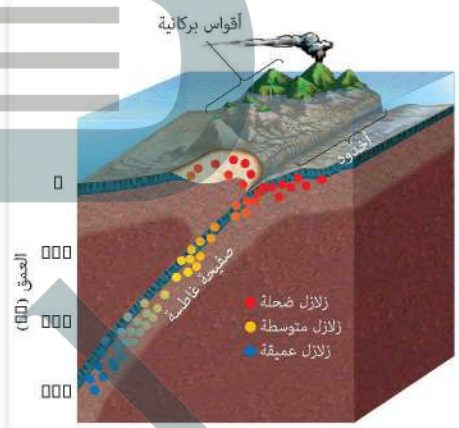


الشكل 2-7 بؤرة الزلزال هي النقطة التي ابتدأ عندها تشكّل الكسر في الصدع. وتسمى النقطة التي تقع على سطح الأرض مباشرة فوق البؤرة المركز السطحي للزلزال.

استنتاج. حدد النقطة التي يكون عندها الدمار الذي تسببه الأمواج السطحية أكبر ما يمكن.

وتنتقل الطاقة المنبعثة من بؤرة الزلزال في جميع الاتجاهات على هيئة موجات زلزالية. وتبلغ قوة الزلازل أكبر ما يمكن في بؤرة الزلزال، وكلما ابتعدنا عن البؤرة قلت قوة الموجات الزلزالية وخفت بسبب المقاومة التي تواجهها في أثناء مرورها في صخور القشرة الأرضية. وتصنف الزلازل بحسب عمق البؤرة، كما في الشكل 3-7، إلى ثلاثة أنواع: الزلازل الضحلة التي تنشأ على عمق أقل من 70 km، والزلازل المتوسطة التي تنشأ على عمق 70-300 km، والزلازل العميقة التي تنشأ على عمق 300-700 km.

ويوضح الشكل 3-7 العلاقة بين نطاق الطرح - الناتج عن غطس صفيحة أرضية أسفل صفيحة أخرى - وحدوث الزلازل. ولا تحدث الزلازل العميقة إلا في هذا النوع من الحدود. والمسؤول عن حدوث الزلازل في هذا النطاق - وبخاصة العميقة منها - هو الصفيحة الغاطسة الصلبة؛ حيث يسبب غطس الصفيحة إلى أسفل تراكم الجهود فيها، مما يؤدي إلى تكسرها وتحرير طاقة على شكل أمواج زلزالية ذات بؤر مختلفة الأعماق.



الشكل 3-7 تصنف الزلازل بناء على عمق البؤرة إلى زلازل ضحلة ومتوسطة وعميقة. وتعد الزلازل الضحلة أكثرها تدميراً.

مقياس الزلزال ومخططه

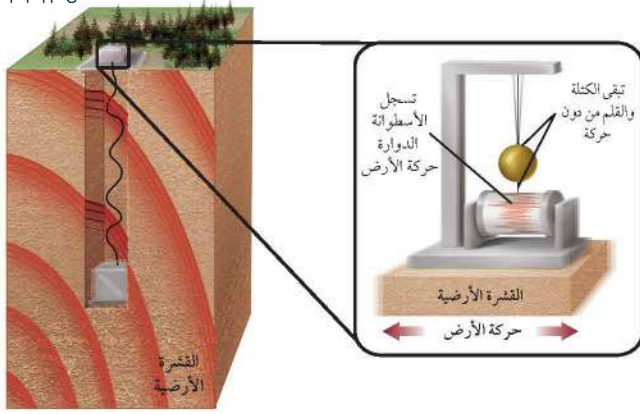
Seismometer and Seismogram

لا يمكن الإحساس بالاهتزازات الناجمة عن الأمواج الزلزالية على مسافات بعيدة جداً عن المركز السطحي، ولكن يمكن اكتشافها عن طريق جهاز حساس يسمى مقياس الزلزال (السيزمومتر) Seismometer، انظر الشكل 4-7.

تتألف بعض أجهزة السيزمومتر من أسطوانة دوارة مغطاة بورقة، وقلم أو أي أداة للتسجيل، وكتلة معلقة كالبنديول. تختلف أجهزة السيزمومتر في تصميمها، ولكنها



الشكل 4-7 أحد أجهزة مقياس الزلازل (السيزمومتر) الحديدية.



الشكل 5-7 في الإطار جهاز سيزمومتر قديم مثبت في الأرض. عندما يحدث الزلزال يتحرك الإطار بينما تبقى الكتلة المعلقة وملحقاتها دون حركة، فيُسجل الكتلة والقلم الحركة النسبية للإطار. **قارن** ذلك بأجهزة الاستقبال والإرسال الحديثة.

جميعًا تتضمن إطارًا مثبتًا في الأرض، وكتلة معلقة على نابض أو سلك، كما في الشكل 5-7.

عندما يحدث الزلزال تبقى الكتلة والقلم في أثناء حدوث الاهتزاز من دون حركة بسبب القصور الذاتي، فيتم تسجيل حركة الكتلة بالنسبة إلى الإطار على أداة للتسجيل كالورقة، أو تُسجل مباشرة على أقراص حاسوبية. ويسمى السجل الذي يتم الحصول عليه من السيزمومتر **مخطط الزلزال (السيزموجرام) seismogram**، ويوضح الشكل 6-7 جزءًا من السيزموجرام.

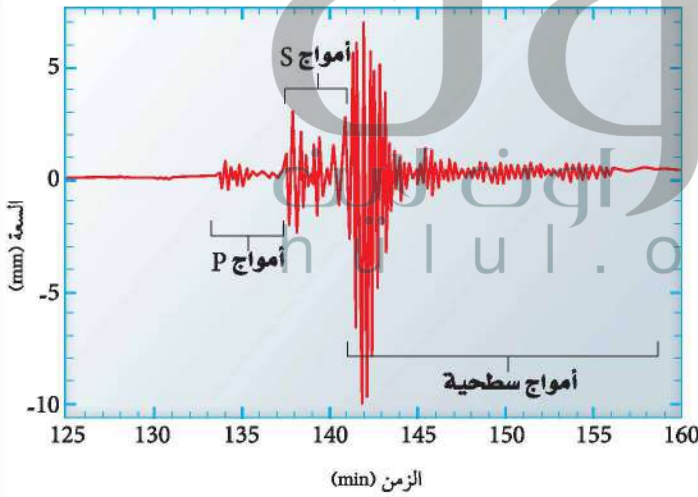
وتستخدم في الوقت الحاضر أجهزة حديثة لرصد الزلازل وتحليلها؛ حيث تستخدم الأقمار الاصطناعية في نقل البيانات من محطات الرصد الزلزالي إلى باقي المحطات في العالم. ويتم استخدام برمجيات حديثة في تحليل البيانات وتحديد مواقع الزلازل وقوتها ويستخدم الحاسب الآلي في تخزينها.

منحنيات المسافة-زمن الوصول للأمواج الزلزالية

Travel-time curves تنتقل الأمواج الزلزالية من بؤرة الزلزال، وتُسجل بأجهزة السيزمومتر؛ حيث يتم زراعة هذه الأجهزة على مسافات بعيدة. وقد استطاع علماء الزلازل من خلال بيانات أزمنة وصول الأمواج الزلزالية التي جمعوها عبر سنوات عديدة في مناطق متعددة من العالم أن يعدوا منحنيات معيارية عالمية للعلاقة بين المسافة وزمن الوصول للأمواج الزلزالية P و S، كما في الشكل 7-7، وتزودنا هذه المنحنيات بمتوسط أزمنة وصول جميع أمواج P و S من أي مكان على الأرض يحدث فيه الزلزال.

✓ **ماذا قرأت؟ لخص** كيف يُستعمل السيزموجرام في إعداد منحنيات عالمية لمنحنى المسافة - زمن الوصول؟

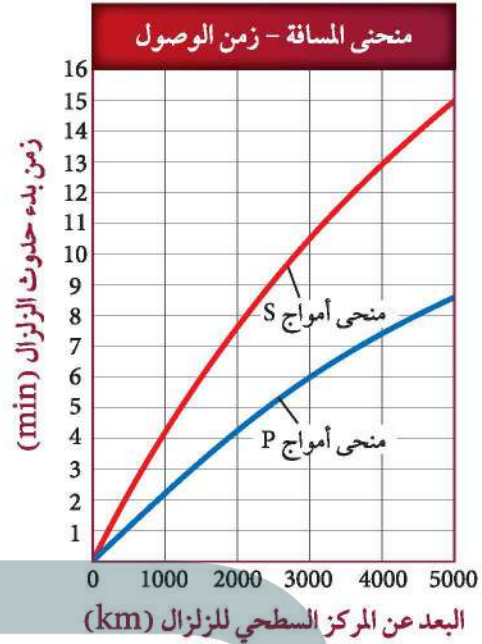
يبين السيزموجرام أزمنة وصول الأمواج الزلزالية من المركز السطحي للزلزال إلى جهاز السيزمومتر، وبمقارنة البيانات من أجهزة سيزمومتر مختلفة يستطيع العلماء أن يعدوا منحنيات المسافة زمن الوصول



الشكل 6-7 يوفر السيزموجرام سجلاً للأمواج الزلزالية التي عبرت نقطة معينة.

الشكل 7-7 تظهر منحنيات المسافة - زمن الوصول للأمواج الزلزالية أن الفترات الزمنية التي تستغرقها أمواج P و S للوصول إلى محطات رصد الزلازل مختلفة لاختلاف بُعد المحطات عن المركز السطحي للزلزال.

حدد الفترة الزمنية التي تستغرقها أمواج P للزلزال يقع على بُعد 2000 km لتصل محطة الرصد. وما الفترة الزمنية التي تستغرقها أمواج S لقطع المسافة نفسها؟



البُعد عن المركز السطحي للزلزال Distance from the epicenter لاحظ من الشكلين 6-7 و 7-7 أن أمواج P هي أول الأمواج الزلزالية وصولاً إلى محطات الرصد، ويليهما الأمواج الثانوية، وأخيراً الأمواج السطحية. يلاحظ أن الفرق الزمني بين منحنى P و S في الشكل 7-7 يزداد كلما زاد البُعد عن المركز السطحي للزلزال، أي أن فرق زمني الوصول بين أمواج P و S في السيزموجرام يكون أكبر في المحطات البعيدة عن المركز السطحي للزلزال مقارنة بالمحطات القريبة. ويُستعمل هذا الفرق الزمني في حساب بُعد المركز السطحي للزلزال عن محطة الرصد التي سجلت الزلزال.

أدلة على بنية الأرض الداخلية Clues to Earth's Interior

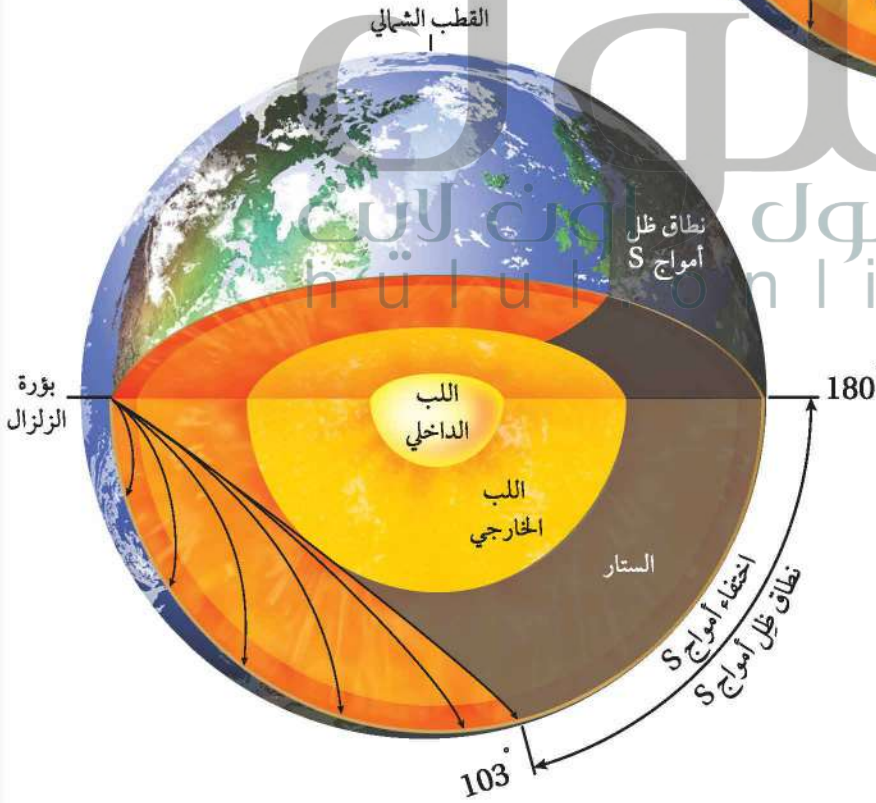
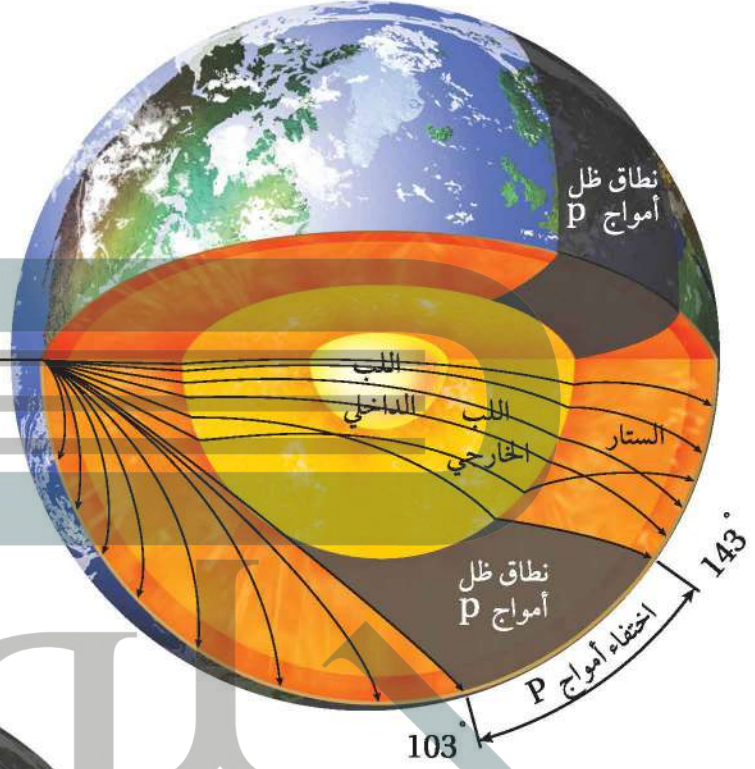
لا تعمل الأمواج الزلزالية على اهتزاز سطح الأرض فقط وما تُحدثه من دمار، بل تنتقل أيضاً إلى داخلها، لذلك فهي توفر معلومات قيمة للعلماء تمكنهم من بناء نموذج عن بنية الأرض الداخلية.

مكونات الأرض Earth's composition يوضح الشكل 8-7 أن الأمواج الزلزالية يتغير مسارها وسرعتها عندما تواجه حدوداً فاصلة بين طبقتين مختلفتين في مكوناتهما، وبذلك استطاع العلماء أن يحددوا سُمك طبقات الأرض ومكوناتها بمقارنة سرعة الأمواج الزلزالية مع القياسات التي حصلوا عليها في المختبرات لأنواع مختلفة من الصخور. وتوصلوا نتيجة لذلك إلى أن الستار العلوي يتكون من صخر البيرودوتيت (يتكون معظمه من معدن الأوليفين)، وأن اللب الخارجي يتكون معظمه من مصهور الحديد والنيكل، أما اللب الداخلي فهو في حالة صلبة ويتكون معظمه من الحديد والنيكل.

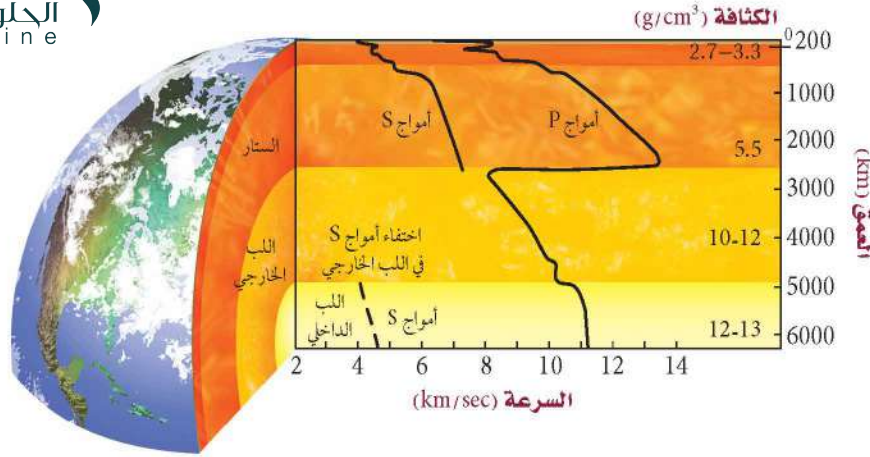
Seismic Waves الزلزالية الأمواج

الشكل 8-7 يزودنا كل من زمن الوصول وسلوك الموجات الزلزالية بصورة تفصيلية لبنية الأرض الداخلية. كذلك تزودنا هذه الأمواج بأدلة على مكونات أجزاء الأرض المختلفة.

يؤدي انكسار أمواج P عند اللب الخارجي إلى تكوين نطاق ظل على سطح الأرض، بحيث لا تظهر أمواج P على المخطط الزلزالي (السيزموجرام) على بعد زاوي يتراوح بين 103° - 143° عن المركز السطحي للزلزال، بينما تظهر أمواج P على أجهزة السيزمومتر في الجانب المقابل للمركز السطحي للزلزال.



لأن أمواج S لا تمر من خلال اللب الخارجي للأرض السائل، لذلك فإنها لا تظهر ضمن نطاق يسمى ظل أمواج S على بعد زاوي يتراوح بين 103° - 180° عن المركز السطحي للزلزال.



الشكل 7-9 تختلف طبقات الأرض الداخلية في مكوناتها؛ وقد استطاع العلماء تحديد مكوناتها من خلال معرفة سلوك الأمواج الزلزالية عبر أنواع مختلفة من الصخور.

بنية الأرض الداخلية Earth's internal structure تتغير سرعة الأمواج الزلزالية واتجاهها عندما تواجه مواد مختلفة في باطن الأرض. لاحظ من الشكل 7-9 كيف تتبع أمواج P و S في البداية مسارات مباشرة إلى حد ما في أثناء عبورها الستار، ولكنها تعاني من انكسار وانعكاس عندما تعبر الحدود الرئيسية بين طبقات الأرض. لذلك استطاع علماء الزلازل من خلال رصد زمن ومسافة الأمواج الزلزالية ومسار كل موجة وتمثيلها بيانياً في منحنيات المسافة - زمن الوصول، معرفة أن مكونات الأرض والكثافات تختلف من الداخل.

ماذا يحدث لأمواج S عندما تنشأ بفعل الزلازل؟ للإجابة عن هذا السؤال: أولاً، توصل علماء الزلازل إلى أن أمواج S لا تسير في الأوساط السائلة، ولاحظوا أنها لا تسير في مركز الأرض، مما جعلهم يكتشفون أن جزءاً من باطن الأرض يوجد في الحالة السائلة القليلة اللزوجة. وقد أيدت البيانات التي جمعت حول مسار الأمواج الزلزالية وزمن وصولها في باطن الأرض إلى أن لب الأرض الخارجي سائل ولبها الداخلي صلب.

تصور باطن الأرض Imaging Earth's interior تتأثر كل من سرعة الأمواج الزلزالية وكثافة الصخور بعوامل أخرى غير العمق، منها درجة الحرارة. تذكرنا درسته من قبل أن الصفيحة المحيطية الباردة تغوص في الستار في أثناء عملية الطرح، وأن اندفاعات الصهارة الساخنة (أعمدة الصهارة) ترتفع إلى أعلى في الستار. ولأن سرعة الأمواج الزلزالية تعتمد على درجة الحرارة والمكونات، لذلك فمن الممكن استعمالها في تصور تراكيب الأرض الداخلية، مثل الصفائح وأعمدة الصهارة الساخنة، وتقل سرعة الأمواج الزلزالية عموماً مع تزايد درجات الحرارة، لذلك تنتقل ببطء في المناطق الساخنة، وبسرعة أكبر في المناطق الباردة. وباستعمال قياسات الأمواج الزلزالية الملتقطة بأجهزة قياس الزلازل (السيزمومترات) في مختلف أنحاء العالم، وسجلات الأمواج الزلزالية لعدة آلاف من الزلازل، يمكن الحصول على صور لبنية الأرض الداخلية تتضمن بعض التراكيب، ومنها الصفيحة الغاطسة التي تتضح في الشكل 7-10. ويمكن تشبيه هذه الصور بالصور الملتقطة بالأشعة السينية.

- ج1: تدل سرعات الأمواج الزلزالية على طبيعة المواد التي تمر فيها
- ج2: يجب أن توضح الرسوم كيف تسجل حركة الكتلة بالنسبة إلى الإطار
- ج3: تزودنا منحنيات المسافة زمن الوصول بمتوسط أزمنة وصول جميع الأمواج الزلزالية التي تساعد العلماء على تحديد موقع المركز السطحي للزلزال
- ج4: تقل، بصورة عامة؛ سرعة الأمواج الزلزالية بارتفاع درجة الحرارة
- ج5: قد يشاهدنا لشخص الذي على السطح أن الأمواج السطحية تنتقل على سطح الأرض كحركة أمواج البحر، وتنتقل أمواج ب مبتعدة ومقتربة من الشخص، أما أمواج س فتتحرك سطح الأرض إلى الأمام والخلف
- ج6: لأن الأمواج الزلزالية تحرر جميع طاقتها على السطح حيث يوجد الناس والمنشآت
- ج7: ينبغي أن توضح المقالات أن العلماء يدمجون معرفتهم بسلوك الأمواج الزلزالية في أثناء عبورها للصخور بقياسات أزمنة وصول الأمواج الزلزالية التي تسير في جسم الأرض عند حدوث الزلزال

فهم الأفكار الرئيسية

1. الفكرة الرئيسية وضح كيف تستعمل كل من أمواج P وأمواج S في تحديد خواص لب الأرض؟
2. ارسم مخططاً لسيزمومتر يوضح كيف تُقاس اهتزازات الأرض وتسجل على السيزموجرام.
3. صف كيف يُستعمل منحنى المسافة-زمن الوصول في دراسة الزلازل؟
4. ميز بين سرعة الأمواج الزلزالية في أثناء مرورها في المواد الباردة والمواد الساخنة.
5. اربط بين حركة الأمواج الزلزالية مع ملاحظات شخص يراقب كيفية انتقالها على سطح الأرض.
6. استنتج باستعمال الشكل 6-7 الذي يمثل مخططاً زلزالياً، فسر لماذا تعد الأمواج السطحية أكثر الأمواج الزلزالية تدميراً، على الرغم من أنها آخر الموجات وصولاً إلى محطات الرصد؟

الكتابة الجيولوجيا

7. اكتب مقالة حول الطرائق التي يعتمد عليها العلماء في معرفة مكونات الأرض الداخلية.

الخلاصة

- أنواع الأمواج الزلزالية ثلاثة: أولية وثنوية وسطحية.
- مقياس الزلازل (السيزمومتر) جهاز يستقبل الأمواج الزلزالية، ويسجلها على مخطط الزلزال (السيزموجرام).
- استطاع العلماء أن يحددوا المركز السطحي للزلزال من الفرق الزمني بين زمني وصول كل من أمواج P وأمواج S.
- تتغير سرعة واتجاه كل من أمواج P وأمواج S عندما تواجه حدوداً فاصلة بين مواد مختلفة.
- يمكن الحصول على صورة مفصلة عن مكونات الأرض الداخلية من خلال تحليل الأمواج الزلزالية التي تعبر باطن الأرض.

- تقارن بين قوة الزلزال وشدته استناداً إلى المقاييس المختلفة.
- تفسر لماذا نحتاج إلى ثلاث محطات رصد لتحديد موقع المركز السطحي للزلزال.
- تصف أحزمة زلازل الأرض.

مراجعة المفردات

إسقاط البيانات: تعيين الموقع على الخريطة أو تمثيل البيانات بمخطط بياني.

مفردات جديدة

مقياس رختر

قوة الزلزال

سعة الموجة الزلزالية

مقياس العزم الزلزالي

مقياس ميركالي المعدل

أحزمة الزلازل

قياس الزلازل وتحديد أماكنها

Measuring and Locating Earthquakes

الفكرة الرئيسية يقيس العلماء قوة الزلازل ويحددون مكانها على الخريطة باستعمال الأمواج الزلزالية.

الربط مع الحياة إذا تكلم شخص قريب منك فإنك تسمعه جيداً، ويضعف صوته كلما ابتعد عنك. وبالكيفية نفسها تضعف طاقة الأمواج الزلزالية كلما ابتعدت عن مصدر الزلزال.

قوة الزلزال وشدته

Earthquake Magnitude and intensity

يحدث سنوياً أكثر من مليون زلزال يمكن الإحساس به، ولكن لا يُذكر منها في وسائل الإعلام إلا الزلازل الكبيرة فقط. لقد طوّر العلماء طرائق عدّة لوصف قوة الزلزال.

مقياس رختر Richter scale ابتكر مقياس رختر **Richter scale** الجيولوجي تشارلز رختر Charles Richter، وهو مقياس عددي يقيس طاقة أكبر الأمواج الزلزالية المنبعثة من الزلزال، ويسمى مقدار الطاقة هذا قوة الزلزال **Magnitude**. وتقاس قوة الزلزال بإيجاد سعة الموجة الزلزالية **Amplitude**. وهي ارتفاع الموجة الزلزالية الأكبر، حيث تشير كل درجة على مقياس رختر إلى زيادة في سعة الزلزال قدرها 10 أضعاف الدرجة التي قبلها، فمثلاً، سعة الأمواج الزلزالية لزلزال قوته 8 بحسب مقياس رختر أكبر عشر مرات، من سعة الأمواج الزلزالية لزلزال قوته 7. لكن الفرق في كمية الطاقة الصادرة عن الزلازل أكبر كثيراً من الفرق في سعة الأمواج الزلزالية؛ فالطاقة الزلزالية الصادرة عن زلزال عند درجة ما أكبر 32 ضعفاً من الطاقة الصادرة عن الدرجة التي تسبقها، لذا فطاقة الزلزال الذي قوته 8 أكبر 32 مرة من طاقة زلزال قوته 7. ويوضح الشكل 11-7 دماراً سببه زلزال قوته 7.6 درجة على مقياس رختر.



الشكل 11-7 دمار ناجم عن زلزال قوته 7.6 درجة على مقياس رختر، وهو زلزال قوي ضرب باكستان في شهر يناير من عام 2005 م.



الشكل 12-7 يمكن أن يقيس مقياس ميركالي الأضرار التي يحدثها الزلزال، كالتالي في الشكل، وهو زلزال قوي قادر على إيقاع المواد الموجودة على الرفوف.

مقياس العزم الزلزالي Moment magnitude scale رغم أن مقياس ريختر يُستعمل لوصف قوة الزلازل، إلا أن معظم العلماء يستعملون مقياس العزم الزلزالي **Moment magnitude scale**، وهو مقياس رقمي يشير إلى الطاقة المتحررة من الزلزال، مأخوذاً في الاعتبار حجم الجزء المتمزق من الصدع، ومقدار الحركة على طول الصدع، وقساوة الصخر.

مقياس ميركالي المعدل Modified Mercalli scale هناك طريقة أخرى لوصف حجم الزلازل تعتمد على مقدار الضرر الذي تحدثه، ومدى إحساس الناس بها ولا يعبر عن قوة الزلزال، ويسمى هذا المقياس شدة الزلزال، ويتم تحديده باستعمال مقياس ميركالي المعدل **Modified Mercalli scale**. وتقسم شدة الزلازل بحسب هذا المقياس إلى 12 درجة؛ باستعمال الأرقام الرومانية للدلالة على درجة شدة الزلزال؛ حيث تصف كل درجة آثاراً معينة، وكلما زادت الدرجة كانت الأضرار الناجمة عن الزلزال أسوأ. ويبين الجدول 1-7 مقياس ميركالي المعدل. ويمكنك استعمال المعلومات الواردة في هذا الجدول لتقدير شدة الزلازل الذي في الشكل 12-7.

مقياس ميركالي المعدل

الجدول 1-7

I	لا يمكن الإحساس به إلا تحت ظروف غير عادية.
II	يشعر به عدد قليل من الأشخاص، يمكن أن تهتز بعض الأجسام المعلقة.
III	يشعر به الناس داخل البيوت، ينتج عنه اهتزازات كالتالي تنتج عن حركة شاحنة ضخمة قريبة.
IV	يشعر به كثير من الناس داخل البيوت وقليل من خارجها، ويهتز زجاج النوافذ والأواني والسيارات الواقعة بصورة ملحوظة.
V	يشعر به معظم الناس، يتكسر بعض الزجاج والأواني.
VI	يشعر به جميع الناس، يتحرك الأثاث، قد تتضرر بعض المآذن.
VII	يهرب جميع الناس من المباني، وقد تتضرر المباني الضعيفة بصورة كبيرة ولكن المباني القوية قد تصاب بأضرار خفيفة.
VIII	تسقط المآذن، ينقلب الأثاث الثقيل داخل البيوت، قد تتهدم المباني العادية بصورة جزئية.
IX	تدمير عام للمباني، تتحرك المباني عن أساساتها، تتشقق الأرض، تتكسر أنابيب المياه.
X	تدمير معظم المباني العادية، والطرق المعبدة، تحدث انزلاقات أرضية، تتحني السكك الحديدية والأسوار.
XI	قلة من المباني تبقى قائمة، تتهدم الجسور، تنقطع السكك الحديدية والأسوار، وتتشكل شقوق كبيرة في الأرض.
XII	دمار شامل، تقذف الأجسام في الهواء.

شدة الزلزال Earthquake intensity تعتمد شدة الزلزال بصورة رئيسة على البعد عن المركز السطحي للألواح التكتونية. ويضعف حجم الأمواج السطحية مثل الأمواج الأولية والثانوية كلما زاد البعد عن بؤرة الزلزال، وتقل شدة الزلزال كلما زاد البعد عن المركز السطحي للزلزال. إن أعلى شدة للزلزال نجدها بالقرب من المركز السطحي، وتقل قيم ميركالي إلى الدرجة I على مسافات بعيدة عن المركز السطحي.

إنَّ كلاً من شدة الزلزال وقوته يُعبّران عن حجم الأمواج الزلزالية الناجمة عن الزلزال، وإن شدة الزلزال تعتمد على سعة الأمواج الزلزالية والبعد عن المركز السطحي للزلزال، كذلك تعتمد شدة الزلزال على عمق بؤرة الزلزال. فالزلازل القوية التي تسبب الكوارث هي في الغالب زلازل ضحلة.

ينتج عن الزلازل العميقة اهتزازات أصغر من تلك التي تنتجها الزلازل الضحلة عادة، على سبيل المثال، يمكن لزلزال ضحل ومتوسط قوته 6 درجات على مقياس ريختر، أن يولد شدة زلزالية قصوى أعلى من تلك التي ينتجها زلزال عميق قوته 8 درجات على مقياس ريختر. ولأن مقياس ميركالي المعدل يعتمد على شدة الزلزال بدلاً من طاقته، لذلك فهو أفضل لقياس تأثير الزلزال على الناس.

سوف تبني في التجربة الآتية خريطة الشدة الزلزالية باستخدام مقياس ميركالي المعدل، وتوضح هذه الخرائط الشدة الزلزالية الفعلية؛ إذ تصل خطوط الكنتور بين الأماكن المتساوية في الشدة، كما توضح أن أكبر شدة للزلزال تكون بالقرب من المركز السطحي له.

تجربة

إعداد خريطة

كيف يمكن إعداد خريطة الشدة الزلزالية؟ يساعد إسقاط بيانات الشدة الزلزالية على خرائط المناسيب (الكتورية) على إعطاء العلماء صورة واقعية عن موقع المركز السطحي للزلزال والشدة الزلزالية.

خطوات العمل

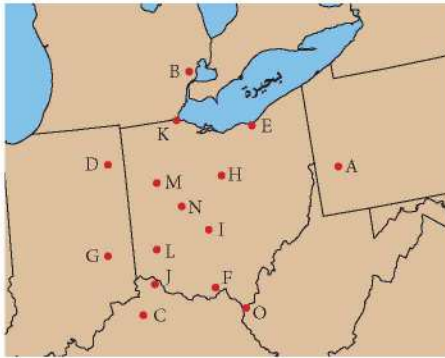
1. اقرأ نموذج السلامة في المختبر.
 2. ضع ورقة فوق الخريطة، وارسم الخريطة، ثم حدد على الخريطة التي رسمتها المواقع المشار إليها بالأحرف.
 3. أسقط بيانات الشدة لمقياس ميركالي على الخريطة التي رسمتها، بحيث تضع بجانب كل حرف الشدة الزلزالية الخاصة به.
- A : I, B : III, C : II, D : III, E : IV, F : IV, G : V, H : IV, I : V, J : V, K : VI, L : VIII, M : VII, N : VIII, O : III

4. لتحصل على خريطة مناسب (كتورية) للشدة الزلزالية، صل بين النقاط المتساوية الشدة.

التحليل

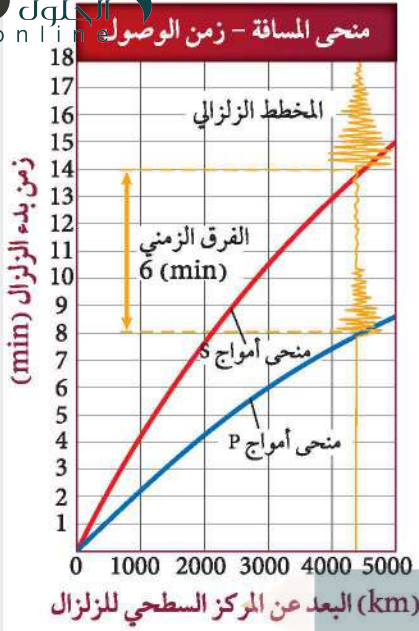
1. حدد أعلى قيمة للشدة الزلزالية.
2. جد موقع أعلى قيمة للشدة الزلزالية.
3. قدر موقع المركز السطحي للزلزال.

قيم الشدة الزلزالية لمنطقة ما



تحديد موقع الزلزال Locating an Earthquake

إن موقع المركز السطحي للزلزال ووقت حدوثه يكونان، في البداية، غير معروفين، ولكن يمكن تحديدهما باستعمال المخطط الزلزالي (السيزموجرام) ومنحنيات المسافة - زمن الوصول.



الشكل 7-13 يبين منحني المسافة-زمن الوصول هذا بيانات زلزالية لزلزال ما.

بُعد الزلزال Distance to an earthquake كما أن الشخص الذي يقود دراجة يصل قبل الشخص الذي يمشي، فإن أمواج P تصل محطات الرصد قبل أمواج S. ولو أخذنا بعين الاعتبار أثر المسافة المقطوعة على زمن وصول كل من الموجتين فإن الفرق الزمني بين وصوليهما سيزداد بزيادة المسافة المقطوعة. يوضح الشكل 7-13 منحني المسافة-زمن الوصول؛ حيث يُسجل السيزموجرام الزمن المستغرق بين وصول أول أمواج P وأول أمواج S، ويستطيع علماء الزلازل معرفة بُعد المركز السطحي للزلزال بقياس الفرق بين زمني وصول الموجتين في المخطط الزلزالي (السيزموجرام)، ثم تحديد الفرق الزمني نفسه على منحني المسافة - زمن الوصول، ومن ثم استخراج بُعد الزلازل.

ويوضح الشكل 7-13 أن الفرق الزمني يساوي 6 دقائق، لذا فإن المسافة بين المركز السطحي للزلزال ومحطة رصد الزلازل تساوي 4300 km بحسب منحني المسافة - زمن الوصول؛ حيث يتضح من المنحني أن أمواج P استغرقت 8 دقائق حتى وصلت محطة الرصد، بينما أمواج S استغرقت 14 دقيقة، فكلما زاد بُعد الزلزال زاد الفرق الزمني بين وصول أمواج P وأمواج S.

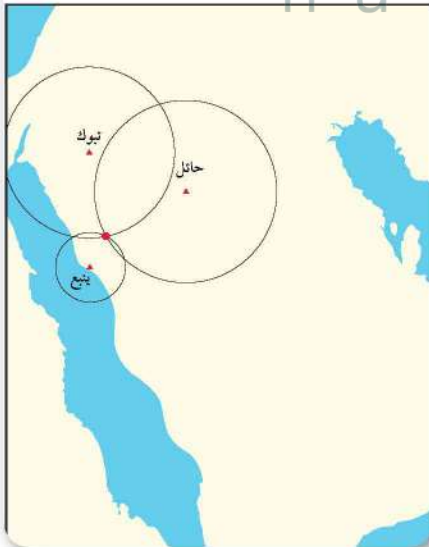
✓ **ماذا قرأت؟** طبق إذا علمت أن الفرق الزمني بين وصول أمواج P وأمواج S دقيقتان، فما بُعد المركز السطحي للزلزال عن موقع محطة الزلزال؟ **يبعد 1200 كم عن السيزمومتر الذي قاس الزلزال**

يجل علماء الزلازل بيانات مخططات زلزالية عديدة لتحديد موقع المركز السطحي للزلزال، فبحساب المسافة بين المركز السطحي للزلزال وبين محطة الرصد يحدد العلماء بُعد المركز السطحي بدقة، ولكن هذا لا يُحدد الاتجاه الذي يقع المركز السطحي فيه بالنسبة إلى محطة الرصد. ويمكن التعبير عن ذلك بدائرة مركزها محطة الرصد ونصف قطرها بُعد المركز السطحي عن المحطة. ولو مثلنا بُعد المركز عن محطة أخرى بدائرة ثانية، فسوف تتقاطع الدائرتان في نقطتين، ولا نعرف أيهما يقع المركز السطحي فيه. ولو مثلنا بُعد محطة ثالثة بدائرة ثالثة، فعندئذ تتقاطع الدوائر الثلاث في نقطة، وتمثل هذه النقطة المركز السطحي، انظر الشكل 7-14.

زمن حدوث الزلزال Time of an earthquake يوفر الفرق الزمني بين وصول الأمواج الزلزالية في السيزموجرام معلومات حول بُعد المركز السطحي، كما يستعمل علماء الزلازل السيزموجرام في معرفة زمن حدوث

الشكل 7-14 لتحديد موقع المركز السطحي للزلزال يحدد العلماء مواقع محطات الرصد على خريطة، ويرسمون حول كل محطة دائرة مركزها المحطة ونصف قطرها بُعد المركز السطحي عن المحطة، وتتقاطع الدوائر جميعها في نقطة تمثل المركز السطحي للزلزال.

حدد من الشكل المرفق موقع المركز السطحي للزلزال.



الزلازل في البؤرة بدقة. ويتم تحديد الزمن باستعمال جدول، كما هو الحال في منحنى المسافة-زمن الوصول في الشكل 7-7. تسجل محطات الرصد في السيزموجرام زمن وصول أمواج P وأمواج S بدقة متناهية، ويستطيع العلماء قراءة الزمن الذي استغرقته أمواج P وS من المركز السطحي إلى محطة الرصد باستعمال رسوم بيانية كالتي في الشكل 7-7. فعلى سبيل المثال، افترض أن السيزموجرام سجل زمن وصول أمواج P في تمام الساعة 10:00 صباحاً باستعمال منحنى المسافة-زمن الوصول، ويمكن استخراج قيمة المسافة التي قطعتها أمواج P في 8 دقائق، وهي 4500 km، فهذا يعني أن الزلزال قد حدث عند البؤرة في الساعة 09:52 صباحاً.

✓ **ماذا قرأت؟** اعمل قائمة بالمعلومات التي يتضمنها المخطط الزلزالي (السيزموجرام).

**أزمة الوصول إلى
الأمواج الزلزالية
المختلفة زمن حدوث
الزلزال عند البؤرة
بدقة**

الأحزمة الزلزالية Seismic Belts

جمع علماء الزلازل على مر السنين مواقع المراكز السطحية للعديد من الزلازل، وأسقطوها على خريطة العالم. يُلاحظ من التوزيع العالمي لمواقع المراكز السطحية أنها تتوزع بنمط جدير بالاهتمام؛ أي أنها لا تتوزع بصورة عشوائية؛ بل تحدث معظم الزلازل على طول أحزمة ضيقة تفصل بين مناطق كبيرة لانشط زلزالي فيها أو يحدث فيها قليل من الزلازل سميت أحزمة الزلازل seismic belts.

مختبر تحليل البيانات

تفسير البيانات

كيف يمكنك أن تحدد موقع المركز السطحي للزلزال؟ لكي تحدد موقع المركز السطحي للزلزال بدقة، عليك أن تحلل بيانات أمواج P وأمواج S التي سُجلت في محطة رصد زلزالية.

تحليل

البيانات والملاحظات

محطة الرصد	زمن وصول أمواج P	زمن وصول أمواج S	الفرق الزمني (دقائق)	بُعد المركز السطحي (km)
بيشة (BISH)	8:39:02	8:44:02		
عقلة الصقور (UQSK)	8:35:22	8:37:57		
عفيف (AFIF)	8:35:38	8:38:17		

التفكير الناقد

6. وضح لماذا تحتاج إلى إيجاد الفرق الزمني بين وصول كل من أمواج P وأمواج S لكل محطة.
7. حدد مصادر الخطأ عند تحديد المركز السطحي للزلزال.
8. فسر لماذا يعد زيادة محطات الرصد الزلزالي المأخوذ منها البيانات أكثر فائدة في تحديد موقع المركز السطحي للزلزال.

ج6: لتحديد نقطة واحدة لا بد من وجود ثلاث محطات لكي تتقاطع الدوائر الثلاث في نقطة وهي تمثل البعد المحتمل لبعد كل من هذه المحطات عن المركز السطحي للزلزال

ج7: إجابات محتملة: مكونات القشرة الأرضية أسفل محطة الرصد، دقة الأجهزة، الدقة في تزامن الساعات

ج8: على الرغم من أننا نحتاج إلى بيانات ثلاث محطات رصد فقط لتحديد موقع المركز السطحي إلا أن زيادة عدد المحطات يؤكد لنا صحة الموقع؛ ومن ثم يؤدي إلى تصحيح أي أخطاء محتملة

- ج1: يستعمل زمن انتقال أمواج ب وأمواج س لتحديد المركز السطحي للزلازل.
- ج2: يعتمد قياس قوة الزلازل على الأمواج الزلزالية؛ بينما تعتمد شدة الزلازل على ما يعانیه الناس من أضرار بسبب هذه الأمواج ويعتمد مقياس رختر على قیاس الأمواج الزلزالية ويعتمد مقياس العزم الزلزالي على الطاقة المتحررة في صورة أمواج زلزالية بينما يعتمد مقياس ميركالي المعدل على شدة الزلازل الذي يقاس بالآثار التي تقع على الإنسان وما يحيط به
- ج3: للحصول على نقطة واحدة تحتاج على الأقل إلى ثلاث دوائر متداخلة، بحيث تتقاطع في نقطة واحدة
- ج4: توجد معظم الزلازل في أحزمة ضيقة نسبياً وتنطبق مع حدود الصفائح
- ج5: الزلازل الضحلة عموماً تنتج الاهتزازات الكبيرة، لذا تكون أكثر ضرراً على السطح بعكس الزلازل العميقة

مع حدود الصفائح الأرضية. هناك 80% من زلازل الأرض ضمن حزام المحيط الهادي، و 15% ضمن حزام البحر الأبيض المتوسط، وهذان الحزامان هما نطاقا طرح؛ حيث تلتقي صفيحتان معاً، وتغوص إحداهما تحت الأخرى. أما ما تبقى من الزلازل فيحدث معظمه في أحزمة ضيقة تقع على طول قمم ظهور المحيطات؛ حيث تبعد الصفائح الأرضية بعضها عن بعض.

التقويم 2-7

الخلاصة

- قوة الزلازل هي مقياس للطاقة التي تتحرر في أثناء حدوث الزلازل، ويمكن قياسها بمقياس رختر.
- شدة الزلازل هي مقياس للدمار الذي يُحدثه الزلازل.
- لتحديد موقع المركز السطحي للزلازل نحتاج على الأقل إلى ثلاث محطات رصد للزلازل.
- تحدث معظم الزلازل في أحزمة ضيقة تسمى أحزمة الزلازل؛ حيث تنطبق مع حدود الصفائح.

فهم الأفكار الرئيسية

1. الفكرة الرئيسية: لخص الطرائق التي يستعمل فيها العلماء الأمواج الزلزالية لقياس الزلازل وتحديد موقعها.
2. قارن بين قوة الزلازل وشدته، وكذلك بين المقياسين المستخدمین لقياسيهما.
3. فسر لماذا نحتاج إلى ثلاث محطات رصد على الأقل لتحديد موقع الزلازل؟
4. صف كيف يمكن مقارنة حدود الصفائح الأرضية بموقع معظم الزلازل على خريطة العالم، كما في الشكل 15-7؟

التفكير الناقد

5. كوّن جملة تفسر لماذا يمكن أن يُسبب زلزال قوته 6 دماراً أكثر مما يُسببه زلزال قوته 8.

الرياضيات في الجيولوجيا

6. احسب كم تزيد الطاقة الزلزالية الصادرة عن زلزال قوته 9 على الطاقة الزلزالية الصادرة من زلزال قوته 7؟

الزلازل والمجتمع

الأهداف

- تناقش العوامل التي تؤثر في حجم الدمار الذي يحدثه الزلزال.
- توضح بعض العوامل التي تؤخذ في الاعتبار في دراسات احتمالية وقوع الزلازل.
- تتعرف كيف تتأثر المنشآت المختلفة بالزلازل.

Earthquakes and Society

الفكرة الرئيسية يمكن معرفة احتمال حدوث الزلزال من خلال دراسة تاريخ المنطقة زلزالياً، ومعرفة أين وكيف تتراكم الإجهادات بسرعة.

الربط مع الحياة إذا كانت مدينتك تشهد سقوط أمطار في شهر مارس بمعدل 11 يوماً من كل عام، فكيف يمكنك أن تتوقع الطقس في مدينتك في شهر مارس بعد 10 سنوات من الآن. قد تقدر فرصة حدوث سقوط المطر بنسبة 11/31. وبالكيفية نفسها تستطيع أن تتوقع احتمالية حدوث الزلازل عن طريق التاريخ الزلزالي للمنطقة.

مراجعة المفردات

العمليات التكتونية؛ قوى في باطن الأرض تؤثر في القشرة الأرضية وتؤدي إلى حركتها وارتفاعها وتشوهها.

مفردات جديدة

تسييل التربة
تسونامي
فجوة زلزالية
تراكم الجهد

الخطر الزلزالي Earthquake Hazards

من المعروف أن الزلازل تحدث على حدود الصفائح بصورة متكررة، وتسبب أضراراً في الممتلكات والأرواح في المناطق التي تصيبها. ويمكن لزلزال قوته 5 أن يسبب كارثة في منطقة وأضراراً قليلة في منطقة أخرى؛ إذ تعتمد حدة الأضرار الناجمة عن الزلزال على مجموعة من العوامل، تسمى هذه العوامل مخاطر الزلازل. ومن الأمثلة على هذه العوامل تصميم المباني؛ إذ تتضرر المباني سيئة التصميم بالزلازل أكثر من غيرها؛ فالمبنى المصنوع من الخرسانة وأساساته غير مدعومة قد يتضرر أكثر من المبنى المصنوع من الخشب، انظر الشكل 16-7؛ لأن الخرسانة مادة هشة قليلة المرونة بينما الهياكل الخشبية أكثر مرونة.



الشكل 16-7 المباني الخرسانية (الأسمتية) هشة غالباً، ويمكن أن تلتف بسهولة إذا وقع زلزال؛ فالمبنى الظاهر في الصورة أزيح من فوق أساسه عندما حدث الزلزال، وتم إنساده بعمود من الخشب.

الشكل 17-7 يوضح الشكل أطلال المبنى الدمار الناجمة عن الزلازل، حيث تتسبب الاهتزازات في انهيار الجدران الداعمة للمبنى وسقوط الطوابق العليا واحدة فوق الأخرى، فتظهر الطوابق متراسة بعضها فوق بعض.



انهيار المنشآت Structural failure يحدث في كثير من المناطق المعرضة للزلازل انهيار للمباني عندما تهتز الأرض من تحتها؛ وفي بعض الحالات، قد تنهار الجدران الداعمة في الطابق الأرضي فتتسبب في انهيار الطوابق العليا، وسقوطها فوق الطوابق السفلية، فيتشكل حطام يشبه مجموعة من الألواح، لذا تسمى هذه العملية تراصّ الألواح ويوضح الشكل 17-7 دماراً مأساوياً ناتجاً عن هذا النوع من انهيار المنشآت، والذي وقع في جمهورية هايتي، في عام 2010م.

تنهار الجدران وتسقط الأسقف العلوية فوق السفلية في عملية تراصّ الألواح

✓ **ماذا قرأت؟** وضع كيف يتشكل «تراصّ الألواح» عند حدوث زلزال؟

هناك نوع آخر من انهيار المنشآت يتعلق بارتفاع المباني. حيث تدمر معظم المباني التي يتراوح ارتفاعها بين 5 إلى 15 طابقاً تدميرًا تامًا، كما في الشكل 18-7، بينما تعاني المباني الأقصر أو الأطول من أضرار طفيفة؛ وذلك لأن التردد الناتج عن اهتزاز سطح الأرض الناتج عن الزلزال مساوٍ للتردد الناتج عن الاهتزاز الطبيعي للمباني المتوسطة، مما جعل هذه المباني تهتز بعنف في أثناء الزلزال، في حين أن تردد الاهتزازات الأرضية أقل من تردد اهتزازات المباني المرتفعة وأكبر من تردد اهتزازات المباني المنخفضة.

الشكل 18-7 تدمرت المباني المتوسطة الارتفاع في أثناء حدوث الزلزال؛ لأن تردد اهتزازات هذه المباني يساوي تردد اهتزازات الأمواج الزلزالية.





الشكل 19-7 يحدث تسيل في التربة الضعيفة التماسك عندما تنتشر اهتزازات زلزالية فيها، فتسلك سلوك الرمال المتحركة.

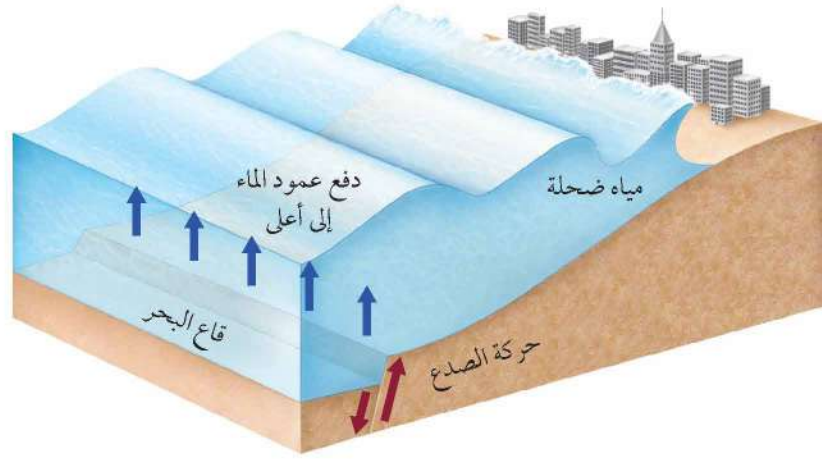
انهيار اليابسة والتربة Land and soil failure بالإضافة إلى تأثير الزلازل في المنشآت التي شيدها الإنسان، يمكن للزلازل أن تشوه المناظر الطبيعية في الأرض. ففي المناطق المنحدرة، يمكن أن تؤدي الزلازل إلى انهيارات أرضية ضخمة. وقد تسبب الانهيارات الأرضية الناجمة عن الزلازل دفن العديد من القرى والبلدات الصغيرة؛ فالاهتزازات الزلزالية تجعل المناطق الرملية المشبعة بالماء، تسلك سلوك السائل عندما تسير فيها. تسمى هذه الظاهرة **تسيل التربة Soil liquefaction**. ويمكن أن تولد الاهتزازات الزلزالية انهيارات أرضية حتى في المناطق قليلة الانحدار، كما يمكن أن تتسبب في سقوط الأشجار والمنازل أو غوصها في الأرض، ورفع الأنابيب والخزانات الموجودة تحت الأرض لتصبح فوق السطح. ويبين الشكل 19-7 مباني مائلة بسبب تسيل التربة تحتها في أثناء الزلازل.

✓ **ماذا قرأت؟** لخص كيف يمكن لمادة الأرض الصلبة أن تكتسب خصائص المادة السائلة؟

بالإضافة إلى مخاطر الانزلاقات الأرضية، فإن نوع المادة المكونة لسطح الأرض أثر في شدة الزلزال في المنطقة؛ إذ تتضخم الموجات الزلزالية في بعض المواد الطرية، ومنها الرواسب المفككة، بينما تخفت في الصخور الأكثر صلابة، ومنها الجرانيت.

تحدث ظاهرة تسيل التربة عندما تمر الاهتزازات الزلزالية عبر الرسوبيات والطبقات الصخرية المشبعة بالمياه

الشكل 20-7 يتكون التسونامي عندما
يسبب الصدع تحت الماء إزاحة عمود الماء
فوق قاع المحيط إلى أعلى.



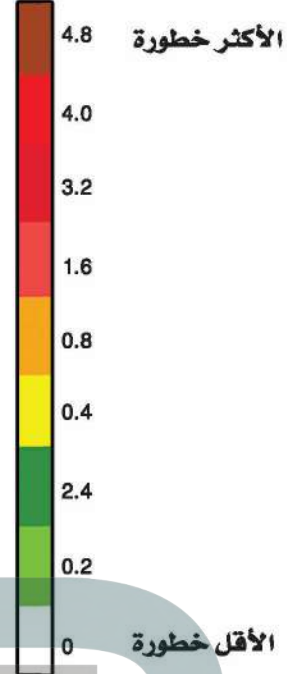
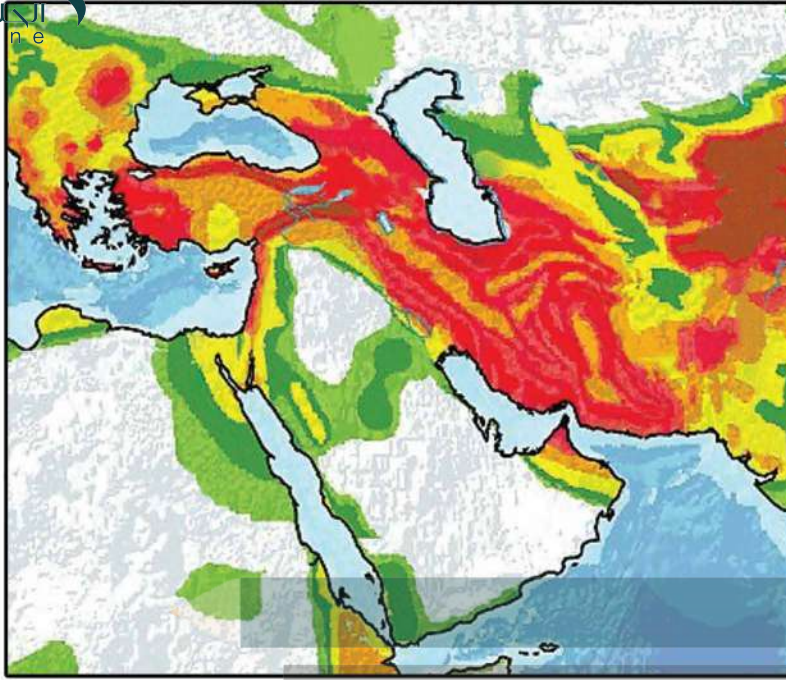
تسونامي Tsunami

نوع آخر من مخاطر الزلازل. وتسونامي Tsunami موجة محيطية كبيرة تتولد بفعل حركات رأسية لقاع البحر في أثناء حدوث زلزال، وتسبب هذه الحركة إزاحة المياه الواقعة فوق منطقة الصدع المسبب للزلزال إلى أعلى، فينتج عنها قمم ومنخفضات على سطح الماء، كما في الشكل 20-7، حيث تكون هذه الأمواج في البداية في صورة موجة طويلة جداً ارتفاعها أقل من 1 m، ولكن عندما تنتشر هذه الأمواج من المركز السطحي للزلزال في المحيطات المفتوحة وتدخل المياه الضحلة يقل طولها ويزداد ارتفاعها، وربما يتجاوز ارتفاعها عند الشاطئ 30 m. ويشكل الارتفاع الكبير للأمواج التسونامي وسرعتها التي تتراوح بين 800 و 500 km/h خطورة تهدد المناطق الساحلية بالقرب من المركز السطحي للزلزال أو بعيداً عنه. وتسونامي اليابان في 11 مارس عام 2011م نتج عن زلزال قوته 8.9 في المحيط الهادي يقع على بُعد 400 km شمال شرق مدينة طوكيو؛ حيث انتقل عبر المحيط الهادي وضرب سواحل اليابان بارتفاع 10 m، وتجاوز عدد الوفيات من جراء كارثة التسونامي هذه 20,000 شخص، مما جعلها واحدة من أكبر الكوارث

الشكل 21-7 لم يقتصر الدمار الناتج عن تسونامي اليابان في 11 مارس شرق مدينة طوكيو، على الشواطئ، بل تجاوز ذلك إلى المناطق الداخلية، وأسفر عن وفاة ما لا يقل عن 20,000 شخص.



الطبيعية تدميراً في العصر الحالي. ويوضح الشكل 21-7 أثر ذلك الحدث الكارثي. ومن الآثار السلبية لتسونامي - بالإضافة إلى تدمير المباني والمنشآت - تلويث المياه السطحية كالأنهار والبحيرات وآبار المياه العذبة، كذلك قد تعمل على تقليل مستوى المياه الجوفية وجفاف الآبار.



توقع الزلازل Earthquake Forecasting

للحد من الأضرار والوفيات الناجمة عن الزلازل يبحث العلماء عن طرائق لتوقع حدوث الزلازل. ولا يوجد حالياً أي طريقة يمكن الاعتماد عليها تماماً لتوقع وقت حدوث الزلزال القادم ومكانه. وبدلاً من ذلك يعتمد التوقع على حساب احتمال وقوع الزلزال، الذي يعتمد على عاملين، هما تاريخ الزلازل في المنطقة، ومعدل تراكم الجهود في صخورها.

الشكل 22-7 تشمل مناطق الخطر الزلزالي الكبير مناطق عدة، منها اليابان وتركيا وإيران. حدد موقع المناطق ذات الخطر الزلزالي الأكبر على الخريطة، ثم حدد منطقتك على الخريطة مبيناً الخطر الزلزالي فيها.

✓ **ماذا قرأت؟** اذكر طريقتين يستعملها علماء الزلازل لتحديد احتمال حدوث زلزال في منطقة ما.

يحدد العلماء احتمالية حدوث زلازل في منطقة ما بناء على التاريخ الزلزالي للمنطقة ومعدل تراكم الإجهاد في الصخور



منطقة معينة؛ حيث تستعمل السيزمومترات لتحديد تكرار الزلازل الكبيرة. ويمكن استعمال تاريخ النشاط الزلزالي للمنطقة لإعداد خرائط الخطر الزلزالي. تشهد كثير من الدول - ومنها اليابان وتركيا وإيران - خطراً زلزالياً مرتفعاً نسبياً. وقد عانت هذه المناطق من بعض الزلازل القوية في الماضي، وربما ستشهد نشاطاً زلزالياً كبيراً في المستقبل. ويوضح الشكل 22-7 الخطر الزلزالي لشبه الجزيرة العربية وما حولها؛ حيث تزداد الخطورة الزلزالية في الدول الواقعة إلى الشمال والشمال الشرقي من شبه الجزيرة العربية.



الشكل 7-23 استعملت هذه المنصة لحفر بئر بعمق 2.3 km في المنطقة. وبعد الانتهاء من حفر البئر، تم توصيلها بالأجهزة لتسجيل البيانات في أثناء الهزات الكبرى والصغرى. ويهدف هذا المشروع إلى فهم آلية حدوث الزلازل، وسبب حدوثها. وتساعد هذه المعلومات العلماء على توقع متى تحدث الزلازل.

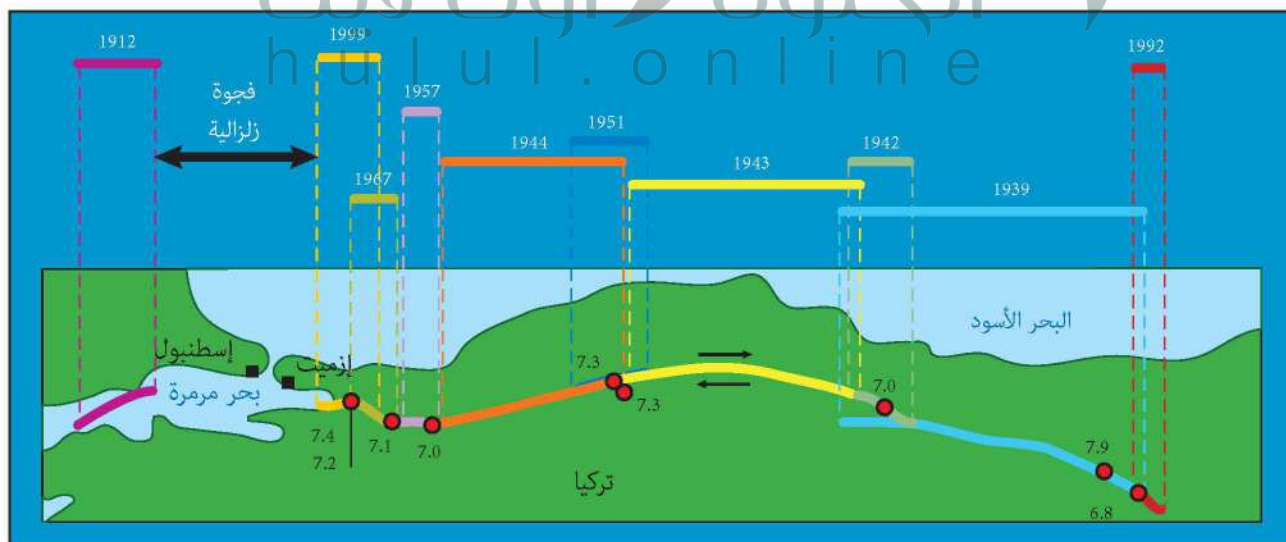
معدلات التكرار Recurrence rate يمكن أن تشير معدلات تكرار الزلازل التي تحدث على طول الصدع إلى ما إذا كان الصدع يولد زلازل مماثلة على فترات منتظمة أم لا. فلو أخذنا على سبيل المثال معدلات تكرار الزلازل على طول صدع سان أندرياس في ولاية كاليفورنيا بالولايات المتحدة الأمريكية فسنجد أن سلسلة من الزلازل بقوة 6 تقريباً على مقياس رختر قد ضربت المنطقة في كل 22 عامًا من 1857 م حتى عام 1966 م. ففي عام 1987 م توقع علماء الزلازل تعرض المنطقة إلى زلزال قوي خلال العقود القادمة بنسبة احتمال تبلغ 90%. وقد استعملت أنواع مختلفة من الأجهزة وكذلك الحفر، انظر الشكل 7-23، لقياس الزلازل في حالة وقوعها. وفي سبتمبر 2004 م، وقع زلزال قوته 6 على مقياس رختر. وقد جمعت بيانات هائلة عن هذا الزلزال قبل وبعد وقوعه، ووجد أن هذه المعلومات التي تم الحصول عليها ذات قيمة في توقع حدوث الزلازل المتكررة في المستقبل والاستعداد لها في جميع أنحاء العالم.

✓ **ماذا قرأت؟ استنتج أهمية دراسة معدلات تكرار الزلازل.**

إن حدوث زلزال في منطقة يجعل من المحتمل أن هذه المنطقة ستشهد حدوث زلازل سواء في النقطة نفسها أو قريباً منها وأحياناً تحدث الزلازل وتكرر وفي نمط عام في الفاصل الزمني بين الهزات

التاريخ الطويل للزلازل التي تقع على طول الصدع الجبير الموضح ادناه.

الشكل 7-24 وقع زلزالان عامي 1912 م و 1999 م على جانبي مدينة إسطنبول التي يبلغ عدد سكانها 18 مليون نسمة، حيث تركت الزلازل حول المدينة فجوة زلزالية تشير إلى احتمال وقوع زلزال في المنطقة.



ج1: دراسة التاريخ الزلزالي للمنطقة وقياس تراكم الإجهادات في الصخور وتمشيد.

الشجوات الزلزالية بيانا

ج2: يمكن أن يؤدي إلى انهيار اليابسة وتسبيل التربة؛ وإلى تدمير المباني وغيرها من المنشآت؛ أما تسونامي فيهدد المناطق الساحلية

ج3: ينبغي أن تبين الرسوم أن بعض المعالم أصبحت منفصلة ومقطوعة بعد وقوع الزلزال

ج4: تؤدي الحركة الرأسية على طول الصدع في قاع المحيط إلى إزاحة عمود من الماء مكونة مرجحة ضخمة تزيد في قوتها حتى تصل إلى الشواطئ

ج5: يرجح أنها تحدث في فجوة زلزالية بين المناطق التي حدث فيها زلازل

ج6: لتحديد المناطق الأكثر عرضة للزلازل؛ ينبغي على أعضاء اللجنة دراسة التاريخ الزلزالي للعالم، والبحث عن الفجوات الزلزالية

وضح. لماذا يعد تراكم الجهود في المناطق مهماً؟

التقويم 3-7

الخلاصة

- يعتمد توقع الزلازل على التاريخ الزلزالي وقياسات الجهود المتراكمة في الصخور.
- تسبب الزلازل الدمار من خلال توليد موجات زلزالية يمكنها إحداث اهتزازات في سطح الأرض.
- يمكن أن تسبب الزلازل انهيار المنشآت والانزلاقات الأرضية، وتسبيل التربة والتسونامي.
- الفجوات الزلزالية أجزاء من صدع نشط لم تتعرض لزلزال كبيرة منذ فترة طويلة من الزمن.

فهم الأفكار الرئيسية

1. **الفكرة الرئيسية** اعمل قائمة ببعض الأمثلة حول الطرائق التي يستعملها العلماء لتحديد احتمال وقوع زلزال.
2. لخص الآثار المترتبة على أنواع المخاطر المختلفة الناجمة عن الزلازل.
3. ارسم مجموعة من الرسوم تبين ما يحدث على طول صدع قبل حدوث زلزال وبعده.
4. لخص الأحداث التي تؤدي إلى حدوث التسونامي.

التفكير الناقد

5. قوّم أي الأماكن أكثر احتمالاً لوقوع زلزال فيها؟ هل يقع في المكان نفسه الذي وقع فيه زلزال قوته 7.5 قبل 20 عامًا، أو في مكان يقع بين منطقتين تعرضتا لزلزالين؛ زلزال قبل 20 سنة، وزلزال قبل 60 سنة؟

الكتابة 2 الجيولوجيا

6. تخيل أنك في لجنة علمية، واكتب تقريرًا تتناول فيه طرائق مقترحة لتعرّف المناطق الأكثر عرضة لوقوع الزلازل.

الجيولوجيا والمجتمع



زلزال بومرداس 2003م

دروس من الماضي

زلزال بومرداس مايو 2003م الساعة 7:44 مساءً يوم الأربعاء. خرج سكان الجزائر العاصمة والمدن المحيطة بها - وخصوصًا ولاية بومرداس، التي تقع على بعد 50 km تقريبًا شرقي العاصمة - من منازلهم في حالة فرغ شديد وقد انهارت مبانٍ عديدة على من فيها، بعد أن ارتجت الأرض، وزلزلت زلزالاً شديداً. وقد قدره الخبراء بـ 6.8 درجات على مقياس ريختر.

الزلزال يضرب المدينة لقد توقعت مراكز رصد الزلازل حول العالم حدوث زلزال في شمال الجزائر؛ بسبب تكرار حدوث الزلازل، ووجود فجوات زلزالية في المنطقة.

وقد حدث ما كان متوقعاً بالفعل، فقد ضربت هزة أرضية عنيفة شرق العاصمة الجزائرية، مما أسفر عن سقوط 3,500 قتيل، وتشرد 130,000 شخص.

العلماء يحللون الزلزال كان مركز الزلزال في مدينة الثنية في ولاية بومرداس، وكان هذا أقوى زلزال وقع في الجزائر منذ زلزال عام 1980م، الذي بلغت قوته 7.3 درجة، وهو ما استدعى عدة سنوات لتتمكن البلديات المصابة من استرجاع مناظرها السابقة. لقد أظهر الزلزال مرة أخرى هشاشة النسيج العمراني داخل المدن وخارجها.

أسباب حدوث الزلزال يقع الجزء الشمالي من الجزائر بين الصفيحة الإفريقية والصفيحة الأوراسية. وقد قام الجيولوجيون بتحليل حركة الكتل الصخرية وحساب كمية الطاقة المحررة في أثناء تحركها، باستخدام نظرية الارتداد المرن (نظرية ريد Reid). وقد افترضوا أن الإجهادات الصخرية تكونت تدريجياً؛ حيث وقعت صخور المنطقة تحت تأثير قوى، حتى وصلت حدًا يفوق قدرتها على التحمل، مما أدى إلى تكسرها وتحرك أجزائها. وقد تعرضت المنطقة

للعديد من الزلازل نتيجة وقوعها بين هاتين الصفيحتين.

أما زلزال بومرداس 2003 فسببه حركة الكتل الصخرية عند صدع زموري إلى الشمال الشرقي، وقد تم تعرّفه أول مرة بعد هذا الزلزال، بحسب هيئة المساحة الجيولوجية الأمريكية.

التحضير للمستقبل يعلم الجيولوجيون جيداً أن الإجهادات التي تتعرض لها القشرة الأرضية على طول صدع زموري في ازدياد مستمر، وهي المسؤولة عن وقوع زلزال بومرداس 2003م. ولهذا يعمل العلماء والمجتمع على السواء على الاستعداد للزلازل في المستقبل، وتعرّف المكان المحتمل لحدوث الزلازل، وتصميم مبانٍ تستطيع تحمل آثارها.

الكتابة في الجيولوجيا

ابحث باستخدام الإنترنت اكتب بحثاً أو أنشئ عرضاً تقديمياً عن زلزال مدينة العيص التي تقع على بعد 240 كم شمال غرب المدينة المنورة الذي حدث عام 2009م، ووضح مدى تأثيراته في السكان والبيئة المحلية.

العلاقة بين المركز السطحي للزلازل والصفائح الأرضية

بيانات زلزالية			
محطة رصد الزلازل	رنية (RANI)	السودة (SODA)	عقلة الصقور (UQSK)
الفرق الزمني بين وصول أمواج P و S (دقيقة)	1.2	1.5	1
بُعد المركز السطحي (km)			
المسافة على الخريطة (cm)			

خلفية علمية يمكنك تقدير المسافة بين محطة رصد الزلازل (التي تسجل البيانات) والمركز السطحي للزلازل من خلال تحديد الفرق الزمني بين أمواج P وأمواج S المسجلة على السيزموجرام، وتستطيع أن تحدد الموقع الدقيق للمركز السطحي للزلازل على الخريطة من خلال استعمال ثلاث محطات رصد أو أكثر. ويفيد تحديد موقع المركز السطحي للزلازل على خريطة حدود الصفائح الأرضية في معرفة نوع حركة الصفائح التي سببت الزلازل.

سؤال: كيف يستطيع علماء الزلازل تحديد موقع المركز السطحي للزلازل؟

الأدوات

خريطة المملكة العربية السعودية، آلة حاسبة، فرجار، مسطرة مترية، خريطة الصفائح الأرضية، منحنى المسافة - زمن الوصول.

خطوات العمل

حدد موقع المركز السطحي للزلازل حقيقي والوقت الفعلي لحدوثه باستعمال زمن وصول الأمواج الأولية والثانوية المسجلة في ثلاث محطات رصد الزلازل.

1. اقرأ نموذج السلامة في المختبر.

ج1: يقع على شاطئ البحر الأحمر إلى الغرب من المدينة المنورة

ج2: لا، حيث إن هنا أحزمة رئيسة منها: حزام المحيط الهادي، وحزام البحر الأبيض المتوسط، وأحزمة ضيقة عند ظهور المحيطات ومنها حزام المحيط الأطلسي

ج3: الصفيحة العربية

ج4: يمكن أن يكون سبب الزلازل حركة الكتل الصخرية على الصدوع المنتشرة على جانب البحر الأحمر والمرتبطة مع توسع البحر الأحمر وحركة الصفيحة العربية

الخطوة 2 وممثل بعد المركز السطحي. تم دون المسافة في صف المسافة على الخريطة.

5. استعمل قيمة المسافة على الخريطة التي حسبها لتعيين فتحة الفرجار المناسبة لتحديد المسافة بين المركز السطحي وأول محطة رصد.

6. ضع رأس الفرجار على موقع محطة الرصد وارسم دائرة.
7. كرر ما قمت به لكل من محطتي رصد الزلازل الآخرين.
8. حدد نقطة تقاطع الدوائر الثلاث. تمثل هذه النقطة المركز السطحي للزلازل.

التحليل والاستنتاج

1. حلل البيانات أين يقع المركز السطحي للزلازل؟
2. صف هل يتبع الزلازل أيًا من الأحزمة الزلزالية الرئيسية؟
3. فسر البيانات استعمل خريطة الصفائح الأرضية لتحديد الصفائح التي سببت حدوث هذا الزلازل.
4. استنتج صف كيف تؤدي حركات الصفائح إلى حدوث هذا الزلازل.

الكتابة في الجيولوجيا

تخيل نفسك مراسلاً لصحيفة مقرها قريب من المركز السطحي لهذا الزلازل، واكتب مقالاً توضح فيه كيف أدت العمليات الجيولوجية إلى وقوع هذا الزلازل.

الفكرة (النامة) الزلازل هزات أرضية طبيعية، ينتج بعضها بفعل الحركة على طول الصدوع في القشرة الأرضية.

المفردات

المفاهيم الرئيسية

7-1 الأمواج الزلزالية وبنية الأرض

المفاهيم الرئيسية	المفردات
<p>الفكرة الرئيسية يتم استعمال الأمواج الزلزالية في تصور بنية الأرض الداخلية.</p> <ul style="list-style-type: none"> • أنواع الأمواج الزلزالية ثلاثة: أولية وثانوية وسطحية. • مقياس الزلازل (السيزمومتر) جهاز يستقبل الأمواج الزلزالية، ويسجلها على المخطط الزلزالي (السيزموجرام). • استطاع العلماء أن يحددوا المركز السطحي للزلازل من الفرق الزمني بين زماني وصول أمواج P وأمواج S. • تتغير سرعة واتجاه كل من أمواج P وأمواج S عندما تواجه حدودًا فاصلة بين مواد مختلفة. • يمكن الحصول على صورة مفصلة عن مكونات الأرض الداخلية من خلال تحليل الأمواج الزلزالية التي تعبر باطن الأرض. 	<p>الأمواج الزلزالية الأمواج الأولية الأمواج الثانوية الأمواج الجسمية بؤرة الزلزال المركز السطحي للزلزال مقياس الزلزال مخطط الزلزال</p>

7-2 قياس الزلازل وتحديد أماكنها

المفاهيم الرئيسية	المفردات
<p>الفكرة الرئيسية يقيس العلماء قوة الزلازل ويحددون مكانها على الخريطة باستعمال الأمواج الزلزالية.</p> <ul style="list-style-type: none"> • قوة الزلزال هي مقياس للطاقة التي تتحرر في أثناء حدوث الزلزال، ويمكن قياسها بمقياس ريختر. • شدة الزلزال هي مقياس للدمار الذي يحدثه الزلزال. • لتحديد موقع المركز السطحي للزلازل نحتاج على الأقل إلى ثلاث محطات رصد للزلازل. • تحدث معظم الزلازل في أحزمة ضيقة تسمى أحزمة الزلازل؛ حيث تنطبق مع حدود الصفائح. 	<p>مقياس ريختر قوة الزلزال سعة الموجة الزلزالية مقياس العزم الزلزالي مقياس ميركالي المعدل أحزمة الزلازل</p>

7-3 الزلازل والمجتمع

المفاهيم الرئيسية	المفردات
<p>الفكرة الرئيسية يمكن معرفة احتمال حدوث الزلزال من خلال دراسة التاريخ الزلزالي للمنطقة، ومعرفة أين تتراكم الجهود، وكيف تتراكم بسرعة.</p> <ul style="list-style-type: none"> • يعتمد توقع حدوث الزلازل على التاريخ الزلزالي وقياسات الجهود المتراكمة في الصخور. • تسبب الزلازل الدمار من خلال توليد اهتزازات يمكنها إحداث هزات في سطح الأرض. • يمكن أن تسبب الزلازل انهيار المنشآت والانزلاقات الأرضية، وتسييل التربة والتسونامي. • الفجوات الزلزالية أجزاء من صدع نشط لم تتعرض لزلزال كبيرة منذ فترة طويلة من الزمن. 	<p>تسييل التربة تسونامي فجوة زلزالية تراكم الجهد</p>

ج12: الأمواج الثانوية أبطأ من الأمواج الأولية وأسرع وتتحرك عمودياً على خط انتشار الموجة بينما تتحرك الأمواج السطحية في اتجاه معاكس، إذ تتحرك جانبياً أو إلى أعلى وإلى أسفل وتنتقل الأمواج الثانوية خلال جسم الأرض من الداخل بينما تنتقل الأمواج السطحية على سطح الأرض فقط

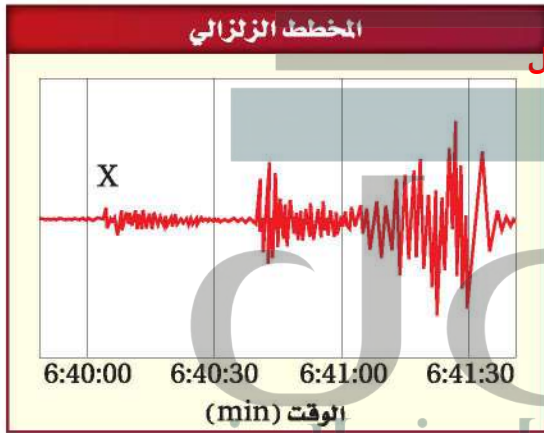
ج13: كلاهما مقياس يقيس كمية الطاقة المتحررة من الزلزال ويعتمد مقياس ريختر على سعة أكبر موجة زلزالية أما مقياس العزم الزلزالي فيؤخذ باعتبار حجم الكسر في الصدع؛ ومقدار الحركة على طول الصدع وقساوة الصخور

ج14: قوة الزلزال هي مقياس للطاقة المتحررة من الزلزال وهي تعتمد على سعة الموجة أما الشدة الزلزالية فتعتمد على وصف ما يحدثه الزلازل من دمار ضمن مقاييس معينة منها مقياس ميركالي المعدل

تثبيت المفاهيم الرئيسية

15. أي المواد الجيولوجية الآتية لها قابلية للتسييل أكبر ما يمكن عند مرور أمواج زلزالية فيها؟
- a. الجرانيت. c. التربة والرسوبيات المفككة.
- b. الصخر المتحول. d. اللاية.

أجب عن الأسئلة 18-16 مستعيناً بالرسم أدناه.



16. ما نوع الموجة الزلزالية المشار إليها بالرمز x؟
- a. أمواج p. c. أمواج s.
- b. أمواج سطحية. d. أمواج قص.
17. ما زمن وصول الأمواج السطحية؟
- a. 6:40:00. c. 6:40:33.
- b. 6:40:05. d. 6:41:10.
18. يُستعمل الفرق الزمني بين وصول أمواج P وأمواج S في تحديد:
- a. بُعد المركز السطحي للزلزال عن محطة الرصد.
- b. نوع الصدع.
- c. عمق الزلزال.
- d. ما إذا كان اللب سائلاً.
19. ما اسم العملية التي تنتج عن انهيار المنشآت بسبب

الفصل 7

تقو

مراجعة المفردات

أكمل الجمل الآتية بالمفردات المناسبة.

1. يسمى المقياس الذي يقيس كلاً من كمية الطاقة المنبعثة من الزلزال وسعة الأمواج الزلزالية مقياس **ريختر**.

2. يحدث **تسييل التربة** عندما تسبب الاهتزازات الزلزالية تسييل المواد الأرضية تحت السطحية، وتجعلها تسلك سلوك الرمال المتحركة.

3. يوضح منحني المسافة - زمن الوصول العلاقة

بين زمن انتقال الأمواج الزلزالية و**بعد المركز السطحي للزلزال**. يُسمى نوع الأمواج الزلزالية الذي لا يمر خلال اللب الخارجي للأرض **أمواج س**.

4. **تسونامي** موجة تتولد بسبب الحركة الرأسية لقاع المحيط.

6. تسمى نقطة الكسر في صخور القشرة الأرضية، حيث تنشأ أولى الأمواج الزلزالية الجسمية فيها وتنتشر منها إلى جسم الأرض **بؤرة الزلزال**.

ضع المصطلح الصحيح بدلاً من الكلمة أو العبارة التي تحتها

ج7: فجوة زلزالية

ج8: مقياس ميركالي المعدل

ج9: تسونامي

ج10: سيزموجرام

ج11: بؤرة الزلزال هي النقطة التي تتولد

عندها الأمواج نتيجة حدوث كسر في الصخر.

المركز السطحي للزلزال هو نقطة على سطح

الأرض تقع فوق البؤرة مباشرة

وضح العلاقة بين المصطلحات الآتية في كل زوج مما يأتي:

11. البؤرة، المركز السطحي للزلزال.

12. الأمواج الثانوية، الأمواج السطحية.

ج25: التاريخ القديم للسجل الزلزالي وقوة هذه الزلازل ووجود فجوات زلزالية وقياسات درجات الإجهادات

ج26: ينبغي أن تتضمن الرسوم الإطار والكتلة المعلقة وجهاز التسجيل

ج27: الجملة غير صحيحة، إذا وقع زلزال في منطقة ما فمن المحتمل أن يحدث زلزال آخر في اليوم التالي
ج30: تكون الصخور القريبة من السطح أبرد وأكثر هشاشة؛ ومن ثم تكون أكثر قابلية للانبيهار مقارنة بالصخور العميقة؛ حيث تسبب درجة الحرارة المرتفعة في الأعماق زيادة لدونة الصخر؛ فتقل قابليتها للانبيهار إذا تعرضت لإجهادات

التفكير الناقد

25. لخص العوامل التي يجب أن تؤخذ في الاعتبار في تقويم الخطر الزلزالي.
26. ارسم المكونات الرئيسة للسيريزومتر.
27. انقد الجملة الآتية: "إذا لم تُعانِ منطقة ما من حدوث زلزال أكثر من مائة سنة، فإنه لا يحدث فيها زلازل على الإطلاق".
28. صمّم منزلاً بحيث يبقى هيكله سليماً في حالة وقوع زلزال. حدد معالجه مبيناً كيف ستحميه من دمار الزلزال؟ **يترك للطالب**

خريطة مفاهيمية

29. استعمل المصطلحات والجمل الآتية لبناء خريطة مفاهيم تتعلق بالزلازل والموجات الزلزالية: الموجات السطحية، الموجات الثانوية، أسرع الموجات، تنتقل على سطح الأرض، لا تنتقل في السوائل، الموجات الأولية، أبطأ الموجات. **يترك للطالب**

سؤال تحفيز

30. فسّر لماذا تكون معظم الزلازل ضحلة وقرية من سطح الأرض؟ استعن بمعلوماتك حول درجة حرارة الأرض الداخلية وبالجملة الآتية: "تحدث الزلازل في الصخور الهشة ولا تحدث في الصخور اللدنة"، "تتأثر لدونة الصخور بدرجة الحرارة؛ إذ تزداد بزيادة درجة الحرارة"، "الصخور اللدنة صخور تأثرت بحيث أصبحت قابلة للتشوهات ومنها الطي دون حدوث كسر فيها".

سقوط جدران الطوابق السفلية ومن ثم انهيار الطوابق العليا؟

- a. تسونامي.
b. تراصّ الألواح
c. تسييل التربة.
d. فجوة زلزالية.

b. تراصّ الألواح

ج20: تبلغ الطاقة المتحررة من زلزال تشيل حوال 29 مرة من زلزال تايوان
ج21: سعة موجة زلزال اليابان أكبر حوالي 13 مرة من سعة موجة زلزال تايوان

ج22: زلازل كل من تشيل وألاسكا واليابان وتايران مصاحبة لنطاقات الطرح؛ أما زلازل كاليفورنيا فيوجد على طول صدع تحويلي لكن جميع هذه الزلازل تحدث نتيجة حركة الصفائح الأرضية

ج23: كلاهما ينتقل على السطح وتنتقل الأمواج السطحية خلال الصخور (القشرة الأرضية والستار)، بينما تنتقل أمواج تسونامي خلال مياه المحيط كما أن أمواج تسونامي أبطأ كثيراً

ج24: إذا استعملت سيزمومتريين فإنك ترسم دائرتين متقاطعتين في نقطتين؛ لذا هناك منطقتان يجتمعا أن الزلزال قد حدث في واحدة منها، لكن لو استعملت ثلاثة سيزمومتريين فستحصل على ثلاث دوائر تتقاطع في نقطة واحدة تمثل موقع المركز السطحي للزلزال

5. ماذا تسمى أجزاء الصدع النشط التي لم تتعرض
لزلازل كبيرة منذ فترة طويلة من الزمن؟
a. الفجوات الزلزالية
b. الزلازل الكامنة.
c. تسييل التربة.
d. التسونامي.
6. لتحديد موقع الزلزال نحتاج إلى معرفة موقع:
a. محطة زلزالية واحدة.
b. محطتين زلزالتين على الأقل.
c. محطات زلزالية على الأقل.
d. 5 محطات زلزالية على الأقل.
7. ما المقياس الذي يستعمل في قياس شدة الزلازل؟
a. رختر
b. مقياس العزم الزلزالي
c. مقياس ميركالي المعدل
d. السيزموجرام

أسئلة الإجابات القصيرة

- ج8: يقع المركز السطحي للزلزال في منتصف البحر الأحمر ويمكن تحديد ذلك عن طريق جمع بيانات محطات الزلازل الثلاثة ورسم ثلاث دوائر، والنقطة التي تتقاطع عندها الدوائر الثلاث تعد المركز السطحي للزلزال
- ج9: عند رسم دائرة واحدة تبين المواقع المحتملة للزلزال وعند رسم دائرتين تبين مساحة التداخل ولكن لا شيء محدد، أما عند رسم ثلاث دوائر تظهر نقطة التقاء الدوائر الثلاثة التي تعد الموقع الدقيق للمركز السطحي للزلزال

8. طبقاً للخريطة أعلاه، أين يقع المركز السطحي للزلزال؟ وكيف يمكن تحديده؟
9. ما أهمية استعمال ثلاث محطات رصد لتحديد المركز السطحي للزلزال؟

اختيار من متعدد

1. ما نوع الموجات الزلزالية التي تخترق اللب الخارجي للأرض؟
a. الموجات الثانوية.
b. الموجات السطحية.
c. الموجات الأولية.
d. الموجات الأولية والثانوية.

استعمل الجدول الآتي للإجابة عن السؤالين 2 و 3.

بعض الزلازل الحديثة		
الموقع	السنة	مقياس رختر
إندونيسيا	2005	7.6
جنوب سومطرة	2007	8.5
تشيلي	2010	7.0
اليابان	2011	9.0
شمال سومطرة	2012	8.6

2. احسب بشكل تقريبي كم مرة تزيد الطاقة المتحررة من زلزال شمال سومطرة على الطاقة المتحررة من زلزال إندونيسيا؟
a. مرتين.
b. 10 مرات.
c. 32 مرة.
d. 1000 مرة.
3. قدر كم مرة تزيد سعة الموجة الزلزالية المتولدة عن زلزال اليابان على تلك المتولدة عن زلزال تشيلي؟
a. مرتين.
b. 10 مرات.
c. 100 مرة.
d. 1000 مرة.
4. أبطأ الموجات الزلزالية وصولاً إلى محطات الرصد الزلزالي:
a. الموجات الأولية.
b. الموجات السطحية.
c. الموجات الثانوية.
d. الموجات الجسمية.

الرغم من توثيق حالات لتصرفات غريبة لبعض الحيوانات قبل حدوث الزلازل؛ وذلك لعدم وجود صلة بين تكرار حدوث سلوك معين وحدث الزلزال.

13. ماذا يمكن أن نستنتج بعد قراءة النص السابق؟

a. تستطيع الحيوانات التنبؤ بالزلازل لأنها تشعر باهتزازات الأرض قبل الإنسان.

b. لا تستطيع الحيوانات التنبؤ بالزلازل.

c. هناك حاجة لدراسة إضافية وبحث قبل تأكيد أو نفي قدرة الحيوانات على التنبؤ بالزلازل.

d. الحيوانات تنبأ بالزلازل منذ قرون.

14. أي التصرفات الآتية لا تدل على تنبؤ الحيوانات بالزلازل؟

a. الحركة العنيفة للأسماك.

b. هجرة النحل لخلاياه.

c. وضع الدجاج للبيض.

d. هجرة الثعابين لجحورها.

ج10: نعم؛ لأن المركز السطحي للزلزال يقع على حواف شبه الحزيرة العربية
ج11: كلما اقتربت الأمواج من الشاطئ تصبح المياه ضحلة مما يؤدي إلى بطئها، ويزداد ارتفاعها (قممها)، فتلاحق وتلتقي معاً مما يزيد في ارتفاعها حتى تنهار
ج12: عند تحرك الموجة المحيطية يتحرر الماء إلى أعلى وإلى أسفل هبوطاً وصعوداً ثم يعود إلى موضعه الأصلي أما طاقة موجة المحيط فتتحرك إلى الأمام

12. كيف تختلف حركة المياه والطاقة في الموجة المحيطية؟

القراءة والاستيعاب

التنبؤ بالزلازل

منذ عدة قرون ساد اعتقاد أن الحيوانات تستطيع التنبؤ بالزلازل. فقد سجل المؤرخون أن حيوانات - منها الفئران والثعابين وابن عرس - قد هجرت المدينة الإغريقية هيليس عام 373 م قبل أن يضرب الزلزال المدينة. وقد سجلت حوادث مماثلة على امتداد القرون عند حدوث الزلازل، منها الحركة العنيفة للأسماك، وتوقف الدجاج عن طرح البيض، وهجرة النحل لخلاياه. ولكن بقي السؤال: كيف تحس الحيوانات بالزلازل؟ ومن الفرضيات التي وضعت لتفسير ذلك أن الحيوانات البرية والأليفة تشعر بالاهتزازات الأرضية قبل الإنسان. وبعض الأفكار تفترض أن الحيوانات تستطيع اكتشاف تغيرات كهربائية في الهواء أو الغاز المتحرر من الأرض.

والزلازل ظاهرة فجائية لا يستطيع الجيوفيزيائيون معرفة متى وأين تحدث بالضبط. وتقدر الزلازل التي تسجل في محطات الرصد الزلزالي في العام الواحد بأكثر من مليون زلزال. يوجد منها 100000 زلزال فقط يستطيع أن يشعر به الإنسان. و100 زلزال تقريباً يسبب الدمار. ويجري الباحثون دراسات عميقة على الحيوانات لاكتشاف ماذا تسمع أو تشعر قبل أن يحدث الزلزال. واستعمال هذا الإحساس أداة للتنبؤ بالزلازل. وقد شكك العلماء في إمكانية تنبؤ الحيوانات بالزلازل، على



أحافير لافقارية

الفكرة العامة يستعمل العلماء طرائق متعددة لدراسة تاريخ الأرض الطويل.

8-1 السجل الصخري

الفكرة الرئيسية يرتب العلماء الزمن الجيولوجي لمساعدتهم على التواصل حول تاريخ الأرض.

8-2 التأريخ الجيولوجي

الفكرة الرئيسية يستعمل العلماء المبادئ الجيولوجية لمعرفة ترتيب الأحداث الجيولوجية وفق حدوثها زمنياً. كما تُستعمل طرائق الانحلال الإشعاعي وبعض أنواع الرسوبيات لتحديد العمر المطلق لكثير من الصخور.

حقائق جيولوجية

- تخفي رمال الصحاري العربية مجاري أودية وأنهاراً قديمة وبقايا آثار مدن، منها: مدينة عبار، ووادي الباطن، وجبال الأحقاف، وكما تخفي مواطناً لكثير من اللافقاريات.
- تحوي السجلات الصخرية دلائل تشير إلى وجود فترات جليدية سادت شبه الجزيرة العربية.

ينقب عالم أحافير في الصخور بحثاً عن أحافير



التاريخ النسبي مقابل التاريخ المطلق
اعمل المطوية الآتية للمقارنة بين التاريخ
النسبي والتاريخ المطلق لأعمار الصخور.

المطويات

منظمات الأفكار



الخطوة 1 استعمل ورقة طويلة
وحدد وسطها.



الخطوة 2 اثن الورقة من
أعلى ومن أسفل نحو وسطها
لعمل مطوية ذات مصراعين.



الخطوة 3 عنوان اللسانين:
التاريخ النسبي، التاريخ المطلق.

التاريخ النسبي

التاريخ المطلق

استخدم هذه المطوية في القسم

2-8 في أثناء دراستك التاريخ النسبي والتاريخ
المطلق، ولخص المعلومات عليها، واكتب فيها أمثلة
على إيجابيات وسلبيات كل منهما.

تجربة استهلاكية

كيف تتكون الأحافير؟

لعلك زرت أحد المتاحف، ووقفت أمام عظام متحجرة لأحد الديناصورات. تقدم العظام المتحجرة دليلاً على وجود الديناصورات وبقايا المخلوقات الأخرى في الزمن الماضي. وتتكون الأحفورة عند دفن عظام المخلوق أو الأجزاء الصلبة منه بسرعة في مواد مثل الطين أو الرمل أو رسوبيات أخرى، وتصبح متحجرة بعد مرور مدة طويلة من الزمن؛ إذ تمتص العظام والأجزاء الصلبة المعادن من الأرض.

الخطوات

1. اقرأ نموذج السلامة في المختبر.
2. اسكب 500 mL من الرمل في علبه اللبن الكرتونية البلاستيكية بعد إزالة الجزء العلوي.
3. ادفن قطعة إسفنجية في وسط الرمل.
4. اسكب 250 mL من ماء ساخن في إناء سعته 500 mL.
5. أضف 100 mL من الملح إلى الإناء وحرك الخليط بساق تحريك بسرعة.
6. اسكب الماء على الرمل ثم عرّض الإناء مباشرة لأشعة الشمس مدة 5-7 أيام دون تحريك.
7. احفر في الرمل لتحصل على "أحفورة إسفنجية".

التحليل

1. صف في دفتر علم الأرض ما حدث للقطعة الإسفنجية.
2. فسّر كيف ينمذج هذا النشاط عملية تكون الأحافير؟

بعد موت الحيوان تتحلل أجزاؤه الرخوة
وتبقى أجزاؤه الصلبة ومع مرور الوقت يحل
المعادن محل الفراغات في الاجزاء الصلبة
ويمثل الملح هذه المعادن

الأهداف

- توضيح لماذا يحتاج العلماء إلى سلم الزمن الجيولوجي.
- تمييز بين الدهور والحقب والعصور والأحيان.
- تصف مجموعات النباتات والحيوانات التي عاشت خلال الحقب المختلفة من تاريخ الأرض.

The Rock Record السجل الصخري

الفكرة الرئيسية يرتب العلماء الزمن الجيولوجي لمساعدتهم على فهم وترتيب تاريخ الأرض. **الربط مع الحياة** تحيّل الصعوبة التي تواجهها عندما ترتب لقاء مع صديق لك لو لم يكن الزمن مقسماً إلى وحدات شهور وأسابيع وأيام وساعات ودقائق. وترتيب الزمن الجيولوجي في صورة وحدات زمنية يُمكن العلماء من فهم وترتيب أحداث تاريخ الأرض بفاعلية.

ترتيب الزمن الجيولوجي Organizing Time

لو قمت برحلة مشياً على الأقدام في وادٍ من الأودية لتكشفت لك على جانبيه طبقات صخرية متعددة الألوان، كما في الشكل 1-8. بعض هذه الطبقات تحتوي على أحافير تمثل بقايا أو آثاراً أو طبقات لمخلوقات عاشت في الزمن الماضي. ويستطيع الجيولوجيون من خلال دراسة الطبقات الصخرية والأحافير التي تحتويها معرفة تاريخ الأرض القديم من نواح عدة، منها المناخ والبيئة القديمان، وتفسير ذلك.


ولفهم صخور الأرض وتفسير نشأتها، قسّم الجيولوجيون تاريخ الأرض إلى وحدات زمنية بناء على الأحافير التي تحتويها، وهذه الوحدات جزء من سلم الزمن الجيولوجي **Geologic time scale** الذي يؤرخ تاريخ الأرض منذ 4.6 بلايين عام وحتى أيامنا الحالية. ومنذ تسمية أول وحدة زمنية في سلم الزمن الجيولوجي - وهي العصر الجوراسي في عام 1795م - استمر تطوير سلم الزمن الجيولوجي إلى يومنا هذا. بعض الوحدات الزمنية بقي دون تغيير لقرون خلت، بينما البعض الآخر أعاد العلماء ترتيبها لأنهم حصلوا على معلومات جديدة. ويوضح الشكل 2-8 سلم الزمن الجيولوجي.

مراجعة المفردات

الأحفورية: بقايا أو آثار أو طبقات نبات أو حيوان عاش يوماً ما على سطح الأرض منذ أكثر من 10 آلاف سنة.

المفردات الجديدة

سلم الزمن الجيولوجي
الدهور
ما قبل الكامبري
الحقب
العصور
أحافير مرشدة
الأحيان
الانقراض الجماعي

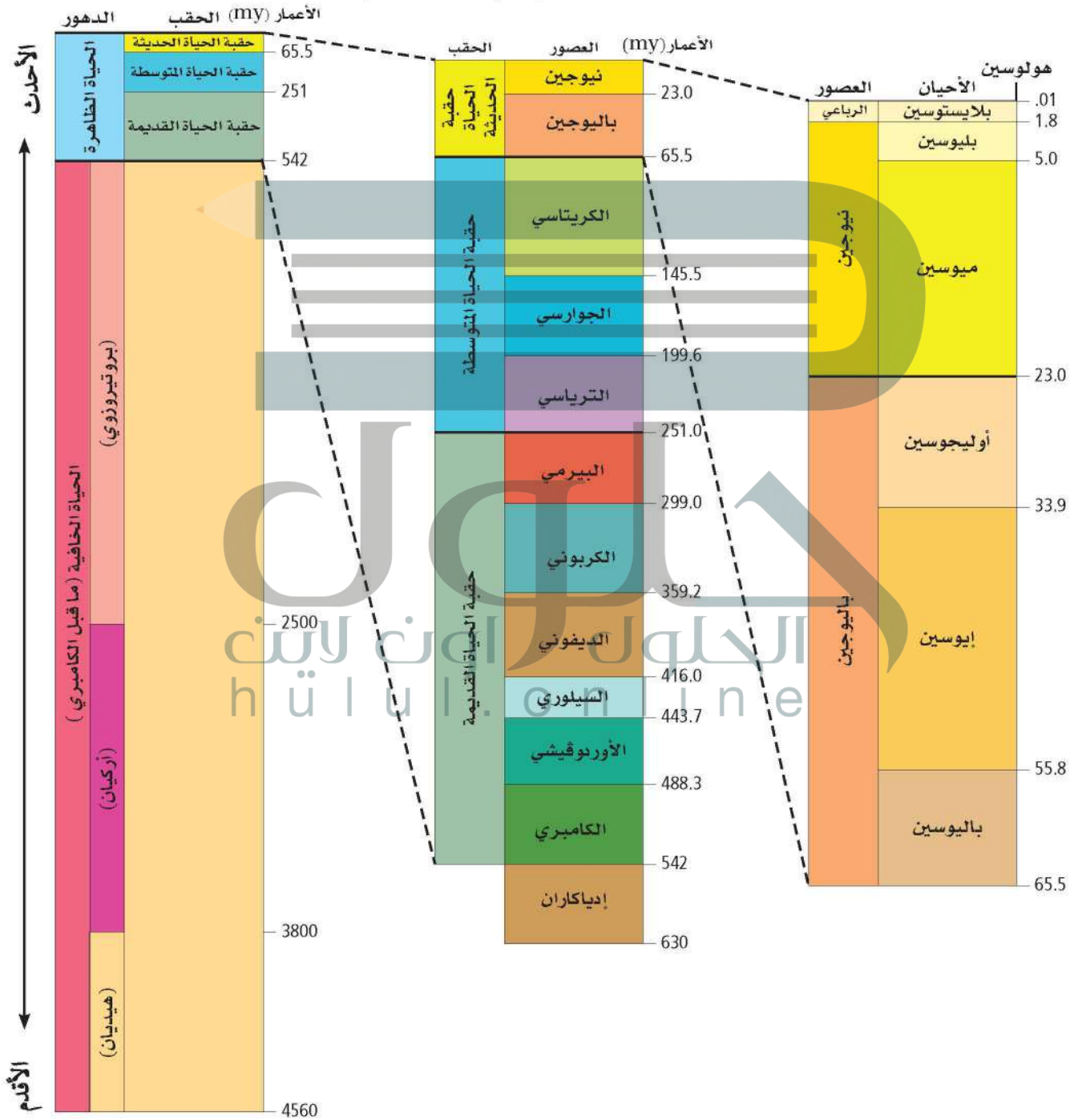


الشكل 1-8 تمثل الطبقات أحداثاً جيولوجية تقدر أعمارها بمئات الملايين من السنين. ويدرس الجيولوجيون الصخور والأحافير في كل طبقة لمعرفة تاريخ الأرض باستعمال وحدات زمنية مختلفة.

سالم الزمن الجيولوجي Geologic Time Scale

الشكل 2-8 يبدأ سالم الزمن الجيولوجي قبل 4.6 بلايين عام. ويقسم الجيولوجيون تاريخ الأرض إلى مجموعات، أكبرها الدهور؛ حيث يحتوي كل منها على حقبة، وكل حقبة على عصور، وكل عصر على أحيان. ويسمى الحين الحالي هولوسين. ويوجد لكل وحدة في سالم الزمن الجيولوجي اسم ومدى زمني بملايين السنين.

حدد أحدث وحدة زمنية لكل من الأحيان والعصور والحقب والدهور في سالم الزمن الجيولوجي.



سلم الزمن الجيولوجي The Geologic Time Scale

يساعد سلم الزمن الجيولوجي العلماء على إيجاد العلاقات بين الأحداث الجيولوجية والظروف البيئية وأشكال الحياة الممثلة بالأحافير المحفوظة في السجل الصخري، وترتب الوحدات الزمنية في سلم الزمن الجيولوجي من الأقدم إلى الأحدث كما في الشكل 2-8، حيث تكون الأقدم في الأسفل، وكلما انتقلنا إلى أعلى السلم كانت كل وحدة أحدث من سابقتها، كما هو موجود في تتابع الطبقات الصخرية.

✓ **ماذا قرأت؟** فسر لماذا يحتاج العلماء إلى سلم الزمن الجيولوجي؟



الشكل 3-8 أحفورة محفوظة بصورة جيدة لمخلوق عاش من قبل وُجدت في صخور رسوبية، وتمثل أحد أشكال الحياة المعقدة الأولى على الأرض. استنتج كيف كان هذا المخلوق يتحرك؟

سلم الزمن الجيولوجي يساعد العلماء على تنظيم تاريخ الأرض والتواصل مع علماء آخرين بصورة فعالة

وتسمى مجتمعة ما قبل الكامبري **Precambrian**، حيث تكونت الأرض، وأصبحت مؤهلة لاستقبال حياة حديثة؛ إذ تشير الأدلة الأحفورية إلى أن أشكال الحياة البسيطة بدأت في التشكل في دهر الأركيان، وتنوعت مع نهاية دهر البروتروزوي، حتى أصبحت بعض المخلوقات قادرة على الحركة بطريقة معقدة. ومعظم أجسام هذه الأحافير كالتي في الشكل 3-8- كانت رخوة ودون أصداف وهاكل رخوة تشبه المخلوقات الحية الحديثة.

أما أحافير دهر الحياة الظاهرة فهي أحسن حفظاً؛ ليس لأنها أحدث عمراً، بل لاحتوائها على أجزاء صلبة لمخلوقاتنا يسهل حفظها. ويمثل خط الزمن في الشكل 4-8 بعض الأحافير المهمة والاكتشافات المتعلقة بتقنيات التأريخ.

✓ **ماذا قرأت؟** وضح ما الذي ميز دهر ما قبل الكامبري عن دهر الحياة

يتميز دهر ما قبل الكامبري بوجود أحافير بسيطة ليس لها أصداف وهاكل صلبة بعكس أحافير دهر الحياة الظاهرة

1929 يُعدّ أناسازي أول موقع أثري يؤرخ باستعمال حلقات الأشجار السنوية.



1857 اكتشف عمال المقالع هيكلًا عظميًا يسمى نيندرتال.

الشكل 4-8 اكتشاف الأحافير والتقنية غيرت اكتشافات الأحافير وتقنيات التأريخ فهمنا للحياة على الأرض.

1920

1959 أدى اكتشاف أحافير في صخور طين بيرغن في سلسلة جبال روكي في الولايات المتحدة الأمريكية، إلى بيان مدى تنوع اللافقاريات خلال عصر الكامبري.

1880



1840

1820 اكتشفت ماري أنتنج أحافير عدة لمخلوقات حية قديمة، وأشارت بذلك اهتمامًا كبيرًا بعلم الأحافير.

1800

1796 رسم المساح وليام سميث أول خارطة جيولوجية اعتمادًا على أحافير محددة في الطبقات الصخرية.



الشكل 5-8 أحفورة الأمونيت إحدى الأحافير المرشدة البحرية التي ميزت الحقبة المتوسطة.

الحقب Eras تتكون جميع الدهور من حقب، والحقبة **Era** هي ثاني أكبر وحدة زمنية، وتتراوح بين عشرات إلى مئات ملايين السنين. وتُحدّد الحقبة - كما تُحدّد بقية الوحدات الأخرى - بناء على أنواع الحياة المختلفة التي نجدها في الصخور. أما أسماء الحقب فهي مشتقة من كلمات إغريقية بُنيت على الأعمار النسبية لأشكال الحياة. فعلى سبيل المثال كلمة **paleo** تعني قديماً، وكلمة **meso** تعني متوسطاً، وكلمة **ceno** تعني حديثاً، وكلمة **zoic** تعني الحياة، لذا فإن **Paleozoic** تعني الحياة القديمة، و **Mesozoic** تعني الحياة المتوسطة، و **Cenozoic** تعني الحياة الحديثة.

العصور Periods تُقسم جميع الحقب إلى **عصور Periods**، وتصل مدة العصر إلى ملايين السنين، ولكن بعض عصور ما قبل الكامبري أكبر من ذلك. سُمّيت بعض العصور بأسماء المواقع الجغرافية التي اكتُشفت فيها **أحافير مرشدة Index fossils** لأول مرة؛ وهي أحافير لها عمر محدد وامتداد جغرافي واسع ومنها أحفورة الأمونيت، انظر الشكل 5-8. فمثلاً، سُمّي عصر الإدياكاران باسم تلال الإديكارا في أستراليا، وأضيف إلى سلم الزمن الجيولوجي في عام 2004م.

الأحيان Epochs أصغر الوحدات الزمنية في سلم الزمن الجيولوجي، وتتراوح مدة الأحيان **Epochs** بين مئات آلاف السنين وملايين السنين. ومع أن العصور جميعها مقسمة إلى أحيان، إلا أن سلم الزمن الجيولوجي في الشكل 2-8 لم يُظهر تقسيم العصور إلى أحيان إلا في حقبة الحياة الحديثة؛ وذلك لأن صخور ورسوبيات حقبة الحياة الحديثة أكثر اكتمالاً مقارنة بالصخور الأقدم منها؛ لأنها لم تتعرض لعمليات التجوية والتعرية إلا فترات زمنية قصيرة، ولم تفقد الأدلة على الحياة من تاريخ الأرض إلا لجزء بسيط، ولهذا السبب فإن أحيان هذه الحقبة قصيرة زمنياً، فعلى سبيل المثال حين الهولوسين الذي يتضمن الزمن الحديث بدأ منذ 11,000 عام فقط.

الجلول
hūlul.online

2006 أحفورة تشبه القندس عمرها 164 مليون عام اكتشفها الصينيون، على أنها ثدييات مائية، ويتوقعون أنها ازدهرت مع الديناصورات.



1993 تُعد الأحافير التي وجدت في غرب أستراليا دليلاً على وجود البكتيريا قبل 3.5 بليون عام.

1946 توصل عدد من العلماء إلى أنه يمكن تحديد أعمار الأجسام العضوية والآثار الحديثة نسبياً باستعمال الكربون المشع.

2000

1970

1940

1987 قادت جيني كلاك حملة استكشافية إلى جرينلاند، اكتشفت خلالها أحافير لحيوانات عاشت قبل 360 مليون سنة.



- ج1: يساعد سلم الزمن الجيولوجي العلماء على تنظيم تاريخ الأرض؛ مع غيرهم من العلماء في البحوث والدراسات
- ج2: الدهور هي الأجزاء الأكثر شمول بين تقسييمات الزمن الجيولوجي للحقب، فالعصور، فالأحيان تختلف الأمثلة ولكنها قد تشمل الزمن الذي نعيشه
- ج3: إن ظاهرة الانقراض الجماعي يسهل تعرفها في السجل الاحفوري كما تزود الجيولوجيين بطريقة لتقسيم الزمن لأنها تحدث عادة في فترة زمنية قصيرة نسبياً
- ج4: لأن حقب الحياة الحديثة لم تتعرض لعمليات تجوية وتعرية كما تعرضت باقي الحقب؛ لذلك احتفظت بالسجل الصخري بشكل أكبر
- ج5: لا يعلم العداء عن هذا الزمن (ما قبل الكامبري) إلا القليل وذلك لعدم وجود حيوانات لها أجزاء صلبة حينها كما أن صخور ما قبل الكامبري قديمة جداً وشديدة التشوه؛ لدرجة أنها تخلو من أي سجل للأحداث الجيولوجية
- ج6: يجب أن تحوي الرسوم جميع الحقب المدونة في سلم الزمن الجيولوجي وعليها النسب الآتية: حقب الحياة الحديثة 12% وحقب الحياة المتوسطة 34% وحقب الحياة القديمة 54%

التقويم 1-8

الخلاصة

- يرتب العلماء سلم الزمن الجيولوجي في دهور وحقب وعصور وأحيان.
- يقسم العلماء الزمن إلى وحدات اعتياداً على أحافير النباتات والحيوانات.
- يُشكل دهر ما قبل الكامبري 90% من سلم الزمن الجيولوجي.
- يتغير سلم الزمن الجيولوجي مع زيادة معرفة العلماء العلمية بتاريخ الأرض.

فهم الأفكار الرئيسة

1. الغاية > الرئيسة وضح الهدف من بناء سلم الزمن الجيولوجي.
2. مَيِّز بين الدهور والحقب والعصور والأحيان، ذاكراً بعض الأمثلة.
3. صف أهمية الأحداث التي تمثل الانقراض الجماعي بالنسبة للجيولوجيين.
4. فسر لماذا يعرف العلماء معلومات كثيرة عن حقب الحياة الحديثة أكثر مما يعرفون عن بقية الحقب؟

التفكير الناقد

5. ناقش لماذا يعرف العلماء معلومات قليلة عن الحياة في دهر ما قبل الكامبري؟
6. ارسـم رسماً بيانياً بالأعمدة توضح فيه الفترات الزمنية النسبية لكل حقب من حقب دهر الحياة الظاهرة.

الرياضيات في الجيولوجيا

6. ارسـم رسماً بيانياً بالأعمدة توضح فيه الفترات الزمنية النسبية لكل حقب من حقب دهر الحياة الظاهرة.

التاريخ الجيولوجي

Geological Dating

الفكرة الرئيسية يستعمل العلماء المبادئ الجيولوجية لمعرفة ترتيب الأحداث الجيولوجية وفق حدوثها زمنياً. كما يستعملون طرائق الانحلال الإشعاعي وبعض أنواع الرسوبيات لتحديد العمر المطلق لكثير من الصخور.

الربط مع الحياة إذا طلب إليك أن ترتب الأحداث الآتية: زمنياً من الأقدم إلى الأحدث، فكيف تفعل ذلك؟ (ذهابك إلى المدرسة، استيقاظك من النوم، ارتداءك الملابس، تناولك الطعام). ستعتمد على الأرجح على خبرتك السابقة في ترتيب هذه الأحداث. يستعمل العلماء أيضاً معلومات من الماضي لترتيب الأحداث في تعاقب زمني مماثل. ولكنهم أيضاً يرون أنه من المفيد معرفة زمن وقوع الأحداث بالضبط.

التفسير الجيولوجي Interpreting Geology

يمتد عمر الأرض إلى بلايين السنين، ولم يعرف العلماء القدماء سابقاً عمر الأرض؛ حيث كانت الأفكار الأولى عن عمر الأرض في سياق زمني قصير، بحيث يمكن لشخص أن يتصورها بالنسبة إلى عمره. وقد تغير هذا المفهوم عن عمر الأرض مع بدء استكشاف الإنسان للأرض وللعمليات الأرضية بطريقة علمية. وبعد جيمس هاتون - وهو جيولوجي أسكتلندي عاش في نهاية القرن الثامن عشر - من أوائل العلماء الذي اعتقدوا أن عمر الأرض كبير؛ فقد حاول فهم تاريخ الأرض من خلال العمليات الجيولوجية، مثل التعرية وتغيرات مستوى سطح البحر، التي تحدث ضمن فترات زمنية كبيرة. لقد ساعد عمله هذا في بناء سلم الزمن الجيولوجي وتطويره.

مبدأ النسقية uniformitarianism أرسى عمل جيمس هاتون حجر الأساس لمبدأ النسقية **Uniformitarianism** الذي ينص على أن العمليات الجيولوجية التي تحدث الآن كانت تحدث منذ أن خلقت الأرض. فعلى سبيل المثال إذا وقفت على شاطئ محيط وراقبت الأمواج القادمة إلى الشاطئ فإنك تشاهد عملية لم تتغير منذ نشوء المحيطات؛ إذ إن الأمواج التي تكسرت على شواطئ البحار في العصر الجوارسي تشبه إلى حد كبير الأمواج التي تتكسر على شواطئ البحار في هذه الأيام. والصورة في الشكل 7-8 أخذت حديثاً لأحد الشواطئ، وهي تشبه إلى حد كبير الشواطئ التي كانت موجودة قبل ملايين السنين.

- تصف مبدأ النسقية وتبين أهميته في الجيولوجيا.
- تطبق المبادئ الجيولوجية في تفسير التتابعات الصخرية وتحدد أعمارها النسبية.
- تقارن بين أنواع مختلفة من عدم التوافق.
- توضح كيف يستعمل العلماء المضاهاة في فهم تاريخ منطقة ما.
- تقارن بين التاريخ المطلق والتاريخ النسبي.
- تصف كيف يحدد العلماء الأعمار المطلقة للصخور والمواد الأخرى باستعمال العناصر المشعة.
- توضح كيف يستعمل العلماء مواد محددة غير مشعة في تأريخ الأحداث الجيولوجية.

مراجعة المفردات

النظائر: ذرات للعنصر نفسه تتشابه في عدد بروتوناتهما، وتختلف في عدد نيوتروناتها.

المفردات الجديدة

- مبدأ النسقية
- التاريخ النسبي
- مبدأ الترسيب الأفقي
- مبدأ تعاقب الطبقات
- مبدأ القاطع والمقاطع
- مبدأ الاحتواء
- عدم التوافق
- المضاهاة
- الطبقة المرشدة
- التاريخ المطلق
- الانحلال الإشعاعي
- التاريخ الإشعاعي
- عمر النصف
- التاريخ بالكربون المشع
- التاريخ بالأشجار



الشكل 7-8 ربما كانت شواطئ جدة قبل 5 ملايين عام مثل هذا الشاطئ؛ ذلك أن العمليات الجيولوجية التي كوَّنتها لم تتغير.

مبادئ تحديد العمر النسبي

Principles for Determining Relative Age

بناء على مبدأ النسبية يستطيع العلماء أن يعرفوا الكثير عن الماضي بدراستهم للحاضر، متبعين في ذلك طرائق عدة، منها **التأريخ النسبي Relative-age dating**، وهو ترتيب الأحداث الجيولوجية وفق حدوثها زمنياً. وهذه الطريقة لا تمكن العلماء من معرفة عدد السنين التي استغرقتها الأحداث الجيولوجية، ومتى وقعت بالضبط، ولكنها تساعدهم على فهم الأحداث الجيولوجية التي وقعت عبر تاريخ الأرض بصورة واضحة. ويستعمل العلماء طرائق عدة لتحديد الأعمار النسبية تسمى مبادئ التأريخ النسبي. وتتضمن هذه المبادئ مبدأ الترسيب الأفقي، ومبدأ تعاقب الطبقات، مبدأ القاطع والمقاطع، وعدم التوافق، ومبدأ الاحتواء، والمضاهاة.

مبدأ الترسيب الأفقي original horizontality ينص مبدأ الترسيب الأفقي **Original horizontality** على أن الصخور الرسوبية تترسب في طبقات أفقية أو شبه أفقية. ويشبه هذا ما يحدث عندما ترسب الرمال على الشاطئ

المطويات

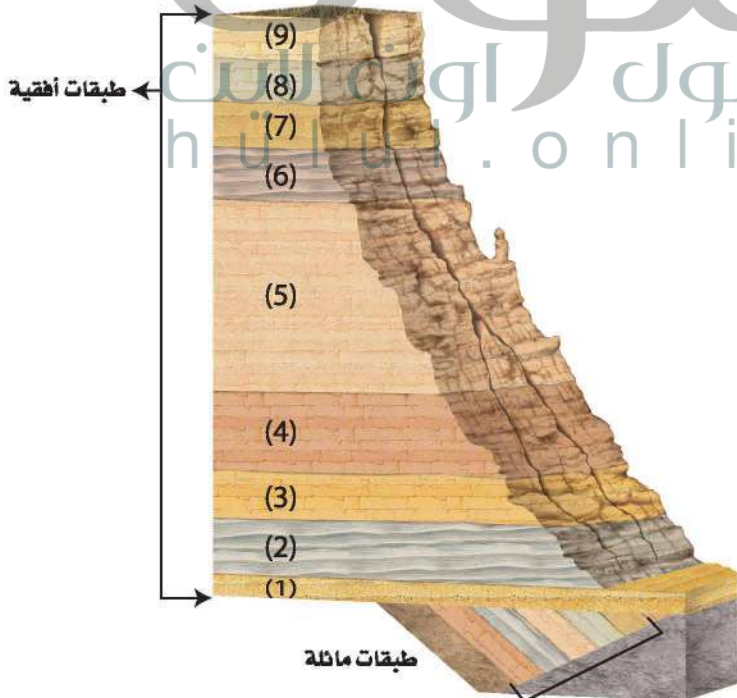
ضمّن معلومات من هذا القسم في مطويتك

المفردات


مفردات أكاديمية

المبدأ

هو فرضية عامة تختبر بصورة متكررة وتسمى أحياناً قانوناً. من أمثلتها المبادئ الجيولوجية.



الشكل 8-8 تكونت الطبقات الأفقية في الشكل من خلال ترسيب الرسوبيات عبر ملايين السنين. وينص مبدأ الترسيب الأفقي على أن الطبقات المائلة في أسفل التتابع تكونت في البداية في وضع أفقي.



الشكل 8-9 بحسب مبدأ القاطع والمقاطع فإن القواطع النارية أحدث من صخور الشيست.

استنتج كيف تكونت القواطع النارية؟

بصورة أفقية؛ حيث تعمل الجاذبية على نشر الرسوبيات التي تحملها الرياح والمياه بانتظام. وأي تغير يحدث لوضع الطبقات الأفقي يكون بسبب حدث جيولوجي لاحق لعملية الترسيب. ويوضح الشكل 8-8 طبقات رسوبية أفقية على جانبي أحد الأودية، وأسفلها طبقات مائلة.

مبدأ تعاقب الطبقات superposition لا يستطيع الجيولوجيون تقدير أعمار الطبقات الصخرية الموضحة في الشكل 8-8 بالسنوات باستعمال التاريخ النسبي، ولكن يمكنهم أن يفترضوا أن الطبقات السفلى في التعاقب هي الأقدم والعليا هي الأحدث، لذا يمكنهم أن يستنتجوا أن الطبقة (9) في قمة التعاقب أحدث من الطبقة (1) في أسفل التعاقب. ويعد هذا تطبيقاً لمبدأ تعاقب الطبقات **Superposition** الذي ينص على أنه في أي تعاقب طبقي تكون أقدم الطبقات الصخرية في الأسفل، والأحدث في الأعلى، وكل طبقة في التعاقب تكون أحدث من الطبقة التي تحتها، ما لم تتعرض الطبقات في التعاقب الطبقي إلى تغيير عن وضعها الأفقي الأصلي.

مبدأ القاطع والمقاطع Cross-cutting relationship تتميز صخور الدرع العربي - الذي يشكل الجزء الغربي من المملكة العربية السعودية - بوجود الكثير من القواطع المكونة من الصخور النارية التي تقطع الصخور الأقدم منها. ويوضح الشكل 8-9 أحد الصخور مقطوعة بقواطع رأسية جرانيتية. والقواطع صخور تتكون بفعل تصلب الصهارة داخل صخور موجودة أصلاً.

تجربة



تحديد العمر النسبي
كيف تحدد العمر النسبي؟ يستعمل العلماء المبادئ الجيولوجية في تحديد العمر النسبي للطبقات الصخرية.

خطوات العمل

1. اقرأ نموذج السلامة في المختبر.
2. ارسم شكلاً يتكون من أربع طبقات صخرية أفقية، ورقمها من أسفل إلى أعلى من 1 إلى 4.
3. ارسم قاطعاً نارياً رأسياً يمر من خلال الطبقات من 1 إلى 3.
4. حدد النقطة X على أسفل الطرف الأيسر للشكل، والنقطة Y على أعلى الطرف الأيمن له.
5. قص الورقة قطعاً من X إلى Y، ثم حرّك القطعة الناتجة 1.5 cm على طول القطع.

التحليل

1. صف ما المبادئ التي ستستعملها في تحديد الأعمار النسبية للطبقات في الشكل.
2. وضح مبدأ القاطع والمقاطع، وبين كيف يمكن استعماله في تحديد العمر النسبي للقواطع الرأسية؟
3. استنتج ماذا يمثل القطع XY، وهل هو أقدم أم أحدث من الصخور المحيطة به؟

وينص مبدأ القاطع والمقطع **cutting relationship** على أن القاطع أحدث من المقطوع. لذلك فإن قواطع الجرانيت في الشكل 9-8 أحدث من صخور الشيست. ولأن الصدوع كسور في الأرض يمكن أن تحدث حركة على طولها، لذا يمكن تطبيق مبدأ القاطع والمقطع عليها؛ حيث يكون الصدع أحدث من الطبقات والمعالم الجيولوجية التي يقطعها.



عدم التوافق Unconformity يتغير سطح الأرض باستمرار بفعل التجوية والتعرية والزلازل والبراكين وعمليات أخرى، لذلك من الصعب أن تجد تعاقباً صخرياً لم يطرأ عليه أي تغييرات. وفي بعض الأحيان قد تُفقد أحداث زمنية ماضية كلياً من تاريخ الأرض. فعلى سبيل المثال لو أن صخوراً رسوبية تكشفت على السطح وتعرضت لعمليات حت وتعرية ففقدت جزءاً منها، ثم حدث ترسب جديد وغطيت هذه المنطقة بطبقة جديدة من الرسوبيات فإن سطح التعرية هذا سيمثل فراغاً (فترة زمنية مفقودة) في السجل الصخري. وتسمى سطوح التعرية المدفونة عدم توافق **Unconformity**؛ حيث تكون الطبقة الصخرية التي تعلو سطح عدم التوافق مباشرة أحدث عمراً من الطبقة التي تقع تحته. ويميز العلماء ثلاثة أنواع من سطوح عدم التوافق موضحة في الشكل 10-8.

عدم التوافق الانقطاعي Disconformity عندما تعلو طبقة رسوبية أفقية طبقة رسوبية أفقية أخرى، يسمى سطح التعرية بين هاتين الطبقتين عدم التوافق الانقطاعي. ويمكن تمييز سطح عدم التوافق الانقطاعي عندما يكون سطح التعرية متعرجاً، ولكن تصعب رؤيته عندما يكون مستوياً.

اللاتوافق Nonconformity هو سطح يتكون عندما تعلو طبقة رسوبية صخوراً نارية أو متحولة كالجرانيت أو الرخام، وسطح اللاتوافق سطح تعرية سهل تعرفه. ولأن الجرانيت والرخام يتكوّنان في الأعماق فإن سطح اللاتوافق سوف يشير إلى فترة زمنية ضائعة في السجل الصخري، وهي الفترة التي انقضت في أثناء رفع هذه الصخور من باطن الأرض إلى أعلى وتعريتها على سطح الأرض وترسب طبقة صخرية جديدة فوقها.

✓ **ماذا قرأت؟** ميّز بين عدم التوافق الانقطاعي واللاتوافق.

الشكل 10-8 عدم التوافق هو سطح تعرية يفصل بين طبقتين صخريتين ترسبتا في أوقات مختلفة. ويوضح الشكل أدناه الأنواع الثلاثة لعدم التوافق.



عدم التوافق الانقطاعي هو سطح تعرية عندما تعلو طبقة رسوبية أفقية طبقة رسوبية أخرى بينما اللاتوافق هو سطح تعرية يتكون عندما تعلو طبقة رسوبية صخوراً متحولة أو نارية



الشكل 11-8 يحتوي الصخور الحديثة على قطع صخرية من صخر قديم.

عدم التوافق الزاوي Angular unconformity تتعرض الطبقات الصخرية الرسوبية الأفقية إلى تشوه بسبب حركة الصفائح؛ حيث تتعرض للرفع والميلان، كما تتعرض خلال هذه العمليات للتجوية والتعرية، ثم إذا ترسبت فوق هذه الطبقات المائلة بعد تعريتها طبقة أفقية من صخور رسوبية فسيكون سطح عدم توافق يسمى عدم التوافق الزاوي. ويبين الشكل 10-8 كيف يُسجل عدم التوافق الزاوي تاريخياً معقدًا لعمليات تكوّن الجبال والتعرية.

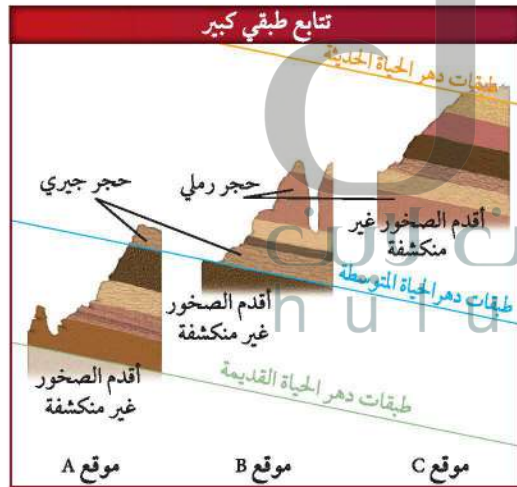
مبدأ الاحتواء Inclusions ينص مبدأ الاحتواء Principle of

inclusion على أن القطع الصخرية (المحتبسة) أقدم من الصخور التي تحتويها. ويحدث احتواء للقطع الصخرية في الصخور الرسوبية عندما تتعرض طبقة صخرية منكشفة لعمليات تجوية ثم حت وتعرية. وإذا حدث نقل للفتات الصخري الناتج ثم إعادة ترسيبه فإنه من المتوقع احتواء الطبقات الناتجة على قطع صخرية من الصخر القديم وتصبح جزءاً منها.

كما يمكن أن تحتوي الصخور النارية على صخور أخرى؛ فعندما تتدفق اللابة إلى السطح وتنخفض درجة حرارتها نسيباً فإنها تحمل معها صخوراً أخرى. انظر الشكل 11-8.

المضاهاة Correlation يوضح الشكل 12-8 أن الحجر الجيري

يمثل أعلى الطبقات الصخرية في الموقع A، ولكنه في أسفلها في الموقع B الذي يبعد 100 km عن الموقع A. كيف يعرف الجيولوجيون أن هذه الطبقات الصخرية البعيدة بعضها عن بعض قد تكونت في الفترة الزمنية نفسها؟ والجواب عن ذلك هو اتباع طريقة واحدة تسمى المضاهاة Correlation، وهي مطابقة بين منكشفات صخرية محددة في منطقة ما، مع منكشفات مماثلة لها في منطقة جغرافية أخرى اعتماداً على المكونات المعدنية والخصائص الفيزيائية أو على المحتوى الأحفوري. ومن خلال مضاهاة الطبقات الصخرية المختلفة في الشكل 12-8 قد توصل الجيولوجيون إلى أن التعاقبات الصخرية كلها في المواقع A و B و C هي جزء من تعاقب طبقي كبير.

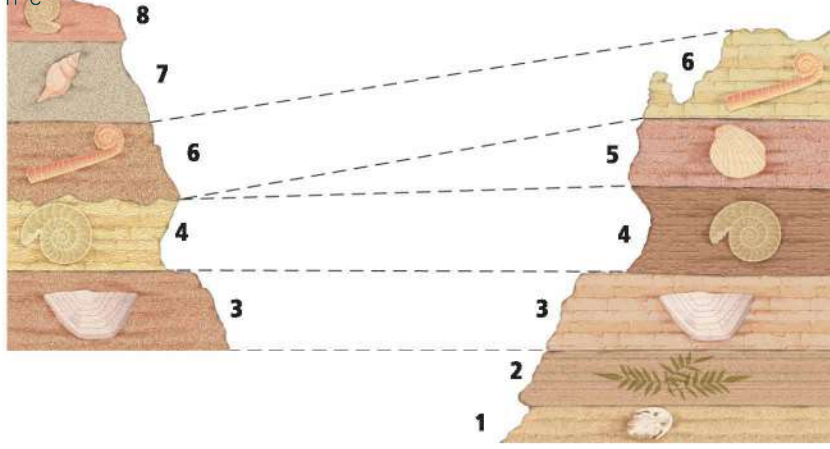


الشكل 12-8 يمثل الحجر الجيري أحدث الطبقات الصخرية في الموقع A وأقدمها في الموقع B، وطبقة الحجر الرملي تمثل أحدث الطبقات الصخرية في الموقع B ولكنها تعد صخوراً غير منكشفة في الموقع C.

استنتج تركيب الطبقة المدفونة أسفل طبقة الحجر الجيري عند الموقع B.

الطبقات المرشدة (الدالة) key beds تتكون أحياناً طبقات

صخرية مميزة تمتد فوق منطقة جغرافية واسعة، نتيجة سقوط نيزك أو ثوران بركان أو أي حدث آخر، ولأنها طبقات يسهل تعرفها وتمييزها، فإنها تساعد الجيولوجيين على مضاهاة ومقارنة المكونات الصخرية المنكشفة في مناطق مختلفة. ويسمى الصخر أو الطبقة الرسوبية المستعملة على أنها مؤشر أو علامة بهذه الكيفية طبقة مرشدة Key bed؛ حيث تُرشد الجيولوجيين إلى أن الطبقات التي تقع فوق الطبقة المرشدة تكون أحدث من الطبقات التي تقع أسفل منها. فتعد طبقة الرماد البركاني مثلاً طبقة مرشدة.



الشكل 8-13 المضاهاة بالأحافير بين طبقات صخرية في موقع ما، مع طبقات صخرية تحتوي على الأحافير نفسها في موقع آخر، مما يدل على أن هذه الطبقات ترسبت في الفترة الزمنية نفسها على الرغم من اختلافها في المكونات.

المضاهاة بالأحافير Fossil correlation يستعمل الجيولوجيون الأحافير أيضًا لمضاهاة التكوينات الصخرية بين أماكن متباعدة. ويوضح الشكل 8-13 أن الطبقات الصخرية ترسبت في زمن واحد؛ لاحتوائها على أحافير متشابهة على الرغم من اختلافها كليًا في المكونات.

تساعد المضاهاة بالأحافير على معرفة التأريخ النسبي للتعاقيات الصخرية، كما تساعد الجيولوجيين على فهم التأريخ الجيولوجي لمناطق جغرافية واسعة. كما يستعمل جيولوجيو البترول المضاهاة في تحديد مواقع خزانات النفط

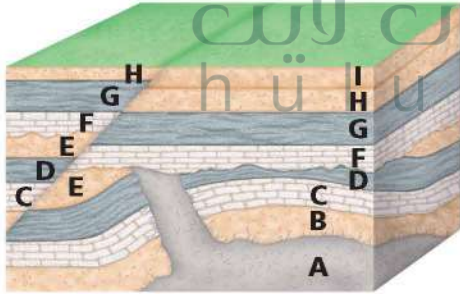
المهن في علم الأرض

جيولوجي البترول

يستعمل جيولوجيو البترول المبادئ الجيولوجية لتعرف السجل الصخري لخزانات النفط والغاز الطبيعي.

مختبر تحليل البيانات

تفسير الرسم



كيف تفسر الأعمار النسبية للطبقات الصخرية؟ يوضح الشكل تعاقيبًا صخريًا. ويستعمل الجيولوجيون مبادئ التأريخ النسبي لترتيب الطبقات الصخرية بحسب زمن تكوّنها.

التحليل

1. حدد نوع عدم التوافق بين أي طبقتين صخريتين. وضح إجابتك.
2. فسر أي الطبقات الصخرية أقدم؟
3. استنتج أين يمكن أن توجد الصخور المحتبسة؟ وضح إجابتك.
4. قارن بين الطبقات الصخرية عن يمين الشكل وتلك التي عن يساره. لماذا لا تتشابه؟

التفكير الناقد

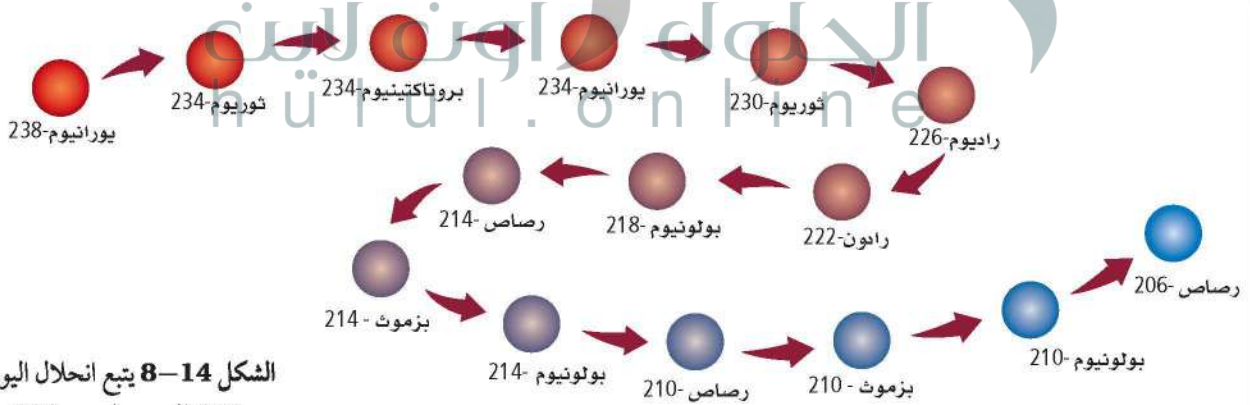
5. طبق ما أحدث العالم الجيولوجية في الشكل: القاطع أم الطبقات المطوية؟ ما المبدأ الذي استعملته في معرفة ذلك؟
6. وضح لماذا لا توجد الطبقة I عن يسار الشكل؟

والغاز الطبيعي، فعلى سبيل المثال لو أن طبقة من الحجر الرملي في مكان ما تحتوي على النفط فمن الممكن أن تحتوي الطبقة نفسها في أماكن أخرى على النفط. وعمومًا اعتمد الجيولوجيون على المضاهاة بصورة كبيرة في بناء سلم الزمن الجيولوجي.

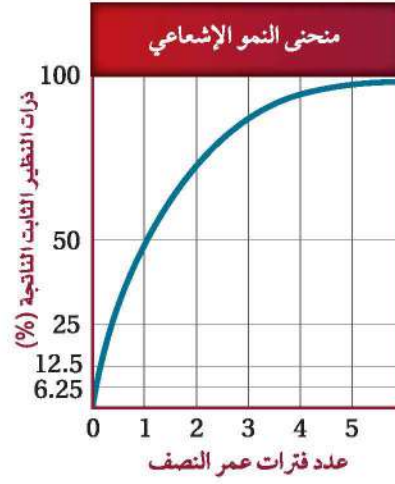
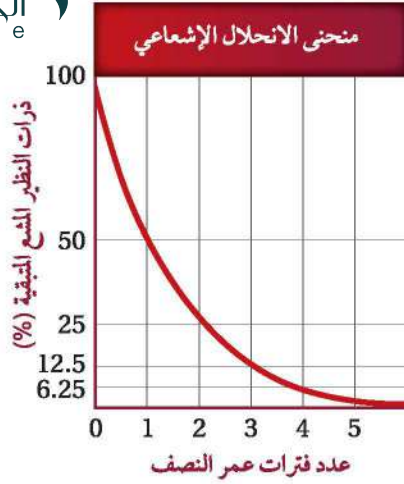
التأريخ المطلق Absolute-Age Dating

إن التأريخ النسبي طريقة لمقارنة الأحداث الجيولوجية السابقة بناء على ترتيب الطبقات في السجل الصخري، في المقابل فإن التأريخ المطلق **absolute age dating** يُمكن العلماء من تحديد عمر الصخور والأجسام الأخرى بدقة (بالأرقام). وباستعمال طرائق التأريخ المطلق يقيس العلماء انحلال النظائر المشعة في الصخور النارية والمتحولة وفي بعض بقايا المخلوقات المحفوظة في الصخور الرسوبية.

الانحلال الإشعاعي Radioactive decay تنبعث جسيمات نووية من النظائر المشعة بمعدل ثابت. إن العنصر يتميز بعدد محدد من البروتونات. ولأن عدد البروتونات يتغير مع كل انبعاث، لذا فإن النظير المشع الأصلي الذي نسميه النظير المشع يتغير تدريجيًا إلى عنصر مختلف نسميه النظير الثابت. فمثلًا، يتحلل نظير اليورانيوم المشع U-238 إلى عنصر مستقر ثابت، هو الرصاص - 206 (Pb-206) في فترة زمنية محددة، كما في الشكل 14-8. وفي النهاية يتحلل قدر كبير من النظير المشع بحيث لا يبقى منه كمية قابلة للقياس، بينما يصبح النظير الثابت الناتج هو القابل للقياس. وتسمى عملية انبعاث الجسيمات المشعة وما ينتج عن ذلك من نظائر عبر الزمن الانحلال الإشعاعي **Radioactive decay**. ولأن معدل الانحلال الإشعاعي ثابت بغض النظر عن الضغط والحرارة أو أي متغيرات فيزيائية أخرى، لذا فإن العلماء يستعملونه لتحديد العمر المطلق للصخر أو الأجسام الأخرى التي تحوي هذه النظائر.



الشكل 14-8 يتبع انحلال اليورانيوم - 238 إلى رصاص-206 مسارًا معينًا لا يتغير.



الشكل 8-15 ينقص عدد ذرات نظير المشع بينما يزداد عدد ذرات النظير الثابت بالقدر نفسه في أثناء عمليتي الانحلال والنمو الإشعاعي.

فسّر ما النسبة المئوية للنظير الثابت في عينة تحوي 12.5% من النظير المشع؟

التأريخ الإشعاعي Radiometric Dating يوضح الشكل 8-15 كيف

ينقص عدد ذرات النظير المشع بالقدر نفسه الذي يزداد به عدد ذرات النظير الثابت في أثناء عملية الانحلال الإشعاعي؛ حيث إن نسبة النظير المشع إلى النظير الثابت الناتج في معدن ما تشير إلى زمن تشكل هذا المعدن. يستطيع الجيولوجي مثلاً من خلال قياس هذه النسبة في معدن موجود في صخر ناري أن يحدد بدقة زمن تبلور هذا المعدن من الصهارة. وعندما يؤرخ العلماء جسمًا بالنظائر المشعة فإنهم يستعملون طريقة تسمى **التأريخ الإشعاعي Radiometric dating**.

عمر النصف Half-life يقيس العلماء المدة الزمنية اللازمة لتحلل نصف ذرات النظير المشع، ويسمى هذا عمر النصف **Half-life**؛ إذ يبقى 50% من النظير المشع بعد مضي عمر نصف واحد، وتكون النسبة بين نظيري المشع والثابت هي 1:1، وبعد مرور عمري نصف، يتحلل نصف الـ 50% الباقية من النظير المشع، وتصبح النسبة المئوية بين نظيري المشع والثابت هي 25:75 أو نسبة 1:3، انظر الشكل 8-16 الذي يوضح هذه العملية.

الشكل 8-16 تحوي العينة بعد مرور عمر النصف الأول 50% من النظير المشع و 50% من النظير الثابت. وبعد مضي عمري نصف تحوي العينة 25% من النظير المشع و 75% من النظير الثابت.



● 25 % النظير المشع
● 75 % النظير الثابت



● 50 % النظير المشع
● 50 % النظير الثابت




● 100 % من النظير المشع

الثابت الناتج	عمر النصف التقريبي	التضير المشع
إسترانشيوم-87 (Sr-87)	48.6 بليون سنة	روبيديوم-87 (Rb-87)
رصاص-208 (Pb-208)	14.0 بليون سنة	ثوريوم-232 (Th-232)
أرجون-40 (Ar-40)	1.3 بليون سنة	بوتاسيوم-40 (K-40)
رصاص-206 (Pb-206)	4.5 بليون سنة	يورانيوم-238 (U-238)
رصاص-207 (Pb-207)	0.7 بليون سنة	يورانيوم-235 (U-235)
نيتروجين-14 (N-14)	5730 سنة	كربون-14 (C-14)

تأريخ الصخور Dating rocks لتأريخ صخر ناري أو متحول، يتفحص

العلماء نسب النظائر المشعة إلى الثابتة في المعادن المكونة للصخر. يوضح الجدول 1-8 بعض النظائر المشعة التي يمكن أن تُستعمل. ويعتمد استعمال النظير الأفضل لتأريخ أعمار الصخور على العمر التقريبي للصخر المراد تحديده عمره. مثال ذلك، قد يستعمل العلماء يورانيوم-235 (U-235) الذي له عمر نصف يساوي 700 مليون سنة في تأريخ عمر صخر عمره بضعة عشرات ملايين السنين. أما إذا أريد تحديد عمر صخر يقدر بمئات ملايين السنين فيستعمل عندها يورانيوم-238 الذي عمر النصف له أطول؛ إذ لو استعملنا نظيراً إذا عمر نصف قصير في تحديد عمر صخر قديم فقد نصل إلى نقطة تكون فيها نسبة النظير المشع إلى الثابت صغيرة لا يمكن قياسها. لا تصلح طريقة التأريخ الإشعاعي لتحديد أعمار الصخور الرسوبية الفتاتية؛ لأن المعادن في الصخور الرسوبية الفتاتية قد تشكلت من صخور سابقة. ويوضح الشكل 17-8 كيف يحدد الجيولوجيون العمر التقريبي للصخور الرسوبية الفتاتية من خلال تحديد أعمار الصخور النارية الموجودة بين طبقات الصخور الرسوبية.

الشكل 17-8 لمساعدة العلماء على تحديد أعمار الصخور الرسوبية الفتاتية فإنهم يؤرخون طبقات الصخور النارية أو الرماد البركاني الموجودة بين الطبقات الرسوبية.



تأريخ الرماد البركاني إشعاعياً

✓ **ماذا قرأت؟** فسّر لماذا لا تصلح طريقة التأريخ الإشعاعي في تحديد أعمار الصخور الرسوبية الفتاتية؟

المعادن في معظم الصخور الرسوبية تكوّنت في الأصل من صخور سابقة لذا فإن أعمارها أقدم من أعمار الصخور الرسوبية

النوع من التاريخ مواد من اصل حيواني او نباتي، ومنها العظام والفحم النباتي والعتبر.

تحتوي أنسجة المخلوقات الحية جميعها - ومنها الإنسان - على كمية قليلة من الكربون-14. وينحل الكربون-14 في أثناء حياة المخلوق الحي ولكنه يتجدد باستمرار بعملية البناء الضوئي أو التغذية. وعندما يموت المخلوق الحي فإنه يتوقف عن الحصول على الكربون-14، لذا تنقص كمية الكربون-14 في جسمه مع مرور الوقت.

ويستطيع العلماء من خلال قياس كمية الكربون-14 في المادة العضوية أن يحددوا الزمن الذي انقضى منذ موته. وتعد هذه الطريقة مفيدة عملياً في تحديد أعمار الأحداث الجيولوجية الحديثة التي تحوي بقايا المادة العضوية.

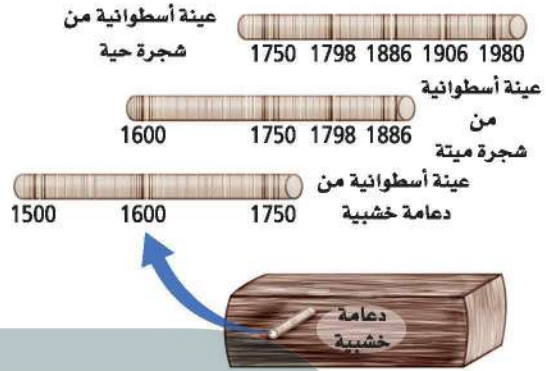
طرائق أخرى لتحديد العمر المطلق Other Ways to Determine Absolute Age

تعد طريقة التأريخ الإشعاعي من أكثر الطرائق الشائعة لدى الجيولوجيين لتحديد عمر المواد الجيولوجية؛ إلا أن هناك طرائق تأريخ أخرى كثيرة تساعدهم على تحديد أعمار بعض الأجسام أو الأحداث، ومن ذلك حلقات الشجر وعينات الجليد الأسطوانية ورسوبيات قيعان البحيرات ورسوبيات قيعان المحيطات.

حلقات الأشجار Tree rings يحوي الكثير من الأشجار سجلاً زمنياً في حلقات جذوعها. تسمى حلقات الأشجار السنوية. تتكوّن كل حلقة شجرية سنوية من زوج من حلقات نمو موسمية مبهكرة، وأخرى متأخرة. ويعتمد عرض الحلقات على ظروف بيئية محددة؛ حيث تكون عريضة عند توافر مطر غزير؛ لأن الأشجار تنمو بسرعة، وتكون رفيعة في المناخ الجاف. لذا فإن الأشجار التي تنمو في الإقليم الجغرافي نفسه وضمن فترة زمنية معينة يكون عرض الحلقات فيها هو نفسه، انظر الشكل 8-18. وقد استطاع العلماء من خلال المقارنة بين حلقات الأشجار التأريخ لفترات حتى قبل 10,000 سنة.

✓ **ماذا قرأت؟** صف كيف يمكن لحلقات الأشجار السنوية أن تبين الظروف البيئية القديمة؟


يعكس عرض الحلقات السنوية للأشجار الظروف البيئية الموسمية؛ حيث يكون العرض أكبر في السنوات التي توافر فيها المياه وأشعة الشمس وأضيق ما يمكن في سنوات الجفاف



الشكل 8-18 يمكن تحقيق التأريخ بالحلقات السنوية الشجرية من خلال مضاهاة الحلقات السنوية بين عينات خشبية مختلفة حية وميتة. يسمى العلم الذي يستعمل حلقات الشجر السنوية في التأريخ المطلق بالتأريخ بالأشجار. احسب عدد السنين التي يمثلها الشكل أعلاه.



الشكل 8-19 يستعمل العلماء عينات الجليد الأسطوانية لتأريخ الرسوبيات الجليدية ولمعرفة المزيد عن مناخ الأرض القديم.



الشكل 20-8 تساعد رقائق الرسوبيات المتعاقبة العلماء على تأريخ الدورات الرسوبية في البحيرات الجليدية.

يسمى العلم الذي يحدد العمر المطلق باستعمال حلقات الأشجار السنوية **التأريخ بالأشجار Dendrochronology**، وقد ساعد هذا العلم الجيولوجيين على تحديد عمر بعض الحوادث الحديثة نسبياً التي أدت إلى اقتلاع الأشجار، ومنها البراكين والزلازل والجليديات، كما يفيد علم التأريخ بالأشجار في الدراسات الأثرية، كما يتيح التأريخ بالأشجار للجيولوجيين التأكد من نتائج التأريخ بالكربون المشع.

عينات الجليد الأسطوانية Ice cores تُعدّ عينات الجليد مماثلة لحلقات الأشجار السنوية في أنها تحوي سجلاً للظروف البيئية الماضية في ترسبات الثلج السنوية؛ حيث يحوي جليد الصيف فقاعات أكثر وبلورات أكبر مقارنة بجليد الشتاء. يستعمل الجيولوجيون تأريخ عينات الجليد لدراسة الدورات الجليدية عبر التأريخ الجيولوجي.


ويتم تخزين آلاف الأمتار من عينات الجليد المأخوذة من المسطحات الجليدية، كما في الشكل 19-8. ولأن عينات الجليد الأسطوانية تحوي معلومات عن الظروف البيئية الماضية، لذا فإن الكثير من العلماء يستعملونها في دراسة المناخ القديم.

الرقائق Varves تسمى الأحزمة المتعاقبة فاتحة اللون والقائمة من رسوبيات الرمل والصلصال والغرين رقائق varves. وتمثل الرقائق ترسبات موسمية تتكون عادة في البحيرات، وتتكون ترسبات الصيف من حبيبات رملية مع قليل من بقايا المخلوقات الحية، بينما تكون رقائق الشتاء أقل سمكاً وحبيباتها أنعم. توجد الرقائق بصورة مثالية في ترسبات البحيرات القريبة من الجليديات، حيث تحمل المياه المنصهرة الرمل إلى البحيرة وتُرسبها، بينما يكون الترسيب قليلاً أو منعدماً في الشتاء، كما في الشكل 20-8. يستطيع العلماء باستعمال عينات أسطوانية من الرقائق أن يؤرّخوا دورات الرسوبيات الجليدية حتى 120,000 سنة الماضية.

- ج1: ينص مبدأ الترسيب الأفقي على أن الطبقات تترسب في وضع الأحداث تكملة الطلقات الأقدم، أما مبدأ القاطع والمقطع فينص على أن الأجسام النارية المندفعة والصدوع أحدث من الطبقات التي تقطعها وأما مبدأ الاحتواء فينص على أن القاطع الناري أحدث من الطبقات التي تحتويها
- ج2: يترك للطالب
- ج3: من خلال معرفة العلماء عمر الأحافير يحددون أعمار التكتشفات الصخرية التي تحتوي على تلك الأحافير، ومن ثم يعملون مضاهاة أحمورية مع تكتشفات أخرى تحتوي على الأحافير نفسها، مما يساعد على فهم التاريخ النسبي للمنطقة، كما يستعمل العلماء أنواعاً معينة من الأحافير في تحديد أماكن وجود الغاز والنفط والثروات المعدنية يعد الفحم الحجري طبقة متميزة يسهل تعرفها ويمكن استعمال طبقة الفحم الحجري بوصفها طبقة مرشدة إذا كانت واسعة الانتشار
- ج5: بحسب مبدأ النسقية فإن الصخور النارية تشكلت في الزمن الماضي بالكيفية نفسها التي تتشكل بها في الوقت الحاضر ولذلك يستطيع العلماء أن يدرسوا كيفية تشكل هذه الصخور حالياً لتطوير فرضياتهم حول تشكلها في الماضي
- ج6: لأن الانحلال الإشعاعي يحدث بطريقة منتظمة ويمكن توقعه فهو يعمل كساعة جيولوجية يزودنا بأعمار رقمية للعينات أكثر دقة مقارنة بطرائق التأريخ النسبي التي تزودنا بترتيب نسبي فقط
- ج7: كلاهما يستعمل في التأريخ الإشعاعي
- ج8: تساعد الرقائق الرسوبية الجيولوجي على تأريخ الترسبات الموسمية (الفصلية) للرسوبيات الجليدية
- ج9: يعني هبدأ النسقية في سياق التأريخ المطلق أن النشاط الإشعاعي يعمل في أيامنا هذه كما عمل في الزمن الماضي
- ج10: يستطيع الجيولوجي أن يختبر الفرضية بمضاهاة معالم معينة مثل المحتوى الأحفوري وأنواع الصخور والطبقات المرشدة في كل معلم، وإذا كانت المعالم متشابهة فإن ذلك يدعم الفرضية
- ج11: يمكن استعمال كل من التأريخ بالكربون المشع والمضاهاة الحلقية؛ فإذا أعطت مجموعتين من النتائج أو أكثر، وكانتا متشابهتين، فإن كلتا الطريقتين تدعم الأخرى؛ وتقلل من نسبة الخطأ
- ج12: يترك للطالب

علم الأرض والتقنية

اكتشاف أنسجة لديناصور



توضح الصورة أنسجة رخوة مكتشفة عام 2003م لديناصور التيرانوصور التي تم حفظها بالكامل، والتي تقدم أدلة حول كيفية التي عاش بها هذا الديناصور.

يكشف تحليل الأنسجة الرخوة عن المزيد من المعلومات حول النظام الغذائي، الأمر الذي يؤدي إلى مزيد من المعلومات حول بيئة هذه الأنواع في ذلك الوقت. على سبيل المثال وجد العلماء عند تحليل محتويات المعدة للهادراسور (hadrosaur) أكثر من 36 نوعاً من حبوب اللقاح، وتم العثور على عينات نباتية لا يمكن أن تعيش إلا في ظروف بيئية دافئة ورطبة. وقد أعطت الأنسجة الرخوة أدلة حول العلاقة بين شكل الديناصور والأنواع الحية الحالية. على سبيل المثال في عام 2006م أثبتت البروتينات التي عثر عليها في أنسجة ديناصور التيرانوصور وجود علاقة بين الديناصورات والطيور. كما أن نوع الكولاجين الذي عثر عليه وجد أنه أكثر تطابقاً للكولاجين عند الدجاج، وكثير من المخلوقات الحية التي ما زالت على قيد الحياة إلى اليوم.

الكتابة في الجيولوجيا

صمم ملصقاً جدارياً يوضح أمثلة على أنسجة رخوة لديناصورات تم اكتشافها حديثاً، يحتوي على المعلومات التي قد يجمعها العلماء من خلال تحليلهم لهذه الأنسجة.

من الأدوات التي يستعملها علماء الأحافير للتغيب عن أحفورة ديناصور كبير ونقلها، الطائرات العمودية والجرافات وتستخدم بعض التقنيات الحديثة مثل الصور الطبقيّة والمجاهر والنمذجة الحاسوبية لتحليل أنسجة أحافير الديناصورات المكتشفة.

أنسجة رخوية خلال صيف عام 2000م اكتشف علماء الأحافير أنسجة محفوظة جيداً تعود إلى الهادراسور (hadrosaur)، وهو نوع من الديناصورات الأكلة النباتات التي عاشت منذ ما يقارب 77 مليون سنة. وكان الجزء المثير في هذا الاكتشاف عندما أدرك العلماء أن العينة المكتشفة تتكون من الجلد وأنسجة عضلية للكتف، وأنسجة نادرة من اللوزتين. كما كشفت الحفريات عن احتواء العينة لمحتويات المعدة، والتي دلت على نوعية الغذاء الذي تناوله الديناصور قبل موته، وكانت عبارة عن سراخس وأوراق لنبات منجوليا.

نسيج عظمي لديناصور التيرانوصور في حفريات عام 2003م أدرك العلماء أن أحفورة الديناصور كانت كبيرة جداً لنقلها على متن مروحية. ونتيجة لذلك كسر وعظمة الفخذ إلى قطعتين. ويحرص العلماء على بذل كل جهد ممكن للحفاظ على العظام سليمة خلال نقل العينة. ومع ذلك أدى الكسر إلى مفاجأة؛ إذ تحفظ العظام الأنسجة الرخوة، ومنها الأنسجة الضامة التي تكوّن الدم والأوعية الدموية وأحياناً خلايا الدم.

التقنية الحديثة والتساؤلات القديمة تم اكتشاف عينات لأنسجة رخوة تعود إلى ديناصور آخر في أوائل القرن العشرين، إلا أن التقنية المستعملة لأغراض الحفظ والتحليل غير متوافرة آنذاك. ومع الاكتشافات الحديثة والتقنية الجديدة تمكن العلماء من تكوين رؤى جديدة سمحت لهم بالإجابة عن التساؤلات القديمة. وقد أمكنهم من تحليل الأنسجة الرخوة المكتشفة تحديداً ما إذا كانت الديناصورات من ذوات الدم الحار أو ذوات الدم البارد.

صمم بنفسك: تفسير الأحداث التي شكلت تاريخ الأرض

خطوات العمل

تخيل أن معهد بحوث الفضاء في مدينة الملك عبدالعزيز للعلوم والتقنية يخطط لإطلاق مسبار فضائي إلى مجرة بعيدة، وكنت أحد أفراد الفريق المكلف بعمل قائمة بأهم الأحداث الجيولوجية التي شكلت تاريخ الأرض؛ لتأخذها المركبة الفضائية معها؛ لكي تساعد أي سكان يُحتمل وجودهم في المجرة على وصف الأرض.

1. اقرأ نموذج السلامة في المختبر.
2. شكّل مجموعات، على أن تتألف كل مجموعة من ثلاث إلى أربع طلاب.
3. احصل على قائمة بالأحداث الجيولوجية التي شكلت الأرض من شبكة الإنترنت أو من المعلم على أن يكون عددها عشرة أحداث على الأقل.
4. فكر في الأحداث الجيولوجية التي تعتقد أنها من أكثر الأحداث تأثيراً في تطور الأرض في أثناء الزمن الجيولوجي.
5. ابحث عن أفضل الوسائل لعرض قائمتك.
6. احرص على موافقة المعلم على خطتك.
7. نفذ خطتك.

التحليل والاستنتاج

1. **فسر البيانات** ضع قائمتك بجانب نسخة من سلم الزمن الجيولوجي. قارن بين عدد الأحداث في كل حقبة. أي الحقبة الجيولوجية في تاريخ الأرض كان عدد الأحداث فيها أكبر ما يمكن: المبكرة أم المتأخرة؟ وضح إجابتك.
2. **قارن** قائمتك بقوائم زملائك في الصف. ما الأحداث المشتركة بين جميع القوائم؟ هل تعد هذه الأحداث المشتركة معالم شائعة؟
3. **استنتج** اختر حدثاً في حقبة الحياة المتوسطة، ثم بين كيف يستمر تاريخ الأرض إذا لم يحدث هذا الحدث؟
4. **قوم** كيف أثرت أحداث الانقراض في تغير الحياة على الأرض؟

خلفية علمية: تؤثر البراكين والزلازل وبناء الجبال والفيضانات والأحداث الجيولوجية الأخرى في تشكيل سطح الأرض والحياة عليها بصور فاعلة، غير أن تأثير هذه الأحداث في الأرض ليس متساوياً؛ فبعض الأحداث في تاريخ الأرض لها تأثير في تشكيلها أكثر من غيرها.

سؤال: ما أهم الأحداث التي مر بها تاريخ الأرض؟



تشكلت سلسلة جبال السروات التي تمتد غرب الجزيرة العربية بفعل سلسلة من الأحداث المشكلة للأرض.

الأدوات

قائمة بالأحداث الجيولوجية تجدها على شبكة الإنترنت أو التي يوفرها لك المعلم.
أقلام ملونة
لوح ملصقات (إعلانات)
سلم الزمن الجيولوجي
مراجع علمية

شارك ببياناتك

راجع مع أقرانك ناقش نتائجك حول الأحداث الأكثر أهمية والتي تعتقد أنها مسؤولة عن تشكيل تاريخ الأرض مع المجموعات الأخرى في الصف.

يستعمل العلماء طرائق متعددة لدراسة تاريخ الأرض الطويل. **الفكرة العامة**

المفردات

1-8 السجل الصخري

سلم الزمن الجيولوجي
الدهور
ما قبل الكامبري
الحقب
العصور
أحافير مرشدة
الأحيان
الانقراض الجماعي

المفاهيم الرئيسية

الفكرة الرئيسية يرتب العلماء الزمن الجيولوجي لمساعدتهم على التواصل حول تاريخ الأرض.

- يرتب العلماء سلم الزمن الجيولوجي في دهور وحقب وعصور وأحيان.
- يقسم العلماء الزمن إلى وحدات اعتمادًا على أحافير النباتات والحيوانات.
- يُشكّل دهر ما قبل الكامبري 90% من سلم الزمن الجيولوجي.
- يتغيّر سلم الزمن الجيولوجي مع زيادة المعرفة العلمية عن تاريخ الأرض.

2-8 التاريخ الجيولوجي

مبدأ النسقية
التأريخ النسبي
مبدأ الترسيب الأفقي
مبدأ تعاقب الطبقات
مبدأ القاطع والمقطوع
مبدأ الاحتواء
عدم التوافق
المضاهاة
الطبقة المرشدة
التأريخ المطلق
الانحلال الإشعاعي
التأريخ الإشعاعي
عمر النصف
التأريخ بالكربون المشع
التأريخ بالأشجار

الفكرة الرئيسية يستعمل العلماء المبادئ الجيولوجية لمعرفة ترتيب الأحداث الجيولوجية وفق حدوثها زمنيًا. كما يستعملون طرائق الانحلال الإشعاعي وبعض أنواع الرسوبيات لتحديد العمر المطلق لكثير من الصخور.

- ينص مبدأ النسقية على أن العمليات التي تحدث في أيامنا الحالية كانت موجودة منذ أن خلق الله الأرض.
- يستعمل الجيولوجيون المبادئ الجيولوجية لتحديد العمر النسبي للتعاقبات الصخرية.
- يمثل عدم التوافق انقطاعًا زمنيًا في السجل الصخري.
- يستعمل الجيولوجيون المضاهاة لمقارنة الطبقات الصخرية في مواقع جغرافية مختلفة.
- تساعد تقنيات التأريخ المطلق على تحديد الأعمار الدقيقة (بالأرقام) للأحداث الجيولوجية وطبقات الصخور.
- يمكن استعمال معدل انحلال عناصر مشعة معينة كساعة جيولوجية.
- يمكن استعمال حلقات الأشجار السنوية وعينات الجليد الأسطوانية والرقائق في تأريخ الأحداث الجيولوجية الحديثة.

ج1: سلم الزمن الجيولوجي

ج2: عدم التوافق

ج3: الانحلال الإشعاعي

ج4: الدهر

ج5: المضاهاة

ج6: كلاهما وحدات زمنية، ولكن العصور

وحدات زمنية أكبر من الأحيان

ج7: تستعمل طرائق التأريخ المطلق لتحديد

العمر بالسنوات للصخر أو لجسم آخر، بينما

يمكن استعمال التأريخ النسبي لتقدير

الأعمار وترتيب الأحداث بعضها نسبة إلى

بعض

ج8: عدم التوافق الانقطاعي: هو سطح تعرية

بين طبقتين رسوبيتين متوازيتين، اللاتوافقي:

سطح تعرية بين طبقة رسوبية تعلو صخوراً

نارية أو متحولة

ج9: المضاهاة الصخرية هي مطابقة مكاشف

صخرية محددة في منطقة ما مع مكاشف

أخرى مماثلة لها من حيث المكونات

المعدنية للصخر ونسيجه في منطقة جغرافية

أخرى، بينما المضاهاة الأحفورية المطابقة

باستعمال الأحافير وخصوصاً إلى المرشدة

منها

ج10: القاطع والمقطوع

ج11: مبدأ النسقية

ج12: الطبقة المرشدة

ج13: مبدأ الترسيب الأفقي

تثبيت المفاهيم الرئيسية

14. ما الحقبة التي انتهت بأعظم حادثة انقراض في تاريخ الأرض؟
a. حقبة الحياة الحديثة. c. حقبة الحياة القديمة.

b. حقبة الحياة المتوسطة. d. ما قبل الكامبري.

15. ما عمر ناب ماموث إذا احتوى على 25% من كمية الكربون-14 الأصلية، علماً بأن عمر النصف للكربون-14 هو 5730 سنة؟

218

a. 5,730 سنة. c. 11,460 سنة.

b. 17,190 سنة. d. 22,920 سنة.

16. ما الذي تُظهره رسوبيات البحيرات الجليدية لاستنتاج دورات الترسيب؟


a. الحلقات السنوية.

b. الرقائق.

c. عينات الجليد الأسطوانية.

d. عدم التوافق.

استعمل الشكل الآتي للإجابة عن السؤال 17.



17. ما العصر المفقود في الشكل أعلاه؟

a. الكامبري. c. إدياكاران.

b. الترياسي. d. باليوجين.

18. ما أقصر وحدة زمنية في سلم الزمن الجيولوجي؟

a. العصر. c. الحقبة.

b. الدهر. d. الحين.

19. ما المبدأ الذي يستعمله الجيولوجي عندما يُعاين منكشفاً صخرياً، ويحدد بناءً عليه أن الطبقة السفلى هي الأقدم؟

a. النسقية. c. الترسيب الأفقي.

b. تعاقب الطبقات. d. الاحتواء.

20. أي الخصائص الآتية لا تميز الأحافير المرشدة؟

a. لها عمر محدد قصير. c. لها امتداد جغرافي واسع.

b. من السهل تمييزها. d. عاشت في فترات زمنية طويلة.

ج28: الطبقة ف هي الأقدم

ج29: يوجد عدم التوافق الزاوي عند أسفل الطبقة ب لأنها ترسبت فوق الطبقة ج المائلة

ج30: ترتيب الوحدات على النحو التالي

- a. ترسبت الطبقات F,E,D,C,J,I,H أفقيًا (حسب مبدأ الترسيب الأفقي ومبدأ تعاقب الطبقات).
- b. حدوث ميلان للطبقات F,E,D,C,J,I,H.
- c. قطع الصدع G تتابع الطبقات F,E,D,C,J وحركها (مبدأ القاطع والمقطع)، ثم رفعت المنطقة فوق سطح البحر، وتعرضت الطبقات H,I,J إلى عمليات الحت والتعرية.
- d. غُمرت المنطقة بالمياه وترسبت الطبقتان B,A (مبدأ الترسيب الأفقي ومبدأ تعاقب الطبقات).

ج31: يترك للطالب

ج32: عمر الصخر = عدد فترات عمر النصف * عمر النصف

12.5% بوتاسيوم - 40 و 87.5% أرجون - 40، إذا علمت أن عمر النصف للبوتاسيوم - 40 هو 1.3 بليون سنة

21. ما الذي يوضحه الشكل أعلاه؟

- a. مبدأ النسقية.
b. مبدأ القاطع والمقطع.
c. الاحتواء.
d. المضاهاة.

ج33: تمثل النقطة الحمراء فترة عمر النصف؛ حيث تحتوي العينة نصف المشع ونصف الثابت

ج34: يمكن استعمال كل من المضاهاة الحلقية السنوية للأشجار والتأريخ بالكربون المشع

ج35: مثال على إجابة صحيحة، ينقسم

سلم الزمن الجيولوجي إلى فرعين

يوضحان أن السلم تطور بالتأريخ النسبي والتأريخ المطلق ويتفرع

التأريخ النسبي إلى فرعين يوضحان أنه يستعمل أدلة من عدم التوافق

والأحافير، ويتفرع التأريخ المطلق إلى فرعين يوضحان أنه يستعمل أدلة من

الأحافير والتأريخ الإشعاعي

ج36: كلا، الديناصورات وجدت في حقبة الحياة المتوسطة وانقرضت قبل 66 مليون سنة، أما التأريخ بالكربون المشع

فيفيد في تحديد أعمار الأشياء التي يقل عمرها عن 60000 سنة

ج22: الدهر- الحقبة - العصر - الحين

ج23: يستعمل الجيولوجيون الانقراض الجماعي لتعيين الحدود بين الوحدات

الزمنية في سلم الزمن الجيولوجي أي أنها تزودنا بنقاط مرجعية أو أسس في تقسيم

سلم الزمن الجيولوجي إلى وحدات زمنية

ج24: يستعمل التاريخ النسبي لتقدير الأعمار وترتيب الأحداث بعضها نسبة إلى

بعض بينما يمكن استعمال طرائق التأريخ المطلق لتحديد العمر (الدقيق)

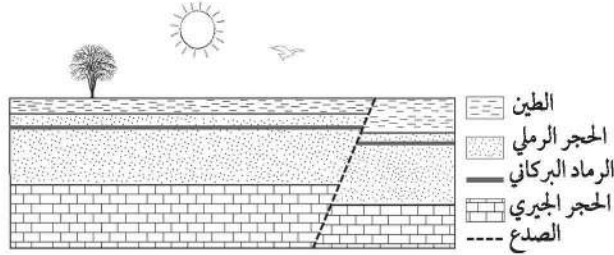
بالسنوات للصخر أو لجسم آخر

ج25: لولا وجود سلم الزمن الجيولوجي لما تمكن الجيولوجيون من التواصل فيما

بينهم، أو إجراء مضاهاة بين الأحداث بالتفصيل أو وضع عملهم في سياق معين

ج26: عدم التوافق هو سطح تعرية يمثل فترة زمنية مفقودة في السجل الصخري

استعن بالشكل الآتي للإجابة عن السؤالين 4 و 5.



4. افترض أن ميل وترتيب الطبقات الصخرية في الشكل أعلاه لم يتغيرا منذ ترسبها. فما أقدم طبقة فيه؟

- a. الطين.
b. الرماد البركاني.
c. الحجر الرملي.
d. الحجر الجيري.

5. ما الطبقة الأكثر فائدة في تحديد العمر المطلق لهذه الصخور؟

- a. الطين.
b. الرماد البركاني.
c. الحجر الرملي.
d. الحجر الجيري.

6. يتحلل البوتاسيوم - 40 إلى أرجون - 40 فإذا تم تحليل معدن البيوتاتيت فوجد أن نسبة البوتاسيوم - 40 إلى أرجون - 40 فيه هي 1:3، فما عمر هذا المعدن؟ علماً بأن عمر النصف للبوتاسيوم 1.3 بليون سنة.

- a. 0.6 بليون سنة.
b. 2.6 بليون سنة.
c. 1.3 بليون سنة.
d. 3.9 بلايين سنة.

7. ما الذي يستخدمه الجيولوجيون لمساعدتهم على تقسيم تاريخ الأرض لدراسة الصخور

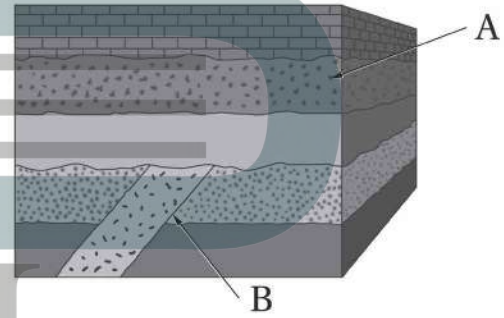
- a. الأحافير داخل الصخور.
b. تفاوت الطبقات الصخرية.
c. الصدوع المتواجدة عبر الطبقات الصخرية.
d. مكونات الصخور.

اختيار من متعدد

1. ما الوحدة الزمنية الصغرى في الوحدات الزمنية الآتية؟

- a. الدهر.
b. العصر.
c. الحقبة.
d. الحين.

استعمل الشكل الآتي للإجابة عن السؤالين 2 و 3.



2. ما المبدأ المناسب من مبادئ تحديد العمر النسبي الذي ستستعمله في تحديد عمر النقطة A في الشكل أعلاه؟

- a. مبدأ الترسيب الأفقي.
b. مبدأ تعاقب الطبقات.
c. مبدأ القاطع والمقطع.
d. مبدأ النسقية.

3. ما المبدأ المناسب لتحديد عمر النقطة B؟

- a. مبدأ الترسيب الأفقي.
b. مبدأ تعاقب الطبقات.
c. مبدأ القاطع والمقطع.
d. مبدأ النسقية.

النموذج الحراري المائي. هناك عنصران داخل الذهب هما: الرينيوم والأوزميوم، وهما نظيران مشعان يعملان بمثابة ساعة إشعاعية؛ إذ يتحلل الرينيوم إلى الأوزميوم بعمر نصف طويل جداً يصل إلى 42.3 بليون سنة تقريباً، وهي الفترة التي تنقضي على تحول نصف عينة من الرينيوم. ويستطيع العلماء تحديد عمر الذهب من نسبة الرينيوم إلى الأوزميوم التي تُقاس عن طريق إذابة حبيبات الذهب في حمض. وجد أن عمر الذهب في أماكن راند في جنوب إفريقيا ثلاثة بلايين سنة، وهو أكبر بربع بليون سنة من الصخور المحيطة بالذهب، وهذا يدعم نموذج المتابر.

12. ما عمر النصف لعنصر الرينيوم؟

a. 42.3 سنة.

b. 42.3 مليون سنة.

c. 42.3 ألف سنة.

d. 42.3 بليون سنة.

13. لماذا أجريت هذه الدراسة؟

a. لتحديد منشأ ترسبات الذهب.

b. لدحض النموذج الحراري المائي.

c. لدعم نموذج المتابر.

d. لتوضيح التحلل الإشعاعي.

ج9: ينص مبدأ النسقية أن العمليات

الجيولوجية التي تحدث اليوم هي نفسها التي

كانت تحدث منذ تشكل الأرض وضع جيمس

هاتون هذا المبدأ ليفهم الأرض في الزمن

الماضي

ج10: يساعد سلم الزمن الجيولوجي العلماء

على توضيح العلاقة بين الأحداث الجيولوجية

والتغيرات البيئية بطريقة منظمة ويساعد

على تصنيف الأحافير زمنياً وتعرف أنواع

المخلوقات الحية التي عاشت على سطح

الأرض

ج11: عملية التأريخ النسبي تعطي عمراً

تقديرياً للصخور وتحدد الأحداث والأقدم

ويستعمل فيها المبادئ النسبية؛ أما التأريخ

المطلق فيعطي عمر الصخور بشكل دقيق

8. لماذا يعد استخدام الانحلال الإشعاعي للعناصر

المشعة مفيداً في التأريخ المطلق للصخور؟

a. لأنه يحدث فقط في الأحافير الموجودة في الصخر ولا يحدث في الصخر نفسه.

b. لأنه يحدث فقط في الصخر ولا يحدث في الأحافير الموجودة فيه.

c. لأن معدل الانحلال ثابت بغض النظر عن الخصائص الفيزيائية للصخر، ومنها درجة الحرارة والضغط والبيئة المحيطة.

d. لأن معدل الانحلال يتأثر بالخصائص الفيزيائية للصخر، ومنها درجة الحرارة والضغط والبيئة المحيطة.

أسئلة الإجابات القصيرة

9. وضح كيف رُبطت أعمال العالم جيمس هاتون بمبدأ النسقية؟

10. ما الغرض من سلم الزمن الجيولوجي؟

11. كيف تختلف عملية التأريخ النسبي عن عملية التأريخ المطلق؟

القراءة والاستيعاب

تأريخ الذهب

ساعد التحلل الإشعاعي لفلز داخل شذرات الذهب في جنوب إفريقيا العلماء على تحديد منشأ أكبر ترسب للذهب في العالم. يشير نموذج المتابر إلى أن الذهب أقدم من الصخور المحيطة به، بينما يشير النموذج الحراري المائي إلى أن ينابيع المياه الساخنة رسبت الذهب داخل الصخور. لذا لتحديد منشأ الذهب علينا أن نحدد عمره؛ فإذا كان الذهب أقدم من الصخور الموجودة فيها فإنه ينبغي أن تحيط الصخور به من كل جانب، وهذا يعزز نموذج المتابر. أما إذا كان الذهب أقل عمراً من الصخور، فهذا يعني أن السوائل قد تسربت إليها ورسبت الذهب، وهذا يدعم



الجلول اون لاين
hulul.online

مرجعيات اطالاب

قائمة المحتويات

Reference Tables

الجداول المرجعية :

- Minerals with Metallic Luster - صفات المعادن ذات البريق الفلزي
- Minerals with Nonmetallic Luster - صفات المعادن ذات البريق الأفلزي
- Properties of Rocks - خواص الصخور
- Geological Time Scale - سلم الزمن الجيولوجي
- Periodic Table of the Elements - الجدول الدوري للعناصر

Reference Maps

الخرائط المرجعية :

- Metallic Minerals in the Kingdom of Saudi Arabia - المعادن الفلزية في المملكة العربية السعودية
- Oceanic Ridge Map - خريطة ظهور المحيطات
- Plate Boundaries - حدود الصفائح
- Geology of the Arabian Peninsula - جيولوجية شبه الجزيرة العربية
- Seismic Station Locations - مواقع محطات الرصد الزلزالي
- Global Earthquake Epicenter Locations - مواقع المراكز السطحية للزلازل في العالم

Reference Geological Features

المعالم الجيولوجية المرجعية

- Harrats in Kingdom of Saudi Arabia - الحرات في المملكة العربية السعودية

Glossary

المصطلحات

صفات المعادن ذات البريق الفلزي

الجدول -1

الاسم المعدن وصيفته الكيميائية	اللون	المخدش	القساوة	الوزن النوعي	النظام البلوري	الانقسام والمسكرو	الاستعمالات وخصائص اخرى
البورنيت Bornite Cu_5FeS_4	برونزي باهت إلى أزرق غامق أرجواني	رمادي-أسود	3	4.9-5.4	هرم رباعي الأوجه	مكسر غير مستو (حواف مستنة)	مصدر للنحاس ويسمى خام الطاووس بسبب اللون الأرجواني اللامع.
الكالكوبيريت Chalcopyrite $CuFeS_2$	أصفر إلى أصفر ذهبي	أسود مخضر	3.5-4	4.2	رباعي الأوجه	مكسر غير مستو (حواف مستنة)	الخام الرئيس للنحاس.
الكرومايت Chromite $FeCr_2O_4$	أسود أو بني	بني إلى أسود	5.5	4.6	مكعب	مكسر غير منتظم	خام الكروم، غير القابل للصدأ، صلب يستعمل لصناعة السبائك.
النحاس Copper Cu	نحاسي أحمر	نحاسي أحمر	3	8.5-9	مكعب	مكسر متفتت	يستعمل في صناعة العملات المعدنية والأنايب والمزاريب، والأسلاك، أواني الطبخ، والمجوهرات، طباعة لوحات الديكور.
الجالينا Galena PbS	رمادي	رمادي إلى أسود	2.5	7.5	مكعب	الانقسام مكعبات واضحة	مصدر الرصاص الذي يستعمل في صناعة الأنايب، الدروع لأشعة إكس، وصيد الأسماك ومعدات الفطاسين.
الذهب Gold Au	أصفر ذهبي	أصفر	2.5-3	19.3	مكعب	مكسر متفتت	يستعمل في المجوهرات والنقود، رقائق الذهب، حشوات للأسنان، والأدوية؛ لا يصدأ.
الجرافيت Graphite C	أسود إلى رمادي	أسود إلى رمادي	1-2	2.3	سداسي	سطح انقسام واحد	يستعمل في أقلام الرصاص ومواد التشحيم، قضبان للسيطرة على بعض المفاعلات النووية الصغيرة، أقطاب البطارية.
الهيماتيت Hematite Fe_2O_3	أسود أو بني محمر	أحمر أو بني محمر	6	5.3	سداسي	مكسر غير منتظم	خام الحديد، يصهر في الأفران مع الفحم لإنتاج الفولاذ الصلب.
الماجنتيت Magnetite Fe_3O_4	أسود	أسود	6	5.2	مكعب	مكسر محاري	خام الحديد، مغناطيس طبيعي، ويسمى حجر المغناطيس.
البيريت Pyrite FeS_2	أصفر نحاسي فاتح	أسود مخضر	6.5	5.0	مكعب	مكسر غير مستو (حواف مستنة)	غني بالحديد، يسمى ذهب المجانين لأن مظهره يشبه الذهب، ويتأكسد إلى معدن الليمونايت.
البيرروتيت Pyrrhotite $Fe_{1-x}S$	برونزي	رمادي-أسود	4	4.6	سداسي	مكسر غير مستو (حواف مستنة)	خام للحديد والكبريت، وقد يكون ممغنطاً.
الفضة Silver Ag	أبيض فضي بدون بريق إلى أسود	رمادي فاتح إلى فضي	2.5	10-12	مكعب	مكسر متفتت	يستعمل في صك النقود، حشوات الأسنان، ورقائق الفضة، الأسلاك، الموصلات.

صفات المعادن ذات البريق الأفلزي

الجدول -2

الاسم المعدن وصيغته الكيميائية	اللون	المخدش	القساوة	الوزن النوعي	التنظام البلوري	الانقسام والمسكر	الاستعمالات وخصائص اخرى
الأوجيت Augite (Ca, Na) (Mg, Fe, Al) (Al, Si) ₂ O ₆	أسود	شفاف	6	3.3	أحادي الميل	الانقسام في اتجاهين	المقطع العرضي للبلورة على شكل مربع أو مضلع ثماني.
الكوروندم Corundum Al ₂ O ₃	شفاف، أزرق، بني، أخضر أبيض، وردي، أحمر	شفاف	9	4.0	سداسي	مكسر غير مستو	يستعمل لشحذ القطع أكثر حدة، والملمون منه الكوروندم الأحمر حجر كريم (الياقوت) والأزرق الحجر الكريم الزفير.
الفلسبار البوتاسي Feldspar (orthoclase) KAlSi ₃ O ₈	شفاف، أبيض إلى رمادي، أخضر، أصفر	شفاف	6	2.5	أحادي الميل	مستويان من الانقسام متعامدين	لا يذوب في الأحماض ويستعمل في صناعة البورسلان.
الفلسبار البلاجيوكلزي Feldspar (plagioclase) NaAlSi ₃ O ₈ CaAl ₂ Si ₃ O ₈	رمادي، أخضر، أبيض	شفاف	6	2.5	ثلاثي الميل	مستويان من الانقسام يميلان ويتقابلان بزاوية 86°	يستعمل في صناعة الخزف.
الفلورايت Fluorite CaF ₂	شفاف، أبيض، أزرق، أخضر، أحمر، أصفر، أرجواني	شفاف	4	3-3.2	مكعب	تظهر مستويات انقسام	يستعمل في صناعة الأجهزة البصرية، يتوهج تحت الأشعة فوق البنفسجية.
الجارنت Garnet (Mg, Fe, Ca, Mn) ₃ (Al, Fe, Cr) ₂ , (SiO ₄) ₃	أصفر غامق، أحمر، أخضر، أسود	شفاف	7.5	3.5	مكعب	مكسر محاري	يستعمل كمادة صاقلة، ويستعمل في صناعة المجوهرات.
الهورنبلند Hornblende Ca ₂ Na (Mg, Fe ²⁺) ₄ (Al, Fe ₃ , Ti) ₃ , Si ₈ O ₂₂ (O, OH) ₂	أخضر إلى أسود	رمادي إلى أبيض	5-6	3.4	أحادي الميل	انقسام في اتجاهين	ينكسر الضوء عن حوافه الرقيقة، مقطع بلوراته من 6 أضلاع.
الليمونايت Limonite (أكسيد الحديد المائي)	أصفر، بني، أسود	أصفر، بني	5.5	2.7-4.3	غير محدد	مكسر محاري	مصدر للحديد، سهل التجوية والتفتت، مادة ملونة للتربة.
الأوليفين Olivine (Mg, Fe) ₂ SiO ₄	أخضر زيتوني	شفاف	6.5	3.5	معيني	مكسر محاري	حجر كريم، رمل مقاوم للانصهار، يستعمل في تبطين أفران الصهر.
الكوارتز Quartz SiO ₂	شفاف، ألوان مختلفة.	شفاف	7	2.6	سداسي	مكسر محاري	يستعمل في صناعة: الزجاج، الأجهزة الإلكترونية، المذياع، الحواسيب، الساعات، بعض أنواعه معادن نفيسة.
التوباز Topaz Al ₂ SiO ₄ (F, OH) ₂	شفاف، أبيض، أصفر، وردي، أزرق باهت	شفاف	8	3.5	معيني	مستوى انقسام أساسي	حجر ثمين.

خواص الصخور

الجدول 3-

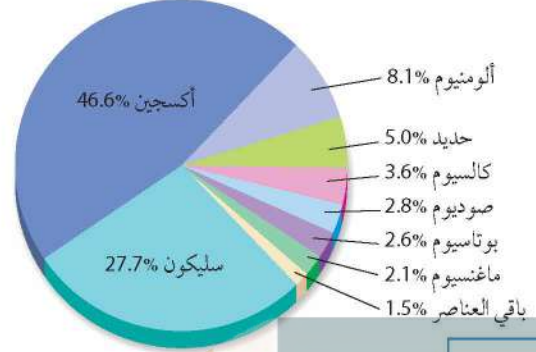
نوع الصخر	اسم الصخر	صفات الصخر
نارية جوفية Igneous (intrusive)	الجرانيتيت granite	بلورات معدنية كبيرة من الكوارتز والفلسبار والهورنبلند والمايكا. لون الصخر فاتح عادة.
	الديوريت diorite	بلورات كبيرة من الفلسبار والهورنبلند والمايكا وكميات من الكوارتز أقل من الجرانيت، لونها متوسط.
	الجابرو gabbro	بلورات معدنية كبيرة من الفلسبار والهورنبلند والأوجيت والأوليفين والمايكا ولا يوجد كوارتز، لونها غامق.
نارية سطحية Igneous (extrusive)	الريوليت rhyolite	بلورات معدنية صغيرة من الكوارتز والفلسبار والهورنبلند والمايكا. لون الصخر عادة فاتح.
	الأنديزيت andesite	بلورات صغيرة من معادن الفلسبار والهورنبلند والمايكا وكميات قليلة من الكوارتز أقل من الريوليت، لونها متوسط.
	البازلت basalt	بلورات معدنية صغيرة من الفلسبار والهورنبلند والأوجيت والأوليفين والمايكا ولا يوجد كوارتز، لونها غامق. مع احتمال وجود فقاعات.
	الأوبسيديان obsidian	نسيج زجاجي، لا يمكن رؤية الحبيبات، زجاج بركاني، مكسر محاري، اللون عادة أسود، ويمكن رؤيته باللون الأحمر - بني محمر أو أسود مع بقع بيضاء.
	الخفاف pumice	نسيج رغوي، يطفو على الماء، عادة لونه فاتح.
رسوبية فتاتية Sedimentary (clastic)	الكونجلوميرات conglomerate	حبيباته كبيرة مستديرة، بحجم الحصى أو الجلاميد.
	الحجر الرملي sandstone	يتراوح حجم حبيباته ما بين 2mm - $\frac{1}{16}$ ، أنواعه متعددة.
	حجر الطمي siltstone	حجم حبيباته أقل من الرمل لكن أكبر من الطين.
	الطُفل shale	أصغر حبيبات ولونه غامق عادة.
رسوبية كيميائية وبيوكيميائية Sedimentary chemical (or biochemical)	الحجر الجيري limestone	يتكون بشكل رئيس من معدن الكالسيت، وعادة يتكون في البحار والبحيرات والأنهار والكهوف، وغالباً يحتوي على أحافير. ويتفاعل بسهولة مع حامض HCl المخفف.
	الفحم coal	يتكون في المستنقعات والبيئات المائية الضحلة، طبقات متماسكة من المواد العضوية، ويشكل رئيس من بقايا النباتات.
رسوبية كيميائية Sedimentary (chemical)	الملح الصخري rock salt	يتكون عادة من تبخر مياه البحر.
متحولة متورقة (صفائحية) Metamorphic	النائيس gneiss	تظهر فيه طبقات واضحة بسبب وجود أشرطة متبادلة من معادن مختلفة الألوان، عادة ينتج من تحول الجرانيت.
	الشيست schist	ترتيب واضح للمعادن الصفائحية (رقائق) مثل المايكا. وينتج بشكل رئيس من تحول الطُفل والفيليت.
	الفيليت phyllite	مظهر لامع أو حريري، يبدو سطح الصخر مجعداً. وينتج من تحول الطُفل والإردواز.
متحولة غير متورقة (غير صفائحية) Metamorphic (nonfoliated)	الإردواز slate	ينتج من تحول الطُفل وهو صلب وأثقل وأكثر لمعاً من الصخر الأصلي.
	الرخام marble	تظهر فيه بلورات الكالسيت أو الدولومايت، وينتج من تحول الصخور الجيرية.
	الحجر الصابوني soapstone	يتكون بشكل رئيس من معدن التلك، طري، وملمسه دهني أو صابوني.
	الكوارتزيت quartzite	صلب جداً، حبيباته متماسكة ومتلاحمة ببلورات كوارتز، يتحول من الحجر الرملي.

سلم الزمن الجيولوجي

الدهر	الحقبة	العصر	الزمن	الفترة الزمنية (my)	التنوع الجيولوجي والحيوي	الحركات الأرضية والسلاسل الجبلية				
دهر الحياة الظاهرة	حقبة الحياة الحديثة	الرياضي	هولوسين	1.8	<p>الإنسان.</p> <p>ازدهار معظم الثدييات العملاقة ثم انقراضها.</p> <p>عائلات الثدييات الحديثة والطيور والحيول والفيلة.</p> <p>ظهور الحشائش على نحو واضح.</p> <p>الماموث الصوفي، أسلاف الكلاب والذئبة.</p> <p>نمو سريع، وتنوع الثدييات والنباتات الزهرية.</p> <p>تنوع الثدييات (أكلات اللحوم، عجول البحر، ذوات الحوافر، ذوات القرون، والثدييات الكبيرة بحجم الدب وفرس النهر).</p> <p>النباتات.</p>	<p>حركات أرضية بنائية في معظم نصف الكرة الأرضية الشمالي.</p> <p>انفصال الصفيحة العربية عن الإفريقية.</p> <p>الحركات الألبية</p> <p>سلاسل جبال الألب والهملايا</p> <p>و زاجروس وطوروس،</p> <p>واستمرار ارتفاع جبال الأنديز</p>				
			بلايستوسين							
		الترياسي	ثيوجين	مليوسين			65.5	<p>انقراض الديناصورات والأمويت</p> <p>ظهور الطيور الحديثة</p> <p>بداية ظهور النباتات الزهرية المغطت البذور.</p>	<p>استمرار تكون جبال الأنديز</p> <p>بداية تكون جبال الأنديز</p> <p>بداية الحركة الأنديزية.</p>	
			ثيوجين	مليوسين						
		الجوراسي	ثيوجين	عالي			145.5	<p>بداية ظهور الثدييات والقناظذ الأرضية.</p> <p>ظهور الطيور الأولى</p> <p>سيطرة الديناصورات على القارات وسماؤها.</p> <p>ظهور الراسمديات ذات الأصداف المتلفة المعروفة باسم الأمونيت.</p> <p>انقسام بانجيا إلى كتلتين قاريتين، هما: غوندوانا، ولوراسيا</p> <p>ظهور العديد من البرمائيات الضخمة.</p> <p>انتشار النباتات المعراة البذور.</p>	<p>بداية الحركة الأنديزية.</p>	
				متوسط						عالي
		الترياسي	ثيوجين	عالي			199.6	<p>انتشار النباتات المعراة البذور.</p>	<p>بداية الحركة الأنديزية.</p>	
				متوسط						عالي
		دهر الحياة القديمة	حقبة الحياة القديمة	البييري			عالي	299	<p>تكون قارة بانجيا</p> <p>انتشار الزواحف الشراعية الظهر.</p> <p>انتشار النباتات البذرية المعراة البذور، انتشار النباتات.</p> <p>انتشار النباتات الوعائية اللازهرية (السرخسيات) المسؤولة عن تكون الفحم الحجري.</p> <p>تطور الأسماك</p>	<p>الحركة الهرسينية أدت إلى تكوّن الجبال الهرسينية والفارسكية والإبلاشية.</p>
							متوسط			
الكريوني	بنسلطينين			359.2	<p>انتشار النباتات الوعائية اللازهرية (السرخسيات) المسؤولة عن تكون الفحم الحجري.</p> <p>تطور الأسماك</p>	<p>الحركة الكاليدونية</p>				
	ميسينين						عالي			
الديفوني	الديفوني			عالي	416	<p>العقارب المائية.</p> <p>بداية ظهور الأسماك.</p> <p>الجرابتوليت.</p> <p>تنوع اللافقاريات.</p> <p>تشكل قارة غوندوانا.</p> <p>انتشار واسع للحياة البحرية.</p> <p>الترايبوليت.</p>	<p>الحركة الكاليدونية</p>			
				متوسط				عالي		
السيلوري	السيلوري			عالي	443.7	<p>العقارب المائية.</p> <p>بداية ظهور الأسماك.</p> <p>الجرابتوليت.</p> <p>تنوع اللافقاريات.</p> <p>تشكل قارة غوندوانا.</p> <p>انتشار واسع للحياة البحرية.</p> <p>الترايبوليت.</p>	<p>الحركة الكاليدونية</p>			
				متوسط				عالي		
الأردوفيتشي	الأردوفيتشي			عالي	488.3	<p>العقارب المائية.</p> <p>بداية ظهور الأسماك.</p> <p>الجرابتوليت.</p> <p>تنوع اللافقاريات.</p> <p>تشكل قارة غوندوانا.</p> <p>انتشار واسع للحياة البحرية.</p> <p>الترايبوليت.</p>	<p>الحركة الكاليدونية</p>			
				متوسط				عالي		
الكامبري	الكامبري	هيريوجيان	542	<p>العقارب المائية.</p> <p>بداية ظهور الأسماك.</p> <p>الجرابتوليت.</p> <p>تنوع اللافقاريات.</p> <p>تشكل قارة غوندوانا.</p> <p>انتشار واسع للحياة البحرية.</p> <p>الترايبوليت.</p>	<p>الحركة الكاليدونية</p>					
		سلسلة 3				سلسلة 2				
الكامبري	الكامبري	تريديفان	542	<p>العقارب المائية.</p> <p>بداية ظهور الأسماك.</p> <p>الجرابتوليت.</p> <p>تنوع اللافقاريات.</p> <p>تشكل قارة غوندوانا.</p> <p>انتشار واسع للحياة البحرية.</p> <p>الترايبوليت.</p>	<p>الحركة الكاليدونية</p>					
		سلسلة 3				سلسلة 2				
دهر الحياة الخافية (ما قبل الكامبري)				4560	<p>طحالب خضراء وحيوانات ذوات هيكل طرية.</p> <p>تكون أساس القارات (الدرع القارية).</p> <p>بكتيريا لاهوائية.</p> <p>تشكل كوكب الأرض البدائي، تكون أغلفة الأرض الرئيسة، سقوط النيازك، النشاط البركاني.</p>	<p>الحركة الهورانية</p>				

الجدول الدوري للعناصر

العناصر في القشرة الأرضية



يشكل الأكسجين حوالي 21% من الغلاف الجوي الأرضي، وثالث الماء، كما يعدّ مكوناً رئيساً في معظم المعادن والصخور.

تفاعل الكربون يجعل منه عنصراً طبيعياً يتوافر في عدة أشكال وعدة مواد. ويدخل في تكوين كل من الجرافيت والفحم والألماس، بينما يكون مركبه الحجر الجيري.

يكون عنصر السيليكون حوالي 28% من القشرة الأرضية. ويرتبط مع عدة عناصر أخرى ليكون الصخور لسليكانية.

			13	14	15	16	17	18			
			Boron 5 B 10.811	Carbon 6 C 12.011	Nitrogen 7 N 14.007	Oxygen 8 O 15.999	Fluorine 9 F 18.998	Neon 10 Ne 20.180			
			Aluminum 13 Al 26.982	Silicon 14 Si 28.086	Phosphorus 15 P 30.974	Sulfur 16 S 32.065	Chlorine 17 Cl 35.453	Argon 18 Ar 39.948			
10	11	12	Nickel 28 Ni 58.693	Copper 29 Cu 63.546	Zinc 30 Zn 65.409	Gallium 31 Ga 69.723	Germanium 32 Ge 72.64	Arsenic 33 As 74.922	Selenium 34 Se 78.96	Bromine 35 Br 79.904	Krypton 36 Kr 83.798
			Palladium 46 Pd 106.42	Silver 47 Ag 107.868	Cadmium 48 Cd 112.411	Indium 49 In 114.818	Tin 50 Sn 118.710	Antimony 51 Sb 121.760	Tellurium 52 Te 127.60	Iodine 53 I 126.904	Xenon 54 Xe 131.293
			Platinum 78 Pt 195.078	Gold 79 Au 196.967	Mercury 80 Hg 200.59	Thallium 81 Tl 204.383	Lead 82 Pb 207.2	Bismuth 83 Bi 208.980	Polonium 84 Po (209)	Astatine 85 At (210)	Radon 86 Rn (222)
			Darmstadtium 110 Ds (269)	Roentgenium 111 Rg (272)	Ununbium 112 Cn (277)	Ununtrium * 113 Uut (Unknown)	Flerovium 114 Fl (289)	Ununpentium * 115 Uup (Unknown)	Livermorium 116 Lv (298)	Ununseptium * 117 Uus (Unknown)	Ununoctium * 118 Uuo (Unknown)

يعدّ الهيليوم من العناصر الأكثر شيوعاً في الكون. وينتج بشكل رئيس عن الاندماج النووي لحوالي 98% من النجوم.

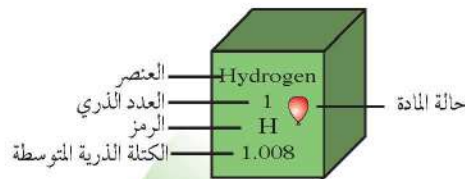
يشكل عنصر الكلور نصف مكونات أكثر الأملاح شيوعاً في كل من المحيطات وترسيبات الملح على اليابسة.

ينتج عنصر الرادون عن اضمحلال عنصر الراديوم وهو أثقل الغازات المعروفة. وللراديوم -222 مخاطر بيئية حيث يؤثر في جودة الهواء.

أسمى ورموز العناصر 113، 114، 115، 117، 118 مؤقتة، وسيتم اختيار رموز وأسما نهائية لها فيما بعد من الاتحاد الدولي للكيمياء البحتة والتطبيقية (IUPAC).

Gadolinium 64 Gd 157.25	Terbium 65 Tb 158.925	Dysprosium 66 Dy 162.500	Holmium 67 Ho 164.930	Erbium 68 Er 167.259	Thulium 69 Tm 168.934	Ytterbium 70 Yb 173.04	Lutetium 71 Lu 174.967
Curium 96 Cm (247)	Berkelium 97 Bk (247)	Californium 98 Cf (251)	Einsteinium 99 Es (252)	Fermium 100 Fm (257)	Mendelevium 101 Md (258)	Nobelium 102 No (259)	Lawrencium 103 Lr (262)

PERIODIC TABLE OF THE ELEMENTS



يستعمل عنصر التيتانيوم بعدة أشكال، وهو عنصر شائع في السبائك، ويستعمل في الألعاب النارية. والشكل غير النقي منه يكون الزفير الأزرق. وكذلك في الزبرجد الأخضر.

يتوافر عنصر الحديد في الكون، فله نواة مستقرة جداً. وفي العادة يخلط مع فلزات أخرى أو مع الكربون لحمايته من الصدأ.

عنصر الصوديوم والبوتاسيوم أكثر العناصر شيوعاً في أملاح المحيط.

يتكون معدن الكالسيت من الكالسيوم والأكسجين والكربون، وأكثر الصخور التي تتكون من الكالسيت على الأرض هو الحجر الجيري.

1	2	3	4	5	6	7	8	9				
Hydrogen 1 H 1.008	Lithium 3 Li 6.941	Beryllium 4 Be 9.012	Sodium 11 Na 22.990	Potassium 19 K 39.098	Calcium 20 Ca 40.078	Scandium 21 Sc 44.956	Titanium 22 Ti 47.867	Vanadium 23 V 50.942	Chromium 24 Cr 51.996	Manganese 25 Mn 54.938	Iron 26 Fe 55.845	Cobalt 27 Co 58.933
Rubidium 37 Rb 85.468	Strontium 38 Sr 87.62	Yttrium 39 Y 88.906	Zirconium 40 Zr 91.224	Niobium 41 Nb 92.906	Molybdenum 42 Mo 95.94	Technetium 43 Tc (98)	Ruthenium 44 Ru 101.07	Rhodium 45 Rh 102.906				
Cesium 55 Cs 132.905	Barium 56 Ba 137.327	Lanthanum 57 La 138.906	Hafnium 72 Hf 178.49	Tantalum 73 Ta 180.948	Tungsten 74 W 183.84	Rhenium 75 Re 186.207	Osmium 76 Os 190.23	Iridium 77 Ir 192.217				
Francium 87 Fr (223)	Radium 88 Ra (226)	Actinium 89 Ac (227)	Rutherfordium 104 Rf (261)	Dubnium 105 Db (262)	Seaborgium 106 Sg (266)	Bohrium 107 Bh (264)	Hassium 108 Hs (277)	Meitnerium 109 Mt (268)				

الرقم المحاط بقوسين هو العدد الكتلي للنظير الأطول عمراً للعنصر.

عناصر اللانثانيدات

Cerium 58 Ce 140.116	Praseodymium 59 Pr 140.908	Neodymium 60 Nd 144.24	Promethium 61 Pm (145)	Samarium 62 Sm 150.36	Europium 63 Eu 151.964
-------------------------------	-------------------------------------	---------------------------------	---------------------------------	--------------------------------	---------------------------------

عناصر الأكتينيدات

Thorium 90 Th 232.038	Protactinium 91 Pa 231.036	Uranium 92 U 238.029	Neptunium 93 Np (237)	Plutonium 94 Pu (244)	Americium 95 Am (243)
--------------------------------	-------------------------------------	-------------------------------	--------------------------------	--------------------------------	--------------------------------

اليورانيوم من أكثر العناصر الطبيعية كثافة. ويوجد في معظم الصخور، ويستخدم المشع منه في إنتاج الطاقة النووية. أما في شكله الشائع فيستخدم في حمايتنا من الإشعاع.

المعادن الفلزية في المملكة العربية السعودية

تصاحب العديد من المعادن الفلزية والخامات الاقتصادية أنواعاً محددة من الصخور. فالذهب مثلاً يتواجد عادةً في عروق الكوارتز المصاحبة لصخور الجرانيت أو لصخور الديورايت والجرانوديورايت، ويوجد كذلك في الصخور البركانية الغنية بالسيليكا. بينما تصاحب خامات الكوبالت والنيكل والتيتانيوم الصخور النارية القاعدية وفوق القاعدية، ومنها البيردوتيت والسربنتينيت.

وتنتشر المعادن الفلزية في مواقع عديدة من المملكة العربية السعودية، ولكنها تتركز في صخور منطقة الدرع العربي، التي تقع في المنطقة الغربية من المملكة على امتداد ساحل البحر الأحمر، ومن أهم المعادن الفلزية التي تتواجد فيها: الذهب، والفضة، والنحاس. ومن المناجم التي يُستخلص منها الذهب: مهد الذهب، والأمار، والصخيرات، ومن المناجم التي تُظهر الدراسات الجدوى الاقتصادية من استغلال الذهب منها:

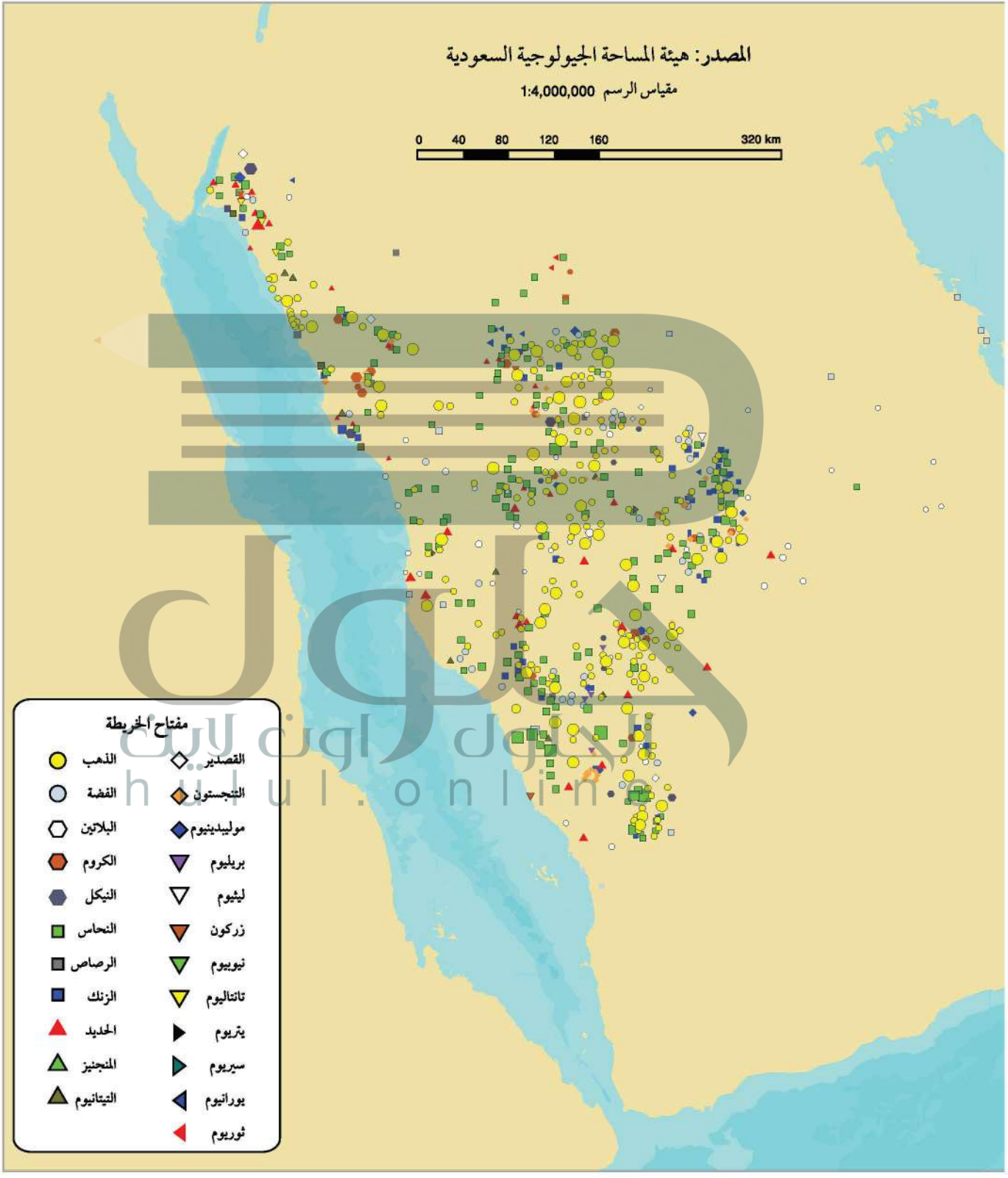
حجر حمضة، وظلم، والدويجي.

وكانت بداية التنقيب عن المعادن الاقتصادية في المملكة عام 1930م، عندما طلب المغفور له الملك عبد العزيز آل سعود من الجيولوجي الأمريكي توثيشل التنقيب عن النفط والمعادن الاقتصادية في أراضي المملكة،

وقد أكد هذا الجيولوجي تواجد الذهب في منطقة الحجاز. ومن ثم بدأ التنقيب عن الذهب واستغلاله من منجم مهد الذهب منذ عام 1939م بإشراف نقابة التعدين العربية السعودية.

وفي عام 1960م تم إنشاء المديرية العامة للثروة المعدنية، ثم تغير اسمها في عام 1993م إلى وكالة الوزارة للثروة المعدنية؛ وكانت الجهة المنوط بها البحث والتنقيب واستغلال الثروات المعدنية الاقتصادية في المملكة. وفي عام

1999م تم تأسيس هيئة المساحة الجيولوجية السعودية التي أصبحت مسؤولة عن عمليات البحث والتنقيب عن المعادن في المملكة. وتتبنى الهيئة سياسات تعتمد على إجراء العديد من الدراسات الجيوفيزيائية والجيوكيميائية، واستخدام تقنيات الاستشعار عن بُعد، آخذين في الاعتبار النظريات الحديثة حول نشأة المعادن الاقتصادية وتكوّنها؛ من أجل تحديد أماكن المعادن الفلزية وكمياتها، ودراسة الجدوى الاقتصادية من استغلالها.




مرجعيات الطالب

خريطة ظهور المحيطات

خرائط مرجعية





ظهر المحيط
الأطلسي

أوروبا

شبه
الجزيرة
العربية

أفريقيا

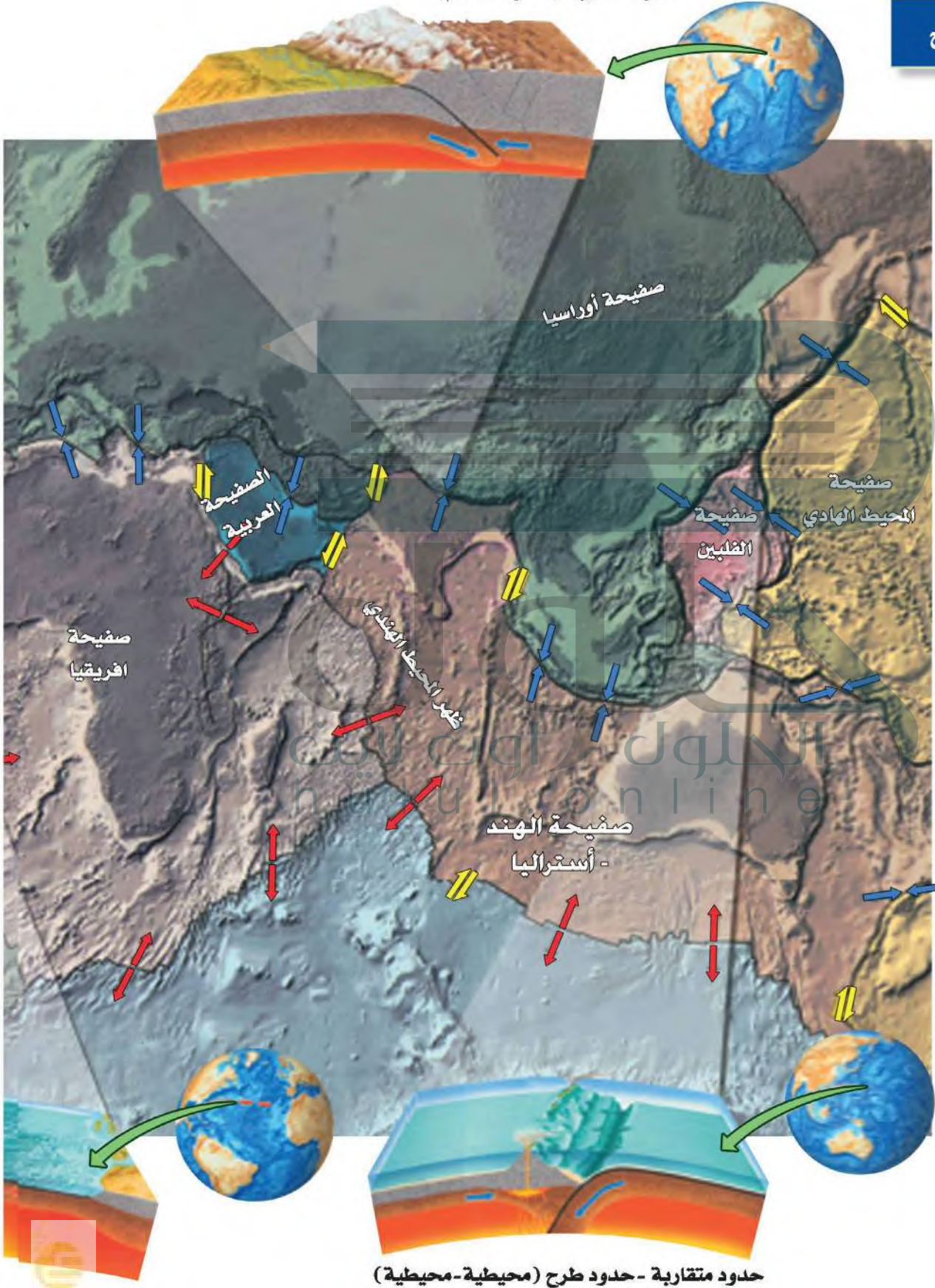
أمريكا
الجنوبية

ظهر المحيط
الهندي

ظهر المحيط
القطبي الجنوبي

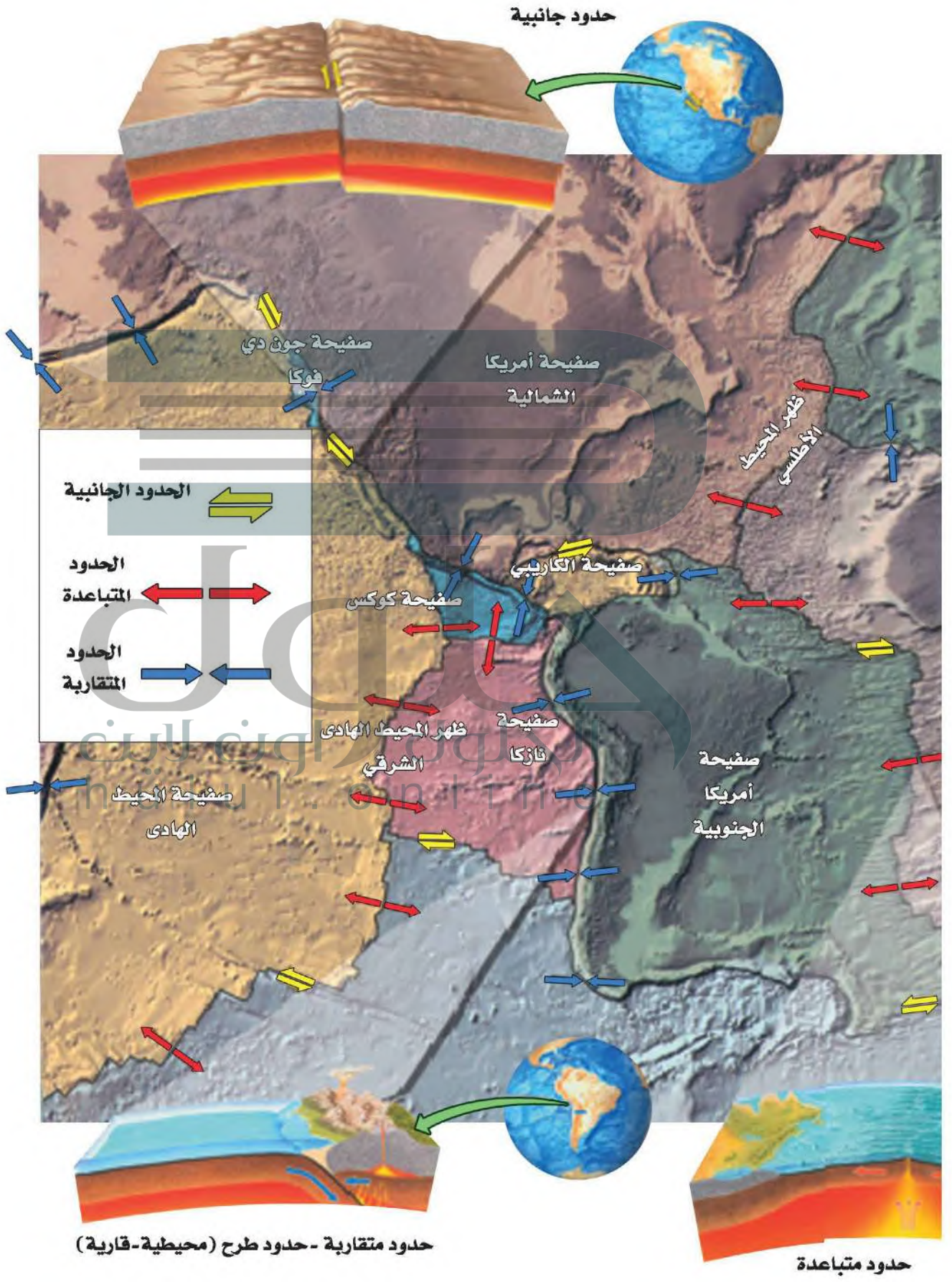
حدود متقاربة (حدود تصادم)

حدود الصفائح



خرائط مرجعية

حدود متقاربة - حدود طرح (محيطية-محيطية)



مرجعيات الطالب

جيولوجية شبه الجزيرة العربية

خرائط مرجعية

الجلول
الجلول اون لاين
hulul.online



خرائط مرجعية

صخور بركانية (حرات)

الصفحة الإفريقية

صخور الدرع العربي

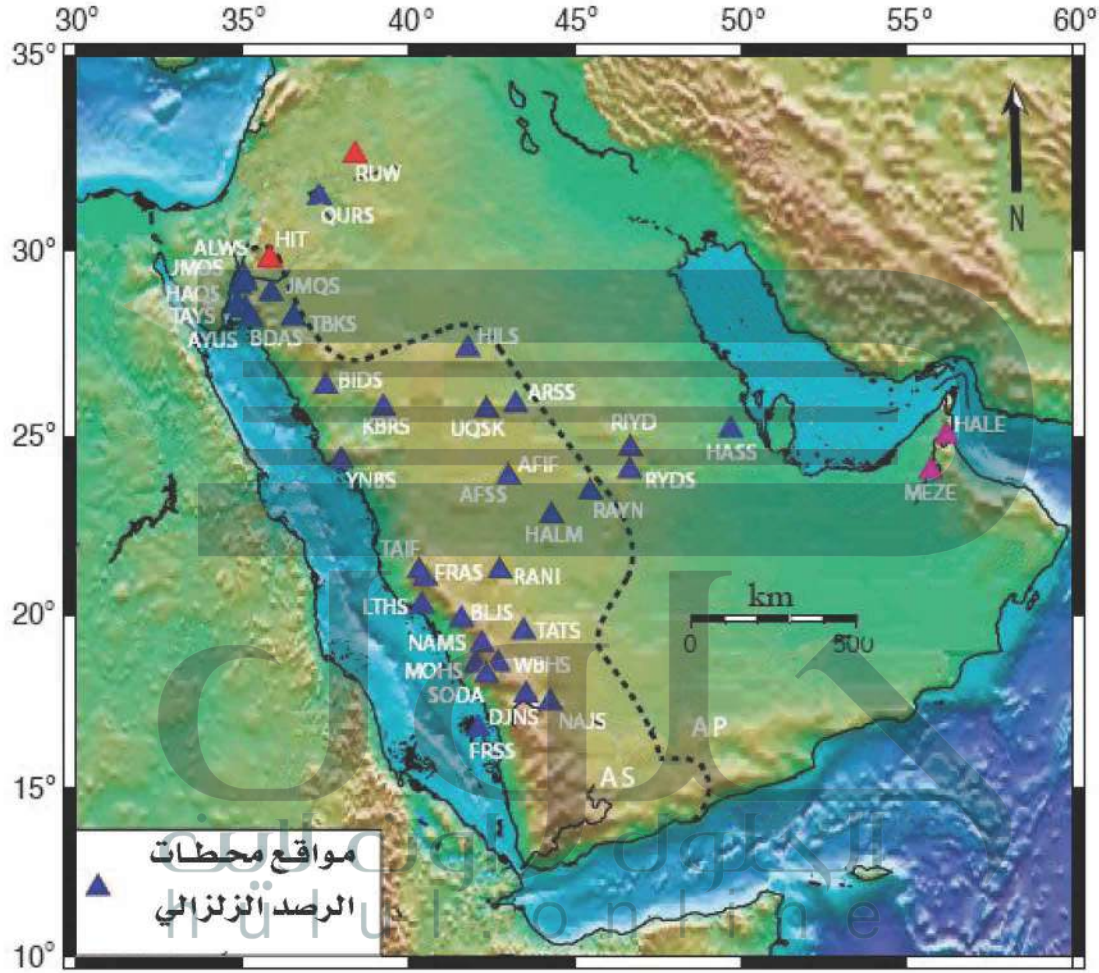
الصفحة العربية

الصفحة الأوراسية

Km 0 200

mi 0 200

مواقع محطات الرصد الزلزالي في المملكة العربية السعودية

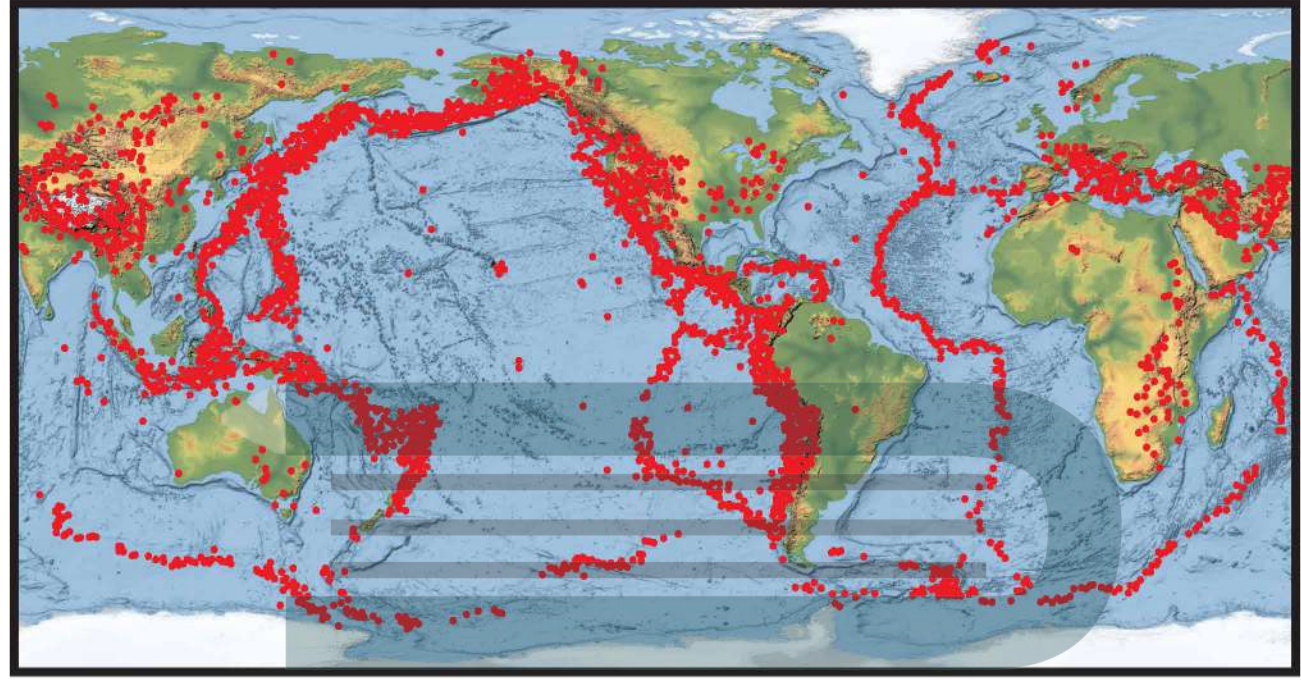


عدد الهزات الزلزالية التي تم رصدها بواسطة أجهزة الرصد الزلزالي
في المملكة العربية السعودية لعام 2016 م

مقاس الهزات	يناير	فبراير	مارس	أبريل	مايو	يونيو	يوليو	أغسطس	سبتمبر	أكتوبر	نوفمبر	ديسمبر	المجموع
أقل من 1	426	409	415	348	499	424	442	526	457	503	361	276	5086
1-2	589	362	397	273	327	272	248	216	194	197	177	153	3405
2-3	68	44	88	38	66	23	27	27	23	23	23	27	477
3-4	2	3	11	2	5	2	2	2	0	4	2	1	36
4-5	0	0	0	0	1	0	0	0	0	0	1	0	2
5-6	0	0	1	0	0	0	0	0	0	0	0	0	1
6-7	0	0	0	0	0	0	0	0	0	0	0	0	0
أكثر من 7	0	0	0	0	0	0	0	0	0	0	0	0	0
المجموع	1085	818	912	661	898	721	719	771	674	727	564	457	9007

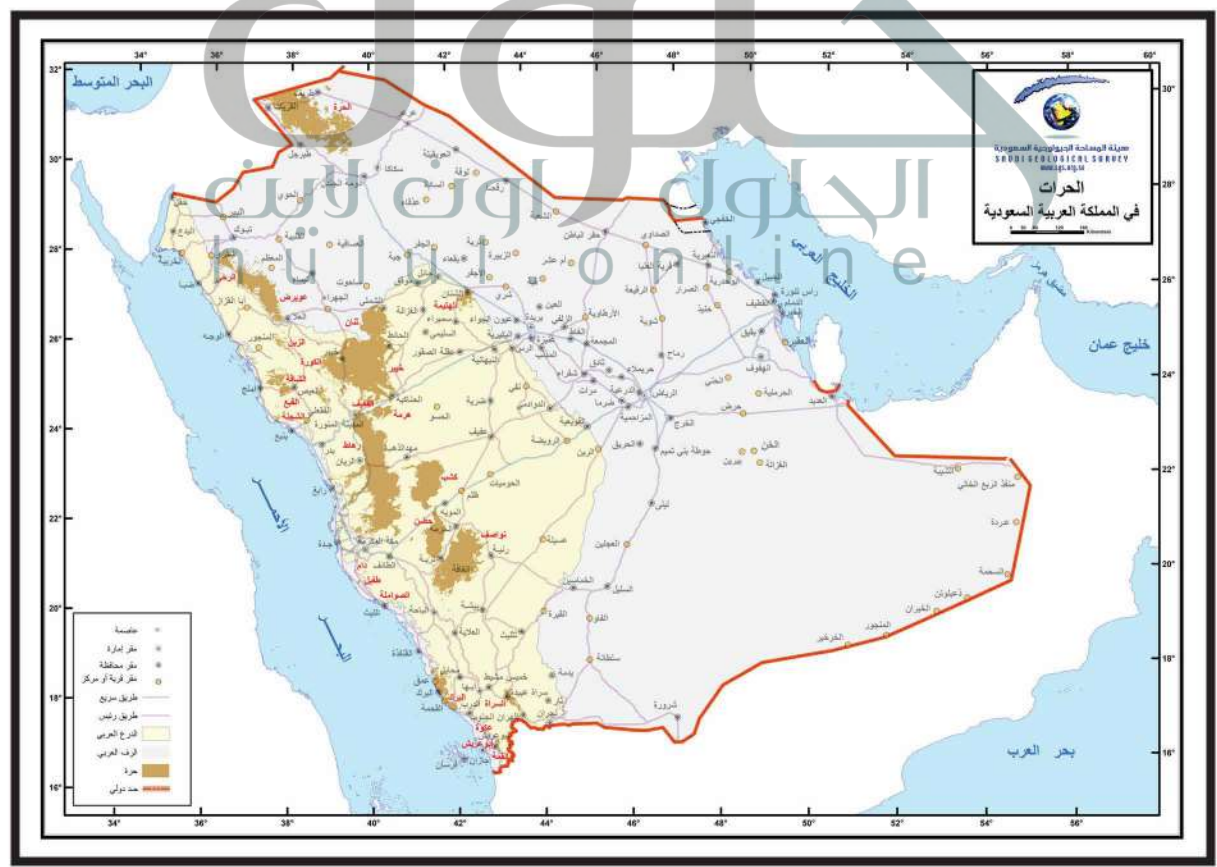
* المصدر : هيئة المساحة الجيولوجية السعودية

مواقع المراكز السطحية للزلازل في العالم



خرائط مرجعية

توزيع الحرات في المملكة العربية السعودية



*المصدر: هيئة المساحة الجيولوجية السعودية

الحرّات في المملكة العربية السعودية

الحرّات طفوح بازلتية خرجت إلى سطح الأرض عبر الشقوق، وغطت مساحات واسعة منها. وتوجد الحرّات في الجزء الغربي من الجزيرة العربية على شكل حزام متقطع يمتد من الشمال إلى الجنوب، ويتكون معظمها من صخور البازلت القلوي الألوفيني. ودلت الدراسات الجيولوجية على أن تكوّن الحرّات وتوزعها تم عبر مرحلتين: الأولى مع انفتاح البحر الأحمر الذي بدأ في نهاية عهد الأوليجوسين وبداية الميوسين قبل نحو 25 مليون سنة، والثانية بدأت منذ عشرة ملايين سنة حتى حدوث آخر ثوران بركاني في الجزيرة العربية في حرة رهاط في عام 1256م (654هـ).

وقد صنّف العلماء الحرّات الموجودة في الجزيرة العربية إلى نوعين: طفوح من الداسايت والريولايت الشديدة التحوّل وما يصاحبها من الفتات والرماد البركاني المتساقط، وطفوح بازلتية على شكل براكين ومخاريط بازلتية، تنتشر على خط محوري واحد. ومن الحرّات المشهورة في الجزيرة العربية: الرحا، الحرّة، ثنان، هتيمه، خيبر، رهاط، كشب، نواصف، الشامة.



حرة رهاط

تمتد حرة رهاط من وادي فاطمة شمال مكة حتى جنوب المدينة المنورة، وتغطي مساحة 20000km² تقريباً، وهي أكبر الحرّات في المملكة. وتحتوي هذه الحرة على الكثير من البراكين المخروطية المكونة من السكوريا، والبراكين الدرعية والقبب البركانية. ويعد جزؤها الشمالي أكثر أجزائها نشاطاً؛ حيث يقع إلى الجنوب من المدينة المنورة. ومن أشهر براكين هذه الحرة بركان جبل الملسا ذو الشكل المخروطي.

معالم جيولوجية مرجعية

حرة خيبر

تبعد حرة خيبر حوالي 65km شمال شرق المدينة المنورة، وهي من أكبر الحرّات البركانية في المملكة، تغطي حرة خيبر مساحة تقدر بأكثر من 14000km². وتحتوي الحرة على الكثير من البراكين المخروطية، والبراكين الدرعية، والعديد من القباب البركانية. وتتكون معظم صخورها من البازلت. ومن أشهر جبالها البركانية جبل القدر والجبل الأبيض.





حرة ثنان

بدأ الثوران البركاني في حرة ثنان قبل حوالي 3 ملايين سنة، وتبلغ مساحتها 4000km^2 تقريباً، وتحتوي على العديد من البراكين الدرعية والبراكين المخروطية التي تتكوّن معظم صخورها من البازلت. وتقع هذه الحرة إلى الشمال من حرة خيبر. وتتميز الحرة بالعديد من الكهوف ومنها كهف الشويمس.

حرة الهتيمة

تعد حرة الهتيمة من أحدث الحرات؛ حيث لا يتعدى عمر صخورها مليوني سنة. وتبلغ مساحتها حوالي 900km^2 ، لذلك تعد من الحرات الصغيرة بالنسبة إلى باقي الحرات. وتتميز حرة هتيمة بمحتسبات من الستار في صخورها، لذلك فهي مهمة في تعرّف بنية الأرض الداخلية. ومن المعالم البركانية التي تتميز بها هذه الحرة حلقات الفتات والرماد البركاني، والبراكين المخروطية، والفوهات البركانية المنهارة.



حرة الحرة

تقع حرة الحرة شمالي غرب المملكة بجانب حدود المملكة الأردنية الهاشمية. حيث تغطي مساحة 15200km^2 تقريباً. وتعد هذه الحرة الجزء الجنوبي لحرة الشام، التي تمتد في كل من الجمهورية العربية السورية، والمملكة الأردنية الهاشمية، وشمال المملكة العربية السعودية. وقد بدأ النشاط البركاني في هذه الحرة في عهد الميوسين، وأحدث نشاط بركاني فيها كان في العصر الحديث. وتعد الآن إحدى المحميات الطبيعية التي تحافظ فيها المملكة على التنوع النباتي والحيواني.



(أ)

أحافير مرشدة Index fossils، أحافير لها عمر محدد وامتداد جغرافي واسع.

الأحجار الكريمة gems، معادن ثمينة ونادرة وجميلة، وصلبة ومقاومة للخدش ومصقولة، وتصنع منها المجوهرات.

الانصهار الجزئي partial melting، عملية انصهار معادن مختلفة من الصخور في درجات حرارة معينة مع بقاء معادن أخرى صلبة، مما يؤدي إلى تغير في المكونات الكيميائية للصهارة.

الانقسام cleavage، قابلية المعدن لأن ينكسر بسهولة على طول مستوى واحد أو أكثر، حيث يكون الترابط الذري ضعيفاً.

أحزمة الزلازل Seismic belts، مناطق على سطح الكرة الأرضية تتركز فيها الأنشطة الزلزالية، وتكون مصاحبة لحدود الصفائح الأرضية.

أخدود بحري Ocean trench، انخفاض كبير شديد الانحدار في قاع المحيط، يتكون بسبب طرح صفيحة محيطية أسفل صفيحة أخرى.

الأمواج الأولية Primary waves، موجات أولية تعمل على تضاعف الصخور وتخلخلها في اتجاه حركتها، ويرمز لها بالرمز (P).

الأمواج الثانوية Secondary waves، موجات زلزالية تسبب حركة دقائق الصخور عمودياً على خط انتشار الموجة، ويرمز لها بالرمز (S).

الأمواج الجسمية Body waves، موجات زلزالية تنتقل داخل الأرض، وتنقسم إلى موجات أولية، وموجات ثانوية.

الأمواج الزلزالية Seismic waves، اهتزازات سطح الأرض في أثناء حدوث زلزال.

الأمواج السطحية Surface waves، أبطأ الأمواج الزلزالية، تتحرك فقط على سطح الأرض، وتسبب حركة جسيمات سطح الأرض حركة جانبية وحركة من أعلى إلى أسفل.

الانجراف القاري Continental drift، فرضية للعالم فاجنر تنص على أن قارات الأرض كانت متحدة معاً في قارة واحدة تسمى بانجيا تقع بالقرب من القطب الجنوبي، ثم انقسمت قبل 200 مليون سنة إلى أجزاء تباعد بعضها عن بعض ببطء، حتى وصلت إلى مواقعها الحالية.

الانحلال الإشعاعي Radioactive decay، عملية انبعاث الجسيمات المشعة من العنصر، وما ينتج عن ذلك من نظائر للعنصر عبر الزمن.

الانقراض الجماعي Mass extinction، اختفاء أعداد كبيرة من المخلوقات الحية من السجل الصخري في فترة زمنية واحدة.

الانقلاب المغناطيسي Magnetic reversal، تغير قطبية المجال المغناطيسي للأرض من مغناطيسية عادية إلى مغناطيسية مقلوبة.

(ب)

بانجيا Pangaea، قارة قديمة كانت تضم جميع القارات الحالية، وبدأت في التفكك قبل 200 مليون سنة.

بؤدة الزلزال Focus، نقطة الكسر في صخور القشرة الأرضية التي تنشأ منها الأمواج الزلزالية الجسمية.

البئر well، ثقب عميق يحفر في الأرض للوصول إلى الخزان الجوفي المائي من أجل ضخ المياه الجوفية منه.

البئر الارتوازية Artesian well، بئر محفورة في خزان ارتوازي يتدفق منها الماء فوق الأرض على شكل نافورة بسبب ازدياد ضغط الماء داخلها.

البركان الدرعي Shield volcano، بركان كبير ذو انحدار بسيط، يتكون من تراكم طبقات من لابة بازلتية تكونت بفعل ثورات بركانية هادئة (غير متفجرة).

التاريخ المطلق Absolute age dating, طريقة تمكن العلماء من تحديد العمر الحقيقي للصخور أو لأجسام أخرى.

التاريخ النسبي relative-age dating, طريقة لترتيب الأحداث الجيولوجية بحسب حدوث بعضها نسبة إلى البعض الآخر.

التبلور الجزئي fractional crystallization, عملية تبلور بعض المعادن في الصهير في درجات حرارة مختلفة تؤدي إلى إزالة بعض العناصر منه فتتغير مكوناته الكيميائية.

التجوية weathering, عملية تكسر "تفتت" المواد وتغيرها على سطح الأرض أو تحته بقليل.

التجوية الكيميائية chemical weathering, العملية التي تخضع فيها الصخور والمعادن لتغيرات في مكوناتها الكيميائية؛ لتفاعلها كيميائياً مع الأحماض والماء والأكسجين وغاز ثاني أكسيد الكربون.

التجوية الميكانيكية mechanical weathering, نوع من التجوية، وتسمى أيضاً التجوية الفيزيائية، حيث تفتت الصخور والمعادن إلى قطع أصغر، ولا يحدث فيها أي تغير في مكونات الصخر، بل يتغير حجم الصخر وشكله فقط.

التحول الإقليمي Regional Metamorphism, أحد أنواع التحول، يحدث لمناطق واسعة من القشرة الأرضية عندما تتعرض لدرجة حرارة وضغط مرتفعين، مما يؤدي إلى تغير في التركيب المعدني للصخور وحدوث طي في طبقات القشرة.

التحول بالتماس Contact Metamorphism, أحد أنواع التحول، يحدث عندما تلامس مواد مصهورة صخوراً صلبة، ويكون تأثيرها محدوداً ومحلياً.

البركان المخروطي Cinder cone, بركان صغير شديد الانحدار، تكوّن بفعل ثورانات بركانية متفجرة، حيث تراكمت المقذوفات البركانية حول عنق البركان.

البركان المركب Composite volcano, بركان مخروطي الشكل تقريباً ذو منحدرات مقعرة، يتكون من طبقات من الحطام البركاني تكونت بفعل ثورانات بركانية متفجرة متعاقبة، مع طبقات من اللابة تكونت بفعل ثورانات بركانية هادئة.

البريق luster, الكيفية التي يعكس بها المعدن الضوء الساقط على سطحه.

بقعة ساخنة Hotspot, منطقة ساخنة بصورة غير عادية في ستار الأرض، يصعد فيها عمود من صهارة ذات درجة حرارة عالية إلى أعلى في اتجاه سطح الأرض.

البلورة crystal, جسم صلب تترتب فيه الذرات بنمط متكرر منتظم.

البيجماتيت pegmatite, صخور ذات معادن خشنة الحبيبات بصورة غير عادية، وتحتوي على خامات نادرة مثل الليثيوم.

(ت)

تاريخ إشعاعي Radiometric dating, طريقة تستعمل في تحديد العمر المطلق لصخر أو أحفورة بتحديد نسبة النظير المشع إلى النظير الثابت في عينة منه.

التاريخ بالأشجار Dendrochronology, العلم الذي يحدد العمر المطلق باستعمال حلقات الأشجار السنوية.

التاريخ بالكربون المشع Radiocarbon dating, عملية تحديد عمر مادة عضوية حديثة نسبياً، سواء أكانت المادة العضوية لمخلوق ميت، أو لمادة غير حية مثل كربونات الكالسيوم.

التطبُّق المتدرِّج graded bedding، نوع من التطبق تترتب فيه الحبيبات الأثقل والأكبر حجمًا إلى أسفل.

التطبُّق المتقاطع cross bedding، نوع من التطبق تترسب فيه طبقات مائلة من الرسوبيات فوق سطح أفقي.

تغذية المياه الجوفية recharge، عملية تزويد مياه الخزان الجوفي بمياه الهطول والجريان السطحي.

توسع قاع المحيط Seafloor spreading، فرضية حول تشكيل قشرة محيطية جديدة عند ظهر المحيطات واستهلاكها عند الأحاديد البحرية في أعماق البحار، وتحدث في دورة مستمرة من اندفاع الصهارة والتوسع.

(ج)

الجبال البحرية Seamount، جبال بركانية بازلتية في قاع البحر، مغمورة في الماء، ترتفع أكثر من 1km عن قاع المحيط.

الجغرافيا القديمة Paleogeography، الوضع الجغرافي القديم لمنطقة ما.

جهاز قياس المغناطيسية Magnetometer، جهاز للكشف عن التغيرات الحقيقية التي تحدث في صخور قاع المحيط في مجالاتها المغناطيسية واتجاهها.

(ح)

الحدود المتباعدة Divergent boundary، مناطق تتحرك عندها صفيحتان أرضيتان متباعدتين، ويصاحب ذلك نشاط بركاني وزلازل وتدفق حراري مرتفع، ويحدث هذا غالبًا في قاع المحيط.

الحدود التحويلية Transform boundary، مناطق تتحرك عندها صفيحتان أرضيتان أفقيًا إحداهما بمحاذاة الأخرى، وتتميز بوجود صدوع طويلة وزلازل ضحلة.

التحول الحراري المائي Hydrothermal

Metamorphism، أحد أنواع التحول، يحدث عندما تتفاعل مياه ساخنة جدًا مع الصخر فتغيّر مكوناته الكيميائية والمعدنية.

تدفق الفتات البركاني Pyroclastic flow، الحركة المفاجئة السريعة لغيوم من الغازات الخائقة والرماد البركاني والمواد البركانية الأخرى الناجمة عن الثورانات البركانية العنيفة.

التراصّ Compaction، تقارب حبيبات الرسوبيات بسبب الضغط الناتج عن وزن الرسوبيات التي تعلوها، مما يؤدي إلى تغيرات فيزيائية في الصخر.

تراكم الجهد Stress accumulation، أحد العوامل التي تستعمل لتحديد احتمال وقوع زلزال على طول مقطع الصدع؛ حيث تتراكم الإجهادات ثم تتحرر مسببة حدوث الزلزال.

التركيب البلوري crystalline structure، بناء داخلي منتظم لدقائق البلورة في معظم المواد الصلبة، مما يعطيها شكلًا وحجمًا محددين.

التسونامي Tsunami، موجة محيطية ضخمة وقوية، تتولد بفعل حركات عمودية لقاع البحر في أثناء وقوع زلزال، مشكّلةً أمواجًا ذات سرعة كبيرة وارتفاع يزيد على 30m في المياه الضحلة، فتحدث دمارًا في المناطق الساحلية.

تسييل التربة Soil liquefaction، عمليات تصاحب الاهتزازات الزلزالية، تحدث في المناطق الرملية المشبعة بالماء، وتؤدي إلى سلوك هذه المناطق سلوك السائل.

التصخّر lithification، عمليات فيزيائية وكيميائية تحوّل الرسوبيات إلى صخور رسوبية.

التطبُّق bedding، معلم ترسيبي للصخور الرسوبية، ويعد المعلم الرئيس لها، وهو وجودها على هيئة طبقات رسوبية أفقية يتراوح سمكها بين بضعة ملمترات إلى عدة أمتار.

الحدود المتقاربة Convergent boundary، مناطق تتحرك عندها صفيحتان أرضيتان إحداهما تجاه الأخرى، ويصاحب ذلك تكوّن أخاديد بحرية وأقواس جزر بركانية، وجبال مطوية.

حفرة الانهدام Rift valley، منخفض طويل وضيق يتكون عندما تبدأ قشرة قارية في الانفصال عن حدود متباعدة.

الدهر Eon، أكبر الوحدات الزمنية في سلم الزمن الجيولوجي.

(ر)

الرسوبيات sediment، قطع صغيرة من الصخور تحركت وترسبت بفعل المياه أو الرياح أو الجليديات أو الجاذبية.

الحفظ الأصلي Original preservation، حفظ الأجزاء الرخوة والصلبة لبقايا المخلوق بعد موته، حيث لم تتغير إلا قليلاً.

الرشح infiltration، عملية تسرب مياه الأمطار بعد سقوطها على اليابسة إلى جوف الأرض.

العقبه Era، ثاني أكبر وحدة زمنية في سلم الزمن الجيولوجي، وتتراوح مدتها بين عشرات إلى مئات ملايين السنين، وحُدّدت بناء على التغيرات في أشكال الحياة المحفوظة في الصخور.

(س)

سحب الصفيحة Slab pull، عملية تكتونية مرتبطة مع تيارات الحمل في ستار الأرض، حيث يُسحب طرف الغلاف الصخري إلى نطاق الطرح بفعل وزن الصفيحة الغاطسة.

الحمل الحراري Convection، نقل الطاقة الحرارية من المواد الساخنة إلى المواد الأقل حرارة.

سعة الموجة الزلزالية Amplitude، ارتفاع الموجة الزلزالية الأكبر. و الزيادة الواحدة على مقياس راختر تمثل زيادة في سعة الموجة قدرها 10 أضعاف.

الحين Epoch، وحدة زمنية في سلم الزمن الجيولوجي، وهي أصغر من العصر، وتتراوح مدتها بين مئات آلاف السنين إلى ملايين السنين.

(خ)

سلاسل تفاعلات باون Bowen's Reaction Series، نمط ثنائي التفرع يمثل كيفية تبلور المعادن من الصهارة بترتيب متسلسل يمكن توقعه.

الغام ore، صخور تحتوي على معادن يمكن استخلاص فلز أو أكثر منها بصورة اقتصادية بالتعدين.

سلم الزمن الجيولوجي Geologic time scale، سجل لتاريخ الأرض منذ نشأتها قبل 4.6 بليون سنة حتى الآن.

الخزان الارتوازي artesian aquifer، الخزان المائي الجوفي الذي تقع مياهه تحت الضغط.

الاسمنتة cementation، عملية ترسب معادن ذائبة في المياه الجوفية، بين حبيبات الصخور الرسوبية، مما يسبب تلاحم الحبيبات معاً مشكّلة صخوراً صلباً.

الخزان المائي الجوفي aquifer، طبقات منفذة في باطن الأرض تتحرك فيها المياه الجوفية بسهولة.

(د)

دورة الصخر Rock cycle، مجموعة عمليات تتغير خلالها الصخور بشكل مستمر من نوع إلى آخر.

الصخور السطحية extrusive rocks، صخور نارية ناعمة الحبيبات، تتكون عندما يبرد المصهور الصخري ويتبلور بسرعة فوق سطح الأرض.

الصخور المتوسطة Intermediate rocks، صخور محتواها من السيليكات متوسط بين الصخور البازلتية والجرانيتية، ويتكون معظمها من معدني البلاجيوكليز والهورنبلند، ومن أمثلتها صخر الديوريت.

الصخور النارية igneous rock، صخور جوفية أو سطحية ناجمة عن تبريد وتبلور الصهارة أو اللابة.

الصفحة الأرضية Tectonic plate، قطعة ضخمة من قشرة الأرض وأعلى الستار تغطي سطح الأرض، وتنطبق الصفائح معاً عند حوافها.

الصواعد Stalagmite، رواسب على أرضية الكهف على شكل هرم صغير مكون من كربونات الكالسيوم.

(ض)

الضخ الجائر Overpumping، زيادة معدل سحب المياه من البئر على معدل تعويض المياه فيه بواسطة الأمطار.

(ط)

الطبقة العازلة aquiclude، طبقة غير منفذة تحجز الماء وتمنعه من التدفق كالطين وحجر الطمي والطفل.

الطبقة المرشدة Key bed، هي طبقة مميزة من الرسوبيات أو الصخور، تُستعمل مؤشراً في السجل الصخري، وتغطي مساحات شاسعة على الأرض، وقد تكون طبقة من الرماد البركاني أو من القطع الناجمة عن سقوط نيزك أو من الفحم الحجري وغيرها.

الطرح Subduction، عملية غطس صفيحة أرضية تحت صفيحة أرضية أخرى.

السيليكات silicate، المعادن التي تحتوي الأكسجين والسيلكون مع وجود -على الأغلب- عنصر آخر أو أكثر.

(ش)

الشقوق Fissures، كسور طويلة في القشرة الأرضية.

(ص)

الصخر البازلتية basaltic rock، صخر ناري غامق اللون يحوي قليلاً من السيليكات، ويتكون في غالبية من البلاجيوكليز والبيروكسين، وهو مثل الجابرو، ولونه غامق.

الصخر الجرانيتي granitic rock، صخر فاتح اللون ومحتواه من السيليكات مرتفع، ويتكون في غالبية من الكوارتز والفلسبار البوتاسي البلاجيوكليزي.

الصخور الجوفية (المتداخلة) intrusive rocks،

صخور نارية خشنة الحبيبات، تتكون عندما يبرد المصهور الصخري ويتبلور ببطء داخل القشرة الأرضية.

الصخور الرسوبية الفتاتية clastic sedimentary rocks، أكثر أنواع الصخور الرسوبية شهرة، تتشكل من تصخر الرسوبيات الفتاتية المفككة، وتتراكم على سطح الأرض، وتصنف وفقاً لأحجام حبيباتها.

الصخور الرسوبية الكيمايائية Chemical sedimentary

rocks، تتكون بفعل ترسب المواد الذائبة في المسطحات المائية عندما يزيد تركيزها على حد الإشباع، ومن أمثلتها الجبس.

الصخور الرسوبية الكيمايائية الحيوية Biochemical

sedimentary rocks، تتكون من بقايا مخلوقات حية كانت تعيش في الماضي، ومن أمثلتها صخور الفوسفات والحجر الجيري.

طفوح البازلت Flood basalt, كميات كبيرة من اللابة تتدفق إلى سطح الأرض عبر الصدوع.

الفوهة البركانية المنهارة Caldera, حفرة كبيرة يصل قطرها إلى 50 km، وتتشكل في قمة البركان أو على جوانبه عندما ينهار في حجرة الصهارة في أثناء ثوران البركان أو بعده.

(ظ)

ظهر المحيط Ocean ridge, سلسلة جبلية تحت سطح الماء تمتد في جميع قيعان المحيطات، ويبلغ طولها أكثر من 65000 km، وتحتوي على أحدث البراكين الحامدة.

(ق)

القساوة hardness, مقياس لقابلية المعدن للخدش.
قناة البركان Conduit of volcano, مكان مرور الصهارة.

قوة الزلزال Magnitude, مقياس للطاقة المتحررة في أثناء وقوع الزلزال، ويمكن وصفها باستعمال مقياس ريختر.

(ع)

عدم التوافق Unconformity, سطح تعرية يكون بين طبقتين صخريتين، ويمثل فترة زمنية مفقودة في السجل الصخري بسبب التعرية.
العصر Period, ثالث أكبر وحدة زمنية في سلم الزمن الجيولوجي، وتعاود عشرات ملايين السنين.

(ك)

الكمبريت kimberlite, صخور نادرة فوق قاعدية تحتوي الألماس ومعادن أخرى، تكوّنت تحت ضغط هائل جدًا.

عمر النصف Half-life, المدة الزمنية اللازمة لتحلل نصف ذرات النظير المشع، مثل تحلل نصف عدد ذرات نظير الكربون-14 المشع.
عنق البركان Vent, أنبوب في القشرة الأرضية، تتدفق اللابة من خلاله وتثور على سطح الأرض.

(ل)

اللاية lava, الصهارة التي تتدفق على سطح الأرض.
اللزوجة Viscosity, مقاومة المادة الداخلية للتدفق.

(غ)

غير المتورقة nonfoliated, صخور متحولة مكونة أساسًا من معادن ذات بلورات كتلية الشكل منها الكوارتزيت والرخام.

(م)

ما قبل الكامبري Precambrian, أكبر الفترات الزمنية الجيولوجية ويشمل 95% تقريبًا من سلم الزمن الجيولوجي، ويتشكل من الدهور الثلاثة: الهيديان، والأركيان، والبروتروزوي.

مبدأ الاحتواء Principle of medision, من مبادئ التاريخ النسبي للصخور، وينص على أن القطع الصخرية (المحتبسة) أقدم من الصخور التي تحتويها.

(ف)

الفتات clasts, قطع الصخر أو المعدن المتكسرة والمتحللة بفعل التجوية والتعرية، وتصنف تبعًا لأحجامها وأشكالها.

الضجوة الزلزالية Seismic gap, منطقة على طول صدع نشط لم تشهد وقوع زلزال منذ فترة طويلة.

- مبدأ الترسيب الأفقي Original horizontality**، مبدأ ينص على أن الصخور الرسوبية ترسبت في وضع أفقي تقريبًا.
- مبدأ تعاقب الطبقات Superposition**، مبدأ ينص على أنه في أي تعاقب طبقي تكون أقدم الطبقات الصخرية هي السفلى، وأحدث الطبقات هي العليا، وكل طبقة في التعاقب تكون أحدث من التي تقع أسفل منها.
- مبدأ القاطع والمقطع Cross-cutting relationship**، مبدأ ينص على أن القاطع أحدث من المقطوع. ويعني من ناحية جيولوجية أن الصخور أو الصدوع التي تقطع صخورًا أخرى تكون هي الأحدث، والصخور المقطوعة هي الأقدم.
- مبدأ التنسقية Uniformitarianism**، مبدأ ينص على أن العمليات الجيولوجية حدثت وتكررت منذ نشأة الأرض (الحاضر مفتاح الماضي).
- المتبخرات evaporate**، صخور رسوبية تتكون عندما يصل تركيز المعادن الذائبة في جسم مائي حد الإشباع بسبب التبخر الشديد، فتترسب بلورات حبيبية من المحلول وتهبط إلى القاع.
- متورقة foliated**، صخور متحولة تمتاز بترتيب المعادن المكونة لها في صفائح أو أحزمة.
- المخدش streak**، لون مسحوق المعدن.
- المخطط الزلزالي Seismogram**، سجل يتم الحصول عليه من مقياس الزلزال، ويوضح فيه مسار كل نوع من أنواع الأمواج الزلزالية.
- المركز السطحي للزلزال Epicenter**، نقطة على سطح الأرض تقع مباشرة فوق بؤرة الزلزال.
- المسامية porosity**، الحجم الكلي للمسامات في الصخر. وتزداد بزيادة درجة فرز حبيبات الصخر.
- المضاهاة Correlation**، مطابقة منكشفات صخرية معينة في منطقة ما مع منكشفات صخرية أخرى مشابهة لها في مناطق أخرى.
- المعدن mineral**، مادة طبيعية صلبة غير عضوية، لها مكونات كيميائية معينة، وبناء بلوري محدد.
- المغناطيسية القديمة Paleomagnetism**، سجل مغناطيسي للأرض موثق في الصخور باستعمال بيانات جمعت من معادن حاملة للحديد فيها؛ إذ تسجل هذه المعادن اتجاه المجال المغناطيسي للأرض وقت تشكلها.
- المقذوفات البركانية الصلبة Tephra**، شظايا من الصخور قذفت في الهواء في أثناء الثوران البركاني وسقطت على الأرض، وتُصنّف بحسب حجمها.
- مقياس ريختر Richter scale**، نظام تصنيف عددي يستعمل لقياس مقدار الطاقة المتحررة في أثناء وقوع زلزال.
- مقياس الزلزال Seismometer**، جهاز حساس يتم الكشف به عن الاهتزازات الناجمة عن الأمواج الزلزالية.
- مقياس العزم الزلزالي Moment magnitude scale**، مقياس لقياس قوة الزلزال، اعتمادًا على حجم الكسر في الصدع، وصلابة الصخور، ومقدار الحركة على طول الصدع.
- مقياس ميركالي المعدل Modified Mercalli scale**، مقياس لشدة الزلزال، يتراوح بين 1 و 12، حيث تزداد الأضرار الناجمة عن الزلزال كلما زاد العدد.
- المكسر Fracture**، شكل سطح المعدن الناتج عند كسره، يظهر على شكل قوس (محاري)، أو خشنًا، أو ذا حواف مسننة.
- منسوب المياه الجوفية Water table**، الحد العلوي لنطاق الإشباع، ويرتفع في أثناء المواسم الماطرة وينخفض في أثناء مواسم الجفاف.

(ي)

الينبوع (العين) spring, تدفق المياه الجوفية بشكل طبيعي عند تقاطع منسوبها مع سطح الأرض.

الينبوع الساخن hot spring, ينبوع تزيد درجة حرارته على درجة حرارة جسم الإنسان البالغة 37°C.

الينبوع الفوار geyser, ينبوع ساخن فوار بصورة منتظمة.

(ن)

النسيج texture, حجم البلورات أو الحبيبات التي يتكون منها الصخر وشكلها وتوزيعها.

النسيج البورفيرى Porphyritic texture, نسيج صخور يتميز بوجود بلورات كبيرة واضحة المعالم تحيط بها بلورات صغيرة من المعدن نفسه أو من معادن مختلفة.

النسيج الفقاعي vesicular texture, المظهر الإسفنجي للصخر؛ وينتج عن خروج الغازات من اللابة.

النشاط البركاني Volcanism, جميع العمليات المرتبطة مع تفرغ الصهارة والماء الساخن والبخار من باطن الأرض.

(و)

الوزن النوعي specific gravity, النسبة بين كتلة المادة إلى كتلة حجمها من الماء في درجة حرارة 4°C.

وسائد اللابة Pillow lava, شكل البازلت الذي يتكون عند ظهر المحيطات على هيئة وسائد ضخمة.

(هـ)

الهبوط في منسوب المياه الجوفية drawdown, الفرق بين منسوب المياه الجوفية الأصلي ومنسوب المياه أثناء عملية الضخ.

الهرم الرباعي الأوجه (هرم السيليكات) tetrahedron, جسم هندسي صلب محاط بأربعة أوجه من مثلثات متساوية الأضلاع على شكل هرم.

