


مراجعة الفصل الأول

المفردات

أصلُ بينِ الصُّورةِ وَالكَلِمَةِ المُناسِبَةِ لَهَا:




جُذُورٌ



.١



أَوْرَاقٌ



.٢



سَاقٌ



.٣


أجيب عن الأسئلة التالية:

٤. أي المخلوقات حي، وأيها غير حي في الصورتين الآتيتين؟ كيف أعرف ذلك؟

الفتاه مخلوقه حيه لأنها تنمو




الحجر غير حي لأنها لا تنمو



٥. ألاحظ. كيف يحصل هذا النبات على حاجاته في الصورتين الآتيتين؟

تحصل الماء من المطر



٦. الفكرة الرئيسة والتفاصيل. أسمي كل جزء من أجزاء النبات، وأذكر وظيفته. تنمو في الخارج لتحصل على ضوء الشمس- تنمو في الخارج لتحصل على التربة الغذائية

٧. ماذا أعرف عن النباتات؟

مخلوقات حيه لها جذور وساق واوراق