



تَعِيشُ النِّبَاتَاتُ فِي أَمَاكِنَ كَثِيرَةٍ

انظُر واتساءل

تَعِيشُ بَعْضُ النِّبَاتَاتِ فِي الصَّحْرَاءِ. كَيْفَ تَنْمُو النِّبَاتَاتُ فِي هَذَا الْمَكَانِ الْحَارِّ الْجَفَّ؟

النباتات الصحراوية لها سيقان سميكة وأوراق تساعد على تخزين الماء
أوراق شوكية تساعد في الحفاظ على الماء

أحتاج إلى:



نباتين



ماء

مَاذَا يَحْدُثُ لِلنَّبَاتِ إِذَا لَمْ يَحْصُلْ عَلَى الْمَاءِ؟

١ **أَضَعُ** نَبَاتَيْنِ فِي مَكَانٍ مُشْمِسٍ. وَأَزْوِي أَحَدَهُمَا بِالْمَاءِ، وَأَتْرُكُ الْآخَرَ دُونَ مَاءٍ.

٢ **أَتَوَقَّعُ**. مَاذَا سَيَحْدُثُ لِكُلِّ مِنَ النَّبَاتَيْنِ؟

٣ **أُلَاحِظُ**. أُرَاقِبُ النَّبَاتَيْنِ مُدَّةَ أُسْبُوعٍ.

٤ **أُسَجِّلُ** الْبَيِّنَاتِ. أُرْسِمُ مَا يَحْدُثُ لِلنَّبَاتَيْنِ.

أستكشف أكثر

٥ **أُصَنِّفُ**. أَيُّ النَّبَاتَاتِ يَعْيشُ فِي الْأَمَاكِينِ الْجَفَافَةِ،

وَأَيُّهَا يَعْيشُ فِي الْأَمَاكِينِ الرُّطْبَةِ؟

الخطوة ٣



أَيْنَ تَعِيشُ النَّبَاتَاتُ؟

تَعِيشُ النَّبَاتَاتُ فِي الْأَمَاكِنِ الَّتِي تَجِدُ فِيهَا حَاجَاتِهَا.

بَعْضُ النَّبَاتَاتِ تَعِيشُ فِي الصَّحْرَاءِ.

اقْرَأْ وَ اتَعَلَّمْ

السُّؤَالُ الْأَسَاسِيُّ

مَا الْأَمَاكِنُ الْمُخْتَلِفَةُ الَّتِي تَعِيشُ فِيهَا
النَّبَاتَاتُ؟

المُفْرَدَاتُ

الصَّحْرَاءُ

الغَابَةُ



الصَّحْرَاءُ مَكَانٌ جَافٌ، قَلِيلُ النَّبَاتَاتِ. نَبَاتَاتُ

الصَّحْرَاءِ لَهَا أَجْزَاءٌ تُسَاعِدُهَا عَلَى الْاِحْتِفَافِ بِالْمَاءِ.

أَقْرَأِ الصُّورَةَ

أَنْظُرْ إِلَى هَذِهِ الْأُورَاقِ. كَيْفَ تُسَاعِدُ
النَّبَاتَ عَلَى الْعَيْشِ فِي الصَّحْرَاءِ؟

الجلول
الجلول اون لاين
hulul.online

نشاط:

أصقُّ صورًا لنباتات تعيش في الصحراء، ونباتات تعيش في الغابة؟



بعض النباتات تعيش في الغابة.

الغابة مكان رطب حار أو بارد، فيه نباتات كثيرة. نباتات الغابة لها أوراق كبيرة، تساعد على التخلص من الماء الزائد.

لماذا لا تستطيع نباتات الغابة العيش في



الصحراء؟ لان الصحراء جافة ونباتات الغابة تكون رطبه فلا تتحمل جو الصحراء

الصحراء؟

النباتات الصحراوية تكون سيقانها سميكة واوراقها شوكية تساعد في الحفاظ على الماء

أفكر واتحدث

١. مشكلة وحل. الصحراء حارة جافة. كيف تعيش النباتات في الصحراء؟

٢. السؤال الأساسي. ما الأماكن المختلفة التي تعيش فيها النباتات؟





في الصحراء وفي الغابة

العلوم
والمجتمع

أجمع بعض النباتات الصحراوية، وأتعرّفها.

بُذُورٌ مُتَنَوِّعَةٌ

يُصَنِّفُ خَالِدٌ الْبُذُورَ الَّتِي لَدَيْهِ فِي جَدْوَلٍ.

بُذُورُ خَالِدٍ	
	بُذُورُ الْفَاصُولِيَاءِ
	بُذُورُ تَبَاعِ الشَّمْسِ
	بُذُورُ الذَّرَّةِ
	بُذُورُ التَّمْرِ

قراءة الجدول

تباع الشمس أكثر من بذور الفاصوليا

هل لدى خالد عدد أكبر من بذور تباع الشمس أم من بذور الفاصوليا؟

بذور الذرة اقل عدد

ما أقل عدد من البذور لدى خالد؟

إذا وجد خالد ٣ بذور تمر أخرى، فكم يصبح لديه منها؟

إذا وجد بذور تمر أخرى يكون لديه ٩

أذكر

الجدول المصوّر يساعدي على حلّ المسألة.



الجلول اون لاين
online